

Recruitment of SI in CAPFs ASI in CISF and SI in Delhi Police Examination 2020 Paper I

Roll No.	
Candidate Name	
Venue Name	
Exam Date	24/11/2020
Exam Time	3:00 PM - 5:00 PM
Subject	SI CPO Examination 2020

Section : General Intelligence and Reasoning

Q.1 उस विकल्प का चयन करें, जो तीसरे अक्षर-समूह से ठीक उसी प्रकार संबंधित है, जिस प्रकार दूसरा अक्षर-समूह, पहले अक्षर-समूह से संबंधित है।
PORCH : IDSPQ :: MOIST : ?

- Ans
- 1. OPJTU
 - 2. UTJQO
 - 3. OMITS
 - 4. UTJPN

Question ID : 6549782258
Status : Answered
Chosen Option : 4

Q.2 यदि दर्पण चित्र के अनुसार 'PC' पर रखा गया हो, तो दिए गए संयोजन के दर्पण में निर्मित सही प्रतिबिंब का चयन करें।

AVN54 | $\begin{matrix} P \\ Q \end{matrix}$

- Ans
- 1. 4 NVA
 - 2. 4 NVA
 - 3. 4 NVA
 - 4. 4 NVA

Question ID : 6549782297
Status : Answered
Chosen Option : 1

Q.3 यदि 'A', 'जोड़' को दर्शाता है, 'B', 'गुणा' को दर्शाता है, 'C', 'घटाना' को दर्शाता है और 'D', 'भाग' को दर्शाता है, तो निम्न व्यंजक का मान ज्ञात करें-
15 B (14 C 7) A 25 D (18 C 13) C 8 B (2 A 3) = ?

- Ans
- 1. 105
 - 2. 40
 - 3. 70
 - 4. 115

Question ID : 6549782280
Status : Answered
Chosen Option : 3

Q.4 उस विकल्प का चयन करें, जो तीसरे अक्षर-समूह से उसी प्रकार संबंधित है, जिस प्रकार, दूसरा अक्षर-समूह, पहले अक्षर-समूह से संबंधित है।
FOREST : TSROFE :: MOVING : ?

- Ans
- 1. GIMNOV
 - 2. VONMIG
 - 3. OVINMG
 - 4. VOMNGI

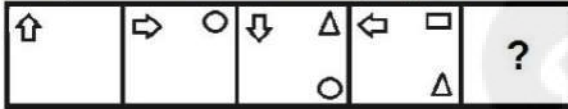
Question ID : 6549782259
Status : Answered
Chosen Option : 2

Q.5 निम्न श्रेणी में प्रश्नवाचक चिह्न (?) के स्थान पर कौन-सी संख्या आएगी?
57, ?, 62, 71, 87, 112, 148

- Ans
- 1. 58
 - 2. 60
 - 3. 61
 - 4. 59

Question ID : 6549782272
Status : Answered
Chosen Option : 3

Q.6 उस आकृति का चयन करें, जो निम्न आकृति श्रृंखला में प्रश्नवाचक चिह्न (?) के स्थान पर आएगी।




Ans

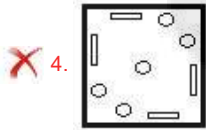
- 1.
- 2.
- 3.
- 4.

Question ID : 6549782289
Status : Answered
Chosen Option : 4

Q.7 एक कागज को निम्न चित्र के अनुसार मोड़ा और काटा गया। यह कागज खोलने पर कैसा दिखेगा?



Ans



Question ID : 6549782293

Status : Answered

Chosen Option : 3

Q.8 निम्न समीकरण को संतुलित करने के लिए, किन दो संख्याओं को आपस में बदला जाना चाहिए?
 $63 \div 21 - 42 + 8 \times 7 = 135$

Ans ✗ 1. 21 और 42

✓ 2. 7 और 21

✗ 3. 21 और 8

✗ 4. 7 और 63

Question ID : 6549782279

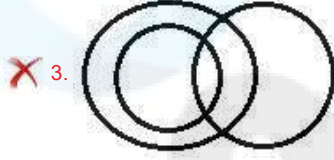
Status : Answered

Chosen Option : 2

Q.9 उस वेन आरेख का चयन करें, जो नीचे दिए गए वर्गों के बीच के संबंध को सर्वश्रेष्ठ ढंग से दर्शाता है।

कार चालक, मानव जाति, आदमी

Ans



Question ID : 6549782299

Status : Marked For Review

Chosen Option : 1

Q.10 निम्न श्रेणी में प्रश्नवाचक चिह्न (?) के स्थान पर कौन-सी संख्या आएगी?

25, 36, 51, 70, 93, 120, ?

Ans ✗ 1. 163

✗ 2. 159

✗ 3. 141

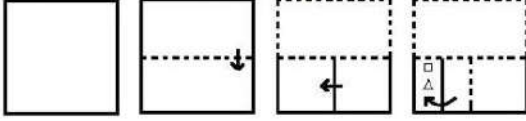
✓ 4. 151

Question ID : 6549782271

Status : Answered


Chosen Option : 4

Q.11 एक कागज को निम्न चित्र के अनुसार मोड़ा और काटा गया। यह कागज खोलने पर कैसा दिखेगा?




Ans


✓ 1.



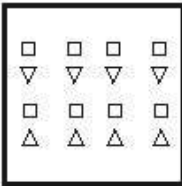
✗ 2.



✗ 3.



✗ 4.



Question ID : 6549782294

Status : Answered

Chosen Option : 1

Q.12 Z का घर P के घर से 45 m दूर दक्षिण में है। J का घर H के घर से 50 m दूर दक्षिण में है। Q का घर Z के घर से 30 m दूर पश्चिम में है। M का घर P के घर से 50 m दूर उत्तर में है। H का घर M के घर से 30 m दूर पश्चिम में है। Q के घर के संदर्भ में J का घर किस दिशा में और कितनी दूर है?

Ans

✓ 1. उत्तर, 45 m

✗ 2. दक्षिण, 45 m

✗ 3. पश्चिम, 30 m

✗ 4. दक्षिण, 50 m

Question ID : 6549782287

Status : Answered

Chosen Option : 1

Q.13 24 अक्टूबर 2011 को सप्ताह का कौन-सा दिन था?

- Ans
- 1. बुधवार
 - 2. सोमवार
 - 3. मंगलवार
 - 4. शनिवार

Question ID : 6549782277
Status : Answered
Chosen Option : 2

Q.14 छह मित्र दो पंक्तियों में बैठे हुए हैं, जिनमें से एक पंक्ति दूसरी पंक्ति के पीछे है, और सभी मित्र उत्तर दिशा की ओर अभिमुख हैं। प्रत्येक पंक्ति में तीन मित्र हैं। विक्रांत और सरोज के बीच में जोगी बैठा हुआ है। श्रीकांत, विक्रांत के ठीक पीछे बैठा हुआ है। वाणी, तृप्ति के ठीक बगल में दायीं ओर बैठी है। कौन से तीन लोग एक ही पंक्ति में बैठे हुए हैं?

- Ans
- 1. जोगी, विक्रांत और सरोज
 - 2. विक्रांत, वाणी और तृप्ति
 - 3. जोगी, विक्रांत और तृप्ति
 - 4. जोगी, तृप्ति और वाणी

Question ID : 6549782265
Status : Marked For Review
Chosen Option : 1

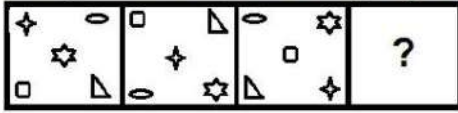
Q.15 दिए गए पैटर्न को ध्यान से पढ़ें और उस संख्या का चयन करें, जो इसमें प्रश्नवाचक चिह्न (?) के स्थान पर आ सकती है।

36	55	49
64	47	39
49	?	61

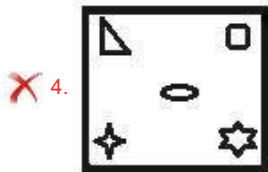
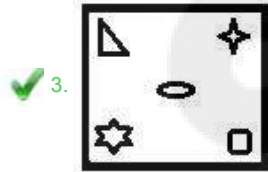
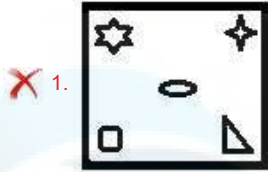
- Ans
- 1. 88
 - 2. 72
 - 3. 68
 - 4. 120

Question ID : 6549782284
Status : Not Attempted and Marked For Review
Chosen Option : --

Q.16 उस आकृति का चयन करें, जो निम्न आकृति श्रृंखला में प्रश्नवाचक चिह्न (?) के स्थान पर आएगी।

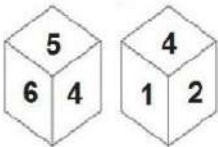


Ans



Question ID : 6549782290
 Status : Answered
 Chosen Option : 1

Q.17 एक ही पासे की दो भिन्न स्थितियों को नीचे दर्शाया गया है, जिनके ऊह में से हर एक फलक पर 1 से 6 तक की संख्याओं में से एक संख्या लिखी हुई है। उस संख्या का चयन करें, जो इसके '3' वाले फलक के विपरीत फलक पर होगी?



Ans

- ✓ 1. 4
- ✗ 2. 1
- ✗ 3. 2
- ✗ 4. 5

Question ID : 6549782296
 Status : Answered
 Chosen Option : 1

Q.18 निम्न श्रेणी में प्रश्नवाचक चिह्न (?) के स्थान पर कौन-सी संख्या आएगी?
16, 32, ? , 192, 576, 1152

- Ans
- 1. 80
 - 2. 48
 - 3. 64
 - 4. 96

Question ID : 6549782273
Status : Answered
Chosen Option : 4

Q.19 किसी कूट भाषा में 'DOUBLE' को 'VPEFMC' के रूप में लिखा जाता है, तो उसी कूट भाषा में 'CLIQUE' को किस रूप में लिखा जाएगा?

- Ans
- 1. JMDFVR
 - 2. JMDGVQ
 - 3. JMDFVS
 - 4. KNDFVR

Question ID : 6549782262
Status : Answered
Chosen Option : 1

Q.20 एक पुरुष की ओर इशारा करते हुए एक महिला ने कहा, "उसका भाई मेरी माँ की एकलौती पुत्री के पति के पुत्र का पिता है।" उस पुरुष का उस महिला के पति से क्या संबंध है?

- Ans
- 1. जीजा
 - 2. भाई
 - 3. चाचा
 - 4. पिता

Question ID : 6549782267
Status : Answered
Chosen Option : 2

Q.21 किसी कूट भाषा में 'EAGER' को 'BXJBU' और 'MARKS' को 'PXUNV' के रूप में लिखा जाता है, तो उसी कूट भाषा में 'LOCUST' को किस रूप में लिखा जाएगा?

- Ans
- 1. ORFXVW
 - 2. OLFRVW
 - 3. ILZRPQ
 - 4. OLGRBW

Question ID : 6549782263
Status : Answered
Chosen Option : 1

Q.22 दो कथन और उनके बाद I, II और III तीन निष्कर्ष दिए गए हैं। यह मानते हुए कि दिए गए कथन सही हैं, भले ही वे सामान्य रूप से ज्ञात तथ्यों से भिन्न प्रतीत होते हैं, निर्धारित करें कि कौन सा/से निष्कर्ष तर्कसंगत रूप से इन कथनों का अनुसरण करता है/ करते हैं।

कथन:

कुछ कॉलेज स्कूल हैं।
कोई मैदान कॉलेज नहीं है।

निष्कर्ष:

- I. कोई कॉलेज मैदान नहीं है।
- II. कोई स्कूल कॉलेज नहीं है।
- III. कुछ स्कूल कॉलेज हैं।

- Ans
- 1. केवल निष्कर्ष I और II अनुसरण करते हैं।
 - 2. केवल निष्कर्ष I और III अनुसरण करते हैं।
 - 3. सभी निष्कर्ष अनुसरण करते हैं।
 - 4. केवल निष्कर्ष II और III अनुसरण करते हैं।

Question ID : 6549782270

Status : Answered

Chosen Option : 2

Q.23 दिए गए चार अक्षर-समूहों में से तीन एक निश्चित प्रकार से समान हैं, जबकि एक भिन्न है। उस भिन्न अक्षर-समूह का चयन करें।

- Ans
- 1. BEHKN
 - 2. QTWZC
 - 3. RUXAE
 - 4. HKNQT

Question ID : 6549782256

Status : Answered

Chosen Option : 3

Q.24 उस अक्षर-समूह का चयन करें, जो दी गई अक्षर-समूह की श्रेणी में प्रश्नवाचक चिह्न (?) के स्थान पर आएगा।
POUR, MLRO, IHNK, DCIF, ?

- Ans
- 1. XWBY
 - 2. XWCZ
 - 3. XVBZ
 - 4. YWCA

Question ID : 6549782252

Status : Answered

Chosen Option : 2

Q.25 दिए गए पैटर्न को ध्यान से पढ़ें और उस संख्या का चयन करें, जो इसमें प्रश्नवाचक चिह्न (?) के स्थान पर आ सकती है।

14	4	28
21	6	63
45	8	?

- Ans
- 1. 150
 - 2. 195
 - 3. 180
 - 4. 210

Question ID : 6549782282
Status : Answered
Chosen Option : 3

Q.26 किसी कूट भाषा में 'get up now' को 'pax max rax' लिखा जाता है, 'he will get' को 'max dax zax' लिखा जाता है और 'will it stop' को 'zax kax lax' लिखा जाता है, तो उसी कूट भाषा में 'dax' को किस प्रकार लिखा जाएगा?

- Ans
- 1. will
 - 2. he
 - 3. it
 - 4. get

Question ID : 6549782260
Status : Answered
Chosen Option : 2

Q.27 उस विकल्प का चयन करें, जो निम्न शब्दों के तार्किक एवं अर्थपूर्ण क्रम विन्यास को दर्शाता है।

1. घुटना
2. नाभि
3. भौंह
4. कमर
5. टुड्डी

- Ans
- 1. 2, 4, 1, 5, 3
 - 2. 1, 4, 2, 3, 5
 - 3. 1, 4, 2, 5, 3
 - 4. 4, 1, 2, 5, 3

Question ID : 6549782255
Status : Answered
Chosen Option : 3

Q.28 दिए गए पैटर्न को ध्यान से पढ़ें और उस संख्या का चयन करें, जो इसमें प्रश्नवाचक चिह्न (?) के स्थान पर आ सकती है।

557	835	504
447	753	612
502	794	?

- Ans
- 1. 558
 - 2. 596
 - 3. 544
 - 4. 552

Question ID : 6549782283

Status : Not Attempted and Marked For Review

Chosen Option : --

Q.29 उस अक्षर-समूह का चयन करें, जो दी गई अक्षर-समूह की श्रेणी में प्रश्नवाचक चिह्न (?) के स्थान पर आएगा।
PZX, QAY, SCA, VFD, ?

- Ans
- 1. AJG
 - 2. YKH
 - 3. ZJH
 - 4. ZKH

Question ID : 6549782251

Status : Answered

Chosen Option : 3

Q.30 दी गई आकृति को मोड़कर एक घन बनाए जाने पर, 'P' अंकित फलक के विपरीत फलक पर कौन-सा अक्षर होगा?

	A	H	K
F	P	L	

- Ans
- 1. H
 - 2. L
 - 3. A
 - 4. K

Question ID : 6549782295

Status : Answered

Chosen Option : 1

Q.31 यदि दर्पण चित्र के अनुसार 'PQ' पर रखा गया हो, तो दिए गए संयोजन के दर्पण में निर्मित सही प्रतिबिंब का चयन करें।



- Ans
- ✓ 1.
 - ✗ 2.
 - ✗ 3.
 - ✗ 4.

Question ID : 6549782298
Status : Answered
Chosen Option : 1

Q.32 उस विकल्प आकृति का चयन करें, जो दी गई आकृति (X) में अंतर्निहित नहीं है। (घुमाने की अनुमति नहीं है)।



(X)

- Ans
- ✓ 1.
 - ✗ 2.
 - ✗ 3.
 - ✗ 4.

Question ID : 6549782292
Status : Answered
Chosen Option : 1

Q.33 दिए गए चार अक्षर-समूहों में से लीन एक निश्चित प्रकार से समान हैं, जबकि एक भिन्न है। उस भिन्न अक्षर-समूह का चयन करें।

- Ans
- ✗ 1. KFBY
 - ✓ 2. ZUQO
 - ✗ 3. BWSP
 - ✗ 4. TOKH

Question ID : 6549782257
Status : Answered
Chosen Option : 2

Q.34 विशाल और अदिति की वर्तमान आयु का योग 105 वर्ष है। यदि अदिति, विशाल से 25 वर्ष छोटी है, तो प्रीतम, जो कि अदिति से 7 वर्ष बड़ा है, की वर्तमान आयु कितनी होगी?

- Ans
- 1. 72 वर्ष
 - 2. 32 वर्ष
 - 3. 47 वर्ष
 - 4. 40 वर्ष

Question ID : 6549782275
Status : Answered
Chosen Option : 3

Q.35 उस अक्षर-समूह का चयन करें, जो दी गई अक्षर-समूह की श्रेणी में प्रश्नवाचक चिह्न (?) के स्थान पर आएगा।
AZA, EVW, ?, OLM, UFG

- Ans
- 1. JQS
 - 2. JRS
 - 3. IRV
 - 4. IRS

Question ID : 6549782253
Status : Marked For Review
Chosen Option : 1

Q.36 आठ मित्र A, B, C, D, E, F, G और H वामावर्त रूप से इसी क्रम में और समान अंतराल पर एक गोल मेज के परितः मेज के केंद्र की ओर अभिमुख होकर बैठे हुए हैं। यदि G दक्षिण-पूर्व दिशा में बैठा है, तो A किस दिशा में बैठा है?

- Ans
- 1. उत्तर
 - 2. दक्षिण-पश्चिम
 - 3. उत्तर-पश्चिम
 - 4. उत्तर-पूर्व

Question ID : 6549782266
Status : Answered
Chosen Option : 4

Q.37 अर्जुन अपने घर से दक्षिण की ओर 40 m चलता है, और फिर वह बायीं ओर मुड़कर 55 m चलता है। वह एक बार और बायीं ओर मुड़कर 15 m चलता है और फिर एक बार और बाएं मुड़कर 55 m चलता है। अब वह अपने घर से कितनी दूर है?

- Ans
- 1. 15 m
 - 2. 25 m
 - 3. 30 m
 - 4. 35 m

Question ID : 6549782286
Status : Answered
Chosen Option : 2

Q.38 उस संख्या-युग्म का चयन करें, जिसकी दोनों संख्याओं के बीच वही संबंध है, जो नीचे दिए गए संख्या-युग्म की दोनों संख्याओं के बीच है।

7 : 198

- Ans
- 1. 6 : 72
 - 2. 8 : 228
 - 3. 9 : 162
 - 4. 5 : 240

Question ID : 6549782278

Status : Answered

Chosen Option : 2

Q.39 ₹2,871 को A, B और C के बीच क्रमशः 9 : 11 : 13 के अनुपात में बांटा जाता है। A की तुलना में C को कितनी धनराशि (र में) अधिक मिलेगी?

- Ans
- 1. ₹348
 - 2. ₹296
 - 3. ₹402
 - 4. ₹783

Question ID : 6549782276

Status : Answered

Chosen Option : 1

Q.40 गणितीय चिह्नों के उस सही संगोचन का चयन करें, जिसे निम्न समीकरण को संतुलित करने के लिए, इसमें बाएं से दाएं * के स्थान पर क्रमिक रूप से रखा जा सके।

$16 + 35 + 5 + 20 + 4 + 89$

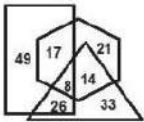
- Ans
- 1. -, X, ÷, +, =
 - 2. X, -, +, ÷, =
 - 3. X, ÷, +, -, =
 - 4. -, ÷, +, X, =

Question ID : 6549782281

Status : Answered

Chosen Option : 4

Q.41 निम्न वेन आरेख में, 'आयत' न्यायाधीशों को निरूपित करता है, 'त्रिभुज' पुरुषों को निरूपित करता है और 'षट्भुज' गोल्फ खिलाड़ियों को निरूपित करता है। दी गई संख्याएं उस विशेष वर्ग के व्यक्तियों की संख्या को दर्शाती हैं। ऐसे कुल कितने पुरुष हैं जो न्यायाधीश हैं?



- Ans
- 1. 17
 - 2. 34
 - 3. 26
 - 4. 22

Question ID : 6549782300

Status : Answered

Chosen Option : 2

Q.42 दिए गए पैटर्न को ध्यान से पढ़ें और उस संख्या का चयन करें, जो इसमें प्रश्नवाचक चिह्न (?) के स्थान पर आ सकती है।

19	9	140
17	9	130
?	5	120

- Ans
- 1. 28
 - 2. 24
 - 3. 19
 - 4. 47

Question ID : 6549782285
Status : Answered
Chosen Option : 3

Q.43 उस विकल्प का चयन करें, जो दिए गए शब्दों के उस क्रम को दर्शाता है, जिस क्रम में वे अंग्रेजी शब्दकोश में आते हैं।

1. Lexicon
2. Lacuna
3. Lacerate
4. Lactation
5. Locust

- Ans
- 1. 3, 2, 4, 1, 5
 - 2. 3, 4, 2, 1, 5
 - 3. 3, 4, 2, 5, 1
 - 4. 4, 3, 2, 1, 5

Question ID : 6549782254
Status : Answered
Chosen Option : 2

Q.44 निम्न श्रेणी में प्रश्नवाचक चिह्न (?) के स्थान पर कौन-सी संख्या आएगी?

46, 66, 94, 132, 182, ?

- Ans
- 1. 232
 - 2. 292
 - 3. 246
 - 4. 220

Question ID : 6549782274
Status : Answered
Chosen Option : 3

Q.45 दो कथन और उनके बाद I और II दो निष्कर्ष दिए गए हैं। यह मानते हुए कि दिए गए कथन सही हैं, भले ही वे सामान्य रूप से ज्ञात तथ्यों से भिन्न प्रतीत होते हों, निर्धारित करें कि कौन सा/से निष्कर्ष तर्कसंगत रूप से इन कथनों का अनुसरण करता है/करते हैं।

कथन:

कुछ ऑक्टोपस मछली हैं।

कुछ मछलियाँ मेढ़क हैं।

निष्कर्ष:

I. कुछ मेढ़क मछली हैं।

II. कुछ मछलियाँ ऑक्टोपस हैं।

Ans

1. केवल निष्कर्ष I अनुसरण करता है।
2. केवल निष्कर्ष II अनुसरण करता है।
3. या तो निष्कर्ष I या निष्कर्ष II अनुसरण करता है।
4. दोनों निष्कर्ष अनुसरण करते हैं।

Question ID : 6549782269

Status : Answered

Chosen Option : 1

Q.46 उस आकृति का चयन करें, जो निम्न आकृति श्रृंखला में प्रश्नवाचक चिह्न (?) के स्थान पर आएगी।



Ans

- 1.
- 2.
- 3.
- 4.

Question ID : 6549782288

Status : Answered

Chosen Option : 3

Q.47 उस विकल्प का चयन करें, जिसमें दी गई आकृति (X) अंतर्निहित है (घुमाने की अनुमति नहीं है)।



(X)

Ans

1.



2.



3.



4.



Question ID : 6549782291

Status : Answered

Chosen Option : 2

Q.48 किसी कूट भाषा में 'SOGGY' को '78' और 'PLINTH' को '85' के रूप में लिखा जाता है, तो उसी कूट भाषा में 'DEVOTION' को किस रूप में लिखा जाएगा?

Ans 1. 98

2. 104

3. 120

4. 112

Question ID : 6549782264

Status : Marked For Review

Chosen Option : 3

Q.49 किसी कूट भाषा में 'my personal use' को '521' लिखा जाता है, 'use these things' को '169' लिखा जाता है और 'personal things' को '29' लिखा जाता है, तो उसी कूट भाषा में कोड '569' क्या निरूपित करेगा?

Ans 1. my personal use

2. my personal things

3. these personal things

4. my these things

Question ID : 6549782261

Status : Answered

Chosen Option : 4

- Q.50 'A # B' का अर्थ है कि 'A, B का भाई है'।
 'A @ B' का अर्थ है कि 'A, B की पत्नी है'।
 'A & B' का अर्थ है कि 'A, B की पुत्री है'।
 'A % B' का अर्थ है कि 'A, B की बहन है'।

यदि P % R & Y @ Z # M % N, तो M का P से क्या संबंध है?

- Ans 1. बुआ
 2. चाचा
 3. माँ
 4. मौसी

Question ID : 6549782268
 Status : Answered
 Chosen Option : 1

Section : General Knowledge and General Awareness

Q.1 सकेवा _____ के किरात खम्बू राई (Kirat Khambu Rai) समुदाय द्वारा मनाया जाने वाला एक धार्मिक त्योहार है।

- Ans 1. अरुणाचल प्रदेश
 2. नागालैंड
 3. मेघालय
 4. सिक्किम

Question ID : 6549782303
 Status : Marked For Review
 Chosen Option : 4

Q.2 तीजन बाई को 2019 में _____ क्षेत्र में उनके योगदान के लिए पद्म विभूषण पुरस्कार से सम्मानित किया गया था।

- Ans 1. सार्वजनिक मामले
 2. व्यापार और उद्योग - आधारिक संरचना
 3. कला-गायन-लोक
 4. कला-अभिनय-थियेटर

Question ID : 6549782340
 Status : Answered
 Chosen Option : 3

Q.3 एक दिए गए भौगोलिक क्षेत्र में विभिन्न प्रकार की प्रजातियों का विकास एक स्थान से शुरू होता है और वस्तुतः अन्य भौगोलिक क्षेत्रों (स्थान) में प्रसारित होता है, उसे _____ कहते हैं।

- Ans 1. समायोजी विकिरण (adjustive radiation)
 2. अनुकूली विकिरण (adaptive radiation)
 3. समायोजी विकास (adjustive evolution)
 4. अनुकूली विकास (adaptive evolution)

Question ID : 6549782321
 Status : Answered
 Chosen Option : 3

Q.4 नाभिकीय अभिक्रियाओं में उत्पादित और रेडियोधर्मी नाभिक द्वारा उत्सर्जित उच्च आवृत्ति के विकिरण का नाम बताएं, जिसे चिकित्सा में कैंसर की कोशिकाओं को नष्ट करने के लिए उपयोग किया जाता है।

- Ans
- 1. प्रकाश तरंगें
 - 2. एक्स-रे
 - 3. गामा किरणें
 - 4. पराबैंगनी तरंगें

Question ID : 6549782312
Status : Answered
Chosen Option : 2

Q.5 Nuclear membrane is absent in organisms that fall under kingdom _____.

- Ans
- 1. Fungi
 - 2. Monera
 - 3. Plantae
 - 4. Animalia

Question ID : 6549782314
Status : Answered
Chosen Option : 4

Q.6 मणिपुर का एक स्वदेशी खेल सागोल कांगजेई वर्तमान _____ खेल के समान है।

- Ans
- 1. क्रिकेट
 - 2. बॉक्सिंग
 - 3. पोलो
 - 4. हॉकी

Question ID : 6549782350
Status : Not Attempted and Marked For Review
Chosen Option : --

Q.7 मोहम्मद गौरी को 1191 में एक _____ शासक ने हराया था।

- Ans
- 1. गाहड़वाल
 - 2. चालुक्य
 - 3. चौहान
 - 4. मौर्य

Question ID : 6549782331
Status : Answered
Chosen Option : 3

Q.8 Called the farmer's 'friend', the _____ helps in the breakdown of complex organic matter as well as in loosening of the soil.

- Ans
- 1. weed
 - 2. locust
 - 3. rat
 - 4. earthworm

Question ID : 6549782315
Status : Answered
Chosen Option : 4

Q.9 धातुओं से होकर होने वाली विद्युत चालकता को इलेक्ट्रॉनिक चालन कहा जाता है और यह _____।

- Ans
- 1. तापमान पर निर्भर नहीं करता है
 - 2. तापमान में वृद्धि के साथ घटता है
 - 3. तापमान में कमी के साथ घटता है
 - 4. तापमान में वृद्धि के साथ बढ़ता है

Question ID : 6549782320
Status : Answered
Chosen Option : 2

Q.10 'हरियाणा हरिकेन' नाम से प्रसिद्ध _____ ने वर्ष 1978 में टेस्ट मैच खेलने की शुरुआत की थी।

- Ans
- 1. दिलीप वेंगसरकर
 - 2. सुनील गावस्कर
 - 3. कपिल देव
 - 4. रवि शास्त्री

Question ID : 6549782347
Status : Answered
Chosen Option : 3

Q.11 भारत में सबसे लंबी संतत दीवार, जो विश्व में दूसरी सबसे लंबी दीवार है, _____ के किले में है।

- Ans
- 1. कुम्भलगढ़
 - 2. कांगड़ा
 - 3. मेहरानगढ़
 - 4. चित्तौड़गढ़

Question ID : 6549782328
Status : Answered
Chosen Option : 3

Q.12 ONGC _____ is a subsidiary of the Indian public sector enterprise, Oil and Natural Gas Corporation.

- Ans
- 1. Videsh
 - 2. Vinesh
 - 3. Vishesh
 - 4. Vighnesh

Question ID : 6549782308
Status : Answered
Chosen Option : 1

Q.13 जब एक परपोषी, एंटीजेन के संपर्क में आता है, जो जीवित या मृत रोगाणुओं या अन्य प्रोटीन के रूप में हो सकता है, तो परपोषी के शरीर में एंटीबॉडीज़ उत्पादित हो जाती है। इस प्रकार की प्रतिरक्षा को _____ प्रतिरक्षण के रूप में जाना जाता है।

- Ans
- 1. निष्क्रिय
 - 2. उपार्जित
 - 3. सक्रिय
 - 4. सुदृढ़

Question ID : 6549782322
Status : Answered
Chosen Option : 2

Q.14 फौआद मिर्जा एक भारतीय _____ हैं, जिन्हें 2019 में अर्जुन पुरस्कार से सम्मानित किया गया था।

- Ans
- 1. गोल्फर
 - 2. भारोत्तोलक
 - 3. पहलवान
 - 4. घुड़सवार

Question ID : 6549782349
Status : Answered
Chosen Option : 2

Q.15 निशि, अपतानी और बोकार जैसी भाषाएं व्यापक रूप से _____ में बोली जाती हैं।

- Ans
- 1. अरुणाचल प्रदेश
 - 2. असम
 - 3. मिजोरम
 - 4. नागालैंड

Question ID : 6549782305
Status : Answered
Chosen Option : 1

Q.16 30 जून 2020 तक, कॉर्पोरेट मामलों का मंत्रालय, भारत के कैबिनेट मंत्री _____ के पास था।

- Ans
- 1. सुब्रह्मण्यम जयशंकर
 - 2. निर्मला सीतारमण
 - 3. नितिन जयराम गडकरी
 - 4. रविशंकर प्रसाद

Question ID : 6549782341
Status : Answered
Chosen Option : 2

Q.17 30 जून 2020 तक, हरसिमरत कौर बादल _____ मंत्रालय के लिए भारत की केंद्रीय मंत्री थीं।

- Ans
- 1. महिला एवं बाल विकास
 - 2. मानव संसाधन विकास
 - 3. स्वास्थ्य और परिवार कल्याण
 - 4. खाद्य प्रसंस्करण उद्योग

Question ID : 6549782346
Status : Answered
Chosen Option : 1

Q.18 जयप्रकाश नारायण को ' _____ ' की उपाधि दी गई थी।

- Ans
- 1. दीनबंधु
 - 2. लोकनायक
 - 3. जन नायक
 - 4. देशबंधु

Question ID : 6549782337
Status : Answered
Chosen Option : 2

Q.19 पंजाब, हरियाणा, राजस्थान, और तमिलनाडु राज्यों में _____ के जल का उपयोग बहुत अधिक है।

- Ans 1. भूमिगत
 2. समुद्री
 3. वर्षा
 4. नदी के

Question ID : 6549782324
 Status : Answered
 Chosen Option : 1

Q.20 नेताजी सुभाष चंद्र बोस से संबंधित 33 फ़ाइलों की पहली विवर्गीकृत लॉट को 4 दिसम्बर _____ को प्रधानमंत्री कार्यालय (PMO) द्वारा भारत के राष्ट्रीय अभिलेखागार को सौंपा गया था।

- Ans 1. 2019
 2. 2014
 3. 2018
 4. 2015

Question ID : 6549782332
 Status : Not Attempted and Marked For Review
 Chosen Option : --

Q.21 लोकसभा के 552 सदस्यों में से _____ सदस्य राज्यों का प्रतिनिधित्व करते हैं।

- Ans 1. 530
 2. 540
 3. 550
 4. 520

Question ID : 6549782345
 Status : Answered
 Chosen Option : 4

Q.22 बालीयात्रा, जिसका शाब्दिक अर्थ है, 'बाली की यात्रा', जो विशेष रूप से _____ में बहुत धूमधाम से मनाया जाने वाला त्योहार है।

- Ans 1. वेल्लूर
 2. कटक
 3. गुड़गांव
 4. कोच्चि

Question ID : 6549782302
 Status : Answered
 Chosen Option : 2

Q.23 ठोस पदार्थों को उनके संघटक कणों में उपस्थित क्रम-विन्यास के आधार पर _____ के रूप में वर्गीकृत किया जाता है।

- Ans 1. क्रिस्टलीय या अक्रिस्टलीय
 2. चुंबकीय या गैर-चुंबकीय
 3. धात्विक या अधात्विक
 4. चालक या कुचालक

Question ID : 6549782317
 Status : Answered
 Chosen Option : 1

Q.24 _____ को दिसंबर 1929 में लाहौर शहर में हुए भारतीय राष्ट्रीय कांग्रेस के वार्षिक सत्र में अध्यक्ष के रूप में चुना गया था।

- Ans
- 1. लालबहादुर शास्त्री
 - 2. सरदार वल्लभभाई पटेल
 - 3. सुभास चंद्र बोस
 - 4. जवाहरलाल नेहरू

Question ID : 6549782330
Status : Answered
Chosen Option : 4

Q.25 छोटे किसान और मौसमी मजदूर जैसे लोग, जो नियमित रूप से गरीबी दायरे के अंदर और बाहर होते रहते हैं, उन्हें _____ के रूप में वर्गीकृत किया जाता है।

- Ans
- 1. स्थाई गरीब (always poor)
 - 2. कदाचित गरीब (occasionally poor)
 - 3. विलोड़न गरीब (churning poor)
 - 4. सामान्य गरीब (usually poor)

Question ID : 6549782309
Status : Answered
Chosen Option : 2

Q.26 30 जून 2020 तक, महाराष्ट्र राज्य के राज्यपाल _____ थे/थीं।

- Ans
- 1. आनंदीबेन पटेल
 - 2. आचार्य देवव्रत
 - 3. भगत सिंह कोश्यारी
 - 4. नजमा हेपतुल्ला

Question ID : 6549782344
Status : Answered
Chosen Option : 2

Q.27 Detritivores in the soil break down detritus into smaller particles. This process is called _____.

- Ans
- 1. catabolism
 - 2. fragmentation
 - 3. mineralisation
 - 4. leaching

Question ID : 6549782316
Status : Answered
Chosen Option : 2

Q.28 विद्युत चुम्बकीय प्रेरण की खोज और समझ प्रयोगों की एक दीर्घ श्रृंखला पर आधारित है, जिसे _____ द्वारा किया गया था।

- Ans
- 1. प्लैंक और फर्मी
 - 2. रदरफोर्ड
 - 3. फ़ैराडे और हेनरी
 - 4. आईस्टीन

Question ID : 6549782313
Status : Answered
Chosen Option : 3

Q.29 'द सब्स्टेंस एंड द शैडो' (The Substance and the Shadow) _____ की आत्मकथा है।

- Ans
- 1. गुरू दत्त
 - 2. देव आनंद
 - 3. दिलीप कुमार
 - 4. शम्मी कपूर

Question ID : 6549782335
Status : Answered
Chosen Option : 3

Q.30 30 जून 2020 तक, गुजरात राज्य के मुख्यमंत्री _____ थे।

- Ans
- 1. नीतीश कुमार
 - 2. प्रमोद सावंत
 - 3. विजयभाई रुपाणी
 - 4. नवीन पटनायक

Question ID : 6549782342
Status : Answered
Chosen Option : 3

Q.31 कर सुधार सरकार की कराधान और सार्वजनिक व्यय की नीतियों में सुधार से संबंधित है, जिन्हें सम्मिलित रूप से _____ के रूप में जाना जाता है।

- Ans
- 1. राजकोषीय सुधार
 - 2. वित्तीय सुधार
 - 3. वित्तीय नीति
 - 4. राजकोषीय नीति

Question ID : 6549782307
Status : Answered
Chosen Option : 1

Q.32 विश्वनाथन आनंद, पेंटाला हरिकृष्णा और विदित गुजराती _____ के खेल से जुड़े हैं।

- Ans
- 1. क्रिकेट
 - 2. शतरंज
 - 3. कबड्डी
 - 4. फुटबॉल

Question ID : 6549782336
Status : Answered
Chosen Option : 2

Q.33 भौतिकी में नोबेल पुरस्कार से सम्मानित किए गए पहले भारतीय कौन थे?

- Ans
- 1. चंद्रशेखर वेंकट रमन
 - 2. सुब्रमण्यम चंद्रशेखर
 - 3. वेंकटरामन रामकृष्णन
 - 4. हर गोविंद खुराना

Question ID : 6549782338
Status : Answered
Chosen Option : 1

Q.34 ऋत्विक् भट्टाचार्य, जोशना चिनप्पा और सौरव घोषाल निम्न में से किस खेल से जुड़ी हैं?

- Ans
- 1. टेनिस
 - 2. स्केश
 - 3. कुश्ती
 - 4. भारोत्तोलन

Question ID : 6549782348
Status : Answered
Chosen Option : 2

Q.35 _____ ऐसी भूमि है, जो पांच से अधिक सालों से ऊसर (अकृषित) पड़ी है और सुधार कार्यों के माध्यम से उसे सुधारने के बाद खेती के काम में लाया जा सकता है।

- Ans
- 1. वन भूमि
 - 2. स्थायी चरागाह
 - 3. खेती योग्य बंजर भूमि
 - 4. वर्तमान में बंजर

Question ID : 6549782323
Status : Answered
Chosen Option : 3

Q.36 निम्न में से कौन-सी कविता सरोजिनी नायडू द्वारा नहीं लिखी गई है?

- Ans
- 1. इन द फॉरेस्ट
 - 2. माई डेड ड्रीम
 - 3. द बनयान ट्री
 - 4. ए लव सॉन्ग फ्रॉम द नार्थ

Question ID : 6549782339
Status : Answered
Chosen Option : 3

Q.37 30 जून 2020 तक, भारतीय नौसेना के प्रमुख _____ थे।

- Ans
- 1. राकेश कुमार सिंह भदौरिया
 - 2. मनोज मुकुंद नरवणे
 - 3. करमबीर सिंह
 - 4. बिपिन रावत

Question ID : 6549782343
Status : Answered
Chosen Option : 3

Q.38 लॉर्ड हेस्टिंग्स ने _____ की शुरुआत की, जहां ईस्ट इंडिया कंपनी ने दावा किया कि इसका अधिकार सर्वोच्च था और इसलिए इसकी शक्ति भारतीय राज्यों से अधिक थी।

- Ans
- 1. व्यपगत का सिद्धान्त
 - 2. 'सर्वोच्चता' की नीति
 - 3. गवर्मेंट स्टोर्स नीति
 - 4. शाही नीति

Question ID : 6549782334
Status : Answered
Chosen Option : 4

Q.39 हल्लीसक मूल रूप से _____ का समूह नृत्य है।

- Ans
- 1. राजस्थान
 - 2. गोवा
 - 3. महाराष्ट्र
 - 4. गुजरात

Question ID : 6549782301
Status : Answered
Chosen Option : 2

Q.40 मैंगनीज का भंडार सुंदरगढ़, निम्न में से किस राज्य में स्थित है?

- Ans
- 1. गुजरात
 - 2. महाराष्ट्र
 - 3. ओडिशा
 - 4. केरल

Question ID : 6549782325
Status : Answered
Chosen Option : 3

Q.41 गोवा राज्य का कुल क्षेत्रफल कितना है?

- Ans
- 1. 2702 km²
 - 2. 3702 km²
 - 3. 4702 km²
 - 4. 1702 km²

Question ID : 6549782326
Status : Answered
Chosen Option : 3

Q.42 _____ के अनुसार, वाष्पशील तरल पदार्थों के घोल के लिए, घोल के प्रत्येक घटक का आंशिक वाष्प दाब घोल में मौजूद इसके मोल अंश के समानुपाती होता है।

- Ans
- 1. बॉयल का नियम
 - 2. डाल्टन का नियम
 - 3. फेराडे का नियम
 - 4. राउल्ट का नियम

Question ID : 6549782318
Status : Answered
Chosen Option : 4

Q.43 गैल्वेनिक सेल की अधिकतम कार्यशीलता प्राप्त करने के लिए आवेश _____ से गुजरता है।

- Ans
- 1. उत्क्रमणीय रूप से
 - 2. आनुपातिक रूप से
 - 3. समान रूप से
 - 4. प्रतिलोमित रूप से

Question ID : 6549782319
Status : Answered
Chosen Option : 2

Q.44 A set of equations involving electric and magnetic fields, and their sources, the charge and current densities are known as _____ equations.

- Ans 1. Maxwell's
 2. Bhor's
 3. Newton's
 4. Einstein's

Question ID : 6549782311
 Status : Answered
 Chosen Option : 2

Q.45 ब्रिटिश ने साल _____ में एंगलो-सिख युद्ध में सिखों को हराने के बाद पंजाब पर कब्जा कर लिया था।

- Ans 1. 1849
 2. 1839
 3. 1835
 4. 1845

Question ID : 6549782333
 Status : Answered
 Chosen Option : 1

Q.46 भारत में नियोजित आर्थिक विकास, प्रथम पंचवर्षीय योजना की शुरुआत के साथ _____ में शुरू हुआ।

- Ans 1. 1958
 2. 1951
 3. 1956
 4. 1948

Question ID : 6549782306
 Status : Answered
 Chosen Option : 2

Q.47 बिरहोर नृत्य _____ का एक जनजातीय लोक नृत्य है।

- Ans 1. हिमाचल प्रदेश
 2. पंजाब
 3. कर्नाटक
 4. झारखंड

Question ID : 6549782304
 Status : Answered
 Chosen Option : 4

Q.48 निम्न में से कौन-सा सार्वजनिक क्षेत्रक उपक्रम 'महारत्न' दर्जे के अंतर्गत आता है?

- Ans 1. हिन्दुस्तान एरोनॉटिक्स लिमिटेड
 2. महानगर टेलीफोन निगम लिमिटेड
 3. भारत संचार निगम लिमिटेड
 4. स्टील अथॉरिटी ऑफ इंडिया लिमिटेड

Question ID : 6549782310
 Status : Answered
 Chosen Option : 4

Q.49 मोहन दास करमचंद गांधी दो दशक विदेश में रहने के बाद वर्ष _____ में भारत वापस आए थे।

- Ans
- 1. 1869
 - 2. 1915
 - 3. 1905
 - 4. 1893

Question ID : 6549782329
Status : Answered
Chosen Option : 2

Q.50 अफगानिस्तान के साथ भारतीय सीमा की लंबाई कितनी है?

- Ans
- 1. 575 km
 - 2. 755 km
 - 3. 601 km
 - 4. 106 km

Question ID : 6549782327
Status : Answered
Chosen Option : 2

Section : Quantitative Aptitude

Q.1 किसी धनराशि पर 10% वार्षिक दर पर 2 वर्ष का साधारण ब्याज ₹8,100 है। ब्याज की गणना वार्षिक चक्रवृद्धि आधार पर करते हुए, समान राशि पर, समान दर पर समान समय में प्राप्त चक्रवृद्धि ब्याज ज्ञात करें।

- Ans
- 1. 8,715
 - 2. 8,100
 - 3. 9,000
 - 4. 8,505

Question ID : 6549782369
Status : Answered
Chosen Option : 4

Q.2 $\frac{\sin^2 52^\circ + 2 + \sin^2 38^\circ}{4\cos^2 43^\circ - 5 + 4\cos^2 47^\circ}$ का मान ज्ञात करें।

- Ans
- 1. -3
 - 2. 3
 - 3. $-\frac{1}{3}$
 - 4. $\frac{1}{3}$

Question ID : 6549782388
Status : Answered
Chosen Option : 1

Q.3 किसी वृत्त की जीवा AB को बिंदु P तक बढ़ाया जाता है, और बिंदु C वृत्त पर इस प्रकार स्थित है कि PC वृत्त की एक स्पर्शरेखा हो। यदि PC = 12 cm, और BP = 10 cm है, तो AB की लंबाई (cm में) ज्ञात करें।

- Ans
- 1. 5
 - 2. 5.4
 - 3. 6
 - 4. 4.4

Question ID : 6549782385
Status : Answered
Chosen Option : 4

Q.4 ΔABC में, D, A से BC तक माध्यिका है। AB = 6 cm, AC = 8 cm, और BC = 10 cm है। माध्यिका AD की लंबाई (cm में) ज्ञात करें।

- Ans
- 1. 3
 - 2. 5
 - 3. 4.5
 - 4. 4

Question ID : 6549782386
Status : Answered
Chosen Option : 2

Q.5 दीवार की तरफ झुकी हुई सीढ़ी का उन्नयन कोण 60° है और सीढ़ी का आधार दीवार से 3.6 m दूर है। सीढ़ी की लंबाई (m में) ज्ञात करें।

- Ans
- 1. 3.6
 - 2. 7.2
 - 3. 14.4
 - 4. 5.4

Question ID : 6549782390
Status : Answered
Chosen Option : 2

Q.6 किसी वस्तु के अंकित मूल्य ₹1,250 पर, 5%, 15% और 20% की क्रमिक छूट दी जाती है। सभी छूटों के बाद विक्रय मूल्य (₹ में) ज्ञात करें।

- Ans
- 1. 950.25
 - 2. 1,000
 - 3. 975.75
 - 4. 807.50

Question ID : 6549782359
Status : Answered
Chosen Option : 4

Q.7 10 मीटर व्यास वाले वृत्ताकार उद्यान के परितः 64 cm चौड़ा रास्ता बनाया गया है। रास्ते का क्षेत्रफल (m^2 में) लगभग _____ है।
(मान लें $\pi = \frac{22}{7}$)

- Ans
- 1. 9
 - 2. 15
 - 3. 10
 - 4. 11

Question ID : 6549782376

Status : Not Attempted and Marked For Review

Chosen Option : --

Q.8 उन सैनिकों की न्यूनतम संख्या ज्ञात करें, जिन्हें 10, 12, 15, 18 और 20 सैनिकों की टुकड़ी और दोस बर्ग के रूप में तैयार किया जा सकता है।

- Ans
- 1. 900
 - 2. 180
 - 3. 625
 - 4. 400

Question ID : 6549782354

Status : Answered

Chosen Option : 1

Q.9 तीन भागीदार, किसी व्यापार में हुए लाभ को 8 : 7 : 5 के अनुपात में बांटते हैं। उन्होंने अपनी पूंजी को क्रमशः 7 माह, 8 माह और 14 माह के लिए निवेशित किया था। उनकी पूंजी का अनुपात ज्ञात करें।

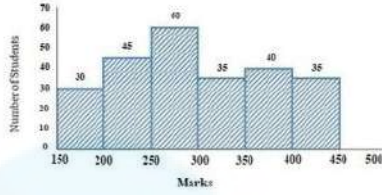
- Ans
- 1. 49 : 64 : 20
 - 2. 64 : 49 : 20
 - 3. 20 : 64 : 49
 - 4. 20 : 49 : 64

Question ID : 6549782367

Status : Marked For Review

Chosen Option : 2

Q.10 निम्नांकित हिस्टोग्राम का अध्ययन करें, जो किसी परीक्षा में छात्रों द्वारा प्राप्त किए गए अंकों को दर्शाता है और उसके बाद दिए प्रश्न का उत्तर दें।



350 से कम अंक प्राप्त करने वाले छात्रों की संख्या, 400 या इससे अधिक अंक प्राप्त करने वाले छात्रों की संख्या से कितना प्रतिशत अधिक है?
(दशमलव के एक स्थान तक सही)

- Ans
- 1. 100%
 - 2. 375.8%
 - 3. 350%
 - 4. 385.7%

Question ID : 6549782399

Status : Answered

Chosen Option : 4

Q.11 x km/h की चाल से चलने वाली रेलगाड़ी, 300 m लंबे प्लेटफॉर्म को 30 सेकंड में पार करती है और उसी दिशा में 6 km/h की चाल से चल रहे व्यक्ति को 20 सेकंड में ओवरटेक करती है। x का मान ज्ञात करें।

- Ans
- 1. 96
 - 2. 60
 - 3. 102
 - 4. 48

Question ID : 6549782375

Status : Marked For Review

Chosen Option : 4

Q.12 एक साथ P और Q किसी कार्य को 12 दिन में पूरा कर सकते हैं। अकेले P उसी कार्य को 18 दिन में पूरा कर सकता है। अकेले Q उसी कार्य के दो-तिहाई भाग को कितने दिन में पूरा कर सकता है?

- Ans
- 1. 21
 - 2. 30
 - 3. 36
 - 4. 24

Question ID : 6549782370

Status : Answered

Chosen Option : 3

Q.13 PQRS, चक्रीय चतुर्भुज है। यदि $\angle P$, $\angle R$ का 4 गुना है, और $\angle S$, $\angle Q$ का 3 गुना है, तो $\angle Q$ और $\angle R$ का औसत ज्ञात करें।

- Ans
- 1. 45.7°
 - 2. 81°
 - 3. 40.5°
 - 4. 90°

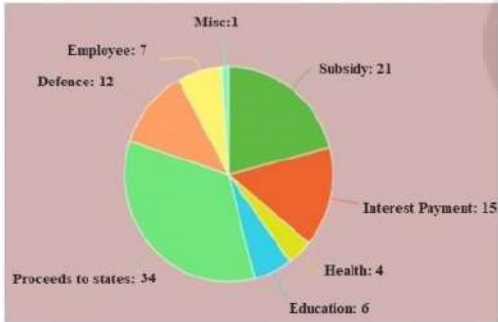
Question ID : 6549782384
Status : Answered
Chosen Option : 3

Q.14 $-7 \div [5 + 1 \div 2 - \{4 + (4 \text{ of } 2 \div 4) + (4 \div 4 \text{ of } 2)\}]$ का मान ज्ञात करें।

- Ans
- 1. -7
 - 2. 7
 - 3. $-\frac{7}{2}$
 - 4. $\frac{7}{2}$

Question ID : 6549782355
Status : Answered
Chosen Option : 2

Q.15 निम्नांकित पाई चार्ट प्रतिशत में है और यह विभिन्न मद्रों में हुए खर्च को दर्शाता है। कुल खर्च ₹1,680 (अरब में) है। चार्ट का अध्ययन करें और दिए गए प्रश्न का उत्तर दें।



रक्षा (Defence) पर खर्च हुई राशि, शिक्षा (Education) पर खर्च हुई राशि से कितने प्रतिशत अधिक है?

- Ans
- 1. 50%
 - 2. 150%
 - 3. 125%
 - 4. 100%

Question ID : 6549782396
Status : Answered
Chosen Option : 4

Q.16 यदि 4θ , न्यून कोण है और $\cot 4\theta = \tan(\theta - 5^\circ)$ है, तो θ का मान ज्ञात करें।

- Ans
- 1. 24°
 - 2. 45°
 - 3. 21°
 - 4. 19°

Question ID : 6549782389

Status : Answered

Chosen Option : 4

Q.17 कोई पंप, किसी पानी वाली टंकी को 3 घंटे में भर सकता है। रिसाब के कारण, इसे टंकी को भरने में $3\frac{1}{3}$ घंटे लगता है। जब टंकी भरी हो, तो अकेले रिसाब को टंकी के पूरे पानी को निकालने में कितने घंटे लगेंगे?

- Ans
- 1. 21
 - 2. 15
 - 3. 30
 - 4. 10

Question ID : 6549782372

Status : Answered

Chosen Option : 3

Q.18 किसी समकोण त्रिभुज का परिमाण 60 cm है और इसका कर्ण 26 cm है। त्रिभुज का क्षेत्रफल (m^2 में) ज्ञात करें।

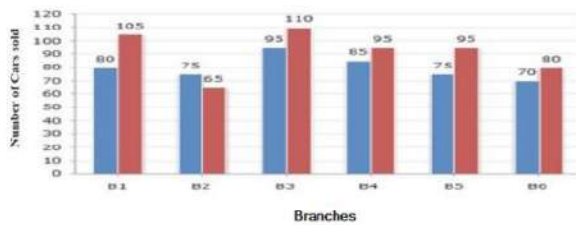
- Ans
- 1. 90
 - 2. 96
 - 3. 60
 - 4. 120

Question ID : 6549782377

Status : Answered

Chosen Option : 4

Q.19 दिया गया बार ग्राफ, दो क्रमागत वर्ष 2018 और 2019 के दौरान, एक डीलर की छः शाखाओं B1, B2, B3, B4, B5, B6 से हुई कारों की कुल बिक्री दर्शाता है। नीला रंग वर्ष 2018 से संबंधित है और लाल रंग वर्ष 2019 से संबंधित है।



बार ग्राफ में, वर्ष 2018 में, सभी शाखाओं से हुई कुल बिक्री, वर्ष 2019 में सभी शाखाओं से हुई कुल बिक्री से कितनी प्रतिशत कम है? (दशमलव के एक स्थान तक सही)

- Ans
- 1. 13.5%
 - 2. 14.3%
 - 3. 12.7%
 - 4. 11.9%

Question ID : 6549782394

Status : Not Attempted and Marked For Review

Chosen Option : --

Q.20 $\frac{2}{3} \div \frac{3}{10}$ of $\frac{4}{9} - \frac{4}{5} \times 1\frac{1}{9} \div \frac{8}{15} - \frac{3}{4} + \frac{3}{4} \div \frac{1}{2}$ का मान ज्ञात करें।

Ans

✓ 1. $\frac{49}{12}$

✗ 2. $\frac{25}{6}$

✗ 3. $\frac{14}{3}$

✗ 4. $\frac{17}{9}$

Question ID : 6549782356

Status : Answered

Chosen Option : 1

Q.21 दो संख्याओं का HCF (म.स.प.) 29 है, और उनके LCM (ल.स.प.) के अन्य दो गुणखंड 15 और 13 हैं। उन दो संख्याओं में बड़ी संख्या ज्ञात करें।

Ans

✓ 1. 435

✗ 2. 464

✗ 3. 406

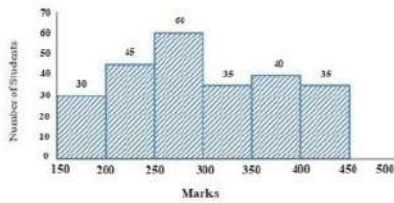
✗ 4. 377

Question ID : 6549782353

Status : Marked For Review

Chosen Option : 1

Q.22 निम्नांकित हिस्टोग्राम का अध्ययन करें, जो किसी परीक्षा में छात्रों द्वारा प्राप्त किए गए अंकों को दर्शाता है और उसके बाद दिए प्रश्न का उत्तर दें।



यदि छात्रों द्वारा प्राप्त किए गए कुल अंकों को एक पाई चार्ट के रूप में प्रदर्शित किया जाए, तो 250 या अधिक, लेकिन 300 से कम अंक वाले वृत्तखंड का केंद्रीय कोण कितना होगा। (निकटतम अंश तक)

Ans

✗ 1. 188°

✗ 2. 68°

✗ 3. 128°

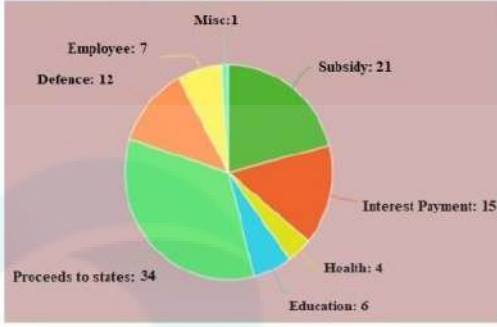
✓ 4. 88°

Question ID : 6549782400

Status : Answered

Chosen Option : 2

Q.23 निम्नांकित पाई चार्ट प्रतिशत में है और यह विभिन्न मदों में हुए खर्च को दर्शाता है। कुल खर्च ₹1,680 (अरब में) है। चार्ट का अध्ययन करें और दिए गए प्रश्न का उत्तर दें।



सब्सिडी (Subsidy) पर हुए व्यय को दर्शाने वाले वृत्तखंड का केंद्रीय कोण ज्ञात करें।

- Ans
- 1. 108.3°
 - 2. 75.6°
 - 3. 54.9°
 - 4. 90°

Question ID : 6549782397
Status : Answered
Chosen Option : 2

Q.24 किसी घनाभ के आकार वाले कमरे की आंतरिक माप की लंबाई 12 m, चौड़ाई 8 m और ऊंचाई 10 m है। यदि सफेदी की लागत ₹25 प्रति m^2 है, तो कमरे की सभी चारों दीवारों के साथ छत की भी सफेदी कराने की कुल लागत (₹ में) ज्ञात करें।

- Ans
- 1. 12,000
 - 2. 13,600
 - 3. 12,400
 - 4. 18,000

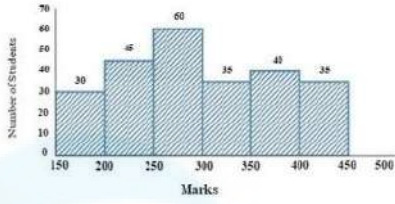
Question ID : 6549782378
Status : Answered
Chosen Option : 3

Q.25 किसी त्रिभुज का आधार उस वर्ग के परिमाण के बराबर है, जिसका विकर्ण $6\sqrt{2}$ cm है, और इसकी ऊंचाई उस वर्ग की भुजा के बराबर है, जिसका क्षेत्रफल 144 cm^2 है। त्रिभुज का क्षेत्रफल (cm^2 में) ज्ञात करें।

- Ans
- 1. 72
 - 2. 216
 - 3. 144
 - 4. 288

Question ID : 6549782380
Status : Answered
Chosen Option : 3

Q.26 निम्नांकित हिस्टोग्राम का अध्ययन करें, जो किसी परीक्षा में छात्रों द्वारा प्राप्त किए गए अंकों को दर्शाता है और उसके बाद दिए प्रश्न का उत्तर दें।



250 से कम अंक प्राप्त करने वाले छात्रों की संख्या ज्ञात करें।

- Ans
- 1. 135
 - 2. 30
 - 3. 75
 - 4. 45

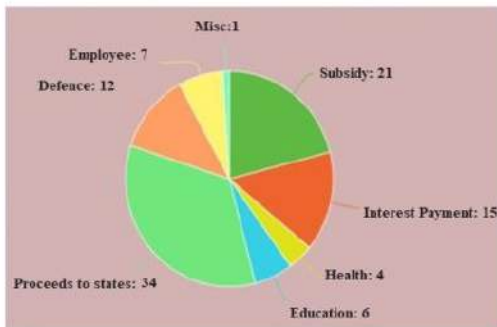
Question ID : 6549782398
Status : Answered
Chosen Option : 3

Q.27 कोई लड़का अपनी चाल में मूल चाल की तुलना में $\frac{9}{5}$ गुना वृद्धि करता है। ऐसा करके वह अपने स्कूल सामान्य समय से 40 मिनट पहले पहुंचता है। उसे सामान्य चाल से चलने पर कितना समय (मिनट में) लगता है?

- Ans
- 1. 45
 - 2. 90
 - 3. 30
 - 4. 120

Question ID : 6549782374
Status : Answered
Chosen Option : 2

Q.28 निम्नांकित पाई चार्ट प्रतिशत में है और यह विभिन्न मदों में हुए खर्च को दर्शाता है। कुल खर्च ₹1,680 (अरब में) है। चार्ट का अध्ययन करें और दिए गए प्रश्न का उत्तर दें।



पाई ग्राफ में, शिक्षा (Education) और स्वास्थ्य (Health) पर खर्च हुई कुल राशि (₹ अरब में) ज्ञात करें।

- Ans
- 1. 84
 - 2. 126
 - 3. 186
 - 4. 168

Question ID : 6549782395
Status : Answered
Chosen Option : 4

Q.29 A और B की वर्तमान आयु का अनुपात 3 : 4 है। बारह वर्ष पूर्व, उनकी आयु का अनुपात 2 : 3 था। A और B की वर्तमान आयु का योगफल (वर्ष में) ज्ञात करें।

- Ans
- 1. 48
 - 2. 72
 - 3. 60
 - 4. 84

Question ID : 6549782366
Status : Answered
Chosen Option : 4

Q.30 ΔABC में $\angle A = 68^\circ$ है। यदि I त्रिभुज का अंतःकेंद्र है, तो $\angle BIC$ की माप ज्ञात करें।

- Ans
- 1. 54°
 - 2. 68°
 - 3. 124°
 - 4. 148°

Question ID : 6549782387
Status : Answered
Chosen Option : 3

Q.31 400 और 700 के बीच ऐसी कितनी संख्याएं हैं, जो 5, 6 और 7 से विभाज्य हैं?

- Ans
- 1. 5
 - 2. 20
 - 3. 2
 - 4. 10

Question ID : 6549782352
Status : Answered
Chosen Option : 3

Q.32 यदि 50 वस्तुओं का विक्रय मूल्य 42 वस्तुओं के क्रय मूल्य के बराबर है, तो शुद्ध लाभ या हानि प्रतिशत ज्ञात करें।

- Ans
- 1. 10% हानि
 - 2. 20% लाभ
 - 3. 16% हानि
 - 4. 8% लाभ

Question ID : 6549782365
Status : Answered
Chosen Option : 3

Q.33 यदि $a^2 + b^2 + c^2 + 84 = 4(a - 2b + 4c)$ है, तो $\sqrt{ab - bc + ca}$ का मान ज्ञात करें।

- Ans
- 1. $5\sqrt{10}$
 - 2. $4\sqrt{10}$
 - 3. $2\sqrt{10}$
 - 4. $\sqrt{10}$

Question ID : 6549782382
Status : Answered
Chosen Option : 3

Q.34 किसी वस्तु के अंकित मूल्य पर 35% की छूट के बाद के विक्रय मूल्य, तथा 20% और 15% की दो क्रमिक छूटों के बाद के विक्रय मूल्य का योगफल ₹1,995 है। वस्तु का अंकित मूल्य (₹ में) ज्ञात करें।

- Ans
- 1. 1,600
 - 2. 1,500
 - 3. 1,550
 - 4. 1,800

Question ID : 6549782362
Status : Answered
Chosen Option : 4

Q.35 किसी कक्षा में 5 वर्ग (sections) हैं, जिनमें क्रमशः 25, 30, 40, 45 और 60 छात्र हैं। इन वर्गों की उत्तीर्ण-प्रतिशतता क्रमशः 20%, 30%, 35%, 40% और 100% है। पूरी कक्षा की उत्तीर्ण-प्रतिशतता ज्ञात करें।

- Ans
- 1. 79%
 - 2. 63%
 - 3. 87%
 - 4. 53%

Question ID : 6549782361
Status : Answered
Chosen Option : 4

Q.36 यदि X का 49% = Y है, तो 50 का Y% इनमें से किसके बराबर होगा।

- Ans
- 1. X के 50%
 - 2. X के 24.5%
 - 3. Y के 40%
 - 4. Y के 24.5%

Question ID : 6549782360
Status : Answered
Chosen Option : 2

Q.37 सोमवार, बुधवार और शुक्रवार को औसत तापमान 41°C था। बुधवार, शुक्रवार, गुरुवार को औसत तापमान 42°C था। यदि गुरुवार को तापमान 43°C था, तो सोमवार को कितना तापमान था।

- Ans
- 1. 40°C
 - 2. 41°C
 - 3. 42°C
 - 4. 43°C

Question ID : 6549782358
Status : Answered
Chosen Option : 1

Q.38 ₹27,000 की राशि को दो भाग A और B में इस प्रकार विभाजित किया जाता है कि 15% वार्षिक दर पर A और B पर क्रमशः दो वर्ष और चार वर्ष बाद प्राप्त साधारण व्याज बराबर है। A और B दोनों से प्राप्त कुल व्याज (₹ में) ज्ञात करें।

- Ans
- 1. 5,400
 - 2. 9,600
 - 3. 18,000
 - 4. 10,800

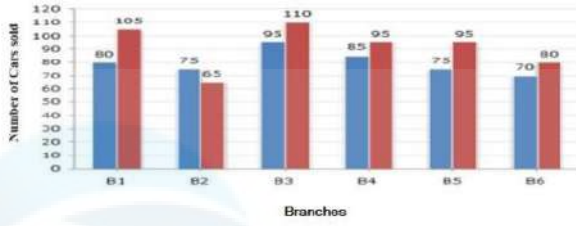
Question ID : 6549782368
Status : Answered
Chosen Option : 4

Q.39 यदि $x + y + z = 13$, $x^2 + y^2 + z^2 = 133$ और $x^3 + y^3 + z^3 = 847$ है, तो $\sqrt[3]{xyz}$ का मान ज्ञात करें।

- Ans
- 1. 7
 - 2. -9
 - 3. 8
 - 4. -6

Question ID : 6549782383
Status : Answered
Chosen Option : 4

Q.40 दिया गया बार ग्राफ, दो क्रमागत वर्ष 2018 और 2019 के दौरान, एक डीलर की छः शाखाओं B1, B2, B3, B4, B5, B6 से हुई कारों की कुल बिक्री दर्शाता है। नीला रंग वर्ष 2018 से संबंधित है और लाल रंग वर्ष 2019 से संबंधित है।



बार ग्राफ में, वर्ष 2018 में हुई औसत बिक्री ज्ञात करें।

- Ans
- 1. 80
 - 2. 78
 - 3. 85
 - 4. 90

Question ID : 6549782393

Status : Answered

Chosen Option : 1

Q.41 किसी संख्या में पहले 40% की वृद्धि हुई और फिर 25% की कमी हुई, फिर से 15% की वृद्धि के बाद 20% की कमी हुई। संख्या में हुई शुद्ध वृद्धि/कमी प्रतिशत ज्ञात करें।

- Ans
- 1. 7.2% की कमी
 - 2. 6.4% की वृद्धि
 - 3. 3.4% की वृद्धि
 - 4. 3.4% की कमी

Question ID : 6549782364

Status : Answered

Chosen Option : 4

Q.42 यदि $400 \text{ का } 25\% + 1200 \text{ का } 35\% + 1800 \text{ का } 27\% = 1020 + x$ है, तो x का मान _____ के बीच होगा।

- Ans
- 1. 11 से 15
 - 2. 6 से 10
 - 3. 16 से 20
 - 4. 0 से 5

Question ID : 6549782363

Status : Answered

Chosen Option : 2

Q.43 यदि $a^3 + b^3 = 217$ और $a + b = 7$ है, तो ab का मान ज्ञात करें।

- Ans
- 1. -1
 - 2. 7
 - 3. 6
 - 4. -6

Question ID : 6549782381
Status : Answered
Chosen Option : 3

Q.44 किसी वर्ग और आयत का क्षेत्रफल बराबर है। आयत की लंबाई, वर्ग की भुजा की लंबाई से 10 cm अधिक है और चौड़ाई 5 cm कम है। आयत का परिमाप (cm में) ज्ञात करें।

- Ans
- 1. 40
 - 2. 50
 - 3. 100
 - 4. 80

Question ID : 6549782379
Status : Answered
Chosen Option : 2

Q.45 माना A और B समान आधार वाली दो मीनारें हैं। और दोनों मीनारों के आधारों को जोड़ने वाली रेखा के मध्यबिंदु से, A और B के शीर्ष का उन्नयन कोण क्रमशः 30° और 60° है। B और A की ऊंचाई का अनुपात ज्ञात करें।

- Ans
- 1. 1 : 2
 - 2. $1 : \sqrt{3}$
 - 3. 3 : 1
 - 4. 1 : 3

Question ID : 6549782391
Status : Answered
Chosen Option : 2

Q.46 पाइप A, B और C किसी टंकी को क्रमशः 15, 30 और 40 घंटों में भर सकते हैं। एक ही दिन पाइप A, B और C को क्रमशः सुबह 6, 8 और 10 बजे खोला जाता है। टंकी कितने बजे भर जाएगी?

- Ans
- 1. 7:20 p.m.
 - 2. 3:20 p.m.
 - 3. 5:20 p.m.
 - 4. 11:20 p.m.

Question ID : 6549782373
Status : Answered
Chosen Option : 4

Q.47 A, किसी कार्य को 35 दिन में कर सकता है और B उसी कार्य को 15 दिन में पूरा कर सकता है। उन्होंने एक साथ 8 दिन तक कार्य किया, उसके बाद B ने कार्य छोड़ दिया। अकेले A शेष कार्य के 60% भाग को कितने दिन में पूरा करेगा?

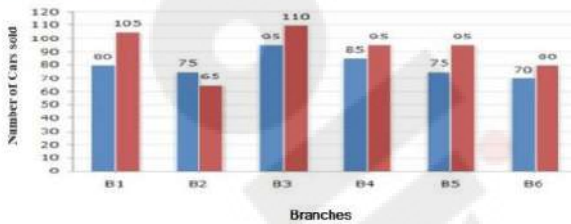
- Ans
- 1. 8
 - 2. 10
 - 3. 5
 - 4. 15

Question ID : 6549782371

Status : Answered

Chosen Option : 3

Q.48 दिया गया बार ग्राफ, दो क्रमागत वर्ष 2018 और 2019 के दौरान, एक डीलर की छः शाखाओं B1, B2, B3, B4, B5, B6 से हुई कारों की कुल बिक्री दर्शाता है। नीला रंग वर्ष 2018 से संबंधित है और लाल रंग वर्ष 2019 से संबंधित है।



बार ग्राफ में, वर्ष 2018 में शाखाओं B1, B2 और B3 से हुई कुल बिक्री का, वर्ष 2019 में शाखाओं B6, B4 और B5 से हुई बिक्री से अनुपात ज्ञात करें।

- Ans
- 1. 27 : 25
 - 2. 25 : 29
 - 3. 25 : 27
 - 4. 29 : 25

Question ID : 6549782392

Status : Answered

Chosen Option : 3

Q.49 $\frac{4.35 \times 4.35 \times 4.35 + 3.25 \times 3.25 \times 3.25}{43.5 \times 43.5 + 32.5 \times 32.5 - 43.5 \times 32.5}$ का मान ज्ञात करें।

- Ans
- 1. 0.076
 - 2. 0.76
 - 3. 0.0076
 - 4. 7.6

Question ID : 6549782357

Status : Answered

Chosen Option : 4

Q.50 जब किसी संख्या को क्रमशः 3, 4 और 7 से विभाजित किया जाता है, तो क्रमशः 2, 3 और 5 शेषफल प्राप्त होता है। जब उसी संख्या को 84 से विभाजित किया जाए, तो प्राप्त शेषफल ज्ञात करें।

- Ans
- 1. 71
 - 2. 53
 - 3. 48
 - 4. 30

Question ID : 6549782351
Status : Answered
Chosen Option : 1

Section : English Comprehension

Q.1 Select the most appropriate one-word substitution for the given group of words.

A person of evil reputation

- Ans
- 1. notorious
 - 2. famous
 - 3. icon
 - 4. renowned

Question ID : 6549782437
Status : Answered
Chosen Option : 1

Q.2 Select the most appropriate one-word substitution for the given group of words.

A person who believes everything easily

- Ans
- 1. plausible
 - 2. creditor
 - 3. reliable
 - 4. credulous

Question ID : 6549782441
Status : Answered
Chosen Option : 4

Q.3 Fill in the blank with the most appropriate word.

More than half the drain _____ been desilted.

- Ans
- 1. was
 - 2. have
 - 3. has
 - 4. is

Question ID : 6549782414
Status : Marked For Review
Chosen Option : 2

Q.4 Select the most appropriate synonym of the given word.

COVETED

- Ans
- 1. despised
 - 2. desired
 - 3. covered
 - 4. renounced

Question ID : 6549782425
Status : Marked For Review
Chosen Option : 3

Q.5 Fill in the blank with the most appropriate option.

I am allowed to take photographs inside the church, _____?

- Ans
- 1. can't I
 - 2. shall I
 - 3. am I
 - 4. aren't I

Question ID : 6549782411
Status : Answered
Chosen Option : 4

Q.6 Select the most appropriate meaning of the given idiom.

Bear the brunt of

- Ans
- 1. bear the maximum fury
 - 2. bear discrimination
 - 3. breed jealousy
 - 4. assume an identity

Question ID : 6549782434
Status : Marked For Review
Chosen Option : 1

Q.7 Select the most appropriate synonym of the given word.

LOFTY

- Ans
- 1. towering
 - 2. humble
 - 3. silent
 - 4. plain

Question ID : 6549782422
Status : Answered
Chosen Option : 2

Q.8 Select the most appropriate option to substitute the underlined segment in the given sentence. If there is no need to substitute it, select 'No substitution required'.

The train was delayed in order to an accident.

- Ans
- 1. because
 - 2. owing to
 - 3. since
 - 4. No substitution required

Question ID : 6549782407
Status : Marked For Review
Chosen Option : 2

Q.9 Fill in the blank with the most appropriate word.

_____! What a frightening experience it was!

- Ans
- 1. Hurray
 - 2. Alas
 - 3. Bravo
 - 4. Oh

Question ID : 6549782413
Status : Marked For Review
Chosen Option : 2

Q.10 Select the most appropriate meaning of the given idiom.

The sword of Damocles

- Ans
- 1. a poignant weapon
 - 2. an authentic sword
 - 3. an impending threat
 - 4. a rare artifact

Question ID : 6549782436
Status : Marked For Review
Chosen Option : 3

Q.11 Select the correctly spelt word.

- Ans
- 1. recommend
 - 2. reccommend
 - 3. recommened
 - 4. recomend

Question ID : 6549782444
Status : Answered
Chosen Option : 1

Q.12 Identify the segment in the sentence which contains a grammatical error.

The two trains gave the illusion of been stationary.

- Ans
- 1. The two
 - 2. trains gave
 - 3. of been stationary
 - 4. the illusion

Question ID : 6549782403
Status : Answered
Chosen Option : 3

Q.13 Select the most appropriate synonym of the given word.

SHOVE

- Ans
- 1. pull
 - 2. halt
 - 3. shout
 - 4. poke

Question ID : 6549782423
Status : Marked For Review
Chosen Option : 2

Q.14 Select the most appropriate option to substitute the underlined segment in the given sentence. If there is no need to substitute it, select 'No substitution required'.

She is being waited for you for two hours.

- Ans
- 1. has been waiting
 - 2. had wait
 - 3. No substitution required
 - 4. have been waited

Question ID : 6549782406
Status : Answered
Chosen Option : 1

Q.15 Select the most appropriate ANTONYM of the given word.

SUAVE

- Ans
- 1. rude
 - 2. brisk
 - 3. charming
 - 4. polite

Question ID : 6549782427
Status : Not Attempted and Marked For Review
Chosen Option : --

Comprehension:

In the following passage some words have been deleted. Fill in the blanks with the help of the alternatives given. Select the most appropriate option for each number.

Alfred Hitchcock was a man with vivid imagination, (1)_____ skills and a passion for life. With his (2)_____ style and God-gifted wit he produced and directed (3)_____ of the most thrilling films that had the audience swooning (4)_____ fright and falling off their seats with laughter. He was greatly (5)_____ by American films and magazines.

SubQuestion No : 16

Q.16 Select the most appropriate option to fill in blank no. 1.

- Ans 1. creative
 2. clever
 3. leading
 4. original

Question ID : 6549782417

Status : Answered

Chosen Option : 1

Comprehension:

In the following passage some words have been deleted. Fill in the blanks with the help of the alternatives given. Select the most appropriate option for each number.

Alfred Hitchcock was a man with vivid imagination, (1)_____ skills and a passion for life. With his (2)_____ style and God-gifted wit he produced and directed (3)_____ of the most thrilling films that had the audience swooning (4)_____ fright and falling off their seats with laughter. He was greatly (5)_____ by American films and magazines.

SubQuestion No : 17

Q.17 Select the most appropriate option to fill in blank no. 2.

- Ans 1. separate
 2. dull
 3. unique
 4. ordinary

Question ID : 6549782418

Status : Answered

Chosen Option : 3

Comprehension:

In the following passage some words have been deleted. Fill in the blanks with the help of the alternatives given. Select the most appropriate option for each number.

Alfred Hitchcock was a man with vivid imagination, (1)_____ skills and a passion for life. With his (2)_____ style and God-gifted wit he produced and directed (3)_____ of the most thrilling films that had the audience swooning (4)_____ fright and falling off their seats with laughter. He was greatly (5)_____ by American films and magazines.

SubQuestion No : 18

Q.18 Select the most appropriate option to fill in blank no. 3.

- Ans 1. any
 2. some
 3. much
 4. more

Question ID : 6549782419

Status : Answered

Chosen Option : 2

Comprehension:

In the following passage some words have been deleted. Fill in the blanks with the help of the alternatives given. Select the most appropriate option for each number.

Alfred Hitchcock was a man with vivid imagination, (1)_____ skills and a passion for life. With his (2)_____ style and God-gifted wit he produced and directed (3)_____ of the most thrilling films that had the audience swooning (4)_____ fright and falling off their seats with laughter. He was greatly (5)_____ by American films and magazines.

SubQuestion No : 19

Q.19 Select the most appropriate option to fill in blank no. 4.

- Ans
- 1. by
 - 2. through
 - 3. of
 - 4. with

Question ID : 6549782420

Status : Answered

Chosen Option : 4

Comprehension:

In the following passage some words have been deleted. Fill in the blanks with the help of the alternatives given. Select the most appropriate option for each number.

Alfred Hitchcock was a man with vivid imagination, (1)_____ skills and a passion for life. With his (2)_____ style and God-gifted wit he produced and directed (3)_____ of the most thrilling films that had the audience swooning (4)_____ fright and falling off their seats with laughter. He was greatly (5)_____ by American films and magazines.

SubQuestion No : 20

Q.20 Select the most appropriate option to fill in blank no. 5.

- Ans
- 1. influenced
 - 2. determined
 - 3. attached
 - 4. altered

Question ID : 6549782421

Status : Answered

Chosen Option : 1

Q.21 Select the most appropriate ANTONYM of the given word.

EXPEL

- Ans
- 1. remove
 - 2. erupt
 - 3. absorb
 - 4. leave

Question ID : 6549782428

Status : Answered

Chosen Option : 3

Q.22 Select the most appropriate one-word substitution for the given group of words.

Holding an office without receiving a pay

- Ans
- 1. charity
 - 2. startup
 - 3. freelance
 - 4. honorary

Question ID : 6549782440
Status : Answered
Chosen Option : 4

Q.23 Select the correctly spelt word.

- Ans
- 1. bouckey
 - 2. bookay
 - 3. bowquet
 - 4. bouquet

Question ID : 6549782443
Status : Answered
Chosen Option : 4

Q.24 Fill in the blank with the most appropriate word.

He was born in a business family and has a natural aptitude _____ business.

- Ans
- 1. on
 - 2. at
 - 3. for
 - 4. to

Question ID : 6549782415
Status : Marked For Review
Chosen Option : 2

Q.25 Select the misspelt word.

- Ans
- 1. ingenuity
 - 2. committee
 - 3. jeopardy
 - 4. neglegible

Question ID : 6549782446
Status : Answered
Chosen Option : 1

Q.26 Select the most appropriate option to substitute the underlined segment in the given sentence. If there is no need to substitute it, select 'No substitution required'.

The large mansion was over his reaching.

- Ans
- 1. away from reaching
 - 2. beyond his reach
 - 3. No substitution required
 - 4. above his reaching

Question ID : 6549782409
Status : **Marked For Review**
Chosen Option : 1

Q.27 Select the correctly spelt word.

- Ans
- 1. richeous
 - 2. riteous
 - 3. righteous
 - 4. rightious

Question ID : 6549782442
Status : **Marked For Review**
Chosen Option : 3

Q.28 Select the most appropriate meaning of the given idiom.

Through thick and thin

- Ans
- 1. going through pain
 - 2. under all circumstances
 - 3. by unfair means
 - 4. under extreme pressure

Question ID : 6549782433
Status : **Answered**
Chosen Option : 2

Q.29 Identify the segment in the sentence which contains a grammatical error.

Sam took a little time to thought before he replied.

- Ans
- 1. before he replied
 - 2. a little time
 - 3. Sam took
 - 4. to thought

Question ID : 6549782401
Status : **Answered**
Chosen Option : 4

Q.30 Select the most appropriate meaning of the given idiom.

Tide over

- Ans
- 1. to jump over
 - 2. to change sides
 - 3. to deceive
 - 4. to overcome

Question ID : 6549782432
Status : Marked For Review
Chosen Option : 4

Q.31 Select the most appropriate one-word substitution for the given group of words.

A deceased holy person's remains or belongings kept for reverence

- Ans
- 1. trophy
 - 2. souvenir
 - 3. memento
 - 4. relic

Question ID : 6549782439
Status : Answered
Chosen Option : 2

Q.32 Select the most appropriate ANTONYM of the given word.

DEFICIENCY

- Ans
- 1. excess
 - 2. glitch
 - 3. dearth
 - 4. snag

Question ID : 6549782430
Status : Answered
Chosen Option : 3

Q.33 Select the most appropriate one-word substitution for the given group of words.

To go around an area to keep a watch

- Ans
- 1. patrol
 - 2. cruise
 - 3. campaign
 - 4. explore

Question ID : 6549782438
Status : Marked For Review
Chosen Option : 1

Q.34 Fill in the blank with the most appropriate word.

The wise try to improve themselves _____ the fools keep blaming their luck.

- Ans
- 1. whether
 - 2. still
 - 3. whereas
 - 4. therefore

Question ID : 6549782412
Status : Answered
Chosen Option : 3

Q.35 Select the most appropriate option to substitute the underlined segment in the given sentence. If there is no need to substitute it, select 'No substitution required'.

The police was accused to tamper with the evidence.

- Ans
- 1. accused of tampering
 - 2. accusing to tamper
 - 3. No substitution required
 - 4. accused to tampered

Question ID : 6549782410
Status : Marked For Review
Chosen Option : 1

Q.36 Select the most appropriate option to substitute the underlined segment in the given sentence. If there is no need to substitute it, select 'No substitution required'.

He decided not to take to heart the loss that he had incurred in business.

- Ans
- 1. be taking heart
 - 2. take heart of
 - 3. No substitution required
 - 4. takes to heart

Question ID : 6549782408
Status : Answered
Chosen Option : 3

Q.37 Identify the segment in the sentence which contains a grammatical error.

Miss Marple is neither a good singer or the good stage artist.

- Ans
- 1. stage artist
 - 2. Miss Marple is
 - 3. neither a good singer
 - 4. or the good

Question ID : 6549782404
Status : Answered
Chosen Option : 4

Q.38 Identify the segment in the sentence which contains a grammatical error.

Two elderly ladies narrated an rather improbable story to the police.

- Ans
- 1. to the police
 - 2. improbable story
 - 3. narrated an rather
 - 4. Two elderly ladies

Question ID : 6549782402
Status : Answered
Chosen Option : 3

Q.39 Select the most appropriate ANTONYM of the given word.

DEFILE

- Ans
- 1. degrade
 - 2. debase
 - 3. evade
 - 4. elevate

Question ID : 6549782431
Status : Marked For Review
Chosen Option : 4

Q.40 Select the most appropriate synonym of the given word.

TUMULT

- Ans
- 1. clarity
 - 2. peace
 - 3. uproar
 - 4. surprise

Question ID : 6549782424
Status : Not Attempted and
Marked For Review
Chosen Option : --

Q.41 Select the misspelt word.

- Ans
- 1. adjourn
 - 2. affiliate
 - 3. etiquette
 - 4. inimical

Question ID : 6549782445
Status : Marked For Review
Chosen Option : 2

Q.42 Select the most appropriate meaning of the given idiom.

Kick up a row

- Ans 1. hit someone angrily
 2. cause a disturbance
 3. break a queue
 4. arrange in rows

Question ID : 6549782435
Status : Answered
Chosen Option : 1

Q.43 Select the most appropriate synonym of the given word.

INTRIGUING

- Ans 1. monotonous
 2. investigating
 3. simultaneous
 4. gripping

Question ID : 6549782426
Status : Answered
Chosen Option : 4

Q.44 Identify the segment in the sentence which contains a grammatical error.

The jury are from different parts of the country.

- Ans 1. are from
 2. of the country
 3. The jury
 4. different parts

Question ID : 6549782405
Status : Answered
Chosen Option : 1

Q.45 Select the most appropriate ANTONYM of the given word.

DIVERGE

- Ans 1. stray
 2. divide
 3. branch
 4. collect

Question ID : 6549782429
Status : Answered
Chosen Option : 4

Comprehension:

Read the given passage and answer the questions that follow.

Fishing traps, baskets, cradles, bridges, rainproof hats and umbrellas, mats, musical instruments, water pipes—Indians have always used the bamboo in numerous ways. It is used for house construction, fencing and in the making of bullock carts. Low-cost domestic furniture and a vast range of domestic utility items made of bamboo can be easily seen in any of our bazaars. But we do not easily notice the countless little ways this modest material comes to be used by rural people. One can see it being used in the blacksmith's bellows, or as bamboo pins in carpentry joints or in the fabrication of toys in village markets. But to the British foresters the multidimensional role that "the forest weed" played in the local Indian environment was of no account, as it did not figure in forest revenues. Bamboo also interfered with the growing of teak, an essential part of their colonial forest policy. It was only in the 1920s that the British realised that by mincing bamboo into millimetre shreds, cooking it in chemicals, pulping and flattening it, they could produce sheets of paper. This would bring the British increased forest revenue and 'development' (as defined by them) to the so-called backward regions of India. However, they chose to ignore the consequences this activity would have on the health of the forest. So while bamboo was sold at high prices to basket weavers, it was heavily subsidised for the paper industry. Even after Independence, supplying bamboo at extremely low prices to Indian paper mills became a 'patriotic' duty of the government, and bamboo supplies were assured for decades at unchanged prices. The disaster that this would cause to the forests, and to the craftsman, still remained unforeseen.

Colonialism affected forests all across India and marginalised their inhabitants and the traditional occupations they practised. As late as the 1970s, the World Bank proposed that 4,600 hectares of natural Sal forest should be replaced by tropical pine to provide pulp for the paper industry. It was only after protests by local environmentalists that the project was stopped. Colonialism was therefore not only about repression, it was also a story of displacement, impoverishment and ecological crisis.

SubQuestion No : 46

Q.46 Bamboo is referred to as 'modest material' because:

- Ans
- 1. it can be easily shredded and reduced to a pulp
 - 2. it is inexpensive and not highly acclaimed
 - 3. the British believed it was worthless
 - 4. it is available in abundance in India

Question ID : 6549782451

Status : Answered

Chosen Option : 1

Comprehension:

Read the given passage and answer the questions that follow.

Fishing traps, baskets, cradles, bridges, rainproof hats and umbrellas, mats, musical instruments, water pipes—Indians have always used the bamboo in numerous ways. It is used for house construction, fencing and in the making of bullock carts. Low-cost domestic furniture and a vast range of domestic utility items made of bamboo can be easily seen in any of our bazaars. But we do not easily notice the countless little ways this modest material comes to be used by rural people. One can see it being used in the blacksmith's bellows, or as bamboo pins in carpentry joints or in the fabrication of toys in village markets. But to the British foresters the multidimensional role that "the forest weed" played in the local Indian environment was of no account, as it did not figure in forest revenues. Bamboo also interfered with the growing of teak, an essential part of their colonial forest policy. It was only in the 1920s that the British realised that by mincing bamboo into millimetre shreds, cooking it in chemicals, pulping and flattening it, they could produce sheets of paper. This would bring the British increased forest revenue and 'development' (as defined by them) to the so-called backward regions of India. However, they chose to ignore the consequences this activity would have on the health of the forest. So while bamboo was sold at high prices to basket weavers, it was heavily subsidised for the paper industry. Even after Independence, supplying bamboo at extremely low prices to Indian paper mills became a 'patriotic' duty of the government, and bamboo supplies were assured for decades at unchanged prices. The disaster that this would cause to the forests, and to the craftsman, still remained unforeseen.

Colonialism affected forests all across India and marginalised their inhabitants and the traditional occupations they practised. As late as the 1970s, the World Bank proposed that 4,600 hectares of natural Sal forest should be replaced by tropical pine to provide pulp for the paper industry. It was only after protests by local environmentalists that the project was stopped. Colonialism was therefore not only about repression, it was also a story of displacement, impoverishment and ecological crisis.

SubQuestion No : 47

Q.47 What does the 'forest weed' refer to?

- Ans**
- 1. Sal
 - 2. Teak
 - 3. Bamboo
 - 4. Pine

Question ID : **6549782448**

Status : **Answered**

Chosen Option : **3**

Comprehension:

Read the given passage and answer the questions that follow.

Fishing traps, baskets, cradles, bridges, rainproof hats and umbrellas, mats, musical instruments, water pipes—Indians have always used the bamboo in numerous ways. It is used for house construction, fencing and in the making of bullock carts. Low-cost domestic furniture and a vast range of domestic utility items made of bamboo can be easily seen in any of our bazaars. But we do not easily notice the countless little ways this modest material comes to be used by rural people. One can see it being used in the blacksmith's bellows, or as bamboo pins in carpentry joints or in the fabrication of toys in village markets. But to the British foresters the multidimensional role that "the forest weed" played in the local Indian environment was of no account, as it did not figure in forest revenues. Bamboo also interfered with the growing of teak, an essential part of their colonial forest policy. It was only in the 1920s that the British realised that by mincing bamboo into millimetre shreds, cooking it in chemicals, pulping and flattening it, they could produce sheets of paper. This would bring the British increased forest revenue and 'development' (as defined by them) to the so-called backward regions of India. However, they chose to ignore the consequences this activity would have on the health of the forest. So while bamboo was sold at high prices to basket weavers, it was heavily subsidised for the paper industry. Even after Independence, supplying bamboo at extremely low prices to Indian paper mills became a 'patriotic' duty of the government, and bamboo supplies were assured for decades at unchanged prices. The disaster that this would cause to the forests, and to the craftsman, still remained unforeseen.

Colonialism affected forests all across India and marginalised their inhabitants and the traditional occupations they practised. As late as the 1970s, the World Bank proposed that 4,600 hectares of natural Sal forest should be replaced by tropical pine to provide pulp for the paper industry. It was only after protests by local environmentalists that the project was stopped. Colonialism was therefore not only about repression, it was also a story of displacement, impoverishment and ecological crisis.

SubQuestion No : 48

Q.48 What was considered to be a patriotic duty of the government after independence?

- Ans
- 1. Preventing the displacement of foresters
 - 2. Handling the ecological crisis in India
 - 3. Replacing Sal forests by tropical pines
 - 4. Supplying bamboo at low prices to paper mills

Question ID : 6549782452

Status : **Not Attempted and Marked For Review**

Chosen Option : --

Comprehension:

Read the given passage and answer the questions that follow.

Fishing traps, baskets, cradles, bridges, rainproof hats and umbrellas, mats, musical instruments, water pipes—Indians have always used the bamboo in numerous ways. It is used for house construction, fencing and in the making of bullock carts. Low-cost domestic furniture and a vast range of domestic utility items made of bamboo can be easily seen in any of our bazaars. But we do not easily notice the countless little ways this modest material comes to be used by rural people. One can see it being used in the blacksmith's bellows, or as bamboo pins in carpentry joints or in the fabrication of toys in village markets. But to the British foresters the multidimensional role that "the forest weed" played in the local Indian environment was of no account, as it did not figure in forest revenues. Bamboo also interfered with the growing of teak, an essential part of their colonial forest policy. It was only in the 1920s that the British realised that by mincing bamboo into millimetre shreds, cooking it in chemicals, pulping and flattening it, they could produce sheets of paper. This would bring the British increased forest revenue and 'development' (as defined by them) to the so-called backward regions of India. However, they chose to ignore the consequences this activity would have on the health of the forest. So while bamboo was sold at high prices to basket weavers, it was heavily subsidised for the paper industry. Even after Independence, supplying bamboo at extremely low prices to Indian paper mills became a 'patriotic' duty of the government, and bamboo supplies were assured for decades at unchanged prices. The disaster that this would cause to the forests, and to the craftsman, still remained unforeseen.

Colonialism affected forests all across India and marginalised their inhabitants and the traditional occupations they practised. As late as the 1970s, the World Bank proposed that 4,600 hectares of natural Sal forest should be replaced by tropical pine to provide pulp for the paper industry. It was only after protests by local environmentalists that the project was stopped. Colonialism was therefore not only about repression, it was also a story of displacement, impoverishment and ecological crisis.

SubQuestion No : 49

Q.49 Which of these is NOT a step in the production of paper?

- Ans
- 1. Mincing
 - 2. Pulping
 - 3. Weaving
 - 4. Flattening

Question ID : 6549782449

Status : **Not Attempted and
Marked For Review**

Chosen Option : --

Comprehension:

Read the given passage and answer the questions that follow.

Fishing traps, baskets, cradles, bridges, rainproof hats and umbrellas, mats, musical instruments, water pipes—Indians have always used the bamboo in numerous ways. It is used for house construction, fencing and in the making of bullock carts. Low-cost domestic furniture and a vast range of domestic utility items made of bamboo can be easily seen in any of our bazaars. But we do not easily notice the countless little ways this modest material comes to be used by rural people. One can see it being used in the blacksmith's bellows, or as bamboo pins in carpentry joints or in the fabrication of toys in village markets. But to the British foresters the multidimensional role that "the forest weed" played in the local Indian environment was of no account, as it did not figure in forest revenues. Bamboo also interfered with the growing of teak, an essential part of their colonial forest policy. It was only in the 1920s that the British realised that by mincing bamboo into millimetre shreds, cooking it in chemicals, pulping and flattening it, they could produce sheets of paper. This would bring the British increased forest revenue and 'development' (as defined by them) to the so-called backward regions of India. However, they chose to ignore the consequences this activity would have on the health of the forest. So while bamboo was sold at high prices to basket weavers, it was heavily subsidised for the paper industry. Even after Independence, supplying bamboo at extremely low prices to Indian paper mills became a 'patriotic' duty of the government, and bamboo supplies were assured for decades at unchanged prices. The disaster that this would cause to the forests, and to the craftsman, still remained unforeseen.

Colonialism affected forests all across India and marginalised their inhabitants and the traditional occupations they practised. As late as the 1970s, the World Bank proposed that 4,600 hectares of natural Sal forest should be replaced by tropical pine to provide pulp for the paper industry. It was only after protests by local environmentalists that the project was stopped. Colonialism was therefore not only about repression, it was also a story of displacement, impoverishment and ecological crisis.

SubQuestion No : 50

Q.50 The varied uses of bamboo were disregarded by the British till the 1920s because:

- Ans
- 1. they did not use bamboo products at all
 - 2. it did not increase the forest revenue
 - 3. it was used in the backward regions only
 - 4. the bamboo products were cheaply available

Question ID : 6549782450

Status : **Not Attempted and
Marked For Review**

Chosen Option : --