

## Constable Executive Male and Female in Delhi Police Examination 2020

11/12/2020
4:00 PM - 5:30 PM
Constable in Delhi Police Exam 2020

### General Knowledge or Current Affairs

'Punhya' नामक जनजातीय पर्व पारंपरिक रूप से निम्नलिखित में से किस राज्य से संबंधित

- 1. गुजरात
- 2. महाराष्ट्र
- 3. बिहार
- 4. उत्तरांचल

Question ID : 8161617603  
Status : Not Answered  
Chosen Option : --

पचन के लिए निम्नलिखित में से क्या उत्तरदायी होता है?

- 1. बिल (Bile)
- 2. रेनिन (Rennin)
- 3. पेप्सिन (Pepsin)
- 4. लिपेस (Lipase)

Question ID : 8161617632  
Status : Answered  
Chosen Option : 4

फ्रैंडिया का निर्माण कार्य निम्नलिखित में से किस वर्ष में प्रारंभ हुआ था?

- 1. 1950 में
- 2. 1951 में
- 3. 1952 में
- 4. 1953 में

Question ID : 8161617599  
Status : Answered  
Chosen Option : 4

न: एथिक्स फॉर अ होल वर्ल्ड नामक पुस्तक किसके द्वारा लिखी गई है?

- लामा
- ज्ञानवत्सल
- पट्टनायक

Question ID : 8161617612  
Status : Not Answered  
Chosen Option : --

सोमवंशी नामक राजवंशों ने \_\_\_\_\_ में शासन किया।

- त
- गढ़

Question ID : 8161617640  
Status : Answered  
Chosen Option : 2

लेखित में से किस नदी प्रणाली की एक महत्वपूर्ण नदी है?

- री

Question ID : 8161617639  
Status : Not Answered  
Chosen Option : --

भूमलिखित में से कौन सा स्थल, गुजरात में स्थित है?

- कोह
- आई
- मेनडोर
- टड़ा

Question ID : 8161617645  
Status : Answered  
Chosen Option : 4

से कौन सा हार्मोन, आपातकालीन परिस्थितियों के प्रति हमारी प्रतिक्रिया को सक्षम बनाता है?

टेरोन

क्सिन

गोटोसिन

कीन

Question ID : 8161617633

Status : Answered

Chosen Option : 4

नुसार, चंद्रगुप्त मौर्य के शासनकाल में समाज \_\_\_\_\_ जातियों में विभाजित था।

Question ID : 8161617647

Status : Answered

Chosen Option : 3

लेखित में से किस ग्रंथ का एक भाग है?

पुराण

द

ारत

ण

Question ID : 8161617641

Status : Answered

Chosen Option : 3

से कौन भारत की संविधान सभा में, मौलिक अधिकारों की उपसमिति के अध्यक्ष थे?

कृपलानी

ः मुंशी

कलाम आज़ाद

शभाई पटेल

Question ID : 8161617627

Status : Answered

Chosen Option : 3

0-21 में आयकर पर स्वास्थ्य एवं शिक्षा उपकर(cess) की दर निम्नलिखित में से कितनी है?

Question ID : 8161617614  
Status : Not Answered  
Chosen Option : --

प्रिया सीनियर महिला राष्ट्रीय चैम्पियनशिप 2020 (A डिवीजन) खिताब \_\_\_\_\_ की टीम ने जीता।

पा  
देश  
बंगाल

Question ID : 8161617606  
Status : Answered  
Chosen Option : 1

वैशिक शासनकाल में लॉर्ड मैकाले द्वारा निम्नलिखित में से किस क्षेत्र के लिए अधोमुखी  
ण का समर्थन किया गया था?

नीति

Question ID : 8161617644  
Status : Answered  
Chosen Option : 3

20-21 के अनुसार, भारत विश्व की \_\_\_\_\_ सबसे बड़ी अर्थव्यवस्था है।

f  
f

Question ID : 8161617618  
Status : Answered  
Chosen Option : 1

से किस पर्वत श्रेणी में, मलयगिरि इसकी सर्वोच्च चोटियों में से एक के रूप में स्थित है?

प पहाड़ियों

द पहाड़ियों

त पहाड़ियों

मलाई पहाड़ियों

Question ID : 8161617638  
Status : Not Answered  
Chosen Option : --

20-21 में निम्नलिखित में से किस संस्थान की स्थापना को प्रस्तावित किया गया है?

य विरासत एवं संरक्षण संस्थान

विरासत प्रबंधन संस्थान

य कला एवं वास्तुकला संस्थान

अनुप्रयुक्त संरक्षण संस्थान

Question ID : 8161617615  
Status : Answered  
Chosen Option : 4

नलिखित में से किस देश से अब्दुर रज्जाक भारत आया था?

मो

Question ID : 8161617646  
Status : Answered  
Chosen Option : 3

से किस विद्रोह का नेतृत्व सुरेन्द्र साय द्वारा किया गया था?

वेद्रोह

र विद्रोह

पुर विद्रोह

वेद्रोह

Question ID : 8161617643  
Status : Not Answered  
Chosen Option : --

वृत्ति लेने की घोषणा करने वाले चीनी खिलाड़ी लिन डैन, एक पेशेवर \_\_\_\_\_ हैं।

1 खिलाड़ी

टन खिलाड़ी

ल खिलाड़ी

Question ID : 8161617605  
Status : Answered  
Chosen Option : 3

भेसिन निम्नलिखित में से किस राज्य तक नहीं फैला हुआ है?

क

नाडु

मदेश

Question ID : 8161617635  
Status : Answered  
Chosen Option : 3

विधिनियम, 1919 ने ब्रिटिश शासन के अंतर्गत भारत में पहली बार द्विसदनीय शासन की प्रथा को स्थापित किया। इसने राज्य परिषद का कार्यकाल \_\_\_\_\_ वर्ष निर्धारित किया।

Question ID : 8161617624  
Status : Answered  
Chosen Option : 2

निम्नलिखित में से कौन सा अनुच्छेद, मौलिक अधिकार के रूप में मानव तस्करी को प्रतिबन्धित करता है?

अनुच्छेद 17

अनुच्छेद 14

अनुच्छेद 23

अनुच्छेद 20

Question ID : 8161617622  
Status : Answered  
Chosen Option : 3

न के निम्नलिखित में से कौन से अनुच्छेद में यह उल्लेखित है कि प्रत्येक वर्ष के प्रथम सत्र के , संसद के दोनों सदनों को एक साथ संबोधित करेंगे और सत्र और सम्मन के कारणों से संसद रूंगे?

द 87 (1)

द 87 (2)

द 86 (2)

द 86 (1)

Question ID : 8161617626  
Status : Not Answered  
Chosen Option : --

से कौन सा, जैविक नाइट्रोजन स्थिरक है?

जिलियस

रित शैवाल

गेआ

यरस

Question ID : 8161617628  
Status : Answered  
Chosen Option : 4

और उत्पादों के निर्यात हेतु केंद्रीय बजट 2020-21 में 'एक उत्पाद एक जिला' योजना से किस क्षेत्र के लिए घोषित की गई?

धन क्षेत्र

नी क्षेत्र

न क्षेत्र

ेत्र

Question ID : 8161617620  
Status : Not Answered  
Chosen Option : --

व, जिनका जुलाई 2020 में निधन हो गया, उन्हें \_\_\_\_\_ सिनेमा में उनके योगदान के लिए जाना

Question ID : 8161617609  
Status : Not Answered  
Chosen Option : --

न का निम्नलिखित में से कौन सा अनुच्छेद, मौलिक अधिकारों के संदर्भ में 'राज्य' को

कहता है?

अनुच्छेद 22

अनुच्छेद 12

अनुच्छेद 16

अनुच्छेद 18

Question ID : 8161617623  
Status : Answered  
Chosen Option : 2

निम्नलिखित में से किस खेल में, अंतरराष्ट्रीय स्पर्धाओं में भारत का प्रतिनिधित्व करते हैं?

1. हॉकी

2. बाज्जी

3. क्रिकेट

4. जूडो

Question ID : 8161617604  
Status : Not Answered  
Chosen Option : --

जिने ने अपने 'आनंदमठ' उपन्यास में निम्नलिखित में से किस विद्रोह का वर्णन किया है?

1. विद्रोह

2. विद्रोह

3. विद्रोह

4. विद्रोह

Question ID : 8161617642  
Status : Answered  
Chosen Option : 1

विश्व दिवस की परेड में, मुख्य अतिथि रहे, जायर बोलसोनारो निम्नलिखित में से किस देश के

1. ब्राजील

2. मेक्सिको

3. अफ्रीका

4. अफ्रीका

Question ID : 8161617608  
Status : Answered  
Chosen Option : 1

एक स्वरूप 'दसकठिया' निम्नलिखित में से कहाँ प्रचलित है:

।

त

शा

Question ID : 8161617601  
Status : Not Answered  
Chosen Option : --

निम्नलिखित में से किस स्थान पर, प्रसिद्ध बेणेश्वर मेला आयोजित किया जाता है?

र

,र

आबू

र

Question ID : 8161617598  
Status : Answered  
Chosen Option : 3

श्री 'राबिया-उद्-दुरानी' की कब्रगाह 'बीवी का मक़बरा' नामक स्मारक निम्नलिखित में से किस देश में स्थित है?

देश

र

त

क

Question ID : 8161617600  
Status : Answered  
Chosen Option : 2

सफलतापूर्वक परीक्षण जुलाई 2020 में किया गया, रक्षा अनुसंधान एवं विकास संगठन (DRDO) द्वारा विकसित एक \_\_\_\_\_ है।

(pistol)

ख (missile)

वायु रक्षा प्रणाली (air defence system)

गोला-प्रतिरोधी जैकेट (bullet-proof jacket)

Question ID : 8161617610  
Status : Answered  
Chosen Option : 2

20-21 में 'विवाद से विश्वास' योजना निम्नलिखित में से किससे संबंधित शिकायतों के निवारण ई?

कर

ारिक क्षेत्र में ऋणों का पुनर्गठन

एवं सेवा कर

उत्पाद शुल्क

Question ID : 8161617617  
Status : Answered  
Chosen Option : 3

20-21 के अनुसार, वर्ष 2020-21 हेतु निम्नलिखित में से कृषि ऋण का लक्ष्य कितना रखा गया

लाख करोड़

लाख करोड़

लाख करोड़

लाख करोड़

Question ID : 8161617619  
Status : Answered  
Chosen Option : 4

ने (इंटरलॉकिंग ऑफ़ रिवर्स) के कार्यक्रम के अंतर्गत, \_\_\_\_\_ नदी से केन नदी को जोड़ने का कार्य

दी

सिंध

Question ID : 8161617634  
Status : Answered  
Chosen Option : 1

लिखित में से किस पड़ोसी देश से भारत में सीधे प्रवेश करती है?

देश

र

Question ID : 8161617637  
Status : Answered  
Chosen Option : 2

रात के राष्ट्रपति के चुनाव के समय निम्नलिखित में से किस राज्य के विधान सभा सदस्यों (MLA) तीसरा सर्वोच्च मूल्य था?

- ब्रह्म
- बिहार
- उत्तर प्रदेश
- बंगाल

Question ID : 8161617625  
Status : Not Answered  
Chosen Option : --

निम्नलिखित में से किसके द्वारा खोजा गया था?

- ब्राउन
- ई जेनर
- हुक
- श्वर

Question ID : 8161617631  
Status : Answered  
Chosen Option : 2

वे, जेजुनम और \_\_\_\_\_ विभाजित होती है।

- ब्रह्म
- बिहार
- उत्तर प्रदेश

Question ID : 8161617629  
Status : Not Answered  
Chosen Option : --

निम्नलिखित में से किसे गिनीज़ विश्व रिकार्ड द्वारा 'सबसे तेज़ मानव संगणक' के रूप में गया, जिन्होंने चार दशक पूर्व यह उपलब्धि प्राप्त की थी?

- बे साहू
- क्रवर्ती
- कुमारी
- मला देवी

Question ID : 8161617611  
Status : Answered  
Chosen Option : 4

सों की गति का प्रक्रम, क्या कहलाता है?

द

काशन

ग

रण

Question ID : 8161617630

Status : Answered

Chosen Option : 3

जनजातीय पर्व पारंपरिक रूप से निम्नलिखित में से किस राज्य से संबंधित है?

म

शा

त

Question ID : 8161617602

Status : Not Answered

Chosen Option : --

20-21 के अनुसार, वित्तीय वर्ष 2020-21 के दौरान, केंद्र सरकार के लिए वित्त-प्राप्तियों का निम्नलिखित में से कौन सा था?

उत्पाद शुल्क

कर

शुल्क

एवं सेवा कर

Question ID : 8161617621

Status : Answered

Chosen Option : 4

से कौन सा, 'सभी के लिए आर्थिक विकास' नामक विषयवस्तु का एक घटक नहीं था, जैसा कि 20-21 में निर्दिष्ट किया गया था?

विकास

विश्वास

आवास

साथ

Question ID : 8161617616

Status : Answered

Chosen Option : 2

त परियोजना, निम्नलिखित में से किस राज्य में स्थित है?

चल प्रदेश

म

म

र

Question ID : 8161617636

Status : Answered

Chosen Option : 1

पन 2020 में महिला एकल श्रेणी में उप-विजेता निम्नलिखित में से कौन बनी?

मुगुरुजा (Garbine Muguruza)

मर्टेंस (Elise Mertens)

जा कोंटा (Johanna Konta)

सककारी (Maria Sakkari)

Question ID : 8161617607

Status : Not Answered

Chosen Option : --

अ बेटर वर्ल्ड' नामक पुस्तक निम्नलिखित में से किसके द्वारा लिखी गई है?

र. नारायण मूर्ति

गटा

गोदरेज

नीलेकणि

Question ID : 8161617613

Status : Answered

Chosen Option : 4

asoning

चयन कीजिए जिसका तीसरे शब्द से वही संबंध है, जो दूसरे शब्द का पहले शब्द से है।

नोरम : : दिसपुर : ?

गार्लैंड

सम

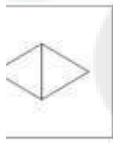
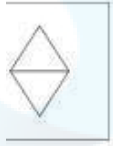
शालय

विक्रम

Question ID : 8161617648

Status : Answered

कृति चुनें जो आकृति III से उसी प्रकार संबंधित है जिस प्रकार, आकृति II, आकृति I से संबंधित है।



Question ID : 8161617659  
Status : Answered  
Chosen Option : 3

हृति चुनें जो दी गई आकृति में प्रश्न चिन्ह (?) को प्रतिस्थापित करके पैटर्न पूरा कर सकती हैं।



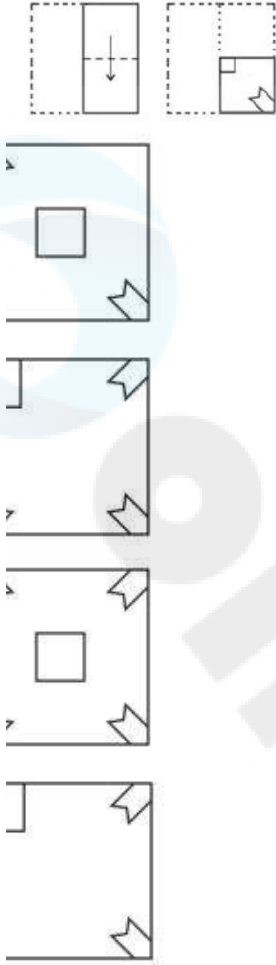
Question ID : 8161617663  
Status : Answered  
Chosen Option : 4

चयन कीजिए जिसकी संख्याओं के मध्य वही संबंध है, जो निम्न दिए गए समुच्चय की संख्याओं के

- 24, 112, 28)
- 20, 110, 36)
- 24, 209, 56)
- 40, 256, 62)

Question ID : 8161617654  
Status : Answered  
Chosen Option : 1

निम्न चित्रों के अनुसार मोड़ा और काटा गया है। खोले जाने पर यह कैसा दिखाई देगा?



Question ID : 8161617666

Status : Answered

Chosen Option : 3

: भाषा में WIFE को WEFI के रूप में लिखा जाता है। उसी कूट भाषा में निम्नलिखित में से किस के रूप में लिखा जाएगा?

CH

HC

RCI




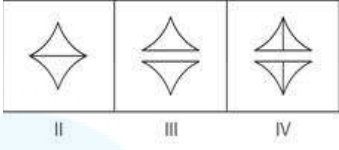
HIC

Question ID : 8161617650

Status : Answered

Chosen Option : 1

आकृति चुनें जो निम्न आकृति श्रृंखला में अगले स्थान पर आएगी।



Question ID : 8161617661

Status : Answered

Chosen Option : 4

आकृति चुनें जो दी गई आकृति में सन्निकित है (घुमाने की अनुमति नहीं है)।



Question ID : 8161617668

Status : Answered

Chosen Option : 1

के उस सही संयोजन का चयन करें जिसे क्रमिक रूप से + चिहनों के स्थान पर रखे जाने पर दिया संतुलित हो जाएगा।

! \* 40

$$\times, \div, -, =$$

$$-, +, \times, =$$

$$+, \div, \times, =$$

$$+, -, \div, =$$

Question ID : 8161617655

Status : Answered

Chosen Option : 4

का वह विकल्प चुनें जो दिए गए वेन आरेख (Venn diagram) द्वारा सर्वोत्तम ढंग से दर्शाया गया

)

हेलाएँ, माता, पुत्री

ष, पति, पुत्र

शेया, भारत, दिल्ली

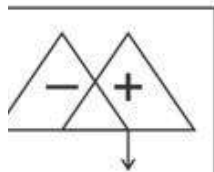
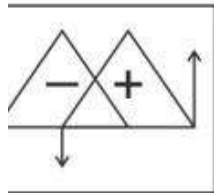
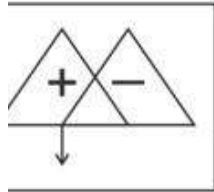
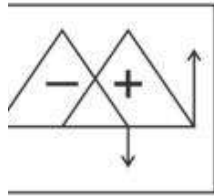
गेडिल, फूल, सूरजमुखी

Question ID : 8161617671

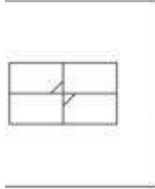
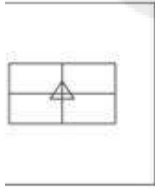
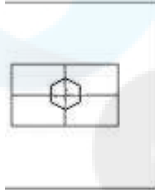
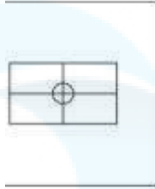
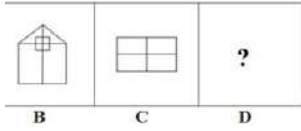
Status : Answered

Chosen Option : 4

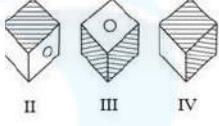
दी गई आकृति की दाईं ओर रखा जाए, तो दर्पण में निम्नलिखित सही प्रतिबिम्ब का चयन कीजिए।



चुनें जो आकृति C से उसी प्रकार संबंधित है जिस प्रकार, आकृति B, आकृति A से संबंधित है।



1. गई शीट को मोड़े जाने पर निम्नांकित में से कौन सा/से बॉक्स बनेगा/बनेंगे?



बल II और III

बल I, II और IV

बल III और IV

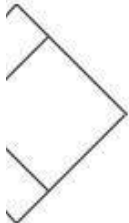
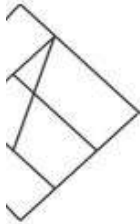
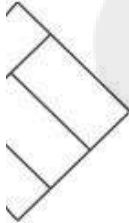
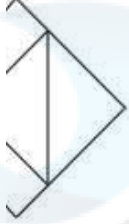
बल I और IV

Question ID : 8161617670

Status : Answered

Chosen Option : 2

हृति चुनें जो दी गई आकृति में प्रश्न चिन्ह (?) को प्रतिस्थापित करके पैटर्न पूरा कर सकती हैं।



Question ID : 8161617664

Status : Answered

Chosen Option : 2

चयन कीजिए जिसका तीसरी संख्या से बही संबंध है, जो दूसरी संख्या का पहली संख्या से है।

15 : ?

8

5

9

.

1. एक दुकानदार 50% लाभ अर्जित करता है। यदि वह विक्रय मूल्य दोगुना कर दे, तो वह कितने जित करेगा?

0%

0%

0%

0%

Question ID : 8161617656

Status : Answered

Chosen Option : 1

2. क्या, निम्न संख्या श्रृंखला में प्रश्न चिन्ह (?) को प्रतिस्थापित करेगी?

44, 292, ?

4

8

2

0

Question ID : 8161617651

Status : Answered

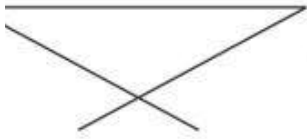
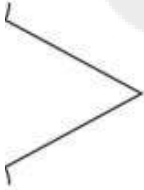
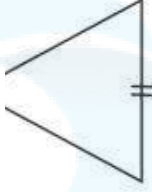
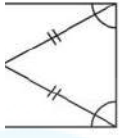
Chosen Option : 2

३ जो कागज़ की दी गई शीट को मोड़े जाने पर बनने वाले बॉक्स के समान होगा।



Question ID : 8161617669  
Status : Answered  
Chosen Option : 1

शकृतल कृतुनं कु डी गई आकृतल में सन्नलहत नहलं है (धुडलने की अनुडतल नहलं है)।



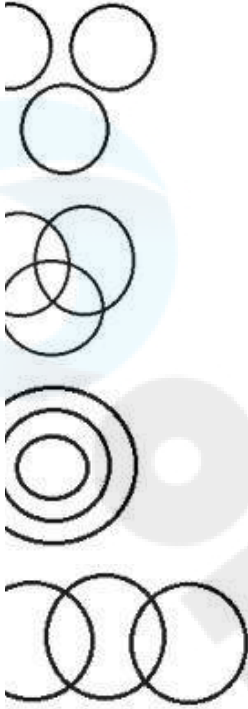
Question ID : 8161617667

Status : Answered

Chosen Option : 1

(Venn diagram) चुनें जो निम्न वर्गों (classes) के बीच संबंध को सर्वोत्तम ढंग से दर्शाता है।

ज, टैक्सी

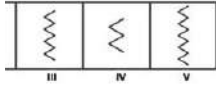


Question ID : 8161617672

Status : Answered

Chosen Option : 4

हृत्तियों में से चार किसी न किसी प्रकार से समान हैं जबकि एक असंगत है। उस असंगत आकृति



Question ID : 8161617658

Status : Answered

Chosen Option : 4

ख्या, निम्न संख्या श्रृंखला में प्रश्न चिन्ह (?) को प्रतिस्थापित करेगी?

213, 261, 357, ?

9

6

4

4

Question ID : 8161617652

Status : Answered

Chosen Option : 1

ार शब्दों में से तीन में एक निश्चित प्रकार की समानता है और एक असंगत है। उस असंगत कीजिए।

त

भुज

यत

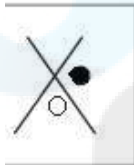
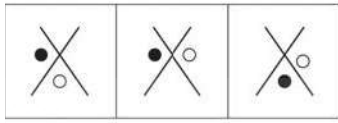
ध्रुवत्त

Question ID : 8161617649

Status : Answered

Chosen Option : 4

आकृति का चयन कीजिए जो निम्न आकृति-श्रृंखला में अगले स्थान पर आएगी।

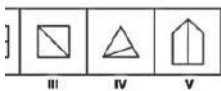


Question ID : 8161617662

Status : Answered

Chosen Option : 1

आकृतियों में से चार किसी न किसी प्रकार से समान हैं जबकि एक असंगत है। उस असंगत को चुनिए।



Question ID : 8161617657

Status : Answered

गोल में डिजाइन करता है लेकिन दुकानदार उससे इसकी विज्या को 10% कम करने के लिए का क्षेत्रफल कितने प्रतिशत कम हो जाएगा?

%

%

%

%

Question ID : 8161617679

Status : Answered

Chosen Option : 4

ख्याओं का औसत 32 है। यदि पहली 6 संख्याओं का औसत 30 है, और अंतिम 6 संख्याओं का औसत 34 है, तो पांचवीं और छठी संख्याओं का औसत कितना है?

.5

Question ID : 8161617676

Status : Answered

Chosen Option : 4

एक चुनाव में दो उम्मीदवारों A और B ने एक ही पद के लिए चुनाव लड़ा। दिए गए सभी मत ए बार काउंसिल के प्रत्येक सदस्य को मत देना था। A और B के पक्ष में दिए गए मतों के बीच अंतर था। यदि असफल उम्मीदवार को 46,860 मत प्राप्त हुए, तो बार काउंसिल में कुल कितने

13,060

38,600

56,200

79,256

Question ID : 8161617681

Status : Answered

Chosen Option : 1

चालक एक समान चाल से 40 km की दूरी तय करता है। साइकिल चालक इस दूरी को सामान्य कम समय में तय करना चाहता है, इसलिए वह अपनी चाल को 10 km/h बढ़ा देता है।  
ने यात्रा किस चाल (km/h में) से आरंभ की थी?

Question ID : 8161617685  
Status : Answered  
Chosen Option : 4

एक समचतुर्भुज के आकार में काटता है, जिसकी भुजाओं की माप 5 cm हैं और उसके छोटे छेदे 6 cm हैं। समचतुर्भुज का क्षेत्रफल (cm<sup>2</sup> में) कितना होगा?

Question ID : 8161617686  
Status : Answered  
Chosen Option : 2

दो व्यक्ति A और B को काम पर रखती है, कि एक ही कार्य को पूरा करने के लिए A की गति गुना अधिक है। A अकेले उस कार्य पूरा करने में, B द्वारा उसी कार्य को पूरा करने में 52 दिन कम समय में पूरा करने में सक्षम था। A और B उसी कार्य को एक साथ दिनों में पूरा कर लेंगे?

- $\frac{1}{2}$
- $\frac{1}{2}$
- $\frac{1}{2}$
- $\frac{1}{2}$
- $\frac{1}{2}$

Question ID : 8161617684  
Status : Answered  
Chosen Option : 2

पने ग्राहकों के लिए एक प्रस्ताव देते हुए कहा कि यदि वे 8% वार्षिक ब्याज दर पर ध्रुवार्षिक रूप से चक्रवृद्धि किया जाता है) ₹x का निवेश एक वर्ष के लिए करेंगे, तो वर्ष हें ₹20,280 प्राप्त होंगे। यदि ग्राहक 16% वार्षिक ब्याज दर पर दोगुने समय के लिए णा निवेश करना चाहता है, और ब्याज वार्षिक रूप से चक्रवृद्धि किया जाता है, तो कितना (₹ में) होगा?

- 100
- 480
- 750
- 260

Question ID : 8161617683

Status : Answered

Chosen Option : 2

और y दो ऐसी धनात्मक संख्याएँ कि  $x > y$  है, तथा x और y के वर्गों का योग 2426 है एवं है। y का वर्ग क्या होगा?

Question ID : 8161617674

Status : Answered

Chosen Option : 1

का अंकित मूल्य ₹4,500 है और यह 15% ऑफ सीजन छूट पर उपलब्ध है। दुकानदार ने एक उस कूलर को ₹3,519 में बेच दिया। दूसरी छूट का प्रतिशत कितना है?

- 6
- .2%
- 6
- 6

Question ID : 8161617677

Status : Answered

Chosen Option : 1

$\frac{15.75 + \frac{5}{7} \text{ of } 42 - 3.25}{\frac{3}{4} \text{ of } (15.8 - 3.4) + 5 \times 2.39}$ , तो X का मान क्या होगा?

Question ID : 8161617675  
Status : Answered  
Chosen Option : 2

मानदार ने ₹400 प्रति पंखा के मूल्य पर तीन पंखे खरीदे। ऑफ सीजन सेल के कारण उसने उनके कय मूल्य के  $\frac{1}{8}$  की हानि पर बेचा। हालांकि पूरे सौदे में वह 20% का लाभ कमाना चाहता। त्रों पंखों को एक साथ कितने लाभ प्रतिशत पर बेचना होगा?

- .25%
- .5%
- .75%

Question ID : 8161617680  
Status : Answered  
Chosen Option : 1

विशेष स्टोर से खरीदा जाता है तो प्रति kg गेहूँ का मूल्य 25% कम होता है। इस कमी के कारण ₹1,200 में 10 kg अधिक गेहूँ खरीद पाती है। पहले वह कितनी मात्रा में (kg में) गेहूँ खरीद

Question ID : 8161617678  
Status : Answered  
Chosen Option : 2

एक वर्ग और एक आयत इस प्रकार निर्मित करता है, कि वृत्त की त्रिज्या वर्ग की भुजा के और आयत की लंबाई वृत्त की त्रिज्या की 40% है। मान लेते हैं कि आयत की चौड़ाई 20 m है। आयत का परिमाण कितना (m में) होगा?

0

0

Question ID : 8161617687  
Status : Answered  
Chosen Option : 1

एक ऐसी संख्या है जिसे 10, 12, 21, 35 और 40 से विभाजित करने पर समान शेषफल 3 का न्यूनतम मान क्या होगा?

3

3

3

3

Question ID : 8161617673  
Status : Answered  
Chosen Option : 2

एक व्यक्ति 7% के साधारण ब्याज पर 3 वर्षों के लिए ₹9,000 ऋण लेता है। इस धनराशि को वह ग्राहक को 5% के साधारण ब्याज पर समान अवधि के लिए उधार दे देता है। दुकानदार को हानि हुई?

50

00

00

40

Question ID : 8161617682  
Status : Answered  
Chosen Option : 4

Computer Proficiency

सही जगह पर निम्नलिखित में से क्या आमतौर पर एड्रेस फ़ील्ड से संबंधित नहीं होता है?

1

7 के निम्नलिखित में से किस फीचर का प्रयोग सेल्स की रेन्ज को तुरंत फॉर्मेट करने और इसे ल स्टाइल चुनकर टेबल में परिवर्तित करने के लिए किया जाता है?

एज़ टेबल (Format as table)

ड फिल्टर (Sort & Filter)

पेंटर (Format Painter)

नल फॉर्मेटिंग (Conditional formatting)

Question ID : 8161617689

Status : Answered

Chosen Option : 1

लिखित संचार सेवाओं में से कौन सी सेवा प्रयोगकर्ताओं को कॉल प्राप्त करने योग्य किसी भी ट के माध्यम से बात करने की सुविधा प्रदान करती है?

ट रिले चैट

प

ट टेलीफोनी

मैसेजिंग

Question ID : 8161617696

Status : Answered

Chosen Option : 3

17 में एक टेबल में अधिकतम कितने कॉलम इन्सर्ट किए जा सकते हैं?

17

Question ID : 8161617692

Status : Answered

Chosen Option : 3

शीट में पॉइंटर को किसी सेल में बाएं, दाएं, ऊपर या नीचे की ओर ले जाने के लिए निम्नलिखित का प्रयोग किया जाता है?

कुंजी (Alt Key)

Esc कुंजी (Esc Key)

अर्र कुंजी (Arrow Key)

शिफ्ट कुंजी (Shift Key)

Question ID : 8161617688

Status : Answered

Chosen Option : 3

16. निम्नलिखित में से IMPS का पूर्ण रूप क्या है?

- a. Immediate Payment Solution (इमिडिएट पेमेंट सॉल्यूशन)
- b. Immediate Paid Service (इमिडिएट पेड सर्विस)
- c. Instant Payment Service (इंस्टेंट पेमेंट सर्विस)
- d. Immediate Payment Service (इमिडिएट पेमेंट सर्विस)

Question ID : 8161617697  
Status : Answered  
Chosen Option : 3

17. निम्नलिखित फीचर्स में से कौन सा फीचर, सेलेक्ट किए गए शब्द के समान अर्थ वाले अन्य शब्द देता है?

- a. Synonym (सिनायम)
- b. Thesaurus (थेसॉरस)
- c. Spelling & Grammar (स्पेलिंग एंड ग्रामर)
- d. Translate (ट्रांसलेट)

Question ID : 8161617694  
Status : Answered  
Chosen Option : 2

18. निम्नलिखित में से किस काम के लिए शॉर्ट कट कुंजी 'Ctrl + V' का प्रयोग किया जाता है?

- a. बोर्ड पर सेलेक्ट किए गए टेक्स्ट को कॉपी करने के लिए
- b. बोर्ड पर सेलेक्ट किए गए टेक्स्ट को कट करने के लिए
- c. क्लिपबोर्ड से लिए गए टेक्स्ट को अन्य एप्लिकेशन में एक्सपोर्ट करने के लिए
- d. बोर्ड से टेक्स्ट या ऑब्जेक्ट को पेस्ट करने के लिए

Question ID : 8161617691  
Status : Answered  
Chosen Option : 4

19. निम्नलिखित में से कौन सा विकल्प किसी सेलेक्ट की गई सामग्री में सभी प्रकार की फॉर्मेटिंग हटाने के लिए प्रयोग किया जाता है, जिसके बाद केवल सामान्य टेक्स्ट शेष बचता है?

- a. Clear Formatting (क्लियर फॉर्मेटिंग)
- b. Bold (बोल्ड)
- c. All (इरेज़ ऑल)
- d. Text Painter (फॉर्मेट पेंटर)

Question ID : 8161617693  
Status : Answered  
Chosen Option : 3

7 में निम्नलिखित लॉजिकल फंक्शनों में से किसका प्रयोग यह जांचने के लिए किया जाता है कि या नहीं, और यदि सभी तर्क असत्य होते हैं तो यह परिणाम को FALSE के रूप में लौटाता है?

D

E

E

Question ID : 8161617690

Status : Answered

Chosen Option : 4

