

## Constable Executive Male and Female in Delhi Police Examination 2023

Roll Number	
Candidate Name	
Venue Name	
Exam Date	03/12/2023
Exam Time	12:00 PM - 1:30 PM
Subject	Constable Executive Male and Female in Delhi Police Examination 2023

Section : General Knowledge

**Q.1** The first National Games known as the Indian Olympic Games were hosted before independence in the year \_\_\_\_\_ .

Ans  1. 1924

2. 1926

3. 1930

4. 1928

Question ID : 264330132531

Option 1 ID : 264330519219

Option 2 ID : 264330519220

Option 3 ID : 264330519222

Option 4 ID : 264330519221

Status : Answered

Chosen Option : 4

**Q.2** Which method is also known as the 'Income Disposable Method'?

Ans  1. Product method

2. Divisible method

3. Income method

4. Expenditure method

Question ID : 264330116510

Option 1 ID : 264330458128

Option 2 ID : 264330458125

Option 3 ID : 264330458127

Option 4 ID : 264330458126

Status : Answered

Chosen Option : 4

**Q.3** Which of the following alternatives best describes the term 'phamsana' in context to temple architecture?

Ans  1. A structure of flat round slab at the top of the temple

2. Temple roofs that are composed of several slabs

3. The distance between the Garbhagriha and mandapa

4. The top of the temple where the dhwaja (flag) is situated

Question ID : 264330165330

Option 1 ID : 264330648402

Option 2 ID : 264330648401

Option 3 ID : 264330648400

Option 4 ID : 264330648399

Status : Answered

Chosen Option : 1

Q.4 Which of the following dance forms originated in Kuchelapuri or Kuchelapuram, in the 3rd century BC in South India?

- Ans  1. Odissi  
 2. Kuchipudi  
 3. Kathakali  
 4. Bharatnatyam

Question ID : 264330110400  
Option 1 ID : 264330433879  
Option 2 ID : 264330433878  
Option 3 ID : 264330433880  
Option 4 ID : 264330433877  
Status : Answered  
Chosen Option : 2

Q.5 वल्लभी के मैत्रक वंश के संस्थापक कौन थे?

- Ans  1. यशोधर्मन  
 2. इशान वर्मा  
 3. भटार्क  
 4. बालादित्य

Question ID : 264330119723  
Option 1 ID : 264330469167  
Option 2 ID : 264330469168  
Option 3 ID : 264330469169  
Option 4 ID : 264330469170  
Status : Answered  
Chosen Option : 1

Q.6 दरभंगा हवाई अड्डा भारत के किस राज्य में स्थित है?

- Ans  1. पश्चिम बंगाल  
 2. कर्नाटक  
 3. बिहार  
 4. उत्तर प्रदेश

Question ID : 264330183064  
Option 1 ID : 264330717989  
Option 2 ID : 264330717990  
Option 3 ID : 264330717988  
Option 4 ID : 264330717991  
Status : Answered  
Chosen Option : 3

Q.7 The LPG model of development was introduced in 1991 by the then Finance Minister

- Ans  1. P Chidambaram  
 2. PV Narasimha Rao  
 3. Pranab Mukherjee  
 4. Dr Manmohan Singh

Question ID : 264330110022  
Option 1 ID : 264330432368  
Option 2 ID : 264330432365  
Option 3 ID : 264330432366  
Option 4 ID : 264330432367  
Status : Answered  
Chosen Option : 4

Q.8 Which form of dance is Padma Subrahmanyam well known for?

Ans  1. Bharatnatyam

2. Kathakali

3. Kuchipudi

4. Mohiniyattam

Question ID : 26433086942

Option 1 ID : 264330341409

Option 2 ID : 264330341410

Option 3 ID : 264330341412

Option 4 ID : 264330341411

Status : Not Answered

Chosen Option : --

Q.9 A standing committee is a committee consisting of members of which of the following houses of Parliament?

1.Rajya Sabha

2.Lok Sabha

3.Vidhan Sabha

Ans  1. Both Rajya Sabha and Lok Sabha

2. Vidhan Sabha

3. Rajya Sabha

4. Lok Sabha

Question ID : 264330177757

Option 1 ID : 264330697138

Option 2 ID : 264330697137

Option 3 ID : 264330697135

Option 4 ID : 264330697136

Status : Answered

Chosen Option : 1

Q.10 Which of the following ministries was responsible for governing 'Indira Awaas Yojana'?

Ans  1. Ministry of Rural Development

2. Ministry of Human Resource Development

3. Ministry of Social Justice and Empowerment

4. Ministry of Labour and Employment

Question ID : 264330110186

Option 1 ID : 264330433023

Option 2 ID : 264330433022

Option 3 ID : 264330433024

Option 4 ID : 264330433021

Status : Answered

Chosen Option : 1

Q.11 सातवीं पंचवर्षीय योजना निम्नलिखित में से किस समय-अवधि के लिए थी?

- Ans  1. 1980-1985  
 2. 1992-1997  
 3. 1978-1983  
 4. 1985-1990

Question ID : 264330117739  
Option 1 ID : 264330462771  
Option 2 ID : 264330462774  
Option 3 ID : 264330462772  
Option 4 ID : 264330462773  
Status : Answered  
Chosen Option : 4

Q.12 निम्नलिखित में से कौन-सा मुख्य रूप से सिख त्योहार नहीं है?

- Ans  1. होला मोहल्ला  
 2. ज्ञान पंचमी  
 3. बैशाखी  
 4. लोहड़ी

Question ID : 264330132410  
Option 1 ID : 264330518735  
Option 2 ID : 264330518738  
Option 3 ID : 264330518737  
Option 4 ID : 264330518736  
Status : Answered  
Chosen Option : 1

Q.13 The proclamation of Constitutional Emergency must be approved by both the houses of parliament within \_\_\_\_\_ from the date of its issue.

- Ans  1. 2 months  
 2. 3 months  
 3. 6 months  
 4. 12 months

Question ID : 264330120201  
Option 1 ID : 264330471059  
Option 2 ID : 264330471060  
Option 3 ID : 264330471061  
Option 4 ID : 264330471062  
Status : Answered  
Chosen Option : 3

Q.14 'What Happened to Netaji' was written by whom among the following?

- Ans  1. Arvind Adiga  
 2. Vikram Seth  
 3. Kiran Desai  
 4. Anuj Dhar

Question ID : 26433064229  
Option 1 ID : 264330251511  
Option 2 ID : 264330251509  
Option 3 ID : 264330251510  
Option 4 ID : 264330251508  
Status : Answered  
Chosen Option : 2

Q.15 The Ryotwari (Peasant) System of 1820 was implemented in which of the following regions?

- Ans
- 1. Madras and Punjab
  - 2. Rajasthan and Delhi
  - 3. Madras and Bombay
  - 4. Bengal and Bombay

Question ID : 264330183249  
Option 1 ID : 264330718729  
Option 2 ID : 264330718730  
Option 3 ID : 264330718731  
Option 4 ID : 264330718728  
Status : Answered  
Chosen Option : 1

Q.16 According to the census of India 2011, the lowest female literacy rate was recorded in the state of \_\_\_\_\_.

- Ans
- 1. Maharashtra
  - 2. Chhattisgarh
  - 3. Bihar
  - 4. West Bengal

Question ID : 264330120333  
Option 1 ID : 264330471583  
Option 2 ID : 264330471584  
Option 3 ID : 264330471586  
Option 4 ID : 264330471585  
Status : Answered  
Chosen Option : 3

Q.17 For how many vaccine-preventable diseases are immunizations provided under the Universal Immunization Programme?

- Ans
- 1. 15
  - 2. 12
  - 3. 9
  - 4. 11

Question ID : 264330109415  
Option 1 ID : 264330429940  
Option 2 ID : 264330429939  
Option 3 ID : 264330429937  
Option 4 ID : 264330429938  
Status : Not Answered  
Chosen Option : --

Q.18 Who among the following Bollywood singers received the Padma Shri in 2022?

- Ans
- 1. Arijit Singh
  - 2. Sonu Nigam
  - 3. Shankar Mahadevan
  - 4. AR Rahman

Question ID : 264330111963  
Option 1 ID : 264330439937  
Option 2 ID : 264330439940  
Option 3 ID : 264330439938  
Option 4 ID : 264330439939  
Status : Answered  
Chosen Option : 1

Q.19 In which of the following states is the 'Jhora' dance performed as a springtime celebration?

- Ans
- 1. Maharashtra
  - 2. Tripura
  - 3. Karnataka
  - 4. Uttarakhand

Question ID : 264330106191  
Option 1 ID : 264330417068  
Option 2 ID : 264330417067  
Option 3 ID : 264330417066  
Option 4 ID : 264330417065  
Status : Answered  
Chosen Option : 1

Q.20 From their mother's side, Mughal rulers were the descendants of \_\_\_\_\_.

- Ans
- 1. Mahmud Ghazni
  - 2. Iltutmish
  - 3. Genghis Khan
  - 4. Timur

Question ID : 264330111387  
Option 1 ID : 264330437636  
Option 2 ID : 264330437635  
Option 3 ID : 264330437633  
Option 4 ID : 264330437634  
Status : Answered  
Chosen Option : 3

Q.21 आर्य समाज की स्थापना कब की गई?

- Ans
- 1. 1893 में
  - 2. 1875 में
  - 3. 1828 में
  - 4. 1867 में

Question ID : 264330120306  
Option 1 ID : 264330471478  
Option 2 ID : 264330471477  
Option 3 ID : 264330471475  
Option 4 ID : 264330471476  
Status : Answered  
Chosen Option : 2

Q.22 The famous 'Sriharikota' island of India is well known as \_\_\_\_\_.

- Ans
- 1. the largest island in India
  - 2. a famous hill station
  - 3. a Space centre
  - 4. an IIM center

Question ID : 264330180578  
Option 1 ID : 264330708280  
Option 2 ID : 264330708281  
Option 3 ID : 264330708279  
Option 4 ID : 264330708282  
Status : Answered  
Chosen Option : 3

Q.23 What is the trend of the biological wealth of our planet?

- Ans
- 1. Increasing
  - 2. Cyclical
  - 3. Constant
  - 4. Decreasing

Question ID : 264330113338  
Option 1 ID : 264330445437  
Option 2 ID : 264330445440  
Option 3 ID : 264330445439  
Option 4 ID : 264330445438  
Status : Answered  
Chosen Option : 4

Q.24 मौलिक कर्तव्यों के संबंध में निम्नलिखित में से कौन-सा/से कथन सत्य है/हैं?

- A. वे राष्ट्र-विरोधी तत्त्वों और असामाजिक गतिविधियों के खिलाफ चेतावनी के रूप में कार्य करते हैं।  
B. वे नागरिकों के लिए प्रेरणा के स्रोत के रूप में कार्य करते हैं और उनमें अनुशासन और प्रतिबद्धता की भावना को बढ़ावा देते हैं।  
C. मौलिक कर्तव्यों के उल्लंघन के खिलाफ कोई कानूनी प्रतिबंध नहीं है।

- Ans
- 1. केवल B और C
  - 2. केवल A और C
  - 3. केवल A और B
  - 4. A, B और C

Question ID : 264330114754  
Option 1 ID : 264330451102  
Option 2 ID : 264330451103  
Option 3 ID : 264330451104  
Option 4 ID : 264330451101  
Status : Answered  
Chosen Option : 1

Q.25 Which economic systems generally give preference to planning to make economic policies?

- Ans
- 1. Both socialist and mixed economies
  - 2. Mixed and capitalist economies
  - 3. Capitalist economies only
  - 4. Both capitalist and socialist economies

Question ID : 264330111738  
Option 1 ID : 264330439039  
Option 2 ID : 264330439037  
Option 3 ID : 264330439038  
Option 4 ID : 264330439040  
Status : Answered  
Chosen Option : 4

Q.26 What is the average sea level pressure, according to meteorologists?

- Ans  1. 1013 mb  
 2. 1000 mb  
 3. 1030 mb  
 4. 870 mb

Question ID : 264330141729  
Option 1 ID : 264330555236  
Option 2 ID : 264330555237  
Option 3 ID : 264330555238  
Option 4 ID : 264330555235  
Status : Answered  
Chosen Option : 3

Q.27 For the year 2011-12, the poverty line for a person was fixed at \_\_\_\_\_ per month for the rural areas.

- Ans  1. ₹915  
 2. ₹850  
 3. ₹970  
 4. ₹816

Question ID : 264330183046  
Option 1 ID : 264330717918  
Option 2 ID : 264330717917  
Option 3 ID : 264330717919  
Option 4 ID : 264330717916  
Status : Answered  
Chosen Option : 1

Q.28 Which of the following countries was the host of the first Asian games in 1951?

- Ans  1. China  
 2. Saudi Arabia  
 3. Japan  
 4. India

Question ID : 264330144211  
Option 1 ID : 264330565105  
Option 2 ID : 264330565106  
Option 3 ID : 264330565104  
Option 4 ID : 264330565103  
Status : Answered  
Chosen Option : 1

Q.29 In which of the following years did the Swadeshi movement take place to oppose the partition of Bengal?

- Ans  1. 1905  
 2. 1910  
 3. 1907  
 4. 1909

Question ID : 264330118604  
Option 1 ID : 264330465669  
Option 2 ID : 264330465667  
Option 3 ID : 264330465668  
Option 4 ID : 264330465670  
Status : Answered  
Chosen Option : 1

Q.30 Kirti Kisan Party (KKP) was established on \_\_\_\_\_ at Amritsar.

- Ans
- 1. 7<sup>th</sup> February 1927
  - 2. 13<sup>th</sup> March 1927
  - 3. 12<sup>th</sup> April 1927
  - 4. 10<sup>th</sup> May 1927

Question ID : 264330166874  
Option 1 ID : 264330654531  
Option 2 ID : 264330654532  
Option 3 ID : 264330654533  
Option 4 ID : 264330654534  
Status : Answered  
Chosen Option : 2

Q.31 Match list I to list II.

List I	List II
a) Nationalisation of 14 banks	i) 1982
b) Dr Manmohan Singh appointed the governor of RBI	ii) 1978
c) Demonetisation of ₹10,000 bank notes	iii) 1969

- Ans
- 1. a-i, b-iii, c-ii
  - 2. a-ii, b-i, c-iii
  - 3. a-iii, b-i, c-ii
  - 4. a-i, b-ii, c-iii

Question ID : 264330141476  
Option 1 ID : 264330554240  
Option 2 ID : 264330554242  
Option 3 ID : 264330554239  
Option 4 ID : 264330554241  
Status : Answered  
Chosen Option : 3

Q.32 What is the slogan or tagline of the 'Swachh Bharat Mission' celebrated every year on 2 October?

- Ans
- 1. Ek Kadam Swachhata Ki Ore
  - 2. Ek Kadam Safai Ki Ore
  - 3. Ek Kadam Paryavaran Ki Ore
  - 4. Ek Kadam Sundarta Ki Ore

Question ID : 264330111148  
Option 1 ID : 264330436677  
Option 2 ID : 264330436678  
Option 3 ID : 264330436680  
Option 4 ID : 264330436679  
Status : Answered  
Chosen Option : 1

Q.33 Vikram Era starts from which of the following years?

- Ans  1. 68 BC  
 2. 78 BC  
 3. 57 BC  
 4. 78 AD

Question ID : 264330134585  
Option 1 ID : 264330527298  
Option 2 ID : 264330527295  
Option 3 ID : 264330527297  
Option 4 ID : 264330527296  
Status : Answered  
Chosen Option : 4

Q.34 Jhijhiya, a famous folk dance performed by women during Navratri, is a popular festival in which of the following states?

- Ans  1. Gujarat  
 2. Bihar  
 3. Uttar Pradesh  
 4. Rajasthan

Question ID : 264330110426  
Option 1 ID : 264330433981  
Option 2 ID : 264330433984  
Option 3 ID : 264330433983  
Option 4 ID : 264330433982  
Status : Answered  
Chosen Option : 1

Q.35 According to the Census of India 2011, which Union Territory of India recorded the lowest population?

- Ans  1. Lakshadweep  
 2. Puducherry  
 3. Dadra and Nagar Haveli  
 4. Daman and Diu

Question ID : 264330120477  
Option 1 ID : 264330472161  
Option 2 ID : 264330472162  
Option 3 ID : 264330472159  
Option 4 ID : 264330472160  
Status : Answered  
Chosen Option : 1

Q.36 Which river is bounded by Tungabhadra sub-basin of Krishna basin in the northern side and Palar sub-basin in the southern side?

- Ans  1. Mahanadi Basin  
 2. Brahmani Basin  
 3. Cauvery Basin  
 4. Tapi Basin

Question ID : 264330131024  
Option 1 ID : 264330513210  
Option 2 ID : 264330513208  
Option 3 ID : 264330513209  
Option 4 ID : 264330513207  
Status : Answered  
Chosen Option : 3

**Q.37** Which of the following Articles of the Indian Constitution is related with providing a living wage, conditions of work ensuring a decent standard of life and full enjoyment of leisure and social and cultural opportunities by the state?

- Ans**
- 1. Article 43
  - 2. Article 44
  - 3. Article 42
  - 4. Article 45

Question ID : 264330180059  
Option 1 ID : 264330706220  
Option 2 ID : 264330706221  
Option 3 ID : 264330706219  
Option 4 ID : 264330706222  
Status : Answered  
Chosen Option : 1

**Q.38** In the Indian Constitution, the Concept of Concurrent list was borrowed from the Constitution of \_\_\_\_\_.

- Ans**
- 1. Japan
  - 2. Australia
  - 3. Spain
  - 4. Portugal

Question ID : 264330134564  
Option 1 ID : 264330527214  
Option 2 ID : 264330527211  
Option 3 ID : 264330527213  
Option 4 ID : 264330527212  
Status : Answered  
Chosen Option : 2

**Q.39** Identify the word that means the minimum distance at which objects can be seen most distinctly without strain.

- Ans**
- 1. Least distant of distance vision
  - 2. Most distance of distant vision
  - 3. Focal length
  - 4. Least distance of distinct vision

Question ID : 264330137300  
Option 1 ID : 264330537830  
Option 2 ID : 264330537829  
Option 3 ID : 264330537827  
Option 4 ID : 264330537828  
Status : Answered  
Chosen Option : 4

Q.40 A football match cannot be started if either team consists of fewer than \_\_\_\_\_ players.

- Ans
- 1. 10
  - 2. 6
  - 3. 9
  - 4. 7

Question ID : 264330118908  
Option 1 ID : 264330466289  
Option 2 ID : 264330466287  
Option 3 ID : 264330466290  
Option 4 ID : 264330466288  
Status : Answered  
Chosen Option : 1

Q.41 प्राचीन और मध्यकालीन भारत में अक्सर देवी से संबंधित पूजा का एक रूप, जिसमें अभ्यासी अक्सर कर्मकांड के संदर्भ में जाति और वर्ग के अंतर को नजरअंदाज कर देते थे, \_\_\_\_\_ के रूप में जाना जाता था।

- Ans
- 1. शैव
  - 2. पौराणिक
  - 3. मंत्रिक
  - 4. तांत्रिक

Question ID : 264330118968  
Option 1 ID : 264330466527  
Option 2 ID : 264330466529  
Option 3 ID : 264330466528  
Option 4 ID : 264330466530  
Status : Answered  
Chosen Option : 4

Q.42 As per the Regulating Act of 1773, where was the first Supreme Court as a Court of Record established in India?

- Ans
- 1. Bombay
  - 2. Calcutta
  - 3. Delhi
  - 4. Madras

Question ID : 26433069885  
Option 1 ID : 264330274045  
Option 2 ID : 264330274046  
Option 3 ID : 264330274044  
Option 4 ID : 264330274047  
Status : Answered  
Chosen Option : 2

Q.43 जल जलाशय, बांध और तटबंध किस हड़प्पा स्थल पर पाए गए थे?

- Ans
- 1. सुरकोटडा
  - 2. मेहरगढ़
  - 3. धोलावीरा
  - 4. रोपड़

Question ID : 26433086594  
Option 1 ID : 264330340019  
Option 2 ID : 264330340020  
Option 3 ID : 264330340017  
Option 4 ID : 264330340018  
Status : Answered  
Chosen Option : 3

Q.44 Article 50 of the Constitution of India mentions about \_\_\_\_\_.

- Ans
- 1. promotion of international peace and security
  - 2. securing the right to adequate means of livelihood
  - 3. promoting equal justice and providing free legal aid
  - 4. separation of Judiciary from Executive in public services

Question ID : 264330130453  
Option 1 ID : 264330510924  
Option 2 ID : 264330510925  
Option 3 ID : 264330510926  
Option 4 ID : 264330510923  
Status : Answered  
Chosen Option : 4

Q.45 Which of the following novels of Shashi Tharoor is a satirical verse on the epic Mahabharata?

- Ans
- 1. Why I Am A Hindu
  - 2. The Hindu Way: An Introduction to Hinduism
  - 3. The Great Indian Novel
  - 4. Tharoorosaurus

Question ID : 264330112868  
Option 1 ID : 264330443557  
Option 2 ID : 264330443560  
Option 3 ID : 264330443559  
Option 4 ID : 264330443558  
Status : Answered  
Chosen Option : 3

Q.46 Which of the following groups contains only abiotic elements of an ecosystem?

- Ans
- 1. Rainfall, grass, insects, and frogs
  - 2. Soil, grasses, flowers, and honeybees
  - 3. Soil, minerals, grass, and flowers
  - 4. Soil, minerals, wind, and rainfall

Question ID : 264330177332  
Option 1 ID : 264330695519  
Option 2 ID : 264330695521  
Option 3 ID : 264330695520  
Option 4 ID : 264330695522  
Status : Answered  
Chosen Option : 3

Q.47 The climate of India is referred to as:

- Ans
- 1. Alpine Climate
  - 2. Arctic Climate
  - 3. Tundra Climate
  - 4. Monsoon

Question ID : 264330174345  
Option 1 ID : 264330683801  
Option 2 ID : 264330683800  
Option 3 ID : 264330683799  
Option 4 ID : 264330683802  
Status : Answered  
Chosen Option : 1

Q.48 Who among the following is a famous veena player?

- Ans
- 1. Gopal Das
  - 2. N. Rajam
  - 3. Sultan Khan
  - 4. V. Dhannamal

Question ID : 264330112687  
Option 1 ID : 264330442835  
Option 2 ID : 264330442834  
Option 3 ID : 264330442833  
Option 4 ID : 264330442836  
Status : Answered  
Chosen Option : 4

Q.49 Which of the following can be used as a source of energy, when glucose is NOT available in the body?

- Ans
- 1. Carbonic acids
  - 2. Fatty acid
  - 3. Amino acids
  - 4. Lactic acid

Question ID : 264330120971  
Option 1 ID : 264330474099  
Option 2 ID : 264330474102  
Option 3 ID : 264330474100  
Option 4 ID : 264330474101  
Status : Answered  
Chosen Option : 3

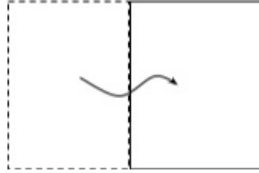
Q.50 In the year 2022, a kho-kho league was started with the name:

- Ans
- 1. Reliance Kho-Kho League
  - 2. Diamond Kho-Kho League
  - 3. Ultimate Kho-Kho League
  - 4. Pro Kho-Kho League

Question ID : 264330118466  
Option 1 ID : 264330465267  
Option 2 ID : 264330465266  
Option 3 ID : 264330465268  
Option 4 ID : 264330465265  
Status : Answered  
Chosen Option : 1

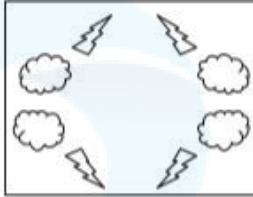
Section : Reasoning

Q.1 एक कागज को नीचे दिखाए अनुसार मोड़ा और काटा गया है। कागज को खोलने पर यह कैसा दिखाई देगा?




Ans

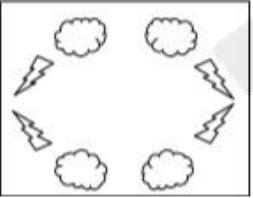
✓ 1.



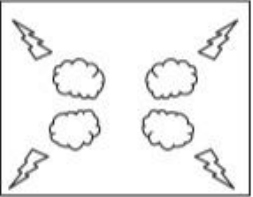
✗ 2.



✗ 3.



✗ 4.



Question ID : 264330118713

Option 1 ID : 264330466105

Option 2 ID : 264330466104

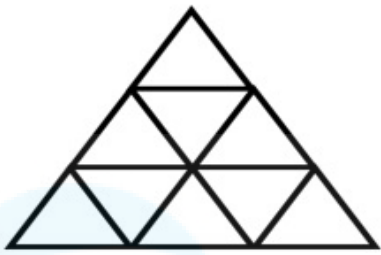
Option 3 ID : 264330466106

Option 4 ID : 264330466103

Status : Answered

Chosen Option : 1

Q.2 दी गई आकृति में कितने त्रिभुज हैं?



- Ans
- 1. 11
  - 2. 10
  - 3. 13
  - 4. 12

Question ID : 26433080665

Option 1 ID : 264330316594

Option 2 ID : 264330316595

Option 3 ID : 264330316596

Option 4 ID : 264330316593

Status : Answered

Chosen Option : 3

Q.3 एक निश्चित कूट भाषा में, 'north by west' को 'times are hard' के रूप में कूटबद्ध किया जाता है, 'east by south' को 'had good times' के रूप में कूटबद्ध किया जाता है, 'east west axis' को 'had hard try' के रूप में कूटबद्ध किया जाता है और 'north axis' को 'try are' के रूप में कूटबद्ध किया जाता है। शब्द 'north' के लिए कूट क्या होगा?

- Ans
- 1. are
  - 2. try
  - 3. south
  - 4. east

Question ID : 26433082866

Option 1 ID : 264330325300

Option 2 ID : 264330325299

Option 3 ID : 264330325297

Option 4 ID : 264330325298

Status : Answered

Chosen Option : 1

Q.4 उस आकृति का चयन कीजिए जो निम्नलिखित आकृति श्रृंखला में आगे आएगी।

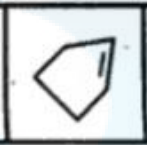


Ans

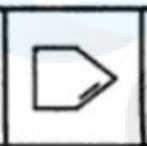
✗ 1.



✓ 2.



✗ 3.



✗ 4.



Question ID : 264330103784

Option 1 ID : 264330407441

Option 2 ID : 264330407444

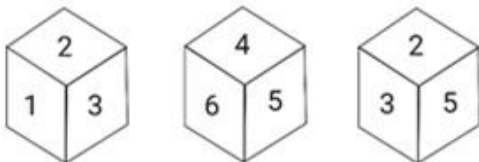
Option 3 ID : 264330407443

Option 4 ID : 264330407442

Status : Answered

Chosen Option : 2

Q.5 एक ही पासे की तीन भिन्न स्थितियों को दर्शाया गया है। संख्या '6' को दर्शाने वाले फलक के विपरीत फलक की संख्या ज्ञात कीजिए।



Ans ✗ 1. 1

✗ 2. 5

✗ 3. 4

✓ 4. 3

Question ID : 264330116956

Option 1 ID : 264330459905

Option 2 ID : 264330459908

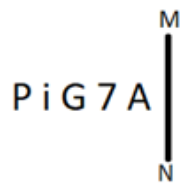
Option 3 ID : 264330459907

Option 4 ID : 264330459906

Status : Answered

Chosen Option : 4

Q.6 यदि दर्पण को नीचे दिखाए गए अनुसार MN पर रखा जाए, तो दी गई आकृति के सही दर्पण प्रतिबिंब का चयन कीजिए।



Ans

- 1. A7G!P
- 2. PiG7A
- 3. A7G!P
- 4. A7G!P

Question ID : 264330166663

Option 1 ID : 264330653694

Option 2 ID : 264330653692

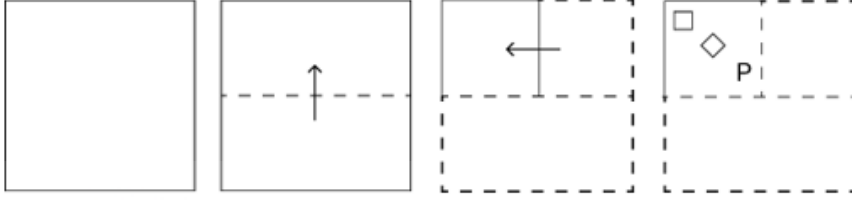
Option 3 ID : 264330653691

Option 4 ID : 264330653693

Status : Answered

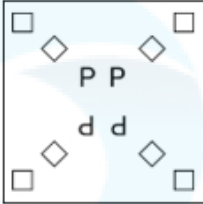
Chosen Option : 3

Q.7 कागज की एक वर्गाकार शीट को बिंदीदार रेखा के अनुदिश दिखाए गए निर्देशों के अनुसार क्रमिक रूप से मोड़ा जाता है और फिर अंत में इसे छिद्रित किया जाता है। कागज को खोलने पर यह कैसा दिखेगा?

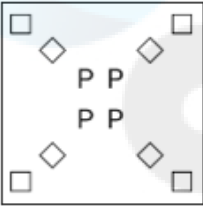


Ans

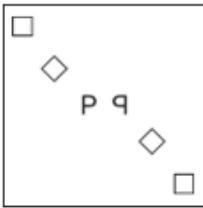
✗ 1.



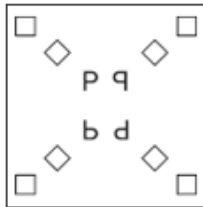
✗ 2.



✗ 3.



✓ 4.



Question ID : 264330172428

Option 1 ID : 264330676263

Option 2 ID : 264330676266

Option 3 ID : 264330676264

Option 4 ID : 264330676265

Status : Answered

Chosen Option : 4

Q.8 दिए गए कथनों और निष्कर्षों को ध्यानपूर्वक पढ़ें। यह मानते हुए कि कथनों में दी गई जानकारी सत्य है, भले ही वह सामान्य रूप से ज्ञात तथ्यों से भिन्न प्रतीत होती हो, तय करें कि दिए गए निष्कर्षों में से कौन-सा/से निष्कर्ष कथनों का तार्किक रूप से अनुसरण करता है / करते हैं।

कथन:

कुछ चूहे, चमगादड़ हैं।

कुछ चमगादड़, बिल्लियाँ हैं।

निष्कर्ष:

I. सभी बिल्लियाँ, चूहे हैं।

II. कुछ चमगादड़, चूहे हैं।

Ans  1. केवल निष्कर्ष II अनुसरण करता है

2. न तो निष्कर्ष I अनुसरण करता है और न ही II अनुसरण करता है

3. निष्कर्ष I और II दोनों अनुसरण करते हैं

4. केवल निष्कर्ष I अनुसरण करता है

Question ID : 26433068289

Option 1 ID : 264330267669

Option 2 ID : 264330267671

Option 3 ID : 264330267670

Option 4 ID : 264330267668

Status : Answered

Chosen Option : 1

Q.9 उस विकल्प का चयन करें जो तीसरे शब्द से उसी प्रकार संबंधित है, जिस प्रकार दूसरा शब्द पहले शब्द से संबंधित है।

(शब्दों को अर्थपूर्ण हिंदी शब्दों के रूप में माना जाना चाहिए और शब्द में अक्षरों की संख्या/व्यंजनों की संख्या/स्वरों की संख्या के आधार पर उन्हें एक-दूसरे से संबंधित नहीं किया जाना चाहिए)

खिलाड़ी : टीम :: कलाकार : ?

Ans  1. भीड़

2. झुंड

3. मंडली/ दल

4. गिरोह

Question ID : 26433082579

Option 1 ID : 264330324149

Option 2 ID : 264330324151

Option 3 ID : 264330324152

Option 4 ID : 264330324150

Status : Answered

Chosen Option : 3

Q.10 यदि श्रृंखला को जारी रखना हो, तो प्रश्न चिह्न (?) के स्थान पर कौन-सी आकृति आनी चाहिए?

P	L	Z	P	P	Z	3	P	
	3		L		Y		Z	?
↑	Z	3	↑	↑	3	Y	↑	

Ans

✗ 1.

↑	Y
	3
	P Z

✗ 2.

P	Y
	3
↑	Z

✓ 3.

P	3
	8
↑	Y

✗ 4.

↑	Y
	8
	P 3

Question ID : 264330130818

Option 1 ID : 264330512386

Option 2 ID : 264330512385

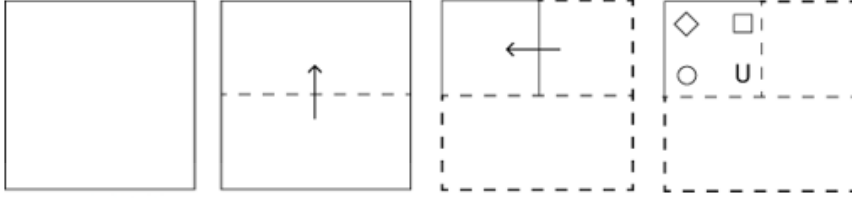
Option 3 ID : 264330512383

Option 4 ID : 264330512384

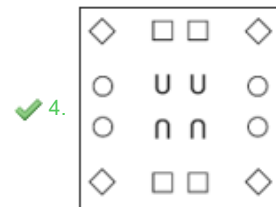
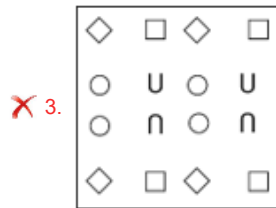
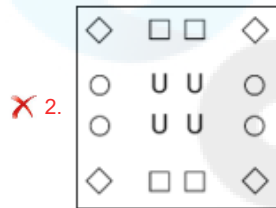
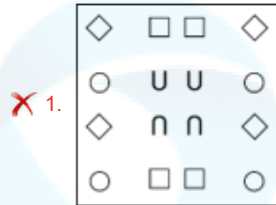
Status : Answered

Chosen Option : 2

Q.11 कागज की एक वर्गाकार शीट को बिंदीदार रेखा के अनुदिश दिखाए गए निर्देशों के अनुसार क्रमिक रूप से मोड़ा जाता है और फिर अंत में इसे छिद्रित किया जाता है। कागज को खोलने पर यह कैसा दिखेगा?



Ans



Question ID : 264330172424

Option 1 ID : 264330676248

Option 2 ID : 264330676249

Option 3 ID : 264330676250

Option 4 ID : 264330676247

Status : Answered

Chosen Option : 4

Q.12 यदि श्रृंखला को जारी रखना हो, तो प्रश्न चिह्न (?) के स्थान पर कौन-सी आकृति आनी चाहिए?

S I C K K B I S	T K B I I C K T	?
B 3 3 C C 3 3 B		

Ans

✓ 1. 9 I C K  
B 3

✗ 2. T I C K  
B 3

✗ 3. C K T 9  
B 3

✗ 4. 3 K C I  
B T

Question ID : 264330130803

Option 1 ID : 264330512326

Option 2 ID : 264330512323

Option 3 ID : 264330512325

Option 4 ID : 264330512324

Status : Answered

Chosen Option : 2

Q.13 Which two signs should be interchanged to make the following equation correct?

$$16 \div 2 + 54 - 3 \times 2 = 50$$

Ans ✗ 1. + and ×

✗ 2. - and +

✗ 3. - and ×

✓ 4. ÷ and -

Question ID : 264330101075

Option 1 ID : 264330396848

Option 2 ID : 264330396846


Option 3 ID : 264330396847

Option 4 ID : 264330396845

Status : Answered

Chosen Option : 4

Q.14 जब दर्पण को रेखा PQ पर रखा जाता है, तो दी गई आकृति का सही दर्पण प्रतिबिम्ब ज्ञात कीजिए।

$\$ \# 3 2 8 9 \% \# ! @ \#$  

Ans

1.  $\# @ ! \# \% ^\circ e 8 \zeta \varepsilon \# \&$
2.  $\# @ ! \% \# e 8 \zeta \varepsilon \# \&$
3.  $\# @ ! \# \% ^\circ 8 e \zeta \varepsilon \# \&$
4.  $\# @ ! \# \% ^\circ e 8 \zeta \varepsilon \# \&$

Question ID : 26433082026  
Option 1 ID : 264330321937  
Option 2 ID : 264330321940  
Option 3 ID : 264330321939  
Option 4 ID : 264330321938

Status : Answered

Chosen Option : 4

Q.15 Rupin, Sunny, Guddu, Shradha, Naveen and Rahul are sitting around a circular table facing each other and sitting opposite to each other. Rupin is between Naveen and Rahul. Naveen is opposite Shradha. Guddu is not the immediate neighbour of Naveen. Who is opposite to Sunny?

Ans

1. Rahul
2. Shradha
3. Rupin
4. Guddu

Question ID : 26433086247  
Option 1 ID : 264330338684  
Option 2 ID : 264330338683  
Option 3 ID : 264330338681  
Option 4 ID : 264330338682

Status : Answered

Chosen Option : 1

Q.16 उस विकल्प का चयन करें जो तीसरे पद से उसी प्रकार संबंधित है जिस प्रकार दूसरा पद पहले पद से संबंधित है और छठा पद पांचवें पद से संबंधित है।  
54 : 162 :: 26 : ? :: 88 : 264

Ans  1. 78

2. 74

3. 72

4. 76

Question ID : 264330102262

Option 1 ID : 264330401516

Option 2 ID : 264330401514

Option 3 ID : 264330401513

Option 4 ID : 264330401515

Status : Answered

Chosen Option : 1

Q.17 यदि 'A' का अर्थ '+' है, 'B' का अर्थ 'x' है, 'C' का अर्थ '-' है और 'D' का अर्थ '÷' है, तो निम्नलिखित समीकरण में '?' के स्थान पर क्या आएगा?  
55 C 5 A 40 B 2 A 320 D 4 = ?

Ans  1. 50

2. 210

3. 100

4. 20

Question ID : 26433082477

Option 1 ID : 264330323741

Option 2 ID : 264330323743

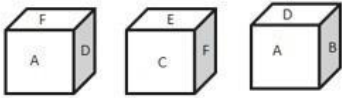
Option 3 ID : 264330323744

Option 4 ID : 264330323742

Status : Answered

Chosen Option : 2

Q.18 छह फलकों वाले एक पासे पर 6 वर्णाक्षर क्रमशः A, B, C, D, E और F अंकित हैं। पासे को 3 बार फेंका जाता है और जिन स्थितियों में यह नीचे गिरता है उसे दी गई आकृतियों में दिखाया गया है। वर्णाक्षर B के विपरीत फलक पर अंकित वर्णाक्षर बताएं।



Ans  1. E

2. F

3. D

4. C

Question ID : 264330110544

Option 1 ID : 264330434455

Option 2 ID : 264330434456

Option 3 ID : 264330434454

Option 4 ID : 264330434453

Status : Answered

Chosen Option : 2

Q.19 दिए गए विकल्पों में से उस संख्या का चयन कीजिए जो निम्नलिखित श्रृंखला में प्रश्न चिह्न (?) के स्थान पर आ सकती है।

3, 4, 6, 10, 18, ?

Ans  1. 34

2. 53

3. 21

4. 56

Question ID : 264330109761

Option 1 ID : 264330431323

Option 2 ID : 264330431324

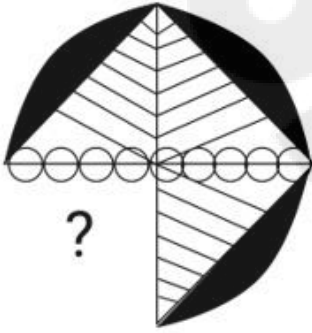
Option 3 ID : 264330431321

Option 4 ID : 264330431322

Status : Answered

Chosen Option : 1

Q.20 दिए गए विकल्पों में से उस आकृति का चयन करें जो पैटर्न पूरा करने के लिए नीचे दी गई आकृति में प्रश्न चिह्न (?) के स्थान पर आएगी।

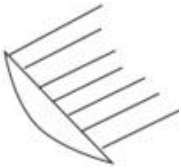


Ans

1.



2.



3.



4.



Question ID : 264330116614

Option 1 ID : 264330458541

Option 2 ID : 264330458542

Option 3 ID : 264330458544

Option 4 ID : 264330458543

Status : Answered

Chosen Option : 3

Q.21 उस समुच्चय का चयन कीजिए जिसमें संख्याएँ उसी प्रकार संबंधित हैं जिस प्रकार निम्नलिखित समुच्चयों की संख्याएँ एक-दूसरे से संबंधित हैं।  
(नोट: संख्याओं को उसके घटक अंकों में विभाजित किए बिना, पूर्ण संख्याओं पर संक्रिया की जानी चाहिए। उदाहरण के लिए 13 - संक्रिया जैसे कि जोड़ना/घटाना/गुणा करना आदि को 13 पर किया जा सकता है। 13 को 1 और 3 में तोड़कर और फिर 1 और 3 पर गणितीय संक्रियाएँ करने की अनुमति नहीं है।)

(5, 7, 17)  
(7, 13, 29)

- Ans  1. (4, 11, 19)  
 2. (15, 27, 51)  
 3. (11, 25, 53)  
 4. (9, 15, 33)

Question ID : 26433052096

Option 1 ID : 264330203686

Option 2 ID : 264330203687

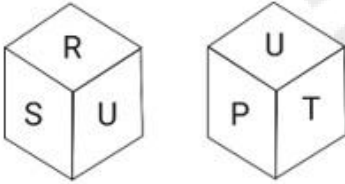
Option 3 ID : 264330203689

Option 4 ID : 264330203688

Status : Not Attempted and  
Marked For Review

Chosen Option : --

Q.22 एक पासे के अलग - अलग फलकों पर छह अक्षर P, Q, R, S, T और U लिखे गए हैं। इस पासे की दो स्थितियाँ दी गई आकृति में दिखाई गई हैं। P अक्षर वाले फलक के विपरीत फलक पर अक्षर ज्ञात कीजिए।



- Ans  1. T  
 2. Q  
 3. S  
 4. R

Question ID : 264330106169

Option 1 ID : 264330416978

Option 2 ID : 264330416979

Option 3 ID : 264330416977

Option 4 ID : 264330416980

Status : Answered

Chosen Option : 2

Q.23 निम्नलिखित में से कौन-सा अक्षर समूह दी गई श्रृंखला में प्रश्न चिह्न (?) के स्थान पर आएगा और श्रृंखला को तार्किक रूप से पूर्ण करेगा?  
NOM, KMP, HKS, EIV, ?

- Ans  1. CGX  
 2. BHY  
 3. BGY  
 4. BGX

Question ID : 264330102229

Option 1 ID : 264330401384

Option 2 ID : 264330401381

Option 3 ID : 264330401383

Option 4 ID : 264330401382

Status : Answered

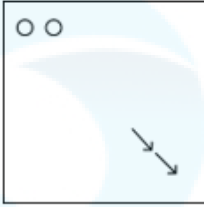
Chosen Option : 3

Q.24 कागज की एक वर्गाकार शीट को बिंदीदार रेखा के अनुदिश दिखाए गए निर्देशों के अनुसार क्रमिक रूप से मोड़ा जाता है और फिर अंत में इसे छिद्रित किया जाता है। कागज को खोलने पर यह कैसा दिखेगा?

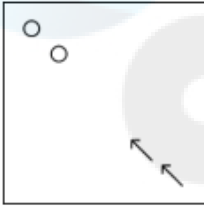


Ans

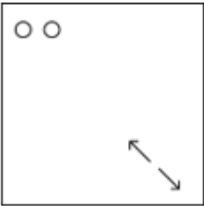
✗ 1.



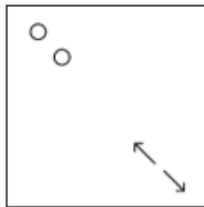
✗ 2.



✗ 3.



✓ 4.



Question ID : 264330172438

Option 1 ID : 264330676306

Option 2 ID : 264330676303

Option 3 ID : 264330676305

Option 4 ID : 264330676304

Status : Answered

Chosen Option : 4

Q.25 निम्नलिखित में से कौन-सी विकल्प आकृति नीचे दी गई आकृति के स्वरूप (पैटर्न) को पूरा करेगी?




Ans

✗ 1.



✗ 2.



✓ 3.



✗ 4.



Question ID : 26433080628

Option 1 ID : 264330316447

Option 2 ID : 264330316445

Option 3 ID : 264330316446

Option 4 ID : 264330316448

Status : Answered

Chosen Option : 3

Section : Numerical Ability

Q.1 Find the total surface area of a solid right circular cylinder whose radius and height are 7 cm and 12 cm, respectively. (Use  $\pi = \frac{22}{7}$ )

Ans ✗ 1. 782 cm<sup>2</sup>

✓ 2. 836 cm<sup>2</sup>

✗ 3. 720 cm<sup>2</sup>

✗ 4. 814 cm<sup>2</sup>

Question ID : 264330111498

Option 1 ID : 264330438078

Option 2 ID : 264330438080

Option 3 ID : 264330438077

Option 4 ID : 264330438079

Status : Not Answered

Chosen Option : --

Q.2 What is the compound interest on ₹3,90,625 in 2 years at 8% per annum compounded half-yearly?

- Ans
- 1. ₹66,351
  - 2. ₹66,348
  - 3. ₹66,345
  - 4. ₹66,350

Question ID : 264330106008  
Option 1 ID : 264330416333  
Option 2 ID : 264330416335  
Option 3 ID : 264330416336  
Option 4 ID : 264330416334  
Status : Answered  
Chosen Option : 3

Q.3 What percentage decrease in salaries would exactly cancel out a 30% increase?

- Ans
- 1.  $22\frac{2}{13}\%$
  - 2.  $23\frac{1}{13}\%$
  - 3.  $21\frac{2}{13}\%$
  - 4.  $24\frac{1}{13}\%$

Question ID : 264330129396  
Option 1 ID : 264330506952  
Option 2 ID : 264330506951  
Option 3 ID : 264330506950  
Option 4 ID : 264330506953  
Status : Answered  
Chosen Option : 2

Q.4 In a certain examination, Prabhu and Raghu secured marks in the ratio of 7 : 8. Whereas Raghu and Raghav secured marks in the ratio of 5 : 4. Find the ratio of the marks obtained by Prabhu and Raghav.

- Ans
- 1. 39 : 35
  - 2. 35 : 39
  - 3. 32 : 35
  - 4. 35 : 32

Question ID : 264330109252  
Option 1 ID : 264330429288  
Option 2 ID : 264330429286  
Option 3 ID : 264330429287  
Option 4 ID : 264330429285  
Status : Answered  
Chosen Option : 4

Q.5  $\frac{(231 + 19)^2 + (231 - 19)^2}{(231 \times 231 + 19 \times 19)}$  का मान ज्ञात करें।

- Ans  1. 2  
 2. 250  
 3. 212  
 4. 62500

Question ID : 264330104151  
Option 1 ID : 264330408907  
Option 2 ID : 264330408905  
Option 3 ID : 264330408908  
Option 4 ID : 264330408906  
Status : Answered  
Chosen Option : 3

Q.6 1, 2, 4, 5, 6, 9, 11 और 18 का औसत क्या है?

- Ans  1. 8  
 2. 7  
 3. 9  
 4. 6

Question ID : 264330130906  
Option 1 ID : 264330512735  
Option 2 ID : 264330512736  
Option 3 ID : 264330512738  
Option 4 ID : 264330512737  
Status : Answered  
Chosen Option : 2

Q.7 A car dealer offers a 15% discount on a car marked at ₹5,00,000, while another dealer gives a discount of 12% on the first ₹3,00,000 and 6% on the next ₹2,00,000 on the same car along with accessories worth ₹6,000 as gift to his customers. What is the difference between the selling prices (in ₹) offered by the two car dealers?

- Ans  1. 21,000  
 2. 33,000  
 3. 27,000  
 4. 39,000

Question ID : 264330183839  
Option 1 ID : 264330721032  
Option 2 ID : 264330721033  
Option 3 ID : 264330721034  
Option 4 ID : 264330721035  
Status : Answered  
Chosen Option : 1

Q.8 There are five prime numbers written in ascending order. The product of the first four is 6545 and that of the last four is 24871. What is the last prime number?

- Ans
- 1. 29
  - 2. 17
  - 3. 19
  - 4. 23

Question ID : 264330104282  
Option 1 ID : 264330409432  
Option 2 ID : 264330409429  
Option 3 ID : 264330409430  
Option 4 ID : 264330409431  
Status : Not Answered  
Chosen Option : --

Q.9 1200 पुरुषों के एक सैन्य दुर्ग में पास 15 दिनों के लिए खाद्य पदार्थ है। यदि सैन्य दुर्ग में पुरुषों की संख्या में 1800 की वृद्धि कर दी जाए, तो खाद्य पदार्थ कितने समय तक चलेगा?

- Ans
- 1. 9 दिन
  - 2. 12 दिन
  - 3. 6 दिन
  - 4. 10 दिन

Question ID : 264330182580  
Option 1 ID : 264330716112  
Option 2 ID : 264330716114  
Option 3 ID : 264330716111  
Option 4 ID : 264330716113  
Status : Answered  
Chosen Option : 4

Q.10 90 कलमों को बेचने पर एक दुकानदार को 30 कलमों के विक्रय मूल्य के बराबर लाभ होता है। उसका लाभ प्रतिशत ज्ञात करें।

- Ans
- 1. 40%
  - 2. 70%
  - 3. 60%
  - 4. 50%

Question ID : 264330104500  
Option 1 ID : 264330410302  
Option 2 ID : 264330410304  
Option 3 ID : 264330410301  
Option 4 ID : 264330410303  
Status : Answered  
Chosen Option : 4

Q.11 देवेंद्र प्रतिदिन सुबह 8:25 बजे अपने घर से निकलता है और सुबह 9: 55 पर कार्यालय पहुँचता है। एक दिन वह अपने घर से सुबह 8:25 बजे निकलता है, लेकिन सामान्य चाल के  $\frac{6}{7}$  पर कुल दूरी की  $\frac{3}{10}$  दूरी तय करता है और बाकी की दूरी सामान्य चाल के  $\frac{7}{6}$  पर तय करता है। देवेंद्र उस दिन कितने बजे कार्यालय पहुँचता है?

- Ans
- 1. 9:50:40 पूर्वाह्न
  - 2. 9:50:30 पूर्वाह्न
  - 3. 9:50:50 पूर्वाह्न
  - 4. 9:50:20 पूर्वाह्न

Question ID : 264330112551  
Option 1 ID : 264330442291  
Option 2 ID : 264330442289  
Option 3 ID : 264330442290  
Option 4 ID : 264330442292  
Status : Not Answered  
Chosen Option : --

Q.12 The LCM of two co-prime numbers is 667 and one of the numbers is 23. What is the other number?

- Ans
- 1. 31
  - 2. 19
  - 3. 29
  - 4. 25

Question ID : 264330111452  
Option 1 ID : 264330437896  
Option 2 ID : 264330437895  
Option 3 ID : 264330437894  
Option 4 ID : 264330437893  
Status : Answered  
Chosen Option : 3

Q.13 एक कर्मचारी के वेतन में पहले 45% की वृद्धि की जाती है और फिर 45% की कमी की जाती है। उसके वेतन में प्रभावी परिवर्तन की गणना करें।

- Ans
- 1. 22.50% कमी
  - 2. 20.25% कमी
  - 3. 20.25% वृद्धि
  - 4. 22.50% वृद्धि

Question ID : 264330126506  
Option 1 ID : 264330495697  
Option 2 ID : 264330495699  
Option 3 ID : 264330495698  
Option 4 ID : 264330495696  
Status : Answered  
Chosen Option : 2

Q.14 The edges of a triangular board are 12 m, 35 m and 37 m. Find the cost of painting it at the rate of ₹ 8/m<sup>2</sup>.

- Ans
- 1. ₹1,560
  - 2. ₹1,670
  - 3. ₹1,680
  - 4. ₹1,575

Question ID : 264330118431  
Option 1 ID : 264330465125  
Option 2 ID : 264330465126  
Option 3 ID : 264330465128  
Option 4 ID : 264330465127  
Status : Not Answered  
Chosen Option : --

Q.15 A certain sum doubles in 5 years at simple interest. The same sum under the same interest rate will become six times in:

- Ans
- 1. 21 years
  - 2. 24 years
  - 3. 27 years
  - 4. 25 years

Question ID : 264330119931  
Option 1 ID : 264330469999  
Option 2 ID : 264330470000  
Option 3 ID : 264330470002  
Option 4 ID : 264330470001  
Status : Answered  
Chosen Option : 4

Section : Computer Proficiency

Q.1 What is one of the purpose of 'Print Preview' in formatting MS Word 365 documents?

- Ans
- 1. To automatically correct spelling and grammar errors
  - 2. To convert the document to a different file format
  - 3. To create a digital backup of the document
  - 4. To adjust page layout and formatting before printing

Question ID : 264330178581  
Option 1 ID : 264330700354  
Option 2 ID : 264330700353  
Option 3 ID : 264330700352  
Option 4 ID : 264330700351  
Status : Answered  
Chosen Option : 4

**Q.2** In MS Excel 365, Which feature in Microsoft Excel is used to visually represent data through graphical representation?

- Ans**
- 1. Macro
  - 2. Charts
  - 3. Formula
  - 4. PivotTable

Question ID : 264330180686  
Option 1 ID : 264330708713  
Option 2 ID : 264330708712  
Option 3 ID : 264330708714  
Option 4 ID : 264330708711  
Status : Answered  
Chosen Option : 2

**Q.3** What is the purpose of the CC field in an email?

- Ans**
- 1. It stands for 'Carbon Copy' and is used to include additional recipients who should be informed about the email.
  - 2. It stands for 'Copy Contents' and is used to copy and paste text into the email.
  - 3. It stands for 'Closed Captioning' and is used to add subtitles to the email.
  - 4. It stands for 'Courtesy Copy' and is used to send a polite message along with the email.

Question ID : 264330173549  
Option 1 ID : 264330680675  
Option 2 ID : 264330680678  
Option 3 ID : 264330680676  
Option 4 ID : 264330680677  
Status : Answered  
Chosen Option : 1

**Q.4** Which of the following keyboard shortcuts is used to open a new, blank document in Microsoft Word 365?

- Ans**
- 1. Ctrl + N
  - 2. Ctrl + S
  - 3. Ctrl + P
  - 4. Ctrl + O

Question ID : 264330180720  
Option 1 ID : 264330708847  
Option 2 ID : 264330708849  
Option 3 ID : 264330708850  
Option 4 ID : 264330708848  
Status : Answered  
Chosen Option : 1

**Q.5 What is the purpose of applying shading to a table in Microsoft Word 365?**

- Ans
- 1. To sort the data in the table
  - 2. To adjust the column widths in the table
  - 3. To change the font colour within the table
  - 4. To highlight specific cells or rows in the table

Question ID : 264330174499  
Option 1 ID : 264330684418  
Option 2 ID : 264330684417  
Option 3 ID : 264330684415  
Option 4 ID : 264330684416  
Status : Answered  
Chosen Option : 4

**Q.6 In MS Excel 365 which of the following is the correct sequence for inserting a row above a given row in MS-Excel spreadsheet?**

- Ans
- 1. Select the cell<<Right click<<Insert<<Entire Row
  - 2. Select the cell<<Left click<<Insert<<Entire Row
  - 3. Select the cell<<Left click<<Insert<<Entire Column
  - 4. Select the cell<<Right click<<Insert<<Entire Column

Question ID : 264330176697  
Option 1 ID : 264330693004  
Option 2 ID : 264330693006  
Option 3 ID : 264330693005  
Option 4 ID : 264330693003  
Status : Answered  
Chosen Option : 2

**Q.7 What is the file extension to save a document in MS Word 2003?**

- Ans
- 1. .docx
  - 2. .doc
  - 3. .odt
  - 4. .xls

Question ID : 264330180438  
Option 1 ID : 264330707720  
Option 2 ID : 264330707719  
Option 3 ID : 264330707721  
Option 4 ID : 264330707722  
Status : Answered  
Chosen Option : 2

**Q.8 Which of the following is the correct full form of VOIP?**

- Ans
- 1. Voice over internet protocol
  - 2. Volume over internet protocol
  - 3. Voice of intranet protocol
  - 4. Voice over intranet protocol

Question ID : 264330176677  
Option 1 ID : 264330692925  
Option 2 ID : 264330692926  
Option 3 ID : 264330692923  
Option 4 ID : 264330692924  
Status : Answered  
Chosen Option : 1

**Q.9** Which of the following statements related to addressing of cells in MS Excel is **INCORRECT**?

- Ans**
- 1. The cell in the second column and third row is B3.
  - 2. Columns in MS Excel are identified by numbers.
  - 3. The cell in the first column and first row is A1.
  - 4. Rows in MS Excel are identified by numbers.

Question ID : 264330180810

Option 1 ID : 264330709204

Option 2 ID : 264330709206

Option 3 ID : 264330709203

Option 4 ID : 264330709205

Status : Answered

Chosen Option : 4

**Q.10** Which of the following options within the Table group of the Insert tab is used to place a table in an MS Word 365 document?

- Ans**
- 1. Table
  - 2. Cut
  - 3. Paste
  - 4. Copy

Question ID : 264330178585

Option 1 ID : 264330700370

Option 2 ID : 264330700367

Option 3 ID : 264330700369

Option 4 ID : 264330700368

Status : Answered

Chosen Option : 1