

Multi Tasking Non Technical Staff and Havaldar CBIC and CBN Examination 2024

Roll Number	
Candidate Name	
Venue Name	iON Digital Zone iDZ Chitoura Road
Exam Date	01/10/2024
Exam Time	9:00 AM - 11:00 AM
Subject	MTS Non Tech Havaldar CBIC and CBN Examination 2024

Section : Numerical and Mathematical Ability

Q.1 ₹20 में एक वस्तु को बेचकर, एक विक्रेता 10% का लाभ अर्जित करता है। उसे अपना विक्रय मूल्य (₹ में, दो दशमलव स्थान तक सन्निकटित) कितना बढ़ाना चाहिए, ताकि 20% का लाभ अर्जित कर सके?

Ans 1. 2.82

2. 3.82

3. 1.82

4. 4.82

Question Type : **MCQ**

Question ID : **630680632595**

Option 1 ID : **6306802476279**

Option 2 ID : **6306802476280**

Option 3 ID : **6306802476278**

Option 4 ID : **6306802476281**

Status : **Answered**

Chosen Option : **2**

Q.2 दी गई तालिका का संदर्भ लीजिए और निम्नलिखित प्रश्न का उत्तर दीजिए।

वर्ष	कंपनी का % लाभ
2017	30
2018	10
2019	20
2020	15
2021	25

यदि जिस वर्ष कंपनी का प्रतिशत लाभ अधिकतम था, उस वर्ष कंपनी का व्यव
₹600 करोड़ था, तो उस वर्ष कंपनी की आमदनी कितनी थी?

- Ans 1. ₹820 करोड़
 2. ₹780 करोड़
 3. ₹800 करोड़
 4. ₹760 करोड़

Question Type : MCQ

Question ID : 630680523835

Option 1 ID : 6306802047491

Option 2 ID : 6306802047494

Option 3 ID : 6306802047492

Option 4 ID : 6306802047493

Status : Answered

Chosen Option : 2

Q.3 525 सेंटीमीटर लंबे और 378 सेंटीमीटर चौड़े कमरे की छत को ढकने के लिए आवश्यक वर्गाकार
टाइलों की न्यूनतम संख्या कितनी है?

- Ans 1. 150
 2. 380
 3. 178
 4. 450

Question Type : MCQ

Question ID : 630680107270

Option 1 ID : 630680416464

Option 2 ID : 630680416466

Option 3 ID : 630680416465

Option 4 ID : 630680416467

Status : Answered

Chosen Option : 3

Q.4 एक पंसारी ₹120/kg और ₹125/kg मूल्य की दो किस्मों की चाय को एक अनुपात में मिलाकर ₹122/kg मूल्य वाली एक नई किस्म तैयार करता है। नई किस्म प्राप्त करने के लिए मिश्रित की जाने वाली किस्मों का अनुपात कितना है?

- Ans
- 1. 1 : 3
 - 2. 4 : 4
 - 3. 2 : 5
 - 4. 3 : 2

Question Type : MCQ

Question ID : 630680403285

Option 1 ID : 6306801572640

Option 2 ID : 6306801572638

Option 3 ID : 6306801572639

Option 4 ID : 6306801572641

Status : Answered

Chosen Option : 3

Q.5 300, 129, 49,120 और 102 का औसत ज्ञात कीजिए।

- Ans
- 1. 140
 - 2. 130
 - 3. 120
 - 4. 150

Question Type : MCQ

Question ID : 630680108119

Option 1 ID : 630680419552

Option 2 ID : 630680419553

Option 3 ID : 630680419554

Option 4 ID : 630680419555

Status : Answered

Chosen Option : 3

Q.6 1 cm मोटाई की एक बेलनाकार डिस्क क्रमशः 4 cm और 5 cm त्रिज्या तथा 6 cm और 4 cm लंबाई वाले दो ठोस बेलनों को पिघलाकर बनाई गई है। नए बेलन की त्रिज्या ज्ञात कीजिए।

- Ans
- 1. 7 cm
 - 2. 28 cm
 - 3. 14 cm
 - 4. 21 cm

Question Type : MCQ

Question ID : 630680390839

Option 1 ID : 6306801523794

Option 2 ID : 6306801523797

Option 3 ID : 6306801523795

Option 4 ID : 6306801523796

Status : Answered

Chosen Option : 4

Q.7 10 m ऊंचाई और 5 m त्रिज्या के एक बेलनाकार टैंक की ऊपरी सतह पर 0.5 m त्रिज्या का एक छोटा गोलाकार कट है। टैंक का संपूर्ण पृष्ठीय क्षेत्रफल कितना होगा?

- Ans
- 1. $156\pi \text{ m}^2$
 - 2. $\frac{599\pi}{4} \text{ m}^2$
 - 3. $\frac{299\pi}{2} \text{ m}^2$
 - 4. $150\pi \text{ m}^2$

Question Type : MCQ

Question ID : 63068070056

Option 1 ID : 630680270862

Option 2 ID : 630680270864

Option 3 ID : 630680270863

Option 4 ID : 630680270865

Status : Answered

Chosen Option : 2

Q.8 एक समूह में कुछ छात्रों का औसत वजन 72 kg था। यदि प्रत्येक 76 kg औसत वजन वाले 11 छात्र समूह छोड़ देते हैं, और प्रत्येक 79 kg औसत वजन वाले 5 छात्र समूह में शामिल हो जाते हैं, तो समूह में छात्रों का औसत वजन 0.6 kg कम हो जाता है। समूह में शुरुआत में कितने छात्र थे?

- Ans
- 1. 17
 - 2. 19
 - 3. 25
 - 4. 21

Question Type : MCQ

Question ID : 630680454418

Option 1 ID : 6306801774576

Option 2 ID : 6306801774575

Option 3 ID : 6306801774573

Option 4 ID : 6306801774574

Status : Answered

Chosen Option : 3

Q.9 दो मिक्सर और एक टीवी की कीमत ₹7,000 है, जबकि दो टीवी और एक मिक्सर की कीमत ₹9,800 है। एक टीवी की कीमत कितनी होगी?

- Ans
- 1. ₹3,600
 - 2. ₹4,600
 - 3. ₹4,200
 - 4. ₹3,200

Question Type : MCQ

Question ID : 630680115658

Option 1 ID : 630680447983

Option 2 ID : 630680447985

Option 3 ID : 630680447984

Option 4 ID : 630680447982

Status : Answered

Chosen Option : 2

Q.10 समानांतर पटरियों पर 45 km/hr और 51 km/hr की चाल से, एक-दूसरे की ओर चल रहीं दो रेलगाड़ियों को, एक-दूसरे को पार करने में 21 सेकंड का समय लगता है। यदि एक रेलगाड़ी की लंबाई 290 m है, तो दूसरी रेलगाड़ी की लंबाई कितनी (m में) है?

- Ans
- 1. 230
 - 2. 250
 - 3. 270
 - 4. 290

Question Type : MCQ

Question ID : 630680630879

Option 1 ID : 6306802469473

Option 2 ID : 6306802469474

Option 3 ID : 6306802469472

Option 4 ID : 6306802469475

Status : Answered

Chosen Option : 3

Q.11 प्रत्येक 15% की दो क्रमिक वृद्धि, प्रत्येक 12% की दो क्रमिक कमी से कितने प्रतिशत अधिक है? (2 दशमलव स्थान तक पूर्णांकित)

- Ans
- 1. 28.25%
 - 2. 30.56%
 - 3. 42.95%
 - 4. 22.12%

Question Type : MCQ

Question ID : 630680464515

Option 1 ID : 6306801814095

Option 2 ID : 6306801814097

Option 3 ID : 6306801814096

Option 4 ID : 6306801814098

Status : Not Answered

Chosen Option : --

Q.12 9 संख्याओं का औसत 3 है। यदि इनमें से प्रथम 8 संख्याओं का औसत 2 है, तो 9वीं संख्या ज्ञात कीजिए।

- Ans 1. 12
 2. 14
 3. 15
 4. 11

Question Type : MCQ
Question ID : 630680484303
Option 1 ID : 6306801891567
Option 2 ID : 6306801891566
Option 3 ID : 6306801891569
Option 4 ID : 6306801891568
Status : Answered
Chosen Option : 1

Q.13 राम और श्याम की वर्तमान आयु का अनुपात 3 : 4 है, और 4 वर्ष पहले यह अनुपात 2 : 3 था। अब से 4 वर्ष बाद राम और श्याम की आयु का अनुपात क्या होगा?

- Ans 1. 3 : 5
 2. 4 : 5
 3. 2 : 5
 4. 1 : 5

Question Type : MCQ
Question ID : 630680461129
Option 1 ID : 6306801800790
Option 2 ID : 6306801800791
Option 3 ID : 6306801800793
Option 4 ID : 6306801800792
Status : Not Answered
Chosen Option : --

Q.14 उस चतुर्भुज ABCD का क्षेत्रफल ज्ञात कीजिए जिसके शीर्षों के निर्देशांक A(6,-3), B(-4,-2), C(3,1) और D(5,0) हैं?

- Ans 1. 30 इकाई²
 2. 25 इकाई²
 3. 21 इकाई²
 4. 16 इकाई²

Question Type : MCQ
Question ID : 630680526619
Option 1 ID : 6306802058545
Option 2 ID : 6306802058544
Option 3 ID : 6306802058543
Option 4 ID : 6306802058542
Status : Not Answered
Chosen Option : --

Q.15 रवि अपने गांव से कॉलेज 5 km/h की चाल से जाता है और 4 km/h की चाल से वापस आता है। यदि उसे कुल मिलाकर 9 घंटे लगते हैं, तो गांव और कॉलेज के बीच की दूरी (km में) ज्ञात कीजिए।

Ans 1. 20

2. 18

3. 40

4. 9

Question Type : MCQ

Question ID : 630680218750

Option 1 ID : 630680848909

Option 2 ID : 630680848908

Option 3 ID : 630680848910

Option 4 ID : 630680848907

Status : Not Answered

Chosen Option : --

Q.16 एक खुदरा विक्रेता अपने उत्पादों के अंकित मूल्य पर 25% की व्यापार छूट और 8% की अतिरिक्त छूट देता है, यदि भुगतान उसकी दुकान के सदस्यता कार्ड (membership card) के साथ किया जाता है। वह लागत पर 15% का निवल लाभ अर्जित करता है। उसके द्वारा उत्पादों का अंकित मूल्य कितने प्रतिशत अधिक रखा गया है?

Ans 1. $66\frac{2}{3}\%$

2. $46\frac{1}{3}\%$

3. $84\frac{1}{3}\%$

4. $59\frac{2}{3}\%$

Question Type : MCQ

Question ID : 630680631422

Option 1 ID : 6306802471647

Option 2 ID : 6306802471650

Option 3 ID : 6306802471648

Option 4 ID : 6306802471649

Status : Not Answered

Chosen Option : --

Q.17 A ने 3 वर्षों के लिए 7% वार्षिक साधारण ब्याज पर ₹89,500 की धनराशि उधार ली। B ने साधारण ब्याज पर समान धनराशि पहले वर्ष के लिए 9%, दूसरे वर्ष के लिए 8% और तीसरे वर्ष के लिए 7% की दर पर उधार ली। A और B द्वारा भुगतान किए गए कुल साधारण ब्याज (₹ में) की गणना कीजिए।

Ans 1. 45,027

2. 40,275

3. 42,075

4. 47,025

Question Type : MCQ

Question ID : 630680422112

Option 1 ID : 6306801646885

Option 2 ID : 6306801646883

Option 3 ID : 6306801646884

Option 4 ID : 6306801646886

Status : Not Answered

Chosen Option : --

Q.18 5 वर्षों के लिए 7% वार्षिक की ब्याज दर पर उधार ली गई राशि ₹2500 पर साधारण ब्याज (₹ में) ज्ञात कीजिए।

Ans 1. 835

2. 815

3. 915

4. 875

Question Type : MCQ

Question ID : 630680591911

Option 1 ID : 6306802316114

Option 2 ID : 6306802316113

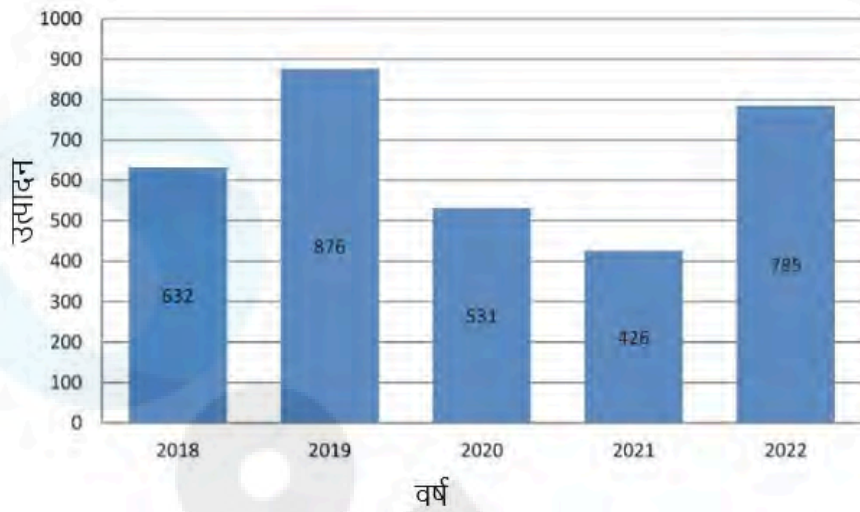
Option 3 ID : 6306802316112

Option 4 ID : 6306802316111

Status : Not Answered

Chosen Option : --

Q.19 दिया गया बार ग्राफ वर्ष 2018 से 2022 तक प्याज का उत्पादन (किलो में) दर्शाता है। ग्राफ का अध्ययन करें और निम्नलिखित प्रश्न का उत्तर दें।



इस अवधि के दौरान औसत उत्पादन को ध्यान में रखते हुए, उन वर्षों की संख्या ज्ञात करें, जिनमें उत्पादन औसत से अधिक रहा।

- Ans
- 1. 1
 - 2. 2
 - 3. 4
 - 4. 3

Question Type : **MCQ**

Question ID : **630680397537**

Option 1 ID : **6306801550066**

Option 2 ID : **6306801550067**

Option 3 ID : **6306801550069**

Option 4 ID : **6306801550068**

Status : **Not Answered**

Chosen Option : --

Q.20 किस राशि (₹ में) पर 12% प्रति वर्ष की ब्याज दर से 4 वर्षों में ₹240 का साधारण ब्याज अर्जित होगा?

- Ans
- 1. 750
 - 2. 250
 - 3. 1000
 - 4. 500

Question Type : **MCQ**

Question ID : **630680612178**

Option 1 ID : **6306802395447**

Option 2 ID : **6306802395445**

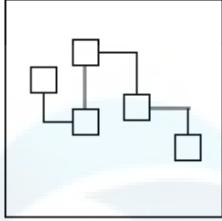
Option 3 ID : **6306802395446**

Option 4 ID : **6306802395444**

Status : **Not Answered**

Chosen Option : --

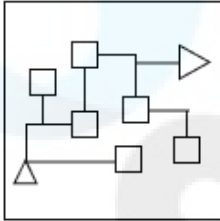
Q.1 उस विकल्प आकृति का चयन कीजिए, जिसमें दी गई आकृति (X) उसके भाग के रूप में सन्निहित है (घूर्णन की अनुमति नहीं है)।



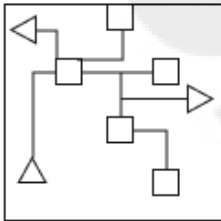
(X)

Ans

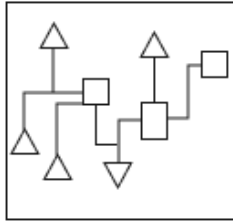
✓ 1.



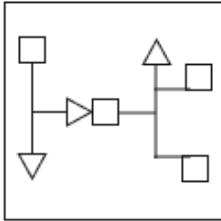
✗ 2.



✗ 3.



✗ 4.



Question Type : MCQ

Question ID : 630680487621

Option 1 ID : 6306801904557

Option 2 ID : 6306801904556

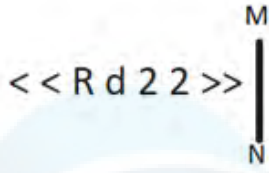
Option 3 ID : 6306801904554

Option 4 ID : 6306801904555

Status : Answered

Chosen Option : 3

Q.2 यदि दर्पण को नीचे दिखाए गए अनुसार MN पर रखा जाए, तो दी गई आकृति के सही दर्पण प्रतिबिंब का चयन कीजिए।



- Ans
- 1. << S S b R < <
 - 2. >> S S b R >>
 - 3. << S S b R >>
 - 4. << 2 2 d R >>

Question Type : MCQ

Question ID : 630680525307

Option 1 ID : 6306802053312

Option 2 ID : 6306802053313

Option 3 ID : 6306802053315

Option 4 ID : 6306802053314

Status : Answered

Chosen Option : 3

Q.3 एक निश्चित तर्क का अनुसरण करते हुए 18, 80 से संबंधित है। उसी तर्क का अनुसरण करते हुए, 23, 100 से संबंधित है। उसी तर्क का अनुसरण करते हुए, 36 निम्नलिखित में से किससे संबंधित है?

(ध्यान दें: संख्याओं को उनके घटक अंकों में अलग-अलग किए बिना पूर्ण संख्याओं पर संक्रियाएं की जानी चाहिए। उदाहरण के लिए संख्या 13 - संख्या 13 पर संक्रियाएं जैसे 13 को जोड़ना/घटाना/गुणा करना आदि किया जा सकता है। 13 को 1 और 3 में अलग-अलग करने की और फिर 1 और 3 पर गणितीय संक्रियाएं करने की अनुमति नहीं है।)

- Ans
- 1. 144
 - 2. 142
 - 3. 138
 - 4. 152

Question Type : MCQ

Question ID : 630680446742

Option 1 ID : 6306801744259

Option 2 ID : 6306801744260

Option 3 ID : 6306801744261

Option 4 ID : 6306801744258

Status : Answered

Chosen Option : 3

Q.4 अंग्रेजी वर्णमाला क्रम के आधार पर दी गई श्रृंखला में प्रश्न चिह्न (?) के स्थान पर क्या आना चाहिए?

TKU, UNP, VQK, WTF, ?

Ans 1. XXA

2. XWA

3. YXB

4. WAW

Question Type : MCQ

Question ID : 630680815694

Option 1 ID : 6306803196079

Option 2 ID : 6306803196078

Option 3 ID : 6306803196080

Option 4 ID : 6306803196077

Status : Answered

Chosen Option : 2

Q.5 दिए गए कथनों और निष्कर्षों को ध्यानपूर्वक पढ़िए। यह मानते हुए कि कथनों में दी गई जानकारी सत्य है, चाहे वह सामान्यतः ज्ञात तथ्यों से भिन्न प्रतीत होती हो और निर्णय लीजिए कि दिए गए निष्कर्षों में से कौन-सा/कौन-से निष्कर्ष कथनों का तार्किक रूप से अनुसरण करता है/करते हैं।

कथन:

सभी तोते, चील हैं।

कोई तोता, कौआ नहीं है।

निष्कर्ष:

(I) कोई चील, कौआ नहीं है।

(II) सभी कौवे, तोते हैं।

Ans 1. न तो निष्कर्ष (I) और न ही निष्कर्ष (II) अनुसरण करता है

2. केवल निष्कर्ष (II) अनुसरण करता है

3. दोनों निष्कर्ष (I) और (II) अनुसरण करते हैं

4. केवल निष्कर्ष (I) अनुसरण करता है

Question Type : MCQ

Question ID : 630680815663

Option 1 ID : 6306803195956

Option 2 ID : 6306803195954

Option 3 ID : 6306803195955

Option 4 ID : 6306803195953

Status : Answered

Chosen Option : 4

Q.6 किसी निश्चित तरीके से GY 16, DV 23 से संबंधित है। उसी प्रकार, OD 11, LA 18 से संबंधित है। उसी तर्क का पालन करते हुए, LW 13 निम्नलिखित में से किससे संबंधित है?

- Ans
- 1. HS 20
 - 2. IS 20
 - 3. IT 20
 - 4. HT 19

Question Type : MCQ

Question ID : 630680528981

Option 1 ID : 6306802067915

Option 2 ID : 6306802067914

Option 3 ID : 6306802067913

Option 4 ID : 6306802067912

Status : Answered

Chosen Option : 2

Q.7 निम्नलिखित में से किन चिह्नों को आपस में बदलने पर दिया गया समीकरण सही हो जाएगा?

$$15 - 54 \times 18 + 16 \div 2 = 44$$

- Ans
- 1. + और ×
 - 2. + और ×
 - 3. - और +
 - 4. - और +

Question Type : MCQ

Question ID : 630680411986

Option 1 ID : 6306801606779

Option 2 ID : 6306801606781

Option 3 ID : 6306801606782

Option 4 ID : 6306801606780

Status : Answered

Chosen Option : 4

Q.8 दी गई श्रृंखला में प्रश्न चिह्न (?) के स्थान पर क्या आना चाहिए?

53, 52, 39, 38, ?, 24

- Ans
- 1. 26
 - 2. 28
 - 3. 25
 - 4. 23

Question Type : MCQ

Question ID : 630680402496

Option 1 ID : 6306801569547

Option 2 ID : 6306801569548

Option 3 ID : 6306801569550

Option 4 ID : 6306801569549

Status : Answered

Chosen Option : 3

Q.9 P, Q, R, S, T और U एक वृत्ताकार मेज के चारों ओर केंद्र की ओर मुख करके बैठे हैं (परंतु जरूरी नहीं कि वे इसी क्रम में बैठे हों)। P, T के बाएँ से दूसरे स्थान पर है। U और P दोनों का निकटतम पड़ोसी Q है। S और R निकटतम पड़ोसी हैं। निम्नलिखित में से किसके निकटतम पड़ोसी T और U दोनों हैं?

Ans 1. R

2. S

3. Q

4. P

Question Type : MCQ

Question ID : 630680381028

Option 1 ID : 6306801485088

Option 2 ID : 6306801485087

Option 3 ID : 6306801485090

Option 4 ID : 6306801485089

Status : Answered

Chosen Option : 3

Q.10 एक निश्चित कूट भाषा में, '22 55 77' को 'rr pp tt' लिखा जाता है और '77 66 44' को 'pp kk ll' लिखा जाता है और '66 11 22' को 'kk tt zz' लिखा जाता है। उस कूट भाषा में '11' को कैसे लिखा जाएगा?

Ans 1. tt

2. pp

3. zz

4. kk

Question Type : MCQ

Question ID : 630680439083

Option 1 ID : 6306801714147

Option 2 ID : 6306801714145

Option 3 ID : 6306801714144

Option 4 ID : 6306801714146

Status : Answered

Chosen Option : 4

Q.11 एक निश्चित कूट भाषा में, 'EAGER' को 'CGGTG' के रूप में लिखा जाता है और 'LEARN' को 'GNAPT' के रूप में लिखा जाता है। उसी भाषा में 'HINDI' को किस प्रकार लिखा जाएगा?

Ans 1. KJNKF

2. JKNKF

3. KJPKF

4. KJNFK

Question Type : MCQ

Question ID : 630680465237

Option 1 ID : 6306801816985

Option 2 ID : 6306801816983

Option 3 ID : 6306801816984

Option 4 ID : 6306801816986

Status : Answered

Chosen Option : 4

Q.12 सात लोग A, B, C, D, E, F और G एक वृत्ताकार मेज के चारों ओर केंद्र की ओर मुख करके बैठे हैं (परंतु जरूरी नहीं कि वे इसी क्रम में बैठे हों)। G, E के बाएँ से तीसरे स्थान पर बैठा है। A, G के ठीक बाएँ बैठा है। A और B का निकटतम पड़ोसी D है। F, C के ठीक बाएँ बैठा है।

F के दाएँ से गिनने पर F और D के बीच में कितने लोग बैठे हैं?

- Ans
- 1. चार
 - 2. पाँच
 - 3. तीन
 - 4. दो

Question Type : **MCQ**

Question ID : **630680379513**

Option 1 ID : **6306801479095**

Option 2 ID : **6306801479097**

Option 3 ID : **6306801479096**

Option 4 ID : **6306801479098**

Status : **Answered**

Chosen Option : 1

Q.13 अंग्रेजी वर्णानुक्रम के आधार पर UBIP एक निश्चित प्रकार से YFMT से संबंधित है। ठीक उसी प्रकार IPWD, MTAH से संबंधित है। समान तर्क का अनुसरण करते हुए OVJC निम्नलिखित में से किससे संबंधित है?

- Ans
- 1. SZGN
 - 2. SZMG
 - 3. SJZM
 - 4. SMGJ

Question Type : **MCQ**

Question ID : **6306801108778**

Option 1 ID : **6306804355658**

Option 2 ID : **6306804355660**

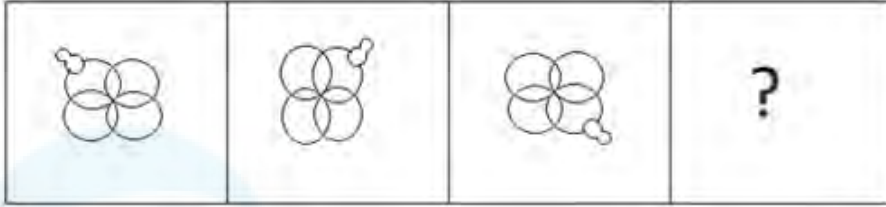
Option 3 ID : **6306804355659**

Option 4 ID : **6306804355661**

Status : **Answered**

Chosen Option : 1

Q.14 उस आकृति का चयन कीजिए, जो निम्नलिखित आकृति श्रृंखला में आगे आएगी।

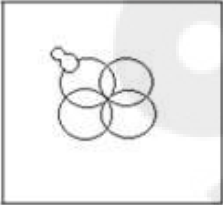


Ans

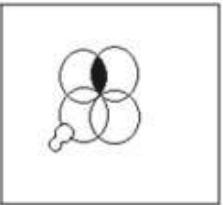
✓ 1.




✗ 2.



✗ 3.



✗ 4.



Question Type : MCQ

Question ID : 630680467989

Option 1 ID : 6306801827859

Option 2 ID : 6306801827858

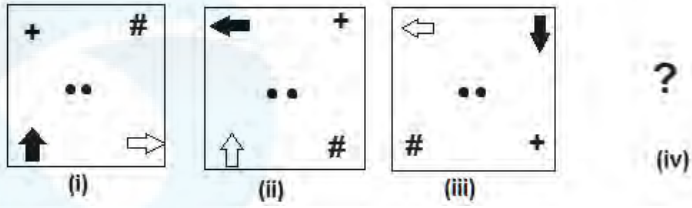
Option 3 ID : 6306801827861

Option 4 ID : 6306801827860

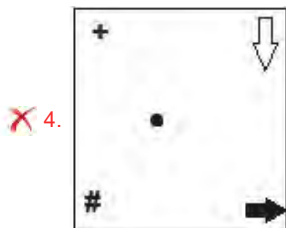

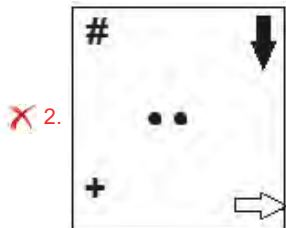
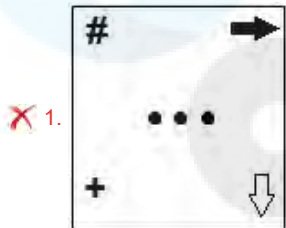
Status : Answered

Chosen Option : 1

Q.15 दिए गए विकल्पों में से उस आकृति का चयन कीजिए जिसे दी गई श्रृंखला को तार्किक रूप से पूरा करने के लिए प्रश्नवाचक चिह्न (?) के स्थान पर प्रतिस्थापित किया जा सके।



Ans



Question Type : MCQ

Question ID : 630680105941

Option 1 ID : 630680411710

Option 2 ID : 630680411707

Option 3 ID : 630680411709

Option 4 ID : 630680411708

Status : Answered

Chosen Option : 1

Q.16 निम्नलिखित समीकरण में प्रश्न चिह्न (?) के स्थान पर क्या आएगा, यदि '-' और 'x' को आपस में बदल दिया जाए तथा '+' और '+' को आपस में बदल दिया जाए?

$$6 - 8 \div 12 + 3 \times 9 + 3 \div 17 = ?$$

- Ans
- 1. 56
 - 2. 2
 - 3. 66
 - 4. 71

Question Type : MCQ

Question ID : 630680264625

Option 1 ID : 6306801028005

Option 2 ID : 6306801028004

Option 3 ID : 6306801028003

Option 4 ID : 6306801028006

Status : Answered

Chosen Option : 3

Q.17 दिए गए कथनों और निष्कर्षों को ध्यानपूर्वक पढ़िए। यह मानते हुए कि कथनों में दी गई जानकारी सत्य है, चाहे वह सामान्यतः ज्ञात तथ्यों से भिन्न प्रतीत होती हो और निर्णय लीजिए कि दिए गए निष्कर्षों में से कौन-सा/कौन-से निष्कर्ष कथनों का तार्किक रूप से अनुसरण करता है/करते हैं।

कथन:

कुछ गाजर, मूली हैं।

कुछ खीरे, मूली हैं।

निष्कर्ष:

I. सभी खीरे, गाजर हैं।

II. कुछ खीरे, गाजर हैं।

- Ans
- 1. निष्कर्ष I और II दोनों अनुसरण करते हैं।
 - 2. न तो निष्कर्ष I और न ही II अनुसरण करता है।
 - 3. केवल निष्कर्ष II अनुसरण करता है।
 - 4. केवल निष्कर्ष I अनुसरण करता है।

Question Type : MCQ

Question ID : 630680521360

Option 1 ID : 6306802037867

Option 2 ID : 6306802037868

Option 3 ID : 6306802037866

Option 4 ID : 6306802037865

Status : Answered

Chosen Option : 3

Q.18 उस समुच्चय का चयन कीजिए जिसमें संख्याएं ठीक उसी प्रकार संबंधित हैं जिस प्रकार दिए गए समुच्चयों की संख्याएं संबंधित हैं।

(ध्यान दें: संख्याओं को उनके घटक अंकों में अलग-अलग किए बिना पूर्ण संख्याओं पर संक्रियाएं की जानी चाहिए। उदाहरण के लिए संख्या 13 - संख्या 13 पर संक्रियाएं जैसे 13 को जोड़ना/घटाना/गुणा करना आदि किया जा सकता है। 13 को 1 और 3 में अलग-अलग करने की और फिर 1 और 3 पर गणितीय संक्रियाएं करने की अनुमति नहीं है।)

(12, 4, 160)
(6, 11, 157)

- Ans 1. (9, 15, 90)
 2. (21, 4, 168)
 3. (6, 15, 90)
 4. (14, 7, 245)

Question Type : MCQ

Question ID : 630680388712

Option 1 ID : 6306801515311

Option 2 ID : 6306801515313

Option 3 ID : 6306801515310

Option 4 ID : 6306801515312

Status : Answered

Chosen Option : 4

Q.19 एक निश्चित कूट भाषा में, 'TALE' को '5173' के रूप में कूटबद्ध किया जाता है और 'AIDS' को '6452' के रूप में कूटबद्ध किया जाता है। दी गई कूट भाषा में 'A' के लिए कूट क्या है?

- Ans 1. 6
 2. 5
 3. 2
 4. 1

Question Type : MCQ

Question ID : 630680422203

Option 1 ID : 6306801647251

Option 2 ID : 6306801647248

Option 3 ID : 6306801647250

Option 4 ID : 6306801647249

Status : Answered

Chosen Option : 4

Q.20 एक निश्चित कूटभाषा में, 'PLAY' को '4831' के रूप में कूटबद्ध किया गया है और 'CLAY' को '1824' के रूप में कूटबद्ध किया गया है। उस भाषा में 'C' के लिए कूट क्या है?

Ans 1. 8

2. 2

3. 1

4. 4

Question Type : MCQ

Question ID : 630680828868

Option 1 ID : 6306803246747

Option 2 ID : 6306803246748

Option 3 ID : 6306803246746

Option 4 ID : 6306803246749

Status : Answered

Chosen Option : 3

Section : General Awareness

Q.1 गोवा का निम्नलिखित में से कौन-सा नृत्य पुर्तगालियों पर मराठा योद्धाओं की जीत का जश्न मनाने के लिए किया जाता है?

Ans 1. घोडेमोदनी (Ghodemodni)

2. गौफ (Goff)

3. ज़ेम्मादो (Zemmado)

4. मोरुलेम (Morulem)

Question Type : MCQ

Question ID : 630680403242

Option 1 ID : 6306801572465

Option 2 ID : 6306801572466

Option 3 ID : 6306801572468

Option 4 ID : 6306801572467

Status : Answered

Chosen Option : 4

Q.2 कर्नाटक में बीदर किला (Bidar Fort) आकार में अनियमित रूप से _____ है।

Ans 1. समांतर असम चतुर्भुजाकार (rhomboid)

2. वर्गाकार (square)

3. वृत्ताकार (circular)

4. आयताकार (rectangular)

Question Type : MCQ

Question ID : 630680594374

Option 1 ID : 6306802325750

Option 2 ID : 6306802325749

Option 3 ID : 6306802325748

Option 4 ID : 6306802325751

Status : Answered

Chosen Option : 1

Q.3 हर साल हॉर्नबिल महोत्सव (Hornbill festival) निम्नलिखित में से किस राज्य में मनाया जाता है?

Ans 1. नागालैंड

2. त्रिपुरा

3. सिक्किम

4. गोवा

Question Type : MCQ

Question ID : 630680368809

Option 1 ID : 6306801436656

Option 2 ID : 6306801436654

Option 3 ID : 6306801436655

Option 4 ID : 6306801436653

Status : Answered

Chosen Option : 4

Q.4 भारतीय क्रिकेटर सौरव गांगुली ने किस स्टेडियम में अपनी टी-शर्ट उतारकर लहरायी थी?

Ans 1. केप टाउन स्टेडियम, दक्षिण अफ्रीका

2. पर्य स्टेडियम, ऑस्ट्रेलिया

3. मेलबर्न क्रिकेट ग्राउंड, ऑस्ट्रेलिया

4. लॉर्ड्स स्टेडियम, इंग्लैंड

Question Type : MCQ

Question ID : 63068069220

Option 1 ID : 630680267558

Option 2 ID : 630680267560

Option 3 ID : 630680267559

Option 4 ID : 630680267561

Status : Answered

Chosen Option : 3

Q.5 कौन-सी संगीत जोड़ी बनारस घराने की ख्याल गायन वंशावली का हिस्सा है?

Ans 1. राजन और साजन मिश्रा

2. सलामत अली और नजाकत अली खान

3. संध्या और प्रसून बनर्जी

4. सुभान कासिम और सुभान बाब

Question Type : MCQ

Question ID : 630680482400

Option 1 ID : 6306801884112

Option 2 ID : 6306801884111

Option 3 ID : 6306801884110

Option 4 ID : 6306801884113

Status : Answered

Chosen Option : 1

Q.6 मुगल बादशाह बाबर _____ सूफी सिलसिला (Sufi Silsila) का अनुयायी था।

- Ans
- 1. कादरी (Qadri)
 - 2. चिश्ती (Chisti)
 - 3. सुहरावर्दी (Suhrawardi)
 - 4. नक्शबंदी (Naqshbandi)

Question Type : MCQ

Question ID : 630680326431

Option 1 ID : 6306801269815

Option 2 ID : 6306801269814

Option 3 ID : 6306801269813

Option 4 ID : 6306801269816

Status : Answered

Chosen Option : 4

Q.7 निम्नलिखित में से कौन सा उपन्यास अरविंद अडिग (Aravind Adiga) द्वारा नहीं लिखा गया है?

- Ans
- 1. द व्हाइट टाइगर (The White Tiger)
 - 2. सिलेक्शन डे (Selection Day)
 - 3. लास्ट मैन इन टावर (Last Man in Tower)
 - 4. दी इंग्लिश टीचर (The English Teacher)

Question Type : MCQ

Question ID : 630680216552

Option 1 ID : 630680840179

Option 2 ID : 630680840181

Option 3 ID : 630680840180

Option 4 ID : 630680840182

Status : Answered

Chosen Option : 3

Q.8 सामान्यतः, घाटे को एक _____ संकल्पना माना जाता है।

- Ans
- 1. सार्थक (margin)
 - 2. प्रवाह (flow)
 - 3. स्टॉक (stock)
 - 4. अधिशेष (surplus)

Question Type : MCQ

Question ID : 63068054227

Option 1 ID : 630680208953

Option 2 ID : 630680208951

Option 3 ID : 630680208950

Option 4 ID : 630680208952

Status : Answered

Chosen Option : 1

Q.9 संसद रत्न पुरस्कार 2023 में, निम्नलिखित में से किसे डॉ. एपीजे अब्दुल कलाम लाइफटाइम अचीवमेंट पुरस्कार (Dr. APJ Abdul Kalam Lifetime Achievement Award) प्राप्त हुआ?

Ans 1. टीके रंगराजन

2. नागेंद्र सिंह

3. लक्ष्मीनारायण यादव

4. एचडी देवेगौड़ा

Question Type : MCQ

Question ID : 630680468760

Option 1 ID : 6306801830834

Option 2 ID : 6306801830832

Option 3 ID : 6306801830831

Option 4 ID : 6306801830833

Status : Answered

Chosen Option : 2

Q.10 राष्ट्रीय न्यायिक आयोग विधेयक, जो राष्ट्रीय न्यायिक आयोग के माध्यम से न्यायाधीशों की नियुक्ति को विनियमित करने के लिए एक निजी सदस्य विधेयक है, राज्यसभा में कब पेश किया गया था?

Ans 1. दिसंबर 2022

2. मार्च 2022

3. जुलाई 2023

4. अगस्त 2023

Question Type : MCQ

Question ID : 630680465528

Option 1 ID : 6306801818147

Option 2 ID : 6306801818148

Option 3 ID : 6306801818149

Option 4 ID : 6306801818150

Status : Answered

Chosen Option : 3

Q.11 पीएम-स्वनिधि योजना (2020) भारत सरकार के किस मंत्रालय द्वारा संचालित है?

Ans 1. आवासन एवं शहरी कार्य मंत्रालय

2. वित्त मंत्रालय

3. ग्रामीण विकास मंत्रालय

4. श्रम एवं रोजगार मंत्रालय

Question Type : MCQ

Question ID : 630680511235

Option 1 ID : 6306801998070

Option 2 ID : 6306801998073

Option 3 ID : 6306801998071

Option 4 ID : 6306801998072

Status : Answered

Chosen Option : 1

Q.12 आई.सी.सी. - टी-20 विश्व कप 2021 टूर्नामेंट में भारतीय मैच रेफरी कौन थे?

Ans 1. जवागल श्रीनाथ

2. राहुल द्रविड़

3. सुनील गावस्कर

4. वेंकटेश प्रसाद

Question Type : MCQ

Question ID : 630680115882

Option 1 ID : 630680448858

Option 2 ID : 630680448861

Option 3 ID : 630680448860

Option 4 ID : 630680448859

Status : Answered

Chosen Option : 3

Q.13 भारतीय संविधान में सार्वभौमिक वयस्क मताधिकार _____ की आयु से भारतीय नागरिकों पर लागू होता है।

Ans 1. 21 वर्ष

2. 17 वर्ष

3. 18 वर्ष

4. 22 वर्ष

Question Type : MCQ

Question ID : 630680587084

Option 1 ID : 6306802296877

Option 2 ID : 6306802296880

Option 3 ID : 6306802296878

Option 4 ID : 6306802296879

Status : Answered

Chosen Option : 3

Q.14 निम्नलिखित में से किस आयु वर्ग को भारत में कार्यशील जनसंख्या या कार्यशील आयु माना जाता है?

Ans 1. 0-60 वर्ष

2. 25-65 वर्ष

3. 15-40 वर्ष

4. 15-59 वर्ष

Question Type : MCQ

Question ID : 630680696649

Option 1 ID : 6306802728758

Option 2 ID : 6306802728756

Option 3 ID : 6306802728755

Option 4 ID : 6306802728757

Status : Answered

Chosen Option : 2

Q.15 भारतीय निर्वाचन आयोग द्वारा मान्यता प्राप्त एक पार्टी जो चार लोकसभा सीटें जीतने के अलावा लोकसभा अथवा चार या उससे अधिक राज्यों में विधानसभा (Legislative Assembly) के आम चुनाव में कुल वोटों का कम से कम _____ वोट हासिल करती है, उसे राष्ट्रीय पार्टी कहा जाता है।

- Ans
- 1. तीन प्रतिशत
 - 2. आठ प्रतिशत
 - 3. छः प्रतिशत
 - 4. एक प्रतिशत

Question Type : MCQ

Question ID : 630680407965

Option 1 ID : 6306801590719

Option 2 ID : 6306801590721

Option 3 ID : 6306801590720

Option 4 ID : 6306801590718

Status : Answered

Chosen Option : 3

Q.16 बावड़ियों (Bawris) का उपयोग पारंपरिक रूप से _____ के लिए किया जाता है।

- Ans
- 1. उपयोगी खनिज प्राप्त करने
 - 2. कचरा इकट्ठा करने
 - 3. जल भंडारण एवं पुनर्भरण
 - 4. पेट्रोलियम तेल प्राप्त करने

Question Type : MCQ

Question ID : 630680404020

Option 1 ID : 6306801575568

Option 2 ID : 6306801575567

Option 3 ID : 6306801575566

Option 4 ID : 6306801575569

Status : Answered

Chosen Option : 2

Q.17 निम्नलिखित में से किसने मौर्य काल की ब्राह्मी लिपि का कूटवाचन (deciphered) किया?

- Ans
- 1. राखल दास बनर्जी (Rakhal Das Banerji)
 - 2. हर्बर्ट होपरिस्ली (Herbert Hope Risley)
 - 3. जेम्स मिल (James Mill)
 - 4. जेम्स प्रिंसेप (James Prinsep)

Question Type : MCQ

Question ID : 630680339385

Option 1 ID : 6306801320111

Option 2 ID : 6306801320109

Option 3 ID : 6306801320112

Option 4 ID : 6306801320110

Status : Answered

Chosen Option : 2

Q.18 $\text{CH}_3-(\text{CH}_2)_{18}-\text{CH}_3$ का आईयूपीएसी (IUPAC) नाम _____ है।

- Ans
- 1. डेकेन (decane)
 - 2. इकोसेन (icosane)
 - 3. ट्राईकॉन्टेन (triacontane)
 - 4. डोडेकेन (dodecane)

Question Type : MCQ

Question ID : 630680472227

Option 1 ID : 6306801844625

Option 2 ID : 6306801844623

Option 3 ID : 6306801844624

Option 4 ID : 6306801844626

Status : Answered

Chosen Option : 2

Q.19 सैलामैंडर (salamander) और घरेलू छिपकली के बीच उनके वासस्थल के अलावा अंतर का एक ओर आधार निम्नलिखित में से कौन-सा हो सकता है?

- Ans
- 1. अंडज (Egg-laying feature)
 - 2. तीन कक्ष वाला हृदय (Three-chambered heart)
 - 3. त्वचा पर शल्क (Scales on the skin)
 - 4. अनियततापी (Cold-blood)

Question Type : MCQ

Question ID : 630680641513

Option 1 ID : 6306802511470

Option 2 ID : 6306802511468

Option 3 ID : 6306802511467

Option 4 ID : 6306802511469

Status : Answered

Chosen Option : 2

Q.20 फरवरी 1947 में लॉर्ड वेवेल (Lord Wavell) के स्थान पर भारत का वाइसरॉय किसे नियुक्त किया गया था?

- Ans
- 1. लॉर्ड लिनलिथगो
 - 2. लॉर्ड माउंटबेटन
 - 3. लॉर्ड इर्विन
 - 4. लॉर्ड विलिंगडन

Question Type : MCQ

Question ID : 630680511613

Option 1 ID : 6306801999574

Option 2 ID : 6306801999577

Option 3 ID : 6306801999576

Option 4 ID : 6306801999575

Status : Answered

Chosen Option : 2

Q.21 भारतीय मौसम विज्ञान के अनुसार, निम्नलिखित में से कौन-सी ऋतु भारत में आने वाली ऋतु नहीं है?

- Ans 1. भूमध्यरेखीय ऋतु (Equatorial season)
 2. दक्षिणपश्चिमी मानसून ऋतु (The southwest monsoon season)
 3. गर्म मौसम की ऋतु (The hot weather season)
 4. ठण्डे मौसम की ऋतु (The cold weather season)

Question Type : MCQ

Question ID : 630680798987

Option 1 ID : 6306803130749

Option 2 ID : 6306803130748

Option 3 ID : 6306803130747

Option 4 ID : 6306803130746

Status : Answered

Chosen Option : 2

Q.22 एक तटीय क्षेत्र, समुद्र के पानी से भर गया और जिसके परिणामस्वरूप आस-पास के क्षेत्र में भारी नमक जमा हो गया। कुछ दिनों के बाद यह देखा गया कि कई पौधे मुरझा गए हैं। इन कथनों के आधार पर, निम्नलिखित में से कौन-सा पौधों के मुरझाने का सबसे संभावित कारण है?

- A. समुद्री जल जनित कीटाणुओं के संक्रमण से पौधे मुरझा गए।
B. धूप के अभाव में पौधे मुरझा गए।
C. पौधों की कोशिकाओं में जीवद्रव्यकुंचन (plasmolysis) के कारण पौधे मुरझा गए।
D. पौधे इसलिए मुरझा गए क्योंकि उन्हें समुद्री जीवों ने खा लिया।

- Ans 1. B
 2. A
 3. D
 4. C

Question Type : MCQ

Question ID : 630680544243

Option 1 ID : 6306802127747

Option 2 ID : 6306802127746

Option 3 ID : 6306802127749

Option 4 ID : 6306802127748

Status : Answered

Chosen Option : 2

Q.23 भारत में बड़ी लाइन (broad-gauge) रेलवे नेटवर्क की लगभग चौड़ाई कितनी होती है?

- Ans 1. 1.2 मीटर
 2. 1.3 मीटर
 3. 1 मीटर
 4. 1.6 मीटर

Question Type : MCQ

Question ID : 630680404331

Option 1 ID : 6306801576826

Option 2 ID : 6306801576828

Option 3 ID : 6306801576829

Option 4 ID : 6306801576827

Status : Answered

Chosen Option : 4

Q.24 निम्नलिखित में से किस अधिनियम के बाद भारत ब्रिटिश ताज के नाम से शासित होने लगा?

- Ans
- 1. भारत सरकार अधिनियम, 1919
 - 2. 1833 का चार्टर अधिनियम
 - 3. 1853 का चार्टर अधिनियम
 - 4. भारत सरकार अधिनियम, 1858

Question Type : **MCQ**
Question ID : **630680198475**
Option 1 ID : **630680769860**
Option 2 ID : **630680769861**
Option 3 ID : **630680769859**
Option 4 ID : **630680769862**
Status : **Answered**
Chosen Option : **3**

Q.25 निम्नलिखित में से किस कथक नर्तक/नर्तकी को 2022 का पद्म श्री प्राप्त हुआ?

- Ans
- 1. शोवना नारायण
 - 2. शक्ति और मुक्ति मोहन
 - 3. सुनयना हजारलाल अग्रवाल
 - 4. कमलिनी और नलिनी अस्थाना

Question Type : **MCQ**
Question ID : **630680433366**
Option 1 ID : **6306801691432**
Option 2 ID : **6306801691431**
Option 3 ID : **6306801691433**
Option 4 ID : **6306801691434**
Status : **Answered**
Chosen Option : **4**

Section : English Language and Comprehension

Q.1 Select the INCORRECTLY spelt word.

- Ans
- 1. perepharal
 - 2. stringent
 - 3. belated
 - 4. tentative

Question Type : **MCQ**
Question ID : **6306801106845**
Option 1 ID : **6306804347845**
Option 2 ID : **6306804347846**
Option 3 ID : **6306804347847**
Option 4 ID : **6306804347844**
Status : **Answered**
Chosen Option : **1**

Q.2 Select the most appropriate synonym of 'scanty' in the sentence given below.
India has varied regions which have excess, moderate and deficient rainfall all through the year.

- Ans
- 1. Excess
 - 2. Varied
 - 3. Moderate
 - 4. Deficient

Question Type : **MCQ**
Question ID : **630680517226**
Option 1 ID : **6306802021301**
Option 2 ID : **6306802021300**
Option 3 ID : **6306802021302**
Option 4 ID : **6306802021303**
Status : **Answered**
Chosen Option : 1

Q.3 Select the INCORRECTLY spelt word from the given sentence.

The gardener's meticulous care ensured the vibrant colours of the flowers.

- Ans
- 1. Gardener's
 - 2. Care
 - 3. Vibrant
 - 4. Meticulous

Question Type : **MCQ**
Question ID : **630680615946**
Option 1 ID : **6306802410466**
Option 2 ID : **6306802410468**
Option 3 ID : **6306802410469**
Option 4 ID : **6306802410467**
Status : **Answered**
Chosen Option : 3

Q.4 Select the present perfect tense of the verb given in the brackets to fill in the blank.

Alex _____ (study) two programming languages.

- Ans
- 1. has been studying
 - 2. have study
 - 3. has studied
 - 4. had studied

Question Type : **MCQ**
Question ID : **630680752507**
Option 1 ID : **6306802949315**
Option 2 ID : **6306802949314**
Option 3 ID : **6306802949312**
Option 4 ID : **6306802949313**
Status : **Answered**
Chosen Option : 3

Q.5 Select the most appropriate option to fill in the blank.

Please put the dishes in the _____ after you finish eating.

- Ans 1. sink
 2. sync
 3. cinque
 4. shrink

Question Type : **MCQ**
Question ID : **630680435720**
Option 1 ID : **6306801700801**
Option 2 ID : **6306801700802**
Option 3 ID : **6306801700803**
Option 4 ID : **6306801700804**
Status : **Answered**
Chosen Option : 1

Q.6 Select the word that has the same meaning (SYNONYM) as the underlined word in the given sentence.

The disposal of hazardous waste in hospitals and factories is a serious problem and needs to be taken care of urgently.

- Ans 1. belligerent
 2. hazy
 3. dangerous
 4. benign

Question Type : **MCQ**
Question ID : **630680446645**
Option 1 ID : **6306801743885**
Option 2 ID : **6306801743882**
Option 3 ID : **6306801743884**
Option 4 ID : **6306801743883**
Status : **Answered**
Chosen Option : 3

Q.7 Select the correctly spelt word to fill in the blank.
Arvind wanted to bake a cake for Riya's birthday, so he mixed the _____, eggs and butter.

- Ans 1. flower
 2. flour
 3. flauer
 4. flover

Question Type : **MCQ**
Question ID : **630680508266**
Option 1 ID : **6306801986361**
Option 2 ID : **6306801986364**
Option 3 ID : **6306801986363**
Option 4 ID : **6306801986362**
Status : **Answered**
Chosen Option : 3

Q.8 You overhear someone say, "He's always on cloud nine." What does this idiom mean in the given context?

- Ans**
- 1. Always busy
 - 2. Extremely happy
 - 3. Frequently daydreaming
 - 4. Often absent

Question Type : **MCQ**

Question ID : **630680421329**

Option 1 ID : **6306801643783**

Option 2 ID : **6306801643785**

Option 3 ID : **6306801643784**

Option 4 ID : **6306801643786**

Status : **Answered**

Chosen Option : **2**

Q.9 Select the option that rectifies the spelling error in the given sentence.
The student received an A+ for her excellent performance.

- Ans**
- 1. perfarmence
 - 2. performance
 - 3. excelleant
 - 4. excellent

Question Type : **MCQ**

Question ID : **630680554320**

Option 1 ID : **6306802167137**

Option 2 ID : **6306802167136**

Option 3 ID : **6306802167134**

Option 4 ID : **6306802167135**

Status : **Answered**

Chosen Option : **2**

Q.10 The following sentence has been split into four segments. Identify the segment that contains a grammatical error.

The teacher checked / whether each of them / have a blanket / as it was a cold night.

- Ans**
- 1. have a blanket
 - 2. whether each of them
 - 3. The teacher checked
 - 4. as it was a cold night

Question Type : **MCQ**

Question ID : **630680409042**

Option 1 ID : **6306801595095**

Option 2 ID : **6306801595094**

Option 3 ID : **6306801595093**

Option 4 ID : **6306801595096**

Status : **Answered**

Chosen Option : **3**

Q.11 Select the most appropriate synonym of the given word.

Inspire

Ans 1. Stimulate

2. Daunt

3. Reach

4. Aspire

Question Type : MCQ

Question ID : 630680397252

Option 1 ID : 6306801549067

Option 2 ID : 6306801549065

Option 3 ID : 6306801549066

Option 4 ID : 6306801549064

Status : Answered

Chosen Option : 4

Q.12 The following sentence has been divided into parts. One of them may contain an error. Select the part that contains the error from the given options. If you don't find any error, mark 'No error' as your answer.

She is / as more intelligent as / her brothers are.

Ans 1. as more intelligent as

2. She is

3. her brothers are.

4. No error.

Question Type : MCQ

Question ID : 630680629488

Option 1 ID : 6306802464023

Option 2 ID : 6306802464022

Option 3 ID : 6306802464024

Option 4 ID : 6306802464025

Status : Answered

Chosen Option : 3

Q.13 The following sentence has been divided into parts. One of them may contain an error. Select the part that contains the error from the given options. If you don't find any error, mark 'No error' as your answer.

I am / cleaning the sofa / when she called me.

Ans 1. No error

2. I am

3. when she called me

4. cleaning the sofa

Question Type : MCQ

Question ID : 630680421190

Option 1 ID : 6306801643238

Option 2 ID : 6306801643235

Option 3 ID : 6306801643237

Option 4 ID : 6306801643236

Status : Answered

Chosen Option : 4

Q.14 Select the most appropriate option to fill in the blank.

The student leader has _____ politics recently.

- Ans 1. approached
 2. entered
 3. jumped
 4. gathered

Question Type : MCQ

Question ID : 630680552849

Option 1 ID : 6306802161491

Option 2 ID : 6306802161490

Option 3 ID : 6306802161492

Option 4 ID : 6306802161493

Status : Answered

Chosen Option : 2

Q.15 The following sentence has been split into four segments. Identify the segment that contains a grammatical error.

The society / of the / our place / is good.

- Ans 1. The society
 2. our place
 3. of the
 4. is good

Question Type : MCQ

Question ID : 63068084793

Option 1 ID : 630680328688

Option 2 ID : 630680328690

Option 3 ID : 630680328689

Option 4 ID : 630680328691

Status : Answered

Chosen Option : 4

Q.16 Select the most appropriate option to fill in the blank.

The _____ of the scientific experiment raised questions about the validity of the results.

- Ans 1. meticulousness
 2. ambiguity
 3. verbosity
 4. transparency

Question Type : MCQ

Question ID : 630680598074

Option 1 ID : 6306802340098

Option 2 ID : 6306802340099

Option 3 ID : 6306802340101

Option 4 ID : 6306802340100

Status : Answered

Chosen Option : 1

Q.17 The following sentence has been split into four segments. Identify the segment that contains a grammatical error.

He dropped out / at his friend's house / on his way home / the day before yesterday.

- Ans 1. He dropped out
 2. at his friend's house
 3. on his way home
 4. the day before yesterday

Question Type : MCQ
Question ID : 630680533287
Option 1 ID : 6306802084629
Option 2 ID : 6306802084630
Option 3 ID : 6306802084631
Option 4 ID : 6306802084632
Status : Answered
Chosen Option : 1

Q.18 Select the most appropriate option that can substitute the underlined segment in the given sentence.

Raghav, who studies tourism at present, is planning to go abroad after his graduation.

- Ans 1. studied
 2. is studying
 3. study
 4. will study

Question Type : MCQ
Question ID : 630680597050
Option 1 ID : 6306802336243
Option 2 ID : 6306802336241
Option 3 ID : 6306802336244
Option 4 ID : 6306802336242
Status : Answered
Chosen Option : 3

Q.19 Select the most appropriate option that can substitute the underlined segment in the sentence.

She was deeply effected by the news, to the point of tears.

- Ans 1. affected by
 2. effected from
 3. affect from
 4. affected of

Question Type : MCQ
Question ID : 630680539833
Option 1 ID : 6306802110434
Option 2 ID : 6306802110432
Option 3 ID : 6306802110433
Option 4 ID : 6306802110435
Status : Answered
Chosen Option : 2

Q.20 Select the most appropriate expression that can substitute the underlined word in the given sentence.

Sonali is contemplating whether to accept the offer from Saanvi or not; she is still not in a position to be able to arrive at a decision.

- Ans
- 1. blowing hot and cold
 - 2. getting her act together
 - 3. chewing the cud
 - 4. raising the eyebrows

Question Type : **MCQ**

Question ID : **630680166187**

Option 1 ID : **630680643721**

Option 2 ID : **630680643720**

Option 3 ID : **630680643723**

Option 4 ID : **630680643722**

Status : **Answered**

Chosen Option : **2**

Comprehension:

In the following passage, some words have been deleted. Read the passage carefully and select the most appropriate option to fill in each blank.

It was one January morning, very early — a pinching, frosty morning — the cove all grey
____ 1 ____ hoar-frost and the ripple lapping softly on the stones. The captain had ____
2 ____ earlier than usual and set out down the beach. Mother was upstairs with father and I
was ____ 3 ____ the breakfast table against the captain's return when the parlour door
opened and a man stepped in on whom I had never set my eyes before. He was a pale,
tallowy creature, wanting two fingers of the left hand, and ____ 4 ____ he wore a cutlass,
he did not look much like a fighter. I had always my eye open for seafaring ____ 5 ____
with one leg or two, and I remember this one puzzled me.

SubQuestion No : 21

Q.21 Select the most appropriate option to fill in blank number 1.

- Ans
- 1. about
 - 2. amongst
 - 3. with
 - 4. among

Question Type : **MCQ**

Question ID : **630680485860**

Option 1 ID : **6306801897647**

Option 2 ID : **6306801897650**

Option 3 ID : **6306801897648**

Option 4 ID : **6306801897649**

Status : **Not Answered**

Chosen Option : **--**

Comprehension:

In the following passage, some words have been deleted. Read the passage carefully and select the most appropriate option to fill in each blank.

It was one January morning, very early — a pinching, frosty morning — the cove all grey _____ 1 _____ hoar-frost and the ripple lapping softly on the stones. The captain had _____ 2 _____ earlier than usual and set out down the beach. Mother was upstairs with father and I was _____ 3 _____ the breakfast table against the captain's return when the parlour door opened and a man stepped in on whom I had never set my eyes before. He was a pale, tallowy creature, wanting two fingers of the left hand, and _____ 4 _____ he wore a cutlass, he did not look much like a fighter. I had always my eye open for seafaring _____ 5 _____ with one leg or two, and I remember this one puzzled me.

SubQuestion No : 22

Q.22 Select the most appropriate option to fill in blank number 2.

Ans 1. written

2. risen

3. danced

4. waltzed

Question Type : **MCQ**

Question ID : **630680485861**

Option 1 ID : **6306801897652**

Option 2 ID : **6306801897654**

Option 3 ID : **6306801897651**

Option 4 ID : **6306801897653**

Status : **Not Answered**

Chosen Option : --

Comprehension:

In the following passage, some words have been deleted. Read the passage carefully and select the most appropriate option to fill in each blank.

It was one January morning, very early — a pinching, frosty morning — the cove all grey _____ 1 _____ hoar-frost and the ripple lapping softly on the stones. The captain had _____ 2 _____ earlier than usual and set out down the beach. Mother was upstairs with father and I was _____ 3 _____ the breakfast table against the captain's return when the parlour door opened and a man stepped in on whom I had never set my eyes before. He was a pale, tallowy creature, wanting two fingers of the left hand, and _____ 4 _____ he wore a cutlass, he did not look much like a fighter. I had always my eye open for seafaring _____ 5 _____ with one leg or two, and I remember this one puzzled me.

SubQuestion No : 23

Q.23 Select the most appropriate option to fill in blank number 3.

Ans 1. playing

2. laying

3. lying

4. throwing

Question Type : **MCQ**

Question ID : **630680485862**

Option 1 ID : **6306801897657**

Option 2 ID : **6306801897655**

Option 3 ID : **6306801897656**

Option 4 ID : **6306801897658**

Status : **Not Answered**

Chosen Option : --

Comprehension:

In the following passage, some words have been deleted. Read the passage carefully and select the most appropriate option to fill in each blank.

It was one January morning, very early — a pinching, frosty morning — the cove all grey _____ 1 _____ hoar-frost and the ripple lapping softly on the stones. The captain had _____ 2 _____ earlier than usual and set out down the beach. Mother was upstairs with father and I was _____ 3 _____ the breakfast table against the captain's return when the parlour door opened and a man stepped in on whom I had never set my eyes before. He was a pale, tallowy creature, wanting two fingers of the left hand, and _____ 4 _____ he wore a cutlass, he did not look much like a fighter. I had always my eye open for seafaring _____ 5 _____ with one leg or two, and I remember this one puzzled me.

SubQuestion No : 24

Q.24 Select the most appropriate option to fill in blank number 4.

- Ans
- 1. throw
 - 2. through
 - 3. though
 - 4. threw

Question Type : **MCQ**

Question ID : **630680485863**

Option 1 ID : **6306801897659**

Option 2 ID : **6306801897662**

Option 3 ID : **6306801897660**

Option 4 ID : **6306801897661**

Status : **Not Answered**

Chosen Option : --

Comprehension:

In the following passage, some words have been deleted. Read the passage carefully and select the most appropriate option to fill in each blank.

It was one January morning, very early — a pinching, frosty morning — the cove all grey _____ 1 _____ hoar-frost and the ripple lapping softly on the stones. The captain had _____ 2 _____ earlier than usual and set out down the beach. Mother was upstairs with father and I was _____ 3 _____ the breakfast table against the captain's return when the parlour door opened and a man stepped in on whom I had never set my eyes before. He was a pale, tallowy creature, wanting two fingers of the left hand, and _____ 4 _____ he wore a cutlass, he did not look much like a fighter. I had always my eye open for seafaring _____ 5 _____ with one leg or two, and I remember this one puzzled me.

SubQuestion No : 25

Q.25 Select the most appropriate option to fill in blank number 5.

- Ans
- 1. men
 - 2. birds
 - 3. plants
 - 4. flowers

Question Type : **MCQ**

Question ID : **630680485864**

Option 1 ID : **6306801897666**

Option 2 ID : **6306801897663**

Option 3 ID : **6306801897664**

Option 4 ID : **6306801897665**

Status : **Not Answered**

Chosen Option : --