

## Multi Tasking Non Technical Staff and Havaladar CBIC and CBN Examination 2024

|                |  |
|----------------|--|
| Roll Number    |  |
| Candidate Name |  |
| Venue Name     | iON Digital Zone iDZ Dhanbad                         |
| Exam Date      | 01/10/2024   |
| Exam Time      | 12:30 PM - 2:30 PM                                   |
| Subject        | MTS Non Tech Havaladar CBIC and CBN Examination 2024 |

### Section : Numerical and Mathematical Ability

Q.1 यदि (A + B) का 4%, (A - B) के 28% के बराबर है, तो A : B ज्ञात कीजिए।

- Ans
- 1. 3 : 4
  - 2. 2 : 3
  - 3. 4 : 3
  - 4. 1 : 3

Question Type : MCQ

Question ID : 630680464490

Option 1 ID : 6306801813998

Option 2 ID : 6306801813996

Option 3 ID : 6306801813997

Option 4 ID : 6306801813995

Status : Answered

Chosen Option : 3

Q.2 725 मीटर लंबी एक रेलगाड़ी को 235 मीटर लंबी एक सुरंग को पार करने में 48 सेकंड लगते हैं। रेलगाड़ी की चाल ज्ञात कीजिए।

- Ans
- 1. 66 किलोमीटर/घंटा
  - 2. 82 किलोमीटर/घंटा
  - 3. 54 किलोमीटर/घंटा
  - 4. 72 किलोमीटर/घंटा

Question Type : MCQ

Question ID : 630680287406

Option 1 ID : 6306801117534

Option 2 ID : 6306801117532

Option 3 ID : 6306801117533

Option 4 ID : 6306801117531

Status : Answered

Chosen Option : 4

Q.3 एक कंपनी द्वारा तीन महीनों में निर्मित तीन अलग-अलग प्रकार की मोटर बाइक B1, B2 और B3 की संख्या निम्नांकित तालिका में दी गई है। दी गई तालिका का ध्यानपूर्वक अध्ययन कीजिए और निम्नलिखित प्रश्न का उत्तर दीजिए।

| मोटर बाइक / महीने | अक्टूबर | नवंबर | दिसंबर |
|-------------------|---------|-------|--------|
| B1                | 107     | 121   | 145    |
| B2                | 95      | 100   | 80     |
| B3                | 43      | 40    | 20     |

नवंबर महीने में कंपनी द्वारा निर्मित मोटर बाइकों की औसत संख्या कितनी है?

- Ans
- 1. 88
  - 2. 86
  - 3. 89
  - 4. 87

Question Type : MCQ

Question ID : 630680469187

Option 1 ID : 6306801832517

Option 2 ID : 6306801832515

Option 3 ID : 6306801832518

Option 4 ID : 6306801832516

Status : Answered

Chosen Option : 4

Q.4 20 महिलाओं के एक समूह का औसत वजन 58.5 kg परिकल्पित किया गया और बाद में यह पता चला कि उनमें से एक महिला का वजन 35 kg पढ़ लिया गया था, जबकि उसका वास्तविक वजन 65 kg था। 20 महिलाओं के समूह का वास्तविक औसत वजन कितना है?

- Ans
- 1. 60 kg
  - 2. 70 kg
  - 3. 50 kg
  - 4. 40 kg

Question Type : MCQ

Question ID : 630680466822

Option 1 ID : 6306801823266

Option 2 ID : 6306801823267

Option 3 ID : 6306801823265

Option 4 ID : 6306801823264

Status : Answered

Chosen Option : 1

Q.5 मनप्रीत दिवाली के अवसर पर अपने ग्राहकों को स्वेटर की बिक्री पर 12% और 8% की दो क्रमिक छूटें प्रदान करता है। मनप्रीत द्वारा प्रदान की गई समतुल्य एकल प्रतिशत छूट क्या है?

- Ans  1. 20.96%
2. 19.04%
3. 19.64%
4. 20.00%

Question Type : MCQ

Question ID : 630680468926

Option 1 ID : 6306801831471

Option 2 ID : 6306801831474

Option 3 ID : 6306801831473

Option 4 ID : 6306801831472

Status : Answered

Chosen Option : 2

Q.6 30 छात्रों की एक कक्षा एक परीक्षा में शामिल हुई। 12 छात्रों का औसत प्राप्तांक 80 है, और शेष छात्रों का औसत प्राप्तांक 70 है। कक्षा का औसत प्राप्तांक क्या है?

- Ans  1. 87
2. 67
3. 74
4. 77

Question Type : MCQ

Question ID : 630680233013

Option 1 ID : 630680904173

Option 2 ID : 630680904174

Option 3 ID : 630680904175

Option 4 ID : 630680904176

Status : Answered

Chosen Option : 3

Q.7 8 इकाई ऊँचाई और 3.5 इकाई त्रिज्या वाले एक ठोस बेलन को एक कागज़ की शीट से ढंका जाना है। यदि कागज़ की शीट की लागत ₹40 प्रति 5 वर्ग इकाई है, तो बेलन को ढँकने की लागत (₹ में) \_\_\_\_\_ होगी ( $\pi=22/7$  मानें)।

- Ans  1. 2024
2. 1012
3. 2268
4. 1664

Question Type : MCQ

Question ID : 630680386675

Option 1 ID : 6306801507413

Option 2 ID : 6306801507412

Option 3 ID : 6306801507410

Option 4 ID : 6306801507411

Status : Answered

Chosen Option : 1

Q.8 ₹19 में एक वस्तु को बेचकर, एक विक्रेता 20% का लाभ अर्जित करता है। उसे अपना विक्रय मूल्य (₹ में, दो दशमलव स्थान तक सन्निकटित) कितना बढ़ाना चाहिए, ताकि 40% का लाभ अर्जित कर सके?

- Ans
- 1. 4.17
  - 2. 5.17
  - 3. 3.17
  - 4. 6.17

Question Type : MCQ

Question ID : 630680632585

Option 1 ID : 6306802476239

Option 2 ID : 6306802476240

Option 3 ID : 6306802476238

Option 4 ID : 6306802476241

Status : Answered

Chosen Option : 3

Q.9 यदि एक बेलनाकार पाइप का वक्र पृष्ठीय क्षेत्रफल  $44,000 \text{ cm}^2$  है और इसका व्यास 5 cm है, तो इसकी लंबाई ज्ञात कीजिए।

$(\pi = \frac{22}{7})$  लीजिए)

- Ans
- 1. 19 m
  - 2. 28 m
  - 3. 14 m
  - 4. 24.5 m

Question Type : MCQ

Question ID : 630680566516

Option 1 ID : 6306802215117

Option 2 ID : 6306802215119

Option 3 ID : 6306802215116

Option 4 ID : 6306802215118

Status : Answered

Chosen Option : 3

Q.10 एक दुकानदार बिक्री पर 15% का लाभ कमाता है। यदि वह इसे Rs.18 अधिक में बेचता, तो वह 18% का लाभ कमाता। वस्तु का क्रय मूल्य \_\_\_\_\_ है।

- Ans
- 1. Rs.600
  - 2. Rs.550
  - 3. Rs.500
  - 4. Rs.650

Question Type : MCQ

Question ID : 630680107650

Option 1 ID : 630680417894

Option 2 ID : 630680417893

Option 3 ID : 630680417892

Option 4 ID : 630680417895

Status : Answered

Chosen Option : 1

Q.11 5 वर्षों के लिए 4% वार्षिक की ब्याज दर पर उधार ली गई राशि ₹2500 पर साधारण ब्याज (₹ में) ज्ञात कीजिए।

Ans  1. 500

2. 440

3. 540

4. 460

Question Type : MCQ

Question ID : 630680591896

Option 1 ID : 6306802316051

Option 2 ID : 6306802316053

Option 3 ID : 6306802316052

Option 4 ID : 6306802316054

Status : Answered

Chosen Option : 1

Q.12 एक दुकानदार के पास 5000 kg बासमती चावल हैं। वह इस बासमती चावल का कुछ भाग 20% के लाभ पर और शेष चावल 35% के लाभ पर बेच देता है। उसे पूरे लेन-देन में 29% का लाभ होता है। क्रमशः 20% लाभ और 35% लाभ पर बेची गई मात्रा क्या है?

Ans  1. 1800 kg, 3200 kg

2. 2600 kg, 2400 kg

3. 2200 kg, 2800 kg

4. 2000 kg, 3000 kg

Question Type : MCQ

Question ID : 630680268306

Option 1 ID : 6306801042576

Option 2 ID : 6306801042575

Option 3 ID : 6306801042577

Option 4 ID : 6306801042578

Status : Answered

Chosen Option : 4

Q.13 सुनील, बासिद, विक्रम और कुलदीप को 3 : 7 : 8 : 13 के अनुपात में वेतन मिलता है। यदि सुनील और बासिद के वेतन के बीच का अंतर ₹2,000 है, तो विक्रम और कुलदीप के वेतन (₹ में) के बीच कितना अंतर है?

Ans  1. 2,500

2. 2,200

3. 2,400

4. 2,000

Question Type : MCQ

Question ID : 630680498702

Option 1 ID : 6306801948487

Option 2 ID : 6306801948485

Option 3 ID : 6306801948486

Option 4 ID : 6306801948484

Status : Answered

Chosen Option : 1

Q.14 एक व्यक्ति ने एक बैंक में ₹2,500 जमा किए, जो उसे 8% की दर से साधारण ब्याज देता है। उसने पहले वर्ष के अंत में ₹1,000 (राशि में से) निकाल लिए। 4 वर्ष बाद उसका बैलेंस (शेष) क्या होगा?

- Ans
- 1. ₹2,280
  - 2. ₹2,480
  - 3. ₹2,108
  - 4. ₹2,018

Question Type : MCQ

Question ID : 630680404052

Option 1 ID : 6306801575696

Option 2 ID : 6306801575697

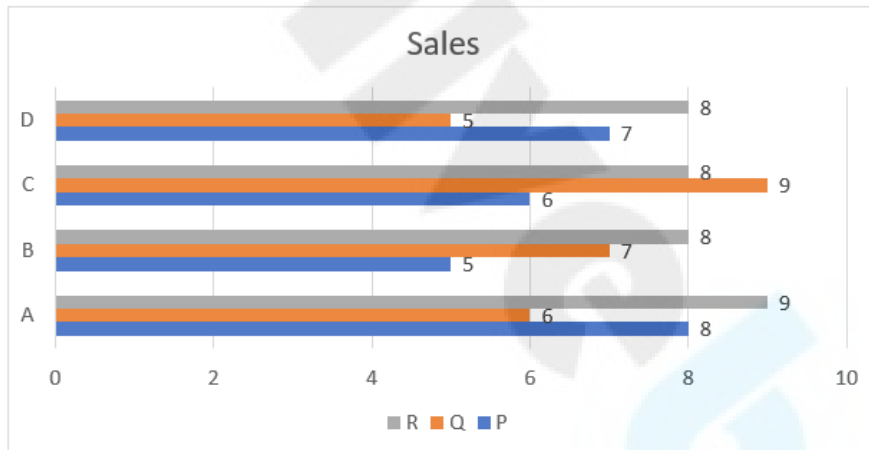
Option 3 ID : 6306801575694

Option 4 ID : 6306801575695

Status : Not Answered

Chosen Option : --

Q.15 दिए गए ग्राफ का अध्ययन कीजिए और उसके बाद पूछे जाने वाले प्रश्न का उत्तर दीजिए।  
ग्राफ चार कंपनियों: A, B, C और D द्वारा की जाने वाली तीन उत्पादों: P, Q और R की बिक्री दर्शाता है।



संदर्भ: Sales – बिक्री

R की कुल बिक्री, P की कुल बिक्री से कितने प्रतिशत अधिक है (दशमलव के एक स्थान तक पूर्णांकित)?

- Ans
- 1. 26.2%
  - 2. 26.9%
  - 3. 22.9%
  - 4. 29.6%

Question Type : MCQ

Question ID : 630680523799

Option 1 ID : 6306802047350

Option 2 ID : 6306802047349

Option 3 ID : 6306802047348

Option 4 ID : 6306802047347

Status : Answered

Chosen Option : 2

Q.16 यदि ₹7.50 प्रति किलोग्राम कीमत वाली चाय को ₹10.50 प्रति किलोग्राम कीमत वाली चाय के साथ 2 : 1 के अनुपात में मिलाया जाता है, तो परिणामी मिश्रण की प्रति किलोग्राम कीमत (₹ में) क्या होगी?

Ans  1. 8.50

2. 7.00

3. 9.00

4. 7.50

Question Type : MCQ

Question ID : 630680404671

Option 1 ID : 6306801578160

Option 2 ID : 6306801578159

Option 3 ID : 6306801578162

Option 4 ID : 6306801578161

Status : Answered

Chosen Option : 1

Q.17 एक अर्धगोलाकार कटोरे की त्रिज्या 7.7 cm है। इसे अंदर के साथ-साथ बाहर से भी रंगना है। ₹17 प्रति 7 cm<sup>2</sup> की दर से कटोरे को रंगने की लागत (₹ में) ज्ञात कीजिए। [ $\pi = \frac{22}{7}$  लीजिए]

Ans  1. 745.36

2. 1025.24

3. 1620.35

4. 1810.16

Question Type : MCQ

Question ID : 630680380369

Option 1 ID : 6306801482471

Option 2 ID : 6306801482473

Option 3 ID : 6306801482474

Option 4 ID : 6306801482472

Status : Answered

Chosen Option : 3

Q.18 4 वर्षों के लिए 4% वार्षिक की ब्याज दर पर उधार ली गई राशि ₹2500 पर साधारण ब्याज (₹ में) ज्ञात कीजिए।

Ans  1. 360

2. 340

3. 400

4. 440

Question Type : MCQ

Question ID : 630680591895

Option 1 ID : 6306802316050

Option 2 ID : 6306802316049

Option 3 ID : 6306802316047

Option 4 ID : 6306802316048

Status : Answered

Chosen Option : 3

Q.19 24, 36 और 60 का एचसीएफ (HCF) ज्ञात कीजिए।

Ans  1. 360

2. 12

3. 6

4. 4

Question Type : MCQ

Question ID : 630680105365

Option 1 ID : 630680409534

Option 2 ID : 630680409533

Option 3 ID : 630680409532

Option 4 ID : 630680409531

Status : Answered

Chosen Option : 2

Q.20 60 km/h की चाल से चल रही एक रेलगाड़ी स्टेशन A से 7:00 a.m पर निकलती है और 84 km/h की चाल से चल रही एक दूसरी रेलगाड़ी स्टेशन A से 9:30 a.m पर उसी दिशा में समानांतर पटरियों पर चलना शुरू करती है। स्टेशन A से कितनी दूरी (km में) पर और दूसरी रेलगाड़ी के कितने घंटे की यात्रा के बाद वे दोनों रेलगाड़ियां एक साथ होंगी? अपना उत्तर इसी क्रम में व्यक्त कीजिए।

Ans  1. 375, 6.25

2. 495, 8.25

3. 525, 6.25

4. 693, 8.25

Question Type : MCQ

Question ID : 630680136358

Option 1 ID : 630680528078

Option 2 ID : 630680528081

Option 3 ID : 630680528079

Option 4 ID : 630680528080

Status : Answered

Chosen Option : 3

Section : Reasoning Ability and Problem Solving

Q.1 दी गई श्रृंखला में प्रश्न चिह्न (?) के स्थान पर क्या आना चाहिए?

10, 22, 46, 94, 190, ?

Ans  1. 387

2. 382

3. 385

4. 389

Question Type : MCQ

Question ID : 630680402524

Option 1 ID : 6306801569655

Option 2 ID : 6306801569658

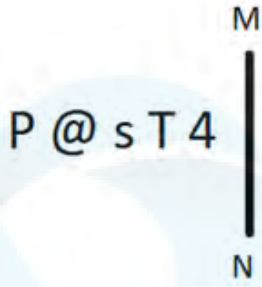
Option 3 ID : 6306801569656

Option 4 ID : 6306801569657

Status : Answered

Chosen Option : 2

Q.2 दी गई आकृति के उस सही दर्पण प्रतिबिंब को चुनिए, जो नीचे दर्शाए गए अनुसार दर्पण को MN पर रखने पर बनेगा।



Ans

✓ 1. P T s @ 4

✗ 2. P T s P @

✗ 3. P s T @ 4

✗ 4. P T s @ 4

Question Type : MCQ

Question ID : 630680525235

Option 1 ID : 6306802053025

Option 2 ID : 6306802053024

Option 3 ID : 6306802053026

Option 4 ID : 6306802053027

Status : Answered

Chosen Option : 1

Q.3 एक निश्चित कूट भाषा में, 'BRIGHT' को '371562' के रूप में कूटबद्ध किया जाता है और 'GIRTHS' को '653782' के रूप में कूटबद्ध किया जाता है। 'BRIGHT' में 'B' के लिए कूट क्या होगा?

Ans

✓ 1. 1

✗ 2. 7

✗ 3. 2

✗ 4. 8

Question Type : MCQ

Question ID : 630680876478

Option 1 ID : 6306803432675

Option 2 ID : 6306803432678

Option 3 ID : 6306803432677

Option 4 ID : 6306803432676

Status : Answered

Chosen Option : 1

Q.4 दी गई श्रृंखला को तार्किक रूप से पूरा करने के लिए निम्नलिखित में से कौन-सा अक्षर-समूह प्रश्न चिह्न (?) के स्थान पर आएगा?

EMU, DNT, COS, BPR, ?

Ans  1. UBO

2. AQQ

3. BST

4. FCD

Question Type : MCQ

Question ID : 630680261996

Option 1 ID : 6306801017640

Option 2 ID : 6306801017641

Option 3 ID : 6306801017639

Option 4 ID : 6306801017642

Status : Answered

Chosen Option : 2

Q.5 MJHI, TQOP से एक निश्चित प्रकार से संबंधित है। उसी प्रकार, GDBC, NKIJ से संबंधित है। समान तर्क का अनुसरण करते हुए XUST निम्नलिखित में से किससे संबंधित है?

Ans  1. BZAC

2. EBZA

3. DABZ

4. EABZ

Question Type : MCQ

Question ID : 630680438835

Option 1 ID : 6306801713153

Option 2 ID : 6306801713152

Option 3 ID : 6306801713154

Option 4 ID : 6306801713155

Status : Answered

Chosen Option : 2

Q.6 CE 77 एक निश्चित प्रकार से IK 87 से संबंधित है। उसी प्रकार GJ 52, MP 62 से संबंधित है। समान तर्क का अनुसरण करते हुए BG 43 निम्नलिखित में से किससे संबंधित है?

Ans  1. WZ 20

2. XY 35

3. NZ 30

4. HM 53

Question Type : MCQ

Question ID : 630680436089

Option 1 ID : 6306801702298

Option 2 ID : 6306801702299

Option 3 ID : 6306801702300

Option 4 ID : 6306801702297

Status : Answered

Chosen Option : 4

Q.7 दिए गए कथनों और निष्कर्षों को ध्यानपूर्वक पढ़िए। यह मानते हुए कि कथनों में दी गई जानकारी सत्य है, चाहे वह सामान्यतः ज्ञात तथ्यों से भिन्न प्रतीत होती हो और निर्णय लीजिए कि दिए गए निष्कर्षों में से कौन-सा/कौन-से निष्कर्ष कथनों का तार्किक रूप से अनुसरण करता है/करते हैं।

कथन:

सभी शर्ट, ट्राउजर हैं।  
कोई ट्राउजर, बेल्ट नहीं है।

निष्कर्ष:

(I) कोई शर्ट, बेल्ट नहीं है।  
(II) कुछ बेल्ट, ट्राउजर हो सकते हैं।

- Ans
- 1. न तो निष्कर्ष (I) और न ही निष्कर्ष (II) अनुसरण करता है
  - 2. केवल निष्कर्ष (I) अनुसरण करता है
  - 3. केवल निष्कर्ष (II) अनुसरण करता है
  - 4. दोनों निष्कर्ष (I) और (II) अनुसरण करते हैं

Question Type : MCQ

Question ID : 630680815664

Option 1 ID : 6306803195960

Option 2 ID : 6306803195957

Option 3 ID : 6306803195958

Option 4 ID : 6306803195959

Status : Answered

Chosen Option : 4

Q.8 निम्नलिखित समीकरण में '?' के स्थान पर क्या आएगा, यदि '+' और 'x' को आपस में बदल दिया जाए तथा '-' और '÷' को आपस में बदल दिया जाए?  
 $17 + 77 - 7 \times 37 \div 47 = ?$

- Ans
- 1. 187
  - 2. 157
  - 3. 167
  - 4. 177

Question Type : MCQ

Question ID : 630680388338

Option 1 ID : 6306801513873

Option 2 ID : 6306801513870

Option 3 ID : 6306801513871

Option 4 ID : 6306801513872

Status : Answered

Chosen Option : 4

Q.9 एक निश्चित कूट भाषा में, 'VOLT' को '3517' के रूप में कूटबद्ध किया जाता है और 'TURN' को '2348' के रूप में कूटबद्ध किया जाता है। उस भाषा में 'T' के लिए कूट क्या है?

Ans  1.3

2.7

3.8

4.2

Question Type : MCQ

Question ID : 630680449949

Option 1 ID : 6306801756966

Option 2 ID : 6306801756968

Option 3 ID : 6306801756969

Option 4 ID : 6306801756967

Status : Answered

Chosen Option : 2

Q.10 दिए गए विकल्पों में से उस आकृति को चुनिए जो निम्नलिखित श्रृंखला में प्रश्न चिह्न (?) के स्थान पर आ सकती है और पैटर्न को पूरा कर सकती है।

|   |   |   |   |   |   |   |   |   |   |   |   |   |
|---|---|---|---|---|---|---|---|---|---|---|---|---|
| T | A | S | ♡ | 9 | 0 | 0 | ♡ | 9 | S | V | T |   |
|   | 9 |   |   | A |   |   | V |   |   | ♡ |   | ? |
| 0 |   | ♡ | S |   | T | T |   | S | 9 |   | 0 |   |

Ans

✗ 1.

|   |   |   |
|---|---|---|
| V | T | 0 |
|   | △ |   |
| S |   | 9 |

✗ 2.

|   |   |   |
|---|---|---|
| 9 | S | V |
|   | △ |   |
| 0 |   | T |

✓ 3.

|   |   |   |
|---|---|---|
| T | S | V |
|   | △ |   |
| 0 |   | 9 |

✗ 4.

|   |   |   |
|---|---|---|
| V | T | S |
|   | 9 |   |
| 0 |   | ♡ |

Question Type : MCQ

Question ID : 630680441100

Option 1 ID : 6306801722056

Option 2 ID : 6306801722057

Option 3 ID : 6306801722054

Option 4 ID : 6306801722055

Status : Answered

Chosen Option : 3

Q.11 सात लोग R, S, T, D, E, F और G एक वृत्ताकार मेज के चारों ओर केंद्र की ओर मुख करके बैठे हैं (परंतु जरूरी नहीं कि वे इसी क्रम में बैठे हों)। T, G के ठीक दाएँ बैठा है। R, E के ठीक दाएँ बैठा है। S के दाएँ से गिनती करने पर D और S के बीच में केवल दो लोग बैठे हैं। E, S का एक निकटतम पड़ोसी है। यदि F, S का एक निकटतम पड़ोसी नहीं है, तो F के बाएँ से तीसरे स्थान पर कौन बैठा है?

Ans  1. T

2. E

3. R

4. S

Question Type : MCQ

Question ID : 630680378839

Option 1 ID : 6306801476405

Option 2 ID : 6306801476406

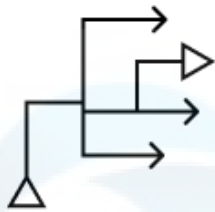
Option 3 ID : 6306801476403

Option 4 ID : 6306801476404

Status : Not Attempted and  
Marked For Review

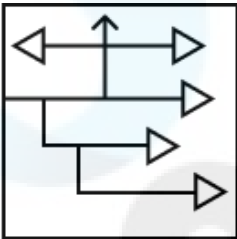
Chosen Option : --

Q.12 उस विकल्प आकृति का चयन कीजिए, जिसमें दी गई आकृति उसके भाग के रूप में सन्निहित है (घुमाने की अनुमति नहीं है)।

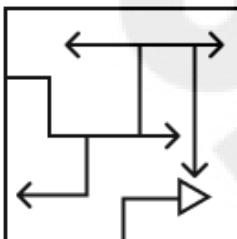


Ans

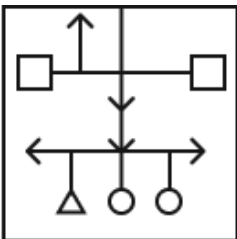
✗ 1.



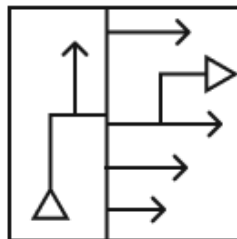
✗ 2.



✗ 3.



✓ 4.



Question Type : MCQ

Question ID : 630680487081

Option 1 ID : 6306801902476

Option 2 ID : 6306801902474

Option 3 ID : 6306801902477

Option 4 ID : 6306801902475

Status : Answered

Chosen Option : 4

Q.13 किसी निश्चित कूट भाषा में 'BORDER' को 'OBDRE' के रूप में कूटबद्ध किया जाता है और 'BEYOND' को 'EBOYDN' के रूप में कूटबद्ध किया जाता है। उसी भाषा में 'BURDEN' को किस प्रकार कूटबद्ध किया जाएगा?

- Ans
- 1. UBDREN
  - 2. NEDRUB
  - 3. UBRDNE
  - 4. UBDRNE

Question Type : MCQ

Question ID : 630680465303

Option 1 ID : 6306801817248

Option 2 ID : 6306801817247

Option 3 ID : 6306801817249

Option 4 ID : 6306801817250

Status : Answered

Chosen Option : 4

Q.14 दिए गए कथन और निष्कर्षों को ध्यान से पढ़िए। यह मानते हुए कि कथन में दी गई जानकारी सत्य है, चाहे वह सामान्य रूप से ज्ञात तथ्यों से भिन्न प्रतीत होती हो, निर्धारित कीजिए कि दिए गए निष्कर्षों में से कौन-सा, कथन (कथनों) का तार्किक रूप से अनुसरण करता है/करते हैं।

कथन:

कुछ व्हेल, शार्क हैं।  
कोई शार्क, डॉल्फिन नहीं है।

निष्कर्ष:

- (I) कोई डॉल्फिन, शार्क नहीं है।
- (II) कुछ शार्क, व्हेल हैं।

- Ans
- 1. न तो निष्कर्ष I और न ही II अनुसरण करता है।
  - 2. केवल निष्कर्ष I अनुसरण करता है।
  - 3. निष्कर्ष I और II दोनों अनुसरण करते हैं।
  - 4. केवल निष्कर्ष II अनुसरण करता है।

Question Type : MCQ

Question ID : 630680832787

Option 1 ID : 6306803262128

Option 2 ID : 6306803262126

Option 3 ID : 6306803262125

Option 4 ID : 6306803262127

Status : Answered

Chosen Option : 3

Q.15 किसी निश्चित कूट भाषा में, 'make some noise' को 'ja sp ko' लिखा जाता है और 'noise is painful' को 'la ma sp' लिखा जाता है। इसी भाषा में 'noise' को कैसे लिखा जाएगा?

- Ans  1. ko  
 2. sp  
 3. la  
 4. ma

Question Type : MCQ

Question ID : 630680419477

Option 1 ID : 6306801636562

Option 2 ID : 6306801636563

Option 3 ID : 6306801636560

Option 4 ID : 6306801636561

Status : Answered

Chosen Option : 3

Q.16 छः मित्र एक वृत्ताकार मेज पर उसके केंद्र की ओर मुख करके बैठे हैं (परंतु जरूरी नहीं कि वे इसी क्रम में बैठे हों)। X, Z के ठीक बाईं ओर बैठा है और W, Y के ठीक दाईं ओर बैठा है। Z और U के बीच में केवल एक मित्र बैठा है। W, U का निकटतम पड़ोसी है। Z और Y के बीच में केवल V बैठा है। निम्नलिखित में से कौन U के निकटतम पड़ोसी है?

- Ans  1. W और Y  
 2. W और V  
 3. Z और Y  
 4. X और W

Question Type : MCQ

Question ID : 630680381527

Option 1 ID : 6306801487042

Option 2 ID : 6306801487039

Option 3 ID : 6306801487041

Option 4 ID : 6306801487040

Status : Answered

Chosen Option : 4

Q.17 निम्नलिखित संख्या-युग्मों में, प्रथम संख्या पर कुछ गणितीय संक्रियाएँ करके दूसरी संख्या प्राप्त की गई है। उस समुच्चय का चयन कीजिए जिसमें संख्याएँ ठीक उसी प्रकार से संबंधित हैं जिस प्रकार निम्नलिखित समुच्चयों की संख्याएँ संबंधित हैं।

(ध्यान दें: संख्याओं को उनके घटक अंकों में अलग-अलग किए बिना पूर्ण संख्याओं पर संक्रियाएँ की जानी चाहिए। उदाहरण के लिए संख्या 13 - संख्या 13 पर संक्रियाएँ जैसे 13 को जोड़ना/घटाना/गुणा करना आदि किया जा सकता है। 13 को 1 और 3 में अलग-अलग करने की और फिर 1 और 3 पर गणितीय संक्रियाएँ करने की अनुमति नहीं है।)

8, 30  
12, 46

Ans  1. 16, 62

2. 15, 62

3. 15, 61

4. 16, 61

Question Type : MCQ

Question ID : 6306801027615

Option 1 ID : 6306804033145

Option 2 ID : 6306804033147

Option 3 ID : 6306804033148

Option 4 ID : 6306804033146

Status : Answered

Chosen Option : 1

Q.18 यदि '+' और '-' को आपस में बदल दिया जाए तथा 'x' और '÷' को आपस में बदल दिया जाए, तो निम्नलिखित समीकरण में प्रश्न चिह्न (?) के स्थान पर क्या आएगा?

$$456 \times 4 - 3 \div 11 + 70 = ?$$

Ans  1. 77

2. 84

3. 87

4. 79

Question Type : MCQ

Question ID : 630680401369

Option 1 ID : 6306801565262

Option 2 ID : 6306801565264

Option 3 ID : 6306801565265

Option 4 ID : 6306801565263

Status : Answered

Chosen Option : 1

Q.19 10, किसी निश्चित तर्क का अनुसरण करते हुए 75 से संबंधित है। 6, समान तर्क का अनुसरण करते हुए 47 से संबंधित है। समान तर्क का अनुसरण करते हुए 15, निम्नलिखित में से किससे संबंधित है?

(ध्यान दें: संख्याओं को उनके घटक अंकों में अलग-अलग किए बिना पूर्ण संख्याओं पर संक्रियाएं की जानी चाहिए। उदाहरण के लिए संख्या 13 - संख्या 13 पर संक्रियाएं जैसे 13 को जोड़ना/घटाना/गुणा करना आदि किया जा सकता है। 13 को 1 और 3 में अलग-अलग करने की और फिर 1 और 3 पर गणितीय संक्रियाएं करने की अनुमति नहीं है।)

Ans  1. 110

2. 123

3. 164

4. 156

Question Type : **MCQ**

Question ID : **630680450184**

Option 1 ID : **6306801757883**

Option 2 ID : **6306801757884**

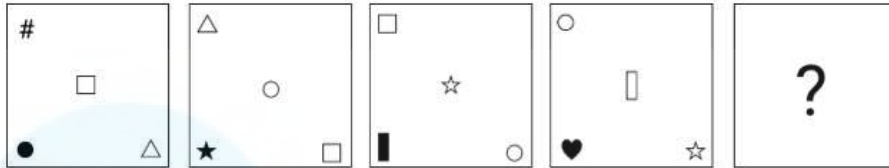
Option 3 ID : **6306801757885**

Option 4 ID : **6306801757886**

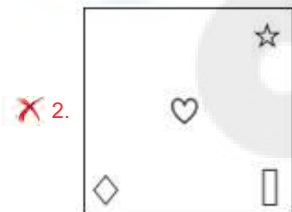
Status : **Answered**

Chosen Option : **1**

Q.20 विकल्पों में दी गई उस आकृति की पहचान कीजिए, जिसे (?) के स्थान पर रखने पर शृंखला तार्किक रूप से पूर्ण हो जाएगी।



Ans



Question Type : MCQ

Question ID : 630680525332

Option 1 ID : 6306802053415

Option 2 ID : 6306802053412

Option 3 ID : 6306802053414

Option 4 ID : 6306802053413

Status : Answered

Chosen Option : 4

Section : General Awareness

Q.1 कवल वन्यजीव अभयारण्य (Kawal Wildlife Sanctuary) किस राज्य में स्थित है?

Ans  1. तेलंगाना

2. महाराष्ट्र

3. ओडिशा

4. गुजरात

Question Type : MCQ

Question ID : 630680402522

Option 1 ID : 6306801569648

Option 2 ID : 6306801569649

Option 3 ID : 6306801569650

Option 4 ID : 6306801569647

Status : Not Answered

Chosen Option : --

Q.2 राष्ट्रीय बहुआयामी गरीबी सूचकांक 2021 के अनुसार, किस केंद्र शासित प्रदेश में गरीबों का अनुपात सबसे कम है?

Ans  1. लक्षद्वीप

2. चंडीगढ़

3. पुदुचेरी

4. दिल्ली

Question Type : MCQ

Question ID : 630680404245

Option 1 ID : 6306801576484

Option 2 ID : 6306801576485

Option 3 ID : 6306801576483

Option 4 ID : 6306801576482

Status : Answered

Chosen Option : 4

Q.3 भारतीय संविधान के अनुच्छेद 51A के अनुसार, मौलिक कर्तव्य (h) \_\_\_\_\_, मानववाद और ज्ञानार्जन तथा सुधार की भावना को विकसित करना है।

Ans  1. वैज्ञानिक दृष्टिकोण

2. धार्मिक दृष्टिकोण

3. सांस्कृतिक दृष्टिकोण

4. समाजशास्त्रीय दृष्टिकोण

Question Type : MCQ

Question ID : 630680406176

Option 1 ID : 6306801583790

Option 2 ID : 6306801583791

Option 3 ID : 6306801583788

Option 4 ID : 6306801583789

Status : Answered

Chosen Option : 4

Q.4 मणिपुरी शैली के किस भारतीय नर्तक/नर्तकी ने 2014 में सांस्कृतिक सद्भाव के लिए टैगोर पुरस्कार (Tagore Award for Cultural Harmony) जीता?

- Ans
- 1. एलम एंदिरा देवी (Elam Endira Devi)
  - 2. गुरु बिपिन सिन्हा (Guru Bipin Sinha)
  - 3. निर्मला मेहता (Nirmala Mehta)
  - 4. राजकुमार सिंघजीत सिंह (Rajkumar Singhajit Singh)

Question Type : MCQ

Question ID : 630680433371

Option 1 ID : 6306801691452

Option 2 ID : 6306801691453

Option 3 ID : 6306801691454

Option 4 ID : 6306801691451

Status : Answered

Chosen Option : 2

Q.5 नदी विभाजन (river bifurcation) जैसी प्रक्रिया पर्यावरण के लिए मूल्यवान स्थलाकृतियाँ (landforms) बना सकती है, जो वनस्पति के विकास में सहायता करती हैं। ऐसी स्थलाकृति का एक उदाहरण \_\_\_\_\_ है।

- Ans
- 1. कैस्केड
  - 2. जलज गर्तिका
  - 3. V-नुमा घाटियाँ
  - 4. नदी डेल्टा

Question Type : MCQ

Question ID : 630680455438

Option 1 ID : 6306801778667

Option 2 ID : 6306801778668

Option 3 ID : 6306801778669

Option 4 ID : 6306801778666

Status : Answered

Chosen Option : 4

Q.6 2023 में भारत में इंटरकॉन्टिनेंटल कप प्रतियोगिता (Intercontinental Cup event) का कौन-सा संस्करण खेला गया?

- Ans
- 1. तीसरा (3<sup>rd</sup>)
  - 2. दसवां (10<sup>th</sup>)
  - 3. पहला (1<sup>st</sup>)
  - 4. पाँचवाँ (5<sup>th</sup>)

Question Type : MCQ

Question ID : 630680571845

Option 1 ID : 6306802236279

Option 2 ID : 6306802236276

Option 3 ID : 6306802236278

Option 4 ID : 6306802236277

Status : Not Answered

Chosen Option : --

Q.7 प्रसिद्ध कलाकार सितारा देवी, रोहिणी भाटे, पंडित मुन्ना लाल शुक्ला, कुमुदिनी लाखिया और उमा शर्मा द्वारा कौन-सी शास्त्रीय नृत्य शैली प्रस्तुत की जाती है?

- Ans
- 1. ओडिसी
  - 2. भरतनाट्यम्
  - 3. कुचिपुड़ी
  - 4. कथक

Question Type : MCQ

Question ID : 630680554370

Option 1 ID : 6306802167336

Option 2 ID : 6306802167335

Option 3 ID : 6306802167337

Option 4 ID : 6306802167334

Status : Answered

Chosen Option : 3

Q.8 गैर-ध्रुवीय (Non-polar) अणुओं में \_\_\_\_\_ होता है।

- Ans
- 1. आंशिक आवेश
  - 2. कोई भी द्विध्रुव आघूर्ण नहीं
  - 3. तात्क्षणिक द्विध्रुव आघूर्ण
  - 4. स्थायी द्विध्रुव आघूर्ण

Question Type : MCQ

Question ID : 630680470731

Option 1 ID : 6306801838698

Option 2 ID : 6306801838696

Option 3 ID : 6306801838695

Option 4 ID : 6306801838697

Status : Answered

Chosen Option : 2

Q.9 सूक्ष्म वित्त (microfinance) के संदर्भ में SHG में 'S' क्या दर्शाता है?

- Ans
- 1. Social (सोशल)
  - 2. Sustainable (सस्टेनेबल)
  - 3. Steady (स्टीडी)
  - 4. Self (सेल्फ)

Question Type : MCQ

Question ID : 630680303692

Option 1 ID : 6306801181337

Option 2 ID : 6306801181338

Option 3 ID : 6306801181340

Option 4 ID : 6306801181339

Status : Answered

Chosen Option : 1

Q.10 किन शताब्दियों के दौरान कई बौद्ध तीर्थयात्रियों और विद्वानों ने ऐतिहासिक 'सिल्क रूट (silk route)' पर चीन की यात्रा की?

- Ans  1. पहली, दूसरी और तीसरी शताब्दी ईस्वी  
 2. चौथी और पाँचवीं शताब्दी ईस्वी  
 3. छठी और सातवीं शताब्दी ईस्वी  
 4. आठवीं और नौवीं शताब्दी ईस्वी

Question Type : MCQ

Question ID : 630680488704

Option 1 ID : 6306801908831

Option 2 ID : 6306801908830

Option 3 ID : 6306801908833

Option 4 ID : 6306801908832

Status : Not Answered

Chosen Option : --

Q.11 जवाहरलाल नेहरू की अध्यक्षता में अखिल बंगाल छात्र सम्मेलन (All Bengal Students Conference) कब आयोजित किया गया था?

- Ans  1. 1939  
 2. 1920  
 3. 1928  
 4. 1934

Question Type : MCQ

Question ID : 630680146027

Option 1 ID : 630680565007

Option 2 ID : 630680565006

Option 3 ID : 630680565008

Option 4 ID : 630680565009

Status : Answered

Chosen Option : 2

Q.12 आर्यों का सबसे प्रिय देवता निम्नलिखित में से कौन था?

- Ans  1. पशुपतिनाथ  
 2. मरुत  
 3. अग्नि  
 4. इंद्र

Question Type : MCQ

Question ID : 630680649146

Option 1 ID : 6306802541746

Option 2 ID : 6306802541745

Option 3 ID : 6306802541743

Option 4 ID : 6306802541744

Status : Answered

Chosen Option : 3

Q.13 हड़प्पा नगर नियोजन के संबंध निम्नलिखित में से कौन-सा/कौन-से कथन असत्य है/हैं?

1. हड़प्पा सभ्यता में प्रत्येक नगर में एक गढ़ (citadel) होता था।
2. हड़प्पा सभ्यता में प्रत्येक नगर में एक मंदिर होता था।
3. हड़प्पा सभ्यता में हर इमारत बलुआ पत्थर (sand stone) से बनी होती थी।

Ans  1. केवल 1

2. 2 और 3 दोनों

3. 1 और 2 दोनों

4. 1 और 3 दोनों

Question Type : MCQ

Question ID : 630680148315

Option 1 ID : 630680573935

Option 2 ID : 630680573933

Option 3 ID : 630680573932

Option 4 ID : 630680573934

Status : Answered

Chosen Option : 3

Q.14 \_\_\_\_\_ ऐसे अग्रणी (pioneer) थे, जिन्होंने शास्त्रीय राग वादन के लिए हवाईयन स्लाइड गिटार (Hawaiian slide guitar) में बदलाव किया था।

Ans  1. बृज भूषण काबरा (Brij Bhushan Kabra)

2. कृष्णा राम चौधरी (Krishna Ram Chaudhary)

3. बुद्धदेव दासगुप्ता (Buddhadev Dasgupta)

4. पालघट रघु (Palghat Raghu)

Question Type : MCQ

Question ID : 630680481948

Option 1 ID : 6306801882287

Option 2 ID : 6306801882286

Option 3 ID : 6306801882285

Option 4 ID : 6306801882284

Status : Not Answered

Chosen Option : --

Q.15 'भोगाली बिहू (Bhogali Bihu)' त्योहार किस राज्य में मनाया जाता है?

Ans  1. गुजरात

2. झारखंड

3. छत्तीसगढ़

4. असम

Question Type : MCQ

Question ID : 630680449844

Option 1 ID : 6306801756545

Option 2 ID : 6306801756546

Option 3 ID : 6306801756543

Option 4 ID : 6306801756544

Status : Answered

Chosen Option : 4

Q.16 1824 का रामोसी विद्रोह (Ramoshi Uprising) भारत के निम्नलिखित में से किस वर्तमान राज्य में हुआ था?

- Ans  1. महाराष्ट्र  
 2. उत्तर प्रदेश  
 3. तमिलनाडु  
 4. पश्चिम बंगाल

Question Type : MCQ  
Question ID : 630680270066  
Option 1 ID : 6306801049517  
Option 2 ID : 6306801049515  
Option 3 ID : 6306801049518  
Option 4 ID : 6306801049516  
Status : Answered  
Chosen Option : 2

Q.17 भारत में फॉर्मूला E की सबसे पहली रेस का नाम क्या है, जिसे तेलंगाना सरकार के सहयोग से आयोजित किया गया था?

- Ans  1. 2023 महिंद्रा बेंगलुरु ई-प्रिक्स (The 2023 Mahindra Bangalore E-Prix)  
 2. 2023 महिंद्रा मुंबई ई-प्रिक्स (The 2023 Mahindra Mumbai E-Prix)  
 3. 2023 ग्रीनको बुद्धा सर्किट ई-प्रिक्स (The 2023 Greenko Buddha Circuit E-Prix)  
 4. 2023 ग्रीनको हैदराबाद ई-प्रिक्स (The 2023 Greenko Hyderabad E-Prix)

Question Type : MCQ  
Question ID : 630680546957  
Option 1 ID : 6306802138390  
Option 2 ID : 6306802138389  
Option 3 ID : 6306802138388  
Option 4 ID : 6306802138387  
Status : Answered  
Chosen Option : 2

Q.18 अक्टूबर 2023 में, महाराष्ट्र सरकार ने नांदेड़ (Nanded) में 38 मरीजों की मौत के बाद अपनी चिकित्सा प्रणाली में सुधार के लिए निम्नलिखित में से किस स्कीम की योजना बनाई?

- Ans  1. विज्ञान 2035  
 2. सहकार मित्र  
 3. आयुष्मान महाराष्ट्र  
 4. आरोग्य मिशन

Question Type : MCQ  
Question ID : 630680481202  
Option 1 ID : 6306801879376  
Option 2 ID : 6306801879379  
Option 3 ID : 6306801879378  
Option 4 ID : 6306801879377  
Status : Answered  
Chosen Option : 3

Q.19 दिए गए विकल्पों में से कृत्रिम सूचक (synthetic indicator) का चयन कीजिए।

- Ans  1. हल्दी (Turmeric)  
 2. लिटमस विलयन (Litmus solution)  
 3. मेथिल ऑरेंज (Methyl orange)  
 4. गोभी का रस (Cabbage juice)

Question Type : MCQ

Question ID : 63068078586

Option 1 ID : 630680304395

Option 2 ID : 630680304393

Option 3 ID : 630680304394

Option 4 ID : 630680304396

Status : Answered

Chosen Option : 3

Q.20 भारत के संविधान का कौन-सा अनुच्छेद विशेष रूप से राष्ट्रपति पद के लिए योग्यताओं से संबंधित है?

- Ans  1. अनुच्छेद 60  
 2. अनुच्छेद 50  
 3. अनुच्छेद 58  
 4. अनुच्छेद 56

Question Type : MCQ

Question ID : 630680799046

Option 1 ID : 6306803130989

Option 2 ID : 6306803130986

Option 3 ID : 6306803130987

Option 4 ID : 6306803130988

Status : Answered

Chosen Option : 4

Q.21 स्टील अथॉरिटी ऑफ इंडिया लिमिटेड (Steel Authority of India Limited - SAIL) \_\_\_\_\_ उद्योग का एक उदाहरण है।

- Ans  1. सार्वजनिक क्षेत्र  
 2. सहकारी क्षेत्र  
 3. संयुक्त क्षेत्र  
 4. निजी क्षेत्र

Question Type : MCQ

Question ID : 630680484461

Option 1 ID : 6306801892162

Option 2 ID : 6306801892165

Option 3 ID : 6306801892164

Option 4 ID : 6306801892163

Status : Answered

Chosen Option : 2

Q.22 सितंबर 2023 में 9वें ब्रिक्स संसदीय मंच (BRICS Parliamentary Forum) में भाग लेने के लिए संसदीय प्रतिनिधिमंडल का नेतृत्व निम्नलिखित में से किसने किया?

- Ans  1. हरिवंश नारायण सिंह  
 2. नितिन गड़करी  
 3. ओम बिड़ला  
 4. जगदीप धनखड़

Question Type : MCQ

Question ID : 630680468940

Option 1 ID : 6306801831530

Option 2 ID : 6306801831527

Option 3 ID : 6306801831529

Option 4 ID : 6306801831528

Status : Answered

Chosen Option : 3

Q.23 निम्नलिखित में से कौन-सा विकल्प स्तंभ-A और स्तंभ-B का सही ढंग से मिलान करता है?

स्तंभ-A (खाद्य घटक) स्तंभ-B (पाचन में शामिल एन्जाइम)

- i. प्रोटीन a. एमिलेज़ (Amylase)  
ii. कार्बोहाइड्रेट b. लाइपेज (Lipase)  
iii. वसा c. ट्रिप्सिन (Trypsin)

- Ans  1. i-a, ii-c, iii-b  
 2. i-c, ii-a, iii-b  
 3. i-b, ii-a, iii-c  
 4. i-a, ii-b, iii-c

Question Type : MCQ

Question ID : 630680545138

Option 1 ID : 6306802131302

Option 2 ID : 6306802131301

Option 3 ID : 6306802131300

Option 4 ID : 6306802131299

Status : Answered

Chosen Option : 2

Q.24 ताजमहल का निर्माण निम्नलिखित में से किसने करवाया था?

- Ans  1. अकबर  
 2. जहाँगीर  
 3. शाहजहाँ  
 4. बाबर

Question Type : MCQ

Question ID : 630680682785

Option 1 ID : 6306802673881

Option 2 ID : 6306802673879

Option 3 ID : 6306802673880

Option 4 ID : 6306802673882

Status : Answered

Chosen Option : 3

Q.25 निम्नलिखित में से किस अभिनेता की आत्मकथा का शीर्षक 'द सबस्टेंस एंड द शैडो: एन ऑटोबायोग्राफी (The Substance And The Shadow: An Autobiography)' है?

- Ans
- 1. विनोद खन्ना
  - 2. राजेश खन्ना
  - 3. ऋषि कपूर
  - 4. दिलीप कुमार

Question Type : MCQ

Question ID : 630680388638

Option 1 ID : 6306801515016

Option 2 ID : 6306801515014

Option 3 ID : 6306801515017

Option 4 ID : 6306801515015

Status : Not Answered

Chosen Option : --

Section : English Language and Comprehension

Q.1 Select the most appropriate option to substitute the underlined segment in the given sentence.

They looked out the matter and found the root cause of the problem.

- Ans
- 1. looked until the matter and found
  - 2. looked of the matter and found
  - 3. looked unless the matter and found
  - 4. looked into the matter and found

Question Type : MCQ

Question ID : 630680549281

Option 1 ID : 6306802147587

Option 2 ID : 6306802147585

Option 3 ID : 6306802147588

Option 4 ID : 6306802147586

Status : Answered

Chosen Option : 4

Q.2 Parts of the following sentence have been given as options. Select the option that contains an error.

The farm cattle is grazing in the field when the tiger attacked.

- Ans
- 1. in the field when
  - 2. is grazing
  - 3. The farm cattle
  - 4. the tiger attacked.

Question Type : MCQ

Question ID : 630680397363

Option 1 ID : 6306801549510

Option 2 ID : 6306801549509

Option 3 ID : 6306801549508

Option 4 ID : 6306801549511

Status : Answered

Chosen Option : 2

**Q.3 Select the most appropriate synonym of the given word.**  
**Blunt**

- Ans**  1. Insensitive  
 2. Adventurous  
 3. Rowdy  
 4. tactful

Question Type : **MCQ**

Question ID : **630680404049**

Option 1 ID : **6306801575682**

Option 2 ID : **6306801575684**

Option 3 ID : **6306801575683**

Option 4 ID : **6306801575685**

Status : **Answered**

Chosen Option : 1

**Q.4 Select the sentence with the most appropriate use of preposition.**

- Ans**  1. Reetu slept all into the history class.  
 2. Reetu slept all in the history class.  
 3. Reetu slept all during the history class.  
 4. Reetu slept all through the history class.

Question Type : **MCQ**

Question ID : **630680129459**

Option 1 ID : **630680501457**

Option 2 ID : **630680501454**

Option 3 ID : **630680501455**

Option 4 ID : **630680501456**

Status : **Answered**

Chosen Option : 4

**Q.5 In the following sentence the underlined part contains an error. Alternatives to the underlined part are given as options. Select the correct alternative.**  
The children were merry than usual on Sunday.

- Ans**  1. merriest  
 2. more merrier  
 3. merrier  
 4. the merriest

Question Type : **MCQ**

Question ID : **630680514730**

Option 1 ID : **6306802011545**

Option 2 ID : **6306802011548**

Option 3 ID : **6306802011546**

Option 4 ID : **6306802011547**

Status : **Answered**

Chosen Option : 3

**Q.6** Select the most appropriate ANTONYM of the highlighted word in the given sentence.  
The athlete demonstrated remarkable agility during the gymnastics routine.

- Ans  1. Stiffness  
 2. Nimbleness  
 3. Prowess  
 4. Flexibility

Question Type : **MCQ**  
Question ID : **630680549424**  
Option 1 ID : **6306802148147**  
Option 2 ID : **6306802148146**  
Option 3 ID : **6306802148148**  
Option 4 ID : **6306802148145**  
Status : **Answered**  
Chosen Option : **4**

**Q.7** Select the INCORRECTLY spelt word from the given sentence.

The artist's unique technique added a touch of individuality to the painting.

- Ans  1. Artist's  
 2. Individuality  
 3. Unique  
 4. Technique

Question Type : **MCQ**  
Question ID : **630680615948**  
Option 1 ID : **6306802410474**  
Option 2 ID : **6306802410475**  
Option 3 ID : **6306802410476**  
Option 4 ID : **6306802410477**  
Status : **Answered**  
Chosen Option : **2**

**Q.8** Select the most appropriate ANTONYM of the underlined word in the given sentence.

The children's laughter was filled with exuberant joy.

- Ans  1. repressed  
 2. flawless  
 3. euphoric  
 4. sarcastic

Question Type : **MCQ**  
Question ID : **630680799124**  
Option 1 ID : **6306803131294**  
Option 2 ID : **6306803131297**  
Option 3 ID : **6306803131295**  
Option 4 ID : **6306803131296**  
Status : **Answered**  
Chosen Option : **1**

**Q.9** Select the option that will improve the underlined part of the given sentence. In case no improvement is needed, select 'No improvement required'.

Placing a huge magnet atop the temple pose to being the biggest hurdle for the masons.

- Ans
- 1. posing as be
  - 2. poses for being
  - 3. No improvement required
  - 4. posed to be

Question Type : **MCQ**  
Question ID : **630680583971**  
Option 1 ID : **6306802284727**  
Option 2 ID : **6306802284726**  
Option 3 ID : **6306802284729**  
Option 4 ID : **6306802284728**  
Status : **Answered**  
Chosen Option : **2**

**Q.10** Change the following sentence into superlative degree.

No other mountain in the world is as high as the Mount Everest.

- Ans
- 1. No other mountain is highest than Mount Everest.
  - 2. Mount Everest is higher than any other mountain in the world.
  - 3. Mount Everest is the highest mountain in the world.
  - 4. Mount Everest is high mountain in the world.

Question Type : **MCQ**  
Question ID : **630680514638**  
Option 1 ID : **6306802011180**  
Option 2 ID : **6306802011177**  
Option 3 ID : **6306802011179**  
Option 4 ID : **6306802011178**  
Status : **Answered**  
Chosen Option : **3**

**Q.11** Select the most appropriate ANTONYM of the given word.

**Enmity**

- Ans
- 1. Hostility
  - 2. Malignity
  - 3. Friendship
  - 4. Antipathy

Question Type : **MCQ**  
Question ID : **630680565434**  
Option 1 ID : **6306802210677**  
Option 2 ID : **6306802210676**  
Option 3 ID : **6306802210674**  
Option 4 ID : **6306802210675**  
Status : **Answered**  
Chosen Option : **3**

**Q.12** Read the sentence given below and identify if there is an error in it. The error can be in any segment of the sentence which are marked A, B, C, and D. Select option D if there is 'No error'.

(A) Ritika angrily / (B) spoke to Kartik / (C) after the meeting / (D) No error.

Ans  1. C

2. D

3. A

4. B

Question Type : **MCQ**

Question ID : **6306801046637**

Option 1 ID : **6306804108675**

Option 2 ID : **6306804108676**

Option 3 ID : **6306804108673**

Option 4 ID : **6306804108674**

Status : **Answered**

Chosen Option : **3**

**Q.13** Select the most appropriate meaning of the given idiom.

**Apple of one's eye**

Ans  1. Very docile

2. Very precious

3. Very strong

4. Very stubborn

Question Type : **MCQ**

Question ID : **630680454072**

Option 1 ID : **6306801773229**

Option 2 ID : **6306801773227**

Option 3 ID : **6306801773228**

Option 4 ID : **6306801773230**

Status : **Answered**

Chosen Option : **2**

**Q.14** Select the word that has the same meaning (SYNONYM) as the underlined word in the given sentence.

She accused her sister of being vindictive when she was trying to defame her.

Ans  1. revengeful

2. vigilant

3. venerable

4. righteous

Question Type : **MCQ**

Question ID : **630680446656**

Option 1 ID : **6306801743928**

Option 2 ID : **6306801743927**

Option 3 ID : **6306801743926**

Option 4 ID : **6306801743929**

Status : **Answered**

Chosen Option : **1**

Q.15 Select the most appropriate meaning of the given idiom.

When pigs fly

- Ans  1. Something that spoils relationships  
 2. Something that will never happen  
 3. Something terrible  
 4. Something unplanned

Question Type : MCQ

Question ID : 630680539887

Option 1 ID : 6306802110649

Option 2 ID : 6306802110648

Option 3 ID : 6306802110650

Option 4 ID : 6306802110651

Status : Answered

Chosen Option : 2

Q.16 Select the correct spelling of the underlined word in the given sentence.

Rahul's personality is complimented by his confident looks.

- Ans  1. complemented  
 2. complimented  
 3. compliminted  
 4. complamanted

Question Type : MCQ

Question ID : 630680487090

Option 1 ID : 6306801902506

Option 2 ID : 6306801902509

Option 3 ID : 6306801902507

Option 4 ID : 6306801902508

Status : Answered

Chosen Option : 1

Q.17 Select the most appropriate option to fill in the blank.

The loud thunder \_\_\_\_\_ the children, making them cry.

- Ans  1. fancied  
 2. fastened  
 3. fainted  
 4. frightened

Question Type : MCQ

Question ID : 630680490330

Option 1 ID : 6306801915237

Option 2 ID : 6306801915238

Option 3 ID : 6306801915236

Option 4 ID : 6306801915235

Status : Answered

Chosen Option : 4

**Q.18** Select the option that expresses the given sentence in future tense form.  
Since next Friday, the team of three members has been tracking the animal.

- Ans
- 1. Since last Friday, the team of three members had tracked the animal.
  - 2. From next Friday, the team of three members are tracking the animal.
  - 3. From next Friday, the team of three members will be tracking the animal.
  - 4. From next Friday, the team of three members have been tracking the animal.

Question Type : **MCQ**  
Question ID : **630680410472**  
Option 1 ID : **6306801600608**  
Option 2 ID : **6306801600609**  
Option 3 ID : **6306801600610**  
Option 4 ID : **6306801600611**  
Status : **Answered**  
Chosen Option : **3**

**Q.19** One of the four words in bold in the given sentence is incorrectly spelt. Select the **INCORRECTLY** spelt word.

The hurricane left behind a **devasstating** trail of destruction.

- Ans
- 1. **devasstating**
  - 2. **destruction**
  - 3. **hurricane**
  - 4. **trail**

Question Type : **MCQ**  
Question ID : **630680718848**  
Option 1 ID : **6306802816881**  
Option 2 ID : **6306802816883**  
Option 3 ID : **6306802816880**  
Option 4 ID : **6306802816882**  
Status : **Answered**  
Chosen Option : **1**

**Q.20** Select the most appropriate option to fill in the blank.

My grandparents live in a beautiful house \_\_\_\_\_ the countryside.

- Ans
- 1. **at**
  - 2. **on**
  - 3. **onto**
  - 4. **in**

Question Type : **MCQ**  
Question ID : **630680490353**  
Option 1 ID : **6306801915328**  
Option 2 ID : **6306801915330**  
Option 3 ID : **6306801915327**  
Option 4 ID : **6306801915329**  
Status : **Answered**  
Chosen Option : **4**

**Comprehension:**

In the following passage, some words have been deleted. Read the passage carefully and select the most appropriate option to fill in each blank.

A monsoon is traditionally a seasonal reversing wind (1)\_\_\_\_\_ by corresponding changes in precipitation but is now (2)\_\_\_\_\_ describe seasonal changes in atmospheric circulation and precipitation associated (3)\_\_\_\_\_ annual latitudinal oscillation of the Intertropical Convergence Zone (ITCZ) between its limits to the north and south of the equator. Usually, the term monsoon (4)\_\_\_\_\_ refer to the rainy phase of a seasonally changing pattern, although technically there is also a dry phase. The term is also sometimes used to (5)\_\_\_\_\_ locally heavy but short-term rains.

**SubQuestion No : 21**

**Q.21 Select the most appropriate option to fill in blank number 1.**

- Ans  1. accompanied  
 2. accompanies  
 3. accompany  
 4. accompanying

Question Type : **MCQ**  
Question ID : **630680809908**  
Option 1 ID : **6306803173204**  
Option 2 ID : **6306803173205**  
Option 3 ID : **6306803173203**  
Option 4 ID : **6306803173206**  
Status : **Answered**  
Chosen Option : **2**

**Comprehension:**

In the following passage, some words have been deleted. Read the passage carefully and select the most appropriate option to fill in each blank.

A monsoon is traditionally a seasonal reversing wind (1)\_\_\_\_\_ by corresponding changes in precipitation but is now (2)\_\_\_\_\_ describe seasonal changes in atmospheric circulation and precipitation associated (3)\_\_\_\_\_ annual latitudinal oscillation of the Intertropical Convergence Zone (ITCZ) between its limits to the north and south of the equator. Usually, the term monsoon (4)\_\_\_\_\_ refer to the rainy phase of a seasonally changing pattern, although technically there is also a dry phase. The term is also sometimes used to (5)\_\_\_\_\_ locally heavy but short-term rains.

**SubQuestion No : 22**

**Q.22 Select the most appropriate option to fill in blank number 2.**

- Ans  1. using to  
 2. uses to  
 3. used to  
 4. use to

Question Type : **MCQ**  
Question ID : **630680809909**  
Option 1 ID : **6306803173210**  
Option 2 ID : **6306803173208**  
Option 3 ID : **6306803173209**  
Option 4 ID : **6306803173207**  
Status : **Answered**  
Chosen Option : **2**

**Comprehension:**

In the following passage, some words have been deleted. Read the passage carefully and select the most appropriate option to fill in each blank.

A monsoon is traditionally a seasonal reversing wind (1) \_\_\_\_\_ by corresponding changes in precipitation but is now (2) \_\_\_\_\_ describe seasonal changes in atmospheric circulation and precipitation associated (3) \_\_\_\_\_ annual latitudinal oscillation of the Intertropical Convergence Zone (ITCZ) between its limits to the north and south of the equator. Usually, the term monsoon (4) \_\_\_\_\_ refer to the rainy phase of a seasonally changing pattern, although technically there is also a dry phase. The term is also sometimes used to (5) \_\_\_\_\_ locally heavy but short-term rains.

**SubQuestion No : 23**

**Q.23 Select the most appropriate option to fill in blank number 3.**

Ans  1. with

2. on

3. of

4. for

Question Type : **MCQ**

Question ID : **630680809910**

Option 1 ID : **6306803173211**

Option 2 ID : **6306803173213**

Option 3 ID : **6306803173212**

Option 4 ID : **6306803173214**

Status : **Answered**

Chosen Option : 1

**Comprehension:**

In the following passage, some words have been deleted. Read the passage carefully and select the most appropriate option to fill in each blank.

A monsoon is traditionally a seasonal reversing wind (1) \_\_\_\_\_ by corresponding changes in precipitation but is now (2) \_\_\_\_\_ describe seasonal changes in atmospheric circulation and precipitation associated (3) \_\_\_\_\_ annual latitudinal oscillation of the Intertropical Convergence Zone (ITCZ) between its limits to the north and south of the equator. Usually, the term monsoon (4) \_\_\_\_\_ refer to the rainy phase of a seasonally changing pattern, although technically there is also a dry phase. The term is also sometimes used to (5) \_\_\_\_\_ locally heavy but short-term rains.

**SubQuestion No : 24**

**Q.24 Select the most appropriate option to fill in blank number 4.**

Ans  1. are used to

2. were used to

3. is used to

4. is use to

Question Type : **MCQ**

Question ID : **630680809911**

Option 1 ID : **6306803173215**

Option 2 ID : **6306803173217**

Option 3 ID : **6306803173218**

Option 4 ID : **6306803173216**

Status : **Answered**

Chosen Option : 3

**Comprehension:**

In the following passage, some words have been deleted. Read the passage carefully and select the most appropriate option to fill in each blank.

A monsoon is traditionally a seasonal reversing wind (1) \_\_\_\_\_ by corresponding changes in precipitation but is now (2) \_\_\_\_\_ describe seasonal changes in atmospheric circulation and precipitation associated (3) \_\_\_\_\_ annual latitudinal oscillation of the Intertropical Convergence Zone (ITCZ) between its limits to the north and south of the equator. Usually, the term monsoon (4) \_\_\_\_\_ refer to the rainy phase of a seasonally changing pattern, although technically there is also a dry phase. The term is also sometimes used to (5) \_\_\_\_\_ locally heavy but short-term rains.

**SubQuestion No : 25**

**Q.25 Select the most appropriate option to fill in blank number 5.**

- Ans
- 1. describes
  - 2. describe
  - 3. describing
  - 4. described

Question Type : **MCQ**

Question ID : **630680809912**

Option 1 ID : **6306803173221**

Option 2 ID : **6306803173220**

Option 3 ID : **6306803173222**

Option 4 ID : **6306803173219**

Status : **Answered**

Chosen Option : **2**