

## Multi Tasking Non Technical Staff and Havaladar CBIC and CBN Examination 2024

Roll Number	
Candidate Name	
Venue Name	i-Tech Zone
Exam Date	04/11/2024
Exam Time	9:00 AM - 11:00 AM
Subject	MTS Non Tech Havaladar CBIC and CBN Examination 2024

### Section : Numerical and Mathematical Ability

Q.1 किस धनराशि पर  $3\frac{3}{4}\%$  वार्षिक दर से साधारण ब्याज  $2\frac{1}{3}$  वर्षों में ₹210 हो जाएगा?

- Ans  1. ₹2,400  
 2. ₹1,980  
 3. ₹1,600  
 4. ₹2,250

Question Type : MCQ

Question ID : 630680406217

Option 1 ID : 6306801583955

Option 2 ID : 6306801583953

Option 3 ID : 6306801583952

Option 4 ID : 6306801583954

Status : Answered

Chosen Option : 1

Q.2 4 वर्षों के लिए 5% प्रति वर्ष की ब्याज दर पर उधार ली गई राशि ₹3500 पर साधारण ब्याज (₹ में) ज्ञात कीजिए।

- Ans  1. 660  
 2. 700  
 3. 640  
 4. 740

Question Type : MCQ

Question ID : 630680591970

Option 1 ID : 6306802316350

Option 2 ID : 6306802316347

Option 3 ID : 6306802316349

Option 4 ID : 6306802316348

Status : Answered

Chosen Option : 2

Q.3 किसी धातु पर निकल चढ़ाने की दर ₹50 / m<sup>2</sup> है। यदि एक ठोस अर्धगोले के वक्र पृष्ठीय क्षेत्रफल पर निकल चढ़ाने की लागत ₹600 है, तो इस अर्धगोले के संपूर्ण पृष्ठीय क्षेत्रफल पर निकल चढ़ाने की लागत ज्ञात करें।

- Ans
- 1. ₹800
  - 2. ₹900
  - 3. ₹1,000
  - 4. ₹700

Question Type : MCQ

Question ID : 630680378655

Option 1 ID : 6306801475668

Option 2 ID : 6306801475669

Option 3 ID : 6306801475670

Option 4 ID : 6306801475667

Status : Answered

Chosen Option : 2

Q.4 रमेश ने राहुल को एक घड़ी 10% लाभ पर बेची, और राहुल ने इसे अरुण को 10% हानि पर बेची। यदि अरुण ने राहुल को ₹1,800 का भुगतान किया, तो रमेश ने इसे राहुल को कितने में बेचा?

- Ans
- 1. ₹2,000
  - 2. ₹3,500
  - 3. ₹2,500
  - 4. ₹3,000

Question Type : MCQ

Question ID : 630680489193

Option 1 ID : 6306801910734

Option 2 ID : 6306801910731

Option 3 ID : 6306801910733

Option 4 ID : 6306801910732

Status : Answered

Chosen Option : 1

Q.5 नौ संख्याओं का औसत 6 है। जब तीन नई संख्याएँ शामिल की जाती हैं, तो बारह संख्याओं का औसत 7.5 हो जाता है। तीन नई संख्याओं का औसत क्या है?

- Ans
- 1. 8
  - 2. 12.5
  - 3. 11.5
  - 4. 12

Question Type : MCQ

Question ID : 630680455608

Option 1 ID : 6306801779342

Option 2 ID : 6306801779345

Option 3 ID : 6306801779343

Option 4 ID : 6306801779344

Status : Answered

Chosen Option : 4

Q.6 4 वर्षों के लिए 8% वार्षिक की ब्याज दर पर उधार ली गई राशि ₹2000 पर साधारण ब्याज (₹ में) ज्ञात कीजिए।

Ans  1. 640

2. 600

3. 580

4. 680

Question Type : MCQ

Question ID : 630680591880

Option 1 ID : 6306802315987

Option 2 ID : 6306802315990

Option 3 ID : 6306802315989

Option 4 ID : 6306802315988

Status : Answered

Chosen Option : 1

Q.7 एक व्यक्ति को 1 घंटे में 8 km की दूरी तय करनी है। यदि वह कुल समय के एक-तिहाई समय में एक-चौथाई दूरी तय करता है, तो शेष दूरी को, शेष समय में तय करने के लिए उसकी चाल (km/h में) कितनी होनी चाहिए ताकि वह व्यक्ति ठीक समय पर गंतव्य पर पहुंच जाए?

Ans  1. 6

2. 9

3. 8

4. 7

Question Type : MCQ

Question ID : 630680233589

Option 1 ID : 630680906255

Option 2 ID : 630680906252

Option 3 ID : 630680906253

Option 4 ID : 630680906254

Status : Answered

Chosen Option : 2

Q.8 एक समचतुर्भुज का परिमाण 68 cm है और इसका एक विकर्ण 30 cm है। इसका क्षेत्रफल कितना है?

Ans  1. 240 cm<sup>2</sup>

2. 245 cm<sup>2</sup>

3. 250 cm<sup>2</sup>

4. 230 cm<sup>2</sup>

Question Type : MCQ

Question ID : 630680526614

Option 1 ID : 6306802058523

Option 2 ID : 6306802058525

Option 3 ID : 6306802058524

Option 4 ID : 6306802058522

Status : Answered

Chosen Option : 1

Q.9 40 kg, 49 kg, 56 kg, 67 kg और 35 kg वजन के पांच सदस्यों वाले परिवार का औसत वजन (kg में) ज्ञात कीजिए।

Ans  1. 50.4

2. 49.4

3. 48.4

4. 51.4

Question Type : MCQ

Question ID : 630680551639

Option 1 ID : 6306802156782

Option 2 ID : 6306802156781

Option 3 ID : 6306802156783

Option 4 ID : 6306802156784

Status : Answered

Chosen Option : 2

Q.10 एक दुकानदार दावा करता है कि वह सेंधा नमक ₹23 प्रति kg की दर से बेचता है, जिसकी कीमत उसे ₹25 प्रति kg पड़ती है। लेकिन वह 1,000 g की जगह 800 g ही देता है। उसका लाभ या हानि प्रतिशत क्या है?

Ans  1. 5% की हानि

2. 8% का लाभ

3. 15% का लाभ

4. 3% की हानि

Question Type : MCQ

Question ID : 630680426317

Option 1 ID : 6306801663367

Option 2 ID : 6306801663368

Option 3 ID : 6306801663366

Option 4 ID : 6306801663369

Status : Answered

Chosen Option : 3

Q.11 जनवरी, फरवरी और मार्च में T का वेतन ₹15,000 प्रति माह है। जुलाई, अगस्त, सितंबर, अक्टूबर, नवंबर और दिसंबर में उसका वेतन ₹30,000 प्रति माह है। पूरे वर्ष में उसका प्रति माह औसत वेतन ₹27,000 है। अप्रैल, मई और जून में प्रति माह उसका वेतन (₹ में) कितना है?

Ans  1. 25000

2. 31000

3. 28000

4. 33000

Question Type : MCQ

Question ID : 630680815878

Option 1 ID : 6306803196845

Option 2 ID : 6306803196847

Option 3 ID : 6306803196846

Option 4 ID : 6306803196848

Status : Answered

Chosen Option : 4

Q.12 एक स्कूल में लड़कों की संख्या का लड़कियों की संख्या से अनुपात 7 : 9 है। यदि स्कूल में लड़कियों की संख्या 189 है, तो उस स्कूल में लड़कों की संख्या कितनी है?

Ans  1. 147

2. 168

3. 105

4. 126

Question Type : MCQ

Question ID : 630680239518

Option 1 ID : 630680929023

Option 2 ID : 630680929024

Option 3 ID : 630680929026

Option 4 ID : 630680929025

Status : Answered

Chosen Option : 1

Q.13  $x^3 - 27$ ,  $x^2 - x - 6$ ,  $x + 2$  का लघुतम समापवर्त्य (एलसीएम) ज्ञात करें।

Ans  1.  $(x - 3)(x + 2)(x^2 - 3x + 9)$

2.  $(x - 3)(x + 2)(x^2 + 3x + 9)$

3.  $(x + 3)(x + 2)(x^2 - 3x + 9)$

4.  $(x - 3)(x + 2)(x^2 + 3x - 9)$

Question Type : MCQ

Question ID : 630680102233

Option 1 ID : 630680397215

Option 2 ID : 630680397217

Option 3 ID : 630680397218

Option 4 ID : 630680397216

Status : Answered

Chosen Option : 2

Q.14 दी गई तालिका का अध्ययन कीजिए और निम्नलिखित प्रश्न का उत्तर दीजिए।

निम्नलिखित तालिका एक परीक्षा में चार अलग-अलग विषयों में तीन छात्रों द्वारा प्राप्त अंक दर्शाती है। प्रत्येक विषय में अधिकतम अंक 100 हैं।

छात्र	भौतिकी	रसायन विज्ञान	गणित	कंप्यूटर विज्ञान
A	98	95	99	86
B	88	100	95	84
C	90	93	100	90

A और C के कुल अंकों के बीच का अंतर कितना है?

- Ans
- 1. 2
  - 2. 4
  - 3. 5
  - 4. 3

Question Type : MCQ

Question ID : 630680523752

Option 1 ID : 6306802047159

Option 2 ID : 6306802047161

Option 3 ID : 6306802047162

Option 4 ID : 6306802047160

Status : Answered

Chosen Option : 3

Q.15 यदि तिवारी 10 km/h की चाल से दौड़ता है, तो उसे 600 m की दूरी तय करने में कितने सेकंड लगते हैं?

- Ans
- 1. 216
  - 2. 200
  - 3. 212
  - 4. 205

Question Type : MCQ

Question ID : 630680125164

Option 1 ID : 630680485437

Option 2 ID : 630680485434

Option 3 ID : 630680485436

Option 4 ID : 630680485435

Status : Answered

Chosen Option : 3

Q.16 एक ट्रैकिंग कैप में 8 m ऊंचाई और 15 m त्रिज्या का एक शंकाकार तम्बू बनाया जाना है। कपड़े के कितने क्षेत्रफल की आवश्यकता है?

- Ans
- 1.  $136\pi m^2$
  - 2.  $120\pi m^2$
  - 3.  $155\pi m^2$
  - 4.  $255\pi m^2$

Question Type : **MCQ**

Question ID : **63068070052**

Option 1 ID : **630680270846**

Option 2 ID : **630680270847**

Option 3 ID : **630680270849**

Option 4 ID : **630680270848**

Status : **Answered**

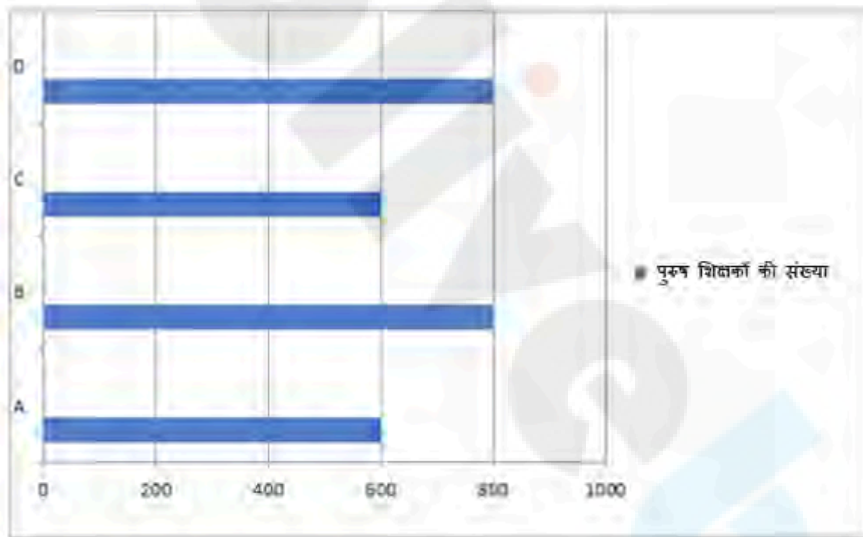
Chosen Option : **4**

Q.17 एक राज्य के 4 जिलों A, B, C और D में शिक्षकों की कुल संख्या 4500 है। 4 जिलों में शिक्षकों का प्रतिशत-वार वितरण निम्नलिखित तालिका में दिया गया है।

जिला	शिक्षकों का प्रतिशत
A	20%
B	25%
C	25%
D	30%

प्रत्येक जिले में पुरुषों की संख्या को निम्नलिखित दंड आरेख के माध्यम से दर्शाया गया है। X-अक्ष 4 जिलों में पुरुष शिक्षकों की संख्या को दर्शाता है और Y-अक्ष 4 जिलों को दर्शाता है। आरेख का सावधानीपूर्वक अध्ययन कीजिए और निम्नलिखित प्रश्न का उत्तर दीजिए।

4 जिलों में पुरुष शिक्षक



सभी जिलों में महिला शिक्षकों की कुल संख्या सभी जिलों में पुरुष शिक्षकों की कुल संख्या का कितना प्रतिशत है?

- Ans
- 1. 50.71%
  - 2. 61.71%
  - 3. 67.10%
  - 4. 60.71%

Question Type : MCQ

Question ID : 630680523781

Option 1 ID : 6306802047277

Option 2 ID : 6306802047275

Option 3 ID : 6306802047276

Option 4 ID : 6306802047278

Status : Answered

Chosen Option : 3

Q.18 रिया, ₹96 प्रत्येक की दर से डिटर्जेंट के दो पैकेट बेचती है। एक पैकेट पर उसे 20% का लाभ होता है और दूसरे पर उसे 20% की हानि होती है। पूरी प्रक्रिया में निवल लाभ या हानि ज्ञात कीजिए।

- Ans
- 1. ₹4 का लाभ
  - 2. ₹8 की हानि
  - 3. ₹8 का लाभ
  - 4. ₹4 की हानि

Question Type : MCQ

Question ID : 630680468826

Option 1 ID : 6306801831086

Option 2 ID : 6306801831083

Option 3 ID : 6306801831084

Option 4 ID : 6306801831085

Status : Answered

Chosen Option : 2

Q.19 40 kg, 49 kg, 56 kg, 66 kg और 39 kg वजन के पांच सदस्यों वाले परिवार का औसत वजन (kg में) ज्ञात कीजिए।

- Ans
- 1. 49
  - 2. 52
  - 3. 51
  - 4. 50

Question Type : MCQ

Question ID : 630680551638

Option 1 ID : 6306802156779

Option 2 ID : 6306802156780

Option 3 ID : 6306802156778

Option 4 ID : 6306802156777

Status : Answered

Chosen Option : 4

Q.20 एक दुकानदार किसी वस्तु पर खरीदारों के लिए निम्नलिखित चार अलग-अलग छूटों की स्कीम पेश करता है।

- A. 8% की दो क्रमिक छूटें
  - B. 11% की छूट के बाद 5% की छूट
  - C. 13% और 3% की क्रमिक छूटें
  - D. 16% की छूट
- वस्तु को न्यूनतम कीमत पर प्राप्त करने के लिए कौन-सी छूट स्कीम चुनी जानी चाहिए?

- Ans
- 1. C
  - 2. A
  - 3. B
  - 4. D

Question Type : MCQ

Question ID : 630680435666

Option 1 ID : 6306801700591

Option 2 ID : 6306801700589

Option 3 ID : 6306801700590

Option 4 ID : 6306801700592

Status : Answered

Chosen Option : 4

Section : Reasoning Ability and Problem Solving

Q.1 सात लोग C, H, A, P, T, E और R एक वृत्ताकार मेज के चारों ओर केंद्र की ओर मुख करके बैठे हैं (परंतु जरूरी नहीं कि वे इसी क्रम में बैठे हों)। T, E के ठीक दाएँ और R के ठीक बाएँ बैठा है। E के बाएँ से गिनने पर E और C के बीच में केवल एक व्यक्ति बैठा है। R के दाएँ से गिनने पर R और H के बीच में केवल एक व्यक्ति बैठा है। C के ठीक बाएँ कौन बैठा है?

- Ans
- 1. P
  - 2. E
  - 3. H
  - 4. A

Question Type : MCQ

Question ID : 630680386542

Option 1 ID : 6306801506878

Option 2 ID : 6306801506881

Option 3 ID : 6306801506879

Option 4 ID : 6306801506880

Status : Answered

Chosen Option : 3

Q.2 दिए गए विकल्पों में से उस आकृति को चुनिए जो निम्नलिखित श्रृंखला में प्रश्न चिह्न (?) के स्थान पर आ सकती है और पैटर्न को पूरा कर सकती है।

L	O	C	C	2	N	↑	△	O	O	2	L	
2	↑	△	△	L	O	2	C	N	N	↑	△	?
		N			↑			L			C	

Ans

✗ 1.

↑	N	△
2	O	C
		L

✗ 2.

↑	N	△
2	C	L
		O

✓ 3.

C	N	△
2	O	L
		↑

✗ 4.

C	L	2
△	O	N
		↑

Question Type : MCQ

Question ID : 630680441085

Option 1 ID : 6306801721994

Option 2 ID : 6306801721997

Option 3 ID : 6306801721996

Option 4 ID : 6306801721995

Status : Answered

Chosen Option : 3

Q.3 गणितीय चिह्नों के उस सही संयोजन का चयन कीजिए जो क्रमिक रूप से \* चिह्नों के स्थान पर आ सकते हैं और दिए गए समीकरण को संतुलित कर सकते हैं।

$$12 * 3 * 4 = 6 * 8 * 8$$

- Ans  1. +, ×, -, +  
 2. ×, +, ×, -  
 3. ×, -, ×, +  
 4. ×, +, -, ×

Question Type : **MCQ**

Question ID : **630680396688**

Option 1 ID : **6306801546840**

Option 2 ID : **6306801546842**

Option 3 ID : **6306801546843**

Option 4 ID : **6306801546841**

Status : **Answered**

Chosen Option : 2

Q.4 अंग्रेजी वर्णानुक्रम के आधार पर KGNI एक निश्चित प्रकार से LHOJ से संबंधित है। ठीक उसी प्रकार GCJE, HDKF से संबंधित है। समान तर्क का अनुसरण करते हुए OKRM निम्नलिखित में से किससे संबंधित है?

- Ans  1. PLNS  
 2. LPSN  
 3. LPNS  
 4. PLSN

Question Type : **MCQ**

Question ID : **630680435581**

Option 1 ID : **6306801700258**

Option 2 ID : **6306801700259**

Option 3 ID : **6306801700260**

Option 4 ID : **6306801700257**

Status : **Answered**

Chosen Option : 4

Q.5 उस समुच्चय का चयन कीजिए जिसमें संख्याएं ठीक उसी प्रकार संबंधित हैं जिस प्रकार दिए गए समुच्चयों की संख्याएं संबंधित हैं।

(7, 40, 9 )  
(9,71,10)

(ध्यान दें: संख्याओं को उनके घटक अंकों में अलग-अलग किए बिना पूर्ण संख्याओं पर संक्रियाएं की जानी चाहिए। उदाहरण के लिए संख्या 13 - संख्या 13 पर संक्रियाएं जैसे 13 को जोड़ना/घटाना/गुणा करना आदि किया जा सकता है। 13 को 1 और 3 में अलग-अलग करने की और फिर 1 और 3 पर गणितीय संक्रियाएं करने की अनुमति नहीं है।)

- Ans  1. (8, 49, 12)  
 2. (13, 150, 19)  
 3. (11, 106, 5)  
 4. (5, 12, 18)

Question Type : MCQ

Question ID : 630680388385

Option 1 ID : 6306801514061

Option 2 ID : 6306801514059

Option 3 ID : 6306801514058

Option 4 ID : 6306801514060

Status : Answered

Chosen Option : 2

Q.6 एक निश्चित कूट भाषा में, 'eat your food' को 'wb hs lg' लिखा जाता है और 'food is tasty' को 'sw lj hs' लिखा जाता है। उसी कूट भाषा में 'food' को कैसे लिखा जाएगा?

- Ans  1. lg  
 2. li  
 3. sw  
 4. hs

Question Type : MCQ

Question ID : 630680502784

Option 1 ID : 6306801964720

Option 2 ID : 6306801964719

Option 3 ID : 6306801964717

Option 4 ID : 6306801964718

Status : Answered

Chosen Option : 4

Q.7 9 एक निश्चित तर्क का अनुसरण करते हुए 83 से संबंधित है। उसी तर्क का अनुसरण करते हुए, 13, 171 से संबंधित है। उसी तर्क का अनुसरण करते हुए, 15 निम्नलिखित में से किससे संबंधित है?

(ध्यान दें: संख्याओं को उनके घटक अंकों में अलग-अलग किए बिना पूर्ण संख्याओं पर संक्रियाएं की जानी चाहिए। उदाहरण के लिए संख्या 13 - संख्या 13 पर संक्रियाएं जैसे 13 को जोड़ना/घटाना/गुणा करना आदि किया जा सकता है। 13 को 1 और 3 में अलग-अलग करने की और फिर 1 और 3 पर गणितीय संक्रियाएं करने की अनुमति नहीं है।)

- Ans
- 1. 231
  - 2. 225
  - 3. 235
  - 4. 227

Question Type : MCQ

Question ID : 630680446753

Option 1 ID : 6306801744304

Option 2 ID : 6306801744302

Option 3 ID : 6306801744305

Option 4 ID : 6306801744303

Status : Answered

Chosen Option : 4

Q.8 WN 22 एक निश्चित प्रकार से AR 29 से संबंधित है। उसी प्रकार, MD 19, QH 26 से संबंधित है। समान तर्क का अनुसरण करते हुए EV 35 निम्नलिखित में से किससे संबंधित है?

- Ans
- 1. KD 42
  - 2. DK 42
  - 3. IZ 42
  - 4. ZI 42

Question Type : MCQ

Question ID : 630680387033

Option 1 ID : 6306801508843

Option 2 ID : 6306801508844

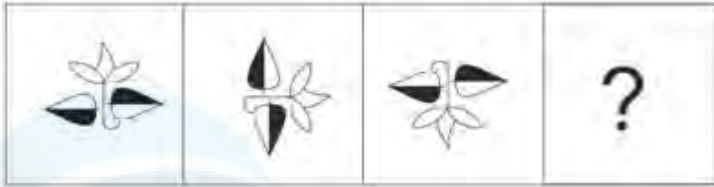
Option 3 ID : 6306801508845

Option 4 ID : 6306801508842

Status : Answered

Chosen Option : 3

Q.9 दिए गए विकल्पों में से उस आकृति का चयन कीजिए, जिसे प्रश्न-चिह्न (?) के स्थान पर रखने पर श्रृंखला तार्किक रूप से पूर्ण हो जाएगी।



Ans

✓ 1.



✗ 2.



✗ 3.



✗ 4.



Question Type : MCQ

Question ID : 630680276924

Option 1 ID : 6306801076192

Option 2 ID : 6306801076193

Option 3 ID : 6306801076194

Option 4 ID : 6306801076191

Status : Answered

Chosen Option : 1

Q.10 दी गई श्रृंखला में प्रश्नचिह्न (?) के स्थान पर क्या आएगा?

483 502 521 540 559 ?

Ans  1. 586

2. 562

3. 573

4. 578

Question Type : MCQ

Question ID : 630680816800

Option 1 ID : 6306803206341

Option 2 ID : 6306803206338

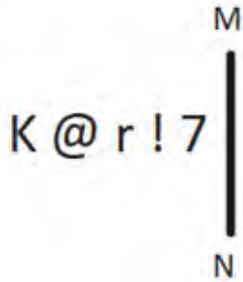
Option 3 ID : 6306803206339

Option 4 ID : 6306803206340

Status : Answered

Chosen Option : 4

Q.11 दी गई आकृति के उस सही दर्पण प्रतिबिंब को चुनिए, जो नीचे दर्शाए गए अनुसार दर्पण को MN पर रखने पर बनेगा।



Ans  1. K ! r @ 7

2. 7 ! r @ K

3. 7 ! r @ K

4. 7 ! r @ K

Question Type : MCQ

Question ID : 630680525247

Option 1 ID : 6306802053072

Option 2 ID : 6306802053073

Option 3 ID : 6306802053075

Option 4 ID : 6306802053074

Status : Answered

Chosen Option : 4

Q.12 अंग्रेजी वर्णमाला क्रम के आधार पर दी गई श्रृंखला में प्रश्न चिह्न (?) के स्थान पर क्या आना चाहिए?

XDZ, THV, PLR, ?, HTJ

- Ans  1. KPO  
 2. LPO  
 3. MPN  
 4. LPN

Question Type : MCQ

Question ID : 630680815695

Option 1 ID : 6306803196084

Option 2 ID : 6306803196083

Option 3 ID : 6306803196082

Option 4 ID : 6306803196081

Status : Answered

Chosen Option : 4

Q.13 एक निश्चित कूटभाषा में, 'N E W S' को '2 @ 3 #' के रूप में कूटबद्ध किया जाता है और 'D E W S' को '4 @ 3 #' के रूप में कूटबद्ध किया जाता है। उस भाषा में 'D' के लिए कूट क्या है?

- Ans  1. 4  
 2. 2  
 3. @  
 4. 3

Question Type : MCQ

Question ID : 630680832302

Option 1 ID : 6306803260200

Option 2 ID : 6306803260197

Option 3 ID : 6306803260199

Option 4 ID : 6306803260198

Status : Answered

Chosen Option : 1

Q.14 एक कूट भाषा के अनुसार, 256 का अर्थ 'they are nice' है, 637 का अर्थ 'we are rude' है और 358 का अर्थ 'rude and nice' है। उसी कूट भाषा में 'nice' के लिए कूट क्या है?

- Ans  1. 7  
 2. 5  
 3. 3  
 4. 8

Question Type : MCQ

Question ID : 630680381555

Option 1 ID : 6306801487153

Option 2 ID : 6306801487151

Option 3 ID : 6306801487152

Option 4 ID : 6306801487154

Status : Answered

Chosen Option : 2

Q.15 दिए गए कथनों और निष्कर्षों को ध्यानपूर्वक पढ़िए। यह मानते हुए कि कथनों में दी गई जानकारी सत्य है, चाहे वह सामान्यतः ज्ञात तथ्यों से भिन्न प्रतीत होती हो और निर्णय लीजिए कि दिए गए निष्कर्षों में से कौन-सा/कौन-से निष्कर्ष कथनों का तार्किक रूप से अनुसरण करता है/करते हैं।

कथन:

सभी लैपटॉप, स्पीकर हैं।  
कुछ लैपटॉप, डेस्कटॉप हैं।

निष्कर्ष:

(I) कुछ स्पीकर, डेस्कटॉप हैं।

(II) कुछ डेस्कटॉप, लैपटॉप नहीं हैं।

Ans  1. निष्कर्ष (I) और निष्कर्ष (II), दोनों अनुसरण करते हैं

2. केवल निष्कर्ष (I) अनुसरण करता है

3. केवल निष्कर्ष (II) अनुसरण करता है

4. न तो निष्कर्ष (I) और न ही निष्कर्ष (II) अनुसरण करता है

Question Type : MCQ

Question ID : 630680411074

Option 1 ID : 6306801603054

Option 2 ID : 6306801603052

Option 3 ID : 6306801603053

Option 4 ID : 6306801603055

Status : Answered

Chosen Option : 2

Q.16 यदि '+' और '-' को आपस में बदल दिया जाए तथा '×' और '÷' को आपस में बदल दिया जाए, तो निम्नलिखित समीकरण में प्रश्न-चिह्न (?) के स्थान पर क्या आएगा?  
 $56 - 14 \times 7 \div 22 + 63 = ?$

Ans  1. 37

2. 13

3. 63

4. 35

Question Type : MCQ

Question ID : 630680380571

Option 1 ID : 6306801483274

Option 2 ID : 6306801483273

Option 3 ID : 6306801483272

Option 4 ID : 6306801483271

Status : Answered

Chosen Option : 1

Q.17 सात व्यक्ति A, B, C, D, E, F और G एक वृत्ताकार मेज के चारों ओर केंद्र की ओर पीठ करके बैठे हैं (परंतु जरूरी नहीं कि वे इसी क्रम में बैठे हों)। E के दायीं ओर से गिनने पर, E और B के बीच में ठीक तीन व्यक्ति बैठे हैं। C, B के बायीं ओर दूसरे स्थान पर बैठा है। A, D के ठीक दायीं ओर बैठा है। E और F पड़ोसी नहीं हैं। C के दायीं ओर से गिनने पर C और A के बीच में कितने व्यक्ति बैठे हैं?

Ans  1. 2

2. 4

3. 3

4. 1

Question Type : MCQ

Question ID : 630680387578

Option 1 ID : 6306801510995

Option 2 ID : 6306801510997

Option 3 ID : 6306801510996

Option 4 ID : 6306801510994

Status : Answered

Chosen Option : 3

Q.18 दिए गए कथनों और निष्कर्षों को ध्यानपूर्वक पढ़िए। यह मानते हुए कि कथनों में दी गई जानकारी सत्य है, चाहे वह सामान्यतः ज्ञात तथ्यों से भिन्न प्रतीत होती हो और निर्णय लीजिए कि दिए गए निष्कर्षों में से कौन-सा/कौन-से निष्कर्ष कथनों का तार्किक रूप से अनुसरण करता है/करते हैं।

कथन:

सभी पेड़, शाखाएँ हैं।

कुछ शाखाएँ, पत्तियाँ हैं।

निष्कर्ष:

(I) सभी पत्तियाँ, शाखाएँ हैं।

(II) सभी पत्तियाँ, पेड़ हैं।

Ans  1. दोनों निष्कर्ष (I) और (II) अनुसरण करते हैं

2. न तो निष्कर्ष (I) और न ही (II) अनुसरण करता है

3. केवल निष्कर्ष (II) अनुसरण करता है

4. केवल निष्कर्ष (I) अनुसरण करता है

Question Type : MCQ

Question ID : 630680404843

Option 1 ID : 6306801578866

Option 2 ID : 6306801578865

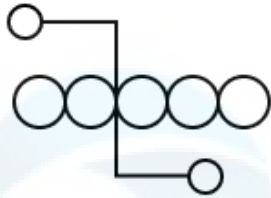
Option 3 ID : 6306801578864

Option 4 ID : 6306801578863

Status : Answered

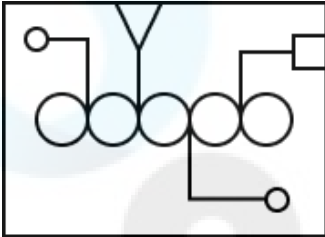
Chosen Option : 2

Q.19 उस विकल्प आकृति का चयन कीजिए, जिसमें दी गई आकृति उसके भाग के रूप में सन्निहित है (घुमाने की अनुमति नहीं है)।

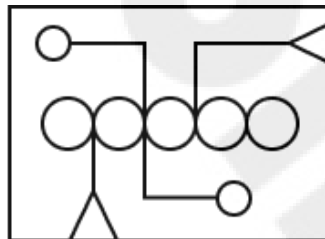


Ans

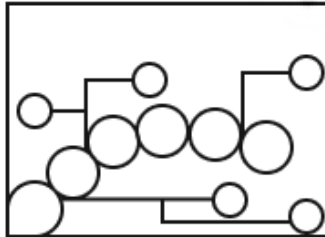
✗ 1.



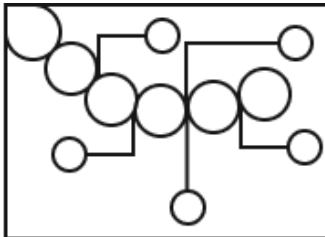
✓ 2.



✗ 3.



✗ 4.



Question Type : MCQ

Question ID : 630680487077

Option 1 ID : 6306801902459

Option 2 ID : 6306801902458

Option 3 ID : 6306801902461

Option 4 ID : 6306801902460

Status : Answered

Chosen Option : 2

**Q.20** एक निश्चित कूट भाषा में, 'kill your ego' को 'li gt ry' लिखा जाता है और 'your aim is' को 'ht ry my' लिखा जाता है। उसी कूट भाषा में 'your' को कैसे लिखा जाएगा?

- Ans**
- 1. gt
  - 2. my
  - 3. ry
  - 4. li

Question Type : **MCQ**

Question ID : **630680439112**

Option 1 ID : **6306801714261**

Option 2 ID : **6306801714260**

Option 3 ID : **6306801714262**

Option 4 ID : **6306801714263**

Status : **Answered**

Chosen Option : **3**

Section : **General Awareness**

**Q.1** सितारा देवी भारत की एक शास्त्रीय नृत्यांगना थीं जो \_\_\_\_\_ नृत्य करती थीं।

- Ans**
- 1. ओडिसी
  - 2. सल्लिया
  - 3. कथकली
  - 4. कथक

Question Type : **MCQ**

Question ID : **630680560803**

Option 1 ID : **6306802192203**

Option 2 ID : **6306802192202**

Option 3 ID : **6306802192200**

Option 4 ID : **6306802192201**

Status : **Answered**

Chosen Option : **1**

**Q.2** वैदिक काल में शिक्षा का आरंभ निम्नलिखित में से किसके साथ होता था?

- Ans**
- 1. गृहस्थ (Grihastha)
  - 2. वानप्रस्थ (Vanaprastha)
  - 3. नियोग (Niyoga)
  - 4. उपनयन (Upanayana)

Question Type : **MCQ**

Question ID : **630680127462**

Option 1 ID : **630680494111**

Option 2 ID : **630680494109**

Option 3 ID : **630680494110**

Option 4 ID : **630680494108**

Status : **Answered**

Chosen Option : **2**

Q.3 भारत की वर्ष 2011 की जनगणना के अनुसार भारत के किस राज्य में शहरी जनसंख्या का प्रतिशत सर्वाधिक है?

- Ans
- 1. मिजोरम
  - 2. केरल
  - 3. गोवा
  - 4. महाराष्ट्र

Question Type : MCQ

Question ID : 630680327650

Option 1 ID : 6306801274597

Option 2 ID : 6306801274598

Option 3 ID : 6306801274599

Option 4 ID : 6306801274600

Status : Answered

Chosen Option : 3

Q.4 जिस व्यक्ति में लाल रक्त कोशिकाओं की संख्या बहुत कम होती है उसे चिकित्सकीय रूप से \_\_\_\_\_ रोग से पीड़ित कहा जाता है।

- Ans
- 1. एनीमिया (Anaemia)
  - 2. पीलिया (Jaundice)
  - 3. स्कर्वी (Scurvy)
  - 4. घेंघा (Goitre)

Question Type : MCQ

Question ID : 630680544254

Option 1 ID : 6306802127791

Option 2 ID : 6306802127790

Option 3 ID : 6306802127793

Option 4 ID : 6306802127792

Status : Answered

Chosen Option : 1

Q.5 निम्नलिखित में से किस अभिनेत्री के जीवन वृत्तांत का शीर्षक 'अनफिनिशड (Unfinished)' है?

- Ans
- 1. दीपिका पादुकोण
  - 2. आलिया भट्ट
  - 3. प्रियंका चोपड़ा
  - 4. कैटरिना कैफ

Question Type : MCQ

Question ID : 630680388640

Option 1 ID : 6306801515024

Option 2 ID : 6306801515022

Option 3 ID : 6306801515023

Option 4 ID : 6306801515025

Status : Answered

Chosen Option : 3

Q.6 अकबर के अधीन मुगल प्रशासन में दीवान-ए-आला (Diwan-i-Ala) किस पद को संदर्भित करता है?

- Ans  1. वित्त मंत्री  
 2. दरबारी लेखक  
 3. रक्षा मंत्री  
 4. प्रधानमंत्री

Question Type : MCQ

Question ID : 630680305913

Option 1 ID : 6306801190005

Option 2 ID : 6306801190007

Option 3 ID : 6306801190008

Option 4 ID : 6306801190006

Status : Answered

Chosen Option : 3

Q.7 राज्यों और केंद्रशासित प्रदेशों के निम्नलिखित में से किस समूह में 'कर्तन दहन प्रणाली (slash and burn)' कृषि को 'दीपा (Dipa)' के नाम से जाना जाता है?

- Ans  1. राजस्थान और अंडमान एवं निकोबार द्वीप समूह  
 2. ओडिशा और पुदुचेरी  
 3. छत्तीसगढ़ और अंडमान एवं निकोबार द्वीप समूह  
 4. छत्तीसगढ़ और लक्षद्वीप

Question Type : MCQ

Question ID : 630680484437

Option 1 ID : 6306801892073

Option 2 ID : 6306801892072

Option 3 ID : 6306801892070

Option 4 ID : 6306801892071

Status : Answered

Chosen Option : 3

Q.8 मुख्यमंत्री सीखो कमाओ योजना इनमें से किस राज्य सरकार द्वारा शुरू की गई थी?

- Ans  1. उत्तर प्रदेश  
 2. गुजरात  
 3. मध्य प्रदेश  
 4. महाराष्ट्र

Question Type : MCQ

Question ID : 630680465534

Option 1 ID : 6306801818173

Option 2 ID : 6306801818171

Option 3 ID : 6306801818172

Option 4 ID : 6306801818174

Status : Answered

Chosen Option : 3

Q.9 हा ग्रीष्म उत्सव (Haa Summer Festival), भारत के किस पड़ोसी देश में मनाया जाता है?

- Ans  1. भूटान  
 2. अफगानिस्तान  
 3. श्रीलंका  
 4. मालदीव

Question Type : MCQ  
Question ID : 630680511233  
Option 1 ID : 6306801998062  
Option 2 ID : 6306801998063  
Option 3 ID : 6306801998064  
Option 4 ID : 6306801998065  
Status : Answered  
Chosen Option : 1

Q.10 16 फरवरी 2023 को राजभवन, गंगटोक में सिक्किम के नए राज्यपाल के रूप में किसने शपथ ली?

- Ans  1. पवन चामलिंग  
 2. लक्ष्मण प्रसाद आचार्य  
 3. गंगा प्रसाद  
 4. श्रीनिवास दादासाहेब पाटिल

Question Type : MCQ  
Question ID : 630680488525  
Option 1 ID : 6306801908131  
Option 2 ID : 6306801908134  
Option 3 ID : 6306801908132  
Option 4 ID : 6306801908133  
Status : Answered  
Chosen Option : 3

Q.11 वर्ष 2021 में, ऑस्ट्रेलिया ने न्यूजीलैंड को \_\_\_\_\_ से हराकर पुरुष टी20 विश्वकप क्रिकेट जीता।

- Ans  1. 10 रन  
 2. 8 रन  
 3. 8 विकेट  
 4. 10 विकेट

Question Type : MCQ  
Question ID : 630680112157  
Option 1 ID : 630680434356  
Option 2 ID : 630680434354  
Option 3 ID : 630680434355  
Option 4 ID : 630680434357  
Status : Answered  
Chosen Option : 3

Q.12 महिला भारतीय संघ (Women's Indian Association - WIA) की स्थापना का वर्ष कौन सा है?

- Ans
- 1. 1907
  - 2. 1937
  - 3. 1927
  - 4. 1917

Question Type : MCQ  
Question ID : 630680511601  
Option 1 ID : 6306801999526  
Option 2 ID : 6306801999529  
Option 3 ID : 6306801999528  
Option 4 ID : 6306801999527  
Status : Answered  
Chosen Option : 3

Q.13 भारतीय संविधान में मूल रूप से कितने अनुच्छेद शामिल थे?

- Ans
- 1. 495
  - 2. 345
  - 3. 395
  - 4. 595

Question Type : MCQ  
Question ID : 630680540741  
Option 1 ID : 6306802114004  
Option 2 ID : 6306802114002  
Option 3 ID : 6306802114003  
Option 4 ID : 6306802114005  
Status : Answered  
Chosen Option : 3

Q.14 स्पेस-फिलिंग मॉडल (space-filling model) में प्रत्येक परमाणु का आपेक्षिक आकार प्रदर्शित किया जाता है, जो उसकी \_\_\_\_\_ पर आधारित होता है।

- Ans
- 1. सभी परमाणुओं के लिए निश्चित त्रिज्या
  - 2. सहसंयोजक त्रिज्या
  - 3. वॉण्डरवाल्स त्रिज्या
  - 4. आयनिक त्रिज्या

Question Type : MCQ  
Question ID : 630680471478  
Option 1 ID : 6306801841629  
Option 2 ID : 6306801841627  
Option 3 ID : 6306801841626  
Option 4 ID : 6306801841628  
Status : Answered  
Chosen Option : 1

Q.15 प्रत्येक वर्ष कर्तव्य पथ पर गणतंत्र दिवस परेड निम्नलिखित में से किस शहर में आयोजित की जाती है?

- Ans
- 1. जयपुर
  - 2. दिसपुर
  - 3. नई दिल्ली
  - 4. बैंगलोर

Question Type : MCQ  
Question ID : 630680368822  
Option 1 ID : 6306801436705  
Option 2 ID : 6306801436708  
Option 3 ID : 6306801436706  
Option 4 ID : 6306801436707  
Status : Answered  
Chosen Option : 3

Q.16 कुचिपुड़ी नृत्य के किस नृत्य गुरु को 1998 में पद्म भूषण से सम्मानित किया गया था?

- Ans
- 1. गुरु वेम्पति चिन्ना सत्यम् (Guru Vempati Chinna Satyam)
  - 2. शोभना चंद्रकुमार पिलाई (Shobana Chandrakumar Pilai)
  - 3. सोनल मानसिंह (Sonal Mansingh)
  - 4. गुरु केलुचरण महापात्र (Guru Kelucharan Mohapatra)

Question Type : MCQ  
Question ID : 630680433356  
Option 1 ID : 6306801691391  
Option 2 ID : 6306801691394  
Option 3 ID : 6306801691393  
Option 4 ID : 6306801691392  
Status : Answered  
Chosen Option : 1

Q.17 निम्नलिखित में से कौन-सा अधिनियम ईस्ट इंडिया कंपनी के क्षेत्रीय मामलों में ब्रिटिश सरकार द्वारा पहला हस्तक्षेप था?

- Ans
- 1. विनियमन अधिनियम, 1773
  - 2. पिट्स इंडिया अधिनियम, 1784
  - 3. 1793 का चार्टर अधिनियम
  - 4. 1813 का चार्टर अधिनियम

Question Type : MCQ  
Question ID : 630680115399  
Option 1 ID : 630680446947  
Option 2 ID : 630680446948  
Option 3 ID : 630680446946  
Option 4 ID : 630680446949  
Status : Answered  
Chosen Option : 1

Q.18 पंडित जानकी प्रसाद किस कथक घराने से संबद्ध थे?

- Ans
- 1. राजगढ़
  - 2. बनारस
  - 3. जयपुर
  - 4. लखनऊ

Question Type : MCQ

Question ID : 630680554550

Option 1 ID : 6306802167971

Option 2 ID : 6306802167973

Option 3 ID : 6306802167970

Option 4 ID : 6306802167972

Status : Answered

Chosen Option : 2

Q.19 'दोआब (Doabs)' भारत के किस भौतिक भाग में पाए जाते हैं?

- Ans
- 1. प्रायद्वीपीय पठार
  - 2. हिमालय पर्वत
  - 3. तटीय मैदान
  - 4. उत्तरी मैदान

Question Type : MCQ

Question ID : 630680511006

Option 1 ID : 6306801997157

Option 2 ID : 6306801997154

Option 3 ID : 6306801997156

Option 4 ID : 6306801997155

Status : Answered

Chosen Option : 4

Q.20 निम्नलिखित में से कौन-सा हड़प्पा शहर बिना नगरदुर्ग (citadel) के पाया गया था?

- Ans
- 1. कालीबंगा
  - 2. लोथल
  - 3. बनावली
  - 4. चन्हुदड़ो

Question Type : MCQ

Question ID : 630680547292

Option 1 ID : 6306802139731

Option 2 ID : 6306802139734

Option 3 ID : 6306802139732

Option 4 ID : 6306802139733

Status : Answered

Chosen Option : 4

Q.21 उस अधिकतम समष्टि आकार (population size) के लिए शब्द क्या है, जिसे एक पर्यावरण अनिश्चित काल (indefinitely) तक बनाए रख सकता है?

- Ans
- 1. अग्रक जाति (Pioneer species)
  - 2. वहन क्षमता (Carrying capacity)
  - 3. पारिस्थितिक निकेत (Ecological niche)
  - 4. जीवीय विभव (Biotic potential)

Question Type : MCQ

Question ID : 630680540571

Option 1 ID : 6306802113361

Option 2 ID : 6306802113359

Option 3 ID : 6306802113360

Option 4 ID : 6306802113362

Status : Not Answered

Chosen Option : --

Q.22 पिघलती बर्फ या वर्षा या झरने का जल, भूमि के एक क्षेत्र से नीचे की ओर बहता है और अंत में नदी या समुद्र जैसे बड़े जल निकाय में मिल जाता है। भूमि के इस क्षेत्र को क्या कहा जाता है?

- Ans
- 1. खाड़ी (Bay)
  - 2. जलनिकास द्रोणी (Drainage Basin)
  - 3. डेल्टा (Delta)
  - 4. ज्वारनदमुख (Estuary)

Question Type : MCQ

Question ID : 630680404029

Option 1 ID : 6306801575604

Option 2 ID : 6306801575602

Option 3 ID : 6306801575603

Option 4 ID : 6306801575605

Status : Answered

Chosen Option : 2

Q.23 भारत में सूक्ष्मवित्त संस्थानों (MFI) का प्राथमिक उद्देश्य कौन-सा है?

- Ans
- 1. कम आय वाले व्यक्तियों और उद्यमियों को वित्तीय सहायता और सेवाएँ प्रदान करना
  - 2. सरकारी परियोजनाओं का वित्तीयन करना
  - 3. बड़ी कंपनियों को वित्तीय सेवाएँ प्रदान करना
  - 4. शेयरधारकों के लिए लाभ उत्पन्न करना

Question Type : MCQ

Question ID : 630680651751

Option 1 ID : 6306802551533

Option 2 ID : 6306802551534

Option 3 ID : 6306802551532

Option 4 ID : 6306802551531

Status : Answered

Chosen Option : 1

Q.24 निम्नलिखित में से किसे 16वें वित्त आयोग के अध्यक्ष के रूप में नियुक्त किया गया है?

- Ans
- 1. वाई. वी. रेड्डी (YV Reddy)
  - 2. एन. के. सिंह (NK Singh)
  - 3. अरविंद पनगढ़िया (Arvind Panagariya)
  - 4. डॉ. विजय केलकर (Dr Vijay Kelkar)

Question Type : **MCQ**  
Question ID : **630680799049**  
Option 1 ID : **6306803130999**  
Option 2 ID : **6306803130998**  
Option 3 ID : **6306803131001**  
Option 4 ID : **6306803131000**  
Status : **Answered**  
Chosen Option : **2**

Q.25 हॉकी के जादूगर मेजर ध्यानचंद ने अपना ओलंपिक पदार्पण कब किया था?

- Ans
- 1. 1924, पेरिस
  - 2. 1932, लॉस एंजिल्स
  - 3. 1928, एम्स्टर्डम
  - 4. 1936, बर्लिन

Question Type : **MCQ**  
Question ID : **630680572023**  
Option 1 ID : **6306802236957**  
Option 2 ID : **6306802236958**  
Option 3 ID : **6306802236956**  
Option 4 ID : **6306802236959**  
Status : **Answered**  
Chosen Option : **3**

Section : English Language and Comprehension

Q.1 Select the most appropriate option that can substitute the underlined segment in the given sentence.

He is the friendly man in the group.

- Ans
- 1. most friendly
  - 2. friendlier
  - 3. friendliest
  - 4. more friendly

Question Type : **MCQ**  
Question ID : **630680514597**  
Option 1 ID : **6306802011014**  
Option 2 ID : **6306802011013**  
Option 3 ID : **6306802011016**  
Option 4 ID : **6306802011015**  
Status : **Answered**  
Chosen Option : **1**

Q.2 Select the most appropriate adjective to fill in the blank.

Among the three little cats, the first was \_\_\_\_\_ and the second was smaller.

- Ans  1. more small  
 2. small  
 3. most smallest  
 4. most small

Question Type : **MCQ**  
Question ID : **63068087137**  
Option 1 ID : **630680337938**  
Option 2 ID : **630680337940**  
Option 3 ID : **630680337939**  
Option 4 ID : **630680337937**  
Status : **Answered**  
Chosen Option : 4

Q.3 The following sentence has been split into four segments. Identify the segment that contains a grammatical error.

Although experts are worried / that retail inflation is rising / at a steep rate, / the crisis will soon blow away.

- Ans  1. Although experts are worried  
 2. that retail inflation is rising  
 3. the crisis will soon blow away  
 4. at a steep rate

Question Type : **MCQ**  
Question ID : **630680146325**  
Option 1 ID : **630680566190**  
Option 2 ID : **630680566191**  
Option 3 ID : **630680566193**  
Option 4 ID : **630680566192**  
Status : **Answered**  
Chosen Option : 1

Q.4 Select the most appropriate ANTONYM that can substitute the underlined segment in the given sentence.

She asked if he could recount a moment when he felt completely serene.

- Ans  1. pacific  
 2. turbulent  
 3. derogatory  
 4. hilarious

Question Type : **MCQ**  
Question ID : **630680799098**  
Option 1 ID : **6306803131190**  
Option 2 ID : **6306803131193**  
Option 3 ID : **6306803131191**  
Option 4 ID : **6306803131192**  
Status : **Answered**  
Chosen Option : 1

**Q.5** Select the most appropriate option to fill in the blank.

Despite facing numerous challenges, the team successfully \_\_\_\_\_ the project ahead of schedule.

- Ans
- 1. has been completed
  - 2. completed
  - 3. had completed
  - 4. will be completed

Question Type : **MCQ**

Question ID : **630680597067**

Option 1 ID : **6306802336312**

Option 2 ID : **6306802336309**

Option 3 ID : **6306802336310**

Option 4 ID : **6306802336311**

Status : **Answered**

Chosen Option : **2**

**Q.6** Rectify the sentence by selecting the correct spelling from the options.

While threatening the integrity of Universal values, the campaign to spread democracy will not succeed.

- Ans
- 1. Succsed
  - 2. Sucseed
  - 3. Suuced
  - 4. Succeed

Question Type : **MCQ**

Question ID : **630680634114**

Option 1 ID : **6306802482333**

Option 2 ID : **6306802482334**

Option 3 ID : **6306802482332**

Option 4 ID : **6306802482335**

Status : **Answered**

Chosen Option : **4**

**Q.7** Select the most appropriate synonym of the given word.

**Fondness**

- Ans
- 1. Mistake
  - 2. Dislike
  - 3. Liking
  - 4. Brilliance

Question Type : **MCQ**

Question ID : **630680397344**

Option 1 ID : **6306801549432**

Option 2 ID : **6306801549435**

Option 3 ID : **6306801549434**

Option 4 ID : **6306801549433**

Status : **Answered**

Chosen Option : **3**

Q.8 Select the most appropriate meaning of the given idiom.

**Baker's Dozen**

Ans  1. One unit extra with one dozen

2. When shopkeepers put something extra

3. A pile of bread

4. Choosing quality over quantity

Question Type : **MCQ**

Question ID : **630680445445**

Option 1 ID : **6306801739054**

Option 2 ID : **6306801739055**

Option 3 ID : **6306801739052**

Option 4 ID : **6306801739053**

Status : **Answered**

Chosen Option : 1

Q.9 Select the option that can be used as a one-word substitute for the given group of words.

A room for cleaning and storing dishes and cooking utensils and for doing messy kitchen work.

Ans  1. Dormitory

2. Scullery

3. Sanatorium

4. Overlay

Question Type : **MCQ**

Question ID : **630680545488**

Option 1 ID : **6306802132559**

Option 2 ID : **6306802132557**

Option 3 ID : **6306802132558**

Option 4 ID : **6306802132556**

Status : **Answered**

Chosen Option : 2

Q.10 Select the most appropriate ANOTNYM of the word 'zest' in the given sentence.

The peppy and energetic music of the DJ was able to remove the passivity and dullness present in the party.

Ans  1. remove

2. peppy

3. energetic

4. dullness

Question Type : **MCQ**

Question ID : **630680537667**

Option 1 ID : **6306802101926**

Option 2 ID : **6306802101924**

Option 3 ID : **6306802101925**

Option 4 ID : **6306802101927**

Status : **Answered**

Chosen Option : 3

Q.11 Select the INCORRECTLY spelt word.

- Ans  1. Creative  
 2. Search  
 3. Revaeled  
 4. Multiple

Question Type : MCQ

Question ID : 630680619679

Option 1 ID : 6306802424849

Option 2 ID : 6306802424851

Option 3 ID : 6306802424850

Option 4 ID : 6306802424852

Status : Answered

Chosen Option : 3

Q.12 Parts of the following sentence have been given as options. Select the option that contains an error.  
This is one of best movies I have ever seen.

- Ans  1. I have ever seen  
 2. one of best  
 3. This is  
 4. movies

Question Type : MCQ

Question ID : 630680514364

Option 1 ID : 6306802010084

Option 2 ID : 6306802010082

Option 3 ID : 6306802010081

Option 4 ID : 6306802010083

Status : Answered

Chosen Option : 2

Q.13 Tselect the option that rectifies the spelling error of the underlined word.

The historic cathedrel stood as a symbol of faith and architectural marvel, drawing visitors from around the world.

- Ans  1. cathidral  
 2. cathedril  
 3. cathedral  
 4. cathidrel

Question Type : MCQ

Question ID : 630680419616

Option 1 ID : 6306801636956

Option 2 ID : 6306801636958

Option 3 ID : 6306801636955

Option 4 ID : 6306801636957

Status : Answered

Chosen Option : 3

**Q.14** Select the option that can be used as a one-word substitute for the given group of words.

Departing or having departed from a country to settle elsewhere

- Ans  1. Immigrant  
 2. Emigrant  
 3. Native  
 4. Excommunicate

Question Type : **MCQ**  
Question ID : **630680553359**  
Option 1 ID : **6306802163350**  
Option 2 ID : **6306802163349**  
Option 3 ID : **6306802163351**  
Option 4 ID : **6306802163348**  
Status : **Answered**  
Chosen Option : **2**

**Q.15** Select the most appropriate synonym of the word given in brackets to fill in the blank.

In the absence of her parents, the little girl felt \_\_\_\_\_ (lonely).

- Ans  1. sociable  
 2. crowded  
 3. collectively  
 4. alone

Question Type : **MCQ**  
Question ID : **630680402334**  
Option 1 ID : **6306801568910**  
Option 2 ID : **6306801568908**  
Option 3 ID : **6306801568909**  
Option 4 ID : **6306801568907**  
Status : **Answered**  
Chosen Option : **4**

**Q.16** Select the most appropriate option to fill in the blank.

Stories are how we make \_\_\_\_\_ of our lives and of the world.

- Ans  1. sensitivity  
 2. sagacious  
 3. sense  
 4. innate

Question Type : **MCQ**  
Question ID : **630680549309**  
Option 1 ID : **6306802147695**  
Option 2 ID : **6306802147696**  
Option 3 ID : **6306802147694**  
Option 4 ID : **6306802147693**  
Status : **Answered**  
Chosen Option : **1**

Q.17 Select the most appropriate ANTONYM of the highlighted word.

Sonali uses a soft mattress to sleep.

- Ans  1. hard  
 2. cushiony  
 3. spongy  
 4. flabby

Question Type : **MCQ**  
Question ID : **630680499644**  
Option 1 ID : **6306801952196**  
Option 2 ID : **6306801952194**  
Option 3 ID : **6306801952193**  
Option 4 ID : **6306801952195**  
Status : **Answered**  
Chosen Option : **1**

Q.18 Parts of the following sentence have been given as options. Select the option that contains an error.

Much of the beauty and glory of life have disappeared.

- Ans  1. beauty and glory  
 2. of life  
 3. Much of the  
 4. have disappeared.

Question Type : **MCQ**  
Question ID : **630680607703**  
Option 1 ID : **6306802377918**  
Option 2 ID : **6306802377919**  
Option 3 ID : **6306802377917**  
Option 4 ID : **6306802377920**  
Status : **Answered**  
Chosen Option : **3**

Q.19 Select the most appropriate option that can substitute the underlined segment in the given sentence. If there is no need to substitute it, select 'No substitution required'.

Mohit have appreciated Riya for her hard work.

- Ans  1. No substitution required  
 2. had appreciating  
 3. have appreciates  
 4. has appreciated

Question Type : **MCQ**  
Question ID : **630680477600**  
Option 1 ID : **6306801865555**  
Option 2 ID : **6306801865553**  
Option 3 ID : **6306801865552**  
Option 4 ID : **6306801865554**  
Status : **Answered**  
Chosen Option : **4**

**Q.20** Select the most appropriate meaning of the given idiom.

**Catch someone's eye**

- Ans**  1. To surprise someone with unexpected behaviour  
 2. To attract someone's attention or to be noticed by them  
 3. To irritate or annoy someone intentionally  
 4. To physically capture someone's gaze and hold it, making them unable to look away

Question Type : **MCQ**

Question ID : **630680749264**

Option 1 ID : **6306802936585**

Option 2 ID : **6306802936587**

Option 3 ID : **6306802936586**

Option 4 ID : **6306802936584**

Status : **Answered**

Chosen Option : **2**

**Comprehension:**

In the following passage, some words have been deleted. Read the passage carefully and select the most appropriate option to fill in each blank.

The (1)\_\_\_\_\_ life in Kashmir was drawing to its end after three (2)\_\_\_\_\_ months. Miss Joan was leaving a week earlier than Mrs. Rhodes, and about two days before she left, I took her alone to the hotel for dinner. We walked to the hotel in (3)\_\_\_\_\_ silence, a silence so heavy that I could (4)\_\_\_\_\_ breathe. The hotel seemed to be far away and yet not far (5)\_\_\_\_\_.

**SubQuestion No : 21**

**Q.21** Select the most appropriate option to fill in blank number 1.=

- Ans**  1. romantic  
 2. biquadratic  
 3. mucolytic  
 4. tonetic

Question Type : **MCQ**

Question ID : **630680192324**

Option 1 ID : **630680745886**

Option 2 ID : **630680745885**

Option 3 ID : **630680745887**

Option 4 ID : **630680745888**

Status : **Answered**

Chosen Option : **1**

**Comprehension:**

In the following passage, some words have been deleted. Read the passage carefully and select the most appropriate option to fill in each blank.

The (1)\_\_\_\_\_ life in Kashmir was drawing to its end after three (2)\_\_\_\_\_ months. Miss Joan was leaving a week earlier than Mrs. Rhodes, and about two days before she left, I took her alone to the hotel for dinner. We walked to the hotel in (3)\_\_\_\_\_ silence, a silence so heavy that I could (4)\_\_\_\_\_ breathe. The hotel seemed to be far away and yet not far (5)\_\_\_\_\_.

**SubQuestion No : 22**

**Q.22** Select the most appropriate option to fill in blank number 2.=

- Ans  1. glorious  
 2. analogous  
 3. anonymous  
 4. jealous

Question Type : **MCQ**

Question ID : **630680192325**

Option 1 ID : **630680745889**

Option 2 ID : **630680745891**

Option 3 ID : **630680745890**

Option 4 ID : **630680745892**

Status : **Answered**

Chosen Option : **1**

**Comprehension:**

In the following passage, some words have been deleted. Read the passage carefully and select the most appropriate option to fill in each blank.

The (1)\_\_\_\_\_ life in Kashmir was drawing to its end after three (2)\_\_\_\_\_ months. Miss Joan was leaving a week earlier than Mrs. Rhodes, and about two days before she left, I took her alone to the hotel for dinner. We walked to the hotel in (3)\_\_\_\_\_ silence, a silence so heavy that I could (4)\_\_\_\_\_ breathe. The hotel seemed to be far away and yet not far (5)\_\_\_\_\_.

**SubQuestion No : 23**

**Q.23** Select the most appropriate option to fill in blank number 3.=

- Ans  1. slack  
 2. direct  
 3. select  
 4. perfect

Question Type : **MCQ**

Question ID : **630680192326**

Option 1 ID : **630680745894**

Option 2 ID : **630680745895**

Option 3 ID : **630680745893**

Option 4 ID : **630680745896**

Status : **Answered**

Chosen Option : **4**

**Comprehension:**

In the following passage, some words have been deleted. Read the passage carefully and select the most appropriate option to fill in each blank.

The (1)\_\_\_\_\_ life in Kashmir was drawing to its end after three (2)\_\_\_\_\_ months. Miss Joan was leaving a week earlier than Mrs. Rhodes, and about two days before she left, I took her alone to the hotel for dinner. We walked to the hotel in (3)\_\_\_\_\_ silence, a silence so heavy that I could (4)\_\_\_\_\_ breathe. The hotel seemed to be far away and yet not far (5)\_\_\_\_\_.

**SubQuestion No : 24**

**Q.24 Select the most appropriate option to fill in blank number 4.=**

- Ans  1. loudly  
 2. gradually  
 3. hardly  
 4. gladly

Question Type : **MCQ**

Question ID : **630680192327**

Option 1 ID : **630680745900**

Option 2 ID : **630680745898**

Option 3 ID : **630680745897**

Option 4 ID : **630680745899**

Status : **Answered**

Chosen Option : **3**

**Comprehension:**

In the following passage, some words have been deleted. Read the passage carefully and select the most appropriate option to fill in each blank.

The (1)\_\_\_\_\_ life in Kashmir was drawing to its end after three (2)\_\_\_\_\_ months. Miss Joan was leaving a week earlier than Mrs. Rhodes, and about two days before she left, I took her alone to the hotel for dinner. We walked to the hotel in (3)\_\_\_\_\_ silence, a silence so heavy that I could (4)\_\_\_\_\_ breathe. The hotel seemed to be far away and yet not far (5)\_\_\_\_\_.

**SubQuestion No : 25**

**Q.25 Select the most appropriate option to fill in blank number 5.=**

- Ans  1. overweigh  
 2. thorough  
 3. enough  
 4. clough

Question Type : **MCQ**

Question ID : **630680192328**

Option 1 ID : **630680745901**

Option 2 ID : **630680745902**

Option 3 ID : **630680745903**

Option 4 ID : **630680745904**

Status : **Answered**

Chosen Option : **3**