

Multi Tasking Non Technical Staff and Havaladar CBIC and CBN Examination 2024

Roll Number	
Candidate Name	
Venue Name	Skymoon IT Point Private Limited
Exam Date	04/11/2024
Exam Time	12:30 PM - 2:30 PM
Subject	MTS Non Tech Havaladar CBIC and CBN Examination 2024

Section : Numerical and Mathematical Ability

Q.1 पहले वर्ष के दौरान एक गाँव की जनसंख्या में 5% की वृद्धि हुई और दूसरे वर्ष के दौरान इसमें 6% की कमी आई। दूसरे वर्ष के अंत में इसकी जनसंख्या 35,532 थी। पहले वर्ष की शुरुआत में जनसंख्या कितनी थी?

- Ans 1. 34,567
 2. 36,000
 3. 37,568
 4. 38,000

Question Type : MCQ

Question ID : 630680464502

Option 1 ID : 6306801814044

Option 2 ID : 6306801814045

Option 3 ID : 6306801814043

Option 4 ID : 6306801814046

Status : Answered

Chosen Option : 2

Q.2 40 kg, 49 kg, 56 kg, 69 kg और 35 kg वजन के पांच सदस्यों वाले परिवार का औसत वजन (kg में) ज्ञात कीजिए।

- Ans 1. 48.8
 2. 49.8
 3. 51.8
 4. 50.8

Question Type : MCQ

Question ID : 630680551649

Option 1 ID : 6306802156823

Option 2 ID : 6306802156821

Option 3 ID : 6306802156824

Option 4 ID : 6306802156822

Status : Answered

Chosen Option : 2

Q.3 एक विद्यालय में, कक्षा 11^{वीं} के तीन वर्ग A, B और C हैं। वर्ग A में 30 विद्यार्थी, वर्ग B में 36 विद्यार्थी और वर्ग C में 40 विद्यार्थी हैं। गणित की वार्षिक परीक्षा में वर्ग A, वर्ग B और वर्ग C में विद्यार्थियों द्वारा प्राप्त औसत अंक क्रमशः 90, 85 और 70 हैं। संपूर्ण कक्षा द्वारा प्राप्त औसत अंक (दो दशमलव स्थानों तक पूर्णांकित) ज्ञात कीजिए।

Ans 1. 80.75

2. 58.70

3. 58.07

4. 80.57

Question Type : MCQ

Question ID : 630680449383

Option 1 ID : 6306801754659

Option 2 ID : 6306801754657

Option 3 ID : 6306801754660

Option 4 ID : 6306801754658

Status : Answered

Chosen Option : 1

Q.4 यदि एक अर्धगोले का आयतन 155232 cm^3 है, तो अर्धगोले की त्रिज्या का आधा क्या होगा (cm में)? ($\pi = \frac{22}{7}$ का प्रयोग करें)

Ans 1. 42

2. 18

3. 21

4. 12

Question Type : MCQ

Question ID : 630680526645

Option 1 ID : 6306802058647

Option 2 ID : 6306802058646

Option 3 ID : 6306802058648

Option 4 ID : 6306802058649

Status : Answered

Chosen Option : 3

Q.5 एक व्यापारी अंकित मूल्य पर 25% की छूट देने के बाद एक वस्तु बेचकर 44% का लाभ कमाता है। वस्तु के क्रय मूल्य और अंकित मूल्य का अनुपात क्या है?

Ans 1. 48 : 25

2. 25 : 48

3. 48 : 35

4. 35 : 48

Question Type : MCQ

Question ID : 630680630881

Option 1 ID : 6306802469487

Option 2 ID : 6306802469485

Option 3 ID : 6306802469486

Option 4 ID : 6306802469484

Status : Answered

Chosen Option : 2

Q.6 एक व्यक्ति एक यात्रा में पहले 120 km की यात्रा 48 km/h की चाल से और अगले 120 km की यात्रा 80 km/h की चाल से तय करता है। यात्रा के पहले 240 km की औसत चाल क्या है?

- Ans
- 1. 66 km/h
 - 2. 64 km/h
 - 3. 72 km/h
 - 4. 60 km/h

Question Type : MCQ

Question ID : 630680585070

Option 1 ID : 6306802289044

Option 2 ID : 6306802289043

Option 3 ID : 6306802289045

Option 4 ID : 6306802289042

Status : Answered

Chosen Option : 2

Q.7 वह सबसे छोटी संख्या ज्ञात कीजिए जिसे 20, 15 और 30 से भाग देने पर प्रत्येक स्थिति में 6 शेषफल प्राप्त होता है।

- Ans
- 1. 56
 - 2. 96
 - 3. 66
 - 4. 36

Question Type : MCQ

Question ID : 630680103825

Option 1 ID : 630680403531

Option 2 ID : 630680403534

Option 3 ID : 630680403532

Option 4 ID : 630680403533

Status : Answered

Chosen Option : 3

Q.8 एक बड़े अर्धगोलाकार लोहे के कटोरे के शीर्ष की बाह्य परिधि 565.2 cm है और कटोरा y cm मोटा है। यदि कटोरे का संपूर्ण पृष्ठीय क्षेत्रफल $98,988.5 \text{ cm}^2$ है, तो y का मान ज्ञात करें। ($\pi = 3.14$ का उपयोग करें।)

- Ans
- 1. 6
 - 2. 4
 - 3. 5
 - 4. 3.5

Question Type : MCQ

Question ID : 630680381311

Option 1 ID : 6306801486196

Option 2 ID : 6306801486197

Option 3 ID : 6306801486195

Option 4 ID : 6306801486198

Status : Answered

Chosen Option : 4

Q.9 नीचे दी गई तालिका 4 अलग-अलग विषयों में पाँच विद्यार्थियों द्वारा प्राप्त अंकों को दर्शाती है। प्रत्येक विषय के लिए अधिकतम अंक 100 हैं।

विद्यार्थी	विषय			
	U	V	W	X
रोशन	68	64	60	72
समीर	74	76	68	64
आर्यन	61	64	59	81
मोनिका	87	71	84	56
अंशिका	92	69	52	77

विषय V में सभी पाँच विद्यार्थियों द्वारा प्राप्त कुल अंकों का औसत क्या है?

- Ans
- 1. 72.7
 - 2. 65.3
 - 3. 69.2
 - 4. 68.8

Question Type : MCQ

Question ID : 630680523812

Option 1 ID : 6306802047402

Option 2 ID : 6306802047399

Option 3 ID : 6306802047401

Option 4 ID : 6306802047400

Status : Answered

Chosen Option : 4

Q.10 किसी तार का प्रतिरोध उसकी लंबाई के अनुक्रमानुपाती और उसकी त्रिज्या के वर्ग के व्युत्क्रमानुपाती है। एक ही पदार्थ के दो तारों का प्रतिरोध समान है और उनकी त्रिज्याएँ 7 : 8 के अनुपात में हैं। तारों की संगत लंबाई क्रमशः 147 cm और L cm है। L का मान ज्ञात कीजिए।

- Ans
- 1. 192
 - 2. 128
 - 3. 158
 - 4. 168

Question Type : MCQ

Question ID : 630680455665

Option 1 ID : 6306801779611

Option 2 ID : 6306801779612

Option 3 ID : 6306801779609

Option 4 ID : 6306801779610

Status : Answered

Chosen Option : 4

Q.11 5 वर्षों के लिए 3% प्रति वर्ष की ब्याज दर पर उधार ली गई राशि ₹3000 पर साधारण ब्याज (₹ में) ज्ञात कीजिए।

Ans 1. 410

2. 390

3. 450

4. 490

Question Type : MCQ

Question ID : 630680591926

Option 1 ID : 6306802316174

Option 2 ID : 6306802316173

Option 3 ID : 6306802316171

Option 4 ID : 6306802316172

Status : Answered

Chosen Option : 3

Q.12 3 वर्षों के लिए 5% प्रति वर्ष की ब्याज दर पर उधार ली गई राशि ₹3000 पर साधारण ब्याज (₹ में) ज्ञात कीजिए।

Ans 1. 390

2. 490

3. 450

4. 410

Question Type : MCQ

Question ID : 630680591934

Option 1 ID : 6306802316205

Option 2 ID : 6306802316204

Option 3 ID : 6306802316203

Option 4 ID : 6306802316206

Status : Answered

Chosen Option : 3

Q.13 संदीप ने एक ओवरकोट ₹8,784 में बेचा और 22% का लाभ कमाया। ओवरकोट की मूल लागत ज्ञात कीजिए।

Ans 1. ₹7,100

2. ₹7,150

3. ₹7,250

4. ₹7,200

Question Type : MCQ

Question ID : 630680426297

Option 1 ID : 6306801663287

Option 2 ID : 6306801663288

Option 3 ID : 6306801663290

Option 4 ID : 6306801663289

Status : Answered

Chosen Option : 4

Q.14 राजा की टोपी एक लंब वृत्तीय शंकु के रूप में है जिसकी आधार त्रिज्या 3 cm और तिर्यक ऊँचाई 25 cm है। टोपी बनाने के लिए आवश्यक शीट का क्षेत्रफल ज्ञात कीजिए। (निकटतम पूर्णांक मान तक सही, $\pi=3.14$ का प्रयोग करें)

- Ans
- 1. 350 cm²
 - 2. 50 cm²
 - 3. 450 cm²
 - 4. 264 cm²

Question Type : MCQ

Question ID : 630680107727

Option 1 ID : 630680418198

Option 2 ID : 630680418199

Option 3 ID : 630680418196

Option 4 ID : 630680418197

Status : Answered

Chosen Option : 3

Q.15 यदि कोई धनराशि साधारण ब्याज की निश्चित दर पर 10 वर्षों में स्वयं की दोगुनी हो जाती है, तो उसी ब्याज दर पर वह धनराशि कितने समय में स्वयं की 4 गुना हो जाएगी?

- Ans
- 1. 20 वर्ष
 - 2. 30 वर्ष
 - 3. 25 वर्ष
 - 4. 40 वर्ष

Question Type : MCQ

Question ID : 630680815894

Option 1 ID : 6306803196909

Option 2 ID : 6306803196911

Option 3 ID : 6306803196910

Option 4 ID : 6306803196912

Status : Answered

Chosen Option : 2

Q.16 एक कार के रेडिएटर में 52% एंटीफ्रीज का घोल होना चाहिए। एक मोटर चालक के पास 40% एंटीफ्रीज वाला 8 लीटर घोल है। 52% एंटीफ्रीज बनाने लिए उसे अपने घोल में 95% एंटीफ्रीज तरल की कितनी लीटर मात्रा मिलानी होगी (दो दशमलव स्थान तक पूर्णांकित)?

- Ans
- 1. 2.23
 - 2. 1.92
 - 3. 4.26
 - 4. 3.45

Question Type : MCQ

Question ID : 630680460856

Option 1 ID : 6306801799709

Option 2 ID : 6306801799708

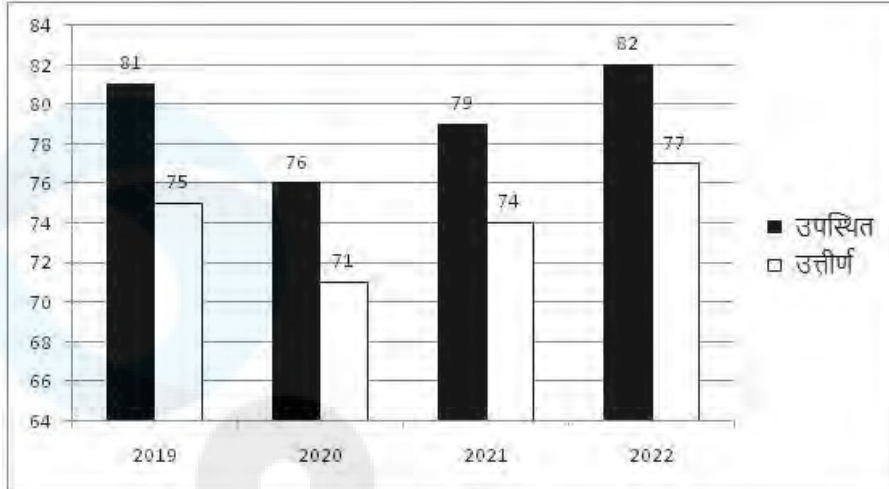
Option 3 ID : 6306801799707

Option 4 ID : 6306801799706

Status : Answered

Chosen Option : 2

Q.17 ग्राफ अलग-अलग वर्षों में एक विद्यालय में बारहवीं कक्षा (class XII) की अंतिम परीक्षा में उपस्थित होने वाले और उत्तीर्ण होने वाले विद्यार्थियों की संख्या को दर्शाता है।



किस वर्ष में उपस्थित होने वाले विद्यार्थियों के संदर्भ में, उत्तीर्ण होने वाले विद्यार्थियों का प्रतिशत सर्वाधिक रहा?

- Ans
- 1. 2019
 - 2. 2022
 - 3. 2020
 - 4. 2021

Question Type : MCQ

Question ID : 6306801108825

Option 1 ID : 6306804355886

Option 2 ID : 6306804355889

Option 3 ID : 6306804355887

Option 4 ID : 6306804355888

Status : Answered

Chosen Option : 3

Q.18 एक दुकानदार ₹240, ₹258 और ₹252 मूल्य के तीन प्रकार के बीजों को 3 : 1 : 2 के अनुपात में मिलाता है। मिश्रण का औसत मूल्य क्या है?

- Ans
- 1. ₹248
 - 2. ₹245
 - 3. ₹246
 - 4. ₹247

Question Type : MCQ

Question ID : 630680447345

Option 1 ID : 6306801746636

Option 2 ID : 6306801746635

Option 3 ID : 6306801746634

Option 4 ID : 6306801746633

Status : Answered

Chosen Option : 4

Q.19 एक साइकिल सवार 4 मिनट 10 सेकंड में 2.5 km की दूरी तय करता है। समान चाल से 12 km की दूरी तय करने में उसे कितना समय लगेगा?

- Ans
- 1. 11 मिनट
 - 2. 10 मिनट
 - 3. 12 मिनट
 - 4. 20 मिनट

Question Type : MCQ
Question ID : 630680233073
Option 1 ID : 630680904413
Option 2 ID : 630680904414
Option 3 ID : 630680904416
Option 4 ID : 630680904415
Status : Answered
Chosen Option : 3

Q.20 एक ठग व्यापारी अपनी किराने के सामान को वास्तविक वजन से 15% कम वजन का उपयोग करके बेचता है और 20% का लाभ कमाता है। उसका कुल लाभ प्रतिशत ज्ञात कीजिए।

- Ans
- 1. 41.17%
 - 2. 5%
 - 3. 35%
 - 4. 12.8%

Question Type : MCQ
Question ID : 630680115690
Option 1 ID : 630680448111
Option 2 ID : 630680448112
Option 3 ID : 630680448110
Option 4 ID : 630680448113
Status : Answered
Chosen Option : 1

Section : Reasoning Ability and Problem Solving

Q.1 A, B, C, D, E, F और G एक वृत्ताकार मेज के चारों ओर केंद्र की ओर मुख करके बैठे हैं (परंतु जरूरी नहीं कि वे इसी क्रम में बैठे हों)। C के दाईं ओर से गिनती करने पर C और E के बीच में केवल 3 व्यक्ति बैठे हैं। E के बाईं ओर से गिनती करने पर E और G के बीच में केवल 1 व्यक्ति बैठा है। F, D के ठीक बाईं ओर बैठा है। B के बाईं ओर से गिनती करने पर B और F के बीच में केवल 2 व्यक्ति बैठे हैं। G के बाईं ओर से गिनती करने पर G और B के बीच में कितने व्यक्ति बैठे हैं?

- Ans
- 1. 0
 - 2. 3
 - 3. 4
 - 4. 1

Question Type : MCQ
Question ID : 630680387826
Option 1 ID : 6306801511939
Option 2 ID : 6306801511940
Option 3 ID : 6306801511941
Option 4 ID : 6306801511938
Status : Answered
Chosen Option : 1

Q.2 दी गई श्रृंखला में प्रश्न चिह्न (?) के स्थान पर क्या आना चाहिए?

41, 48, 55, 62, 69, ?

Ans 1. 76

2. 77

3. 75

4. 74

Question Type : **MCQ**

Question ID : **630680546482**

Option 1 ID : **6306802136500**

Option 2 ID : **6306802136501**

Option 3 ID : **6306802136502**

Option 4 ID : **6306802136503**

Status : **Answered**

Chosen Option : 1

Q.3 MK14 एक निश्चित प्रकार से QO19 से संबंधित है। ठीक उसी प्रकार XV31, BZ36 से संबंधित है। समान तर्क का पालन करते हुए RP52 निम्नलिखित में से किससे संबंधित है?

Ans 1. VT57

2. ST58

3. ED43

4. RT90

Question Type : **MCQ**

Question ID : **630680381045**

Option 1 ID : **6306801485156**

Option 2 ID : **6306801485157**

Option 3 ID : **6306801485158**

Option 4 ID : **6306801485155**

Status : **Answered**

Chosen Option : 1

Q.4 एक निश्चित कूट भाषा में, 'CINEMA' को '591348' लिखा जाता है और 'WAR' को '264' लिखा जाता है। उस कूट भाषा में 'A' को कैसे लिखा जाएगा?

Ans 1. 3

2. 8

3. 1

4. 4

Question Type : **MCQ**

Question ID : **630680439085**

Option 1 ID : **6306801714153**

Option 2 ID : **6306801714154**

Option 3 ID : **6306801714155**

Option 4 ID : **6306801714152**

Status : **Answered**

Chosen Option : 2

Q.5 E, F, G, H, L, K और M एक वृत्ताकार मेज के चारों ओर केंद्र की ओर मुख करके बैठे हैं (परंतु जरूरी नहीं कि वे इसी क्रम में बैठे हों)। K, F के ठीक बाएं बैठा है। K के बाएं से गिनती करने पर K और L के बीच में केवल दो व्यक्ति बैठे हैं। E के दाएं से गिनती करने पर M और E के बीच में केवल दो व्यक्ति बैठे हैं। E, H के ठीक दाएं बैठा है। H, F का निकटतम पड़ोसी नहीं है। G के ठीक दाएं कौन बैठा है?

Ans 1. H

2. L

3. F

4. M

Question Type : MCQ

Question ID : 630680392962

Option 1 ID : 6306801532185

Option 2 ID : 6306801532183

Option 3 ID : 6306801532184

Option 4 ID : 6306801532182

Status : Answered

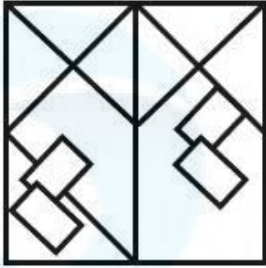
Chosen Option : 3

Q.6 उस विकल्प का चयन कीजिए जिसमें दी गई आकृति सन्निहित है (घूर्णन की अनुमति नहीं है)।

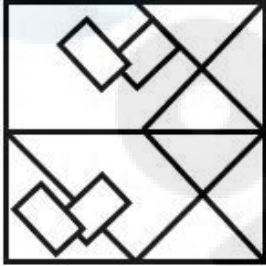


Ans

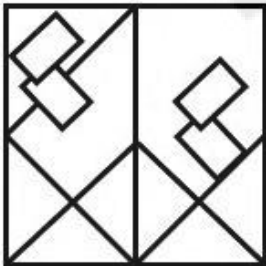
✗ 1.



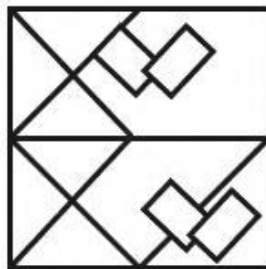
✗ 2.



✗ 3.



✓ 4.



Question Type : MCQ

Question ID : 630680524452

Option 1 ID : 6306802049907

Option 2 ID : 6306802049910

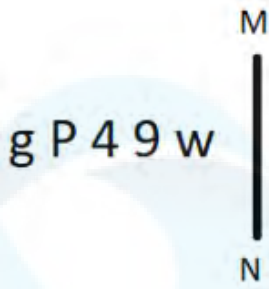
Option 3 ID : 6306802049909

Option 4 ID : 6306802049908

Status : Answered

Chosen Option : 4

Q.7 दी गई आकृति के उस सही दर्पण प्रतिबिंब को चुनिए, जो नीचे दर्शाए गए अनुसार दर्पण को MN पर रखने पर बनेगा।



Ans

1. m e 4 9 g
2. w e t d g
3. w e 4 9 g
4. w 4 9 9 g

Question Type : MCQ

Question ID : 630680525268

Option 1 ID : 6306802053158

Option 2 ID : 6306802053156

Option 3 ID : 6306802053157

Option 4 ID : 6306802053159

Status : Answered

Chosen Option : 3

Q.8 नीचे दिए गए कथनों और निष्कर्षों को ध्यान से पढ़िए। कथनों में दी गई जानकारी को सत्य मानते हुए, चाहे वह सामान्य रूप से ज्ञात तथ्यों से भिन्न प्रतीत होती हो, निर्धारित कीजिए कि कौन-सा/से निष्कर्ष, कथन (कथनों) का तार्किक रूप से अनुसरण करता है/करते हैं।

कथन:

सभी बैग, डफ़ल हैं।

सभी डफ़ल, कंटेनर हैं।

निष्कर्ष:

(I) कुछ कंटेनर, डफ़ल हैं।

(II) सभी बैग, कंटेनर हैं।

- Ans 1. न तो निष्कर्ष (I) और न ही (II) अनुसरण करता है।
2. केवल निष्कर्ष (II) अनुसरण करता है।
3. निष्कर्ष (I) और (II) दोनों अनुसरण करते हैं।
4. केवल निष्कर्ष (I) अनुसरण करता है।

Question Type : MCQ

Question ID : 630680832751

Option 1 ID : 6306803261987

Option 2 ID : 6306803261986

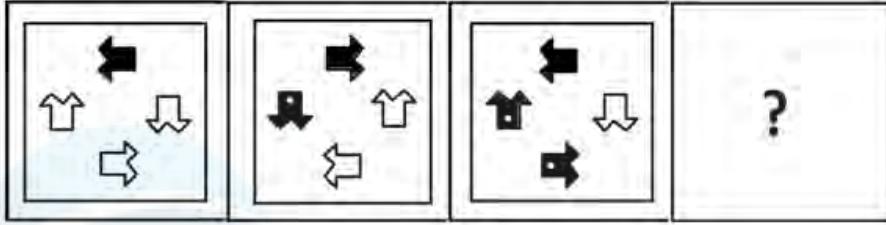
Option 3 ID : 6306803261988

Option 4 ID : 6306803261985

Status : Answered

Chosen Option : 3

Q.9 उस आकृति का चयन करें, जो निम्नलिखित आकृति श्रृंखला में आगे आएगी।

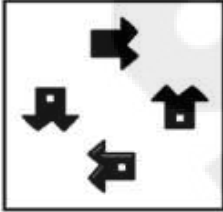


Ans

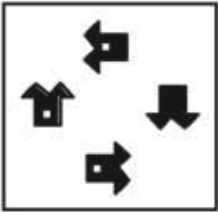
✗ 1.



✓ 2.



✗ 3.



✗ 4.



Question Type : MCQ

Question ID : 630680467990

Option 1 ID : 6306801827864

Option 2 ID : 6306801827863

Option 3 ID : 6306801827862

Option 4 ID : 6306801827865

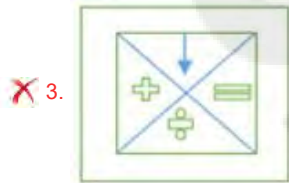
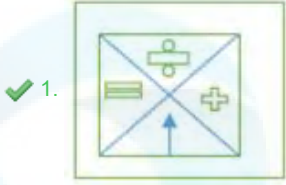
Status : Answered

Chosen Option : 2

Q.10 दिए गए विकल्पों में से उस आकृति का चयन कीजिए जो निम्नलिखित श्रृंखला में प्रश्न चिह्न (?) को प्रतिस्थापित कर सकती है।



Ans



Question Type : MCQ

Question ID : 63068082591

Option 1 ID : 630680320370

Option 2 ID : 630680320371

Option 3 ID : 630680320369

Option 4 ID : 630680320368

Status : Answered

Chosen Option : 1

Q.11 अंग्रेजी वर्णमाला क्रम के आधार पर दी गई श्रृंखला में प्रश्न चिह्न (?) के स्थान पर क्या आना चाहिए?

DBF, HFJ, LJN, PNR, ?

Ans ✗ 1. SQU

✗ 2. FDH

✗ 3. QOS

✓ 4. TRV

Question Type : MCQ

Question ID : 630680316234

Option 1 ID : 6306801230583

Option 2 ID : 6306801230581

Option 3 ID : 6306801230582

Option 4 ID : 6306801230584

Status : Answered

Chosen Option : 4

Q.12 यदि '+' और '-' को आपस में बदल दिया जाए तथा 'x' और '÷' को आपस में बदल दिया जाए, तो निम्नलिखित समीकरण में प्रश्न-चिह्न (?) के स्थान पर क्या आएगा?

$$12 \times 3 - 5 \div 4 + 11 = ?$$

Ans 1. 14

2. 13

3. 11

4. 12

Question Type : **MCQ**

Question ID : **630680394426**

Option 1 ID : **6306801537993**

Option 2 ID : **6306801537992**

Option 3 ID : **6306801537990**

Option 4 ID : **6306801537991**

Status : **Answered**

Chosen Option : 2

Q.13 उस समुच्चय का चयन कीजिए जिसमें संख्याएं ठीक उसी प्रकार संबंधित हैं जिस प्रकार दिए गए समुच्चयों की संख्याएं संबंधित हैं।

(ध्यान दें: संख्याओं को उनके घटक अंकों में अलग-अलग किए बिना पूर्ण संख्याओं पर संक्रियाएं की जानी चाहिए। उदाहरण के लिए संख्या 13 - संख्या 13 पर संक्रियाएं जैसे 13 को जोड़ना/घटाना/गुणा करना आदि किया जा सकता है। 13 को 1 और 3 में अलग-अलग करने की और फिर 1 और 3 पर गणितीय संक्रियाएं करने की अनुमति नहीं है।)

(284, 238)

(271, 225)

Ans 1. (297, 246)

2. (212, 166)

3. (185, 135)

4. (252, 196)

Question Type : **MCQ**

Question ID : **630680397384**

Option 1 ID : **6306801549578**

Option 2 ID : **6306801549580**

Option 3 ID : **6306801549581**

Option 4 ID : **6306801549579**

Status : **Answered**

Chosen Option : 2

Q.14 दिए गए कथनों और निष्कर्षों को ध्यानपूर्वक पढ़िए। यह मानते हुए कि कथनों में दी गई जानकारी सत्य है, चाहे वह सामान्यतः ज्ञात तथ्यों से भिन्न प्रतीत होती हो और निर्णय लीजिए कि दिए गए निष्कर्षों में से कौन-सा/कौन-से निष्कर्ष कथनों का तार्किक रूप से अनुसरण करता है/करते हैं।

कथन:

सभी गुलाब, लिली हैं।

कोई गुलाब, सूरजमुखी नहीं है।

निष्कर्ष:

(I) सभी लिली, गुलाब हैं।

(II) कोई लिली, सूरजमुखी नहीं है।

- Ans
- 1. केवल निष्कर्ष II अनुसरण करता है
 - 2. निष्कर्ष I और निष्कर्ष II दोनों अनुसरण करते हैं
 - 3. केवल निष्कर्ष I अनुसरण करता है
 - 4. न तो निष्कर्ष I और न ही निष्कर्ष II अनुसरण करता है

Question Type : MCQ

Question ID : 630680379579

Option 1 ID : 6306801479360

Option 2 ID : 6306801479361

Option 3 ID : 6306801479359

Option 4 ID : 6306801479362

Status : Answered

Chosen Option : 4

Q.15 अंग्रेजी वर्णमाला क्रम के आधार पर BMGC एक निश्चित प्रकार से GRDZ से संबंधित है। ठीक उसी प्रकार LWAW, QBXT से संबंधित है। समान तर्क का अनुसरण करते हुए, VGUQ निम्नलिखित में से किससे संबंधित है?

- Ans
- 1. BMQN
 - 2. BKRO
 - 3. ZKSM
 - 4. ALRN

Question Type : MCQ

Question ID : 630680528966

Option 1 ID : 6306802067855

Option 2 ID : 6306802067852

Option 3 ID : 6306802067854

Option 4 ID : 6306802067853

Status : Answered

Chosen Option : 4

Q.16 यदि '+' और 'x' को आपस में बदल दिया जाए तथा '-' और '-' को आपस में बदल दिया जाए, तो निम्नलिखित समीकरण में प्रश्न-चिह्न (?) के स्थान पर क्या आएगा?

$$35 \div 4 + 6 - 3 \times 12 = ?$$

Ans 1. 39

2. 29

3. 35

4. 28

Question Type : MCQ

Question ID : 630680388208

Option 1 ID : 6306801513397

Option 2 ID : 6306801513396

Option 3 ID : 6306801513395

Option 4 ID : 6306801513394

Status : Answered

Chosen Option : 1

Q.17 11, किसी निश्चित तर्क का अनुसरण करते हुए 106 से संबंधित है। 15, समान तर्क का अनुसरण करते हुए 146 से संबंधित है। समान तर्क का अनुसरण करते हुए 19, निम्नलिखित में से किससे संबंधित है?

(ध्यान दें: संख्याओं को उनके घटक अंकों में अलग-अलग किए बिना पूर्ण संख्याओं पर संक्रियाएं की जानी चाहिए। उदाहरण के लिए संख्या 13 - संख्या 13 पर संक्रियाएं जैसे 13 को जोड़ना/घटाना/गुणा करना आदि किया जा सकता है। 13 को 1 और 3 में अलग-अलग करने की और फिर 1 और 3 पर गणितीय संक्रियाएं करने की अनुमति नहीं है।)

Ans 1. 186

2. 177

3. 189

4. 178

Question Type : MCQ

Question ID : 630680450186

Option 1 ID : 6306801757892

Option 2 ID : 6306801757894

Option 3 ID : 6306801757893

Option 4 ID : 6306801757891

Status : Answered

Chosen Option : 1

Q.18 एक कूट भाषा में, 'STATION' को '18' के रूप में कूटबद्ध किया जाता है और 'JOURNALS' को '20' के रूप में कूटबद्ध किया जाता है। उसी भाषा में 'GOLDMEDAL' को किस प्रकार कूटबद्ध किया जाएगा?

Ans 1. 44

2. 22

3. 28

4. 72

Question Type : MCQ

Question ID : 630680465226

Option 1 ID : 6306801816939

Option 2 ID : 6306801816940

Option 3 ID : 6306801816942

Option 4 ID : 6306801816941

Status : Not Answered

Chosen Option : --

Q.19 एक निश्चित कूट भाषा में, 'SNOW' को '7358' के रूप में लिखा जाता है और 'BLEW' को '1293' के रूप में लिखा जाता है। दी गई भाषा में 'W' को कैसे लिखा जाएगा?

Ans 1. 9

2. 8

3. 3

4. 1

Question Type : MCQ

Question ID : 630680383028

Option 1 ID : 6306801493020

Option 2 ID : 6306801493022

Option 3 ID : 6306801493021

Option 4 ID : 6306801493019

Status : Not Answered

Chosen Option : --

Q.20 एक निश्चित कूट भाषा में, 'system is backbone' को 'sdf wer tce' के रूप में कूटबद्ध किया जाता है और 'backbone is you' को 'tce kpo wer' के रूप में कूटबद्ध किया जाता है। दी गई भाषा में कूट 'sdf' का क्या अर्थ है?

Ans 1. backbone

2. system

3. is

4. you

Question Type : MCQ

Question ID : 630680387043

Option 1 ID : 6306801508884

Option 2 ID : 6306801508883

Option 3 ID : 6306801508885

Option 4 ID : 6306801508882

Status : Answered

Chosen Option : 2

Q.1 रंजनी हेब्बार (Ranjani Hebbar) का संबंध निम्नलिखित में से किस क्षेत्र से था?

- Ans 1. भजन
 2. हिंदुस्तानी संगीत
 3. लोक संगीत
 4. कर्नाटक संगीत

Question Type : MCQ

Question ID : 630680488679

Option 1 ID : 6306801908734

Option 2 ID : 6306801908731

Option 3 ID : 6306801908733

Option 4 ID : 6306801908732

Status : Answered

Chosen Option : 3

Q.2 1757 के प्लासी के निर्णायक युद्ध के बाद, निम्नलिखित में से किसे अंग्रेजों द्वारा बंगाल का नवाब घोषित किया गया था?

- Ans 1. मंसूर अली खान (Mansur Ali Khan)
 2. मीर जाफर अली खान (Mir Jafar Ali Khan)
 3. मीर कासिम (Mir Qasim)
 4. मुर्शिद कुली खान (Murshid Quli Khan)

Question Type : MCQ

Question ID : 630680184290

Option 1 ID : 630680714171

Option 2 ID : 630680714170

Option 3 ID : 630680714169

Option 4 ID : 630680714172

Status : Answered

Chosen Option : 3

Q.3 निम्नलिखित में से किस देश ने 2023 में अपना 8वाँ पुरुष एशियाई कप क्रिकेट खिताब (Men's Asian Cup cricket title) जीता?

- Ans 1. पाकिस्तान
 2. भारत
 3. बांग्लादेश
 4. श्रीलंका

Question Type : MCQ

Question ID : 630680799004

Option 1 ID : 6306803130819

Option 2 ID : 6306803130818

Option 3 ID : 6306803130821

Option 4 ID : 6306803130820

Status : Answered

Chosen Option : 2

Q.4 किसी देश में कितने केंद्रीय बैंक हो सकते हैं?

- Ans 1. एक
 2. तीन
 3. दो
 4. चार

Question Type : MCQ

Question ID : 630680181844

Option 1 ID : 630680704610

Option 2 ID : 630680704612

Option 3 ID : 630680704611

Option 4 ID : 630680704613

Status : Answered

Chosen Option : 1

Q.5 _____ की शाम को बीटिंग रिट्रीट समारोह (Beating Retreat ceremony) के रूप में एक शाही समारोह गणतंत्र दिवस समारोह के अंत का प्रतीक है।

- Ans 1. 27 जनवरी
 2. 26 जनवरी
 3. 28 जनवरी
 4. 29 जनवरी

Question Type : MCQ

Question ID : 630680403359

Option 1 ID : 6306801572949

Option 2 ID : 6306801572946

Option 3 ID : 6306801572947

Option 4 ID : 6306801572948

Status : Answered

Chosen Option : 1

Q.6 वर्ष 1930 में, नमक सत्याग्रह का नेतृत्व निम्नलिखित में से किसने किया था?

- Ans 1. सुभाष चंद्र बोस
 2. सरदार वल्लभभाई पटेल
 3. महात्मा गांधी
 4. जवाहरलाल नेहरू

Question Type : MCQ

Question ID : 630680684357

Option 1 ID : 6306802680095

Option 2 ID : 6306802680096

Option 3 ID : 6306802680097

Option 4 ID : 6306802680098

Status : Answered

Chosen Option : 3

Q.7 भारतीय संविधान की प्रस्तावना के अनुसार 'स्वतंत्रता' में निम्नलिखित में से किसका उल्लेख नहीं है?

- Ans 1. विचार
 2. विश्वास और आशा
 3. आस्था और पूजा
 4. अभिव्यक्ति

Question Type : MCQ
Question ID : 630680275839
Option 1 ID : 6306801071869
Option 2 ID : 6306801071870
Option 3 ID : 6306801071867
Option 4 ID : 6306801071868
Status : Answered
Chosen Option : 2

Q.8 निम्नलिखित में से कौन-सा बायोस्फीयर रिजर्व (Biosphere reserve) उत्तराखंड में स्थित है?

- Ans 1. नंदा देवी
 2. पचमढी
 3. दिहांग-दिबांग
 4. नीलगिरी

Question Type : MCQ
Question ID : 630680404702
Option 1 ID : 6306801578285
Option 2 ID : 6306801578286
Option 3 ID : 6306801578283
Option 4 ID : 6306801578284
Status : Answered
Chosen Option : 1

Q.9 शेरशाह सूरी का मकबरा निम्नलिखित में से किस स्थान पर स्थित है?

- Ans 1. राजगीर (Rajgir)
 2. सासाराम (Sasaram)
 3. सुल्तानपुर (Sultanpur)
 4. बड़गांव (Bargaon)

Question Type : MCQ
Question ID : 630680555029
Option 1 ID : 6306802169693
Option 2 ID : 6306802169692
Option 3 ID : 6306802169695
Option 4 ID : 6306802169694
Status : Answered
Chosen Option : 2

Q.10 किस ऋग्वैदिक देवता को ईश्वर और मनुष्य के बीच मध्यस्थ माना जाता है?

- Ans
- 1. इंद्र
 - 2. अग्नि
 - 3. यम
 - 4. वरुण

Question Type : MCQ

Question ID : 630680433807

Option 1 ID : 6306801693191

Option 2 ID : 6306801693193

Option 3 ID : 6306801693194

Option 4 ID : 6306801693192

Status : Answered

Chosen Option : 2

Q.11 दक्कन की ओर अकबर का पहला सेना अभियान (expedition) शहजादा मुराद और के नेतृत्व में अहमदनगर भेजा गया था।

- Ans
- 1. मान सिंह
 - 2. बीरबल
 - 3. अधम खॉँ
 - 4. अब्दुल रहीम खान-ए-खाना

Question Type : MCQ

Question ID : 630680333888

Option 1 ID : 6306801298825

Option 2 ID : 6306801298826

Option 3 ID : 6306801298828

Option 4 ID : 6306801298827

Status : Answered

Chosen Option : 1

Q.12 टेक्टोनिक प्लेट सीमाओं की गति की दर क्या है?

- Ans
- 1. प्रति वर्ष 1-2 mm
 - 2. प्रति वर्ष 2-5 km
 - 3. प्रति वर्ष 1-2 इंच
 - 4. प्रति वर्ष 1-2 m

Question Type : MCQ

Question ID : 630680517201

Option 1 ID : 6306802021203

Option 2 ID : 6306802021201

Option 3 ID : 6306802021200

Option 4 ID : 6306802021202

Status : Answered

Chosen Option : 3

Q.13 पद्मा सुब्रह्मण्यम, अलारमेल वल्ली, यामिनी कृष्णमूर्ति और अनीता रत्नम _____ की प्रतिष्ठित कलाकार हैं।

Ans 1. कुचिपुड़ी

2. भरतनाट्यम

3. ओडिसी

4. कथक

Question Type : MCQ

Question ID : 630680554549

Option 1 ID : 6306802167969

Option 2 ID : 6306802167966

Option 3 ID : 6306802167967

Option 4 ID : 6306802167968

Status : Answered

Chosen Option : 2

Q.14 जुकाम (common cold) के लिए कौन-सा वायरस उत्तरदायी होता है?

Ans 1. हेपेटाइटिस A (Hepatitis A)

2. इन्फ्लुएंजा (Influenza)

3. राइनोवायरस (Rhinovirus)

4. कोरोना वायरस (Coronavirus)

Question Type : MCQ

Question ID : 630680540494

Option 1 ID : 6306802113058

Option 2 ID : 6306802113055

Option 3 ID : 6306802113056

Option 4 ID : 6306802113057

Status : Answered

Chosen Option : 2

Q.15 कैगा परमाणु ऊर्जा परियोजना (Kaiga Nuclear Power Project) किस राज्य में स्थित है?

Ans 1. गुजरात

2. कर्नाटक

3. असम

4. बिहार

Question Type : MCQ

Question ID : 630680484458

Option 1 ID : 6306801892150

Option 2 ID : 6306801892151

Option 3 ID : 6306801892152

Option 4 ID : 6306801892153

Status : Answered

Chosen Option : 2

Q.16 फरवरी 2023 में, नीति (NITI) आयोग का सीईओ (CEO) किसे नियुक्त किया गया?

- Ans
- 1. अय्यर परमेश्वरन
 - 2. मोनाली जायसवाल
 - 3. बी वी आर सुब्रह्मण्यम
 - 4. गीतिका श्रीवास्तव

Question Type : MCQ

Question ID : 630680488703

Option 1 ID : 6306801927706

Option 2 ID : 6306801908828

Option 3 ID : 6306801908829

Option 4 ID : 6306801908827

Status : Answered

Chosen Option : 3

Q.17 हृदय में कक्षों की संख्या के आधार पर, निम्नलिखित में से असंगत का चयन कीजिए।

- Ans
- 1. कछुआ (Turtle)
 - 2. गिरगिट (Chameleon)
 - 3. मगरमच्छ (Crocodile)
 - 4. मेंढक (Frog)

Question Type : MCQ

Question ID : 630680422323

Option 1 ID : 6306801647729

Option 2 ID : 6306801647730

Option 3 ID : 6306801647731

Option 4 ID : 6306801647728

Status : Answered

Chosen Option : 3

Q.18 थेरवाद (Theravada) को भारत के निम्नलिखित में से किस पड़ोसी देश के आधिकारिक धर्म के रूप में जाना जाता है?

- Ans
- 1. श्रीलंका
 - 2. पाकिस्तान
 - 3. बांग्लादेश
 - 4. अफगानिस्तान

Question Type : MCQ

Question ID : 630680694701

Option 1 ID : 6306802721067

Option 2 ID : 6306802721068

Option 3 ID : 6306802721069

Option 4 ID : 6306802721070

Status : Answered

Chosen Option : 1

Q.19 निम्नलिखित में से कौन-सा नृत्य पुरस्कार राष्ट्रीय भारतीय शास्त्रीय नृत्य संस्थान (National Institute of Indian Classical Dance) द्वारा आयोजित किया जाता है?

- Ans
- 1. भरत शास्त्र नृत्य प्रवीण
 - 2. सनातन संगीत संस्कृति
 - 3. नाट्य शिरोमणि राष्ट्रीय
 - 4. अभिनंदन सरोजा

Question Type : MCQ

Question ID : 630680433307

Option 1 ID : 6306801691195

Option 2 ID : 6306801691198

Option 3 ID : 6306801691196

Option 4 ID : 6306801691197

Status : Answered

Chosen Option : 1

Q.20 आवर्त सारणी में उच्चतम विद्युत ऋणात्मकता किस तत्व की होती है?

- Ans
- 1. हाइड्रोजन (Hydrogen)
 - 2. फ्लोरीन (Fluorine)
 - 3. कार्बन (Carbon)
 - 4. ऑक्सीजन (Oxygen)

Question Type : MCQ

Question ID : 630680411224

Option 1 ID : 6306801603650

Option 2 ID : 6306801603648

Option 3 ID : 6306801603651

Option 4 ID : 6306801603649

Status : Answered

Chosen Option : 2

Q.21 निम्नलिखित में से किस वर्ष भारतीय संविधान में 86वें संशोधन अधिनियम के द्वारा 11वां मौलिक कर्तव्य शामिल किया गया था?

- Ans
- 1. 2002
 - 2. 1986
 - 3. 1982
 - 4. 1976

Question Type : MCQ

Question ID : 630680550243

Option 1 ID : 6306802151238

Option 2 ID : 6306802151237

Option 3 ID : 6306802151236

Option 4 ID : 6306802151235

Status : Answered

Chosen Option : 1

Q.22 1951 की जनगणना के अनुसार, भारत की महिला साक्षरता दर कितनी थी?

- Ans
- 1. 15.35%
 - 2. 8.86%
 - 3. 5.56%
 - 4. 10.86%

Question Type : MCQ

Question ID : 630680115730

Option 1 ID : 630680448261

Option 2 ID : 630680448258

Option 3 ID : 630680448260

Option 4 ID : 630680448259

Status : Answered

Chosen Option : 2

Q.23 मुल्क राज आनंद द्वारा निम्नलिखित में से कौन-सी पुस्तक लिखी गई है?

- Ans
- 1. द वाइट टाइगर (The White Tiger)
 - 2. अनटचेबल (Untouchable)
 - 3. द गाइड (The Guide)
 - 4. द ब्लू अम्ब्रेला (The Blue Umbrella)

Question Type : MCQ

Question ID : 630680409458

Option 1 ID : 6306801596662

Option 2 ID : 6306801596661

Option 3 ID : 6306801596663

Option 4 ID : 6306801596664

Status : Answered

Chosen Option : 1

Q.24 उत्तराखंड लोक सेवा (महिलाओं के लिए क्षैतिज आरक्षण) विधेयक, 2022 महिलाओं को कितना आरक्षण प्रदान करता है?

- Ans
- 1. 45%
 - 2. 25%
 - 3. 20%
 - 4. 30%

Question Type : MCQ

Question ID : 630680339465

Option 1 ID : 6306801320429

Option 2 ID : 6306801320431

Option 3 ID : 6306801320432

Option 4 ID : 6306801320430

Status : Answered

Chosen Option : 4

Q.25 टेनिस में 'ड्यूस (deuce)' शब्द का अर्थ क्या है?

Ans 1. 40-40 का टाई स्कोर

2. लेट

3. किसी गेम में अंतिम पॉइंट

4. सर्विंग में फॉल्ट

Question Type : **MCQ**

Question ID : **630680466220**

Option 1 ID : **6306801820904**

Option 2 ID : **6306801820902**

Option 3 ID : **6306801820905**

Option 4 ID : **6306801820903**

Status : **Answered**

Chosen Option : **4**

Section : English Language and Comprehension

Q.1 The following sentence has been split into four segments. Identify the segment that contains a grammatical error.

He hardness ever / complains about / his workload because / he enjoys his job.

Ans 1. he enjoys his job

2. complains about

3. his workload because

4. He hardness ever

Question Type : **MCQ**

Question ID : **630680711791**

Option 1 ID : **6306802788807**

Option 2 ID : **6306802788805**

Option 3 ID : **6306802788806**

Option 4 ID : **6306802788804**

Status : **Answered**

Chosen Option : **4**

Q.2 The following sentence has been split into four segments. Identify the segment that contains a grammatical error.

The fresh air / in the garden relaxes / the minds of children as / the environment is cleaner.

Ans 1. in the garden relaxes

2. the environment is cleaner

3. The fresh air

4. the minds of children as

Question Type : **MCQ**

Question ID : **630680514590**

Option 1 ID : **6306802010986**

Option 2 ID : **6306802010988**

Option 3 ID : **6306802010985**

Option 4 ID : **6306802010987**

Status : **Answered**

Chosen Option : **2**

Q.3 Select the most appropriate option to fill in the blank.

I dream of a country where even the least talented person has the _____ to earn a living.

- Ans
- 1. landmark
 - 2. priority
 - 3. admit
 - 4. opportunity

Question Type : **MCQ**

Question ID : **630680544793**

Option 1 ID : **6306802129936**

Option 2 ID : **6306802129937**

Option 3 ID : **6306802129935**

Option 4 ID : **6306802129934**

Status : **Answered**

Chosen Option : **4**

Q.4 Select the option that can be used as a one-word substitute for the given group of words.

The act of talking to oneself, often audibly

- Ans
- 1. Solitude
 - 2. Soliloquy
 - 3. Dialogue
 - 4. Monologue

Question Type : **MCQ**

Question ID : **6306801031661**

Option 1 ID : **6306804049356**

Option 2 ID : **6306804049353**

Option 3 ID : **6306804049355**

Option 4 ID : **6306804049354**

Status : **Answered**

Chosen Option : **4**

Q.5 Select the **INCORRECTLY** spelt word.

- Ans
- 1. Opponent
 - 2. Ointment
 - 3. Obligation
 - 4. Overview

Question Type : **MCQ**

Question ID : **630680625253**

Option 1 ID : **6306802447214**

Option 2 ID : **6306802447213**

Option 3 ID : **6306802447215**

Option 4 ID : **6306802447216**

Status : **Answered**

Chosen Option : **3**

Q.6 Select the **INCORRECTLY** spelt word in the given sentence.
Applicants who are younger and prettier than you will continue applying.

- Ans 1. applying
 2. applicants
 3. prettier
 4. younger

Question Type : **MCQ**
Question ID : **6306801106837**
Option 1 ID : **6306804347812**
Option 2 ID : **6306804347815**
Option 3 ID : **6306804347814**
Option 4 ID : **6306804347813**
Status : **Answered**
Chosen Option : 1

Q.7 Select the option that corrects the error in the given sentence.
She performed bad in the exam.

- Ans 1. goodly
 2. bad
 3. good
 4. badly

Question Type : **MCQ**
Question ID : **630680514389**
Option 1 ID : **6306802010183**
Option 2 ID : **6306802010184**
Option 3 ID : **6306802010182**
Option 4 ID : **6306802010181**
Status : **Answered**
Chosen Option : 4

Q.8 The following sentence has been split into four segments. Identify the segment that contains a grammatical error.

How can someone / walk this farthest / just for / peace of mind?

- Ans 1. How can someone
 2. walk this farthest
 3. peace of mind
 4. just for

Question Type : **MCQ**
Question ID : **630680514591**
Option 1 ID : **6306802010989**
Option 2 ID : **6306802010990**
Option 3 ID : **6306802010992**
Option 4 ID : **6306802010991**
Status : **Answered**
Chosen Option : 2

Q.9 Select the most appropriate ANTONYM of the given word.

Fetid

- Ans** 1. Fragrant
 2. Fatigued
 3. False
 4. Fatal

Question Type : **MCQ**
Question ID : **630680603354**
Option 1 ID : **6306802360884**
Option 2 ID : **6306802360887**
Option 3 ID : **6306802360885**
Option 4 ID : **6306802360886**
Status : **Answered**
Chosen Option : 1

Q.10 Select the most appropriate option to fill in the blank.

The humble surroundings of our company _____ creativity amongst the newly recruited employees.

- Ans** 1. banished
 2. connected
 3. inspired
 4. filed

Question Type : **MCQ**
Question ID : **630680544804**
Option 1 ID : **6306802129979**
Option 2 ID : **6306802129980**
Option 3 ID : **6306802129978**
Option 4 ID : **6306802129981**
Status : **Answered**
Chosen Option : 4

Q.11 Select the most appropriate option to fill in the blank.

The teacher asked us to _____ our essays for spelling and grammar errors.

- Ans** 1. revise
 2. revolve
 3. advise
 4. recognise

Question Type : **MCQ**
Question ID : **630680488665**
Option 1 ID : **6306801908675**
Option 2 ID : **6306801908677**
Option 3 ID : **6306801908676**
Option 4 ID : **6306801908678**
Status : **Answered**
Chosen Option : 1

Q.12 Select the option that will correct the underlined part of the given sentence. In case no correction is required, select No correction needed.

Naveen is as tall as Rocky.

- Ans 1. tall as
 2. taller than
 3. the tallest
 4. No correction needed

Question Type : MCQ

Question ID : 630680514646

Option 1 ID : 6306802011211

Option 2 ID : 6306802011209

Option 3 ID : 6306802011210

Option 4 ID : 6306802011212

Status : Answered

Chosen Option : 2

Q.13 Select the most appropriate ANTONYM of the underlined word in the given sentence.

The late secretary of our society was known for his ruthless treatment of all the security personnel of the society.

- Ans 1. Fragile
 2. Compassionate
 3. Brutal
 4. Startled

Question Type : MCQ

Question ID : 630680523390

Option 1 ID : 6306802045740

Option 2 ID : 6306802045737

Option 3 ID : 6306802045738

Option 4 ID : 6306802045739

Status : Answered

Chosen Option : 2

Q.14 Select the most appropriate synonym of the underlined word in the given sentence.

I have a vague memory of meeting her many years ago.

- Ans 1. Symbolic
 2. Hazy
 3. evident
 4. pellucid

Question Type : MCQ

Question ID : 630680396965

Option 1 ID : 6306801547925

Option 2 ID : 6306801547927

Option 3 ID : 6306801547924

Option 4 ID : 6306801547926

Status : Answered

Chosen Option : 4

Q.15 Select the most appropriate word opposite in meaning (ANTONYM) to the underlined word in the given sentence.

Aunty Hema gave us her candid opinion on the skit we performed on Children's Day.

- Ans
- 1. strong
 - 2. intelligent
 - 3. prejudiced
 - 4. frank

Question Type : MCQ

Question ID : 630680444363

Option 1 ID : 6306801734730

Option 2 ID : 6306801734729

Option 3 ID : 6306801734731

Option 4 ID : 6306801734728

Status : Answered

Chosen Option : 3

Q.16 Select the most appropriate ANTONYM of the given word.

Show

- Ans
- 1. Display
 - 2. Cover
 - 3. Register
 - 4. Exhibit

Question Type : MCQ

Question ID : 630680540676

Option 1 ID : 6306802113764

Option 2 ID : 6306802113763

Option 3 ID : 6306802113765

Option 4 ID : 6306802113762

Status : Answered

Chosen Option : 2

Q.17 Select the option that will improve the underlined part of the given sentence.

We agree that Professor Revanth is very knowledgeable, but we do not like attending his classes because he always keeps blowing the trumpet.

- Ans
- 1. the blow of a trumpet
 - 2. sounding the trumpet
 - 3. blowing his own trumpet
 - 4. the sound of the trumpet

Question Type : MCQ

Question ID : 63068064350

Option 1 ID : 630680248386

Option 2 ID : 630680248389

Option 3 ID : 630680248388

Option 4 ID : 630680248387

Status : Answered

Chosen Option : 3

Q.18 Select the INCORRECTLY spelt word.

- A) Exaggerate
- B) Accommodate
- C) Exuberant
- D) Perservere

- Ans
- 1. A
 - 2. C
 - 3. D
 - 4. B

Question Type : MCQ

Question ID : 630680799089

Option 1 ID : 6306803131154

Option 2 ID : 6306803131156

Option 3 ID : 6306803131157

Option 4 ID : 6306803131155

Status : Answered

Chosen Option : 4

Q.19 Your sibling accidentally broke your favourite vase. Which of the following idioms might you use to tell them not to worry about it?

- Ans
- 1. "Bite the bullet!"
 - 2. "You're walking on air!"
 - 3. "Don't cry over spilt milk!"
 - 4. "Shallow brooks are noisy"

Question Type : MCQ

Question ID : 630680726528

Option 1 ID : 6306802847119

Option 2 ID : 6306802847120

Option 3 ID : 6306802847121

Option 4 ID : 6306802847118

Status : Answered

Chosen Option : 3

Q.20 Parts of the following sentence have been given as options. Select the option that contains an error.

An eucalyptus tree in my backyard is what acts as a landmark for many to reach my house.

- Ans
- 1. to reach my house
 - 2. An eucalyptus tree
 - 3. in my backyard
 - 4. acts as a landmark for many

Question Type : MCQ

Question ID : 63068084883

Option 1 ID : 630680329051

Option 2 ID : 630680329048

Option 3 ID : 630680329049

Option 4 ID : 630680329050

Status : Answered

Chosen Option : 2

Comprehension:

In the following passage, some words have been deleted. Read the passage carefully and select the most appropriate option to fill in each blank.

Students want (1)_____ as the primary outcome of higher education. Hence, practical experience becomes (2)_____ valuable to a student's degree. Indian students are highly (3)_____ at theoretical learning but lack practical training. This (4)_____ an issue for decades in the Indian job market. In order to address this (5)_____ issue, state governments have to take a lead. The AP government in the past three years have made efforts to bridge this long-lasting gap between theoretical and practical learning of the students.

SubQuestion No : 21

Q.21 Select the most appropriate option to fill in blank 1.

- Ans
- 1. employable
 - 2. appoint
 - 3. appointed
 - 4. employability

Question Type : **MCQ**

Question ID : **630680199454**

Option 1 ID : **630680773452**

Option 2 ID : **630680773453**

Option 3 ID : **630680773454**

Option 4 ID : **630680773451**

Status : **Answered**

Chosen Option : **1**

Comprehension:

In the following passage, some words have been deleted. Read the passage carefully and select the most appropriate option to fill in each blank.

Students want (1)_____ as the primary outcome of higher education. Hence, practical experience becomes (2)_____ valuable to a student's degree. Indian students are highly (3)_____ at theoretical learning but lack practical training. This (4)_____ an issue for decades in the Indian job market. In order to address this (5)_____ issue, state governments have to take a lead. The AP government in the past three years have made efforts to bridge this long-lasting gap between theoretical and practical learning of the students.

SubQuestion No : 22

Q.22 Select the most appropriate option to fill in blank 2.

- Ans
- 1. hardly
 - 2. voicelessly
 - 3. equally
 - 4. abruptly

Question Type : **MCQ**

Question ID : **630680199455**

Option 1 ID : **630680773457**

Option 2 ID : **630680773458**

Option 3 ID : **630680773456**

Option 4 ID : **630680773455**

Status : **Answered**

Chosen Option : **3**

Comprehension:

In the following passage, some words have been deleted. Read the passage carefully and select the most appropriate option to fill in each blank.

Students want (1)_____ as the primary outcome of higher education. Hence, practical experience becomes (2)_____ valuable to a student's degree. Indian students are highly (3)_____ at theoretical learning but lack practical training. This (4)_____ an issue for decades in the Indian job market. In order to address this (5)_____ issue, state governments have to take a lead. The AP government in the past three years have made efforts to bridge this long-lasting gap between theoretical and practical learning of the students.

SubQuestion No : 23**Q.23 Select the most appropriate option to fill in blank 3.**

- Ans 1. spiritual
 2. spirit
 3. relaxed
 4. competitive

Question Type : **MCQ**Question ID : **630680199456**Option 1 ID : **630680773460**Option 2 ID : **630680773459**Option 3 ID : **630680773461**Option 4 ID : **630680773462**Status : **Answered**Chosen Option : **4****Comprehension:**

In the following passage, some words have been deleted. Read the passage carefully and select the most appropriate option to fill in each blank.

Students want (1)_____ as the primary outcome of higher education. Hence, practical experience becomes (2)_____ valuable to a student's degree. Indian students are highly (3)_____ at theoretical learning but lack practical training. This (4)_____ an issue for decades in the Indian job market. In order to address this (5)_____ issue, state governments have to take a lead. The AP government in the past three years have made efforts to bridge this long-lasting gap between theoretical and practical learning of the students.

SubQuestion No : 24**Q.24 Select the most appropriate option to fill in blank 4.**

- Ans 1. will be
 2. has been
 3. is
 4. have been

Question Type : **MCQ**Question ID : **630680199457**Option 1 ID : **630680773464**Option 2 ID : **630680773463**Option 3 ID : **630680773465**Option 4 ID : **630680773466**Status : **Answered**Chosen Option : **3**

Comprehension:

In the following passage, some words have been deleted. Read the passage carefully and select the most appropriate option to fill in each blank.

Students want (1)_____ as the primary outcome of higher education. Hence, practical experience becomes (2)_____ valuable to a student's degree. Indian students are highly (3)_____ at theoretical learning but lack practical training. This (4)_____ an issue for decades in the Indian job market. In order to address this (5)_____ issue, state governments have to take a lead. The AP government in the past three years have made efforts to bridge this long-lasting gap between theoretical and practical learning of the students.

SubQuestion No : 25

Q.25 Select the most appropriate option to fill in blank 5.

- Ans 1. momentary
 2. perennial
 3. appetite
 4. insignificant

Question Type : **MCQ**

Question ID : **630680199458**

Option 1 ID : **630680773468**

Option 2 ID : **630680773467**

Option 3 ID : **630680773469**

Option 4 ID : **630680773470**

Status : **Answered**

Chosen Option : **2**