

## Multi Tasking Non Technical Staff and Havaladar CBIC and CBN Examination 2024

Roll Number	
Candidate Name	
Venue Name	Yagyavalkya Institute of Technology
Exam Date	04/11/2024
Exam Time	4:00 PM - 5:30 PM
Subject	MTS Non Tech Havaladar CBIC and CBN Examination 2024

### Section : Numerical and Mathematical Ability

Q.1 3 वर्षों के लिए 8% वार्षिक की ब्याज दर पर उधार ली गई राशि ₹2500 पर साधारण ब्याज (₹ में) ज्ञात कीजिए।

- Ans
- 1. 560
  - 2. 640
  - 3. 600
  - 4. 540

Question Type : MCQ

Question ID : 630680591914

Option 1 ID : 6306802316126

Option 2 ID : 6306802316124

Option 3 ID : 6306802316123

Option 4 ID : 6306802316125

Status : Answered

Chosen Option : 3

Q.2 2 वर्षों के लिए 6% वार्षिक की ब्याज दर पर उधार ली गई राशि ₹2500 पर साधारण ब्याज (₹ में) ज्ञात कीजिए।

- Ans
- 1. 300
  - 2. 340
  - 3. 240
  - 4. 260

Question Type : MCQ

Question ID : 630680591903

Option 1 ID : 6306802316079

Option 2 ID : 6306802316080

Option 3 ID : 6306802316081

Option 4 ID : 6306802316082

Status : Answered

Chosen Option : 1

Q.3 36 km/h की चाल से चल रही कोई ट्रेन एक खंभे को 24 सेकंड में पार कर लेती है। ट्रेन की लंबाई कितनी है?

- Ans
- 1. 300 m
  - 2. 1.5 m
  - 3. 240 m
  - 4. 30 m

Question Type : MCQ

Question ID : 630680233072

Option 1 ID : 630680904412

Option 2 ID : 630680904411

Option 3 ID : 630680904409

Option 4 ID : 630680904410

Status : Answered

Chosen Option : 3

Q.4 पाँच व्यवसायों V, W, X, Y, और Z की माँग और उत्पादन को संलग्न चार्ट में दिखाया गया है, जो उत्तर प्रदान करने के लिए एक बुनियादी बार-ग्राफ का उपयोग करके उन्हें दर्शाता है।



चार व्यवसायों (V, W, X, Y) की मिलाकर औसत माँग और औसत उत्पादन के बीच का अंतर ज्ञात कीजिए।

- Ans
- 1. 50
  - 2. 75
  - 3. 125
  - 4. 100

Question Type : MCQ

Question ID : 6306801108827

Option 1 ID : 6306804355894

Option 2 ID : 6306804355895

Option 3 ID : 6306804355897

Option 4 ID : 6306804355896

Status : Answered

Chosen Option : 4

Q.5 एक ठोस बेलन का वक्र पृष्ठीय क्षेत्रफल  $605 \text{ cm}^2$  है। इसके आधार की परिधि  $22 \text{ cm}$  है।

बेलन का संपूर्ण पृष्ठीय क्षेत्रफल बेलन की ऊँचाई का कितना गुना है?  $\pi = \frac{22}{7}$  लें

Ans  1. 20.8

2. 25

3. 24.8

4. 24.5

Question Type : MCQ

Question ID : 630680387347

Option 1 ID : 6306801510075

Option 2 ID : 6306801510076

Option 3 ID : 6306801510077

Option 4 ID : 6306801510074

Status : Answered

Chosen Option : 4

Q.6 वह अनुपात ज्ञात कीजिए, जिसमें ₹70 प्रति 100 ग्राम की कीमत वाले उत्पाद A को ₹100 प्रति 100 ग्राम की कीमत वाले उत्पाद B के साथ मिलाया जाना चाहिए, ताकि मिश्रण को ₹1.20 प्रति ग्राम की दर से बेचने पर 25% का लाभ प्राप्त हो?

Ans  1. 2 : 13

2. 13 : 2

3. 9 : 2

4. 2 : 9

Question Type : MCQ

Question ID : 630680466560

Option 1 ID : 6306801822246

Option 2 ID : 6306801822247

Option 3 ID : 6306801822248

Option 4 ID : 6306801822249

Status : Answered

Chosen Option : 2

Q.7 गणित, अंग्रेजी और जीव विज्ञान में A द्वारा प्राप्त किए गए अंक क्रमशः 100 में से 71, 150 में से 82 और 200 में से 177 हैं। औसत प्राप्तांक क्या है?

- Ans
1.  $\frac{11}{16}$
2.  $\frac{11}{15}$
3.  $\frac{12}{13}$
4.  $\frac{13}{21}$

Question Type : MCQ

Question ID : 630680447327

Option 1 ID : 6306801746562

Option 2 ID : 6306801746564

Option 3 ID : 6306801746561

Option 4 ID : 6306801746563

Status : Answered

Chosen Option : 2

Q.8 छह बिंदुओं के x और y-निर्देशांक नीचे सारणीबद्ध हैं। सारणी का ध्यानपूर्वक अवलोकन कीजिए और दिए गए प्रश्न का उत्तर दीजिए।

बिंदु	X-निर्देशांक	Y-निर्देशांक
A	15	42
B	20	46
C	18	44
D	16	48
E	21	50
F	22	52

F और C के बीच की दूरी ज्ञात कीजिए।

- Ans
1.  $\sqrt{8}$  इकाई
2.  $\sqrt{13}$  इकाई
3.  $\sqrt{42}$  इकाई
4.  $\sqrt{80}$  इकाई

Question Type : MCQ

Question ID : 630680449874

Option 1 ID : 6306801756667

Option 2 ID : 6306801756668

Option 3 ID : 6306801756669

Option 4 ID : 6306801756670

Status : Answered

Chosen Option : 4

Q.9 मिस्टर राव ने ₹45,000 में एक लैपटॉप खरीदा। कुछ महीनों के बाद, जब उनके कार्यालय ने उन्हें दूसरा लैपटॉप दिया, तो उन्होंने अपना पुराना लैपटॉप 12% की हानि पर मिसेज शर्मा को बेच दिया। एक वर्ष बाद, मिसेज शर्मा ने इसे 12% के लाभ पर एक इंजीनियरिंग विद्यार्थी को बेच दिया। विद्यार्थी को कितनी राशि का भुगतान करना पड़ा?

- Ans
- 1. ₹34,848
  - 2. ₹45,000
  - 3. ₹56,448
  - 4. ₹44,352

Question Type : MCQ

Question ID : 630680815867

Option 1 ID : 6306803196802

Option 2 ID : 6306803196801

Option 3 ID : 6306803196804

Option 4 ID : 6306803196803

Status : Answered

Chosen Option : 4

Q.10 ₹1280 प्रति सैकड़े की दर पर 400 चीकू खरीदे गए और ₹980 के लाभ पर बेचे गए। प्रति दर्जन चीकू का विक्रय मूल्य (₹ में) ज्ञात करें।

- Ans
- 1. 173
  - 2. 183
  - 3. 193
  - 4. 198

Question Type : MCQ

Question ID : 630680907510

Option 1 ID : 6306803555139

Option 2 ID : 6306803555138

Option 3 ID : 6306803555140

Option 4 ID : 6306803555141

Status : Answered

Chosen Option : 2

Q.11 एक समकोण त्रिभुज का क्षेत्रफल  $80 \text{ m}^2$  है। यदि इसका लंब  $20 \text{ m}$  के बराबर है, तो इसका आधार ज्ञात कीजिए।

- Ans
- 1. 4 m
  - 2. 6 m
  - 3. 8 m
  - 4. 3 m

Question Type : MCQ

Question ID : 630680108808

Option 1 ID : 630680422125

Option 2 ID : 630680422126

Option 3 ID : 630680422127

Option 4 ID : 630680422124

Status : Answered

Chosen Option : 3

Q.12 दो संख्याओं का एचसीएफ (HCF) और एलसीएम (LCM) क्रमशः 11 और 3465 है। यदि दो संख्याओं में से एक संख्या 693 है, तो दूसरी संख्या क्या है?

Ans  1. 315

2. 75

3. 55

4. 65

Question Type : MCQ

Question ID : 630680108952

Option 1 ID : 630680422701

Option 2 ID : 630680422702

Option 3 ID : 630680422700

Option 4 ID : 630680422703

Status : Answered

Chosen Option : 3

Q.13 यदि 80 श्रमिकों ने 25 दिनों में एक काम को पूरा किया। यदि उसी काम में 20 और श्रमिकों को लगा दिया जाए, तो वह काम कितने दिन में पूरा हो जाएगा?

Ans  1. 12

2. 8

3. 16

4. 20

Question Type : MCQ

Question ID : 630680262102

Option 1 ID : 6306801018055

Option 2 ID : 6306801018056

Option 3 ID : 6306801018058

Option 4 ID : 6306801018057

Status : Answered

Chosen Option : 4

Q.14 84 cm व्यास वाले किसी बड़े गोलाकार कंटेनर में 2.1 cm त्रिज्या वाली एक गोलाकार गेंद कितने अंश/भाग जगह घरेगी?

$$\pi = \frac{22}{7} \text{ लीजिए}$$

Ans

1.  $\frac{1}{64000}$

2.  $\frac{1}{20}$

3.  $\frac{1}{400}$

4.  $\frac{1}{8000}$

Question Type : MCQ

Question ID : 630680526561

Option 1 ID : 6306802058313

Option 2 ID : 6306802058310

Option 3 ID : 6306802058311

Option 4 ID : 6306802058312

Status : Answered

Chosen Option : 2

Q.15 राम ने समान अवधि के लिए ₹20,000, 6% वार्षिक दर से और ₹25,000, 8% वार्षिक दर से उधार लिया। उसे ब्याज के रूप में कुल मिलाकर ₹9,600 चुकाने पड़े। समयावधि क्या है?

Ans  1. 3 वर्ष

2. 5 वर्ष

3. 2 वर्ष

4. 4 वर्ष

Question Type : MCQ

Question ID : 630680395548

Option 1 ID : 6306801542357

Option 2 ID : 6306801542359

Option 3 ID : 6306801542356

Option 4 ID : 6306801542358

Status : Answered

Chosen Option : 1

Q.16 एक परीक्षा में, एक छात्र का कुल स्कोर 71.9 था। यदि छात्र को अंग्रेजी में 28 अधिक अंक, गणित में 22 अधिक अंक, कंप्यूटर विज्ञान में 16 अधिक अंक, इतिहास में 14 अधिक अंक, हिंदी में 10 कम अंक मिलते और बाकी के विषयों में समान अंक मिलते, तो कुल स्कोर 80.65 हो जाता। परीक्षा में कितने विषय थे?

Ans  1.6

2.8

3.7

4.9

Question Type : MCQ

Question ID : 630680454417

Option 1 ID : 6306801774569

Option 2 ID : 6306801774571

Option 3 ID : 6306801774570

Option 4 ID : 6306801774572

Status : Answered

Chosen Option : 1

Q.17 X, Y और Z का औसत वजन 67 kg है। X और Y का औसत वजन 64 kg है तथा Y और Z का औसत वजन 52 kg है। Y का वजन (kg में) \_\_\_\_\_ है।

Ans  1.31

2.28

3.30

4.33

Question Type : MCQ

Question ID : 630680473423

Option 1 ID : 6306801849389

Option 2 ID : 6306801849387

Option 3 ID : 6306801849388

Option 4 ID : 6306801849390

Status : Answered

Chosen Option : 1

Q.18 दो ट्रेन समान चाल से विपरीत दिशाओं में चल रही हैं। यदि प्रत्येक ट्रेन की लंबाई 150 m है और वे एक-दूसरे को 15 सेकंड में पार करती हैं, तो प्रत्येक ट्रेन की चाल (km/h में) ज्ञात कीजिए।

Ans  1.24

2.36

3.18

4.42

Question Type : MCQ

Question ID : 630680633762

Option 1 ID : 6306802480941

Option 2 ID : 6306802480940

Option 3 ID : 6306802480942

Option 4 ID : 6306802480943

Status : Answered

Chosen Option : 2

Q.19 एक कपड़े की दुकान ने एक छूट योजना की घोषणा की - 'एक शर्ट खरीदें और उसी कीमत की दूसरी शर्ट पर 40% की छूट पाएँ'। यदि प्रत्येक शर्ट का क्रय मूल्य अंकित मूल्य से 60% कम है, तो दुकान का लाभ प्रतिशत ज्ञात करें।

- Ans  1. 60%
2. 100%
3. 120%
4. 80%

Question Type : MCQ

Question ID : 630680397563

Option 1 ID : 6306801550169

Option 2 ID : 6306801550171

Option 3 ID : 6306801550172

Option 4 ID : 6306801550170

Status : Answered

Chosen Option : 3

Q.20 यदि मोहन की आय अरविंद की आय से 20% कम है, तो अरविंद की आय मोहन की आय से कितने प्रतिशत अधिक है?

- Ans  1. 25%
2. 20%
3. 15%
4. 30%

Question Type : MCQ

Question ID : 630680484334

Option 1 ID : 6306801891684

Option 2 ID : 6306801891683

Option 3 ID : 6306801891682

Option 4 ID : 6306801891685

Status : Answered

Chosen Option : 1

Section : Reasoning Ability and Problem Solving

Q.1 निम्नलिखित संख्या युग्मों में, दूसरी संख्या, पहली संख्या पर कुछ गणितीय संक्रियाएं करके प्राप्त की जाती है। उस समुच्चय का चयन कीजिए जिसमें संख्याएँ ठीक उसी प्रकार संबंधित हैं, जिस प्रकार दिए गए समुच्चयों की संख्याएँ संबंधित हैं।

(ध्यान दें: संख्याओं को उनके घटक अंकों में अलग-अलग किए बिना पूर्ण संख्याओं पर संक्रियाएं की जानी चाहिए। उदाहरण के लिए संख्या 13 - संख्या 13 पर संक्रियाएं जैसे 13 को जोड़ना/घटाना/गुणा करना आदि किया जा सकता है। 13 को 1 और 3 में अलग-अलग करने की और फिर 1 और 3 पर गणितीय संक्रियाएं करने की अनुमति नहीं है।)

246, 123  
448, 224

- Ans
- 1. 444, 66
  - 2. 102, 226
  - 3. 325, 96
  - 4. 624, 312

Question Type : MCQ

Question ID : 630680399131

Option 1 ID : 6306801556483

Option 2 ID : 6306801556485

Option 3 ID : 6306801556482

Option 4 ID : 6306801556484

Status : Answered

Chosen Option : 4

Q.2 यदि '+' और '-' को आपस में बदल दिया जाए तथा 'x' और '÷' को आपस में बदल दिया जाए, तो निम्नलिखित समीकरण में प्रश्न-चिह्न (?) के स्थान पर क्या आएगा?  
 $2 \div 40 \times 5 - 4 + 5 = ?$

- Ans
- 1. 15
  - 2. 13
  - 3. 11
  - 4. 31

Question Type : MCQ

Question ID : 630680273689

Option 1 ID : 6306801063278

Option 2 ID : 6306801063276

Option 3 ID : 6306801063275

Option 4 ID : 6306801063277

Status : Answered

Chosen Option : 1

Q.3 छः व्यक्ति – राहुल, राम, रंजन, रीना, रोहित और रूपाली – एक वृत्ताकार मेज के चारों ओर केंद्र की ओर मुख करके बैठे हैं, परंतु जरूरी नहीं कि वे इसी क्रम में बैठे हों। रूपाली, उस राम के दाएँ से दूसरे स्थान पर बैठी है, जो रीना का निकटतम पड़ोसी है। रोहित, रीना का निकटतम पड़ोसी नहीं है। रूपाली और राम दोनों का निकटतम पड़ोसी राहुल है। राम के बाएँ से दूसरे स्थान पर कौन बैठा/बैठी है?

- Ans
- 1. रूपाली
  - 2. रंजन
  - 3. रीना
  - 4. राहुल

Question Type : MCQ

Question ID : 630680383021

Option 1 ID : 6306801492994

Option 2 ID : 6306801492993

Option 3 ID : 6306801492992

Option 4 ID : 6306801492991

Status : Answered

Chosen Option : 2

Q.4 अंग्रेजी वर्णानुक्रम के आधार पर EBHD एक निश्चित प्रकार से IFLH से संबंधित है। ठीक उसी प्रकार JGMI, NKQM से संबंधित है। उसी तर्क का अनुसरण करते हुए OLRN निम्नलिखित में से किससे संबंधित है?

- Ans
- 1. SPVR
  - 2. SPRV
  - 3. PSRV
  - 4. PSVR

Question Type : MCQ

Question ID : 630680435584

Option 1 ID : 6306801700269

Option 2 ID : 6306801700270

Option 3 ID : 6306801700272

Option 4 ID : 6306801700271

Status : Answered

Chosen Option : 1

Q.5 दिए गए विकल्पों में से उस आकृति को चुनिए जो निम्नलिखित श्रृंखला में प्रश्न चिह्न (?) के स्थान पर आ सकती है और पैटर्न को पूरा कर सकती है।

I	P	♡	V	=	4	=	4	P	Z	I	6	?
	Z		P				V			4		
	6		Z				♡			V		
4	=	V	♡	6	I	6	I	Z	P	♡	=	

Ans

✗ 1.

I	6	Z
	V	
	4	
♡	=	P

✗ 2.

I	6	Z
	♡	
	4	
=	V	P

✗ 3.

I	6	4
	Z	
	=	
V	P	♡

✓ 4.

I	6	4
	Z	
	P	
♡	=	V

Question Type : MCQ

Question ID : 630680441071

Option 1 ID : 6306801721939

Option 2 ID : 6306801721941

Option 3 ID : 6306801721938

Option 4 ID : 6306801721940

Status : Answered

Chosen Option : 4

Q.6 अंग्रेजी वर्णमाला क्रम के आधार पर दी गई श्रृंखला में प्रश्न चिह्न (?) के स्थान पर क्या आना चाहिए?

HXS, JVQ, LTO, NRM, ?

Ans  1. PNQ

2. PPK

3. PPM

4. OPD

Question Type : MCQ

Question ID : 630680815696

Option 1 ID : 6306803196086

Option 2 ID : 6306803196087

Option 3 ID : 6306803196085

Option 4 ID : 6306803196088

Status : Answered

Chosen Option : 2

Q.7 दिए गए कथनों और निष्कर्षों को ध्यानपूर्वक पढ़िए। यह मानते हुए कि कथनों में दी गई जानकारी सत्य है, चाहे वह सामान्यतः ज्ञात तथ्यों से भिन्न प्रतीत होती हो और निर्णय लीजिए कि दिए गए निष्कर्षों में से कौन-सा/कौन-से निष्कर्ष कथनों का तार्किक रूप से अनुसरण करता है/करते हैं।

कथन:

कुछ मेज़ें, प्लेट हैं।

कुछ मेज़ें, चम्मच हैं।

निष्कर्ष:

(I) कम से कम कुछ चम्मच, प्लेट हैं।

(II) कुछ प्लेट, मेज़ें, हैं।

Ans  1. न तो निष्कर्ष (I) और न ही (II) अनुसरण करता है।

2. केवल निष्कर्ष (I) अनुसरण करता है।

3. केवल निष्कर्ष (II) अनुसरण करता है।

4. निष्कर्ष (I) और (II) दोनों अनुसरण करते हैं।

Question Type : MCQ

Question ID : 630680410768

Option 1 ID : 6306801601830

Option 2 ID : 6306801601828

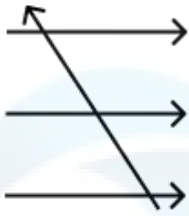
Option 3 ID : 6306801601829

Option 4 ID : 6306801601831

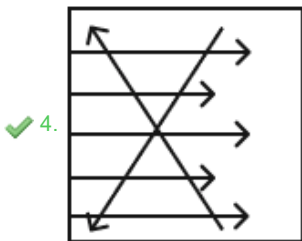
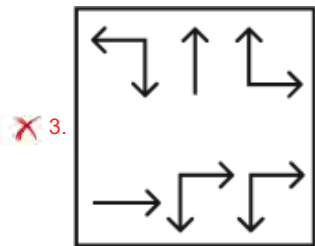
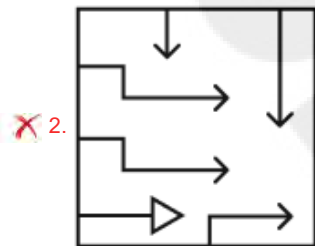
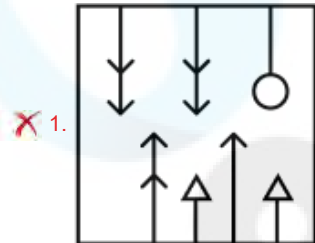
Status : Answered

Chosen Option : 3

Q.8 उस विकल्प आकृति का चयन कीजिए, जिसमें दी गई आकृति उसके भाग के रूप में सन्निहित है (घुमाने की अनुमति नहीं है)।



Ans



Question Type : **MCQ**

Question ID : **630680487432**

Option 1 ID : **6306801903835**

Option 2 ID : **6306801903837**

Option 3 ID : **6306801903836**

Option 4 ID : **6306801903834**

Status : **Answered**

Chosen Option : **4**

Q.9 एक निश्चित कूट भाषा में, call you back को 'rt yw fg' लिखा जाता है और 'back is paining' को 'yw fb gt' लिखा जाता है। उसी कूट भाषा में 'back' को कैसे लिखा जाएगा?

- Ans
- 1. fb
  - 2. fg
  - 3. yw
  - 4. rt

Question Type : MCQ

Question ID : 630680439115

Option 1 ID : 6306801714272

Option 2 ID : 6306801714274

Option 3 ID : 6306801714275

Option 4 ID : 6306801714273

Status : Answered

Chosen Option : 3

Q.10 छः व्यक्ति A, B, C, D, E और F एक वृत्ताकार मेज के चारों ओर केंद्र की ओर मुख करके बैठे हैं (परंतु जरूरी नहीं कि वे इसी क्रम में बैठे हों)। F, C के दाएँ से तीसरे स्थान पर बैठा है। D, F के बाएँ से दूसरे स्थान पर बैठा है। A और E निकटतम पड़ोसी हैं। E, B के दाएँ से दूसरे स्थान पर बैठा है। E के बाएँ से गिनने पर E और C के बीच में कितने व्यक्ति बैठे हैं?

- Ans
- 1. 2
  - 2. 1
  - 3. 4
  - 4. 3

Question Type : MCQ

Question ID : 630680395328

Option 1 ID : 6306801541516

Option 2 ID : 6306801541518

Option 3 ID : 6306801541519

Option 4 ID : 6306801541517

Status : Answered

Chosen Option : 4

Q.11 किसी निश्चित कूट भाषा में 'ABROAD' को 'WZLIYZ' के रूप में कूटबद्ध किया जाता है और 'ADVISE' को 'VHREWZ' के रूप में कूटबद्ध किया जाता है। उसी भाषा में 'AGENDA' को किस प्रकार कूटबद्ध किया जाएगा?

- Ans
- 1. ZTVMWZ
  - 2. ZTWMWY
  - 3. ZWNVUZ
  - 4. ZWMTVZ

Question Type : MCQ

Question ID : 630680465304

Option 1 ID : 6306801817252

Option 2 ID : 6306801817254

Option 3 ID : 6306801817251

Option 4 ID : 6306801817253

Status : Answered

Chosen Option : 4

Q.12 18, किसी निश्चित तर्क का अनुसरण करते हुए 91 से संबंधित है। 27, समान तर्क का अनुसरण करते हुए 136 से संबंधित है। समान तर्क का अनुसरण करते हुए 45, निम्नलिखित में से किससे संबंधित है?

(ध्यान दें: संख्याओं को उनके घटक अंकों में अलग-अलग किए बिना पूर्ण संख्याओं पर संक्रियाएं की जानी चाहिए। उदाहरण के लिए संख्या 13 - संख्या 13 पर संक्रियाएं जैसे 13 को जोड़ना/घटाना/गुणा करना आदि किया जा सकता है। 13 को 1 और 3 में अलग-अलग करने की और फिर 1 और 3 पर गणितीय संक्रियाएं करने की अनुमति नहीं है।)

Ans  1. 222

2. 226

3. 238

4. 234

Question Type : MCQ

Question ID : 630680799057

Option 1 ID : 6306803131031

Option 2 ID : 6306803131030

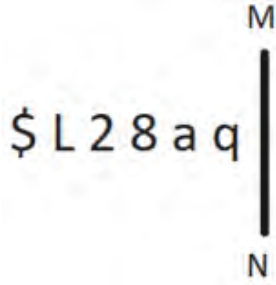
Option 3 ID : 6306803131033

Option 4 ID : 6306803131032

Status : Answered

Chosen Option : 2

Q.13 दी गई आकृति के उस सही दर्पण प्रतिबिंब को चुनिए, जो नीचे दर्शाए गए अनुसार दर्पण को MN पर रखने पर बनेगा।



Ans  1. b e 8 5 J 2

2. p 6 8 5 J 2

3. p 6 2 8 7 \$

4. p 6 8 L 2 2

Question Type : MCQ

Question ID : 630680525259

Option 1 ID : 6306802053122

Option 2 ID : 6306802053120

Option 3 ID : 6306802053123

Option 4 ID : 6306802053121

Status : Answered

Chosen Option : 2

Q.14 UD 1 एक निश्चित प्रकार से OF -6 से संबंधित है। उसी प्रकार से IX 6, CZ -1 से संबंधित है। समान तर्क का अनुसरण करते हुए, MJ 3 निम्नलिखित में से किससे संबंधित है?

- Ans
- 1. GN -4
  - 2. GM 4
  - 3. GK 4
  - 4. GL -4

Question Type : MCQ

Question ID : 630680423233

Option 1 ID : 6306801651293

Option 2 ID : 6306801651291

Option 3 ID : 6306801651294

Option 4 ID : 6306801651292

Status : Answered

Chosen Option : 4

Q.15 यदि निम्नलिखित समीकरण में '+' और '=' को आपस में बदल दिया जाए तथा 'x' और '-' को आपस में बदल दिया जाए, तो इस समीकरण में '?' के स्थान पर क्या आएगा?  
 $88 \div 18 \times 28 + 4 - 14 = ?$

- Ans
- 1. 8
  - 2. 28
  - 3. -2
  - 4. 18

Question Type : MCQ

Question ID : 630680388340

Option 1 ID : 6306801513878

Option 2 ID : 6306801513879

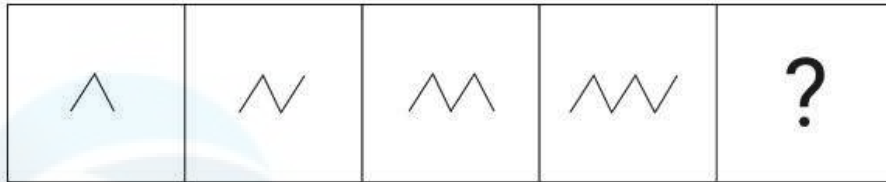
Option 3 ID : 6306801513880

Option 4 ID : 6306801513881

Status : Answered

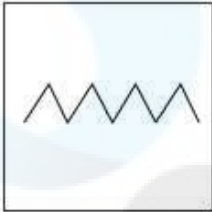
Chosen Option : 1

Q.16 दिए गए विकल्पों में से उस आकृति की पहचान कीजिए जो प्रश्न-चिह्न (?) के स्थान पर आ सकती है और श्रृंखला को तार्किक रूप से पूरा कर सकती है।

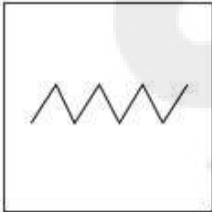


Ans

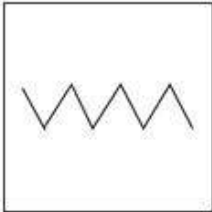
1.



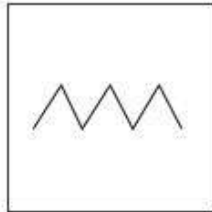
2.



3.



4.



Question Type : **MCQ**

Question ID : **630680279235**

Option 1 ID : **6306801085209**

Option 2 ID : **6306801085210**

Option 3 ID : **6306801085207**

Option 4 ID : **6306801085208**

Status : **Answered**

Chosen Option : **4**

Q.17 दिए गए कथनों और निष्कर्षों को ध्यानपूर्वक पढ़िए। यह मानते हुए कि कथनों में दी गई जानकारी सत्य है, भले ही वे सामान्यतः ज्ञात तथ्यों से भिन्न प्रतीत होते हों, तय कीजिए कि दिए गए निष्कर्षों में से कौन-सा/से निष्कर्ष कथनों का तार्किक रूप से अनुसरण करता है/करते हैं।

कथन:

सभी इस्ती, हीटर हैं।  
कुछ इस्ती, पंखे हैं।

निष्कर्ष:

(I) कुछ हीटर, पंखे हैं।  
(II) सभी पंखे, इस्ती हैं।

- Ans
- 1. निष्कर्ष I और II दोनों अनुसरण करते हैं
  - 2. न तो निष्कर्ष I और न ही II अनुसरण करता है
  - 3. केवल निष्कर्ष II अनुसरण करता है
  - 4. केवल निष्कर्ष I अनुसरण करता है

Question Type : MCQ

Question ID : 630680421792

Option 1 ID : 6306801645613

Option 2 ID : 6306801645614

Option 3 ID : 6306801645612

Option 4 ID : 6306801645611

Status : Answered

Chosen Option : 2

Q.18 एक निश्चित कूट भाषा में 'BIRD' को '6428' के रूप में कूटबद्ध किया जाता है और 'DOPE' को '5679' के रूप में कूटबद्ध किया जाता है। दी गई कूट भाषा में 'D' के लिए कूट क्या है?

- Ans
- 1. 5
  - 2. 6
  - 3. 7
  - 4. 8

Question Type : MCQ

Question ID : 630680435930

Option 1 ID : 6306801701670

Option 2 ID : 6306801701669

Option 3 ID : 6306801701671

Option 4 ID : 6306801701672

Status : Answered

Chosen Option : 2

Q.19 एक निश्चित कूटभाषा में, 'zebra tool bean' को 'rj pi ki' के रूप में कूटबद्ध किया गया है और 'bean knife army' को 'ko jm pi' के रूप में कूटबद्ध किया गया है। दी गई भाषा में 'bean' को कैसे कूटबद्ध किया जाएगा?

Ans  1. pi

2. rj

3. ko

4. ki

Question Type : MCQ

Question ID : 630680824869

Option 1 ID : 6306803231047

Option 2 ID : 6306803231048

Option 3 ID : 6306803231050

Option 4 ID : 6306803231049

Status : Answered

Chosen Option : 1

Q.20 दिए गए विकल्पों में से उस संख्या का चयन कीजिए जो निम्नलिखित श्रृंखला में प्रश्न चिह्न (?) के स्थान पर आ सकती है।

2, 3, 6, 11, 18, ?

Ans  1. 29

2. 30

3. 27

4. 31

Question Type : MCQ

Question ID : 630680404856

Option 1 ID : 6306801578915

Option 2 ID : 6306801578918

Option 3 ID : 6306801578916

Option 4 ID : 6306801578917

Status : Answered

Chosen Option : 3

Section : General Awareness

Q.1 लोसर त्यौहार (Losar festival) निम्नलिखित में से किस राज्य में मनाया जाता है?

Ans  1. आंध्र प्रदेश

2. गोवा

3. छत्तीसगढ़

4. अरुणाचल प्रदेश

Question Type : MCQ

Question ID : 630680548818

Option 1 ID : 6306802145757

Option 2 ID : 6306802145759

Option 3 ID : 6306802145758

Option 4 ID : 6306802145756

Status : Answered

Chosen Option : 4

Q.2 आधुनिक \_\_\_\_\_ को प्रसिद्ध तंजौर बंधु (Tanjore Bandhu) द्वारा रूप प्रदान किया गया था, जिसमें चार नट्टुवनार: पोन्नैया, वाडिवेलु, शिवानंदम और चिन्नैया शामिल थे।

- Ans
- 1. मोहिनीअट्टम
  - 2. कुचिपुड़ी
  - 3. कथकली
  - 4. भरतनाट्यम

Question Type : MCQ  
Question ID : 630680554548  
Option 1 ID : 6306802167962  
Option 2 ID : 6306802167964  
Option 3 ID : 6306802167965  
Option 4 ID : 6306802167963  
Status : Answered  
Chosen Option : 4

Q.3 मद्रास प्रेसीडेंसी (Madras Presidency) में विधवा पुनर्विवाह का समर्थन करने के लिए निम्नलिखित में से किसने एक संगठन बनाया?

- Ans
- 1. वी चिदंबरम पिल्लई (V Chidambaram Pillai)
  - 2. सी राजगोपालाचारी (C Rajagopalachari)
  - 3. ईश्वर चंद्र विद्यासागर (Ishwar Chandra Vidyasagar)
  - 4. वीरेशलिंगम पंतुलु (Veereshlingam Pantulu)

Question Type : MCQ  
Question ID : 630680652712  
Option 1 ID : 6306802555320  
Option 2 ID : 6306802555321  
Option 3 ID : 6306802555319  
Option 4 ID : 6306802555318  
Status : Answered  
Chosen Option : 1

Q.4 खेलो इंडिया यूनिवर्सिटी गेम्स 2022 की आधिकारिक मशाल का नाम क्या था?

- Ans
- 1. शक्ति
  - 2. मित्र
  - 3. उजाला
  - 4. समर्थ

Question Type : MCQ  
Question ID : 630680560702  
Option 1 ID : 6306802191789  
Option 2 ID : 6306802191791  
Option 3 ID : 6306802191790  
Option 4 ID : 6306802191788  
Status : Answered  
Chosen Option : 3

Q.5 मार्च 2023 में, पेंशन निधि विनियामक और विकास प्राधिकरण (Pension Fund Regulatory Development Authority - PFRDA) के अध्यक्ष के रूप में किसे नियुक्त किया गया?

- Ans
- 1. सुबोध जायसवाल
  - 2. दीपक मोहंती
  - 3. सुरेश एन पटेल
  - 4. तुषार मेहता

Question Type : MCQ

Question ID : 630680493767

Option 1 ID : 6306801928800

Option 2 ID : 6306801928798

Option 3 ID : 6306801928799

Option 4 ID : 6306801928797

Status : Answered

Chosen Option : 2

Q.6 द स्टोरी ऑफ़ माई एक्सपेरिमेंट्स विद ट्रुथ (The story of My Experiments with Truth)' पुस्तक के लेखक कौन हैं?

- Ans
- 1. परमहंस योगानंद
  - 2. बी.आर. आंबेडकर
  - 3. जवाहरलाल नेहरू
  - 4. एम.के. गाँधी

Question Type : MCQ

Question ID : 63068076845

Option 1 ID : 630680297480

Option 2 ID : 630680297478

Option 3 ID : 630680297477

Option 4 ID : 630680297479

Status : Answered

Chosen Option : 4

Q.7 निम्नलिखित में से कौन-सा विकल्प किसी पारितंत्र में ऊर्जा के सही प्रवाह को दर्शाता है?

- Ans
- 1. सूर्य का प्रकाश → मांसाहारी → उत्पादक → शाकाहारी
  - 2. सूर्य का प्रकाश → उत्पादक → शाकाहारी → मांसाहारी
  - 3. सूर्य का प्रकाश → शाकाहारी → उत्पादक → मांसाहारी
  - 4. सूर्य का प्रकाश → शाकाहारी → मांसाहारी → उत्पादक

Question Type : MCQ

Question ID : 630680743317

Option 1 ID : 6306802913567

Option 2 ID : 6306802913568

Option 3 ID : 6306802913569

Option 4 ID : 6306802913570

Status : Answered

Chosen Option : 2

Q.8 झरिया (Jharia) और रानीगंज (Raniganj) को निम्नलिखित में से किस खनिज के लिए जाना जाता है?

- Ans  1. सोना  
 2. कोयला  
 3. कॉपर  
 4. संगमरमर

Question Type : MCQ  
Question ID : 630680484498  
Option 1 ID : 6306801892308  
Option 2 ID : 6306801892306  
Option 3 ID : 6306801892307  
Option 4 ID : 6306801892309  
Status : Answered  
Chosen Option : 2

Q.9 1911 में \_\_\_\_\_ का विभाजन रद्द कर दिया गया था।

- Ans  1. बंगाल  
 2. बर्मा  
 3. पंजाब  
 4. संयुक्त प्रांत

Question Type : MCQ  
Question ID : 630680326433  
Option 1 ID : 6306801269824  
Option 2 ID : 6306801269821  
Option 3 ID : 6306801269822  
Option 4 ID : 6306801269823  
Status : Answered  
Chosen Option : 1

Q.10 दुनिया का दूसरा सबसे बड़ा गुंबद भारत में बनाया गया था और जो आज भी मजबूती से खड़ा है। यहां किस गुंबद की बात की जा रही है?

- Ans  1. ग्लैम्पडको (GlampEco)  
 2. केलिको गुंबद (Calico Dome)  
 3. टीला (Teela)  
 4. गोल गुंबज (Gol Gumbaz)

Question Type : MCQ  
Question ID : 630680590694  
Option 1 ID : 6306802311256  
Option 2 ID : 6306802311255  
Option 3 ID : 6306802311257  
Option 4 ID : 6306802311258  
Status : Answered  
Chosen Option : 4

Q.11 पैरा वर्ल्ड चैंपियनशिप इवेंट (Para World Championship event), 2023 में पदक जीतने वाली बिना भुजा की (armless) पहली महिला तीरंदाज कौन बनी?

- Ans
- 1. शिखा देवी
  - 2. शीतल देवी
  - 3. सीमा देवी
  - 4. श्रेया देवी

Question Type : MCQ

Question ID : 630680563680

Option 1 ID : 6306802203644

Option 2 ID : 6306802203641

Option 3 ID : 6306802203643

Option 4 ID : 6306802203642

Status : Answered

Chosen Option : 2

Q.12 पुदीने की पत्तियों में शीतलन संवेदना (cooling sensation) के लिए उत्तरदायी यौगिक का रासायनिक नाम क्या है?

- Ans
- 1. कैप्सेसिन
  - 2. एथेनॉल
  - 3. मेथॉल
  - 4. कैफीन

Question Type : MCQ

Question ID : 630680540600

Option 1 ID : 6306802113477

Option 2 ID : 6306802113478

Option 3 ID : 6306802113475

Option 4 ID : 6306802113476

Status : Answered

Chosen Option : 3

Q.13 राज्य विधानमंडल (State Legislature) में, \_\_\_\_\_ विघटन (भंग करने) के अधीन है।

- Ans
- 1. लोकसभा (House of People)
  - 2. राज्य सभा (Council of States)
  - 3. विधान सभा (Legislative Assembly)
  - 4. विधान परिषद (Legislative Council)

Question Type : MCQ

Question ID : 630680145782

Option 1 ID : 630680564057

Option 2 ID : 630680564056

Option 3 ID : 630680564055

Option 4 ID : 630680564054

Status : Answered

Chosen Option : 3

Q.14 निम्नलिखित में से कौन-सा कथन सही है?

- Ans  1. हड़प्पा संस्कृति केवल सिंध और पंजाब तक विस्तृत थी।  
 2. हड़प्पा स्थलों से मिले शवाधानों में मृतकों को आमतौर पर गर्तों में दफनाया गया था।  
 3. सिंधु घाटी सभ्यता में अन्नागार (Granaries) केवल हड़प्पा में ही पाए गए थे।  
 4. हड़प्पा संस्कृति की लिपि को इतिहासकारों ने समझ लिया है।

Question Type : MCQ

Question ID : 630680649156

Option 1 ID : 6306802541783

Option 2 ID : 6306802541784

Option 3 ID : 6306802541785

Option 4 ID : 6306802541786

Status : Answered

Chosen Option : 2

Q.15 रीवा अल्ट्रा मेगा सौर ऊर्जा परियोजना (Rewa Ultra Mega Solar Power Project) किस राज्य में स्थित है?

- Ans  1. तमिलनाडु  
 2. कर्नाटक  
 3. मध्य प्रदेश  
 4. राजस्थान

Question Type : MCQ

Question ID : 630680484457

Option 1 ID : 6306801892147

Option 2 ID : 6306801892148

Option 3 ID : 6306801892149

Option 4 ID : 6306801892146

Status : Answered

Chosen Option : 3

Q.16 सवाई गंधर्व (Sawai Gandharva) निम्नलिखित में से किस घराने से संबंधित थे?

- Ans  1. इंदौर घराना  
 2. किराना घराना  
 3. आगरा घराना  
 4. बनारस घराना

Question Type : MCQ

Question ID : 630680488693

Option 1 ID : 6306801908788

Option 2 ID : 6306801908787

Option 3 ID : 6306801908789

Option 4 ID : 6306801908790

Status : Answered

Chosen Option : 3

Q.17 निम्नलिखित में से कौन-सा अनुच्छेद "सार्वजनिक रोजगार के मामलों में अवसर की समानता" पर जोर देता है?

- Ans  1. अनुच्छेद 16  
 2. अनुच्छेद 15  
 3. अनुच्छेद 17  
 4. अनुच्छेद 14

Question Type : MCQ  
Question ID : 630680269980  
Option 1 ID : 6306801049173  
Option 2 ID : 6306801049172  
Option 3 ID : 6306801049174  
Option 4 ID : 6306801049171  
Status : Answered  
Chosen Option : 2

Q.18 किसी शैल या मृदा के अंदर कणों के बीच रंध्राकाश (pore space) का प्रतिशत क्या कहलाता है?

- Ans  1. लवणता  
 2. सरंध्रता  
 3. सघनता  
 4. पारगम्यता

Question Type : MCQ  
Question ID : 630680403919  
Option 1 ID : 6306801575169  
Option 2 ID : 6306801575166  
Option 3 ID : 6306801575168  
Option 4 ID : 6306801575167  
Status : Answered  
Chosen Option : 2

Q.19 अक्टूबर 2023 में, 18 क्षेत्रों से संबंधित कारीगरों (artisans) को समावेशित (covers) करने वाली योजना को भारतीय रिजर्व बैंक द्वारा 'पेमेंट इंफ्रास्ट्रक्चर डेवलपमेंट फंड (Payments Infrastructure Development Fund - PIDF)' योजना के अंतर्गत शामिल किया गया था।

- Ans  1. पीएम-विश्वकर्मा (PM Vishwakarma)  
 2. पीएम-उषा (PM USHA)  
 3. पीएम-उल्लास (PM Ullas)  
 4. पीएम-स्वनिधि (PM Swanidhi)

Question Type : MCQ  
Question ID : 630680481528  
Option 1 ID : 6306801880604  
Option 2 ID : 6306801880607  
Option 3 ID : 6306801880606  
Option 4 ID : 6306801880605  
Status : Answered  
Chosen Option : 1

Q.20 सूक्ष्म वित्त के संदर्भ में सही मिलान की पहचान करें।

- Ans
- 1. मुहम्मद यासिर - ग्रामीण बैंक - बांग्लादेश
  - 2. मुहम्मद यासिर - ग्रामीण बैंक - पाकिस्तान
  - 3. मुहम्मद यूनुस - ग्रामीण बैंक - बांग्लादेश
  - 4. मुहम्मद यूनुस - ग्रामीण बैंक - पाकिस्तान

Question Type : MCQ

Question ID : 630680303689

Option 1 ID : 6306801181328

Option 2 ID : 6306801181327

Option 3 ID : 6306801181326

Option 4 ID : 6306801181325

Status : Answered

Chosen Option : 3

Q.21 दिल्ली के इनमें से किस सुल्तान ने कीमतों को नियंत्रित करने के लिए दिल्ली में विभिन्न वस्तुओं हेतु तीन अलग-अलग बाज़ार स्थापित किए?

- Ans
- 1. मुहम्मद बिन तुगलक
  - 2. अलाउद्दीन खिलजी
  - 3. गयासुद्दीन बलबन
  - 4. शम्सुद्दीन इल्तुतमिश

Question Type : MCQ

Question ID : 630680318910

Option 1 ID : 6306801240598

Option 2 ID : 6306801240597

Option 3 ID : 6306801240600

Option 4 ID : 6306801240599

Status : Not Answered

Chosen Option : --

Q.22 1990 में बेंगलुरु में एक नृत्य विद्यालय, नृत्यग्राम (Nriyagram) की स्थापना किसने की?

- Ans
- 1. रेखा राजू
  - 2. माधवी मुद्गल
  - 3. मुक्ति मोहन
  - 4. प्रोतिमा गौरी बेदी

Question Type : MCQ

Question ID : 630680433376

Option 1 ID : 6306801691473

Option 2 ID : 6306801691474

Option 3 ID : 6306801691472

Option 4 ID : 6306801691471

Status : Answered

Chosen Option : 4

Q.23  $10 \times 10^4$  Pa दाब और 300 K तापमान पर 0.09 mol  $\text{CO}_2$  गैस का आयतन  $22.4 \times 10^{-3} \text{ m}^3$  है। यदि दाब घटाकर  $2 \times 10^4$  Pa कर दिया जाए, तो गैस का आयतन कितना होगा?

- Ans
- 1.  $28.1 \times 10^{-3} \text{ m}^3$
  - 2.  $112.0 \times 10^{-3} \text{ m}^3$
  - 3.  $56.3 \times 10^{-3} \text{ m}^3$
  - 4.  $37.4 \times 10^{-3} \text{ m}^3$

Question Type : MCQ

Question ID : 630680471271

Option 1 ID : 6306801840825

Option 2 ID : 6306801840822

Option 3 ID : 6306801840823

Option 4 ID : 6306801840824

Status : Not Answered

Chosen Option : --

Q.24 2011 की जनगणना के अनुसार भारत के किस राज्य में अनुसूचित जनजाति (scheduled tribe) की जनसंख्या सबसे अधिक है?

- Ans
- 1. झारखंड
  - 2. मध्य प्रदेश
  - 3. छत्तीसगढ़
  - 4. ओडिशा

Question Type : MCQ

Question ID : 630680511219

Option 1 ID : 6306801998008

Option 2 ID : 6306801998007

Option 3 ID : 6306801998006

Option 4 ID : 6306801998009

Status : Answered

Chosen Option : 2

Q.25 जनगणना 2011 के अनुसार, निम्नलिखित में से कौन-सा भारत का सबसे अधिक आबादी वाला शहर है?

- Ans
- 1. कोलकाता
  - 2. मुंबई
  - 3. चेन्नई
  - 4. दिल्ली

Question Type : MCQ

Question ID : 630680488623

Option 1 ID : 6306801908511

Option 2 ID : 6306801908512

Option 3 ID : 6306801908514

Option 4 ID : 6306801908513

Status : Answered

Chosen Option : 2

Q.1 Select the most appropriate present tense form of the verb to fill in the blank.

\_\_\_\_\_ they like sweets?

- Ans
- 1. Has
  - 2. Does
  - 3. Do
  - 4. Had

Question Type : **MCQ**

Question ID : **63068087124**

Option 1 ID : **630680337886**

Option 2 ID : **630680337888**

Option 3 ID : **630680337887**

Option 4 ID : **630680337885**

Status : **Answered**

Chosen Option : **2**

Q.2 Select the most appropriate ANTONYM of the given word.

**Obsequious**

- Ans
- 1. Obstinate
  - 2. Obliterate
  - 3. Ordained
  - 4. Ostracised

Question Type : **MCQ**

Question ID : **630680603369**

Option 1 ID : **6306802360944**

Option 2 ID : **6306802360947**

Option 3 ID : **6306802360945**

Option 4 ID : **6306802360946**

Status : **Not Answered**

Chosen Option : **--**

Q.3 Parts of the following sentence have been given as options. Select the option that contains an error.

Before the internet was available on mobile, I read often books for entertainment and information.

- Ans
- 1. was available on mobile
  - 2. for entertainment and information.
  - 3. I read often books
  - 4. Before the internet

Question Type : **MCQ**

Question ID : **630680551102**

Option 1 ID : **6306802154647**

Option 2 ID : **6306802154649**

Option 3 ID : **6306802154648**

Option 4 ID : **6306802154646**

Status : **Answered**

Chosen Option : **3**

**Q.4** Select the correctly spelt word to fill in the blank meaningfully..

The \_\_\_\_\_ on the wall was beautifully painted.

- Ans
- 1. pickchure
  - 2. picter
  - 3. picture
  - 4. pictur

Question Type : **MCQ**

Question ID : **630680426474**

Option 1 ID : **6306801663982**

Option 2 ID : **6306801663984**

Option 3 ID : **6306801663985**

Option 4 ID : **6306801663983**

Status : **Answered**

Chosen Option : **3**

**Q.5** Select the most appropriate ANTONYM of the given word.

**Predicament**

- Ans
- 1. Solution
  - 2. Docile
  - 3. Redeem
  - 4. Mess

Question Type : **MCQ**

Question ID : **630680549062**

Option 1 ID : **6306802146725**

Option 2 ID : **6306802146726**

Option 3 ID : **6306802146727**

Option 4 ID : **6306802146724**

Status : **Answered**

Chosen Option : **4**

**Q.6** Select the most appropriate option to fill in the blank.

Industrialisation gives even the least talented person a chance to \_\_\_\_\_ his livelihood.

- Ans
- 1. Live
  - 2. Give
  - 3. Break
  - 4. Eam

Question Type : **MCQ**

Question ID : **630680515312**

Option 1 ID : **6306802013698**

Option 2 ID : **6306802013697**

Option 3 ID : **6306802013699**

Option 4 ID : **6306802013700**

Status : **Answered**

Chosen Option : **1**

**Q.7** The following sentence has been split into four segments. Identify the segment that contains a grammatical/spelling error.

They decided to /start their journey / towards the hills / in midnight.

- Ans
- 1. towards the hills
  - 2. start their journey
  - 3. They decided to
  - 4. in midnight

Question Type : **MCQ**  
Question ID : **630680702960**  
Option 1 ID : **6306802753594**  
Option 2 ID : **6306802753593**  
Option 3 ID : **6306802753592**  
Option 4 ID : **6306802753595**  
Status : **Answered**  
Chosen Option : **4**

**Q.8** Select the option that can be used as a one-word substitute for the highlighted group of words in the given sentence.

A grand function was organised to honour the person who had died for a noble cause.

- Ans
- 1. philanthropist
  - 2. martyr
  - 3. volunteer
  - 4. prophet

Question Type : **MCQ**  
Question ID : **630680564335**  
Option 1 ID : **6306802206296**  
Option 2 ID : **6306802206297**  
Option 3 ID : **6306802206295**  
Option 4 ID : **6306802206298**  
Status : **Answered**  
Chosen Option : **2**

**Q.9** The following sentence has been split into four segments. Identify the segment that contains a grammatical error.

A good lawyer / always looks in the / case before he / attends court.

- Ans
- 1. attends court
  - 2. always looks in the
  - 3. case before he
  - 4. A good lawyer

Question Type : **MCQ**  
Question ID : **630680533286**  
Option 1 ID : **6306802084628**  
Option 2 ID : **6306802084626**  
Option 3 ID : **6306802084627**  
Option 4 ID : **6306802084625**  
Status : **Answered**  
Chosen Option : **2**

**Q.10** Select the most appropriate option to fill in the blank.  
The investigating team smelled a \_\_\_\_\_ in the suspect's defence.

- Ans  1.  
bat
2.  
cat
3.  
rat
4.  
dog

Question Type : **MCQ**

Question ID : **630680530313**

Option 1 ID : **6306802073153**

Option 2 ID : **6306802073154**

Option 3 ID : **6306802073156**

Option 4 ID : **6306802073155**

Status : **Answered**

Chosen Option : **3**

**Q.11** Select the correctly spelt word to fill in the blank.

We \_\_\_\_\_ to follow the traffic rules.

- Ans  1. aught
2. aut
3. ought
4. oght

Question Type : **MCQ**

Question ID : **630680508269**

Option 1 ID : **6306801986375**

Option 2 ID : **6306801986376**

Option 3 ID : **6306801986373**

Option 4 ID : **6306801986374**

Status : **Answered**

Chosen Option : **3**

Q.12 Select the most appropriate meaning of the given idiom.

On the back foot

Ans  1.

At a disadvantage

2.

In a hurry

3. In a relaxed state

4.

Situated farther away

Question Type : MCQ

Question ID : 630680436127

Option 1 ID : 6306801702450

Option 2 ID : 6306801702449

Option 3 ID : 6306801702452

Option 4 ID : 6306801702451

Status : Answered

Chosen Option : 1

Q.13 Select the most appropriate option that can substitute the highlighted word(s) in the given sentence.

Mr. Wilson is elder than he looks.

Ans  1. older than

2. older then

3. elder to

4. elder for

Question Type : MCQ

Question ID : 630680564277

Option 1 ID : 6306802206063

Option 2 ID : 6306802206064

Option 3 ID : 6306802206065

Option 4 ID : 6306802206066

Status : Answered

Chosen Option : 1

Q.14 Select the most appropriate superlative adjective form to fill in the blanks.

What's \_\_\_ book you've ever read?

Ans  1. the interesting

2. the most interesting

3. interesting

4. more interesting

Question Type : MCQ

Question ID : 630680602169

Option 1 ID : 6306802356249

Option 2 ID : 6306802356250

Option 3 ID : 6306802356248

Option 4 ID : 6306802356251

Status : Answered

Chosen Option : 2

Q.15 Select the option that will improve the underlined part of the given sentence.

According to Greek mythology, Sipylos is holier city of Lydia.

- Ans
- 1. most holiest
  - 2. the holier
  - 3. most holy
  - 4. the holiest

Question Type : **MCQ**

Question ID : **630680419722**

Option 1 ID : **6306801637388**

Option 2 ID : **6306801637385**

Option 3 ID : **6306801637386**

Option 4 ID : **6306801637387**

Status : **Answered**

Chosen Option : **4**

Q.16 Select the most appropriate synonym of the given word.  
Gloomy

- Ans
- 1. Dismal
  - 2. Sticky
  - 3. Vain
  - 4. Buoyant

Question Type : **MCQ**

Question ID : **630680726540**

Option 1 ID : **6306802847169**

Option 2 ID : **6306802847168**

Option 3 ID : **6306802847167**

Option 4 ID : **6306802847166**

Status : **Answered**

Chosen Option : **2**

Q.17 Select the most appropriate meaning of the underlined word.  
The sink is clogged due to solid materials.

- Ans
- 1. A large fixed container to wash hands or utensils
  - 2. A pipeline for water supply
  - 3. A container which holds water
  - 4. To drown in water

Question Type : **MCQ**

Question ID : **630680517449**

Option 1 ID : **6306802022194**

Option 2 ID : **6306802022195**

Option 3 ID : **6306802022193**

Option 4 ID : **6306802022192**

Status : **Answered**

Chosen Option : **1**

Q.18 Select the most appropriate option to fill in the blank.

Despite his initial \_\_\_\_\_, he eventually agreed to join the team.

- Ans
- 1. enthusiasm
  - 2. determination
  - 3. reluctance
  - 4. compassion

Question Type : **MCQ**

Question ID : **630680488663**

Option 1 ID : **6306801908668**

Option 2 ID : **6306801908669**

Option 3 ID : **6306801908667**

Option 4 ID : **6306801908670**

Status : **Answered**

Chosen Option : **2**

Q.19 Select the INCORRECTLY spelt word.

- Ans
- 1. Synchronous
  - 2. Blatant
  - 3. Effeminate
  - 4. Inadvertant

Question Type : **MCQ**

Question ID : **630680555214**

Option 1 ID : **6306802170314**

Option 2 ID : **6306802170313**

Option 3 ID : **6306802170315**

Option 4 ID : **6306802170312**

Status : **Answered**

Chosen Option : **2**

Q.20 Select the INCORRECTLY spelt word.

- Ans
- 1. Awful
  - 2. Barren
  - 3. Awsome
  - 4. Bitter

Question Type : **MCQ**

Question ID : **630680467607**

Option 1 ID : **6306801826359**

Option 2 ID : **6306801826361**

Option 3 ID : **6306801826358**

Option 4 ID : **6306801826360**

Status : **Answered**

Chosen Option : **3**

**Comprehension:**

In the following passage, some words have been deleted. Read the passage carefully and select the most appropriate option to fill in each blank.

Opera refers (1)\_\_\_\_\_ a dramatic art form, originating in Europe, in which the emotional content (2)\_\_\_\_\_ conveyed to the audience as much through music, both vocal and instrumental, as it is through the lyrics. (3)\_\_\_\_\_ contrast, in musical theatre an actor's dramatic performance is primary, and the music (4)\_\_\_\_\_ a lesser role. The drama in opera is (5)\_\_\_\_\_ using the primary elements of theatre such as scenery, costumes and acting.

**SubQuestion No : 21**

**Q.21** Select the most appropriate option to fill in blank no. 1.

- Ans
- 1. with
  - 2. for
  - 3. on
  - 4. to

Question Type : **MCQ**

Question ID : **630680521890**

Option 1 ID : **6306802039895**

Option 2 ID : **6306802039892**

Option 3 ID : **6306802039893**

Option 4 ID : **6306802039894**

Status : **Answered**

Chosen Option : **4**

**Comprehension:**

In the following passage, some words have been deleted. Read the passage carefully and select the most appropriate option to fill in each blank.

Opera refers (1)\_\_\_\_\_ a dramatic art form, originating in Europe, in which the emotional content (2)\_\_\_\_\_ conveyed to the audience as much through music, both vocal and instrumental, as it is through the lyrics. (3)\_\_\_\_\_ contrast, in musical theatre an actor's dramatic performance is primary, and the music (4)\_\_\_\_\_ a lesser role. The drama in opera is (5)\_\_\_\_\_ using the primary elements of theatre such as scenery, costumes and acting.

**SubQuestion No : 22**

**Q.22** Select the most appropriate option to fill in blank no. 2.

- Ans
- 1. are
  - 2. are being
  - 3. were
  - 4. is

Question Type : **MCQ**

Question ID : **630680521891**

Option 1 ID : **6306802039899**

Option 2 ID : **6306802039897**

Option 3 ID : **6306802039898**

Option 4 ID : **6306802039896**

Status : **Answered**

Chosen Option : **2**

**Comprehension:**

In the following passage, some words have been deleted. Read the passage carefully and select the most appropriate option to fill in each blank.

Opera refers (1)\_\_\_\_\_ a dramatic art form, originating in Europe, in which the emotional content (2)\_\_\_\_\_ conveyed to the audience as much through music, both vocal and instrumental, as it is through the lyrics. (3)\_\_\_\_\_ contrast, in musical theatre an actor's dramatic performance is primary, and the music (4)\_\_\_\_\_ a lesser role. The drama in opera is (5)\_\_\_\_\_ using the primary elements of theatre such as scenery, costumes and acting.

**SubQuestion No : 23**

**Q.23 Select the most appropriate option to fill in blank no. 3.**

- Ans  1. Under  
 2. Beside  
 3. In  
 4. For

Question Type : **MCQ**  
Question ID : **630680521892**  
Option 1 ID : **6306802039902**  
Option 2 ID : **6306802039903**  
Option 3 ID : **6306802039900**  
Option 4 ID : **6306802039901**  
Status : **Answered**  
Chosen Option : **3**

**Comprehension:**

In the following passage, some words have been deleted. Read the passage carefully and select the most appropriate option to fill in each blank.

Opera refers (1)\_\_\_\_\_ a dramatic art form, originating in Europe, in which the emotional content (2)\_\_\_\_\_ conveyed to the audience as much through music, both vocal and instrumental, as it is through the lyrics. (3)\_\_\_\_\_ contrast, in musical theatre an actor's dramatic performance is primary, and the music (4)\_\_\_\_\_ a lesser role. The drama in opera is (5)\_\_\_\_\_ using the primary elements of theatre such as scenery, costumes and acting.

**SubQuestion No : 24**

**Q.24 Select the most appropriate option to fill in blank no. 4.**

- Ans  1. playing  
 2. play  
 3. plays  
 4. played

Question Type : **MCQ**  
Question ID : **630680521893**  
Option 1 ID : **6306802039907**  
Option 2 ID : **6306802039904**  
Option 3 ID : **6306802039906**  
Option 4 ID : **6306802039905**  
Status : **Answered**  
Chosen Option : **3**

**Comprehension:**

In the following passage, some words have been deleted. Read the passage carefully and select the most appropriate option to fill in each blank.

Opera refers (1)\_\_\_\_\_ a dramatic art form, originating in Europe, in which the emotional content (2)\_\_\_\_\_ conveyed to the audience as much through music, both vocal and instrumental, as it is through the lyrics. (3)\_\_\_\_\_ contrast, in musical theatre an actor's dramatic performance is primary, and the music (4)\_\_\_\_\_ a lesser role. The drama in opera is (5)\_\_\_\_\_ using the primary elements of theatre such as scenery, costumes and acting.

**SubQuestion No : 25**

**Q.25 Select the most appropriate option to fill in blank no. 5.**

- Ans  1. present  
 2. presented  
 3. presenting  
 4. being present

Question Type : **MCQ**

Question ID : **630680521894**

Option 1 ID : **6306802039910**

Option 2 ID : **6306802039908**

Option 3 ID : **6306802039909**

Option 4 ID : **6306802039911**

Status : **Answered**

Chosen Option : **3**