

Multi Tasking Non Technical Staff and Havaladar CBIC and CBN Examination 2024

Roll Number	
Candidate Name	
Venue Name	Shri S N Technologies
Exam Date	05/11/2024
Exam Time	9:00 AM - 11:00 AM
Subject	MTS Non Tech Havaladar CBIC and CBN Examination 2024

Section : Numerical and Mathematical Ability

Q.1 जब एक वस्तु की कीमत 10% कम कर दी जाती है, तो उसकी बिक्री 60% बढ़ जाती है। आमदनी पर निवल प्रभाव क्या होगा?

- Ans
- 1. 24% की कमी
 - 2. 44% की कमी
 - 3. 44% की वृद्धि
 - 4. 24% की वृद्धि

Question Type : MCQ

Question ID : 630680464534

Option 1 ID : 6306801814174

Option 2 ID : 6306801814172

Option 3 ID : 6306801814171

Option 4 ID : 6306801814173

Status : Answered

Chosen Option : 3

Q.2 एक पुलिसकर्मी और एक चोर के बीच की दूरी 2 km होने पर पुलिसकर्मी, चोर को पंद्रह मिनट में पकड़ सकता है। यदि पुलिसकर्मी 9:00 a.m. पर चोर का पीछा करना शुरू करता है और वह चोर को 9:40 a.m. पर पकड़ लेता है, तो चोर और पुलिसकर्मी के बीच शुरुआत में कितनी दूरी थी?

- Ans
- 1. $\frac{16}{3}$ km
 - 2. $\frac{8}{3}$ km
 - 3. $\frac{22}{3}$ km
 - 4. $\frac{11}{3}$ km

Question Type : MCQ

Question ID : 630680267457

Option 1 ID : 6306801039206

Option 2 ID : 6306801039205

Option 3 ID : 6306801039204

Option 4 ID : 6306801039203

Status : Answered

Chosen Option : 1

Q.3 किसी विद्यालय में 25 विद्यार्थियों का औसत वजन 57 kg है। यदि अध्यापक का वजन शामिल किया जाए, तो औसत वजन में 0.8 kg की वृद्धि होती है। अध्यापक का वजन ज्ञात कीजिए।

- Ans 1. 76.8 kg
 2. 75.8 kg
 3. 77.8 kg
 4. 78.8 kg

Question Type : MCQ

Question ID : 630680466818

Option 1 ID : 6306801823249

Option 2 ID : 6306801823248

Option 3 ID : 6306801823250

Option 4 ID : 6306801823251

Status : Answered

Chosen Option : 2

Q.4 दी गई तालिका एक परीक्षा में गणित और विज्ञान में प्राप्त अंकों के आधार पर 100 विद्यार्थियों के वर्गीकरण को दर्शाती है। अंक 50 में से हैं।

विषय	40 और उससे अधिक	30 और उससे अधिक	20 और उससे अधिक	10 और उससे अधिक	0 और उससे अधिक
गणित	8	28	63	84	100
विज्ञान	9	32	82	90	100
औसत (कुल)	8	26	72	88	100

विज्ञान में कट ऑफ अंक 30 के साथ उत्तीर्ण होने वाले विद्यार्थियों और गणित में कट ऑफ अंक 30 के साथ उत्तीर्ण होने वाले विद्यार्थियों की संख्या के बीच अंतर ज्ञात करें?

- Ans 1. 6
 2. 4
 3. 5
 4. 3

Question Type : MCQ

Question ID : 630680523761

Option 1 ID : 6306802047198

Option 2 ID : 6306802047196

Option 3 ID : 6306802047197

Option 4 ID : 6306802047195

Status : Answered

Chosen Option : 1

Q.5 एक व्यक्ति अपनी वस्तु पर क्रय मूल्य से $x\%$ अधिक मूल्य अंकित करता है और अंकित मूल्य पर 28% की छूट देता है। यदि उसका लाभ 22.4% है, तो x का मान ज्ञात कीजिए।

- Ans
- 1. 50
 - 2. 30
 - 3. 70
 - 4. 80

Question Type : MCQ

Question ID : 630680631086

Option 1 ID : 6306802470293

Option 2 ID : 6306802470292

Option 3 ID : 6306802470295

Option 4 ID : 6306802470294

Status : Answered

Chosen Option : 2

Q.6 एक वस्तु को ₹880 में बेचने पर एक दुकानदार को 10% का लाभ होता है। यदि वह वस्तु को ₹900 में बेचता है तो उसका लाभ प्रतिशत क्या होगा?

- Ans
- 1. 20%
 - 2. 16%
 - 3. 12.5%
 - 4. 10%

Question Type : MCQ

Question ID : 630680119861

Option 1 ID : 630680464510

Option 2 ID : 630680464511

Option 3 ID : 630680464513

Option 4 ID : 630680464512

Status : Answered

Chosen Option : 3

Q.7 तीन संख्याएँ 3 : 4 : 5 के अनुपात में हैं और उनका लघुत्तम समापवर्त्य (LCM) 2400 है। उनका महत्तम समापवर्तक (HCF) _____ है।

- Ans
- 1. 25
 - 2. 60
 - 3. 30
 - 4. 40

Question Type : MCQ

Question ID : 630680106806

Option 1 ID : 630680414842

Option 2 ID : 630680414843

Option 3 ID : 630680414841

Option 4 ID : 630680414840

Status : Answered

Chosen Option : 2

Q.8 एक बेलन की त्रिज्या को 25% घटाकर और इसकी ऊँचाई को 25% बढ़ाकर एक नया बेलन बनाने पर, नए आयतन में प्रतिशत कमी कितनी होगी (दशमलव के बाद दो अंकों तक पूर्णांकित)?

- Ans
- 1. 39.5%
 - 2. 27.5%
 - 3. 29.69%
 - 4. 40.2%

Question Type : MCQ

Question ID : 630680378581

Option 1 ID : 6306801475374

Option 2 ID : 6306801475372

Option 3 ID : 6306801475373

Option 4 ID : 6306801475371

Status : Answered

Chosen Option : 1

Q.9 एक व्यक्ति 15 पाउंड में एक घोड़ा खरीदता है। एक वर्ष के बाद, वह इसे 20 पाउंड में बेच देता है। एक वर्ष के बाद, वह फिर से उसी घोड़े को 30 पाउंड में खरीदता है और उसे 40 पाउंड में बेच देता है। दोनों लेन-देन पर उस व्यक्ति का कुल लाभ प्रतिशत कितना है?

- Ans
- 1. 33.33%
 - 2. 30.33%
 - 3. 40.33%
 - 4. 35.33%

Question Type : MCQ

Question ID : 630680115659

Option 1 ID : 630680447987

Option 2 ID : 630680447986

Option 3 ID : 630680447989

Option 4 ID : 630680447988

Status : Answered

Chosen Option : 2

Q.10 एक एथलीट 1950 m की दूरी 13 मिनट में पूरी करता है। उसकी चाल (km/hr में) कितनी है?

- Ans
- 1. 7
 - 2. 8
 - 3. 6
 - 4. 9

Question Type : MCQ

Question ID : 630680634016

Option 1 ID : 6306802481949

Option 2 ID : 6306802481950

Option 3 ID : 6306802481948

Option 4 ID : 6306802481951

Status : Answered

Chosen Option : 4

Q.11 एक ऐसी खोखली गेंद बनानी है जिसकी बाहरी त्रिज्या 7 इकाई और भीतरी त्रिज्या 3.5 इकाई हो।
तो बताइए कि इस गेंद को बनाने के लिए कितनी सामग्री (घन इकाई में) की आवश्यकता होगी? ($\pi = \frac{22}{7}$ लीजिए)

- Ans
1. $\frac{7373}{3}$
2. $\frac{3773}{3}$
3. $\frac{7337}{3}$
4. $\frac{3737}{3}$

Question Type : MCQ

Question ID : 630680526630

Option 1 ID : 6306802058586

Option 2 ID : 6306802058588

Option 3 ID : 6306802058589

Option 4 ID : 6306802058587

Status : Answered

Chosen Option : 3

Q.12 42 छात्रों की एक कक्षा ने भौतिक विज्ञान की परीक्षा दी। 18 छात्रों का औसत स्कोर 95 था। अन्य छात्रों का औसत स्कोर 73 था। पूरी कक्षा का औसत स्कोर (एक दशमलव स्थान तक पूर्णांकित) ज्ञात करें।

- Ans
1. 79.6
2. 82.4
3. 90.7
4. 86.1

Question Type : MCQ

Question ID : 630680460832

Option 1 ID : 6306801799612

Option 2 ID : 6306801799610

Option 3 ID : 6306801799611

Option 4 ID : 6306801799613

Status : Answered

Chosen Option : 2

Q.13 2 वर्षों के लिए 3% वार्षिक की ब्याज दर पर उधार ली गई राशि ₹3000 पर साधारण ब्याज (₹ में) ज्ञात कीजिए।

Ans 1. 220

2. 180

3. 120

4. 140

Question Type : MCQ

Question ID : 630680591923

Option 1 ID : 6306802316160

Option 2 ID : 6306802316159

Option 3 ID : 6306802316161

Option 4 ID : 6306802316162

Status : Answered

Chosen Option : 1

Q.14 अरमान ने चार पुत्रों, तीन पुत्रियों और पाँच भतीजों में बांटने के लिए ₹2,17,600 छोड़े हैं। यदि प्रत्येक पुत्री को प्रत्येक भतीजे से 3 गुना अधिक धनराशि मिलती है और प्रत्येक पुत्र को प्रत्येक भतीजे से 5 गुना अधिक धनराशि मिलती है, तो प्रत्येक पुत्र को कितनी धनराशि मिलेगी?

Ans 1. ₹32,000

2. ₹18,200

3. ₹36,000

4. ₹25,600

Question Type : MCQ

Question ID : 630680449906

Option 1 ID : 6306801756801

Option 2 ID : 6306801756799

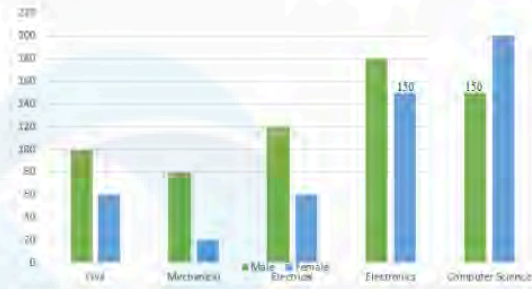
Option 3 ID : 6306801756802

Option 4 ID : 6306801756800

Status : Answered

Chosen Option : 3

Q.15 दंड-आलेख एक इंजीनियरिंग कॉलेज की सभी पांच अलग-अलग ब्रांच के विद्यार्थियों की संख्या दर्शाता है। दिए गए दंड-आलेख का अध्ययन कीजिए और निम्नलिखित प्रश्न का उत्तर दीजिए।



संदर्भ:- Civil = सिविल, Mechanical = मैकेनिकल, Electrical = इलेक्ट्रिकल
Electronics = इलेक्ट्रॉनिक्स, Computer Science = कंप्यूटर साइंस
Male = पुरुष, Female = महिला

कॉलेज में महिलाओं का कुल प्रतिशत कितना है?

- Ans
- 1. 43.25%
 - 2. 46.75%
 - 3. 43.75%
 - 4. 56.25%

Question Type : MCQ

Question ID : 630680523941

Option 1 ID : 6306802047916

Option 2 ID : 6306802047917

Option 3 ID : 6306802047918

Option 4 ID : 6306802047915

Status : Answered

Chosen Option : 2

Q.16 8 संख्याओं 127, 432, p, 89, q, 99, 842 और 76 का औसत 221 है और संख्या p और q दो अंकों वाली संख्याएँ हैं। यदि p का इकाई अंक q के इकाई अंक से एक कम है और q का दहाई का अंक p के दहाई अंक से एक कम है, तो p के अंकों का योग क्या है?

- Ans
- 1. 11
 - 2. 12
 - 3. 14
 - 4. 13

Question Type : MCQ

Question ID : 630680120870

Option 1 ID : 630680468456

Option 2 ID : 630680468457

Option 3 ID : 630680468454

Option 4 ID : 630680468455

Status : Answered

Chosen Option : 2

Q.17 यदि एक त्रिभुज की तीन भुजाएँ क्रमशः 3 cm, 4 cm और 5 cm हैं, तो उसका क्षेत्रफल (cm^2 में) कितना है?

Ans 1. 6

2. $\sqrt{8}$

3. 8

4. $\sqrt{6}$

Question Type : MCQ

Question ID : 630680108221

Option 1 ID : 630680419946

Option 2 ID : 630680419947

Option 3 ID : 630680419945

Option 4 ID : 630680419944

Status : Answered

Chosen Option : 3

Q.18 दो बाल्टी P और Q में दूध और जल का अनुपात क्रमशः 5 : 3 और 1 : 4 है। तीसरी बाल्टी R में 50% दूध और 50% जल वाला एक नया मिश्रण प्राप्त करने के लिए दोनों बाल्टियों के द्रवों को किस अनुपात में मिलाया जाएगा?

Ans 1. 7 : 13

2. 7 : 9

3. 12 : 5

4. 4 : 7

Question Type : MCQ

Question ID : 630680484469

Option 1 ID : 6306801892197

Option 2 ID : 6306801892195

Option 3 ID : 6306801892196

Option 4 ID : 6306801892194

Status : Answered

Chosen Option : 3

Q.19 कुमार ने एक बैंक से 9.5% वार्षिक साधारण ब्याज की दर पर ऋण लिया। 6 वर्ष बाद, उसे केवल उस अवधि के लिए ब्याज के रूप में ₹3,705 का भुगतान करना पड़ा। उसके द्वारा ऋण पर ली गई मूलधन राशि कितनी है?

Ans 1. ₹8,200

2. ₹2,100

3. ₹6,500

4. ₹5,800

Question Type : MCQ

Question ID : 630680397330

Option 1 ID : 6306801549379

Option 2 ID : 6306801549378

Option 3 ID : 6306801549377

Option 4 ID : 6306801549376

Status : Answered

Chosen Option : 2

Q.20 5 वर्षों के लिए 6% प्रति वर्ष की ब्याज दर पर उधार ली गई राशि ₹3500 पर साधारण ब्याज (₹ में) ज्ञात कीजिए।

Ans 1. 1050

2. 1010

3. 1090

4. 990

Question Type : MCQ

Question ID : 630680591976

Option 1 ID : 6306802316371

Option 2 ID : 6306802316374

Option 3 ID : 6306802316372

Option 4 ID : 6306802316373

Status : Answered

Chosen Option : 3

Section : Reasoning Ability and Problem Solving

Q.1 एक निश्चित कूटभाषा में, 'quip area flash' को 'er to pg' के रूप में कूटबद्ध किया जाता है और 'bacon quip bonus' को 'to my te' के रूप में कूटबद्ध किया जाता है। दी गई भाषा में 'quip' को कैसे कूटबद्ध किया जाएगा?

Ans 1. er

2. pg

3. to

4. my

Question Type : MCQ

Question ID : 630680824872

Option 1 ID : 6306803231060

Option 2 ID : 6306803231061

Option 3 ID : 6306803231059

Option 4 ID : 6306803231062

Status : Answered

Chosen Option : 3

Q.2 यदि '+' और '-' को आपस में बदल दिया जाए तथा 'x' और '÷' को आपस में बदल दिया जाए, तो निम्नलिखित समीकरण में प्रश्न-चिह्न (?) के स्थान पर क्या आएगा?

$$31 \times 961 \div 155 - 73 + 54 = ?$$

Ans 1. 44

2. 24

3. 22

4. 42

Question Type : MCQ

Question ID : 630680272733

Option 1 ID : 6306801059492

Option 2 ID : 6306801059491

Option 3 ID : 6306801059494

Option 4 ID : 6306801059493

Status : Answered

Chosen Option : 2

Q.3 यदि '+' और '-' को आपस में बदल दिया जाए तथा 'x' और '÷' को आपस में बदल दिया जाए, तो निम्नलिखित समीकरण में '?' के स्थान पर क्या आएगा?
 $6 \div 3 \times 2 + 1 - 2 = ?$

Ans 1. 10

2. 5

3. 7

4. 3

Question Type : MCQ

Question ID : 630680395196

Option 1 ID : 6306801541019

Option 2 ID : 6306801541017

Option 3 ID : 6306801541018

Option 4 ID : 6306801541016

Status : Answered

Chosen Option : 4

Q.4 दिए गए कथनों और निष्कर्षों को ध्यानपूर्वक पढ़िए। यह मानते हुए कि कथनों में दी गई जानकारी सत्य है, चाहे वह सामान्यतः ज्ञात तथ्यों से भिन्न प्रतीत होती हो और निर्णय लीजिए कि दिए गए निष्कर्षों में से कौन-सा/कौन-से निष्कर्ष कथनों का तार्किक रूप से अनुसरण करता है/करते हैं।

कथन:

- कुछ चटाइयाँ, योक हैं।
- कुछ खिलौने, चटाइयाँ हैं।

निष्कर्ष:

- (I) कुछ चटाइयाँ, जूट हैं।
- (II) खिलौना एक, योक है।

Ans 1. केवल निष्कर्ष (II) अनुसरण करता है

2. निष्कर्ष (I) और (II), दोनों अनुसरण करते हैं

3. न तो निष्कर्ष (I) अनुसरण करता है और न ही (II) अनुसरण करता है

4. केवल निष्कर्ष (I) अनुसरण करता है

Question Type : MCQ

Question ID : 630680126319

Option 1 ID : 630680489883

Option 2 ID : 630680489885

Option 3 ID : 630680489884

Option 4 ID : 630680489882

Status : Answered

Chosen Option : 3

Q.5 निम्नलिखित श्रृंखला में लुप्त पद ज्ञात कीजिए:
MM, LO, KQ, __, IU, HW.

Ans 1. JS

2. JP

3. KS

4. KP

Question Type : MCQ

Question ID : 630680401280

Option 1 ID : 6306801564927

Option 2 ID : 6306801564925

Option 3 ID : 6306801564928

Option 4 ID : 6306801564926

Status : Answered

Chosen Option : 1

Q.6 E, F, G, H, I और J एक गोल मेज के चारों ओर केंद्र की ओर मुख करके बैठे हैं (परंतु जरूरी नहीं कि वे इसी क्रम में बैठे हों)। F, G के ठीक बाएँ और E के ठीक दाएँ बैठा है। J, H के ठीक दाएँ और I के ठीक बाएँ बैठा है। H, G के ठीक दाएँ बैठा है। E के ठीक बाएँ कौन बैठा है?

Ans 1. H

2. I

3. J

4. F

Question Type : MCQ

Question ID : 630680380396

Option 1 ID : 6306801482581

Option 2 ID : 6306801482579

Option 3 ID : 6306801482580

Option 4 ID : 6306801482582

Status : Answered

Chosen Option : 2

Q.7 दिए गए कथनों और निष्कर्षों को ध्यानपूर्वक पढ़िए। यह मानते हुए कि कथनों में दी गई जानकारी सत्य है, चाहे वह सामान्यतः ज्ञात तथ्यों से भिन्न प्रतीत होती हो और निर्णय लीजिए कि दिए गए निष्कर्षों में से कौन-सा/कौन-से निष्कर्ष कथनों का तार्किक रूप से अनुसरण करता है/करते हैं।

कथन:

कुछ तकिए, पर्दे हैं।
कोई पर्दा, चादर नहीं है।

निष्कर्ष:

(I) सभी तकिए, कभी भी चादर नहीं हो सकते हैं।
(II) कुछ पर्दे, तकिए नहीं हैं।

- Ans
- 1. केवल निष्कर्ष (I) अनुसरण करता है
 - 2. केवल निष्कर्ष (II) अनुसरण करता है
 - 3. न तो निष्कर्ष (I) और न ही (II) अनुसरण करता है
 - 4. निष्कर्ष (I) और (II) दोनों अनुसरण करते हैं

Question Type : MCQ

Question ID : 630680815688

Option 1 ID : 6306803196053

Option 2 ID : 6306803196054

Option 3 ID : 6306803196056

Option 4 ID : 6306803196055

Status : Answered

Chosen Option : 2

Q.8 दिए गए विकल्पों में से उस आकृति का चयन कीजिए जो निम्नलिखित श्रृंखला में प्रश्न चिह्न (?) को प्रतिस्थापित कर सकती है।

	□	5		8	N	8		8	N	△		
7	P	K	K	5	7	7	□	K	K		7	?
8	N	△	P	△	N	△	P	5	□	5	P	

Ans

✗ 1.

N	8	□
7	△	K
	P	5

✓ 2.

P	△	N
7	8	K
5	□	

✗ 3.

P	△	N
7		K
5	□	8

✗ 4.

P	△	N
K	8	7
5	□	

Question Type : MCQ

Question ID : 630680220271

Option 1 ID : 630680854951

Option 2 ID : 630680854949

Option 3 ID : 630680854952

Option 4 ID : 630680854950

Status : Answered

Chosen Option : 3

Q.9 दिए गए विकल्पों में से उस संख्या का चयन कीजिए जो निम्नलिखित श्रृंखला में प्रश्न चिह्न (?) के स्थान पर आ सकती है।

6, 7, 9, 13, 21, ?

- Ans 1. 39
 2. 38
 3. 37
 4. 40

Question Type : MCQ

Question ID : 630680404857

Option 1 ID : 6306801578920

Option 2 ID : 6306801578922

Option 3 ID : 6306801578919

Option 4 ID : 6306801578921

Status : Answered

Chosen Option : 3

Q.10 JK 3 एक निश्चित प्रकार से MH 6 से संबंधित है। ठीक उसी प्रकार OD 11, RA 14 से संबंधित है। समान तर्क का अनुसरण करते हुए RD 14 निम्नलिखित में से किससे संबंधित है?

- Ans 1. UZ 17
 2. UA 17
 3. UB 19
 4. UA 14

Question Type : MCQ

Question ID : 630680423234

Option 1 ID : 6306801651296

Option 2 ID : 6306801651298

Option 3 ID : 6306801651297

Option 4 ID : 6306801651295

Status : Answered

Chosen Option : 3

Q.11 A, C, F, E, B, U और P एक वृत्ताकार मेज के चारों ओर केंद्र की ओर पीठ करके बैठे हैं (परंतु जरूरी नहीं कि वे इसी क्रम में बैठे हों)। F, E के दाईं ओर से तीसरे स्थान पर बैठा है। P, A के बाईं ओर से तीसरे स्थान पर बैठा है। U, C के दाईं ओर से तीसरे स्थान पर बैठा है। E, P के ठीक बाईं ओर पड़ोस में बैठा है। C, P का निकटतम पड़ोसी नहीं है। निम्नलिखित में से कौन U के दाईं ओर तीसरे स्थान पर बैठा है?

- Ans 1. B
 2. E
 3. P
 4. A

Question Type : MCQ

Question ID : 630680395485

Option 1 ID : 6306801542109

Option 2 ID : 6306801542111

Option 3 ID : 6306801542110

Option 4 ID : 6306801542108

Status : Answered

Chosen Option : 2

Q.12 एक निश्चित कूट भाषा में, 'sold the painting' को 'ju ri gi' के रूप में लिखा जाता है और 'directors sold business' को 'hu fe ju' के रूप में कूटबद्ध किया जाता है। उस भाषा में 'sold' को कैसे कूटबद्ध किया गया है?

Ans 1. ju

2. fe

3. hu

4. ri

Question Type : MCQ

Question ID : 630680528909

Option 1 ID : 6306802067625

Option 2 ID : 6306802067627

Option 3 ID : 6306802067626

Option 4 ID : 6306802067624

Status : Answered

Chosen Option : 1

Q.13 एक निश्चित कूट भाषा में, 'listen to music' को 'fd si lr' लिखा जाता है और 'you should listen' को 'lr ep wi' लिखा जाता है। उसी कूट भाषा में 'listen' को कैसे लिखा जाएगा?

Ans 1. wi

2. fd

3. ep

4. lr

Question Type : MCQ

Question ID : 630680502780

Option 1 ID : 6306801964703

Option 2 ID : 6306801964701

Option 3 ID : 6306801964702

Option 4 ID : 6306801964704

Status : Answered

Chosen Option : 4

Q.14 उस विकल्प आकृति का चयन कीजिए जो पैटर्न को पूरा करने के लिए नीचे दी गई आकृति में प्रश्न चिह्न (?) के स्थान पर आएगी।

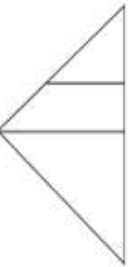


Ans

1.



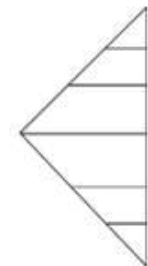
2.



3.



4.



Question Type : **MCQ**

Question ID : **630680524703**

Option 1 ID : **6306802050911**

Option 2 ID : **6306802050913**

Option 3 ID : **6306802050914**

Option 4 ID : **6306802050912**

Status : **Answered**

Chosen Option : **1**

Q.15 निम्नलिखित संख्या-युग्मों में, दूसरी संख्या, पहली संख्या पर निश्चित गणितीय संक्रियाएँ करके प्राप्त की जाती है। उस समुच्चय का चयन कीजिए जिसमें संख्याएँ ठीक उसी प्रकार संबंधित हैं जिस प्रकार दिए गए समुच्चयों की संख्याएँ संबंधित हैं।

(ध्यान दें: संख्याओं को उनके घटक अंकों में अलग-अलग किए बिना पूर्ण संख्याओं पर संक्रियाएं की जानी चाहिए। उदाहरण के लिए संख्या 13 - संख्या 13 पर संक्रियाएं जैसे 13 को जोड़ना/घटाना/गुणा करना आदि किया जा सकता है। 13 को 1 और 3 में अलग-अलग करने की और फिर 1 और 3 पर गणितीय संक्रियाएं करने की अनुमति नहीं है।)

18, 37
22, 45

- Ans 1. 26, 53
 2. 24, 72
 3. 25, 57
 4. 27, 59

Question Type : MCQ

Question ID : 630680408010

Option 1 ID : 6306801590961

Option 2 ID : 6306801590959

Option 3 ID : 6306801590960

Option 4 ID : 6306801590962

Status : Answered

Chosen Option : 1

Q.16 एक निश्चित भाषा में, 'this college bag is expensive' को 'br od hy jh pb' के रूप में कूटबद्ध किया जाता है और 'your bag looks very heavy' को 'mh sa tn dl od' के रूप में कूटबद्ध किया जाता है। दी गई भाषा में 'bag' को कैसे कूटबद्ध किया जाएगा?

- Ans 1. mh
 2. od
 3. br
 4. jh

Question Type : MCQ

Question ID : 630680876503

Option 1 ID : 6306803432771

Option 2 ID : 6306803432772

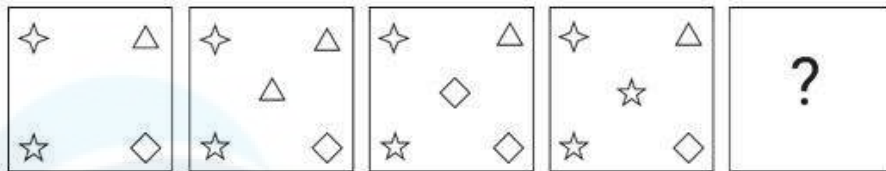
Option 3 ID : 6306803432773

Option 4 ID : 6306803432774

Status : Answered

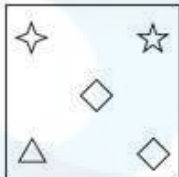
Chosen Option : 2

Q.17 विकल्पों में दी गई उस आकृति की पहचान कीजिए, जिसे प्रश्न-चिह्न (?) के स्थान पर रखने पर श्रृंखला तार्किक रूप से पूर्ण हो जाएगी।

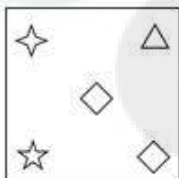


Ans


✗ 1.



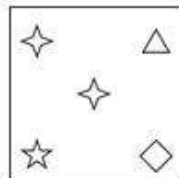
✗ 2.



✗ 3.



✓ 4.



Question Type : MCQ

Question ID : 630680273627

Option 1 ID : 6306801063030

Option 2 ID : 6306801063028

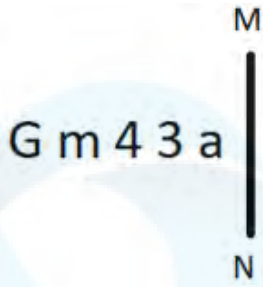
Option 3 ID : 6306801063029

Option 4 ID : 6306801063027

Status : Answered

Chosen Option : 1

Q.18 दी गई आकृति के उस सही दर्पण प्रतिबिंब को चुनिए, जो नीचे दर्शाए गए अनुसार दर्पण को MN पर रखने पर बनेगा।



Ans

1. a 3 4 m G

2. a 3 4 m G

3. a 4 3 m G

4. a 3 4 m G

Question Type : MCQ

Question ID : 630680525241

Option 1 ID : 6306802053051

Option 2 ID : 6306802053049

Option 3 ID : 6306802053050

Option 4 ID : 6306802053048

Status : Answered

Chosen Option : 2

Q.19 MKQO अंग्रेजी वर्णमाला क्रम के आधार पर एक निश्चित तरीके से TRXV से संबंधित है। KIOM उसी तरीके से RPVT से संबंधित है। उसी तर्क का अनुसरण करते हुए HFLJ निम्नलिखित में से किससे संबंधित है?

Ans

1. MOQS

2. MOSQ

3. OMSQ

4. OMQS

Question Type : MCQ

Question ID : 630680435742

Option 1 ID : 6306801700887

Option 2 ID : 6306801700888

Option 3 ID : 6306801700885

Option 4 ID : 6306801700886

Status : Answered

Chosen Option : 3

Q.20 11, एक निश्चित तर्क का अनुसरण करते हुए 127 से संबंधित है। 8, उसी तर्क का अनुसरण करते हुए 70 से संबंधित है। समान तर्क का अनुसरण करते हुए 14, निम्नलिखित में से किससे संबंधित है?

(ध्यान दें: संख्याओं को उनके घटक अंकों में अलग-अलग किए बिना पूर्ण संख्याओं पर संक्रियाएं की जानी चाहिए। उदाहरण के लिए संख्या 13 - संख्या 13 पर संक्रियाएं जैसे 13 को जोड़ना/घटाना/गुणा करना आदि किया जा सकता है। 13 को 1 और 3 में अलग-अलग करने की और फिर 1 और 3 पर गणितीय संक्रियाएं करने की अनुमति नहीं है।)

- Ans
- 1. 217
 - 2. 240
 - 3. 194
 - 4. 202

Question Type : MCQ

Question ID : 630680449088

Option 1 ID : 6306801753512

Option 2 ID : 6306801753513

Option 3 ID : 6306801753510

Option 4 ID : 6306801753511

Status : Answered

Chosen Option : 2

Section : General Awareness

Q.1 निम्नलिखित में से किसने मई 2023 में केंद्रीय सतर्कता आयुक्त (Central Vigilance Commissioner - CVC) का पद ग्रहण किया?

- Ans
- 1. राजीव सिन्हा
 - 2. राजीव गौबा
 - 3. प्रवीण कुमार श्रीवास्तव
 - 4. अमिताभ कांत

Question Type : MCQ

Question ID : 630680465476

Option 1 ID : 6306801817942

Option 2 ID : 6306801817940

Option 3 ID : 6306801817939

Option 4 ID : 6306801817941

Status : Answered

Chosen Option : 3

Q.2 अवसादी शैल विभिन्न आकार की चट्टानों के टुकड़ों के जमाव और निक्षेपण की प्रक्रिया से बनते हैं। इस प्रक्रिया को _____ कहा जाता है।

Ans 1. शिलीभवन (lithification)

2. द्रावण (liquefaction)

3. लैकोलिथ (lacoliths)

4. अपक्षय (weathering)

Question Type : MCQ

Question ID : 630680456077

Option 1 ID : 6306801781247

Option 2 ID : 6306801781248

Option 3 ID : 6306801781249

Option 4 ID : 6306801781250

Status : Answered

Chosen Option : 3

Q.3 आत्माराम पांडुरंग ने बम्बई में इनमें से किस संगठन की स्थापना की थी?

Ans 1. पूना सार्वजनिक सभा

2. प्रार्थना समाज

3. सत्यशोधक समाज

4. वेद समाज

Question Type : MCQ

Question ID : 630680318904

Option 1 ID : 6306801240573

Option 2 ID : 6306801240576

Option 3 ID : 6306801240574

Option 4 ID : 6306801240575

Status : Answered

Chosen Option : 4

Q.4 भारत के किस भौगोलिक भू-भाग में लैटेराइट मिट्टी पाई जाती है जो रोपण फसलों (plantation crops) के लिए उपयुक्त होती है?

Ans 1. पश्चिमी घाट

2. छोटा नागपुर का पठार

3. मालाबार तट

4. हिमालय

Question Type : MCQ

Question ID : 630680708903

Option 1 ID : 6306802777243

Option 2 ID : 6306802777244

Option 3 ID : 6306802777245

Option 4 ID : 6306802777242

Status : Answered

Chosen Option : 1

Q.5 राष्ट्रीय बहुआयामी गरीबी सूचकांक रिपोर्ट 2023 के अनुसार, भारत की गरीबी दर (2019-21) कितनी है?

- Ans
- 1. 15.47%
 - 2. 14.96%
 - 3. 20.89%
 - 4. 20.61%

Question Type : MCQ

Question ID : 630680404734

Option 1 ID : 6306801578413

Option 2 ID : 6306801578412

Option 3 ID : 6306801578411

Option 4 ID : 6306801578414

Status : Answered

Chosen Option : 2

Q.6 निम्नलिखित धातुओं की बढ़ती अभिक्रियाशीलता के आधार पर सही क्रम का चयन कीजिए।

- Ans
- 1. Au, Mg, Cu और K
 - 2. Au, Cu, Mg और K
 - 3. K, Cu, Mg और Au
 - 4. K, Mg, Cu और Au

Question Type : MCQ

Question ID : 630680426401

Option 1 ID : 6306801663695

Option 2 ID : 6306801663694

Option 3 ID : 6306801663696

Option 4 ID : 6306801663693

Status : Answered

Chosen Option : 1

Q.7 निम्नलिखित को सुमेलित कीजिए और सही विकल्प का

चयन कीजिए:

- | | |
|--------------------|----------|
| 1 बहुदलीय प्रणाली | a) यूएसए |
| 2 द्विदलीय प्रणाली | b) चीन |
| 3 एकल दल प्रणाली | c) भारत |

Ans 1. 1 - c, 2 - a, 3 - b

2. 1 - a, 2 - b, 3 - c

3. 1 - b, 2 - c, 3 - a

4. 1 - c, 2 - b, 3 - a

Question Type : MCQ

Question ID : 630680511454

Option 1 ID : 6306801998946

Option 2 ID : 6306801998947

Option 3 ID : 6306801998948

Option 4 ID : 6306801998949

Status : Answered

Chosen Option : 4

Q.8 द्रविड़ शैली में मंदिर वास्तुकला में दीर्घवृत्तीय आकृतियों (elliptical shapes) को दिए गए शब्दों में से किस नाम से जाना जाता है?

Ans 1. आयतसा (Ayatasra)

2. वृत्त (Vrita)

3. गज-पृष्ठ (Gajaprishta)

4. नसी (Nasi)

Question Type : MCQ

Question ID : 630680512075

Option 1 ID : 6306802001270

Option 2 ID : 6306802001273

Option 3 ID : 6306802001271

Option 4 ID : 6306802001272

Status : Answered

Chosen Option : 3

Q.9 श्री महिला सेवा सहकारी बैंक (Shri Mahila SEWA Sahakari Bank) की स्थापना किस वर्ष में हुई थी?

- Ans 1. 1971
 2. 1974
 3. 1975
 4. 1972

Question Type : MCQ

Question ID : 630680512421

Option 1 ID : 6306802002654

Option 2 ID : 6306802002656

Option 3 ID : 6306802002657

Option 4 ID : 6306802002655

Status : Answered

Chosen Option : 1

Q.10 निम्नलिखित में से किस पादप समूह को क्रिप्टोगैम (cryptogams) के रूप में वर्गीकृत किया गया है?

- Ans 1. थैलोफाइटा और जिम्नोस्पर्म
 2. टेरिडोफाइटा और एंजियोस्पर्म
 3. जिम्नोस्पर्म और एंजियोस्पर्म
 4. ब्रायोफाइटा और थैलोफाइटा

Question Type : MCQ

Question ID : 630680641512

Option 1 ID : 6306802511463

Option 2 ID : 6306802511464

Option 3 ID : 6306802511466

Option 4 ID : 6306802511465

Status : Answered

Chosen Option : 3

Q.11 शास्त्रीय नृत्य शैलियों में से एक, कथकली, मुख्य रूप से भारत के किस राज्य में किया जाता है?

- Ans 1. आंध्र प्रदेश
 2. तमिलनाडु
 3. केरल
 4. पंजाब

Question Type : MCQ

Question ID : 630680465732

Option 1 ID : 6306801818964

Option 2 ID : 6306801818963

Option 3 ID : 6306801818965

Option 4 ID : 6306801818966

Status : Answered

Chosen Option : 1

Q.12 ब्रिटिश कब्जे से भारत को आजाद कराने के लिए काम करने हेतु इंडिया हाउस (India House) की स्थापना कहाँ की गई थी?

- Ans 1. बर्लिन
 2. लंदन
 3. सैन फ्रांसिस्को
 4. काबुल

Question Type : MCQ
Question ID : 630680309333
Option 1 ID : 6306801203492
Option 2 ID : 6306801203489
Option 3 ID : 6306801203490
Option 4 ID : 6306801203491
Status : Answered
Chosen Option : 2

Q.13 धार्मिक त्योहार 'ईस्टर', किस समुदाय द्वारा मनाया जाता है?

- Ans 1. जैन समुदाय
 2. ईसाई समुदाय
 3. मुस्लिम समुदाय
 4. पारसी समुदाय

Question Type : MCQ
Question ID : 630680449837
Option 1 ID : 6306801756516
Option 2 ID : 6306801756515
Option 3 ID : 6306801756517
Option 4 ID : 6306801756518
Status : Answered
Chosen Option : 2

Q.14 भारत के राष्ट्रीय बहुआयामी गरीबी सूचकांक: एक प्रगति समीक्षा 2023 के अनुसार, निम्नलिखित में से किस राज्य में बहुआयामी गरीब आबादी का प्रतिशत सबसे कम है?

- Ans 1. सिक्किम
 2. राजस्थान
 3. पश्चिम बंगाल
 4. मणिपुर

Question Type : MCQ
Question ID : 630680722616
Option 1 ID : 6306802831728
Option 2 ID : 6306802831730
Option 3 ID : 6306802831731
Option 4 ID : 6306802831729
Status : Answered
Chosen Option : 3

Q.15 विद्रोह और उसके बाद तुगरिल बेग (Tughril Beg) की मृत्यु के बाद सुल्तान बलबन द्वारा बंगाल के राज्यपाल के रूप में किसे नियुक्त किया गया था?

- Ans
- 1. खिज़्र खाँ (Khizr Khan)
 - 2. महमूद खाँ (Mahmud Khan)
 - 3. बुगरा खाँ (Bughra Khan)
 - 4. ज़फ़र खाँ (Zafar Khan)

Question Type : MCQ

Question ID : 630680282923

Option 1 ID : 6306801099826

Option 2 ID : 6306801099824

Option 3 ID : 6306801099823

Option 4 ID : 6306801099825

Status : Answered

Chosen Option : 3

Q.16 कथक के क्षेत्र में अपने योगदान के लिए 'संगीत नाटक अकादमी' पुरस्कार 2022 किसे प्राप्त हुआ था?

- Ans
- 1. जगदीश गंगानी
 - 2. राजेंद्र गंगानी
 - 3. नलिनी और कमलिनी अस्थाना
 - 4. शोभा कोसर

Question Type : MCQ

Question ID : 630680800495

Option 1 ID : 6306803136760

Option 2 ID : 6306803136759

Option 3 ID : 6306803136757

Option 4 ID : 6306803136758

Status : Answered

Chosen Option : 1

Q.17 टेनिस में 'ड्रॉप शॉट (drop shot)' शब्द का अर्थ क्या है?

- Ans
- 1. एक जोरदार सर्विस
 - 2. एक शॉट जो कोर्ट की लाइन पर हिट करता है
 - 3. एक जोरदार ओवरहेड (overhead) शॉट
 - 4. धीरे से और नेट के करीब खेला गया एक शॉट

Question Type : MCQ

Question ID : 630680466228

Option 1 ID : 6306801820937

Option 2 ID : 6306801820936

Option 3 ID : 6306801820934

Option 4 ID : 6306801820935

Status : Answered

Chosen Option : 4

Q.18 रोशन मिस्त्री (Roshan Mistry) किस वर्ष 100 m स्प्रिंट (sprint) में रजत पदक जीतकर एशियाई खेलों (Asian Games) में पदक जीतने वाली पहली भारतीय महिला बनीं?

- Ans
- 1. 1954, एशियन गेम्स
 - 2. 1958, एशियन गेम्स
 - 3. 1951, एशियन गेम्स
 - 4. 1962, एशियन गेम्स

Question Type : MCQ

Question ID : 630680552138

Option 1 ID : 6306802158738

Option 2 ID : 6306802158737

Option 3 ID : 6306802158740

Option 4 ID : 6306802158739

Status : Answered

Chosen Option : 3

Q.19 विकृत अल्कोहल (denatured alcohol) क्या है?

- Ans
- 1. शुद्ध मेथेनॉल (Pure Methanol)
 - 2. प्रोपेनॉल (Propanol)
 - 3. शुद्ध इथेनॉल (Pure Ethanol)
 - 4. थोड़े से मेथेनॉल के साथ मिश्रित इथेनॉल (Ethanol mixed with little methanol)

Question Type : MCQ

Question ID : 630680421831

Option 1 ID : 6306801645768

Option 2 ID : 6306801645769

Option 3 ID : 6306801645767

Option 4 ID : 6306801645770

Status : Answered

Chosen Option : 3

Q.20 भारतीय संविधान की निम्नलिखित में से कौन-सी विशेषता 97वें संवैधानिक संशोधन अधिनियम द्वारा शामिल की गई है?

- Ans
- 1. पंचायतों के चुनाव
 - 2. स्वतंत्र निकाय
 - 3. सहकारी समितियाँ
 - 4. विदेश नीति

Question Type : MCQ

Question ID : 630680587078

Option 1 ID : 6306802296854

Option 2 ID : 6306802296853

Option 3 ID : 6306802296855

Option 4 ID : 6306802296856

Status : Answered

Chosen Option : 1

Q.21 1973 में, भारत की पहली महिला उच्च न्यायालय न्यायाधीश अन्ना चांडी ने मलयालम में अपनी आत्मकथा _____ प्रकाशित की।

- Ans
- 1. द रेस ऑफ माय लाइफ (The Race of My Life)
 - 2. आत्मकथा (Atmakatha)
 - 3. द टेस्ट ऑफ माय लाइफ (The Test of My Life)
 - 4. प्लेयिंग इट माय वे (Playing it My Way)

Question Type : MCQ

Question ID : 630680798918

Option 1 ID : 6306803130480

Option 2 ID : 6306803130481

Option 3 ID : 6306803130478

Option 4 ID : 6306803130479

Status : Answered

Chosen Option : 2

Q.22 मार्च 2023 में भारत सरकार द्वारा टेक्सटाइल क्षेत्र के लिए घोषित सात 'पीएम मेगा इंटीग्रेटेड टेक्सटाइल रीजन एंड अपैरल (PM Mega Integrated Textile Region and Apparel - PM MITRA)' पार्क की स्थापना के लिए निम्नलिखित में से किस स्थान का चयन नहीं किया गया है?

- Ans
- 1. पश्चिम बंगाल
 - 2. महाराष्ट्र
 - 3. कर्नाटक
 - 4. गुजरात

Question Type : MCQ

Question ID : 630680465518

Option 1 ID : 6306801818107

Option 2 ID : 6306801818108

Option 3 ID : 6306801818109

Option 4 ID : 6306801818110

Status : Answered

Chosen Option : 3

Q.23 संगम कवियों ने ग्रंथों की रचना के लिए निम्नलिखित में से किस भाषा का उपयोग किया था?

- Ans
- 1. तेलुगू
 - 2. तमिल
 - 3. मलयालम
 - 4. कन्नड

Question Type : MCQ

Question ID : 630680433801

Option 1 ID : 6306801693167

Option 2 ID : 6306801693168

Option 3 ID : 6306801693169

Option 4 ID : 6306801693170

Status : Answered

Chosen Option : 3

Q.24 निम्नलिखित में से कौन-सी भारत में उगाई जाने वाली एक प्राकृतिक फाइबर फसल (natural fibre crop) नहीं है?

- Ans
- 1. जूट (Jute)
 - 2. कपास (Cotton)
 - 3. पॉलिस्टर (Polyester)
 - 4. भांग (Hemp)

Question Type : MCQ

Question ID : 630680798979

Option 1 ID : 6306803130717

Option 2 ID : 6306803130714

Option 3 ID : 6306803130716

Option 4 ID : 6306803130715

Status : Answered

Chosen Option : 4

Q.25 भारतीय शास्त्रीय गायिका और पद्म विभूषण से सम्मानित किशोरी अमोनकर (Kishori Amonkar) निम्नलिखित में से किस घराने से संबंधित हैं?

- Ans
- 1. आगरा घराना
 - 2. इंदौर घराना
 - 3. जयपुर घराना
 - 4. मेवाती घराना

Question Type : MCQ

Question ID : 630680488687

Option 1 ID : 6306801908764

Option 2 ID : 6306801908763

Option 3 ID : 6306801908766

Option 4 ID : 6306801908765

Status : Answered

Chosen Option : 3

Section : English Language and Comprehension

Q.1 The following sentence has been split into four segments. Identify the segment that contains grammatical error(s).

At the zoo, a curious child / fed an elephant some peanuts, / while enthusiastic group of the visitors / watched in amazement.

- Ans
- 1. watched in amazement.
 - 2. At the zoo, a curious child
 - 3. while enthusiastic group of the visitors
 - 4. fed an elephant some peanuts

Question Type : MCQ

Question ID : 630680748936

Option 1 ID : 6306802935279

Option 2 ID : 6306802935276

Option 3 ID : 6306802935278

Option 4 ID : 6306802935277

Status : Answered

Chosen Option : 3

Q.2 Select the INCORRECTLY spelt word.

Ans 1. Sculpter

2. Stampede

3. Almighty

4. Pursuit

Question Type : **MCQ**

Question ID : **630680564354**

Option 1 ID : **6306802206373**

Option 2 ID : **6306802206374**

Option 3 ID : **6306802206371**

Option 4 ID : **6306802206372**

Status : **Answered**

Chosen Option : **1**

Q.3 Select the INCORRECTLY spelt word.

Ans 1. Mischievious

2. Questionnaire

3. Peculiar

4. Occurred

Question Type : **MCQ**

Question ID : **630680463812**

Option 1 ID : **6306801811323**

Option 2 ID : **6306801811326**

Option 3 ID : **6306801811325**

Option 4 ID : **6306801811324**

Status : **Answered**

Chosen Option : **2**

Q.4 Select the most appropriate meaning of the given idiom.

Skeleton in the cupboard

Ans 1. An interesting and thoughtful fact

2. A popular and known fact

3. An embarrassing and hidden fact

4. A famous and hidden fact

Question Type : **MCQ**

Question ID : **630680422439**

Option 1 ID : **6306801648195**

Option 2 ID : **6306801648194**

Option 3 ID : **6306801648192**

Option 4 ID : **6306801648193**

Status : **Answered**

Chosen Option : **2**

Q.5 Select the most appropriate idiom that can substitute the underlined segment in the given sentence.

Mary appeared for the test. She was waiting anxiously for the test result.

- Ans
- 1. hitting the nail on the head
 - 2. a piece of cake
 - 3. jumping through hoops
 - 4. on pins and needles

Question Type : **MCQ**

Question ID : **630680540016**

Option 1 ID : **6306802111166**

Option 2 ID : **6306802111167**

Option 3 ID : **6306802111165**

Option 4 ID : **6306802111164**

Status : **Answered**

Chosen Option : **3**

Q.6 Select the most appropriate synonym of the given word.

Contaminate

- Ans
- 1. purify
 - 2. Clean
 - 3. Pollute
 - 4. Excel

Question Type : **MCQ**

Question ID : **630680422521**

Option 1 ID : **6306801648522**

Option 2 ID : **6306801648523**

Option 3 ID : **6306801648520**

Option 4 ID : **6306801648521**

Status : **Answered**

Chosen Option : **2**

Q.7 The following sentence has been split into four segments. Identify the segment that contains a grammatical error.

As he is not satisfied / with the jury's decision, / he appeal / in the higher court.

- Ans
- 1. as he is not satisfied
 - 2. in the higher court
 - 3. with the jury's decision
 - 4. he appeal

Question Type : **MCQ**

Question ID : **630680156558**

Option 1 ID : **630680605888**

Option 2 ID : **630680605891**

Option 3 ID : **630680605889**

Option 4 ID : **630680605890**

Status : **Answered**

Chosen Option : **2**

Q.8 The following sentence has been split into four segments. Identify the segment that contains an error.

I regret / in notify that / the model you want/ is out of stock.

- Ans 1. in notify that
 2. the model you want
 3. I regret
 4. is out of stock

Question Type : **MCQ**
Question ID : **630680252901**
Option 1 ID : **630680981586**
Option 2 ID : **630680981584**
Option 3 ID : **630680981583**
Option 4 ID : **630680981585**
Status : **Answered**
Chosen Option : **2**

Q.9 Select the option that correctly rectifies the underlined spelling error.

He received an honorary degree for his contributions.

- Ans 1. Honorary
 2. Honorary
 3. Honnaary
 4. Honnary

Question Type : **MCQ**
Question ID : **630680540061**
Option 1 ID : **6306802111345**
Option 2 ID : **6306802111344**
Option 3 ID : **6306802111347**
Option 4 ID : **6306802111346**
Status : **Answered**
Chosen Option : **2**

Q.10 Select the option that has an error in the usage of the present perfect tense.

- Ans 1. Ravi has complete his homework.
 2. Ravi has completed his project.
 3. Rashi has completed her homework.
 4. I have completed my task.

Question Type : **MCQ**
Question ID : **6306801106296**
Option 1 ID : **6306804345617**
Option 2 ID : **6306804345616**
Option 3 ID : **6306804345614**
Option 4 ID : **6306804345615**
Status : **Answered**
Chosen Option : **4**

Q.11 Select the most appropriate synonym of the underlined word.

The corporator gathered heaps of curses, and his misdeeds can never be forgiven by the people.

Ans 1. Transgressions

2. Confrontation

3. Consequences

4. Arguments

Question Type : MCQ

Question ID : 630680404060

Option 1 ID : 6306801575726

Option 2 ID : 6306801575729

Option 3 ID : 6306801575728

Option 4 ID : 6306801575727

Status : Answered

Chosen Option : 1

Q.12 Select the grammatically correct sentence from the given options.

Ans 1. He is famous for all his contributions for weekly magazines.

2. He is famous for all his contributions to weekly magazines.

3. He is more famous for all his contributions for weekly magazines.

4. He is more famous for all his contributions to weekly magazines.

Question Type : MCQ

Question ID : 630680514649

Option 1 ID : 6306802011224

Option 2 ID : 6306802011222

Option 3 ID : 6306802011223

Option 4 ID : 6306802011221

Status : Answered

Chosen Option : 2

Q.13 Select the most appropriate option to fill in the blank.

Sarah said that she hates it when people _____ at her.

Ans 1. stare

2. star

3. stair

4. steer

Question Type : MCQ

Question ID : 630680435087

Option 1 ID : 6306801698262

Option 2 ID : 6306801698264

Option 3 ID : 6306801698263

Option 4 ID : 6306801698265

Status : Answered

Chosen Option : 3

Q.14 Select the most appropriate meaning of the given idiom.

Through thick and thin

- Ans 1. To pass through thick and thin air
 2. To be supportive in both good and bad times
 3. To travel through thick and thin clouds
 4. To possess both thick and thin clothes

Question Type : MCQ

Question ID : 63068064323

Option 1 ID : 630680248279

Option 2 ID : 630680248278

Option 3 ID : 630680248281

Option 4 ID : 630680248280

Status : Answered

Chosen Option : 3

Q.15 Select the most appropriate ANTONYM of the underlined word

It is a betterment of his work.

- Ans 1. Worsening
 2. Popularity
 3. Improvement
 4. Growth

Question Type : MCQ

Question ID : 630680799087

Option 1 ID : 6306803131146

Option 2 ID : 6306803131149

Option 3 ID : 6306803131147

Option 4 ID : 6306803131148

Status : Answered

Chosen Option : 3

Q.16 Select the option that will improve the underlined part of the given sentence. In case no improvement is needed, select 'No improvement required'.

When Shina reached the bus stand, she realised that she has left her wallet at home.

- Ans 1. she leaves her wallet
 2. she had left her wallet
 3. she had been left her wallet
 4. No improvement required

Question Type : MCQ

Question ID : 630680477621

Option 1 ID : 6306801865638

Option 2 ID : 6306801865636

Option 3 ID : 6306801865637

Option 4 ID : 6306801865639

Status : Answered

Chosen Option : 3

Q.17 From the given options, identify the sentence which is in the positive degree.

- Ans
- 1. I have a greater idea in this regard.
 - 2. They are playing hockey with longer sticks.
 - 3. His brother is an intelligent boy.
 - 4. She is the most beautiful girl of the class.

Question Type : MCQ
Question ID : 630680798891
Option 1 ID : 6306803130372
Option 2 ID : 6306803130371
Option 3 ID : 6306803130370
Option 4 ID : 6306803130373
Status : Answered
Chosen Option : 4

Q.18 Select the most appropriate option to fill in the blank.

From contacting our loved ones to buying groceries for our daily needs, mobile phones fulfilled our every requirement during the COVID-19 pandemic. Not only during the pandemic, but mobile phones have also _____ our needs since the time of their invention.

- Ans
- 1. exasperated
 - 2. incensed
 - 3. served
 - 4. annoyed

Question Type : MCQ
Question ID : 630680515298
Option 1 ID : 6306802013647
Option 2 ID : 6306802013648
Option 3 ID : 6306802013646
Option 4 ID : 6306802013645
Status : Answered
Chosen Option : 1

Q.19 Select the most appropriate ANTONYM of the underlined word in the given sentence.

The ambiguous statement of the leader raised criticism among the public.

- Ans
- 1. Clear
 - 2. Puzzled
 - 3. Disorganised
 - 4. Confusing

Question Type : MCQ
Question ID : 630680553386
Option 1 ID : 6306802163439
Option 2 ID : 6306802163436
Option 3 ID : 6306802163438
Option 4 ID : 6306802163437
Status : Answered
Chosen Option : 2

Q.20 Select the option that can be used as a one-word substitute for the given phrase.

A medicine to counteract the effect of another medicine

Ans 1.
Antidote

2.
Antibiotic

3.
Anticoagulant

4.
Alimony

Question Type : **MCQ**

Question ID : **630680549749**

Option 1 ID : **6306802149377**

Option 2 ID : **6306802149376**

Option 3 ID : **6306802149378**

Option 4 ID : **6306802149379**

Status : **Answered**

Chosen Option : **2**

Comprehension:

In the following passage, some words have been deleted. Read the passage carefully and select the most appropriate option to fill in each blank.

It was Saturday evening last week. My parents and younger sister had (1)_____ to my uncle's house to (2)_____ the day. I had stayed back to prepare for a class test. At 5:00 p.m, someone (3)_____ the door bell. To my shock and dismay, one of my distant relatives, Mr. Sinha (4)_____ standing with his suitcase. I had to call him in most unwillingly. He was a big bore and nothing less than a chatterbox. I asked his preference (5)_____ coffee and tea.

SubQuestion No : 21

Q.21 Select the most appropriate option to fill in blank number 1.++)

Ans 1. go

2. went

3. going

4. gone

Question Type : **MCQ**

Question ID : **630680539067**

Option 1 ID : **6306802107440**

Option 2 ID : **6306802107441**

Option 3 ID : **6306802107443**

Option 4 ID : **6306802107442**

Status : **Answered**

Chosen Option : **3**

Comprehension:

In the following passage, some words have been deleted. Read the passage carefully and select the most appropriate option to fill in each blank.

It was Saturday evening last week. My parents and younger sister had (1)_____ to my uncle's house to (2)_____ the day. I had stayed back to prepare for a class test. At 5:00 p.m, someone (3)_____ the door bell. To my shock and dismay, one of my distant relatives, Mr. Sinha (4)_____ standing with his suitcase. I had to call him in most unwillingly. He was a big bore and nothing less than a chatterbox. I asked his preference (5)_____ coffee and tea.

SubQuestion No : 22

Q.22 Select the most appropriate option to fill in blank number 2.++)

- Ans
- 1. spended
 - 2. spented
 - 3. spent
 - 4. spend

Question Type : **MCQ**

Question ID : **630680539068**

Option 1 ID : **6306802107446**

Option 2 ID : **6306802107447**

Option 3 ID : **6306802107444**

Option 4 ID : **6306802107445**

Status : **Answered**

Chosen Option : **1**

Comprehension:

In the following passage, some words have been deleted. Read the passage carefully and select the most appropriate option to fill in each blank.

It was Saturday evening last week. My parents and younger sister had (1)_____ to my uncle's house to (2)_____ the day. I had stayed back to prepare for a class test. At 5:00 p.m, someone (3)_____ the door bell. To my shock and dismay, one of my distant relatives, Mr. Sinha (4)_____ standing with his suitcase. I had to call him in most unwillingly. He was a big bore and nothing less than a chatterbox. I asked his preference (5)_____ coffee and tea.

SubQuestion No : 23

Q.23 Select the most appropriate option to fill in blank number 3.++)

- Ans
- 1. rang
 - 2. ring
 - 3. rung
 - 4. rings

Question Type : **MCQ**

Question ID : **630680539069**

Option 1 ID : **6306802107450**

Option 2 ID : **6306802107449**

Option 3 ID : **6306802107451**

Option 4 ID : **6306802107448**

Status : **Answered**

Chosen Option : **2**

Comprehension:

In the following passage, some words have been deleted. Read the passage carefully and select the most appropriate option to fill in each blank.

It was Saturday evening last week. My parents and younger sister had (1) _____ to my uncle's house to (2) _____ the day. I had stayed back to prepare for a class test. At 5:00 p.m, someone (3) _____ the door bell. To my shock and dismay, one of my distant relatives, Mr. Sinha (4) _____ standing with his suitcase. I had to call him in most unwillingly. He was a big bore and nothing less than a chatterbox. I asked his preference (5) _____ coffee and tea.

SubQuestion No : 24

Q.24 Select the most appropriate option to fill in blank number 4.++)

- Ans 1. was
 2. is
 3. were
 4. been

Question Type : **MCQ**

Question ID : **630680539070**

Option 1 ID : **6306802107453**

Option 2 ID : **6306802107452**

Option 3 ID : **6306802107454**

Option 4 ID : **6306802107455**

Status : **Answered**

Chosen Option : **4**

Comprehension:

In the following passage, some words have been deleted. Read the passage carefully and select the most appropriate option to fill in each blank.

It was Saturday evening last week. My parents and younger sister had (1) _____ to my uncle's house to (2) _____ the day. I had stayed back to prepare for a class test. At 5:00 p.m, someone (3) _____ the door bell. To my shock and dismay, one of my distant relatives, Mr. Sinha (4) _____ standing with his suitcase. I had to call him in most unwillingly. He was a big bore and nothing less than a chatterbox. I asked his preference (5) _____ coffee and tea.

SubQuestion No : 25

Q.25 Select the most appropriate option to fill in blank number 5.++)

- Ans 1. among
 2. with
 3. between
 4. for

Question Type : **MCQ**

Question ID : **630680539071**

Option 1 ID : **6306802107457**

Option 2 ID : **6306802107459**

Option 3 ID : **6306802107458**

Option 4 ID : **6306802107456**

Status : **Answered**

Chosen Option : **2**