

## Multi Tasking Non Technical Staff and Havaladar CBIC and CBN Examination 2024

Roll Number	
Candidate Name	
Venue Name	iON Digital Zone iDZ Karhi Road Amoudha
Exam Date	05/11/2024
Exam Time	12:30 PM - 2:30 PM
Subject	MTS Non Tech Havaladar CBIC and CBN Examination 2024

### Section : Numerical and Mathematical Ability

Q.1 एक संख्या में 24% की वृद्धि की जाती है और फिर 25% की कमी की जाती है। निवल वृद्धि या कमी प्रतिशत क्या है?

- Ans
- 1. 8% की वृद्धि
  - 2. 7% की कमी
  - 3. 7% की वृद्धि
  - 4. 8% की कमी

Question Type : MCQ

Question ID : 630680464494

Option 1 ID : 6306801814013

Option 2 ID : 6306801814012

Option 3 ID : 6306801814011

Option 4 ID : 6306801814014

Status : Answered

Chosen Option : 2

Q.2 ₹20 में एक वस्तु को बेचकर, एक विक्रेता 20% का लाभ अर्जित करता है। उसे अपना विक्रय मूल्य (₹ में, दो दशमलव स्थान तक सन्निकटित) कितना बढ़ाना चाहिए, ताकि 30% का लाभ अर्जित कर सके?

- Ans
- 1. 3.67
  - 2. 4.67
  - 3. 1.67
  - 4. 2.67

Question Type : MCQ

Question ID : 630680632602

Option 1 ID : 6306802476308

Option 2 ID : 6306802476309

Option 3 ID : 6306802476306

Option 4 ID : 6306802476307

Status : Answered

Chosen Option : 3

Q.3 16, 20 और 24 लघुत्तम समापवर्त्य (LCM) क्या है?

Ans  1. 135

2. 240

3. 180

4. 260

Question Type : **MCQ**

Question ID : **630680108569**

Option 1 ID : **630680421232**

Option 2 ID : **630680421234**

Option 3 ID : **630680421233**

Option 4 ID : **630680421235**

Status : **Answered**

Chosen Option : 2

Q.4 यदि संख्याएँ  $X + 2$ ,  $X + 5$ ,  $2X - 3$  और  $3X - 5$  समानुपात में हैं, तो निम्नलिखित में से किस युग्म वाले मान  $X$  के लिए संभव है?

Ans  1. 3 और 2

2. 4 और 2

3. 5 और 3

4. 5 और 1

Question Type : **MCQ**

Question ID : **630680477493**

Option 1 ID : **6306801865131**

Option 2 ID : **6306801865129**

Option 3 ID : **6306801865130**

Option 4 ID : **6306801865132**

Status : **Answered**

Chosen Option : 4

Q.5 निम्नलिखित तालिका में वर्ष 1991 से 1995 तक एक कंपनी द्वारा निर्मित विभिन्न प्रकार की बैटरियों की बिक्री (लाख में) को दर्शाया गया है।

वर्ष	बैटरी का प्रकार			
	AA	2AA	3AA	5AA
1991	85	64	102	118
1992	68	78	92	213
1993	99	53	88	109
1994	120	89	70	125
1995	75	110	132	98

वर्ष 1991 से 1995 की अवधि के दौरान किस प्रकार की बैटरी की बिक्री सबसे अधिक थी?

- Ans
- 1. 3AA
  - 2. 2AA
  - 3. AA
  - 4. 5AA

Question Type : MCQ  
Question ID : 630680523735  
Option 1 ID : 6306802047092  
Option 2 ID : 6306802047091  
Option 3 ID : 6306802047094  
Option 4 ID : 6306802047093  
Status : Answered  
Chosen Option : 4

Q.6 5 वर्षों के लिए 8% वार्षिक की ब्याज दर पर उधार ली गई राशि ₹2500 पर साधारण ब्याज (₹ में) ज्ञात कीजिए।

- Ans
- 1. 960
  - 2. 1000
  - 3. 940
  - 4. 1040

Question Type : MCQ  
Question ID : 630680591916  
Option 1 ID : 6306802316134  
Option 2 ID : 6306802316131  
Option 3 ID : 6306802316133  
Option 4 ID : 6306802316132  
Status : Answered  
Chosen Option : 2

Q.7 एक नाव में बैठे 5 व्यक्तियों का औसत भार 28 kg है। यदि नाव और नाव में बैठे व्यक्तियों का औसत भार 56 kg है, तो नाव का भार ज्ञात कीजिए।

- Ans
- 1. 232 kg
  - 2. 122 kg
  - 3. 196 kg
  - 4. 242 kg

Question Type : MCQ

Question ID : 630680137059

Option 1 ID : 630680530836

Option 2 ID : 630680530835

Option 3 ID : 630680530834

Option 4 ID : 630680530837

Status : Answered

Chosen Option : 3

Q.8 किसी वर्ष के 3 महीनों के लिए सेल्वा की मासिक आय ₹19,500, ₹21,500 और ₹22,000 है। इन 3 महीनों के लिए सेल्वा की प्रति माह औसत आय कितनी है?

- Ans
- 1. ₹20,000
  - 2. ₹21,000
  - 3. ₹20,500
  - 4. ₹21,500

Question Type : MCQ

Question ID : 630680484317

Option 1 ID : 6306801891614

Option 2 ID : 6306801891616

Option 3 ID : 6306801891617

Option 4 ID : 6306801891615

Status : Answered

Chosen Option : 2

Q.9 दिए गए बार-ग्राफ का अध्ययन करें और निम्नलिखित प्रश्न का उत्तर दें।  
दिया गया बार-ग्राफ 5 वर्षों (2018 से 2022) के दौरान संस्थान A और B में नामांकित छात्रों की संख्या को दर्शाता है।



वर्ष 2019 और 2020 में संस्थान A में नामांकित छात्रों की कुल संख्या, संस्थान B में नामांकित छात्रों की कुल संख्या का कितना प्रतिशत है? (दशमलव के बाद एक स्थान तक पूर्णांकित करें।)

- Ans
- 1. 43.5%
  - 2. 41.2%
  - 3. 38.6%
  - 4. 40.1%

Question Type : MCQ

Question ID : 630680399109

Option 1 ID : 6306801556397

Option 2 ID : 6306801556395

Option 3 ID : 6306801556396

Option 4 ID : 6306801556394

Status : Not Attempted and Marked For Review

Chosen Option : --

Q.10 रमेश चंद्र ने ₹18 प्रत्येक की दर से 360 बल्ब खरीदे। हालाँकि, 20 बल्ब खराब थे और उन्हें फेंकना पड़ा। शेष बल्ब ₹20 प्रत्येक की दर से बेचे गए। लाभ या हानि प्रतिशत ज्ञात कीजिए।

- Ans
- 1.  $4\frac{76}{81}\%$  लाभ
  - 2.  $7\frac{46}{81}\%$  हानि
  - 3.  $4\frac{76}{81}\%$  हानि
  - 4.  $7\frac{46}{81}\%$  लाभ

Question Type : MCQ

Question ID : 630680449872

Option 1 ID : 6306801756660

Option 2 ID : 6306801756662

Option 3 ID : 6306801756659

Option 4 ID : 6306801756661

Status : Answered

Chosen Option : 1

Q.11 राम ने 31 दिसंबर 2021 को अपने दोस्त सोहम से ₹24,000 की धनराशि इस शर्त पर उधार ली कि वह इसे 18% वार्षिक साधारण ब्याज के साथ एक वर्ष के बाद वापस कर देगा। हालाँकि, राम 1 अगस्त 2022 को पैसे वापस करने में सक्षम है, तो राम को सोहम को कितनी धनराशि लौटानी होगी?

Ans  1. ₹26,520

2. ₹25,520

3. ₹25,250

4. ₹26,250

Question Type : MCQ

Question ID : 630680395547

Option 1 ID : 6306801542355

Option 2 ID : 6306801542353

Option 3 ID : 6306801542352

Option 4 ID : 6306801542354

Status : Answered

Chosen Option : 1

Q.12 एक जलाशय एक लंब वृत्ताकार शंकु के छिन्नक के आकार का है। यह शीर्ष पर 26 m चौड़ा और नीचे 2 m चौड़ा है। यह 5 m गहरा है। इसका वक्र पृष्ठीय क्षेत्रफल ज्ञात कीजिए। ( $\pi = \frac{22}{7}$  लीजिए)

Ans  1. 440 m<sup>2</sup>

2. 2157 m<sup>2</sup>

3. 572 m<sup>2</sup>

4. 607 m<sup>2</sup>

Question Type : MCQ

Question ID : 630680387744

Option 1 ID : 6306801511613

Option 2 ID : 6306801511610

Option 3 ID : 6306801511611

Option 4 ID : 6306801511612

Status : Answered

Chosen Option : 3

Q.13 5 वर्षों के लिए 9% वार्षिक की ब्याज दर पर उधार ली गई राशि ₹3000 पर साधारण ब्याज (₹ में) ज्ञात कीजिए।

Ans  1. 1290

2. 1310

3. 1350

4. 1390

Question Type : MCQ

Question ID : 630680591956

Option 1 ID : 6306802316293

Option 2 ID : 6306802316294

Option 3 ID : 6306802316291

Option 4 ID : 6306802316292

Status : Answered

Chosen Option : 3

Q.14 एक पुलिसकर्मी 220 m की दूरी से एक चोर को देखता है। पुलिस को देखते ही चोर भागना शुरू करता है और उसी समय पुलिसकर्मी उसका पीछा करता है। चोर और पुलिसकर्मी क्रमशः 9 km/h और 11 km/h की चाल से भागते हैं। चोर को पकड़ने के लिए पुलिसकर्मी को कितनी दूरी तय करनी पड़ेगी?

Ans  1. 1.21 km

2. 0.98 km

3. 0.86 km

4. 1.48 km

Question Type : MCQ

Question ID : 630680267441

Option 1 ID : 6306801039140

Option 2 ID : 6306801039141

Option 3 ID : 6306801039142

Option 4 ID : 6306801039139

Status : Answered

Chosen Option : 1

Q.15 राकेश एक वस्तु की कीमत ₹5,400 अंकित करता है और उस पर क्रमशः 15% और 5% की दो क्रमिक छूट देता है। वस्तु का विक्रय मूल्य ज्ञात करें।

Ans  1. ₹4,360.50

2. ₹4,500

3. ₹4,300

4. ₹4,400

Question Type : MCQ

Question ID : 630680131202

Option 1 ID : 630680508075

Option 2 ID : 630680508076

Option 3 ID : 630680508077

Option 4 ID : 630680508074

Status : Marked For Review

Chosen Option : 1

Q.16 30 तथा 50 के बीच की अभाज्य संख्याओं के औसत और 20 तथा 50 के बीच 3 के गुणजों के औसत के बीच का अंतर क्या है?

Ans  1. 5.3

2. 4.5

3. 3.2

4. 2.6

Question Type : MCQ

Question ID : 630680809918

Option 1 ID : 6306803173243

Option 2 ID : 6306803173244

Option 3 ID : 6306803173245

Option 4 ID : 6306803173246

Status : Not Attempted and Marked For Review

Chosen Option : --

Q.17 एक ठोस लोहे के खंभे में 3.5 m ऊँचाई और 0.8 m आधार व्यास वाला एक बेलन है। इसके ऊपर 0.75 m ऊँचाई और 0.2 m त्रिज्या वाला एक अन्य सह-अक्षीय बेलन लगा हुआ है। खंभे का कुल पृष्ठीय क्षेत्रफल ( $m^2$  में, निकटतम दहाई के स्थान तक पूर्णांकित) कितना है? ( $\pi = \frac{22}{7}$  लीजिए)

- Ans
- 1. 8
  - 2. 12
  - 3. 10
  - 4. 16

Question Type : MCQ

Question ID : 630680387074

Option 1 ID : 6306801509008

Option 2 ID : 6306801509009

Option 3 ID : 6306801509006

Option 4 ID : 6306801509007

Status : Not Attempted and Marked For Review

Chosen Option : --

Q.18 A और B एक वृत्ताकार रेस ट्रैक पर दौड़ना शुरू करते हैं जिसकी लंबाई 3240 m है। A और B एक ही बिंदु से और एक ही समय पर, लेकिन विपरीत दिशाओं में दौड़ना शुरू करते हैं। यदि A, 10 m/s की चाल से दौड़ता है और दौड़ शुरू करने के 3 मिनट बाद वे एक दूसरे को पार करते हैं, तो B की चाल (m/s में) कितनी है?

- Ans
- 1. 9
  - 2. 7.5
  - 3. 8.5
  - 4. 8

Question Type : MCQ

Question ID : 630680323391

Option 1 ID : 6306801258075

Option 2 ID : 6306801258072

Option 3 ID : 6306801258074

Option 4 ID : 6306801258073

Status : Answered

Chosen Option : 4

Q.19 8 और 68 के बीच 9 से विभाज्य सभी संख्याओं का औसत क्या है?

- Ans
- 1. 31.5
  - 2. 36
  - 3. 33
  - 4. 40.5

Question Type : MCQ

Question ID : 630680455607

Option 1 ID : 6306801779338

Option 2 ID : 6306801779339

Option 3 ID : 6306801779341

Option 4 ID : 6306801779340

Status : Answered

Chosen Option : 2

Q.20 एक ऐसे वृत्त का क्षेत्रफल ( $\text{cm}^2$  में) ज्ञात कीजिए जिसे 12 cm की भुजा वाले एक वर्ग में उत्कीर्णित (inscribed) किया जा सकता है।

Ans  1.  $36\pi$

2.  $24\pi$

3.  $72\pi$

4.  $144\pi$

Question Type : MCQ

Question ID : 630680102900

Option 1 ID : 630680399861

Option 2 ID : 630680399862

Option 3 ID : 630680399860

Option 4 ID : 630680399859

Status : Answered

Chosen Option : 1

Section : Reasoning Ability and Problem Solving

Q.1 नीचे दिए गए कथनों और निष्कर्षों को ध्यान से पढ़िए। कथनों में दी गई जानकारी को सत्य मानते हुए, चाहे वह सामान्य रूप से ज्ञात तथ्यों से भिन्न प्रतीत होती हो, निर्धारित कीजिए कि कौन-सा/से निष्कर्ष, कथन (कथनों) का तार्किक रूप से अनुसरण करता है/करते हैं।

कथन:

कुछ कैमरे, रेडियो हैं।

सभी रेडियो, राउटर हैं।

निष्कर्ष:

(I): कुछ कैमरे, राउटर हैं।

(II): कोई कैमरा, राउटर नहीं है।

Ans  1. न तो निष्कर्ष (I) और न ही (II) अनुसरण करता है।

2. निष्कर्ष (I) और (II) दोनों अनुसरण करते हैं।

3. केवल निष्कर्ष (II) अनुसरण करता है।

4. केवल निष्कर्ष (I) अनुसरण करता है।

Question Type : MCQ

Question ID : 630680825696

Option 1 ID : 6306803234226

Option 2 ID : 6306803234227

Option 3 ID : 6306803234225

Option 4 ID : 6306803234224

Status : Answered

Chosen Option : 4

Q.2 यदि '+' और '-' को आपस में बदल दिया जाए तथा 'x' और '÷' को आपस में बदल दिया जाए, तो निम्नलिखित समीकरण में प्रश्न चिह्न (?) के स्थान पर क्या आएगा?

$$310 \times 2 - 3 \div 40 + 170 = ?$$

Ans  1. 105

2. 151

3. 129

4. 142

Question Type : **MCQ**

Question ID : **630680401365**

Option 1 ID : **6306801565247**

Option 2 ID : **6306801565249**

Option 3 ID : **6306801565246**

Option 4 ID : **6306801565248**

Status : **Answered**

Chosen Option : 1

Q.3 निम्नलिखित संख्या-युग्मों में, पहली संख्या पर कुछ गणितीय संक्रियाएँ करके दूसरी संख्या प्राप्त की गई है। उस समुच्चय का चयन कीजिए जिसमें संख्याएँ उसी प्रकार संबंधित हैं जिस प्रकार निम्नलिखित समुच्चयों की संख्याएँ संबंधित हैं।

(ध्यान दें: संख्याओं को उनके घटक अंकों में अलग-अलग किए बिना पूर्ण संख्याओं पर संक्रियाएं की जानी चाहिए। उदाहरण के लिए संख्या 13 - संख्या 13 पर संक्रियाएं जैसे 13 को जोड़ना/घटाना/गुणा करना आदि किया जा सकता है। 13 को 1 और 3 में अलग-अलग करने की और फिर 1 और 3 पर गणितीय संक्रियाएं करने की अनुमति नहीं है।)

10, 49

14, 69

Ans  1. 17, 88

2. 18, 89

3. 18, 88

4. 17, 89

Question Type : **MCQ**

Question ID : **6306801027622**

Option 1 ID : **6306804033176**

Option 2 ID : **6306804033173**

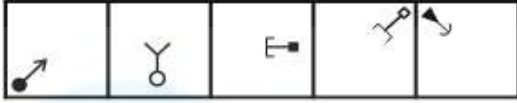
Option 3 ID : **6306804033174**

Option 4 ID : **6306804033175**

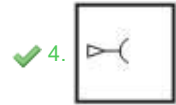
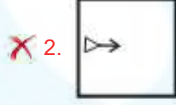

Status : **Answered**

Chosen Option : 2

Q.4 निम्नलिखित शृंखला में आगे आने वाली आकृति का चयन करें।



Ans



Question Type : MCQ

Question ID : 63068082803

Option 1 ID : 630680321079

Option 2 ID : 630680321076

Option 3 ID : 630680321077

Option 4 ID : 630680321078

Status : Not Attempted and Marked For Review

Chosen Option : --

Q.5 निम्नलिखित शृंखला में प्रश्न-चिह्न (?) के स्थान पर क्या आना चाहिए?

736, 689, 642, 595, 548, ?

Ans  1. 481

2. 499

3. 511

4. 501

Question Type : MCQ

Question ID : 630680799065

Option 1 ID : 6306803131065

Option 2 ID : 6306803131064

Option 3 ID : 6306803131062

Option 4 ID : 6306803131063

Status : Answered

Chosen Option : 4

Q.6 PS 41 एक निश्चित प्रकार से KN 47 से संबंधित है। ठीक उसी प्रकार, TW 30, OR 36 से संबंधित है। समान तर्क का अनुसरण करते हुए VY 27 निम्नलिखित में से किससे संबंधित है?

- Ans  1. HL 33  
 2. QT 33  
 3. LH 33  
 4. TQ 33

Question Type : MCQ

Question ID : 630680387034

Option 1 ID : 6306801508849

Option 2 ID : 6306801508846

Option 3 ID : 6306801508848

Option 4 ID : 6306801508847

Status : Not Attempted and Marked For Review

Chosen Option : --

Q.7 U, V, W, X, Y, Z और A एक वृत्ताकार मेज के चारों ओर केंद्र की ओर मुख करके बैठे हैं (परंतु जरूरी नहीं कि वे इसी क्रम में बैठे हों)। X के बाईं ओर से गिनती करने पर Y और X के बीच में केवल एक व्यक्ति बैठा है। A, U के दाईं ओर तीसरे स्थान पर बैठा है। V, W के बाईं ओर तीसरे स्थान पर बैठा है। A, V के ठीक दाईं ओर बैठा है। Z, V का निकटतम पड़ोसी नहीं है। Z के दाईं ओर से गिनती करने पर Z और X के बीच में कितने व्यक्ति बैठे हैं?

- Ans  1. एक  
 2. तीन  
 3. दो  
 4. चार

Question Type : MCQ

Question ID : 630680404833

Option 1 ID : 6306801578823

Option 2 ID : 6306801578825

Option 3 ID : 6306801578824

Option 4 ID : 6306801578826

Status : Answered

Chosen Option : 2

Q.8 एक निश्चित कूट भाषा में, 'POST' को '3854' के रूप में कूटबद्ध किया जाता है और 'TIPS' को '5648' के रूप में कूटबद्ध किया जाता है। इसी भाषा में 'O' के लिए कूट क्या होगा?

- Ans  1. 8  
 2. 6  
 3. 4  
 4. 3

Question Type : MCQ

Question ID : 630680465155

Option 1 ID : 6306801816657

Option 2 ID : 6306801816655

Option 3 ID : 6306801816658

Option 4 ID : 6306801816656

Status : Answered

Chosen Option : 4

Q.9 एक निश्चित कूट भाषा में, 'I Love biryani' को 'qs vx pg' के रूप में लिखा जाता है और 'biryani was good' को 'vx pm ed' के रूप में लिखा जाता है। दी गई कूट भाषा में 'biryani' को कैसे लिखा जाता है?

- Ans
- 1. ed
  - 2. pm
  - 3. vx
  - 4. qs

Question Type : MCQ

Question ID : 630680379082

Option 1 ID : 6306801477378

Option 2 ID : 6306801477377

Option 3 ID : 6306801477375

Option 4 ID : 6306801477376

Status : Answered

Chosen Option : 3

Q.10 एक निश्चित कूट भाषा में, 'do it correctly' को 'nq sd fo' के रूप में लिखा जाता है और 'Please do this' को 'rt fo in' के रूप में लिखा जाता है। दी गई कूट भाषा में 'do' को कैसे लिखा जाता है?

- Ans
- 1. nq
  - 2. sd
  - 3. rt
  - 4. fo

Question Type : MCQ

Question ID : 630680379081

Option 1 ID : 6306801477374

Option 2 ID : 6306801477373

Option 3 ID : 6306801477371

Option 4 ID : 6306801477372

Status : Answered

Chosen Option : 4

Q.11 अंग्रेजी वर्णानुक्रम के आधार पर दी गई श्रृंखला में प्रश्न चिह्न (?) के स्थान पर क्या आना चाहिए?

JBM, MEJ, PHG, SKD, ?

- Ans
- 1. VNC
  - 2. WNA
  - 3. VNA
  - 4. WNB

Question Type : MCQ

Question ID : 630680459269

Option 1 ID : 6306801793929

Option 2 ID : 6306801793931

Option 3 ID : 6306801793930

Option 4 ID : 6306801793932

Status : Answered

Chosen Option : 3

Q.12 एक निश्चित तर्क का अनुसरण करते हुए 22, 43 से संबंधित है। उसी तर्क का अनुसरण करते हुए 35, 69 से संबंधित है। उसी तर्क का अनुसरण करते हुए, 81 निम्नलिखित में से किससे संबंधित है?

(ध्यान दें: संख्याओं को उनके घटक अंकों में अलग-अलग किए बिना पूर्ण संख्याओं पर संक्रियाएं की जानी चाहिए। उदाहरण के लिए संख्या 13 - संख्या 13 पर संक्रियाएं जैसे 13 को जोड़ना/घटाना/गुणा करना आदि किया जा सकता है। 13 को 1 और 3 में अलग-अलग करने की और फिर 1 और 3 पर गणितीय संक्रियाएं करने की अनुमति नहीं है।)

Ans  1. 163

2. 161

3. 160

4. 162

Question Type : MCQ

Question ID : 630680441683

Option 1 ID : 6306801724349

Option 2 ID : 6306801724347

Option 3 ID : 6306801724346

Option 4 ID : 6306801724348

Status : Answered

Chosen Option : 2

Q.13 दिए गए कथनों और निष्कर्षों को ध्यानपूर्वक पढ़िए। यह मानते हुए कि कथनों में दी गई जानकारी सत्य है, भले ही वे सामान्यतः ज्ञात तथ्यों से भिन्न प्रतीत होते हों, तय कीजिए कि दिए गए निष्कर्षों में से कौन-सा/से निष्कर्ष कथनों का तार्किक रूप से अनुसरण करता है/करते हैं।

कथन:

कुछ कैमरे, फ़ोन हैं।

कोई फ़ोन, लैपटॉप नहीं है।

निष्कर्ष:

(I) कुछ फ़ोन, कैमरे हैं।

(II) कुछ लैपटॉप, फ़ोन हैं।

Ans  1. केवल निष्कर्ष I अनुसरण करता है

2. निष्कर्ष I और II अनुसरण करते हैं

3. न तो निष्कर्ष I और न ही II अनुसरण करता है

4. केवल निष्कर्ष II अनुसरण करता है

Question Type : MCQ

Question ID : 630680421799

Option 1 ID : 6306801645639

Option 2 ID : 6306801645641

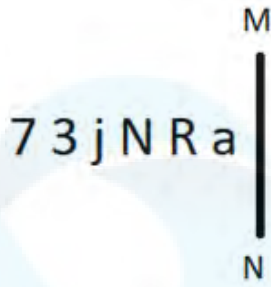
Option 3 ID : 6306801645642

Option 4 ID : 6306801645640

Status : Answered

Chosen Option : 1

Q.14 दी गई आकृति के उस सही दर्पण प्रतिबिंब को चुनिए, जो नीचे दर्शाए गए अनुसार दर्पण को MN पर रखने पर बनेगा।



Ans

1. 7 3 j N R a

2. 7 3 j N R a

3. 7 3 j N R a

4. 7 3 j N R a

Question Type : MCQ

Question ID : 630680525272

Option 1 ID : 6306802053175

Option 2 ID : 6306802053174

Option 3 ID : 6306802053173

Option 4 ID : 6306802053172

Status : Answered

Chosen Option : 4

Q.15 यदि '+' और '-' को आपस में बदल दिया जाए तथा 'x' और '÷' को आपस में बदल दिया जाए, तो निम्नलिखित समीकरण में '?' के स्थान पर क्या आएगा?  
 $25 + 20 \times 10 \div 2 - 5 = ?$

Ans

1. 39

2. 10

3. 19

4. 26

Question Type : MCQ

Question ID : 630680395194

Option 1 ID : 6306801541008

Option 2 ID : 6306801541011

Option 3 ID : 6306801541010

Option 4 ID : 6306801541009

Status : Answered

Chosen Option : 4

Q.16 सात व्यक्ति A, B, C, D, E, F और G एक वृत्ताकार मेज के चारों ओर केंद्र की ओर मुख करके बैठे हैं (परंतु जरूरी नहीं कि वे इसी क्रम में बैठे हों)। D, B के बाएं से दूसरे स्थान पर बैठा है। B के दाएं से गिनने पर B और A के बीच में ठीक दो व्यक्ति बैठे हैं। G, A के ठीक बाएं बैठा है। F, C का निकटतम पड़ोसी नहीं है। D के सापेक्ष में G का स्थान कौन-सा है?

- Ans
- 1. दाएं से दूसरा
  - 2. दाएं से तीसरा
  - 3. बाएं से तीसरा
  - 4. बाएं से दूसरा

Question Type : MCQ

Question ID : 630680387575

Option 1 ID : 6306801510984

Option 2 ID : 6306801510982

Option 3 ID : 6306801510983

Option 4 ID : 6306801510985

Status : Answered

Chosen Option : 3

Q.17 अंग्रेजी वर्णमाला क्रम के आधार पर EHJD एक निश्चित प्रकार से LOQK से संबंधित है। ठीक उसी प्रकार GJLF, NQSM से संबंधित है। उसी तर्क का पालन करते हुए, ILNH निम्नलिखित में से किससे संबंधित है?

- Ans
- 1. PSOU
  - 2. SPOU
  - 3. SPUO
  - 4. PSUO

Question Type : MCQ

Question ID : 630680846747

Option 1 ID : 6306803316717

Option 2 ID : 6306803316719

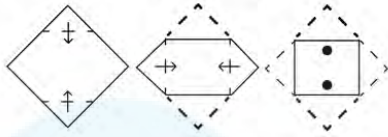
Option 3 ID : 6306803316718

Option 4 ID : 6306803316716

Status : Answered

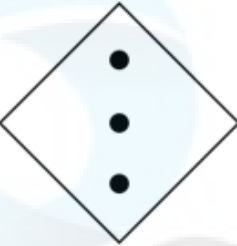
Chosen Option : 4

**Q.18** कागज़ की एक वर्गाकार शीट को दर्शाई गई दिशाओं में बिंदुदार रेखा के अनुदिश क्रमशः मोड़ा जाता है और अंतिम बार मोड़ने के बाद फिर इसमें छेद किया जाता है। खोले जाने पर यह कागज़ कैसा दिखाई देगा?




**Ans**


1.




2.



3.



4.



Question Type : **MCQ**

Question ID : **630680524417**

Option 1 ID : **6306802049768**

Option 2 ID : **6306802049770**

Option 3 ID : **6306802049767**

Option 4 ID : **6306802049769**

Status : **Answered**

Chosen Option : **3**

Q.19 एक कूट भाषा में, 'JASMINE' को '213' के रूप में कूटबद्ध किया जाता है और 'TULIP' को '234' के रूप में कूटबद्ध किया जाता है। उसी भाषा में 'CHAMELI' को किस प्रकार कूटबद्ध किया जाएगा?

Ans  1. 153

2. 148

3. 143

4. 157

Question Type : MCQ

Question ID : 630680465228

Option 1 ID : 6306801816949

Option 2 ID : 6306801816948


Option 3 ID : 6306801816947

Option 4 ID : 6306801816950

Status : Not Attempted and Marked For Review

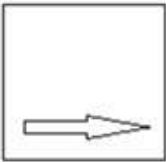
Chosen Option : --

Q.20 उस आकृति का चयन कीजिए जो निम्नलिखित श्रृंखला में आगे आएगी।

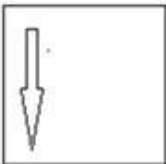


Ans


1.




2.



3.



4.



Question Type : MCQ

Question ID : 630680467983

Option 1 ID : 6306801827837

Option 2 ID : 6306801827836

Option 3 ID : 6306801827835

Option 4 ID : 6306801827834

Status : Answered

Chosen Option : 3

Section : General Awareness

Q.1 निम्नलिखित में से कौन बुद्ध के समकालीन थे, लेकिन उन्हें धर्म का प्रथम संस्थापक नहीं माना जाता है?

- Ans
- 1. भद्रबाहु
  - 2. अरिष्टनेमि
  - 3. महावीर स्वामी
  - 4. ऋषभनाथ

Question Type : MCQ

Question ID : 630680326283

Option 1 ID : 6306801269222

Option 2 ID : 6306801269223

Option 3 ID : 6306801269221

Option 4 ID : 6306801269224

Status : Answered

Chosen Option : 3

Q.2 कौन-सा दिन अंतर्राष्ट्रीय अहिंसा दिवस के रूप में मनाया जाता है?

- Ans
- 1. 2 अक्टूबर
  - 2. 31 अक्टूबर
  - 3. 15 अगस्त
  - 4. 31 जनवरी

Question Type : MCQ

Question ID : 630680449809

Option 1 ID : 6306801756404

Option 2 ID : 6306801756407

Option 3 ID : 6306801756406

Option 4 ID : 6306801756405

Status : Marked For Review

Chosen Option : 1

Q.3 अनुच्छेद 165 के तहत राज्यपाल राज्य के लिए \_\_\_\_\_ बनाने के लिए, एक उच्च न्यायालय के न्यायाधीश नियुक्त होने के योग्य व्यक्ति को नियुक्त करता है।

- Ans
- 1. एडवोकेट जनरल
  - 2. महान्यायवादी
  - 3. नियंत्रक महालेखा परीक्षक
  - 4. मुख्यमंत्री

Question Type : MCQ

Question ID : 630680114556

Option 1 ID : 630680443591

Option 2 ID : 630680443592

Option 3 ID : 630680443593

Option 4 ID : 630680443590

Status : Answered

Chosen Option : 1

Q.4 उत्तर-पश्चिम भारत में 'महावत (Mahawat)' शब्द किस ऋतु से सम्बंधित है?

- Ans
- 1. शीतकालीन वर्षा (Winter rainfall)
  - 2. ग्रीष्मकालीन वर्षा (Summer rainfall)
  - 3. मानसूनोत्तर ऋतु (Post Monsoons rainfall)
  - 4. वर्षा ऋतु (Rainy season)

Question Type : MCQ

Question ID : 630680476070

Option 1 ID : 6306801859555

Option 2 ID : 6306801859556

Option 3 ID : 6306801859558

Option 4 ID : 6306801859557

Status : Answered

Chosen Option : 1

Q.5 निम्नलिखित में से क्या एसएचजी (SHGs) के डीडब्ल्यूसीआरए (DWCRA) मॉडल का मुख्य उद्देश्य है?

- Ans
- 1. ग्रामीण परिवारों के लिए आवासीय सहायता प्रदान करना
  - 2. ग्रामीण बच्चों के लिए शिक्षा के अवसर प्रदान करना
  - 3. ग्रामीण महिलाओं के लिए स्वरोजगार के अवसर प्रदान करना
  - 4. ग्रामीण महिलाओं को स्वास्थ्य सेवाएँ प्रदान करना

Question Type : MCQ

Question ID : 630680448019

Option 1 ID : 6306801749323

Option 2 ID : 6306801749321

Option 3 ID : 6306801749322

Option 4 ID : 6306801749320

Status : Answered

Chosen Option : 3

Q.6 अंग्रेजी उपन्यास 'मॉर्निंग फेस (Morning Face)' \_\_\_\_\_ द्वारा लिखा गया है।

- Ans
- 1. आर के नारायण
  - 2. मुल्क राज आनंद
  - 3. विक्रम सेठ
  - 4. अनीता देसाई

Question Type : MCQ

Question ID : 630680512333

Option 1 ID : 6306802002305

Option 2 ID : 6306802002304

Option 3 ID : 6306802002303

Option 4 ID : 6306802002302

Status : Answered

Chosen Option : 4

Q.7 केलुचरण महापात्र निम्नलिखित में से किस नृत्य से जुड़े हैं?

- Ans  1. दुमहल  
 2. ओडिसी  
 3. बिहु  
 4. फुगड़ी

Question Type : MCQ

Question ID : 630680547164

Option 1 ID : 6306802139216

Option 2 ID : 6306802139218

Option 3 ID : 6306802139217

Option 4 ID : 6306802139215

Status : Answered

Chosen Option : 2

Q.8 ब्रह्म समाज, हिंदू धर्म के भीतर आस्तिक आंदोलन, राजा राम मोहन रॉय द्वारा वर्ष \_\_\_\_\_ में स्थापित किया गया था।

- Ans  1. 1839  
 2. 1879  
 3. 1856  
 4. 1828

Question Type : MCQ

Question ID : 630680118822

Option 1 ID : 630680460391

Option 2 ID : 630680460393

Option 3 ID : 630680460392

Option 4 ID : 630680460390

Status : Answered

Chosen Option : 4

Q.9 4 अगस्त 2023 को अनुसंधान राष्ट्रीय अनुसंधान फाउंडेशन विधेयक (Anusandhan National Research Foundation Bill), 2023 लोकसभा में पेश किया गया था, जो \_\_\_\_\_ को निरस्त करता है।

- Ans  1. विज्ञान और इंजीनियरिंग अनुसंधान बोर्ड अधिनियम, 2009  
 2. विज्ञान और इंजीनियरिंग अनुसंधान बोर्ड अधिनियम, 2008  
 3. विज्ञान और इंजीनियरिंग अनुसंधान बोर्ड अधिनियम, 2006  
 4. विज्ञान और इंजीनियरिंग अनुसंधान बोर्ड अधिनियम, 2007

Question Type : MCQ

Question ID : 630680466782

Option 1 ID : 6306801823111

Option 2 ID : 6306801823110

Option 3 ID : 6306801823108

Option 4 ID : 6306801823109

Status : Answered

Chosen Option : 1

Q.10 भारत में निम्नलिखित में से किस जनगणना दशक में उच्चतम अशोधित मृत्यु दर दर्ज की गई?

- Ans
- 1. 1931-1941
  - 2. 1991-2001
  - 3. 1911-1921
  - 4. 1941-1951

Question Type : MCQ

Question ID : 630680510916

Option 1 ID : 6306801996794

Option 2 ID : 6306801996797

Option 3 ID : 6306801996795

Option 4 ID : 6306801996796

Status : Marked For Review

Chosen Option : 3

Q.11 भौम जलस्तर (water table) के संबंध में सही वाक्य का चयन कीजिए।

- Ans
- 1. भौम जलस्तर अलग-अलग स्थान पर अलग-अलग होता है।
  - 2. भूजल परत के निचले स्तर को भौम जलस्तर कहा जाता है।
  - 3. भौम जलस्तर के नीचे जल नहीं पाया जा सकता है।
  - 4. किसी भी स्थान पर भौम जलस्तर को बदला नहीं जा सकता है।

Question Type : MCQ

Question ID : 630680404016

Option 1 ID : 6306801575551

Option 2 ID : 6306801575550

Option 3 ID : 6306801575553

Option 4 ID : 6306801575552

Status : Answered

Chosen Option : 1

Q.12 निम्नलिखित में से कौन-सा विकल्प भारत में निजी क्षेत्र का एक उद्योग नहीं है?

- Ans
- 1. डाबर इंडस्ट्रीज
  - 2. टाटा आयरन एंड स्टील कंपनी ( TISCO )
  - 3. भारत हेवी इलेक्ट्रिकल्स लिमिटेड (BHEL)
  - 4. बजाज ऑटो लिमिटेड

Question Type : MCQ

Question ID : 630680798988

Option 1 ID : 6306803130752

Option 2 ID : 6306803130750

Option 3 ID : 6306803130753

Option 4 ID : 6306803130751

Status : Answered

Chosen Option : 3

Q.13 बाहरी आक्रमण के आधार पर आपातकाल घोषित होने पर निम्नलिखित में से कौन-सा अनुच्छेद स्वतः निलंबित हो जाता है?

Ans  1. अनुच्छेद 19

2. अनुच्छेद 35

3. अनुच्छेद 32

4. अनुच्छेद 22

Question Type : MCQ

Question ID : 630680270113

Option 1 ID : 6306801049703

Option 2 ID : 6306801049706

Option 3 ID : 6306801049705

Option 4 ID : 6306801049704

Status : Answered

Chosen Option : 1

Q.14 एल्डोस पॉल (Eldhose Paul) ने राष्ट्रमंडल खेल 2022 में किस एथलेटिक्स स्पर्धा में स्वर्ण पदक जीता?

Ans  1. भाला फेंक (Javelin Throw)

2. गोला फेंक (Shot Put)

3. ट्रिपल जम्प (Triple Jump)

4. लॉन्ग जम्प (Long Jump)

Question Type : MCQ

Question ID : 630680571129

Option 1 ID : 6306802233571

Option 2 ID : 6306802233570

Option 3 ID : 6306802233568

Option 4 ID : 6306802233569

Status : Answered

Chosen Option : 4

Q.15 प्रसिद्ध \_\_\_\_\_ वादक पद्मश्री पंडित राजीव थरानाथ कर्नाटक राज्य से हैं।

Ans  1. सरोद

2. सितार

3. वायलिन

4. बांसुरी

Question Type : MCQ

Question ID : 630680672030

Option 1 ID : 6306802631832

Option 2 ID : 6306802631833

Option 3 ID : 6306802631831

Option 4 ID : 6306802631834

Status : Answered

Chosen Option : 1

Q.16 रीता मुस्तफी (Rita Mustaphi) को निम्नलिखित में से किस भारतीय नृत्य शैली में उनके उत्कृष्ट नवाचार के लिए 2023 की मैकनाइट फेलोशिप (Mcknight Fellowship) से सम्मानित किया गया है?

- Ans
- 1. कथकली
  - 2. यक्षगान
  - 3. मणिपुरी
  - 4. कथक

Question Type : MCQ

Question ID : 630680433308

Option 1 ID : 6306801691202

Option 2 ID : 6306801691199

Option 3 ID : 6306801691201

Option 4 ID : 6306801691200

Status : Answered

Chosen Option : 2

Q.17 मई 2023 में निम्नलिखित में से किसे, केंद्रीय अन्वेषण ब्यूरो (Central Bureau of Investigation - CBI) के निदेशक के रूप में नियुक्त किया गया?

- Ans
- 1. प्रवीण सूद
  - 2. शांतनु रॉय
  - 3. राकेश अस्थाना
  - 4. देबदत्त चंद

Question Type : MCQ

Question ID : 630680465508

Option 1 ID : 6306801818069

Option 2 ID : 6306801818068

Option 3 ID : 6306801818067

Option 4 ID : 6306801818070

Status : Answered

Chosen Option : 1

Q.18 भारत में आवधिक श्रम बल सर्वेक्षण (Periodic Labour Force Survey - PLFS) की शुरुआत से पहले, राष्ट्रीय सांख्यिकी कार्यालय (National Statistical Office - NSO) ने रोजगार और बेरोजगारी संकेतकों के लिए किस प्रकार के सर्वेक्षण आयोजित किए थे?

- Ans
- 1. पंचवार्षिक सर्वेक्षण
  - 2. द्विवार्षिक सर्वेक्षण
  - 3. दशकीय सर्वेक्षण
  - 4. मासिक सर्वेक्षण

Question Type : MCQ

Question ID : 630680488315

Option 1 ID : 6306801907313

Option 2 ID : 6306801907314

Option 3 ID : 6306801907311

Option 4 ID : 6306801907312

Status : Answered

Chosen Option : 3

Q.19 भोजन के संरक्षण में नमक किस प्रकार योगदान देता है?

- Ans
- 1. मैलार्ड अभिक्रिया को बढ़ावा देकर।
  - 2. एंटीऑक्सीडेंट के रूप में कार्य करके।
  - 3. भोजन के pH को कम करके।
  - 4. परासरण के माध्यम से सूक्ष्मजीवों की वृद्धि को रोककर।

Question Type : MCQ

Question ID : 630680619045

Option 1 ID : 6306802422458

Option 2 ID : 6306802422459

Option 3 ID : 6306802422456

Option 4 ID : 6306802422457

Status : Answered

Chosen Option : 1

Q.20 शॉटगन (शूटिंग के खेल में), एक \_\_\_\_\_ गेज (gauge) है जिसका कैलिबर 18.5 मिलीमीटर (mm) है (गेज आग्नेयास्त्रों के लिए माप की एक इकाई है)।

- Ans
- 1. 10
  - 2. 18
  - 3. 12
  - 4. 15

Question Type : MCQ

Question ID : 630680459611

Option 1 ID : 6306801795289

Option 2 ID : 6306801795292

Option 3 ID : 6306801795290

Option 4 ID : 6306801795291

Status : Answered

Chosen Option : 1

Q.21 अपनी आत्मकथा में बाबर ने औपचारिक उद्यानों की योजना बनाने और उसे बनाने में अपनी रुचि का वर्णन किया है, जो आयताकार दीवार वाले बाड़ों के भीतर स्थित है और कृत्रिम चैनलों द्वारा चार चौथाइयों में विभाजित है। इन उद्यानों को \_\_\_\_\_ के नाम से जाना जाता है।

- Ans
- 1. सात बाग (Saat Bagh)
  - 2. पंच बाग (Panch Bagh)
  - 3. चाहर बाग (Chahar Bagh)
  - 4. तीन बाग (Teen Bagh)

Question Type : MCQ

Question ID : 630680162574

Option 1 ID : 630680629595

Option 2 ID : 630680629593

Option 3 ID : 630680629592

Option 4 ID : 630680629594

Status : Answered

Chosen Option : 3

Q.22 अकबर-नामा के किस खंड को आईन-ए-अकबरी के नाम से जाना जाता है, जो अकबर के प्रशासन, कुनबे, सेना एवं उसके साम्राज्य के राजस्व और भूगोल से संबंधित है?

- Ans
- 1. दूसरे
  - 2. तीसरे
  - 3. पाँचवें
  - 4. चौथे

Question Type : MCQ

Question ID : 630680282931

Option 1 ID : 6306801099855

Option 2 ID : 6306801099856

Option 3 ID : 6306801099858

Option 4 ID : 6306801099857

Status : Answered

Chosen Option : 2

Q.23 1 bar दाब पर, हाइड्रोजन गैस की एक निश्चित मात्रा का आयतन 2.27 लीटर है। यदि दाब 0.2 bar पर रखा जाए, तो आयतन क्या होगा?

- Ans
- 1. 10270 cm<sup>3</sup>
  - 2. 11.35 cm<sup>3</sup>
  - 3. 11350 cm<sup>3</sup>
  - 4. 12250 cm<sup>3</sup>

Question Type : MCQ

Question ID : 630680471356

Option 1 ID : 6306801841164

Option 2 ID : 6306801841163

Option 3 ID : 6306801841162

Option 4 ID : 6306801841165

Status : Answered

Chosen Option : 3

Q.24 यदि किसी जीव के शरीर को केवल एक ही अक्ष (one plane) के माध्यम से दो अविभेद्य, आधे बाएँ और आधे दाएँ भाग में विभाजित किया जा सकता है, तो इसमें \_\_\_\_\_ होती/होता है।

- Ans
- 1. असममिति (asymmetry)
  - 2. अरीय सममिति (radial symmetry)
  - 3. द्विपार्श्व सममिति (bilateral symmetry)
  - 4. सममितता केन्द्र (centre of symmetry)

Question Type : MCQ

Question ID : 630680269989

Option 1 ID : 6306801049207

Option 2 ID : 6306801049209

Option 3 ID : 6306801049208

Option 4 ID : 6306801049210

Status : Answered

Chosen Option : 3

Q.25 \_\_\_\_\_ के अंतर्गत स्वराज पार्टी का गठन औपनिवेशिक सरकार के शासन में बाधा डालने के उद्देश्य से विधान परिषदों (legislative councils) में प्रवेश करने के लिए चुनाव लड़ने के विचार से किया गया था।

- Ans
- 1. द यूनिवर्निस्ट पार्टी
  - 2. अखिल भारतीय मुस्लिम लीग
  - 3. भारतीय राष्ट्रीय कांग्रेस
  - 4. इंडिपेंडेंट लेबर पार्टी

Question Type : MCQ

Question ID : 630680326309

Option 1 ID : 6306801269328

Option 2 ID : 6306801269325

Option 3 ID : 6306801269327

Option 4 ID : 6306801269326

Status : Answered

Chosen Option : 3

Section : English Language and Comprehension

Q.1 Select the most appropriate option to fill in the blank.  
We all \_\_\_\_\_ at the sky as it was full of stars that night.

- Ans
- 1. Saw
  - 2. Gazed
  - 3. Hooked
  - 4. Packed

Question Type : MCQ

Question ID : 630680515313

Option 1 ID : 6306802013703

Option 2 ID : 6306802013702

Option 3 ID : 6306802013704

Option 4 ID : 6306802013701

Status : Answered

Chosen Option : 1

Q.2 Select the most appropriate meaning of the underlined phrase.

Can you please stop continuously complaining about the student's shortcomings?

- Ans
- 1. Grunting
  - 2. Jesting
  - 3. Crying
  - 4. Whining

Question Type : MCQ

Question ID : 630680540232

Option 1 ID : 6306802112032

Option 2 ID : 6306802112035

Option 3 ID : 6306802112033

Option 4 ID : 6306802112034

Status : Not Attempted and Marked For Review

Chosen Option : --

**Q.3 Select the most appropriate meaning of the given idiom.**

**Hanging by a thread.**

- Ans**  1. To avoid danger or trouble  
 2. To be perilously close to failing, dying, or resulting in a bad outcome  
 3. To do something very risky  
 4. Crude and lacking sophistication

Question Type : **MCQ**  
Question ID : **630680517595**  
Option 1 ID : **6306802022778**  
Option 2 ID : **6306802022779**  
Option 3 ID : **6306802022777**  
Option 4 ID : **6306802022776**  
Status : **Answered**  
Chosen Option : **3**

**Q.4 Select the INCORRECTLY spelt word.**

- Ans**  1. Happiness  
 2. Veneration  
 3. Forgotten  
 4. Indoulgent

Question Type : **MCQ**  
Question ID : **630680550039**  
Option 1 ID : **6306802150418**  
Option 2 ID : **6306802150419**  
Option 3 ID : **6306802150417**  
Option 4 ID : **6306802150420**  
Status : **Answered**  
Chosen Option : **4**

**Q.5 Select the most appropriate option that can substitute the underlined words in the given sentence.**

**After the heavy rains last Thursday, the water in the river raised another three feet.**

- Ans**  1. rose another three feet  
 2. raise another three feet  
 3. risen another three feet  
 4. will raise another three feet

Question Type : **MCQ**  
Question ID : **630680551427**  
Option 1 ID : **6306802155934**  
Option 2 ID : **6306802155936**  
Option 3 ID : **6306802155933**  
Option 4 ID : **6306802155935**  
Status : **Answered**  
Chosen Option : **1**

**Q.6** Select the most appropriate synonym of the underlined word.  
The news of her promotion left her feeling buoyant, with a sense of accomplishment and pride in her work.

Ans  1. Cheerful

2. Shy

3. Peculiar

4. Dour

Question Type : **MCQ**

Question ID : **630680435572**

Option 1 ID : **6306801700227**

Option 2 ID : **6306801700225**

Option 3 ID : **6306801700228**

Option 4 ID : **6306801700226**

Status : **Answered**

Chosen Option : 1

**Q.7** Select the most appropriate synonym of the underlined word.  
The politician's speech was an attempt to mitigate the concerns of the citizens.

Ans  1. Understand

2. Aggravate

3. Establish

4. Lessen

Question Type : **MCQ**

Question ID : **630680726513**

Option 1 ID : **6306802847059**

Option 2 ID : **6306802847058**

Option 3 ID : **6306802847060**

Option 4 ID : **6306802847061**

Status : **Answered**

Chosen Option : 4

**Q.8** select the most appropriate synonym of the word given in brackets.

Despite facing numerous challenges, her [tenacious] determination never faded one bit.

Ans  1. stubborn

2. confused

3. gentle

4. weak

Question Type : **MCQ**

Question ID : **630680392949**

Option 1 ID : **6306801532135**

Option 2 ID : **6306801532137**

Option 3 ID : **6306801532136**

Option 4 ID : **6306801532134**

Status : **Answered**

Chosen Option : 1

**Q.9** Select the most appropriate option to fill in the blank.  
I need to \_\_\_\_\_ my shoelaces before going out.

- Ans  1. tie  
 2. thai  
 3. tye  
 4. thigh

Question Type : **MCQ**  
Question ID : **630680517419**  
Option 1 ID : **6306802022073**  
Option 2 ID : **6306802022074**  
Option 3 ID : **6306802022072**  
Option 4 ID : **6306802022075**  
Status : **Answered**  
Chosen Option : 1

**Q.10** Select the most appropriate option that can substitute the underlined segment in the given sentence.

John's coffee is hot than Jack's.

- Ans  1. hotter  
 2. hottest  
 3. most hot  
 4. more hotter

Question Type : **MCQ**  
Question ID : **630680514610**  
Option 1 ID : **6306802011066**  
Option 2 ID : **6306802011065**  
Option 3 ID : **6306802011067**  
Option 4 ID : **6306802011068**  
Status : **Answered**  
Chosen Option : 1

**Q.11** The following sentence has been divided into parts. One of them may contain an error. Select the part that contains the error from the given options. If you don't find any error, mark 'No error' as your answer.  
Yesterday, / my surgeon / operate on my knee.

- Ans  1. operate on my knee  
 2. my surgeon  
 3. No error  
 4. Yesterday

Question Type : **MCQ**  
Question ID : **630680421192**  
Option 1 ID : **6306801643245**  
Option 2 ID : **6306801643244**  
Option 3 ID : **6306801643246**  
Option 4 ID : **6306801643243**  
Status : **Answered**  
Chosen Option : 1

Q.12 Select the option that does NOT contain an adverb.

- Ans  1. She ran swiftly to catch the thief.  
 2. Maya was quite absent-minded during class today.  
 3. Rohit loves chocolate.  
 4. He never forgets his homework.

Question Type : MCQ  
Question ID : 630680726472  
Option 1 ID : 6306802846894  
Option 2 ID : 6306802846896  
Option 3 ID : 6306802846897  
Option 4 ID : 6306802846895  
Status : Answered  
Chosen Option : 3

Q.13 Select the most appropriate option to fill in the blanks.

An adventurer packed \_\_\_\_\_ backpack and \_\_\_\_\_ assortment of survival gear for the challenging trek through the wilderness.

- Ans  1. an; a  
 2. a; a  
 3. an; an  
 4. a; an

Question Type : MCQ  
Question ID : 630680748948  
Option 1 ID : 6306802935327  
Option 2 ID : 6306802935325  
Option 3 ID : 6306802935326  
Option 4 ID : 6306802935324  
Status : Answered  
Chosen Option : 4

Q.14 Select the most appropriate ANTONYM to substitute the underlined word in the given sentence.

How would you describe your ideal vacation destination?

- Ans  1. faulty  
 2. reproving  
 3. gloomy  
 4. instant

Question Type : MCQ  
Question ID : 630680528724  
Option 1 ID : 6306802066906  
Option 2 ID : 6306802066907  
Option 3 ID : 6306802066904  
Option 4 ID : 6306802066905  
Status : Answered  
Chosen Option : 1

**Q.15** In the following sentence the underlined part contains an error. Alternatives to the underlined part are given as options. Select the correct alternative.  
He looked extremely smart and handsomest in the black suit.

- Ans
- 1. handsomely
  - 2. handsome
  - 3. handsomer
  - 4. most handsome

Question Type : **MCQ**  
Question ID : **630680514725**  
Option 1 ID : **6306802011528**  
Option 2 ID : **6306802011526**  
Option 3 ID : **6306802011527**  
Option 4 ID : **6306802011525**  
Status : **Answered**  
Chosen Option : 4

**Q.16** Identify the word that can replace the INCORRECTLY spelt word in the given sentence.  
The bakery is known for its scrumptious pastries, especially the cinnamon rolls.

- Ans
- 1. scrumptiouss
  - 2. scrumptious
  - 3. scrumptuos
  - 4. scrumptiouss

Question Type : **MCQ**  
Question ID : **630680474898**  
Option 1 ID : **6306801855209**  
Option 2 ID : **6306801855207**  
Option 3 ID : **6306801855206**  
Option 4 ID : **6306801855208**  
Status : **Answered**  
Chosen Option : 2

**Q.17** Select the option that has an error in the use of present tense.

- Ans
- 1. I am observing your mischievous activities for half an hour.
  - 2. I have performed all my duties with utmost sincerity.
  - 3. The mother cooks delicious food for her children.
  - 4. The painter is painting the wall right now.

Question Type : **MCQ**  
Question ID : **630680542592**  
Option 1 ID : **6306802121298**  
Option 2 ID : **6306802121300**  
Option 3 ID : **6306802121299**  
Option 4 ID : **6306802121297**  
Status : **Answered**  
Chosen Option : 1

**Q.18** Select the most appropriate meaning of the given idiom.  
To throw caution to the wind

- Ans
- 1. To roam here and there aimlessly
  - 2. To give answer with utmost attention
  - 3. To do something without worrying about risk
  - 4. To do something with care and attention

Question Type : **MCQ**

Question ID : **630680517536**

Option 1 ID : **6306802022542**

Option 2 ID : **6306802022543**

Option 3 ID : **6306802022541**

Option 4 ID : **6306802022540**

Status : **Answered**

Chosen Option : **3**

**Q.19** Select the word segment that substitutes the bracketed word segment correctly and completes the sentence meaningfully.

The movie was (mostly over) when we entered the hall.

- Ans
- 1. more done
  - 2. most over
  - 3. almost over
  - 4. most done

Question Type : **MCQ**

Question ID : **630680446727**

Option 1 ID : **6306801744205**

Option 2 ID : **6306801744204**

Option 3 ID : **6306801744202**

Option 4 ID : **6306801744203**

Status : **Answered**

Chosen Option : **3**

**Q.20** Identify the **INCORRECTLY** spelt word from the given sentence.  
Comprehensiveness constitutes wisdom and many examples from history illustrate this fact.

- Ans
- 1. Illustrate
  - 2. Comprehensiveness
  - 3. Constitues
  - 4. Wisdom

Question Type : **MCQ**

Question ID : **630680540376**

Option 1 ID : **6306802112597**

Option 2 ID : **6306802112595**

Option 3 ID : **6306802112596**

Option 4 ID : **6306802112598**

Status : **Answered**

Chosen Option : **3**

**Comprehension:**

In the following passage, some words have been deleted. Read the passage carefully and select the most appropriate option to fill in each blank.

In the realm of literature, metaphors and similes are like (1) \_\_\_\_\_ tools for writers. They serve to (2) \_\_\_\_\_ the reader's understanding and make the text more (3) \_\_\_\_\_. However, it's crucial for writers to (4) \_\_\_\_\_ use them, as excessive figurative language can (5) \_\_\_\_\_ the clarity of the writing.

**SubQuestion No : 21**

**Q.21** Select the most appropriate option to fill in blank number 1.

Ans  1. indispensable

2. concision

3. inoperative

4. believable

Question Type : **MCQ**

Question ID : **630680435755**

Option 1 ID : **6306801700934**

Option 2 ID : **6306801700933**

Option 3 ID : **6306801700935**

Option 4 ID : **6306801700936**

Status : **Answered**

Chosen Option : **1**

**Comprehension:**

In the following passage, some words have been deleted. Read the passage carefully and select the most appropriate option to fill in each blank.

In the realm of literature, metaphors and similes are like (1) \_\_\_\_\_ tools for writers. They serve to (2) \_\_\_\_\_ the reader's understanding and make the text more (3) \_\_\_\_\_. However, it's crucial for writers to (4) \_\_\_\_\_ use them, as excessive figurative language can (5) \_\_\_\_\_ the clarity of the writing.

**SubQuestion No : 22**

**Q.22** Select the most appropriate option to fill in blank number 2.

Ans  1. abdicate

2. illuminate

3. cavitate

4. flaw

Question Type : **MCQ**

Question ID : **630680435756**

Option 1 ID : **6306801700939**

Option 2 ID : **6306801700938**

Option 3 ID : **6306801700940**

Option 4 ID : **6306801700937**

Status : **Answered**

Chosen Option : **2**

**Comprehension:**

In the following passage, some words have been deleted. Read the passage carefully and select the most appropriate option to fill in each blank.

In the realm of literature, metaphors and similes are like (1) \_\_\_\_\_ tools for writers. They serve to (2) \_\_\_\_\_ the reader's understanding and make the text more (3) \_\_\_\_\_. However, it's crucial for writers to (4) \_\_\_\_\_ use them, as excessive figurative language can (5) \_\_\_\_\_ the clarity of the writing.

**SubQuestion No : 23**

**Q.23 Select the most appropriate option to fill in blank number 3.**

- Ans
- 1. meaning
  - 2. ambiguity
  - 3. vivid
  - 4. substantiality

Question Type : **MCQ**

Question ID : **630680435757**

Option 1 ID : **6306801700941**

Option 2 ID : **6306801700944**

Option 3 ID : **6306801700943**

Option 4 ID : **6306801700942**

Status : **Answered**

Chosen Option : **3**

**Comprehension:**

In the following passage, some words have been deleted. Read the passage carefully and select the most appropriate option to fill in each blank.

In the realm of literature, metaphors and similes are like (1) \_\_\_\_\_ tools for writers. They serve to (2) \_\_\_\_\_ the reader's understanding and make the text more (3) \_\_\_\_\_. However, it's crucial for writers to (4) \_\_\_\_\_ use them, as excessive figurative language can (5) \_\_\_\_\_ the clarity of the writing.

**SubQuestion No : 24**

**Q.24 Select the most appropriate option to fill in blank number 4.**

- Ans
- 1. pathetically
  - 2. spatially
  - 3. judiciously
  - 4. indiscriminately

Question Type : **MCQ**

Question ID : **630680435758**

Option 1 ID : **6306801700947**

Option 2 ID : **6306801700948**

Option 3 ID : **6306801700945**

Option 4 ID : **6306801700946**

Status : **Answered**

Chosen Option : **3**

**Comprehension:**

In the following passage, some words have been deleted. Read the passage carefully and select the most appropriate option to fill in each blank.

In the realm of literature, metaphors and similes are like (1) \_\_\_\_\_ tools for writers. They serve to (2) \_\_\_\_\_ the reader's understanding and make the text more (3) \_\_\_\_\_. However, it's crucial for writers to (4) \_\_\_\_\_ use them, as excessive figurative language can (5) \_\_\_\_\_ the clarity of the writing.

**SubQuestion No : 25**

**Q.25 Select the most appropriate option to fill in blank number 5.**

**Ans** ✓ 1. detract from

✗ 2. enhance

✗ 3. clarify

✗ 4. simplify

Question Type : **MCQ**

Question ID : **630680435759**

Option 1 ID : **6306801700950**

Option 2 ID : **6306801700949**

Option 3 ID : **6306801700952**

Option 4 ID : **6306801700951**

Status : **Answered**

Chosen Option : **2**