

Multi Tasking Non Technical Staff and Havalдар CBIC and CBN Examination 2024

Roll Number	
Candidate Name	
Venue Name	Skymoon IT Point Private Limited
Exam Date	05/11/2024
Exam Time	4:00 PM - 5:30 PM
Subject	MTS Non Tech Havalдар CBIC and CBN Examination 2024

Section : Numerical and Mathematical Ability

Q.1 यदि $\sqrt{5} : \sqrt{42} :: \sqrt{7} : X$ है, तो X का मान ज्ञात कीजिए।

- Ans
- 1. $\frac{6}{5}\sqrt{30}$
 - 2. $\frac{7}{5}\sqrt{30}$
 - 3. $\frac{7}{5}\sqrt{42}$
 - 4. $\frac{6}{5}\sqrt{42}$

Question Type : MCQ

Question ID : 630680454433

Option 1 ID : 6306801774648

Option 2 ID : 6306801774645

Option 3 ID : 6306801774646

Option 4 ID : 6306801774647

Status : Answered

Chosen Option : 2

Q.2 एक पुस्तकालय में सोमवार को औसतन 768 आगंतुक आते हैं, और अन्य दिनों में 258 आगंतुक आते हैं। मंगलवार से शुरू होने वाले 30 दिन के महीने में प्रति दिन आगंतुकों की औसत संख्या ज्ञात करें।

- Ans
- 1. 326
 - 2. 362
 - 3. 263
 - 4. 236

Question Type : MCQ

Question ID : 630680457408

Option 1 ID : 6306801786544

Option 2 ID : 6306801786545

Option 3 ID : 6306801786546

Option 4 ID : 6306801786547

Status : Not Answered

Chosen Option : --

Q.3

एक व्यापारी ने एक लैपटॉप को ₹88,000 में बेचकर कुछ लाभ अर्जित किया, जो उसी लैपटॉप को ₹72,000 में बेचने पर हुई हानि के बराबर है। यदि वह लैपटॉप को ₹96,000 में बेचता, तो उसका लाभ प्रतिशत कितना होता?

- Ans
- 1. 37.5%
 - 2. 25%
 - 3. 31.7%
 - 4. 20%

Question Type : MCQ

Question ID : 630680472191

Option 1 ID : 6306801844484

Option 2 ID : 6306801844483

Option 3 ID : 6306801844486

Option 4 ID : 6306801844485

Status : Answered

Chosen Option : 3

Q.4 कोई दुकानदार, 21% हानि के साथ ₹450.30 में एक वस्तु बेचता है। वस्तु का क्रय मूल्य (₹ में) कितना है?

- Ans
- 1. 485
 - 2. 429
 - 3. 521
 - 4. 570

Question Type : MCQ

Question ID : 630680472208

Option 1 ID : 6306801844554

Option 2 ID : 6306801844551

Option 3 ID : 6306801844552

Option 4 ID : 6306801844553

Status : Answered

Chosen Option : 4

Q.5 5 वर्षों के लिए 4% वार्षिक की ब्याज दर पर उधार ली गई राशि ₹3500 पर साधारण ब्याज (₹ में) ज्ञात कीजिए।

- Ans
- 1. 640
 - 2. 660
 - 3. 740
 - 4. 700

Question Type : MCQ

Question ID : 630680591966

Option 1 ID : 6306802316333

Option 2 ID : 6306802316334

Option 3 ID : 6306802316332

Option 4 ID : 6306802316331

Status : Answered

Chosen Option : 4

Q.6 तेल के एक अर्ध-गोलाकार पात्र के किनारे की गोलाई 396 cm है। पात्र का $\frac{1}{3}$ आयतन खाली है। इस तेल को 2.1 cm त्रिज्या वाले छोटे अर्ध-गोलाकार कटोरे में स्थानांतरित करना है। कितने कटोरों की आवश्यकता होगी?
($\pi = 22/7$ लीजिए)

Ans 1. 18000

2. 9000

3. 27000

4. 900

Question Type : MCQ

Question ID : 630680390965

Option 1 ID : 6306801524258

Option 2 ID : 6306801524260

Option 3 ID : 6306801524261

Option 4 ID : 6306801524259

Status : Not Answered

Chosen Option : --

Q.7 एक व्यक्ति ने एक निश्चित राशि को अपने तीन पुत्रों में 3 : 4 : 5 के अनुपात में विभाजित किया। यदि वह राशि को $\frac{1}{3} : \frac{1}{4} : \frac{1}{5}$ के अनुपात में विभाजित करता, तो वह पुत्र, जिसे पहले सबसे कम हिस्सा मिलता, उसे ₹1,188 अधिक मिलते। राशि की गणना करें (₹ में)।

Ans 1. 6678

2. 6876

3. 6768

4. 6687

Question Type : MCQ

Question ID : 630680464487

Option 1 ID : 6306801813985

Option 2 ID : 6306801813986

Option 3 ID : 6306801813983

Option 4 ID : 6306801813984

Status : Not Answered

Chosen Option : --

Q.8

दी गई तालिका का संदर्भ लीजिए और उसके बाद पूछे गए प्रश्न का उत्तर दीजिए।

मद	मासिक व्यय (हजारों में)
श्रम	30
कच्चा माल	60
ब्याज	50
किराया	40

कच्चा माल एवं श्रम पर व्यय, कुल व्यय का कितना प्रतिशत है?

- Ans
- 1. 55%
 - 2. 45%
 - 3. 50%
 - 4. 40%

Question Type : MCQ

Question ID : 630680523817

Option 1 ID : 6306802047422

Option 2 ID : 6306802047421

Option 3 ID : 6306802047420

Option 4 ID : 6306802047419

Status : Answered

Chosen Option : 3

Q.9 प्रथम 10 प्राकृत संख्याओं का औसत ज्ञात कीजिए।

- Ans
- 1. 50.5
 - 2. 5.5
 - 3. 50
 - 4. 55.5

Question Type : MCQ

Question ID : 630680116124

Option 1 ID : 630680449829

Option 2 ID : 630680449828

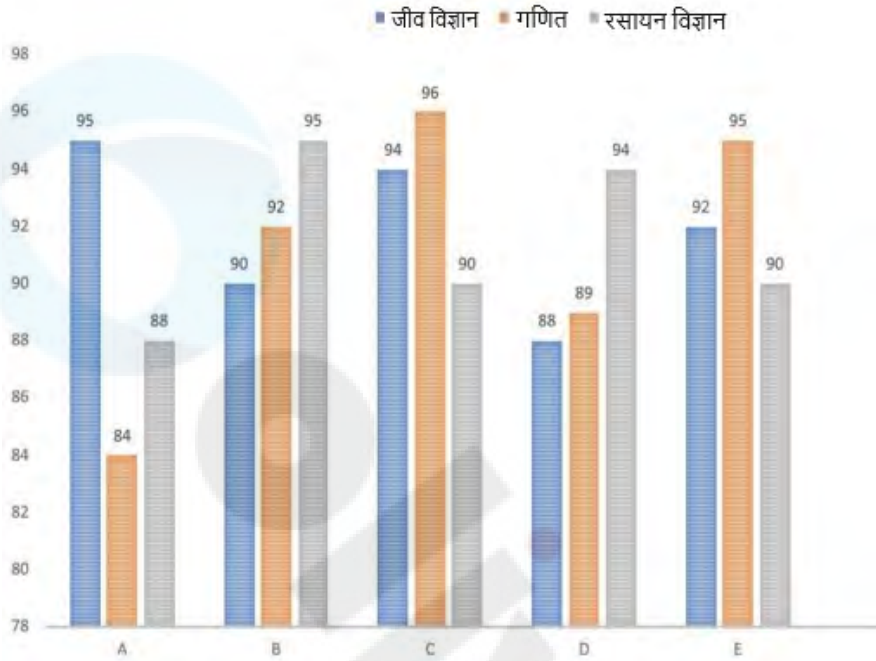
Option 3 ID : 630680449827

Option 4 ID : 630680449826

Status : Answered

Chosen Option : 2

Q.10 दिए गए बार-ग्राफ का अध्ययन कीजिए और निम्नलिखित प्रश्न का उत्तर दीजिए।
दिया गया बार-ग्राफ जीवविज्ञान, गणित और रसायनविज्ञान में कक्षा XI के पाँच वर्गों के लिए वार्षिक परीक्षा औसत अंक दर्शाता है। प्रत्येक विषय के अधिकतम अंक 100 हैं।



पाँच वर्गों के जीवविज्ञान में प्राप्त औसत अंकों और रसायनविज्ञान में प्राप्त औसत अंकों के बीच का अनुपात ज्ञात कीजिए।

- Ans
- 1. 2 : 5
 - 2. 459 : 457
 - 3. 59 : 37
 - 4. 1 : 3

Question Type : MCQ
Question ID : 630680422427
Option 1 ID : 6306801648142
Option 2 ID : 6306801648141
Option 3 ID : 6306801648143
Option 4 ID : 6306801648140
Status : Answered
Chosen Option : 2

Q.11 एक सुपरमार्केट, ₹19,000 अंकित मूल्य वाले मोबाइल फोन पर दो क्रमिक छूट प्रदान करता है। दी जाने वाली पहली छूट 14% है। यदि ग्राहक फोन के लिए ₹15,048 का भुगतान करता है, तो दूसरी छूट (दो दशमलव अंक तक पूर्णांकित) कितनी थी?

- Ans
- 1. 9.26%
 - 2. 8.00%
 - 3. 7.91%
 - 4. 7.51%

Question Type : MCQ

Question ID : 630680397500

Option 1 ID : 6306801550580

Option 2 ID : 6306801550577

Option 3 ID : 6306801550579

Option 4 ID : 6306801550578

Status : Answered

Chosen Option : 4

Q.12 किसी कारखाने में, 25 अकुशल श्रमिकों का औसत मासिक वेतन ₹11,950 है, 20 मैकेनिकों का औसत मासिक वेतन ₹24,000 है और 5 सुपरवाइज़रों का औसत मासिक वेतन ₹35,000 है। सभी कर्मचारियों का औसत मासिक वेतन कितना है?

- Ans
- 1. ₹19,055
 - 2. ₹19,075
 - 3. ₹19,180
 - 4. ₹19,225

Question Type : MCQ

Question ID : 630680411305

Option 1 ID : 6306801604020

Option 2 ID : 6306801604021

Option 3 ID : 6306801604022

Option 4 ID : 6306801604023

Status : Answered

Chosen Option : 2

Q.13 दो संख्याओं का अनुपात 3 : 4 है और उनका महत्तम समापवर्तक (HCF) 4 है। तो, उनका लघुत्तम समापवर्तक (LCM) होगा:

- Ans
- 1. 48
 - 2. 28
 - 3. 38
 - 4. 24

Question Type : MCQ

Question ID : 63068070927

Option 1 ID : 630680274318

Option 2 ID : 630680274320

Option 3 ID : 630680274321

Option 4 ID : 630680274319

Status : Answered

Chosen Option : 1

Q.14 एक समलंब की समांतर भुजाएं 6 इकाई और 10 इकाई हैं। अन्य दो विपरीत भुजाओं में से प्रत्येक की लंबाई 8 इकाई है और दो विकर्ण समान लंबाई के हैं। समलंब का क्षेत्रफल (वर्ग इकाई में) कितना है?

- Ans
- 1. $32\sqrt{5}$
 - 2. $32\sqrt{3}$
 - 3. $16\sqrt{15}$
 - 4. $16\sqrt{3}$

Question Type : MCQ

Question ID : 630680526631

Option 1 ID : 6306802058590

Option 2 ID : 6306802058592

Option 3 ID : 6306802058591

Option 4 ID : 6306802058593

Status : Answered

Chosen Option : 2

Q.15 296 m लंबी एक ट्रेन 72 km/h की चाल से चल रही है। यह 144 m लंबे पुल को कितने समय में पार करेगी?

- Ans
- 1. 25 सेकंड
 - 2. 30 सेकंड
 - 3. 22 सेकंड
 - 4. 27.5 सेकंड

Question Type : MCQ

Question ID : 630680585087

Option 1 ID : 6306802289111

Option 2 ID : 6306802289113

Option 3 ID : 6306802289110

Option 4 ID : 6306802289112

Status : Answered

Chosen Option : 4

Q.16 5 वर्षों के लिए 9% वार्षिक की ब्याज दर पर उधार ली गई राशि ₹2500 पर साधारण ब्याज (₹ में) ज्ञात कीजिए।

- Ans
- 1. 1125
 - 2. 1085
 - 3. 1065
 - 4. 1165

Question Type : MCQ

Question ID : 630680591921

Option 1 ID : 6306802316151

Option 2 ID : 6306802316154

Option 3 ID : 6306802316153

Option 4 ID : 6306802316152

Status : Answered

Chosen Option : 1

Q.17 एक आयत की लंबाई, उस वर्ग की भुजा का चार-पाँचवाँ भाग (four-fifths) है, जिसका क्षेत्रफल 1225 इकाई² है। यदि आयत की चौड़ाई 12 इकाई है, तो आयत का क्षेत्रफल (इकाई² में) कितना है?

Ans 1. 425

2. 225

3. 336

4. 300

Question Type : MCQ

Question ID : 630680570496

Option 1 ID : 6306802230893

Option 2 ID : 6306802230895

Option 3 ID : 6306802230894

Option 4 ID : 6306802230896

Status : Answered

Chosen Option : 3

Q.18 एक शून्येतर संख्या और उसके वर्ग का औसत उस संख्या का 7 गुना है। वह संख्या कौन-सी है?

Ans 1. 14

2. 13

3. 91

4. 7

Question Type : MCQ

Question ID : 630680447397

Option 1 ID : 6306801746841

Option 2 ID : 6306801746844

Option 3 ID : 6306801746843

Option 4 ID : 6306801746842

Status : Answered

Chosen Option : 2

Q.19 साधारण ब्याज की किस दर पर कोई धनराशि 12 वर्षों में स्वयं की दोगुनी हो जाएगी?

Ans 1. $8\frac{1}{3}\%$

2. 18%

3. 12%

4. $16\frac{2}{3}\%$

Question Type : MCQ

Question ID : 630680406168

Option 1 ID : 6306801583766

Option 2 ID : 6306801583767

Option 3 ID : 6306801583765

Option 4 ID : 6306801583764

Status : Answered

Chosen Option : 1

Q.20 एक चोर एक पुलिसकर्मी से 150 मीटर की दूरी पर है। यदि चोर की चाल 93 km/h है और पुलिसकर्मी की चाल 108 km/h है, तो पुलिसकर्मी द्वारा चोर को पकड़ने में लिया गया समय ज्ञात कीजिए।

Ans 1. 36 सेकंड

2. 32 सेकंड

3. 38 सेकंड

4. 40 सेकंड

Question Type : MCQ

Question ID : 630680227124

Option 1 ID : 630680881187

Option 2 ID : 630680881189

Option 3 ID : 630680881190

Option 4 ID : 630680881188

Status : Answered

Chosen Option : 1

Section : Reasoning Ability and Problem Solving

Q.1 यदि '+' और '-' को आपस में बदल दिया जाए तथा 'x' और '÷' को आपस में बदल दिया जाए, तो निम्नलिखित समीकरण में प्रश्नवाचक चिह्न (?) के स्थान पर क्या आएगा?
 $41 \div 6 + 99 \times 3 - 9 = ?$

Ans 1. 224

2. 226

3. 222

4. 220

Question Type : MCQ

Question ID : 630680379460

Option 1 ID : 6306801478885

Option 2 ID : 6306801478886

Option 3 ID : 6306801478884

Option 4 ID : 6306801478883

Status : Answered

Chosen Option : 3

Q.2 HN74 एक निश्चित तरीके से TZ55 से संबंधित है। XD60 उसी तरीके से JP41 से संबंधित है। उसी तर्क का पालन करते हुए, ZF55 निम्नलिखित में से किससे संबंधित है?

Ans 1. LR46

2. RL36

3. RL46

4. LR36

Question Type : MCQ

Question ID : 6306801108776

Option 1 ID : 6306804355651

Option 2 ID : 6306804355652

Option 3 ID : 6306804355653

Option 4 ID : 6306804355650

Status : Not Answered

Chosen Option : --

Q.3 एक निश्चित कूट भाषा में, 'GIRL' को '3571' के रूप में कूटबद्ध किया जाता है और 'TAGS' को '4685' के रूप में कूटबद्ध किया जाता है। उस भाषा में 'G' के लिए कूट क्या है?

Ans 1. 5

2. 8

3. 4

4. 3

Question Type : MCQ

Question ID : 630680449950

Option 1 ID : 6306801756970

Option 2 ID : 6306801756973

Option 3 ID : 6306801756972

Option 4 ID : 6306801756971

Status : Answered

Chosen Option : 1

Q.4 A, B, C, D, E, F और G एक वृत्ताकार मेज के चारों ओर केंद्र की ओर मुख करके बैठे हैं (परंतु जरूरी नहीं कि वे इसी क्रम में बैठे हों)। B, A के दाएँ से दूसरे स्थान पर और C के ठीक बाएँ बैठा है। C, D के बाएँ से दूसरे स्थान पर बैठा है। F, A के ठीक दाएँ बैठा है। E, A का निकटतम पड़ोसी नहीं है। A के बाएँ से गिनती करने पर D और A के बीच में कितने लोग बैठे हैं?

Ans 1. दो

2. तीन

3. एक

4. एक भी नहीं

Question Type : MCQ

Question ID : 630680380494

Option 1 ID : 6306801482972

Option 2 ID : 6306801482973

Option 3 ID : 6306801482971

Option 4 ID : 6306801482974

Status : Answered

Chosen Option : 2

Q.5 अंग्रेजी वर्णानुक्रम के आधार पर CHUM एक निश्चित प्रकार से DJVO से संबंधित है। ठीक उसी प्रकार, NOPA, OQQC से संबंधित है। समान तर्क का अनुसरण करते हुए, DYIE निम्नलिखित में से किससे संबंधित है?

Ans 1. DBHG

2. EAJG

3. CBGI

4. CCHI

Question Type : MCQ

Question ID : 630680383049

Option 1 ID : 6306801493103

Option 2 ID : 6306801493105

Option 3 ID : 6306801493106

Option 4 ID : 6306801493104

Status : Answered

Chosen Option : 2

Q.6 यदि '+' और '-' को आपस में बदल दिया जाए तथा 'x' और '÷' को आपस में बदल दिया जाए, तो निम्नलिखित समीकरण में प्रश्न-चिह्न (?) के स्थान पर क्या आएगा?

$$22 \times 484 \div 44 - 93 + 12 = ?$$

Ans 1. 83

2. 68

3. 38

4. 86

Question Type : MCQ

Question ID : 630680272727

Option 1 ID : 6306801059469

Option 2 ID : 6306801059470

Option 3 ID : 6306801059467

Option 4 ID : 6306801059468

Status : Answered

Chosen Option : 1

Q.7 छः व्यक्ति P1, P2, P3, P4, P5 और P6 एक वृत्ताकार मेज के चारों ओर केंद्र की ओर मुख करके बैठे हैं (परंतु जरूरी नहीं कि वे इसी क्रम में बैठे हों)। P2, P5 के बाएँ से दूसरे स्थान पर बैठा है। P2 के बाएँ से गिनती करने पर P2 और P6 के बीच में एक व्यक्ति बैठा है। P3 और P2 क्रमशः P5 और P4 के पड़ोसी नहीं हैं।

निम्नलिखित में से कौन-सा/कौन-से कथन सही है/हैं?

I. P1 के दाएँ से गिनती करने पर P1 और P6 के बीच में एक व्यक्ति बैठा है।

II. P3, P2 का निकटतम पड़ोसी है।

Ans 1. केवल II

2. केवल I

3. I और II दोनों

4. न तो I और न ही II

Question Type : MCQ

Question ID : 630680387797

Option 1 ID : 6306801511823

Option 2 ID : 6306801511822

Option 3 ID : 6306801511824

Option 4 ID : 6306801511825

Status : Answered

Chosen Option : 1

Q.8 11, किसी निश्चित तर्क का अनुसरण करते हुए 65 से संबंधित है। 16, समान तर्क का अनुसरण करते हुए 90 से संबंधित है। समान तर्क का अनुसरण करते हुए, 21, निम्नलिखित में से किससे संबंधित है?

(ध्यान दें: संख्याओं को उनके घटक अंकों में अलग-अलग किए बिना पूर्ण संख्याओं पर संक्रियाएं की जानी चाहिए। उदाहरण के लिए संख्या 13 - संख्या 13 पर संक्रियाएं जैसे 13 को जोड़ना/घटाना/गुणा करना आदि किया जा सकता है। 13 को 1 और 3 में अलग-अलग करने की और फिर 1 और 3 पर गणितीय संक्रियाएं करने की अनुमति नहीं है।)

- Ans
- 1. 112
 - 2. 113
 - 3. 114
 - 4. 115

Question Type : MCQ

Question ID : 630680450188

Option 1 ID : 6306801757900

Option 2 ID : 6306801757899

Option 3 ID : 6306801757901

Option 4 ID : 6306801757902

Status : Answered

Chosen Option : 4

Q.9 दिए गए विकल्पों में से उस संख्या का चयन कीजिए, जो निम्नलिखित श्रृंखला में प्रश्न-चिह्न (?) के स्थान पर आ सकती है।

12, 16, 22, 32, ?

- Ans
- 1. 47
 - 2. 46
 - 3. 45
 - 4. 44

Question Type : MCQ

Question ID : 630680402305

Option 1 ID : 6306801568806

Option 2 ID : 6306801568805

Option 3 ID : 6306801568804

Option 4 ID : 6306801568803

Status : Not Answered

Chosen Option : --

Q.10 अंग्रेजी वर्णानुक्रम के आधार पर दी गई श्रृंखला में प्रश्न चिह्न (?) के स्थान पर क्या आना चाहिए?

SWS, TUQ, USO, VQM, ?

Ans 1. VOL

2. WOL

3. WOK

4. VOK

Question Type : MCQ

Question ID : 630680459276

Option 1 ID : 6306801793958

Option 2 ID : 6306801793960

Option 3 ID : 6306801793959

Option 4 ID : 6306801793957

Status : Answered

Chosen Option : 3

Q.11 उस समुच्चय का चयन कीजिए जिसमें संख्याएं ठीक उसी प्रकार संबंधित हैं जिस प्रकार दिए गए समुच्चयों की संख्याएं संबंधित हैं।

(10, 360, 3)

(12, 720, 5)

(ध्यान दें: संख्याओं को उनके घटक अंकों में अलग-अलग किए बिना पूर्ण संख्याओं पर संक्रियाएं की जानी चाहिए। उदाहरण के लिए संख्या 13 - संख्या 13 पर संक्रियाएं जैसे 13 को जोड़ना/घटाना/गुणा करना आदि किया जा सकता है। 13 को 1 और 3 में अलग-अलग करने की और फिर 1 और 3 पर गणितीय संक्रियाएं करने की अनुमति नहीं है।)

Ans 1. (17, 816, 3)

2. (8, 576, 6)

3. (13, 1009, 7)

4. (11, 956, 8)

Question Type : MCQ

Question ID : 630680388383

Option 1 ID : 6306801514051

Option 2 ID : 6306801514053

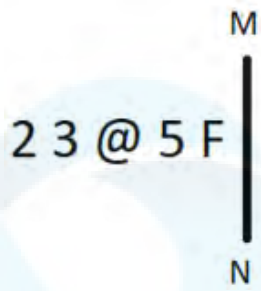
Option 3 ID : 6306801514050

Option 4 ID : 6306801514052

Status : Answered

Chosen Option : 2

Q.12 दी गई आकृति के उस सही दर्पण प्रतिबिंब को चुनिए, जो नीचे दर्शाए गए अनुसार दर्पण को MN पर रखने पर बनेगा।



Ans

1. 5 F @ 3 2

2. 2 3 @ 5 F

3. 5 3 @ 5 F

4. 2 3 @ 5 F

Question Type : MCQ

Question ID : 630680525236

Option 1 ID : 6306802053031

Option 2 ID : 6306802053028

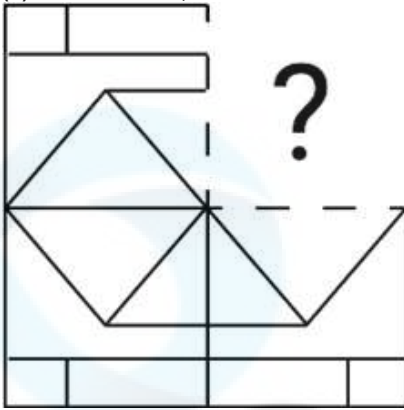
Option 3 ID : 6306802053030

Option 4 ID : 6306802053029

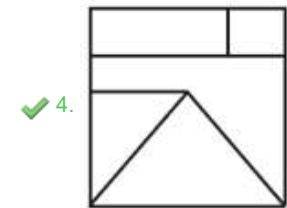
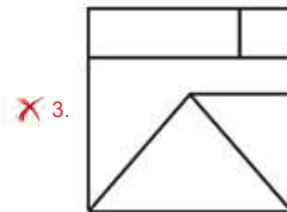
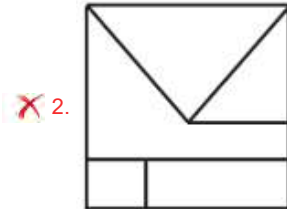
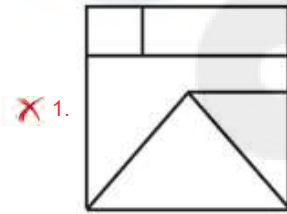
Status : Answered

Chosen Option : 4

Q.13 उस विकल्प आकृति का चयन कीजिए, जो पैटर्न को पूरा करने के लिए नीचे दी गई आकृति में प्रश्न-चिह्न (?) के स्थान पर आएगी।



Ans



Question Type : **MCQ**

Question ID : **630680524673**

Option 1 ID : **6306802050792**

Option 2 ID : **6306802050793**

Option 3 ID : **6306802050791**

Option 4 ID : **6306802050794**

Status : **Answered**

Chosen Option : **4**

Q.14 एक निश्चित कूट भाषा में 'get a driver' को 'ki jo hu' के रूप में लिखा जाता है और 'better get out' को 'ji hy ki' के रूप में लिखा जाता है। उसी कूट भाषा में 'get' को कैसे लिखा जाएगा?

- Ans
- 1. jo
 - 2. hy
 - 3. ji
 - 4. ki

Question Type : MCQ

Question ID : 630680419465

Option 1 ID : 6306801636540

Option 2 ID : 6306801636541

Option 3 ID : 6306801636543

Option 4 ID : 6306801636542

Status : Answered

Chosen Option : 4

Q.15 एक निश्चित कूट भाषा में, 'CLOSE' को '48793' लिखा जाता है और 'LOSER' को '89243' लिखा जाता है। उसी कूट भाषा में 'R' को कैसे लिखा जाएगा?

- Ans
- 1. 7
 - 2. 4
 - 3. 2
 - 4. 8

Question Type : MCQ

Question ID : 630680439110

Option 1 ID : 6306801714254

Option 2 ID : 6306801714255

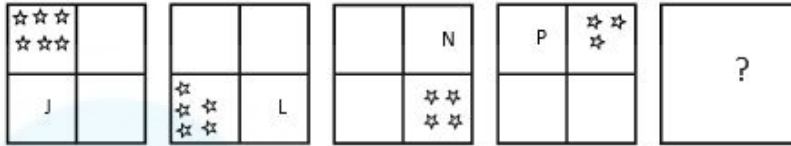
Option 3 ID : 6306801714252

Option 4 ID : 6306801714253

Status : Answered

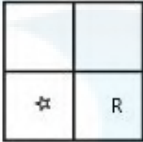
Chosen Option : 3

Q.16 विकल्पों में दी गई उस आकृति की पहचान कीजिए जिसे "?" के स्थान पर रखे जाने पर श्रृंखला तार्किक रूप से पूर्ण हो जाएगी।



Ans


1.



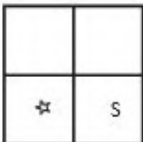
2.



3.



4.



Question Type : MCQ

Question ID : 630680278501

Option 1 ID : 6306801082291

Option 2 ID : 6306801082290

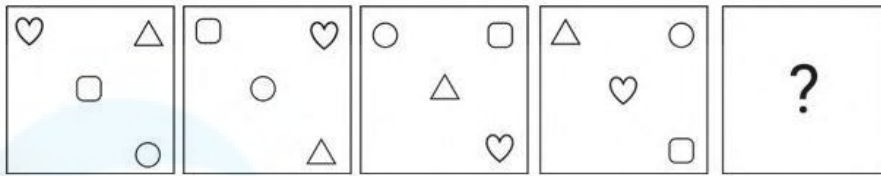
Option 3 ID : 6306801082289

Option 4 ID : 6306801082292

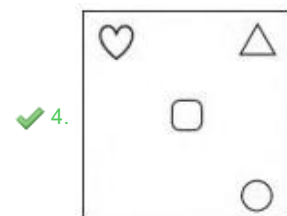
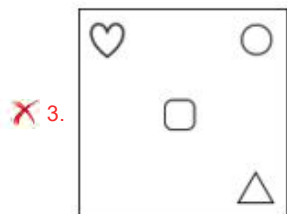
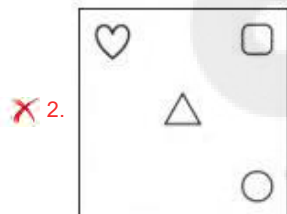
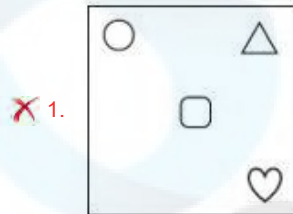
Status : Answered

Chosen Option : 2

Q.17 विकल्पों में दी गई उस आकृति की पहचान कीजिए, जिसे प्रश्न-चिह्न (?) के स्थान पर रखने पर श्रृंखला तार्किक रूप से पूर्ण हो जाएगी।



Ans



Question Type : MCQ

Question ID : 630680273252

Option 1 ID : 6306801061553

Option 2 ID : 6306801061552

Option 3 ID : 6306801061551

Option 4 ID : 6306801061554

Status : Answered

Chosen Option : 4

Q.18 दिए गए कथनों और निष्कर्षों को ध्यानपूर्वक पढ़िए। यह मानते हुए कि कथनों में दी गई जानकारी सत्य है, चाहे वह सामान्यतः ज्ञात तथ्यों से भिन्न प्रतीत होती हो और निर्णय लीजिए कि दिए गए निष्कर्षों में से कौन-सा/कौन-से निष्कर्ष कथनों का तार्किक रूप से अनुसरण करता है/करते हैं।

कथन: कुछ कागज़, कलम हैं। सभी पेंसिलें, कलम हैं।

निष्कर्ष (I): कुछ कलम, पेंसिलें हैं।

निष्कर्ष (II): कुछ कलम, कागज़ हैं।

- Ans
- 1. केवल निष्कर्ष (II) अनुसरण करता है।
 - 2. केवल निष्कर्ष (I) अनुसरण करता है।
 - 3. दोनों निष्कर्ष (I) और (II) अनुसरण करते हैं।
 - 4. न तो निष्कर्ष (I) और न ही (II) अनुसरण करता है।

Question Type : MCQ

Question ID : 630680438812

Option 1 ID : 6306801713061

Option 2 ID : 6306801713060

Option 3 ID : 6306801713063

Option 4 ID : 6306801713062

Status : Answered

Chosen Option : 3

Q.19 एक निश्चित कूट भाषा में, 'will you go' को 'rp zs tu' के रूप में कूटबद्ध किया जाता है और 'you come here' को 'ar cm tu' के रूप में कूटबद्ध किया जाता है। उस कूट भाषा में 'you' को किस प्रकार कूटबद्ध किया जाता है?

- Ans
- 1. rp
 - 2. zs
 - 3. ar
 - 4. tu

Question Type : MCQ

Question ID : 630680382351

Option 1 ID : 6306801490322

Option 2 ID : 6306801490320

Option 3 ID : 6306801490319

Option 4 ID : 6306801490321

Status : Answered

Chosen Option : 4

Q.20 दिए गए कथनों और निष्कर्षों को ध्यानपूर्वक पढ़िए। यह मानते हुए कि कथनों में दी गई जानकारी सत्य है, चाहे वह सामान्यतः ज्ञात तथ्यों से भिन्न प्रतीत होती हो और निर्णय लीजिए कि दिए गए निष्कर्षों में से कौन-सा/कौन-से निष्कर्ष कथनों का तार्किक रूप से अनुसरण करता है/करते हैं।

कथन:

सभी किताबें, रैक हैं।
सभी मेज़ें, किताबें हैं।

निष्कर्ष:

(I) कम से कम कुछ रैक, मेज़ें हैं।
(II) सभी रैक, किताबें हैं।

- Ans 1. न तो निष्कर्ष (I) और न ही (II) अनुसरण करता है
 2. केवल निष्कर्ष (I) अनुसरण करता है
 3. निष्कर्ष (I) और (II) दोनों अनुसरण करते हैं
 4. केवल निष्कर्ष (II) अनुसरण करता है

Question Type : MCQ

Question ID : 630680404841

Option 1 ID : 6306801578857

Option 2 ID : 6306801578856

Option 3 ID : 6306801578858

Option 4 ID : 6306801578855

Status : Answered

Chosen Option : 2

Section : General Awareness

Q.1 निशागांधी उत्सव (Nishagandhi festival) निम्नलिखित में से किस राज्य में मनाया जाता है?

- Ans 1. उत्तराखंड
 2. केरल
 3. झारखंड
 4. महाराष्ट्र

Question Type : MCQ

Question ID : 630680402985

Option 1 ID : 6306801571511

Option 2 ID : 6306801571512

Option 3 ID : 6306801571513

Option 4 ID : 6306801571514

Status : Answered

Chosen Option : 2

Q.2 ऐतिहासिक उपन्यास, 'ट्रेन टू पाकिस्तान' किसके द्वारा लिखा गया था?

- Ans 1. शशि थरूर
 2. खुशवंत सिंह
 3. अरुंधति रॉय
 4. जवाहर लाल नेहरू

Question Type : MCQ

Question ID : 630680450249

Option 1 ID : 6306801758142

Option 2 ID : 6306801758141

Option 3 ID : 6306801758140

Option 4 ID : 6306801758139

Status : Answered

Chosen Option : 1

Q.3 इंद्रावती राष्ट्रीय उद्यान (Indravati National Park) किस राज्य में स्थित है?

- Ans 1. त्रिपुरा
 2. छत्तीसगढ़
 3. तमिलनाडु
 4. राजस्थान

Question Type : MCQ

Question ID : 630680511068

Option 1 ID : 6306801997405

Option 2 ID : 6306801997402

Option 3 ID : 6306801997404

Option 4 ID : 6306801997403

Status : Not Answered

Chosen Option : --

Q.4 निम्नलिखित में से कौन-सा राजस्व घाटे का सबसे अच्छा निरूपण करता है?

- Ans 1. राजस्व व्यय - राजस्व प्राप्तियाँ
 2. प्राथमिक घाटा - राजकोषीय घाटा
 3. राजस्व व्यय + राजस्व प्राप्तियाँ
 4. प्राथमिक घाटा + राजकोषीय घाटा

Question Type : MCQ

Question ID : 630680303679

Option 1 ID : 6306801181285

Option 2 ID : 6306801181288

Option 3 ID : 6306801181286

Option 4 ID : 6306801181287

Status : Answered

Chosen Option : 1

Q.5 भारत की जनगणना 2011 के अनुसार निम्नलिखित में से कौन-सा राज्य सबसे कम शहरीकृत है?

Ans 1. हिमाचल प्रदेश

2. छत्तीसगढ़

3. बिहार

4. उत्तर प्रदेश

Question Type : MCQ

Question ID : 630680313489

Option 1 ID : 6306801219821

Option 2 ID : 6306801219822

Option 3 ID : 6306801219823

Option 4 ID : 6306801219824

Status : Answered

Chosen Option : 2

Q.6 हॉकी का मैदान आयताकार होता है, जिसकी लंबाई 91.4 m और चौड़ाई _____ होती है।

Ans 1. 60 m

2. 70 m

3. 50 m

4. 55 m

Question Type : MCQ

Question ID : 630680459715

Option 1 ID : 6306801795706

Option 2 ID : 6306801795708

Option 3 ID : 6306801795705

Option 4 ID : 6306801795707

Status : Not Answered

Chosen Option : --

Q.7 इमानी शंकर शास्त्री (Emani Sankara Sastry) और दुरैस्वामी अय्यंगर (Doraiswamy Iyengar) दोनों का संबंध किस संगीत वाद्ययंत्र से है?

Ans 1. वीणा

2. वायलिन

3. बांसुरी

4. घटम

Question Type : MCQ

Question ID : 630680482438

Option 1 ID : 6306801884231

Option 2 ID : 6306801884230

Option 3 ID : 6306801884232

Option 4 ID : 6306801884233

Status : Not Answered

Chosen Option : --

Q.8 निम्नलिखित युग्मों पर विचार कीजिए:

	कृति	लेखक
1	राजतरंगिणी	कल्हण
2	गीत गोविंद	चंदबरदाई
3	विक्रमार्जुन - विजय	पम्पा

उपरोक्त युग्मों में से कौन-सा/से युग्म सही रूप से सुमेलित है/हैं?

- Ans
- 1. केवल 3
 - 2. केवल 2
 - 3. 1 और 2 दोनों
 - 4. 1 और 3 दोनों

Question Type : MCQ

Question ID : 630680176074

Option 1 ID : 630680682542

Option 2 ID : 630680682540

Option 3 ID : 630680682543

Option 4 ID : 630680682541

Status : Answered

Chosen Option : 4

Q.9 कण्व वंश (Kanva dynasty) को किस वंश ने परजीत किया था?

- Ans
- 1. शुंग राजवंश
 - 2. शक वंश
 - 3. कुषाण वंश
 - 4. सातवाहन वंश

Question Type : MCQ

Question ID : 630680433804

Option 1 ID : 6306801693181

Option 2 ID : 6306801693182

Option 3 ID : 6306801693179

Option 4 ID : 6306801693180

Status : Answered

Chosen Option : 2

Q.10 जुलाई 2023 तक की स्थिति के अनुसार, वाराणसी संसदीय निर्वाचन क्षेत्र से संसद सदस्य कौन था?

- Ans
- 1. राजनाथ सिंह
 - 2. स्मृति ईरानी
 - 3. योगी आदित्यनाथ
 - 4. नरेंद्र मोदी

Question Type : MCQ

Question ID : 630680465525

Option 1 ID : 6306801818136

Option 2 ID : 6306801818135

Option 3 ID : 6306801818138

Option 4 ID : 6306801818137

Status : Answered

Chosen Option : 3

Q.11 एड्स (AIDS) रोग उत्पन्न करने के लिए कौन-सा वायरस जिम्मेदार होता है?

- Ans
- 1. ह्यूमन इम्यूनोडेफिशिएंसी वायरस (Human immunodeficiency virus - HIV)
 - 2. इन्फ्लुएंजा वायरस (Influenza virus)
 - 3. हर्पीज सिम्प्लेक्स वायरस (Herpes simplex virus - HSV)
 - 4. ह्यूमन पैपिलोमावायरस (Human papillomavirus - HPV)

Question Type : MCQ

Question ID : 630680540496

Option 1 ID : 6306802113061

Option 2 ID : 6306802113059

Option 3 ID : 6306802113062

Option 4 ID : 6306802113060

Status : Answered

Chosen Option : 1

Q.12 राष्ट्रीय जनसंख्या रजिस्टर (National Population Register), _____ और _____ के प्रावधानों के तहत तैयार किया गया था।

- a. नागरिकता अधिनियम, 1965
- b. नागरिकता कानून, 2004
- c. नागरिकता अधिनियम, 1955
- d. नागरिकता कानून, 2003

- Ans
- 1. a; b
 - 2. c; d
 - 3. b; d
 - 4. a; c

Question Type : MCQ

Question ID : 630680115731

Option 1 ID : 630680448264

Option 2 ID : 630680448265

Option 3 ID : 630680448263

Option 4 ID : 630680448262

Status : Answered

Chosen Option : 1

Q.13 2022 में अल्टीमेट खो-खो लीग (Ultimate Kho-Kho League) का उद्घाटन सत्र कहाँ आयोजित किया गया था?

- Ans 1. पुणे
 2. ठाणे
 3. भुसावल
 4. अमरावती

Question Type : MCQ
Question ID : 630680572120
Option 1 ID : 6306802237340
Option 2 ID : 6306802237341
Option 3 ID : 6306802237343
Option 4 ID : 6306802237342
Status : Answered
Chosen Option : 4

Q.14 फतेहपुर सीकरी में स्थित पंच महल (Panch Mahal) पैलेस मुगल सम्राट _____ ने बनवाया था।

- Ans 1. बाबर
 2. जहाँगीर
 3. अकबर
 4. शाहजहाँ

Question Type : MCQ
Question ID : 630680158686
Option 1 ID : 630680614237
Option 2 ID : 630680614238
Option 3 ID : 630680614236
Option 4 ID : 630680614239
Status : Not Answered
Chosen Option : --

Q.15 निम्नलिखित में से कौन-सा विकल्प कॉलम-A को कॉलम-B से सही ढंग से सुमेलित करता है?

कॉलम-A (कोशिका अंगक)

- i. कोशिका झिल्ली
ii. चिकनी अन्तः प्रद्रव्य जालिका
iii. गोल्जी उपकरण
iv. राइबोसोम

कॉलम-B (कार्य)

- a. प्रोटीन संश्लेषण
b. ग्लाइकोप्रोटीन और ग्लाइकोलिपिड के निर्माण का महत्वपूर्ण स्थल
c. वसा (लिपिड) का संश्लेषण
d. अणुओं का परिवहन

- Ans 1. i-c, ii-a, iii-d, iv-b
 2. i-c, ii-d, iii-b, iv-a
 3. i-d, ii-c, iii-b, iv-a
 4. i-c, ii-d, iii-a, iv-b

Question Type : MCQ
Question ID : 630680545001
Option 1 ID : 6306802130759
Option 2 ID : 6306802130761
Option 3 ID : 6306802130762
Option 4 ID : 6306802130760
Status : Answered
Chosen Option : 3

Q.16 भारत में बराक नदी का नौगम्य खंड (Navigable Portion) लखीपुर से भांगा के बीच 121 km लंबा एक विस्तार (stretch) है, जिसे वर्ष 2016 में _____ घोषित किया गया?

- Ans
- 1. राष्ट्रीय जलमार्ग -5 (NW-5)
 - 2. राष्ट्रीय जलमार्ग - 16 (NW-16)
 - 3. राष्ट्रीय जलमार्ग - 10 (NW-10)
 - 4. राष्ट्रीय जलमार्ग -8 (NW-8)

Question Type : **MCQ**
Question ID : **63068090979**
Option 1 ID : **630680352674**
Option 2 ID : **630680352677**
Option 3 ID : **630680352676**
Option 4 ID : **630680352675**
Status : **Not Answered**
Chosen Option : --

Q.17 निम्नलिखित में से किसके खिलाफ भारत में पहली बार 'स्वदेशी' और 'बहिष्कार' को विरोध और संघर्ष के साधन के रूप में इस्तेमाल किया गया था?

- Ans
- 1. रोलेट एक्ट
 - 2. बंगाल विभाजन
 - 3. साइमन कमीशन
 - 4. जलियाँवाला बाग हत्याकांड

Question Type : **MCQ**
Question ID : **630680198459**
Option 1 ID : **630680769797**
Option 2 ID : **630680769796**
Option 3 ID : **630680769795**
Option 4 ID : **630680769798**
Status : **Answered**
Chosen Option : 4

Q.18 मई 2023 में, सर्वोच्च न्यायालय ने दिल्ली की शासन संरचना से संबंधित किस अनुच्छेद की व्याख्या की, जो संघवाद, सहभागी लोकतंत्र और सामूहिक उत्तरदायित्व के सिद्धांतों को रेखांकित करता है?

- Ans
- 1. अनुच्छेद 239AA
 - 2. अनुच्छेद 226
 - 3. अनुच्छेद 323A
 - 4. अनुच्छेद 243B

Question Type : **MCQ**
Question ID : **630680465513**
Option 1 ID : **6306801818088**
Option 2 ID : **6306801818089**
Option 3 ID : **6306801818090**
Option 4 ID : **6306801818087**
Status : **Not Answered**
Chosen Option : --

Q.19 अधात्विक खनिज अभ्रक (mica) का उपयोग निम्नलिखित में से किस उद्योग में किया जाता है?

Ans 1. विद्युत उद्योग

2. काँच उद्योग

3. सीमेंट उद्योग

4. स्टील उद्योग

Question Type : MCQ

Question ID : 630680456067

Option 1 ID : 6306801781207

Option 2 ID : 6306801781208

Option 3 ID : 6306801781210

Option 4 ID : 6306801781209

Status : Answered

Chosen Option : 1

Q.20 भारतीय संविधान का निम्नलिखित में से कौन-सा अनुच्छेद उद्योगों के प्रबंधन में श्रमिकों की भागीदारी पर बल देता है?

Ans 1. अनुच्छेद 43A

2. अनुच्छेद 42B

3. अनुच्छेद 46D

4. अनुच्छेद 44C

Question Type : MCQ

Question ID : 630680733639

Option 1 ID : 6306802875392

Option 2 ID : 6306802875391

Option 3 ID : 6306802875394

Option 4 ID : 6306802875393

Status : Not Answered

Chosen Option : --

Q.21 राष्ट्रपति के अभिभाषण के समय, जो कि लोकसभा के प्रत्येक सत्र के प्रारंभ में होता है, लोकसभा की गणपूर्ति की सदस्य संख्या कितनी होती है?

Ans 1. एक चौथाई भाग (One-fourth)

2. एक दसवाँ भाग (One-tenth)

3. एक तिहाई भाग (One-third)

4. एक बारहवाँ भाग (One-twelfth)

Question Type : MCQ

Question ID : 630680152733

Option 1 ID : 630680590925

Option 2 ID : 630680590926

Option 3 ID : 630680590924

Option 4 ID : 630680590927

Status : Answered

Chosen Option : 3

Q.22 अलीगढ़ में मोहम्मडन एंग्लो-ओरिएंटल कॉलेज (Muhammadan Anglo-Oriental College) की स्थापना _____ द्वारा की गई थी।

- Ans
- 1. मुजफ्फर अहमद
 - 2. सर सैयद अहमद खान
 - 3. मौलाना अबुल कलाम आजाद
 - 4. मोहम्मद अली जिन्ना

Question Type : **MCQ**
Question ID : **630680216023**
Option 1 ID : **630680838070**
Option 2 ID : **630680838069**
Option 3 ID : **630680838068**
Option 4 ID : **630680838067**
Status : **Answered**
Chosen Option : **2**

Q.23 निम्न में से कौन-सा/कौन-सी भरतनाट्यम नृत्य कलाकार भारत के सर्वोच्च नागरिक पुरस्कारों में से एक, पद्म विभूषण 1977 के/की प्राप्तकर्ता हैं?

- Ans
- 1. टी. बालासरस्वती
 - 2. केलुचरण महापात्र
 - 3. मल्लिका साराभाई
 - 4. यामिनी कृष्णमूर्ति

Question Type : **MCQ**
Question ID : **630680512022**
Option 1 ID : **6306802001060**
Option 2 ID : **6306802001059**
Option 3 ID : **6306802001061**
Option 4 ID : **6306802001058**
Status : **Answered**
Chosen Option : **4**

Q.24 झावेरी बहनों (Jhaveri Sisters) को निम्नलिखित में से किस भारतीय शास्त्रीय नृत्य की मंदिर परंपरा (temple tradition) को जीवित रखने के लिए जाना जाता है?

- Ans
- 1. कथक
 - 2. कथकली
 - 3. सत्रीया
 - 4. मणिपुरी

Question Type : **MCQ**
Question ID : **630680480851**
Option 1 ID : **6306801878005**
Option 2 ID : **6306801878007**
Option 3 ID : **6306801878008**
Option 4 ID : **6306801878006**
Status : **Answered**
Chosen Option : **2**

Q.25 मिठाइयों को सजाने के लिए चांदी के बहुत पतले पत्रक तैयार करने के लिए धातुओं के निम्नलिखित दो गुणों में से किसका उपयोग किया जाता है?

- Ans
- 1. चमक और ध्वानिक
 - 2. तन्यता और चमक
 - 3. आघातवर्धनीयता और चमक
 - 4. आघातवर्धनीयता और ध्वानिक

Question Type : MCQ

Question ID : 630680422955

Option 1 ID : 6306801650190

Option 2 ID : 6306801650187

Option 3 ID : 6306801650188

Option 4 ID : 6306801650189

Status : Answered

Chosen Option : 3

Section : English Language and Comprehension

Q.1 Select the most appropriate idiom that can substitute the underlined segment.
Despite the difficulties, Sarah started her business with great energy and hard work, and performed remarkably well in the industry.

- Ans
- 1. let sleeping dogs lie
 - 2. hit the ground running
 - 3. hit the hay
 - 4. spilled the beans

Question Type : MCQ

Question ID : 630680502967

Option 1 ID : 6306801965450

Option 2 ID : 6306801965449

Option 3 ID : 6306801965452

Option 4 ID : 6306801965451

Status : Answered

Chosen Option : 2

Q.2 Select the INCORRECTLY spelt word.

- Ans
- 1. Anxious
 - 2. Cautios
 - 3. Curious
 - 4. Bashful

Question Type : MCQ

Question ID : 630680467611

Option 1 ID : 6306801826377

Option 2 ID : 6306801826375

Option 3 ID : 6306801826374

Option 4 ID : 6306801826376

Status : Answered

Chosen Option : 2

Q.3 Select the option that can be used as a one-word substitute for the given group of words.

The rules of behaviour which guide one in a formal situation

- Ans
- 1. Impropriety
 - 2. Bargain
 - 3. Affidavit
 - 4. Protocol

Question Type : **MCQ**

Question ID : **630680435310**

Option 1 ID : **6306801699163**

Option 2 ID : **6306801699164**

Option 3 ID : **6306801699165**

Option 4 ID : **6306801699162**

Status : **Answered**

Chosen Option : **2**

Q.4 Select the most appropriate ANTONYM of the underlined word in the given sentence.

He was appointed as the Manager.

- Ans
- 1. Disappointed
 - 2. Assigned
 - 3. Dismissed
 - 4. Disordered

Question Type : **MCQ**

Question ID : **630680439306**

Option 1 ID : **6306801715030**

Option 2 ID : **6306801715029**

Option 3 ID : **6306801715031**

Option 4 ID : **6306801715028**

Status : **Answered**

Chosen Option : **1**

Q.5 Select the option that rectifies the underlined spelling error.

The panel submitted the findings to the ministry.

- Ans
- 1. submittd
 - 2. submittad
 - 3. submitted
 - 4. sumitted

Question Type : **MCQ**

Question ID : **630680620443**

Option 1 ID : **6306802427847**

Option 2 ID : **6306802427846**

Option 3 ID : **6306802427845**

Option 4 ID : **6306802427848**

Status : **Answered**

Chosen Option : **3**

Q.6 The following sentence has been split into four segments. Identify the segment that contains a grammatical error.
She oftenly goes / shopping with / her friends / on Saturdays.

Ans 1. She oftenly goes

2. shopping with

3. on Saturdays

4. her friends

Question Type : **MCQ**

Question ID : **630680711788**

Option 1 ID : **6306802788792**

Option 2 ID : **6306802788793**

Option 3 ID : **6306802788795**

Option 4 ID : **6306802788794**

Status : **Answered**

Chosen Option : 1

Q.7 Select the most appropriate option that can substitute the underlined segment in the given sentence. If there is no need to substitute it, select 'No substitution'.

No sooner had she enter her apartment than she found a bouquet of flowers on her table.

Ans 1. No substitution

2. No sooner did she enter her apartment than

3. No sooner did she entered her apartment than

4. No sooner has she enter her apartment than

Question Type : **MCQ**

Question ID : **630680498390**

Option 1 ID : **6306801947247**

Option 2 ID : **6306801947244**

Option 3 ID : **6306801947245**

Option 4 ID : **6306801947246**

Status : **Answered**

Chosen Option : 2

Q.8 Identify the error in the following sentence.
The zoo is under the street from the temple.

Ans 1. from

2. under

3. temple

4. zoo

Question Type : **MCQ**

Question ID : **630680192494**

Option 1 ID : **630680746566**

Option 2 ID : **630680746567**

Option 3 ID : **630680746568**

Option 4 ID : **630680746565**

Status : **Answered**

Chosen Option : 2

Q.9 Select the most appropriate synonym of the underlined word.
The order will be operational from 1st of November.

- Ans
- 1. scrapped
 - 2. effective
 - 3. considered
 - 4. provoked

Question Type : **MCQ**
Question ID : **630680517441**
Option 1 ID : **6306802022163**
Option 2 ID : **6306802022160**
Option 3 ID : **6306802022161**
Option 4 ID : **6306802022162**
Status : **Answered**
Chosen Option : 1

Q.10 Identify the **INCORRECTLY** spelt word from the given sentence.
Enthusiasm is one of those vital elements that transforms an individual and his failures into victories and success.

- Ans
- 1. Success
 - 2. Failures
 - 3. Victories
 - 4. Individual

Question Type : **MCQ**
Question ID : **630680540374**
Option 1 ID : **6306802112590**
Option 2 ID : **6306802112588**
Option 3 ID : **6306802112589**
Option 4 ID : **6306802112587**
Status : **Answered**
Chosen Option : 4

Q.11 Select the most appropriate option to substitute the underlined segment in the given sentence.

The company ran about of stock due to unexpectedly high demand for the product.

- Ans
- 1. ran out of stock due to
 - 2. ran around of stock due to
 - 3. ran across of stock due to
 - 4. ran on of stock due to

Question Type : **MCQ**
Question ID : **630680549283**
Option 1 ID : **6306802147594**
Option 2 ID : **6306802147596**
Option 3 ID : **6306802147595**
Option 4 ID : **6306802147593**
Status : **Answered**
Chosen Option : 1

Q.12 Select the option that expresses the given sentence in future continuous tense form.
Shall I meet you soon?

- Ans 1. Shall I have met you soon?
 2. Will we be meeting soon?
 3. Will I be meeting you soon?
 4. Shall I be meeting you soon?

Question Type : **MCQ**
Question ID : **63068082886**
Option 1 ID : **630680321409**
Option 2 ID : **630680321411**
Option 3 ID : **630680321408**
Option 4 ID : **630680321410**
Status : **Answered**
Chosen Option : **2**

Q.13 Select the word that has the same meaning (SYNONYM) as the underlined word in the given sentence.

The doctor made a tentative diagnosis as he did not have the reports of her blood tests.

- Ans 1. tedious
 2. obsolete
 3. provisional
 4. hazardous

Question Type : **MCQ**
Question ID : **630680436150**
Option 1 ID : **6306801702541**
Option 2 ID : **6306801702542**
Option 3 ID : **6306801702543**
Option 4 ID : **6306801702544**
Status : **Answered**
Chosen Option : **4**

Q.14 Select the most appropriate degree to fill in the blank.

Doctors should never be _____ than others when patients come for their treatment.

- Ans 1. most caring
 2. more caring
 3. less caring
 4. least caring

Question Type : **MCQ**
Question ID : **63068087410**
Option 1 ID : **630680339027**
Option 2 ID : **630680339028**
Option 3 ID : **630680339025**
Option 4 ID : **630680339026**
Status : **Answered**
Chosen Option : **3**

Q.15 The following sentence has been split into four parts. Identify the part that contains a grammatical error.

A student becomes / dearer to the teachers / via participating and actively working / towards the glory of the school.

- Ans
- 1. towards the glory of the school.
 - 2. dearer to the teachers
 - 3. via participating and actively working
 - 4. A student becomes

Question Type : **MCQ**
Question ID : **630680514551**
Option 1 ID : **6306802010832**
Option 2 ID : **6306802010830**
Option 3 ID : **6306802010831**
Option 4 ID : **6306802010829**
Status : **Answered**
Chosen Option : **3**

Q.16 Select the most appropriate option that can substitute the underlined segment in the given sentence. If there is no need to substitute it, select 'No substitution required'.

Her team played exceptionally more well in the competition.

- Ans
- 1. No substitution required
 - 2. most well
 - 3. more well
 - 4. well

Question Type : **MCQ**
Question ID : **630680426304**
Option 1 ID : **6306801663317**
Option 2 ID : **6306801663314**
Option 3 ID : **6306801663315**
Option 4 ID : **6306801663316**
Status : **Answered**
Chosen Option : **2**

Q.17 Select the most appropriate meaning of the given idiom.

Clear the decks

- Ans
- 1. To take something away
 - 2. To remove unnecessary things for further work
 - 3. To draw something down
 - 4. Prepare for an event or course of action by dealing with anything that might hinder progress

Question Type : **MCQ**
Question ID : **630680421687**
Option 1 ID : **6306801645212**
Option 2 ID : **6306801645213**
Option 3 ID : **6306801645214**
Option 4 ID : **6306801645211**
Status : **Answered**
Chosen Option : **2**

Q.18 Select the most appropriate meaning of the underlined word in the given sentence.
Disclaimer on products in the markets saves manufacturer from unusual results on usage.

- Ans 1. Acceptance
 2. Approval
 3. Clause
 4. Guarantee

Question Type : **MCQ**
Question ID : **630680402711**
Option 1 ID : **6306801570445**
Option 2 ID : **6306801570446**
Option 3 ID : **6306801570448**
Option 4 ID : **6306801570447**
Status : **Answered**
Chosen Option : **4**

Q.19 Select the most appropriate option to fill in the blank.
I have never _____ this kind of pain before surgery.

- Ans 1. practised
 2. trained
 3. dedicated
 4. experienced

Question Type : **MCQ**
Question ID : **630680515235**
Option 1 ID : **6306802013405**
Option 2 ID : **6306802013407**
Option 3 ID : **6306802013408**
Option 4 ID : **6306802013406**
Status : **Answered**
Chosen Option : **4**

Q.20 Select the most appropriate ANTONYM of the underlined word in the given sentence.

The mother told the child to erase the extra dots from the given graph.

- Ans 1. Delete
 2. Shatter
 3. Efface
 4. Create

Question Type : **MCQ**
Question ID : **630680564470**
Option 1 ID : **6306802206814**
Option 2 ID : **6306802206813**
Option 3 ID : **6306802206812**
Option 4 ID : **6306802206811**
Status : **Answered**
Chosen Option : **4**

Comprehension:

In the following passage, some words have been deleted. Read the passage carefully and select the most appropriate option to fill in each blank.

Indian villages showcase the country's rich culture and customs. Most Indians live in villages, (1)_____ agriculture, modest living and close-knit communities are the norms. Villagers wake up to roosters crowing and farm (2)_____ day. Farming is the main employment, and generations labour (3)_____ the same land. Traditions, communal events and a slower pace (4)_____ village life from metropolitan life. Villagers' togetherness and shared duty make it part of India's identity, (5)_____ the lack of contemporary conveniences.

SubQuestion No : 21

Q.21 Select the most appropriate option to fill in blank number 1.

- Ans 1. when
 2. where
 3. what
 4. which

Question Type : **MCQ**

Question ID : **630680468498**

Option 1 ID : **6306801829792**

Option 2 ID : **6306801829791**

Option 3 ID : **6306801829793**

Option 4 ID : **6306801829790**

Status : **Answered**

Chosen Option : **2**

Comprehension:

In the following passage, some words have been deleted. Read the passage carefully and select the most appropriate option to fill in each blank.

Indian villages showcase the country's rich culture and customs. Most Indians live in villages, (1)_____ agriculture, modest living and close-knit communities are the norms. Villagers wake up to roosters crowing and farm (2)_____ day. Farming is the main employment, and generations labour (3)_____ the same land. Traditions, communal events and a slower pace (4)_____ village life from metropolitan life. Villagers' togetherness and shared duty make it part of India's identity, (5)_____ the lack of contemporary conveniences.

SubQuestion No : 22

Q.22 Select the most appropriate option to fill in blank number 2.

- Ans 1. all
 2. after
 3. towards
 4. before

Question Type : **MCQ**

Question ID : **630680468499**

Option 1 ID : **6306801829796**

Option 2 ID : **6306801829795**

Option 3 ID : **6306801829797**

Option 4 ID : **6306801829794**

Status : **Answered**

Chosen Option : **1**

Comprehension:

In the following passage, some words have been deleted. Read the passage carefully and select the most appropriate option to fill in each blank.

Indian villages showcase the country's rich culture and customs. Most Indians live in villages, (1)_____ agriculture, modest living and close-knit communities are the norms. Villagers wake up to roosters crowing and farm (2)_____ day. Farming is the main employment, and generations labour (3)_____ the same land. Traditions, communal events and a slower pace (4)_____ village life from metropolitan life. Villagers' togetherness and shared duty make it part of India's identity, (5)_____ the lack of contemporary conveniences.

SubQuestion No : 23

Q.23 Select the most appropriate option to fill in blank number 3.

- Ans 1. at
 2. with
 3. on
 4. in

Question Type : **MCQ**

Question ID : **630680468500**

Option 1 ID : **6306801829800**

Option 2 ID : **6306801829801**

Option 3 ID : **6306801829798**

Option 4 ID : **6306801829799**

Status : **Answered**

Chosen Option : **3**

Comprehension:

In the following passage, some words have been deleted. Read the passage carefully and select the most appropriate option to fill in each blank.

Indian villages showcase the country's rich culture and customs. Most Indians live in villages, (1)_____ agriculture, modest living and close-knit communities are the norms. Villagers wake up to roosters crowing and farm (2)_____ day. Farming is the main employment, and generations labour (3)_____ the same land. Traditions, communal events and a slower pace (4)_____ village life from metropolitan life. Villagers' togetherness and shared duty make it part of India's identity, (5)_____ the lack of contemporary conveniences.

SubQuestion No : 24

Q.24 Select the most appropriate option to fill in blank number 4.

- Ans 1. distinguish
 2. balance
 3. compare
 4. equate

Question Type : **MCQ**

Question ID : **630680468501**

Option 1 ID : **6306801829802**

Option 2 ID : **6306801829804**

Option 3 ID : **6306801829805**

Option 4 ID : **6306801829803**

Status : **Answered**

Chosen Option : **3**

Comprehension:

In the following passage, some words have been deleted. Read the passage carefully and select the most appropriate option to fill in each blank.

Indian villages showcase the country's rich culture and customs. Most Indians live in villages, (1)_____ agriculture, modest living and close-knit communities are the norms. Villagers wake up to roosters crowing and farm (2)_____ day. Farming is the main employment, and generations labour (3)_____ the same land. Traditions, communal events and a slower pace (4)_____ village life from metropolitan life. Villagers' togetherness and shared duty make it part of India's identity, (5)_____ the lack of contemporary conveniences.

SubQuestion No : 25

Q.25 Select the most appropriate option to fill in blank number 5.

- Ans** 1. despite
 2. instead of
 3. in spite
 4. beside

Question Type : **MCQ**

Question ID : **630680468502**

Option 1 ID : **6306801829809**

Option 2 ID : **6306801829808**

Option 3 ID : **6306801829807**

Option 4 ID : **6306801829806**

Status : **Answered**

Chosen Option : **2**