

## Multi Tasking Non Technical Staff and Havaladar CBIC and CBN Examination 2024

Roll Number	
Candidate Name	
Venue Name	Intrepid Cybertronics Private Limited
Exam Date	07/10/2024
Exam Time	9:00 AM - 11:00 AM
Subject	MTS Non Tech Havaladar CBIC and CBN Examination 2024

### Section : Numerical and Mathematical Ability

Q.1 12 पुरुषों की औसत आयु में 6 वर्ष की वृद्धि तब हो जाती है, जब उनमें से 36, 40 और 44 वर्ष आयु वाले तीन पुरुषों के स्थान पर 3 अन्य व्यक्ति आ जाते हैं। 3 व्यक्तियों की औसत आयु कितनी है?

- Ans
- 1. 58 वर्ष
  - 2. 50 वर्ष
  - 3. 64 वर्ष
  - 4. 67 वर्ष

Question Type : MCQ

Question ID : 630680468853

Option 1 ID : 6306801831188

Option 2 ID : 6306801831187

Option 3 ID : 6306801831189

Option 4 ID : 6306801831190

Status : Not Answered

Chosen Option : --

Q.2 एक विक्रेता दूध में पानी मिलाकर और इस मिश्रण को क्रय मूल्य पर बेचकर 25% लाभ प्राप्त करना चाहता है। मिश्रण में पानी और दूध का अनुपात ज्ञात करें।

- Ans
- 1. 1 : 4
  - 2. 1 : 5
  - 3. 2 : 7
  - 4. 2 : 5

Question Type : MCQ

Question ID : 630680419653

Option 1 ID : 6306801637105

Option 2 ID : 6306801637107

Option 3 ID : 6306801637108

Option 4 ID : 6306801637106

Status : Answered

Chosen Option : 1

Q.3 यदि 3% और 6% के लाभ पर किसी वस्तु के विक्रय मूल्य के बीच नकद अंतर ₹9 है, तो निम्नलिखित में से कौन सा विकल्प विक्रय मूल्यों के बीच सही अनुपात है?

- Ans  1. 101 : 105  
 2. 103 : 100  
 3. 103 : 106  
 4. 101 : 103

Question Type : MCQ

Question ID : 630680110319

Option 1 ID : 630680427631

Option 2 ID : 630680427633

Option 3 ID : 630680427632

Option 4 ID : 630680427634

Status : Answered

Chosen Option : 3

Q.4 निम्नलिखित तालिका में वर्ष 2007 से 2011 तक तीन कंपनियों A, B और C द्वारा निर्मित मोबाइल फोन की संख्या (हजार में) दर्शाई गई है।

वर्ष/कंपनी का नाम	A	B	C
2007	450	650	540
2008	310	820	950
2009	1090	1080	1150
2010	1675	1700	1500
2011	2532	2120	2420

किस कंपनी ने और किस वर्ष में अन्य सभी कंपनियों की तुलना में सबसे अधिक मोबाइल फोन का निर्माण किया?

- Ans  1. कंपनी A ने, 2010 में  
 2. कंपनी C ने, 2011 में  
 3. कंपनी A ने, 2011 में  
 4. कंपनी B ने, 2009 में

Question Type : MCQ

Question ID : 630680523738

Option 1 ID : 6306802047104

Option 2 ID : 6306802047103

Option 3 ID : 6306802047106

Option 4 ID : 6306802047105

Status : Answered

Chosen Option : 3

Q.5 ₹2,380 की राशि को दो भागों में उधार दिया जाता है, एक 25% वार्षिक पर और दूसरी 20% वार्षिक पर। यदि कुल वार्षिक आय ₹500 है, तो 25% की दर पर उधार दी गई राशि (₹ में) ज्ञात कीजिए।

- Ans
- 1. 240
  - 2. 560
  - 3. 480
  - 4. 320

Question Type : MCQ  
Question ID : 630680402915  
Option 1 ID : 6306801571249  
Option 2 ID : 6306801571252  
Option 3 ID : 6306801571251  
Option 4 ID : 6306801571250  
Status : Answered  
Chosen Option : 3

Q.6 4 वर्षों के लिए 6% वार्षिक की ब्याज दर पर उधार ली गई राशि ₹3000 पर साधारण ब्याज (₹ में) ज्ञात कीजिए।

- Ans
- 1. 660
  - 2. 680
  - 3. 720
  - 4. 760

Question Type : MCQ  
Question ID : 630680591940  
Option 1 ID : 6306802316229  
Option 2 ID : 6306802316230  
Option 3 ID : 6306802316227  
Option 4 ID : 6306802316228  
Status : Answered  
Chosen Option : 3

Q.7 84 और 108 का महत्तम समापवर्तक \_\_\_\_\_ है।

- Ans
- 1. 16
  - 2. 8
  - 3. 6
  - 4. 12

Question Type : MCQ  
Question ID : 63068085705  
Option 1 ID : 630680332283  
Option 2 ID : 630680332281  
Option 3 ID : 630680332280  
Option 4 ID : 630680332282  
Status : Answered  
Chosen Option : 4

Q.8 6 वर्षों के लिए 9% वार्षिक की ब्याज दर पर उधार ली गई राशि ₹2500 पर साधारण ब्याज (₹ में) ज्ञात कीजिए।

Ans  1. 1350

2. 1310

3. 1390

4. 1290

Question Type : MCQ

Question ID : 630680591922

Option 1 ID : 6306802316155

Option 2 ID : 6306802316158

Option 3 ID : 6306802316156

Option 4 ID : 6306802316157

Status : Answered

Chosen Option : 1

Q.9 यदि एक गोले का आयतन और पृष्ठीय क्षेत्रफल संख्यात्मक रूप से समान हैं, तो इसके अर्ध-गोले का आयतन ( $\text{cm}^3$  में) ज्ञात कीजिए। (दशमलव के दो स्थानों तक सही,  $\pi = 3.14$  का उपयोग कीजिए)

Ans  1. 65.25

2. 56.52

3. 65.52

4. 56.25

Question Type : MCQ

Question ID : 630680526607

Option 1 ID : 6306802058494

Option 2 ID : 6306802058497

Option 3 ID : 6306802058496

Option 4 ID : 6306802058495

Status : Answered

Chosen Option : 2

Q.10 एक व्यक्ति क्रमशः 3 km/hr, 4 km/hr और 8 km/hr की चाल से समान दूरियां तय करता है और कुल मिलाकर 425 मिनट लेता है। उसके द्वारा तय की गई कुल दूरी (km में) कितनी है?

Ans  1. 32

2. 28

3. 30

4. 27

Question Type : MCQ

Question ID : 630680630909

Option 1 ID : 6306802469589

Option 2 ID : 6306802469590

Option 3 ID : 6306802469591

Option 4 ID : 6306802469588

Status : Answered

Chosen Option : 3

Q.11 एक अर्धगोलाकार कटोरा किनारे पर 264 cm गोल है। मान लीजिए कि यह कटोरा पेय पदार्थ से आधा भरा हुआ है। यदि पेय पदार्थ शीर्ष पर 6 cm व्यास वाले अर्धगोलाकार गिलास में परोसा जाता है, तो यह कितने व्यक्तियों को परोसा जाएगा?

Ans  1. 1470

2. 1372

3. 1270

4. 1170

Question Type : MCQ

Question ID : 630680386656

Option 1 ID : 6306801507336

Option 2 ID : 6306801507335

Option 3 ID : 6306801507337

Option 4 ID : 6306801507334

Status : Answered

Chosen Option : 2

Q.12 32 महिलाओं के एक समूह की औसत आयु 60 वर्ष है और 40 पुरुषों के एक दूसरे समूह की औसत आयु 33 वर्ष है। दोनों समूहों की मिलाकर औसत आयु ज्ञात कीजिए।

Ans  1. 46.5 वर्ष

2. 48 वर्ष

3. 42 वर्ष

4. 45 वर्ष

Question Type : MCQ

Question ID : 630680447472

Option 1 ID : 6306801747143

Option 2 ID : 6306801747141

Option 3 ID : 6306801747144

Option 4 ID : 6306801747142

Status : Answered

Chosen Option : 4

Q.13 विद्यार्थी परिषद के चुनाव में तीन प्रत्याशी थे। सभी मतदाताओं ने मतदान में भाग लिया और 10% मत अवैध घोषित कर दिए गए। प्रत्याशियों को 8 : 7 : 5 के अनुपात में मत मिले। यदि सूची में दूसरे उम्मीदवार को 4725 मत मिले, तो वैध मतों की कुल संख्या क्या है?

Ans  1. 11,500

2. 9,000

3. 13,500

4. 10,000

Question Type : MCQ

Question ID : 630680464533

Option 1 ID : 6306801814170

Option 2 ID : 6306801814167

Option 3 ID : 6306801814169

Option 4 ID : 6306801814168

Status : Answered

Chosen Option : 3

Q.14 दो बर्तन, A और B में स्फिरिट और पानी का अनुपात क्रमशः 3 : 4 और 5 : 3 है। बर्तन C में 4 : 3 के अनुपात में स्फिरिट और पानी युक्त एक नया मिश्रण प्राप्त करने के लिए इन दोनों मिश्रणों को किस अनुपात में मिलाया जाना चाहिए।

Ans  1. 3 : 8

2. 5 : 8

3. 3 : 7

4. 4 : 7

Question Type : MCQ

Question ID : 630680449422

Option 1 ID : 6306801754816

Option 2 ID : 6306801754815

Option 3 ID : 6306801754813

Option 4 ID : 6306801754814

Status : Answered

Chosen Option : 1

Q.15 स्थिर जल में एक नाव की चाल 15 km/h है और धारा की चाल 3 km/h है। धारा के अनुकूल 12 मिनट में कितनी दूरी (km में) तय की जा सकती है?

Ans  1. 3.4

2. 3.5

3. 3.6

4. 3.7

Question Type : MCQ

Question ID : 630680120234

Option 1 ID : 630680465970

Option 2 ID : 630680465971

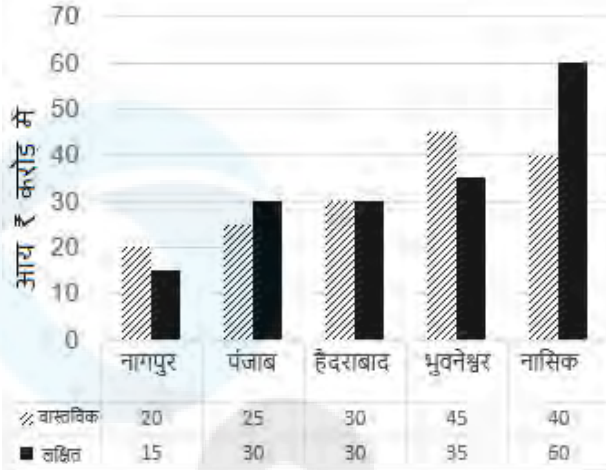
Option 3 ID : 630680465972

Option 4 ID : 630680465973

Status : Answered

Chosen Option : 3

Q.16 निम्नलिखित ग्राफ एक उद्योग की पांच अलग-अलग शाखाओं में वास्तविक और लक्षित आय (करोड़ में) को दर्शाता है। ग्राफ का अध्ययन कीजिए और प्रश्न का उत्तर दीजिए:



सभी शाखाओं की कुल वास्तविक आय और कुल लक्षित आय का अनुपात क्या है?

- Ans
- 1. 13 : 14
  - 2. 17 : 16
  - 3. 14 : 13
  - 4. 16 : 17

Question Type : MCQ

Question ID : 630680397706

Option 1 ID : 6306801550783

Option 2 ID : 6306801550781

Option 3 ID : 6306801550784

Option 4 ID : 6306801550782

Status : Answered

Chosen Option : 4

Q.17 राजू ने 4 लैपटॉप को कुल मिलाकर ₹1,54,005 में बेचा और उसे 25% की हानि हुई। 25% का लाभ अर्जित करने के लिए उसे लैपटॉप को कितने में बेचना चाहिए?

- Ans
- 1. ₹2,31,007.5
  - 2. ₹2,25,820
  - 3. ₹2,05,340
  - 4. ₹2,56,675

Question Type : MCQ

Question ID : 630680404999

Option 1 ID : 6306801579461

Option 2 ID : 6306801579462

Option 3 ID : 6306801579460

Option 4 ID : 6306801579459

Status : Answered

Chosen Option : 4

Q.18 14 cm त्रिज्या वाले उस वृत्त के शेष भाग का क्षेत्रफल क्या होगा, जब उसमें उत्कीर्ण किए गए (inscribed) अधिकतम संभावित क्षेत्रफल वाले वर्ग को उसमें से निकालकर अलग कर दिया जाता है? ( $\pi = 22/7$  का उपयोग करें)

- Ans
- 1.  $616 \text{ cm}^2$
  - 2.  $224 \text{ cm}^2$
  - 3.  $518 \text{ cm}^2$
  - 4.  $520 \text{ cm}^2$

Question Type : MCQ

Question ID : 630680103875

Option 1 ID : 630680403718

Option 2 ID : 630680403715

Option 3 ID : 630680403716

Option 4 ID : 630680403717

Status : Answered

Chosen Option : 2

Q.19 एक फ्लिडिंग बेड का अंकित मूल्य ₹18,000 है। अमन ने इसे 15% और 10% की दो क्रमिक छूट के बाद खरीदा। उसने परिवहन पर ₹830 व्यय किए और इसे ₹18,440 में बेच दिया। उसका लाभ ज्ञात कीजिए।

- Ans
- 1. ₹3,539
  - 2. ₹2,869
  - 3. ₹3,148
  - 4. ₹3,840

Question Type : MCQ

Question ID : 630680615722

Option 1 ID : 6306802409560

Option 2 ID : 6306802409558

Option 3 ID : 6306802409559

Option 4 ID : 6306802409561

Status : Answered

Chosen Option : 4

Q.20 सुरेंद्र ने ₹2,500 में एक पुरानी साइकिल खरीदी और उसकी मरम्मत पर ₹300 खर्च किए। उसने इसे ₹3,000 में बेच दिया। उसका लाभ प्रतिशत ज्ञात कीजिए।

- Ans
- 1.  $11\frac{2}{3}\%$
  - 2.  $7\frac{5}{9}\%$
  - 3.  $13\frac{4}{11}\%$
  - 4.  $7\frac{1}{7}\%$

Question Type : MCQ

Question ID : 630680476109

Option 1 ID : 6306801859696

Option 2 ID : 6306801859697

Option 3 ID : 6306801859698

Option 4 ID : 6306801859695

Status : Answered

Chosen Option : 4

Section : Reasoning Ability and Problem Solving

Q.1 एक निश्चित कूट भाषा में, 'father makes tea' को 'ib fx ey' के रूप में कूटबद्ध किया जाता है और 'tea and coffee' को 'kr ey wn' के रूप में कूटबद्ध किया जाता है। दी गई भाषा में 'tea' को किस प्रकार कूटबद्ध किया गया है?

- Ans
- 1. kr
  - 2. wn
  - 3. fx
  - 4. ey

Question Type : MCQ

Question ID : 630680436321

Option 1 ID : 6306801703228

Option 2 ID : 6306801703227

Option 3 ID : 6306801703225

Option 4 ID : 6306801703226

Status : Answered

Chosen Option : 4

Q.2 दिए गए कथनों और निष्कर्षों को ध्यानपूर्वक पढ़ें। यह मानते हुए कि कथनों में दी गई जानकारी सत्य है, भले ही यह सामान्यतः ज्ञात तथ्यों से भिन्न प्रतीत होती हो, तब कीजिए कि दिए गए निष्कर्षों में से कौन-सा/कौन-से निष्कर्ष इन कथनों का तार्किक रूप से अनुसरण करता है/करते हैं।

कथन:

कुछ पतंगें, चट्टानें हैं।  
सभी चट्टानें, पत्थर हैं।

निष्कर्ष:

(I) कम से कम कुछ पतंगें, पत्थर हैं।  
(II) सभी पत्थर, चट्टानें हैं।

- Ans
- 1. निष्कर्ष (I) और (II) दोनों अनुसरण करते हैं।
  - 2. न तो निष्कर्ष (I) और न ही (II) अनुसरण करता है।
  - 3. केवल निष्कर्ष (II) अनुसरण करता है।
  - 4. केवल निष्कर्ष (I) अनुसरण करता है।

Question Type : MCQ

Question ID : 630680410611

Option 1 ID : 6306801601203

Option 2 ID : 6306801601202

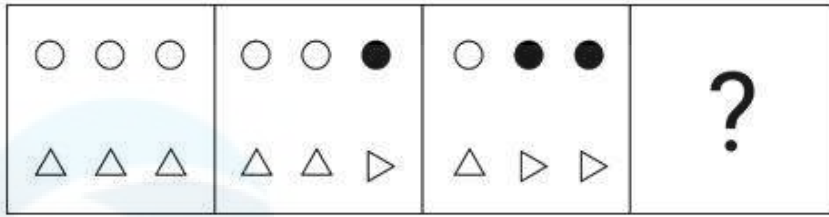
Option 3 ID : 6306801601200

Option 4 ID : 6306801601201

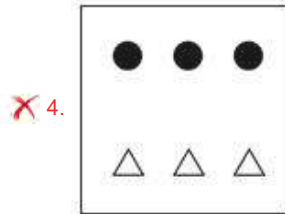
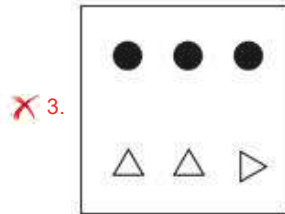
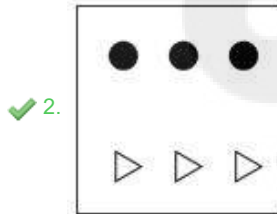
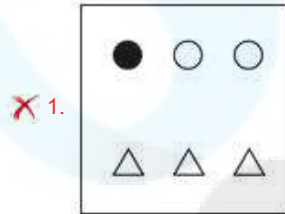
Status : Answered

Chosen Option : 4

Q.3 विकल्पों में दी गई उस आकृति की पहचान कीजिए जिसे (?) के स्थान पर रखने पर श्रृंखला तार्किक रूप से पूर्ण हो जाएगी।



Ans



Question Type : MCQ

Question ID : 630680274002

Option 1 ID : 6306801064530

Option 2 ID : 6306801064528

Option 3 ID : 6306801064529

Option 4 ID : 6306801064527

Status : Answered

Chosen Option : 2

Q.4 यदि '+' और 'x' को आपस में बदल दिया जाए तथा '-' और '-' को आपस में बदल दिया जाए, तो निम्नलिखित समीकरण में प्रश्न-चिह्न (?) के स्थान पर क्या आएगा?  
 $15 \div 5 + 8 - 4 \times 7 = ?$

Ans  1. 25

2. 12

3. 22

4. 18

Question Type : MCQ

Question ID : 630680388205

Option 1 ID : 6306801513385

Option 2 ID : 6306801513382

Option 3 ID : 6306801513384

Option 4 ID : 6306801513383

Status : Answered

Chosen Option : 2

Q.5 M, N, O, P, Q और R एक वृत्ताकार मेज के चारों ओर केंद्र की ओर मुख करके बैठे हैं (परंतु जरूरी नहीं कि वे इसी क्रम में बैठे हों)। N, R के ठीक दाएँ बैठा है। M, N के दाएँ से दूसरे स्थान पर बैठा है। P, M के दाएँ से दूसरे स्थान पर बैठा है। O, P के दाएँ से तीसरे स्थान पर बैठा है। Q के ठीक दाएँ कौन बैठा है?

Ans  1. M

2. O

3. R

4. P

Question Type : MCQ

Question ID : 630680386836

Option 1 ID : 6306801508056

Option 2 ID : 6306801508054

Option 3 ID : 6306801508057

Option 4 ID : 6306801508055

Status : Answered

Chosen Option : 4

Q.6 FI29 एक निश्चित प्रकार से TW49 से संबंधित है। ठीक उसी प्रकार LO38, ZC58 से संबंधित है। समान तर्क का अनुसरण करते हुए, RU65 निम्नलिखित में से किससे संबंधित है?

Ans  1. FI85

2. EF58

3. IF58

4. FE85

Question Type : MCQ

Question ID : 6306801108791

Option 1 ID : 6306804355713

Option 2 ID : 6306804355712

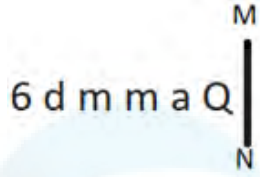
Option 3 ID : 6306804355711

Option 4 ID : 6306804355710

Status : Not Answered

Chosen Option : --

Q.7 यदि दर्पण को नीचे दर्शाए गए अनुसार MN पर रखा जाए, तो दी गई आकृति के सही दर्पण प्रतिबिंब का चयन कीजिए।



- Ans
- 1. 9 6 m m 6 d
  - 2. 9 e w w e q
  - 3. 9 6 m m b a
  - 4. 9 6 w w b a

Question Type : MCQ

Question ID : 630680525306

Option 1 ID : 6306802053310

Option 2 ID : 6306802053311

Option 3 ID : 6306802053309

Option 4 ID : 6306802053308

Status : Answered

Chosen Option : 4

Q.8 अंग्रेजी वर्णानुक्रम के आधार पर PLRN एक निश्चित प्रकार से QMSO से संबंधित है। ठीक उसी प्रकार LHNJ, MIOK से संबंधित है। समान तर्क का अनुसरण करते हुए HDJF निम्नलिखित में से किससे संबंधित है?

- Ans
- 1. IEKG
  - 2. EIKG
  - 3. IEGK
  - 4. EIGK

Question Type : MCQ

Question ID : 630680435884

Option 1 ID : 6306801701485

Option 2 ID : 6306801701487

Option 3 ID : 6306801701486

Option 4 ID : 6306801701488

Status : Answered

Chosen Option : 1

Q.9 यदि '+' और '-' को आपस में बदल दिया जाए तथा 'x' और '÷' को आपस में बदल दिया जाए, तो निम्नलिखित समीकरण में '?' के स्थान पर क्या आएगा?  
 $8 + 2 - 1 \times 1 \div 1 = ?$

Ans  1. 7

2. 3

3. 5

4. 10

Question Type : MCQ

Question ID : 630680395195

Option 1 ID : 6306801541014

Option 2 ID : 6306801541012

Option 3 ID : 6306801541013

Option 4 ID : 6306801541015

Status : Answered

Chosen Option : 1

Q.10 अंग्रेजी वर्णानुक्रम के आधार पर दी गई श्रृंखला में प्रश्न चिह्न (?) के स्थान पर क्या आना चाहिए?

GGB, HHD, IKH, JPN, ?

Ans  1. OWV

2. KWV

3. OUV

4. PUV

Question Type : MCQ

Question ID : 630680443473

Option 1 ID : 6306801731268

Option 2 ID : 6306801731270

Option 3 ID : 6306801731269

Option 4 ID : 6306801731271

Status : Answered

Chosen Option : 2

Q.11 निम्नलिखित संख्या-युग्मों में, प्रथम संख्या पर कुछ गणितीय संक्रियाएँ करके दूसरी संख्या प्राप्त की जाती है। उस समुच्चय का चयन कीजिए जिसमें संख्याएँ ठीक उसी प्रकार संबंधित हैं जिस प्रकार निम्नलिखित समुच्चयों की संख्याएँ संबंधित हैं।

(ध्यान दें: संख्याओं को उनके घटक अंकों में अलग-अलग किए बिना पूर्ण संख्याओं पर संक्रियाएँ की जानी चाहिए। उदाहरण के लिए संख्या 13 - संख्या 13 पर संक्रियाएँ जैसे 13 को जोड़ना/घटाना/गुणा करना आदि किया जा सकता है। 13 को 1 और 3 में अलग-अलग करने की और फिर 1 और 3 पर गणितीय संक्रियाएँ करने की अनुमति नहीं है।)

24, 73  
27, 82

- Ans
- 1. 32, 100
  - 2. 33, 101
  - 3. 33, 100
  - 4. 32, 101

Question Type : MCQ

Question ID : 6306801027594

Option 1 ID : 6306804033067

Option 2 ID : 6306804033066

Option 3 ID : 6306804033065

Option 4 ID : 6306804033068

Status : Answered

Chosen Option : 3

Q.12 निम्नलिखित श्रृंखला में प्रश्न चिह्न (?) के स्थान पर क्या आना चाहिए?

1, 17, 33, 49, 65, ?

- Ans
- 1. 79
  - 2. 77
  - 3. 80
  - 4. 81

Question Type : MCQ

Question ID : 630680396939

Option 1 ID : 6306801547823

Option 2 ID : 6306801547822

Option 3 ID : 6306801547821

Option 4 ID : 6306801547820

Status : Answered

Chosen Option : 4

Q.13 दिए गए कथनों और निष्कर्षों को ध्यानपूर्वक पढ़िए। यह मानते हुए कि कथनों में दी गई जानकारी सत्य है, चाहे वह सामान्यतः ज्ञात तथ्यों से भिन्न प्रतीत होती हो और निर्णय लीजिए कि दिए गए निष्कर्षों में से कौन-सा/कौन-से निष्कर्ष कथनों का तार्किक रूप से अनुसरण करता है/करते हैं।

कथन:

सभी ग्रह, चट्टानें हैं।  
सभी चट्टानें, झीलें हैं।

निष्कर्ष:

(I) सभी ग्रह, झीलें हैं।  
(II) सभी चट्टानें, ग्रह हैं।

- Ans
- 1. न तो निष्कर्ष (I) और न ही निष्कर्ष (II) अनुसरण करता है
  - 2. केवल निष्कर्ष (I) अनुसरण करता है
  - 3. केवल निष्कर्ष (II) अनुसरण करता है
  - 4. निष्कर्ष (I) और निष्कर्ष (II), दोनों अनुसरण करते हैं

Question Type : MCQ

Question ID : 630680413281

Option 1 ID : 6306801611942

Option 2 ID : 6306801611939

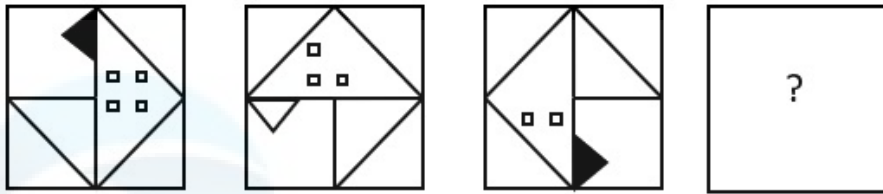
Option 3 ID : 6306801611940

Option 4 ID : 6306801611941

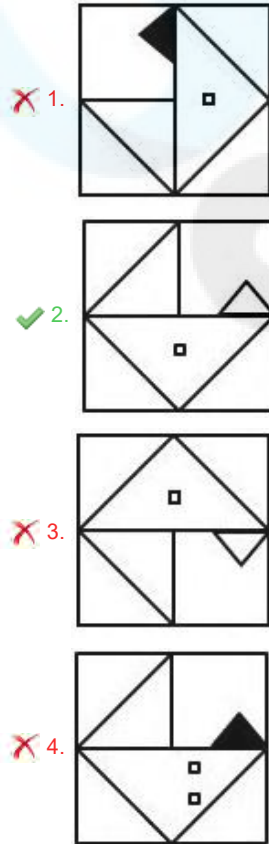
Status : Answered

Chosen Option : 2

Q.14 विकल्पों में दी गई उस आकृति की पहचान कीजिए, जिसे प्रश्न-चिह्न (?) के स्थान पर रखने पर श्रृंखला तार्किक रूप से पूर्ण हो जाएगी।



Ans



Question Type : MCQ

Question ID : 630680276829

Option 1 ID : 6306801075814

Option 2 ID : 6306801075812

Option 3 ID : 6306801075813

Option 4 ID : 6306801075811

Status : Answered

Chosen Option : 2

Q.15 एक निश्चित कूट भाषा में, 'MOVE' को '3917' के रूप में कूटबद्ध किया जाता है और 'EAST' को '4692' के रूप में कूटबद्ध किया जाता है। दी गई कूट भाषा में 'E' के लिए कूट क्या है?

Ans  1. 7

2. 4

3. 9

4. 2

Question Type : MCQ

Question ID : 630680387974

Option 1 ID : 6306801512512

Option 2 ID : 6306801512511

Option 3 ID : 6306801512510

Option 4 ID : 6306801512513

Status : Answered

Chosen Option : 3

Q.16 सात सहेलियां, कमला, रवीना, अमृता, निशा, गौतमी, भावना और त्रिवेणी, एक वृत्ताकार खाने की मेज के चारों ओर केंद्र की ओर मुख करके बैठी हैं (परंतु जरूरी नहीं कि वे इसी क्रम में बैठी हों)। रवीना, निशा के दाएं से दूसरे स्थान पर बैठी है। गौतमी की निकटतम पड़ोसी कमला और त्रिवेणी हैं। त्रिवेणी, निशा के बाएं से तीसरे स्थान पर बैठी है। अमृता, निशा की निकटतम पड़ोसी नहीं है। भावना के बाएं से चौथे स्थान पर कौन बैठा है?

Ans  1. निशा

2. त्रिवेणी

3. कमला

4. रवीना

Question Type : MCQ

Question ID : 630680386914

Option 1 ID : 6306801508367

Option 2 ID : 6306801508368

Option 3 ID : 6306801508369

Option 4 ID : 6306801508366

Status : Not Answered

Chosen Option : --

Q.17 519, एक निश्चित तर्क का अनुसरण करते हुए 781 से संबंधित है। 642, उसी तर्क का अनुसरण करते हुए 904 से संबंधित है। समान तर्क का अनुसरण करते हुए 485, निम्नलिखित में से किससे संबंधित है?

(ध्यान दें: संख्याओं को उनके घटक अंकों में अलग-अलग किए बिना पूर्ण संख्याओं पर संक्रियाएं की जानी चाहिए। उदाहरण के लिए संख्या 13 - संख्या 13 पर संक्रियाएं जैसे 13 को जोड़ना/घटाना/गुणा करना आदि किया जा सकता है। 13 को 1 और 3 में अलग-अलग करने की और फिर 1 और 3 पर गणितीय संक्रियाएं करने की अनुमति नहीं है।)

Ans  1. 794

2. 747

3. 721

4. 756

Question Type : MCQ

Question ID : 630680449089

Option 1 ID : 6306801753517

Option 2 ID : 6306801753516

Option 3 ID : 6306801753514

Option 4 ID : 6306801753515

Status : Answered

Chosen Option : 2

Q.18 एक निश्चित कूट भाषा में, 'FLOAT' को '14238' के रूप में कूटबद्ध किया जाता है और 'BLOAT' को '23849' के रूप में कूटबद्ध किया जाता है। इसी कूट भाषा में 'F' के लिए कूट क्या होगा?

Ans  1. 1

2. 2

3. 9

4. 4

Question Type : MCQ

Question ID : 630680377757

Option 1 ID : 6306801472087

Option 2 ID : 6306801472089

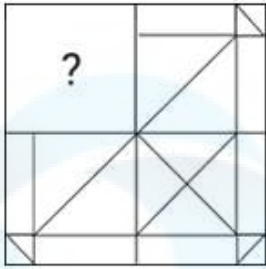
Option 3 ID : 6306801472088

Option 4 ID : 6306801472090

Status : Answered

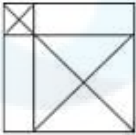
Chosen Option : 1

Q.19 उस विकल्प आकृति का चयन कीजिए जो पैटर्न को पूरा करने के लिए नीचे दी गई आकृति में प्रश्न चिह्न (?) के स्थान पर आएगी।

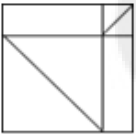


Ans

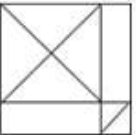
1.



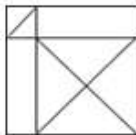
2.



3.



4.



Question Type : MCQ

Question ID : 630680525778

Option 1 ID : 6306802055199

Option 2 ID : 6306802055196

Option 3 ID : 6306802055197

Option 4 ID : 6306802055198

Status : Answered

Chosen Option : 4

Q.20 एक निश्चित कूट भाषा में, 'GIFT' को '5197' के रूप में कूटबद्ध किया जाता है और 'FIST' को '4157' के रूप में कूटबद्ध किया जाता है। इसी भाषा में 'S' के लिए कूट क्या होगा?

Ans  1. 4

2. 1

3. 9

4. 5

Question Type : MCQ

Question ID : 630680465156

Option 1 ID : 6306801816661

Option 2 ID : 6306801816659

Option 3 ID : 6306801816662

Option 4 ID : 6306801816660

Status : Answered

Chosen Option : 1

Section : General Awareness

Q.1 हर्षवर्धन राज्यश्री की बहन का विवाह कान्यकुब्ज (Kanyakubja) के मौखरी वंश के राजा के साथ हुआ था।

- Ans
- 1. शशांक (Sasanka)
  - 2. ग्रहवर्मन (Grahavarman)
  - 3. इसनवर्मन (Isanavarman)
  - 4. देवगुप्त (Devagupta)

Question Type : MCQ  
Question ID : 63068069633  
Option 1 ID : 630680269201  
Option 2 ID : 630680269200  
Option 3 ID : 630680269198  
Option 4 ID : 630680269199  
Status : Answered  
Chosen Option : 4

Q.2 जब खमीर शर्करा को किण्वित करता है तो ब्रेड में खमीरीकरण प्रभाव (leavening effect) मुख्य रूप से किस गैस के कारण होता है?

- Ans
- 1. ऑक्सीजन
  - 2. नाइट्रोजन
  - 3. हीलियम
  - 4. कार्बन डाइऑक्साइड

Question Type : MCQ  
Question ID : 630680412072  
Option 1 ID : 6306801607123  
Option 2 ID : 6306801607124  
Option 3 ID : 6306801607126  
Option 4 ID : 6306801607125  
Status : Answered  
Chosen Option : 4

Q.3 10 अक्टूबर 2023 तक की स्थिति के अनुसार, निम्नलिखित में से कौन राज्यसभा का पदेन सभापति (ex-officio Chairperson) है?

- Ans
- 1. जगदीप धनखड़ (Jagdeep Dhankar)
  - 2. वीरेन्द्र कुमार (Virendra Kumar)
  - 3. पीयूष गोयल (Piyush Goyal)
  - 4. प्रकाश जावड़ेकर (Prakash Javdekar)

Question Type : MCQ  
Question ID : 630680407961  
Option 1 ID : 6306801590704  
Option 2 ID : 6306801590705  
Option 3 ID : 6306801590702  
Option 4 ID : 6306801590703  
Status : Answered  
Chosen Option : 1

Q.4 लाइसोसोम (lysosomes) के भीतर पाचन एंजाइम \_\_\_\_\_ द्वारा बनाए जाते हैं।

- Ans
- 1. गॉल्जी उपकरण (Golgi apparatus)
  - 2. स्वयं प्लास्टिड (plastids themselves)
  - 3. सूत्रकणिका (mitochondria)
  - 4. रूक्ष अंतःप्रद्रव्य जालिका (rough endoplasmic reticulum)

Question Type : MCQ  
Question ID : 630680422170  
Option 1 ID : 6306801647118  
Option 2 ID : 6306801647117  
Option 3 ID : 6306801647119  
Option 4 ID : 6306801647116  
Status : Answered  
Chosen Option : 1

Q.5 2011 की भारतीय जनगणना के लिए भारत के महापंजीयक और जनगणना आयुक्त कौन थे?

- Ans
- 1. देवेन्द्र कुमार सीकरी
  - 2. डॉ. सी. चंद्रमौली
  - 3. विवेक जोशी
  - 4. जयंत कुमार बंठिया

Question Type : MCQ  
Question ID : 630680120201  
Option 1 ID : 630680465840  
Option 2 ID : 630680465841  
Option 3 ID : 630680465838  
Option 4 ID : 630680465839  
Status : Answered  
Chosen Option : 1

Q.6 निम्नलिखित में से कौन-सा विकल्प भारतीय नागरिकों के मौलिक कर्तव्यों के लक्ष्यों से संबंधित नहीं है?

- Ans
- 1. साहस (Courage)
  - 2. आदर (Respect)
  - 3. संरक्षित करना (Preserve)
  - 4. संजोना (Cherish)

Question Type : MCQ  
Question ID : 630680270101  
Option 1 ID : 6306801049658  
Option 2 ID : 6306801049655  
Option 3 ID : 6306801049657  
Option 4 ID : 6306801049656  
Status : Answered  
Chosen Option : 4

Q.7 जनगणना 2011 के अनुसार भारत का लिंगानुपात कितना है?

Ans  1. 950

2. 943

3. 933

4. 998

Question Type : MCQ

Question ID : 630680302676

Option 1 ID : 6306801177373

Option 2 ID : 6306801177372

Option 3 ID : 6306801177370

Option 4 ID : 6306801177371

Status : Answered

Chosen Option : 2

Q.8 13वीं शताब्दी का वह प्रसिद्ध विनीशियन (Venetian) यात्री कौन था, जिसने केरल की यात्रा की थी?

Ans  1. निकोलो कोंटी

2. अब्दुर रज्जाक

3. मार्को पोलो

4. बारथेमा

Question Type : MCQ

Question ID : 630680309307

Option 1 ID : 6306801203385

Option 2 ID : 6306801203386

Option 3 ID : 6306801203387

Option 4 ID : 6306801203388

Status : Answered

Chosen Option : 3

Q.9 इंदिरा गांधी नहर (Indira Gandhi Canal) से निम्नलिखित में से किस राज्य को लाभ हुआ?

Ans  1. गुजरात

2. राजस्थान

3. मध्य प्रदेश

4. उत्तर प्रदेश

Question Type : MCQ

Question ID : 630680484450

Option 1 ID : 6306801892123

Option 2 ID : 6306801892125

Option 3 ID : 6306801892122

Option 4 ID : 6306801892124

Status : Answered

Chosen Option : 2

Q.10 किस तमिल सुपरस्टार ने 2 फरवरी 2024 को 'पिरप्पोक्कुम एल्ला उयिरक्कुम' (जन्म से सभी समान हैं) के नारे के साथ तमिलनाडु और पुदुचेरी में तमिलागा वेट्टी कज़गम (Tamilaga Vettri Kazhagam - TVK) राजनीतिक पार्टी की स्थापना की?

- Ans  1. विजय  
 2. रजनीकांत  
 3. कमल हसन  
 4. धनुष

Question Type : MCQ

Question ID : 630680595841

Option 1 ID : 6306802331554

Option 2 ID : 6306802331552

Option 3 ID : 6306802331553

Option 4 ID : 6306802331555

Status : Answered

Chosen Option : 1

Q.11 जब कोई नदी अपने मध्य मार्ग में होती है तो वह नदी निम्नलिखित में से कौन-सा भू-दृश्य (landscape) बनाने में सक्षम होती है?

- Ans  1. झरने (Waterfalls)  
 2. एक डेल्टा (A delta)  
 3. एक विसर्प (A meander)  
 4. V आकार की घाटी (V shaped valley)

Question Type : MCQ

Question ID : 630680404249

Option 1 ID : 6306801576500

Option 2 ID : 6306801576501

Option 3 ID : 6306801576498

Option 4 ID : 6306801576499

Status : Answered

Chosen Option : 3

Q.12 निम्नलिखित में से कौन-सी मंदिर वास्तुकला की वह शैली है जिसे उत्तरी भारत में व्यापक रूप से पसंद किया जाता है?

- Ans  1. नागर  
 2. विहार  
 3. मंडप  
 4. द्रविड़

Question Type : MCQ

Question ID : 630680555036

Option 1 ID : 6306802169722

Option 2 ID : 6306802169721

Option 3 ID : 6306802169720

Option 4 ID : 6306802169723

Status : Answered

Chosen Option : 1

Q.13 निम्नलिखित में से कौन-सा पर्वत शिखर (mountain peak) हिमालय का एक भाग है?

- Ans  1. धूपगढ़ (Dhupgarh)  
 2. तारामती (Taramati)  
 3. कामेट (Kamet)  
 4. कलसूबाई (Kalsubai)

Question Type : MCQ

Question ID : 630680510969

Option 1 ID : 6306801997006

Option 2 ID : 6306801997009

Option 3 ID : 6306801997007

Option 4 ID : 6306801997008

Status : Answered

Chosen Option : 3

Q.14 \_\_\_\_\_ भारतीय लोक और आदिवासी नृत्य के साथ संयुक्त करके भारतीय शास्त्रीय नृत्य में यूरोपीय नाट्य तकनीकों को अपनाकर मिश्रित (fusion) कला बनाने के लिए प्रसिद्ध थे।

- Ans  1. केलुचरण महापात्र  
 2. गुरु बिपिन सिंह  
 3. उदय शंकर  
 4. बिरजू महाराज

Question Type : MCQ

Question ID : 630680433363

Option 1 ID : 6306801691420

Option 2 ID : 6306801691421

Option 3 ID : 6306801691422

Option 4 ID : 6306801691419

Status : Answered

Chosen Option : 1

Q.15 पंडित अरविंद थत्ते (Pandit Arvind Thatte) निम्नलिखित में से किस घराने से संबंधित हैं?

- Ans  1. आगरा घराना  
 2. मेवाती घराना  
 3. इंदौर घराना  
 4. बनारस घराना

Question Type : MCQ

Question ID : 630680488134

Option 1 ID : 6306801906595

Option 2 ID : 6306801906598

Option 3 ID : 6306801906596

Option 4 ID : 6306801906597

Status : Not Answered

Chosen Option : --

Q.16 निम्नलिखित में से किसने 5 मार्च, 1931 को लॉर्ड इरविन के साथ एक संधि पर हस्ताक्षर किए?

- Ans  1. महात्मा गाँधी  
 2. सुभाष चंद्र बोस  
 3. जवाहर लाल नेहरू  
 4. बी आर अम्बेडकर

Question Type : **MCQ**  
Question ID : **630680282906**  
Option 1 ID : **6306801099756**  
Option 2 ID : **6306801099757**  
Option 3 ID : **6306801099755**  
Option 4 ID : **6306801099758**  
Status : **Answered**  
Chosen Option : 1

Q.17 आरक्षित नकदी निधि अनुपात क्या है?

- Ans  1. जमा का प्रतिशत जो केंद्रीय बैंक को सरकार के पास आरक्षित नकदी निधि के रूप में रखना चाहिए  
 2. जमा का प्रतिशत जो एक बैंक को किसी भी बैंक के पास आरक्षित नकदी निधि के रूप में रखना चाहिए  
 3. जमा का प्रतिशत जो केंद्रीय बैंक को किसी बैंक के पास आरक्षित नकदी निधि के रूप में रखना चाहिए  
 4. जमा का प्रतिशत जो किसी बैंक को केंद्रीय बैंक के पास आरक्षित नकदी निधि के रूप में रखना चाहिए

Question Type : **MCQ**  
Question ID : **63068087934**  
Option 1 ID : **630680341123**  
Option 2 ID : **630680341124**  
Option 3 ID : **630680341121**  
Option 4 ID : **630680341122**  
Status : **Not Answered**  
Chosen Option : --

Q.18 2023 में किस टीम ने महिला एशियाई हॉकी चैंपियंस ट्रॉफी (Women's Asian Hockey Champions Trophy) जीती?

- Ans  1. मलेशिया  
 2. भारत  
 3. जापान  
 4. दक्षिण कोरिया

Question Type : **MCQ**  
Question ID : **630680571115**  
Option 1 ID : **6306802233515**  
Option 2 ID : **6306802233513**  
Option 3 ID : **6306802233514**  
Option 4 ID : **6306802233512**  
Status : **Answered**  
Chosen Option : 2

Q.19 निम्नलिखित में से किस प्रणाली में राजस्व एकत्र करके कंपनी को भुगतान करने का प्रभार जमींदार के स्थान पर ग्राम प्रधान को दिया गया था?

- Ans
- 1. जमींदारी (Zamindari)
  - 2. इक्तादारी (Iqtadari)
  - 3. रैयतवारी (Ryotwari)
  - 4. महलवारी (Mahalwari)

Question Type : MCQ

Question ID : 630680198476

Option 1 ID : 630680769865

Option 2 ID : 630680769866

Option 3 ID : 630680769863

Option 4 ID : 630680769864

Status : Not Answered

Chosen Option : --

Q.20 हीलियम गैस को \_\_\_\_\_ द्वारा द्रव अवस्था में परिवर्तित किया जा सकता है।

- Ans
- 1. आकर्षण का द्विध्रुवीय-द्विध्रुवीय बल (dipole-dipole forces of attraction)
  - 2. द्विध्रुव-प्रेरित द्विध्रुवीय आकर्षण बल (dipole-induced dipole forces of attraction)
  - 3. लंदन आकर्षण बल (London forces of attraction)
  - 4. हाइड्रोजन आबंधन अभिक्रिया (hydrogen bonding interaction)

Question Type : MCQ

Question ID : 630680471266

Option 1 ID : 6306801840803

Option 2 ID : 6306801840804

Option 3 ID : 6306801840802

Option 4 ID : 6306801840805

Status : Answered

Chosen Option : 4

Q.21 1982 में फुटबॉल के नेहरू कप प्रतियोगिता (Nehru Cup event) के उद्घाटन वर्ष में, कौन-सी टीम पहले संस्करण की विजेता बनकर उभरी?

- Ans
- 1. ऑस्ट्रेलिया (Australia)
  - 2. पोलैंड (Poland)
  - 3. उरुग्वे (Uruguay)
  - 4. घाना (Ghana)

Question Type : MCQ

Question ID : 630680547949

Option 1 ID : 6306802142344

Option 2 ID : 6306802142345

Option 3 ID : 6306802142343

Option 4 ID : 6306802142346

Status : Answered

Chosen Option : 3

Q.22 'माई कंट्री माई लाइफ (My Country My Life)' किसकी आत्मकथा है?

- Ans
- 1. नटवर सिंह
  - 2. खुशवंत सिंह
  - 3. लाल कृष्ण आडवाणी
  - 4. मनमोहन सिंह

Question Type : **MCQ**  
Question ID : **630680450245**  
Option 1 ID : **6306801758123**  
Option 2 ID : **6306801758124**  
Option 3 ID : **6306801758126**  
Option 4 ID : **6306801758125**  
Status : **Answered**  
Chosen Option : 2

Q.23 सरहुल (Sarhul) आदिवासियों का कृषि से संबंधित एक त्यौहार है, जो मुख्य रूप से भारत के \_\_\_\_\_ राज्य में मनाया जाता है।

- Ans
- 1. झारखंड
  - 2. सिक्किम
  - 3. गुजरात
  - 4. उत्तराखंड

Question Type : **MCQ**  
Question ID : **630680410373**  
Option 1 ID : **6306801600226**  
Option 2 ID : **6306801600224**  
Option 3 ID : **6306801600225**  
Option 4 ID : **6306801600223**  
Status : **Answered**  
Chosen Option : 1

Q.24 कलामंडलम कृष्णन नायर (Kalamandalam Krishnan Nair) भारत की निम्नलिखित में से किस शास्त्रीय नृत्य शैली में एक जानी-मानी हस्ती थे?

- Ans
- 1. भरतनाट्यम
  - 2. कुचिपुड़ी
  - 3. मोहिनीअट्टम
  - 4. कथकली

Question Type : **MCQ**  
Question ID : **630680546517**  
Option 1 ID : **6306802136640**  
Option 2 ID : **6306802136643**  
Option 3 ID : **6306802136641**  
Option 4 ID : **6306802136642**  
Status : **Answered**  
Chosen Option : 1

Q.25 एस. अब्दुल नज़ीर (S Abdul Nazeer) को फरवरी 2023 में \_\_\_\_\_ का राज्यपाल नियुक्त किया गया था।

Ans  1. आंध्र प्रदेश

2. महाराष्ट्र

3. केरल

4. गोवा

Question Type : MCQ

Question ID : 630680465478

Option 1 ID : 6306801817948

Option 2 ID : 6306801817950

Option 3 ID : 6306801817947

Option 4 ID : 6306801817949

Status : Answered

Chosen Option : 1

Section : English Language and Comprehension

Q.1 The following sentence has been divided into parts. One of them may contain an error. Select the part that contains the error from the given options. If you don't find any error, mark 'No error' as your answer.

My friend, / Priya looks more cheerful today / as she celebrates her birthday.

Ans  1. as she celebrates her birthday

2. My friend,

3. No error

4. Priya looks more cheerful today

Question Type : MCQ

Question ID : 630680629329

Option 1 ID : 6306802463400

Option 2 ID : 6306802463398

Option 3 ID : 6306802463401

Option 4 ID : 6306802463399

Status : Answered

Chosen Option : 1

Q.2 Select the most appropriate option to fill in the blank  
School classrooms have \_\_\_\_\_ very little over the last century.

Ans  1. startled

2. freed

3. changed

4. unconcerned

Question Type : MCQ

Question ID : 630680515233

Option 1 ID : 6306802013398

Option 2 ID : 6306802013400

Option 3 ID : 6306802013399

Option 4 ID : 6306802013397

Status : Answered

Chosen Option : 3

**Q.3 Select the most appropriate ANTONYM of the given word.**

**Entice**

- Ans  1. Allure  
 2. Repulse  
 3. Invite  
 4. Tangle

Question Type : **MCQ**  
Question ID : **630680468751**  
Option 1 ID : **6306801830797**  
Option 2 ID : **6306801830796**  
Option 3 ID : **6306801830798**  
Option 4 ID : **6306801830795**  
Status : **Answered**  
Chosen Option : **1**

**Q.4 Select the most appropriate meaning of the given idiom.**

**Run errands**

- Ans  1. To participate in a race through unfair means  
 2. To do something incorrectly or erroneous in haste  
 3. To finish running before the end point  
 4. To go out to buy or do something

Question Type : **MCQ**  
Question ID : **630680799127**  
Option 1 ID : **6306803131307**  
Option 2 ID : **6306803131306**  
Option 3 ID : **6306803131308**  
Option 4 ID : **6306803131309**  
Status : **Answered**  
Chosen Option : **1**

**Q.5 In the following sentence the underlined part contains an error. Alternatives to the underlined part are given as options. Select the correct alternative.  
The new almirah is big than this one.**

- Ans  1. biggest  
 2. more big  
 3. more bigger  
 4. bigger

Question Type : **MCQ**  
Question ID : **630680514731**  
Option 1 ID : **6306802011551**  
Option 2 ID : **6306802011550**  
Option 3 ID : **6306802011549**  
Option 4 ID : **6306802011552**  
Status : **Answered**  
Chosen Option : **4**

**Q.6** Select the most appropriate option to fill in the blank.  
Leisure activities can improve an individual's physical and mental health by \_\_\_\_\_ stress, and offering a pleasurable experience.

- Ans  1. relieving  
 2. irritating  
 3. upsetting  
 4. reconstructing

Question Type : **MCQ**  
Question ID : **630680515251**  
Option 1 ID : **6306802013470**  
Option 2 ID : **6306802013472**  
Option 3 ID : **6306802013469**  
Option 4 ID : **6306802013471**  
Status : **Answered**  
Chosen Option : 1

**Q.7** Select the INCORRECTLY spelt word.

- Ans  1. Intransigence  
 2. Spouse  
 3. Endangered  
 4. Unambiguous

Question Type : **MCQ**  
Question ID : **630680446815**  
Option 1 ID : **6306801744543**  
Option 2 ID : **6306801744542**  
Option 3 ID : **6306801744541**  
Option 4 ID : **6306801744544**  
Status : **Answered**  
Chosen Option : 1

**Q.8** Select the most appropriate meaning of the underlined idiom.

He gnashed his teeth at his son's actions.

- Ans  1. expressed sadness  
 2. expressed joy  
 3. expressed rage  
 4. expressed disappointment

Question Type : **MCQ**  
Question ID : **630680441757**  
Option 1 ID : **6306801724634**  
Option 2 ID : **6306801724636**  
Option 3 ID : **6306801724635**  
Option 4 ID : **6306801724637**  
Status : **Answered**  
Chosen Option : 4

**Q.9** The following sentence has been split into four segments. Identify the segment that contains an error in phrasal verb.

Tina dropped behind of / college and / went straight / into a good job.

- Ans
- 1. into a good job
  - 2. college and
  - 3. went straight
  - 4. Tina dropped behind of

Question Type : **MCQ**

Question ID : **630680540762**

Option 1 ID : **6306802114089**

Option 2 ID : **6306802114087**

Option 3 ID : **6306802114088**

Option 4 ID : **6306802114086**

Status : **Answered**

Chosen Option : **4**

**Q.10** Select the most appropriate ANTONYM of the given word.

Conscious

- Ans
- 1. Sensible
  - 2. Unaware
  - 3. Secure
  - 4. Sentimental

Question Type : **MCQ**

Question ID : **630680531650**

Option 1 ID : **6306802078395**

Option 2 ID : **6306802078394**

Option 3 ID : **6306802078393**

Option 4 ID : **6306802078396**

Status : **Answered**

Chosen Option : **2**

**Q.11** The following sentence has been split into four segments. Identify the segment that contains a grammatical error.

He cheated in the [A] / examination, making his [B] / already-falling academic [C] / credentials worst. [D]

- Ans
- 1. A
  - 2. D
  - 3. C
  - 4. B

Question Type : **MCQ**

Question ID : **630680399074**

Option 1 ID : **6306801556290**

Option 2 ID : **6306801556292**

Option 3 ID : **6306801556291**

Option 4 ID : **6306801556293**

Status : **Answered**

Chosen Option : **2**

Q.12 Select the most appropriate degree of comparison to fill in the blank.

Many ornithologists believe that the northern mocking birds are \_\_\_\_\_ wild birds in the jungle.

- Ans
- 1. the noisy
  - 2. noisier
  - 3. noisy
  - 4. the noisiest

Question Type : MCQ

Question ID : 630680514587

Option 1 ID : 6306802010974

Option 2 ID : 6306802010976

Option 3 ID : 6306802010975

Option 4 ID : 6306802010973

Status : Answered

Chosen Option : 4

Q.13 Identify the ODD word from the given options.

- Ans
- 1. Carom
  - 2. Golf
  - 3. Table tennis
  - 4. Billiards

Question Type : MCQ

Question ID : 6306801032649

Option 1 ID : 6306804053424

Option 2 ID : 6306804053425

Option 3 ID : 6306804053423

Option 4 ID : 6306804053422

Status : Answered

Chosen Option : 2

Q.14 Select the most appropriate option to fill in the blanks.

Our \_\_\_\_\_ conducted a \_\_\_\_\_ to get everyone's opinion.

- Ans
- 1. principal; pole
  - 2. principle; poll
  - 3. principal; poll
  - 4. principle; pole

Question Type : MCQ

Question ID : 630680522067

Option 1 ID : 6306802040598

Option 2 ID : 6306802040599

Option 3 ID : 6306802040596

Option 4 ID : 6306802040597

Status : Answered

Chosen Option : 2

Q.15 Select the option that will improve the underlined part of the given sentence.

Arun asks Smita to copy the contents of the document word by word.

- Ans
- 1. word with word
  - 2. word to word
  - 3. word par word
  - 4. word for word

Question Type : **MCQ**

Question ID : **630680533777**

Option 1 ID : **6306802086588**

Option 2 ID : **6306802086587**

Option 3 ID : **6306802086590**

Option 4 ID : **6306802086589**

Status : **Answered**

Chosen Option : **4**

Q.16 Select the option that rectifies the spelling of the underlined word in the given sentence.

The concert was canceeled due to rain.

- Ans
- 1. Cancaeled
  - 2. Cancelled
  - 3. Cancealed
  - 4. Cencelled

Question Type : **MCQ**

Question ID : **630680556246**

Option 1 ID : **6306802174363**

Option 2 ID : **6306802174362**

Option 3 ID : **6306802174361**

Option 4 ID : **6306802174360**

Status : **Answered**

Chosen Option : **3**

Q.17 Select the most appropriate **ANTONYM** to substitute the underlined word in the given sentence.

In what ways do you find technological advancements beneficial to your daily life?

- Ans
- 1. unfathomable
  - 2. unfavourable
  - 3. unapproachable
  - 4. unwarranted

Question Type : **MCQ**

Question ID : **630680528725**

Option 1 ID : **6306802066908**

Option 2 ID : **6306802066910**

Option 3 ID : **6306802066911**

Option 4 ID : **6306802066909**

Status : **Answered**

Chosen Option : **2**

**Q.18** The following sentence has been split into four segments. Identify the segment that contains a grammatical error.  
He is waiting / at airport to receive / Mr. Smith, who is / coming from South Africa.

**Ans** ✓ 1. at airport to receive

✗ 2. Mr. Smith, who is

✗ 3. coming from South Africa.

✗ 4. He is waiting

Question Type : **MCQ**

Question ID : **630680429367**

Option 1 ID : **6306801675513**

Option 2 ID : **6306801675514**

Option 3 ID : **6306801675515**

Option 4 ID : **6306801675512**

Status : **Answered**

Chosen Option : **2**

**Q.19** Select the most appropriate synonym of the word given in brackets to fill in the blank.

The rivals in the institution \_\_\_\_\_ (fabricated) evidence and manipulated the whole dataset.

**Ans** ✓ 1. forged

✗ 2. destroyed

✗ 3. wrecked

✗ 4. fluctuated

Question Type : **MCQ**

Question ID : **630680522082**

Option 1 ID : **6306802040656**

Option 2 ID : **6306802040658**

Option 3 ID : **6306802040659**

Option 4 ID : **6306802040657**

Status : **Answered**

Chosen Option : **2**

**Q.20** Select the correctly spelt word to fill in the blank.

We are entering a point where technology will change at \_\_\_\_\_ speeds.

**Ans** ✗ 1. supprime

✗ 2. inferier

✗ 3. modarate

✓ 4. extreme

Question Type : **MCQ**

Question ID : **630680319163**

Option 1 ID : **6306801241560**

Option 2 ID : **6306801241559**

Option 3 ID : **6306801241557**

Option 4 ID : **6306801241558**

Status : **Answered**

Chosen Option : **4**

**Comprehension:**

In the following passage, some words have been deleted. Read the passage carefully and select the most appropriate option to fill in each blank.

Dolphins 1 \_\_\_\_\_ regarded as the friendliest creatures in the sea, and stories of them helping drowning sailors have been common since Roman times. The more we 2 \_\_\_\_\_ about dolphins, the more we realise that their society is more complex 3 \_\_\_\_\_ people previously imagined. They look 4 \_\_\_\_\_ other dolphins when they are ill, care for pregnant 5 \_\_\_\_\_ and protect the weakest in the community, as we do.

**SubQuestion No : 21**

**Q.21 Select the most appropriate option to fill in blank number 1.**

- Ans  1. are  
 2. is  
 3. has  
 4. was

Question Type : **MCQ**

Question ID : **630680521901**

Option 1 ID : **6306802039933**

Option 2 ID : **6306802039932**

Option 3 ID : **6306802039935**

Option 4 ID : **6306802039934**

Status : **Answered**

Chosen Option : 1

**Comprehension:**

In the following passage, some words have been deleted. Read the passage carefully and select the most appropriate option to fill in each blank.

Dolphins 1 \_\_\_\_\_ regarded as the friendliest creatures in the sea, and stories of them helping drowning sailors have been common since Roman times. The more we 2 \_\_\_\_\_ about dolphins, the more we realise that their society is more complex 3 \_\_\_\_\_ people previously imagined. They look 4 \_\_\_\_\_ other dolphins when they are ill, care for pregnant 5 \_\_\_\_\_ and protect the weakest in the community, as we do.

**SubQuestion No : 22**

**Q.22 Select the most appropriate option to fill in blank number 2.**

- Ans  1. learned  
 2. learning  
 3. learns  
 4. learn

Question Type : **MCQ**

Question ID : **630680521902**

Option 1 ID : **6306802039939**

Option 2 ID : **6306802039937**

Option 3 ID : **6306802039938**

Option 4 ID : **6306802039936**

Status : **Answered**

Chosen Option : 4

**Comprehension:**

In the following passage, some words have been deleted. Read the passage carefully and select the most appropriate option to fill in each blank.

Dolphins 1 \_\_\_\_\_ regarded as the friendliest creatures in the sea, and stories of them helping drowning sailors have been common since Roman times. The more we 2 \_\_\_\_\_ about dolphins, the more we realise that their society is more complex 3 \_\_\_\_\_ people previously imagined. They look 4 \_\_\_\_\_ other dolphins when they are ill, care for pregnant 5 \_\_\_\_\_ and protect the weakest in the community, as we do.

**SubQuestion No : 23**

**Q.23 Select the most appropriate option to fill in blank number 3.**

- Ans  1. than  
 2. to  
 3. the  
 4. for

Question Type : **MCQ**

Question ID : **630680521903**

Option 1 ID : **6306802039941**

Option 2 ID : **6306802039942**

Option 3 ID : **6306802039940**

Option 4 ID : **6306802039943**

Status : **Answered**

Chosen Option : 1

**Comprehension:**

In the following passage, some words have been deleted. Read the passage carefully and select the most appropriate option to fill in each blank.

Dolphins 1 \_\_\_\_\_ regarded as the friendliest creatures in the sea, and stories of them helping drowning sailors have been common since Roman times. The more we 2 \_\_\_\_\_ about dolphins, the more we realise that their society is more complex 3 \_\_\_\_\_ people previously imagined. They look 4 \_\_\_\_\_ other dolphins when they are ill, care for pregnant 5 \_\_\_\_\_ and protect the weakest in the community, as we do.

**SubQuestion No : 24**

**Q.24 Select the most appropriate option to fill in blank number 4.**

- Ans  1. up  
 2. after  
 3. on  
 4. into

Question Type : **MCQ**

Question ID : **630680521904**

Option 1 ID : **6306802039944**

Option 2 ID : **6306802039946**

Option 3 ID : **6306802039947**

Option 4 ID : **6306802039945**

Status : **Answered**

Chosen Option : 2

**Comprehension:**

In the following passage, some words have been deleted. Read the passage carefully and select the most appropriate option to fill in each blank.

Dolphins 1 \_\_\_\_\_ regarded as the friendliest creatures in the sea, and stories of them helping drowning sailors have been common since Roman times. The more we 2 \_\_\_\_\_ about dolphins, the more we realise that their society is more complex 3 \_\_\_\_\_ people previously imagined. They look 4 \_\_\_\_\_ other dolphins when they are ill, care for pregnant 5 \_\_\_\_\_ and protect the weakest in the community, as we do.

**SubQuestion No : 25**

**Q.25 Select the most appropriate option to fill in blank number 5.**

- Ans**
- 1. brothers
  - 2. fathers
  - 3. mothers
  - 4. uncles

Question Type : **MCQ**

Question ID : **630680521905**

Option 1 ID : **6306802039950**

Option 2 ID : **6306802039949**

Option 3 ID : **6306802039948**

Option 4 ID : **6306802039951**

Status : **Answered**

Chosen Option : **3**