

Multi Tasking Non Technical Staff and Havaladar CBIC and CBN Examination 2024

Roll Number	
Candidate Name	
Venue Name	iON Digital Zone iDZ Trinity 2
Exam Date	07/10/2024
Exam Time	12:30 PM - 2:30 PM
Subject	MTS Non Tech Havaladar CBIC and CBN Examination 2024

Section : Numerical and Mathematical Ability

Q.1 141 को दो भागों में इस प्रकार बांटा जाता है कि पहले का आठवाँ भाग (one-eighth part) और दूसरे का नौवाँ भाग (one-ninth part), 5 : 6 के अनुपात में हैं। पहला भाग ज्ञात कीजिए।

- Ans
- 1. 72
 - 2. 36
 - 3. 48
 - 4. 60

Question Type : MCQ

Question ID : 630680493035

Option 1 ID : 6306801925914

Option 2 ID : 6306801925911

Option 3 ID : 6306801925912

Option 4 ID : 6306801925913

Status : Answered

Chosen Option : 4

Q.2 किसान द्वारा एक खेत पर गिने गए सिरों की संख्या 60 है। जब उसने गिनती की तो उसने पाया कि वहाँ 150 पैर थे। यदि वहाँ उपस्थित सभी कबूतर या घोड़े हैं, और खेत पर प्रत्येक घोड़े के चार पैर थे, जबकि प्रत्येक कबूतर के दो पैर थे, तो खेत पर कितने घोड़े थे?

- Ans
- 1. 12
 - 2. 14
 - 3. 10
 - 4. 15

Question Type : MCQ

Question ID : 630680455366

Option 1 ID : 6306801778379

Option 2 ID : 6306801778380

Option 3 ID : 6306801778378

Option 4 ID : 6306801778381

Status : Answered

Chosen Option : 4

Q.3 ₹20 में एक वस्तु को बेचकर, एक विक्रेता 10% का लाभ अर्जित करता है। उसे अपना विक्रय मूल्य (₹ में, दो दशमलव स्थान तक सन्निकटित) कितना बढ़ाना चाहिए, ताकि 50% का लाभ अर्जित कर सके?

- Ans 1. 8.27
 2. 10.27
 3. 7.27
 4. 9.27

Question Type : MCQ

Question ID : 630680632601

Option 1 ID : 6306802476303

Option 2 ID : 6306802476305

Option 3 ID : 6306802476302

Option 4 ID : 6306802476304

Status : Answered

Chosen Option : 3

Q.4 वह बड़ी से बड़ी संख्या निम्न में से कौनसी है, जिससे 147, 183 और 271 को भाग देने पर शेषफल क्रमशः 11, 13 और 16 प्राप्त होते हैं?

- Ans 1. 15
 2. 16
 3. 14
 4. 17

Question Type : MCQ

Question ID : 630680104337

Option 1 ID : 630680405565

Option 2 ID : 630680405564

Option 3 ID : 630680405566

Option 4 ID : 630680405563

Status : Answered

Chosen Option : 4

Q.5 40 kg, 49 kg, 56 kg, 66 kg और 35 kg वजन वाले पांच सदस्यों के एक परिवार का औसत वजन (kg में) कितना होगा?

- Ans 1. 51.2
 2. 48.2
 3. 50.2
 4. 49.2

Question Type : MCQ

Question ID : 630680551634

Option 1 ID : 6306802156764

Option 2 ID : 6306802156763

Option 3 ID : 6306802156762

Option 4 ID : 6306802156761

Status : Answered

Chosen Option : 4

Q.6 14 cm व्यास वाले एक अर्द्धगोलाकार कटोरे को अंदर और बाहर से पेंट किया जाना है। ₹20 प्रति 40 cm² की दर से पेंट करने का खर्च कितना आएगा?

- Ans
- 1. ₹224
 - 2. ₹616
 - 3. ₹154
 - 4. ₹308

Question Type : MCQ

Question ID : 63068076125

Option 1 ID : 630680294606

Option 2 ID : 630680294608

Option 3 ID : 630680294605

Option 4 ID : 630680294607

Status : Answered

Chosen Option : 2

Q.7 एक अर्धगोले का आयतन 486π cm³ है। यदि त्रिज्या को तीन गुना कर दिया जाए, तो इसका वक्र पृष्ठीय क्षेत्रफल (cm² में) कितना होगा?

- Ans
- 1. 1458π
 - 2. 1458
 - 3. 1546
 - 4. 1025π

Question Type : MCQ

Question ID : 630680386877

Option 1 ID : 6306801508219

Option 2 ID : 6306801508218

Option 3 ID : 6306801508220

Option 4 ID : 6306801508221

Status : Answered

Chosen Option : 1

Q.8 A और B का वेतन 2 : 3 के अनुपात में है। उनकी बचत बराबर है। यदि A का व्यय उसके वेतन का $\frac{1}{2}$ है, तो B अपनी आय का कितने प्रतिशत भाग व्यय करता है?

- Ans
- 1. 66.67%
 - 2. 50%
 - 3. 75%
 - 4. 78.5%

Question Type : MCQ

Question ID : 630680464519

Option 1 ID : 6306801814111

Option 2 ID : 6306801814112

Option 3 ID : 6306801814113

Option 4 ID : 6306801814114

Status : Answered

Chosen Option : 1

Q.9 40 kg, 49 kg, 56 kg, 67 kg और 36 kg वजन के पांच सदस्यों वाले परिवार का औसत वजन (kg में) ज्ञात कीजिए।

Ans 1. 49.6

2. 51.6

3. 50.6

4. 48.6

Question Type : MCQ

Question ID : 630680551640

Option 1 ID : 6306802156785

Option 2 ID : 6306802156788

Option 3 ID : 6306802156786

Option 4 ID : 6306802156787

Status : Answered

Chosen Option : 1

Q.10 अनिल चीनी को क्रय मूल्य पर बेचता है लेकिन गलत वजन का उपयोग करता है और इस प्रकार 20% लाभ कमाता है। वह 1 किग्रा में कितने ग्राम चीनी देता है?

Ans 1. 833.33

2. 823.33

3. 833.13

4. 833.23

Question Type : MCQ

Question ID : 630680115666

Option 1 ID : 630680448017

Option 2 ID : 630680448014

Option 3 ID : 630680448015

Option 4 ID : 630680448016

Status : Answered

Chosen Option : 1

Q.11 दी गई तालिका, वर्ष 2022 में पांच डीलरों द्वारा बेची गई टैबलेटों की संख्या दर्शाती है।

डीलर	बेची गई टैबलेट की संख्या (लाख में)
A	12
B	15
C	10
D	25
E	22

A, B और D, E द्वारा बेची गई टैबलेटों की कुल संख्या (लाख में) का अंतर क्या है?

- Ans 1. 25
 2. 20
 3. 22
 4. 18

Question Type : MCQ

Question ID : 630680523786

Option 1 ID : 6306802047298

Option 2 ID : 6306802047295

Option 3 ID : 6306802047296

Option 4 ID : 6306802047297

Status : Answered

Chosen Option : 2

Q.12 3 वर्षों के लिए 4% प्रति वर्ष की ब्याज दर पर उधार ली गई राशि ₹4000 पर साधारण ब्याज (₹ में) ज्ञात कीजिए।

- Ans 1. 520
 2. 420
 3. 480
 4. 440

Question Type : MCQ

Question ID : 630680591999

Option 1 ID : 6306802316464

Option 2 ID : 6306802316465

Option 3 ID : 6306802316463

Option 4 ID : 6306802316466

Status : Answered

Chosen Option : 3

Q.13 5 वर्षों के लिए 6% वार्षिक की ब्याज दर पर उधार ली गई राशि ₹3000 पर साधारण ब्याज (₹ में) ज्ञात कीजिए।

- Ans
- 1. 940
 - 2. 840
 - 3. 860
 - 4. 900

Question Type : MCQ
Question ID : 630680591941
Option 1 ID : 6306802316232
Option 2 ID : 6306802316233
Option 3 ID : 6306802316234
Option 4 ID : 6306802316231
Status : Answered
Chosen Option : 4

Q.14 सात क्रमागत संख्याओं का औसत 95 है। सात क्रमागत संख्याओं की श्रृंखला में मध्य संख्या (middle number) ज्ञात कीजिए।

- Ans
- 1. 96
 - 2. 98
 - 3. 92
 - 4. 95

Question Type : MCQ
Question ID : 630680404559
Option 1 ID : 6306801577738
Option 2 ID : 6306801577737
Option 3 ID : 6306801577736
Option 4 ID : 6306801577735
Status : Answered
Chosen Option : 4

Q.15 एक कार 5 घंटे में 275 km की दूरी तय कर सकती है। यदि इसकी चाल 5 km/h कम कर दी जाए, तो कार को 250 km की दूरी तय करने में कितना समय लगेगा?

- Ans
- 1. 4 घंटे 30 मिनट
 - 2. 5 घंटे 30 मिनट
 - 3. 6 घंटे
 - 4. 5 घंटे

Question Type : MCQ
Question ID : 630680279367
Option 1 ID : 6306801085735
Option 2 ID : 6306801085737
Option 3 ID : 6306801085738
Option 4 ID : 6306801085736
Status : Answered
Chosen Option : 4

Q.16 साधारण ब्याज पर कितने प्रतिशत की वार्षिक दर पर ₹760 की राशि 5 वर्षों में ₹912 हो जाएगी?

- Ans 1. 3%
 2. 5%
 3. 6%
 4. 4%

Question Type : MCQ

Question ID : 630680410546

Option 1 ID : 6306801600910

Option 2 ID : 6306801600909

Option 3 ID : 6306801600911

Option 4 ID : 6306801600908

Status : Answered

Chosen Option : 4

Q.17 बार-ग्राफ का अध्ययन कीजिए और निम्नलिखित प्रश्न का उत्तर दीजिए।
यह बार-ग्राफ 2018 से 2022 के दौरान 5 वर्षों में एक कंपनी की आय और व्यय (₹ करोड़ में) को दर्शाता है।



किस वर्ष में आय और व्यय का अनुपात दूसरा सबसे अधिक है?

- Ans 1. 2022
 2. 2019
 3. 2020
 4. 2018

Question Type : MCQ

Question ID : 630680399107

Option 1 ID : 6306801556389

Option 2 ID : 6306801556387

Option 3 ID : 6306801556388

Option 4 ID : 6306801556386

Status : Answered

Chosen Option : 3

Q.18 व्यापारी A, 45% की एकल छूट देता है और व्यापारी B समान अंकित मूल्य वाली एक समान वस्तु पर 35% और 10% की दो क्रमिक छूट देता है। यदि व्यापारी A द्वारा दी गई छूट, व्यापारी B द्वारा दी गई छूट से ₹539 अधिक है, तो वस्तु का अंकित मूल्य (₹ में) कितना है?

Ans 1. 16,500

2. 15,400

3. 15,600

4. 14,500

Question Type : MCQ

Question ID : 630680631413

Option 1 ID : 6306802471598

Option 2 ID : 6306802471595

Option 3 ID : 6306802471597

Option 4 ID : 6306802471596

Status : Answered

Chosen Option : 2

Q.19 240 m लंबी एक रेलगाड़ी विपरीत दिशा में 4.5 km/h की चाल से चल रहे एक व्यक्ति को 12 सेकंड में पार करती है। रेलगाड़ी की चाल (km/h में) क्या है?

Ans 1. 60.5

2. 67.5

3. 58.5

4. 61.5

Question Type : MCQ

Question ID : 630680233076

Option 1 ID : 630680904426

Option 2 ID : 630680904428

Option 3 ID : 630680904425

Option 4 ID : 630680904427

Status : Answered

Chosen Option : 2

Q.20 किसी बेलन की त्रिज्या दोगुनी कर दी जाती है जिसके कारण नए बेलन का आयतन भी दोगुना हो जाता है। नए बेलन की ऊंचाई, पुराने बेलन की ऊंचाई की कितने प्रतिशत होगी?

Ans 1. 25%

2. 100%

3. 200%

4. 50%

Question Type : MCQ

Question ID : 630680382130

Option 1 ID : 6306801489438

Option 2 ID : 6306801489437

Option 3 ID : 6306801489435

Option 4 ID : 6306801489436

Status : Answered

Chosen Option : 4

Q.1 निम्नलिखित संख्या-युग्मों में, दूसरी संख्या, पहली संख्या पर निश्चित गणितीय संक्रियाएँ करके प्राप्त की जाती है। उस समुच्चय का चयन कीजिए जिसमें संख्याएँ उसी प्रकार संबंधित हैं जिस प्रकार दिए गए समुच्चयों की संख्याएँ संबंधित हैं।

(ध्यान दें: संख्याओं को उनके घटक अंकों में अलग-अलग किए बिना पूर्ण संख्याओं पर संक्रियाएं की जानी चाहिए। उदाहरण के लिए संख्या 13 - संख्या 13 पर संक्रियाएं जैसे 13 को जोड़ना/घटाना/गुणा करना आदि किया जा सकता है। 13 को 1 और 3 में अलग-अलग करने की और फिर 1 और 3 पर गणितीय संक्रियाएं करने की अनुमति नहीं है।)

10, 99
21, 440

Ans ✓ 1. 30, 899

✗ 2. 3, 23

✗ 3. 15, 285

✗ 4. 26, 298

Question Type : MCQ

Question ID : 630680408011

Option 1 ID : 6306801590966

Option 2 ID : 6306801590963

Option 3 ID : 6306801590964

Option 4 ID : 6306801590965

Status : Answered

Chosen Option : 1

Q.2 दिए गए कथनों और निष्कर्षों को ध्यानपूर्वक पढ़िए। कथनों में दी गई जानकारी को सत्य मानते हुए, भले ही यह सामान्यतः ज्ञात तथ्यों से भिन्न प्रतीत होती हो, तय कीजिए कि कौन-सा/से निष्कर्ष कथनों का तार्किक रूप से अनुसरण करता है/करते हैं।

कथन:

सभी गुलाब, लिली हैं।
कुछ लिली, सूरजमुखी हैं।

निष्कर्ष:

(I): कुछ गुलाब, सूरजमुखी हैं।

(II): सभी लिली, गुलाब हैं।

Ans ✓ 1. न तो निष्कर्ष I और न ही II अनुसरण करता है।

✗ 2. निष्कर्ष I और II, दोनों अनुसरण करते हैं।

✗ 3. केवल निष्कर्ष I अनुसरण करता है।

✗ 4. केवल निष्कर्ष II अनुसरण करता है।

Question Type : MCQ

Question ID : 630680410628

Option 1 ID : 6306801601275

Option 2 ID : 6306801601274

Option 3 ID : 6306801601272

Option 4 ID : 6306801601273

Status : Answered

Chosen Option : 1

Q.3 14, किसी निश्चित तर्क का अनुसरण करते हुए 93 से संबंधित है। 6, समान तर्क का अनुसरण करते हुए 37 से संबंधित है। समान तर्क का अनुसरण करते हुए 11, निम्नलिखित में से किससे संबंधित है?

(ध्यान दें: संख्याओं को उनके घटक अंकों में अलग-अलग किए बिना पूर्ण संख्याओं पर संक्रियाएं की जानी चाहिए। उदाहरण के लिए संख्या 13 - संख्या 13 पर संक्रियाएं जैसे 13 को जोड़ना/घटाना/गुणा करना आदि किया जा सकता है। 13 को 1 और 3 में अलग-अलग करने की और फिर 1 और 3 पर गणितीय संक्रियाएं करने की अनुमति नहीं है।)

- Ans
- 1. 77
 - 2. 67
 - 3. 90
 - 4. 72

Question Type : MCQ

Question ID : 630680450176

Option 1 ID : 6306801757852

Option 2 ID : 6306801757853

Option 3 ID : 6306801757854

Option 4 ID : 6306801757851

Status : Answered

Chosen Option : 4

Q.4 सात लोग A, B, C, D, E, F और G एक वृत्ताकार मेज के चारों ओर केंद्र की ओर मुख करके बैठे हैं (परंतु जरूरी नहीं कि वे इसी क्रम में बैठें हों)। F, D के दाएँ से चौथे स्थान पर बैठा है। E, F के बाएँ से दूसरे स्थान पर बैठा है। B, G के ठीक बाएँ बैठा है। A, F का निकटतम पड़ोसी नहीं है।

D के दाएँ से गिनने पर C और D के बीच में कितने लोग बैठे हैं?

- Ans
- 1. चार
 - 2. दो
 - 3. तीन
 - 4. एक

Question Type : MCQ

Question ID : 630680379514

Option 1 ID : 6306801479099

Option 2 ID : 6306801479102

Option 3 ID : 6306801479100

Option 4 ID : 6306801479101

Status : Answered

Chosen Option : 2

Q.5 A, B, P, Q, Y और Z एक वृत्ताकार मेज के चारों ओर केंद्र की ओर मुख करके बैठे हैं (परंतु जरूरी नहीं कि वे इसी क्रम में बैठे हों)। Q, B के ठीक बाएँ बैठा है। Y, B के ठीक दाएँ बैठा है। A, B के दाएँ से दूसरे स्थान पर बैठा है। P, A के दाएँ से दूसरे स्थान पर बैठा है। Z के दाएँ से तीसरे स्थान पर कौन बैठा है?

Ans 1. P

2. Q

3. B

4. A

Question Type : **MCQ**

Question ID : **630680386837**

Option 1 ID : **6306801508061**

Option 2 ID : **6306801508060**

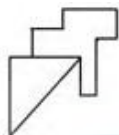
Option 3 ID : **6306801508058**

Option 4 ID : **6306801508059**

Status : **Answered**

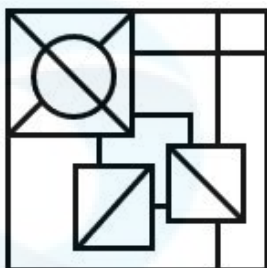
Chosen Option : **3**

Q.6 उस विकल्प का चयन कीजिए जिसमें दी गई आकृति सन्निहित है (घूर्णन की अनुमति नहीं है)।

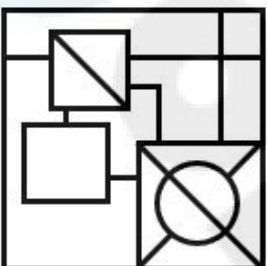


Ans

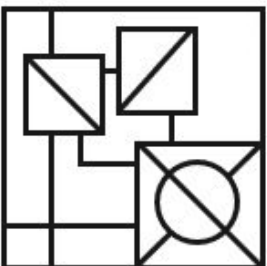
✓ 1.



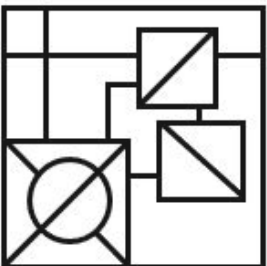
✗ 2.



✗ 3.



✗ 4.



Question Type : MCQ

Question ID : 630680524451

Option 1 ID : 6306802049905

Option 2 ID : 6306802049906

Option 3 ID : 6306802049904

Option 4 ID : 6306802049903

Status : Answered

Chosen Option : 1

Q.7 एक निश्चित कूट भाषा में, 'good bright boy' को 'xd yf vj' के रूप में कूटबद्ध किया जाता है और 'boy is lazy' को 'sb xd ql' के रूप में कूटबद्ध किया जाता है। दी गई भाषा में 'boy' को किस प्रकार कूटबद्ध किया गया है?

Ans 1. vj

2. ql

3. xd

4. yf

Question Type : **MCQ**

Question ID : **630680436323**

Option 1 ID : **6306801703233**

Option 2 ID : **6306801703235**

Option 3 ID : **6306801703234**

Option 4 ID : **6306801703236**

Status : **Answered**

Chosen Option : **3**

Q.8 एक निश्चित कूट भाषा में, 'BUY' को 'ACTVXZ' के रूप में लिखा जाता है और 'CAP' को 'BDZBOQ' के रूप में लिखा जाता है। उसी भाषा में 'BOX' को किस प्रकार लिखा जाएगा?

Ans 1. ACMPWY

2. ACNPWY

3. CDPQYZ

4. ACMPUY

Question Type : **MCQ**

Question ID : **630680465238**

Option 1 ID : **6306801816989**

Option 2 ID : **6306801816988**

Option 3 ID : **6306801816987**

Option 4 ID : **6306801816990**

Status : **Answered**

Chosen Option : **2**

Q.9 दिए गए विकल्पों में से उस आकृति को चुनिए जो निम्नलिखित श्रृंखला में प्रश्न चिह्न (?) के स्थान पर आ सकती है और पैटर्न को पूरा कर सकती है।

8	=	3	V	8	=	V	8	=	
V	I	=	=	□	3	8	3	G	G
G	□			I	G	□	I	3	□
									?

Ans

✗ 1.

=		G
8	V	□
	I	3

✗ 2.

G		8
=	3	I
	□	V

✓ 3.

G		8
=	V	□
	I	3

✗ 4.

=		G
8	3	I
	□	V

Question Type : MCQ

Question ID : 630680441080

Option 1 ID : 6306801721976

Option 2 ID : 6306801721977

Option 3 ID : 6306801721974

Option 4 ID : 6306801721975

Status : Answered

Chosen Option : 3

Q.10 दी गई श्रृंखला में '?' के स्थान पर क्या आना चाहिए?

16, 8.5, 9.5, 15.75, 33.5, ?

Ans 1. 83.75

2. 69

3. 67

4. 86.25

Question Type : **MCQ**

Question ID : **630680531533**

Option 1 ID : **6306802077927**

Option 2 ID : **6306802077925**

Option 3 ID : **6306802077928**

Option 4 ID : **6306802077926**

Status : **Answered**

Chosen Option : **3**

Q.11 दिए गए विकल्पों में से उस आकृति का चयन कीजिए जो निम्नलिखित श्रृंखला में प्रश्न चिह्न (?) के स्थान पर आ सकती है।

C = X	= C	A C X	A	
	X X		C	?

Ans

✗ 1.

3		
C		X

✓ 2.

	X	
C	3	

✗ 3.

C	A	X
---	---	---

✗ 4.

X	3	A
---	---	---

Question Type : MCQ

Question ID : 630680468003

Option 1 ID : 6306801827914

Option 2 ID : 6306801827915

Option 3 ID : 6306801827916

Option 4 ID : 6306801827917

Status : Answered

Chosen Option : 4

Q.12 दी गई आकृति के उस सही दर्पण प्रतिबिंब को चुनिए, जो नीचे दर्शाए गए अनुसार दर्पण को MN पर रखने पर बनेगा।



Ans

✓ 1.

✗ 2.

✗ 3.

✗ 4.

Question Type : MCQ

Question ID : 630680525250

Option 1 ID : 6306802053084

Option 2 ID : 6306802053087

Option 3 ID : 6306802053086

Option 4 ID : 6306802053085

Status : Answered

Chosen Option : 1

Q.13 एक निश्चित कूट भाषा में, 'bring hot food' को 'ud lp sj' के रूप में कूटबद्ध किया जाता है और 'food is tasty' को 'sj xk jt' के रूप में कूटबद्ध किया जाता है। दी गई भाषा में 'food' को किस प्रकार कूटबद्ध किया जाता है?

Ans ✓ 1. sj

✗ 2. xk

✗ 3. lp

✗ 4. ud

Question Type : MCQ

Question ID : 630680426462

Option 1 ID : 6306801663934

Option 2 ID : 6306801663937

Option 3 ID : 6306801663936

Option 4 ID : 6306801663935

Status : Answered

Chosen Option : 1

Q.14 एक निश्चित कूट भाषा में 'like my pet' को 'nj kj lk' के रूप में लिखा जाता है और 'pet is wet' को 'lk mk bt' के रूप में लिखा जाता है। उसी कूट भाषा में 'pet' को कैसे लिखा जाएगा?

- Ans
- 1. kj
 - 2. nj
 - 3. mk
 - 4. lk

Question Type : MCQ

Question ID : 630680419469

Option 1 ID : 6306801636545

Option 2 ID : 6306801636547

Option 3 ID : 6306801636544

Option 4 ID : 6306801636546

Status : Answered

Chosen Option : 4

Q.15 दिए गए कथनों और निष्कर्षों को ध्यानपूर्वक पढ़िए। यह मानते हुए कि कथनों में दी गई जानकारी सत्य है, भले ही वे सामान्यतः ज्ञात तथ्यों से भिन्न प्रतीत होते हों, तय कीजिए कि दिए गए निष्कर्षों में से कौन-सा/से निष्कर्ष कथनों का तार्किक रूप से अनुसरण करता है/करते हैं।

कथन:

कुछ लाइट, पंखे हैं।
कुछ पंखे, पलंग हैं।

निष्कर्ष:

(I) कुछ लाइट, पलंग हैं।
(II) सभी पलंग, पंखे हैं।

- Ans
- 1. केवल निष्कर्ष I अनुसरण करता है
 - 2. केवल निष्कर्ष II अनुसरण करता है
 - 3. न तो निष्कर्ष I और न ही II अनुसरण करता है
 - 4. निष्कर्ष I और II दोनों अनुसरण करते हैं

Question Type : MCQ

Question ID : 630680411085

Option 1 ID : 6306801603092

Option 2 ID : 6306801603093

Option 3 ID : 6306801603095

Option 4 ID : 6306801603094

Status : Answered

Chosen Option : 3

Q.16 EX04 एक निश्चित प्रकार से ZS16 से संबंधित है। ठीक उसी प्रकार UN06, PI36 से संबंधित है। समान तर्क का अनुसरण करते हुए, WP07 निम्नलिखित में से किससे संबंधित है?

- Ans 1. KR94
 2. RK94
 3. RK49
 4. KR49

Question Type : MCQ

Question ID : 6306801108794

Option 1 ID : 6306804355725

Option 2 ID : 6306804355724

Option 3 ID : 6306804355722

Option 4 ID : 6306804355723

Status : Answered

Chosen Option : 3

Q.17 यदि '+' और '-' को आपस में बदल दिया जाए तथा 'x' और '÷' को आपस में बदल दिया जाए, तो निम्नलिखित समीकरण में '?' के स्थान पर क्या आएगा?

$$14 \div 7 - 27 \times 9 + 12 = ?$$

- Ans 1. 79
 2. 71
 3. 89
 4. 81

Question Type : MCQ

Question ID : 630680271476

Option 1 ID : 6306801054978

Option 2 ID : 6306801054979

Option 3 ID : 6306801054976

Option 4 ID : 6306801054977

Status : Answered

Chosen Option : 3

Q.18 यदि '+' और '-' को आपस में बदल दिया जाए तथा 'x' और '÷' को आपस में बदल दिया जाए, तो निम्नलिखित समीकरण में प्रश्नवाचक चिह्न (?) के स्थान पर क्या आएगा?

$$5 \div 4 - 3 \times 1 + 2 = ?$$

- Ans 1. 20
 2. 16
 3. 19
 4. 21

Question Type : MCQ

Question ID : 630680395500

Option 1 ID : 6306801542170

Option 2 ID : 6306801542168

Option 3 ID : 6306801542169

Option 4 ID : 6306801542171

Status : Answered

Chosen Option : 4

Q.19 GYEV अंग्रेजी वर्णमाला क्रम के आधार पर एक निश्चित तरीके से DBBY से संबंधित है। उसी तरीके से XHVE, UKSH से संबंधित है। उसी तर्क का अनुसरण करते हुए, LTJQ निम्नलिखित में से किससे संबंधित है?

Ans 1. IWGT

2. TYHU

3. IGTR

4. IGWT

Question Type : MCQ

Question ID : 630680443988

Option 1 ID : 6306801733287

Option 2 ID : 6306801733289

Option 3 ID : 6306801733290

Option 4 ID : 6306801733288

Status : Answered

Chosen Option : 1

Q.20 अंग्रेजी वर्णानुक्रम के आधार पर दी गई श्रृंखला में प्रश्न-चिह्न (?) के स्थान पर क्या आना चाहिए?
XJP, VMN, TPL, RSJ, ?

Ans 1. PVH

2. PUG

3. QVG

4. PVG

Question Type : MCQ

Question ID : 630680338841

Option 1 ID : 6306801317955

Option 2 ID : 6306801317956

Option 3 ID : 6306801317954

Option 4 ID : 6306801317953

Status : Answered

Chosen Option : 1

Section : General Awareness

Q.1 डप्पू नृत्य (Dappu dance) निम्नलिखित में से किस राज्य की प्रसिद्ध नृत्य शैली है?

Ans 1. बिहार

2. पंजाब

3. आंध्र प्रदेश

4. केरल

Question Type : MCQ

Question ID : 630680465735

Option 1 ID : 6306801818977

Option 2 ID : 6306801818975

Option 3 ID : 6306801818978

Option 4 ID : 6306801818976

Status : Answered

Chosen Option : 2

Q.2 नागालैंड का सेक्रेनी महोत्सव (Sekrenyi festival) प्रति वर्ष _____ के महीने में मिनी हॉर्नबिल ट्राइबल फेस्टिवल (Mini Hornbill Tribal Festival) के एक हिस्से के रूप में मनाया जाता है, जो दावत और गायन के साथ शुद्धिकरण का महोत्सव है।

- Ans
- 1. जुलाई
 - 2. मार्च
 - 3. फरवरी
 - 4. अगस्त

Question Type : MCQ

Question ID : 630680403354

Option 1 ID : 6306801572928

Option 2 ID : 6306801572926

Option 3 ID : 6306801572929

Option 4 ID : 6306801572927

Status : Answered

Chosen Option : 3

Q.3 भारतीय संविधान में सरकार के अर्द्ध-संघीय (Quasi Federal)' स्वरूप का मॉडल किस देश से लिया गया है?

- Ans
- 1. कनाडा
 - 2. यूनाइटेड किंगडम
 - 3. ऑस्ट्रेलिया
 - 4. जर्मनी

Question Type : MCQ

Question ID : 630680799040

Option 1 ID : 6306803130963

Option 2 ID : 6306803130965

Option 3 ID : 6306803130964

Option 4 ID : 6306803130962

Status : Answered

Chosen Option : 1

Q.4 निम्नलिखित में से कौन-सा खनिज की कमी से होने वाला रोग है?

- Ans
- 1. मरास्मस (Marasmus)
 - 2. स्कर्वी (Scurvy)
 - 3. सूखा रोग (Rickets)
 - 4. घेंघा (Goitre)

Question Type : MCQ

Question ID : 630680422204

Option 1 ID : 6306801647252

Option 2 ID : 6306801647254

Option 3 ID : 6306801647255

Option 4 ID : 6306801647253

Status : Answered

Chosen Option : 4

Q.5 'कर्तन दहन प्रणाली (slash and burn)' कृषि के संदर्भ में, निम्नलिखित में से कौन-सा नाम ओडिशा से संबंधित नहीं है?

- Ans
- 1. कोमान (Koman)
 - 2. पामा डाबी (Pama Dabi)
 - 3. रोका (Roca)
 - 4. ब्रिंगा (Bringa)

Question Type : MCQ

Question ID : 630680484436

Option 1 ID : 6306801892068

Option 2 ID : 6306801892066

Option 3 ID : 6306801892067

Option 4 ID : 6306801892069

Status : Answered

Chosen Option : 3

Q.6 महाबलीपुरम में शोर मंदिर (Shore Temple) का निर्माण _____ राजा नरसिंहवर्मन द्वितीय के शासनकाल में किया गया था।

- Ans
- 1. चोल
 - 2. चेर
 - 3. चालुक्य
 - 4. पल्लव

Question Type : MCQ

Question ID : 630680306327

Option 1 ID : 6306801191664

Option 2 ID : 6306801191661

Option 3 ID : 6306801191663

Option 4 ID : 6306801191662

Status : Answered

Chosen Option : 1

Q.7 निम्नलिखित में से किस विकल्प में सभी सदिश राशियाँ (vector quantities) हैं?

- Ans
- 1. शक्ति, संवेग, ऊर्जा, चाल और कार्य
 - 2. बल, वेग, संवेग, ऊर्जा और त्वरण
 - 3. बल, वेग, संवेग, ऊर्जा और शक्ति
 - 4. बल, वेग, संवेग, भार और त्वरण

Question Type : MCQ

Question ID : 630680726138

Option 1 ID : 6306802845567

Option 2 ID : 6306802845565

Option 3 ID : 6306802845566

Option 4 ID : 6306802845568

Status : Answered

Chosen Option : 2

Q.8 अनूठी वास्तुकला वाले गंगैकोण्ड चोलपुरम (Gangaikonda-Cholapuram) के मंदिर, किस राजा/बादशाह द्वारा बनवाए गए थे?

- Ans
- 1. बादशाह अकबर
 - 2. राजा विजयालय
 - 3. राजा महेन्द्रवर्मन
 - 4. राजा राजेंद्र

Question Type : MCQ

Question ID : 630680535091

Option 1 ID : 6306802091747

Option 2 ID : 6306802091746

Option 3 ID : 6306802091745

Option 4 ID : 6306802091744

Status : Answered

Chosen Option : 2

Q.9 पीएम-स्वनिधि योजना (2020) में, शहरी पथ-विक्रेता _____ की अवधि के लिए 10,000 तक की कार्यशील पूंजी ऋण प्राप्त करने के पात्र हैं।

- Ans
- 1. 5 वर्ष
 - 2. 3 वर्ष
 - 3. 1 वर्ष
 - 4. 2 वर्ष

Question Type : MCQ

Question ID : 630680511234

Option 1 ID : 6306801998069

Option 2 ID : 6306801998068

Option 3 ID : 6306801998066

Option 4 ID : 6306801998067

Status : Answered

Chosen Option : 1

Q.10 मिर्गी (Epilepsy) एक विकार है जो मानव शरीर के निम्नलिखित में से किस भाग को प्रभावित करता है?

- Ans
- 1. दाँत और हड्डियों
 - 2. लवचा
 - 3. मस्तिष्क कोशिकाओं
 - 4. माँसपेशियों

Question Type : MCQ

Question ID : 630680311116

Option 1 ID : 6306801210578

Option 2 ID : 6306801210580

Option 3 ID : 6306801210577

Option 4 ID : 6306801210579

Status : Answered

Chosen Option : 3

Q.11 फरवरी 2024 तक के तथ्यानुसार, यानथुंगो पैटन (Yanthungo Patton) निम्नलिखित में से किस राज्य के उप मुख्यमंत्री हैं?

- Ans
- 1. असम
 - 2. सिक्किम
 - 3. मेघालय
 - 4. नागालैंड

Question Type : MCQ
Question ID : 630680468929
Option 1 ID : 6306801831483
Option 2 ID : 6306801831486
Option 3 ID : 6306801831484
Option 4 ID : 6306801831485
Status : Answered
Chosen Option : 2

Q.12 1875 में स्वामी दयानंद सरस्वती ने निम्नलिखित में से किस सामाजिक संगठन की स्थापना की थी?

- Ans
- 1. सत्यशोधक समाज
 - 2. प्रार्थना समाज
 - 3. ब्रह्म समाज
 - 4. आर्य समाज

Question Type : MCQ
Question ID : 630680214252
Option 1 ID : 630680831056
Option 2 ID : 630680831055
Option 3 ID : 630680831057
Option 4 ID : 630680831058
Status : Answered
Chosen Option : 4

Q.13 किस घटना से अशोक की प्रशासनिक नीति में गहरा परिवर्तन आया?

- Ans
- 1. तृतीय बौद्ध संगीति
 - 2. कलिंग युद्ध
 - 3. उनका सीलोन में मिशनरी भेजना
 - 4. उनका बौद्ध धर्म ग्रहण करना

Question Type : MCQ
Question ID : 630680322640
Option 1 ID : 6306801255201
Option 2 ID : 6306801255202
Option 3 ID : 6306801255204
Option 4 ID : 6306801255203
Status : Answered
Chosen Option : 2

Q.14 अप्रैल 2023 में जारी अपनी 279वीं रिपोर्ट में भारत के विधि आयोग (Law Commission of India) ने किस कानून के प्रावधान को बरकरार रखने की अनुशंसा की है?

- Ans 1. राजद्रोह कानून (Sedition Law)
 2. राजस्व कानून (Revenue Law)
 3. श्रम कानून (Labour Law)
 4. संविदा कानून (Contract Law)

Question Type : MCQ

Question ID : 630680465514

Option 1 ID : 6306801818091

Option 2 ID : 6306801818094

Option 3 ID : 6306801818092

Option 4 ID : 6306801818093

Status : Answered

Chosen Option : 3

Q.15 प्रसिद्ध कथक नृत्य कलाकार, पुरुषोत्तम दाधीच (Purushottam Dadheech), जिन्हें वर्ष 2020 में पद्म श्री से सम्मानित किया गया था, निम्नलिखित में से किस स्थान से संबंधित हैं?

- Ans 1. बिहार
 2. उत्तर प्रदेश
 3. मध्य प्रदेश
 4. हरियाणा

Question Type : MCQ

Question ID : 630680216136

Option 1 ID : 630680838522

Option 2 ID : 630680838519

Option 3 ID : 630680838520

Option 4 ID : 630680838521

Status : Answered

Chosen Option : 2

Q.16 निम्नलिखित में से कौन-सा विकल्प 'लैगून (Lagoon)' का उदाहरण नहीं है?

- Ans 1. नैनीताल (Nainital)
 2. कोल्लेरू (Kolleru)
 3. पुलिकट (Pulicat)
 4. चिलिका (Chilika)

Question Type : MCQ

Question ID : 630680484496

Option 1 ID : 6306801892300

Option 2 ID : 6306801892301

Option 3 ID : 6306801892299

Option 4 ID : 6306801892298

Status : Answered

Chosen Option : 2

Q.17 खेलों के संदर्भ में डबल्यूएफआई (WFI) का पूर्ण रूप क्या है?

- Ans 1. रेसलिंग फेडरेशन ऑफ इंडिया (Wrestling Federation of India)
2. विंटर गेम्स फेडरेशन ऑफ इंडिया (Winter Games Federation of India)
3. वुमन स्पोर्ट्स फेडरेशन ऑफ इंडिया (Women Sports Federation of India)
4. वुमन फेडरेशन ऑफ इंडिया (Women Federation of India)

Question Type : MCQ

Question ID : 630680563620

Option 1 ID : 6306802203434

Option 2 ID : 6306802203435

Option 3 ID : 6306802203436

Option 4 ID : 6306802203433

Status : Answered

Chosen Option : 1

Q.18 सकल घरेलू उत्पाद (Gross Domestic Product) का प्राक्कलन करते समय, केवल अंतिम वस्तुओं के मौद्रिक मूल्य पर विचार किया जाता है क्योंकि _____।

- a. इसकी गतिहीनता (immobility) से सक्रिय आर्थिक प्रवाह समाप्त हो जाता है
- b. इसमें दोहरी गणना (double counting) की समस्या होती है
- c. उत्पादन प्रक्रिया के प्रत्येक चरण में मूल्यवर्धित (value added) शामिल किया जाता है

- Ans 1. केवल b
2. सभी a, b और c
3. केवल b और c
4. केवल a

Question Type : MCQ

Question ID : 630680422499

Option 1 ID : 6306801648433

Option 2 ID : 6306801648435

Option 3 ID : 6306801648434

Option 4 ID : 6306801648432

Status : Answered

Chosen Option : 2

Q.19 साइना नेहवाल की आत्मकथा का नाम _____ है।

- Ans 1. स्ट्रेट फ्रॉम द हार्ट (Straight from the heart)
2. अनब्रेकेबल (Unbreakable)
3. प्लेइंग टू विन, माई लाइफ ऑन एंड ऑफ कोर्ट (Playing to win, my life on and off court)
4. प्लेइंग इट माई वे (Playing it my way)

Question Type : MCQ

Question ID : 630680409425

Option 1 ID : 6306801596531

Option 2 ID : 6306801596529

Option 3 ID : 6306801596532

Option 4 ID : 6306801596530

Status : Answered

Chosen Option : 3

Q.20 जनवरी 2023 में महिला इंडियन प्रीमियर लीग (WPL) की शुरुआत में पाँच टीमों की बिक्री के जरिये बीसीसीआई (BCCI) ने कितनी धनराशि अर्जित की थी?

- Ans 1. ₹4,669.99 करोड़
 2. ₹7,245.89 करोड़
 3. ₹951.25 करोड़
 4. ₹1,289.50 करोड़

Question Type : MCQ

Question ID : 630680306030

Option 1 ID : 6306801190473

Option 2 ID : 6306801190476

Option 3 ID : 6306801190475

Option 4 ID : 6306801190474

Status : Not Attempted and Marked For Review

Chosen Option : --

Q.21 रामपुर के सहस्रवान (Sahaswan) घराने की स्थापना निम्नलिखित में से किस शख्सियत द्वारा की गई थी?

- Ans 1. अमानत अली खान
 2. उस्ताद घघे खुदा बख्श
 3. उस्ताद इनायत हुसैन खान
 4. अब्दुल करीम खान

Question Type : MCQ

Question ID : 630680487683

Option 1 ID : 6306801904803

Option 2 ID : 6306801904805

Option 3 ID : 6306801904804

Option 4 ID : 6306801904802

Status : Answered

Chosen Option : 3

Q.22 राष्ट्रीय ग्रामीण रोजगार गारंटी अधिनियम (National Rural Employment Guarantee Act), निम्नलिखित में से किस वर्ष पारित किया गया था?

- Ans 1. 2004
 2. 2005
 3. 2009
 4. 2006

Question Type : MCQ

Question ID : 630680404739

Option 1 ID : 6306801578433

Option 2 ID : 6306801578432

Option 3 ID : 6306801578434

Option 4 ID : 6306801578431

Status : Answered

Chosen Option : 2

Q.23 अभ्रक (Mica) किस प्रकार का खनिज है?

- Ans 1. अ-धात्विक
 2. अ-लौह धात्विक
 3. लौह धात्विक
 4. ऊर्जा खनिज

Question Type : MCQ
Question ID : 630680456062
Option 1 ID : 6306801781187
Option 2 ID : 6306801781189
Option 3 ID : 6306801781188
Option 4 ID : 6306801781190
Status : Answered
Chosen Option : 2

Q.24 अनुच्छेद _____ के अनुसार, संघ (State) के अधीन किसी भी पद (office) पर रोजगार या नियुक्ति से संबंधित मामलों में सभी नागरिकों के लिए अवसरों की समानता होगी।

- Ans 1. 18
 2. 19
 3. 16
 4. 17

Question Type : MCQ
Question ID : 630680549013
Option 1 ID : 6306802146538
Option 2 ID : 6306802146539
Option 3 ID : 6306802146536
Option 4 ID : 6306802146537
Status : Answered
Chosen Option : 3

Q.25 निम्नलिखित में से किस अधिनियम के तहत, वारेन हेस्टिंग्स (Warren Hastings) को बंगाल का गवर्नर-जनरल नियुक्त किया गया था?

- Ans 1. भारत सरकार अधिनियम, 1909
 2. भारत सरकार अधिनियम, 1858
 3. भारत सरकार अधिनियम, 1935
 4. रेग्युलैटिंग ऐक्ट, 1773

Question Type : MCQ
Question ID : 63068092837
Option 1 ID : 630680360040
Option 2 ID : 630680360039
Option 3 ID : 630680360041
Option 4 ID : 630680360042
Status : Answered
Chosen Option : 2

Q.1 Select the most appropriate ANTONYM of the highlighted word.

The new syllabus of Final Semester of MBA is very difficult.

- Ans 1. problematical
 2. rigid
 3. easy
 4. perplexing

Question Type : MCQ

Question ID : 630680499646

Option 1 ID : 6306801952202

Option 2 ID : 6306801952201

Option 3 ID : 6306801952204

Option 4 ID : 6306801952203

Status : Answered

Chosen Option : 3

Q.2 The given sentence is divided into four parts. One of them contains a grammatical error. Select the part that contains the error from the given options.

He was acquitted to / a cyber crime / on the basis of evidence / given to the court.

- Ans 1. on the basis of evidence
 2. a cyber crime
 3. given to the court
 4. He was acquitted to

Question Type : MCQ

Question ID : 630680157290

Option 1 ID : 630680608694

Option 2 ID : 630680608693

Option 3 ID : 630680608695

Option 4 ID : 630680608692

Status : Answered

Chosen Option : 2

Q.3 Select the option that has an error in the use of phrasal verb.

- Ans 1. Please turn up the heater. The weather is too cold today .
 2. Please suggest me some tips to get out nervousness.
 3. Pushpa came across an old photo in the album and asked me to recognise the face in it.
 4. Back up your essential files. Technology is only sometimes reliable.

Question Type : MCQ

Question ID : 630680542587

Option 1 ID : 6306802121280

Option 2 ID : 6306802121279

Option 3 ID : 6306802121277

Option 4 ID : 6306802121278

Status : Answered

Chosen Option : 2

Q.4 Select the most appropriate synonym of the underlined word in the given sentence.

His decision to quit his stable job and travel the world was driven by a sudden caprice.

- Ans 1. Delight
 2. Impulse
 3. Determination
 4. Sorrow

Question Type : MCQ
Question ID : 630680396967
Option 1 ID : 6306801547933
Option 2 ID : 6306801547934
Option 3 ID : 6306801547935
Option 4 ID : 6306801547932
Status : Answered
Chosen Option : 4

Q.5 In the following passage, some words have been deleted. Read the passage carefully and select the most appropriate option to fill in the blanks.

Leif Erikson is a Viking _____ believed to have sailed from the Green Lands to Vinland. Vinland is now thought to be the northern tip of Canada's Newfoundland island where _____ found evidence of Erikson's _____ in 1960s.

- Ans 1. explorer; archaeologists; settlement
 2. astronomer; sculptors; colony
 3. sailor; excavators; packed
 4. calligrapher; historians; community

Question Type : MCQ
Question ID : 630680515129
Option 1 ID : 6306802013030
Option 2 ID : 6306802013029
Option 3 ID : 6306802013032
Option 4 ID : 6306802013031
Status : Answered
Chosen Option : 3

Q.6 Select the most appropriate synonym of the given word.
Restraint

- Ans 1. Self-appraisal
 2. Self-acceptance
 3. Self-esteem
 4. Self-control

Question Type : MCQ
Question ID : 630680422523
Option 1 ID : 6306801648528
Option 2 ID : 6306801648530
Option 3 ID : 6306801648529
Option 4 ID : 6306801648531
Status : Answered
Chosen Option : 4

Q.7 The following sentence has been split into four segments. Identify the segment that contains a grammatical error.
The gold watch / look really expensive / and is not affordable / for common people.

- Ans
- 1. look really expensive
 - 2. for common people
 - 3. The gold watch
 - 4. and is not affordable

Question Type : **MCQ**
Question ID : **630680205219**
Option 1 ID : **630680795736**
Option 2 ID : **630680795738**
Option 3 ID : **630680795735**
Option 4 ID : **630680795737**
Status : **Answered**
Chosen Option : 1

Q.8 The following sentence has been split into four segments. Identify the segment that contains a grammatical error.
It has been / noticed that / across all his faults, / he is admired.

- Ans
- 1. noticed that
 - 2. he is admired
 - 3. It has been
 - 4. across all his faults

Question Type : **MCQ**
Question ID : **630680129506**
Option 1 ID : **630680501643**
Option 2 ID : **630680501645**
Option 3 ID : **630680501642**
Option 4 ID : **630680501644**
Status : **Answered**
Chosen Option : 4

Q.9 Select the most appropriate idiom that can substitute the underlined segment in the given sentence.

This is going to be overwhelming for you as you have taken on work beyond your capabilities.

- Ans
- 1. called it a day
 - 2. put something on ice
 - 3. at the eleventh hour
 - 4. bitten off more than you can chew

Question Type : **MCQ**
Question ID : **630680790166**
Option 1 ID : **6306803096446**
Option 2 ID : **6306803096445**
Option 3 ID : **6306803096447**
Option 4 ID : **6306803096444**
Status : **Answered**
Chosen Option : 4

Q.10 Select the most appropriate meaning of the underlined idiom.
The situation was out of hand. So, the manager called the police station for help.

- Ans 1. In an undecided state
 2. To be uncontrollable
 3. To be serious
 4. To be abrupt

Question Type : **MCQ**
Question ID : **630680414144**
Option 1 ID : **6306801615434**
Option 2 ID : **6306801615431**
Option 3 ID : **6306801615433**
Option 4 ID : **6306801615432**
Status : **Answered**
Chosen Option : **2**

Q.11 Rectify the following sentence by selecting the correct spelling of the underlined word from the options.

Life is a collection of ephmeral moments.

- Ans 1. Ephemerl
 2. Ephemeral
 3. Ephameral
 4. Epmeral

Question Type : **MCQ**
Question ID : **630680799103**
Option 1 ID : **6306803131210**
Option 2 ID : **6306803131211**
Option 3 ID : **6306803131212**
Option 4 ID : **6306803131213**
Status : **Answered**
Chosen Option : **2**

Q.12 Select the most appropriate option that can substitute the underlined segment in the given sentence.

One of the most horrified serials of the Indian television industry was broadcast twenty years ago.

- Ans 1. more horrify serials
 2. horrified serials
 3. most horror serials
 4. most horrifying serials

Question Type : **MCQ**
Question ID : **630680551429**
Option 1 ID : **6306802155943**
Option 2 ID : **6306802155942**
Option 3 ID : **6306802155944**
Option 4 ID : **6306802155941**
Status : **Answered**
Chosen Option : **4**

Q.13 Select the most appropriate meaning of the underlined phrase.

This sentence can have multiple meanings. Could you please specify what it means?

- Ans 1. Heterogeneous
 2. Ambiguous
 3. Amorphous
 4. Homogeneous

Question Type : MCQ

Question ID : 630680540236

Option 1 ID : 6306802112049

Option 2 ID : 6306802112048

Option 3 ID : 6306802112051

Option 4 ID : 6306802112050

Status : Answered

Chosen Option : 1

Q.14 Select the most appropriate form of comparative degree that can substitute the underlined segment in the given sentence.

Bilingual children are so intelligent than those who speak just one language.

- Ans 1. better intelligent than
 2. the most intelligent to
 3. so intelligent to
 4. more intelligent than

Question Type : MCQ

Question ID : 630680514700

Option 1 ID : 6306802011425

Option 2 ID : 6306802011426

Option 3 ID : 6306802011427

Option 4 ID : 6306802011428

Status : Answered

Chosen Option : 4

Q.15 Select the most appropriate ANTONYM of the given word.
Foremost

- Ans 1. Forecast
 2. Premature
 3. Disposed
 4. Unimportant

Question Type : MCQ

Question ID : 630680557186

Option 1 ID : 6306802177722

Option 2 ID : 6306802177721

Option 3 ID : 6306802177719

Option 4 ID : 6306802177720

Status : Answered

Chosen Option : 4

Q.16 Select the most appropriate synonym for the given word.
Fusion

- Ans** 1. Blend
 2. Ingredient
 3. Grind
 4. Glide

Question Type : **MCQ**

Question ID : **630680381373**

Option 1 ID : **6306801486444**

Option 2 ID : **6306801486446**

Option 3 ID : **6306801486445**

Option 4 ID : **6306801486443**

Status : **Answered**

Chosen Option : **2**

Q.17 The following sentence has been split into four segments. Identify the segment that contains a grammatical error.
She is studying / the medicine / at university / to become a doctor.

- Ans** 1. She is studying
 2. at university
 3. the medicine
 4. to become a doctor.

Question Type : **MCQ**

Question ID : **630680451083**

Option 1 ID : **6306801761430**

Option 2 ID : **6306801761432**

Option 3 ID : **6306801761431**

Option 4 ID : **6306801761433**

Status : **Answered**

Chosen Option : **4**

Q.18 Select the **INCORRECTLY** spelt word.

- Ans** 1. Accolades
 2. Proposal
 3. Myriad
 4. Explanation

Question Type : **MCQ**

Question ID : **630680553966**

Option 1 ID : **6306802165719**

Option 2 ID : **6306802165721**

Option 3 ID : **6306802165718**

Option 4 ID : **6306802165720**

Status : **Answered**

Chosen Option : **4**

Q.19 Select the INCORRECTLY spelt word.

- Ans
- 1. Elegant
 - 2. Efficient
 - 3. Crowded
 - 4. Defecteev

Question Type : MCQ

Question ID : 630680467619

Option 1 ID : 6306801826406

Option 2 ID : 6306801826407

Option 3 ID : 6306801826409

Option 4 ID : 6306801826408

Status : Answered

Chosen Option : 4

Q.20 Select the most appropriate option that can substitute the underlined words in the given sentence.

My mother asked me who did accompany me to the airport.

- Ans
- 1. who accompanied me
 - 2. who accompany me
 - 3. whom I was accompanied
 - 4. who must accompanied me

Question Type : MCQ

Question ID : 630680566015

Option 1 ID : 6306802213048

Option 2 ID : 6306802213050

Option 3 ID : 6306802213049

Option 4 ID : 6306802213051

Status : Answered

Chosen Option : 1

Comprehension:

In the following passage, some words have been deleted. Read the passage carefully and select the most appropriate option to fill in each blank.

The newspaper is one of the significant signs of (1) _____ civilisation. It is the most popular form of reading in the (2) _____ times because it interests all sorts of people. It is full of political news, sports and commercial news, as well as articles by well-known writers. A newspaper keeps us (3) _____ entertained and informed.

In these days of democracy, public opinion rules everywhere. (4) _____ government can long withstand the pressure of a strong public opinion. It is, therefore, quite clear that the press controls public opinion, and public opinion, in turn, controls the government. Ultimately, the press controls the government. It acts as an interpreter between the government and the people and brings the rulers and the ruled (5) _____.

SubQuestion No : 21

Q.21 Select the most appropriate option to fill in blank number 1.

- Ans 1. ancient
 2. modern
 3. prehistoric
 4. monolithic

Question Type : **MCQ**

Question ID : **630680183552**

Option 1 ID : **630680711217**

Option 2 ID : **630680711218**

Option 3 ID : **630680711219**

Option 4 ID : **630680711220**

Status : **Answered**

Chosen Option : **2**

Comprehension:

In the following passage, some words have been deleted. Read the passage carefully and select the most appropriate option to fill in each blank.

The newspaper is one of the significant signs of (1) _____ civilisation. It is the most popular form of reading in the (2) _____ times because it interests all sorts of people. It is full of political news, sports and commercial news, as well as articles by well-known writers. A newspaper keeps us (3) _____ entertained and informed.

In these days of democracy, public opinion rules everywhere. (4) _____ government can long withstand the pressure of a strong public opinion. It is, therefore, quite clear that the press controls public opinion, and public opinion, in turn, controls the government. Ultimately, the press controls the government. It acts as an interpreter between the government and the people and brings the rulers and the ruled (5) _____.

SubQuestion No : 22

Q.22 Select the most appropriate option to fill in blank number 2.

- Ans 1. dark
 2. future
 3. past
 4. present

Question Type : **MCQ**

Question ID : **630680183553**

Option 1 ID : **630680711223**

Option 2 ID : **630680711221**

Option 3 ID : **630680711222**

Option 4 ID : **630680711224**

Status : **Answered**

Chosen Option : **4**

Comprehension:

In the following passage, some words have been deleted. Read the passage carefully and select the most appropriate option to fill in each blank.

The newspaper is one of the significant signs of (1) _____ civilisation. It is the most popular form of reading in the (2) _____ times because it interests all sorts of people. It is full of political news, sports and commercial news, as well as articles by well-known writers. A newspaper keeps us (3) _____ entertained and informed.

In these days of democracy, public opinion rules everywhere. (4) _____ government can long withstand the pressure of a strong public opinion. It is, therefore, quite clear that the press controls public opinion, and public opinion, in turn, controls the government. Ultimately, the press controls the government. It acts as an interpreter between the government and the people and brings the rulers and the ruled (5) _____.

SubQuestion No : 23

Q.23 Select the most appropriate option to fill in blank number 3.

- Ans 1. or
 2. nor
 3. both
 4. either

Question Type : **MCQ**

Question ID : **630680183554**

Option 1 ID : **630680711227**

Option 2 ID : **630680711228**

Option 3 ID : **630680711225**

Option 4 ID : **630680711226**

Status : **Answered**

Chosen Option : **3**

Comprehension:

In the following passage, some words have been deleted. Read the passage carefully and select the most appropriate option to fill in each blank.

The newspaper is one of the significant signs of (1) _____ civilisation. It is the most popular form of reading in the (2) _____ times because it interests all sorts of people. It is full of political news, sports and commercial news, as well as articles by well-known writers. A newspaper keeps us (3) _____ entertained and informed.

In these days of democracy, public opinion rules everywhere. (4) _____ government can long withstand the pressure of a strong public opinion. It is, therefore, quite clear that the press controls public opinion, and public opinion, in turn, controls the government. Ultimately, the press controls the government. It acts as an interpreter between the government and the people and brings the rulers and the ruled (5) _____.

SubQuestion No : 24

Q.24 Select the most appropriate option to fill in blank number 4.

- Ans 1. Both
 2. No
 3. All
 4. Some

Question Type : **MCQ**

Question ID : **630680183555**

Option 1 ID : **630680711230**

Option 2 ID : **630680711232**

Option 3 ID : **630680711231**

Option 4 ID : **630680711229**

Status : **Answered**

Chosen Option : **2**

Comprehension:

In the following passage, some words have been deleted. Read the passage carefully and select the most appropriate option to fill in each blank.

The newspaper is one of the significant signs of (1) _____ civilisation. It is the most popular form of reading in the (2) _____ times because it interests all sorts of people. It is full of political news, sports and commercial news, as well as articles by well-known writers. A newspaper keeps us (3) _____ entertained and informed.

In these days of democracy, public opinion rules everywhere. (4) _____ government can long withstand the pressure of a strong public opinion. It is, therefore, quite clear that the press controls public opinion, and public opinion, in turn, controls the government. Ultimately, the press controls the government. It acts as an interpreter between the government and the people and brings the rulers and the ruled (5) _____.

SubQuestion No : 25

Q.25 Select the most appropriate option to fill in blank number 5.

- Ans
- 1. apart
 - 2. jointed
 - 3. together
 - 4. overall

Question Type : **MCQ**

Question ID : **630680183556**

Option 1 ID : **630680711234**

Option 2 ID : **630680711235**

Option 3 ID : **630680711233**

Option 4 ID : **630680711236**

Status : **Answered**

Chosen Option : **3**