

## Multi Tasking Non Technical Staff and Havaladar CBIC and CBN Examination 2024

Roll Number	
Candidate Name	
Venue Name	Jaipur Engineering College
Exam Date	07/10/2024
Exam Time	4:00 PM - 5:30 PM
Subject	MTS Non Tech Havaladar CBIC and CBN Examination 2024

### Section : Numerical and Mathematical Ability

Q.1 ₹15 प्रति किलोग्राम मूल्य वाले 2 किलोग्राम ताँबे को ₹20 किलोग्राम मूल्य वाले 3 किलोग्राम जस्ते के साथ मिलाया जाता है। मिश्रण का औसत मूल्य ज्ञात कीजिए।

- Ans
- 1. ₹17
  - 2. ₹18
  - 3. ₹18.5
  - 4. ₹17.5

Question Type : MCQ

Question ID : 630680455619

Option 1 ID : 6306801779386

Option 2 ID : 6306801779389

Option 3 ID : 6306801779387

Option 4 ID : 6306801779388

Status : Answered

Chosen Option : 4

Q.2 धातु की एक शीट से 280 cm ऊंचाई और 70 cm आधार त्रिज्या का एक बंद बेलनाकार टैंक बनाया जाना है।  $m^2$  में इसके लिए कितनी शीट की आवश्यकता होगी?

- Ans
- 1. 12.8
  - 2. 15.4
  - 3. 13.8
  - 4. 14.4

Question Type : MCQ

Question ID : 630680103736

Option 1 ID : 630680403177

Option 2 ID : 630680403176

Option 3 ID : 630680403178

Option 4 ID : 630680403175

Status : Answered

Chosen Option : 2

Q.3 पानी के एक कुएं की ऊंचाई  $h$  मीटर और व्यास 21 m है। यदि ₹275/m<sup>2</sup> की दर से कुएं को प्लास्टर करने की लागत ₹1,36,125 है, तो कुएं की ऊंचाई ज्ञात कीजिए। ( $\pi = \frac{22}{7}$ )

- Ans
- 1. 7.5 m
  - 2. 5.5 m
  - 3. 2.25 m
  - 4. 4.5 m

Question Type : MCQ

Question ID : 630680395482

Option 1 ID : 6306801542099

Option 2 ID : 6306801542096

Option 3 ID : 6306801542097

Option 4 ID : 6306801542098

Status : Answered

Chosen Option : 3

Q.4 40 kg, 49 kg, 56 kg, 66 kg और 37 kg वजन वाले पांच सदस्यों के एक परिवार का औसत वजन (kg में) कितना होगा?

- Ans
- 1. 49.6
  - 2. 50.6
  - 3. 51.6
  - 4. 48.6

Question Type : MCQ

Question ID : 630680551636

Option 1 ID : 6306802156769

Option 2 ID : 6306802156770

Option 3 ID : 6306802156772

Option 4 ID : 6306802156771

Status : Answered

Chosen Option : 1

Q.5 ₹ 250 प्रति kg मूल्य वाली कितनी kg चाय को ₹ 400 प्रति kg मूल्य वाली 25 kg चाय के साथ मिलाया जाना चाहिए ताकि मिश्रण को ₹ 330 प्रति kg पर बेचने पर 10% का लाभ प्राप्त हो सके?

Ans  1. 45 kg

2. 50 kg

3. 60 kg

4. 40 kg

Question Type : MCQ

Question ID : 630680815853

Option 1 ID : 6306803196746

Option 2 ID : 6306803196747

Option 3 ID : 6306803196748

Option 4 ID : 6306803196745

Status : Answered

Chosen Option : 1

Q.6 एक फिल्म की 24 टिकटों का मूल्य ₹768 है। उस फिल्म की 32 टिकटों का मूल्य (₹ में) क्या होगा? [मान लीजिए कि यहां सभी टिकटों का मूल्य एक समान है]

Ans  1. 992

2. 1024

3. 1056

4. 1040

Question Type : MCQ

Question ID : 630680310174

Option 1 ID : 6306801206826

Option 2 ID : 6306801206828

Option 3 ID : 6306801206827

Option 4 ID : 6306801206825

Status : Answered

Chosen Option : 2

Q.7 2 वर्षों के लिए 3% वार्षिक की ब्याज दर पर उधार ली गई राशि ₹3500 पर साधारण ब्याज (₹ में) ज्ञात कीजिए।

Ans  1. 150

2. 250

3. 210

4. 170

Question Type : MCQ

Question ID : 630680591958

Option 1 ID : 6306802316301

Option 2 ID : 6306802316300

Option 3 ID : 6306802316299

Option 4 ID : 6306802316302

Status : Answered

Chosen Option : 2

Q.8 नीचे दी गई तालिका पाँच शहरों में पुरुषों और महिलाओं की जनसंख्या (अनुपात में) दर्शाती है। नीचे दी गई तालिका का ध्यानपूर्वक अध्ययन कीजिए और निम्नलिखित प्रश्न का उत्तर दीजिए।

शहर	जनसंख्या	पुरुष : महिला
कानपुर	4500	5:4
बेंगलुरु	1547	4:3
पुणे	1818	5:1
मुंबई	1547	3:4
जबलपुर	1089	4:5

मुंबई और पुणे में मिलाकर पुरुषों की कुल संख्या तथा जबलपुर और बेंगलुरु में मिलाकर महिलाओं की कुल संख्या के बीच कितना अंतर है?

Ans  1. 910

2. 747

3. 760

4. 572

Question Type : MCQ

Question ID : 630680476193

Option 1 ID : 6306801860004

Option 2 ID : 6306801860005

Option 3 ID : 6306801860003

Option 4 ID : 6306801860006

Status : Answered

Chosen Option : 4

Q.9 वह सबसे बड़ी संख्या ज्ञात कीजिए, जो 12, 24 और 40 को पूर्णतः विभाजित करती है।

Ans  1. 3

2. 2

3. 4

4. 40

Question Type : MCQ

Question ID : 63068094333

Option 1 ID : 630680366027

Option 2 ID : 630680366028

Option 3 ID : 630680366029

Option 4 ID : 630680366030

Status : Answered

Chosen Option : 3

Q.10 एक व्यक्ति को 1 घंटे में 8 km की दूरी तय करनी है। यदि वह कुल समय के एक-तिहाई समय में, एक-चौथाई दूरी तय करता है, तो शेष दूरी को शेष समय में तय करने के लिए उसकी चाल (km/h में) कितनी होनी चाहिए ताकि वह व्यक्ति ठीक समय पर गंतव्य पर पहुंच जाए?

Ans  1.9

2.6

3.8

4.7

Question Type : MCQ

Question ID : 630680239294

Option 1 ID : 630680928184

Option 2 ID : 630680928187

Option 3 ID : 630680928185

Option 4 ID : 630680928186

Status : Answered

Chosen Option : 2

Q.11 3 वर्षों के लिए 4% प्रति वर्ष की ब्याज दर पर उधार ली गई राशि ₹3000 पर साधारण ब्याज (₹ में) ज्ञात कीजिए।

Ans  1.400

2.320

3.360

4.300

Question Type : MCQ

Question ID : 630680591929

Option 1 ID : 6306802316184

Option 2 ID : 6306802316186

Option 3 ID : 6306802316183

Option 4 ID : 6306802316185

Status : Answered

Chosen Option : 3

Q.12 प्रथम 8 विषम प्राकृत संख्याओं का माध्य क्या है?

Ans  1.7

2.6

3.5

4.8

Question Type : MCQ

Question ID : 630680233014

Option 1 ID : 630680904179

Option 2 ID : 630680904178

Option 3 ID : 630680904177

Option 4 ID : 630680904180

Status : Answered

Chosen Option : 4

- Q.13 (निम्नलिखित दंड आलेख वर्ष 2020 में पांच कंपनियों (P, Q, R, S, T) की आय और व्यय (लाख में) को दर्शाता है। किसी कंपनी का प्रतिशत लाभ या हानि इस प्रकार दिया गया है:

$$(\text{लाभ या हानि}) \% = \frac{I - E}{E} \times 100; \text{ जहां } I = \text{आय}, E = \text{व्यय}$$



यदि 2020 में कंपनी R की आय 2019 में उसकी आय से 10% अधिक थी और कंपनी ने 2019 में 30% का लाभ अर्जित किया था, तो 2019 में उसका लगभग व्यय (लाख में) कितना था?

- Ans
- 1. ₹51.23
  - 2. ₹58.37
  - 3. ₹61.54
  - 4. ₹63.14

Question Type : MCQ

Question ID : 630680523697

Option 1 ID : 6306802046939

Option 2 ID : 6306802046940

Option 3 ID : 6306802046941

Option 4 ID : 6306802046942

Status : Answered

Chosen Option : 2

- Q.14 दिवाली के अवसर पर, इलेक्ट्रॉनिक्स दुकान की मालकिन, रजनी अपने ग्राहकों को एक छूट योजना प्रदान करती है कि 15 सजावटी बल्ब खरीदने पर उन्हें 5 सजावटी बल्ब मुफ्त मिलेंगे। रजनी द्वारा अपने ग्राहकों को दी गई प्रभावी प्रतिशत छूट कितनी है?

- Ans
- 1. 30%
  - 2. 33%
  - 3. 20%
  - 4. 25%

Question Type : MCQ

Question ID : 630680437986

Option 1 ID : 6306801709766

Option 2 ID : 6306801709767

Option 3 ID : 6306801709764

Option 4 ID : 6306801709765

Status : Answered

Chosen Option : 1

Q.15 एक आदमी ने ₹10,000 में एक बैल और एक गाड़ी खरीदी। उसने बैल को 30% के लाभ पर और गाड़ी को 20% की हानि पर बेच दिया, इस प्रकार कुल मिलाकर 2% का लाभ हुआ। बैल का क्रय मूल्य ज्ञात कीजिए।

Ans  1. ₹4,400

2. ₹5,400

3. ₹5,600

4. ₹4,600

Question Type : MCQ

Question ID : 630680455845

Option 1 ID : 6306801780328

Option 2 ID : 6306801780330

Option 3 ID : 6306801780329

Option 4 ID : 6306801780327

Status : Answered

Chosen Option : 3

Q.16 एक आदमी अपनी आय का 12% भोजन पर, 18% बच्चों की शिक्षा पर और शेष का 70% घर के किराए पर खर्च करता है। उसके पास अपनी आय का कितना प्रतिशत बचता है?

Ans  1. 20%

2. 30%

3. 21%

4. 28%

Question Type : MCQ

Question ID : 630680464491

Option 1 ID : 6306801814002

Option 2 ID : 6306801813999

Option 3 ID : 6306801814001

Option 4 ID : 6306801814000

Status : Answered

Chosen Option : 1

Q.17 एक बेईमान दुकानदार अपने सामान को क्रय मूल्य पर बेचने का दावा करता है। हालाँकि, वह एक ऐसे बाट का उपयोग करता है जिसका वजन वास्तव में उस बाट पर लिखे वजन से 49% कम है। उसका लाभ प्रतिशत ज्ञात कीजिए।

Ans

✓ 1.  $96\frac{4}{51}\%$

✗ 2.  $98\frac{8}{51}\%$

✗ 3.  $97\frac{5}{51}\%$

✗ 4.  $95\frac{4}{51}\%$

Question Type : MCQ

Question ID : 630680919322

Option 1 ID : 6306803602478

Option 2 ID : 6306803602479

Option 3 ID : 6306803602481

Option 4 ID : 6306803602480

Status : Answered

Chosen Option : 1

Q.18 एक व्यक्ति यात्रा का पहला आधा भाग 60 km/h की चाल से और शेष भाग 84 km/h की चाल से तय करता है। उसकी औसत चाल (km/h में) कितनी है?

Ans

✗ 1. 60

✓ 2. 70

✗ 3. 65

✗ 4. 75

Question Type : MCQ

Question ID : 630680633848

Option 1 ID : 6306802481294

Option 2 ID : 6306802481295

Option 3 ID : 6306802481293

Option 4 ID : 6306802481292

Status : Answered

Chosen Option : 3

Q.19 एक लंब वृत्तीय शंकु के आधार का क्षेत्रफल  $308 \text{ cm}^2$  है और इसकी ऊँचाई  $7\sqrt{2}$  cm है। इसका वक्र पृष्ठीय क्षेत्रफल ( $\text{cm}^2$  में) ज्ञात करें। ( $\pi = \frac{22}{7}$  का उपयोग करें)

Ans  1.  $308\sqrt{2}$

2.  $325\sqrt{5}$

3.  $308\sqrt{3}$

4.  $320\sqrt{3}$

Question Type : MCQ

Question ID : 630680378649

Option 1 ID : 6306801475643

Option 2 ID : 6306801475646

Option 3 ID : 6306801475644

Option 4 ID : 6306801475645

Status : Answered

Chosen Option : 2

Q.20 एक व्यक्ति 10% वार्षिक साधारण ब्याज पर 4 वर्षों के लिए ₹18,000 उधार लेता है। वह इसे किसी अन्य व्यक्ति को 3 वर्ष के लिए 15% वार्षिक दर पर उधार देता है। प्रति वर्ष लेन-देन में उसका औसत लाभ (₹ में) कितना है?

Ans  1. 375

2. 225

3. 900

4. 450

Question Type : MCQ

Question ID : 630680421273

Option 1 ID : 6306801643569

Option 2 ID : 6306801643570

Option 3 ID : 6306801643568

Option 4 ID : 6306801643567

Status : Answered

Chosen Option : 3

Section : Reasoning Ability and Problem Solving

Q.1 निम्नलिखित श्रृंखला को जारी रखने के लिए प्रश्न चिह्न (?) के स्थान पर कौन-सी आकृति आनी चाहिए?

Z X	X △	△ 8	8 X	?
8	6	Z	□	
□ △ 6 Z	□ 8 6	X □ △	6 Z	

Ans

✓ 1.

X Z
△
□ 8 6

✗ 2.

X □
8
Z △ 6

✗ 3.

Z 8
△
□ 6 X

✗ 4.

□ X
6
X 8 △

Question Type : MCQ

Question ID : 630680214434

Option 1 ID : 630680831769

Option 2 ID : 630680831768

Option 3 ID : 630680831767

Option 4 ID : 630680831770

Status : Answered

Chosen Option : 1

Q.2 दिए गए समीकरण को संतुलित करने के लिए किन दो संख्याओं को आपस में बदला जाना चाहिए?  
 $52 + 44 - 38 \div 2 + 13 \times 4 - 26 = 97$   
(नोट: अदला-बदली पूरी संख्या की होनी चाहिए, न कि दी गई संख्या के अलग-अलग अंकों की)

- Ans
- 1. 44 और 38
  - 2. 38 और 26
  - 3. 52 और 38
  - 4. 44 और 26

Question Type : MCQ

Question ID : 630680413408

Option 1 ID : 6306801612457

Option 2 ID : 6306801612456

Option 3 ID : 6306801612459

Option 4 ID : 6306801612458

Status : Answered

Chosen Option : 2

Q.3 एक निश्चित कूट भाषा में, 'All men fight' को 'AO EI UH' के रूप में कूटबद्ध किया जाता है और 'men shave everyday' को 'MN TP EI' के रूप में कूटबद्ध किया जाता है। इसी कूट भाषा में 'men' को किस प्रकार कूटबद्ध किया जाएगा?

- Ans
- 1. EI
  - 2. TP
  - 3. UH
  - 4. AO

Question Type : MCQ

Question ID : 630680380411

Option 1 ID : 6306801482639

Option 2 ID : 6306801482642

Option 3 ID : 6306801482641

Option 4 ID : 6306801482640

Status : Answered

Chosen Option : 1

**Q.4** नीचे दिए गए कथन/कथनों और निष्कर्षों को ध्यानपूर्वक पढ़िए। आपको मानना है कि दिए गए कथन सत्य हैं चाहे वे सामान्यतः ज्ञात तथ्यों से अलग प्रतीत होते हों। आपको निश्चय करना है कि कौन-सा/कौन-से निष्कर्ष तार्किक रूप से दिए गए कथन/कथनों के अनुसार है/हैं।  
कथन: कुछ केक, मिठाइयां हैं। सभी मिठाइयां, फल हैं।

निष्कर्ष:

- (I) कुछ फल, मिठाइयां हैं।
- (II) सभी केक, फल हैं।

**Ans**

- 1. न तो निष्कर्ष (I) और न ही (II) कथनों के अनुसार है।
- 2. दोनों निष्कर्ष (I) और (II) कथनों के अनुसार हैं।
- 3. केवल निष्कर्ष (I) कथनों के अनुसार है।
- 4. केवल निष्कर्ष (II) कथनों के अनुसार है।

Question Type : **MCQ**

Question ID : **630680439102**

Option 1 ID : **6306801714222**

Option 2 ID : **6306801714223**

Option 3 ID : **6306801714220**

Option 4 ID : **6306801714221**

Status : **Answered**

Chosen Option : **1**

**Q.5** एक निश्चित कूट भाषा में, 'CURD' को '2436' के रूप में कूटबद्ध किया गया है और 'DOGS' को '3719' के रूप में कूटबद्ध किया गया है। उसी कूटभाषा में 'D' के लिए कूट क्या होगा?

**Ans**

- 1. 2
- 2. 3
- 3. 1
- 4. 6

Question Type : **MCQ**

Question ID : **630680846730**

Option 1 ID : **6306803316650**

Option 2 ID : **6306803316648**

Option 3 ID : **6306803316649**

Option 4 ID : **6306803316651**

Status : **Answered**

Chosen Option : **2**

Q.6 दिए गए कथनों और निष्कर्षों को ध्यानपूर्वक पढ़िए। यह मानते हुए कि कथनों में दी गई सूचना सत्य है, भले ही यह सामान्यतः ज्ञात तथ्यों से भिन्न प्रतीत होती हो, निर्णय कीजिए कि दिए गए निष्कर्षों में से कौन सा/से निष्कर्ष कथनों का तार्किक रूप से अनुसरण करता/करते है/हैं।

कथन:

- A. कोई कैप, हैट नहीं है।  
B. कुछ हैट, हेलमेट हैं।

निष्कर्ष:

- I. सभी हेलमेट, कैप हैं।  
II. कुछ हेलमेट, हैट हैं।

- Ans  1. दोनों निष्कर्ष अनुसरण करते हैं।  
 2. केवल निष्कर्ष I अनुसरण करता है।  
 3. केवल निष्कर्ष II अनुसरण करता है।  
 4. कोई भी निष्कर्ष अनुसरण नहीं करता है।

Question Type : MCQ

Question ID : 630680179922

Option 1 ID : 630680697478

Option 2 ID : 630680697476

Option 3 ID : 630680697477

Option 4 ID : 630680697479

Status : Answered

Chosen Option : 3

Q.7 अंग्रेजी वर्णमाला क्रम के आधार पर दी गई श्रृंखला में प्रश्न चिह्न (?) के स्थान पर क्या आना चाहिए?

ABC, EFG, IJK, MNO, ?

- Ans  1. QRS  
 2. STU  
 3. TUV  
 4. UVW

Question Type : MCQ

Question ID : 630680441675

Option 1 ID : 6306801724317

Option 2 ID : 6306801724316

Option 3 ID : 6306801724315

Option 4 ID : 6306801724314

Status : Answered

Chosen Option : 1

Q.8 एक निश्चित कूट भाषा में, 'find the key' को 'so hd sm' लिखा जाता है और 'key to success' को 'gj so la' लिखा जाता है। उसी कूट भाषा में 'key' को कैसे लिखा जाएगा?

Ans  1. gi

2. so

3. sm

4. la

Question Type : MCQ

Question ID : 630680502779

Option 1 ID : 6306801964700

Option 2 ID : 6306801964699

Option 3 ID : 6306801964698

Option 4 ID : 6306801964697

Status : Answered

Chosen Option : 2

Q.9 अंग्रेजी वर्णमाला क्रम के आधार पर HPML एक निश्चित प्रकार से MURQ से संबंधित है। ठीक उसी प्रकार CJGF, HOLK से संबंधित है। समान तर्क का अनुसरण करते हुए, RZVV निम्नलिखित में से किससे संबंधित है?

Ans  1. ABWE

2. WEAB

3. WEBA

4. ABEW

Question Type : MCQ

Question ID : 630680386857

Option 1 ID : 6306801508140

Option 2 ID : 6306801508139

Option 3 ID : 6306801508138

Option 4 ID : 6306801508141

Status : Answered

Chosen Option : 3

Q.10 A, B, C, D, E, F और G एक वृत्ताकार मेज के चारों ओर केंद्र की ओर मुख करके बैठे हैं (परंतु जरूरी नहीं कि वे इसी क्रम में बैठे हों)। C, उस E के बाएँ से दूसरे स्थान पर बैठा है, जो A के बाएँ से तीसरे स्थान पर बैठा है। G, उस B के दाएँ से तीसरे स्थान पर बैठा है, जो F का निकटतम पड़ोसी नहीं है। D, B के दाएँ से दूसरे स्थान पर बैठा है। D के बाएँ से गिनती करने पर D और A के बीच में कितने व्यक्ति बैठे हैं?

Ans  1. चार

2. दो

3. तीन

4. एक

Question Type : MCQ

Question ID : 630680382172

Option 1 ID : 6306801489606

Option 2 ID : 6306801489604

Option 3 ID : 6306801489605

Option 4 ID : 6306801489603

Status : Answered

Chosen Option : 2

Q.11 49, एक निश्चित तर्क का अनुसरण करते हुए 96 से संबंधित है। 54, समान तर्क का अनुसरण करते हुए 106 से संबंधित है। समान तर्क का अनुसरण करते हुए, 36, निम्नलिखित में से किससे संबंधित है?

(ध्यान दें: संख्याओं को उनके घटक अंकों में अलग-अलग किए बिना पूर्ण संख्याओं पर संक्रियाएं की जानी चाहिए। उदाहरण के लिए संख्या 13 - संख्या 13 पर संक्रियाएं जैसे 13 को जोड़ना/घटाना/गुणा करना आदि किया जा सकता है। 13 को 1 और 3 में अलग-अलग करने की और फिर 1 और 3 पर गणितीय संक्रियाएं करने की अनुमति नहीं है।)

- Ans
- 1. 62
  - 2. 78
  - 3. 70
  - 4. 56

Question Type : MCQ

Question ID : 630680449086

Option 1 ID : 6306801753505

Option 2 ID : 6306801753504

Option 3 ID : 6306801753502

Option 4 ID : 6306801753503

Status : Answered

Chosen Option : 3

Q.12 दिए गए विकल्पों में से उस संख्या का चयन कीजिए जो निम्नलिखित श्रृंखला में प्रश्न-चिह्न (?) के स्थान पर आ सकती है।

[6/5], [3/2], [9/5], [21/10], [12/5], ?

- Ans
- 1. 5/2
  - 2. 27/10
  - 3. 29/10
  - 4. 9/2

Question Type : MCQ

Question ID : 630680221546

Option 1 ID : 630680860034

Option 2 ID : 630680860033

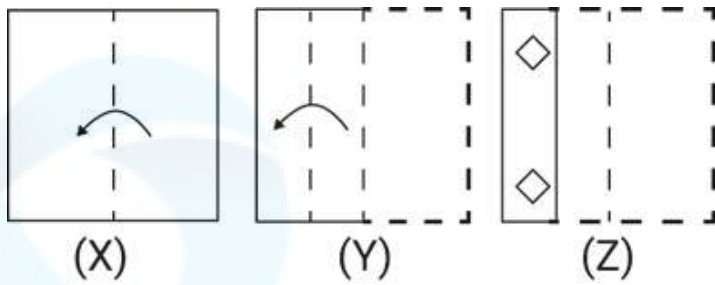
Option 3 ID : 630680860035

Option 4 ID : 630680860036

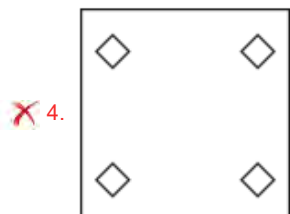
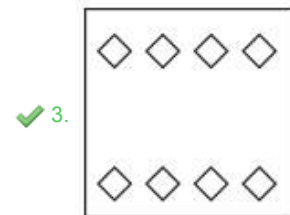
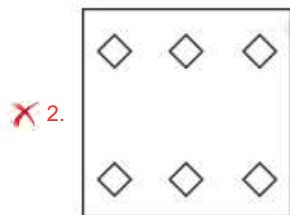
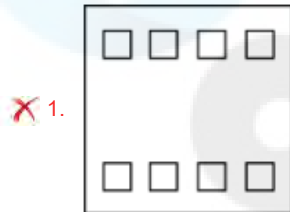
Status : Answered

Chosen Option : 2

Q.13 कागज़ की एक वर्गाकार शीट को दर्शाई गई दिशाओं में बिंदुदार रेखा के अनुदिश क्रमशः मोड़ा जाता है और अंतिम बार मोड़ने के बाद फिर इसमें छेद किया जाता है। खोले जाने पर यह कागज़ कैसा दिखाई देगा?



Ans



Question Type : MCQ

Question ID : 630680524676

Option 1 ID : 6306802050806

Option 2 ID : 6306802050804

Option 3 ID : 6306802050803

Option 4 ID : 6306802050805

Status : Answered

Chosen Option : 3

Q.14 निम्नलिखित संख्या-युग्मों में, पहली संख्या पर कुछ गणितीय संक्रियाएँ करके दूसरी संख्या प्राप्त की गई है। उस समुच्चय का चयन करें जिसमें संख्याएँ उसी तरह से संबंधित हैं जैसे कि निम्नलिखित समुच्चयों की संख्याएँ संबंधित हैं।

(ध्यान दें: संख्याओं को उनके घटक अंकों में अलग-अलग किए बिना पूर्ण संख्याओं पर संक्रियाएँ की जानी चाहिए। उदाहरण के लिए संख्या 13 - संख्या 13 पर संक्रियाएँ जैसे 13 को जोड़ना/घटाना/गुणा करना आदि किया जा सकता है। 13 को 1 और 3 में अलग-अलग करने की और फिर 1 और 3 पर गणितीय संक्रियाएँ करने की अनुमति नहीं है।)

27, 109  
31, 125

Ans  1. 36, 145

2. 36, 144

3. 35, 145

4. 35, 144

Question Type : MCQ

Question ID : 6306801027609

Option 1 ID : 6306804033121

Option 2 ID : 6306804033122

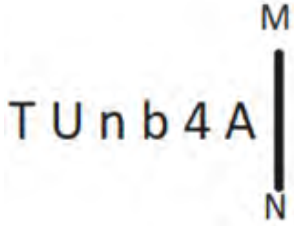
Option 3 ID : 6306804033123

Option 4 ID : 6306804033124

Status : Answered

Chosen Option : 1

Q.15 यदि दर्पण को नीचे दिखाए गए अनुसार MN पर रखा जाए, तो दी गई आकृति के सही दर्पण प्रतिबिंब का चयन कीजिए।



Ans

1. A P d n U T

2. v V q u U T

3. A P d n U T

4. 4 A d n U T

Question Type : MCQ

Question ID : 630680525312

Option 1 ID : 6306802053332

Option 2 ID : 6306802053335

Option 3 ID : 6306802053334

Option 4 ID : 6306802053333

Status : Answered

Chosen Option : 3

Q.16 यदि '+' और '-' को आपस में बदल दिया जाए तथा 'x' और '÷' को आपस में बदल दिया जाए, तो निम्नलिखित समीकरण में प्रश्न-चिह्न (?) के स्थान पर क्या आएगा?  
 $2 \div 70 \times 2 - 30 + 30 = ?$

- Ans
- 1. 66
  - 2. 69
  - 3. 68
  - 4. 70

Question Type : MCQ

Question ID : 630680273690

Option 1 ID : 6306801063280

Option 2 ID : 6306801063279

Option 3 ID : 6306801063281

Option 4 ID : 6306801063282

Status : Answered

Chosen Option : 4

Q.17 NGMI अंग्रेजी वर्णमाला क्रम के आधार पर एक निश्चित तरीके से LEKG से संबंधित है। उसी तरीके से QJPL, OHNJ से संबंधित है। उसी तर्क का अनुसरण करते हुए, TMSO निम्नलिखित में से किससे संबंधित है?

- Ans
- 1. KRMQ
  - 2. KEQM
  - 3. RKQM
  - 4. RKMQ

Question Type : MCQ

Question ID : 630680436064

Option 1 ID : 6306801702199

Option 2 ID : 6306801702200

Option 3 ID : 6306801702197

Option 4 ID : 6306801702198

Status : Answered

Chosen Option : 3

Q.18 एक निश्चित कूट भाषा में, 'HOME' को '7519' के रूप में कूटबद्ध किया जाता है और 'MUST' को '6782' के रूप में कूटबद्ध किया जाता है। उस भाषा में 'M' के लिए कूट क्या है?

- Ans
- 1. 7
  - 2. 2
  - 3. 1
  - 4. 6

Question Type : MCQ

Question ID : 630680449951

Option 1 ID : 6306801756974

Option 2 ID : 6306801756976

Option 3 ID : 6306801756975

Option 4 ID : 6306801756977

Status : Answered

Chosen Option : 1

Q.19 आठ मित्र, J, K, L, M, N, O, P और Q एक गोल मेज के चारों ओर केंद्र की ओर मुख करके बैठे हैं (परंतु जरूरी नहीं कि वे इसी क्रम में बैठे हों)। Q और M दोनों का निकटतम पड़ोसी K है। P और J दोनों का निकटतम पड़ोसी N है। L, J के ठीक दाएं बैठा है। K, Q के ठीक बाएं बैठा है और O के दाएं से दूसरे स्थान पर बैठा है।  
M के ठीक दाएं कौन बैठा है?

- Ans
- 1. P
  - 2. J
  - 3. K
  - 4. O

Question Type : **MCQ**

Question ID : **630680383302**

Option 1 ID : **6306801494107**

Option 2 ID : **6306801494109**

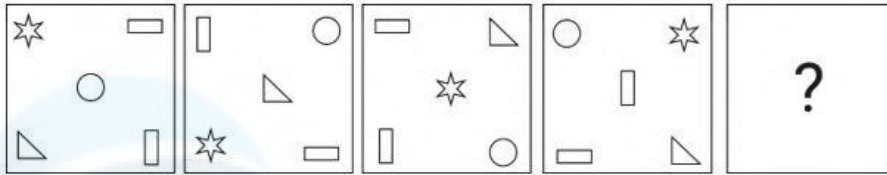
Option 3 ID : **6306801494108**

Option 4 ID : **6306801494110**

Status : **Answered**

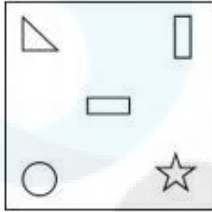
Chosen Option : **3**

Q.20 विकल्पों में दी गई उस आकृति की पहचान कीजिए, जिसे प्रश्न-चिह्न (?) के स्थान पर रखने पर श्रृंखला तार्किक रूप से पूर्ण हो जाएगी।

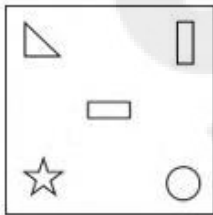


Ans

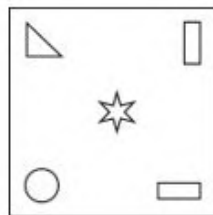
✓ 1.



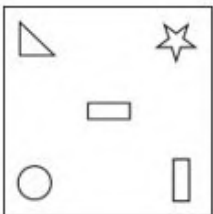
✗ 2.



✗ 3.



✗ 4.



Question Type : MCQ

Question ID : 630680273250

Option 1 ID : 6306801061545

Option 2 ID : 6306801061546

Option 3 ID : 6306801061544

Option 4 ID : 6306801061543

Status : Answered

Chosen Option : 1

Q.1 श्रम एवं रोजगार सांख्यिकी 2022 के अनुसार, पहले कॉलम में राज्यों का दूसरे कॉलम में दी गई वर्ष 2020-21 में उनकी बेरोजगारी दर से मिलान कीजिए।

i) केरल	a) 6.3%
ii) गोवा	b) 10.1%
iii) हरियाणा	c) 6.9%
iv) उत्तराखंड	d) 10.5%

- Ans
- 1. i) d, ii) b, iii) c, iv) a
  - 2. i) d, ii) c, iii) b, iv) a
  - 3. i) b, ii) d, iii) a, iv) c
  - 4. i) a, ii) c, iii) d, iv) b

Question Type : MCQ

Question ID : 630680488876

Option 1 ID : 6306801909490

Option 2 ID : 6306801909489

Option 3 ID : 6306801909491

Option 4 ID : 6306801909492

Status : Answered

Chosen Option : 2

Q.2 भारत के संविधान के कौन-से अनुच्छेद केंद्र में सरकार के संसदीय स्वरूप का प्रावधान करते हैं?

- Ans
- 1. अनुच्छेद 79 और 80
  - 2. अनुच्छेद 76 और 77
  - 3. अनुच्छेद 74 और 75
  - 4. अनुच्छेद 71 और 72

Question Type : MCQ

Question ID : 630680132037

Option 1 ID : 630680511325

Option 2 ID : 630680511323

Option 3 ID : 630680511324

Option 4 ID : 630680511322

Status : Answered

Chosen Option : 1

Q.3 1950 में भारत के प्रथम गणतंत्र दिवस के मुख्य अतिथि निम्नलिखित में से कौन थे?

- Ans
- 1. क्वीन एलिज़ाबेथ (Queen Elizabeth)
  - 2. जॉर्जी ज़ुकोव (Georgy Zhukov)
  - 3. सुकर्णो (Sukarno)
  - 4. राणा अब्दुल हामिद (Rana Abdul Hamid)

Question Type : MCQ

Question ID : 630680434122

Option 1 ID : 6306801694441

Option 2 ID : 6306801694440

Option 3 ID : 6306801694439

Option 4 ID : 6306801694442

Status : Answered

Chosen Option : 1

Q.4 2022 में, सोनू निगम को निम्नलिखित में से किस क्षेत्र में पद्म श्री से सम्मानित किया गया था?

- Ans
- 1. खेल (Sports)
  - 2. लोक कार्य (Public Affairs)
  - 3. सिविल सेवा (Civil Service)
  - 4. कला (Art)

Question Type : MCQ  
Question ID : 630680487614  
Option 1 ID : 6306801904528  
Option 2 ID : 6306801904526  
Option 3 ID : 6306801904529  
Option 4 ID : 6306801904527  
Status : Answered  
Chosen Option : 4

Q.5 निम्नलिखित में से किस वर्ष 'भारत छोड़ो आंदोलन' शुरू हुआ था?

- Ans
- 1. 1920
  - 2. 1935
  - 3. 1919
  - 4. 1942

Question Type : MCQ  
Question ID : 630680682876  
Option 1 ID : 6306802674248  
Option 2 ID : 6306802674250  
Option 3 ID : 6306802674247  
Option 4 ID : 6306802674249  
Status : Answered  
Chosen Option : 4

Q.6 निम्नलिखित में से कौन-सा, भारत का पहला क्षेत्रीय ग्रामीण बैंक (Regional Rural Bank) था?

- Ans
- 1. विश्वास बैंक (Vishwas Bank)
  - 2. प्रथम बैंक (Pratham Bank)
  - 3. उत्कर्ष बैंक (Utkarsh Bank)
  - 4. बंधन बैंक (Bandhan Bank)

Question Type : MCQ  
Question ID : 630680215971  
Option 1 ID : 630680837860  
Option 2 ID : 630680837862  
Option 3 ID : 630680837861  
Option 4 ID : 630680837859  
Status : Answered  
Chosen Option : 1

Q.7 निम्नलिखित में से कौन-सा पुरस्कार मध्य प्रदेश सरकार द्वारा प्रायोजित नहीं है?

- Ans  1. किशोर कुमार सम्मान  
 2. टैगोर रत्न  
 3. देवी अहिल्याबाई पुरस्कार  
 4. तुलसी सम्मान

Question Type : MCQ

Question ID : 630680512006

Option 1 ID : 6306802000995

Option 2 ID : 6306802000997

Option 3 ID : 6306802000996

Option 4 ID : 6306802000994

Status : Answered

Chosen Option : 2

Q.8 मैत्रिका वंश (Maitraka dynasty) की स्थापना भारत के किस भाग में हुई थी?

- Ans  1. पश्चिमी  
 2. उत्तरी  
 3. दक्षिणी  
 4. पूर्वी

Question Type : MCQ

Question ID : 63068092821

Option 1 ID : 630680359975

Option 2 ID : 630680359977

Option 3 ID : 630680359978

Option 4 ID : 630680359976

Status : Answered

Chosen Option : 3

Q.9 निम्नलिखित में से कौन-सा तत्व कमरे के तापमान (25°C) पर द्रव अवस्था में होता है?

- Ans  1. ब्रोमीन और पारा (मर्करी)  
 2. हीलियम और क्लोरीन  
 3. ब्रोमीन और क्लोरीन  
 4. हीलियम और पारा (मर्करी)

Question Type : MCQ

Question ID : 630680102241

Option 1 ID : 630680397249

Option 2 ID : 630680397250

Option 3 ID : 630680397247

Option 4 ID : 630680397248

Status : Answered

Chosen Option : 4

Q.10 निम्नलिखित में से कौन-सी नृत्य शैली पूर्वी भारत के मुख्य रूप से ओडिशा, झारखंड और पश्चिम बंगाल जैसे राज्यों से संबंधित है?

- Ans  1. कथक  
 2. छऊ  
 3. कुचिपुड़ी  
 4. भरतनाट्यम

Question Type : MCQ  
Question ID : 630680545599  
Option 1 ID : 6306802132989  
Option 2 ID : 6306802132988  
Option 3 ID : 6306802132991  
Option 4 ID : 6306802132990  
Status : Answered  
Chosen Option : 4

Q.11 निम्नलिखित में से कौन-सी फसल भारत में खरीफ के मौसम में उगाई जाती है?

- Ans  1. सोयाबीन  
 2. जौ  
 3. सरसों  
 4. खीरा

Question Type : MCQ  
Question ID : 630680798977  
Option 1 ID : 6306803130709  
Option 2 ID : 6306803130706  
Option 3 ID : 6306803130708  
Option 4 ID : 6306803130707  
Status : Answered  
Chosen Option : 1

Q.12 पानी को एक स्थान से दूसरे स्थान तक पहुँचाने के लिए, दूर वाले स्थान पर पानी वितरित करने में उपयोग की जाने वाली कुछ मानव निर्मित संरचनाओं को \_\_\_\_\_ कहा जाता है।

- Ans  1. जलसेतु (aqueducts)  
 2. जलीय ईंधन (aquifuge)  
 3. मितजलभृत (aquiclude)  
 4. एकफायर (aquifer)

Question Type : MCQ  
Question ID : 630680455440  
Option 1 ID : 6306801778674  
Option 2 ID : 6306801778676  
Option 3 ID : 6306801778677  
Option 4 ID : 6306801778675  
Status : Answered  
Chosen Option : 1

Q.13 निम्नलिखित में से कौन आधुनिक ओलंपिक में पहला/पहली भारतीय प्रतिनिधि थे/थी?

- Ans
- 1. मिल्खा सिंह (Milkha Singh)
  - 2. के.डी. जाधव (KD Jadhav)
  - 3. नीलिमा घोष (Nilima Ghose)
  - 4. नॉर्मन प्रिचर्ड (Norman Pritchard)

Question Type : MCQ

Question ID : 630680799021

Option 1 ID : 6306803130889

Option 2 ID : 6306803130886

Option 3 ID : 6306803130888

Option 4 ID : 6306803130887

Status : Answered

Chosen Option : 1

Q.14 अल्टीमेट खो-खो लीग सीज़न 2 (Ultimate Kho-Kho League Season 2) प्रतियोगिता किस टीम ने जीती?

- Ans
- 1. तेलुगु योद्धाज (Telugu Yoddhas)
  - 2. मुंबई खिलाड़ीज (Mumbai Khiladis)
  - 3. चेन्नई क्रिक गन्स (Chennai Quick Guns)
  - 4. गुजरात जाइंट्स (Gujarat Giants)

Question Type : MCQ

Question ID : 630680571839

Option 1 ID : 6306802236255

Option 2 ID : 6306802236254

Option 3 ID : 6306802236253

Option 4 ID : 6306802236252

Status : Answered

Chosen Option : 2

Q.15 सरीसृपों के संदर्भ में, उनका हृदय पूर्ण रूप से चार कक्षों में विभाजित नहीं होता है, यानी इसमें दो आलिंद और एक अपूर्ण रूप से विभाजित निलय होता है। निम्नलिखित में से कौन-सा चार-कक्षीय हृदय वाले सरीसृप का एक उदाहरण है?

- Ans
- 1. छिपकली
  - 2. कछुए
  - 3. साँप
  - 4. मगरमच्छ

Question Type : MCQ

Question ID : 630680311101

Option 1 ID : 6306801210519

Option 2 ID : 6306801210520

Option 3 ID : 6306801210518

Option 4 ID : 6306801210517

Status : Answered

Chosen Option : 3

Q.16 अनुच्छेद \_\_\_\_\_ A, भारतीय संविधान के 11वें मौलिक कर्तव्य का पूरक (supplements) है।

Ans  1. 28

2. 46

3. 33

4. 21

Question Type : MCQ

Question ID : 630680550299

Option 1 ID : 6306802151460

Option 2 ID : 6306802151462

Option 3 ID : 6306802151461

Option 4 ID : 6306802151459

Status : Answered

Chosen Option : 4

Q.17 सम्राट चौधरी और विजय कुमार सिन्हा 28 जनवरी 2024 को \_\_\_\_\_ के उपमुख्यमंत्री बने।

Ans  1. ओडिशा

2. पश्चिम बंगाल

3. बिहार

4. झारखंड

Question Type : MCQ

Question ID : 630680468463

Option 1 ID : 6306801829651

Option 2 ID : 6306801829650

Option 3 ID : 6306801829652

Option 4 ID : 6306801829653

Status : Answered

Chosen Option : 3

Q.18 निम्नलिखित में से किसने विजयनगर साम्राज्य के सुलुव राजवंश की स्थापना की थी?

Ans  1. बुक्क राय प्रथम

2. नरसिंह देव राय

3. राम देव राय

4. कृष्णदेव राय

Question Type : MCQ

Question ID : 630680302806

Option 1 ID : 6306801177886

Option 2 ID : 6306801177888

Option 3 ID : 6306801177887

Option 4 ID : 6306801177889

Status : Answered

Chosen Option : 4

Q.19 निम्नलिखित में से कौन-सी भीष्म साहनी की आत्मकथा है?

- Ans
- 1. आत्म परिचय
  - 2. पंखहीन
  - 3. अर्हदकथा
  - 4. आज के अतीत

Question Type : MCQ

Question ID : 630680512330

Option 1 ID : 6306802002292

Option 2 ID : 6306802002291

Option 3 ID : 6306802002293

Option 4 ID : 6306802002290

Status : Answered

Chosen Option : 1

Q.20 भारत की संविधान सभा की प्रारूप समिति के अध्यक्ष कौन थे?

- Ans
- 1. भीमराव अंबेडकर
  - 2. वल्लभभाई पटेल
  - 3. जे.बी. कृपलानी
  - 4. राजेन्द्र प्रसाद

Question Type : MCQ

Question ID : 630680511606

Option 1 ID : 6306801999548

Option 2 ID : 6306801999547

Option 3 ID : 6306801999549

Option 4 ID : 6306801999546

Status : Answered

Chosen Option : 1

Q.21 FY 2023-24 की पहली तिमाही में 'प्रधानमंत्री मुद्रा योजना' (PMMY) ऋणों के वितरण में पिछले वर्ष की समान तिमाही की तुलना में कितने प्रतिशत की वृद्धि हुई, यदि वितरण ₹62,650 करोड़ से बढ़कर ₹81,597 करोड़ तक पहुँच गया?

- Ans
- 1. 20%
  - 2. 15%
  - 3. 27%
  - 4. 23%

Question Type : MCQ

Question ID : 630680469541

Option 1 ID : 6306801833932

Option 2 ID : 6306801833931

Option 3 ID : 6306801833934

Option 4 ID : 6306801833933

Status : Answered

Chosen Option : 3

Q.22 वल्लभी प्रकार (Valabhi type) के नागर मंदिर सामान्यतः आकार में \_\_\_\_\_ होते हैं, जिनकी छत, महाराबी कक्ष (vaulted chamber) में उठी होती है।

- Ans
- 1. त्रिभुजाकार
  - 2. वर्गाकार
  - 3. आयताकार
  - 4. वृत्ताकार

Question Type : MCQ

Question ID : 630680571551

Option 1 ID : 6306802235240

Option 2 ID : 6306802235237

Option 3 ID : 6306802235238

Option 4 ID : 6306802235239

Status : Answered

Chosen Option : 3

Q.23 दुर्ग-बस्तर-चंद्रपुर लौह अयस्क पट्टी (Durg-Bastar-Chandrapur iron ore belt) निम्नलिखित में से किस राज्य समूह में स्थित है?

- Ans
- 1. ओडिशा - झारखंड
  - 2. छत्तीसगढ़ - महाराष्ट्र
  - 3. कर्नाटक - गोवा
  - 4. मध्य प्रदेश - गुजरात

Question Type : MCQ

Question ID : 630680476100

Option 1 ID : 6306801859671

Option 2 ID : 6306801859674

Option 3 ID : 6306801859673

Option 4 ID : 6306801859672

Status : Answered

Chosen Option : 4

Q.24 जिस व्यक्ति का विकास अवरुद्ध हो गया है और बालों का रंग फीका पड़ गया है, वह संभवतः \_\_\_\_\_ से पीड़ित हो सकता है।

- Ans
- 1. विटामिन A की कमी
  - 2. प्रोटीन की कमी
  - 3. वसा (लिपिड) की कमी
  - 4. ग्लूकोज की कमी

Question Type : MCQ

Question ID : 630680544256

Option 1 ID : 6306802127799

Option 2 ID : 6306802127798

Option 3 ID : 6306802127801

Option 4 ID : 6306802127800

Status : Answered

Chosen Option : 3

Q.25 भारत में बहुआयामी गरीबी सूचकांक किस वर्ष शुरू किया गया था?

Ans  1. 2023

2. 2021

3. 2020

4. 2022

Question Type : MCQ

Question ID : 630680488670

Option 1 ID : 6306801908698

Option 2 ID : 6306801908696

Option 3 ID : 6306801908695

Option 4 ID : 6306801908697

Status : Answered

Chosen Option : 4

Section : English Language and Comprehension

Q.1 Select the most appropriate synonym of the given word.  
Benevolent

Ans  1. Mysterious

2. Enthusiastic

3. Hostile

4. Kind

Question Type : MCQ

Question ID : 630680427107

Option 1 ID : 6306801666504

Option 2 ID : 6306801666502

Option 3 ID : 6306801666501

Option 4 ID : 6306801666503

Status : Answered

Chosen Option : 2

Q.2 Select the most appropriate idiom that can substitute the underlined segment in the given sentence.

Bheem has been shown in the popular culture as someone who eats in large quantity.

Ans  1. eat humble pie

2. eats like a horse

3. eat like a bird

4. chews the fat

Question Type : MCQ

Question ID : 630680726524

Option 1 ID : 6306802847103

Option 2 ID : 6306802847102

Option 3 ID : 6306802847105

Option 4 ID : 6306802847104

Status : Answered

Chosen Option : 2

**Q.3 Rectify the error in the given sentence by selecting the correct spelling from the options provided.**

The nights of King Arthur were known for their chivalry.

- Ans  1. naughts  
 2. knots  
 3. nites  
 4. knights

Question Type : **MCQ**  
Question ID : **630680624332**  
Option 1 ID : **6306802443491**  
Option 2 ID : **6306802443492**  
Option 3 ID : **6306802443489**  
Option 4 ID : **6306802443490**  
Status : **Answered**  
Chosen Option : **4**

**Q.4 Select the INCORRECTLY spelt word.**

- Ans  1. Always  
 2. Altogether  
 3. Until  
 4. Fulfeel

Question Type : **MCQ**  
Question ID : **630680454133**  
Option 1 ID : **6306801773468**  
Option 2 ID : **6306801773469**  
Option 3 ID : **6306801773470**  
Option 4 ID : **6306801773467**  
Status : **Answered**  
Chosen Option : **4**

**Q.5 Select the most appropriate option to fill in the blank.**

The teacher asked us to \_\_\_\_\_ the main idea of the passage in the exam.

- Ans  1. underestimate  
 2. summarise  
 3. conclusion  
 4. plagiarise

Question Type : **MCQ**  
Question ID : **630680488659**  
Option 1 ID : **6306801908653**  
Option 2 ID : **6306801908652**  
Option 3 ID : **6306801908651**  
Option 4 ID : **6306801908654**  
Status : **Answered**  
Chosen Option : **1**

**Q.6** In the following sentence the underlined part contains an error. Alternatives to the underlined part are given as options.  
Select the correct alternative.  
I want to buy the less expensive bike, but with the best mileage.

- Ans
- 1. most less
  - 2. little
  - 3. least
  - 4. lesser

Question Type : **MCQ**  
Question ID : **630680514703**  
Option 1 ID : **6306802011438**  
Option 2 ID : **6306802011440**  
Option 3 ID : **6306802011437**  
Option 4 ID : **6306802011439**  
Status : **Answered**  
Chosen Option : 1

**Q.7** Select the most appropriate ANTONYM of the underlined word in the given sentence.  
He is known for his humility.

- Ans
- 1. Beauty
  - 2. Agility
  - 3. Pride
  - 4. Knowledge

Question Type : **MCQ**  
Question ID : **630680439307**  
Option 1 ID : **6306801715035**  
Option 2 ID : **6306801715034**  
Option 3 ID : **6306801715033**  
Option 4 ID : **6306801715032**  
Status : **Answered**  
Chosen Option : 2

**Q.8** Select the most appropriate synonym of the given word.  
**Careful**

- Ans
- 1. Corrupt
  - 2. Captivating
  - 3. Corrosive
  - 4. Cautious

Question Type : **MCQ**  
Question ID : **630680426385**  
Option 1 ID : **6306801663636**  
Option 2 ID : **6306801663633**  
Option 3 ID : **6306801663634**  
Option 4 ID : **6306801663635**  
Status : **Answered**  
Chosen Option : 3

**Q.9** Select the most appropriate option that can substitute the underlined word(s) in the given sentence.

Manik said that it is mandatory that each student pay his/her tuition fees every month.

- Ans
- 1. each students pay
  - 2. each student paid
  - 3. each student pays
  - 4. each student paids

Question Type : **MCQ**

Question ID : **630680551434**

Option 1 ID : **6306802155963**

Option 2 ID : **6306802155962**

Option 3 ID : **6306802155961**

Option 4 ID : **6306802155964**

Status : **Answered**

Chosen Option : **2**

**Q.10** Select the most appropriate option to fill in the blank.  
Poonam used a rubber band to keep the pencils together. 'Band' here means

- Ans
- 1. a thin ring of rubber used for holding things together
  - 2. a range of values or frequencies within a series
  - 3. a tube filled with water
  - 4. a long rigid piece of wood or metal

Question Type : **MCQ**

Question ID : **630680539689**

Option 1 ID : **6306802109878**

Option 2 ID : **6306802109880**

Option 3 ID : **6306802109879**

Option 4 ID : **6306802109877**

Status : **Answered**

Chosen Option : **1**

**Q.11** Select the most appropriate option that can substitute the underlined segment in the given sentence.  
Once the seminar was over, the host gave up the certificates to the active participants.

- Ans
- 1. brought about
  - 2. put across
  - 3. came by
  - 4. gave away

Question Type : **MCQ**

Question ID : **63068054474**

Option 1 ID : **630680209940**

Option 2 ID : **630680209938**

Option 3 ID : **630680209939**

Option 4 ID : **630680209941**

Status : **Answered**

Chosen Option : **4**

Q.12 The following sentence has been split into four segments. Identify the segment that contains a grammatical error.

Despite the challenges,/ they ultimate achieved / their goal of launching / their startup.

- Ans  1. their goal of launching  
 2. Despite the challenges,  
 3. they ultimate achieved  
 4. their startup.

Question Type : MCQ

Question ID : 630680711797

Option 1 ID : 6306802788830

Option 2 ID : 6306802788828

Option 3 ID : 6306802788829

Option 4 ID : 6306802788831

Status : Answered

Chosen Option : 3

Q.13 Select the most appropriate option that can substitute the underlined segment in the given sentence.

The most effective way to enhance your vocabulary is to look to unknown words in a dictionary.

- Ans  1. look up  
 2. stand against  
 3. set by  
 4. write off

Question Type : MCQ

Question ID : 63068054476

Option 1 ID : 630680209948

Option 2 ID : 630680209949

Option 3 ID : 630680209947

Option 4 ID : 630680209946

Status : Answered

Chosen Option : 1

Q.14 Identify the INCORRECTLY spelt word in the given sentence.

The microscopic chip that emits a uniqe signal has been embedded into your arm.

- Ans  1. embedded  
 2. uniqe  
 3. microscopic  
 4. emits

Question Type : MCQ

Question ID : 630680545197

Option 1 ID : 6306802131538

Option 2 ID : 6306802131537

Option 3 ID : 6306802131535

Option 4 ID : 6306802131536

Status : Answered

Chosen Option : 2

**Q.15** Select the appropriate option that can substitute the underlined idiom in the given sentence.

The entire audience was all ears when the Indian-born American economist started giving a speech.

- Ans
- 1. was arguing in favour of both sides
  - 2. was keen to listen
  - 3. was eager to speak plainly
  - 4. was willing to exit the show

Question Type : **MCQ**  
Question ID : **630680134114**  
Option 1 ID : **630680519353**  
Option 2 ID : **630680519352**  
Option 3 ID : **630680519350**  
Option 4 ID : **630680519351**  
Status : **Answered**  
Chosen Option : 1

**Q.16** Select the option that can be used as a one-word substitute for the given group of words.

A person who rules with absolute power and authority

- Ans
- 1. Sovereign
  - 2. Dictator
  - 3. Ruler
  - 4. Senator

Question Type : **MCQ**  
Question ID : **630680324345**  
Option 1 ID : **6306801261875**  
Option 2 ID : **6306801261874**  
Option 3 ID : **6306801261876**  
Option 4 ID : **6306801261873**  
Status : **Answered**  
Chosen Option : 3

**Q.17** The following sentence has been split into four parts. Identify the part that contains a grammatical error.

The youngest employees/ are chosen by the/ organisation to/ manage the fieldwork.

- Ans
- 1. organisation to
  - 2. The youngest employees
  - 3. manage the fieldwork.
  - 4. are chosen by the

Question Type : **MCQ**  
Question ID : **630680514691**  
Option 1 ID : **6306802011391**  
Option 2 ID : **6306802011389**  
Option 3 ID : **6306802011392**  
Option 4 ID : **6306802011390**  
Status : **Answered**  
Chosen Option : 2

**Q.18** The following sentence has been divided into four segments. Identify the segment that has a grammatical error.

The thieves had no alternative / but to acquiesce with / the orders of / the police.

Ans  1. the police.

2. The thieves had no alternative

3. the orders of

4. but to acquiesce with

Question Type : **MCQ**

Question ID : **630680191718**

Option 1 ID : **630680743484**

Option 2 ID : **630680743481**

Option 3 ID : **630680743483**

Option 4 ID : **630680743482**

Status : **Answered**

Chosen Option : **2**

**Q.19** Select the most appropriate ANTONYM of the highlighted word.

The partners ended up being traitorous to each other.

Ans  1. Faithful

2. Fickle

3. Proficient

4. Disloyal

Question Type : **MCQ**

Question ID : **630680799119**

Option 1 ID : **6306803131276**

Option 2 ID : **6306803131275**

Option 3 ID : **6306803131274**

Option 4 ID : **6306803131277**

Status : **Answered**

Chosen Option : **3**

**Q.20** Select the most appropriate option that can substitute the underlined segment in the given sentence.

The head coach declared that the player who will score the most points in the game will clinch the trophy this year.

Ans  1. who have score the maximum points

2. who scores the points maximum

3. who scores the maximum points

4. who were score the maximum points

Question Type : **MCQ**

Question ID : **630680551432**

Option 1 ID : **6306802155956**

Option 2 ID : **6306802155955**

Option 3 ID : **6306802155954**

Option 4 ID : **6306802155953**

Status : **Answered**

Chosen Option : **4**

**Comprehension:**

In the following passage, some words have been deleted. Read the passage carefully and select the most appropriate option to fill in each blank.

Three big fat rats once found a new use for \_\_\_\_\_1\_\_\_\_\_ tails. During the night, they came \_\_\_\_\_2\_\_\_\_\_ into the larder and found a jar with treacle in it. But the jar had a \_\_\_\_\_3\_\_\_\_\_ neck, and try as they might, the rats could not reach the treacle either with their mouths or their paws. At last, a bright idea \_\_\_\_\_4\_\_\_\_\_ one of them. He climbed onto the jar and let his tail hang down into the treacle. Then he pulled it out nicely coated with treacle and allowed the two rats to lick it \_\_\_\_\_5\_\_\_\_\_.

**SubQuestion No : 21**

**Q.21** Select the most appropriate option to fill in blank number 1.

- Ans  1. their  
 2. it's  
 3. there  
 4. the

Question Type : **MCQ**

Question ID : **630680627544**

Option 1 ID : **6306802456280**

Option 2 ID : **6306802456281**

Option 3 ID : **6306802456278**

Option 4 ID : **6306802456279**

Status : **Answered**

Chosen Option : 1

**Comprehension:**

In the following passage, some words have been deleted. Read the passage carefully and select the most appropriate option to fill in each blank.

Three big fat rats once found a new use for \_\_\_\_\_1\_\_\_\_\_ tails. During the night, they came \_\_\_\_\_2\_\_\_\_\_ into the larder and found a jar with treacle in it. But the jar had a \_\_\_\_\_3\_\_\_\_\_ neck, and try as they might, the rats could not reach the treacle either with their mouths or their paws. At last, a bright idea \_\_\_\_\_4\_\_\_\_\_ one of them. He climbed onto the jar and let his tail hang down into the treacle. Then he pulled it out nicely coated with treacle and allowed the two rats to lick it \_\_\_\_\_5\_\_\_\_\_.

**SubQuestion No : 22**

**Q.22** Select the most appropriate option to fill in blank number 2.

- Ans  1. yelling  
 2. dreaming  
 3. acting  
 4. creeping

Question Type : **MCQ**

Question ID : **630680627545**

Option 1 ID : **6306802456284**

Option 2 ID : **6306802456283**

Option 3 ID : **6306802456282**

Option 4 ID : **6306802456285**

Status : **Answered**

Chosen Option : 2

**Comprehension:**

In the following passage, some words have been deleted. Read the passage carefully and select the most appropriate option to fill in each blank.

Three big fat rats once found a new use for \_\_\_\_\_1\_\_\_\_\_ tails. During the night, they came \_\_\_\_\_2\_\_\_\_\_ into the larder and found a jar with treacle in it. But the jar had a \_\_\_\_\_3\_\_\_\_\_ neck, and try as they might, the rats could not reach the treacle either with their mouths or their paws. At last, a bright idea \_\_\_\_\_4\_\_\_\_\_ one of them. He climbed onto the jar and let his tail hang down into the treacle. Then he pulled it out nicely coated with treacle and allowed the two rats to lick it \_\_\_\_\_5\_\_\_\_\_.

**SubQuestion No : 23**

**Q.23 Select the most appropriate option to fill in blank number 3.**

- Ans
- 1. obese
  - 2. funny
  - 3. slow
  - 4. narrow

Question Type : **MCQ**

Question ID : **630680627546**

Option 1 ID : **6306802456288**

Option 2 ID : **6306802456289**

Option 3 ID : **6306802456287**

Option 4 ID : **6306802456286**

Status : **Answered**

Chosen Option : **1**

**Comprehension:**

In the following passage, some words have been deleted. Read the passage carefully and select the most appropriate option to fill in each blank.

Three big fat rats once found a new use for \_\_\_\_\_1\_\_\_\_\_ tails. During the night, they came \_\_\_\_\_2\_\_\_\_\_ into the larder and found a jar with treacle in it. But the jar had a \_\_\_\_\_3\_\_\_\_\_ neck, and try as they might, the rats could not reach the treacle either with their mouths or their paws. At last, a bright idea \_\_\_\_\_4\_\_\_\_\_ one of them. He climbed onto the jar and let his tail hang down into the treacle. Then he pulled it out nicely coated with treacle and allowed the two rats to lick it \_\_\_\_\_5\_\_\_\_\_.

**SubQuestion No : 24**

**Q.24 Select the most appropriate option to fill in blank number 4.**

- Ans
- 1. stood
  - 2. flew
  - 3. struck
  - 4. went

Question Type : **MCQ**

Question ID : **630680627547**

Option 1 ID : **6306802456293**

Option 2 ID : **6306802456290**

Option 3 ID : **6306802456292**

Option 4 ID : **6306802456291**

Status : **Answered**

Chosen Option : **4**

**Comprehension:**

In the following passage, some words have been deleted. Read the passage carefully and select the most appropriate option to fill in each blank.

Three big fat rats once found a new use for \_\_\_\_\_1\_\_\_\_\_ tails. During the night, they came \_\_\_\_\_2\_\_\_\_\_ into the larder and found a jar with treacle in it. But the jar had a \_\_\_\_\_3\_\_\_\_\_ neck, and try as they might, the rats could not reach the treacle either with their mouths or their paws. At last, a bright idea \_\_\_\_\_4\_\_\_\_\_ one of them. He climbed onto the jar and let his tail hang down into the treacle. Then he pulled it out nicely coated with treacle and allowed the two rats to lick it \_\_\_\_\_5\_\_\_\_\_.

**SubQuestion No : 25**

**Q.25** Select the most appropriate option to fill in blank number 5.

- Ans
- 1. in
  - 2. by
  - 3. off
  - 4. at

Question Type : **MCQ**

Question ID : **630680627548**

Option 1 ID : **6306802456296**

Option 2 ID : **6306802456297**

Option 3 ID : **6306802456295**

Option 4 ID : **6306802456294**

Status : **Answered**

Chosen Option : **4**