

## Multi Tasking Non Technical Staff and Havaladar CBIC and CBN Examination 2024

Roll Number	
Candidate Name	
Venue Name	Bihar Digital World Walmi
Exam Date	08/10/2024
Exam Time	12:30 PM - 2:30 PM
Subject	MTS Non Tech Havaladar CBIC and CBN Examination 2024

### Section : Numerical and Mathematical Ability

Q.1 5 km की एक दौड़ में, A, B को 750 मीटर और C को 1260 मीटर से हराता है। उसी दौड़ में B, C को कितने मीटर से हराता है?

- Ans  1. 600 मीटर  
 2. 400 मीटर  
 3. 700 मीटर  
 4. 500 मीटर

Question Type : MCQ

Question ID : 630680135772

Option 1 ID : 630680525808

Option 2 ID : 630680525806

Option 3 ID : 630680525809

Option 4 ID : 630680525807

Status : Answered

Chosen Option : 2

Q.2 किसी बेलन का वक्र पृष्ठीय क्षेत्रफल, उसके संपूर्ण पृष्ठीय क्षेत्रफल का तीन-पाँचवाँ भाग (three-fifth) है। बेलन की ऊँचाई और त्रिज्या के बीच अनुपात ज्ञात कीजिए।

- Ans  1. 2 : 5  
 2. 8 : 3  
 3. 3 : 2  
 4. 3 : 5

Question Type : MCQ

Question ID : 630680555713

Option 1 ID : 6306802172288

Option 2 ID : 6306802172291

Option 3 ID : 6306802172290

Option 4 ID : 6306802172289

Status : Answered

Chosen Option : 3

Q.3 7 cm आधार त्रिज्या और 18 cm ऊँचाई वाले एक ठोस शंकु को पिघलाया जाता है और क्रमशः 20 cm और R cm आंतरिक और बाहरी त्रिज्या के खोखले धातु के अर्धगोले में पुनः ढाला जाता है। R का मान (cm में) कितना है?

Ans  1.  $\sqrt[3]{8568}$

2.  $\sqrt[3]{8441}$

3.  $\sqrt[3]{8144}$

4.  $\sqrt[3]{8448}$

Question Type : **MCQ**

Question ID : **630680396451**

Option 1 ID : **6306801545909**

Option 2 ID : **6306801545907**

Option 3 ID : **6306801545908**

Option 4 ID : **6306801545910**

Status : **Answered**

Chosen Option : **3**

Q.4 एक कार कानपुर से दिल्ली तक 60 km/h की औसत चाल से यात्रा करती है और 90 km/h की औसत चाल से वापस आती है। संपूर्ण यात्रा में कार की औसत चाल ज्ञात कीजिए।

Ans  1. 65 km/h

2. 60 km/h

3. 72 km/h

4. 78 km/h

Question Type : **MCQ**

Question ID : **630680570950**

Option 1 ID : **6306802232862**

Option 2 ID : **6306802232861**

Option 3 ID : **6306802232863**

Option 4 ID : **6306802232864**

Status : **Answered**

Chosen Option : **3**

Q.5 दी गई तालिका तीन दिनों में चार प्रिंटर द्वारा मुद्रित पृष्ठों की संख्या को दर्शाती है।

दिन	प्रिंटर			
	W	X	Y	Z
सोमवार	1450	1521	1612	1206
मंगलवार	1270	1225	1605	1531
बुधवार	1385	1982	1589	1260

सोमवार तथा बुधवार को मिलाकर प्रिंटर X द्वारा मुद्रित पृष्ठों की कुल संख्या और मंगलवार तथा बुधवार को मिलाकर प्रिंटर Z द्वारा मुद्रित पृष्ठों की कुल संख्या के बीच कितना अंतर है?

Ans  1. 712

2. 789

3. 826

4. 956

Question Type : MCQ

Question ID : 630680523773

Option 1 ID : 6306802047246

Option 2 ID : 6306802047245

Option 3 ID : 6306802047244

Option 4 ID : 6306802047243

Status : Answered

Chosen Option : 1

Q.6 एक बेलनाकार स्तंभ का वक्र पृष्ठीय क्षेत्रफल  $176 \text{ m}^2$  है और इसका आयतन  $352 \text{ m}^3$  है।

इसकी त्रिज्या और ऊँचाई का अनुपात ज्ञात कीजिए।

( $\pi = \frac{22}{7}$  का उपयोग कीजिए)

Ans  1. 4 : 7

2. 3 : 5

3. 2 : 3

4. 3 : 4

Question Type : MCQ

Question ID : 630680379657

Option 1 ID : 6306801479671

Option 2 ID : 6306801479672

Option 3 ID : 6306801479673

Option 4 ID : 6306801479674

Status : Answered

Chosen Option : 1

Q.7 एक सुरंग एलिवेटर 81 kg के औसत वजन क्षमता के साथ अधिकतम 15 यात्रियों को ले जा सकता है। हालाँकि, अधिकतम क्षमता से अधिक के चार व्यक्तियों ने एलिवेटर में प्रवेश किया, जिसके परिणामस्वरूप औसत वजन 82 kg हो गया और एलिवेटर ओवरलोड हो गया। अतिरिक्त चार व्यक्तियों का औसत वजन (kg में) ज्ञात कीजिए।

- Ans  1. 100  
 2. 85.75  
 3. 90.41  
 4. 102.37

Question Type : MCQ

Question ID : 630680456319

Option 1 ID : 6306801782247

Option 2 ID : 6306801782250

Option 3 ID : 6306801782248

Option 4 ID : 6306801782249

Status : Answered

Chosen Option : 2

Q.8 दिया गया दंड आलेख 1996 से 2000 तक एक कंपनी द्वारा निर्मित साइकिलों की संख्या को दर्शाता है। दिए गए दंड आलेख का अध्ययन करें और निम्नलिखित प्रश्न का उत्तर दें।



1996, 1997 और 2000 के दौरान निर्मित साइकिलों की संयुक्त संख्या, 1996 से 2000 तक निर्मित साइकिलों की संयुक्त संख्या का कितना प्रतिशत (एक दशमलव स्थान तक पूर्णांकित) है?

- Ans  1. 60.1%  
 2. 66.6%  
 3. 57.8%  
 4. 72.3%

Question Type : MCQ

Question ID : 630680421292

Option 1 ID : 6306801643646

Option 2 ID : 6306801643643

Option 3 ID : 6306801643645

Option 4 ID : 6306801643644

Status : Answered

Chosen Option : 2

Q.9 60 लीटर के मिश्रण में दूध और पानी 7 : 3 के अनुपात में है। यदि 3 लीटर पानी मिला दिया जाए, तो नए मिश्रण में दूध और पानी का अनुपात ज्ञात कीजिए।

- Ans
- 1. 3:2
  - 2. 1:2
  - 3. 2:3
  - 4. 2:1

Question Type : MCQ  
Question ID : 630680107555  
Option 1 ID : 630680417543  
Option 2 ID : 630680417540  
Option 3 ID : 630680417541  
Option 4 ID : 630680417542  
Status : Answered  
Chosen Option : 3

Q.10 P और Q की वर्तमान आयु का औसत 56 वर्ष है और उनकी आयु का अनुपात 5:3 है। सात वर्ष बाद Q की आयु क्या होगी?

- Ans
- 1. 54 वर्ष
  - 2. 49 वर्ष
  - 3. 52 वर्ष
  - 4. 42 वर्ष

Question Type : MCQ  
Question ID : 630680106809  
Option 1 ID : 630680414852  
Option 2 ID : 630680414855  
Option 3 ID : 630680414853  
Option 4 ID : 630680414854  
Status : Answered  
Chosen Option : 2

Q.11 4 वर्षों के लिए 7% वार्षिक की ब्याज दर पर उधार ली गई राशि ₹2000 पर साधारण ब्याज (₹ में) ज्ञात कीजिए।

- Ans
- 1. 600
  - 2. 520
  - 3. 500
  - 4. 560

Question Type : MCQ  
Question ID : 630680591875  
Option 1 ID : 6306802315968  
Option 2 ID : 6306802315970  
Option 3 ID : 6306802315969  
Option 4 ID : 6306802315967  
Status : Answered  
Chosen Option : 4

Q.12 एक व्यक्ति एक वस्तु ₹247.50 में बेचता है, जिससे उसे 12.5% का लाभ होता है। वस्तु का क्रय मूल्य (₹ में) कितना था?

- Ans
- 1. 210
  - 2. 224
  - 3. 220
  - 4. 225

Question Type : MCQ

Question ID : 630680277304

Option 1 ID : 6306801077668

Option 2 ID : 6306801077666

Option 3 ID : 6306801077667

Option 4 ID : 6306801077665

Status : Answered

Chosen Option : 3

Q.13 एक परिवार की आय और व्यय का अनुपात 18:15 है। यदि परिवार की आय ₹81,000 है तो बचत ज्ञात कीजिए।

- Ans
- 1. ₹13,500
  - 2. ₹17,500
  - 3. ₹15,000
  - 4. ₹12,750

Question Type : MCQ

Question ID : 630680464538

Option 1 ID : 6306801814188

Option 2 ID : 6306801814190

Option 3 ID : 6306801814189

Option 4 ID : 6306801814187

Status : Answered

Chosen Option : 1

Q.14 एक ही सड़क पर तीन लाल बत्तियाँ एक ही समय पर टिमटिमाने (blink) लगती हैं और क्रमशः प्रत्येक 4, 6 और 8 मिनट के बाद बार-बार टिमटिमाती हैं। शुरुआती क्षण में एक साथ टिमटिमाने को छोड़कर, वे 3 घंटे के अंतराल में कितनी बार एक साथ टिमटिमाएंगी?

- Ans
- 1. 6
  - 2. 7
  - 3. 5
  - 4. 4

Question Type : MCQ

Question ID : 630680108950

Option 1 ID : 630680422694

Option 2 ID : 630680422693

Option 3 ID : 630680422695

Option 4 ID : 630680422692

Status : Answered

Chosen Option : 2

Q.15 ₹20 में एक वस्तु को बेचकर, एक विक्रेता 10% का लाभ अर्जित करता है। उसे अपना विक्रय मूल्य (₹ में, दो दशमलव स्थान तक सन्निकटित) कितना बढ़ाना चाहिए, ताकि 40% का लाभ अर्जित कर सके?

Ans  1. 8.45

2. 6.45

3. 7.45

4. 5.45

Question Type : MCQ

Question ID : 630680632599

Option 1 ID : 6306802476297

Option 2 ID : 6306802476295

Option 3 ID : 6306802476296

Option 4 ID : 6306802476294

Status : Answered

Chosen Option : 2

Q.16 एक दुकानदार छूट की निम्नलिखित तीन योजनाओं की घोषणा करता है। कौन-सी योजना ग्राहक के लिए सबसे अधिक लाभदायक है?

A. 25 वस्तुएँ खरीदें और 30 समान वस्तुएँ प्राप्त करें

B. 12% और 18% की दो क्रमिक छूट

C. 15% की दो समान क्रमिक छूट

Ans  1. केवल C

2. A

3. B और C

4. केवल B

Question Type : MCQ

Question ID : 630680395412

Option 1 ID : 6306801541831

Option 2 ID : 6306801541828

Option 3 ID : 6306801541829

Option 4 ID : 6306801541830

Status : Answered

Chosen Option : 3

Q.17 एक निश्चित धनराशि पर 5% वार्षिक दर से 9 वर्षों के लिए साधारण ब्याज ₹1,260 है। 6 वर्ष बाद उसी धनराशि पर किस ब्याज दर से उतना ही ब्याज प्राप्त हो सकता है?

Ans  1. 8.5%

2. 6.5%

3. 7.5%

4. 8.0%

Question Type : MCQ

Question ID : 630680400201

Option 1 ID : 6306801560673

Option 2 ID : 6306801560675

Option 3 ID : 6306801560674

Option 4 ID : 6306801560676

Status : Answered

Chosen Option : 3

Q.18 तीन दोस्तों राम, रमेश और श्याम का औसत वजन 76 kg है। सोमेश उनके साथ शामिल हो जाता है और चारों दोस्तों का औसत वजन 74 kg हो जाता है। यदि मोहन, जिसका वजन सोमेश के वजन से 2 kg अधिक है, रमेश की जगह लेता है, तो राम, श्याम, सोमेश और मोहन का औसत वजन 68 kg हो जाता है। रमेश का वजन ज्ञात कीजिए।

Ans  1. 94 kg

2. 89 kg

3. 84 kg

4. 75 kg

Question Type : MCQ

Question ID : 630680421231

Option 1 ID : 6306801643402

Option 2 ID : 6306801643401

Option 3 ID : 6306801643400

Option 4 ID : 6306801643399

Status : Answered

Chosen Option : 3

Q.19 40 kg, 49 kg, 56 kg, 70 kg और 35 kg वजन के पांच सदस्यों वाले परिवार का औसत वजन (kg में) ज्ञात कीजिए।

Ans  1. 49

2. 52

3. 51

4. 50

Question Type : MCQ

Question ID : 630680551654

Option 1 ID : 6306802156843

Option 2 ID : 6306802156844

Option 3 ID : 6306802156842

Option 4 ID : 6306802156841

Status : Answered

Chosen Option : 4

Q.20 5 वर्षों के लिए 8% वार्षिक की ब्याज दर पर उधार ली गई राशि ₹3000 पर साधारण ब्याज (₹ में) ज्ञात कीजिए।

Ans  1. 1240

2. 1200

3. 1140

4. 1160

Question Type : MCQ

Question ID : 630680591951

Option 1 ID : 6306802316272

Option 2 ID : 6306802316271

Option 3 ID : 6306802316273

Option 4 ID : 6306802316274

Status : Answered

Chosen Option : 2

Q.1 अंग्रेजी वर्णानुक्रम के आधार पर दी गई शृंखला में प्रश्न चिह्न (?) के स्थान पर क्या आना चाहिए?

EBF, IGG, MLH, QQI, ?

- Ans  1. SUI  
 2. TUJ  
 3. UVJ  
 4. SUJ

Question Type : MCQ

Question ID : 630680443470

Option 1 ID : 6306801731267

Option 2 ID : 6306801731264

Option 3 ID : 6306801731265

Option 4 ID : 6306801731266

Status : Answered

Chosen Option : 3

Q.2 T, U, V, W, X और Y एक वृत्ताकार मेज के चारों ओर केंद्र की ओर मुख करके बैठे हैं (परंतु जरूरी नहीं कि वे इसी क्रम में बैठे हों)। U, उस V के दाएँ से तीसरे स्थान पर बैठा है, जो W के बाएँ से दूसरे स्थान पर बैठा है। Y, U का निकटतम पड़ोसी नहीं है। T, V के ठीक बाएँ बैठा है। T के ठीक बाएँ कौन बैठा है?

- Ans  1. V  
 2. W  
 3. U  
 4. X

Question Type : MCQ

Question ID : 630680383020

Option 1 ID : 6306801492990

Option 2 ID : 6306801492988

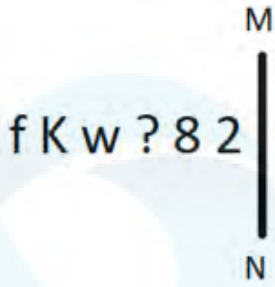
Option 3 ID : 6306801492989

Option 4 ID : 6306801492987

Status : Answered

Chosen Option : 4

Q.3 दी गई आकृति के उस सही दर्पण प्रतिबिंब को चुनिए, जो नीचे दर्शाए गए अनुसार दर्पण को MN पर रखने पर बनेगा।



- Ans
- 1. 8 2 ? w K f
  - 2. 2 8 ? w K f
  - 3. 2 8 ? w K f
  - 4. 2 8 ? M K f

Question Type : MCQ

Question ID : 630680525263

Option 1 ID : 6306802053139

Option 2 ID : 6306802053138

Option 3 ID : 6306802053136

Option 4 ID : 6306802053137

Status : Answered

Chosen Option : 3

Q.4 यदि '+' और '-' को आपस में बदल दिया जाए तथा 'x' और '=' को आपस में बदल दिया जाए, तो निम्नलिखित समीकरण में '?' के स्थान पर क्या आएगा?  
 $56 - 33 \times 3 \div 4 + 36 = ?$

- Ans
- 1. 66
  - 2. 74
  - 3. 68
  - 4. 64

Question Type : MCQ

Question ID : 630680383269

Option 1 ID : 6306801493976

Option 2 ID : 6306801493978

Option 3 ID : 6306801493977

Option 4 ID : 6306801493975

Status : Answered

Chosen Option : 4

Q.5 दी गई श्रृंखला में प्रश्न चिह्न (?) के स्थान पर क्या आना चाहिए?

39, 47, 55, 63, 71, ?

Ans  1. 79

2. 78

3. 77

4. 80

Question Type : **MCQ**

Question ID : **630680546484**

Option 1 ID : **6306802136508**

Option 2 ID : **6306802136509**

Option 3 ID : **6306802136510**

Option 4 ID : **6306802136511**

Status : **Answered**

Chosen Option : 1

Q.6 यदि निम्नलिखित समीकरण में '+' और '-' को आपस में बदल दिया जाए तथा 'x' और '+' को आपस में बदल दिया जाए तो इस समीकरण में '?' के स्थान पर क्या आएगा?

$12 \times 96 - 24 + 8 \div 38 = ?$

Ans  1. -14

2. 16

3. -4

4. 6

Question Type : **MCQ**

Question ID : **630680388341**

Option 1 ID : **6306801513882**

Option 2 ID : **6306801513885**

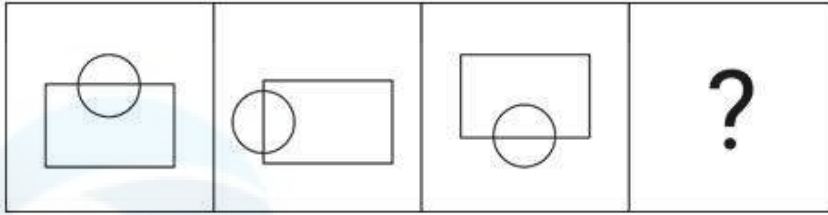
Option 3 ID : **6306801513883**

Option 4 ID : **6306801513884**

Status : **Answered**

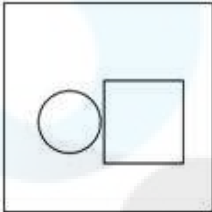
Chosen Option : 4

Q.7 विकल्पों में दी गई उस आकृति की पहचान कीजिए जिसे (?) के स्थान पर रखने पर श्रृंखला तार्किक रूप से पूर्ण हो जाएगी।

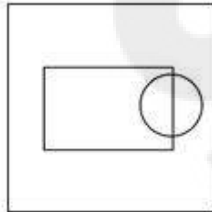


Ans

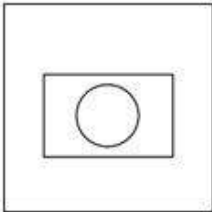
✗ 1.



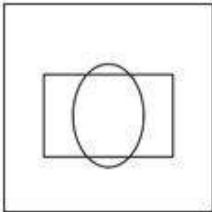
✓ 2.



✗ 3.



✗ 4.



Question Type : MCQ

Question ID : 630680273997

Option 1 ID : 6306801064508

Option 2 ID : 6306801064510

Option 3 ID : 6306801064509

Option 4 ID : 6306801064507

Status : Answered

Chosen Option : 2

Q.8 किसी निश्चित कूट भाषा में 'CHOSEN' को 'YMIWN' के रूप में कूटबद्ध किया जाता है और 'COMMON' को 'YMOOMN' के रूप में कूटबद्ध किया जाता है। उसी भाषा में 'CLIENT' को किस प्रकार कूटबद्ध किया जाएगा?

Ans  1. YPSWNH

2. YPSXNG

3. YPTXNG

4. YPSVNF

Question Type : MCQ

Question ID : 630680465301

Option 1 ID : 6306801817240

Option 2 ID : 6306801817239

Option 3 ID : 6306801817241

Option 4 ID : 6306801817242

Status : Answered

Chosen Option : 2

Q.9 अंग्रेजी वर्णमाला क्रम के आधार पर DFIE एक निश्चित प्रकार से CGHF से संबंधित है। ठीक उसी प्रकार MOFC, LPED से संबंधित है। उसी तर्क का पालन करते हुए, GRRP निम्नलिखित में से किससे संबंधित है?

Ans  1. DSPQ

2. FSQQ

3. ERQQ

4. FSQR

Question Type : MCQ

Question ID : 630680911378

Option 1 ID : 6306803570435

Option 2 ID : 6306803570433

Option 3 ID : 6306803570434

Option 4 ID : 6306803570436

Status : Answered

Chosen Option : 2



Q.11 सात व्यक्ति P, U, L, M, A, G और E एक वृत्ताकार मेज के चारों ओर केंद्र की ओर मुख करके बैठे हैं (परंतु जरूरी नहीं कि वे इसी क्रम में बैठे हों)। P, M के बाएँ से तीसरे स्थान पर बैठा है। G, M के दाएँ से दूसरे स्थान पर बैठा है। M के बाएँ से गिनने पर M और A के बीच में केवल एक व्यक्ति बैठा है। L, G के ठीक दाएँ बैठा है। L और E के बीच में केवल एक व्यक्ति बैठा है। U के ठीक बाएँ कौन बैठा है?

Ans  1. M

2. P

3. A

4. G

Question Type : MCQ

Question ID : 630680386541

Option 1 ID : 6306801506876

Option 2 ID : 6306801506877

Option 3 ID : 6306801506874

Option 4 ID : 6306801506875

Status : Answered

Chosen Option : 3

Q.12 दिए गए संख्या-युग्मों में दूसरी संख्या, पहली संख्या पर निश्चित गणितीय संक्रिया/संक्रियाएँ करके प्राप्त की जाती है। उस युग्म का चयन कीजिए जिसमें संख्याएँ ठीक उसी प्रकार संबंधित हों जिस प्रकार दिए गए युग्मों की संख्याएँ संबंधित हैं।

(ध्यान दें: संख्याओं को उनके घटक अंकों में अलग-अलग किए बिना पूर्ण संख्याओं पर संक्रियाएँ की जानी चाहिए। उदाहरण के लिए संख्या 13 - संख्या 13 पर संक्रियाएँ जैसे 13 को जोड़ना/घटाना/गुणा करना आदि किया जा सकता है। 13 को 1 और 3 में अलग-अलग करने की और फिर 1 और 3 पर गणितीय संक्रियाएँ करने की अनुमति नहीं है।)

6, 42

9, 63

Ans  1. 13, 91

2. 11, 67

3. 19, 123

4. 17, 102

Question Type : MCQ

Question ID : 630680408398

Option 1 ID : 6306801592488

Option 2 ID : 6306801592487

Option 3 ID : 6306801592490

Option 4 ID : 6306801592489

Status : Answered

Chosen Option : 1

Q.13 8, किसी निश्चित तर्क का अनुसरण करते हुए 93 से संबंधित है। 10, समान तर्क का अनुसरण करते हुए 117 से संबंधित है। समान तर्क का अनुसरण करते हुए 14, निम्नलिखित में से किससे संबंधित है?

(ध्यान दें: संख्याओं को उनके घटक अंकों में अलग-अलग किए बिना पूर्ण संख्याओं पर संक्रियाएं की जानी चाहिए। उदाहरण के लिए संख्या 13 - संख्या 13 पर संक्रियाएं जैसे 13 को जोड़ना/घटाना/गुणा करना आदि किया जा सकता है। 13 को 1 और 3 में अलग-अलग करने की और फिर 1 और 3 पर गणितीय संक्रियाएं करने की अनुमति नहीं है।)

Ans  1. 187

2. 166

3. 165

4. 189

Question Type : MCQ

Question ID : 630680450180

Option 1 ID : 6306801757867

Option 2 ID : 6306801757870

Option 3 ID : 6306801757868

Option 4 ID : 6306801757869

Status : Answered

Chosen Option : 3

Q.14 दिए गए कथनों और निष्कर्षों को ध्यानपूर्वक पढ़िए। यह मानते हुए कि कथनों में दी गई जानकारी सत्य है, चाहे वह सामान्यतः ज्ञात तथ्यों से भिन्न प्रतीत होती हो और निर्णय लीजिए कि दिए गए निष्कर्षों में से कौन-सा/कौन-से निष्कर्ष कथनों का तार्किक रूप से अनुसरण करता है/करते हैं।

कथन:

कुछ कप, गिलास हैं।

कोई कप, प्लेट नहीं है।

निष्कर्ष:

(I) कोई गिलास, प्लेट नहीं है।

(II) कुछ गिलास, कप नहीं हैं।

Ans  1. निष्कर्ष (I) और (II) दोनों अनुसरण करते हैं

2. केवल निष्कर्ष (I) अनुसरण करता है

3. न तो निष्कर्ष (I) और न ही (II) अनुसरण करता है

4. केवल निष्कर्ष (II) अनुसरण करता है

Question Type : MCQ

Question ID : 630680419662

Option 1 ID : 6306801637143

Option 2 ID : 6306801637141

Option 3 ID : 6306801637144

Option 4 ID : 6306801637142

Status : Answered

Chosen Option : 1

Q.15 एक निश्चित कूटभाषा में, 'EACH' को '6138' के रूप में कूटबद्ध किया गया है और 'CAME' को '1396' के रूप में कूटबद्ध किया गया है। उस भाषा में 'M' के लिए कूट क्या है?

Ans  1. 6

2. 1

3. 3

4. 9

Question Type : MCQ

Question ID : 630680825488

Option 1 ID : 6306803233499

Option 2 ID : 6306803233500

Option 3 ID : 6306803233497

Option 4 ID : 6306803233498

Status : Answered

Chosen Option : 4

Q.16 दिए गए कथनों और निष्कर्षों को ध्यानपूर्वक पढ़िए। यह मानते हुए कि कथनों में दी गई जानकारी सत्य है, चाहे वह सामान्यतः ज्ञात तथ्यों से भिन्न प्रतीत होती हो और निर्णय लीजिए कि दिए गए निष्कर्षों में से कौन-सा/कौन-से निष्कर्ष कथनों का तार्किक रूप से अनुसरण करता है/करते हैं।

कथन:

कोई शिक्षक, पुरुष नहीं है।

कोई पुरुष, इंजीनियर नहीं है।

निष्कर्ष:

I. कोई शिक्षक, इंजीनियर नहीं है।

II. कुछ पुरुष, शिक्षक हैं।

Ans  1. निष्कर्ष I और II दोनों अनुसरण करते हैं।

2. न तो निष्कर्ष I और न ही II अनुसरण करता है।

3. केवल निष्कर्ष II अनुसरण करता है।

4. केवल निष्कर्ष I अनुसरण करता है।

Question Type : MCQ

Question ID : 630680401279

Option 1 ID : 6306801564924

Option 2 ID : 6306801564923

Option 3 ID : 6306801564922

Option 4 ID : 6306801564921

Status : Answered

Chosen Option : 4

Q.17 दिए गए विकल्पों में से उस आकृति को चुनिए जो निम्नलिखित श्रृंखला में प्रश्न चिह्न (?) के स्थान पर आ सकती है और पैटर्न को पूरा कर सकती है।

= P	8 Y	S =	Y X	
X Y 8 =	P X	P X Y S =	P	?

Ans

✓ 1.  S  
= P X

✗ 2.  Y  
= P S

✗ 3. S =  
Y P X

✗ 4.  X  
P S =

Question Type : MCQ

Question ID : 630680441075

Option 1 ID : 6306801721954

Option 2 ID : 6306801721957

Option 3 ID : 6306801721955

Option 4 ID : 6306801721956

Status : Answered

Chosen Option : 1

Q.18 एक निश्चित कूट भाषा में, 'toy is new' को 'bz tq gl' के रूप में कूटबद्ध किया जाता है और 'give me toy' को 'hx vm tq' के रूप में कूटबद्ध किया जाता है। दी गई भाषा में 'toy' को किस प्रकार कूटबद्ध किया गया है?

- Ans
- 1. bz
  - 2. hx
  - 3. vm
  - 4. tq

Question Type : **MCQ**  
Question ID : **630680436322**  
Option 1 ID : **6306801703229**  
Option 2 ID : **6306801703231**  
Option 3 ID : **6306801703230**  
Option 4 ID : **6306801703232**  
Status : **Answered**  
Chosen Option : 4

Q.19 एक निश्चित कूट भाषा में, 'did we know' को 'kp as th' के रूप में लिखा जाता है और 'we solve this' को 'nk kp bo' के रूप में लिखा जाता है। दी गई भाषा में 'we' को कैसे लिखा गया है?

- Ans
- 1. nk
  - 2. kp
  - 3. bo
  - 4. as

Question Type : **MCQ**  
Question ID : **630680378078**  
Option 1 ID : **6306801473372**  
Option 2 ID : **6306801473373**  
Option 3 ID : **6306801473374**  
Option 4 ID : **6306801473371**  
Status : **Answered**  
Chosen Option : 2

Q.20 CA 19 एक निश्चित प्रकार से ID 14 से संबंधित है। ठीक उसी प्रकार ML 53, SO 48 से संबंधित है। समान तर्क का अनुसरण करते हुए, GD 8 निम्नलिखित में से किससे संबंधित है?

- Ans
- 1. NH 3
  - 2. MG 3
  - 3. MH -3
  - 4. NF -3

Question Type : **MCQ**  
Question ID : **630680423231**  
Option 1 ID : **6306801651285**  
Option 2 ID : **6306801651283**  
Option 3 ID : **6306801651284**  
Option 4 ID : **6306801651286**  
Status : **Answered**  
Chosen Option : 2

Section : General Awareness

Q.1 प्रत्येक समान प्रतिरोधक क्षमता R वाले चार प्रतिरोधकों को अलग-अलग संयुक्त प्रतिरोध प्राप्त करने के लिए विभिन्न संभावित तरीकों से श्रेणी और/या समानांतर दोनों क्रम में जोड़ा जाता है। सभी चार प्रतिरोधकों का उपयोग करके निम्नलिखित में से कौन-सा प्रतिरोधक मान प्राप्त नहीं किया जा सकता है?

- Ans
- 1. 0.25 R
  - 2. 1.33 R
  - 3. 2.5 R
  - 4. 2 R

Question Type : MCQ  
Question ID : 630680419686  
Option 1 ID : 6306801637241  
Option 2 ID : 6306801637243  
Option 3 ID : 6306801637244  
Option 4 ID : 6306801637242  
Status : Answered  
Chosen Option : 4

Q.2 गुब्बारे में सिरका (vinegar) और बेकिंग सोडा (baking soda) मिलाने पर कौन-सी गैस निकलती है, जिससे वह फूल जाता है?

- Ans
- 1. हाइड्रोजन
  - 2. कार्बन डाईऑक्साइड
  - 3. ऑक्सीजन
  - 4. नाइट्रोजन

Question Type : MCQ  
Question ID : 630680412074  
Option 1 ID : 6306801607133  
Option 2 ID : 6306801607131  
Option 3 ID : 6306801607132  
Option 4 ID : 6306801607134  
Status : Answered  
Chosen Option : 2

Q.3 अगस्त 2023 में गुजरात सरकार द्वारा अंतर्राष्ट्रीय स्तर पर अपने स्वदेशी उत्पादों को बढ़ावा देने के लिए एक जिला, एक उत्पाद (One District, One Product - ODOP) कार्यक्रम के लिए कितनी धनराशि आवंटित की गई?

- Ans
- 1. ₹100 करोड़
  - 2. ₹58 करोड़
  - 3. ₹10 करोड़
  - 4. ₹25 करोड़

Question Type : MCQ  
Question ID : 630680469518  
Option 1 ID : 6306801833842  
Option 2 ID : 6306801833841  
Option 3 ID : 6306801833839  
Option 4 ID : 6306801833840  
Status : Answered  
Chosen Option : 2

Q.4 साहित्य अकादमी पुरस्कार से पुरस्कृत उपन्यास 'जिंदगीनामा' किसके द्वारा लिखा गया था?

- Ans
- 1. अमृता प्रीतम
  - 2. मन्नू भंडारी
  - 3. कृष्णा सोबती
  - 4. महादेवी वर्मा

Question Type : MCQ

Question ID : 630680512093

Option 1 ID : 6306802001343

Option 2 ID : 6306802001342

Option 3 ID : 6306802001345

Option 4 ID : 6306802001344

Status : Not Attempted and Marked For Review

Chosen Option : --

Q.5 एच.डी.आई. (HDI) 2021 के अनुसार, भारत के निम्नलिखित पड़ोसी देशों में से किस देश में जन्म के समय महिला जीवन प्रत्याशा सबसे अधिक थी?

- Ans
- 1. भूटान
  - 2. श्रीलंका
  - 3. बांग्लादेश
  - 4. मालदीव

Question Type : MCQ

Question ID : 630680510906

Option 1 ID : 6306801996756

Option 2 ID : 6306801996754

Option 3 ID : 6306801996755

Option 4 ID : 6306801996757

Status : Not Attempted and Marked For Review

Chosen Option : --

Q.6 भारत के सर्वोच्च न्यायालय में सेवारत न्यायाधीशों की सेवानिवृत्ति की आयु क्या है?

- Ans
- 1. 60 वर्ष
  - 2. 65 वर्ष
  - 3. 62 वर्ष
  - 4. 68 वर्ष

Question Type : MCQ

Question ID : 630680305549

Option 1 ID : 6306801188569

Option 2 ID : 6306801188571

Option 3 ID : 6306801188570

Option 4 ID : 6306801188572

Status : Answered

Chosen Option : 2

Q.7 कृषि एवं किसान कल्याण मंत्रालय के अनुसार 2022-23 में भारत का कौन-सा राज्य गन्ने का सबसे बड़ा उत्पादक है?

Ans  1. उत्तर प्रदेश

2. कर्नाटक

3. आंध्र प्रदेश

4. बिहार

Question Type : MCQ

Question ID : 630680653706

Option 1 ID : 6306802559239

Option 2 ID : 6306802559238

Option 3 ID : 6306802559241

Option 4 ID : 6306802559240

Status : Answered

Chosen Option : 1

Q.8 निम्नलिखित में से किस वर्ष भारत में हिंदू विधवा पुनर्विवाह को कानूनी घोषित किया गया था?

Ans  1. 1899

2. 1872

3. 1893

4. 1856

Question Type : MCQ

Question ID : 630680146034

Option 1 ID : 630680565034

Option 2 ID : 630680565037

Option 3 ID : 630680565036

Option 4 ID : 630680565035

Status : Answered

Chosen Option : 4

Q.9 ऋग्वेद \_\_\_\_\_ का सबसे पहला नमूना (earliest specimen) है?

Ans  1. भारतीय भाषा

2. रूसी भाषा

3. इंडो यूरोपीय भाषा

4. इंडो-अफ्रीकी भाषा

Question Type : MCQ

Question ID : 630680433808

Option 1 ID : 6306801693195

Option 2 ID : 6306801693196

Option 3 ID : 6306801693198

Option 4 ID : 6306801693197

Status : Answered

Chosen Option : 3

Q.10 तमिलनाडु का चिथिराई उत्सव (Chithirai festival) निम्नलिखित में से किस देवी को समर्पित है?

- Ans
- 1. पिड़ारी
  - 2. मरियमन
  - 3. मुनीस्वरन
  - 4. मीनाक्षी

Question Type : MCQ

Question ID : 630680404785

Option 1 ID : 6306801578649

Option 2 ID : 6306801578647

Option 3 ID : 6306801578648

Option 4 ID : 6306801578650

Status : Answered

Chosen Option : 3

Q.11 दिए गए विकल्पों में से क्या, छड़ के आकार (rod-shaped) का, आनुवांशिक सूचना रखने वाला, केवल कोशिका विभाजन के समय दृश्य (visible) होता है और केंद्रक (nucleus) में उपस्थित होता है?

- Ans
- 1. क्रोमोसोम (Chromosomes)
  - 2. राइबोसोम (Ribosomes)
  - 3. लाइसोसोम (Lysosomes)
  - 4. साइटोप्लाज्म (Cytoplasm)

Question Type : MCQ

Question ID : 630680544246

Option 1 ID : 6306802127761

Option 2 ID : 6306802127758

Option 3 ID : 6306802127760

Option 4 ID : 6306802127759

Status : Answered

Chosen Option : 1

Q.12 भारत सरकार द्वारा राष्ट्रीय खाद्य सुरक्षा अधिनियम (National Food Security Act - NFSA) किस वर्ष अधिनियमित किया गया था?

- Ans
- 1. 2005
  - 2. 2001
  - 3. 2008
  - 4. 2013

Question Type : MCQ

Question ID : 630680477469

Option 1 ID : 6306801865035

Option 2 ID : 6306801865036

Option 3 ID : 6306801865034

Option 4 ID : 6306801865033

Status : Answered

Chosen Option : 2

Q.13 गैब्रो (Gabbro) किस प्रकार के शैलों का एक उदाहरण है?

- Ans  1. अवसादी शैल (Sedimentary rock)  
 2. आग्नेय शैल (Igneous rock)  
 3. कार्यांतरित शैल (Metamorphic rock)  
 4. कार्बनिक रूप से निर्मित अवसादी शैल (Organically formed sedimentary rock)

Question Type : MCQ

Question ID : 630680456075

Option 1 ID : 6306801781240

Option 2 ID : 6306801781239

Option 3 ID : 6306801781241

Option 4 ID : 6306801781242

Status : Answered

Chosen Option : 2

Q.14 निम्नलिखित में से कौन-सी चोटी हिमालय पर्वतों में स्थित नहीं है?

- Ans  1. कामेट (Kamet)  
 2. अन्नपूर्णा (Annapurna)  
 3. नन्दा देवी (Nanda Devi)  
 4. कालसुबई (Kalsubai)

Question Type : MCQ

Question ID : 630680484509

Option 1 ID : 6306801892351

Option 2 ID : 6306801892353

Option 3 ID : 6306801892350

Option 4 ID : 6306801892352

Status : Answered

Chosen Option : 4

Q.15 भारत ने हॉकी में अपना पहला ओलंपिक स्वर्ण निम्नलिखित में से किस वर्ष में जीता था?

- Ans  1. 1936  
 2. 1928  
 3. 1932  
 4. 1940

Question Type : MCQ

Question ID : 630680799014

Option 1 ID : 6306803130860

Option 2 ID : 6306803130858

Option 3 ID : 6306803130859

Option 4 ID : 6306803130861

Status : Answered

Chosen Option : 2

Q.16 निम्नलिखित में से किस हड़प्पा स्थल की खुदाई से महान स्नानागार (Great Bath) के अवशेष मिले हैं?

- Ans  1. हड़प्पा  
 2. मोहनजोदड़ो  
 3. कालीबंगा  
 4. लोथल

Question Type : MCQ  
Question ID : 630680616069  
Option 1 ID : 6306802410978  
Option 2 ID : 6306802410979  
Option 3 ID : 6306802410980  
Option 4 ID : 6306802410981  
Status : Answered  
Chosen Option : 2

Q.17 पुरुष कबड्डी कोर्ट की लंबाई कितनी होती है?

- Ans  1. 13 m  
 2. 17 m  
 3. 11 m  
 4. 15 m

Question Type : MCQ  
Question ID : 630680430551  
Option 1 ID : 6306801680226  
Option 2 ID : 6306801680228  
Option 3 ID : 6306801680225  
Option 4 ID : 6306801680227  
Status : Answered  
Chosen Option : 1

Q.18 इनमें से कौन वेदों को सभी ज्ञान का स्रोत मानता था और 'वेदों की ओर वापस जाओ' के नारे के लिए जाना जाता था?

- Ans  1. स्वामी दयानंद सरस्वती  
 2. केशव चन्द्र सेन  
 3. राजा राममोहन राय  
 4. स्वामी विवेकानंद

Question Type : MCQ  
Question ID : 630680362755  
Option 1 ID : 6306801412773  
Option 2 ID : 6306801412776  
Option 3 ID : 6306801412775  
Option 4 ID : 6306801412774  
Status : Answered  
Chosen Option : 1

Q.19 प्रभुत्व (supremacy) के लिए प्रसिद्ध 'त्रिपक्षीय संघर्ष (Tripartite struggle)' निम्नलिखित में से किन शक्तियों के बीच हुआ था?

- Ans
- 1. चालुक्य, सेन और प्रतिहार
  - 2. चौहान, पाल और गुर्जर
  - 3. गुर्जर-प्रतिहार, राष्ट्रकूट और पाल
  - 4. सेन, पाल और राष्ट्रकूट

Question Type : MCQ

Question ID : 630680322651

Option 1 ID : 6306801255246

Option 2 ID : 6306801255248

Option 3 ID : 6306801255245

Option 4 ID : 6306801255247

Status : Answered

Chosen Option : 3

Q.20 अन्नपूर्णा देवी का संबंध निम्नलिखित में से किस संगीत वाद्ययंत्र से है?

- Ans
- 1. सुरबहार
  - 2. सारंगी
  - 3. मृदंगम
  - 4. बांसुरी

Question Type : MCQ

Question ID : 630680488690

Option 1 ID : 6306801908776

Option 2 ID : 6306801908777

Option 3 ID : 6306801908775

Option 4 ID : 6306801908778

Status : Answered

Chosen Option : 1

Q.21 भारतीय संविधान के अनुच्छेद 21 में निम्नलिखित में से किस अधिकार का उल्लेख है?

- Ans
- 1. धार्मिक स्वतंत्रता का अधिकार: धार्मिक मामलों का प्रबंधन करने की स्वतंत्रता
  - 2. समानता का अधिकार: कानून के समक्ष समानता
  - 3. स्वतंत्रता का अधिकार: जीवन और व्यक्तिगत स्वतंत्रता की सुरक्षा
  - 4. शोषण के विरुद्ध अधिकार: मानव तस्करी और जबरन श्रम पर रोक

Question Type : MCQ

Question ID : 630680406233

Option 1 ID : 6306801584018

Option 2 ID : 6306801584019

Option 3 ID : 6306801584016

Option 4 ID : 6306801584017

Status : Answered

Chosen Option : 3

Q.22 प्रेरणा श्रीमाली (Prerana Shrimali) को कथक नृत्य शैली में उनके योगदान के लिए निम्नलिखित में से किस वर्ष संगीत नाटक अकादमी पुरस्कार मिला?

- Ans
- 1. 2015
  - 2. 2003
  - 3. 2009
  - 4. 2012

Question Type : MCQ  
Question ID : 630680433367  
Option 1 ID : 6306801691437  
Option 2 ID : 6306801691438  
Option 3 ID : 6306801691435  
Option 4 ID : 6306801691436  
Status : Answered  
Chosen Option : 2

Q.23 13 सितंबर 2023 से, DMK सांसद तिरुचि शिवा (Tiruchi Siva) को \_\_\_\_\_ पर बनी समिति का अध्यक्ष (chairperson) नियुक्त किया गया है।

- Ans
- 1. उद्योग
  - 2. सूचना प्रौद्योगिकी
  - 3. परिवहन
  - 4. गृह

Question Type : MCQ  
Question ID : 630680468934  
Option 1 ID : 6306801831503  
Option 2 ID : 6306801831506  
Option 3 ID : 6306801831504  
Option 4 ID : 6306801831505  
Status : Not Attempted and Marked For Review  
Chosen Option : --

Q.24 इनमें से किसे भारत में कई शास्त्रीय नृत्य प्रदर्शनों से पहले नटराज के रूप में पूजा जाता है?

- Ans
- 1. इंद्र
  - 2. ब्रह्मा
  - 3. विष्णु
  - 4. शिव

Question Type : MCQ  
Question ID : 630680465719  
Option 1 ID : 6306801818913  
Option 2 ID : 6306801818914  
Option 3 ID : 6306801818911  
Option 4 ID : 6306801818912  
Status : Answered  
Chosen Option : 4

Q.25 भारत में सूक्ष्म वित्त (microfinance) के संदर्भ में, SHG-BLP की अवधारणा का प्रयोग किया जाता है। SHG-BLP में L का क्या तात्पर्य है?

- Ans
- 1. लिंक (Link)
  - 2. लेंड (Lend)
  - 3. लेंडिंग (Lending)
  - 4. लिंकेज (Linkage)

Question Type : MCQ

Question ID : 630680302527

Option 1 ID : 6306801176778

Option 2 ID : 6306801176780

Option 3 ID : 6306801176781

Option 4 ID : 6306801176779

Status : Answered

Chosen Option : 1

Section : English Language and Comprehension

Q.1 The following sentence has been split into four segments. Identify the segment that contains a grammatical error.

Sarah / will singing / at the concert / on Saturday.

- Ans
- 1. at the concert
  - 2. Sarah
  - 3. on Saturday
  - 4. will singing

Question Type : MCQ

Question ID : 630680413372

Option 1 ID : 6306801612310

Option 2 ID : 6306801612308

Option 3 ID : 6306801612311

Option 4 ID : 6306801612309

Status : Answered

Chosen Option : 4

Q.2 Select the correct spelling of the underlined word in the given sentence.

The flight was about to take off when suddenly the authorities came to ensure the record of the maintanance department.

- Ans
- 1. maintenance
  - 2. maintainence
  - 3. maintnance
  - 4. maintainance

Question Type : MCQ

Question ID : 630680487252

Option 1 ID : 6306801903153

Option 2 ID : 6306801903152

Option 3 ID : 6306801903150

Option 4 ID : 6306801903151

Status : Answered

Chosen Option : 1

Q.3 Select the INCORRECTLY spelt word.

- Ans  1. Eighty  
 2. Medicin  
 3. Crazy  
 4. Addict

Question Type : MCQ  
Question ID : 6306801046649  
Option 1 ID : 6306804108721  
Option 2 ID : 6306804108722  
Option 3 ID : 6306804108723  
Option 4 ID : 6306804108724  
Status : Answered  
Chosen Option : 2

Q.4 Select the most appropriate synonym of the underlined word.  
The management gave kudos to Jithin for his performance.

- Ans  1. punishment  
 2. admonishment  
 3. criticism  
 4. praise

Question Type : MCQ  
Question ID : 630680517235  
Option 1 ID : 6306802021336  
Option 2 ID : 6306802021337  
Option 3 ID : 6306802021338  
Option 4 ID : 6306802021339  
Status : Answered  
Chosen Option : 4

Q.5 Select the most appropriate synonym of the following word.

Reluctant

- Ans  1. Pleasant  
 2. Unrelenting  
 3. Unwilling  
 4. Curious

Question Type : MCQ  
Question ID : 630680396790  
Option 1 ID : 6306801547245  
Option 2 ID : 6306801547247  
Option 3 ID : 6306801547244  
Option 4 ID : 6306801547246  
Status : Answered  
Chosen Option : 3

**Q.6** Select the most appropriate synonym of the given word.  
**Panacea**

- Ans  1. Miracle  
 2. Pressure  
 3. Remedy  
 4. Survey

Question Type : **MCQ**  
Question ID : **630680397583**  
Option 1 ID : **6306801550254**  
Option 2 ID : **6306801550255**  
Option 3 ID : **6306801550256**  
Option 4 ID : **6306801550253**  
Status : **Answered**  
Chosen Option : **3**

**Q.7** Select the most appropriate synonym of the underlined word in the given sentence.  
The lenient ways of the manager prompted substandard work from his subordinates.

- Ans  1. irritating  
 2. ignorant  
 3. easygoing  
 4. insane

Question Type : **MCQ**  
Question ID : **630680395132**  
Option 1 ID : **6306801540799**  
Option 2 ID : **6306801540797**  
Option 3 ID : **6306801540796**  
Option 4 ID : **6306801540798**  
Status : **Answered**  
Chosen Option : **3**

**Q.8** Select the most appropriate option to substitute the underlined segment in the given sentence.

The project fell besides due to lack of funding and support.

- Ans  1. fell about due to lack  
 2. fell through due to lack  
 3. fell until due to lack  
 4. fell along due to lack

Question Type : **MCQ**  
Question ID : **630680549221**  
Option 1 ID : **6306802147353**  
Option 2 ID : **6306802147355**  
Option 3 ID : **6306802147354**  
Option 4 ID : **6306802147356**  
Status : **Not Answered**  
Chosen Option : **--**

**Q.9** Select the appropriate option that can substitute the underlined idiom in the given sentence.

Everyone says that waking up early in the morning is beneficial for our health and overall well-being. But it is easier said than done.

- Ans
- 1. a life filled with excitement
  - 2. to start performing better than before
  - 3. not as easy as it seems to be
  - 4. a step towards better health

Question Type : **MCQ**  
Question ID : **630680134118**  
Option 1 ID : **630680519366**  
Option 2 ID : **630680519367**  
Option 3 ID : **630680519368**  
Option 4 ID : **630680519369**  
Status : **Answered**  
Chosen Option : **3**

**Q.10** Select the most appropriate option to fill in the blank.  
During the meeting, the employer's \_\_\_\_\_ was clear as he calmly addressed each team member's concerns and provided insightful solutions.

- Ans
- 1. composure
  - 2. compose
  - 3. composes
  - 4. composed

Question Type : **MCQ**  
Question ID : **6306801031663**  
Option 1 ID : **6306804049361**  
Option 2 ID : **6306804049362**  
Option 3 ID : **6306804049364**  
Option 4 ID : **6306804049363**  
Status : **Answered**  
Chosen Option : **1**

**Q.11** Select the most appropriate synonym of the given word.  
Hamper

- Ans
- 1. Hinder
  - 2. Urge
  - 3. Absorb
  - 4. Accuse

Question Type : **MCQ**  
Question ID : **630680726539**  
Option 1 ID : **6306802847164**  
Option 2 ID : **6306802847162**  
Option 3 ID : **6306802847163**  
Option 4 ID : **6306802847165**  
Status : **Answered**  
Chosen Option : **2**

**Q.12** Select the most appropriate option to fill in the blank.  
The new intern was eager to learn the \_\_\_\_\_ of the corporate world.

- Ans  1. tides  
 2. ropes  
 3. flies  
 4. rides

Question Type : **MCQ**  
Question ID : **630680530320**  
Option 1 ID : **6306802073184**  
Option 2 ID : **6306802073182**  
Option 3 ID : **6306802073181**  
Option 4 ID : **6306802073183**  
Status : **Answered**  
Chosen Option : **2**

**Q.13** Select the most appropriate option that can substitute the underlined segment in the given sentence. If there is no need to substitute it, select 'No substitution required'.

The White man had to swallow his bombast and have completed the journey in mortified.

- Ans  1. completes the journey mortifying  
 2. No substitution required  
 3. complete the journey in mortification  
 4. completing the mortifying journey

Question Type : **MCQ**  
Question ID : **630680583974**  
Option 1 ID : **6306802284740**  
Option 2 ID : **6306802284741**  
Option 3 ID : **6306802284738**  
Option 4 ID : **6306802284739**  
Status : **Answered**  
Chosen Option : **2**

**Q.14** Select the most appropriate verb / verb phrase to fill in the blank.  
In 2030, advancements in technology \_\_\_\_\_ the way we live, work and interact with each other.

- Ans  1. will be reshaping  
 2. could be reshaped  
 3. have reshaped  
 4. shall have been reshaped

Question Type : **MCQ**  
Question ID : **630680514381**  
Option 1 ID : **6306802010150**  
Option 2 ID : **6306802010152**  
Option 3 ID : **6306802010151**  
Option 4 ID : **6306802010149**  
Status : **Answered**  
Chosen Option : **4**

**Q.15** Parts of the following sentence have been given as options. Select the option that contains an error.  
My sister-in-law is the most succeeded for all the industrialists in this country today.

Ans  1. succeeded for all

2. the industrialists

3. My sister-in-law is the most

4. in this country today

Question Type : **MCQ**

Question ID : **630680154850**

Option 1 ID : **630680599197**

Option 2 ID : **630680599198**

Option 3 ID : **630680599196**

Option 4 ID : **630680599199**

Status : **Answered**

Chosen Option : 1

**Q.16** Select the INCORRECTLY spelt word.

Ans  1. Quiescent

2. Extraneous

3. Colloquiel

4. Posthumous

Question Type : **MCQ**

Question ID : **630680616807**

Option 1 ID : **6306802413474**

Option 2 ID : **6306802413473**

Option 3 ID : **6306802413475**

Option 4 ID : **6306802413472**

Status : **Answered**

Chosen Option : 3

**Q.17** Select the most appropriate option to fill in the blank.

The way she elaborated on every detail with precision impressed everyone \_\_\_\_ the meeting.

Ans  1. off

2. above

3. into

4. at

Question Type : **MCQ**

Question ID : **630680468917**

Option 1 ID : **6306801831436**

Option 2 ID : **6306801831435**

Option 3 ID : **6306801831437**

Option 4 ID : **6306801831438**

Status : **Answered**

Chosen Option : 4

**Q.18** The following sentence has been split into four segments. Identify the segment that contains a grammatical error.  
While she / was watched / the movie, / her phone rang.

- Ans  1. was watched  
 2. her phone rang  
 3. the movie,  
 4. While she

Question Type : **MCQ**  
Question ID : **630680444230**  
Option 1 ID : **6306801734204**  
Option 2 ID : **6306801734206**  
Option 3 ID : **6306801734205**  
Option 4 ID : **6306801734203**  
Status : **Answered**  
Chosen Option : 1

**Q.19** The following sentence has been split into four segments. Identify the segment that contains a grammatical error.  
They were / interested / on / learning new languages.

- Ans  1. learning new languages  
 2. interested  
 3. They were  
 4. on

Question Type : **MCQ**  
Question ID : **630680450014**  
Option 1 ID : **6306801757221**  
Option 2 ID : **6306801757219**  
Option 3 ID : **6306801757218**  
Option 4 ID : **6306801757220**  
Status : **Answered**  
Chosen Option : 4

**Q.20** The following sentence has been split into four segments. Identify the segment that contains a grammatical error.

I hope that / yesterday's lunch / at Rahul's place / was at your liking.

- Ans  1. I hope that  
 2. yesterday's lunch  
 3. was at your liking.  
 4. at Rahul's place

Question Type : **MCQ**  
Question ID : **630680627631**  
Option 1 ID : **6306802456623**  
Option 2 ID : **6306802456624**  
Option 3 ID : **6306802456626**  
Option 4 ID : **6306802456625**  
Status : **Answered**  
Chosen Option : 3

**Comprehension:**

In the following passage, some words have been deleted. Read the passage carefully and select the most appropriate option to fill in each blank.

A phobia is an irrational fear of an object, situation or living thing. While fear is (1) \_\_\_\_\_ natural response to danger, phobias often occur (2) \_\_\_\_\_ response to something unlikely to cause real harm. In some cases, a person with a (3) \_\_\_\_\_ will meet the diagnostic criteria for a specific phobia, which is a type of anxiety disorder. Someone with a specific phobia will (4) \_\_\_\_\_ intense fear and anxiety when confronted with the source of the phobia, which could include blood, heights or specific animals like dogs. Phobias are (5) \_\_\_\_\_ by significant distress and often cause a person to avoid the source of their fear or suffer from extreme anxiety when faced with it. Someone experiencing a phobia that is interfering with everyday life should consider undergoing treatment for their phobia, as outcomes for professional care are typically favourable.

**SubQuestion No : 21**

**Q.21** Select the most appropriate option to fill in blank number 1.

- Ans
- 1. these
  - 2. one
  - 3. those
  - 4. a

Question Type : **MCQ**

Question ID : **630680744405**

Option 1 ID : **6306802917839**

Option 2 ID : **6306802917840**

Option 3 ID : **6306802917838**

Option 4 ID : **6306802917837**

Status : **Answered**

Chosen Option : **4**

**Comprehension:**

In the following passage, some words have been deleted. Read the passage carefully and select the most appropriate option to fill in each blank.

A phobia is an irrational fear of an object, situation or living thing. While fear is (1) \_\_\_\_\_ natural response to danger, phobias often occur (2) \_\_\_\_\_ response to something unlikely to cause real harm. In some cases, a person with a (3) \_\_\_\_\_ will meet the diagnostic criteria for a specific phobia, which is a type of anxiety disorder. Someone with a specific phobia will (4) \_\_\_\_\_ intense fear and anxiety when confronted with the source of the phobia, which could include blood, heights or specific animals like dogs. Phobias are (5) \_\_\_\_\_ by significant distress and often cause a person to avoid the source of their fear or suffer from extreme anxiety when faced with it. Someone experiencing a phobia that is interfering with everyday life should consider undergoing treatment for their phobia, as outcomes for professional care are typically favourable.

**SubQuestion No : 22**

**Q.22** Select the most appropriate option to fill in blank number 2.

- Ans
- 1. in
  - 2. at
  - 3. of
  - 4. on

Question Type : **MCQ**

Question ID : **630680744406**

Option 1 ID : **6306802917842**

Option 2 ID : **6306802917843**

Option 3 ID : **6306802917844**

Option 4 ID : **6306802917841**

Status : **Answered**

Chosen Option : **1**

**Comprehension:**

In the following passage, some words have been deleted. Read the passage carefully and select the most appropriate option to fill in each blank.

A phobia is an irrational fear of an object, situation or living thing. While fear is (1) \_\_\_\_\_ natural response to danger, phobias often occur (2) \_\_\_\_\_ response to something unlikely to cause real harm. In some cases, a person with a (3) \_\_\_\_\_ will meet the diagnostic criteria for a specific phobia, which is a type of anxiety disorder. Someone with a specific phobia will (4) \_\_\_\_\_ intense fear and anxiety when confronted with the source of the phobia, which could include blood, heights or specific animals like dogs. Phobias are (5) \_\_\_\_\_ by significant distress and often cause a person to avoid the source of their fear or suffer from extreme anxiety when faced with it. Someone experiencing a phobia that is interfering with everyday life should consider undergoing treatment for their phobia, as outcomes for professional care are typically favourable.

**SubQuestion No : 23**

**Q.23 Select the most appropriate option to fill in blank number 3.**

- Ans  1. trouble  
 2. danger  
 3. phobia  
 4. violence

Question Type : **MCQ**

Question ID : **630680744407**

Option 1 ID : **6306802917848**

Option 2 ID : **6306802917845**

Option 3 ID : **6306802917847**

Option 4 ID : **6306802917846**

Status : **Answered**

Chosen Option : **3**

**Comprehension:**

In the following passage, some words have been deleted. Read the passage carefully and select the most appropriate option to fill in each blank.

A phobia is an irrational fear of an object, situation or living thing. While fear is (1) \_\_\_\_\_ natural response to danger, phobias often occur (2) \_\_\_\_\_ response to something unlikely to cause real harm. In some cases, a person with a (3) \_\_\_\_\_ will meet the diagnostic criteria for a specific phobia, which is a type of anxiety disorder. Someone with a specific phobia will (4) \_\_\_\_\_ intense fear and anxiety when confronted with the source of the phobia, which could include blood, heights or specific animals like dogs. Phobias are (5) \_\_\_\_\_ by significant distress and often cause a person to avoid the source of their fear or suffer from extreme anxiety when faced with it. Someone experiencing a phobia that is interfering with everyday life should consider undergoing treatment for their phobia, as outcomes for professional care are typically favourable.

**SubQuestion No : 24**

**Q.24 Select the most appropriate option to fill in blank number 4.**

- Ans  1. dream  
 2. experience  
 3. horizon  
 4. aspire

Question Type : **MCQ**

Question ID : **630680744408**

Option 1 ID : **6306802917849**

Option 2 ID : **6306802917851**

Option 3 ID : **6306802917852**

Option 4 ID : **6306802917850**

Status : **Answered**

Chosen Option : **2**

**Comprehension:**

In the following passage, some words have been deleted. Read the passage carefully and select the most appropriate option to fill in each blank.

A phobia is an irrational fear of an object, situation or living thing. While fear is (1) \_\_\_\_\_ natural response to danger, phobias often occur (2) \_\_\_\_\_ response to something unlikely to cause real harm. In some cases, a person with a (3) \_\_\_\_\_ will meet the diagnostic criteria for a specific phobia, which is a type of anxiety disorder. Someone with a specific phobia will (4) \_\_\_\_\_ intense fear and anxiety when confronted with the source of the phobia, which could include blood, heights or specific animals like dogs. Phobias are (5) \_\_\_\_\_ by significant distress and often cause a person to avoid the source of their fear or suffer from extreme anxiety when faced with it. Someone experiencing a phobia that is interfering with everyday life should consider undergoing treatment for their phobia, as outcomes for professional care are typically favourable.

**SubQuestion No : 25**

**Q.25 Select the most appropriate option to fill in blank number 5.**

**Ans**  1. characterised

2. classified

3. qualified

4. categorised

Question Type : **MCQ**

Question ID : **630680744409**

Option 1 ID : **6306802917853**

Option 2 ID : **6306802917854**

Option 3 ID : **6306802917856**

Option 4 ID : **6306802917855**

Status : **Answered**

Chosen Option : **2**