

## Multi Tasking Non Technical Staff and Havaladar CBIC and CBN Examination 2024

Roll Number	
Candidate Name	
Venue Name	iON Digital Zone iDZ Laxman Nagar
Exam Date	09/10/2024
Exam Time	9:00 AM - 11:00 AM
Subject	MTS Non Tech Havaladar CBIC and CBN Examination 2024

### Section : Numerical and Mathematical Ability

Q.1 चार लड़कियों की औसत आयु 12 वर्ष है। इनमें से तीन की आयु 7, 12 और 13 वर्ष है। चौथी लड़की की आयु ज्ञात करें।

- Ans
- 1. 17 वर्ष
  - 2. 15 वर्ष
  - 3. 16 वर्ष
  - 4. 14 वर्ष

Question Type : MCQ

Question ID : 630680467766

Option 1 ID : 6306801826968

Option 2 ID : 6306801826966

Option 3 ID : 6306801826967

Option 4 ID : 6306801826969

Status : Answered

Chosen Option : 3

Q.2 दो विक्रेता क्रमशः क्रय मूल्य और विक्रय मूल्य पर अपने प्रतिशत लाभ की गणना करते हैं। यदि दोनों विक्रेता ₹3,200 में बेचे गए माल पर 28% के लाभ की घोषणा करते हैं, तो लाभों के बीच का अंतर (₹ में) ज्ञात करें।

- Ans
- 1. 896
  - 2. 548
  - 3. 196
  - 4. 700

Question Type : MCQ

Question ID : 630680120540

Option 1 ID : 630680467190

Option 2 ID : 630680467193

Option 3 ID : 630680467191

Option 4 ID : 630680467192

Status : Answered

Chosen Option : 4

Q.3 3 वर्षों के लिए 7% वार्षिक की ब्याज दर पर उधार ली गई राशि ₹2500 पर साधारण ब्याज (₹ में) ज्ञात कीजिए।

- Ans  1. 485  
 2. 565  
 3. 465  
 4. 525

Question Type : MCQ

Question ID : 630680591909

Option 1 ID : 6306802316106

Option 2 ID : 6306802316104

Option 3 ID : 6306802316105

Option 4 ID : 6306802316103

Status : Answered

Chosen Option : 4

Q.4 निम्न तालिका का अध्ययन कीजिए और उसके नीचे दिए गए प्रश्न का उत्तर दीजिए।

शहर	जनसंख्या	पुरुष : महिला
चंडीगढ़	1090	1 : 1
कालका	900	3 : 1
लुधियाना	1510	3 : 2
अम्बाला	2015	2 : 3
जालंधर	1500	4 : 3

सभी शहरों की मिलाकर औसत जनसंख्या कितनी है?

- Ans  1. 1404  
 2. 1401  
 3. 1402  
 4. 1403

Question Type : MCQ

Question ID : 630680523829

Option 1 ID : 6306802047470

Option 2 ID : 6306802047467

Option 3 ID : 6306802047468

Option 4 ID : 6306802047469

Status : Answered

Chosen Option : 4

Q.5 एक व्यक्ति ने एक वस्तु बेची और उसे 9% की हानि हुई। यदि वह इसे ₹51 अधिक में बेचता तो उसे 8% का लाभ होता। क्रय मूल्य (C.P.) ज्ञात करें।

- Ans  1. Rs.400  
 2. Rs.300  
 3. Rs.250  
 4. Rs.350

Question Type : MCQ

Question ID : 630680105247

Option 1 ID : 630680409069

Option 2 ID : 630680409067

Option 3 ID : 630680409070

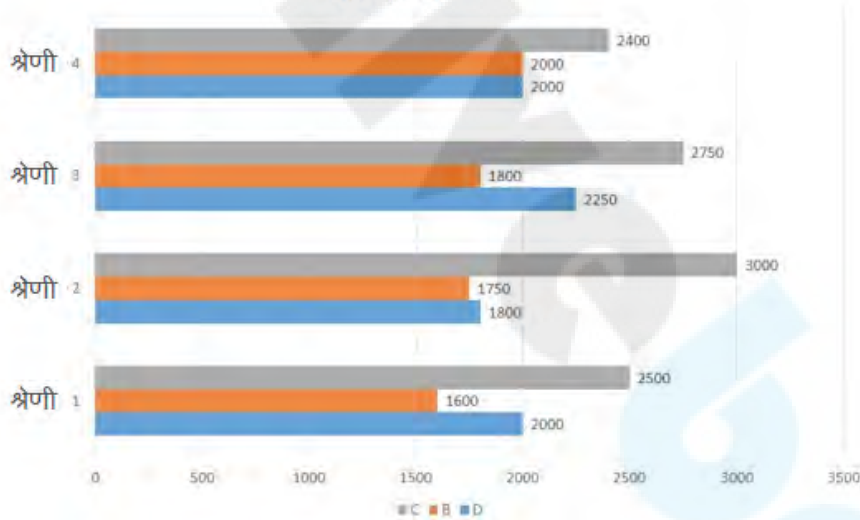
Option 4 ID : 630680409068

Status : Answered

Chosen Option : 2

Q.6 एक कार्यालय में, तीन अलग-अलग शहरों B, C और D से चार अलग-अलग श्रेणियों में कर्मचारियों का डेटा दंड आलेख में नीचे दिया गया है।

चार्ट शीर्षक



किन्हीं दो अलग-अलग शहरों से कर्मचारियों की संख्या के बीच का अंतर किस श्रेणी में अधिकतम है?

- Ans  1. 4  
 2. 2  
 3. 1  
 4. 3

Question Type : MCQ

Question ID : 630680815884

Option 1 ID : 6306803196872

Option 2 ID : 6306803196870

Option 3 ID : 6306803196869

Option 4 ID : 6306803196871

Status : Answered

Chosen Option : 4

Q.7 4 वर्षों के लिए 9% वार्षिक की ब्याज दर पर उधार ली गई राशि ₹2500 पर साधारण ब्याज (₹ में) ज्ञात कीजिए।

Ans  1. 900

2. 840

3. 940

4. 860

Question Type : MCQ

Question ID : 630680591920

Option 1 ID : 6306802316147

Option 2 ID : 6306802316149

Option 3 ID : 6306802316148

Option 4 ID : 6306802316150

Status : Answered

Chosen Option : 1

Q.8 एक वस्तु का क्रय मूल्य उसके अंकित मूल्य का 76% है। 5% की छूट देने के बाद लाभ प्रतिशत ज्ञात कीजिए।

Ans  1. 27.5%

2. 22.5%

3. 25%

4. 24%

Question Type : MCQ

Question ID : 630680815855

Option 1 ID : 6306803196756

Option 2 ID : 6306803196753

Option 3 ID : 6306803196755

Option 4 ID : 6306803196754

Status : Answered

Chosen Option : 3

Q.9  $\frac{1}{7}$ ,  $\frac{2}{5}$  और  $\frac{3}{15}$  का लघुत्तम समावर्त्य (LCM) ज्ञात कीजिए।

Ans  1. 5

2. 6

3. 3

4. 4

Question Type : MCQ

Question ID : 630680102313

Option 1 ID : 630680397535

Option 2 ID : 630680397536

Option 3 ID : 630680397538

Option 4 ID : 630680397537

Status : Answered

Chosen Option : 2

Q.10 ABCDEF एक सम षट्भुज है, और  $m(\overline{AD}) = 12$  cm है। दिए गए षट्भुज का क्षेत्रफल ( $cm^2$  में) क्या है?

- Ans
- 1.  $162\sqrt{3}$
  - 2.  $54\sqrt{3}$
  - 3.  $216\sqrt{3}$
  - 4.  $108\sqrt{3}$

Question Type : MCQ

Question ID : 630680526616

Option 1 ID : 6306802058530

Option 2 ID : 6306802058533

Option 3 ID : 6306802058532

Option 4 ID : 6306802058531

Status : Answered

Chosen Option : 3

Q.11 एक ठोस लंब वृत्तीय शंकु की त्रिज्या 65 cm है और इसकी ऊँचाई 72 cm है। इस शंकु का संपूर्ण पृष्ठीय क्षेत्रफल ( $cm^2$  में) कितना होगा? ( $\pi = \frac{22}{7}$  लीजिए)

- Ans
- 1.  $43084\frac{5}{7}$
  - 2.  $33094\frac{2}{7}$
  - 3.  $38012\frac{1}{7}$
  - 4.  $43051\frac{3}{7}$

Question Type : MCQ

Question ID : 630680387557

Option 1 ID : 6306801510913

Option 2 ID : 6306801510912

Option 3 ID : 6306801510910

Option 4 ID : 6306801510911

Status : Answered

Chosen Option : 4

Q.12 एक कार 5 घंटे में 275 km की दूरी तय कर सकती है। यदि इसकी चाल 5 km/h कम कर दी जाए, तो कार द्वारा 300 km की दूरी को तय करने में कितना समय लगेगा?

- Ans
- 1. 5 घंटे 30 मिनट
  - 2. 5 घंटे
  - 3. 4 घंटे 30 मिनट
  - 4. 6 घंटे

Question Type : MCQ

Question ID : 630680233078

Option 1 ID : 630680904435

Option 2 ID : 630680904434

Option 3 ID : 630680904433

Option 4 ID : 630680904436

Status : Answered

Chosen Option : 4

Q.13 2016 में रेफ्रिजरेटर की कीमत में 5% की वृद्धि हुई और 2017 में इसमें 5% की कमी आई। वर्ष 2017 के अंत में इसकी कीमत ₹47,880 थी। वर्ष 2016 की शुरुआत में इसकी कीमत क्या थी?

- Ans
- 1. ₹54,050
  - 2. ₹46,000
  - 3. ₹48,560
  - 4. ₹48,000

Question Type : MCQ

Question ID : 630680464501

Option 1 ID : 6306801814040

Option 2 ID : 6306801814039

Option 3 ID : 6306801814041

Option 4 ID : 6306801814042

Status : Answered

Chosen Option : 4

Q.14 एक साइकिल चालक 2.5 किलोमीटर की दूरी 4 मिनट 10 सेकंड में तय करता है। उसी चाल से 6 किलोमीटर की दूरी तय करने में उसे कितना समय लगेगा?

- Ans
- 1. 11 मिनट
  - 2. 12 मिनट
  - 3. 10 मिनट
  - 4. 9 मिनट

Question Type : MCQ

Question ID : 630680287409

Option 1 ID : 6306801117543

Option 2 ID : 6306801117546

Option 3 ID : 6306801117544

Option 4 ID : 6306801117545

Status : Answered

Chosen Option : 3

Q.15 15 m लंबे और 12 m चौड़े एक आयताकार पार्क का क्षेत्रफल \_\_\_\_\_ है।

Ans  1. 180 m<sup>2</sup>

2. 144 m<sup>2</sup>

3. 170 m<sup>2</sup>

4. 54 m<sup>2</sup>

Question Type : MCQ

Question ID : 630680109039

Option 1 ID : 630680423017

Option 2 ID : 630680423018

Option 3 ID : 630680423016

Option 4 ID : 630680423019

Status : Answered

Chosen Option : 1

Q.16 साधारण ब्याज की एक निश्चित दर पर, कोई राशि 3 वर्षों में ₹9,430 और 7 वर्षों में ₹11,070 हो जाती है। राशि ज्ञात कीजिए।

Ans  1. ₹8,350

2. ₹8,000

3. ₹8,200

4. ₹7,800

Question Type : MCQ

Question ID : 630680409022

Option 1 ID : 6306801595016

Option 2 ID : 6306801595014

Option 3 ID : 6306801595015

Option 4 ID : 6306801595013

Status : Answered

Chosen Option : 1

Q.17 एक कंपनी में यदि 40 कर्मचारी 4 दिन में 50 बैग बना सकते हैं, तो 24 कर्मचारी 8 दिन में कितने बैग बनाएंगे?

Ans  1. 60

2. 45

3. 40

4. 54

Question Type : MCQ

Question ID : 630680461151

Option 1 ID : 6306801800881

Option 2 ID : 6306801800879

Option 3 ID : 6306801800878

Option 4 ID : 6306801800880

Status : Answered

Chosen Option : 1

Q.18 40 kg, 49 kg, 56 kg, 71 kg और 39 kg वजन के पांच सदस्यों वाले परिवार का औसत वजन (kg में) ज्ञात कीजिए।

- Ans  1. 50  
 2. 51  
 3. 52  
 4. 53

Question Type : MCQ

Question ID : 630680551663

Option 1 ID : 6306802156879

Option 2 ID : 6306802156877

Option 3 ID : 6306802156878

Option 4 ID : 6306802156880

Status : Answered

Chosen Option : 2

Q.19 एक वस्तु दो धातुओं A और B से मिलकर बनी है, जिनका मूल्य क्रमशः ₹35 प्रति किलोग्राम और ₹40 प्रति किलोग्राम है और जो क्रमशः 2 : 3 के अनुपात में हैं। इस वस्तु के 12 किलोग्राम का मूल्य (₹ में) क्या होगा?

- Ans  1. 38  
 2. 456  
 3. 228  
 4. 152

Question Type : MCQ

Question ID : 630680455612

Option 1 ID : 6306801779362

Option 2 ID : 6306801779363

Option 3 ID : 6306801779364

Option 4 ID : 6306801779365

Status : Answered

Chosen Option : 2

Q.20 कोई केमिस्ट, दो अवयवों X और Y को मिश्रित करके 100 ग्राम औषधि तैयार करता है। X का मूल्य ₹1,500 प्रति 100 ग्राम है और Y का मूल्य ₹50 प्रति 10 ग्राम है। X और Y को इस प्रकार मिश्रित किया जाता है कि परिणामी औषधि का मूल्य ₹13 प्रति ग्राम होता है। औषधि में X की मात्रा (ग्राम में) कितनी है?

- Ans  1. 10  
 2. 20  
 3. 80  
 4. 30

Question Type : MCQ

Question ID : 630680481975

Option 1 ID : 6306801882399

Option 2 ID : 6306801882400

Option 3 ID : 6306801882402

Option 4 ID : 6306801882401

Status : Answered

Chosen Option : 4

Q.1 पाँच लड़कियाँ P, Q, R, S और T एक वृत्ताकार मेज के चारों ओर केंद्र की ओर मुख करके बैठी हैं (परंतु जरूरी नहीं कि वे इसी क्रम में बैठे हों)। S और T के बीच में केवल एक लड़की बैठी है। P, R के ठीक बाएं बैठी है। P, S की निकटतम पड़ोसी नहीं है। T के दाएं से तीसरे स्थान पर कौन-सी लड़की बैठी है?

Ans  1. Q

2. R

3. S

4. P

Question Type : MCQ

Question ID : 630680383303

Option 1 ID : 6306801494112

Option 2 ID : 6306801494113


Option 3 ID : 6306801494114

Option 4 ID : 6306801494111

Status : Answered

Chosen Option : 3

Q.2 दिए गए विकल्पों में से उस आकृति का चयन कीजिए, जो पैटर्न को पूरा करने के लिए नीचे दी गई आकृति में प्रश्न-चिह्न (?) के स्थान पर आएगी।

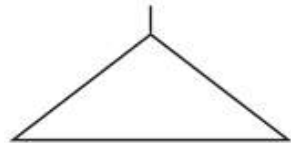


Ans

1.



2.



3.



4.



Question Type : MCQ

Question ID : 630680525736

Option 1 ID : 6306802055028

Option 2 ID : 6306802055030

Option 3 ID : 6306802055031

Option 4 ID : 6306802055029

Status : Answered

Chosen Option : 1

Q.3 दिए गए विकल्पों में से उस संख्या का चयन कीजिए जो निम्नलिखित श्रृंखला में प्रश्न चिह्न (?) के स्थान पर आ सकती है।

23, ?, 89, 177, 353, 705

- Ans
- 1. 42
  - 2. 49
  - 3. 45
  - 4. 47

Question Type : **MCQ**

Question ID : **630680430580**

Option 1 ID : **6306801680342**

Option 2 ID : **6306801680345**

Option 3 ID : **6306801680343**

Option 4 ID : **6306801680344**

Status : **Answered**

Chosen Option : **3**

Q.4 A, B, C, P, X, Y और Z एक वृत्ताकार मेज के चारों ओर केंद्र की ओर मुख करके बैठे हैं (परंतु जरूरी नहीं कि वे इसी क्रम में बैठे हों)। Y, A के बाएँ से तीसरे स्थान पर बैठा है। B, C के बाएँ से दूसरे स्थान पर बैठा है। Z, B के ठीक बाएँ बैठा है। P, Z के बाएँ से तीसरे स्थान पर बैठा है। A, C का निकटतम पड़ोसी नहीं है। Y के बाएँ से तीसरे स्थान पर कौन बैठा है?

- Ans
- 1. X
  - 2. Z
  - 3. Y
  - 4. B

Question Type : **MCQ**

Question ID : **630680412880**

Option 1 ID : **6306801610345**

Option 2 ID : **6306801610344**

Option 3 ID : **6306801610346**

Option 4 ID : **6306801610343**

Status : **Answered**

Chosen Option : **2**

Q.5 दिए गए कथनों और निष्कर्षों को ध्यानपूर्वक पढ़िए। यह मानते हुए कि कथनों में दी गई जानकारी सत्य है, भले ही यह सामान्यतः ज्ञात तथ्यों से भिन्न प्रतीत होती हो, तय कीजिए कि दिए गए निष्कर्षों में से कौन-सा/कौन-से निष्कर्ष इन कथनों का तार्किक रूप से अनुसरण करता है/करते हैं।

कथन:

सभी ग्रह, तारे हैं।

सभी तारे, आकाशगंगाएं हैं।

निष्कर्ष (I): सभी तारे, ग्रह हैं।

निष्कर्ष (II): सभी ग्रह, आकाशगंगाएं हैं।

Ans  1. केवल निष्कर्ष I अनुसरण करता है।

2. निष्कर्ष I और II दोनों अनुसरण करते हैं।

3. न तो निष्कर्ष I और न ही II अनुसरण करता है।

4. केवल निष्कर्ष II अनुसरण करता है।

Question Type : MCQ

Question ID : 630680410788

Option 1 ID : 6306801601911

Option 2 ID : 6306801601913

Option 3 ID : 6306801601914

Option 4 ID : 6306801601912

Status : Answered

Chosen Option : 4

Q.6 एक निश्चित कूट भाषा में, 'BEST' को '4982' के रूप में कूटबद्ध किया जाता है और 'STEM' को '6489' के रूप में कूटबद्ध किया जाता है। इसी भाषा में 'B' के लिए कूट क्या होगा?

Ans  1. 2

2. 4

3. 8

4. 6

Question Type : MCQ

Question ID : 630680465158

Option 1 ID : 6306801816667

Option 2 ID : 6306801816668

Option 3 ID : 6306801816670

Option 4 ID : 6306801816669

Status : Answered

Chosen Option : 1

Q.7 AE10 किसी निश्चित प्रकार से CG20 से संबंधित है। ठीक उसी प्रकार, KO20, MQ30 से संबंधित है। उसी तर्क का अनुसरण करते हुए, CG30 निम्नलिखित में से किससे संबंधित है?

Ans  1. EF40

2. GI45

3. EI45

4. EI40

Question Type : MCQ

Question ID : 6306801108787

Option 1 ID : 6306804355695

Option 2 ID : 6306804355696

Option 3 ID : 6306804355697

Option 4 ID : 6306804355694

Status : Answered

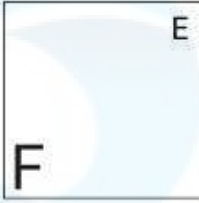
Chosen Option : 4

Q.8 विकल्पों में दी गई उस आकृति की पहचान कीजिए जिसे ? के स्थान पर रखने पर श्रृंखला तार्किक रूप से पूर्ण हो जाएगी।

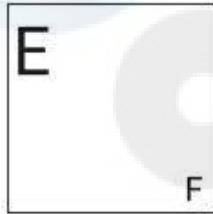
A	BC	D	?
BC	DE		

Ans


✗ 1.




✓ 2.



✗ 3.



✗ 4.



Question Type : MCQ

Question ID : 630680233738

Option 1 ID : 630680906369

Option 2 ID : 630680906370

Option 3 ID : 630680906371

Option 4 ID : 630680906368

Status : Answered

Chosen Option : 2

Q.9 यदि '+' और '-' को आपस में बदल दिया जाए तथा 'x' और '÷' को आपस में बदल दिया जाए, तो निम्नलिखित समीकरण में प्रश्न-चिह्न (?) के स्थान पर क्या आएगा?  
 $12 \div 3 - 8 + 16 \times 4 = ?$

Ans  1. 48

2. 40

3. 42

4. 44

Question Type : MCQ

Question ID : 630680380573

Option 1 ID : 6306801483280

Option 2 ID : 6306801483281

Option 3 ID : 6306801483282

Option 4 ID : 6306801483279

Status : Answered

Chosen Option : 2

Q.10 अंग्रेजी वर्णानुक्रम के आधार पर दी गई श्रृंखला में प्रश्न-चिह्न (?) के स्थान पर क्या आना चाहिए?  
AYF, FUI, KQL, PMO, ?

Ans  1. VIR

2. UJR

3. UIR

4. VIQ

Question Type : MCQ

Question ID : 630680338840

Option 1 ID : 6306801317950

Option 2 ID : 6306801317951

Option 3 ID : 6306801317949

Option 4 ID : 6306801317952

Status : Answered

Chosen Option : 3

Q.11 दिए गए विकल्पों में से उस आकृति का चयन कीजिए जो निम्नलिखित श्रृंखला में प्रश्न चिह्न (?) के स्थान पर आ सकती है।

L O F T	Z O P T	T Z O P	V Z 8 P	?
---------	---------	---------	---------	---

Ans

✓ 1. P V Z 8

✗ 2. 8 P V Z

✗ 3. Z V P 8

✗ 4. V P Z 8

Question Type : MCQ

Question ID : 630680468002

Option 1 ID : 6306801827913

Option 2 ID : 6306801827911

Option 3 ID : 6306801827910

Option 4 ID : 6306801827912

Status : Answered

Chosen Option : 1

Q.12 दिए गए समीकरण को संतुलित करने के लिए किन दो संख्याओं को आपस में बदला जाना चाहिए?  
( $24 + 14 - 6$ )  $\div$   $2 + 18 \times 3 - 20 = 40$   
(नोट: अदला-बदली पूरी संख्या की होनी चाहिए, न कि दी गई संख्या के अलग-अलग अंकों की)

- Ans
- 1. 2 और 3
  - 2. 20 और 24
  - 3. 20 और 14
  - 4. 14 और 18

Question Type : MCQ

Question ID : 630680413409

Option 1 ID : 6306801612462

Option 2 ID : 6306801612460

Option 3 ID : 6306801612463

Option 4 ID : 6306801612461

Status : Answered

Chosen Option : 4

Q.13 एक निश्चित कूट भाषा में, 'HAVE' को '2648' के रूप में कूटबद्ध किया जाता है और 'VOLT' को '3961' के रूप में कूटबद्ध किया जाता है। दी गई कूट भाषा में 'V' के लिए कूट क्या है?

- Ans
- 1. 4
  - 2. 3
  - 3. 6
  - 4. 1

Question Type : MCQ

Question ID : 630680422196

Option 1 ID : 6306801647223

Option 2 ID : 6306801647222

Option 3 ID : 6306801647220

Option 4 ID : 6306801647221

Status : Answered

Chosen Option : 2

Q.14 किसी निश्चित कूट भाषा में, 'nothing to hide' को 'tg mk sa' लिखा जाता है और 'hide and seek' को 'mk wd lq' लिखा जाता है। इसी भाषा में 'hide' को कैसे लिखा जाएगा?

- Ans
- 1. mk
  - 2. tg
  - 3. lq
  - 4. wd

Question Type : MCQ

Question ID : 630680419489

Option 1 ID : 6306801636581

Option 2 ID : 6306801636580

Option 3 ID : 6306801636583

Option 4 ID : 6306801636582

Status : Answered

Chosen Option : 1

Q.15 एक निश्चित तर्क का अनुसरण करते हुए 122, 145 से संबंधित है। उसी तर्क का अनुसरण करते हुए, 37, 50 से संबंधित है। समान तर्क का अनुसरण करते हुए, 82 निम्नलिखित में से किससे संबंधित है?  
(ध्यान दें: संख्याओं को उनके घटक अंकों में अलग-अलग किए बिना पूर्ण संख्याओं पर संक्रियाएं की जानी चाहिए। उदाहरण के लिए संख्या 13 - संख्या 13 पर संक्रियाएं जैसे 13 को जोड़ना/घटाना/गुणा करना आदि किया जा सकता है। 13 को 1 और 3 में अलग-अलग करने की और फिर 1 और 3 पर गणितीय संक्रियाएं करने की अनुमति नहीं है।)

- Ans
- 1. 89
  - 2. 98
  - 3. 101
  - 4. 96

Question Type : MCQ

Question ID : 630680450006

Option 1 ID : 6306801757186

Option 2 ID : 6306801757188

Option 3 ID : 6306801757187

Option 4 ID : 6306801757189

Status : Answered

Chosen Option : 3

Q.16 दिए गए संख्या युग्मों में दूसरी संख्या, पहली संख्या पर कुछ गणितीय संक्रियाएँ करके प्राप्त की गई हैं। उस समुच्चय का चयन कीजिए जिसमें संख्याएँ ठीक उसी प्रकार संबंधित हैं, जिस प्रकार दिए गए समुच्चयों की संख्याएँ संबंधित हैं।

(ध्यान दें: संख्याओं को उनके घटक अंकों में अलग-अलग किए बिना पूर्ण संख्याओं पर संक्रियाएं की जानी चाहिए। उदाहरण के लिए संख्या 13 - संख्या 13 पर संक्रियाएं जैसे 13 को जोड़ना/घटाना/गुणा करना आदि किया जा सकता है। 13 को 1 और 3 में अलग-अलग करने की और फिर 1 और 3 पर गणितीय संक्रियाएं करने की अनुमति नहीं है।)

16, 80  
22, 110

- Ans
- 1. 21, 33
  - 2. 25, 125
  - 3. 15, 20
  - 4. 17, 32

Question Type : MCQ

Question ID : 630680399134

Option 1 ID : 6306801556496

Option 2 ID : 6306801556497

Option 3 ID : 6306801556494

Option 4 ID : 6306801556495

Status : Answered

Chosen Option : 2

Q.17 अंग्रेजी वर्णानुक्रम के आधार पर DKNF किसी निश्चित प्रकार से YFIA से संबंधित है। ठीक उसी प्रकार, QYCR, LTXM से संबंधित है। समान तर्क का अनुसरण करते हुए, PEVM निम्नलिखित में से किससे संबंधित है?

Ans  1. KZPG

2. KZQH

3. IYPG

4. IYQH

Question Type : MCQ

Question ID : 630680528979

Option 1 ID : 6306802067907

Option 2 ID : 6306802067904

Option 3 ID : 6306802067906

Option 4 ID : 6306802067905

Status : Answered

Chosen Option : 2

Q.18 एक निश्चित कूट भाषा में, 'rivers trees grass' को '22 44 66' लिखा जाता है और 'trees clouds birds' को '44 99 88' लिखा जाता है। उस कूट भाषा में 'trees' को कैसे लिखा जाएगा?

Ans  1. 22

2. 66

3. 88

4. 44

Question Type : MCQ

Question ID : 630680439093

Option 1 ID : 6306801714185

Option 2 ID : 6306801714186

Option 3 ID : 6306801714184

Option 4 ID : 6306801714187

Status : Answered

Chosen Option : 4

Q.19 यदि दर्पण को नीचे दिखाए गए अनुसार MN पर रखा जाए, तो दी गई आकृति के सही दर्पण प्रतिबिंब का चयन कीजिए।



Ans

1. 7 6 9 K  
 2. J e K G  
 3. 9 L 6 K  
 4. J e 6 K

Question Type : MCQ

Question ID : 630680525327

Option 1 ID : 6306802053392

Option 2 ID : 6306802053394

Option 3 ID : 6306802053395

Option 4 ID : 6306802053393

Status : Answered

Chosen Option : 4

Q.20 दिए गए कथनों और निष्कर्षों को ध्यानपूर्वक पढ़िए। यह मानते हुए कि कथनों में दी गई जानकारी सत्य है, चाहे वह सामान्यतः ज्ञात तथ्यों से भिन्न प्रतीत होती हो और निर्णय लीजिए कि दिए गए निष्कर्षों में से कौन-सा/कौन-से निष्कर्ष कथनों का तार्किक रूप से अनुसरण करता है/करते हैं।

कथन:

सभी कुर्ते, साड़ियाँ हैं।  
सभी साड़ियाँ, ब्लाउज हैं।

निष्कर्ष:

(I) सभी कुर्ते, ब्लाउज हैं।  
(II) कोई ब्लाउज, साड़ी नहीं है।

Ans

1. केवल निष्कर्ष (II) अनुसरण करता है  
 2. न तो निष्कर्ष (I) और न ही निष्कर्ष (II) अनुसरण करता है  
 3. दोनों निष्कर्ष (I) और (II) अनुसरण करते हैं  
 4. केवल निष्कर्ष (I) अनुसरण करता है

Question Type : MCQ

Question ID : 630680815659

Option 1 ID : 6306803195938

Option 2 ID : 6306803195940

Option 3 ID : 6306803195939

Option 4 ID : 6306803195937

Status : Answered

Chosen Option : 4

Q.1 भारत में औसत वर्षा के अनुसार, लद्दाख केंद्र शासित प्रदेश \_\_\_\_\_ में स्थित है।

Ans  1. अपर्याप्त वर्षा वाले क्षेत्र

2. अधिक वर्षा वाले क्षेत्र

3. मध्यम वर्षा वाले क्षेत्र

4. कम वर्षा वाले क्षेत्र

Question Type : MCQ

Question ID : 630680510960

Option 1 ID : 6306801996970

Option 2 ID : 6306801996971

Option 3 ID : 6306801996973

Option 4 ID : 6306801996972

Status : Answered

Chosen Option : 1

Q.2 1974 में, शास्त्रीय गायिका नैना देवी को निम्नलिखित में से किस गायन शैली में उनके योगदान के लिए पद्म श्री से सम्मानित किया गया था?

Ans  1. कजरी

2. टप्पा

3. दादरा

4. ठुमरी

Question Type : MCQ

Question ID : 630680488694

Option 1 ID : 6306801908791

Option 2 ID : 6306801908792

Option 3 ID : 6306801908794

Option 4 ID : 6306801908793

Status : Answered

Chosen Option : 2

Q.3 एनोरेक्सिया नर्वोसा (Anorexia nervosa) किशोरों में खाने का एक विकार है। इसमें शरीर का भार \_\_\_\_\_।

Ans  1. अत्यधिक बढ़ता है

2. थोड़ा बढ़ता है

3. अत्यधिक घटता है

4. परिवर्तित नहीं होता है

Question Type : MCQ

Question ID : 630680311115

Option 1 ID : 6306801210573

Option 2 ID : 6306801210574

Option 3 ID : 6306801210576

Option 4 ID : 6306801210575

Status : Answered

Chosen Option : 3

Q.4 आगरा के किले में मोती मस्जिद का निर्माण निम्नलिखित में से किस मुगल सम्राट ने करवाया था?

- Ans  1. शाहजहाँ  
 2. अकबर  
 3. जहाँगीर  
 4. औरंगजेब

Question Type : **MCQ**  
Question ID : **630680309317**  
Option 1 ID : **6306801203426**  
Option 2 ID : **6306801203427**  
Option 3 ID : **6306801203425**  
Option 4 ID : **6306801203428**  
Status : **Answered**  
Chosen Option : 1

Q.5 निम्नलिखित में से किस समुदाय द्वारा 'नवरोज़ (Navroz)' को नए साल के रूप में मनाया जाता है?

- Ans  1. ईसाई  
 2. बौद्ध  
 3. पारसी  
 4. सिख

Question Type : **MCQ**  
Question ID : **630680157891**  
Option 1 ID : **630680611095**  
Option 2 ID : **630680611093**  
Option 3 ID : **630680611092**  
Option 4 ID : **630680611094**  
Status : **Answered**  
Chosen Option : 3

Q.6 ब्रिटेन में भारतीय कपड़ों की लोकप्रियता के कारण भारतीय कपड़ों पर प्रतिबंध लगाने के लिए एक कानून पारित किया गया था। वह कानून निम्नलिखित में से कौन-सा था?

- Ans  1. केलिको अधिनियम (Calico Act)  
 2. कैल्सो अधिनियम (Calso act)  
 3. मखमल अधिनियम (Muslin act)  
 4. वस्त्र अधिनियम (Textile act)

Question Type : **MCQ**  
Question ID : **630680652695**  
Option 1 ID : **6306802555254**  
Option 2 ID : **6306802555255**  
Option 3 ID : **6306802555257**  
Option 4 ID : **6306802555256**  
Status : **Answered**  
Chosen Option : 4

Q.7 2023 में, कांग्रेस सांसद शशि थरूर को \_\_\_\_\_ पर बनी संसदीय स्थायी समिति के अध्यक्ष (chairperson) के रूप में नामित किया गया है।

- Ans
- 1. आवास और शहरी मामले
  - 2. रसायन और उर्वरक
  - 3. विदेशी मामले
  - 4. वित्त और स्वास्थ्य

Question Type : MCQ

Question ID : 630680468935

Option 1 ID : 6306801831507

Option 2 ID : 6306801831509

Option 3 ID : 6306801831510

Option 4 ID : 6306801831508

Status : Answered

Chosen Option : 1

Q.8 भारत में \_\_\_\_\_ नृत्य शैली के कुछ प्रसिद्ध कलाकारों में रोशन कुमारी, शोवना नारायण, माया राव और कुमुदिनी लाखिया शामिल हैं।

- Ans
- 1. छऊ
  - 2. ओडिसी
  - 3. कथक
  - 4. मणिपुरी

Question Type : MCQ

Question ID : 630680554553

Option 1 ID : 6306802167984

Option 2 ID : 6306802167983

Option 3 ID : 6306802167985

Option 4 ID : 6306802167982

Status : Answered

Chosen Option : 3

Q.9 सामान्यतः 'लाफिंग गैस (laughing gas)' के नाम से जाने जाने वाले यौगिक का रासायनिक सूत्र क्या है?

- Ans
- 1. NO
  - 2. N<sub>2</sub>O
  - 3. N<sub>2</sub>O<sub>3</sub>
  - 4. NO<sub>2</sub>

Question Type : MCQ

Question ID : 630680411177

Option 1 ID : 6306801603464

Option 2 ID : 6306801603466

Option 3 ID : 6306801603467

Option 4 ID : 6306801603465

Status : Answered

Chosen Option : 2

Q.10 ओडिसी गुरु, \_\_\_\_\_ को भुवनेश्वर में पहला उत्कल प्रतिभा सम्मान 2023 प्राप्त हुआ।

- Ans
- 1. विद्या सुब्रमण्यन (Vidhya Subramanian)
  - 2. शैलजा (Sailaja)
  - 3. हेमा राजगोपालन (Hema Rajagopalan)
  - 4. रतिकान्त महापात्र (Ratikant Mohapatra)

Question Type : MCQ

Question ID : 630680512014

Option 1 ID : 6306802001026

Option 2 ID : 6306802001028

Option 3 ID : 6306802001027

Option 4 ID : 6306802001029

Status : Answered

Chosen Option : 4

Q.11 कब्ज (constipation) से राहत पाने के लिए निम्नलिखित में से किस चीज का अधिक मात्रा में सेवन करने की सलाह दी जाती है?

- Ans
- 1. मांस (Meat)
  - 2. रेशा (Fibre)
  - 3. प्रोटीन (Protein)
  - 4. मछली (Fish)

Question Type : MCQ

Question ID : 630680270013

Option 1 ID : 6306801049305

Option 2 ID : 6306801049306

Option 3 ID : 6306801049304

Option 4 ID : 6306801049303

Status : Answered

Chosen Option : 2

Q.12 निम्नलिखित में से कौन-सा भारत के सरकारी खातों (government accounts) में से एक नहीं है?

- Ans
- 1. सामान्य भविष्य निधि (General Provident Fund)
  - 2. भारत की संचित निधि (Consolidated Funds of India)
  - 3. भारत के लोक लेखा (Public Accounts of India)
  - 4. भारत की आकस्मिक निधि (Contingency Fund of India)

Question Type : MCQ

Question ID : 630680302548

Option 1 ID : 6306801176865

Option 2 ID : 6306801176862

Option 3 ID : 6306801176864

Option 4 ID : 6306801176863

Status : Answered

Chosen Option : 1

Q.13 भारतीय शस्त्र अधिनियम (Indian Arms Act), 1878 के पारित होने के समय भारत के वायसराय कौन थे?

- Ans
- 1. लॉर्ड डफ़रिन
  - 2. लॉर्ड लिट्टन
  - 3. लॉर्ड कर्ज़न
  - 4. लॉर्ड रिपोन

Question Type : MCQ

Question ID : 630680115400

Option 1 ID : 630680446951

Option 2 ID : 630680446952

Option 3 ID : 630680446953

Option 4 ID : 630680446950

Status : Answered

Chosen Option : 2

Q.14 भारत-लंका राजनयिक संबंधों के 75 वर्ष पूरे होने के अवसर पर, विदेश मंत्री जयशंकर ने मार्च 2023 में 'जेफ्री बावा: इट इज इसेन्शियल टु बी देयर' ('Geoffrey Bawa: It is Essential To be There') प्रदर्शनी का उद्घाटन किया। जेफ्री बावा कौन थे?

- Ans
- 1. श्रीलंकाई कवि (Sri Lankan Poet)
  - 2. भारतीय कवि (Indian Poet)
  - 3. श्रीलंकाई वास्तुकार (Sri Lankan Architect)
  - 4. भारतीय वास्तुकार (Indian Architect)

Question Type : MCQ

Question ID : 630680488257

Option 1 ID : 6306801907086

Option 2 ID : 6306801907083

Option 3 ID : 6306801907085

Option 4 ID : 6306801907084

Status : Not Answered

Chosen Option : --

Q.15 कौन सा अनुच्छेद राज्य में संवैधानिक तंत्र की विफलता की स्थिति में प्रावधानों से संबंधित है?

- Ans
- 1. अनुच्छेद 448
  - 2. अनुच्छेद 342
  - 3. अनुच्छेद 395
  - 4. अनुच्छेद 356

Question Type : MCQ

Question ID : 630680493653

Option 1 ID : 6306801928343

Option 2 ID : 6306801928340

Option 3 ID : 6306801928342

Option 4 ID : 6306801928341

Status : Answered

Chosen Option : 4

Q.16 तेंदुलकर समिति के आधार पर, राष्ट्रीय गरीबी रेखा को निम्नलिखित में से किसके रूप में परिभाषित किया गया?

- ग्रामीण क्षेत्रों के लिए प्रति व्यक्ति प्रति माह ₹816
- शहरी क्षेत्रों के लिए प्रति व्यक्ति प्रति माह ₹1,000

- Ans
- 1. केवल ii सही है
  - 2. i और ii, दोनों सही हैं
  - 3. i और ii, दोनों गलत हैं
  - 4. केवल i सही है

Question Type : MCQ

Question ID : 630680404735

Option 1 ID : 6306801578416

Option 2 ID : 6306801578417

Option 3 ID : 6306801578418

Option 4 ID : 6306801578415

Status : Answered

Chosen Option : 2

Q.17 राष्ट्रीय बहुआयामी गरीबी सूचकांक 2023 (एक प्रगति समीक्षा) के अनुसार, किस राज्य में बहुआयामी गरीब आबादी का अनुपात (कुल गणना अनुपात) सबसे अधिक है?

- Ans
- 1. ओडिशा
  - 2. बिहार
  - 3. झारखंड
  - 4. राजस्थान

Question Type : MCQ

Question ID : 630680477362

Option 1 ID : 6306801864607

Option 2 ID : 6306801864608

Option 3 ID : 6306801864606

Option 4 ID : 6306801864605

Status : Answered

Chosen Option : 2

Q.18 भारतीय संविधान ने \_\_\_\_\_ से शासन की संसदीय प्रणाली को अपनाया है।

- Ans
- 1. यूएसए (USA)
  - 2. फ्रांस (France)
  - 3. रूस (Russia)
  - 4. ब्रिटेन (Britain)

Question Type : MCQ

Question ID : 630680587087

Option 1 ID : 6306802296889

Option 2 ID : 6306802296891

Option 3 ID : 6306802296890

Option 4 ID : 6306802296892

Status : Answered

Chosen Option : 1

Q.19 आर्थिक सर्वेक्षण 2023-24 के अनुसार, निम्नलिखित में से कौन-सा राज्य भारत का सबसे बड़ा गेहूँ उत्पादक राज्य है?

- Ans
- 1. असम
  - 2. उत्तर प्रदेश
  - 3. पश्चिम बंगाल
  - 4. बिहार

Question Type : MCQ  
Question ID : 630680798980  
Option 1 ID : 6306803130719  
Option 2 ID : 6306803130721  
Option 3 ID : 6306803130718  
Option 4 ID : 6306803130720  
Status : Answered  
Chosen Option : 2

Q.20 इंटरकॉन्टिनेंटल फुटबॉल कप (Intercontinental Football Cup) 2023 कहाँ आयोजित किया गया?

- Ans
- 1. चंडीगढ़
  - 2. जलपाईगुड़ी
  - 3. दिसपुर
  - 4. भुवनेश्वर

Question Type : MCQ  
Question ID : 630680572125  
Option 1 ID : 6306802237367  
Option 2 ID : 6306802237365  
Option 3 ID : 6306802237366  
Option 4 ID : 6306802237364  
Status : Answered  
Chosen Option : 3

Q.21 निम्नलिखित में से किस धर्म में उसके अनुयायियों के लिए कृषि करना निषिद्ध (prohibited) था?

- Ans
- 1. बुद्ध धर्म
  - 2. वैष्णव धर्म
  - 3. जैन धर्म
  - 4. शैव धर्म

Question Type : MCQ  
Question ID : 630680113850  
Option 1 ID : 630680440928  
Option 2 ID : 630680440929  
Option 3 ID : 630680440927  
Option 4 ID : 630680440926  
Status : Not Answered  
Chosen Option : --

Q.22 आमेर का किला (Amer Fort) 16वीं शताब्दी में किस शासक द्वारा लाल बलुआ पत्थर और सफेद संगमरमर से बनवाया गया था?

- Ans
- 1. राजा जय सिंह
  - 2. राजा उदय सिंह
  - 3. राजा अमर सिंह
  - 4. राजा मान सिंह प्रथम

Question Type : MCQ

Question ID : 630680546759

Option 1 ID : 6306802137606

Option 2 ID : 6306802137608

Option 3 ID : 6306802137607

Option 4 ID : 6306802137609

Status : Answered

Chosen Option : 4

Q.23 निम्नलिखित में से कौन 1983 क्रिकेट विश्व कप फाइनल में 38 रन के साथ भारत की ओर से सर्वाधिक रन बनाने वाला खिलाड़ी था?

- Ans
- 1. कपिल देव
  - 2. मोहिंदर अमरनाथ
  - 3. कृष्णमाचारी श्रीकांत
  - 4. संदीप पाटिल

Question Type : MCQ

Question ID : 630680546976

Option 1 ID : 6306802138463

Option 2 ID : 6306802138465

Option 3 ID : 6306802138466

Option 4 ID : 6306802138464

Status : Answered

Chosen Option : 3

Q.24 कार्बन डाइऑक्साइड का पृथ्वी के जलवायु परिवर्तन में महत्वपूर्ण योगदान होता है, जिससे \_\_\_\_\_ नामक गंभीर स्थिति उत्पन्न होती है।

- Ans
- 1. तापमान संवहन
  - 2. ओजोन अवक्षय
  - 3. ऊष्मा चालन
  - 4. ग्रीनहाउस प्रभाव

Question Type : MCQ

Question ID : 630680404737

Option 1 ID : 6306801578425

Option 2 ID : 6306801578424

Option 3 ID : 6306801578426

Option 4 ID : 6306801578423

Status : Answered

Chosen Option : 4

Q.25 निम्नलिखित में से कौन अपनी पुस्तकों 'द एलजेब्रा ऑफ इनफ़ाइनाइट जस्टिस, कश्मीर: द केस फ़ॉर फ़्रीडम' और 'कैपिटलिज्म: ए घॉस्ट स्टोरी' के लिए प्रसिद्ध है?

- Ans  1. झुम्पा लाहिड़ी  
 2. अरुंधति रॉय  
 3. सलमान रुश्दी  
 4. अमिताव घोष

Question Type : MCQ

Question ID : 630680409453

Option 1 ID : 6306801596641

Option 2 ID : 6306801596642

Option 3 ID : 6306801596643

Option 4 ID : 6306801596644

Status : Answered

Chosen Option : 4

Section : English Language and Comprehension

Q.1 Select the INCORRECTLY spelt word.

- Ans  1. Separate  
 2. Weired  
 3. Until  
 4. Vacuum

Question Type : MCQ

Question ID : 630680463804

Option 1 ID : 6306801811291

Option 2 ID : 6306801811294

Option 3 ID : 6306801811292

Option 4 ID : 6306801811293

Status : Answered

Chosen Option : 2

Q.2 Select the INCORRECTLY spelt word.

- Ans  1. foreign  
 2. apparently  
 3. committee  
 4. interupt

Question Type : MCQ

Question ID : 6306801106826

Option 1 ID : 6306804347770

Option 2 ID : 6306804347768

Option 3 ID : 6306804347769

Option 4 ID : 6306804347771

Status : Answered

Chosen Option : 4

Q.3 Select the most appropriate option to fill in the blank.

Personally, Ramesh was \_\_\_\_\_ to his villagers than his elder brother.

- Ans  1. helped  
 2. more helpful  
 3. helpfuller  
 4. most helpful

Question Type : **MCQ**  
Question ID : **630680514583**  
Option 1 ID : **6306802010960**  
Option 2 ID : **6306802010957**  
Option 3 ID : **6306802010958**  
Option 4 ID : **6306802010959**  
Status : **Answered**  
Chosen Option : 2

Q.4 Select the most appropriate synonym of the word 'Plain' from the given sentence.  
Mr. Das believes and follows the principle of simple living and high thinking.

- Ans  1. believes  
 2. Simple  
 3. High  
 4. principle

Question Type : **MCQ**  
Question ID : **630680726534**  
Option 1 ID : **6306802847143**  
Option 2 ID : **6306802847144**  
Option 3 ID : **6306802847145**  
Option 4 ID : **6306802847142**  
Status : **Answered**  
Chosen Option : 2

Q.5 Select the most appropriate meaning of the underlined word.  
There are so many flies on the food.

- Ans  1. Various types of bacteria  
 2. To move from one place to another  
 3. To hover up in the sky  
 4. Insects with wings

Question Type : **MCQ**  
Question ID : **630680517455**  
Option 1 ID : **6306802022219**  
Option 2 ID : **6306802022218**  
Option 3 ID : **6306802022217**  
Option 4 ID : **6306802022216**  
Status : **Answered**  
Chosen Option : 3

Q.6 Select the most appropriate option to fill in the blank.

As technology evolves, consumers increasingly \_\_\_\_\_ products with enhanced features and greater efficiency.

- Ans
- 1. has demanded
  - 2. were demanding
  - 3. might demand
  - 4. demand

Question Type : MCQ

Question ID : 630680597106

Option 1 ID : 6306802336465

Option 2 ID : 6306802336466

Option 3 ID : 6306802336468

Option 4 ID : 6306802336467

Status : Answered

Chosen Option : 1

Q.7 Select the option that can be used as a one-word substitute for the given group of words.

A person who eats too much

- Ans
- 1. Fatalist
  - 2. Glutton
  - 3. Sycophant
  - 4. Misogamist

Question Type : MCQ

Question ID : 630680553336

Option 1 ID : 6306802163258

Option 2 ID : 6306802163256

Option 3 ID : 6306802163257

Option 4 ID : 6306802163259

Status : Answered

Chosen Option : 2

Q.8 Parts of the following sentence have been given as options. Select the option that contains an error.

My son, who is a cricketer too, is a M.A. from Delhi University.

- Ans
- 1. from Delhi University
  - 2. a cricketer too
  - 3. My son, who is
  - 4. is a M.A.

Question Type : MCQ

Question ID : 630680105530

Option 1 ID : 630680410186

Option 2 ID : 630680410184

Option 3 ID : 630680410183

Option 4 ID : 630680410185

Status : Answered

Chosen Option : 4

**Q.9** Select the most appropriate meaning of the underlined word in the given sentence.  
Exclusion of someone from a common group harms the human society.

- Ans  1. Submission  
 2. Admission  
 3. Prohibition  
 4. Inclination

Question Type : **MCQ**  
Question ID : **630680402712**  
Option 1 ID : **6306801570449**  
Option 2 ID : **6306801570450**  
Option 3 ID : **6306801570451**  
Option 4 ID : **6306801570452**  
Status : **Answered**  
Chosen Option : **3**

**Q.10** The following sentence has been split into four parts. Identify the part that contains a grammatical error.

Jack probably/ strained his back/ as the box was/ too heavier.

- Ans  1. Jack probably  
 2. as the box was  
 3. strained his back  
 4. too heavier.

Question Type : **MCQ**  
Question ID : **630680514690**  
Option 1 ID : **6306802011385**  
Option 2 ID : **6306802011387**  
Option 3 ID : **6306802011386**  
Option 4 ID : **6306802011388**  
Status : **Answered**  
Chosen Option : **4**

**Q.11** Select the most appropriate meaning of the given idiom.

The gift of the gab

- Ans  1. Impossible  
 2. Life full of quarrels  
 3. The ability to speak easily and confidently  
 4. Just at the last moment

Question Type : **MCQ**  
Question ID : **630680549993**  
Option 1 ID : **6306802150234**  
Option 2 ID : **6306802150235**  
Option 3 ID : **6306802150232**  
Option 4 ID : **6306802150233**  
Status : **Answered**  
Chosen Option : **3**

Q.12 Select the most appropriate ANTONYM of the given word.

Hollow

Ans  1. Worthwhile

2. Spurious

3. Arched

4. Crafty

Question Type : MCQ

Question ID : 630680540052

Option 1 ID : 6306802111311

Option 2 ID : 6306802111310

Option 3 ID : 6306802111309

Option 4 ID : 6306802111308

Status : Answered

Chosen Option : 4

Q.13 Select the most appropriate synonym of the given word.

Inanimate

Ans  1. Cartoon

2. Lifeless

3. Imitate

4. Inhumane

Question Type : MCQ

Question ID : 630680393845

Option 1 ID : 6306801535706

Option 2 ID : 6306801535708

Option 3 ID : 6306801535707

Option 4 ID : 6306801535709

Status : Answered

Chosen Option : 3

Q.14 Select the most appropriate option to fill in the blanks.

Kiara was born in India but she went to \_\_\_\_\_ university in \_\_\_\_\_ United Kingdom.

Ans  1. a; No article required

2. No article required; the

3. a; the

4. the; No article required

Question Type : MCQ

Question ID : 630680748927

Option 1 ID : 6306802935240

Option 2 ID : 6306802935241

Option 3 ID : 6306802935243

Option 4 ID : 6306802935242

Status : Answered

Chosen Option : 3

**Q.15** Select the most appropriate idiom that can substitute the underlined segment in the given sentence.

The comedian's jokes were so funny that the audience was laughing uncontrollably.

- Ans  1. on the ball  
 2. in stitches  
 3. in bits and pieces  
 4. as easy as pie

Question Type : **MCQ**  
Question ID : **630680540023**  
Option 1 ID : **6306802111194**  
Option 2 ID : **6306802111193**  
Option 3 ID : **6306802111192**  
Option 4 ID : **6306802111195**  
Status : **Answered**  
Chosen Option : **2**

**Q.16** Select the INCORRECTLY spelt word.

- Ans  1. Mediterranean  
 2. Peculiar  
 3. Parallel  
 4. Miscellaneous

Question Type : **MCQ**  
Question ID : **630680545742**  
Option 1 ID : **6306802133548**  
Option 2 ID : **6306802133550**  
Option 3 ID : **6306802133551**  
Option 4 ID : **6306802133549**  
Status : **Answered**  
Chosen Option : **2**

**Q.17** Select the most appropriate meaning of the given idiom.

**Knuckle down**

- Ans  1. To engage in street fighting  
 2. To make others do their share of hard work using power  
 3. To crush someone to the extent that they cannot get up  
 4. To start working or studying hard

Question Type : **MCQ**  
Question ID : **630680449668**  
Option 1 ID : **6306801755805**  
Option 2 ID : **6306801755808**  
Option 3 ID : **6306801755806**  
Option 4 ID : **6306801755807**  
Status : **Answered**  
Chosen Option : **3**

Q.18 The given sentence is divided into four segments. Select the option that has the segment with a grammatical error.  
She forbade / him not / to enter that / room.

- Ans
- 1. room.
  - 2. him not
  - 3. to enter that
  - 4. she forbade

Question Type : **MCQ**  
Question ID : **630680192383**  
Option 1 ID : **630680746124**  
Option 2 ID : **630680746122**  
Option 3 ID : **630680746123**  
Option 4 ID : **630680746121**  
Status : **Answered**  
Chosen Option : **2**

Q.19 Select the option that can be used as one-word substitute for the given group of words.

One who performs daring gymnastic feats

- Ans
- 1. Advocate
  - 2. Addict
  - 3. Adonis
  - 4. Acrobat

Question Type : **MCQ**  
Question ID : **630680438001**  
Option 1 ID : **6306801709827**  
Option 2 ID : **6306801709826**  
Option 3 ID : **6306801709824**  
Option 4 ID : **6306801709825**  
Status : **Answered**  
Chosen Option : **4**

Q.20 Select the option that can be used as a one-word substitute for the underlined group of words.

Because the politician's speech was high-flown and pretentious, it gained popularity.

- Ans
- 1. austere
  - 2. schematising
  - 3. bombastic
  - 4. mnemonic

Question Type : **MCQ**  
Question ID : **630680410464**  
Option 1 ID : **6306801600578**  
Option 2 ID : **6306801600577**  
Option 3 ID : **6306801600579**  
Option 4 ID : **6306801600576**  
Status : **Answered**  
Chosen Option : **3**

**Comprehension:**

In the following passage, some words have been deleted. Read the passage carefully and select the most appropriate option to fill in each blank.

The standard of living of any country means the average (1)\_\_\_\_\_ share of the goods and services which the country produces. A country's standard of living, therefore, (2)\_\_\_\_\_ first and foremost on its capacity to produce wealth. 'Wealth', in this sense, is not money, for we do not live (3)\_\_\_\_\_ money but on things that money (4)\_\_\_\_\_ buy; 'goods' such as food and clothing and 'services' such as transport and entertainment. A country's capacity to produce wealth depends upon many factors, most of which have an effect on one another. Wealth depends to a great extent (5)\_\_\_\_\_ a country's natural resources, such as coal, gold and other minerals, water supply and so on.

**SubQuestion No : 21**

**Q.21 Select the most appropriate option to fill in blank no. 1.**

- Ans  1. person  
 2. person's  
 3. per son  
 4. persons'

Question Type : **MCQ**

Question ID : **630680191648**

Option 1 ID : **630680743205**

Option 2 ID : **630680743207**

Option 3 ID : **630680743208**

Option 4 ID : **630680743206**

Status : **Answered**

Chosen Option : 1

**Comprehension:**

In the following passage, some words have been deleted. Read the passage carefully and select the most appropriate option to fill in each blank.

The standard of living of any country means the average (1)\_\_\_\_\_ share of the goods and services which the country produces. A country's standard of living, therefore, (2)\_\_\_\_\_ first and foremost on its capacity to produce wealth. 'Wealth', in this sense, is not money, for we do not live (3)\_\_\_\_\_ money but on things that money (4)\_\_\_\_\_ buy; 'goods' such as food and clothing and 'services' such as transport and entertainment. A country's capacity to produce wealth depends upon many factors, most of which have an effect on one another. Wealth depends to a great extent (5)\_\_\_\_\_ a country's natural resources, such as coal, gold and other minerals, water supply and so on.

**SubQuestion No : 22**

**Q.22 Select the most appropriate option to fill in blank no. 2.**

- Ans  1. depended  
 2. depends  
 3. dependent  
 4. depending

Question Type : **MCQ**

Question ID : **630680191649**

Option 1 ID : **630680743211**

Option 2 ID : **630680743209**

Option 3 ID : **630680743212**

Option 4 ID : **630680743210**

Status : **Answered**

Chosen Option : 2

**Comprehension:**

In the following passage, some words have been deleted. Read the passage carefully and select the most appropriate option to fill in each blank.

The standard of living of any country means the average (1)\_\_\_\_\_ share of the goods and services which the country produces. A country's standard of living, therefore, (2)\_\_\_\_\_ first and foremost on its capacity to produce wealth. 'Wealth', in this sense, is not money, for we do not live (3)\_\_\_\_\_ money but on things that money (4)\_\_\_\_\_ buy; 'goods' such as food and clothing and 'services' such as transport and entertainment. A country's capacity to produce wealth depends upon many factors, most of which have an effect on one another. Wealth depends to a great extent (5)\_\_\_\_\_ a country's natural resources, such as coal, gold and other minerals, water supply and so on.

**SubQuestion No : 23**

**Q.23 Select the most appropriate option to fill in blank no. 3.**

Ans  1. on

2. in

3. by

4. into

Question Type : **MCQ**

Question ID : **630680191650**

Option 1 ID : **630680743214**

Option 2 ID : **630680743213**

Option 3 ID : **630680743215**

Option 4 ID : **630680743216**

Status : **Answered**

Chosen Option : 1

**Comprehension:**

In the following passage, some words have been deleted. Read the passage carefully and select the most appropriate option to fill in each blank.

The standard of living of any country means the average (1)\_\_\_\_\_ share of the goods and services which the country produces. A country's standard of living, therefore, (2)\_\_\_\_\_ first and foremost on its capacity to produce wealth. 'Wealth', in this sense, is not money, for we do not live (3)\_\_\_\_\_ money but on things that money (4)\_\_\_\_\_ buy; 'goods' such as food and clothing and 'services' such as transport and entertainment. A country's capacity to produce wealth depends upon many factors, most of which have an effect on one another. Wealth depends to a great extent (5)\_\_\_\_\_ a country's natural resources, such as coal, gold and other minerals, water supply and so on.

**SubQuestion No : 24**

**Q.24 Select the most appropriate option to fill in blank no. 4.**

Ans  1. can

2. must

3. should

4. ought

Question Type : **MCQ**

Question ID : **630680191651**

Option 1 ID : **630680743220**

Option 2 ID : **630680743217**

Option 3 ID : **630680743219**

Option 4 ID : **630680743218**

Status : **Answered**

Chosen Option : 1

**Comprehension:**

In the following passage, some words have been deleted. Read the passage carefully and select the most appropriate option to fill in each blank.

The standard of living of any country means the average (1)\_\_\_\_\_ share of the goods and services which the country produces. A country's standard of living, therefore, (2)\_\_\_\_\_ first and foremost on its capacity to produce wealth. 'Wealth', in this sense, is not money, for we do not live (3)\_\_\_\_\_ money but on things that money (4)\_\_\_\_\_ buy; 'goods' such as food and clothing and 'services' such as transport and entertainment. A country's capacity to produce wealth depends upon many factors, most of which have an effect on one another. Wealth depends to a great extent (5)\_\_\_\_\_ a country's natural resources, such as coal, gold and other minerals, water supply and so on.

**SubQuestion No : 25**

**Q.25** Select the most appropriate option to fill in blank no. 5.

Ans  1. upon

2. over

3. in

4. with

Question Type : **MCQ**

Question ID : **630680191652**

Option 1 ID : **630680743221**

Option 2 ID : **630680743224**

Option 3 ID : **630680743222**

Option 4 ID : **630680743223**

Status : **Answered**

Chosen Option : **3**