

Multi Tasking Non Technical Staff and Havaladar CBIC and CBN Examination 2024

Roll Number	
Candidate Name	
Venue Name	Global Infomerit
Exam Date	09/10/2024
Exam Time	12:30 PM - 2:30 PM
Subject	MTS Non Tech Havaladar CBIC and CBN Examination 2024

Section : Numerical and Mathematical Ability

Q.1 एक लंब वृत्तीय शंकु के आधार की त्रिज्या और ऊँचाई का अनुपात 8 : 15 है। यदि शंकु का आयतन $1005\frac{5}{7} \text{ cm}^3$ हो, तो शंकु की तिर्यक ऊँचाई ज्ञात कीजिए।

- Ans 1. 17 cm
 2. 12 cm
 3. 21 cm
 4. 15 cm

Question Type : MCQ

Question ID : 630680526553

Option 1 ID : 6306802058278

Option 2 ID : 6306802058281

Option 3 ID : 6306802058280

Option 4 ID : 6306802058279

Status : Answered

Chosen Option : 1

Q.2 एक बेईमान दुकानदार अपने सामान को क्रय मूल्य पर बेचने का दावा करता है। हालाँकि, वह एक ऐसे बाट का उपयोग करता है जिसका वजन वास्तव में उस पर लिखे वजन से 18% कम है। उसका लाभ प्रतिशत ज्ञात कीजिए।

- Ans 1. $21\frac{39}{41}\%$
 2. $20\frac{39}{41}\%$
 3. $22\frac{40}{41}\%$
 4. $23\frac{78}{41}\%$

Question Type : MCQ

Question ID : 630680919323

Option 1 ID : 6306803602482

Option 2 ID : 6306803602484

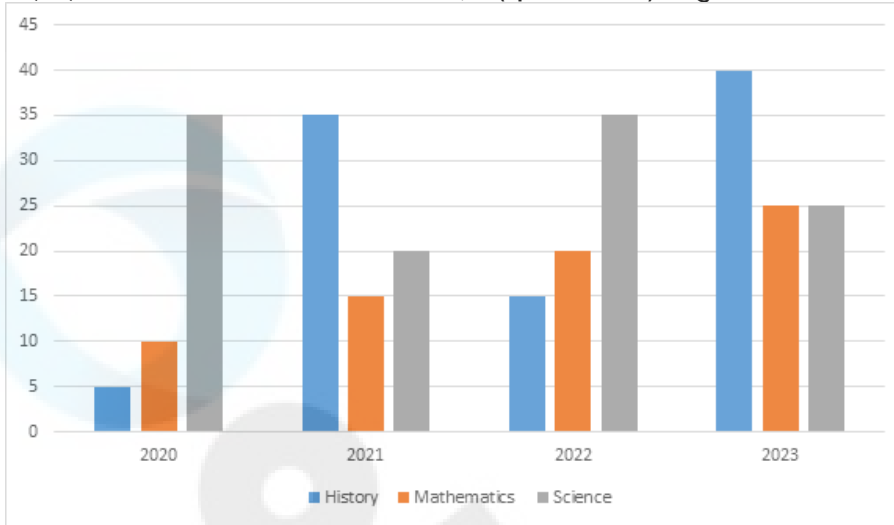
Option 3 ID : 6306803602485

Option 4 ID : 6306803602483

Status : Answered

Chosen Option : 3

Q.3 नीचे दिया गया दंड आरेख उन विद्यार्थियों की संख्या (हजारों में) दर्शाता है, जिन्होंने एक विश्वविद्यालय में दिए गए चार वर्षों के दौरान तीन अलग-अलग विशेषज्ञता (specialization) को चुना।



संदर्भ:- History - इतिहास, Mathematics- गणित, Science- विज्ञान

2021 में विश्वविद्यालय में विद्यार्थियों की कुल संख्या 1,60,000 थी; दिए गए तीन विषयों को चुनने वाले विद्यार्थियों का प्रतिशत ज्ञात कीजिए।

- Ans
- 1. 45.73%
 - 2. 43.75%
 - 3. 73.45%
 - 4. 47.35%

Question Type : MCQ

Question ID : 630680459567

Option 1 ID : 6306801795118

Option 2 ID : 6306801795119

Option 3 ID : 6306801795120

Option 4 ID : 6306801795117

Status : Answered

Chosen Option : 1

Q.4 यदि A का 40%, B के 64% के बराबर है, तो A : B का मान ज्ञात करें।

- Ans
- 1. 7 : 5
 - 2. 8 : 5
 - 3. 5 : 6
 - 4. 8 : 7

Question Type : MCQ

Question ID : 630680464547

Option 1 ID : 6306801814224

Option 2 ID : 6306801814223

Option 3 ID : 6306801814225

Option 4 ID : 6306801814226

Status : Answered

Chosen Option : 2

Q.5 8 सदस्यों वाले एक परिवार का औसत वजन 56 kg है। दादा और दादी परिवार से मिलने आए। अब, परिवार के 10 सदस्यों का औसत वजन 64 kg हो गया। दादा-दादी का औसत वजन (kg में) ज्ञात कीजिए।

- Ans 1. 90
 2. 94
 3. 96
 4. 92

Question Type : MCQ

Question ID : 630680473940

Option 1 ID : 6306801851451

Option 2 ID : 6306801851453

Option 3 ID : 6306801851454

Option 4 ID : 6306801851452

Status : Answered

Chosen Option : 3

Q.6 एक दुकानदार चीनी की दो किस्मों को क्रमशः ₹120 और ₹80 प्रति kg पर खरीदता है, और उन्हें 2 : 3 के अनुपात में मिश्रित कर देता है। फिर वह मिश्रित चीनी के प्रत्येक kg का अंकित मूल्य उसी चीनी के प्रति kg पर आई लागत से 50% अधिक निर्धारित करता है और फिर अंकित मूल्य पर 25% की छूट देने के बाद उसे बेच देता है। दुकानदार ने मिश्रित चीनी के प्रत्येक kg को किस मूल्य पर (₹ में) बेचा?

- Ans 1. 108
 2. 114
 3. 120
 4. 144

Question Type : MCQ

Question ID : 630680324994

Option 1 ID : 6306801264374

Option 2 ID : 6306801264376

Option 3 ID : 6306801264373

Option 4 ID : 6306801264375

Status : Answered

Chosen Option : 4

Q.7 निम्नलिखित तालिका में वर्ष 2016 में एक परीक्षा में चार विषयों में छह विद्यार्थियों द्वारा प्राप्त अंकों को दर्शाया गया है। (प्रत्येक विषय के लिए अधिकतम अंक 100 हैं।)

विद्यार्थी /विषय	अंग्रेजी	हिंदी	गणित	विज्ञान
A	84	80	100	100
B	86	85	92	90
C	75	79	100	99
D	88	83	99	93
E	77	74	95	75
F	72	88	100	72

विद्यार्थियों ने किस विषय में सर्वश्रेष्ठ प्रदर्शन किया है?

- Ans 1. अंग्रेजी
 2. गणित
 3. हिंदी
 4. विज्ञान

Question Type : MCQ

Question ID : 630680523731

Option 1 ID : 6306802047075

Option 2 ID : 6306802047077

Option 3 ID : 6306802047076

Option 4 ID : 6306802047078

Status : Answered

Chosen Option : 2

Q.8 40 kg, 49 kg, 56 kg, 69 kg और 37 kg वजन के पांच सदस्यों वाले परिवार का औसत वजन (kg में) ज्ञात कीजिए।

- Ans 1. 49.2
 2. 50.2
 3. 51.2
 4. 52.2

Question Type : MCQ

Question ID : 630680551651

Option 1 ID : 6306802156831

Option 2 ID : 6306802156829

Option 3 ID : 6306802156830

Option 4 ID : 6306802156832

Status : Answered

Chosen Option : 2

Q.9 ₹440/kg मूल्य वाली 20 kg चाय में ₹68/kg मूल्य वाली कितनी चीनी मिलाई जानी चाहिए ताकि मिश्रण का मूल्य ₹130/kg हो जाए?

Ans 1. 100 kg

2. 120 kg

3. 80 kg

4. 110 kg

Question Type : MCQ

Question ID : 630680502987

Option 1 ID : 6306801965531

Option 2 ID : 6306801965532

Option 3 ID : 6306801965529

Option 4 ID : 6306801965530

Status : Answered

Chosen Option : 4

Q.10 पाँच वर्ष पहले माता-पिता और एक बच्चे वाले परिवार की औसत आयु 27 वर्ष थी। तीन वर्ष पहले माता-पिता की औसत आयु 41 वर्ष थी। बच्चे का जन्म _____ वर्ष पहले हुआ था।

Ans 1. 16

2. 4

3. 2

4. 8

Question Type : MCQ

Question ID : 630680815863

Option 1 ID : 6306803196788

Option 2 ID : 6306803196786

Option 3 ID : 6306803196785

Option 4 ID : 6306803196787

Status : Answered

Chosen Option : 1

Q.11 ₹36,000 पर 22% की वार्षिक दर से 8 महीने का साधारण ब्याज ज्ञात करें।

Ans 1. ₹5,270

2. ₹5,280

3. ₹5,290

4. ₹5,275

Question Type : MCQ

Question ID : 630680402584

Option 1 ID : 6306801569899

Option 2 ID : 6306801569901

Option 3 ID : 6306801569902

Option 4 ID : 6306801569900

Status : Answered

Chosen Option : 1

Q.12 राधा घर से 5 km दूर अपने कार्यालय जाती है। सुबह के समय वह 1 घंटे में दूरी तय करती है, जबकि शाम को घर लौटते समय, वह उसी दूरी को तय करने में 15 मिनट अधिक लेती है। दोनों ओर की यात्रा के दौरान उसकी औसत चाल (km/h में) ज्ञात कीजिए।

Ans

✓ 1. $4\frac{4}{9}$

✗ 2. $3\frac{1}{8}$

✗ 3. $4\frac{2}{3}$

✗ 4. $3\frac{3}{5}$

Question Type : MCQ

Question ID : 630680239280

Option 1 ID : 630680928128

Option 2 ID : 630680928130

Option 3 ID : 630680928129

Option 4 ID : 630680928131

Status : Answered

Chosen Option : 1

Q.13 किस राशि (₹ में) पर 16% प्रति वर्ष की ब्याज दर से 3 वर्षों में ₹240 का साधारण ब्याज अर्जित होगा?

Ans ✗ 1. 1000

✗ 2. 250

✗ 3. 750

✓ 4. 500

Question Type : MCQ

Question ID : 630680612174

Option 1 ID : 6306802395430

Option 2 ID : 6306802395429

Option 3 ID : 6306802395431

Option 4 ID : 6306802395428

Status : Answered

Chosen Option : 4

Q.14 एक बेलन का व्यास, उसकी ऊंचाई के बराबर है। यदि बेलन की ऊंचाई 14 cm है, तो बेलन का संपूर्ण पृष्ठीय क्षेत्रफल ज्ञात कीजिए। ($\pi = \frac{22}{7}$ का उपयोग कीजिए।)

- Ans
- 1. 1232 cm²
 - 2. 616 cm²
 - 3. 2464 cm²
 - 4. 924 cm²

Question Type : MCQ

Question ID : 630680550426

Option 1 ID : 6306802151978

Option 2 ID : 6306802151977

Option 3 ID : 6306802151975

Option 4 ID : 6306802151976

Status : Answered

Chosen Option : 1

Q.15 2 वर्षों के लिए 9% वार्षिक की ब्याज दर पर उधार ली गई राशि ₹3000 पर साधारण ब्याज (₹ में) ज्ञात कीजिए।

- Ans
- 1. 480
 - 2. 540
 - 3. 580
 - 4. 500

Question Type : MCQ

Question ID : 630680591953

Option 1 ID : 6306802316281

Option 2 ID : 6306802316279

Option 3 ID : 6306802316280

Option 4 ID : 6306802316282

Status : Answered

Chosen Option : 2

Q.16 यदि एक नाविक धारा के विपरीत दिशा में 10 km/h की चाल से और धारा की दिशा में 12 km/h की चाल से नाव चला सकता है, तो स्थिर जल में नाव की चाल और धारा की चाल का अनुपात ज्ञात कीजिए।

- Ans
- 1. 1 : 11
 - 2. 11 : 2
 - 3. 11 : 1
 - 4. 2 : 11

Question Type : MCQ

Question ID : 630680121587

Option 1 ID : 630680471307

Option 2 ID : 630680471306

Option 3 ID : 630680471309

Option 4 ID : 630680471308

Status : Answered

Chosen Option : 3

Q.17 यदि क्रय मूल्य ₹4,500 है और लाभ 5% है, तो उस वस्तु का विक्रय मूल्य (₹ में) ज्ञात करें।

- Ans
- 1. 5,175
 - 2. 4,657
 - 3. 5,527
 - 4. 4,725

Question Type : MCQ

Question ID : 630680233019

Option 1 ID : 630680904198

Option 2 ID : 630680904200

Option 3 ID : 630680904199

Option 4 ID : 630680904197

Status : Answered

Chosen Option : 4

Q.18 ऊँचाई h और त्रिज्या R का एक लंब वृत्तीय शंकु आधार के समानांतर एक समतल द्वारा आधार से $h/5$ की दूरी पर काटा जाता है। छिन्नक के वक्र पृष्ठीय क्षेत्रफल और परिणामी शंकु के कुल पृष्ठीय क्षेत्रफल का अनुपात क्या है?

- Ans
- 1. $9(R + L) : 16L$
 - 2. $16L : 9(R + L)$
 - 3. $9L : 16(R + L)$
 - 4. $16(R + L) : 9L$

Question Type : MCQ

Question ID : 630680387071

Option 1 ID : 6306801508996

Option 2 ID : 6306801508997

Option 3 ID : 6306801508995

Option 4 ID : 6306801508994

Status : Answered

Chosen Option : 2

Q.19 एक समूह में आकाश, अजय, सोनिया, अंजु और रोहित हैं। उनके समूह द्वारा प्राप्त औसत अंक 27 हैं। आकाश ने समूह छोड़ दिया और अब शेष विद्यार्थियों का औसत 24 है। आकाश ने कितने अंक प्राप्त किए?

- Ans
- 1. 15
 - 2. 32
 - 3. 35
 - 4. 39

Question Type : MCQ

Question ID : 630680143022

Option 1 ID : 630680553553

Option 2 ID : 630680553552

Option 3 ID : 630680553550

Option 4 ID : 630680553551

Status : Answered

Chosen Option : 4

Q.20 दो संख्याएं 3 : 7 के अनुपात में हैं। उनका लघुत्तम समापवर्त्य (LCM) 126 है। संख्याओं का योग ज्ञात करें।

- Ans 1. 69
 2. 90
 3. 60
 4. 64

Question Type : MCQ
Question ID : 630680105238
Option 1 ID : 630680409032
Option 2 ID : 630680409033
Option 3 ID : 630680409031
Option 4 ID : 630680409034
Status : Answered
Chosen Option : 3

Section : Reasoning Ability and Problem Solving

Q.1 KQNT, अंग्रेजी वर्णानुक्रम के आधार पर एक निश्चित प्रकार से QWTZ से संबंधित है। ठीक उसी प्रकार IOLR, OURX से संबंधित है। समान तर्क का अनुसरण करते हुए, DJGM निम्नलिखित में से किससे संबंधित है?

- Ans 1. PJSM
 2. PJMS
 3. JPMS
 4. JPSM

Question Type : MCQ
Question ID : 630680386602
Option 1 ID : 6306801507121
Option 2 ID : 6306801507118
Option 3 ID : 6306801507119
Option 4 ID : 6306801507120
Status : Answered
Chosen Option : 3

Q.2 निम्नलिखित में से किन चिह्नों को आपस में बदलने पर दिया गया समीकरण सही हो जाएगा?

$$8 - 42 + 104 \div 13 \times 4 = 18$$

- Ans 1. + और ×
 2. - और +
 3. - और ×
 4. ÷ और -

Question Type : MCQ
Question ID : 630680411987
Option 1 ID : 6306801606786
Option 2 ID : 6306801606784
Option 3 ID : 6306801606785
Option 4 ID : 6306801606783
Status : Answered
Chosen Option : 2

Q.3 सात व्यक्ति P, Q, R, S, T, U और V एक वृत्ताकार मेज के चारों ओर केंद्र की ओर मुख करके बैठे हैं (परंतु जरूरी नहीं कि वे इसी क्रम में बैठे हों)। U, S के दाएँ से दूसरे स्थान पर बैठा है। Q, U के बाएँ से तीसरे स्थान पर बैठा है। R, P के दाएँ से पाँचवें स्थान पर बैठा है। T, V के बाएँ से तीसरे स्थान पर बैठा है। V के सापेक्ष S का स्थान क्या है?

- Ans
- 1. ठीक दाएँ पर
 - 2. बाएँ से दूसरा
 - 3. ठीक बाएँ पर
 - 4. दाएँ से तीसरा

Question Type : MCQ

Question ID : 630680381643

Option 1 ID : 6306801487504

Option 2 ID : 6306801487503

Option 3 ID : 6306801487505

Option 4 ID : 6306801487506

Status : Answered

Chosen Option : 4

Q.4 यदि '+' और '-' को आपस में बदल दिया जाए तथा 'x' और '÷' को आपस में बदल दिया जाए, तो निम्नलिखित समीकरण में प्रश्न चिह्न (?) के स्थान पर क्या आएगा?
 $60 + 9 \div 63 - 72 \times 12 = ?$

- Ans
- 1. -501
 - 2. -503
 - 3. -504
 - 4. -502

Question Type : MCQ

Question ID : 630680379285

Option 1 ID : 6306801478183

Option 2 ID : 6306801478185

Option 3 ID : 6306801478186

Option 4 ID : 6306801478184

Status : Answered

Chosen Option : 1

Q.5 वह समुच्चय चुनें जिसमें संख्याएँ उसी प्रकार संबंधित हैं, जिस प्रकार निम्नलिखित समुच्चयों की संख्याएँ संबंधित हैं।

(ध्यान दें: संख्याओं को उनके घटक अंकों में अलग-अलग किए बिना पूर्ण संख्याओं पर संक्रियाएं की जानी चाहिए। उदाहरण के लिए संख्या 13 - संख्या 13 पर संक्रियाएं जैसे 13 को जोड़ना/घटाना/गुणा करना आदि किया जा सकता है। 13 को 1 और 3 में अलग-अलग करने की और फिर 1 और 3 पर गणितीय संक्रियाएं करने की अनुमति नहीं है।)

(6, 17, 41)

(3, 20, 32)

- Ans
- 1. (9, 6, 40)
 - 2. (7, 16, 14)
 - 3. (23, 4, 96)
 - 4. (12, 15, 53)

Question Type : MCQ

Question ID : 6306801030484

Option 1 ID : 6306804044685

Option 2 ID : 6306804044688

Option 3 ID : 6306804044686

Option 4 ID : 6306804044687

Status : Answered

Chosen Option : 3

Q.6 अंग्रेजी वर्णानुक्रम के आधार पर दी गई श्रृंखला में प्रश्न-चिह्न (?) के स्थान पर क्या आना चाहिए?
ZWT, WUQ, TSN, QK, ?

- Ans
- 1. NOH
 - 2. MOH
 - 3. MOG
 - 4. NOQ

Question Type : MCQ

Question ID : 630680338842

Option 1 ID : 6306801317958

Option 2 ID : 6306801317960

Option 3 ID : 6306801317959

Option 4 ID : 6306801317957

Status : Answered

Chosen Option : 1

Q.7 एक निश्चित कूट भाषा में, 'RISK' को '2369' के रूप में कूटबद्ध किया जाता है और 'CRAP' को '1876' के रूप में कूटबद्ध किया जाता है। दी गई कूट भाषा में 'R' के लिए कूट क्या है?

- Ans
- 1. 7
 - 2. 9
 - 3. 8
 - 4. 6

Question Type : MCQ

Question ID : 630680387100

Option 1 ID : 6306801509111

Option 2 ID : 6306801509113

Option 3 ID : 6306801509112

Option 4 ID : 6306801509110

Status : Answered

Chosen Option : 4

Q.8 दी गई श्रृंखला में प्रश्न-चिह्न (?) के स्थान पर क्या आना चाहिए?

8796, 4392, 1092, 176, ?, -4.4

- Ans
- 1. 16
 - 2. 11.6
 - 3. 38
 - 4. 22

Question Type : MCQ

Question ID : 630680531541

Option 1 ID : 6306802077959

Option 2 ID : 6306802077957

Option 3 ID : 6306802077958

Option 4 ID : 6306802077960

Status : Answered

Chosen Option : 4

Q.9 एक निश्चित तर्क का अनुसरण करते हुए 425, 85 से संबंधित है। उसी तर्क का अनुसरण करते हुए 265, 53 से संबंधित है। समान तर्क का अनुसरण करते हुए 655, निम्नलिखित में से किससे संबंधित है?

(ध्यान दें: संख्याओं को उनके घटक अंकों में अलग-अलग किए बिना पूर्ण संख्याओं पर संक्रियाएं की जानी चाहिए। उदाहरण के लिए संख्या 13 - संख्या 13 पर संक्रियाएं जैसे 13 को जोड़ना/घटाना/गुणा करना आदि किया जा सकता है। 13 को 1 और 3 में अलग-अलग करने की और फिर 1 और 3 पर गणितीय संक्रियाएं करने की अनुमति नहीं है।)

- Ans
- 1. 131
 - 2. 136
 - 3. 132
 - 4. 130

Question Type : MCQ

Question ID : 630680441692

Option 1 ID : 6306801724383

Option 2 ID : 6306801724385

Option 3 ID : 6306801724384

Option 4 ID : 6306801724382

Status : Answered

Chosen Option : 1

Q.10 एक निश्चित कूट भाषा में, 'FOAM' को '9618' के रूप में कूटबद्ध किया जाता है और 'MUST' को '4536' के रूप में कूटबद्ध किया जाता है। उस भाषा में 'M' के लिए कूट क्या है?

Ans 1. 6

2. 4

3. 3

4. 5

Question Type : MCQ

Question ID : 630680435852

Option 1 ID : 6306801701357

Option 2 ID : 6306801701359

Option 3 ID : 6306801701358

Option 4 ID : 6306801701360

Status : Answered

Chosen Option : 1

Q.11 एक निश्चित कूट भाषा में, 'PINK' को 15 के रूप में कूटबद्ध किया जाता है और 'PAINT' को 24 के रूप में कूटबद्ध किया जाता है। उसी भाषा में 'WILDNESS' को किस प्रकार कूटबद्ध किया जाएगा?

Ans 1. 48

2. 52

3. 51

4. 63

Question Type : MCQ

Question ID : 630680465399

Option 1 ID : 6306801817633

Option 2 ID : 6306801817634

Option 3 ID : 6306801817631

Option 4 ID : 6306801817632

Status : Answered

Chosen Option : 4

Q.12 सात व्यक्ति A, B, C, D, E, F और G एक वृत्ताकार मेज के चारों ओर केंद्र की ओर मुख करके बैठे हैं (परंतु जरूरी नहीं कि वे इसी क्रम में बैठे हों)। G, B के दाएँ दूसरे स्थान पर बैठा है। E के बाएँ से गिनती करने पर E और C के बीच में केवल दो व्यक्ति बैठे हैं। G, E का निकटतम पड़ोसी है। A, C के बाएँ से दूसरे स्थान पर बैठा है। D, B का निकटतम पड़ोसी नहीं है। G के सापेक्ष में F का स्थान क्या है?

Ans 1. दाएँ से दूसरा

2. बाएँ से तीसरा

3. बाएँ से चौथा

4. दाएँ से तीसरा

Question Type : MCQ

Question ID : 630680380537

Option 1 ID : 6306801483137

Option 2 ID : 6306801483138

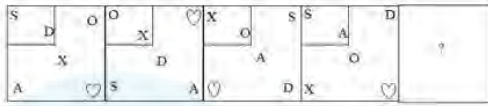
Option 3 ID : 6306801483136

Option 4 ID : 6306801483135

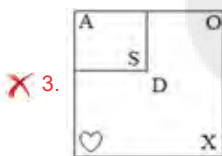
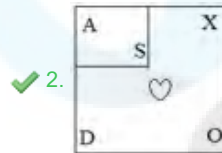
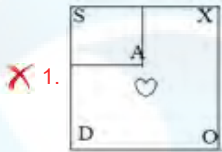
Status : Answered

Chosen Option : 2

Q.13 दिए गए विकल्पों में से उस आकृति का चयन कीजिए जो निम्नलिखित श्रृंखला में प्रश्न चिह्न (?) को प्रतिस्थापित कर सकती है।



Ans



Question Type : **MCQ**

Question ID : **630680187534**

Option 1 ID : **630680727015**

Option 2 ID : **630680727014**

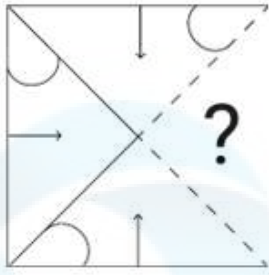
Option 3 ID : **630680727016**

Option 4 ID : **630680727013**

Status : **Answered**

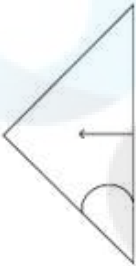
Chosen Option : **2**

Q.14 उस विकल्प आकृति का चयन कीजिए जो पैटर्न को पूरा करने के लिए नीचे दी गई आकृति में प्रश्न चिह्न (?) के स्थान पर आएगी।

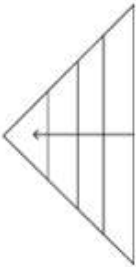


Ans

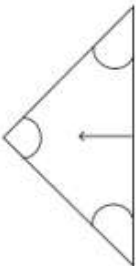
✓ 1.



✗ 2.



✗ 3.



✗ 4.



Question Type : MCQ

Question ID : 630680524710

Option 1 ID : 6306802050941

Option 2 ID : 6306802050940

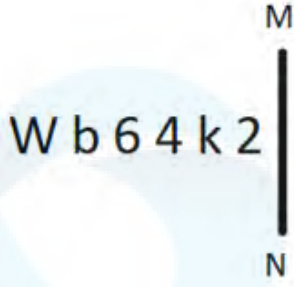
Option 3 ID : 6306802050939

Option 4 ID : 6306802050942

Status : Answered

Chosen Option : 1

Q.15 दी गई आकृति के उस सही दर्पण प्रतिबिंब को चुनिए, जो नीचे दर्शाए गए अनुसार दर्पण को MN पर रखने पर बनेगा।



- Ans
- ✓ 1. $\Sigma k \Delta \partial d W$
 - ✗ 2. $Z \kappa \Delta p e M$
 - ✗ 3. $\Sigma k \Delta b 6 W$
 - ✗ 4. $\Sigma 4 k \partial d M$

Question Type : MCQ

Question ID : 630680525251

Option 1 ID : 6306802053088

Option 2 ID : 6306802053090

Option 3 ID : 6306802053089

Option 4 ID : 6306802053091

Status : Answered

Chosen Option : 1

Q.16 इस प्रश्न में दो कथन और उनके बाद दो निष्कर्ष हैं। और II दिए गए हैं। आपको दिए गए कथनों को सत्य मानना है, भले ही वे सर्वज्ञात तथ्यों से भिन्न प्रतीत होते हों। आपको यह तय करना है कि दिए गए निष्कर्षों में से कौन-सा/से निष्कर्ष दिए गए कथनों का तार्किक रूप से अनुसरण करता है/करते हैं।

कथन:

कोई मोटर, याक नहीं है।

कुछ याक, वाइप हैं।

निष्कर्ष:

(I) कोई वाइप, याक नहीं है।

(II) कुछ वाइप, याक हैं।

- Ans
- ✓ 1. केवल निष्कर्ष (II) अनुसरण करता है
 - ✗ 2. न तो निष्कर्ष (I) और न ही (II) अनुसरण करता है
 - ✗ 3. निष्कर्ष (I) और (II) दोनों अनुसरण करते हैं
 - ✗ 4. केवल निष्कर्ष (I) अनुसरण करता है

Question Type : MCQ

Question ID : 630680106421

Option 1 ID : 630680413471

Option 2 ID : 630680413472

Option 3 ID : 630680413473

Option 4 ID : 630680413470

Status : Answered

Chosen Option : 1

Q.17 दो कथन और उसके बाद तीन निष्कर्ष क्रमांकित I, II और III दिए गए हैं। कथनों को सत्य मानते हुए, भले ही वे सामान्य रूप से ज्ञात तथ्यों से भिन्न प्रतीत होते हों, निर्णय लें कि कौन सा/से निष्कर्ष तार्किक रूप से कथनों का अनुसरण करता है/करते हैं।

कथन:

I. सभी स्ट्रॉबेरी, फल हैं।

II. कुछ बेरी, स्ट्रॉबेरी हैं।

निष्कर्ष:

I. सभी बेरी, फल हैं।

II. कुछ फल, स्ट्रॉबेरी हैं।

III. कोई भी बेरी, फल नहीं है।

Ans 1. केवल निष्कर्ष II अनुसरण करता है।

2. केवल निष्कर्ष III अनुसरण करता है।

3. दोनों निष्कर्ष II और III अनुसरण करते हैं।

4. या तो निष्कर्ष I या III अनुसरण करता है।

Question Type : MCQ

Question ID : 630680519343

Option 1 ID : 6306802029818

Option 2 ID : 6306802029817

Option 3 ID : 6306802029819

Option 4 ID : 6306802029816

Status : Answered

Chosen Option : 4

Q.18 किसी निश्चित प्रकार से EO 19, AK 13 से संबंधित है। ठीक उसी प्रकार, UD 17, QZ 11 से संबंधित है। उसी तर्क का पालन करते हुए, VH 23 निम्नलिखित में से किससे संबंधित है?

Ans 1. RD 18

2. RD 17

3. QC 17

4. RC 17

Question Type : MCQ

Question ID : 630680528982

Option 1 ID : 6306802067917

Option 2 ID : 6306802067919

Option 3 ID : 6306802067918

Option 4 ID : 6306802067916

Status : Answered

Chosen Option : 2

Q.19 दिए गए विकल्पों में से उस आकृति की पहचान कीजिए जिसे प्रश्न-चिह्न (?) के स्थान पर रखे जाने पर श्रृंखला तार्किक रूप से पूर्ण हो जाएगी।

Z	%	U	P	%	Z	P	@	Z	k	@	P	?
@	☆	\$	@	☆	\$?	☆	%	?	☆	%	
P	?	k	k	?	U	k	\$	U	U	\$	Z	

Ans

✓ 1.

k	?	P
\$	☆	@
U	%	Z

✗ 2.

k	\$	P
\$	☆	?
U	%	Z

✗ 3.

k	%	P
?	☆	@
Z	\$	U

✗ 4.

k	@	U
\$	☆	%
P	?	Z

Question Type : MCQ

Question ID : 630680287255

Option 1 ID : 6306801116927

Option 2 ID : 6306801116930

Option 3 ID : 6306801116928

Option 4 ID : 6306801116929

Status : Answered

Chosen Option : 1

Q.20 एक निश्चित कूट भाषा में, 'mother scolds child' को 'si hi mi' लिखा जाता है और 'child loves father' को 'vi fi hi' लिखा जाता है। उसी कूट भाषा में 'child' को कैसे लिखा जाएगा?

- Ans
- 1. vi
 - 2. mi
 - 3. hi
 - 4. fi

Question Type : MCQ

Question ID : 630680439036

Option 1 ID : 6306801713957

Option 2 ID : 6306801713959

Option 3 ID : 6306801713956

Option 4 ID : 6306801713958

Status : Answered

Chosen Option : 3

Section : General Awareness

Q.1 भारतीय संविधान की निम्नलिखित में से कौन-सी विशेषता संयुक्त राज्य अमेरिका के संविधान से ली गई है?

- Ans
- 1. उच्चतम न्यायालय के न्यायाधीशों को हटाने की प्रक्रिया (Removal of Supreme Court Judges)
 - 2. कैबिनेट प्रणाली (Cabinet System)
 - 3. संसदीय विशेषाधिकार (Parliamentary Privileges)
 - 4. विशेषाधिकार याचिका (Prerogative Writs)

Question Type : MCQ

Question ID : 630680587090

Option 1 ID : 6306802296904

Option 2 ID : 6306802296903

Option 3 ID : 6306802296902

Option 4 ID : 6306802296901

Status : Answered

Chosen Option : 1

Q.2 असंघटित शैल, धूल, मृदा आदि से मिलकर बनी परत, जो कंबल की तरह आधार शैल पृष्ठ (bed rock surface) पर निक्षेपित होती है, _____ कहलाती है।

- Ans
- 1. रेगोलिथ (Regolith)
 - 2. स्क्री (Scree)
 - 3. प्रोटोलिथ (Protolith)
 - 4. टैलस (Talus)

Question Type : MCQ

Question ID : 630680403910

Option 1 ID : 6306801575130

Option 2 ID : 6306801575131

Option 3 ID : 6306801575132

Option 4 ID : 6306801575133

Status : Not Answered

Chosen Option : --

Q.3 वर्ष 1946 में, भारत को सत्ता के हस्तांतरण के लिए एक त्रिस्तरीय परिसंघ (three-tiered confederation) का प्रस्ताव _____ द्वारा किया गया था।

- Ans 1. कैबिनेट मिशन
 2. साइमन कमीशन
 3. रोलेट एक्ट
 4. रेग्युलेटिंग ऐक्ट

Question Type : MCQ

Question ID : 630680305917

Option 1 ID : 6306801190021

Option 2 ID : 6306801190022

Option 3 ID : 6306801190024

Option 4 ID : 6306801190023

Status : Answered

Chosen Option : 1

Q.4 निम्नलिखित में से किस शासक ने मुगल वंश में 'झरोखा दर्शन (jharokha darshan)' की शुरुआत की थी?

- Ans 1. शाहजहाँ
 2. अकबर
 3. हुमायूँ
 4. औरंगजेब

Question Type : MCQ

Question ID : 630680216016

Option 1 ID : 630680838040

Option 2 ID : 630680838041

Option 3 ID : 630680838042

Option 4 ID : 630680838039

Status : Answered

Chosen Option : 2

Q.5 भारत में निम्नलिखित में से किस स्थान पर सबसे अधिक वर्षा होती है?

- Ans 1. मौसिनराम (Mawsynram)
 2. पटना (Patna)
 3. गुवाहाटी (Guwahati)
 4. इम्फाल (Imphal)

Question Type : MCQ

Question ID : 630680709631

Option 1 ID : 6306802780185

Option 2 ID : 6306802780184

Option 3 ID : 6306802780186

Option 4 ID : 6306802780187

Status : Answered

Chosen Option : 1

Q.6 निम्नलिखित में से किस राज्य में अल्पासी महोत्सव (Alpasi Festival) प्रतिवर्ष मनाया जाता है, जिसमें समुद्र में देवताओं (deities) का पवित्र स्नान एक मुख्य आकर्षण होता है?

- Ans 1. केरल
 2. आंध्र प्रदेश
 3. तेलंगाना
 4. कर्नाटक

Question Type : MCQ
Question ID : 630680403378
Option 1 ID : 6306801573023
Option 2 ID : 6306801573025
Option 3 ID : 6306801573024
Option 4 ID : 6306801573022
Status : Answered
Chosen Option : 1

Q.7 दिसंबर 2022 में, संसद ने ऊर्जा संरक्षण (संशोधन) विधेयक, 2022 पारित किया। इस विधेयक का उद्देश्य _____ का उपयोग करना है।

- Ans 1. विद्युत वाहनों
 2. पेट्रोल वाहनों पर सब्सिडी
 3. गैर-जीवाश्म ईंधनों
 4. घरों में टंगस्टन फिलामेंट बल्बों

Question Type : MCQ
Question ID : 630680303575
Option 1 ID : 6306801180874
Option 2 ID : 6306801180876
Option 3 ID : 6306801180873
Option 4 ID : 6306801180875
Status : Answered
Chosen Option : 3

Q.8 भारत में राष्ट्रीय डिजिटल संचार नीति (National Digital Communications Policy) कब शुरू की गई थी?

- Ans 1. 2016
 2. 2015
 3. 2020
 4. 2018

Question Type : MCQ
Question ID : 630680213963
Option 1 ID : 630680829899
Option 2 ID : 630680829902
Option 3 ID : 630680829900
Option 4 ID : 630680829901
Status : Answered
Chosen Option : 2

Q.9 2001 में पद्म श्री प्राप्त करने वाली प्रसिद्ध कुचिपुड़ी नृत्यांगना कौन हैं?

Ans 1. शोभा नायडू

2. रेखा राजू

3. मुक्ति मोहन

4. पद्मिनी

Question Type : MCQ

Question ID : 630680433354

Option 1 ID : 6306801691386

Option 2 ID : 6306801691385

Option 3 ID : 6306801691384

Option 4 ID : 6306801691383

Status : Answered

Chosen Option : 1

Q.10 स्तंभ A में दिए गए मौर्य साम्राज्य के सैन्य अधिकारियों को स्तंभ B में उनको दिए जाने वाले वेतन के साथ सुमेलित कीजिए।

स्तंभ A (सैन्य अधिकारी)

स्तंभ B (वेतन)

a. सेनापति

b. अध्यक्ष

c. मुखिया

d. नायक

i. 12,000 पण प्रति वर्ष

ii. 8,000 पण प्रति वर्ष

iii. 4,000 पण प्रति वर्ष

iv. 48,000 पण प्रति वर्ष

Ans 1. a-iv, b-iii, c-ii, d-i

2. a-iii, b-i, c-iv, d-ii

3. a-iii, b-iv, c-i, d-ii

4. a-i, b-ii, c-iii, d-iv

Question Type : MCQ

Question ID : 630680333512

Option 1 ID : 6306801297324

Option 2 ID : 6306801297322

Option 3 ID : 6306801297321

Option 4 ID : 6306801297323

Status : Not Answered

Chosen Option : --

Q.11 पंडित शिव कुमार शर्मा को अकेले ही किस संगीत वाद्ययंत्र को लोकप्रिय बनाने का श्रेय दिया जाता है?

- Ans 1. तबला
 2. सरोद
 3. संतूर
 4. सितार

Question Type : MCQ

Question ID : 630680482441

Option 1 ID : 6306801884242

Option 2 ID : 6306801884240

Option 3 ID : 6306801884241

Option 4 ID : 6306801884243

Status : Answered

Chosen Option : 3

Q.12 भारत सरकार ने महात्मा गांधी राष्ट्रीय ग्रामीण रोजगार गारंटी अधिनियम को किस वर्ष पारित किया था?

- Ans 1. 2001
 2. 1999
 3. 2003
 4. 2005

Question Type : MCQ

Question ID : 630680477670

Option 1 ID : 6306801865830

Option 2 ID : 6306801865831

Option 3 ID : 6306801865829

Option 4 ID : 6306801865828

Status : Answered

Chosen Option : 4

Q.13 भारत ने अपना पहला टेस्ट मैच क्रिकेट निम्नलिखित में से किस देश के खिलाफ खेला था?

- Ans 1. इंग्लैंड
 2. न्यूजीलैंड
 3. वेस्ट इंडीज
 4. आस्ट्रेलिया

Question Type : MCQ

Question ID : 630680799015

Option 1 ID : 6306803130862

Option 2 ID : 6306803130864

Option 3 ID : 6306803130865

Option 4 ID : 6306803130863

Status : Answered

Chosen Option : 1

Q.14 प्रसिद्ध आत्मकथा 'लेसंस लाइफ टॉट मी अननोइंगली (Lessons life taught me unknowingly)' _____ से संबंधित है।

- Ans
- 1. एलके आडवाणी
 - 2. अनुपम खेर
 - 3. झूलन गोस्वामी
 - 4. शरद पवार

Question Type : MCQ

Question ID : 630680409421

Option 1 ID : 6306801596516

Option 2 ID : 6306801596514

Option 3 ID : 6306801596513

Option 4 ID : 6306801596515

Status : Answered

Chosen Option : 2

Q.15 शून्य-आधारित बजट (zero-based budgeting) का मुख्य उद्देश्य क्या है?

- Ans
- 1. आउटपुट के साथ प्रत्येक कार्यक्रम और गतिविधि की प्रभावशीलता का आकलन करना
 - 2. इनपुट और आउटपुट के बीच संबंध स्थापित करना
 - 3. बजट प्रावधान किए जाने पर प्रत्येक वर्ष सभी गतिविधियों का पुनर्मूल्यांकन किया जाना
 - 4. उन उद्देश्यों की जांच करना जिनके लिए धन प्रदान किया जाता है

Question Type : MCQ

Question ID : 630680448005

Option 1 ID : 6306801749272

Option 2 ID : 6306801749271

Option 3 ID : 6306801749270

Option 4 ID : 6306801749269

Status : Answered

Chosen Option : 2

Q.16 किसी तत्व का कौन-सा गुण उसकी आयनीकरण ऊर्जा के व्युत्क्रमानुपाती होता है?

- Ans
- 1. परमाणु-द्रव्यमान
 - 2. परमाणु-त्रिज्या
 - 3. इलेक्ट्रॉन बन्धुता
 - 4. वैद्युतीयक्राणात्मकता

Question Type : MCQ

Question ID : 630680472231

Option 1 ID : 6306801844654

Option 2 ID : 6306801844651

Option 3 ID : 6306801844653

Option 4 ID : 6306801844652

Status : Answered

Chosen Option : 3

Q.17 एलीट तथा युवा पुरुष एवं महिला प्रतिस्पर्धाओं के लिए इंटरनेशनल बॉक्सिंग एसोसिएशन (AIBA ओपन बॉक्सिंग) मैच के प्रत्येक राउंड में मुकाबलों (bouts) की अवधि कितनी होनी चाहिए?

Ans 1. 3 मिनट

2. 2 मिनट

3. 4 मिनट

4. 5 मिनट

Question Type : MCQ

Question ID : 630680552321

Option 1 ID : 6306802159379

Option 2 ID : 6306802159378

Option 3 ID : 6306802159380

Option 4 ID : 6306802159381

Status : Answered

Chosen Option : 2

Q.18 पेलाग्रा (Pellagra), एक कमी से होने वाला रोग है जो सामान्यतः निम्नलिखित में से किस पोषक तत्व की कमी के कारण होता है?

Ans 1. नियासिन (Niacin)

2. विटामिन E (Vitamin E)

3. आयोडीन (Iodine)

4. राइबोफ्लेविन (Riboflavin)

Question Type : MCQ

Question ID : 630680311117

Option 1 ID : 6306801210581

Option 2 ID : 6306801210584

Option 3 ID : 6306801210582

Option 4 ID : 6306801210583

Status : Answered

Chosen Option : 4

Q.19 मैकाले (Macaulay) के संबंध में निम्नलिखित में से कौन-सा कथन असत्य है?

Ans 1. उसका मानना था कि भारत एक असभ्य देश है जिसे सभ्यता का पाठ पढ़ाया जाना आवश्यक है।

2. उन्होंने भारतीयों को अंग्रेजी भाषा की शिक्षा देने की प्रबल रूप से वकालत की।

3. मैकाले एक प्राच्यविद् विद्वान था।

4. उन्होंने भारतीय और अरब साहित्य को पश्चिमी साहित्य से निम्नतर माना।

Question Type : MCQ

Question ID : 630680652696

Option 1 ID : 6306802555259

Option 2 ID : 6306802555260

Option 3 ID : 6306802555258

Option 4 ID : 6306802555261

Status : Answered

Chosen Option : 1

Q.20 संसदीय प्रणाली में, निम्नलिखित में से किसे सरकार के प्रमुख के रूप में जाना जाता है?

- Ans
- 1. राष्ट्रपति
 - 2. प्रधान मंत्री
 - 3. मुख्यमंत्री
 - 4. मुख्य न्यायाधीश

Question Type : MCQ

Question ID : 630680799045

Option 1 ID : 6306803130985

Option 2 ID : 6306803130984

Option 3 ID : 6306803130982

Option 4 ID : 6306803130983

Status : Answered

Chosen Option : 2

Q.21 भारत के किस स्मारकीय स्थल में मगन निवास, हृदय कुंज और विनोबा-मीरा कुटीर हैं?

- Ans
- 1. विनोबा आश्रम
 - 2. ऑरोविल
 - 3. साबरमती आश्रम
 - 4. रामचन्द्र मिशन

Question Type : MCQ

Question ID : 630680555033

Option 1 ID : 6306802169709

Option 2 ID : 6306802169710

Option 3 ID : 6306802169711

Option 4 ID : 6306802169708

Status : Answered

Chosen Option : 2

Q.22 पाखू इट्टू नृत्य (Pakhu Itu dance) निम्नलिखित में से किस राज्य की अपातानी जनजाति (Apatani tribe) द्वारा किया जाता है?

- Ans
- 1. हिमाचल प्रदेश
 - 2. छत्तीसगढ़
 - 3. अरुणाचल प्रदेश
 - 4. असम

Question Type : MCQ

Question ID : 630680546610

Option 1 ID : 6306802137011

Option 2 ID : 6306802137012

Option 3 ID : 6306802137013

Option 4 ID : 6306802137014

Status : Answered

Chosen Option : 3

Q.23 विषम का चयन कीजिए।
रसधानी, केंद्रक, राइबोसोम, लयनकाय (लाइसोसोम)

- Ans
- 1. रसधानी
 - 2. लयनकाय
 - 3. राइबोसोम
 - 4. केंद्रक

Question Type : MCQ
Question ID : 630680544245
Option 1 ID : 6306802127756
Option 2 ID : 6306802127755
Option 3 ID : 6306802127754
Option 4 ID : 6306802127757
Status : Answered
Chosen Option : 1

Q.24 भारत की वर्ष 2011 की जनगणना के अनुसार, भारत की कुल जनसंख्या में ईसाई समुदायों का प्रतिशत कितना था?

- Ans
- 1. 0.7%
 - 2. 0.4%
 - 3. 2.3%
 - 4. 1.7%

Question Type : MCQ
Question ID : 630680327651
Option 1 ID : 6306801274602
Option 2 ID : 6306801274603
Option 3 ID : 6306801274601
Option 4 ID : 6306801274604
Status : Answered
Chosen Option : 3

Q.25 मई 2023 में ओडिशा सरकार द्वारा शुरू की गई 'मो घरा (Mo Ghara)' योजना के अंतर्गत पात्र लाभार्थियों को अधिकतम कितनी गृह ऋण राशि मिल सकती है?

- Ans
- 1. ₹3 लाख तक
 - 2. ₹2 लाख तक
 - 3. ₹4 लाख तक
 - 4. ₹5.5 लाख तक

Question Type : MCQ
Question ID : 630680465521
Option 1 ID : 6306801818120
Option 2 ID : 6306801818119
Option 3 ID : 6306801818121
Option 4 ID : 6306801818122
Status : Answered
Chosen Option : 3

Q.1 Select the option that can be used as a one-word substitute for the given group of words.

A short stay at a place.

- Ans
- 1. Embargo
 - 2. Topiary
 - 3. Sojourn
 - 4. Xenophobe

Question Type : MCQ

Question ID : 630680444263

Option 1 ID : 6306801734334

Option 2 ID : 6306801734333

Option 3 ID : 6306801734331

Option 4 ID : 6306801734332

Status : Answered

Chosen Option : 3

Q.2 Select the most appropriate idiom that can substitute the underlined segment in the given sentence.

I cannot call him directly as I have lost his support.

- Ans
- 1. am in character
 - 2. am quite at sea with him
 - 3. am out of favour with him
 - 4. am in my own light

Question Type : MCQ

Question ID : 630680752010

Option 1 ID : 6306802947399

Option 2 ID : 6306802947398

Option 3 ID : 6306802947401

Option 4 ID : 6306802947400

Status : Answered

Chosen Option : 2

Q.3 Select the most appropriate option that can substitute the underlined segment in the given sentence. If there is no need to substitute it, select 'No substitution'.

Suman will be fired if she did not complete the delegated target set by her boss.

- Ans
- 1. if she had not complete the delegated target
 - 2. if she does not complete the delegated target
 - 3. No substitution
 - 4. if she do not complete the delegated target

Question Type : MCQ

Question ID : 630680546058

Option 1 ID : 6306802134810

Option 2 ID : 6306802134808

Option 3 ID : 6306802134811

Option 4 ID : 6306802134809

Status : Answered

Chosen Option : 3

Q.4 Select the most appropriate option to fill in the blank.

The athlete's performance was _____, earning him a standing ovation.

- Ans
- 1. mediocre
 - 2. moderate
 - 3. average
 - 4. exceptional

Question Type : MCQ

Question ID : 630680471778

Option 1 ID : 6306801842833

Option 2 ID : 6306801842831

Option 3 ID : 6306801842830

Option 4 ID : 6306801842832

Status : Answered

Chosen Option : 4

Q.5 The following sentence has been split into four segments. Identify the segment that contains a grammatical error.

(1) Malini's family (2) doesn't know (3) how she bears out (4) the work pressure.

- Ans
- 1. the work pressure.
 - 2. doesn't know
 - 3. Malini's family
 - 4. how she bears out

Question Type : MCQ

Question ID : 63068082677

Option 1 ID : 630680320639

Option 2 ID : 630680320637

Option 3 ID : 630680320636

Option 4 ID : 630680320638

Status : Answered

Chosen Option : 4

Q.6 Select the most appropriate synonym of the word 'Flash' from the given sentence.

My cousin Zara, who loves to explore outer space in her free time, once noticed or observed a disc-shaped object blinking in the sky.

- Ans
- 1. observed
 - 2. explore
 - 3. blinking
 - 4. noticed

Question Type : MCQ

Question ID : 630680426299

Option 1 ID : 6306801663296

Option 2 ID : 6306801663297

Option 3 ID : 6306801663298

Option 4 ID : 6306801663295

Status : Answered

Chosen Option : 3

Q.7 Select the most appropriate synonym of the given word.
Fast

- Ans 1. Tardy
 2. Quick
 3. Languid
 4. Barely

Question Type : **MCQ**

Question ID : **630680726552**

Option 1 ID : **6306802847216**

Option 2 ID : **6306802847215**

Option 3 ID : **6306802847217**

Option 4 ID : **6306802847214**

Status : **Answered**

Chosen Option : **2**

Q.8 The following sentence has been split into four segments. Identify the segment that contains a grammatical error.

A famous economist / says that / the government should do more / for create enough jobs.

- Ans 1. A famous economist
 2. for create enough jobs
 3. the government should do more
 4. says that

Question Type : **MCQ**

Question ID : **630680196370**

Option 1 ID : **630680761859**

Option 2 ID : **630680761862**

Option 3 ID : **630680761861**

Option 4 ID : **630680761860**

Status : **Answered**

Chosen Option : **3**

Q.9 Select the most appropriate option to fill in the blanks.

___ architect designed ___ modern office building and ___ traditional residential home, showcasing ___ blend of contemporary and classic architectural styles.

- Ans 1. An; a; a; an
 2. A; a; an; a
 3. An; a; an; a
 4. An; a; a; a

Question Type : **MCQ**

Question ID : **630680748950**

Option 1 ID : **6306802935332**

Option 2 ID : **6306802935333**

Option 3 ID : **6306802935335**

Option 4 ID : **6306802935334**

Status : **Answered**

Chosen Option : **4**

Q.10 Select the most appropriate ANTONYM of the underlined word in the given sentence.

Mithya's remarkable generosity extended to everyone she knew.

- Ans 1. Selfishness
 2. Cowardice
 3. Perfection
 4. Awkwardness

Question Type : MCQ
Question ID : 630680502812
Option 1 ID : 6306801964830
Option 2 ID : 6306801964829
Option 3 ID : 6306801964832
Option 4 ID : 6306801964831
Status : Answered
Chosen Option : 1

Q.11 Select the most appropriate option to fill in the blank.
The Indian Government has launched the National Rural Livelihoods Mission, a _____ programme aimed at reducing rural poverty.

- Ans 1. controversial
 2. regressive
 3. flagship
 4. designer

Question Type : MCQ
Question ID : 630680515244
Option 1 ID : 6306802013441
Option 2 ID : 6306802013443
Option 3 ID : 6306802013444
Option 4 ID : 6306802013442
Status : Answered
Chosen Option : 3

Q.12 The following sentence has been split into four segments. Identify the segment that contains a grammatical error.
His skills in programming / are more superior than / most developers / in the company.

- Ans 1. are more superior than
 2. most developers
 3. in the company
 4. His skills in programming

Question Type : MCQ
Question ID : 630680450152
Option 1 ID : 6306801757756
Option 2 ID : 6306801757757
Option 3 ID : 6306801757758
Option 4 ID : 6306801757755
Status : Answered
Chosen Option : 1

Q.13 Select the most appropriate option with the correct usage of the preposition to substitute the underlined segment in the given sentence.

The United Nations Educational, Scientific and Cultural Organization (UNESCO) was born during 16 November 1945.

- Ans
- 1. was born on 16 November 1945
 - 2. was born in 16 November 1945
 - 3. was born by 16 November 1945
 - 4. was born at 16 November 1945

Question Type : MCQ
Question ID : 630680623592
Option 1 ID : 6306802440493
Option 2 ID : 6306802440492
Option 3 ID : 6306802440491
Option 4 ID : 6306802440490
Status : Answered
Chosen Option : 1

Q.14 Select the most appropriate synonym of the given word.
Vacant

- Ans
- 1. Empty
 - 2. Brutal
 - 3. Full
 - 4. Popular

Question Type : MCQ
Question ID : 630680397347
Option 1 ID : 6306801549444
Option 2 ID : 6306801549447
Option 3 ID : 6306801549446
Option 4 ID : 6306801549445
Status : Answered
Chosen Option : 1

Q.15 Select the INCORRECTLY spelt word in the given sentence.

The restaurent's atmosphere was pleasant and inviting.

- Ans
- 1. atmosphere
 - 2. inviting
 - 3. restaurent's
 - 4. pleasant

Question Type : MCQ
Question ID : 630680587229
Option 1 ID : 6306802297449
Option 2 ID : 6306802297451
Option 3 ID : 6306802297448
Option 4 ID : 6306802297450
Status : Answered
Chosen Option : 3

Q.16 Select the most appropriate meaning of the given idiom.
Burn the midnight oil

- Ans 1. To waste time
 2. To sleep early
 3. To set things on fire
 4. To work late into the night

Question Type : **MCQ**

Question ID : **630680432535**

Option 1 ID : **6306801688144**

Option 2 ID : **6306801688145**

Option 3 ID : **6306801688143**

Option 4 ID : **6306801688146**

Status : **Answered**

Chosen Option : **4**

Q.17 Identify the **INCORRECTLY** spelt word in the following sentence and select its correct spelling from the given options.

The teacher assessed the student's flyer for writing.

- Ans 1. flair
 2. flare
 3. friar
 4. fire

Question Type : **MCQ**

Question ID : **630680321976**

Option 1 ID : **6306801252563**

Option 2 ID : **6306801252561**

Option 3 ID : **6306801252562**

Option 4 ID : **6306801252564**

Status : **Answered**

Chosen Option : **1**

Q.18 Select the most appropriate synonym of the given word.

Sycophant

- Ans 1. Fawner
 2. Arrogant
 3. Independent
 4. Uppity

Question Type : **MCQ**

Question ID : **630680545687**

Option 1 ID : **6306802133336**

Option 2 ID : **6306802133339**

Option 3 ID : **6306802133337**

Option 4 ID : **6306802133338**

Status : **Answered**

Chosen Option : **2**

Q.19 The following sentence has been split into four segments. Identify the segment that contains a grammatical/spelling error.

Jack along with / his family visited / his aunt living / at America.

- Ans
- 1. his aunt living
 - 2. Jack along with
 - 3. his family visited
 - 4. at America

Question Type : **MCQ**

Question ID : **630680702954**

Option 1 ID : **6306802753570**

Option 2 ID : **6306802753568**

Option 3 ID : **6306802753569**

Option 4 ID : **6306802753571**

Status : **Answered**

Chosen Option : **4**

Q.20 Select the correct spelling from the given options to fill in the blank.
I hope you will excuse me for doing what is only my duty, although it may appear

- Ans
- 1. impertinent
 - 2. impertaint
 - 3. impertinant
 - 4. impertiant

Question Type : **MCQ**

Question ID : **630680310024**

Option 1 ID : **6306801206242**

Option 2 ID : **6306801206244**

Option 3 ID : **6306801206241**

Option 4 ID : **6306801206243**

Status : **Answered**

Chosen Option : **1**

Comprehension:

In the following passage, some words have been deleted. Read the passage carefully and select the most appropriate option to fill in each blank.

One day we saw Kala Nag. The monsoons had burst with all their fury, and it had rained in the night. The earth, which had lain parched and dry under the withering heat of the summer sun, was teeming ____1____ life. In little pools, frogs croaked. The muddy ground was littered with ____2____ worms, centipedes and velvety lady-birds. Grass ____3____ begun to show and the banana leaves glistened bright and glossy green. The ____4____ had flooded Kala Nag's hole. He sat in an open patch on the lawn. His shiny black hood glistened in the sunlight. He was big, almost six feet in ____5____ and rounded and fleshy, as my wrist. "Looks like a King Cobra. Let's get him."

SubQuestion No : 21

Q.21 Select the most appropriate option to fill in blank number 1.

Ans 1. before

2. with

3. at

4. in

Question Type : **MCQ**

Question ID : **630680484356**

Option 1 ID : **6306801891767**

Option 2 ID : **6306801891768**

Option 3 ID : **6306801891769**

Option 4 ID : **6306801891766**

Status : **Answered**

Chosen Option : **4**

Comprehension:

In the following passage, some words have been deleted. Read the passage carefully and select the most appropriate option to fill in each blank.

One day we saw Kala Nag. The monsoons had burst with all their fury, and it had rained in the night. The earth, which had lain parched and dry under the withering heat of the summer sun, was teeming ____1____ life. In little pools, frogs croaked. The muddy ground was littered with ____2____ worms, centipedes and velvety lady-birds. Grass ____3____ begun to show and the banana leaves glistened bright and glossy green. The ____4____ had flooded Kala Nag's hole. He sat in an open patch on the lawn. His shiny black hood glistened in the sunlight. He was big, almost six feet in ____5____ and rounded and fleshy, as my wrist. "Looks like a King Cobra. Let's get him."

SubQuestion No : 22

Q.22 Select the most appropriate option to fill in blank number 2.

Ans 1. reading

2. talking

3. crawling

4. singing

Question Type : **MCQ**

Question ID : **630680484357**

Option 1 ID : **6306801891773**

Option 2 ID : **6306801891772**

Option 3 ID : **6306801891771**

Option 4 ID : **6306801891770**

Status : **Answered**

Chosen Option : **3**

Comprehension:

In the following passage, some words have been deleted. Read the passage carefully and select the most appropriate option to fill in each blank.

One day we saw Kala Nag. The monsoons had burst with all their fury, and it had rained in the night. The earth, which had lain parched and dry under the withering heat of the summer sun, was teeming ____1____ life. In little pools, frogs croaked. The muddy ground was littered with ____2____ worms, centipedes and velvety lady-birds. Grass ____3____ begun to show and the banana leaves glistened bright and glossy green. The ____4____ had flooded Kala Nag's hole. He sat in an open patch on the lawn. His shiny black hood glistened in the sunlight. He was big, almost six feet in ____5____ and rounded and fleshy, as my wrist. "Looks like a King Cobra. Let's get him."

SubQuestion No : 23

Q.23 Select the most appropriate option to fill in blank number 3.

- Ans
- 1. was
 - 2. will
 - 3. is
 - 4. had

Question Type : **MCQ**

Question ID : **630680484358**

Option 1 ID : **6306801891776**

Option 2 ID : **6306801891777**

Option 3 ID : **6306801891775**

Option 4 ID : **6306801891774**

Status : **Answered**

Chosen Option : **4**

Comprehension:

In the following passage, some words have been deleted. Read the passage carefully and select the most appropriate option to fill in each blank.

One day we saw Kala Nag. The monsoons had burst with all their fury, and it had rained in the night. The earth, which had lain parched and dry under the withering heat of the summer sun, was teeming ____1____ life. In little pools, frogs croaked. The muddy ground was littered with ____2____ worms, centipedes and velvety lady-birds. Grass ____3____ begun to show and the banana leaves glistened bright and glossy green. The ____4____ had flooded Kala Nag's hole. He sat in an open patch on the lawn. His shiny black hood glistened in the sunlight. He was big, almost six feet in ____5____ and rounded and fleshy, as my wrist. "Looks like a King Cobra. Let's get him."

SubQuestion No : 24

Q.24 Select the most appropriate option to fill in blank number 4.

- Ans
- 1. rain
 - 2. heat
 - 3. snow
 - 4. clouds

Question Type : **MCQ**

Question ID : **630680484359**

Option 1 ID : **6306801891781**

Option 2 ID : **6306801891779**

Option 3 ID : **6306801891778**

Option 4 ID : **6306801891780**

Status : **Answered**

Chosen Option : **1**

Comprehension:

In the following passage, some words have been deleted. Read the passage carefully and select the most appropriate option to fill in each blank.

One day we saw Kala Nag. The monsoons had burst with all their fury, and it had rained in the night. The earth, which had lain parched and dry under the withering heat of the summer sun, was teeming ____1____ life. In little pools, frogs croaked. The muddy ground was littered with ____2____ worms, centipedes and velvety lady-birds. Grass ____3____ begun to show and the banana leaves glistened bright and glossy green. The ____4____ had flooded Kala Nag's hole. He sat in an open patch on the lawn. His shiny black hood glistened in the sunlight. He was big, almost six feet in ____5____ and rounded and fleshy, as my wrist. "Looks like a King Cobra. Let's get him."

SubQuestion No : 25

Q.25 Select the most appropriate option to fill in blank number 5.

- Ans
- 1. looks
 - 2. weight
 - 3. length
 - 4. circles

Question Type : **MCQ**

Question ID : **630680484360**

Option 1 ID : **6306801891785**

Option 2 ID : **6306801891782**

Option 3 ID : **6306801891784**

Option 4 ID : **6306801891783**

Status : **Answered**

Chosen Option : **3**