

## Multi Tasking Non Technical Staff and Havaladar CBIC and CBN Examination 2024

Roll Number	
Candidate Name	
Venue Name	Kashvi Infotech
Exam Date	11/11/2024
Exam Time	9:00 AM - 11:00 AM
Subject	MTS Non Tech Havaladar CBIC and CBN Examination 2024

### Section : Numerical and Mathematical Ability

Q.1 सिद्धि ने अपना स्कूटर ₹28935 में बेचा, जिससे उसे विक्रय मूल्य के  $\frac{1}{5}$  भाग के बराबर लाभ प्राप्त हुआ। लाभ प्रतिशत ज्ञात कीजिए।

- Ans
- 1. 30%
  - 2. 45%
  - 3. 50%
  - 4. 25%

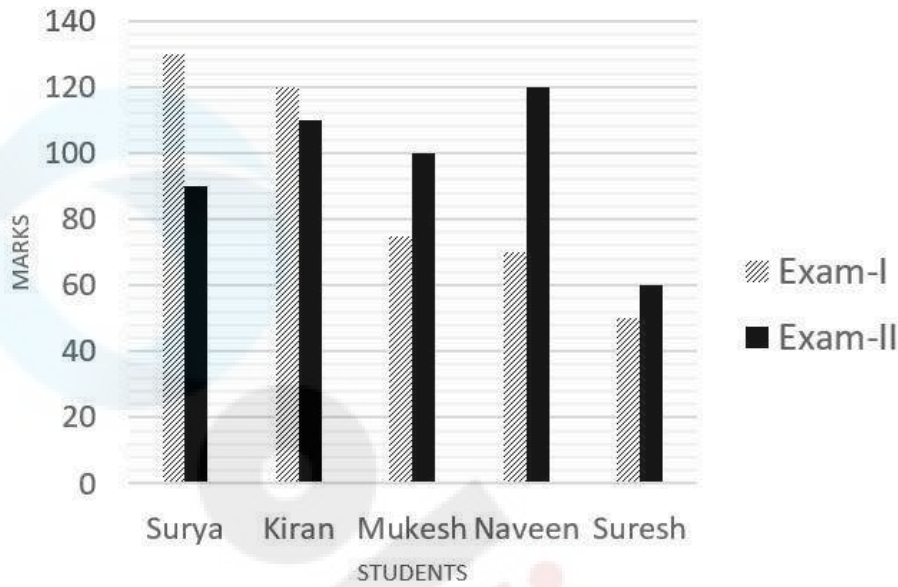
Question Type : MCQ  
Question ID : 630680931118  
Option 1 ID : 6306803649279  
Option 2 ID : 6306803649281  
Option 3 ID : 6306803649280  
Option 4 ID : 6306803649278  
Status : Answered  
Chosen Option : 4

Q.2 एक साड़ी के अंकित मूल्य पर 25% की छूट के बाद 12% की छूट तथा 20% की छूट के बाद 15% की क्रमिक छूटों के बीच का अंतर ₹50 है। साड़ी का अंकित मूल्य कितना है?

- Ans
- 1. ₹5,000
  - 2. ₹625
  - 3. ₹2,500
  - 4. ₹1,250

Question Type : MCQ  
Question ID : 630680397325  
Option 1 ID : 6306801549356  
Option 2 ID : 6306801549357  
Option 3 ID : 6306801549358  
Option 4 ID : 6306801549359  
Status : Answered  
Chosen Option : 2

Q.3 दिया गया बार ग्राफ, परीक्षा I और परीक्षा II में पांच विद्यार्थियों द्वारा प्राप्त अंकों को दर्शाता है। प्रश्न का उत्तर देने के लिए ग्राफ का ध्यानपूर्वक अध्ययन कीजिए।



संदर्भ: Marks = अंक, Students = विद्यार्थी, Surya = सूर्या, Kiran = किरन, Mukesh = मुकेश, Naveen = नवीन, Suresh = सुरेश, Exam-I = परीक्षा-I, Exam-II = परीक्षा-II

परीक्षा-II में नवीन द्वारा प्राप्त अंक, परीक्षा-II में सभी पांच विद्यार्थियों द्वारा प्राप्त कुल अंकों का कितने प्रतिशत है?

- Ans
- 1. 35%
  - 2. 28.5%
  - 3. 25%
  - 4. 31.5%

Question Type : MCQ

Question ID : 630680430585

Option 1 ID : 6306801680364

Option 2 ID : 6306801680363

Option 3 ID : 6306801680362

Option 4 ID : 6306801680365

Status : Answered

Chosen Option : 2

Q.4 10, 35 और 55 का म<sup>०</sup>स<sup>०</sup>प<sup>०</sup> (HCF) ज्ञात करें।

- Ans
- 1. 15
  - 2. 5
  - 3. 10
  - 4. 25

Question Type : MCQ

Question ID : 630680108687

Option 1 ID : 630680421676

Option 2 ID : 630680421677

Option 3 ID : 630680421678

Option 4 ID : 630680421679

Status : Answered

Chosen Option : 2

Q.5 3 वर्षों के लिए 6% प्रति वर्ष की ब्याज दर पर उधार ली गई राशि ₹3000 पर साधारण ब्याज (₹ में) ज्ञात कीजिए।

- Ans
- 1. 500
  - 2. 480
  - 3. 540
  - 4. 580

Question Type : MCQ

Question ID : 630680591939

Option 1 ID : 6306802316226

Option 2 ID : 6306802316225

Option 3 ID : 6306802316223

Option 4 ID : 6306802316224

Status : Answered

Chosen Option : 3

Q.6 तीन मित्र M, N और R ने ₹93,775 की राशि 2 : 4 : 5 के अनुपात में बांटी। R के पास M से कितनी अधिक राशि (₹ में) है?

- Ans
- 1. 35,705
  - 2. 18,775
  - 3. 41,560
  - 4. 25,575

Question Type : MCQ

Question ID : 630680445290

Option 1 ID : 6306801738437

Option 2 ID : 6306801738436

Option 3 ID : 6306801738439

Option 4 ID : 6306801738438

Status : Answered

Chosen Option : 2

Q.7 11 संख्याओं का औसत 17 है। यदि पहली पांच संख्याओं का औसत 16 है और अंतिम पांच संख्याओं का औसत 19 है, तो छठी संख्या ज्ञात कीजिए।

- Ans
- 1. 17
  - 2. 14
  - 3. 12
  - 4. 15

Question Type : MCQ

Question ID : 630680477505

Option 1 ID : 6306801865180

Option 2 ID : 6306801865178

Option 3 ID : 6306801865177

Option 4 ID : 6306801865179

Status : Answered

Chosen Option : 2

Q.8 5 क्रमागत प्राकृत संख्याओं का औसत 7 है। इनमें से सबसे बड़ी संख्या कौन-सी है?

Ans  1. 7

2. 9

3. 8

4. 10

Question Type : MCQ

Question ID : 630680815881

Option 1 ID : 6306803196859

Option 2 ID : 6306803196857

Option 3 ID : 6306803196858

Option 4 ID : 6306803196860

Status : Answered

Chosen Option : 1

Q.9 किस राशि (₹ में) पर 16% प्रति वर्ष की ब्याज दर पर 3 वर्षों में ₹360 का साधारण ब्याज अर्जित होगा?

Ans  1. 375

2. 1500

3. 1000

4. 750

Question Type : MCQ

Question ID : 630680612189

Option 1 ID : 6306802395489

Option 2 ID : 6306802395490

Option 3 ID : 6306802395491

Option 4 ID : 6306802395488

Status : Answered

Chosen Option : 4

Q.10 सोहन ने ₹80 में 16 संतरे खरीदे और ₹168 में 30 संतरे बेच दिए। उसका लाभ प्रतिशत ज्ञात कीजिए।

Ans  1. 11%

2. 14%

3. 10%

4. 12%

Question Type : MCQ

Question ID : 630680456160

Option 1 ID : 6306801781612

Option 2 ID : 6306801781614

Option 3 ID : 6306801781611

Option 4 ID : 6306801781613

Status : Answered

Chosen Option : 2

Q.11 हर वर्ष तेल की दर में 12% की बढ़ोतरी होती है। अगले वर्ष की दर ₹125.44 प्रति लीटर होगी। पिछले वर्ष और इस वर्ष प्रति लीटर तेल की कीमतों के बीच कितना अंतर (₹ में) है?

- Ans
- 1. 14.5
  - 2. 15.5
  - 3. 17.5
  - 4. 12

Question Type : MCQ

Question ID : 630680464505

Option 1 ID : 6306801814056

Option 2 ID : 6306801814058

Option 3 ID : 6306801814057

Option 4 ID : 6306801814055

Status : Answered

Chosen Option : 3

Q.12 निम्न तालिका का अध्ययन कीजिए और उसके नीचे दिए गए प्रश्न का उत्तर दीजिए।

शहर	जनसंख्या	पुरुष : महिला
चंडीगढ़	1090	1 : 1
कालका	900	3 : 1
लुधियाना	1510	3 : 2
अम्बाला	2015	2 : 3
जालंधर	1500	4 : 3

चंडीगढ़ और अम्बाला में पुरुषों की संख्या के बीच कितना अंतर है?

- Ans
- 1. 261
  - 2. 260
  - 3. 262
  - 4. 259

Question Type : MCQ

Question ID : 630680523828

Option 1 ID : 6306802047465

Option 2 ID : 6306802047464

Option 3 ID : 6306802047466

Option 4 ID : 6306802047463

Status : Answered

Chosen Option : 2

Q.13 10 संख्याओं का औसत 29 है। पहली 6 संख्याओं का औसत 22 है और अंतिम 6 संख्याओं का औसत 32 है। 5वीं संख्या और 6ठीं संख्या का औसत क्या है?

Ans  1. 17

2. 24

3. 20

4. 27

Question Type : MCQ

Question ID : 630680406236

Option 1 ID : 6306801584031

Option 2 ID : 6306801584029

Option 3 ID : 6306801584030

Option 4 ID : 6306801584028

Status : Answered

Chosen Option : 2

Q.14 एक बेलन का सम्पूर्ण पृष्ठीय क्षेत्रफल  $2112 \text{ cm}^2$  है। यदि बेलन का वक्र पृष्ठीय क्षेत्रफल इसके सम्पूर्ण पृष्ठीय क्षेत्रफल का  $\frac{5}{12}$  है, तो बेलन की त्रिज्या ज्ञात कीजिए।

( $\pi = \frac{22}{7}$  प्रयोग कीजिए)

Ans  1. 12 cm

2. 14 cm

3. 15 cm

4. 13 cm

Question Type : MCQ

Question ID : 630680798954

Option 1 ID : 6306803130615

Option 2 ID : 6306803130614

Option 3 ID : 6306803130617

Option 4 ID : 6306803130616

Status : Answered

Chosen Option : 2

Q.15 A, B और C एक वृत्ताकार मार्ग के चारों ओर दौड़ना शुरू करते हैं और क्रमशः 16, 20 और 28 सेकंड में एक चक्कर पूरा करते हैं। वे प्रारंभिक बिन्दु पर दोबारा कितने समय में मिलेंगे?

Ans  1. 220 सेकंड

2. 560 सेकंड

3. 510 सेकंड

4. 310 सेकंड

Question Type : MCQ

Question ID : 630680150568

Option 1 ID : 630680582388

Option 2 ID : 630680582391

Option 3 ID : 630680582390

Option 4 ID : 630680582389

Status : Answered

Chosen Option : 2

Q.16 आधार त्रिज्या 49 cm और तिर्यक ऊँचाई 61 cm वाले शंकु का संपूर्ण पृष्ठीय क्षेत्रफल ज्ञात कीजिए।

- Ans
- 1. 15,900 cm<sup>2</sup>
  - 2. 15,940 cm<sup>2</sup>
  - 3. 16,940 cm<sup>2</sup>
  - 4. 16,040 cm<sup>2</sup>

Question Type : MCQ

Question ID : 630680526612

Option 1 ID : 6306802058515

Option 2 ID : 6306802058514

Option 3 ID : 6306802058517

Option 4 ID : 6306802058516

Status : Answered

Chosen Option : 2

Q.17 शोरूम में 20 क्रिकेट गेंदें हैं। इन 20 गेंदों में से कुछ पीली और कुछ सफेद हैं। सभी गेंदों का औसत मूल्य ₹75 है। यदि पीली गेंदों का औसत मूल्य ₹80 और सफेद गेंदों का औसत मूल्य ₹60 है, तो पीली गेंदों की संख्या कितनी है?

- Ans
- 1. 5
  - 2. 15
  - 3. 6
  - 4. 14

Question Type : MCQ

Question ID : 630680815847

Option 1 ID : 6306803196721

Option 2 ID : 6306803196722

Option 3 ID : 6306803196723

Option 4 ID : 6306803196724

Status : Answered

Chosen Option : 1

Q.18 एक चोर ने 300 m की दूरी से एक पुलिसकर्मी को देखा और भागने लगा। ठीक उसी समय, पुलिसकर्मी ने चोर का पीछा करना शुरू कर दिया। यदि चोर की चाल 12 km/h है और पुलिसकर्मी की चाल 15 km/h है, तो चोर को पकड़ने में पुलिसकर्मी द्वारा तय की गई दूरी (km में) कितनी है?

- Ans
- 1. 1.5
  - 2. 2.5
  - 3. 1.0
  - 4. 2.0

Question Type : MCQ

Question ID : 630680262315

Option 1 ID : 6306801018902

Option 2 ID : 6306801018900

Option 3 ID : 6306801018901

Option 4 ID : 6306801018899

Status : Answered

Chosen Option : 1

Q.19 साधारण ब्याज की एक निश्चित दर पर ₹717 की धनराशि 5 वर्षों में ₹874.74 हो जाती है। यदि ब्याज दर 3.1% बढ़ा दी जाए, तो 5 वर्षों में ₹717 पर साधारण ब्याज (₹ में) कितना होगा?

- Ans
- 1. 211.115
  - 2. 279.125
  - 3. 201.135
  - 4. 268.875

Question Type : MCQ

Question ID : 630680397530

Option 1 ID : 6306801550038

Option 2 ID : 6306801550041

Option 3 ID : 6306801550039

Option 4 ID : 6306801550040

Status : Answered

Chosen Option : 4

Q.20 एक बेलन का वक्र पृष्ठीय क्षेत्रफल, बेलन के समतल पृष्ठों के क्षेत्रफल के बराबर है। यदि बेलन का व्यास  $r$  इकाई है, तो बेलन का संपूर्ण पृष्ठीय क्षेत्रफल (वर्ग इकाई में) \_\_\_\_\_ होगा।

- Ans
- 1.  $\frac{\pi r^2}{2}$
  - 2.  $\pi r^2$
  - 3.  $\frac{\pi r^2}{4}$
  - 4.  $2\pi r^2$

Question Type : MCQ

Question ID : 630680526628

Option 1 ID : 6306802058580

Option 2 ID : 6306802058578

Option 3 ID : 6306802058581

Option 4 ID : 6306802058579

Status : Answered

Chosen Option : 3

Section : Reasoning Ability and Problem Solving

Q.1 उस समुच्चय का चयन कीजिए जिसमें संख्याएं ठीक उसी प्रकार संबंधित हैं जिस प्रकार दिए गए समुच्चयों की संख्याएं संबंधित हैं।

(ध्यान दें: संख्याओं को उनके घटक अंकों में अलग-अलग किए बिना पूर्ण संख्याओं पर संक्रियाएं की जानी चाहिए। उदाहरण के लिए संख्या 13 - संख्या 13 पर संक्रियाएं जैसे 13 को जोड़ना/घटाना/गुणा करना आदि किया जा सकता है। 13 को 1 और 3 में अलग-अलग करने की और फिर 1 और 3 पर गणितीय संक्रियाएं करने की अनुमति नहीं है।)

(15, 14, 13)

(12, 10, 8)

Ans  1. (11, 22, 12)

2. (15, 15, 15)

3. (13, 11, 7)

4. (10, 12, 8)

Question Type : MCQ

Question ID : 630680379468

Option 1 ID : 6306801478917

Option 2 ID : 6306801478916

Option 3 ID : 6306801478915

Option 4 ID : 6306801478918

Status : Answered

Chosen Option : 4

Q.2 दी गई श्रृंखला में प्रश्न चिह्न (?) के स्थान पर क्या आना चाहिए?

28, 31, 36, 43, 54, ?

Ans  1. 64

2. 66

3. 67

4. 65

Question Type : MCQ

Question ID : 630680546476

Option 1 ID : 6306802136478

Option 2 ID : 6306802136479

Option 3 ID : 6306802136476

Option 4 ID : 6306802136477

Status : Answered

Chosen Option : 1

**Q.3** नीचे दिए गए कथन/कथनों और निष्कर्षों को ध्यानपूर्वक पढ़िए। आपको मानना है कि दिए गए कथन सत्य हैं चाहे वे समान्यतः ज्ञात तथ्यों से अलग प्रतीत होते हों। आपको निश्चय करना है कि कौन-सा/कौन-से निष्कर्ष तार्किक रूप से दिए गए कथन/कथनों के अनुसार है/हैं।

कथन: सभी कारें, बस हैं। सभी बसें, ट्रक हैं।

निष्कर्ष:

- (I) कुछ ट्रक, कारें हैं।  
(II) सभी कारें, ट्रक हैं।

**Ans**

1. केवल निष्कर्ष (II) कथनों के अनुसार है।  
 2. दोनों निष्कर्ष (I) और (II) कथनों के अनुसार हैं।  
 3. केवल निष्कर्ष (I) कथनों के अनुसार है।  
 4. न तो निष्कर्ष (I) और न ही (II) कथनों के अनुसार है।

Question Type : **MCQ**

Question ID : **630680439100**

Option 1 ID : **6306801714213**

Option 2 ID : **6306801714215**

Option 3 ID : **6306801714212**

Option 4 ID : **6306801714214**

Status : **Answered**

Chosen Option : **2**

**Q.4** सात मित्र - L, M, N, O, D, E और F, एक वृत्ताकार मेज के चारों ओर केंद्र की ओर मुख करके बैठे हैं (परंतु जरूरी नहीं कि वे इसी क्रम में बैठें हों)। O, L के दाएँ से पाँचवें स्थान पर बैठा है। F और O दोनों M के निकटतम पड़ोसी हैं। N और L, E के निकटतम पड़ोसी हैं। D के ठीक बाएँ कौन बैठा है?

**Ans**

1. O  
 2. L  
 3. M  
 4. F

Question Type : **MCQ**

Question ID : **630680378914**

Option 1 ID : **6306801476703**

Option 2 ID : **6306801476704**

Option 3 ID : **6306801476705**

Option 4 ID : **6306801476706**

Status : **Answered**

Chosen Option : **1**

Q.5 एक निश्चित कूट भाषा में, 'FROM' को '7519' के रूप में कूटबद्ध किया जाता है और 'MADE' को '2146' के रूप में कूटबद्ध किया जाता है। दी गई कूट भाषा में 'M' के लिए कूट क्या है?

Ans  1. 7

2. 9

3. 2

4. 1

Question Type : MCQ

Question ID : 630680388001

Option 1 ID : 6306801512621

Option 2 ID : 6306801512620

Option 3 ID : 6306801512619

Option 4 ID : 6306801512618

Status : Answered

Chosen Option : 1

Q.6 DA2, GD10 से एक निश्चित प्रकार से संबंधित है। उसी प्रकार, SP7, VS35 से संबंधित है। समान तर्क का अनुसरण करते हुए JG10 निम्नलिखित में से किससे संबंधित है?

Ans  1. MJ70

2. GF50

3. MJ50

4. GF70

Question Type : MCQ

Question ID : 630680438836

Option 1 ID : 6306801713156

Option 2 ID : 6306801713157

Option 3 ID : 6306801713159

Option 4 ID : 6306801713158

Status : Answered

Chosen Option : 2

Q.7 दिए गए कथनों और निष्कर्षों को ध्यानपूर्वक पढ़िए। यह मानते हुए कि कथनों में दी गई जानकारी सत्य है, चाहे वह सामान्यतः ज्ञात तथ्यों से भिन्न प्रतीत होती हो और निर्णय लीजिए कि दिए गए निष्कर्षों में से कौन-सा/कौन-से निष्कर्ष कथनों का तार्किक रूप से अनुसरण करता है/करते हैं।

कथन:

सभी शर्ट, पैट हैं।  
कुछ शर्ट, घड़ियाँ हैं।

निष्कर्ष:

(I) कुछ पैट, घड़ियाँ हैं।  
(II) कुछ घड़ियाँ, शर्ट नहीं हैं।

- Ans  1. केवल निष्कर्ष (I) अनुसरण करता है  
 2. केवल निष्कर्ष (II) अनुसरण करता है  
 3. दोनों निष्कर्ष (I) और निष्कर्ष (II) अनुसरण करते हैं  
 4. न तो निष्कर्ष (I) और न ही निष्कर्ष (II) अनुसरण करता है

Question Type : MCQ

Question ID : 630680419656

Option 1 ID : 6306801637117

Option 2 ID : 6306801637118

Option 3 ID : 6306801637119

Option 4 ID : 6306801637120

Status : Answered

Chosen Option : 2

Q.8 एक निश्चित कूट भाषा में, 'SLAM' को '4918' के रूप में कूटबद्ध किया जाता है और 'LAME' को '2184' के रूप में कूटबद्ध किया जाता है। दी गई भाषा में 'S' के लिए कूट क्या है?

- Ans  1. 1  
 2. 8  
 3. 9  
 4. 4

Question Type : MCQ

Question ID : 630680378942

Option 1 ID : 6306801476817

Option 2 ID : 6306801476818

Option 3 ID : 6306801476816

Option 4 ID : 6306801476815

Status : Answered

Chosen Option : 4

Q.9 चिह्न + और ÷ तथा संख्या 5 और 10 को आपस में बदलने पर, कौन-सा विकल्प सही होगा?

Ans  1.  $5 \div 1 + 10 = 1$

2.  $3 + 5 \div 10 = 2$

3.  $5 + 10 \div 2 = 4$

4.  $6 \div 10 + 5 = 6$

Question Type : **MCQ**

Question ID : **630680398026**

Option 1 ID : **6306801552121**

Option 2 ID : **6306801552119**

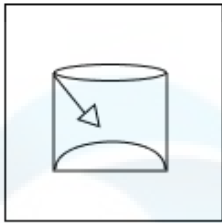
Option 3 ID : **6306801552118**

Option 4 ID : **6306801552120**

Status : **Answered**

Chosen Option : **3**

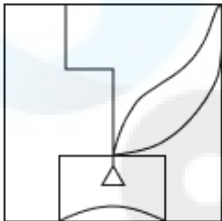
Q.10 उस विकल्प आकृति का चयन कीजिए, जिसमें दी गई आकृति (X) उसके भाग के रूप में सन्निहित है (घूर्णन की अनुमति नहीं है)।



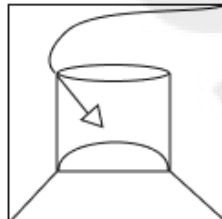
(X)

Ans

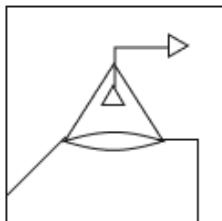
✗ 1.



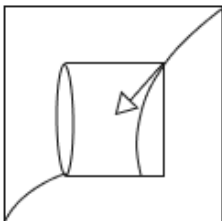
✓ 2.



✗ 3.



✗ 4.



Question Type : MCQ

Question ID : 630680487616

Option 1 ID : 6306801904534

Option 2 ID : 6306801904535

Option 3 ID : 6306801904536

Option 4 ID : 6306801904537

Status : Answered

Chosen Option : 1

Q.11 एक कूट भाषा में, 'PORTER' को 'RVYALP' के रूप में लिखा जाता है और 'REMOTE' को 'ELTVAR' के रूप में लिखा जाता है। उसी भाषा में 'CLOUDY' को किस प्रकार लिखा जाएगा?

Ans  1. YTVBKC

2. XSVBKC

3. XTVBKC

4. YSVBKC

Question Type : MCQ

Question ID : 630680465223

Option 1 ID : 6306801816927

Option 2 ID : 6306801816928

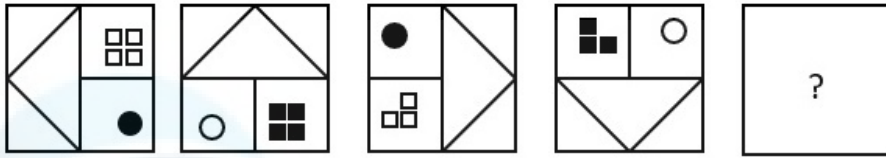
Option 3 ID : 6306801816930

Option 4 ID : 6306801816929

Status : Answered

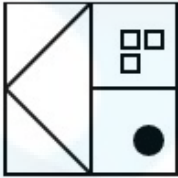
Chosen Option : 4

Q.12 विकल्पों में से उस आकृति का चयन कीजिए जो प्रश्न-चिह्न (?) के स्थान पर आ सकती है और श्रृंखला को तार्किक रूप से पूरा कर सकती है।

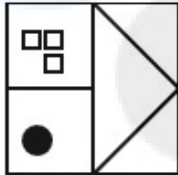


Ans

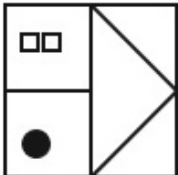
1.



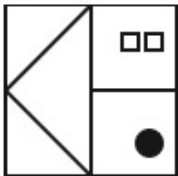
2.



3.



4.



Question Type : **MCQ**

Question ID : **630680279341**

Option 1 ID : **6306801085633**

Option 2 ID : **6306801085632**

Option 3 ID : **6306801085631**

Option 4 ID : **6306801085634**

Status : **Answered**

Chosen Option : **3**

Q.13 4, किसी निश्चित तर्क का अनुसरण करते हुए, 34 से संबंधित है। 7, समान तर्क का अनुसरण करते हुए, 61 से संबंधित है। समान तर्क का अनुसरण करते हुए, 11, निम्नलिखित में से किससे संबंधित है?

(ध्यान दें: संख्याओं को उनके घटक अंकों में अलग-अलग किए बिना पूर्ण संख्याओं पर संक्रियाएं की जानी चाहिए। उदाहरण के लिए संख्या 13 - संख्या 13 पर संक्रियाएं जैसे 13 को जोड़ना/घटाना/गुणा करना आदि किया जा सकता है। 13 को 1 और 3 में अलग-अलग करने की और फिर 1 और 3 पर गणितीय संक्रियाएं करने की अनुमति नहीं है।)

- Ans
- 1. 99
  - 2. 98
  - 3. 97
  - 4. 88

Question Type : MCQ

Question ID : 630680450173

Option 1 ID : 6306801757841

Option 2 ID : 6306801757840

Option 3 ID : 6306801757839

Option 4 ID : 6306801757842

Status : Answered

Chosen Option : 4

Q.14 दिए गए विकल्पों में से उस आकृति का चयन कीजिए जो निम्न श्रृंखला में प्रश्नवाचक चिह्न (?) के स्थान पर आएगी?



Ans

- 1.
- 2.
- 3.
- 4.

Question Type : MCQ

Question ID : 630680110366

Option 1 ID : 630680427804

Option 2 ID : 630680427805

Option 3 ID : 630680427806

Option 4 ID : 630680427803

Status : Answered

Chosen Option : 2

Q.15 JHMK अंग्रेजी वर्णमाला क्रम के आधार पर एक निश्चित तरीके से PNSQ से संबंधित है। NLQO उसी तरीके से TRWU से संबंधित है। उसी तर्क का अनुसरण करते हुए QOTR निम्नलिखित में से किससे संबंधित है?

- Ans  1. UWZX  
 2. WUZX  
 3. UWXZ  
 4. WUXZ

Question Type : MCQ

Question ID : 630680435715

Option 1 ID : 6306801700783

Option 2 ID : 6306801700781

Option 3 ID : 6306801700784

Option 4 ID : 6306801700782

Status : Answered

Chosen Option : 1

Q.16 निम्नलिखित समीकरण को सही करने के लिए किन दो संख्याओं को आपस में बदला जाना चाहिए?

$$(54 \div 18) \times 5 + 9 \times 2 - 45 + 12 \times 3 = 57$$

(ध्यान दें: अदला-बदली पूरी संख्या की होनी चाहिए, न कि दी गई संख्या के अलग-अलग अंकों की।)

- Ans  1. 9 और 12  
 2. 5 और 3  
 3. 18 और 9  
 4. 2 और 5

Question Type : MCQ

Question ID : 630680397649

Option 1 ID : 6306801550518

Option 2 ID : 6306801550519

Option 3 ID : 6306801550520

Option 4 ID : 6306801550517

Status : Answered

Chosen Option : 3

Q.17 एक निश्चित कूट भाषा में, 'park his vehicle' को 'ht fo mr' लिखा जाता है और 'go to park' को 'ty up mr' लिखा जाता है। उसी कूट भाषा में 'park' को कैसे लिखा जाएगा?

- Ans  1. fo  
 2. up  
 3. ht  
 4. mr

Question Type : MCQ

Question ID : 630680439116

Option 1 ID : 6306801714279

Option 2 ID : 6306801714276

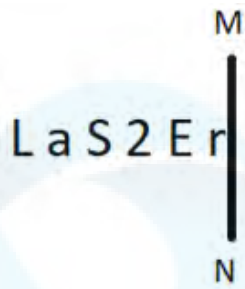
Option 3 ID : 6306801714277

Option 4 ID : 6306801714278

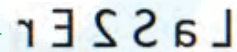

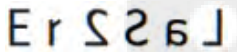
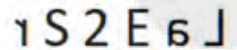
Status : Answered

Chosen Option : 2

Q.18 दी गई आकृति के उस सही दर्पण प्रतिबिंब को चुनिए, जो नीचे दर्शाए गए अनुसार दर्पण को MN पर रखने पर बनेगा।



Ans

- ✓ 1. 
- ✗ 2. 
- ✗ 3. 
- ✗ 4. 

Question Type : MCQ

Question ID : 630680525234

Option 1 ID : 6306802053023

Option 2 ID : 6306802053021

Option 3 ID : 6306802053020

Option 4 ID : 6306802053022

Status : Answered

Chosen Option : 2

Q.19 अंग्रेजी वर्णमाला क्रम के आधार पर दी गई श्रृंखला में प्रश्न चिह्न (?) के स्थान पर क्या आना चाहिए?  
HCJ, JGL, LKN, ?, PSR

Ans

- ✗ 1. OOP
- ✗ 2. NQP
- ✗ 3. MST
- ✓ 4. NOP

Question Type : MCQ

Question ID : 630680334788

Option 1 ID : 6306801302412

Option 2 ID : 6306801302410

Option 3 ID : 6306801302411

Option 4 ID : 6306801302409

Status : Answered

Chosen Option : 2

Q.20 A, B, C, D, E, F और G एक वृत्ताकार मेज के चारों ओर केंद्र की ओर मुख करके बैठे हैं (परंतु जरूरी नहीं कि वे इसी क्रम में बैठे हों)। E, A के दाएँ से दूसरे स्थान पर बैठा है। B, D के दाएँ से चौथे स्थान पर बैठा है। E और G का निकटतम पड़ोसी F है। C के दाएँ से तीसरे स्थान पर कौन बैठा है?

Ans  1. E

2. D

3. F

4. G

Question Type : MCQ

Question ID : 630680401316

Option 1 ID : 6306801565065

Option 2 ID : 6306801565067

Option 3 ID : 6306801565066

Option 4 ID : 6306801565068

Status : Answered

Chosen Option : 2

Section : General Awareness

Q.1 जून 2023 में, निम्नलिखित में से किस राज्य सरकार ने राज्य के भीतर महिलाओं और ट्रांस व्यक्तियों (trans people) के लिए मुफ्त बस यात्रा हेतु 'शक्ति' योजना की घोषणा की?

Ans  1. तेलंगाना

2. केरल

3. कर्नाटक

4. तमिलनाडु

Question Type : MCQ

Question ID : 630680467191

Option 1 ID : 6306801824712

Option 2 ID : 6306801824709

Option 3 ID : 6306801824710

Option 4 ID : 6306801824711

Status : Answered

Chosen Option : 1

Q.2 लोकपाल या लोकायुक्त (आंबुड्समेन) जैसी व्यवस्था (institution) सबसे पहले निम्नलिखित में से किस देश में बनाई गई थी?

Ans  1. ब्रिटेन

2. न्यूज़ीलैंड

3. स्वीडन

4. नॉर्वे

Question Type : MCQ

Question ID : 630680162993

Option 1 ID : 630680631201

Option 2 ID : 630680631200

Option 3 ID : 630680631202

Option 4 ID : 630680631203

Status : Answered

Chosen Option : 1

Q.3 भारत सरकार द्वारा पंडित दीन दयाल उपाध्याय ग्रामीण कौशल्य योजना (स्कीम) की घोषणा किस वर्ष की गई थी?

- Ans  1. 2012  
 2. 2014  
 3. 2013  
 4. 2010

Question Type : MCQ

Question ID : 630680695375

Option 1 ID : 6306802723739

Option 2 ID : 6306802723741

Option 3 ID : 6306802723740

Option 4 ID : 6306802723738

Status : Answered

Chosen Option : 1

Q.4 वर्ष 1928 में हिंदुस्तान सोशलिस्ट रिपब्लिकन एसोसिएशन (Hindustan Socialist Republican Association) की स्थापना कहाँ हुई थी?

- Ans  1. कानपुर  
 2. आगरा  
 3. लाहौर  
 4. दिल्ली

Question Type : MCQ

Question ID : 630680511608

Option 1 ID : 6306801999555

Option 2 ID : 6306801999554

Option 3 ID : 6306801999557

Option 4 ID : 6306801999556

Status : Answered

Chosen Option : 4

Q.5 भामिदिपती श्रीवल्ली रश्मिका (Bhamidipati Srivalli Rashmika) किस खेल से जुड़ी हैं?

- Ans  1. फुटबॉल  
 2. खो-खो  
 3. लॉन टेनिस  
 4. बैडमिंटन

Question Type : MCQ

Question ID : 630680543558

Option 1 ID : 6306802125038

Option 2 ID : 6306802125039

Option 3 ID : 6306802125037

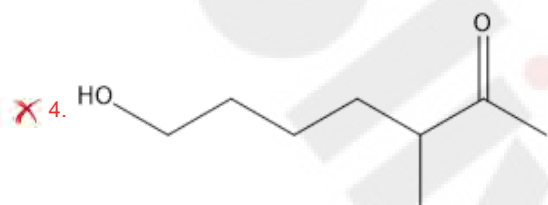
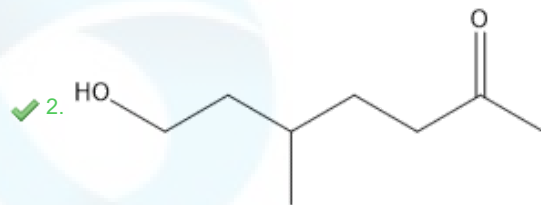
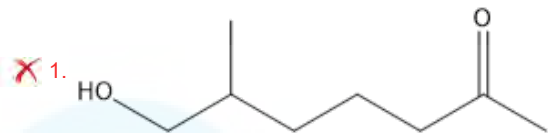
Option 4 ID : 6306802125040

Status : Answered

Chosen Option : 3

Q.6 निम्नलिखित में से किस संरचना का आईयूपीएसी (IUPAC) नाम 7-हाइड्रॉक्सी-5-मेथिलहेप्टेन-2-वन (7-hydroxy-5-methylheptan-2-one) है?

Ans



Question Type : MCQ

Question ID : 630680472240

Option 1 ID : 6306801844693

Option 2 ID : 6306801844691

Option 3 ID : 6306801844694

Option 4 ID : 6306801844692

Status : Answered

Chosen Option : 1

Q.7 मकर संक्रांति के अवसर पर सबरीमाला मंदिर में कौन-सा त्योहार मनाया जाता है?

Ans

1. विषु (Vishu)

2. उगादी (Ugadi)

3. ओणम (Onam)

4. मकरविलक्कु (Makaravilakku)

Question Type : MCQ

Question ID : 630680449855

Option 1 ID : 6306801756591

Option 2 ID : 6306801756593

Option 3 ID : 6306801756594

Option 4 ID : 6306801756592

Status : Answered

Chosen Option : 2

Q.8 अनुच्छेद \_\_\_\_\_ के अनुसार पूरी तरह से संघ निधि (State funds) से संचालित किसी भी शैक्षणिक संस्थान में कोई धार्मिक शिक्षा प्रदान नहीं की जाएगी।

- Ans
- 1. 29
  - 2. 30
  - 3. 27
  - 4. 28

Question Type : MCQ  
Question ID : 630680549010  
Option 1 ID : 6306802146526  
Option 2 ID : 6306802146527  
Option 3 ID : 6306802146524  
Option 4 ID : 6306802146525  
Status : Answered  
Chosen Option : 1

Q.9 केरल और कर्नाटक के तटीय क्षेत्र में मानसून से पहले की वर्षा को \_\_\_\_\_ के रूप में जाना जाता है।

- Ans
- 1. काल बैसाखी (Kalbaisakhi)
  - 2. मंजरी वर्षण (Blossom shower)
  - 3. बोर्डोईसिला (Bardoisila)
  - 4. आम्र बौछार (Mango shower)

Question Type : MCQ  
Question ID : 630680321622  
Option 1 ID : 6306801251187  
Option 2 ID : 6306801251185  
Option 3 ID : 6306801251188  
Option 4 ID : 6306801251186  
Status : Answered  
Chosen Option : 1

Q.10 निम्नलिखित में से कौन-सा भारत का पहला नियोजित औद्योगिक शहर है?

- Ans
- 1. जमशेदपुर
  - 2. नवी मुंबई
  - 3. चंडीगढ़
  - 4. इंदौर

Question Type : MCQ  
Question ID : 630680511305  
Option 1 ID : 6306801998353  
Option 2 ID : 6306801998352  
Option 3 ID : 6306801998350  
Option 4 ID : 6306801998351  
Status : Answered  
Chosen Option : 2

Q.11 पूर्व भारतीय अभिनेत्री वैजयंतीमाला किस शास्त्रीय नृत्य शैली में प्रशिक्षित थीं?

- Ans
- 1. मणिपुरी
  - 2. सत्रीया
  - 3. ओडिसी
  - 4. भरतनाट्यम

Question Type : MCQ

Question ID : 630680537187

Option 1 ID : 6306802100019

Option 2 ID : 6306802100018

Option 3 ID : 6306802100016

Option 4 ID : 6306802100017

Status : Answered

Chosen Option : 4

Q.12 जब लावा \_\_\_\_\_ ठंडा होता है, तो वितलीय शैल (Plutonic rocks) बनते हैं।

- Ans
- 1. दुर्बलतामंडल में
  - 2. भूपर्पटी में
  - 3. सतह पर
  - 4. क्रोड में

Question Type : MCQ

Question ID : 630680456053

Option 1 ID : 6306801781158

Option 2 ID : 6306801781155

Option 3 ID : 6306801781156

Option 4 ID : 6306801781157

Status : Answered

Chosen Option : 4

Q.13 मोहेन-जो-दारो से निकलने वाली नालियों (Drains) में \_\_\_\_\_ के दरवाजे थे जो संभवतः आवारा या नकारात्मक तत्वों को उस रास्ते से शहर में प्रवेश करने से रोकने के लिए रात में बंद कर दिए जाते थे।

- Ans
- 1. लकड़ी
  - 2. बलुआ पत्थर
  - 3. मिट्टी
  - 4. लोहे

Question Type : MCQ

Question ID : 630680511899

Option 1 ID : 6306802000567

Option 2 ID : 6306802000569

Option 3 ID : 6306802000568

Option 4 ID : 6306802000566

Status : Answered

Chosen Option : 2

Q.14 वत्स महाजनपद (Vatsa Mahajanapada) की राजधानी निम्नलिखित में से कौन-सी थी?

- Ans  1. वैशाली (Vaishali)  
 2. कौशांबी (Kausambi)  
 3. अहिच्छत्र (Ahichchatra)  
 4. उज्जयिनी (Ujjayini)

Question Type : MCQ

Question ID : 630680112618

Option 1 ID : 630680436166

Option 2 ID : 630680436168

Option 3 ID : 630680436169

Option 4 ID : 630680436167

Status : Answered

Chosen Option : 1

Q.15 प्राचीन संस्कृत ग्रंथों से शिक्षा प्रदान करने के लिए 'बनारस हिंदू कॉलेज' की स्थापना निम्नलिखित में से किस वर्ष की गई थी?

- Ans  1. 1794  
 2. 1791  
 3. 1801  
 4. 1790

Question Type : MCQ

Question ID : 630680652576

Option 1 ID : 6306802554784

Option 2 ID : 6306802554783

Option 3 ID : 6306802554785

Option 4 ID : 6306802554782

Status : Answered

Chosen Option : 2

Q.16 नीतू घणघस (Nitu Ghanghas) ने किस भार वर्ग में आईबीए महिला विश्व मुक्केबाजी चैम्पियनशिप प्रतियोगिता (IBA Women's World Boxing Championship event), 2023 जीती?

- Ans  1. 50 kg  
 2. 81 kg  
 3. 75 kg  
 4. 48 kg

Question Type : MCQ

Question ID : 630680571843

Option 1 ID : 6306802236269

Option 2 ID : 6306802236271

Option 3 ID : 6306802236270

Option 4 ID : 6306802236268

Status : Answered

Chosen Option : 1

Q.17 2017 में, दिल्ली के मैडम तुसाद संग्रहालय में जगह बनाने वाली पहली भारतीय गायिका कौन बनीं?

- Ans
- 1. कविता कृष्णमूर्ति
  - 2. सुनिधि चौहान
  - 3. श्रेया घोषाल
  - 4. अलीशा चिनॉय

Question Type : MCQ

Question ID : 630680482476

Option 1 ID : 6306801884379

Option 2 ID : 6306801884380

Option 3 ID : 6306801884381

Option 4 ID : 6306801884378

Status : Answered

Chosen Option : 1

Q.18 31 अक्टूबर 2023 तक की स्थिति के अनुसार, 17वीं लोकसभा में सबसे कम उम्र की संसद सदस्य (उम्र के संदर्भ में), चंद्रानी मुर्मू (Chandrani Murmu), किस राजनीतिक दल का प्रतिनिधित्व करती हैं?

- Ans
- 1. आम आदमी पार्टी
  - 2. भारतीय राष्ट्रीय कांग्रेस
  - 3. बीजू जनता दल
  - 4. भारतीय जनता पार्टी

Question Type : MCQ

Question ID : 630680468931

Option 1 ID : 6306801831494

Option 2 ID : 6306801831493

Option 3 ID : 6306801831492

Option 4 ID : 6306801831491

Status : Answered

Chosen Option : 2

Q.19 केंद्रक के भीतर किस संरचना में DNA के रूप में आनुवंशिक सूचना होती है?

- Ans
- 1. गुणसूत्र
  - 2. केंद्रिका
  - 3. रसधानी
  - 4. राइबोसोम

Question Type : MCQ

Question ID : 630680540499

Option 1 ID : 6306802113072

Option 2 ID : 6306802113071

Option 3 ID : 6306802113074

Option 4 ID : 6306802113073

Status : Answered

Chosen Option : 1

Q.20 मानव विकास सूचकांक 2023-24 के अनुसार, भारत का स्थान क्या है?

- Ans
- 1. 129
  - 2. 132
  - 3. 130
  - 4. 134

Question Type : MCQ  
Question ID : 630680697389  
Option 1 ID : 6306802731645  
Option 2 ID : 6306802731643  
Option 3 ID : 6306802731642  
Option 4 ID : 6306802731644  
Status : Answered  
Chosen Option : 1

Q.21 निम्नलिखित में से कौन दिल्ली सल्तनत का पहला सुल्तान था, जिसने ख्वाजा मुइनुद्दीन चिश्ती (Khwaja Muinuddin Chishti) की दरगाह अजमेर की यात्रा की थी?

- Ans
- 1. मुहम्मद बिन तुगलक
  - 2. गयासुद्दीन बलबन
  - 3. खिज़्र ख़ाँ
  - 4. जलालुद्दीन खिलजी

Question Type : MCQ  
Question ID : 630680282921  
Option 1 ID : 6306801099817  
Option 2 ID : 6306801099815  
Option 3 ID : 6306801099818  
Option 4 ID : 6306801099816  
Status : Answered  
Chosen Option : 1

Q.22 निम्नलिखित में से कौन-सा एक वाणिज्यिक बैंक (commercial bank) नहीं है?

- Ans
- 1. डेवलपमेंट बैंक ऑफ सिंगापुर (Development Bank of Singapore)
  - 2. भारतीय स्टेट बैंक (State Bank of India)
  - 3. भारतीय औद्योगिक ऋण और निवेश निगम बैंक (The Industrial Credit and Investment Corporation of India Bank)
  - 4. राष्ट्रीय कृषि और ग्रामीण विकास बैंक (National Bank for Agriculture and Rural Development)

Question Type : MCQ  
Question ID : 630680422538  
Option 1 ID : 6306801648588  
Option 2 ID : 6306801648590  
Option 3 ID : 6306801648591  
Option 4 ID : 6306801648589  
Status : Answered  
Chosen Option : 1

Q.23 निम्नलिखित में से किसे वर्ष 2022 के लिए नृत्य कलानिधि (Nriya Kalanidhi) प्राप्त हुआ?

- Ans
- 1. चित्रा विश्वेश्वरन (Chitra Visweswaran)
  - 2. गीता चंद्रन (Geeta Chandran)
  - 3. कल्याणसुंदरम पिल्लई (Kalyanasundaram Pillai)
  - 4. ब्राघा बेसेल (Bragha Bessell)

Question Type : MCQ

Question ID : 630680511994

Option 1 ID : 6306802000947

Option 2 ID : 6306802000946

Option 3 ID : 6306802000949

Option 4 ID : 6306802000948

Status : Answered

Chosen Option : 1

Q.24 सानिया मिर्जा की आत्मकथा का शीर्षक क्या है?

- Ans
- 1. ऐस अगेस्ट ऑड्स (Ace Against Odds)
  - 2. चेंजिंग इंडिया (Changing India)
  - 3. द टेस्ट ऑफ माय लाइफ (The Test of My Life)
  - 4. विंग्स ऑफ फायर (Wings of Fire)

Question Type : MCQ

Question ID : 630680450145

Option 1 ID : 6306801757727

Option 2 ID : 6306801757729

Option 3 ID : 6306801757728

Option 4 ID : 6306801757730

Status : Answered

Chosen Option : 2

Q.25 विटामिन D \_\_\_\_\_ द्वारा धूप का उपयोग करके संश्लेषित होता है।

- Ans
- 1. रक्त शिराएँ
  - 2. पैर
  - 3. मुँह
  - 4. त्वचा

Question Type : MCQ

Question ID : 630680276557

Option 1 ID : 6306801074723

Option 2 ID : 6306801074726

Option 3 ID : 6306801074725

Option 4 ID : 6306801074724

Status : Answered

Chosen Option : 1

Q.1 Select the most appropriate synonym of the given word.  
Excessive

- Ans  1. Scarce  
 2. Dirty  
 3. Exorbitant  
 4. Cute

Question Type : MCQ  
Question ID : 630680726523  
Option 1 ID : 6306802847101  
Option 2 ID : 6306802847099  
Option 3 ID : 6306802847100  
Option 4 ID : 6306802847098  
Status : Answered  
Chosen Option : 3

Q.2 Select the option that can be used as a one-word substitute for the highlighted group of words in the given sentence.

There is an increasing number of people who do not believe in the existence of God.

- Ans  1. cynics  
 2. seers  
 3. fugitives  
 4. atheists

Question Type : MCQ  
Question ID : 630680564338  
Option 1 ID : 6306802206308  
Option 2 ID : 6306802206307  
Option 3 ID : 6306802206310  
Option 4 ID : 6306802206309  
Status : Answered  
Chosen Option : 4

Q.3 Select the most appropriate option that can substitute the underlined segment in the given sentence.

The Lal Chowk is a large open square surrounded by mansions of the wealthiest classes than educated ones.

- Ans  1. more wealthier  
 2. wealthy  
 3. the wealthy  
 4. wealthier

Question Type : MCQ  
Question ID : 630680514605  
Option 1 ID : 6306802011048  
Option 2 ID : 6306802011046  
Option 3 ID : 6306802011047  
Option 4 ID : 6306802011045  
Status : Answered  
Chosen Option : 2

Q.4 Select the most appropriate ANTONYM of the given word.

Boisterous

- Ans  1. Cheerful  
 2. Noisy  
 3. Quiet  
 4. Bossy

Question Type : MCQ

Question ID : 630680436161

Option 1 ID : 6306801702585

Option 2 ID : 6306801702586

Option 3 ID : 6306801702588

Option 4 ID : 6306801702587

Status : Answered

Chosen Option : 1

Q.5 Select the appropriate option that can substitute the underlined word in the following sentence to make it grammatically correct.

She is the most active and the more energetic social worker in our team.

- Ans  1. very  
 2. the most  
 3. the much  
 4. most

Question Type : MCQ

Question ID : 630680514629

Option 1 ID : 6306802011143

Option 2 ID : 6306802011141

Option 3 ID : 6306802011142

Option 4 ID : 6306802011144

Status : Answered

Chosen Option : 3

Q.6 Select the INCORRECTLY spelt word.

- Ans  1. sufficient  
 2. succluent  
 3. subterfuge  
 4. sanguinity

Question Type : MCQ

Question ID : 630680540460

Option 1 ID : 6306802112924

Option 2 ID : 6306802112925

Option 3 ID : 6306802112926

Option 4 ID : 6306802112923

Status : Answered

Chosen Option : 2

**Q.7** Select the correctly spelt word to fill in the blank.  
Macbeth believed the witches' \_\_\_\_\_ about his future.

- Ans  1. tyranny  
 2. prophecy  
 3. suprise  
 4. questionnaire

Question Type : **MCQ**  
Question ID : **630680319165**  
Option 1 ID : **6306801241567**  
Option 2 ID : **6306801241566**  
Option 3 ID : **6306801241565**  
Option 4 ID : **6306801241568**  
Status : **Answered**  
Chosen Option : **3**

**Q.8** Select the most appropriate ANTONYM of the underlined word.

The strongest suit of documentary theatre lies not only in political insight and ignorance, but also in the variety of aesthetic approaches it makes possible.

- Ans  1. Mistake  
 2. Acumen  
 3. Perspicuity  
 4. Discrimination

Question Type : **MCQ**  
Question ID : **630680815284**  
Option 1 ID : **6306803194430**  
Option 2 ID : **6306803194429**  
Option 3 ID : **6306803194432**  
Option 4 ID : **6306803194431**  
Status : **Answered**  
Chosen Option : **3**

**Q.9** The following sentence has been divided into parts. One of them may contain an error.  
Select the part that contains the error from the given options. If you don't find any error, mark 'No error' as your answer.  
She often goes for a walk / with her dog / in the night.

- Ans  1. with her dog  
 2. in the night  
 3. She often goes for a walk  
 4. No error

Question Type : **MCQ**  
Question ID : **630680129868**  
Option 1 ID : **630680503063**  
Option 2 ID : **630680503064**  
Option 3 ID : **630680503062**  
Option 4 ID : **630680503065**  
Status : **Answered**  
Chosen Option : **3**

Q.10 Select the most appropriate idiom for the highlighted text in the given sentence.

The company was rapidly deteriorating when the chairman and some top officials were accused of fraud.

- Ans  1. hitting the sack  
 2. hell in a handbasket  
 3. holding your horses  
 4. head over heels

Question Type : **MCQ**  
Question ID : **630680815288**  
Option 1 ID : **6306803194445**  
Option 2 ID : **6306803194446**  
Option 3 ID : **6306803194447**  
Option 4 ID : **6306803194448**  
Status : **Answered**  
Chosen Option : 1

Q.11 Select the most appropriate option to fill in the blank.

The teacher \_\_\_\_\_ the students to think critically about the topic.

- Ans  1. acquiesced  
 2. assented  
 3. admonished  
 4. advised

Question Type : **MCQ**  
Question ID : **630680798900**  
Option 1 ID : **6306803130409**  
Option 2 ID : **6306803130408**  
Option 3 ID : **6306803130407**  
Option 4 ID : **6306803130406**  
Status : **Answered**  
Chosen Option : 4

Q.12 Select the most appropriate option that can substitute the underlined words in the given sentence.

We rely on Hiren because he is most intelligent than many other boys in our school quiz team.

- Ans  1. least intelligent  
 2. less intelligent  
 3. more intelligent  
 4. only intelligent

Question Type : **MCQ**  
Question ID : **630680514576**  
Option 1 ID : **6306802010931**  
Option 2 ID : **6306802010930**  
Option 3 ID : **6306802010929**  
Option 4 ID : **6306802010932**  
Status : **Answered**  
Chosen Option : 3

**Q.13** Select the word segment that can substitute the bracketed words correctly and complete the sentence meaningfully.  
(My husband and I) are from Varanasi.

- Ans  1. Either of us
2. Everyone of us
3. Both of us
4. Each one of us

Question Type : **MCQ**  
Question ID : **630680404293**  
Option 1 ID : **6306801576675**  
Option 2 ID : **6306801576677**  
Option 3 ID : **6306801576674**  
Option 4 ID : **6306801576676**  
Status : **Answered**  
Chosen Option : **3**

**Q.14** Select the most appropriate option to fill in the blank and complete the given phrase.

She was on cloud \_\_\_\_\_ after receiving the scholarship.

- Ans  1. seven
2. ten
3. nine
4. eight

Question Type : **MCQ**  
Question ID : **630680421334**  
Option 1 ID : **6306801643803**  
Option 2 ID : **6306801643806**  
Option 3 ID : **6306801643805**  
Option 4 ID : **6306801643804**  
Status : **Answered**  
Chosen Option : **2**

**Q.15** The following sentence has been split into four segments. Identify the segment that contains a grammatical/spelling error.

She has taken / nothing from yesterday / and is feeling / nauseatic now.

- Ans  1. nauseatic now
2. and is feeling
3. She has taken
4. nothing from yesterday

Question Type : **MCQ**  
Question ID : **630680702957**  
Option 1 ID : **6306802753583**  
Option 2 ID : **6306802753582**  
Option 3 ID : **6306802753580**  
Option 4 ID : **6306802753581**  
Status : **Answered**  
Chosen Option : **4**

Q.16 Select the most appropriate option that can substitute the underlined segment in the given sentence. If there is no need to substitute it, select 'No substitution'.

This was not only exciting but rewarding because I was able to experience adventure for the first time in my life.

- Ans
- 1. No substitution
  - 2. This was not only exciting but also rewarded
  - 3. This was not only exciting but also rewarding
  - 4. This was not only excited but also rewarding

Question Type : MCQ  
Question ID : 630680546053  
Option 1 ID : 6306802134791  
Option 2 ID : 6306802134790  
Option 3 ID : 6306802134788  
Option 4 ID : 6306802134789  
Status : Answered  
Chosen Option : 3

Q.17 Select the most appropriate synonym of the underlined word.  
Army officers are given training to decipher the secret messages sent during war time.

- Ans
- 1. Encode
  - 2. Decode
  - 3. Decide
  - 4. Defy

Question Type : MCQ  
Question ID : 630680204385  
Option 1 ID : 630680792624  
Option 2 ID : 630680792625  
Option 3 ID : 630680792626  
Option 4 ID : 630680792623  
Status : Answered  
Chosen Option : 4

Q.18 Select the option that has used the correct tense.

- Ans
- 1. He realised he had forgotten his keys after he was left the house.
  - 2. He realised he had forgotten his keys after he has leave the house.
  - 3. He realised he had forgotten his keys after he had leave the house.
  - 4. He realised he had forgotten his keys after he had left the house.

Question Type : MCQ  
Question ID : 630680754501  
Option 1 ID : 6306802957203  
Option 2 ID : 6306802957205  
Option 3 ID : 6306802957202  
Option 4 ID : 6306802957204  
Status : Answered  
Chosen Option : 3

**Q.19 Select the correctly spelled sentence.**

- Ans**  1. The gardner planted colorfull flowers in the garden.  
 2. The gardener planted colourful flowers in the garden.  
 3. The gardener planted colourfull flowers in the gardin.  
 4. The gardner planted colorful flowers in the gardin.

Question Type : **MCQ**

Question ID : **630680615968**

Option 1 ID : **6306802410575**

Option 2 ID : **6306802410574**

Option 3 ID : **6306802410576**

Option 4 ID : **6306802410577**

Status : **Answered**

Chosen Option : 1

**Q.20 Select the most appropriate synonym of the given word.**

**Insist**

- Ans**  1. Barge  
 2. Rebut  
 3. Wage  
 4. Urge

Question Type : **MCQ**

Question ID : **630680410889**

Option 1 ID : **6306801602314**

Option 2 ID : **6306801602311**

Option 3 ID : **6306801602313**

Option 4 ID : **6306801602312**

Status : **Answered**

Chosen Option : 3

**Comprehension:**

In the following passage, some words have been deleted. Read the passage carefully and select the most appropriate option to fill in each blank.

As 2023 closes as the warmest year on (1) \_\_\_\_\_, there is growing global concern about the rise of extreme weather (2) \_\_\_\_\_ such as floods, droughts and heatwaves. The atmosphere and oceans are warming due to increasing (3) \_\_\_\_\_ of greenhouse gases, largely caused by burning fossil fuels. This has led to a greater risk of (4) \_\_\_\_\_ rainfall and flooding. For every 1°C rise in average global temperature, the atmosphere can hold an extra 7% water vapour. When the right atmospheric 'triggers' are in place, this extra water vapour is (5) \_\_\_\_\_ as intense rainfall.

**SubQuestion No : 21**

**Q.21** Select the most appropriate option to fill in blank no. 1.

**Ans**

1.  
blankness

2.  
absence

3.  
erasure

4. record

Question Type : **MCQ**

Question ID : **630680530588**

Option 1 ID : **6306802074220**

Option 2 ID : **6306802074217**

Option 3 ID : **6306802074219**

Option 4 ID : **6306802074218**

Status : **Answered**

Chosen Option : **1**

**Comprehension:**

In the following passage, some words have been deleted. Read the passage carefully and select the most appropriate option to fill in each blank.

As 2023 closes as the warmest year on (1) \_\_\_\_\_, there is growing global concern about the rise of extreme weather (2) \_\_\_\_\_ such as floods, droughts and heatwaves. The atmosphere and oceans are warming due to increasing (3) \_\_\_\_\_ of greenhouse gases, largely caused by burning fossil fuels. This has led to a greater risk of (4) \_\_\_\_\_ rainfall and flooding. For every 1°C rise in average global temperature, the atmosphere can hold an extra 7% water vapour. When the right atmospheric 'triggers' are in place, this extra water vapour is (5) \_\_\_\_\_ as intense rainfall.

**SubQuestion No : 22**

**Q.22** Select the most appropriate option to fill in blank no. 2.

- Ans  1.  
quietude
2. events
3.  
idleness
4.  
inertness

Question Type : **MCQ**

Question ID : **630680530589**

Option 1 ID : **6306802074224**

Option 2 ID : **6306802074223**

Option 3 ID : **6306802074222**

Option 4 ID : **6306802074221**

Status : **Answered**

Chosen Option : 1

**Comprehension:**

In the following passage, some words have been deleted. Read the passage carefully and select the most appropriate option to fill in each blank.

As 2023 closes as the warmest year on (1) \_\_\_\_\_, there is growing global concern about the rise of extreme weather (2) \_\_\_\_\_ such as floods, droughts and heatwaves. The atmosphere and oceans are warming due to increasing (3) \_\_\_\_\_ of greenhouse gases, largely caused by burning fossil fuels. This has led to a greater risk of (4) \_\_\_\_\_ rainfall and flooding. For every 1°C rise in average global temperature, the atmosphere can hold an extra 7% water vapour. When the right atmospheric 'triggers' are in place, this extra water vapour is (5) \_\_\_\_\_ as intense rainfall.

**SubQuestion No : 23**

**Q.23** Select the most appropriate option to fill in blank no. 3.

**Ans** ✓ 1. emissions

✗ 2.  
retentions

✗ 3.  
immersions

✗ 4.  
collections

Question Type : **MCQ**

Question ID : **630680530590**

Option 1 ID : **6306802074228**

Option 2 ID : **6306802074225**

Option 3 ID : **6306802074227**

Option 4 ID : **6306802074226**

Status : **Answered**

Chosen Option : **4**

**Comprehension:**

In the following passage, some words have been deleted. Read the passage carefully and select the most appropriate option to fill in each blank.

As 2023 closes as the warmest year on (1) \_\_\_\_\_, there is growing global concern about the rise of extreme weather (2) \_\_\_\_\_ such as floods, droughts and heatwaves. The atmosphere and oceans are warming due to increasing (3) \_\_\_\_\_ of greenhouse gases, largely caused by burning fossil fuels. This has led to a greater risk of (4) \_\_\_\_\_ rainfall and flooding. For every 1°C rise in average global temperature, the atmosphere can hold an extra 7% water vapour. When the right atmospheric 'triggers' are in place, this extra water vapour is (5) \_\_\_\_\_ as intense rainfall.

SubQuestion No : 24

Q.24 Select the most appropriate option to fill in blank no. 4.

Ans  1. extreme

2.  
gentle

3.  
average

4.  
moderate

Question Type : **MCQ**

Question ID : **630680530591**

Option 1 ID : **6306802074229**

Option 2 ID : **6306802074232**

Option 3 ID : **6306802074230**

Option 4 ID : **6306802074231**

Status : **Answered**

Chosen Option : **3**

**Comprehension:**

In the following passage, some words have been deleted. Read the passage carefully and select the most appropriate option to fill in each blank.

As 2023 closes as the warmest year on (1) \_\_\_\_\_, there is growing global concern about the rise of extreme weather (2) \_\_\_\_\_ such as floods, droughts and heatwaves. The atmosphere and oceans are warming due to increasing (3) \_\_\_\_\_ of greenhouse gases, largely caused by burning fossil fuels. This has led to a greater risk of (4) \_\_\_\_\_ rainfall and flooding. For every 1°C rise in average global temperature, the atmosphere can hold an extra 7% water vapour. When the right atmospheric 'triggers' are in place, this extra water vapour is (5) \_\_\_\_\_ as intense rainfall.

**SubQuestion No : 25**

**Q.25** Select the most appropriate option to fill in blank no. 5.

- Ans  1. ensnared  
 2. confiscated  
 3. released  
 4. detained

Question Type : **MCQ**

Question ID : **630680530592**

Option 1 ID : **6306802074236**

Option 2 ID : **6306802074235**

Option 3 ID : **6306802074234**

Option 4 ID : **6306802074233**

Status : **Answered**

Chosen Option : **3**