

Multi Tasking Non Technical Staff and Havaladar CBIC and CBN Examination 2024

Roll Number	
Candidate Name	
Venue Name	Maharishi Arvind Institute of Engineering and Technology
Exam Date	11/11/2024
Exam Time	12:30 PM - 2:30 PM
Subject	MTS Non Tech Havaladar CBIC and CBN Examination 2024

Section : Numerical and Mathematical Ability

Q.1 गोले A और B की त्रिज्याओं का योग 14 cm है, A की त्रिज्या B की त्रिज्या से बड़ी है। उनके पृष्ठीय क्षेत्रफलों के बीच का अंतर $112\pi\text{ cm}^2$ है। B और A के आयतनों का अनुपात ज्ञात करें।

Ans 1. 27 : 64

2. 25 : 64

3. 64 : 27

4. 64 : 25

Question Type : MCQ

Question ID : 630680526648

Option 1 ID : 6306802058660

Option 2 ID : 6306802058659

Option 3 ID : 6306802058661

Option 4 ID : 6306802058658

Status : Answered

Chosen Option : 3

Q.2 एक निश्चित परीक्षा में 75 विद्यार्थियों द्वारा प्राप्त औसत अंक 38 है। कुल अंक ज्ञात कीजिए।

Ans 1. 2850

2. 113

3. 1406

4. 4294

Question Type : MCQ

Question ID : 630680447477

Option 1 ID : 6306801747162

Option 2 ID : 6306801747161

Option 3 ID : 6306801747164

Option 4 ID : 6306801747163

Status : Answered

Chosen Option : 1

Q.3 204 और 1547 का महत्तम समापर्वतक (HCF) क्या है?

Ans 1. 15

2. 17

3. 18

4. 19

Question Type : MCQ

Question ID : 630680107339

Option 1 ID : 630680416729

Option 2 ID : 630680416728

Option 3 ID : 630680416730

Option 4 ID : 630680416731

Status : Answered

Chosen Option : 2

Q.4 40 विद्यार्थियों की एक कक्षा में लड़कों और लड़कियों का अनुपात 3 : 5 है। यदि विज्ञान में लड़कों द्वारा प्राप्त औसत अंक 70 है और विज्ञान में पूरी कक्षा द्वारा प्राप्त औसत अंक 60 है, तो लड़कियाँ द्वारा विज्ञान में प्राप्त औसत अंक ज्ञात कीजिए।

Ans 1. 56

2. 52

3. 54

4. 50

Question Type : MCQ

Question ID : 630680477426

Option 1 ID : 6306801864864

Option 2 ID : 6306801864862

Option 3 ID : 6306801864863

Option 4 ID : 6306801864861

Status : Answered

Chosen Option : 3

Q.5 तीन ट्रेनों की चाल 5 : 3 : 7 के अनुपात में है। समान दूरी तय करने में उनके द्वारा लिए गए समय का अनुपात क्या होगा?

Ans 1. $\frac{1}{5} : \frac{1}{3} : \frac{1}{7}$

2. $\frac{1}{4} : \frac{1}{2} : \frac{1}{7}$

3. $\frac{1}{6} : \frac{1}{5} : \frac{1}{3}$

4. $\frac{1}{8} : \frac{1}{5} : \frac{1}{9}$

Question Type : MCQ

Question ID : 630680581696

Option 1 ID : 6306802275694

Option 2 ID : 6306802275693

Option 3 ID : 6306802275691

Option 4 ID : 6306802275692

Status : Answered

Chosen Option : 1

Q.6 21 पुस्तकों का क्रय मूल्य (C.P.) 20 पुस्तकों के विक्रय मूल्य (S.P.) के बराबर है। लाभ प्रतिशत कितना है?

- Ans
- 1. 6%
 - 2. 4%
 - 3. 5%
 - 4. 10%

Question Type : MCQ

Question ID : 630680119759

Option 1 ID : 630680464115

Option 2 ID : 630680464114

Option 3 ID : 630680464116

Option 4 ID : 630680464117

Status : Answered

Chosen Option : 3

Q.7 यदि एक त्रिभुज की ऊँचाई 45 cm और आधार 70 cm है, तो त्रिभुज का क्षेत्रफल ज्ञात कीजिए।

- Ans
- 1. 1575 cm²
 - 2. 4000 cm²
 - 3. 3150 cm²
 - 4. 3200 cm²

Question Type : MCQ

Question ID : 630680109194

Option 1 ID : 630680423588

Option 2 ID : 630680423591

Option 3 ID : 630680423589

Option 4 ID : 630680423590

Status : Answered

Chosen Option : 1

Q.8 श्री शर्मा अपनी मासिक आय में से 24% घर के किराए पर और 70% घर के खर्च पर खर्च करते हैं और शेष बचत करते हैं। यदि वह हर महीने ₹1,200 बचाते हैं, तो उनकी मासिक आय कितनी है?

- Ans
- 1. ₹20,000
 - 2. ₹25,000
 - 3. ₹27,000
 - 4. ₹32,000

Question Type : MCQ

Question ID : 630680464498

Option 1 ID : 6306801814029

Option 2 ID : 6306801814028

Option 3 ID : 6306801814030

Option 4 ID : 6306801814027

Status : Answered

Chosen Option : 1

Q.9 मनोज 1 kg टमाटर ₹80 में खरीदता है और उसे ₹90 में बेचता है। वह 1 kg के स्थान पर 800 gm वजन का भी इस्तेमाल करता है। 1 kg टमाटर की बिक्री पर मनोज का वास्तविक लाभ प्रतिशत कितना है?

- Ans 1. 25%
2. 40.625%
3. 37.5%
4. 12.5%

Question Type : MCQ
Question ID : 630680468944
Option 1 ID : 6306801831544
Option 2 ID : 6306801831546
Option 3 ID : 6306801831545
Option 4 ID : 6306801831543
Status : Answered
Chosen Option : 2

Q.10 2 वर्षों के लिए 5% वार्षिक की ब्याज दर पर उधार ली गई राशि ₹2500 पर साधारण ब्याज (₹ में) ज्ञात कीजिए।

- Ans 1. 210
2. 190
3. 250
4. 290

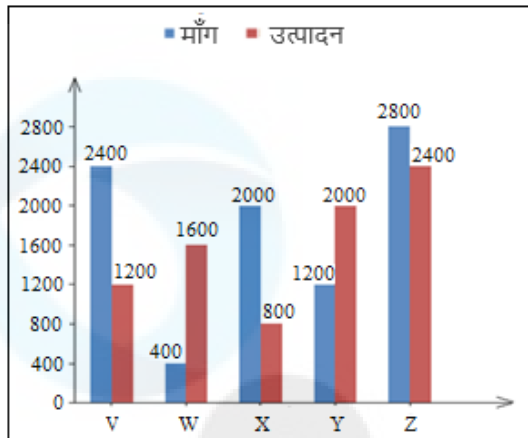
Question Type : MCQ
Question ID : 630680591898
Option 1 ID : 6306802316062
Option 2 ID : 6306802316061
Option 3 ID : 6306802316059
Option 4 ID : 6306802316060
Status : Answered
Chosen Option : 3

Q.11 राहुल और रोहित एक ही बिंदु से एक वृत्ताकार ट्रैक (360 m लंबा) पर 3 m/s और 4 m/s की चाल से एक साथ दौड़ना शुरू करते हैं। दौड़ शुरू करने से कितने समय बाद वे फिर से प्रारंभिक बिंदु पर मिलेंगे?

- Ans 1. 3 मिनट
2. 12 मिनट
3. 6 मिनट
4. 2 मिनट

Question Type : MCQ
Question ID : 630680107723
Option 1 ID : 630680418181
Option 2 ID : 630680418183
Option 3 ID : 630680418182
Option 4 ID : 630680418180
Status : Answered
Chosen Option : 3

Q.12 पाँच व्यवसायों V, W, X, Y, और Z की माँग और उत्पादन को संलग्न चार्ट में दिखाया गया है, जो उत्तर प्रदान करने के लिए एक बुनियादी बार ग्राफ का उपयोग करके उन्हें दर्शाता है।



यदि कंपनी Z की माँग, कंपनी W की माँग की तुलना में k गुना है, तो k का मान ज्ञात करें।

Ans ✓ 1. 7

✗ 2. 5

✗ 3. 6

✗ 4. 8

Question Type : MCQ

Question ID : 6306801108828

Option 1 ID : 6306804355900

Option 2 ID : 6306804355898

Option 3 ID : 6306804355899

Option 4 ID : 6306804355901

Status : Answered

Chosen Option : 1

Q.13 ₹7,000 की राशि, एक निश्चित प्रतिशत दर से साधारण ब्याज पर 2 वर्षों में ₹7,567 हो जाती है। वह मूलधन (₹ में) ज्ञात करें जो इसी ब्याज दर पर 5 वर्षों में ₹24,050 हो जाएगा।

Ans ✗ 1. 24,000

✗ 2. 12,500

✓ 3. 20,000

✗ 4. 18,300

Question Type : MCQ

Question ID : 630680402962

Option 1 ID : 6306801571426

Option 2 ID : 6306801571423

Option 3 ID : 6306801571425

Option 4 ID : 6306801571424

Status : Answered

Chosen Option : 2

Q.14 निम्नलिखित डाटा तालिका का संदर्भ लीजिए और प्रश्न का उत्तर दीजिए।

जन्मदिन पर मापी गई	बच्चे की लम्बाई (cm में)
5	130
6	145
7	162
8	170

7वें जन्मदिन से 8वें जन्मदिन तक बच्चे की लम्बाई में कितनी वृद्धि (cm में) हुई?

- Ans 1. 6
 2. 8
 3. 5
 4. 7

Question Type : MCQ

Question ID : 630680523816

Option 1 ID : 6306802047417

Option 2 ID : 6306802047415

Option 3 ID : 6306802047418

Option 4 ID : 6306802047416

Status : Answered

Chosen Option : 2

Q.15 स्टेशनरी की एक दुकान में, एक पेन का अंकित मूल्य ₹80 है और इसे 15% की छूट पर बेचा जाता है। दुकानदार पेन पर ₹8 की एक विशेष छूट भी देता है। यदि दुकानदार को 20% का लाभ होता है तो पेन का क्रय मूल्य ज्ञात कीजिए।

- Ans 1. ₹50
 2. ₹62
 3. ₹75
 4. ₹60

Question Type : MCQ

Question ID : 630680815842

Option 1 ID : 6306803196702

Option 2 ID : 6306803196704

Option 3 ID : 6306803196703

Option 4 ID : 6306803196701

Status : Answered

Chosen Option : 1

Q.16 एक लंब वृत्तीय शंकु के आधार की त्रिज्या और लंबवत ऊँचाई का अनुपात 3 : 4 है और शंकु का वक्र पृष्ठीय क्षेत्रफल 2310 cm^2 है। दिए गए शंकु के आधार की त्रिज्या (cm में) ज्ञात करें। ($\pi = \frac{22}{7}$ का उपयोग करें।)

- Ans
- 1. 24
 - 2. 28
 - 3. 21
 - 4. 35

Question Type : **MCQ**
Question ID : **630680381300**
Option 1 ID : **6306801486151**
Option 2 ID : **6306801486153**
Option 3 ID : **6306801486154**
Option 4 ID : **6306801486152**
Status : **Answered**
Chosen Option : 3

Q.17 एक परीक्षा में, 15 विद्यार्थियों द्वारा प्राप्त औसत अंक 96 थे, 12 अन्य विद्यार्थियों द्वारा प्राप्त औसत अंक 84 थे और 13 अन्य विद्यार्थियों द्वारा प्राप्त औसत अंक 68 थे। सभी 40 विद्यार्थियों के औसत अंक ज्ञात कीजिए।

- Ans
- 1. 78.6
 - 2. 83.3
 - 3. 68.5
 - 4. 87.6

Question Type : **MCQ**
Question ID : **630680469752**
Option 1 ID : **6306801834764**
Option 2 ID : **6306801834765**
Option 3 ID : **6306801834763**
Option 4 ID : **6306801834766**
Status : **Answered**
Chosen Option : 2

Q.18 3 वर्षों के लिए 3% वार्षिक की ब्याज दर पर उधार ली गई राशि ₹3500 पर साधारण ब्याज (₹ में) ज्ञात कीजिए।

- Ans
- 1. 355
 - 2. 275
 - 3. 255
 - 4. 315

Question Type : **MCQ**
Question ID : **630680591959**
Option 1 ID : **6306802316304**
Option 2 ID : **6306802316306**
Option 3 ID : **6306802316305**
Option 4 ID : **6306802316303**
Status : **Answered**
Chosen Option : 4

Q.19 मैं 10 km/h की चाल से चलता हूँ और 2 घंटे में अपने गंतव्य पर पहुंच जाता हूँ। यदि मैं अपनी चाल 2 km/h बढ़ा दूँ, तो मैं अपने गंतव्य पर कितनी जल्दी पहुंच जाऊंगा?

- Ans
- 1. 40 मिनट
 - 2. 100 मिनट
 - 3. 20 मिनट
 - 4. 50 मिनट

Question Type : MCQ

Question ID : 630680233071

Option 1 ID : 630680904407

Option 2 ID : 630680904405

Option 3 ID : 630680904406

Option 4 ID : 630680904408

Status : Answered

Chosen Option : 2

Q.20 40 kg, 49 kg, 56 kg, 69 kg और 36 kg वजन के पांच सदस्यों वाले परिवार का औसत वजन (kg में) ज्ञात कीजिए।

- Ans
- 1. 51
 - 2. 52
 - 3. 50
 - 4. 49

Question Type : MCQ

Question ID : 630680551650

Option 1 ID : 6306802156826

Option 2 ID : 6306802156828

Option 3 ID : 6306802156825

Option 4 ID : 6306802156827

Status : Answered

Chosen Option : 3

Section : Reasoning Ability and Problem Solving

Q.1 उस समुच्चय का चयन कीजिए जिसमें संख्याएँ ठीक उसी प्रकार संबंधित हैं, जिस प्रकार निम्नलिखित समुच्चयों की संख्याएँ संबंधित हैं।

(ध्यान दें: संख्याओं को उनके घटक अंकों में अलग-अलग किए बिना पूर्ण संख्याओं पर संक्रियाएं की जानी चाहिए। उदाहरण के लिए संख्या 13 - संख्या 13 पर संक्रियाएं जैसे 13 को जोड़ना/घटाना/गुणा करना आदि किया जा सकता है। 13 को 1 और 3 में अलग-अलग करने की और फिर 1 और 3 पर गणितीय संक्रियाएं करने की अनुमति नहीं है।)

(6, 24, 36)

(8, 11, 25)

Ans ✓ 1. (5, 19, 30)

✗ 2. (18, 2, 47)

✗ 3. (2, 14, 20)

✗ 4. (15, 23, 34)

Question Type : MCQ

Question ID : 6306801030497

Option 1 ID : 6306804044739

Option 2 ID : 6306804044740

Option 3 ID : 6306804044737

Option 4 ID : 6306804044738

Status : Not Answered

Chosen Option : --

Q.2 एक निश्चित कूट भाषा में, 'MINT' को '5289' लिखा जाता है और 'TIME' को '9758' लिखा जाता है। उसी कूट भाषा में 'N' को कैसे लिखा जाएगा?

Ans ✗ 1. 9

✗ 2. 7

✓ 3. 2

✗ 4. 8

Question Type : MCQ

Question ID : 630680439111

Option 1 ID : 6306801714258

Option 2 ID : 6306801714259

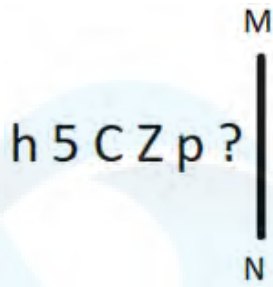
Option 3 ID : 6306801714256

Option 4 ID : 6306801714257

Status : Answered

Chosen Option : 3

Q.3 दी गई आकृति के उस सही दर्पण प्रतिबिंब को चुनिए, जो नीचे दर्शाए गए अनुसार दर्पण को MN पर रखने पर बनेगा।



Ans

✓ 1. ? q Σ C τ h

✗ 2. ? q C Z τ h

✗ 3. ? q Σ C S h

✗ 4. ; d C Σ S p

Question Type : MCQ

Question ID : 630680525267

Option 1 ID : 6306802053155

Option 2 ID : 6306802053152

Option 3 ID : 6306802053154

Option 4 ID : 6306802053153

Status : Answered

Chosen Option : 1

Q.4 एक निश्चित तर्क का अनुसरण करते हुए 12, 139 से संबंधित है। उसी तर्क का अनुसरण करते हुए, 17, 284 से संबंधित है। उसी तर्क का अनुसरण करते हुए, 18 निम्नलिखित में से किससे संबंधित है?

(ध्यान दें: संख्याओं को उनके घटक अंकों में अलग-अलग किए बिना पूर्ण संख्याओं पर संक्रियाएं की जानी चाहिए। उदाहरण के लिए संख्या 13 - संख्या 13 पर संक्रियाएं जैसे 13 को जोड़ना/घटाना/गुणा करना आदि किया जा सकता है। 13 को 1 और 3 में अलग-अलग करने की और फिर 1 और 3 पर गणितीय संक्रियाएं करने की अनुमति नहीं है।)

Ans ✗ 1. 312

✗ 2. 309

✓ 3. 319

✗ 4. 324

Question Type : MCQ

Question ID : 630680446740

Option 1 ID : 6306801744252

Option 2 ID : 6306801744253

Option 3 ID : 6306801744251

Option 4 ID : 6306801744250

Status : Answered

Chosen Option : 3

Q.5 नीचे दिए गए कथन/कथनों और निष्कर्षों को ध्यानपूर्वक पढ़िए। आपको मानना है कि दिए गए कथन सत्य हैं चाहे वे समान्यतः ज्ञात तथ्यों से अलग प्रतीत होते हों। आपको निश्चय करना है कि कौन-सा/कौन-से निष्कर्ष तार्किक रूप से दिए गए कथन/कथनों के अनुसार है/हैं।

कथन: कुछ हरे, लाल हैं। सभी लाल, पीले हैं।

निष्कर्ष:

(I) सभी पीले, हरे हैं।

(II) सभी लाल, हरे हैं।

Ans

✓ 1. न तो निष्कर्ष (I) और न ही (II) कथनों के अनुसार है।

✗ 2. केवल निष्कर्ष (I) कथनों के अनुसार है।

✗ 3. दोनों निष्कर्ष (I) और (II) कथनों के अनुसार हैं।

✗ 4. केवल निष्कर्ष (II) कथनों के अनुसार है।

Question Type : **MCQ**

Question ID : **630680439101**

Option 1 ID : **6306801714218**

Option 2 ID : **6306801714216**

Option 3 ID : **6306801714219**

Option 4 ID : **6306801714217**

Status : **Answered**

Chosen Option : **1**

Q.6 KRAV, अंग्रेजी वर्णानुक्रम के आधार पर एक निश्चित तरीके से GNWR से संबंधित है। उसी तरीके से UBKF, QXGB से संबंधित है। उसी तर्क का अनुसरण करते हुए IPYT निम्नलिखित में से किससे संबंधित है?

Ans

✗ 1. LUPE

✗ 2. ELPV

✗ 3. PELU

✓ 4. ELUP

Question Type : **MCQ**

Question ID : **630680443973**

Option 1 ID : **6306801733202**

Option 2 ID : **6306801733199**

Option 3 ID : **6306801733201**

Option 4 ID : **6306801733200**

Status : **Answered**

Chosen Option : **4**

Q.7 एक निश्चित कूट भाषा में, 'FEEDING' को 'ECBDJPJ' के रूप में कूटबद्ध किया जाता है और 'SURFACE' को 'RSOFBEH' के रूप में कूटबद्ध किया जाता है। उसी भाषा में 'MIGRATE' को किस प्रकार कूटबद्ध किया जाएगा?

Ans 1. LGDRBVH

2. LGERBVG

3. LGRCUI

4. LHDRBUH

Question Type : MCQ

Question ID : 630680465402

Option 1 ID : 6306801817645

Option 2 ID : 6306801817646

Option 3 ID : 6306801817643

Option 4 ID : 6306801817644

Status : Answered

Chosen Option : 1

Q.8 यदि '+' और '-' को आपस में बदल दिया जाए तथा 'x' और '÷' को आपस में बदल दिया जाए, तो निम्नलिखित समीकरण में प्रश्न चिह्न (?) के स्थान पर क्या आएगा?
 $111 - 1 + 36 \div 2 \times 12 = ?$

Ans 1. 144

2. 120

3. 106

4. 160

Question Type : MCQ

Question ID : 630680378702

Option 1 ID : 6306801475857

Option 2 ID : 6306801475856

Option 3 ID : 6306801475855

Option 4 ID : 6306801475858

Status : Answered

Chosen Option : 3

Q.9 एक निश्चित कूट भाषा में, 'EVIL' को '5731' के रूप में कूटबद्ध किया जाता है और 'BEAD' को '4816' के रूप में कूटबद्ध किया जाता है। दी गई कूट भाषा में 'E' के लिए कूट क्या है?

Ans 1. 5

2. 3

3. 1

4. 8

Question Type : MCQ

Question ID : 630680388004

Option 1 ID : 6306801512630

Option 2 ID : 6306801512633

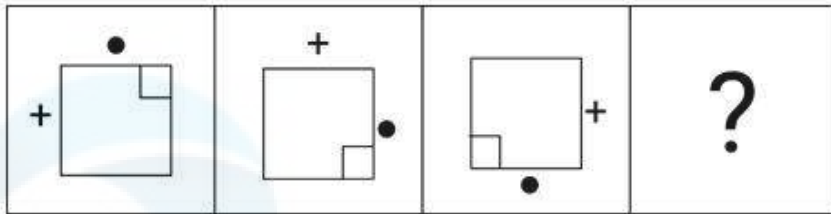
Option 3 ID : 6306801512632

Option 4 ID : 6306801512631

Status : Answered

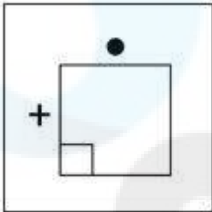
Chosen Option : 3

Q.10 दिए गए विकल्पों में से उस आकृति की पहचान कीजिए जो प्रश्न-चिह्न (?) के स्थान पर आ सकता है और श्रृंखला को तार्किक रूप से पूरा कर सकता है।

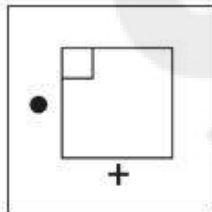


Ans

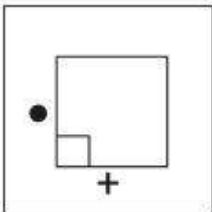
✗ 1.



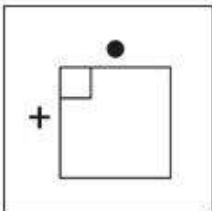
✓ 2.



✗ 3.



✗ 4.



Question Type : MCQ

Question ID : 630680279236

Option 1 ID : 6306801085211

Option 2 ID : 6306801085214

Option 3 ID : 6306801085213

Option 4 ID : 6306801085212

Status : Answered

Chosen Option : 2

Q.11 सात मित्र - M, N, O, P, Q, R और S, एक वृत्ताकार मेज के चारों ओर केंद्र की ओर मुख करके बैठे हैं (परंतु जरूरी नहीं कि वे इसी क्रम में बैठे हों)। O, S के दाएँ से तीसरे स्थान पर बैठा है। N, O के दाएँ से दूसरे स्थान पर बैठा है। M और S दोनों का निकटतम पड़ोसी Q है। O और N दोनों का निकटतम पड़ोसी P है।
R के ठीक दाएँ कौन बैठा है?

Ans 1. S

2. N

3. O

4. M

Question Type : MCQ

Question ID : 630680378912

Option 1 ID : 6306801476695

Option 2 ID : 6306801476698

Option 3 ID : 6306801476697

Option 4 ID : 6306801476696

Status : Answered

Chosen Option : 1

Q.12 एक निश्चित कूट भाषा में, 'GOAT' को '2684' के रूप में कूटबद्ध किया जाता है और 'OPEN' को '3598' के रूप में कूटबद्ध किया जाता है। दी गई कूट भाषा में 'O' के लिए कूट क्या है?

Ans 1. 6

2. 5

3. 8

4. 3

Question Type : MCQ

Question ID : 630680422199

Option 1 ID : 6306801647235

Option 2 ID : 6306801647234

Option 3 ID : 6306801647232

Option 4 ID : 6306801647233

Status : Answered

Chosen Option : 3

Q.13 निम्नलिखित श्रृंखला में प्रश्न चिन्ह (?) के स्थान पर क्या आना चाहिए?

12, 18, 36, 90, 252, ?

Ans 1. 738

2. 800

3. 876

4. 789

Question Type : MCQ

Question ID : 630680405568

Option 1 ID : 6306801581450

Option 2 ID : 6306801581452

Option 3 ID : 6306801581453

Option 4 ID : 6306801581451

Status : Answered

Chosen Option : 1

Q.14 अंग्रेजी वर्णमाला क्रम के आधार पर दी गई श्रृंखला में प्रश्न चिह्न (?) के स्थान पर क्या आना चाहिए ?

CEH, FHK, IKN, LNQ, ?

Ans 1. MOP

2. OQT

3. PRU

4. NPS

Question Type : MCQ

Question ID : 630680316231

Option 1 ID : 6306801230570

Option 2 ID : 6306801230569

Option 3 ID : 6306801230572

Option 4 ID : 6306801230571

Status : Answered

Chosen Option : 2

Q.15 आदेश, रिंकी, नरेंद्र, प्रिया, कियारा, साहिल और लक्ष्मी एक वृत्ताकार मेज के चारों ओर केंद्र की ओर मुख करके बैठे हैं (परंतु जरूरी नहीं कि वे इसी क्रम में बैठे हों)। कियारा, साहिल के बाएँ से तीसरे स्थान पर बैठी है। रिंकी, उस प्रिया के ठीक दाएँ बैठी है, जो साहिल के बगल में बैठी है। आदेश, लक्ष्मी के दाएँ से दूसरे स्थान पर बैठा है। आदेश के ठीक बाएँ कौन बैठा है?

Ans 1. नरेंद्र

2. कियारा

3. रिंकी

4. साहिल

Question Type : MCQ

Question ID : 630680378959

Option 1 ID : 6306801476884

Option 2 ID : 6306801476886

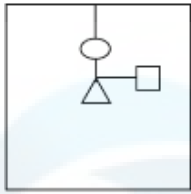
Option 3 ID : 6306801476885

Option 4 ID : 6306801476883

Status : Answered

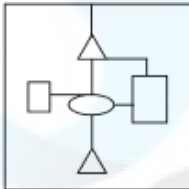
Chosen Option : 2

Q.16 उस विकल्प आकृति का चयन कीजिए, जिसमें दी गई आकृति उसके भाग के रूप में सन्निहित है (घुमाने की अनुमति नहीं है)।

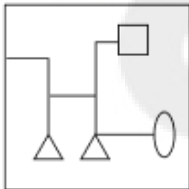


Ans

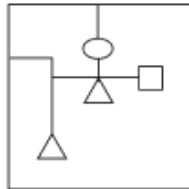
✗ 1.



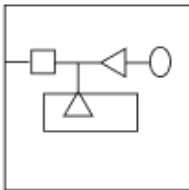
✗ 2.



✓ 3.



✗ 4.



Question Type : MCQ

Question ID : 630680487589

Option 1 ID : 6306801904464

Option 2 ID : 6306801904465

Option 3 ID : 6306801904462

Option 4 ID : 6306801904463

Status : Answered

Chosen Option : 3

Q.17 FH 61 एक निश्चित प्रकार से JL 69 से संबंधित है। उसी प्रकार, QS 76, UW 84 से संबंधित है। समान तर्क का अनुसरण करते हुए, LN 46 निम्नलिखित में से किससे संबंधित है?

- Ans
- 1. NK 56
 - 2. CG 51
 - 3. PR 54
 - 4. HU 52

Question Type : MCQ

Question ID : 630680387571

Option 1 ID : 6306801510969

Option 2 ID : 6306801510967

Option 3 ID : 6306801510966

Option 4 ID : 6306801510968

Status : Answered

Chosen Option : 3

Q.18 यदि '+' और '-' को आपस में बदल दिया जाए तथा '×' और '÷' को आपस में बदल दिया जाए, तो निम्नलिखित समीकरण में प्रश्न-चिह्न (?) के स्थान पर क्या आएगा?

$$15 \div 15 - 30 + 225 \times 25 = ?$$

- Ans
- 1. 146
 - 2. 426
 - 3. 236
 - 4. 246

Question Type : MCQ

Question ID : 630680272721

Option 1 ID : 6306801059446

Option 2 ID : 6306801059445

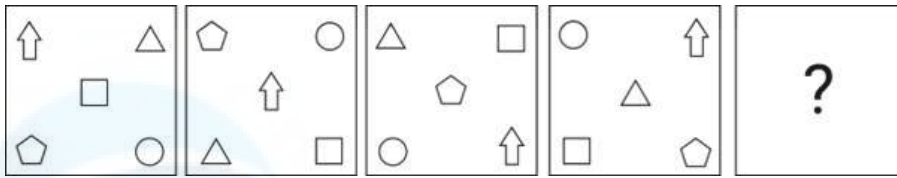
Option 3 ID : 6306801059443

Option 4 ID : 6306801059444

Status : Answered

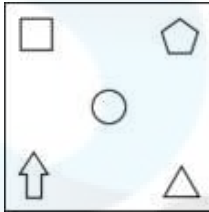
Chosen Option : 4

Q.19 विकल्पों में दी गई उस आकृति की पहचान कीजिए जिसे '?' के स्थान पर रखने पर श्रृंखला तार्किक रूप से पूर्ण हो जाएगी।

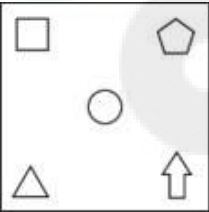


Ans

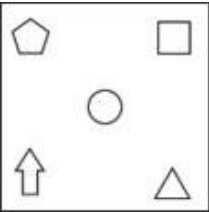
✓ 1.



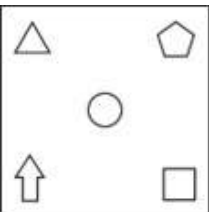
✗ 2.



✗ 3.



✗ 4.



Question Type : MCQ

Question ID : 630680277141

Option 1 ID : 6306801077059

Option 2 ID : 6306801077058

Option 3 ID : 6306801077057

Option 4 ID : 6306801077060

Status : Answered

Chosen Option : 1

Q.20 इस प्रश्न में दो कथन और उनके बाद दो निष्कर्ष I और II दिए गए हैं। आपको दिए गए कथनों को सत्य मानना है, भले ही वे सर्वज्ञात तथ्यों से भिन्न प्रतीत होते हों। आपको यह तय करना है कि दिए गए निष्कर्षों में से कौन-सा/से निष्कर्ष दिए गए कथनों का तार्किक रूप से अनुसरण करता है/करते हैं।

कथन:

सभी खुबानी, बन हैं।
सभी बन, मिठाई हैं।

निष्कर्ष:

(I) कुछ खुबानी, मिठाई हैं।

(II) कुछ बन, खुबानी हैं।

- Ans
- 1. न तो निष्कर्ष (I) और न ही (II) अनुसरण करता है
 - 2. केवल निष्कर्ष (I) अनुसरण करता है
 - 3. केवल निष्कर्ष (II) अनुसरण करता है
 - 4. निष्कर्ष (I) और (II) दोनों अनुसरण करते हैं

Question Type : MCQ

Question ID : 630680106425

Option 1 ID : 630680413488

Option 2 ID : 630680413486

Option 3 ID : 630680413487

Option 4 ID : 630680413489

Status : Answered

Chosen Option : 4

Section : General Awareness

Q.1 विनिर्माता सामान्यतः निम्नलिखित में से किस गैस का उपयोग चिप्स के बैग को भरने (flush) के लिए करते हैं?

- Ans
- 1. ऑक्सीजन
 - 2. कार्बन डाईऑक्साइड
 - 3. नाइट्रोजन
 - 4. संपीडित वायु

Question Type : MCQ

Question ID : 630680421826

Option 1 ID : 6306801645748

Option 2 ID : 6306801645747

Option 3 ID : 6306801645749

Option 4 ID : 6306801645750

Status : Answered

Chosen Option : 3

Q.2 जब कोई नाविक किसी चलती हुई नाव से बाहर कूदता है तो नाव पीछे की ओर गति करती है। यह _____ को दर्शाता है?

- Ans
- 1. गति के तृतीय नियम
 - 2. ऋजुरेखीय गति
 - 3. गति के द्वितीय नियम
 - 4. गति के प्रथम नियम

Question Type : MCQ

Question ID : 630680472229

Option 1 ID : 6306801844637

Option 2 ID : 6306801844638

Option 3 ID : 6306801844636

Option 4 ID : 6306801844635

Status : Answered

Chosen Option : 1

Q.3 सड़क परिवहन और राजमार्ग मंत्रालय के अनुसार, नवंबर 2022 तक की स्थिति के अनुसार भारत में राष्ट्रीय राजमार्गों की कुल लंबाई कितनी है?

- Ans
- 1. 1,45,897 किलोमीटर
 - 2. 1,85,633 किलोमीटर
 - 3. 1,86,908 किलोमीटर
 - 4. 1,44,634 किलोमीटर

Question Type : MCQ

Question ID : 630680482195

Option 1 ID : 6306801883297

Option 2 ID : 6306801883298

Option 3 ID : 6306801883296

Option 4 ID : 6306801883295

Status : Not Answered

Chosen Option : --

Q.4 मध्य भारत में 'सतनामी आंदोलन' के संस्थापक निम्नलिखित में से कौन थे?

- Ans
- 1. नारायण गुरु
 - 2. घासीदास
 - 3. ज्योति राव फुले
 - 4. संत हरिदास

Question Type : MCQ

Question ID : 630680652716

Option 1 ID : 6306802555336

Option 2 ID : 6306802555335

Option 3 ID : 6306802555337

Option 4 ID : 6306802555334

Status : Not Answered

Chosen Option : --

Q.5 2011 की जनगणना के अनुसार भारत में महिला साक्षरता दर कितनी है?

- Ans 1. 64.66%
2. 65.46%
3. 66.44%
4. 65.64%

Question Type : MCQ
Question ID : 63068080415
Option 1 ID : 630680311687
Option 2 ID : 630680311685
Option 3 ID : 630680311688
Option 4 ID : 630680311686
Status : Answered
Chosen Option : 2

Q.6 वर्ष 1940 में राष्ट्रीय खेलों (national games) की मेजबानी निम्नलिखित में से किस शहर ने की थी?

- Ans 1. पटियाला
2. लाहौर
3. बंबई
4. लखनऊ

Question Type : MCQ
Question ID : 630680799011
Option 1 ID : 6306803130847
Option 2 ID : 6306803130848
Option 3 ID : 6306803130846
Option 4 ID : 6306803130849
Status : Not Answered
Chosen Option : --

Q.7 ओडिशा में मयूरभंज (Mayurbhanj) जिला निम्नलिखित में से किस बायोस्फीयर रिज़र्व (Biosphere Reserve) का एक भाग है?

- Ans 1. सिमलीपाल (Similipal)
2. नोकरेक (Nokrek)
3. देहांग देबांग (Dehang Debang)
4. पचमढ़ी (Pachmarhi)

Question Type : MCQ
Question ID : 630680510897
Option 1 ID : 6306801996721
Option 2 ID : 6306801996719
Option 3 ID : 6306801996718
Option 4 ID : 6306801996720
Status : Answered
Chosen Option : 1

Q.8 फरवरी 2024 तक के तथ्यानुसार, नीतीश कुमार किस राज्य के 9वीं बार मुख्यमंत्री बने हैं?

- Ans
- 1. छत्तीसगढ़
 - 2. ओडिशा
 - 3. बिहार
 - 4. झारखंड

Question Type : MCQ

Question ID : 630680468465

Option 1 ID : 6306801829659

Option 2 ID : 6306801829660

Option 3 ID : 6306801829661

Option 4 ID : 6306801829658

Status : Answered

Chosen Option : 3

Q.9 निम्नलिखित एथलीटों में से किसे राष्ट्रपति राम नाथ कोविंद द्वारा अर्जुन पुरस्कार, 2021 से सम्मानित किया गया था?

- Ans
- 1. दुती चंद (Dutee Chand)
 - 2. तेजिंदर पाल सिंह तूर (Tajinder Pal Singh Toor)
 - 3. अरपिंदर सिंह (Arpinder Singh)
 - 4. स्वप्ना बर्मन (Swapna Barman)

Question Type : MCQ

Question ID : 630680184601

Option 1 ID : 630680715461

Option 2 ID : 630680715463

Option 3 ID : 630680715464

Option 4 ID : 630680715462

Status : Not Answered

Chosen Option : --

Q.10 दिसंबर 2023 में, भारत में केंद्रीय औद्योगिक सुरक्षा बल (CISF) की पहली महिला प्रमुख कौन बनीं?

- Ans
- 1. अर्चना रामसुंदरम
 - 2. विमला मेहरा
 - 3. रश्मी शुक्ला
 - 4. नीना सिंह

Question Type : MCQ

Question ID : 630680571055

Option 1 ID : 6306802233280

Option 2 ID : 6306802233283

Option 3 ID : 6306802233282

Option 4 ID : 6306802233281

Status : Answered

Chosen Option : 4

Q.11 जब शरीर भोजन की ऊर्जा से वंचित हो जाता है, तो निम्नलिखित में से किस ऊतक का उपयोग स्वयं को पोषित करने (feed) के लिए किया जाता है?

- Ans
- 1. उपकला ऊतक
 - 2. स्थूलकोण ऊतक
 - 3. वसामय ऊतक
 - 4. तंत्रिका ऊतक

Question Type : MCQ

Question ID : 630680451638

Option 1 ID : 6306801763652

Option 2 ID : 6306801763653

Option 3 ID : 6306801763650

Option 4 ID : 6306801763651

Status : Answered

Chosen Option : 3

Q.12 निम्नलिखित में से कौन-सा/कौन-सी भारत में सर्वोच्च न्यायपालिका है?

- Ans
- 1. सर्वोच्च न्यायालय
 - 2. संसद
 - 3. उच्च न्यायालय
 - 4. जिला न्यायालय

Question Type : MCQ

Question ID : 63068069583

Option 1 ID : 630680269000

Option 2 ID : 630680268998

Option 3 ID : 630680268999

Option 4 ID : 630680269001

Status : Answered

Chosen Option : 1

Q.13 अशोक के पालकीगुंड लघु शिलालेख (Palkigundu Minor Rock Edicts) _____ में स्थित हैं।

- Ans
- 1. महाराष्ट्र
 - 2. तेलंगाना
 - 3. कर्नाटक
 - 4. तमिलनाडु

Question Type : MCQ

Question ID : 63068084292

Option 1 ID : 630680326721

Option 2 ID : 630680326720

Option 3 ID : 630680326723

Option 4 ID : 630680326722

Status : Not Answered

Chosen Option : --

Q.14 फॉरवर्ड ब्लॉक (Forward Bloc) की स्थापना 1939-40 में निम्नलिखित में से किस नेता ने की थी?

- Ans
- 1. जवाहर लाल नेहरू
 - 2. चितरंजन दास
 - 3. रास बिहारी बोस
 - 4. सुभाष चंद्र बोस

Question Type : MCQ

Question ID : 630680303397

Option 1 ID : 6306801180238

Option 2 ID : 6306801180240

Option 3 ID : 6306801180241

Option 4 ID : 6306801180239

Status : Answered

Chosen Option : 3

Q.15 डांडिया रास किस राज्य की प्रसिद्ध नृत्य शैली है?

- Ans
- 1. पंजाब
 - 2. छत्तीसगढ़
 - 3. गुजरात
 - 4. उत्तर प्रदेश

Question Type : MCQ

Question ID : 630680465736

Option 1 ID : 6306801818982

Option 2 ID : 6306801818979

Option 3 ID : 6306801818981

Option 4 ID : 6306801818980

Status : Answered

Chosen Option : 3

Q.16 निम्नलिखित में से किस राज्य में मूंगफली मेला, 'कडलेकाई पैरिश (Kadalekayi Parishe)' हिंदू कैलेंडर के कार्तिक महीने के अंतिम सोमवार को मनाया जाता है?

- Ans
- 1. तमिलनाडु
 - 2. मध्य प्रदेश
 - 3. केरल
 - 4. कर्नाटक

Question Type : MCQ

Question ID : 630680403350

Option 1 ID : 6306801572912

Option 2 ID : 6306801572910

Option 3 ID : 6306801572911

Option 4 ID : 6306801572913

Status : Not Answered

Chosen Option : --

Q.17 गिनीज बुक ऑफ रिकॉर्ड्स के 1974 संस्करण में, किस पार्श्व गायिका का उल्लेख मानव इतिहास में सर्वाधिक रिकॉर्ड किए गए कलाकार (recorded artist) के रूप में किया गया था?

- Ans
- 1. लता मंगेशकर
 - 2. पुलापका सुशीला
 - 3. के.एस. चित्रा
 - 4. अलका याग्नििक

Question Type : MCQ

Question ID : 630680482464

Option 1 ID : 6306801884332

Option 2 ID : 6306801884333

Option 3 ID : 6306801884331

Option 4 ID : 6306801884330

Status : Not Answered

Chosen Option : --

Q.18 बजटीय घाटा (budget deficit) क्या दर्शाता है?

- Ans
- 1. सरकार भविष्य की परियोजनाओं के लिए बचत कर रही है
 - 2. सरकार सार्वजनिक सेवाओं के लिए पर्याप्त धन आवंटित नहीं कर रही है
 - 3. सरकारी व्यय का सरकारी राजस्व से अधिक होना
 - 4. सरकारी राजस्व का सरकारी व्यय से अधिक होना

Question Type : MCQ

Question ID : 630680651822

Option 1 ID : 6306802551815

Option 2 ID : 6306802551817

Option 3 ID : 6306802551816

Option 4 ID : 6306802551818

Status : Answered

Chosen Option : 3

Q.19 महान अन्न भंडार (The Great Granary) _____ के सबसे बड़े अन्न भंडारों में से एक था।

- Ans
- 1. माया सभ्यता
 - 2. मेसोपोटामिया की सभ्यता
 - 3. हड़प्पा सभ्यता
 - 4. मिस्र की सभ्यता

Question Type : MCQ

Question ID : 630680537243

Option 1 ID : 6306802100243

Option 2 ID : 6306802100241

Option 3 ID : 6306802100240

Option 4 ID : 6306802100242

Status : Answered

Chosen Option : 3

Q.20 निम्नलिखित में से कौन-सा विकल्प भारतीय संविधान की संघीय विशेषता (federal feature) है?

- Ans
- 1. एकल नागरिकता (Single Citizenship)
 - 2. अखिल भारतीय सेवा (All India Service)
 - 3. द्विसदन पद्धति (Bicameralism)
 - 4. एकीकृत न्यायपालिका (Integrated Judiciary)

Question Type : MCQ

Question ID : 630680587082

Option 1 ID : 6306802296869

Option 2 ID : 6306802296871

Option 3 ID : 6306802296872

Option 4 ID : 6306802296870

Status : Answered

Chosen Option : 1

Q.21 रासायनिक या परमाणु यंत्रों के विस्फोट के कारण उत्पन्न होने वाला भूकंप क्या कहलाता है?

- Ans
- 1. निपात भूकंप (Collapse earthquakes)
 - 2. बांध-जनित भूकंप (Reservoir-induced earthquakes)
 - 3. विवर्तनिक भूकंप (Tectonic earthquakes)
 - 4. विस्फोट भूकंप (Explosion earthquakes)

Question Type : MCQ

Question ID : 630680455678

Option 1 ID : 6306801779662

Option 2 ID : 6306801779663

Option 3 ID : 6306801779664

Option 4 ID : 6306801779661

Status : Answered

Chosen Option : 4

Q.22 निम्नलिखित में से किस वर्ष में गोलकुंडा राज्य (state of Golconda) को अंततः मुगल साम्राज्य में मिला लिया गया था?

- Ans
- 1. 1687
 - 2. 1685
 - 3. 1697
 - 4. 1690

Question Type : MCQ

Question ID : 630680282932

Option 1 ID : 6306801099860

Option 2 ID : 6306801099859

Option 3 ID : 6306801099862

Option 4 ID : 6306801099861

Status : Answered

Chosen Option : 1

Q.23 जवाहरलाल नेहरू की आत्मकथा, 'ऐन ऑटोबायोग्राफी (An Autobiography)' को _____ के नाम से भी जाना जाता है।

- Ans
- 1. द अनफिनिशड इनिंग्स (The Unfinished Innings)
 - 2. द एक्सीडेंटल प्राइम मिनिस्टर (The Accidental Prime Minister)
 - 3. टुवर्ड फ्रीडम (Toward Freedom)
 - 4. माय आईडिया ऑफ एजुकेशन (My Idea of Education)

Question Type : MCQ

Question ID : 630680798920

Option 1 ID : 6306803130487

Option 2 ID : 6306803130486

Option 3 ID : 6306803130488

Option 4 ID : 6306803130489

Status : Not Answered

Chosen Option : --

Q.24 भारत का निम्नलिखित में से कौन-सा पड़ोसी देश सबसे अधिक आबादी वाला देश है?

- Ans
- 1. अफगानिस्तान
 - 2. भूटान
 - 3. बांग्लादेश
 - 4. पाकिस्तान

Question Type : MCQ

Question ID : 630680510904

Option 1 ID : 6306801996748

Option 2 ID : 6306801996749

Option 3 ID : 6306801996746

Option 4 ID : 6306801996747

Status : Answered

Chosen Option : 4

Q.25 निम्नलिखित भारतीय नर्तकों में से किसको 1971 में पद्म विभूषण से सम्मानित किया गया था, जिन्हें आधुनिक भारतीय नृत्य के जनक के रूप में भी जाना जाता है?

- Ans
- 1. उदय शंकर
 - 2. केलुचरण
 - 3. पंडित बिरजू महाराज
 - 4. पंडित दुर्गा लाल

Question Type : MCQ

Question ID : 630680433310

Option 1 ID : 6306801691209

Option 2 ID : 6306801691207

Option 3 ID : 6306801691208

Option 4 ID : 6306801691210

Status : Answered

Chosen Option : 1

Q.1 Parts of the following sentence have been given as options. Select the option that contains an error.

My sister is allergic with peanuts, so be cautious when preparing her meal.

- Ans 1. allergic with peanuts
 2. so be cautious
 3. My sister is
 4. when preparing her meal.

Question Type : **MCQ**
Question ID : **630680551112**
Option 1 ID : **6306802154687**
Option 2 ID : **6306802154688**
Option 3 ID : **6306802154686**
Option 4 ID : **6306802154689**
Status : **Answered**
Chosen Option : **2**

Q.2 Select the most appropriate synonym of the given word.
Regal

- Ans 1. Modest
 2. Majestic
 3. Humble
 4. Ordinary

Question Type : **MCQ**
Question ID : **630680426387**
Option 1 ID : **6306801663639**
Option 2 ID : **6306801663638**
Option 3 ID : **6306801663637**
Option 4 ID : **6306801663640**
Status : **Answered**
Chosen Option : **4**

Q.3 In the following sentence the underlined part contains as error. Alternatives to the underlined part are given as options. Select the correct alternative.
They had a least celebration on her birthday.

- Ans 1. little
 2. most less
 3. lesser
 4. less

Question Type : **MCQ**
Question ID : **630680514715**
Option 1 ID : **6306802011487**
Option 2 ID : **6306802011485**
Option 3 ID : **6306802011486**
Option 4 ID : **6306802011488**
Status : **Answered**
Chosen Option : **1**

Q.4 Select the most appropriate option to fill in the blank.

Her presentation was both informative and _____.

- Ans 1. entertainingly
 2. entertaining
 3. entertain
 4. entertainer

Question Type : **MCQ**
Question ID : **630680471124**
Option 1 ID : **6306801840254**
Option 2 ID : **6306801840251**
Option 3 ID : **6306801840252**
Option 4 ID : **6306801840253**
Status : **Answered**
Chosen Option : **2**

Q.5 Change the following sentence into positive degree.

The dog is the most faithful animal.

- Ans 1. The dog is the only faithful animal.
 2. The dog is more useful than any other animal.
 3. The dog is the faithful animal.
 4. No other animal is as faithful as the dog.

Question Type : **MCQ**
Question ID : **630680514643**
Option 1 ID : **6306802011200**
Option 2 ID : **6306802011197**
Option 3 ID : **6306802011199**
Option 4 ID : **6306802011198**
Status : **Answered**
Chosen Option : **3**

Q.6 Select the most appropriate synonym of the underlined word in the given sentence.

A lot of social work is hindered due to corrupt politicians.

- Ans 1. Helped
 2. Abided
 3. Obstructed
 4. Collided

Question Type : **MCQ**
Question ID : **630680396409**
Option 1 ID : **6306801545746**
Option 2 ID : **6306801545745**
Option 3 ID : **6306801545747**
Option 4 ID : **6306801545744**
Status : **Answered**
Chosen Option : **3**

Q.7 Select the option that rectifies the INCORRECTLY spelt word in the given sentence.

She tried not to embarrass her friend by bringing up the awkward incident at the party.

- Ans
- 1. embarress
 - 2. emberrass
 - 3. embarrass
 - 4. embarass

Question Type : MCQ

Question ID : 630680463819

Option 1 ID : 6306801811354

Option 2 ID : 6306801811353

Option 3 ID : 6306801811352

Option 4 ID : 6306801811351

Status : Answered

Chosen Option : 3

Q.8 Select the most appropriate ANTONYM of the word 'opacity' in the given sentence.

The diminishing and deteriorating visibility in winter leads to the revival of accident cases on the highway.

- Ans
- 1. revival
 - 2. visibility
 - 3. diminishing
 - 4. deteriorating

Question Type : MCQ

Question ID : 630680537665

Option 1 ID : 6306802101919

Option 2 ID : 6306802101918

Option 3 ID : 6306802101916

Option 4 ID : 6306802101917

Status : Answered

Chosen Option : 2

Q.9 Based on the context of the given sentence, select the most appropriate idiom to fill in the blank.

Siri was feeling _____ after receiving praise from her professor for completing the project ahead of schedule.

- Ans
- 1. under the weather
 - 2. in the same boat
 - 3. on top of the world
 - 4. in the dark

Question Type : MCQ

Question ID : 630680750814

Option 1 ID : 6306802942682

Option 2 ID : 6306802942685

Option 3 ID : 6306802942683

Option 4 ID : 6306802942684

Status : Answered

Chosen Option : 3

Q.10 The following sentence has been split into four segments. Identify the segment that contains a grammatical error.
Our team lost the game / only because of / a mistake / with one of our players.

- Ans
- 1. only because of
 - 2. a mistake
 - 3. with one of our players
 - 4. Our team lost the game

Question Type : **MCQ**
Question ID : **630680726471**
Option 1 ID : **6306802846893**
Option 2 ID : **6306802846892**
Option 3 ID : **6306802846891**
Option 4 ID : **6306802846890**
Status : **Answered**
Chosen Option : **3**

Q.11 Select the most appropriate ANTONYM of the word in brackets to fill in the blank.
The mountain peak offers a breathtaking view, a striking contrast to the _____(peculiar) scenery below.

- Ans
- 1. odd
 - 2. ordinary
 - 3. abnormal
 - 4. beautiful

Question Type : **MCQ**
Question ID : **630680517425**
Option 1 ID : **6306802022097**
Option 2 ID : **6306802022096**
Option 3 ID : **6306802022099**
Option 4 ID : **6306802022098**
Status : **Answered**
Chosen Option : **2**

Q.12 Select the most appropriate option to substitute the underlined segment in the given sentence.

Ramgopal is having a very big house in Mumbai.

- Ans
- 1. were having
 - 2. have
 - 3. has
 - 4. having

Question Type : **MCQ**
Question ID : **630680552163**
Option 1 ID : **6306802158840**
Option 2 ID : **6306802158837**
Option 3 ID : **6306802158838**
Option 4 ID : **6306802158839**
Status : **Answered**
Chosen Option : **3**

Q.13 Parts of the following sentence have been given as options. Select the option that contains an error.

Shyam approached an leading psychologist for his treatment of anxiety and depression.

- Ans
- 1. of anxiety and depression.
 - 2. Shyam approached
 - 3. an leading psychologist
 - 4. for his treatment

Question Type : MCQ
Question ID : 630680399210
Option 1 ID : 6306801556790
Option 2 ID : 6306801556787
Option 3 ID : 6306801556788
Option 4 ID : 6306801556789
Status : Answered
Chosen Option : 3

Q.14 Select the INCORRECTLY spelt word.

- A) Occasion
- B) Privilege
- C) Bizzare
- D) Definitely

- Ans
- 1. D
 - 2. C
 - 3. B
 - 4. A

Question Type : MCQ
Question ID : 630680799090
Option 1 ID : 6306803131161
Option 2 ID : 6306803131160
Option 3 ID : 6306803131159
Option 4 ID : 6306803131158
Status : Answered
Chosen Option : 4

Q.15 Select the most appropriate meaning of the underlined idiom.

The poet had to draw on his fancy to write all his sonnets.

- Ans
- 1. use his memory
 - 2. use his clothes
 - 3. use his imagination
 - 4. use his money

Question Type : MCQ
Question ID : 630680751574
Option 1 ID : 6306802945722
Option 2 ID : 6306802945723
Option 3 ID : 6306802945721
Option 4 ID : 6306802945724
Status : Answered
Chosen Option : 2

Q.16 Select the INCORRECTLY spelt word.

- Ans 1. Misinterpret
 2. Argument
 3. Exagerate
 4. Unnecessary

Question Type : MCQ
Question ID : 630680556438
Option 1 ID : 6306802174948
Option 2 ID : 6306802174947
Option 3 ID : 6306802174949
Option 4 ID : 6306802174946
Status : Answered
Chosen Option : 1

Q.17 Select the most appropriate article to fill in the blank. Select 'no article' if no article is required.

The doctor asked the patient to have _____ MRI scan of his brain.

- Ans 1. an
 2. the
 3. no article
 4. a

Question Type : MCQ
Question ID : 630680468900
Option 1 ID : 6306801831368
Option 2 ID : 6306801831369
Option 3 ID : 6306801831370
Option 4 ID : 6306801831367
Status : Answered
Chosen Option : 1

Q.18 Select the most appropriate meaning of the underlined word.
The board will look into the matter.

- Ans 1. A union of workers
 2. A group of members of a company
 3. A group of elected politicians
 4. A member of a family

Question Type : MCQ
Question ID : 630680517452
Option 1 ID : 6306802022206
Option 2 ID : 6306802022207
Option 3 ID : 6306802022205
Option 4 ID : 6306802022204
Status : Answered
Chosen Option : 2

Q.19 Select the option that can be used as a one-word substitute for the given phrase.
A person who does not believe in the institution of marriage

- Ans 1. Nihilist
 2. Masochist
 3. Misogynist
 4. Misogamist

Question Type : **MCQ**

Question ID : **630680549703**

Option 1 ID : **6306802149246**

Option 2 ID : **6306802149245**

Option 3 ID : **6306802149244**

Option 4 ID : **6306802149247**

Status : **Answered**

Chosen Option : **4**

Q.20 The following sentence has been divided into parts. One of them may contain an error.
Select the part that contains the error from the given options. If you don't find any error, mark 'No error' as your answer.

My mother is 51 years old, / and my uncle is 48 years old. / So my mother is old than my uncle.

- Ans 1. My mother is 51 years old,
 2. and my uncle is 48 years old.
 3. No error
 4. So my mother is old than my uncle.

Question Type : **MCQ**

Question ID : **630680628164**

Option 1 ID : **6306802458667**

Option 2 ID : **6306802458668**

Option 3 ID : **6306802458670**

Option 4 ID : **6306802458669**

Status : **Answered**

Chosen Option : **4**

Comprehension:

In the following passage, some words have been deleted. Read the passage carefully and select the most appropriate option to fill in each blank.

Speaking is a powerful tool (1)_____ human communication. It allows us to convey thoughts, emotions and ideas to others. Effective speaking (2)_____ not only the words we choose but also our tone, body language and overall presentation. Public speaking, in particular, can be (3)_____ a skill and an art, enabling individuals to inspire, educate and persuade audiences. (4)_____ it is a casual conversation with a friend or a formal presentation to a large group, the ability to express (5)_____ clearly and confidently through speaking is a valuable skill that can greatly impact our personal and professional lives.

SubQuestion No : 21

Q.21 Select the most appropriate option to fill in blank number 1.

Ans 1. for

2. at

3. on

4. with

Question Type : **MCQ**

Question ID : **630680449762**

Option 1 ID : **6306801756194**

Option 2 ID : **6306801756192**

Option 3 ID : **6306801756193**

Option 4 ID : **6306801756195**

Status : **Answered**

Chosen Option : 1

Comprehension:

In the following passage, some words have been deleted. Read the passage carefully and select the most appropriate option to fill in each blank.

Speaking is a powerful tool (1)_____ human communication. It allows us to convey thoughts, emotions and ideas to others. Effective speaking (2)_____ not only the words we choose but also our tone, body language and overall presentation. Public speaking, in particular, can be (3)_____ a skill and an art, enabling individuals to inspire, educate and persuade audiences. (4)_____ it is a casual conversation with a friend or a formal presentation to a large group, the ability to express (5)_____ clearly and confidently through speaking is a valuable skill that can greatly impact our personal and professional lives.

SubQuestion No : 22

Q.22 Select the most appropriate option to fill in blank number 2.

Ans 1. involve

2. involving

3. involves

4. involved

Question Type : **MCQ**

Question ID : **630680449763**

Option 1 ID : **6306801756197**

Option 2 ID : **6306801756199**

Option 3 ID : **6306801756196**

Option 4 ID : **6306801756198**

Status : **Answered**

Chosen Option : 3

Comprehension:

In the following passage, some words have been deleted. Read the passage carefully and select the most appropriate option to fill in each blank.

Speaking is a powerful tool (1)_____ human communication. It allows us to convey thoughts, emotions and ideas to others. Effective speaking (2)_____ not only the words we choose but also our tone, body language and overall presentation. Public speaking, in particular, can be (3)_____ a skill and an art, enabling individuals to inspire, educate and persuade audiences. (4)_____ it is a casual conversation with a friend or a formal presentation to a large group, the ability to express (5)_____ clearly and confidently through speaking is a valuable skill that can greatly impact our personal and professional lives.

SubQuestion No : 23

Q.23 Select the most appropriate option to fill in blank number 3.

Ans 1. though

2. both

3. until

4. and

Question Type : **MCQ**

Question ID : **630680449922**

Option 1 ID : **6306801756862**

Option 2 ID : **6306801756863**

Option 3 ID : **6306801756865**

Option 4 ID : **6306801756864**

Status : **Answered**

Chosen Option : **2**

Comprehension:

In the following passage, some words have been deleted. Read the passage carefully and select the most appropriate option to fill in each blank.

Speaking is a powerful tool (1)_____ human communication. It allows us to convey thoughts, emotions and ideas to others. Effective speaking (2)_____ not only the words we choose but also our tone, body language and overall presentation. Public speaking, in particular, can be (3)_____ a skill and an art, enabling individuals to inspire, educate and persuade audiences. (4)_____ it is a casual conversation with a friend or a formal presentation to a large group, the ability to express (5)_____ clearly and confidently through speaking is a valuable skill that can greatly impact our personal and professional lives.

SubQuestion No : 24

Q.24 Select the most appropriate option to fill in blank number 4.

Ans 1. Neither

2. Whether

3. Because

4. Whereas

Question Type : **MCQ**

Question ID : **630680449923**

Option 1 ID : **6306801756868**

Option 2 ID : **6306801756869**

Option 3 ID : **6306801756866**

Option 4 ID : **6306801756867**

Status : **Answered**

Chosen Option : **2**

Comprehension:

In the following passage, some words have been deleted. Read the passage carefully and select the most appropriate option to fill in each blank.

Speaking is a powerful tool (1)_____ human communication. It allows us to convey thoughts, emotions and ideas to others. Effective speaking (2)_____ not only the words we choose but also our tone, body language and overall presentation. Public speaking, in particular, can be (3)_____ a skill and an art, enabling individuals to inspire, educate and persuade audiences. (4)_____ it is a casual conversation with a friend or a formal presentation to a large group, the ability to express (5)_____ clearly and confidently through speaking is a valuable skill that can greatly impact our personal and professional lives.

SubQuestion No : 25

Q.25 Select the most appropriate option to fill in blank number 5.

- Ans
- 1. herself
 - 2. itself
 - 3. ourselves
 - 4. themselves

Question Type : **MCQ**

Question ID : **630680449924**

Option 1 ID : **6306801756872**

Option 2 ID : **6306801756870**

Option 3 ID : **6306801756871**

Option 4 ID : **6306801756873**

Status : **Answered**

Chosen Option : **3**