

## Multi Tasking Non Technical Staff and Havalдар CBIC and CBN Examination 2024

Roll Number	
Candidate Name	
Venue Name	Sri Balaji College Of Engineering And Technology
Exam Date	11/11/2024
Exam Time	4:00 PM - 5:30 PM
Subject	MTS Non Tech Havalдар CBIC and CBN Examination 2024

### Section : Numerical and Mathematical Ability

Q.1 साधारण ब्याज पर 4% वार्षिक दर से निवेश की गई किसी धनराशि का मूल्य 30% तक बढ़ने में कितना समय (वर्ष में) लगेगा?

- Ans
- 1.  $7\frac{1}{2}$
  - 2.  $8\frac{1}{2}$
  - 3.  $5\frac{1}{2}$
  - 4.  $4\frac{1}{2}$

Question Type : MCQ

Question ID : 630680397529

Option 1 ID : 6306801550034

Option 2 ID : 6306801550036

Option 3 ID : 6306801550035

Option 4 ID : 6306801550037

Status : Answered

Chosen Option : 1

Q.2 P की मासिक आय और Q की मासिक आय के बीच का अनुपात 7 : 6 है और उनके व्ययों के बीच का अनुपात 6 : 5 है। यदि उनमें से प्रत्येक ₹480 की बचत करता है, तो P की मासिक आय ज्ञात कीजिए।

- Ans
- 1. ₹2,880
  - 2. ₹2,400
  - 3. ₹3,360
  - 4. ₹6,240

Question Type : MCQ

Question ID : 630680455640

Option 1 ID : 6306801779478

Option 2 ID : 6306801779480

Option 3 ID : 6306801779479

Option 4 ID : 6306801779481

Status : Answered

Chosen Option : 3

Q.3 किसी परीक्षा में, एक कक्षा में विद्यार्थी के औसत अंक 85.4 थे। यदि विद्यार्थी को इतिहास में 8 अंक अधिक मिलते, विज्ञान में 12 अंक अधिक मिलते, कंप्यूटर विज्ञान में 10 अंक अधिक मिलते, हिंदी में 15 अंक कम मिलते और अन्य विषयों में समान अंक बरकरार रहते, तो औसत 87.9 होता। परीक्षा में कितने विषय थे?

Ans  1.5

2.6

3.8

4.7

Question Type : MCQ

Question ID : 630680468482

Option 1 ID : 6306801829730

Option 2 ID : 6306801829731

Option 3 ID : 6306801829733

Option 4 ID : 6306801829732

Status : Answered

Chosen Option : 3

Q.4 एक आदमी 10 km/h की चाल से एक निश्चित दूरी तय करता है और 8 km/h की चाल से प्रारंभिक बिंदु पर लौटता है। संपूर्ण यात्रा में उसे कुल डेढ़ घंटे का समय लगा। उसके द्वारा तय की गई कुल दूरी (km में) कितनी है?

Ans  1.  $11\frac{1}{3}$

2.  $12\frac{2}{3}$

3.  $14\frac{2}{5}$

4.  $13\frac{1}{3}$

Question Type : MCQ

Question ID : 630680590784

Option 1 ID : 6306802311615

Option 2 ID : 6306802311616

Option 3 ID : 6306802311618

Option 4 ID : 6306802311617

Status : Answered

Chosen Option : 2

Q.5 पाँच टोकरीयाँ- A, B, C, D और E हैं। प्रत्येक टोकरी में छल्ले हैं और सभी पाँच टोकरीयों में छल्लों की औसत संख्या 42 है। यदि टोकरी D को हटा दिया जाए, तो शेष टोकरीयों में छल्लों की औसत संख्या 38 हो जाती है। टोकरी D में कितने छल्ले हैं?

Ans  1. 38

2. 64

3. 58

4. 42

Question Type : MCQ

Question ID : 630680477509

Option 1 ID : 6306801865195

Option 2 ID : 6306801865196

Option 3 ID : 6306801865194

Option 4 ID : 6306801865193

Status : Answered

Chosen Option : 3

Q.6 5 वर्षों के लिए 8% वार्षिक की ब्याज दर पर उधार ली गई राशि ₹2000 पर साधारण ब्याज (₹ में) ज्ञात कीजिए।

Ans  1. 740

2. 800

3. 840

4. 760

Question Type : MCQ

Question ID : 630680591881

Option 1 ID : 6306802315993

Option 2 ID : 6306802315991

Option 3 ID : 6306802315992

Option 4 ID : 6306802315994

Status : Answered

Chosen Option : 2

Q.7 वह सबसे बड़ी संख्या कौन-सी है, जो 38, 95 और 171 को पूर्णतः विभाजित करती है।

Ans  1. 19

2. 21

3. 9

4. 13

Question Type : MCQ

Question ID : 630680107638

Option 1 ID : 630680417844

Option 2 ID : 630680417845

Option 3 ID : 630680417846

Option 4 ID : 630680417847

Status : Answered

Chosen Option : 1

Q.8 एक बेईमान दुकानदार अपने सामान को क्रय मूल्य पर बेचने का दावा करता है। हालाँकि, वह एक ऐसे बाट का उपयोग करता है जिसका वजन वास्तव में उस पर लिखे बाट से 33% कम है। उसका लाभ प्रतिशत ज्ञात कीजिए।

Ans

1.  $48\frac{17}{67}\%$

2.  $50\frac{18}{67}\%$

3.  $49\frac{17}{67}\%$

4.  $51\frac{34}{67}\%$

Question Type : **MCQ**

Question ID : **630680919324**

Option 1 ID : **6306803602488**

Option 2 ID : **6306803602489**

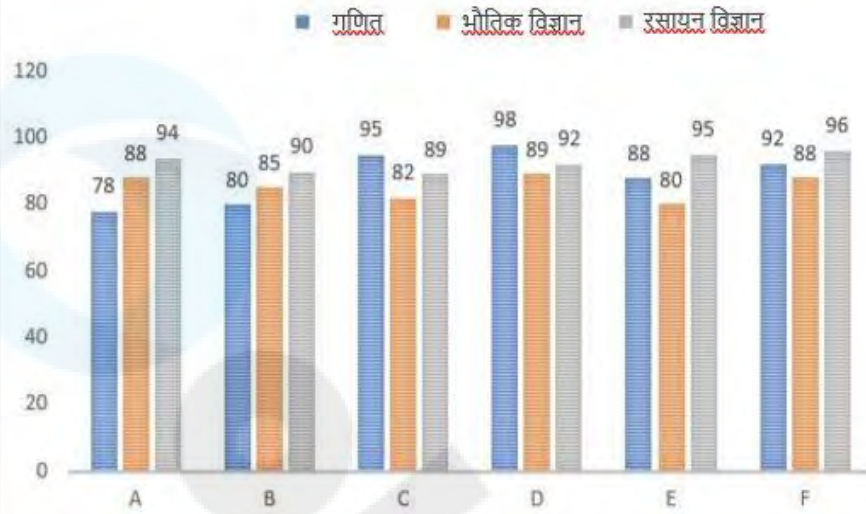
Option 3 ID : **6306803602486**

Option 4 ID : **6306803602487**

Status : **Answered**

Chosen Option : **3**

Q.9 दिए गए बार ग्राफ का अध्ययन कीजिए और निम्नलिखित प्रश्न का उत्तर दीजिए।  
नीचे दिया गया बार-ग्राफ गणित, भौतिक विज्ञान और रसायन विज्ञान में छः छात्रों (A, B, C, D, E और F) द्वारा प्राप्त औसत अंकों को दर्शाता है। प्रत्येक विषय के अधिकतम अंक 100 हैं।



गणित, भौतिक विज्ञान और रसायन विज्ञान में B द्वारा प्राप्त कुल अंकों तथा गणित, भौतिक विज्ञान और रसायन विज्ञान में F द्वारा प्राप्त कुल अंकों के बीच अंतर ज्ञात कीजिए।

Ans ✓ 1. 21

✗ 2. 12

✗ 3. 42

✗ 4. 24

Question Type : MCQ

Question ID : 630680422425

Option 1 ID : 6306801648133

Option 2 ID : 6306801648132

Option 3 ID : 6306801648135

Option 4 ID : 6306801648134

Status : Answered

Chosen Option : 1

Q.10 8 cm त्रिज्या वाले एक ठोस बेलन का संपूर्ण पृष्ठीय क्षेत्रफल  $704 \text{ cm}^2$  है। बेलन का आयतन ज्ञात कीजिए।  
( $\pi = \frac{22}{7}$  लीजिए)

- Ans
- 1.  $1106 \frac{6}{7} \text{ cm}^3$
  - 2.  $1026 \frac{6}{7} \text{ cm}^3$
  - 3.  $1206 \frac{6}{7} \text{ cm}^3$
  - 4.  $1602 \frac{6}{7} \text{ cm}^3$

Question Type : MCQ

Question ID : 630680395393

Option 1 ID : 6306801541754

Option 2 ID : 6306801541752

Option 3 ID : 6306801541753

Option 4 ID : 6306801541755

Status : Answered

Chosen Option : 3

Q.11 किसी वस्तु का अंकित मूल्य ₹1,680 है और इसे 19% की छूट पर बेचा जाता है। यदि इसमें 8% का लाभ होता है, तो वस्तु पर क्रय मूल्य से कितने प्रतिशत अधिक मूल्य अंकित किया गया है?

- Ans
- 1.  $32 \frac{1}{3} \%$
  - 2.  $35 \frac{1}{3} \%$
  - 3.  $31 \frac{1}{3} \%$
  - 4.  $33 \frac{1}{3} \%$

Question Type : MCQ

Question ID : 630680631081

Option 1 ID : 6306802470274

Option 2 ID : 6306802470272

Option 3 ID : 6306802470273

Option 4 ID : 6306802470275

Status : Answered

Chosen Option : 4

Q.12 एक व्यक्ति के वेतन में 20% की कमी होती है। उसके कम किए गए वेतन (reduced salary) में कितने प्रतिशत की वृद्धि करनी चाहिए ताकि उसे उसके मूल वेतन के बराबर लाया जा सके?

- Ans
- 1. 30%
  - 2. 22%
  - 3. 20%
  - 4. 25%

Question Type : MCQ

Question ID : 630680481182

Option 1 ID : 6306801879296

Option 2 ID : 6306801879297

Option 3 ID : 6306801879298

Option 4 ID : 6306801879299

Status : Answered

Chosen Option : 4

Q.13 21cm त्रिज्या वाले एक ठोस लम्ब वृत्तीय बेलन की ऊँचाई क्या है, यदि इसका संपूर्ण पृष्ठीय क्षेत्रफल  $3828 \text{ cm}^2$  है? ( $\pi = \frac{22}{7}$  का प्रयोग कीजिए)

- Ans
- 1. 10 cm
  - 2. 6 cm
  - 3. 8 cm
  - 4. 12 cm

Question Type : MCQ

Question ID : 630680104063

Option 1 ID : 630680404468

Option 2 ID : 630680404470

Option 3 ID : 630680404467

Option 4 ID : 630680404469

Status : Answered

Chosen Option : 3

Q.14 अमर एक दीवार घड़ी ₹300 में खरीदता है और उसे ₹200 में बेचता है। उसका हानि प्रतिशत ज्ञात करें।

- Ans
- 1. 30.33% हानि
  - 2. 33.33% हानि
  - 3. 31.33% लाभ
  - 4. 32.33% लाभ

Question Type : MCQ

Question ID : 630680107198

Option 1 ID : 630680416177

Option 2 ID : 630680416176

Option 3 ID : 630680416179

Option 4 ID : 630680416178

Status : Answered

Chosen Option : 2

Q.15 नीचे दी गई तालिका उन व्यक्तियों की संख्या को दर्शाती है जिन्होंने संगीत की अपनी पसंदीदा शैली के बारे में एक सर्वेक्षण पर उत्तर दिए।

आयु	18-35	36-50	51+
शास्त्रीय	75	51	54
पॉप	54	67	65
हिप-हॉप	60	82	78
रॉक	72	78	49
कुल	261	278	246

कुल नमूने का कितना प्रतिशत (दो दशमलव स्थानों तक पूर्णांकित) इंगित करता है कि शास्त्रीय संगीत उनकी पसंदीदा शैली है?

- Ans
- 1. 26.32%
  - 2. 22.93%
  - 3. 21.15%
  - 4. 19.25%

Question Type : **MCQ**  
Question ID : **630680523775**  
Option 1 ID : **6306802047254**  
Option 2 ID : **6306802047253**  
Option 3 ID : **6306802047252**  
Option 4 ID : **6306802047251**  
Status : **Marked For Review**  
Chosen Option : 2

Q.16 60 विद्यार्थियों के औसत अंक 48 पाए गए। बाद में, यह पाया गया कि 68 अंक को गलती से 56 पढ़ लिया गया था। सही अंक के अनुरूप सही औसत ज्ञात कीजिए।

- Ans
- 1. 48.2
  - 2. 40.8
  - 3. 54.2
  - 4. 44.2

Question Type : **MCQ**  
Question ID : **630680468855**  
Option 1 ID : **6306801831197**  
Option 2 ID : **6306801831195**  
Option 3 ID : **6306801831198**  
Option 4 ID : **6306801831196**  
Status : **Answered**  
Chosen Option : 1

Q.17 एक राशि 4 वर्ष के लिए साधारण ब्याज की एक निश्चित दर पर जमा की गई थी। यदि ब्याज दर 5% अधिक होती, तो यह राशि ₹5,200 अधिक होती। जमा की गई राशि ज्ञात कीजिए।

Ans  1. ₹26,000

2. ₹25,000

3. ₹10,400

4. ₹13,000

Question Type : MCQ

Question ID : 630680815836

Option 1 ID : 6306803196680

Option 2 ID : 6306803196679

Option 3 ID : 6306803196678

Option 4 ID : 6306803196677

Status : Answered

Chosen Option : 1

Q.18 दो ट्रेनें एक ही समय पर दो स्टेशनों से प्रस्थान करती हैं और क्रमशः 72 km/h और 84 km/h की चाल से एक-दूसरे की ओर यात्रा करती हैं। जब वे एक-दूसरे को पार करती हैं, तो पता चलता है कि एक ट्रेन ने दूसरी ट्रेन से 108 km अधिक दूरी तय की है। क्रमशः दोनों स्टेशनों के बीच की दूरी (km में) क्या है और वे कितने घंटे बाद मिलेंगी?

Ans  1. 1084; 7

2. 1440; 10

3. 1404; 9

4. 1244; 8

Question Type : MCQ

Question ID : 630680122789

Option 1 ID : 630680476069

Option 2 ID : 630680476067

Option 3 ID : 630680476066

Option 4 ID : 630680476068

Status : Answered

Chosen Option : 3

Q.19 तीन क्रमागत विषम संख्याओं का योग, इन संख्याओं के औसत से 58 अधिक है। सबसे बड़ी संख्या ज्ञात कीजिए।

Ans  1. 33

2. 31

3. 27

4. 37

Question Type : MCQ

Question ID : 630680449457

Option 1 ID : 6306801754953

Option 2 ID : 6306801754954

Option 3 ID : 6306801754955

Option 4 ID : 6306801754956

Status : Answered

Chosen Option : 4

Q.20 9 cm त्रिज्या वाले एक ठोस गोले को पिघलाकर 12 cm लंबाई और 15 cm बाहरी त्रिज्या वाली एक खोखली, लंब वृत्ताकार बेलनाकार ट्यूब बनाई जाती है। ट्यूब की मोटाई (cm में) कितनी है?

- Ans  1.4  
 2.1  
 3.3  
 4.2

Question Type : MCQ

Question ID : 630680380371

Option 1 ID : 6306801482482

Option 2 ID : 6306801482479

Option 3 ID : 6306801482481

Option 4 ID : 6306801482480

Status : Answered

Chosen Option : 2

Section : Reasoning Ability and Problem Solving

Q.1 एक निश्चित कूट भाषा में, 'FITS' को 'ULID' के रूप में कूटबद्ध किया जाता है और 'GIFT' को 'IUZD' के रूप में कूटबद्ध किया जाता है। उसी कूट भाषा में 'G' का कूट क्या होगा?

- Ans  1. I  
 2. Z  
 3. U  
 4. D

Question Type : MCQ

Question ID : 630680503087

Option 1 ID : 6306801965933

Option 2 ID : 6306801965935

Option 3 ID : 6306801965934

Option 4 ID : 6306801965936

Status : Answered

Chosen Option : 2

Q.2 दिए गए कथनों और निष्कर्षों को ध्यानपूर्वक पढ़िए। यह मानते हुए कि कथनों में दी गई जानकारी सत्य है, चाहे वह सामान्यतः ज्ञात तथ्यों से भिन्न प्रतीत होती हो और निर्णय लीजिए कि दिए गए निष्कर्षों में से कौन-सा/कौन-से निष्कर्ष कथनों का तार्किक रूप से अनुसरण करता है/करते हैं।

कथन:

सभी बेल्ट, बटुए हैं।  
कुछ बटुए, चश्में हैं।

निष्कर्ष:

(I) कुछ बेल्ट, चश्में हैं।

(II) कुछ चश्मे, बटुए नहीं हैं।

Ans  1. न तो निष्कर्ष (I) और न ही निष्कर्ष (II) अनुसरण करता है

2. निष्कर्ष (I) और निष्कर्ष (II), दोनों अनुसरण करते हैं

3. केवल निष्कर्ष (II) अनुसरण करता है

4. केवल निष्कर्ष (I) अनुसरण करता है

Question Type : MCQ

Question ID : 630680411096

Option 1 ID : 6306801603139

Option 2 ID : 6306801603138

Option 3 ID : 6306801603137

Option 4 ID : 6306801603136

Status : Answered

Chosen Option : 2

Q.3 E, F, G, H, I, J और K एक वृत्ताकार मेज के चारों ओर इसके केंद्र की ओर मुख करके बैठे हैं (परंतु जरूरी नहीं कि वे इसी क्रम में बैठे हों)। I, J के बाईं ओर से तीसरे स्थान पर बैठा है। G और H दोनों का निकटतम पड़ोसी E है। G, J के दाईं ओर से तीसरे स्थान पर बैठा है। F, I के दाईं ओर से दूसरे स्थान पर बैठा है। H के सापेक्ष K का स्थान क्या है?

Ans  1. दाईं ओर से तीसरा

2. बाईं ओर से तीसरा

3. बाईं ओर से दूसरा

4. ठीक दाईं ओर

Question Type : MCQ

Question ID : 630680383284

Option 1 ID : 6306801494037

Option 2 ID : 6306801494035

Option 3 ID : 6306801494036

Option 4 ID : 6306801494038

Status : Answered

Chosen Option : 2

Q.4 यदि '+' और '-' को आपस में बदल दिया जाए तथा 'x' और '÷' को आपस में बदल दिया जाए, तो निम्नलिखित समीकरण में प्रश्न चिह्न (?) के स्थान पर क्या आएगा?

$$234 \times 6 - 6 \div 66 + 60 = ?$$

- Ans
- 1. 322
  - 2. 329
  - 3. 365
  - 4. 375

Question Type : MCQ

Question ID : 630680401367

Option 1 ID : 6306801565257

Option 2 ID : 6306801565254

Option 3 ID : 6306801565255

Option 4 ID : 6306801565256

Status : Answered

Chosen Option : 4

Q.5 दिए गए कथनों और निष्कर्षों को ध्यानपूर्वक पढ़िए। यह मानते हुए कि कथनों में दी गई जानकारी सत्य है, चाहे वह सामान्यतः ज्ञात तथ्यों से भिन्न प्रतीत होती हो और निर्णय लीजिए कि दिए गए निष्कर्षों में से कौन-सा/कौन-से निष्कर्ष कथनों का तार्किक रूप से अनुसरण करता है/करते हैं।

कथन:

कुछ शिशु, मानव हैं।  
सभी शिशु, जानवर हैं।

निष्कर्ष:

- (I) कम से कम कुछ जानवर, मानव हैं।
- (II) सभी जानवर, शिशु हैं।

- Ans
- 1. न तो निष्कर्ष (I) और न ही (II) अनुसरण करता है।
  - 2. केवल निष्कर्ष (I) अनुसरण करता है।
  - 3. केवल निष्कर्ष (II) अनुसरण करता है।
  - 4. निष्कर्ष (I) और (II) दोनों अनुसरण करते हैं।

Question Type : MCQ

Question ID : 630680410765

Option 1 ID : 6306801601818

Option 2 ID : 6306801601817

Option 3 ID : 6306801601816

Option 4 ID : 6306801601819

Status : Answered

Chosen Option : 2

Q.6 एक निश्चित कूट भाषा में 'BEND' को 'ADMC' के रूप में लिखा जाता है तथा 'FISH' को 'EHRG' के रूप में लिखा जाता है। उस भाषा में 'EVIL' कैसे लिखा जाएगा?

Ans  1. DUHK

2. FWJM

3. DUJM

4. DWHK

Question Type : MCQ

Question ID : 630680379924

Option 1 ID : 6306801480732

Option 2 ID : 6306801480731

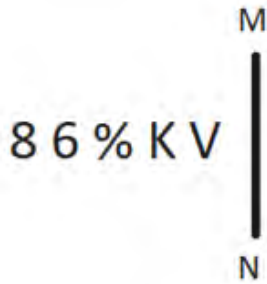
Option 3 ID : 6306801480734

Option 4 ID : 6306801480733

Status : Answered

Chosen Option : 1

Q.7 दी गई आकृति के उस सही दर्पण प्रतिबिंब को चुनिए, जो नीचे दर्शाए गए अनुसार दर्पण को MN पर रखने पर बनेगा।



Ans  1. 8 K Λ 8

2. V K 8 8

3. Λ K 8 8

4. V K 6 % 8

Question Type : MCQ

Question ID : 630680525239

Option 1 ID : 6306802053043

Option 2 ID : 6306802053042

Option 3 ID : 6306802053040

Option 4 ID : 6306802053041

Status : Answered

Chosen Option : 2

Q.8 किसी कूट भाषा में, 'MBXL' को 'OXZH' के रूप में कूटबद्ध किया जाता है और 'FKRG' को 'HGTC' के रूप में कूटबद्ध किया जाता है। उसी भाषा में 'LUGS' को किस प्रकार कूटबद्ध किया जाएगा?

- Ans
- 1. OPJN
  - 2. NQIO
  - 3. NPIN
  - 4. OQJP

Question Type : MCQ

Question ID : 630680465310

Option 1 ID : 6306801817278

Option 2 ID : 6306801817276

Option 3 ID : 6306801817275

Option 4 ID : 6306801817277

Status : Answered

Chosen Option : 2

Q.9 निम्नलिखित में से किन चिह्नों को आपस में बदलने पर दिया गया समीकरण सही हो जाएगा?  
 $8 - 4 + 144 \div 16 \times 27 = 14$

- Ans
- 1.  $\times$  और  $-$
  - 2.  $-$  और  $+$
  - 3.  $\div$  और  $-$
  - 4.  $+$  और  $\times$

Question Type : MCQ

Question ID : 630680411984

Option 1 ID : 6306801606772

Option 2 ID : 6306801606773

Option 3 ID : 6306801606771

Option 4 ID : 6306801606774

Status : Answered

Chosen Option : 1

Q.10 निम्नलिखित श्रृंखला को यदि जारी रखा जाए तो प्रश्नवाचक चिह्न (?) के स्थान पर कौन-सी आकृति आनी चाहिए?

☆ = 6	H 6	=	
N ☆	= N	H	?
6 =		6	

Ans

✓ 1.

D	
N	
6 =	

✗ 2.

D	
H	
= 6	

✗ 3.

D	
N	
6 =	

✗ 4.

H	
N	
6 =	

Question Type : **MCQ**

Question ID : **630680525489**

Option 1 ID : **6306802054040**

Option 2 ID : **6306802054042**

Option 3 ID : **6306802054043**

Option 4 ID : **6306802054041**

Status : **Answered**

Chosen Option : **4**

Q.11 अंग्रेजी वर्णानुक्रम के आधार पर दी गई श्रृंखला में प्रश्न चिह्न (?) के स्थान पर क्या आना चाहिए?

FOM, ILJ, LIG, OFD, ?

Ans  1. RCA

2. SCB

3. SCA

4. RCB

Question Type : MCQ

Question ID : 630680459274

Option 1 ID : 6306801793949

Option 2 ID : 6306801793952

Option 3 ID : 6306801793950

Option 4 ID : 6306801793951

Status : Answered

Chosen Option : 1

Q.12 दिए गए विकल्पों में से उस संख्या का चयन कीजिए, जो निम्नलिखित श्रृंखला में प्रश्न-चिह्न (?) के स्थान पर आ सकती है।  
86, 91, 101, 116, ?

Ans  1. 134

2. 159

3. 126

4. 136

Question Type : MCQ

Question ID : 630680402302

Option 1 ID : 6306801568793

Option 2 ID : 6306801568792

Option 3 ID : 6306801568791

Option 4 ID : 6306801568794

Status : Answered

Chosen Option : 4

Q.13 AI10 एक निश्चित प्रकार से YG12 से संबंधित है। उसी प्रकार से BJ20, ZH22 से संबंधित है। समान तर्क का अनुसरण करते हुए, CK30 निम्नलिखित में से किससे संबंधित है?

Ans  1. BC22

2. AI32

3. AB32

4. BI22

Question Type : MCQ

Question ID : 6306801108793

Option 1 ID : 6306804355721

Option 2 ID : 6306804355718

Option 3 ID : 6306804355720

Option 4 ID : 6306804355719

Status : Answered

Chosen Option : 2

**Q.14** उस विकल्प का चयन कीजिए जो तीसरी आकृति से उसी प्रकार संबंधित है जिस प्रकार दूसरी आकृति पहली आकृति से संबंधित है।  
सादृश्य का पालन कीजिए-  
आकृति 1 : आकृति 2 :: आकृति 3 : ?



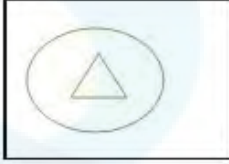
आकृति 1

आकृति 2

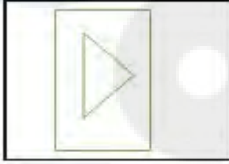
आकृति 3

**Ans**

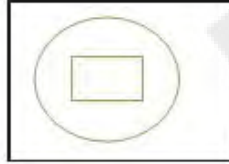
1.



2.



3.



4.



Question Type : **MCQ**

Question ID : **630680220439**

Option 1 ID : **630680855622**

Option 2 ID : **630680855621**

Option 3 ID : **630680855623**

Option 4 ID : **630680855624**

Status : **Answered**

Chosen Option : **3**

**Q.15** OM 13 एक निश्चित प्रकार से RP 17 से संबंधित है। ठीक उसी प्रकार WU 19, ZX 23 से संबंधित है।  
समान तर्क का पालन करते हुए, IG 14 निम्नलिखित में से किससे संबंधित है?

**Ans**  1. LJ 17

2. LJ 18

3. KJ 17

4. KJ 18

Question Type : **MCQ**

Question ID : **630680931502**

Option 1 ID : **6306803650805**

Option 2 ID : **6306803650806**

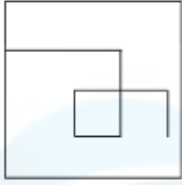
Option 3 ID : **6306803650807**

Option 4 ID : **6306803650804**

Status : **Answered**

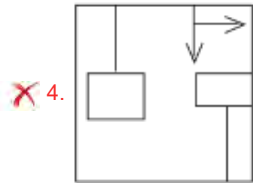
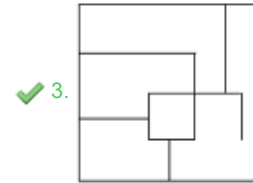
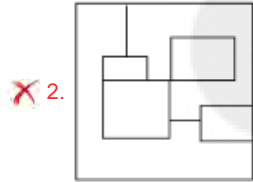
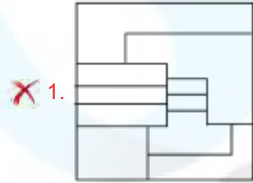
Chosen Option : **2**

Q.16 उस विकल्प आकृति का चयन कीजिए जिसमें दी गई आकृति (X) उसके एक भाग के रूप में सन्निकित है (घूर्णन की अनुमति नहीं है)।



(X)

Ans



Question Type : **MCQ**

Question ID : **630680487613**

Option 1 ID : **6306801904522**

Option 2 ID : **6306801904525**

Option 3 ID : **6306801904523**

Option 4 ID : **6306801904524**

Status : **Answered**

Chosen Option : **3**

Q.17 एक निश्चित कूट भाषा में 'KNOW' को '2846' के रूप में कूटबद्ध किया जाता है और 'WIDE' को '5729' के रूप में कूटबद्ध किया जाता है। दी गई कूट भाषा में 'W' के लिए कूट क्या है?

Ans  1. 5

2. 2

3. 9

4. 6

Question Type : MCQ

Question ID : 630680435929

Option 1 ID : 6306801701666

Option 2 ID : 6306801701665

Option 3 ID : 6306801701668

Option 4 ID : 6306801701667

Status : Answered

Chosen Option : 2

Q.18 निम्नलिखित संख्या-युग्मों में, दूसरी संख्या, पहली संख्या पर निश्चित गणितीय संक्रियाएँ करके प्राप्त की जाती है। उस समुच्चय का चयन कीजिए जिसमें संख्याएँ ठीक उसी प्रकार संबंधित हैं जिस प्रकार दिए गए समुच्चयों की संख्याएँ संबंधित हैं।

(ध्यान दें: संख्याओं को उनके घटक अंकों में अलग-अलग किए बिना पूर्ण संख्याओं पर संक्रियाएं की जानी चाहिए। उदाहरण के लिए संख्या 13 - संख्या 13 पर संक्रियाएं जैसे 13 को जोड़ना/घटाना/गुणा करना आदि किया जा सकता है। 13 को 1 और 3 में अलग-अलग करने की और फिर 1 और 3 पर गणितीय संक्रियाएं करने की अनुमति नहीं है।)

12, 108  
20, 180

Ans  1. 25, 225

2. 30, 290

3. 14, 125

4. 18, 156

Question Type : MCQ

Question ID : 630680408012

Option 1 ID : 6306801590969

Option 2 ID : 6306801590970

Option 3 ID : 6306801590967

Option 4 ID : 6306801590968

Status : Answered

Chosen Option : 1

Q.19 6, किसी निश्चित तर्क का अनुसरण करते हुए 77 से संबंधित है। 9, समान तर्क का अनुसरण करते हुए 116 से संबंधित है। समान तर्क का अनुसरण करते हुए 11, निम्नलिखित में से किससे संबंधित है?

(ध्यान दें: संख्याओं को उनके घटक अंकों में अलग-अलग किए बिना पूर्ण संख्याओं पर संक्रियाएं की जानी चाहिए। उदाहरण के लिए संख्या 13 - संख्या 13 पर संक्रियाएं जैसे 13 को जोड़ना/घटाना/गुणा करना आदि किया जा सकता है। 13 को 1 और 3 में अलग-अलग करने की और फिर 1 और 3 पर गणितीय संक्रियाएं करने की अनुमति नहीं है।)

Ans  1. 142

2. 141

3. 143

4. 132

Question Type : MCQ

Question ID : 630680450179

Option 1 ID : 6306801757863

Option 2 ID : 6306801757866

Option 3 ID : 6306801757865

Option 4 ID : 6306801757864

Status : Answered

Chosen Option : 1

Q.20 सात उम्मीदवार A, B, L, N, S, T और Z समूह चर्चा के लिए एक वृत्ताकार मेज के चारों ओर केंद्र की ओर मुख करके बैठे हैं (परंतु जरूरी नहीं कि वे इसी क्रम में बैठें हों)। L, N के बाईं ओर तीसरे स्थान पर बैठा है। T और B के ठीक बीच में N बैठा है। Z, B का निकटतम पड़ोसी है और S के बाईं ओर तीसरे स्थान पर बैठा है। Z भी A का निकटतम पड़ोसी है। N के बाईं ओर दूसरे स्थान पर कौन बैठा है?

Ans  1. A

2. L

3. Z

4. S

Question Type : MCQ

Question ID : 630680379920

Option 1 ID : 6306801480717

Option 2 ID : 6306801480718

Option 3 ID : 6306801480716

Option 4 ID : 6306801480715

Status : Answered

Chosen Option : 4

Section : General Awareness

Q.1 जब 11वें मौलिक कर्तव्य को भारतीय संविधान में शामिल किया गया, तब प्रधान मंत्री कौन थे?

- Ans
- 1. इंदिरा गांधी
  - 2. लाल बहादुर शास्त्री
  - 3. अटल बिहारी वाजपेयी
  - 4. गुलजारी लाल नंदा

Question Type : MCQ

Question ID : 630680276504

Option 1 ID : 6306801074513

Option 2 ID : 6306801074514

Option 3 ID : 6306801074511

Option 4 ID : 6306801074512

Status : Answered

Chosen Option : 3

Q.2 निम्नलिखित में से कौन-सा/कौन-से गैर-कर राजस्व प्राप्ति का/के उदाहरण है/हैं?

- Ans
- 1. विनिवेश
  - 2. बाह्य वाणिज्यिक ऋण ग्रहण
  - 3. ब्याज से प्राप्त आय
  - 4. आयकर

Question Type : MCQ

Question ID : 630680303680

Option 1 ID : 6306801181290

Option 2 ID : 6306801181291

Option 3 ID : 6306801181292

Option 4 ID : 6306801181289

Status : Answered

Chosen Option : 2

Q.3 अल्टीमेट खो-खो लीग (Ultimate Kho-Kho League) टूर्नामेंट के किस सीज़न में रामजी कश्यप को प्लेयर ऑफ़ द टूर्नामेंट (Player of the tournament) का पुरस्कार दिया गया था?

- Ans
- 1. सीज़न 1
  - 2. सीज़न 2
  - 3. सीज़न 3
  - 4. सीज़न 4

Question Type : MCQ

Question ID : 630680694289

Option 1 ID : 6306802719440

Option 2 ID : 6306802719441

Option 3 ID : 6306802719442

Option 4 ID : 6306802719443

Status : Answered

Chosen Option : 4

Q.4 गरीबी रेखा की गणना के लिए दादाभाई नौरोजी ने किस दृष्टिकोण का उपयोग किया?

Ans  1. निर्यात-आयात आंकड़े (Export-import data)

2. कैदी मेनू (Prisoner menu)

3. औद्योगिक उत्पादन (Industrial output)

4. कृषि उत्पादकता (Agricultural productivity)

Question Type : MCQ

Question ID : 630680488285

Option 1 ID : 6306801907198

Option 2 ID : 6306801907196

Option 3 ID : 6306801907197

Option 4 ID : 6306801907195

Status : Answered

Chosen Option : 2

Q.5 वर्ष 2023 में महिला प्रीमियर लीग (Women's Premier League - WPL) प्रतियोगिता का पहला संस्करण किस टीम ने जीता?

Ans  1. मुंबई इंडियंस

2. रॉयल चैलेंजर्स बैंगलोर

3. दिल्ली कैपिटल्स

4. गुजरात जाइंट्स

Question Type : MCQ

Question ID : 630680571834

Option 1 ID : 6306802236239

Option 2 ID : 6306802236242

Option 3 ID : 6306802236240

Option 4 ID : 6306802236241

Status : Answered

Chosen Option : 2

Q.6 निम्नलिखित में से कौन सा हिंदी उपन्यास विष्णु प्रभाकर द्वारा लिखा गया है?

Ans  1. अर्धनारीश्वर

2. विनायक

3. मुझे चांद चाहिए

4. क्यापा

Question Type : MCQ

Question ID : 630680512334

Option 1 ID : 6306802002307

Option 2 ID : 6306802002309

Option 3 ID : 6306802002306

Option 4 ID : 6306802002308

Status : Answered

Chosen Option : 1

Q.7 प्रसिद्ध लोक नृत्य 'ढोलाचा नाच (Dholacha Nach)' किस राज्य में किया जाता है?

- Ans
- 1. बिहार
  - 2. मध्य प्रदेश
  - 3. राजस्थान
  - 4. महाराष्ट्र

Question Type : MCQ  
Question ID : 630680441736  
Option 1 ID : 6306801724557  
Option 2 ID : 6306801724556  
Option 3 ID : 6306801724554  
Option 4 ID : 6306801724555  
Status : Answered  
Chosen Option : 2

Q.8 11 दिसंबर 2022 को, निम्नलिखित में से किसने हिमाचल प्रदेश के उपमुख्यमंत्री का पदभार संभाला?

- Ans
- 1. शिव प्रताप शुक्ला
  - 2. मुकेश अग्निहोत्री
  - 3. विक्रमादित्य सिंह
  - 4. जयराम ठाकुर

Question Type : MCQ  
Question ID : 630680468458  
Option 1 ID : 6306801829632  
Option 2 ID : 6306801829633  
Option 3 ID : 6306801829631  
Option 4 ID : 6306801829630  
Status : Answered  
Chosen Option : 3

Q.9 निम्नलिखित में से कौन-सा राज्य दक्षिण पश्चिम मानसून की अरब सागर शाखा के वर्षा छाया क्षेत्र (rain shadow region) में स्थित है?

- Ans
- 1. तमिलनाडु
  - 2. गुजरात
  - 3. केरल
  - 4. गोवा

Question Type : MCQ  
Question ID : 630680510997  
Option 1 ID : 6306801997118  
Option 2 ID : 6306801997121  
Option 3 ID : 6306801997119  
Option 4 ID : 6306801997120  
Status : Answered  
Chosen Option : 2

Q.10 निम्नलिखित में से कौन-सा कथन भौतिक परिवर्तन का एक उदाहरण है? इस उदाहरण में, पदार्थ के रासायनिक संघटन में कोई परिवर्तन नहीं होता है।

- A: कोयले के जलने पर उसका कोयले की राख में बदलना।  
B: जल में शर्करा मिलाकर मीठा पेय तैयार करना।  
C: चूने और जल के विलयन का उपयोग करके दीवारों को सफेदी करना।  
D: एक बीकर में लवण और नींबू का रस मिश्रित करना।

- Ans  1. केवल A  
 2. केवल B  
 3. केवल C  
 4. केवल D

Question Type : MCQ

Question ID : 630680474889

Option 1 ID : 6306801855171

Option 2 ID : 6306801855173

Option 3 ID : 6306801855170

Option 4 ID : 6306801855172

Status : Answered

Chosen Option : 1

Q.11 निम्नलिखित में से भारत के किस राष्ट्रीय नेता ने 1958 में उज्जैन में आयोजित प्रथम अखिल भारतीय कालिदास सम्मान समारोह का उद्घाटन किया था?

- Ans  1. जवाहर लाल नेहरू  
 2. लाल बहादुर शास्त्री  
 3. राजेन्द्र प्रसाद  
 4. सरदार पटेल

Question Type : MCQ

Question ID : 630680433372

Option 1 ID : 6306801691457

Option 2 ID : 6306801691455

Option 3 ID : 6306801691458

Option 4 ID : 6306801691456

Status : Answered

Chosen Option : 1

Q.12 राष्ट्रीय प्रशिक्षुता संवर्धन योजना (National Apprenticeship Promotion Scheme - NAPS), भारत सरकार द्वारा वर्ष \_\_\_\_\_ में शुरू की गई थी।

- Ans  1. 2005  
 2. 2016  
 3. 2022  
 4. 2012

Question Type : MCQ

Question ID : 630680511236

Option 1 ID : 6306801998076

Option 2 ID : 6306801998075

Option 3 ID : 6306801998077

Option 4 ID : 6306801998074

Status : Answered

Chosen Option : 3

Q.13 रैट-होल (rat-hole) खनन में, निम्नलिखित में से किस खनिज का खनन किया जाता है?

- Ans  1. बॉक्साइट  
 2. कोयला  
 3. सोना  
 4. निकल

Question Type : MCQ  
Question ID : 630680456063  
Option 1 ID : 6306801781193  
Option 2 ID : 6306801781191  
Option 3 ID : 6306801781192  
Option 4 ID : 6306801781194  
Status : Answered  
Chosen Option : 3

Q.14 निम्नलिखित में से किस स्थान पर 1873 में पहली सिंह सभा की स्थापना की गई थी?

- Ans  1. लाहौर  
 2. अमृतसर  
 3. मुल्तान  
 4. जालंधर

Question Type : MCQ  
Question ID : 630680214015  
Option 1 ID : 630680830107  
Option 2 ID : 630680830110  
Option 3 ID : 630680830108  
Option 4 ID : 630680830109  
Status : Answered  
Chosen Option : 2

Q.15 विजयनगर साम्राज्य में परिवारों के समूहों का गठन करने वाले ग्राम सेवकों (village servants) या कर्मचारियों को \_\_\_\_\_ कहा जाता था।

- Ans  1. अमरनायक (amaranayakas)  
 2. नायक (nayakas)  
 3. वेल्लालार (vellalars)  
 4. आयगार (ayagars)

Question Type : MCQ  
Question ID : 630680326294  
Option 1 ID : 6306801269268  
Option 2 ID : 6306801269267  
Option 3 ID : 6306801269265  
Option 4 ID : 6306801269266  
Status : Answered  
Chosen Option : 4

Q.16 तन्वी शाह, 2010 में किस गाने के लिए ग्रैमी पुरस्कार से सम्मानित होने वाली पहली भारतीय महिला बनीं थीं?

- Ans
- 1. ऐ वतन
  - 2. जय हो
  - 3. वन्दे मातरम
  - 4. भारत की बेटी

Question Type : MCQ  
Question ID : 630680482442  
Option 1 ID : 6306801884247  
Option 2 ID : 6306801884244  
Option 3 ID : 6306801884245  
Option 4 ID : 6306801884246  
Status : Answered  
Chosen Option : 1

Q.17 भारतीय राजनीतिक व्यवस्था में राष्ट्रपति का पद \_\_\_\_\_ का है।

- Ans
- 1. राजा (King)
  - 2. तानाशाह (Dictator)
  - 3. नाममात्र कार्यपालक (Nominal Executive)
  - 4. वास्तविक कार्यपालक (Real Executive)

Question Type : MCQ  
Question ID : 630680216166  
Option 1 ID : 630680838640  
Option 2 ID : 630680838639  
Option 3 ID : 630680838641  
Option 4 ID : 630680838642  
Status : Answered  
Chosen Option : 3

Q.18 2023 में, न्यूयॉर्क के लोकोपकारी संगठन कार्नेगी कॉरपोरेशन (Carnegie Corporation) ने \_\_\_\_\_ के अध्यक्ष अजय बंगा को अपनी वार्षिक 'महान प्रवासीयों (Great Immigrants)' की सूची में स्थान दिया। इस सूची में ऐसे सम्मानित व्यक्ति शामिल हैं जिन्होंने अपने योगदान और कार्यों से अमेरिका और उसके लोकतंत्र को समृद्ध और सशक्त बनाया है।

- Ans
- 1. यूरोपीय संघ (European Union)
  - 2. विश्व बैंक (World Bank)
  - 3. एशियाई विकास बैंक (Asian Development Bank)
  - 4. अफ्रीकी संघ (African Union)

Question Type : MCQ  
Question ID : 630680488241  
Option 1 ID : 6306801907026  
Option 2 ID : 6306801907023  
Option 3 ID : 6306801907024  
Option 4 ID : 6306801907025  
Status : Answered  
Chosen Option : 2

Q.19 खजुराहो के मंदिरों के बारे में, निम्नलिखित में से कौन-सा/कौन-से कथन सही है/हैं?

- a) मानवीय अनुभव और आध्यात्मिक खोज को समान महत्व दिया गया है।  
b) खजुराहो में जैन और हिंदू मंदिर भी पाए जाते हैं।  
c) चौसठ योगिनी (Chausanth Yogini) मंदिर यहाँ के महत्वपूर्ण मंदिरों में से एक है।

Ans  1. सभी a, b और c

2. केवल a और b

3. केवल c और a

4. केवल b और c

Question Type : MCQ

Question ID : 630680511900

Option 1 ID : 6306802000571

Option 2 ID : 6306802000570

Option 3 ID : 6306802000573

Option 4 ID : 6306802000572

Status : Answered

Chosen Option : 2

Q.20 पास्ता, नूडल्स, पिज्जा और ब्रेड जैसे विभिन्न खाद्य पदार्थों में ग्लूटेन (Gluten) का निर्माण देखा जाता है। ग्लूटेन तब बनता है जब दो विशिष्ट प्रोटीन जल के साथ मिश्रित होते हैं। ग्लूटेन निर्माण के लिए उत्तरदायी दो प्रोटीनों के नाम बताइए।

Ans  1. ग्लूटेन और कैसीन (Glutenin and Casein)

2. ग्लूटेन और ग्लियाडिन (Glutenin and Gliadin)

3. ग्लूटेन और ग्लाइसीन (Glutenin and Glycine)

4. ग्लूटेन और एल्बुमिन (Glutenin and Albumin)

Question Type : MCQ

Question ID : 630680452682

Option 1 ID : 6306801767741

Option 2 ID : 6306801767739

Option 3 ID : 6306801767740

Option 4 ID : 6306801767742

Status : Answered

Chosen Option : 3

Q.21 चौथा आंग्ल-मैसूर युद्ध (Anglo-Mysore War) वर्ष \_\_\_\_\_ में लड़ा गया था।

Ans  1. 1797

2. 1800

3. 1796

4. 1799

Question Type : MCQ

Question ID : 630680321365

Option 1 ID : 6306801250170

Option 2 ID : 6306801250172

Option 3 ID : 6306801250169

Option 4 ID : 6306801250171

Status : Answered

Chosen Option : 2

Q.22 भारतीय पर्यावरण, वन और जलवायु परिवर्तन मंत्रालय भारत की सभी लुप्तप्राय प्रजातियों (endangered species) का उनके संरक्षण की स्थिति के साथ एक लेखा-जोखा (log) रखता है। इस किताब का नाम क्या है?

- Ans
- 1. द ब्लैक बुक (The Black Book)
  - 2. द बुक ऑफ़ इनडेंजर्ड स्पीशीज (The Book of Endangered Species)
  - 3. रेड डेटा बुक (Red Data Book)
  - 4. इंडियन लाइफ़ कैटेलॉग (Indian Life Catalogue)

Question Type : MCQ

Question ID : 630680539332

Option 1 ID : 6306802108457

Option 2 ID : 6306802108456

Option 3 ID : 6306802108458

Option 4 ID : 6306802108459

Status : Answered

Chosen Option : 1

Q.23 'मेगालिथ (megalith)' का शाब्दिक अर्थ, \_\_\_\_\_ है।

- Ans
- 1. एक विशाल पत्थर
  - 2. एक गुफा
  - 3. एक शवगृह
  - 4. एक विशाल आश्रय

Question Type : MCQ

Question ID : 630680649819

Option 1 ID : 6306802544410

Option 2 ID : 6306802544413

Option 3 ID : 6306802544411

Option 4 ID : 6306802544412

Status : Answered

Chosen Option : 1

Q.24 पश्चिम मध्य रेलवे जोन (West Central Railway Zone) का मुख्यालय कहाँ है?

- Ans
- 1. हुबली
  - 2. बिलासपुर
  - 3. जबलपुर
  - 4. मालीगांव

Question Type : MCQ

Question ID : 63068090980

Option 1 ID : 630680352681

Option 2 ID : 630680352680

Option 3 ID : 630680352679

Option 4 ID : 630680352678

Status : Answered

Chosen Option : 3

Q.25 चैत्र माह में, निम्नलिखित में से कौन-सा त्योहार मनाया जाता है?

- Ans  1. रामनवमी  
 2. दशहरा  
 3. दिवाली  
 4. जन्माष्टमी

Question Type : **MCQ**  
Question ID : **630680449840**  
Option 1 ID : **6306801756528**  
Option 2 ID : **6306801756530**  
Option 3 ID : **6306801756529**  
Option 4 ID : **6306801756527**  
Status : **Answered**  
Chosen Option : 1

Section : English Language and Comprehension

Q.1 Select the most appropriate option that can substitute the underlined segment in the given sentence.

Effective responses of climate change are imperative to protect the world's children and fulfil their rights.

- Ans  1. responses from climate change  
 2. responses with climate change  
 3. responses at climate change  
 4. responses to climate change

Question Type : **MCQ**  
Question ID : **630680130471**  
Option 1 ID : **630680505196**  
Option 2 ID : **630680505195**  
Option 3 ID : **630680505197**  
Option 4 ID : **630680505194**  
Status : **Answered**  
Chosen Option : 4

Q.2 Select the most appropriate option to fill in the blank.

When we \_\_\_\_\_ ourselves, we activate a variety of psychological processes that help us achieve our objectives and improve our overall well-being.

- Ans  1. demolish  
 2. linger  
 3. doubt  
 4. believe in

Question Type : **MCQ**  
Question ID : **630680515255**  
Option 1 ID : **6306802013488**  
Option 2 ID : **6306802013487**  
Option 3 ID : **6306802013486**  
Option 4 ID : **6306802013485**  
Status : **Answered**  
Chosen Option : 4

Q.3 Select the most appropriate synonym of the given word.

Collapse

- Ans  1. Side  
 2. Jump  
 3. Surprise  
 4. Fall

Question Type : MCQ  
Question ID : 630680397247  
Option 1 ID : 6306801549047  
Option 2 ID : 6306801549044  
Option 3 ID : 6306801549046  
Option 4 ID : 6306801549045  
Status : Answered  
Chosen Option : 4

Q.4 Select the option that rectifies the INCORRECT spelling in the given sentence.  
If you try to convince people that money is not very important, then you are barking up the wrong tree.

- Ans  1. convince  
 2. canvince  
 3. conveence  
 4. convincee

Question Type : MCQ  
Question ID : 630680454172  
Option 1 ID : 6306801773619  
Option 2 ID : 6306801773620  
Option 3 ID : 6306801773621  
Option 4 ID : 6306801773622  
Status : Answered  
Chosen Option : 1

Q.5 Select the most appropriate option that can substitute the underlined words in the given sentence.

I have never had and never will be dependent on him.

- Ans  1. was never being  
 2. never been  
 3. has never been  
 4. never has

Question Type : MCQ  
Question ID : 630680566021  
Option 1 ID : 6306802213074  
Option 2 ID : 6306802213072  
Option 3 ID : 6306802213075  
Option 4 ID : 6306802213073  
Status : Answered  
Chosen Option : 2

**Q.6** Select the most appropriate synonym of the underlined word.  
I did not like his bossy attitude.

- Ans  1. idiosyncratic  
 2. controlling  
 3. sensible  
 4. benevolent

Question Type : **MCQ**

Question ID : **630680517442**

Option 1 ID : **6306802022167**

Option 2 ID : **6306802022165**

Option 3 ID : **6306802022164**

Option 4 ID : **6306802022166**

Status : **Answered**

Chosen Option : **2**

**Q.7** Select the INCORRECTLY spelt word from the given sentence.

The kitten's playful behavior brought joy to the entire family.

- Ans  1. Kitten's  
 2. Joy  
 3. Behavior  
 4. Playful

Question Type : **MCQ**

Question ID : **630680615929**

Option 1 ID : **6306802410386**

Option 2 ID : **6306802410389**

Option 3 ID : **6306802410388**

Option 4 ID : **6306802410387**

Status : **Answered**

Chosen Option : **3**

**Q.8** Select the most appropriate option to fill in the blank .

The company's decision to relocate had a negative \_\_\_\_\_ on its employees.

- Ans  1. accommodation  
 2. establish  
 3. conclusion  
 4. effect

Question Type : **MCQ**

Question ID : **630680466557**

Option 1 ID : **6306801822237**

Option 2 ID : **6306801822234**

Option 3 ID : **6306801822236**

Option 4 ID : **6306801822235**

Status : **Answered**

Chosen Option : **4**

**Q.9** Select the correct spelling from the given options to fill in the blank.  
We \_\_\_\_\_ to keep you informed of any delay to your expected delivery date.

- Ans
- 1. endeavour
  - 2. endeavor
  - 3. endavour
  - 4. endeavour

Question Type : **MCQ**  
Question ID : **630680310026**  
Option 1 ID : **6306801206251**  
Option 2 ID : **6306801206249**  
Option 3 ID : **6306801206250**  
Option 4 ID : **6306801206252**  
Status : **Answered**  
Chosen Option : **4**

**Q.10** Select the sentence that has a grammatical error.

- Ans
- 1. She is an artist at a local gallery.
  - 2. Can you bring me the keys to the car?
  - 3. They have an information about the event.
  - 4. The cat is sleeping on a mat.

Question Type : **MCQ**  
Question ID : **630680601266**  
Option 1 ID : **6306802352795**  
Option 2 ID : **6306802352796**  
Option 3 ID : **6306802352797**  
Option 4 ID : **6306802352794**  
Status : **Answered**  
Chosen Option : **2**

**Q.11** Select the most appropriate meaning of the underlined idiom from the alternatives.

Rajiv will understand some day that all his friends are fair weather friends.

- Ans
- 1. True friends help you when you need them
  - 2. A friend who meets you only during pleasant weather
  - 3. A friend who stays only when times are convenient
  - 4. Friends generally have similar characteristics

Question Type : **MCQ**  
Question ID : **630680296471**  
Option 1 ID : **6306801153555**  
Option 2 ID : **6306801153552**  
Option 3 ID : **6306801153554**  
Option 4 ID : **6306801153553**  
Status : **Answered**  
Chosen Option : **3**

Q.12 Select the most appropriate idiom that can substitute the underlined segment in the given sentence.

We often go camping, but I have never been to that particular part of town or country before.

- Ans
- 1. risk one's neck
  - 2. knock on wood
  - 3. get it in the neck
  - 4. neck of the woods

Question Type : MCQ

Question ID : 630680799129

Option 1 ID : 6306803131316

Option 2 ID : 6306803131314

Option 3 ID : 6306803131315

Option 4 ID : 6306803131317

Status : Answered

Chosen Option : 4

Q.13 Select the most appropriate ANTONYM of the given word.

Brave

- Ans
- 1. Cowardly
  - 2. Earthly
  - 3. Boundless
  - 4. Dim

Question Type : MCQ

Question ID : 630680726503

Option 1 ID : 6306802847020

Option 2 ID : 6306802847021

Option 3 ID : 6306802847018

Option 4 ID : 6306802847019

Status : Answered

Chosen Option : 1

**Q.14** The following sentence has been split into four segments. Identify the segment that contains a grammatical error.

If I wrote an email / to my boss now, / he will react / by yelling at me tomorrow in the morning.

- Ans**
- 1. to my boss now,
  - 2. If I wrote an email
  - 3. he will react
  - 4. by yelling at me tomorrow in the morning.

Question Type : **MCQ**

Question ID : **630680630157**

Option 1 ID : **6306802466609**

Option 2 ID : **6306802466608**

Option 3 ID : **6306802466610**

Option 4 ID : **6306802466611**

Status : **Answered**

Chosen Option : **2**

**Q.15** The following sentence has been divided into parts. One of them may contain an error. Select the part that contains the error from the given options. If you don't find any error, mark 'No error' as your answer.

If the players don't wear sunscreen, / their faces will / get reddest.

- Ans**
- 1. No error
  - 2. their faces will
  - 3. get reddest
  - 4. If the players don't wear sunscreen,

Question Type : **MCQ**

Question ID : **630680449836**

Option 1 ID : **6306801756514**

Option 2 ID : **6306801756512**

Option 3 ID : **6306801756513**

Option 4 ID : **6306801756511**

Status : **Answered**

Chosen Option : **1**

Q.16 Select the most appropriate option that can substitute the underlined segment in the given sentence.

Rahul was angry of his brother as he broke his pen.

- Ans
- 1. at
  - 2. of
  - 3. on
  - 4. from

Question Type : **MCQ**  
Question ID : **630680419126**  
Option 1 ID : **6306801635213**  
Option 2 ID : **6306801635212**  
Option 3 ID : **6306801635211**  
Option 4 ID : **6306801635214**  
Status : **Answered**  
Chosen Option : 1

Q.17 Select the option that can be used as a one-word substitute for the underlined word. The old library had a musty smell from years of neglect.

- Ans
- 1. casual
  - 2. stale
  - 3. foggy
  - 4. fresh

Question Type : **MCQ**  
Question ID : **630680415843**  
Option 1 ID : **6306801622142**  
Option 2 ID : **6306801622141**  
Option 3 ID : **6306801622140**  
Option 4 ID : **6306801622139**  
Status : **Answered**  
Chosen Option : 2

Q.18 Select the most appropriate ANTONYM of the given word.

compassionate

- Ans
- 1. disciplined
  - 2. hardworking
  - 3. confident
  - 4. cruel

Question Type : **MCQ**  
Question ID : **630680539950**  
Option 1 ID : **6306802110902**  
Option 2 ID : **6306802110903**  
Option 3 ID : **6306802110900**  
Option 4 ID : **6306802110901**  
Status : **Answered**  
Chosen Option : 4

**Q.19** Select the most appropriate option that can substitute the underlined segment in the given sentence.

Always keep in mind leaner bodies need more calories than fattest ones.

- Ans
- 1. more fatter
  - 2. the fattest
  - 3. fat
  - 4. fatter

Question Type : **MCQ**

Question ID : **630680514608**

Option 1 ID : **6306802011060**

Option 2 ID : **6306802011057**

Option 3 ID : **6306802011059**

Option 4 ID : **6306802011058**

Status : **Answered**

Chosen Option : **4**

**Q.20** Select the option that can be used as a one-word substitute for highlighted group of words in the given sentence.

He devoted his entire life to the study of the human mind.

- Ans
- 1. physiology
  - 2. philology
  - 3. psychology
  - 4. physics

Question Type : **MCQ**

Question ID : **630680564340**

Option 1 ID : **6306802206316**

Option 2 ID : **6306802206315**

Option 3 ID : **6306802206318**

Option 4 ID : **6306802206317**

Status : **Answered**

Chosen Option : **3**

**Comprehension:**

In the following passage, some words have been deleted. Read the passage carefully and select the most appropriate option to fill in each blank.

In the contemporary times, sports and games are emerging as one of the brightest careers. It expects to \_\_\_1\_\_\_ at a very high moral plane. It demands honesty and transparency. Sports further demand continuous practice, hard work and \_\_\_2\_\_\_ training. One must understand that sport not only has physical benefits but also \_\_\_3\_\_\_ concentration and inner strength. Not only this, one who plays feels that \_\_\_4\_\_\_ overall personality has undergone a change for better. Besides, social connectivity or networking, games develop \_\_\_5\_\_\_ spirit in players.

**SubQuestion No : 21**

**Q.21 Select the most appropriate option to fill in blank number 1.**

Ans  1. operate

2. desynchronise

3. dwell

4. decide

Question Type : **MCQ**

Question ID : **630680653002**

Option 1 ID : **6306802556472**

Option 2 ID : **6306802556470**

Option 3 ID : **6306802556473**

Option 4 ID : **6306802556471**

Status : **Answered**

Chosen Option : **4**

**Comprehension:**

In the following passage, some words have been deleted. Read the passage carefully and select the most appropriate option to fill in each blank.

In the contemporary times, sports and games are emerging as one of the brightest careers. It expects to \_\_\_1\_\_\_ at a very high moral plane. It demands honesty and transparency. Sports further demand continuous practice, hard work and \_\_\_2\_\_\_ training. One must understand that sport not only has physical benefits but also \_\_\_3\_\_\_ concentration and inner strength. Not only this, one who plays feels that \_\_\_4\_\_\_ overall personality has undergone a change for better. Besides, social connectivity or networking, games develop \_\_\_5\_\_\_ spirit in players.

**SubQuestion No : 22**

**Q.22 Select the most appropriate option to fill in blank number 2.**

Ans  1. abated

2. paltry

3. faltering

4. relentless

Question Type : **MCQ**

Question ID : **630680653003**

Option 1 ID : **6306802556477**

Option 2 ID : **6306802556476**

Option 3 ID : **6306802556475**

Option 4 ID : **6306802556474**

Status : **Answered**

Chosen Option : **4**

**Comprehension:**

In the following passage, some words have been deleted. Read the passage carefully and select the most appropriate option to fill in each blank.

In the contemporary times, sports and games are emerging as one of the brightest careers. It expects to \_\_\_1\_\_\_ at a very high moral plane. It demands honesty and transparency. Sports further demand continuous practice, hard work and \_\_\_2\_\_\_ training. One must understand that sport not only has physical benefits but also \_\_\_3\_\_\_ concentration and inner strength. Not only this, one who plays feels that \_\_\_4\_\_\_ overall personality has undergone a change for better. Besides, social connectivity or networking, games develop \_\_\_5\_\_\_ spirit in players.

**SubQuestion No : 23**

**Q.23 Select the most appropriate option to fill in blank number 3.**

- Ans
- 1. deteriorates
  - 2. underlines
  - 3. controls
  - 4. boosts

Question Type : **MCQ**

Question ID : **630680653004**

Option 1 ID : **6306802556478**

Option 2 ID : **6306802556480**

Option 3 ID : **6306802556479**

Option 4 ID : **6306802556481**

Status : **Answered**

Chosen Option : **4**

**Comprehension:**

In the following passage, some words have been deleted. Read the passage carefully and select the most appropriate option to fill in each blank.

In the contemporary times, sports and games are emerging as one of the brightest careers. It expects to \_\_\_1\_\_\_ at a very high moral plane. It demands honesty and transparency. Sports further demand continuous practice, hard work and \_\_\_2\_\_\_ training. One must understand that sport not only has physical benefits but also \_\_\_3\_\_\_ concentration and inner strength. Not only this, one who plays feels that \_\_\_4\_\_\_ overall personality has undergone a change for better. Besides, social connectivity or networking, games develop \_\_\_5\_\_\_ spirit in players.

**SubQuestion No : 24**

**Q.24 Select the most appropriate option to fill in blank number 4.**

- Ans
- 1. one's
  - 2. his
  - 3. their
  - 4. it's

Question Type : **MCQ**

Question ID : **630680653005**

Option 1 ID : **6306802556482**

Option 2 ID : **6306802556485**

Option 3 ID : **6306802556484**

Option 4 ID : **6306802556483**

Status : **Answered**

Chosen Option : **2**

**Comprehension:**

In the following passage, some words have been deleted. Read the passage carefully and select the most appropriate option to fill in each blank.

In the contemporary times, sports and games are emerging as one of the brightest careers. It expects to \_\_\_1\_\_\_ at a very high moral plane. It demands honesty and transparency. Sports further demand continuous practice, hard work and \_\_\_2\_\_\_ training. One must understand that sport not only has physical benefits but also \_\_\_3\_\_\_ concentration and inner strength. Not only this, one who plays feels that \_\_\_4\_\_\_ overall personality has undergone a change for better. Besides, social connectivity or networking, games develop \_\_\_5\_\_\_ spirit in players.

**SubQuestion No : 25**

**Q.25 Select the most appropriate option to fill in blank number 5.**

- Ans  1. leadership  
 2. sportsmanship  
 3. captaincy  
 4. companionship

Question Type : **MCQ**

Question ID : **630680653006**

Option 1 ID : **6306802556486**

Option 2 ID : **6306802556488**

Option 3 ID : **6306802556489**

Option 4 ID : **6306802556487**

Status : **Answered**

Chosen Option : **1**