

Multi Tasking Non Technical Staff and Havaladar CBIC and CBN Examination 2024

Roll Number	
Candidate Name	
Venue Name	iON Digital Zone iDZ Harahuwa Chauraha
Exam Date	12/11/2024
Exam Time	9:00 AM - 11:00 AM
Subject	MTS Non Tech Havaladar CBIC and CBN Examination 2024

Section : Numerical and Mathematical Ability

Q.1 एक टेस्ट में 12 लड़कियों का औसत स्कोर 16.5 था और उसी टेस्ट में 18 लड़कों का औसत स्कोर 16 था। उसी टेस्ट में लड़कियों और लड़कों को एक साथ मिलाकर औसत स्कोर ज्ञात कीजिए।

- Ans
- 1. 16.4
 - 2. 16.7
 - 3. 16.1
 - 4. 16.2

Question Type : MCQ

Question ID : 630680454414

Option 1 ID : 6306801774559

Option 2 ID : 6306801774560

Option 3 ID : 6306801774558

Option 4 ID : 6306801774557

Status : Answered

Chosen Option : 4

Q.2 ₹9,000 के अंकित मूल्य वाले एक प्रिंटर को 30%, 20% और 15% की क्रमिक छूट पर बेचा जा रहा है। प्रिंटर का विक्रय मूल्य ज्ञात करें।

- Ans
- 1. ₹4,250
 - 2. ₹4,264
 - 3. ₹4,284
 - 4. ₹4,274

Question Type : MCQ

Question ID : 630680402525

Option 1 ID : 6306801569659

Option 2 ID : 6306801569660

Option 3 ID : 6306801569662

Option 4 ID : 6306801569661

Status : Answered

Chosen Option : 4

Q.3 6 वर्षों के लिए 4% वार्षिक की ब्याज दर पर उधार ली गई राशि ₹2500 पर साधारण ब्याज (₹ में) ज्ञात कीजिए।

Ans ✓ 1. 600

✗ 2. 540

✗ 3. 640

✗ 4. 560

Question Type : MCQ

Question ID : 630680591897

Option 1 ID : 6306802316055

Option 2 ID : 6306802316057

Option 3 ID : 6306802316056

Option 4 ID : 6306802316058

Status : Answered

Chosen Option : 1

Q.4 एक व्यक्ति ने अपनी साइकिल ₹810 में बेची, जिससे उसे साइकिल के क्रय मूल्य के $\frac{2}{5}$ (two-fifth) की हानि हुई। हानि प्रतिशत ज्ञात कीजिए।

Ans ✓ 1. 40%

✗ 2. 35%

✗ 3. 45%

✗ 4. 50%

Question Type : MCQ

Question ID : 630680120536

Option 1 ID : 630680467176

Option 2 ID : 630680467174

Option 3 ID : 630680467175

Option 4 ID : 630680467177

Status : Answered

Chosen Option : 1

Q.5 एक चतुर्भुज ABCD की भुजाएँ AB = 5 इकाई, BC = 12 इकाई, CD = DA है और $\angle ABC = \angle ADC = 90^\circ$ है।

तो बताइए कि चतुर्भुज का क्षेत्रफल (वर्ग इकाई में) क्या है?

Ans ✓ 1. 72.25

✗ 2. 74.25

✗ 3. 74.75

✗ 4. 72.75

Question Type : MCQ

Question ID : 630680526632

Option 1 ID : 6306802058597

Option 2 ID : 6306802058595

Option 3 ID : 6306802058594

Option 4 ID : 6306802058596

Status : Answered

Chosen Option : 1

Q.6 एक वाहन 4 घंटे तक 65 km/h की चाल से चलता है और अगले 2.5 घंटों के लिए 52 km/h तक धीमा हो जाता है। औसत चाल की गणना कीजिए।

- Ans
- 1. 58.5 km/h
 - 2. 60 km/h
 - 3. 55 km/h
 - 4. 61.25 km/h

Question Type : MCQ
Question ID : 630680585077
Option 1 ID : 6306802289071
Option 2 ID : 6306802289072
Option 3 ID : 6306802289070
Option 4 ID : 6306802289073
Status : Answered
Chosen Option : 2

Q.7 किस राशि (₹ में) पर 20% प्रति वर्ष की ब्याज दर से 4 वर्षों में ₹240 का साधारण ब्याज अर्जित होगा?

- Ans
- 1. 600
 - 2. 300
 - 3. 450
 - 4. 150

Question Type : MCQ
Question ID : 630680612180
Option 1 ID : 6306802395454
Option 2 ID : 6306802395452
Option 3 ID : 6306802395455
Option 4 ID : 6306802395453
Status : Answered
Chosen Option : 2

Q.8 यदि $40 : 35 :: 35 : x$ है, तो x का मान ज्ञात कीजिए।

- Ans
- 1. $\frac{49}{8}$
 - 2. $\frac{245}{8}$
 - 3. $\frac{49}{16}$
 - 4. $\frac{49}{14}$

Question Type : MCQ
Question ID : 630680239511
Option 1 ID : 630680928998
Option 2 ID : 630680928996
Option 3 ID : 630680928995
Option 4 ID : 630680928997
Status : Answered
Chosen Option : 2

Q.9 एक आदमी और उसके पुत्र की औसत आयु 48 वर्ष है। उनकी आयु का अनुपात 5 : 3 है। पुत्र की आयु कितनी है?

- Ans 1. 36 वर्ष
 2. 34 वर्ष
 3. 35 वर्ष
 4. 38 वर्ष

Question Type : MCQ

Question ID : 630680466625

Option 1 ID : 6306801822490

Option 2 ID : 6306801822488

Option 3 ID : 6306801822489

Option 4 ID : 6306801822491

Status : Answered

Chosen Option : 1

Q.10 160 कर्मचारियों वाले एक कार्यालय में, 40% महिलाएं हैं और शेष पुरुष हैं। महिलाओं का औसत वजन 58 kg और पुरुषों का औसत वजन 63 kg है। सभी कर्मचारियों का औसत वजन ज्ञात कीजिए।

- Ans 1. 79 kg
 2. 58 kg
 3. 68 kg
 4. 61 kg

Question Type : MCQ

Question ID : 630680471508

Option 1 ID : 6306801841748

Option 2 ID : 6306801841746

Option 3 ID : 6306801841749

Option 4 ID : 6306801841747

Status : Answered

Chosen Option : 4

Q.11 जब किसी संख्या में पहले 18% की वृद्धि की जाती है और फिर 18% की कमी की जाती है, तो संख्या में _____ होती है।

- Ans 1. 3.24 % कमी
 2. 3.24% वृद्धि
 3. 32.4% वृद्धि
 4. 0%

Question Type : MCQ

Question ID : 630680484435

Option 1 ID : 6306801892064

Option 2 ID : 6306801892065

Option 3 ID : 6306801892063

Option 4 ID : 6306801892062

Status : Answered

Chosen Option : 1

Q.12

$\frac{2}{3}, \frac{5}{6}, \frac{5}{12}$ और $\frac{7}{18}$ का लघुतम समापवर्त्य (LCM) क्या है?

Ans

1. $\frac{80}{11}$

2. $\frac{50}{3}$

3. $\frac{45}{7}$

4. $\frac{70}{3}$

Question Type : MCQ

Question ID : 630680104002

Option 1 ID : 630680404226

Option 2 ID : 630680404223

Option 3 ID : 630680404224

Option 4 ID : 630680404225

Status : Answered

Chosen Option : 4

Q.13 8.4 cm किनारे (edge) वाले घन से काटे जा सकने वाले सबसे बड़े लंब वृत्तीय शंकु की त्रिज्या क्या है?

Ans

1. 4.1 cm

2. 4.2 cm

3. 2.2 cm

4. 2.1 cm

Question Type : MCQ

Question ID : 630680103514

Option 1 ID : 630680402299

Option 2 ID : 630680402300

Option 3 ID : 630680402302

Option 4 ID : 630680402301

Status : Answered

Chosen Option : 2

Q.14 एक व्यक्ति कुल ₹15 में एक जैसी 15 वस्तुएँ खरीदता है। यदि वह उनमें से प्रत्येक वस्तु को ₹ 1.32 में बेचता है, तो उसका लाभ प्रतिशत क्या होगा?

- Ans
- 1. 23%
 - 2. 50%
 - 3. 8%
 - 4. 32%

Question Type : MCQ
Question ID : 630680233024
Option 1 ID : 630680904217
Option 2 ID : 630680904220
Option 3 ID : 630680904218
Option 4 ID : 630680904219
Status : Answered
Chosen Option : 4

Q.15 मैं 10 km/h की चाल से चलता हूँ और 2 घंटे में गंतव्य तक पहुंच जाता हूँ। यदि मैं अपनी चाल को 5 km/h बढ़ा दूँ, तो मैं अपने गंतव्य पर कितना पहले पहुंच जाऊंगा?

- Ans
- 1. 30 मिनट
 - 2. 40 मिनट
 - 3. 50 मिनट
 - 4. 20 मिनट

Question Type : MCQ
Question ID : 630680239291
Option 1 ID : 630680928173
Option 2 ID : 630680928174
Option 3 ID : 630680928175
Option 4 ID : 630680928172
Status : Answered
Chosen Option : 2

Q.16 सात क्रमागत प्राकृत संख्याओं का औसत 56 है। उनमें से सबसे बड़ी संख्या ज्ञात कीजिए।

- Ans
- 1. 59
 - 2. 60
 - 3. 58
 - 4. 61

Question Type : MCQ
Question ID : 630680481339
Option 1 ID : 6306801879853
Option 2 ID : 6306801879854
Option 3 ID : 6306801879852
Option 4 ID : 6306801879855
Status : Answered
Chosen Option : 1

Q.17 एक व्यक्ति ने 12 वर्षों के लिए साधारण ब्याज पर ₹30,000 की धनराशि उधार दी, जिसमें ब्याज दर पहले 4 वर्षों के लिए 8% वार्षिक, अगले 3 वर्षों के लिए 10% वार्षिक और अंतिम 5 वर्षों के लिए 15% वार्षिक थी। 12 वर्ष के अंत में वह कितना ब्याज (₹ में) अर्जित करेगा?

Ans 1. 41100

2. 40200

3. 40800

4. 38000

Question Type : MCQ

Question ID : 630680815901

Option 1 ID : 6306803196940

Option 2 ID : 6306803196938

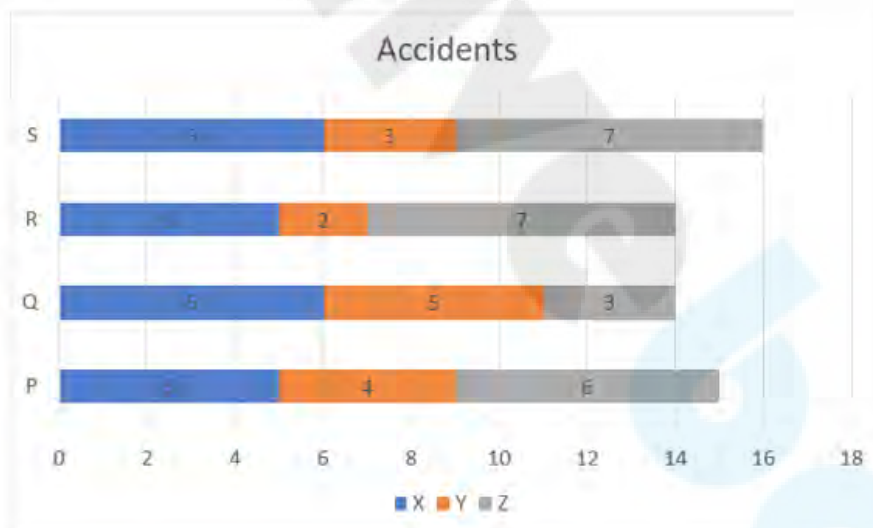
Option 3 ID : 6306803196939

Option 4 ID : 6306803196937

Status : Answered

Chosen Option : 1

Q.18 दिए गए ग्राफ़ का अध्ययन कीजिए और निम्न प्रश्न का उत्तर दीजिए।
ग्राफ़ चार शहरों P, Q, R और S में तीन प्रकार के वाहनों: X, Y और Z द्वारा होने वाली दुर्घटनाओं की संख्या के आंकड़ों को दर्शाता है।



संदर्भ: Accidents – दुर्घटनाएं

सभी शहरों में सबसे अधिक दुर्घटनाएं किस प्रकार के वाहनों के कारण होती हैं?

Ans 1. X

2. X और Z दोनों

3. Z

4. Y

Question Type : MCQ

Question ID : 630680523798

Option 1 ID : 6306802047343

Option 2 ID : 6306802047346

Option 3 ID : 6306802047345

Option 4 ID : 6306802047344

Status : Answered

Chosen Option : 2

Q.19 गणित और हिंदी में चार विद्यार्थियों द्वारा प्राप्त अंक नीचे दी गई तालिका में दर्शाए गए हैं। (प्रत्येक विषय के लिए अधिकतम अंक 100 हैं।)

विद्यार्थी/विषय	गणित	हिंदी
P	84	88
Q	90	74
R	92	70
S	70	68

सभी चार विद्यार्थियों द्वारा गणित और हिंदी में प्राप्त औसत अंकों का गुणनफल क्या है?

- Ans
- 1. 7500
 - 2. 6800
 - 3. 6300
 - 4. 8400

Question Type : MCQ

Question ID : 630680523818

Option 1 ID : 6306802047425

Option 2 ID : 6306802047426

Option 3 ID : 6306802047424

Option 4 ID : 6306802047423

Status : Answered

Chosen Option : 3

Q.20 यदि एक समबाहु त्रिभुज का परिमाण 24 cm है, तो प्रत्येक माधिका (median) की लंबाई कितनी है?

- Ans
- 1. $4\sqrt{2}$ cm
 - 2. $3\sqrt{2}$ cm
 - 3. $4\sqrt{3}$ cm
 - 4. $3\sqrt{3}$ cm

Question Type : MCQ

Question ID : 630680103397

Option 1 ID : 630680401834

Option 2 ID : 630680401831

Option 3 ID : 630680401832

Option 4 ID : 630680401833

Status : Answered

Chosen Option : 3

Q.1 दी गई श्रृंखला में प्रश्न-चिह्न (?) के स्थान पर क्या आना चाहिए?

3, 7, 15, 31, 63, ?

Ans 1. 576

2. 127

3. 168

4. 177

Question Type : **MCQ**

Question ID : **630680404859**

Option 1 ID : **6306801578930**

Option 2 ID : **6306801578927**

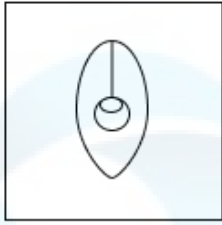
Option 3 ID : **6306801578929**

Option 4 ID : **6306801578928**

Status : **Answered**

Chosen Option : **2**

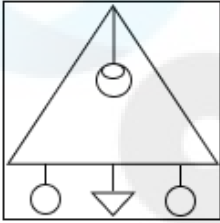
Q.2 उस विकल्प आकृति का चयन कीजिए, जिसमें दी गई आकृति (X) उसके भाग के रूप में सन्निहित है (घुमाने की अनुमति नहीं है)।



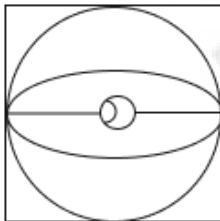
(X)

Ans

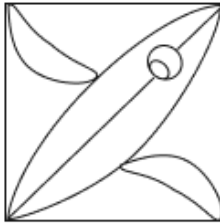
✗ 1.



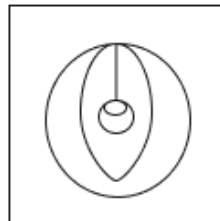
✗ 2.



✗ 3.



✓ 4.



Question Type : MCQ

Question ID : 630680487593

Option 1 ID : 6306801904483

Option 2 ID : 6306801904482

Option 3 ID : 6306801904484

Option 4 ID : 6306801904485

Status : Answered

Chosen Option : 4

Q.3 दिए गए संख्या-युग्मों में दूसरी संख्या, पहली संख्या पर निश्चित गणितीय संक्रिया/संक्रियाएँ करके प्राप्त की जाती है। उस युग्म का चयन कीजिए जिसमें संख्याएँ ठीक उसी प्रकार संबंधित हों जिस प्रकार दिए गए युग्मों की संख्याएँ संबंधित हैं।

(ध्यान दें: संख्याओं को उनके घटक अंकों में अलग-अलग किए बिना पूर्ण संख्याओं पर संक्रियाएं की जानी चाहिए। उदाहरण के लिए संख्या 13 - संख्या 13 पर संक्रियाएं जैसे 13 को जोड़ना/घटाना/गुणा करना आदि किया जा सकता है। 13 को 1 और 3 में अलग-अलग करने की और फिर 1 और 3 पर गणितीय संक्रियाएं करने की अनुमति नहीं है।)

11, 88
14, 112

- Ans 1. 24, 196
 2. 28, 226
 3. 16, 128
 4. 19, 151

Question Type : MCQ

Question ID : 630680408392

Option 1 ID : 6306801592465

Option 2 ID : 6306801592466

Option 3 ID : 6306801592463

Option 4 ID : 6306801592464

Status : Answered

Chosen Option : 3

Q.4 JQMT, अंग्रेजी वर्णानुक्रम के आधार पर एक निश्चित प्रकार से PWSZ से संबंधित है। ठीक उसी प्रकार HOKR, NUQX से संबंधित है। समान तर्क का अनुसरण करते हुए, FMIP निम्नलिखित में से किससे संबंधित है?

- Ans 1. OSLV
 2. LSOV
 3. LOSV
 4. OLSV

Question Type : MCQ

Question ID : 630680386600

Option 1 ID : 6306801507110

Option 2 ID : 6306801507113

Option 3 ID : 6306801507112

Option 4 ID : 6306801507111

Status : Answered

Chosen Option : 2

Q.5 यदि '+' और '-' को आपस में बदल दिया जाए तथा '×' और '÷' को आपस में बदल दिया जाए, तो निम्नलिखित समीकरण में प्रश्न-चिह्न (?) के स्थान पर क्या आएगा?

$$29 \times 841 \div 87 + 37 - 59 = ?$$

Ans 1. 25

2. 52

3. 55

4. 65

Question Type : **MCQ**

Question ID : **630680272732**

Option 1 ID : **6306801059488**

Option 2 ID : **6306801059487**

Option 3 ID : **6306801059489**

Option 4 ID : **6306801059490**

Status : **Answered**

Chosen Option : 1

Q.6 दिए गए समीकरण को सही करने के लिए किन दो संख्याओं को आपस में बदला जाना चाहिए?

$$(12 \div 3) \times 18 - 2 \times 4 + 42 \div 6 = 69$$

(नोट: अदला-बदली पूरी संख्या की होनी चाहिए, न कि दी गई संख्या के अलग-अलग अंकों की)

Ans 1. 2 और 6

2. 3 और 6

3. 18 और 12

4. 3 और 4

Question Type : **MCQ**

Question ID : **630680413406**

Option 1 ID : **6306801612450**

Option 2 ID : **6306801612451**

Option 3 ID : **6306801612449**

Option 4 ID : **6306801612448**

Status : **Answered**

Chosen Option : 1

Q.7 13, किसी निश्चित तर्क का अनुसरण करते हुए, 103 से संबंधित है। 9, समान तर्क का अनुसरण करते हुए, 71 से संबंधित है। समान तर्क का अनुसरण करते हुए, 15, निम्नलिखित में से किससे संबंधित है?

(ध्यान दें: संख्याओं को उनके घटक अंकों में अलग-अलग किए बिना पूर्ण संख्याओं पर संक्रियाएं की जानी चाहिए। उदाहरण के लिए संख्या 13 - संख्या 13 पर संक्रियाएं जैसे 13 को जोड़ना/घटाना/गुणा करना आदि किया जा सकता है। 13 को 1 और 3 में अलग-अलग करने की और फिर 1 और 3 पर गणितीय संक्रियाएं करने की अनुमति नहीं है।)

- Ans
- 1. 112
 - 2. 117
 - 3. 119
 - 4. 109

Question Type : MCQ

Question ID : 630680450174

Option 1 ID : 6306801757844

Option 2 ID : 6306801757843

Option 3 ID : 6306801757845

Option 4 ID : 6306801757846

Status : Answered

Chosen Option : 3

Q.8 छः व्यक्ति - L, M, N, O, P और Q - एक वृत्ताकार मेज के चारों ओर केंद्र की ओर मुख करके बैठे हैं, परंतु जरूरी नहीं कि वे इसी क्रम में बैठे हों। O, Q के बाएँ से दूसरे स्थान पर बैठा है। P, Q का निकटतम पड़ोसी नहीं है। M, L के दाएँ से दूसरे स्थान पर बैठा है। N, Q के ठीक दाएँ बैठा है। L और N दोनों का निकटतम पड़ोसी कौन है?

- Ans
- 1. Q
 - 2. P
 - 3. M
 - 4. O

Question Type : MCQ

Question ID : 630680383022

Option 1 ID : 6306801492996

Option 2 ID : 6306801492995

Option 3 ID : 6306801492998

Option 4 ID : 6306801492997

Status : Answered

Chosen Option : 2

Q.9 दिए गए कथनों और निष्कर्षों को ध्यानपूर्वक पढ़िए। यह मानते हुए कि कथनों में दी गई जानकारी सत्य है, चाहे वह सामान्यतः ज्ञात तथ्यों से भिन्न प्रतीत होती हो और निर्णय लीजिए कि दिए गए निष्कर्षों में से कौन-सा/कौन-से निष्कर्ष कथनों का तार्किक रूप से अनुसरण करता है/करते हैं।

कथन:

कोई भी छिपकली, साँप नहीं है।
सभी छिपकलियां, सरीसृप हैं।

निष्कर्ष:

(I) कम से कम कुछ सरीसृप, साँप हैं।
(II) सभी सरीसृप, छिपकलियां हैं।

Ans 1. न तो निष्कर्ष (I) और न ही (II) अनुसरण करता है।

2. केवल निष्कर्ष (I) अनुसरण करता है।

3. केवल निष्कर्ष (II) अनुसरण करता है।

4. निष्कर्ष (I) और (II) दोनों अनुसरण करते हैं।

Question Type : **MCQ**

Question ID : **630680410770**

Option 1 ID : **6306801601836**

Option 2 ID : **6306801601839**

Option 3 ID : **6306801601838**

Option 4 ID : **6306801601837**

Status : **Answered**

Chosen Option : **4**

Q.10 दिए गए विकल्पों में से उस आकृति को चुनिए जो निम्नलिखित श्रृंखला में प्रश्न चिह्न (?) के स्थान पर आ सकती है और पैटर्न को पूरा कर सकती है।

O	K	P	I	
P I N K	O N I +	+ O N I	P N O K	?
+	P	K	+	

Ans

✗ 1.

+
N O K P
I

✓ 2.

+
K P N O
I

✗ 3.

K
+ O N I
P

✗ 4.

K
+ P N O
I

Question Type : MCQ

Question ID : 630680441094

Option 1 ID : 6306801722032

Option 2 ID : 6306801722033

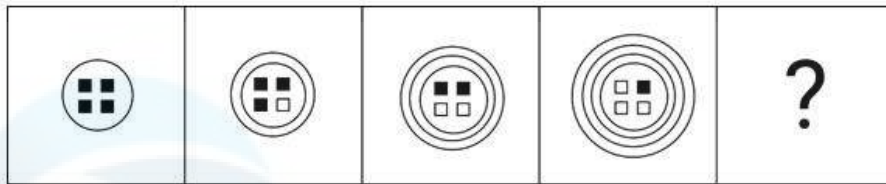
Option 3 ID : 6306801722030

Option 4 ID : 6306801722031

Status : Answered

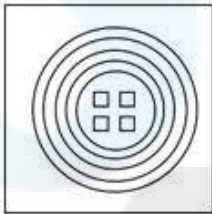
Chosen Option : 2

Q.11 दिए गए विकल्पों में से उस आकृति की पहचान कीजिए जो प्रश्न-चिह्न (?) के स्थान पर आ सकती है और श्रृंखला को तार्किक रूप से पूरा कर सकती है।

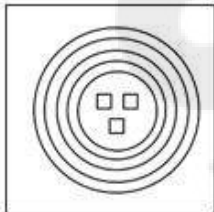


Ans

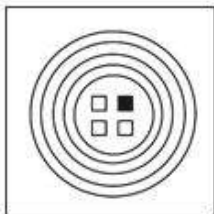
✓ 1.



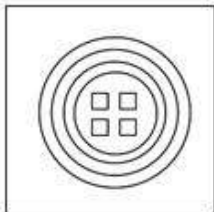
✗ 2.



✗ 3.



✗ 4.



Question Type : **MCQ**

Question ID : **630680279233**

Option 1 ID : **6306801085200**

Option 2 ID : **6306801085202**

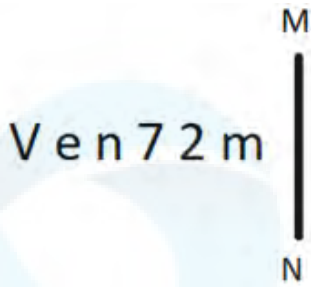
Option 3 ID : **6306801085199**

Option 4 ID : **6306801085201**

Status : **Answered**

Chosen Option : **1**

Q.12 दी गई आकृति के उस सही दर्पण प्रतिबिंब को चुनिए, जो नीचे दर्शाए गए अनुसार दर्पण को MN पर रखने पर बनेगा।



Ans

1. 2 m 7 n e V
2. m 2 7 n e V
3. m 2 7 n e V
4. m 7 2 n e V

Question Type : MCQ

Question ID : 630680525258

Option 1 ID : 6306802053118

Option 2 ID : 6306802053119

Option 3 ID : 6306802053116

Option 4 ID : 6306802053117

Status : Answered

Chosen Option : 2

Q.13 एक कूट भाषा में, 'ROASTER' को '96' के रूप में कूटबद्ध किया जाता है और 'GUM' को '41' के रूप में कूटबद्ध किया जाता है। उसी भाषा में 'ARTIST' को किस प्रकार कूटबद्ध किया जाएगा?

Ans

1. 82
2. 88
3. 87
4. 77

Question Type : MCQ

Question ID : 630680465227

Option 1 ID : 6306801816945

Option 2 ID : 6306801816944

Option 3 ID : 6306801816943

Option 4 ID : 6306801816946

Status : Answered

Chosen Option : 3

Q.14 दिए गए कथनों और निष्कर्षों को ध्यानपूर्वक पढ़िए। यह मानते हुए कि कथनों में दी गई जानकारी सत्य है, भले ही वे सामान्यतः ज्ञात तथ्यों से भिन्न प्रतीत होते हों, तय कीजिए कि दिए गए निष्कर्षों में से कौन-सा/से निष्कर्ष कथनों का तार्किक रूप से अनुसरण करता है/करते हैं।

कथन:

कोई साबुन, लोशन नहीं है।
कोई लोशन, कंडीशनर नहीं है।

निष्कर्ष:

(I) कोई साबुन, कंडीशनर नहीं है।
(II) कुछ कंडीशनर, लोशन हैं।

- Ans
- 1. केवल निष्कर्ष I अनुसरण करता है
 - 2. केवल निष्कर्ष II अनुसरण करता है
 - 3. निष्कर्ष I और II दोनों अनुसरण करते हैं
 - 4. न तो निष्कर्ष I और न ही II अनुसरण करता है

Question Type : MCQ

Question ID : 630680411089

Option 1 ID : 6306801603108

Option 2 ID : 6306801603109

Option 3 ID : 6306801603110

Option 4 ID : 6306801603111

Status : Answered

Chosen Option : 4

Q.15 एक निश्चित कूट भाषा में, 'you are a good friend' को 'es an pz fd mq' के रूप में कूटबद्ध किया जाता है और 'his friend is very kind' को 'ck mq pn ag sb' के रूप में कूटबद्ध किया जाता है। उस भाषा में 'friend' को कैसे कूटबद्ध किया जाएगा?

- Ans
- 1. mq
 - 2. fd
 - 3. es
 - 4. ck

Question Type : MCQ

Question ID : 630680876501

Option 1 ID : 6306803432766

Option 2 ID : 6306803432765

Option 3 ID : 6306803432763

Option 4 ID : 6306803432764

Status : Answered

Chosen Option : 1

Q.16 सात व्यक्ति A, B, C, D, E, F और G एक वृत्ताकार मेज के चारों ओर केंद्र की ओर मुख करके बैठे हैं (परंतु जरूरी नहीं कि वे इसी क्रम में बैठे हों)। B, C के बाएँ से दूसरे स्थान पर बैठा है। B और D के बीच में केवल दो व्यक्ति बैठे हैं। D, C का निकटतम पड़ोसी है। A, F के दाएँ से तीसरे स्थान पर बैठा है। E, G के ठीक बाएँ बैठा है।
B के सापेक्ष में E का स्थान क्या है?

- Ans
- 1. बाएँ से दूसरा
 - 2. ठीक दाएँ
 - 3. ठीक बाएँ
 - 4. दाएँ से तीसरा

Question Type : MCQ

Question ID : 630680380538

Option 1 ID : 6306801483142

Option 2 ID : 6306801483139

Option 3 ID : 6306801483141

Option 4 ID : 6306801483140

Status : Not Attempted and
Marked For Review

Chosen Option : --

Q.17 एक निश्चित कूट भाषा में, 'CAKE' को '5913' लिखा जाता है और 'SHARP' को '24658' लिखा जाता है। उस कूट भाषा में 'A' को कैसे लिखा जाएगा?

- Ans
- 1. 1
 - 2. 4
 - 3. 6
 - 4. 5

Question Type : MCQ

Question ID : 630680439080

Option 1 ID : 6306801714135

Option 2 ID : 6306801714134

Option 3 ID : 6306801714133

Option 4 ID : 6306801714132

Status : Answered

Chosen Option : 4

Q.18 अंग्रेजी वर्णमाला क्रम के आधार पर दी गई श्रृंखला में प्रश्न चिह्न (?) के स्थान पर क्या आना चाहिए?
AEH, DHK, GKN, JNQ, ?

- Ans
- 1. MQX
 - 2. MQT
 - 3. PQT
 - 4. NRU

Question Type : MCQ

Question ID : 630680334785

Option 1 ID : 6306801302397

Option 2 ID : 6306801302398

Option 3 ID : 6306801302400

Option 4 ID : 6306801302399

Status : Answered

Chosen Option : 2

Q.19 एक निश्चित कूटभाषा में, 'MOTH' को '2514' के रूप में कूटबद्ध किया गया है और 'TOME' को '1453' के रूप में कूटबद्ध किया गया है। उस भाषा में 'E' के लिए कूट क्या है?

Ans 1. 3

2. 1

3. 5

4. 4

Question Type : MCQ

Question ID : 630680828865

Option 1 ID : 6306803246737

Option 2 ID : 6306803246734

Option 3 ID : 6306803246736

Option 4 ID : 6306803246735

Status : Answered

Chosen Option : 1

Q.20 अंग्रेजी वर्णानुक्रम के आधार पर OJNI एक निश्चित प्रकार से GBFA से संबंधित है। ठीक उसी प्रकार QLPK, IDHC से संबंधित है। समान तर्क का अनुसरण करते हुए VQUP निम्नलिखित में से किससे संबंधित है?

Ans 1.

NIMH

2. INHM

3. INMH

4. NIHM

Question Type : MCQ

Question ID : 630680435571

Option 1 ID : 6306801700221

Option 2 ID : 6306801700223

Option 3 ID : 6306801700224

Option 4 ID : 6306801700222

Status : Answered

Chosen Option : 1

Section : General Awareness

Q.1 निम्नलिखित में से किस विटामिन में कोबाल्ट एक अनिवार्य घटक के रूप में शामिल होता है?

Ans 1. विटामिन A

2. विटामिन B12

3. विटामिन D

4. विटामिन E

Question Type : MCQ

Question ID : 630680270218

Option 1 ID : 6306801050126

Option 2 ID : 6306801050125

Option 3 ID : 6306801050123

Option 4 ID : 6306801050124

Status : Answered

Chosen Option : 2

Q.2 निम्नलिखित में से कौन-सा एक अनौपचारिक समूह है, जिसमें 4 से लेकर 10 व्यक्ति शामिल होते हैं, जो पारस्परिक गारंटी (mutual guarantee) पर ऋण चाहते हैं?

- Ans
- 1. ग्रामीण मॉडल बैंक (Grameen model bank)
 - 2. ग्रामीण सहकारिता (Rural cooperatives)
 - 3. संयुक्त दायित्व समूह (Joint liability group)
 - 4. स्वयं सहायता समूह (Self-help group)

Question Type : MCQ

Question ID : 63068090305

Option 1 ID : 630680349994

Option 2 ID : 630680349995

Option 3 ID : 630680349996

Option 4 ID : 630680349997

Status : Answered

Chosen Option : 3

Q.3 खारवेल (Kharavela) किस राजवंश का महत्वपूर्ण शासक था?

- Ans
- 1. चेदि राजवंश (Chedi Dynasty)
 - 2. गुप्त राजवंश (Gupta Dynasty)
 - 3. वर्धन राजवंश (Vardhan Dynasty)
 - 4. शुंग राजवंश (Sunga Dynasty)

Question Type : MCQ

Question ID : 63068070547

Option 1 ID : 630680272810

Option 2 ID : 630680272811

Option 3 ID : 630680272812

Option 4 ID : 630680272813

Status : Answered

Chosen Option : 1

Q.4 नेपाल का राष्ट्रीय पशु कौन-सा है?

- Ans
- 1. हिम तेंदुआ
 - 2. बाघ
 - 3. गाय
 - 4. ऊंट

Question Type : MCQ

Question ID : 63068051448

Option 1 ID : 630680198026

Option 2 ID : 630680198027

Option 3 ID : 630680198028

Option 4 ID : 630680198029

Status : Answered

Chosen Option : 1

Q.5 भारतीय राष्ट्रीय कांग्रेस की पहली महिला अध्यक्ष निम्नलिखित में से कौन थी?

- Ans 1. एनी बेसेंट
 2. सुचेता कृपलानी
 3. अरुणा आसफ अली
 4. सरोजिनी नायडू

Question Type : MCQ

Question ID : 630680275816

Option 1 ID : 6306801071776

Option 2 ID : 6306801071775

Option 3 ID : 6306801071778

Option 4 ID : 6306801071777

Status : Answered

Chosen Option : 1

Q.6 दूध का प्रमुख कार्बोहाइड्रेट _____ है।

- Ans 1. माल्टोज
 2. स्टार्च
 3. लैक्टोज
 4. फ्रक्टोज

Question Type : MCQ

Question ID : 630680208113

Option 1 ID : 630680806683

Option 2 ID : 630680806685

Option 3 ID : 630680806684

Option 4 ID : 630680806686

Status : Answered

Chosen Option : 3

Q.7 ऐतिहासिक कथा उपन्यास 'द मौर्य: द लीजेंड ऑफ अशोक (The Mauryan: The Legend of Ashoka)' के लेखक कौन हैं?

- Ans 1. चेतन भगत
 2. कोमल भानवेर
 3. संजीव सान्याल
 4. अमीश त्रिपाठी

Question Type : MCQ

Question ID : 630680512101

Option 1 ID : 6306802001377

Option 2 ID : 6306802001376

Option 3 ID : 6306802001374

Option 4 ID : 6306802001375

Status : Answered

Chosen Option : 3

Q.8 भारत में धार्मिक त्योहारों के लिए निम्नलिखित में से कौन-सा/से कथन सही है/हैं?

1. लोसार (Losar) त्योहार प्रमुख रूप से भारत के बौद्ध समुदाय द्वारा मनाया जाता है।
2. नवरोज (Navroz) त्योहार प्रमुख रूप से भारत के पारसी समुदाय द्वारा मनाया जाता है।
3. सागा दावा (Saga Dawa) प्रमुख रूप से भारत के मुस्लिम समुदाय द्वारा मनाया जाता है।

- Ans
- 1. केवल 2
 - 2. 1 और 2 दोनों
 - 3. केवल 1
 - 4. 2 और 3 दोनों

Question Type : **MCQ**

Question ID : **630680123000**

Option 1 ID : **630680476907**

Option 2 ID : **630680476908**

Option 3 ID : **630680476906**

Option 4 ID : **630680476909**

Status : **Answered**

Chosen Option : **2**

Q.9 निम्नलिखित में से किस जनगणना में भारत में ऋणात्मक जनसंख्या वृद्धि दर्ज की गई?

- Ans
- 1. 1921
 - 2. 1971
 - 3. 1991
 - 4. 2011

Question Type : **MCQ**

Question ID : **630680510921**

Option 1 ID : **6306801996817**

Option 2 ID : **6306801996815**

Option 3 ID : **6306801996814**

Option 4 ID : **6306801996816**

Status : **Answered**

Chosen Option : **1**

Q.10 मध्यकालीन इतिहास के संदर्भ में निम्नलिखित कथनों पर विचार कीजिए।

1. 'शाही चोल (Imperial Cholas)' कहे जाने वाले चोल वंश के संस्थापक विजयालय (9वीं शताब्दी ईस्वी) थे।
2. उत्तरी भारत में शासन करने वाले महत्वपूर्ण राजवंशों में से एक गुर्जर-प्रतिहार थे।
3. आरंभिक वर्षों (750-1000) में पालों ने पश्चिमी भारत में और राष्ट्रकूटों ने दक्षिणी भारत में शासन किया।

दिए गए कथनों में से कौन-सा/कौन-से सही है/हैं?

- Ans
- 1. केवल 1 और 3
 - 2. केवल 1 और 2
 - 3. केवल 2
 - 4. केवल 1

Question Type : MCQ

Question ID : 630680133862

Option 1 ID : 630680518384

Option 2 ID : 630680518385

Option 3 ID : 630680518383

Option 4 ID : 630680518382

Status : Answered

Chosen Option : 2

Q.11 नवंबर 2023 में केंद्र द्वारा विशेष सुरक्षा दल (Special Protection Group - SPG) का नया प्रमुख किसे नियुक्त किया गया है?

- Ans
- 1. अशोक कुमार मिश्रा
 - 2. अनिल कुमार धस्माना
 - 3. राकेश अस्थाना
 - 4. आलोक शर्मा

Question Type : MCQ

Question ID : 630680488582

Option 1 ID : 6306801908354

Option 2 ID : 6306801908353

Option 3 ID : 6306801908352

Option 4 ID : 6306801908351

Status : Not Answered

Chosen Option : --

Q.12 टेनिस में 'डबल फॉल्ट (double fault)' क्या होता है?

- Ans
- 1. एक सर्व (serve) जो नेट पर हिट करती है और सही सर्विस बॉक्स में जाती है
 - 2. लाइनमैन द्वारा बताया गया फॉल्ट
 - 3. एक सर्व जो सीमा से बाहर जाती है
 - 4. एक के बाद एक लगातार दो फॉल्ट सर्व करना

Question Type : MCQ

Question ID : 630680466232

Option 1 ID : 6306801820950

Option 2 ID : 6306801820953

Option 3 ID : 6306801820951

Option 4 ID : 6306801820952

Status : Not Answered

Chosen Option : --

Q.13 जॉन डाल्टन ने किस वर्ष अपना परमाणु सिद्धांत प्रस्तुत किया था, जिसके दूसरे भाग में यह उल्लेख किया गया है कि किसी विशेष तत्व के सभी परमाणु समान होते हैं?

- Ans 1. 1800
 2. 1825
 3. 1811
 4. 1808

Question Type : MCQ

Question ID : 630680403653

Option 1 ID : 6306801574102

Option 2 ID : 6306801574105

Option 3 ID : 6306801574104

Option 4 ID : 6306801574103

Status : Answered

Chosen Option : 1

Q.14 ठंडे उपध्रुवीय जलवायु क्षेत्र (cold subarctic climate region) में मुख्य वनस्पति के रूप में शंकु वृक्षों वाली वन भूमि होती है। इन वनभूमियों को क्या कहा जाता है?

- Ans 1. टुंड्रा (Tundra)
 2. टैगा (Taiga)
 3. सवाना (Savanna)
 4. मैंग्रोव (Mangrove)

Question Type : MCQ

Question ID : 630680404438

Option 1 ID : 6306801577254

Option 2 ID : 6306801577252

Option 3 ID : 6306801577253

Option 4 ID : 6306801577255

Status : Answered

Chosen Option : 2

Q.15 इनमें से किस राज्य सरकार ने नवंबर 2022 में पेसा अधिनियम (PESA act) लागू किया है?

- Ans 1. राजस्थान
 2. मध्य प्रदेश
 3. उत्तर प्रदेश
 4. पंजाब

Question Type : MCQ

Question ID : 630680465527

Option 1 ID : 6306801818146

Option 2 ID : 6306801818145

Option 3 ID : 6306801818143

Option 4 ID : 6306801818144

Status : Answered

Chosen Option : 4

Q.16 निम्नलिखित में से कौन, भारत में विधानसभा के पीठासीन अधिकारी का चुनाव करता है?

- Ans
- 1. राष्ट्रपति
 - 2. विधान परिषद के सदस्य
 - 3. विधानसभा के सदस्य
 - 4. राज्यपाल

Question Type : **MCQ**
Question ID : **630680759946**
Option 1 ID : **6306802978678**
Option 2 ID : **6306802978681**
Option 3 ID : **6306802978680**
Option 4 ID : **6306802978679**
Status : **Answered**
Chosen Option : **4**

Q.17 वर्ष 1756 में अलीवर्दी खान की मृत्यु के बाद बंगाल के नवाब कौन बने?

- Ans
- 1. शुजा-उद-दौला
 - 2. वज़ीर अली
 - 3. सआदत अली खान
 - 4. सिराज-उद-दौला

Question Type : **MCQ**
Question ID : **630680511611**
Option 1 ID : **6306801999567**
Option 2 ID : **6306801999568**
Option 3 ID : **6306801999569**
Option 4 ID : **6306801999566**
Status : **Answered**
Chosen Option : **4**

Q.18 जोधपुर के मेहरानगढ़ किले (Mehrangarh fort) का निर्माण किस शासक के शासनकाल के दौरान शुरू किया गया था?

- Ans
- 1. राव बीका (Rao Bika)
 - 2. राव जोधा (Rao Jodha)
 - 3. महारावल जसवन्त सिंह (Maharawal Jaswant Singh)
 - 4. सवाई मान सिंह (Sawai Man Singh)

Question Type : **MCQ**
Question ID : **630680555026**
Option 1 ID : **6306802169680**
Option 2 ID : **6306802169681**
Option 3 ID : **6306802169682**
Option 4 ID : **6306802169683**
Status : **Not Answered**
Chosen Option : **--**

Q.19 निम्नलिखित में से कौन-सा शिखर भारत में स्थित नहीं है?

- Ans 1. गुरु शिखर
 2. नंदा देवी
 3. महेन्द्रगिरी
 4. धौलागिरी

Question Type : MCQ

Question ID : 630680484511

Option 1 ID : 6306801892358

Option 2 ID : 6306801892360

Option 3 ID : 6306801892359

Option 4 ID : 6306801892361

Status : Answered

Chosen Option : 2

Q.20 भारतीय संविधान में 11वां मौलिक कर्तव्य 86वें संवैधानिक संशोधन अधिनियम द्वारा वर्ष _____ में शामिल किया गया था।

- Ans 1. 2002
 2. 2000
 3. 2004
 4. 2001

Question Type : MCQ

Question ID : 630680587204

Option 1 ID : 6306802297350

Option 2 ID : 6306802297348

Option 3 ID : 6306802297351

Option 4 ID : 6306802297349

Status : Answered

Chosen Option : 1

Q.21 बिरजू महाराज निम्नलिखित में से किस शास्त्रीय नृत्य शैली से संबंधित हैं?

- Ans 1. कथकली
 2. कथक
 3. भरतनाट्यम
 4. गरबा

Question Type : MCQ

Question ID : 630680465734

Option 1 ID : 6306801818974

Option 2 ID : 6306801818973

Option 3 ID : 6306801818971

Option 4 ID : 6306801818972

Status : Answered

Chosen Option : 2

Q.22 _____ को कुचिपुड़ी नृत्य के क्षेत्र में उनके योगदान के लिए 1970 में पद्म श्री से सम्मानित किया गया था।

- Ans
- 1. स्थानम नरसिम्हाराव
 - 2. वी. सत्यनारायण सरमा
 - 3. द्वारम वेंकटस्वामी नायडू
 - 4. मुस्ताक हुसैन खान

Question Type : MCQ
Question ID : 630680512016
Option 1 ID : 6306802001037
Option 2 ID : 6306802001036
Option 3 ID : 6306802001035
Option 4 ID : 6306802001034
Status : Answered
Chosen Option : 2

Q.23 भारत के किस राज्य ने संतोष ट्रॉफी के 77वें संस्करण की मेजबानी की?

- Ans
- 1. अरुणाचल प्रदेश
 - 2. मध्य प्रदेश
 - 3. हिमाचल प्रदेश
 - 4. उत्तर प्रदेश

Question Type : MCQ
Question ID : 630680694286
Option 1 ID : 6306802719429
Option 2 ID : 6306802719428
Option 3 ID : 6306802719431
Option 4 ID : 6306802719430
Status : Not Answered
Chosen Option : --

Q.24 पद्म भूषण से सम्मानित मोगुबाई कुर्दिकर (Mogubai Kurdikar) निम्नलिखित में से किस संगीत शैली से संबंधित थीं?

- Ans
- 1. जैज संगीत
 - 2. थिएटर संगीत
 - 3. लोक संगीत
 - 4. हिंदुस्तानी शास्त्रीय संगीत

Question Type : MCQ
Question ID : 630680488682
Option 1 ID : 6306801908745
Option 2 ID : 6306801908746
Option 3 ID : 6306801908744
Option 4 ID : 6306801908743
Status : Not Answered
Chosen Option : --

Q.25 निम्नलिखित में से कौन-सा लौह एवं इस्पात संयंत्र झारखंड में स्थित है?

- Ans 1. बोकारो (Bokaro)
 2. विजय नगर (Vijay Nagar)
 3. दुर्गापुर (Durgapur)
 4. सलेम (Salem)

Question Type : **MCQ**
Question ID : **630680511132**
Option 1 ID : **6306801997658**
Option 2 ID : **6306801997661**
Option 3 ID : **6306801997660**
Option 4 ID : **6306801997659**
Status : **Answered**
Chosen Option : 1

Section : English Language and Comprehension

Q.1 Select the most appropriate option to fill in the blank.

My brother plays the guitar _____ than I do.

- Ans 1. well
 2. best
 3. better
 4. good

Question Type : **MCQ**
Question ID : **630680490341**
Option 1 ID : **6306801915282**
Option 2 ID : **6306801915281**
Option 3 ID : **6306801915280**
Option 4 ID : **6306801915279**
Status : **Answered**
Chosen Option : 3

Q.2 The following sentence has been split into four segments. Identify the segment that contains a grammatical error.

My sister performed / brilliant / in the competition / yesterday.

- Ans 1. my sister performed
 2. yesterday
 3. in the competition
 4. brilliant

Question Type : **MCQ**
Question ID : **630680798894**
Option 1 ID : **6306803130382**
Option 2 ID : **6306803130385**
Option 3 ID : **6306803130384**
Option 4 ID : **6306803130383**
Status : **Answered**
Chosen Option : 4

Q.3 Select the meaningful and correctly spelt word from the given options to fill in the blank.

The oceans cover more than 70% of the Earth's surface, making them the largest _____ on the planet.

- Ans
- 1. habitude
 - 2. hybrid
 - 3. habitat
 - 4. habit

Question Type : MCQ
Question ID : 630680550060
Option 1 ID : 6306802150504
Option 2 ID : 6306802150503
Option 3 ID : 6306802150502
Option 4 ID : 6306802150501
Status : Answered
Chosen Option : 3

Q.4 Select the appropriate option that can substitute the underlined word in the following sentence to make it grammatically correct.

Smart watches are the last gadgets used by younger generations.

- Ans
- 1. the latest
 - 2. latest
 - 3. the later
 - 4. later

Question Type : MCQ
Question ID : 630680514632
Option 1 ID : 6306802011153
Option 2 ID : 6306802011154
Option 3 ID : 6306802011156
Option 4 ID : 6306802011155
Status : Answered
Chosen Option : 1

Q.5 Select the most appropriate option to fill in the blank.

The author's use of vivid imagery _____ the reader's senses, making the story come alive.

- Ans
- 1. heightens
 - 2. confuses
 - 3. dulls
 - 4. actions

Question Type : MCQ
Question ID : 630680488657
Option 1 ID : 6306801908644
Option 2 ID : 6306801908645
Option 3 ID : 6306801908643
Option 4 ID : 6306801908646
Status : Answered
Chosen Option : 4

Q.6 The following sentence has been divided into parts. One of them may contain an error. Select the part that contains the error from the given options. If you don't find any error, mark 'No error' as your answer.

Ravi said that / his red jacket is / the cheaper than all other jackets.

Ans 1. the cheaper than all other jackets.

2. his red jacket is

3. Ravi said that

4. No error

Question Type : **MCQ**

Question ID : **630680630388**

Option 1 ID : **6306802467605**

Option 2 ID : **6306802467604**

Option 3 ID : **6306802467603**

Option 4 ID : **6306802467606**

Status : **Answered**

Chosen Option : 1

Q.7 Rectify the sentence by selecting the correct spelling from the options. After the storm passed, the sun emarged from behind the clouds.

Ans 1. amergad

2. amarged

3. emerged

4. emergad

Question Type : **MCQ**

Question ID : **630680710916**

Option 1 ID : **6306802785323**

Option 2 ID : **6306802785322**

Option 3 ID : **6306802785321**

Option 4 ID : **6306802785320**

Status : **Answered**

Chosen Option : 3

Q.8 Select the most appropriate synonym of the underlined word in the following sentence.

Don't fight over such a trivial issue.

Ans 1. Insignificant

2. Complex

3. Controversial

4. Tricky

Question Type : **MCQ**

Question ID : **630680726547**

Option 1 ID : **6306802847195**

Option 2 ID : **6306802847197**

Option 3 ID : **6306802847196**

Option 4 ID : **6306802847194**

Status : **Answered**

Chosen Option : 1

Q.9 Select the most appropriate option to fill in the blank.

The way Sonam performs live on stage can be called the _____ one.

- Ans
- 1. perfectable
 - 2. mostly perfect
 - 3. more perfect
 - 4. most perfect

Question Type : **MCQ**

Question ID : **630680514578**

Option 1 ID : **6306802010939**

Option 2 ID : **6306802010940**

Option 3 ID : **6306802010937**

Option 4 ID : **6306802010938**

Status : **Answered**

Chosen Option : **4**

Q.10 Select the option that corrects the Phrasal Verb (appearing in bold letters) in the given sentence.

The burglars**broke off** my neighbour's house when they were away.

- Ans
- 1. broke away
 - 2. broke with
 - 3. broke down
 - 4. broke into

Question Type : **MCQ**

Question ID : **630680564178**

Option 1 ID : **6306802205669**

Option 2 ID : **6306802205671**

Option 3 ID : **6306802205670**

Option 4 ID : **6306802205672**

Status : **Answered**

Chosen Option : **4**

Q.11 Select the most appropriate option to fill in the blank.
The assignment was _____ early in the morning.

- Ans
- 1. due
 - 2. dew
 - 3. doe
 - 4. do

Question Type : **MCQ**

Question ID : **630680435048**

Option 1 ID : **6306801698108**

Option 2 ID : **6306801698107**

Option 3 ID : **6306801698110**

Option 4 ID : **6306801698109**

Status : **Answered**

Chosen Option : **1**

Q.12 Select the most appropriate meaning of the given idiom.
Straight from the horse's mouth

- Ans 1. Hearing something coming from a horse's mouth
 2. Hearing something from a reliable and credible source
 3. Hearing something that is difficult to understand
 4. Hearing something that is untrue or a lie

Question Type : MCQ

Question ID : 630680305868

Option 1 ID : 6306801189829

Option 2 ID : 6306801189830

Option 3 ID : 6306801189831

Option 4 ID : 6306801189832

Status : Answered

Chosen Option : 2

Q.13 Select the most appropriate option that can substitute the underlined segment in the given sentence. If there is no need to substitute it, select 'No substitution'.

The pineapple dessert was so delicious that we couldn't help eat it.

- Ans 1. so delicious that we couldn't help eating it
 2. so that delicious we couldn't help eating it
 3. No substitution
 4. so delicious that we couldn't help eating it

Question Type : MCQ

Question ID : 630680546054

Option 1 ID : 6306802134794

Option 2 ID : 6306802134793

Option 3 ID : 6306802134795

Option 4 ID : 6306802134792

Status : Answered

Chosen Option : 4

Q.14 Select the most appropriate ANTONYM of the given word:

Grapple

- Ans 1. Clasp
 2. Grumble
 3. Release
 4. Wrestle

Question Type : MCQ

Question ID : 630680477352

Option 1 ID : 6306801864568

Option 2 ID : 6306801864566

Option 3 ID : 6306801864567

Option 4 ID : 6306801864565

Status : Answered

Chosen Option : 3

Q.15 The following sentence has been divided into parts. One of them may contain an error. Select the part that contains the error from the given options. If you don't find any error, mark 'No error' as your answer.

Whenever she is coming / here, she brings / many gifts for everyone.

- Ans
- 1. here, she brings
 - 2. many gifts for everyone.
 - 3. Whenever she is coming
 - 4. No Error

Question Type : **MCQ**
Question ID : **630680631330**
Option 1 ID : **6306802471267**
Option 2 ID : **6306802471268**
Option 3 ID : **6306802471266**
Option 4 ID : **6306802471269**
Status : **Answered**
Chosen Option : **3**

Q.16 Select the most appropriate meaning of the given idiom.

Straight from the horse's mouth

- Ans
- 1. Giving no expression at all
 - 2. Directly from the person involved
 - 3. Directly eating from the provider
 - 4. Rumours begin at home

Question Type : **MCQ**
Question ID : **630680790639**
Option 1 ID : **6306803098314**
Option 2 ID : **6306803098313**
Option 3 ID : **6306803098315**
Option 4 ID : **6306803098312**
Status : **Answered**
Chosen Option : **2**

Q.17 Select the **INCORRECTLY** spelt word.

- Ans
- 1. Lieutanant
 - 2. Augment
 - 3. Bureaucracy
 - 4. Rendezvous

Question Type : **MCQ**
Question ID : **630680540056**
Option 1 ID : **6306802111325**
Option 2 ID : **6306802111327**
Option 3 ID : **6306802111324**
Option 4 ID : **6306802111326**
Status : **Answered**
Chosen Option : **1**

Q.18 Select the most appropriate ANTONYM for the underlined word.

They want to bifurcate the states.

- Ans
- 1. Divide
 - 2. Examine
 - 3. Combine
 - 4. Support

Question Type : **MCQ**

Question ID : **630680799085**

Option 1 ID : **6306803131139**

Option 2 ID : **6306803131141**

Option 3 ID : **6306803131138**

Option 4 ID : **6306803131140**

Status : **Answered**

Chosen Option : **3**

Q.19 Select the most appropriate option to fill in the blank.

He is an intelligent person who always thinks before he _____.

- Ans
- 1. act
 - 2. acting
 - 3. acts
 - 4. acted

Question Type : **MCQ**

Question ID : **630680553942**

Option 1 ID : **6306802165624**

Option 2 ID : **6306802165622**

Option 3 ID : **6306802165625**

Option 4 ID : **6306802165623**

Status : **Answered**

Chosen Option : **3**

Q.20 Select the most appropriate synonym of the underlined word in the given sentence.

He is a complete novice when it comes to driving a car.

- Ans
- 1. Swindler
 - 2. Amateur
 - 3. Zealous
 - 4. Expert

Question Type : **MCQ**

Question ID : **630680396411**

Option 1 ID : **6306801545754**

Option 2 ID : **6306801545752**

Option 3 ID : **6306801545755**

Option 4 ID : **6306801545753**

Status : **Answered**

Chosen Option : **2**

Comprehension:

In the following passage, some words have been deleted. Read the passage carefully and select the most appropriate option to fill in each blank:

In the realm of literature, words are the (1) _____ of creation, and authors are the (2) _____ of meaning. They skillfully weave stories with (3) _____ narratives that can (4) _____ the depths of human emotion. A well-crafted novel can (5) _____ readers into its world, making them forget the passage of time.

SubQuestion No : 21

Q.21 Select the most appropriate option to fill in blank number 1.

- Ans 1. isolate
 2. tools
 3. mundane
 4. convey

Question Type : **MCQ**

Question ID : **630680461266**

Option 1 ID : **6306801801317**

Option 2 ID : **6306801801314**

Option 3 ID : **6306801801316**

Option 4 ID : **6306801801315**

Status : **Answered**

Chosen Option : **2**

Comprehension:

In the following passage, some words have been deleted. Read the passage carefully and select the most appropriate option to fill in each blank:

In the realm of literature, words are the (1) _____ of creation, and authors are the (2) _____ of meaning. They skillfully weave stories with (3) _____ narratives that can (4) _____ the depths of human emotion. A well-crafted novel can (5) _____ readers into its world, making them forget the passage of time.

SubQuestion No : 22

Q.22 Select the most appropriate option to fill in blank number 2.

- Ans 1. direction
 2. coward
 3. vibrators
 4. keepers

Question Type : **MCQ**

Question ID : **630680476554**

Option 1 ID : **6306801861448**

Option 2 ID : **6306801861447**

Option 3 ID : **6306801861445**

Option 4 ID : **6306801861446**

Status : **Answered**

Chosen Option : **3**

Comprehension:

In the following passage, some words have been deleted. Read the passage carefully and select the most appropriate option to fill in each blank:

In the realm of literature, words are the (1) _____ of creation, and authors are the (2) _____ of meaning. They skillfully weave stories with (3) _____ narratives that can (4) _____ the depths of human emotion. A well-crafted novel can (5) _____ readers into its world, making them forget the passage of time.

SubQuestion No : 23

Q.23 Select the most appropriate option to fill in blank number 3.

- Ans
- 1. mundane
 - 2. convey
 - 3. vivid
 - 4. defrost

Question Type : **MCQ**

Question ID : **630680476556**

Option 1 ID : **6306801861456**

Option 2 ID : **6306801861453**

Option 3 ID : **6306801861455**

Option 4 ID : **6306801861454**

Status : **Answered**

Chosen Option : **3**

Comprehension:

In the following passage, some words have been deleted. Read the passage carefully and select the most appropriate option to fill in each blank:

In the realm of literature, words are the (1) _____ of creation, and authors are the (2) _____ of meaning. They skillfully weave stories with (3) _____ narratives that can (4) _____ the depths of human emotion. A well-crafted novel can (5) _____ readers into its world, making them forget the passage of time.

SubQuestion No : 24

Q.24 Select the most appropriate option to fill in blank number 4.

- Ans
- 1. pilot
 - 2. sailor
 - 3. banker
 - 4. teacher

Question Type : **MCQ**

Question ID : **630680476557**

Option 1 ID : **6306801861460**

Option 2 ID : **6306801861457**

Option 3 ID : **6306801861458**

Option 4 ID : **6306801861459**

Status : **Answered**

Chosen Option : **1**

Comprehension:

In the following passage, some words have been deleted. Read the passage carefully and select the most appropriate option to fill in each blank:

In the realm of literature, words are the (1) _____ of creation, and authors are the (2) _____ of meaning. They skillfully weave stories with (3) _____ narratives that can (4) _____ the depths of human emotion. A well-crafted novel can (5) _____ readers into its world, making them forget the passage of time.

SubQuestion No : 25

Q.25 Select the most appropriate option to fill in blank number 5.

Ans 1. immerse

2. isolate

3. repel

4. captivate

Question Type : **MCQ**

Question ID : **630680476558**

Option 1 ID : **6306801861463**

Option 2 ID : **6306801861464**

Option 3 ID : **6306801861462**

Option 4 ID : **6306801861461**

Status : **Answered**

Chosen Option : **1**