

Multi Tasking Non Technical Staff and Havaladar CBIC and CBN Examination 2024

Roll Number	
Candidate Name	
Venue Name	iCube Digital
Exam Date	12/11/2024
Exam Time	12:30 PM - 2:30 PM
Subject	MTS Non Tech Havaladar CBIC and CBN Examination 2024

Section : Numerical and Mathematical Ability

Q.1 यदि किसी मकान का क्रय मूल्य इसके विक्रय मूल्य का 86% है, तो लाभ प्रतिशत क्या है, दशमलव के दो स्थान तक सही?

- Ans
- 1. 13.22%
 - 2. 11.17%
 - 3. 16.27%
 - 4. 14.07%

Question Type : MCQ
Question ID : 630680116070
Option 1 ID : 630680449612
Option 2 ID : 630680449610
Option 3 ID : 630680449613
Option 4 ID : 630680449611
Status : Answered
Chosen Option : 4

Q.2 पहले, दूसरे और तीसरे प्रेक्षणों का औसत 39 है, जबकि दूसरे, तीसरे और चौथे प्रेक्षणों का औसत 35 है। यदि चौथा प्रेक्षण, पहले प्रेक्षण का $\frac{3}{5}$ गुना है, तो चौथे प्रेक्षण का मान ज्ञात कीजिए।

- Ans
- 1. 18
 - 2. 36
 - 3. 45
 - 4. 27

Question Type : MCQ
Question ID : 630680456278
Option 1 ID : 6306801782086
Option 2 ID : 6306801782084
Option 3 ID : 6306801782083
Option 4 ID : 6306801782085
Status : Answered
Chosen Option : 1

Q.3 नीचे दी गई तालिका एक कंपनी द्वारा चार महीनों के दौरान अलग-अलग प्रकार के स्कूटरों X, Y, Z और T के उत्पादन को दर्शाती है।

स्कूटरों के प्रकार/महीने	जनवरी	फरवरी	मार्च	अप्रैल
X	45	55	28	35
Y	75	47	58	26
Z	86	27	73	51
T	74	32	29	69
कुल	280	161	188	181

कंपनी ने किस महीने में न्यूनतम संख्या में स्कूटरों का उत्पादन किया?

- Ans
- 1. अप्रैल
 - 2. फरवरी
 - 3. जनवरी
 - 4. मार्च

Question Type : MCQ

Question ID : 630680523737

Option 1 ID : 6306802047102

Option 2 ID : 6306802047100

Option 3 ID : 6306802047099

Option 4 ID : 6306802047101

Status : Answered

Chosen Option : 2

Q.4 एक दुकानदार एक वस्तु का मूल्य उसके वास्तविक क्रय मूल्य से ₹37,000 अधिक अंकित करता है। यदि दुकानदार 20% की छूट देने की बजाय 15% की छूट देता है, तो उसे ₹ 7,500 अधिक मिलते हैं। क्रय मूल्य ज्ञात कीजिए।

- Ans
- 1. ₹1,31,000
 - 2. ₹1,50,000
 - 3. ₹1,23,000
 - 4. ₹1,13,000

Question Type : MCQ

Question ID : 630680616457

Option 1 ID : 6306802412489

Option 2 ID : 6306802412487

Option 3 ID : 6306802412490

Option 4 ID : 6306802412488

Status : Answered

Chosen Option : 2

Q.5 दिए गए बार ग्राफ का अध्ययन कीजिए और निम्नलिखित प्रश्न का उत्तर दीजिए।
दिया गया बार ग्राफ दो क्रमागत वर्षों, 2021 और 2022 में एक निर्माता की पांच शाखाओं से खेलौनों की बिक्री (हजारों में) को दर्शाता है।



2021 और 2022 में सभी पांच शाखाओं की औसत बिक्री (हजारों में) के बीच कितना अंतर है?

- Ans
- 1. 18.4
 - 2. 17.4
 - 3. 15.4
 - 4. 16.4

Question Type : MCQ

Question ID : 630680435964

Option 1 ID : 6306801701816

Option 2 ID : 6306801701813

Option 3 ID : 6306801701815

Option 4 ID : 6306801701814

Status : Answered

Chosen Option : 4

Q.6 2 वर्षों के लिए 3% वार्षिक की ब्याज दर पर उधार ली गई राशि ₹2500 पर साधारण ब्याज (₹ में) ज्ञात कीजिए।

- Ans
- 1. 110
 - 2. 190
 - 3. 150
 - 4. 90

Question Type : MCQ

Question ID : 630680591888

Option 1 ID : 6306802316022

Option 2 ID : 6306802316020

Option 3 ID : 6306802316019

Option 4 ID : 6306802316021

Status : Answered

Chosen Option : 3

Q.7 कितनी धनराशि (₹ में) पर $1\frac{1}{2}\%$ वार्षिक दर से 4 वर्षों में साधारण ब्याज के रूप में ₹75 प्राप्त होगा?

- Ans 1. 1,210
 2. 1,240
 3. 1,250
 4. 1,200

Question Type : MCQ
Question ID : 630680397285
Option 1 ID : 6306801549197
Option 2 ID : 6306801549199
Option 3 ID : 6306801549198
Option 4 ID : 6306801549196
Status : Answered
Chosen Option : 3

Q.8 24 cm व्यास के एक गोले से प्रत्येक 4 cm व्यास की कितनी सीसे की गेंदें बनाई जा सकती हैं?

- Ans 1. 216
 2. 432
 3. 144
 4. 108

Question Type : MCQ
Question ID : 630680112255
Option 1 ID : 630680434734
Option 2 ID : 630680434736
Option 3 ID : 630680434737
Option 4 ID : 630680434735
Status : Not Attempted and Marked For Review
Chosen Option : --

Q.9 A, X से 9:00 A.M. पर चलना आरंभ करता है और 1:00 P.M. पर Y तक पहुँचता है, उसी दिन B भी Y से 9:00 A.M. पर चलना आरंभ करता है और उसी दिन 3:00 P.M. पर X तक पहुँचता है और A के समान रास्ते की ओर ही जाता है। दोनों किस समय पर मिलते हैं?

- Ans 1. 11:30 A.M.
 2. 11:24 A.M.
 3. 11:12 A.M.
 4. 10:00 A.M.

Question Type : MCQ
Question ID : 630680239306
Option 1 ID : 630680928234
Option 2 ID : 630680928235
Option 3 ID : 630680928233
Option 4 ID : 630680928232
Status : Not Attempted and Marked For Review
Chosen Option : --

Q.10 एक माँ और उसकी पुत्री की औसत आयु 42 वर्ष है। उनकी आयु का अनुपात क्रमशः 9 : 5 है। पुत्री की आयु (वर्षों में) ज्ञात कीजिए।

- Ans
- 1. 35
 - 2. 25
 - 3. 30
 - 4. 20

Question Type : MCQ

Question ID : 630680470250

Option 1 ID : 6306801836757

Option 2 ID : 6306801836756

Option 3 ID : 6306801836755

Option 4 ID : 6306801836754

Status : Answered

Chosen Option : 4

Q.11 16 महिलाएं एक काम को 20 दिन में पूरा कर सकती हैं और 20 पुरुष उसी काम को 32 दिन में पूरा करते हैं। 8 महिलाएं और 16 पुरुष कितने दिनों में उस काम को पूरा करेंगे?

- Ans
- 1. 16
 - 2. 20
 - 3. 32
 - 4. 10

Question Type : MCQ

Question ID : 630680262104

Option 1 ID : 6306801018064

Option 2 ID : 6306801018066

Option 3 ID : 6306801018065

Option 4 ID : 6306801018063

Status : Answered

Chosen Option : 4

Q.12 एक आदमी साइकिल से कुल 100 km की दूरी तय करता है। पहले 2 घंटे में, उसकी चाल 20 km/h थी और शेष यात्रा में, उसकी चाल घटकर 10 km/h हो गई। उसकी औसत चाल ज्ञात करें।

Ans 1. 20 km/h

2. $15\frac{1}{8}$ km/h

3. 13 km/h

4. $12\frac{1}{2}$ km/h

Question Type : MCQ

Question ID : 630680131187

Option 1 ID : 630680508014

Option 2 ID : 630680508017

Option 3 ID : 630680508015

Option 4 ID : 630680508016

Status : Not Attempted and Marked For Review

Chosen Option : --

Q.13 यदि चावल के मूल्य में 10% की कमी की वजह से एक व्यक्ति ₹250 में 22 kg अधिक चावल खरीद पाता है, तो प्रति kg चावल का वास्तविक मूल्य _____ है। (दशमलव के दो स्थान तक सन्निकटित)

Ans 1. ₹1.22

2. ₹1.24

3. ₹1.20

4. ₹1.26

Question Type : MCQ

Question ID : 630680136032

Option 1 ID : 630680526828

Option 2 ID : 630680526827

Option 3 ID : 630680526829

Option 4 ID : 630680526826

Status : Answered

Chosen Option : 3

Q.14 12 cm त्रिज्या वाले एक ठोस गोले को पिघलाकर छोटी-छोटी गोलाकार गेंदें बनाई गई हैं, जिनमें से प्रत्येक का व्यास 2.4 cm है। इस प्रकार निर्मित गेंदों की संख्या ज्ञात कीजिए।

- Ans
- 1. 500
 - 2. 1050
 - 3. 1000
 - 4. 980

Question Type : MCQ

Question ID : 630680378586

Option 1 ID : 6306801475391

Option 2 ID : 6306801475392

Option 3 ID : 6306801475394

Option 4 ID : 6306801475393

Status : Not Attempted and Marked For Review

Chosen Option : --

Q.15 किसी शंकु के आधार की परिधि 66 cm है और इसकी ऊँचाई 20 cm है। शंकु का आयतन ज्ञात कीजिए। ($\pi = \frac{22}{7}$ लीजिए)

- Ans
- 1. 465 cu.cm
 - 2. 3087 cu.cm
 - 3. 2310 cu.cm
 - 4. 2000 cu.cm

Question Type : MCQ

Question ID : 630680526554

Option 1 ID : 6306802058285

Option 2 ID : 6306802058284

Option 3 ID : 6306802058283

Option 4 ID : 6306802058282

Status : Not Attempted and Marked For Review

Chosen Option : --

Q.16 यदि 20% पानी वाले 5 लीटर सिरके को 5% पानी वाले 10 लीटर सिरके के साथ मिलाया जाए, तो नए सिरके के मिश्रण का कितना प्रतिशत पानी है?

- Ans
- 1. 20%
 - 2. 10%
 - 3. 11.11%
 - 4. 15%

Question Type : MCQ

Question ID : 630680447298

Option 1 ID : 6306801746445

Option 2 ID : 6306801746447

Option 3 ID : 6306801746448

Option 4 ID : 6306801746446

Status : Answered

Chosen Option : 1

Q.17 28, 35 और 42 का महत्तम समापवर्तक (HCF) क्या है?

Ans 1. 11

2. 7

3. 3

4. 5

Question Type : **MCQ**

Question ID : **630680108568**

Option 1 ID : **630680421231**

Option 2 ID : **630680421229**

Option 3 ID : **630680421230**

Option 4 ID : **630680421228**

Status : **Answered**

Chosen Option : 2

Q.18 A की आय और व्यय का अनुपात 5 : 4 है। यदि उसकी कुल बचत ₹56,000 है, तो उसका व्यय (₹ में) कितना है?

Ans 1. 2,42,000

2. 2,24,000

3. 2,44,000

4. 4,42,000

Question Type : **MCQ**

Question ID : **630680464520**

Option 1 ID : **6306801814116**

Option 2 ID : **6306801814115**

Option 3 ID : **6306801814118**

Option 4 ID : **6306801814117**

Status : **Answered**

Chosen Option : 2

Q.19 6 वर्षों के लिए 6% वार्षिक की ब्याज दर पर उधार ली गई राशि ₹3000 पर साधारण ब्याज (₹ में) ज्ञात कीजिए।

Ans 1. 1120

2. 1040

3. 1080

4. 1020

Question Type : **MCQ**

Question ID : **630680591942**

Option 1 ID : **6306802316236**

Option 2 ID : **6306802316238**

Option 3 ID : **6306802316235**

Option 4 ID : **6306802316237**

Status : **Answered**

Chosen Option : 3

Q.20 एक व्यक्ति धारा के अनुकूल 27 km और धारा के प्रतिकूल 18 km तक नाव चलाता है, जिसमें प्रत्येक बार उसे एक घंटा लगता है। धारा की चाल क्या है?

Ans 1. 4.5 km/h

2. 6 km/h

3. 1.5 km/h

4. 9 km/h

Question Type : MCQ

Question ID : 630680280561

Option 1 ID : 6306801090480

Option 2 ID : 6306801090481

Option 3 ID : 6306801090479

Option 4 ID : 6306801090482

Status : Not Attempted and Marked For Review

Chosen Option : --

Section : Reasoning Ability and Problem Solving

Q.1 एक निश्चित कूट भाषा में, 'COAT' को '3571' के रूप में कूटबद्ध किया जाता है और 'PAIN' को '4238' के रूप में कूटबद्ध किया जाता है। दी गई कूट भाषा में 'A' के लिए कूट क्या है?

Ans 1. 7

2. 3

3. 2

4. 8

Question Type : MCQ

Question ID : 630680388003

Option 1 ID : 6306801512628

Option 2 ID : 6306801512626

Option 3 ID : 6306801512627

Option 4 ID : 6306801512629

Status : Answered

Chosen Option : 1

Q.2 दिए गए विकल्पों में से उस आकृति को चुनिए जो निम्नलिखित श्रृंखला में प्रश्न चिह्न (?) के स्थान पर आ सकती है और पैटर्न को पूरा कर सकती है।

B	O	D	T	D	A	A	T	D	O	D	☆	
	☆	A		B	O		B	☆		A	T	?
T			☆			O			B			

Ans

✗ 1.

B	T	D
	A	☆
O		

✗ 2.

T	O	B
	A	D
☆		

✗ 3.

D	☆	O
	A	B
T		

✓ 4.

☆	O	D
	A	B
T		

Question Type : MCQ

Question ID : 630680441070

Option 1 ID : 6306801721937

Option 2 ID : 6306801721935

Option 3 ID : 6306801721936

Option 4 ID : 6306801721934

Status : Answered

Chosen Option : 1

Q.3 अंग्रेजी वर्णानुक्रम के आधार पर, KINL किसी प्रकार से QOTR से संबंधित है। NLQO उसी प्रकार से TRWU से संबंधित है। उसी तर्क का अनुसरण करते हुए, PNSQ निम्नलिखित में से किससे संबंधित है?

- Ans
- 1. TVWY
 - 2. TVYW
 - 3. VTWY
 - 4. VTYW

Question Type : MCQ
Question ID : 630680435820
Option 1 ID : 6306801701231
Option 2 ID : 6306801701232
Option 3 ID : 6306801701230
Option 4 ID : 6306801701229
Status : Answered
Chosen Option : 4

Q.4 एक निश्चित कूट भाषा में, 'BLAME' को 'YOZNV' के रूप में कूटबद्ध किया जाता है और 'GLAZE' को 'TOZAV' के रूप में कूटबद्ध किया जाता है। दी गई कूट भाषा में 'PRAKASH' के लिए क्या कूट होगा?

- Ans
- 1. KIZQZHS
 - 2. KJZPZHS
 - 3. KIZPZHS
 - 4. KIZPZHT

Question Type : MCQ
Question ID : 630680465161
Option 1 ID : 6306801816680
Option 2 ID : 6306801816681
Option 3 ID : 6306801816679
Option 4 ID : 6306801816682
Status : Answered
Chosen Option : 3

Q.5 दिए गए विकल्पों में से उस संख्या का चयन कीजिए जो निम्नलिखित श्रृंखला में प्रश्न चिह्न (?) के स्थान पर आ सकती है।

13, 26, 39, 52, 65, ?

- Ans
- 1. 80
 - 2. 77
 - 3. 79
 - 4. 78

Question Type : MCQ
Question ID : 630680405559
Option 1 ID : 6306801581421
Option 2 ID : 6306801581420
Option 3 ID : 6306801581419
Option 4 ID : 6306801581418
Status : Answered
Chosen Option : 4

Q.6 अंग्रेजी वर्णमाला क्रम के आधार पर दी गई श्रृंखला में प्रश्न-चिह्न (?) के स्थान पर क्या आना चाहिए?

AAA, BCD, CEG, DGJ, ?

- Ans
- 1. EHN
 - 2. FIK
 - 3. FGK
 - 4. EIM

Question Type : MCQ

Question ID : 630680332484

Option 1 ID : 6306801293374

Option 2 ID : 6306801293375

Option 3 ID : 6306801293376

Option 4 ID : 6306801293373

Status : Answered

Chosen Option : 4

Q.7 एक निश्चित कूट भाषा में, 'KIDS' को '97&5' के रूप में कूटबद्ध किया जाता है और 'DESK' को 'R759' के रूप में कूटबद्ध किया जाता है। उसी कूट भाषा में 'E' का कूट क्या होगा?

- Ans
- 1. 9
 - 2. 5
 - 3. 7
 - 4. R

Question Type : MCQ

Question ID : 630680503085

Option 1 ID : 6306801965928

Option 2 ID : 6306801965927

Option 3 ID : 6306801965926

Option 4 ID : 6306801965925

Status : Answered

Chosen Option : 3

Q.8 दिए गए कथनों और निष्कर्षों को ध्यानपूर्वक पढ़िए। यह मानते हुए कि कथनों में दी गई जानकारी सत्य है, भले ही यह सामान्यतः ज्ञात तथ्यों से भिन्न प्रतीत होती हो, तय कीजिए कि दिए गए निष्कर्षों में से कौन-सा/से निष्कर्ष कथनों का तार्किक रूप से अनुसरण करता/करते है/हैं।

कथन:

कोई पलंग, कुर्सी नहीं है।
कोई कुर्सी, मेज़ नहीं है।

निष्कर्ष:

(I) कोई पलंग, मेज़ नहीं है।

(II) कुछ मेज़ें, कुर्सियाँ हो सकती हैं।

- Ans
- 1. केवल निष्कर्ष I अनुसरण करता है
 - 2. न तो निष्कर्ष I और न ही निष्कर्ष II अनुसरण करता है
 - 3. निष्कर्ष I और II दोनों अनुसरण करते हैं
 - 4. केवल निष्कर्ष II अनुसरण करता है

Question Type : MCQ

Question ID : 630680421803

Option 1 ID : 6306801645655

Option 2 ID : 6306801645658

Option 3 ID : 6306801645657

Option 4 ID : 6306801645656

Status : Answered

Chosen Option : 3

Q.9 एक निश्चित तर्क का अनुसरण करते हुए 9, 37 से संबंधित है। उसी तर्क का अनुसरण करते हुए 3, 13 से संबंधित है। समान तर्क का अनुसरण करते हुए, 8 निम्नलिखित में से किससे संबंधित है?

(ध्यान दें: संख्याओं को उनके घटक अंकों में अलग-अलग किए बिना पूर्ण संख्याओं पर संक्रियाएं की जानी चाहिए। उदाहरण के लिए संख्या 13 - संख्या 13 पर संक्रियाएं जैसे 13 को जोड़ना/घटाना/गुणा करना आदि किया जा सकता है। 13 को 1 और 3 में अलग-अलग करने की और फिर 1 और 3 पर गणितीय संक्रियाएं करने की अनुमति नहीं है।)

- Ans
- 1. 31
 - 2. 33
 - 3. 35
 - 4. 29

Question Type : MCQ

Question ID : 630680799053

Option 1 ID : 6306803131014

Option 2 ID : 6306803131015

Option 3 ID : 6306803131017

Option 4 ID : 6306803131016

Status : Answered

Chosen Option : 1

Q.10 दिए गए कथनों और निष्कर्षों को ध्यानपूर्वक पढ़िए। कथनों में दी गई जानकारी को सत्य मानते हुए, भले ही यह सामान्यतः ज्ञात तथ्यों से भिन्न प्रतीत होती हो, तय कीजिए कि कौन-सा/से निष्कर्ष कथनों का तार्किक रूप से अनुसरण करता है/करते हैं।

कथन:

सभी बिल्लियाँ, कुत्ते हैं।

कोई भी बिल्ली, घोड़ा नहीं है।

निष्कर्ष:

(I): कोई भी कुत्ता, घोड़ा नहीं है।

(II): कोई भी घोड़ा, बिल्ली नहीं है।

Ans 1. केवल निष्कर्ष II अनुसरण करता है।

2. केवल निष्कर्ष I अनुसरण करता है।

3. निष्कर्ष I और II, दोनों अनुसरण करते हैं।

4. न तो निष्कर्ष I और न ही II अनुसरण करता है।

Question Type : MCQ

Question ID : 630680410635

Option 1 ID : 6306801601301

Option 2 ID : 6306801601300

Option 3 ID : 6306801601302

Option 4 ID : 6306801601303

Status : Answered

Chosen Option : 3

Q.11 अंग्रेजी वर्णानुक्रम के आधार पर WGQA किसी निश्चित प्रकार से XHRB से संबंधित है। ठीक उसी प्रकार HRBL, ISCM से संबंधित है। उसी तर्क का अनुसरण करते हुए, GQAK निम्नलिखित में से किससे संबंधित है?

Ans 1. HRBL

2. HRKM

3. HRBM

4. HTBM

Question Type : MCQ

Question ID : 6306801108781

Option 1 ID : 6306804355670

Option 2 ID : 6306804355673

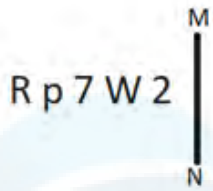
Option 3 ID : 6306804355671

Option 4 ID : 6306804355672

Status : Answered

Chosen Option : 1

Q.12 यदि दर्पण को नीचे दिखाए गए अनुसार MN पर रखा जाए, तो दी गई आकृति के सही दर्पण प्रतिबिंब का चयन कीजिए।



Ans

1. $\Sigma W \nabla q R$

2. $2 M \nabla q R$

3. $\Sigma W p 7 R$

4. $\Sigma W \nabla q R$

Question Type : MCQ

Question ID : 630680525325

Option 1 ID : 6306802053384

Option 2 ID : 6306802053386

Option 3 ID : 6306802053387

Option 4 ID : 6306802053385

Status : Answered

Chosen Option : 4

Q.13 निम्नलिखित समीकरण को सही बनाने के लिए किन दो संख्याओं को आपस में बदला जाना चाहिए?

$$(16 \div 4) \times 6 + 26 - 48 + 9 \times 8 = 154$$

(नोट: अदला-बदली पूरी संख्या की होनी चाहिए, न कि दी गई संख्या के अलग-अलग अंकों की।)

Ans

1. 4 और 8

2. 26 और 48

3. 6 और 9

4. 16 और 48

Question Type : MCQ

Question ID : 630680397643

Option 1 ID : 6306801550494

Option 2 ID : 6306801550496

Option 3 ID : 6306801550495

Option 4 ID : 6306801550493

Status : Not Attempted and
Marked For Review

Chosen Option : --

Q.14 एक निश्चित कूट भाषा में, 'please fill this' को 'km tu dk' के रूप में लिखा जाता है और 'this is book' को 'dk pu sy' के रूप में लिखा जाता है। दी गई भाषा में 'this' को कैसे लिखा गया है?

Ans 1. py

2. km

3. tu

4. dk

Question Type : **MCQ**

Question ID : **630680378079**

Option 1 ID : **6306801473377**

Option 2 ID : **6306801473375**

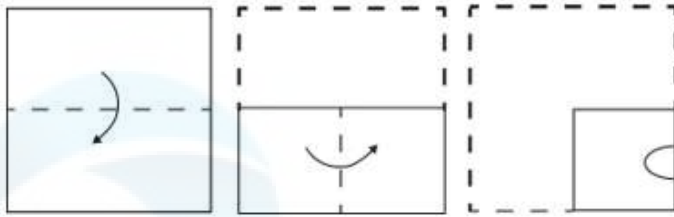
Option 3 ID : **6306801473376**

Option 4 ID : **6306801473378**

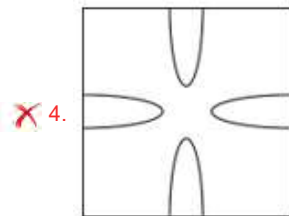
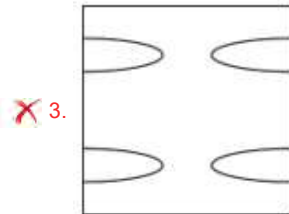
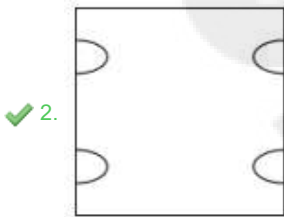
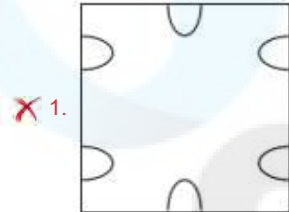
Status : **Not Attempted and
Marked For Review**

Chosen Option : --

Q.15 कागज़ की एक वर्गाकार शीट को दर्शाई गई दिशाओं में बिंदुदार रेखा के अनुदिश क्रमशः मोड़ा जाता है और अंतिम बार मोड़ने के बाद फिर इसमें छेद किया जाता है। खोले जाने पर यह कागज़ कैसा दिखाई देगा?



Ans



Question Type : MCQ

Question ID : 630680524677

Option 1 ID : 6306802050807

Option 2 ID : 6306802050810

Option 3 ID : 6306802050808

Option 4 ID : 6306802050809

Status : Answered

Chosen Option : 2

Q.16 सात व्यक्ति A, B, C, D, E, F और G एक वृत्ताकार मेज के चारों ओर केंद्र की ओर मुख करके बैठे हैं (परंतु जरूरी नहीं कि वे इसी क्रम में बैठे हों)। B, D के दाईं ओर तीसरे स्थान पर बैठा है। G, A के बाईं ओर दूसरे स्थान पर बैठा है। E, G के ठीक दाईं ओर बैठा है। E के बाईं ओर से गिनती करने पर E और C के बीच में केवल तीन व्यक्ति बैठे हैं। C, A का निकटतम पड़ोसी नहीं है। यदि सभी व्यक्तियों को अंग्रेजी वर्णमाला के क्रम में वामावर्त दिशा (anti-clockwise) में, A से शुरू करके और A के स्थान को अपरिवर्तित रखते हुए व्यवस्थित किया जाए, तो A को छोड़कर कितने व्यक्तियों का स्थान अपरिवर्तित रहेगा?

Ans

- 1. एक
- 2. तीन
- 3. दो
- 4. किसी का भी नहीं

Question Type : **MCQ**

Question ID : **630680382732**

Option 1 ID : **6306801491844**

Option 2 ID : **6306801491846**

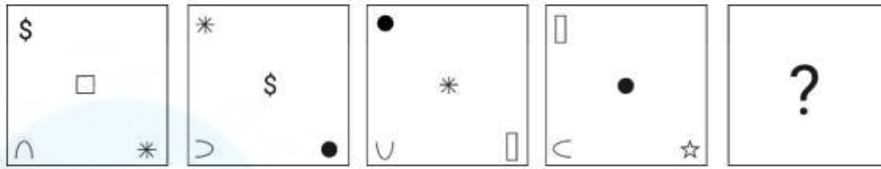
Option 3 ID : **6306801491845**

Option 4 ID : **6306801491843**

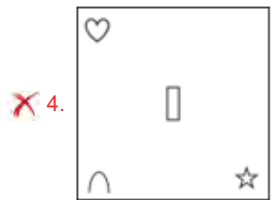
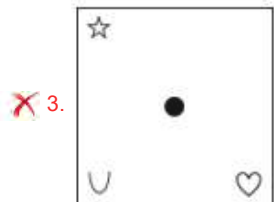
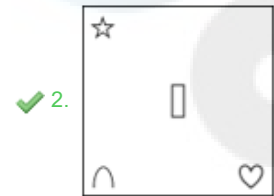
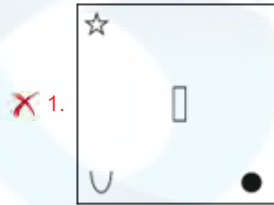
Status : **Not Attempted and
Marked For Review**

Chosen Option : --

Q.17 विकल्पों में दी गई उस आकृति की पहचान कीजिए, जिसे (?) के स्थान पर रखने पर शृंखला तार्किक रूप से पूर्ण हो जाएगी।



Ans



Question Type : MCQ

Question ID : 630680525331

Option 1 ID : 6306802053410

Option 2 ID : 6306802053408

Option 3 ID : 6306802053411

Option 4 ID : 6306802053409

Status : Answered

Chosen Option : 2

Q.18 एक निश्चित तर्क का अनुसरण करते हुए 45, 85 से संबंधित है। ठीक उसी तर्क का अनुसरण करते हुए, 63, 121 से संबंधित है। उसी तर्क का अनुसरण करते हुए, 58 निम्नलिखित में से किससे संबंधित है?

(ध्यान दें: संख्याओं को उनके घटक अंकों में अलग-अलग किए बिना पूर्ण संख्याओं पर संक्रियाएं की जानी चाहिए। उदाहरण के लिए संख्या 13 - संख्या 13 पर संक्रियाएं जैसे 13 को जोड़ना/घटाना/गुणा करना आदि किया जा सकता है। 13 को 1 और 3 में अलग-अलग करने की और फिर 1 और 3 पर गणितीय संक्रियाएं करने की अनुमति नहीं है।)

- Ans
- 1. 116
 - 2. 101
 - 3. 106
 - 4. 111

Question Type : **MCQ**

Question ID : **630680446732**

Option 1 ID : **6306801744218**

Option 2 ID : **6306801744221**

Option 3 ID : **6306801744220**

Option 4 ID : **6306801744219**

Status : **Not Attempted and Marked For Review**

Chosen Option : --

Q.19 निम्नलिखित समीकरण में, यदि '+' और 'x' को आपस में बदल दिया जाए तथा '-' और '/' को आपस में बदल दिया जाए, तो प्रश्न चिह्न (?) के स्थान पर क्या आएगा?
 $18 \times 72 - 3 \div 2 + 11 = ?$

- Ans
- 1. 31
 - 2. 20
 - 3. 32
 - 4. 24

Question Type : **MCQ**

Question ID : **630680379366**

Option 1 ID : **6306801478508**

Option 2 ID : **6306801478510**

Option 3 ID : **6306801478507**

Option 4 ID : **6306801478509**

Status : **Not Attempted and Marked For Review**

Chosen Option : --

Q.20 A, B, C, D, E, F और G एक वृत्ताकार मेज के चारों ओर केंद्र की ओर मुख करके बैठे हैं (परंतु जरूरी नहीं कि वे इसी क्रम में बैठे हों)। A, उस D के बाएँ से दूसरे स्थान पर बैठा है, जो E के बाएँ से तीसरे स्थान पर बैठा है। C, उस G के दाएँ से तीसरे स्थान पर बैठा है, जो E का निकटतम पड़ोसी नहीं है। B, G के दाएँ से दूसरे स्थान पर बैठा है। C के सापेक्ष में B का स्थान क्या है?

- Ans
- 1. दाएँ से दूसरा
 - 2. बाएँ से दूसरा
 - 3. ठीक दाएँ
 - 4. ठीक बाएँ

Question Type : MCQ

Question ID : 630680382171

Option 1 ID : 6306801489602

Option 2 ID : 6306801489601

Option 3 ID : 6306801489599

Option 4 ID : 6306801489600

Status : Not Answered

Chosen Option : --

Section : General Awareness

Q.1 2015 में शुरू की गई प्रधानमंत्री मुद्रा योजना (PMMY) का उद्देश्य गैर-कॉर्पोरेट, गैर-कृषि लघु/सूक्ष्म उद्यमों को _____ लाख तक का ऋण प्रदान करना है।

- Ans
- 1. 5
 - 2. 10
 - 3. 2
 - 4. 8

Question Type : MCQ

Question ID : 630680477681

Option 1 ID : 6306801865874

Option 2 ID : 6306801865872

Option 3 ID : 6306801865875

Option 4 ID : 6306801865873

Status : Answered

Chosen Option : 1

Q.2 अगस्त 1765 में, निम्नलिखित में से किसने अवध के नवाब और मुगल सम्राट शाह आलम द्वितीय के साथ इलाहाबाद की संधि पर हस्ताक्षर किए थे?

- Ans
- 1. रॉबर्ट क्लाइव (Robert Clive)
 - 2. वारेन हेस्टिंग्स (Warren Hastings)
 - 3. विलियम बेंटिक (William Bentick)
 - 4. अर्ल माउंटबेटन (Earl Mountbatten)

Question Type : MCQ

Question ID : 630680275667

Option 1 ID : 6306801071182

Option 2 ID : 6306801071179

Option 3 ID : 6306801071180

Option 4 ID : 6306801071181

Status : Answered

Chosen Option : 1

Q.3 भारतीय संविधान का कौन-सा अनुच्छेद विधान परिषद (Legislative Council) की संरचना से संबंधित है?

- Ans
- 1. अनुच्छेद 168
 - 2. अनुच्छेद 181
 - 3. अनुच्छेद 171
 - 4. अनुच्छेद 169

Question Type : MCQ

Question ID : 630680305555

Option 1 ID : 6306801188593

Option 2 ID : 6306801188596

Option 3 ID : 6306801188595

Option 4 ID : 6306801188594

Status : Answered

Chosen Option : 1

Q.4 तालचेर थर्मल पावर स्टेशन (Talcher Thermal Power Station) किस राज्य में स्थित है?

- Ans
- 1. राजस्थान
 - 2. बिहार
 - 3. आंध्र प्रदेश
 - 4. ओडिशा

Question Type : MCQ

Question ID : 630680484500

Option 1 ID : 6306801892315

Option 2 ID : 6306801892317

Option 3 ID : 6306801892316

Option 4 ID : 6306801892314

Status : Answered

Chosen Option : 2

Q.5 निम्नलिखित में से किस भारतीय शास्त्रीय नृत्य शैली का विकास सिद्धेंद्र योगी (Siddhendra Yogi) ने किया था?

- Ans
- 1. कथकली
 - 2. कथक
 - 3. डांडिया
 - 4. कुचिपुड़ी

Question Type : MCQ

Question ID : 630680465741

Option 1 ID : 6306801819000

Option 2 ID : 6306801819002

Option 3 ID : 6306801818999

Option 4 ID : 6306801819001

Status : Answered

Chosen Option : 3

Q.6 निम्नलिखित भारतीय नेताओं में से कौन ब्रिटिश संसद के लिए निर्वाचित होने वाले प्रथम सदस्य थे?

- Ans
- 1. मोतीलाल नेहरू
 - 2. दादाभाई नौरोजी
 - 3. लाला हरदयाल
 - 4. भीकाजी कामा

Question Type : MCQ
Question ID : 630680282907
Option 1 ID : 6306801099762
Option 2 ID : 6306801099760
Option 3 ID : 6306801099759
Option 4 ID : 6306801099761
Status : Answered
Chosen Option : 1

Q.7 निम्नलिखित में से जीवों का कौन-सा समूह, समुद्र के अम्लीकरण के प्रति अधिक संवेदनशील होता है?

- Ans
- 1. समुद्री स्तनधारी (Marine mammals)
 - 2. समुद्री सरीसृप (Marine reptiles)
 - 3. समुद्री काई (Marine algae)
 - 4. कैल्सीफाइंग जीव (Calcifying organisms)

Question Type : MCQ
Question ID : 630680404187
Option 1 ID : 6306801576260
Option 2 ID : 6306801576261
Option 3 ID : 6306801576259
Option 4 ID : 6306801576258
Status : Answered
Chosen Option : 3

Q.8 निम्नलिखित में से कौन-सी आत्मकथा पूर्व भारतीय न्यायाधीश लीला सेठ (Leila Seth) द्वारा लिखी गई है?

- Ans
- 1. इन परसूट ऑफ़ जस्टिस: एन ऑटोबायोग्राफी (In Pursuit of Justice: An Autobiography)
 - 2. जस्टिस फॉर द जज: एन ऑटोबायोग्राफी (Justice for the Judge: An Autobiography)
 - 3. ऑन बैलेंस: एन ऑटोबायोग्राफी (On Balance: An Autobiography)
 - 4. चैलेंजेस ऑफ़ गवर्नेंस: एन इनसाइडर्स व्यू (Challenges of Governance: An Insider's View)

Question Type : MCQ
Question ID : 630680512104
Option 1 ID : 6306802001386
Option 2 ID : 6306802001387
Option 3 ID : 6306802001388
Option 4 ID : 6306802001389
Status : Answered
Chosen Option : 4

Q.9 भारत में अंतर्राष्ट्रीय ओलंपिक समिति (International Olympic Committee - IOC) के 141वें सत्र का उद्घाटन किस शहर में किया गया?

- Ans
- 1. चेन्नई
 - 2. दिल्ली
 - 3. मुंबई
 - 4. प्रयागराज

Question Type : MCQ
Question ID : 630680694305
Option 1 ID : 6306802719501
Option 2 ID : 6306802719503
Option 3 ID : 6306802719500
Option 4 ID : 6306802719502
Status : Answered
Chosen Option : 2

Q.10 गुरु इंदिरा पीपी बोरा (Guru Indira PP Bora) को किस वर्ष पद्म श्री पुरस्कार प्राप्त हुआ?

- Ans
- 1. 2019
 - 2. 2021
 - 3. 2020
 - 4. 2018

Question Type : MCQ
Question ID : 630680114140
Option 1 ID : 630680441964
Option 2 ID : 630680441962
Option 3 ID : 630680441963
Option 4 ID : 630680441965
Status : Answered
Chosen Option : 4

Q.11 भारतीय शास्त्रीय गायिका केसरबाई केरकर (Kesarbai Kerkar) निम्नलिखित में से किस घराने से संबंधित हैं?

- Ans
- 1. आगरा घराना
 - 2. जयपुर-अतरौली घराना
 - 3. दिल्ली घराना
 - 4. बनारस घराना

Question Type : MCQ
Question ID : 630680488684
Option 1 ID : 6306801908751
Option 2 ID : 6306801908754
Option 3 ID : 6306801908752
Option 4 ID : 6306801908753
Status : Answered
Chosen Option : 2

Q.12 वर्तमान रूप में उपलब्ध जैन धर्म की शिक्षाओं का लिखित रूप लगभग 1500 वर्ष पूर्व निम्नलिखित में से किस स्थान पर लिखा गया था?

- Ans 1. वल्लभी (Valabhi)
 2. पाटलिपुत्र (Pataliputra)
 3. मथुरा (Mathura)
 4. श्रवणबेलगोला (Shravanabelagola)

Question Type : MCQ

Question ID : 630680333507

Option 1 ID : 6306801297303

Option 2 ID : 6306801297302

Option 3 ID : 6306801297304

Option 4 ID : 6306801297301

Status : Answered

Chosen Option : 1

Q.13 कॉलम का मिलान करें।

कॉलम A (पोषक तत्व) कॉलम B (स्रोत)

- i. प्रोटीन युक्त आहार a. ग्लूकोज और अन्य शर्करा
ii. वसा युक्त आहार b. खट्टे फल
iii. कार्बोहाइड्रेट युक्त आहार c. अंडे का सफेद भाग और लाल मांस
iv. विटामिन C युक्त आहार d. मक्खन एवं चीज

- Ans 1. i-c, ii-d, iii-b, iv-a
 2. i-c, ii-a, iii-b, iv-d
 3. i-c, ii-d, iii-a, iv-b
 4. i-d, ii-c, iii-b, iv-a

Question Type : MCQ

Question ID : 630680544754

Option 1 ID : 6306802129779

Option 2 ID : 6306802129781

Option 3 ID : 6306802129780

Option 4 ID : 6306802129778

Status : Answered

Chosen Option : 3

Q.14 निम्नलिखित में से कौन-सा तत्व आवर्त सारणी के समूह 18 में स्थित है और रासायनिक रूप से कम अभिक्रियाशील होने के लिए जाना जाता है?

- Ans 1. ऑक्सीजन
 2. फ्लोरीन
 3. क्लोरीन
 4. हीलियम

Question Type : MCQ

Question ID : 630680411204

Option 1 ID : 6306801603573

Option 2 ID : 6306801603572

Option 3 ID : 6306801603575

Option 4 ID : 6306801603574

Status : Not Attempted and Marked For Review

Chosen Option : --

Q.15 निम्नलिखित में से किस बहमनी राजा द्वारा महमूद गवाँ (Mahmud Gawan) को 'व्यापारियों के प्रमुख' या 'मलक उत-तुज्जर (Malikut-Tujjar)' की उपाधि दी गई थी?

- Ans
- 1. निज़ामुद्दीन अहमद तृतीय
 - 2. मुहम्मद शाह
 - 3. बहमन शाह
 - 4. हुमायूँ शाह

Question Type : MCQ

Question ID : 630680318913

Option 1 ID : 6306801240609

Option 2 ID : 6306801240611

Option 3 ID : 6306801240612

Option 4 ID : 6306801240610

Status : Answered

Chosen Option : 2

Q.16 SEWA सहकारी बैंक को पहली बार _____ में वर्ष _____ में शुरू किया गया था।

- Ans
- 1. वाराणसी; 1984
 - 2. वाराणसी; 1974
 - 3. अहमदाबाद; 1984
 - 4. अहमदाबाद; 1974

Question Type : MCQ

Question ID : 630680303690

Option 1 ID : 6306801181332

Option 2 ID : 6306801181331

Option 3 ID : 6306801181330

Option 4 ID : 6306801181329

Status : Answered

Chosen Option : 2

Q.17 केंद्रीय बजट 2023 में पेश किए गए राष्ट्रीय सिकल सेल एनीमिया उन्मूलन कार्यक्रम का लक्ष्य वर्ष _____ तक सिकल सेल आनुवंशिक संचरण (sickle cell genetic transmission) को खत्म करना है।

- Ans
- 1. 2040
 - 2. 2047
 - 3. 2049
 - 4. 2045

Question Type : MCQ

Question ID : 630680467062

Option 1 ID : 6306801824201

Option 2 ID : 6306801824203

Option 3 ID : 6306801824204

Option 4 ID : 6306801824202

Status : Answered

Chosen Option : 3

Q.18 2023 के भारतीय गणतंत्र दिवस समारोह में किस देश के राष्ट्रपति मुख्य अतिथि थे?

- Ans 1. मिस्र
 2. लेबनान
 3. सूडान
 4. मोरक्को

Question Type : MCQ
Question ID : 630680798925
Option 1 ID : 6306803130507
Option 2 ID : 6306803130509
Option 3 ID : 6306803130508
Option 4 ID : 6306803130506
Status : Answered
Chosen Option : 4

Q.19 निम्नलिखित में से कौन-सा पूर्वोत्तर रेलवे का जोनल मुख्यालय (zonal headquarter) है?

- Ans 1. हुबली
 2. गोरखपुर
 3. इलाहाबाद
 4. कोलकाता

Question Type : MCQ
Question ID : 630680404329
Option 1 ID : 6306801576821
Option 2 ID : 6306801576818
Option 3 ID : 6306801576819
Option 4 ID : 6306801576820
Status : Answered
Chosen Option : 1

Q.20 स्वस्थ और रोगमुक्त रहने के लिए संतुलित आहार लेना बहुत आवश्यक है। संतुलित आहार क्या है?

- Ans 1. ऐसा आहार जिसमें मानव शरीर के समुचित विकास के लिए आवश्यक सभी पोषक तत्व पर्याप्त मात्रा में हों
 2. ऐसा आहार जिसमें पर्याप्त मात्रा में कार्बोहाइड्रेट हों
 3. ऐसा आहार जिसमें प्रचुर मात्रा में विटामिन और खनिज हों
 4. ऐसा आहार जिसमें पर्याप्त मात्रा में प्रोटीन और वसा हो

Question Type : MCQ
Question ID : 630680311119
Option 1 ID : 6306801210589
Option 2 ID : 6306801210591
Option 3 ID : 6306801210592
Option 4 ID : 6306801210590
Status : Answered
Chosen Option : 1

Q.21 डीवाई पाटिल क्रिकेट स्टेडियम (DY Patil Cricket Stadium) किस भारतीय शहर में स्थित है?

- Ans
- 1. नासिक
 - 2. औरंगाबाद
 - 3. पुणे
 - 4. नवी मुंबई

Question Type : MCQ
Question ID : 630680572117
Option 1 ID : 6306802237326
Option 2 ID : 6306802237325
Option 3 ID : 6306802237324
Option 4 ID : 6306802237327
Status : Answered
Chosen Option : 3

Q.22 आनंद पैगोडा (Ananda Pagoda), भारत के किस पड़ोसी देश का प्रसिद्ध त्योहार है?

- Ans
- 1. अफगानिस्तान
 - 2. पाकिस्तान
 - 3. म्यांमार
 - 4. मालदीव

Question Type : MCQ
Question ID : 630680477687
Option 1 ID : 6306801865897
Option 2 ID : 6306801865898
Option 3 ID : 6306801865896
Option 4 ID : 6306801865899
Status : Answered
Chosen Option : 2

Q.23 गोवा का कामाक्षी संस्थान (Kamakshi Saunsthan) मंदिर _____ दो मंजिला टॉवर से सुसज्जित है और इसके शिखर पर एक स्वर्ण कलश (golden Kalash) स्थापित है।

- Ans
- 1. पंचभुजीय (pentagonal)
 - 2. अष्टभुजाकार (octagonal)
 - 3. षट्कोणीय (hexagonal)
 - 4. गोलाकार (circular)

Question Type : MCQ
Question ID : 630680511933
Option 1 ID : 6306802000704
Option 2 ID : 6306802000702
Option 3 ID : 6306802000703
Option 4 ID : 6306802000705
Status : Answered
Chosen Option : 4

Q.24 निम्नलिखित में से किस प्रधान मंत्री के नेतृत्व में मौलिक कर्तव्यों को भारतीय संविधान में शामिल किया गया था?

- Ans 1. इंदिरा गांधी
 2. जवाहर लाल नेहरू
 3. लाल बहादुर शास्त्री
 4. अटल बिहारी वाजपेयी

Question Type : **MCQ**
Question ID : **630680549103**
Option 1 ID : **6306802146889**
Option 2 ID : **6306802146888**
Option 3 ID : **6306802146891**
Option 4 ID : **6306802146890**
Status : **Answered**
Chosen Option : 1

Q.25 फरवरी 2023 में, किस भारतीय-अमेरिकी को यूट्यूब (YouTube) का सीईओ (CEO) नियुक्त किया गया?

- Ans 1. अंजलि सूद
 2. सत्या नडेला
 3. विवेक रामास्वामी
 4. नील मोहन

Question Type : **MCQ**
Question ID : **630680595824**
Option 1 ID : **6306802331487**
Option 2 ID : **6306802331486**
Option 3 ID : **6306802331484**
Option 4 ID : **6306802331485**
Status : **Answered**
Chosen Option : 2

Section : English Language and Comprehension

Q.1 Select the most appropriate option that can substitute the highlighted word(s) in the given sentence.

One must not be proud of his achievements.

- Ans 1. off his achievements
 2. for one's achievements
 3. of one's achievements
 4. by his achievements

Question Type : **MCQ**
Question ID : **630680564296**
Option 1 ID : **6306802206139**
Option 2 ID : **6306802206140**
Option 3 ID : **6306802206141**
Option 4 ID : **6306802206142**
Status : **Answered**
Chosen Option : 2

Q.2 Select the most appropriate option to fill in the blank.

I am thinking about colouring my _____.

- Ans
- 1. hare
 - 2. air
 - 3. hair
 - 4. heir

Question Type : MCQ

Question ID : 630680517513

Option 1 ID : 6306802022451

Option 2 ID : 6306802022450

Option 3 ID : 6306802022449

Option 4 ID : 6306802022448

Status : Answered

Chosen Option : 4

Q.3 Select the most appropriate expression that can substitute the underlined words in the given sentence.

The watchman tried every possible way to catch the thief of the hostel.

- Ans
- 1. called it a day
 - 2. arrived at the eleventh hour
 - 3. explored every avenue
 - 4. cut the cackle

Question Type : MCQ

Question ID : 630680166188

Option 1 ID : 630680643725

Option 2 ID : 630680643724

Option 3 ID : 630680643726

Option 4 ID : 630680643727

Status : Not Attempted and
Marked For Review

Chosen Option : --

Q.4 Select the most appropriate ANTONYM of the highlighted word in the given sentence.
The company faced a downturn in profits due to economic uncertainties.

- Ans
- 1. Recession
 - 2. Surge
 - 3. Plunge
 - 4. Decline

Question Type : MCQ

Question ID : 630680549427

Option 1 ID : 6306802148157

Option 2 ID : 6306802148159

Option 3 ID : 6306802148160

Option 4 ID : 6306802148158

Status : Answered

Chosen Option : 1

Q.5 Select the most appropriate ANTONYM of the given word.

spontaneous

- Ans 1. deliberate
 2. scarce
 3. dirty
 4. separate

Question Type : **MCQ**

Question ID : **630680539949**

Option 1 ID : **6306802110898**

Option 2 ID : **6306802110899**

Option 3 ID : **6306802110896**

Option 4 ID : **6306802110897**

Status : **Answered**

Chosen Option : 1

Q.6 Select the most appropriate synonym of the given word.
Entangle

- Ans 1. Enlarge
 2. Engross
 3. Trap
 4. Intrude

Question Type : **MCQ**

Question ID : **630680396964**

Option 1 ID : **6306801547922**

Option 2 ID : **6306801547921**

Option 3 ID : **6306801547923**

Option 4 ID : **6306801547920**

Status : **Answered**

Chosen Option : 1

Q.7 Select the option that will improve the underlined part of the given sentence.

Ritu was still standing in the queue when the film was starting.

- Ans 1. film started
 2. film starts
 3. film had began
 4. film begins

Question Type : **MCQ**

Question ID : **630680597079**

Option 1 ID : **6306802336357**

Option 2 ID : **6306802336360**

Option 3 ID : **6306802336358**

Option 4 ID : **6306802336359**

Status : **Answered**

Chosen Option : 1

Q.8 Select the correct spelling of the underlined word in the given sentence.

Sometimes, the nicknames of children, given to them by their loved ones in childhood, give them a true sense of embarresment, especially when they are called by those names in front of others.

- Ans
- 1. embarresmint
 - 2. embrrassment
 - 3. embarrassment
 - 4. emberressment

Question Type : MCQ
Question ID : 630680487425
Option 1 ID : 6306801903808
Option 2 ID : 6306801903809
Option 3 ID : 6306801903807
Option 4 ID : 6306801903806
Status : Answered
Chosen Option : 2

Q.9 Select the meaningful and correctly spelt word from the given options to fill in the blank.

Regular physical exercise improves cardiovascular health, reducing the risk of heart disease and _____.

- Ans
- 1. stroke
 - 2. stock
 - 3. struck
 - 4. strike

Question Type : MCQ
Question ID : 630680550062
Option 1 ID : 6306802150509
Option 2 ID : 6306802150511
Option 3 ID : 6306802150512
Option 4 ID : 6306802150510
Status : Answered
Chosen Option : 4

Q.10 Select the most appropriate option that can substitute the underlined segment in the given sentence. If there is no need to substitute it, select 'No substitution required'.

My manager thanked the staff for there continued dedication and support.

- Ans
- 1. for they're continued
 - 2. for there continuous
 - 3. for their continued
 - 4. No substitution required

Question Type : MCQ
Question ID : 630680490235
Option 1 ID : 6306801914848
Option 2 ID : 6306801914847
Option 3 ID : 6306801914849
Option 4 ID : 6306801914850
Status : Answered
Chosen Option : 3

Q.11 Select the most appropriate idiom that can substitute the underlined segment in the given sentence.

After the long and tedious project, Sarah felt like she was at the limit of her patience.

- Ans
- 1. crossroads
 - 2. end of her rope
 - 3. finishing line
 - 4. tip of the iceberg

Question Type : MCQ

Question ID : 630680540020

Option 1 ID : 6306802111183

Option 2 ID : 6306802111180

Option 3 ID : 6306802111182

Option 4 ID : 6306802111181

Status : Answered

Chosen Option : 2

Q.12 In the following sentence the underlined part contains an error. Alternatives to the underlined part are given as options. Select the correct alternative.
We never expected most from her.

- Ans
- 1. little
 - 2. more
 - 3. much
 - 4. many

Question Type : MCQ

Question ID : 630680514714

Option 1 ID : 6306802011484

Option 2 ID : 6306802011482

Option 3 ID : 6306802011481

Option 4 ID : 6306802011483

Status : Answered

Chosen Option : 4

Q.13 Select the INCORRECTLY spelt word..

- Ans
- 1. Stubbal
 - 2. Outsource
 - 3. Taciturn
 - 4. Particulate

Question Type : MCQ

Question ID : 630680469839

Option 1 ID : 6306801835112

Option 2 ID : 6306801835113

Option 3 ID : 6306801835111

Option 4 ID : 6306801843542

Status : Answered

Chosen Option : 3

Q.14 Select the most appropriate meaning of the given idiom.
To look black

- Ans 1. To seem unfavourable
 2. To roll on ice
 3. To give an approving expression
 4. To cry bitterly

Question Type : **MCQ**
Question ID : 630680404265
Option 1 ID : 6306801576565
Option 2 ID : 6306801576564
Option 3 ID : 6306801576562
Option 4 ID : 6306801576563
Status : **Answered**
Chosen Option : 1

Q.15 The following sentence has been split into four segments. Identify the segment that contains a grammatical error.

After school, we / went home and / told our respective parents / off the incident.

- Ans 1. went home and
 2. off the incident
 3. told our respective parents
 4. After school, we

Question Type : **MCQ**
Question ID : 630680514395
Option 1 ID : 6306802010206
Option 2 ID : 6306802010208
Option 3 ID : 6306802010207
Option 4 ID : 6306802010205
Status : **Answered**
Chosen Option : 1

Q.16 Select the most appropriate ANTONYM of the underlined word in the given sentence.

I concur with the decision of our principal, when he says that students who display indiscipline should be dismissed from the institute irrespective of their academic achievements.

- Ans 1. credit
 2. coincide
 3. differ
 4. promote

Question Type : **MCQ**
Question ID : 630680551310
Option 1 ID : 6306802155462
Option 2 ID : 6306802155461
Option 3 ID : 6306802155459
Option 4 ID : 6306802155460
Status : **Answered**
Chosen Option : 2

Q.17 The following sentence has been split into four segments. Identify the segment that contains a grammatical error.
She speaks / so soft that / hardly anyone / can hear her.

- Ans 1. so soft that
 2. She speaks
 3. hardly anyone
 4. can hear her

Question Type : **MCQ**
Question ID : **630680726469**
Option 1 ID : **6306802846883**
Option 2 ID : **6306802846882**
Option 3 ID : **6306802846884**
Option 4 ID : **6306802846885**
Status : **Answered**
Chosen Option : **3**

Q.18 The following sentence has been split into four segments. Identify the segment that contains a grammatical error.

I have made / the cupcakes, so / please hand out them / to me.

- Ans 1. C
 2. A
 3. D
 4. B

Question Type : **MCQ**
Question ID : **630680157469**
Option 1 ID : **630680609405**
Option 2 ID : **630680609407**
Option 3 ID : **630680609404**
Option 4 ID : **630680609406**
Status : **Answered**
Chosen Option : **4**

Q.19 Select the grammatically correct sentence from the given options.

- Ans 1. Since yesterday, the policeman had been waiting for the woman to take a details of a case.
 2. Since yesterday, a policeman had been waiting for a woman to take the details of the case.
 3. Since yesterday, the policeman had been waiting for the woman to take the details of the case.
 4. Since yesterday, the policeman had been waiting for a woman to take a details of the case.

Question Type : **MCQ**
Question ID : **63068060821**
Option 1 ID : **630680234736**
Option 2 ID : **630680234734**
Option 3 ID : **630680234735**
Option 4 ID : **630680234737**
Status : **Answered**
Chosen Option : **2**

Q.20 Select the most appropriate option to fill in the blank.

While the stock market experiences volatility, financial analysts _____ market trends and provide investment advice.

- Ans
- 1. were monitored
 - 2. have monitored
 - 3. monitored
 - 4. monitor

Question Type : **MCQ**

Question ID : **630680597116**

Option 1 ID : **6306802336508**

Option 2 ID : **6306802336505**

Option 3 ID : **6306802336507**

Option 4 ID : **6306802336506**

Status : **Answered**

Chosen Option : **3**

Comprehension:

In the following passage, some words have been deleted. Read the passage carefully and select the most appropriate option to fill in each blank.

Westminster Abbey's 1. _____ was one of Edward the Confessor's greatest accomplishments as king of England from 1042 to 1066. Edward was King Ethelred's son and he had a lot of pressure as his father was known to be an incompetent ruler. The Danes drove Edward from England, and he lived in exile in Normandy. According to legend, Edward promised that if he could make it back to his realm in safety, he would travel to St. Peter's in Rome. Upon his return and 2. _____ in Winchester in 1042, he discovered that he could not abandon his subjects. He was freed from his pledge by the Pope, but only if he established or 3. _____ a monastery dedicated to St. Peter. As a result, Westminster Abbey was constructed in the Norman 4. _____. He believed that London was not the 5. _____ place to build the Minster. Hence, a location known as 'Westminster' was discovered to be to the west of the metropolis.

SubQuestion No : 21

Q.21 Select the most appropriate option to fill in blank number 1.

- Ans
- 1. geometry
 - 2. configuration
 - 3. construction
 - 4. arrangement

Question Type : **MCQ**

Question ID : **630680617372**

Option 1 ID : **6306802415719**

Option 2 ID : **6306802415720**

Option 3 ID : **6306802415721**

Option 4 ID : **6306802415718**

Status : **Answered**

Chosen Option : **4**

Comprehension:

In the following passage, some words have been deleted. Read the passage carefully and select the most appropriate option to fill in each blank.

Westminster Abbey's 1. _____ was one of Edward the Confessor's greatest accomplishments as king of England from 1042 to 1066. Edward was King Ethelred's son and he had a lot of pressure as his father was known to be an incompetent ruler. The Danes drove Edward from England, and he lived in exile in Normandy. According to legend, Edward promised that if he could make it back to his realm in safety, he would travel to St. Peter's in Rome. Upon his return and 2. _____ in Winchester in 1042, he discovered that he could not abandon his subjects. He was freed from his pledge by the Pope, but only if he established or 3. _____ a monastery dedicated to St. Peter. As a result, Westminster Abbey was constructed in the Norman 4. _____. He believed that London was not the 5. _____ place to built the Minster. Hence, a location known as 'Westminster' was discovered to be to the west of the metropolis.

SubQuestion No : 22

Q.22 Select the most appropriate option to fill in blank number 2.

- Ans**
- 1. personification
 - 2. coronation
 - 3. dethronement
 - 4. inauguration

Question Type : **MCQ**

Question ID : **630680617373**

Option 1 ID : **6306802415724**

Option 2 ID : **6306802415722**

Option 3 ID : **6306802415723**

Option 4 ID : **6306802415725**

Status : **Answered**

Chosen Option : **4**

Comprehension:

In the following passage, some words have been deleted. Read the passage carefully and select the most appropriate option to fill in each blank.

Westminster Abbey's 1. _____ was one of Edward the Confessor's greatest accomplishments as king of England from 1042 to 1066. Edward was King Ethelred's son and he had a lot of pressure as his father was known to be an incompetent ruler. The Danes drove Edward from England, and he lived in exile in Normandy. According to legend, Edward promised that if he could make it back to his realm in safety, he would travel to St. Peter's in Rome. Upon his return and 2. _____ in Winchester in 1042, he discovered that he could not abandon his subjects. He was freed from his pledge by the Pope, but only if he established or 3. _____ a monastery dedicated to St. Peter. As a result, Westminster Abbey was constructed in the Norman 4. _____. He believed that London was not the 5. _____ place to build the Minster. Hence, a location known as 'Westminster' was discovered to be to the west of the metropolis.

SubQuestion No : 23

Q.23 Select the most appropriate option to fill in blank number 3.

- Ans**
- 1. renovation
 - 2. update
 - 3. fix
 - 4. decorate

Question Type : **MCQ**

Question ID : **630680617374**

Option 1 ID : **6306802415726**

Option 2 ID : **6306802415728**

Option 3 ID : **6306802415729**

Option 4 ID : **6306802415727**

Status : **Answered**

Chosen Option : **3**

Comprehension:

In the following passage, some words have been deleted. Read the passage carefully and select the most appropriate option to fill in each blank.

Westminster Abbey's 1. _____ was one of Edward the Confessor's greatest accomplishments as king of England from 1042 to 1066. Edward was King Ethelred's son and he had a lot of pressure as his father was known to be an incompetent ruler. The Danes drove Edward from England, and he lived in exile in Normandy. According to legend, Edward promised that if he could make it back to his realm in safety, he would travel to St. Peter's in Rome. Upon his return and 2. _____ in Winchester in 1042, he discovered that he could not abandon his subjects. He was freed from his pledge by the Pope, but only if he established or 3. _____ a monastery dedicated to St. Peter. As a result, Westminster Abbey was constructed in the Norman 4. _____. He believed that London was not the 5. _____ place to build the Minster. Hence, a location known as 'Westminster' was discovered to be to the west of the metropolis.

SubQuestion No : 24

Q.24 Select the most appropriate option to fill in blank number 4.

- Ans
- 1. dub
 - 2. label
 - 3. style
 - 4. designate

Question Type : **MCQ**

Question ID : **630680617375**

Option 1 ID : **6306802415733**

Option 2 ID : **6306802415732**

Option 3 ID : **6306802415730**

Option 4 ID : **6306802415731**

Status : **Answered**

Chosen Option : **4**

Comprehension:

In the following passage, some words have been deleted. Read the passage carefully and select the most appropriate option to fill in each blank.

Westminster Abbey's 1. _____ was one of Edward the Confessor's greatest accomplishments as king of England from 1042 to 1066. Edward was King Ethelred's son and he had a lot of pressure as his father was known to be an incompetent ruler. The Danes drove Edward from England, and he lived in exile in Normandy. According to legend, Edward promised that if he could make it back to his realm in safety, he would travel to St. Peter's in Rome. Upon his return and 2. _____ in Winchester in 1042, he discovered that he could not abandon his subjects. He was freed from his pledge by the Pope, but only if he established or 3. _____ a monastery dedicated to St. Peter. As a result, Westminster Abbey was constructed in the Norman 4. _____. He believed that London was not the 5. _____ place to built the Minster. Hence, a location known as 'Westminster' was discovered to be to the west of the metropolis.

SubQuestion No : 25

Q.25 Select the most appropriate option to fill in blank number 5.

Ans ✓ 1. appropriate

✗ 2. allot

✗ 3. seize

✗ 4. annex

Question Type : **MCQ**

Question ID : **630680617376**

Option 1 ID : **6306802415734**

Option 2 ID : **6306802415737**

Option 3 ID : **6306802415736**

Option 4 ID : **6306802415735**

Status : **Answered**

Chosen Option : **2**