

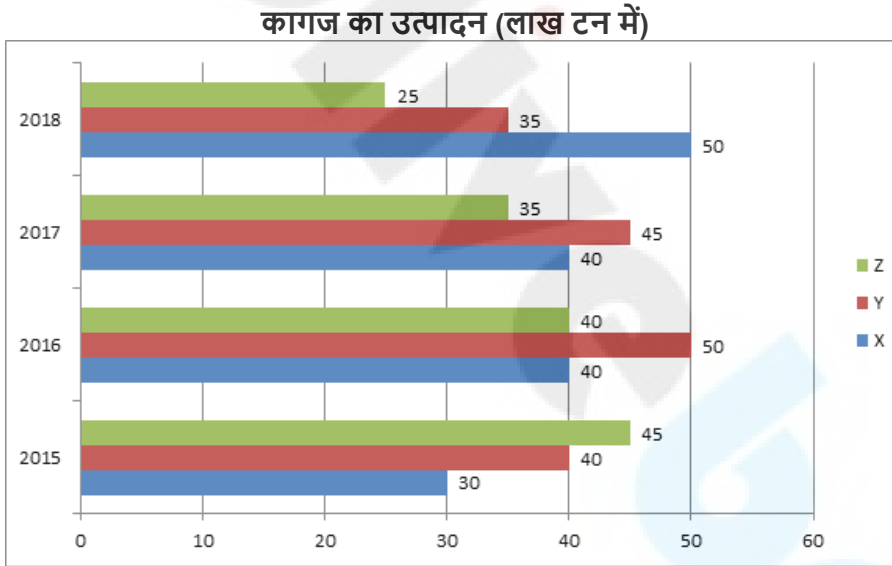
Multi Tasking Non Technical Staff and Havaladar CBIC and CBN Examination 2024

Roll Number	
Candidate Name	
Venue Name	iON Digital Zone iDZ Kacchi Pakki
Exam Date	12/11/2024
Exam Time	4:00 PM - 5:30 PM
Subject	MTS Non Tech Havaladar CBIC and CBN Examination 2024

Section : Numerical and Mathematical Ability

Q.1 दिए गए बार ग्राफ का ध्यानपूर्वक अध्ययन कीजिए और निम्नलिखित प्रश्न का उत्तर दीजिए।

नीचे दिया गया बार ग्राफ वर्ष 2015 से 2018 तक 3 अलग-अलग कंपनियों X, Y और Z द्वारा कागज के उत्पादन (लाख टन में) का डेटा दर्शाता है।



किस वर्ष में कंपनी Y के उत्पादन और कंपनी Z के उत्पादन का प्रतिशत अधिकतम था?

- Ans
- 1. 2015
 - 2. 2017
 - 3. 2016
 - 4. 2018

Question Type : MCQ

Question ID : 630680633918

Option 1 ID : 6306802481566

Option 2 ID : 6306802481564

Option 3 ID : 6306802481565

Option 4 ID : 6306802481567

Status : Answered

Chosen Option : 4

Q.2 म.स. (HCF) की गुणनखंड विधि का प्रयोग करते हुए, निम्नलिखित में से 160 और 256 का म.स. (HCF) क्या होगा?

Ans 1. 40

2. 32

3. 64

4. 16

Question Type : MCQ

Question ID : 63068070722

Option 1 ID : 630680273512

Option 2 ID : 630680273513

Option 3 ID : 630680273510

Option 4 ID : 630680273511

Status : Answered

Chosen Option : 1

Q.3 $(6 - 2\sqrt{2})$ और $(9 + 3\sqrt{2})$ के बीच माध्यानुपाती क्या है?

Ans 1. $\sqrt{52}$

2. $\sqrt{66}$

3. $\sqrt{54}$

4. $\sqrt{42}$

Question Type : MCQ

Question ID : 630680103159

Option 1 ID : 630680400895

Option 2 ID : 630680400897

Option 3 ID : 630680400896

Option 4 ID : 630680400898

Status : Answered

Chosen Option : 3

Q.4 दी गई तालिका चार अलग-अलग महीनों में चार अलग-अलग बेकरियों द्वारा बेची गई पेस्ट्री की संख्या को दर्शाती है।

महीना बेकरी	अप्रैल	मई	जून	जुलाई
X	640	665	962	748
Y	584	782	456	698
Z	612	498	729	621
T	771	630	568	777

जून में बेकरी X और T द्वारा बेची गई पेस्ट्री की कुल संख्या तथा अप्रैल में बेकरी Y और Z द्वारा बेची गई पेस्ट्री की कुल संख्या के बीच अंतर कितना है?

- Ans
- 1. 374
 - 2. 354
 - 3. 314
 - 4. 334

Question Type : MCQ

Question ID : 630680523779

Option 1 ID : 6306802047267

Option 2 ID : 6306802047268

Option 3 ID : 6306802047270

Option 4 ID : 6306802047269

Status : Answered

Chosen Option : 1

Q.5 एक चुनाव में गीता और श्यामा केवल दो प्रत्याशी थीं। गीता को कुल मतों का 15% प्राप्त हुआ तथा श्यामा को 8700 मत प्राप्त हुए। 60% मतदाताओं ने दोनों प्रत्याशियों में से किसी को भी मत नहीं दिया। यह मानते हुए कि डाले गए सभी मत वैध थे, श्यामा को प्राप्त मतों का कुल प्रतिशत ज्ञात कीजिए।

- Ans
- 1. 22%
 - 2. 24%
 - 3. 25%
 - 4. 23%

Question Type : MCQ

Question ID : 630680464481

Option 1 ID : 6306801813959

Option 2 ID : 6306801813961

Option 3 ID : 6306801813962

Option 4 ID : 6306801813960

Status : Answered

Chosen Option : 3

Q.6 3 वर्षों के लिए 3% वार्षिक की ब्याज दर पर उधार ली गई राशि ₹2500 पर साधारण ब्याज (₹ में) ज्ञात कीजिए।

Ans 1. 265

2. 225

3. 165

4. 185

Question Type : MCQ

Question ID : 630680591889

Option 1 ID : 6306802316024

Option 2 ID : 6306802316023

Option 3 ID : 6306802316025

Option 4 ID : 6306802316026

Status : Answered

Chosen Option : 2

Q.7 120 km/h की चाल से चल रहा एक पुलिसकर्मी अपने से 5000 m दूर और 100 km/h की चाल से चल रहे एक चोर का पीछा करता है। चोर को पकड़ने में पुलिसकर्मी को कितना समय लगेगा?

Ans 1. 10 मिनट

2. 20 मिनट

3. 15 मिनट

4. 13.5 मिनट

Question Type : MCQ

Question ID : 630680262496

Option 1 ID : 6306801019625

Option 2 ID : 6306801019624

Option 3 ID : 6306801019626

Option 4 ID : 6306801019623

Status : Answered

Chosen Option : 1

Q.8 एक कंपनी के 5 अधिकारियों सहित सभी 50 कर्मचारियों का औसत वेतन ₹855 है। यदि अधिकारियों का औसत वेतन ₹2,550 है, तो कंपनी के शेष कर्मचारियों का औसत वेतन ज्ञात कीजिए। (निकटतम पूर्णांक तक पूर्णांकित कीजिए।)

Ans 1. ₹677

2. ₹637

3. ₹657

4. ₹667

Question Type : MCQ

Question ID : 630680410199

Option 1 ID : 6306801599598

Option 2 ID : 6306801599597

Option 3 ID : 6306801599596

Option 4 ID : 6306801599595

Status : Answered

Chosen Option : 4

Q.9 एक अस्पताल में, 60% मरीज़ पुरुष हैं, 25% मरीज़ महिलाएँ हैं, और 15% मरीज़ बच्चे हैं। यदि पुरुषों की औसत आयु 40 वर्ष है, महिलाओं की औसत आयु 36 वर्ष है, और बच्चों की औसत आयु 8 वर्ष है, तो सभी मरीज़ों की औसत आयु ज्ञात करें।

- Ans
- 1. 23.4 वर्ष
 - 2. 32.4 वर्ष
 - 3. 34.2 वर्ष
 - 4. 24.3 वर्ष

Question Type : MCQ

Question ID : 630680457410

Option 1 ID : 6306801786555

Option 2 ID : 6306801786552

Option 3 ID : 6306801786553

Option 4 ID : 6306801786554

Status : Answered

Chosen Option : 2

Q.10 हर्षा ने गणित, भौतिकी और रसायनविज्ञान में क्रमशः 72, 63 और 81 अंक (100 में से) प्राप्त किए। उसके अंकों का औसत कितना है?

- Ans
- 1. 81
 - 2. 63
 - 3. 84
 - 4. 72

Question Type : MCQ

Question ID : 630680163638

Option 1 ID : 630680633724

Option 2 ID : 630680633725

Option 3 ID : 630680633727

Option 4 ID : 630680633726

Status : Answered

Chosen Option : 3

Q.11 एक लंबवृत्तीय बेलन के वक्र-पृष्ठ की $\text{₹}1.50$ प्रति cm^2 की दर से रंगाई की जानी है। यदि वृत्तीय आधार की त्रिज्या 21 cm और ऊँचाई 10 cm है, तो रंगाई की लागत (₹ में) कितनी होगी? ($\pi = \frac{22}{7}$ लीजिए)

- Ans
- 1. 1960
 - 2. 2000
 - 3. 1980
 - 4. 1940

Question Type : MCQ

Question ID : 630680383466

Option 1 ID : 6306801494760

Option 2 ID : 6306801494762

Option 3 ID : 6306801494761

Option 4 ID : 6306801494759

Status : Answered

Chosen Option : 2

Q.12 दो रेलगाड़ियां एक ही समय पर दो स्टेशनों से चलना शुरू करती हैं और क्रमशः 120 km/hr और 80 km/hr की चाल से एक-दूसरे की ओर बढ़ती हैं। जब वे मिलती हैं, तो ज्ञात होता है कि एक रेलगाड़ी, दूसरी रेलगाड़ी से 60 km अधिक चल चुकी है। दोनों स्टेशनों के बीच की दूरी (km में) कितनी है?

Ans 1. 452

2. 300

3. 268

4. 387

Question Type : MCQ

Question ID : 630680568771

Option 1 ID : 6306802223895

Option 2 ID : 6306802223894

Option 3 ID : 6306802223893

Option 4 ID : 6306802223896

Status : Answered

Chosen Option : 3

Q.13 एक कक्षा टेस्ट में 30 विद्यार्थियों (केवल लड़के और लड़कियों) के औसत अंक 16.2 थे और उसी टेस्ट में 18 लड़कों के औसत अंक 16 थे। उस टेस्ट में लड़कियों के औसत अंक ज्ञात कीजिए।

Ans 1. 16.3

2. 16.7

3. 16.5

4. 16.1

Question Type : MCQ

Question ID : 630680468477

Option 1 ID : 6306801829707

Option 2 ID : 6306801829709

Option 3 ID : 6306801829708

Option 4 ID : 6306801829706

Status : Answered

Chosen Option : 3

Q.14 साधारण ब्याज पर एक धनराशि तीन वर्षों में ₹2,500 और पांच वर्षों में ₹3,000 हो जाती है। ब्याज दर कितनी है (दो दशमलव स्थान तक सही)?

Ans 1. 14.29%

2. 15%

3. 13.56%

4. 14.25%

Question Type : MCQ

Question ID : 630680405562

Option 1 ID : 6306801583296

Option 2 ID : 6306801583298

Option 3 ID : 6306801583299

Option 4 ID : 6306801583297

Status : Answered

Chosen Option : 2

Q.15 एक बेलनाकार खंभे की ऊँचाई 20 m है। इसके आधार का व्यास 350 cm है। 40/ m² की दर से खंभे के वक्र पृष्ठ को पेंट करने की लागत कितनी होगी? ($\pi = \frac{22}{7}$)

- Ans
- 1. ₹8,600
 - 2. ₹8,400
 - 3. ₹8,000
 - 4. ₹8,800

Question Type : MCQ
Question ID : 630680386875
Option 1 ID : 6306801508213
Option 2 ID : 6306801508212
Option 3 ID : 6306801508210
Option 4 ID : 6306801508211
Status : Answered
Chosen Option : 3

Q.16 मिहिर एक खिलौना ₹70 में खरीदता है और उसे ₹90 में बेचता है। उसका लाभ प्रतिशत क्या है?

- Ans
- 1. 28.57%
 - 2. 25.25%
 - 3. 20%
 - 4. 35.62%

Question Type : MCQ
Question ID : 630680108767
Option 1 ID : 630680421982
Option 2 ID : 630680421981
Option 3 ID : 630680421980
Option 4 ID : 630680421983
Status : Answered
Chosen Option : 3

Q.17 एक स्पीकर का अंकित मूल्य ₹520 है और दुकानदार 10% की छूट प्रदान करता है और फिर भी उसे 17% का लाभ होता है। यदि कोई छूट नहीं दी जाती है, तो लाभ प्रतिशत ज्ञात करें।

- Ans
- 1. 27%
 - 2. 25%
 - 3. 20%
 - 4. 30%

Question Type : MCQ
Question ID : 630680119760
Option 1 ID : 630680464118
Option 2 ID : 630680464121
Option 3 ID : 630680464119
Option 4 ID : 630680464120
Status : Answered
Chosen Option : 3

Q.18 6 वर्षों के लिए 6% प्रति वर्ष की ब्याज दर पर उधार ली गई राशि ₹3500 पर साधारण ब्याज (₹ में) ज्ञात कीजिए।

Ans 1. 1300

2. 1260

3. 1200

4. 1220

Question Type : MCQ

Question ID : 630680591977

Option 1 ID : 6306802316376

Option 2 ID : 6306802316375

Option 3 ID : 6306802316377

Option 4 ID : 6306802316378

Status : Answered

Chosen Option : 1

Q.19 एक लंब वृत्तीय शंकु के आधार की त्रिज्या 28 cm है और इसकी तिर्यक ऊंचाई 13 cm है। इसका पार्श्व पृष्ठीय क्षेत्रफल ज्ञात कीजिए।

($\pi = \frac{22}{7}$ का प्रयोग कीजिए)

Ans 1. 1144 cm²

2. 1122 cm²

3. 1140 cm²

4. 1044 cm²

Question Type : MCQ

Question ID : 630680103193

Option 1 ID : 630680401033

Option 2 ID : 630680401032

Option 3 ID : 630680401034

Option 4 ID : 630680401031

Status : Answered

Chosen Option : 1

Q.20 एक शोरूम में एक मोबाइल फोन का अंकित मूल्य ₹25,000 है और इसे 20%, 15% और 10% की क्रमिक छूटों पर बेचा जाता है। इसका विक्रय मूल्य ज्ञात कीजिए।

Ans 1. ₹15,000

2. ₹14,000

3. ₹15,300

4. ₹14,960

Question Type : MCQ

Question ID : 630680615716

Option 1 ID : 6306802409536

Option 2 ID : 6306802409534

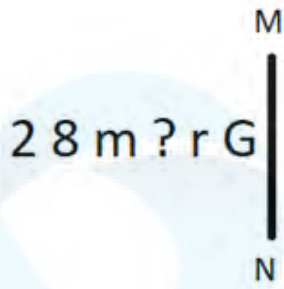
Option 3 ID : 6306802409537

Option 4 ID : 6306802409535

Status : Answered

Chosen Option : 4

Q.1 दी गई आकृति के उस सही दर्पण प्रतिबिंब को चुनिए, जो नीचे दर्शाए गए अनुसार दर्पण को MN पर रखने पर बनेगा।



Ans

✓ 1. 2 8 m ? r G

✗ 2. 2 8 m ? r G

✗ 3. 2 8 m ? r G

✗ 4. 2 8 m ? r G

Question Type : MCQ

Question ID : 630680525265

Option 1 ID : 6306802053146

Option 2 ID : 6306802053144

Option 3 ID : 6306802053147

Option 4 ID : 6306802053145

Status : Answered

Chosen Option : 1

Q.2 एक निश्चित कूट भाषा में, 'let us go' को 'ck ru tb' के रूप में कूटबद्ध किया जाता है और 'please go away' को 'tb mg du' के रूप में कूटबद्ध किया जाता है। उस कूट भाषा में 'go' को किस प्रकार कूटबद्ध किया जाता है?

Ans

✗ 1. ru

✗ 2. mg

✓ 3. tb

✗ 4. du

Question Type : MCQ

Question ID : 630680382353

Option 1 ID : 6306801490329

Option 2 ID : 6306801490328

Option 3 ID : 6306801490327

Option 4 ID : 6306801490330

Status : Answered

Chosen Option : 4

Q.3 एक निश्चित कूट भाषा में, 'gre pul sep' का अर्थ 'eat the sofa' है; 'pul pra sem' का अर्थ 'clear my sofa' है और 'gre boi nad' का अर्थ 'the great river' है। उसी कूट भाषा में 'the' के लिए कूट क्या है?

- Ans
- 1. nad
 - 2. pul
 - 3. sep
 - 4. gre

Question Type : MCQ

Question ID : 630680381553

Option 1 ID : 6306801487146

Option 2 ID : 6306801487144

Option 3 ID : 6306801487143

Option 4 ID : 6306801487145

Status : Answered

Chosen Option : 2

Q.4 उस समुच्चय का चयन कीजिए जिसमें संख्याएं ठीक उसी प्रकार संबंधित हैं जिस प्रकार दिए गए समुच्चयों की संख्याएं संबंधित हैं।

(ध्यान दें: संख्याओं को उनके घटक अंकों में अलग-अलग किए बिना पूर्ण संख्याओं पर संक्रियाएं की जानी चाहिए। उदाहरण के लिए संख्या 13 - संख्या 13 पर संक्रियाएं जैसे 13 को जोड़ना/घटाना/गुणा करना आदि किया जा सकता है। 13 को 1 और 3 में अलग-अलग करने की और फिर 1 और 3 पर गणितीय संक्रियाएं करने की अनुमति नहीं है।)

(18, 108, 12)
(33, 198, 22)

- Ans
- 1. (42, 254, 28)
 - 2. (42, 252, 26)
 - 3. (42, 252, 28)
 - 4. (40, 252, 28)

Question Type : MCQ

Question ID : 630680381025

Option 1 ID : 6306801485077

Option 2 ID : 6306801485078

Option 3 ID : 6306801485076

Option 4 ID : 6306801485075

Status : Answered

Chosen Option : 1

Q.5 E, F, G, H, P, S और T एक वृत्ताकार मेज के चारों ओर केंद्र की ओर मुख करके बैठे हैं (परंतु जरूरी नहीं कि वे इसी क्रम में बैठे हों)। F, T के दाएं से दूसरे स्थान पर बैठा है। P, S के ठीक बाएं बैठा है। P के बाएं से गिनती करने पर P और G के बीच में केवल एक व्यक्ति बैठा है। H, E के दाएं से तीसरे स्थान पर बैठा है। H के दाएं से गिनती करने पर H और P के बीच में कितने व्यक्ति बैठे हैं?

Ans 1. तीन

2. एक भी नहीं

3. दो

4. एक

Question Type : MCQ

Question ID : 630680392963

Option 1 ID : 6306801532188

Option 2 ID : 6306801532189

Option 3 ID : 6306801532187

Option 4 ID : 6306801532186

Status : Answered

Chosen Option : 1

Q.6 यदि '+' और '-' को आपस में बदल दिया जाए तथा 'x' और '÷' को आपस में बदल दिया जाए, तो निम्नलिखित समीकरण में प्रश्न चिह्न (?) के स्थान पर क्या आएगा?

$$7 + 8 - 24 \times 6 \div 3 = ?$$

Ans 1. 11

2. 16

3. 8

4. 15

Question Type : MCQ

Question ID : 630680194965

Option 1 ID : 630680756352

Option 2 ID : 630680756349

Option 3 ID : 630680756350

Option 4 ID : 630680756351

Status : Answered

Chosen Option : 2

Q.7 अंग्रेजी वर्णानुक्रम के आधार पर दी गई श्रृंखला में प्रश्न चिह्न (?) के स्थान पर क्या आना चाहिए?

TCU, UFP, VIK, WLF, ?

Ans 1. XOC

2. XPA

3. XOB

4. XOA

Question Type : MCQ

Question ID : 630680459268

Option 1 ID : 6306801793925

Option 2 ID : 6306801793928

Option 3 ID : 6306801793926

Option 4 ID : 6306801793927

Status : Answered

Chosen Option : 3

Q.8 एक निश्चित तर्क का अनुसरण करते हुए 11, 78 से संबंधित है। उसी तर्क का अनुसरण करते हुए 6, 43 से संबंधित है। समान तर्क का अनुसरण करते हुए, 31 निम्नलिखित में से किससे संबंधित है?

(ध्यान दें: संख्याओं को उनके घटक अंकों में अलग-अलग किए बिना पूर्ण संख्याओं पर संक्रियाएं की जानी चाहिए। उदाहरण के लिए संख्या 13 - संख्या 13 पर संक्रियाएं जैसे 13 को जोड़ना/घटाना/गुणा करना आदि किया जा सकता है। 13 को 1 और 3 में अलग-अलग करने की और फिर 1 और 3 पर गणितीय संक्रियाएं करने की अनुमति नहीं है।)

Ans 1. 159

2. 145

3. 218

4. 249

Question Type : **MCQ**

Question ID : **630680441686**

Option 1 ID : **6306801724361**

Option 2 ID : **6306801724358**

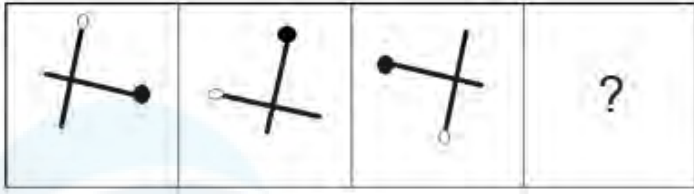
Option 3 ID : **6306801724359**

Option 4 ID : **6306801724360**

Status : **Answered**

Chosen Option : **4**

Q.9 दिए गए विकल्पों में से उस आकृति का चयन कीजिए, जो प्रश्न-चिह्न (?) के स्थान पर आ सकती है और दी गई श्रृंखला को पूरा कर सकती है।



Ans

✗ 1.



✗ 2.



✗ 3.



✓ 4.



Question Type : MCQ

Question ID : 630680149869

Option 1 ID : 630680579645

Option 2 ID : 630680579646

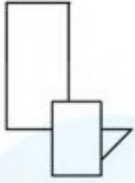
Option 3 ID : 630680579644

Option 4 ID : 630680579647

Status : Answered

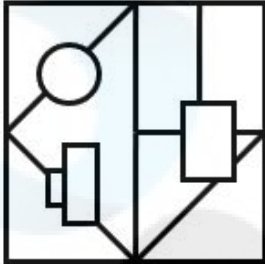
Chosen Option : 4

Q.10 उस विकल्प का चयन कीजिए जिसमें दी गई आकृति सन्निहित है (घूर्णन की अनुमति नहीं है)।

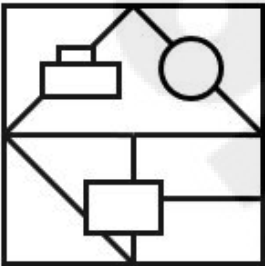


Ans

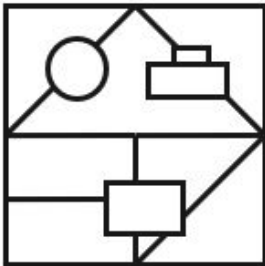
✓ 1.



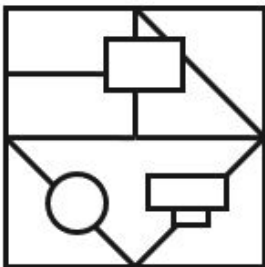
✗ 2.



✗ 3.



✗ 4.



Question Type : MCQ

Question ID : 630680524448

Option 1 ID : 6306802049893

Option 2 ID : 6306802049891

Option 3 ID : 6306802049894

Option 4 ID : 6306802049892

Status : Answered

Chosen Option : 3

Q.11 किसी कूट भाषा में, 'VGAL' को 'BEGJ' के रूप में कूटबद्ध किया जाता है और 'XQEB' को 'DOKZ' के रूप में कूटबद्ध किया जाता है। उसी भाषा में 'HTSO' को किस प्रकार कूटबद्ध किया जाएगा?

Ans 1. NRYM

2. MSZK

3. NQYL

4. MRZL

Question Type : MCQ

Question ID : 630680465307

Option 1 ID : 6306801817263

Option 2 ID : 6306801817265

Option 3 ID : 6306801817264

Option 4 ID : 6306801817266

Status : Answered

Chosen Option : 3

Q.12 दिए गए कथनों और निष्कर्षों को ध्यानपूर्वक पढ़िए। यह मानते हुए कि कथनों में दी गई जानकारी सत्य है, भले ही वे सामान्यतः ज्ञात तथ्यों से भिन्न प्रतीत होते हों, तय कीजिए कि दिए गए निष्कर्षों में से कौन-सा/से निष्कर्ष कथनों का तार्किक रूप से अनुसरण करता है/करते हैं।

कथन:

कोई सूरजमुखी, लिली नहीं है।

कोई लिली, गुलाब नहीं है।

निष्कर्ष:

(I) कोई सूरजमुखी, गुलाब नहीं है।

(II) कोई गुलाब, लिली नहीं है।

Ans 1. निष्कर्ष I और II दोनों अनुसरण करते हैं

2. केवल निष्कर्ष II अनुसरण करता है

3. केवल निष्कर्ष I अनुसरण करता है

4. न तो निष्कर्ष I और न ही II अनुसरण करता है

Question Type : MCQ

Question ID : 630680419666

Option 1 ID : 6306801637159

Option 2 ID : 6306801637158

Option 3 ID : 6306801637157

Option 4 ID : 6306801637160

Status : Answered

Chosen Option : 1

Q.13 दी गई श्रृंखला में प्रश्नवाचक चिन्ह (?) के स्थान पर क्या आना चाहिए?

6 16 27 39 52 ?

- Ans
- 1. 67
 - 2. 65
 - 3. 64
 - 4. 66

Question Type : MCQ

Question ID : 630680819508

Option 1 ID : 6306803210230

Option 2 ID : 6306803210228

Option 3 ID : 6306803210227

Option 4 ID : 6306803210229

Status : Answered

Chosen Option : 3

Q.14 यदि '-' और '+' को आपस में बदल दिया जाए तथा '÷' और '×' को आपस में बदल दिया जाए, तो निम्नलिखित समीकरण में प्रश्न-चिह्न (?) के स्थान पर क्या आएगा?
 $15 - 4 + 9 \times 3 \div 6 = ?$

- Ans
- 1. 1
 - 2. 12
 - 3. 18
 - 4. 10

Question Type : MCQ

Question ID : 630680392941

Option 1 ID : 6306801532102

Option 2 ID : 6306801532104

Option 3 ID : 6306801532105

Option 4 ID : 6306801532103

Status : Answered

Chosen Option : 1

Q.15 एक कूट भाषा में, 'KITE' को 'PRGV' के रूप में लिखा जाता है और 'MARBLE' को 'NZIYOV' के रूप में लिखा जाता है। उसी भाषा में 'DOLPHIN' को किस प्रकार लिखा जाएगा?

- Ans
- 1. XLOKSRM
 - 2. XMOKSRM
 - 3. WMOKSRM
 - 4. WLOKSRM

Question Type : MCQ

Question ID : 630680465220

Option 1 ID : 6306801816915

Option 2 ID : 6306801816918

Option 3 ID : 6306801816916

Option 4 ID : 6306801816917

Status : Answered

Chosen Option : 3

Q.16 एक लॉ फर्म के सात अधिकारी (P, Q, R, S, T, U और V) एक बैठक के लिए एक वृत्ताकार मेज के चारों ओर बैठे हैं, सभी केंद्र की ओर मुख करके बैठे हैं (परंतु जरूरी नहीं कि वे इसी क्रम में बैठे हों)।

- U और S दोनों का निकटतम पड़ोसी P है।
- Q, S के ठीक दाएँ बैठा है, और T के निकटतम पड़ोसियों में से एक है।
- V, T के दाएँ से दूसरे स्थान पर बैठा है।

U के बाएँ से दूसरे स्थान पर कौन बैठा है?

- Ans
- 1. Q
 - 2. R
 - 3. V
 - 4. T

Question Type : MCQ

Question ID : 630680381029

Option 1 ID : 6306801485094

Option 2 ID : 6306801485093

Option 3 ID : 6306801485091

Option 4 ID : 6306801485092

Status : Answered

Chosen Option : 1

Q.17 BZ7, GE15 से एक निश्चित प्रकार से संबंधित है। उसी प्रकार, PN13, US21 से संबंधित है। समान तर्क का अनुसरण करते हुए IG12 निम्नलिखित में से किससे संबंधित है?

- Ans
- 1. PN21
 - 2. NL20
 - 3. NL21
 - 4. PM20

Question Type : MCQ

Question ID : 630680438837

Option 1 ID : 6306801713163

Option 2 ID : 6306801713161

Option 3 ID : 6306801713160

Option 4 ID : 6306801713162

Status : Answered

Chosen Option : 2

Q.18 दिए गए कथनों और निष्कर्षों को ध्यानपूर्वक पढ़िए। कथनों में दी गई जानकारी को सत्य मानते हुए, भले ही यह सामान्यतः ज्ञात तथ्यों से भिन्न प्रतीत होती हो, तय कीजिए कि कौन-सा/से निष्कर्ष कथनों का तार्किक रूप से अनुसरण करता है/करते हैं।

कथन:

सभी स्कूल, कॉलेज हैं।

कोई कॉलेज, यूनिवर्सिटी नहीं है।

निष्कर्ष:

(I): कोई स्कूल, यूनिवर्सिटी नहीं है।

(II): सभी कॉलेज, स्कूल हैं।

Ans 1. न तो निष्कर्ष I और न ही II अनुसरण करता है।

2. केवल निष्कर्ष I अनुसरण करता है।

3. निष्कर्ष I और II, दोनों अनुसरण करते हैं।

4. केवल निष्कर्ष II अनुसरण करता है।

Question Type : MCQ

Question ID : 630680410634

Option 1 ID : 6306801601295

Option 2 ID : 6306801601292

Option 3 ID : 6306801601294

Option 4 ID : 6306801601293

Status : Answered

Chosen Option : 3

Q.19 TW21 किसी निश्चित तरीके से ZC66 से संबंधित है। UX33 उसी तरीके से AD78 से संबंधित है। उसी तर्क का पालन करते हुए, MP45 निम्नलिखित में से किससे संबंधित है?

Ans 1. VS90

2. SV90

3. SV80

4. VS80

Question Type : MCQ

Question ID : 6306801108773

Option 1 ID : 6306804355639

Option 2 ID : 6306804355638

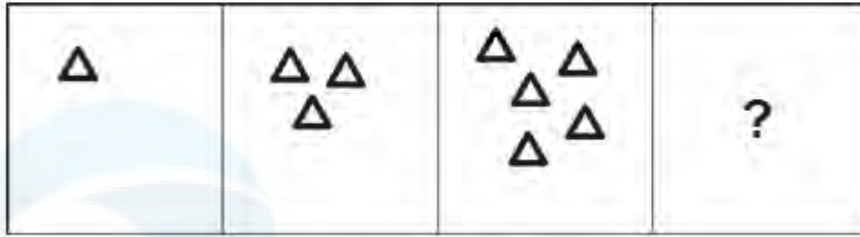
Option 3 ID : 6306804355640

Option 4 ID : 6306804355641

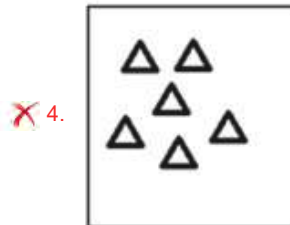
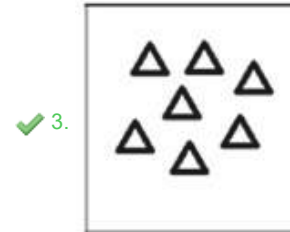
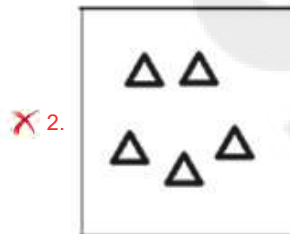
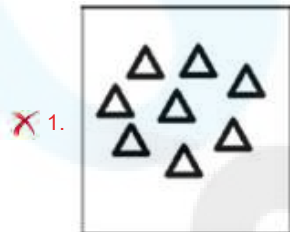
Status : Answered

Chosen Option : 3

Q.20 उस विकल्प का चयन कीजिए, जो प्रश्न चिह्न (?) के स्थान पर आएगा और दी गई आकृति श्रृंखला को पूरा करेगा।



Ans



Question Type : MCQ

Question ID : 630680152703

Option 1 ID : 630680590805

Option 2 ID : 630680590806

Option 3 ID : 630680590804

Option 4 ID : 630680590807

Status : Answered

Chosen Option : 1

Q.1 2023 में, भारत सरकार ने एमएसएमई, बड़े व्यवसायों और धर्मार्थ ट्रस्टों द्वारा दस्तावेजों को सुरक्षित रूप से ऑनलाइन संग्रहीत करने और साझा करने के लिए एक _____ डिजीलॉकर (DigiLocker) की स्थापना की है।

- Ans
- 1. एंटीटी (Entity)
 - 2. कंपनी (Company)
 - 3. बांड (Bond)
 - 4. मैक्रो (Macro)

Question Type : MCQ

Question ID : 630680467071

Option 1 ID : 6306801824238

Option 2 ID : 6306801824237

Option 3 ID : 6306801824239

Option 4 ID : 6306801824240

Status : Answered

Chosen Option : 4

Q.2 काकरापार परमाणु ऊर्जा संयंत्र (Kakrapar Atomic Power Plant) किस राज्य में स्थित है?

- Ans
- 1. राजस्थान
 - 2. गुजरात
 - 3. तमिलनाडु
 - 4. महाराष्ट्र

Question Type : MCQ

Question ID : 630680511133

Option 1 ID : 6306801997663

Option 2 ID : 6306801997662

Option 3 ID : 6306801997664

Option 4 ID : 6306801997665

Status : Answered

Chosen Option : 3

Q.3 भरतनाट्यम नृत्यांगना _____ को 2023 में चेन्नई में श्री पार्थसारथी स्वामी सभा से नाट्य कला सारथी पुरस्कार मिला।

- Ans
- 1. श्रीदेवी उन्नी (Sreedevi Unni)
 - 2. हेमा राजगोपालन (Hema Rajagopalan)
 - 3. विद्या सुब्रमण्यन (Vidhya Subramanian)
 - 4. श्रेकला भरत (Srekala Bharath)

Question Type : MCQ

Question ID : 630680512012

Option 1 ID : 6306802001018

Option 2 ID : 6306802001020

Option 3 ID : 6306802001019

Option 4 ID : 6306802001021

Status : Answered

Chosen Option : 2

Q.4 कांग्रेस के निम्नलिखित में से किस अधिवेशन में पार्टी ने 26 जनवरी को 'पूर्ण स्वराज दिवस' के रूप में मनाने का आह्वान किया था?

- Ans
- 1. दिल्ली 1923
 - 2. लाहौर 1929
 - 3. मद्रास 1927
 - 4. कराची 1931

Question Type : MCQ

Question ID : 630680275686

Option 1 ID : 6306801071255

Option 2 ID : 6306801071257

Option 3 ID : 6306801071256

Option 4 ID : 6306801071258

Status : Answered

Chosen Option : 1

Q.5 अशोक के कितने स्तंभ शिलालेख या प्रमुख स्तंभ शिलालेख (PE) पाए जाते हैं?

- Ans
- 1. नौ
 - 2. चौदह
 - 3. दो
 - 4. सात

Question Type : MCQ

Question ID : 630680113855

Option 1 ID : 630680440948

Option 2 ID : 630680440949

Option 3 ID : 630680440946

Option 4 ID : 630680440947

Status : Answered

Chosen Option : 4

Q.6 _____ में नीरज चोपड़ा, भाला फ़ेक (javelin throw) में स्वर्ण पदक जीतने वाले पहले भारतीय बन गए।

- Ans
- 1. एशियन गेम्स, 2014
 - 2. एशियन गेम्स, 2010
 - 3. एशियन गेम्स, 2022
 - 4. एशियन गेम्स, 2018

Question Type : MCQ

Question ID : 630680552141

Option 1 ID : 6306802158751

Option 2 ID : 6306802158752

Option 3 ID : 6306802158750

Option 4 ID : 6306802158749

Status : Answered

Chosen Option : 4

Q.7 भारत में, ओक (Oak) और चेस्टनट (chestnut) के पेड़ किस प्रकार के वन में पाए जाते हैं?

- Ans
- 1. कंटक वन
 - 2. मैग्रोव वन
 - 3. पर्वतीय वन
 - 4. उष्णकटिबंधीय पर्णपाती वन

Question Type : MCQ
Question ID : 630680401729
Option 1 ID : 6306801566692
Option 2 ID : 6306801566690
Option 3 ID : 6306801566691
Option 4 ID : 6306801566693
Status : Answered
Chosen Option : 4

Q.8 ओज़ोन परत के बारे में निम्नलिखित में से कौन-सा कथन सत्य है?

- कथन A: यह समताप मंडल में पाई जाती है।
कथन B: क्लोरोफ्लोरोकार्बन (CFCs) ओज़ोन छिद्र के लिए जिम्मेदार हैं।
कथन C: ओज़ोन परत पृथ्वी की सतह से लगभग 15-30 km ऊपर पाई जाती है।
कथन D: अनुमान है कि ओज़ोन परत अब और ठीक नहीं होगी।

- Ans
- 1. केवल कथन A, B और C
 - 2. केवल कथन B, C और D
 - 3. केवल कथन A और B
 - 4. केवल कथन A और D

Question Type : MCQ
Question ID : 630680545125
Option 1 ID : 6306802131248
Option 2 ID : 6306802131250
Option 3 ID : 6306802131247
Option 4 ID : 6306802131249
Status : Answered
Chosen Option : 3

Q.9 त्रिक आबंध वाली चार-कार्बन शृंखला को _____ कहा जाता है।

- Ans
- 1. ब्यूटेनल (butanal)
 - 2. ब्यूटीन (butene)
 - 3. ब्यूटाइन (butyne)
 - 4. ब्यूटनॉल (butanol)

Question Type : MCQ
Question ID : 630680729122
Option 1 ID : 6306802857241
Option 2 ID : 6306802857238
Option 3 ID : 6306802857239
Option 4 ID : 6306802857240
Status : Answered
Chosen Option : 4

Q.10 भारत में पहली सामाजिक-आर्थिक और जातिगत जनगणना (Socio Economic and Caste Census - SECC) किस वर्ष आयोजित की गई थी?

Ans 1. 2011

2. 1911

3. 2001

4. 1901

Question Type : MCQ

Question ID : 630680283342

Option 1 ID : 6306801101492

Option 2 ID : 6306801101494

Option 3 ID : 6306801101491

Option 4 ID : 6306801101493

Status : Answered

Chosen Option : 1

Q.11 पृथ्वी के ज्वालामुखियों में निम्नलिखित में से किस प्रकार का ज्वालामुखी विस्फोट सबसे अधिक विस्फोटक होता है?

Ans 1. लैपोलिथ (Lapoliith)

2. डाइक (Dykes)

3. बाढ़ बेसाल्ट प्रांत (Flood basalt provinces)

4. काल्डेरा (Caldera)

Question Type : MCQ

Question ID : 630680517187

Option 1 ID : 6306802021147

Option 2 ID : 6306802021146

Option 3 ID : 6306802021144

Option 4 ID : 6306802021145

Status : Answered

Chosen Option : 1

Q.12 एक प्रसिद्ध संगठन स्व-नियोजित महिला संघ (Self-Employed Women's Association - SEWA) निम्नलिखित में से किस राज्य से संबंधित है?

Ans 1. उत्तर प्रदेश

2. गुजरात

3. हरियाणा

4. मध्य प्रदेश

Question Type : MCQ

Question ID : 630680512422

Option 1 ID : 6306802002661

Option 2 ID : 6306802002659

Option 3 ID : 6306802002660

Option 4 ID : 6306802002658

Status : Answered

Chosen Option : 1

Q.13 मई 2023 में, किसने केंद्रीय सतर्कता आयुक्त के रूप में शपथ ली?

- Ans 1. सेमुअल जोसेफ
 2. प्रवीण कुमार श्रीवास्तव
 3. दयाल यादव
 4. राम मनोहर सिंह

Question Type : MCQ
Question ID : 630680798956
Option 1 ID : 6306803130623
Option 2 ID : 6306803130622
Option 3 ID : 6306803130625
Option 4 ID : 6306803130624
Status : Answered
Chosen Option : 2

Q.14 कर्नाटक में मुख्य रूप से बादामी और ऐहोल में चट्टानों को काटकर बनाई गई गुफाएँ _____ के संरक्षण में बनाई गई थीं।

- Ans 1. मौर्य
 2. चालुक्य
 3. चोल
 4. गुप्त

Question Type : MCQ
Question ID : 630680585179
Option 1 ID : 6306802289476
Option 2 ID : 6306802289474
Option 3 ID : 6306802289477
Option 4 ID : 6306802289475
Status : Answered
Chosen Option : 1

Q.15 भारत के संविधान का कौन-सा अनुच्छेद राज्य को उसकी आर्थिक क्षमता और विकास की सीमा के भीतर बेरोजगारी, वृद्धावस्था, बीमारी और विकलांगता के मामले में अपने नागरिकों को सार्वजनिक सहायता प्रदान करने का निर्देश देता है?

- Ans 1. अनुच्छेद 41
 2. अनुच्छेद 32
 3. अनुच्छेद 20
 4. अनुच्छेद 12

Question Type : MCQ
Question ID : 630680115728
Option 1 ID : 630680448253
Option 2 ID : 630680448252
Option 3 ID : 630680448251
Option 4 ID : 630680448250
Status : Answered
Chosen Option : 1

Q.16 मेरे क्षेत्र में स्थापित एक फैक्ट्री बड़े पैमाने पर वनों की कटाई का कारण बन रही है। हम निकट भविष्य में निम्नलिखित में से क्या देखने की उम्मीद कर सकते हैं?

- A) भूजल का कम होना
- B) कम तापमान
- C) बार-बार बारिश होना
- D) नए जानवरों का आगमन

Ans 1. B

2. A

3. D

4. C

Question Type : MCQ

Question ID : 630680539314

Option 1 ID : 6306802108394

Option 2 ID : 6306802108393

Option 3 ID : 6306802108392

Option 4 ID : 6306802108395

Status : Answered

Chosen Option : 3

Q.17 पद्म सुब्रह्मण्यम किस नृत्य शैली से जुड़ी हैं?

Ans 1. छऊ

2. मणिपुरी

3. कथक

4. भरतनाट्यम

Question Type : MCQ

Question ID : 630680570928

Option 1 ID : 6306802232776

Option 2 ID : 6306802232774

Option 3 ID : 6306802232775

Option 4 ID : 6306802232773

Status : Answered

Chosen Option : 4

Q.18 भारतीय संविधान के अनुच्छेद 280 के अनुसार, प्रत्येक _____ के लिए वित्त आयोग नियुक्त किया जाना आवश्यक है।

Ans 1. पाँच वर्ष

2. एक वर्ष

3. दो वर्ष

4. तीन वर्ष

Question Type : MCQ

Question ID : 630680799050

Option 1 ID : 6306803131005

Option 2 ID : 6306803131002

Option 3 ID : 6306803131003

Option 4 ID : 6306803131004

Status : Answered

Chosen Option : 1

Q.19 खेलों में आमतौर पर 'ऐस (ace)' शब्द का संबंध किससे है?

- Ans
- 1. गोल्फ में एक सटीक शॉट
 - 2. फुटबॉल में गोल स्कोर करना
 - 3. टेनिस में एक तेज़ सर्व
 - 4. एथलेटिक्स में ऊंची कूद की एक तकनीक

Question Type : MCQ

Question ID : 630680466225

Option 1 ID : 6306801820924

Option 2 ID : 6306801820923

Option 3 ID : 6306801820922

Option 4 ID : 6306801820925

Status : Answered

Chosen Option : 4

Q.20 भारत का अंतिम मुगल सम्राट कौन-था?

- Ans
- 1. औरंगजेब
 - 2. शाहजहाँ
 - 3. अकबर द्वितीय
 - 4. बहादुर शाह द्वितीय

Question Type : MCQ

Question ID : 630680682790

Option 1 ID : 6306802673903

Option 2 ID : 6306802673905

Option 3 ID : 6306802673906

Option 4 ID : 6306802673904

Status : Answered

Chosen Option : 4

Q.21 'ए हिस्ट्री ऑफ ब्रिटिश इंडिया (A History of British India)' पुस्तक किसने लिखी?

- Ans
- 1. रेनली (Renley)
 - 2. ग्रेनविले ऑस्टिन (Grenville Austin)
 - 3. जेम्स मिल (James Mill)
 - 4. बेंथम (Bentham)

Question Type : MCQ

Question ID : 630680652456

Option 1 ID : 6306802554309

Option 2 ID : 6306802554306

Option 3 ID : 6306802554307

Option 4 ID : 6306802554308

Status : Answered

Chosen Option : 2

Q.22 संविधान के अंगीकरण के समय, इसमें 395 अनुच्छेद और _____ अनुसूचियाँ थी।

Ans 1. 8

2. 11

3. 9

4. 7

Question Type : MCQ

Question ID : 630680547892

Option 1 ID : 6306802142116

Option 2 ID : 6306802142118

Option 3 ID : 6306802142117

Option 4 ID : 6306802142115

Status : Answered

Chosen Option : 1

Q.23 मध्य प्रदेश आदिवासी लोक कला अकादमी द्वारा आयोजित पांच दिवसीय उत्सव, लोकरंग, हर साल _____ से शुरू होता है।

Ans 1. 24 जुलाई

2. 22 मार्च

3. 26 सितंबर

4. 26 जनवरी

Question Type : MCQ

Question ID : 630680798923

Option 1 ID : 6306803130499

Option 2 ID : 6306803130500

Option 3 ID : 6306803130498

Option 4 ID : 6306803130501

Status : Answered

Chosen Option : 1

Q.24 पद्म भूषण 2023 से सम्मानित वाणी जयराम किस राज्य से संबंधित हैं?

Ans 1. तमिलनाडु

2. गुजरात

3. महाराष्ट्र

4. मध्य प्रदेश

Question Type : MCQ

Question ID : 630680482206

Option 1 ID : 6306801883341

Option 2 ID : 6306801883340

Option 3 ID : 6306801883339

Option 4 ID : 6306801883342

Status : Answered

Chosen Option : 3

Q.25 शोवना नारायण और गीतिका काल्हा द्वारा रचित पुस्तक कौन-सी है?

- Ans
- 1. कल्चरल रिदम्स इन इमोशंस (Cultural Rhythms in Emotions)
 - 2. डांस जेस्चर्स: मिरर ऑफ़ एक्सप्रेसंस (Dance Gestures: Mirror of Expressions)
 - 3. डांसिंग इन द फैमिली (Dancing in the Family)
 - 4. इंडियन माइथोलॉजी थ्रू क्लासिकल डांस (Indian Mythology through Classical Dance)

Question Type : MCQ

Question ID : 630680474210

Option 1 ID : 6306801852531

Option 2 ID : 6306801852532

Option 3 ID : 6306801852533

Option 4 ID : 6306801852530

Status : Answered

Chosen Option : 1

Section : English Language and Comprehension

Q.1 Select the most appropriate synonym of the given word.

Hire

- Ans
- 1. Engross
 - 2. Enhance
 - 3. Engage
 - 4. Endure

Question Type : MCQ

Question ID : 630680410883

Option 1 ID : 6306801602289

Option 2 ID : 6306801602290

Option 3 ID : 6306801602287

Option 4 ID : 6306801602288

Status : Answered

Chosen Option : 2

Q.2 Select the most appropriate meaning of the idiom from the options given below.
To accept the gauntlet

- Ans
- 1. To suffer a great insult
 - 2. To suffer financial loss
 - 3. To accept a challenge
 - 4. To accept failure

Question Type : MCQ

Question ID : 630680168553

Option 1 ID : 630680652826

Option 2 ID : 630680652825

Option 3 ID : 630680652827

Option 4 ID : 630680652824

Status : Answered

Chosen Option : 3

Q.3 Select the grammatically correct sentence.

- Ans 1. The secondary section of a school is located at an end of the street.
2. The secondary section of a school is located at the end of a street.
3. The secondary section of the school is located at the end of the street.
4. A secondary section of the school is located at an end of the street.

Question Type : **MCQ**
Question ID : **6306801106299**
Option 1 ID : **6306804345627**
Option 2 ID : **6306804345628**
Option 3 ID : **6306804345629**
Option 4 ID : **6306804345626**
Status : **Answered**
Chosen Option : **4**

Q.4 Select the most appropriate option to fill in the blank.

The team captain inquired of his teammates _____ they preferred to choose batting as their initial option.

- Ans 1.
wither
2.
whither
3. whether
4.
weather

Question Type : **MCQ**
Question ID : **630680459194**
Option 1 ID : **6306801793632**
Option 2 ID : **6306801793631**
Option 3 ID : **6306801793629**
Option 4 ID : **6306801793630**
Status : **Answered**
Chosen Option : **4**

Q.5 Select the most appropriate option to substitute the underlined segment in the given sentence.

Shirin came off with a brilliant idea to solve the problem.

- Ans 1. came off on a brilliant idea
2. came up in a brilliant idea
3. came up with a brilliant idea
4. came off to a brilliant idea

Question Type : **MCQ**
Question ID : **630680549282**
Option 1 ID : **6306802147592**
Option 2 ID : **6306802147591**
Option 3 ID : **6306802147590**
Option 4 ID : **6306802147589**
Status : **Answered**
Chosen Option : **4**

Q.6 In the following passage, some words have been deleted. Read the passage carefully and select the most appropriate option to fill in the blanks.

Martin Luther King Jr. started a crusade for discrimination _____ African Americans. He relied on peaceful demonstrations and demonstrators. His most famous march was a powerful rally of about 250,000 people in Washington in 1963, where he _____ one of the most famous speeches in history.

- Ans
- 1. versus; brought
 - 2. opposed; dropped
 - 3. counter; dispatched
 - 4. against; delivered

Question Type : **MCQ**

Question ID : **630680515128**

Option 1 ID : **6306802013025**

Option 2 ID : **6306802013027**

Option 3 ID : **6306802013026**

Option 4 ID : **6306802013028**

Status : **Answered**

Chosen Option : 1

Q.7 Choose the correctly spelt word to fill in the blank meaningfully.
The citizens of Iraq wanted _____ after years of war.

- Ans
- 1. pease
 - 2. peace
 - 3. peice
 - 4. piece

Question Type : **MCQ**

Question ID : **630680508260**

Option 1 ID : **6306801986340**

Option 2 ID : **6306801986338**

Option 3 ID : **6306801986339**

Option 4 ID : **6306801986337**

Status : **Answered**

Chosen Option : 4

Q.8 Select the most appropriate option to fill in the blank.
You need to rest the _____ before baking the bread.

- Ans
- 1. doe
 - 2. paste
 - 3. lard
 - 4. dough

Question Type : **MCQ**

Question ID : **630680515268**

Option 1 ID : **6306802013539**

Option 2 ID : **6306802013540**

Option 3 ID : **6306802013537**

Option 4 ID : **6306802013538**

Status : **Answered**

Chosen Option : 4

Q.9 Select the most appropriate ANTONYM of the given word.

Inferior

- Ans 1. Mediocre
 2. Beautiful
 3. Substandard
 4. Superior

Question Type : MCQ

Question ID : 630680554300

Option 1 ID : 6306802167054

Option 2 ID : 6306802175774

Option 3 ID : 6306802167055

Option 4 ID : 6306802167053

Status : Answered

Chosen Option : 2

Q.10 Select the most appropriate meaning of the underlined word.
The Prime Minister will address the nation tomorrow.

- Ans 1. To greet people
 2. To deliver a speech
 3. A postal code for sending letters
 4. A landmark

Question Type : MCQ

Question ID : 630680517450

Option 1 ID : 6306802022199

Option 2 ID : 6306802022198

Option 3 ID : 6306802022196

Option 4 ID : 6306802022197

Status : Not Answered

Chosen Option : --

Q.11 Select the most appropriate option to fill in the blank.

The professor's _____ lecture was filled with complex concepts.

- Ans 1. lucyd
 2. lucid
 3. lucied
 4. lucide

Question Type : MCQ

Question ID : 630680473976

Option 1 ID : 6306801851596

Option 2 ID : 6306801851595

Option 3 ID : 6306801851597

Option 4 ID : 6306801851594

Status : Answered

Chosen Option : 3

Q.12 Select the correct spelling of the underlined word in the given sentence.

Is he ready to risk his acredation for the greater good?

- Ans
- 1. accreditation
 - 2. accreditation
 - 3. accraditation
 - 4. acreditation

Question Type : **MCQ**
Question ID : **630680540465**
Option 1 ID : **6306802112944**
Option 2 ID : **6306802112943**
Option 3 ID : **6306802112946**
Option 4 ID : **6306802112945**
Status : **Answered**
Chosen Option : **2**

Q.13 In the following sentence the underlined part contains an error. Alternatives to the underlined part are given as options. Select the correct alternative.
Their chance of winning is slimmest.

- Ans
- 1. slim
 - 2. slimly
 - 3. slimmer
 - 4. most slim

Question Type : **MCQ**
Question ID : **630680514723**
Option 1 ID : **6306802011518**
Option 2 ID : **6306802011520**
Option 3 ID : **6306802011517**
Option 4 ID : **6306802011519**
Status : **Answered**
Chosen Option : **4**

Q.14 Select the grammatically correct sentence from the given options.

- Ans
- 1. She was not allowed to enter the hotel as her clothes were dirty.
 - 2. She was not allow to enter the hotel as her clothes were dirty.
 - 3. She was not allowed to enter the hotel as her clothes were dirtier.
 - 4. She was not allowed to enter the hotel as her clothes was dirtier.

Question Type : **MCQ**
Question ID : **630680514695**
Option 1 ID : **6306802011407**
Option 2 ID : **6306802011408**
Option 3 ID : **6306802011406**
Option 4 ID : **6306802011405**
Status : **Answered**
Chosen Option : **4**

Q.15 In the following sentence the underlined part contains an error. Alternatives to the underlined part are given as options. Select the correct alternative.
Pankaj is a better cook.

- Ans
- 1. more good
 - 2. best
 - 3. good
 - 4. goodest

Question Type : **MCQ**
Question ID : **630680514713**
Option 1 ID : **6306802011479**
Option 2 ID : **6306802011477**
Option 3 ID : **6306802011478**
Option 4 ID : **6306802011480**
Status : **Answered**
Chosen Option : **2**

Q.16 Read the following sentence and select its future tense form from the options given below:
Rachel and Rahul joined forces on a project and successfully completed it within a month.

- Ans
- 1. Rachel and Rahul should join forces on a project and successfully complete it within a month.
 - 2. Rachel and Rahul are joining forces on a project and successfully completing it within a month.
 - 3. Rachel and Rahul have joined forces on a project and successfully completed it within a month.
 - 4. Rachel and Rahul will join forces on a project and successfully complete it within a month.

Question Type : **MCQ**
Question ID : **6306801106300**
Option 1 ID : **6306804345633**
Option 2 ID : **6306804345632**
Option 3 ID : **6306804345631**
Option 4 ID : **6306804345630**
Status : **Answered**
Chosen Option : **4**

Q.17 Select the **INCORRECTLY** spelt word from the given sentence.

The teacher's encouragement motivated the students to excel in their studies.

- Ans
- 1. Teacher's
 - 2. Motivated
 - 3. Encouragment
 - 4. Excel

Question Type : **MCQ**
Question ID : **630680615860**
Option 1 ID : **6306802410106**
Option 2 ID : **6306802410108**
Option 3 ID : **6306802410107**
Option 4 ID : **6306802410109**
Status : **Answered**
Chosen Option : **1**

Q.18 The following sentence has been split into four segments. Identify the segment that contains a grammatical error.

I still / do not understand / why he did not / reply my email.

Ans 1. reply my email

2. I still

3. do not understand

4. why he did not

Question Type : **MCQ**

Question ID : **63068068994**

Option 1 ID : **630680266669**

Option 2 ID : **630680266666**

Option 3 ID : **630680266667**

Option 4 ID : **630680266668**

Status : **Answered**

Chosen Option : **3**

Q.19 Select the most appropriate idiom that can substitute the highlighted text in the given sentence.

The minister was in partnership with the queen in poisoning the King.

Ans 1. in cahoots

2. run amok

3. in the blues

4. at one's beck and call

Question Type : **MCQ**

Question ID : **630680454123**

Option 1 ID : **6306801773427**

Option 2 ID : **6306801773430**

Option 3 ID : **6306801773429**

Option 4 ID : **6306801773428**

Status : **Answered**

Chosen Option : **3**

Q.20 Select the most appropriate option to fill in the blanks.

The teacher asked the students to remain ____, but the noise continued to _____. She finally had to raise her voice to gain control.

Ans 1. silent; ascend

2. calm; escalate

3. quit; rise

4. still; elevate

Question Type : **MCQ**

Question ID : **6306801031664**

Option 1 ID : **6306804049365**

Option 2 ID : **6306804049366**

Option 3 ID : **6306804049368**

Option 4 ID : **6306804049367**

Status : **Answered**

Chosen Option : **4**

Comprehension:

In the following passage, some words have been deleted. Read the passage carefully and select the most appropriate option to fill in each blank.

Employers, nowadays, are (1)_____ on team-building as it proves to be useful in being more productive. So, they create occasions for the employees to spend time together. Some employees are sick (2)_____ office festival parties with mandatory dress codes and fun competitions. Some others (3)_____ of having to forcibly bond with colleagues during after-work happy hours when they would rather be at home. A French court (4)_____ recently that one very much has the right to be boring at the workplace. Seven years after Mr. T was fired from his company for not participating in fun activities, which included going out for drinks after work once a week, the court said that Mr. T was merely exercising his 'freedom of expression'. It added that the company's culture of fun (5)_____ Mr. T 's fundamental right to 'dignity and respect of private life'. However, employers and HR personnel insist that team-bonding initiatives are crucial to the workplace and the employees too feel the same if they want promotions.

SubQuestion No : 21

Q.21 Select the most appropriate option to fill in blank number 1.

- Ans
- 1. has focused
 - 2. focus
 - 3. focuses
 - 4. focusing

Question Type : **MCQ**

Question ID : **630680206305**

Option 1 ID : **630680800005**

Option 2 ID : **630680800004**

Option 3 ID : **630680800003**

Option 4 ID : **630680800006**

Status : **Answered**

Chosen Option : **4**

Comprehension:

In the following passage, some words have been deleted. Read the passage carefully and select the most appropriate option to fill in each blank.

Employers, nowadays, are (1)_____ on team-building as it proves to be useful in being more productive. So, they create occasions for the employees to spend time together. Some employees are sick (2)_____ office festival parties with mandatory dress codes and fun competitions. Some others (3)_____ of having to forcibly bond with colleagues during after-work happy hours when they would rather be at home. A French court (4)_____ recently that one very much has the right to be boring at the workplace. Seven years after Mr. T was fired from his company for not participating in fun activities, which included going out for drinks after work once a week, the court said that Mr. T was merely exercising his 'freedom of expression'. It added that the company's culture of fun (5)_____ Mr. T 's fundamental right to 'dignity and respect of private life'. However, employers and HR personnel insist that team-bonding initiatives are crucial to the workplace and the employees too feel the same if they want promotions.

SubQuestion No : 22

Q.22 Select the most appropriate option to fill in blank number 2.

- Ans 1. for
 2. of
 3. with
 4. from

Question Type : **MCQ**

Question ID : **630680206306**

Option 1 ID : **630680800009**

Option 2 ID : **630680800007**

Option 3 ID : **630680800008**

Option 4 ID : **630680800010**

Status : **Answered**

Chosen Option : **2**

Comprehension:

In the following passage, some words have been deleted. Read the passage carefully and select the most appropriate option to fill in each blank.

Employers, nowadays, are (1)_____ on team-building as it proves to be useful in being more productive. So, they create occasions for the employees to spend time together. Some employees are sick (2)_____ office festival parties with mandatory dress codes and fun competitions. Some others (3)_____ of having to forcibly bond with colleagues during after-work happy hours when they would rather be at home. A French court (4)_____ recently that one very much has the right to be boring at the workplace. Seven years after Mr. T was fired from his company for not participating in fun activities, which included going out for drinks after work once a week, the court said that Mr. T was merely exercising his 'freedom of expression'. It added that the company's culture of fun (5)_____ Mr. T 's fundamental right to 'dignity and respect of private life'. However, employers and HR personnel insist that team-bonding initiatives are crucial to the workplace and the employees too feel the same if they want promotions.

SubQuestion No : 23

Q.23 Select the most appropriate option to fill in blank number 3.

- Ans
- 1. has tired
 - 2. tired
 - 3. have tired
 - 4. are tired

Question Type : **MCQ**

Question ID : **630680206307**

Option 1 ID : **630680800014**

Option 2 ID : **630680800011**

Option 3 ID : **630680800013**

Option 4 ID : **630680800012**

Status : **Answered**

Chosen Option : **4**

Comprehension:

In the following passage, some words have been deleted. Read the passage carefully and select the most appropriate option to fill in each blank.

Employers, nowadays, are (1)_____ on team-building as it proves to be useful in being more productive. So, they create occasions for the employees to spend time together. Some employees are sick (2)_____ office festival parties with mandatory dress codes and fun competitions. Some others (3)_____ of having to forcibly bond with colleagues during after-work happy hours when they would rather be at home. A French court (4)_____ recently that one very much has the right to be boring at the workplace. Seven years after Mr. T was fired from his company for not participating in fun activities, which included going out for drinks after work once a week, the court said that Mr. T was merely exercising his 'freedom of expression'. It added that the company's culture of fun (5)_____ Mr. T 's fundamental right to 'dignity and respect of private life'. However, employers and HR personnel insist that team-bonding initiatives are crucial to the workplace and the employees too feel the same if they want promotions.

SubQuestion No : 24

Q.24 Select the most appropriate option to fill in blank number 4.

- Ans 1. is ruled
 2. has ruled
 3. have ruled
 4. was ruled

Question Type : **MCQ**

Question ID : **630680206308**

Option 1 ID : **630680800017**

Option 2 ID : **630680800016**

Option 3 ID : **630680800015**

Option 4 ID : **630680800018**

Status : **Answered**

Chosen Option : **1**

Comprehension:

In the following passage, some words have been deleted. Read the passage carefully and select the most appropriate option to fill in each blank.

Employers, nowadays, are (1)_____ on team-building as it proves to be useful in being more productive. So, they create occasions for the employees to spend time together. Some employees are sick (2)_____ office festival parties with mandatory dress codes and fun competitions. Some others (3)_____ of having to forcibly bond with colleagues during after-work happy hours when they would rather be at home. A French court (4)_____ recently that one very much has the right to be boring at the workplace. Seven years after Mr. T was fired from his company for not participating in fun activities, which included going out for drinks after work once a week, the court said that Mr. T was merely exercising his 'freedom of expression'. It added that the company's culture of fun (5)_____ Mr. T 's fundamental right to 'dignity and respect of private life'. However, employers and HR personnel insist that team-bonding initiatives are crucial to the workplace and the employees too feel the same if they want promotions.

SubQuestion No : 25

Q.25 Select the most appropriate option to fill in blank number 5.

- Ans
- 1. is violated
 - 2. violate
 - 3. violated
 - 4. will violate

Question Type : MCQ

Question ID : 630680206309

Option 1 ID : 630680800022

Option 2 ID : 630680800019

Option 3 ID : 630680800020

Option 4 ID : 630680800021

Status : Answered

Chosen Option : 4