

## Multi Tasking Non Technical Staff and Havaladar CBIC and CBN Examination 2024

Roll Number	
Candidate Name	
Venue Name	Ikon Digital
Exam Date	13/11/2024
Exam Time	9:00 AM - 11:00 AM
Subject	MTS Non Tech Havaladar CBIC and CBN Examination 2024

### Section : Numerical and Mathematical Ability

Q.1 सस्िडी वाली कैटीन के एक दुकानदार ने 4 kg चावल का एक पैकेट बनाने के लिए 4 : 1 : 3 के अनुपात में चावल की तीन किस्मों, X, Y और Z को मिलाया। X, Y और Z किस्मों के चावल का प्रति kg क्रय मूल्य क्रमशः ₹2, ₹4 और ₹6 हैं। चावल के पैकेट का क्रय मूल्य (₹ में) क्या होगा?

- Ans
- 1. 30
  - 2. 10
  - 3. 15
  - 4. 18

Question Type : MCQ

Question ID : 630680262319

Option 1 ID : 6306801018916

Option 2 ID : 6306801018917

Option 3 ID : 6306801018915

Option 4 ID : 6306801018918

Status : Answered

Chosen Option : 3

Q.2 क्रमशः 310 m और 340 m लंबाई वाली दो ट्रेनें एक-दूसरे से 285 m की दूरी पर हैं। वे क्रमशः 151 km/h और 155 km/h की चाल से समानांतर पटरियों पर एक-दूसरे की ओर बढ़ना शुरू करती हैं। दोनों ट्रेनें एक-दूसरे को कितने समय में पूरी तरह से पार कर लेंगी?

- Ans
- 1. 13 s
  - 2. 10 s
  - 3. 11 s
  - 4. 12 s

Question Type : MCQ

Question ID : 630680135270

Option 1 ID : 630680523845

Option 2 ID : 630680523842

Option 3 ID : 630680523843

Option 4 ID : 630680523844

Status : Answered

Chosen Option : 3

Q.3 7 संख्याओं का औसत 55 है। यदि पहली 4 संख्याएँ 48, 62, 135 और 74 हैं, तो शेष संख्याओं का औसत क्या होगा?

- Ans
- 1. 25
  - 2. 31
  - 3. 22
  - 4. 19

Question Type : MCQ  
Question ID : 630680460269  
Option 1 ID : 6306801797523  
Option 2 ID : 6306801797522  
Option 3 ID : 6306801797525  
Option 4 ID : 6306801797524  
Status : Answered  
Chosen Option : 3

Q.4 2 वर्षों के लिए 7% वार्षिक की ब्याज दर पर उधार ली गई राशि ₹2500 पर साधारण ब्याज (₹ में) ज्ञात कीजिए।

- Ans
- 1. 290
  - 2. 310
  - 3. 350
  - 4. 390

Question Type : MCQ  
Question ID : 630680591908  
Option 1 ID : 6306802316101  
Option 2 ID : 6306802316102  
Option 3 ID : 6306802316099  
Option 4 ID : 6306802316100  
Status : Answered  
Chosen Option : 3

Q.5 किसी गोलाकार धातु की गेंद को एक शंकु धारक बेलन की आकृति में इस प्रकार पिघलाया जाता है कि शंकु का आधार, बेलन के शीर्ष आधार को पूरी तरह से ढक लेता (overlaps) है। बेलन और गोले, प्रत्येक का व्यास 4.2 m है। यदि बेलन की ऊंचाई 1.4 m है, तो शंकु की ऊंचाई (m में) कितनी होगी?

- Ans
- 1. 0.7
  - 2. 1.4
  - 3. 2.1
  - 4. 4.2

Question Type : MCQ  
Question ID : 630680382134  
Option 1 ID : 6306801489454  
Option 2 ID : 6306801489453  
Option 3 ID : 6306801489452  
Option 4 ID : 6306801489451  
Status : Answered  
Chosen Option : 4

Q.6 पंकज ने ₹1,500 से ₹3,000 तक की प्राइस-रेंज (price range) वाली एक घड़ी खरीदी जो ₹2,500 से ₹3,500 तक की प्राइस-रेंज में बेची गई। यदि पंकज ऐसी 10 घड़ियाँ बेचता है, तो लेन-देन से उसे अधिकतम संभव लाभ (₹ में) \_\_\_\_\_ होगा।

- Ans
- 1. 19,000
  - 2. 21,765
  - 3. 23,854
  - 4. 20,000

Question Type : MCQ

Question ID : 630680456633

Option 1 ID : 6306801783497

Option 2 ID : 6306801783495

Option 3 ID : 6306801783498

Option 4 ID : 6306801783496

Status : Answered

Chosen Option : 4

Q.7 6 बच्चों का औसत भार 1.5 kg बढ़ जाता है जब उनमें से एक के स्थान पर 12 kg भार वाला एक नया बच्चा आ जाता है। नए बच्चे का भार क्या है?

- Ans
- 1. 22 kg
  - 2. 21 kg
  - 3. 14.5 kg
  - 4. 14 kg

Question Type : MCQ

Question ID : 630680447478

Option 1 ID : 6306801747166

Option 2 ID : 6306801747165

Option 3 ID : 6306801747168

Option 4 ID : 6306801747167

Status : Answered

Chosen Option : 2

Q.8 दी गई तालिका मई 2023 महीने के आँकड़ों को दर्शाती है।

कंपनी	कर्मचारियों की कुल संख्या	महिला कर्मचारियों की संख्या
E	22,456	10,230
F	25,320	11,256
G	21,250	10,985
H	23,548	12,320

कंपनी G और H में मिलाकर महिला कर्मचारियों की कुल संख्या, कंपनी F में कर्मचारियों की कुल संख्या का कितना प्रतिशत (दो दशमलव स्थानों तक पूर्णांकित) है?

Ans  1. 92.04%

2. 85.36%

3. 82.07%

4. 90.25%

Question Type : MCQ

Question ID : 630680523769

Option 1 ID : 6306802047227

Option 2 ID : 6306802047229

Option 3 ID : 6306802047230

Option 4 ID : 6306802047228

Status : Answered

Chosen Option : 4

Q.9 100 km/h की चाल से चलने वाली 250 मीटर लंबी रेलगाड़ी विपरीत दिशा से 62 km/h की चाल से आ रही दूसरी रेलगाड़ी को 10 सेकंड में पार करती है। दूसरी रेलगाड़ी की लंबाई कितनी है?

Ans  1. 270 मीटर

2. 230 मीटर

3. 240 मीटर

4. 200 मीटर

Question Type : MCQ

Question ID : 630680287424

Option 1 ID : 6306801117605

Option 2 ID : 6306801117603

Option 3 ID : 6306801117606

Option 4 ID : 6306801117604

Status : Answered

Chosen Option : 4

Q.10 वसुधा ने अपनी वस्तुओं को उत्पादन लागत से 18% अधिक पर बेचने का दावा किया, लेकिन उसने तौलने के लिए एक ऐसे बाट का उपयोग किया जिस पर 1 kg लिखा था, लेकिन वास्तव में इसका भार  $y$  ग्राम था। यदि वसुधा द्वारा अर्जित वास्तविक लाभ प्रतिशत  $33\frac{1}{3}\%$  था, तो  $y$  का मान ज्ञात करें।

- Ans
- 1. 880
  - 2. 890
  - 3. 895
  - 4. 885

Question Type : MCQ

Question ID : 630680381272

Option 1 ID : 6306801486040

Option 2 ID : 6306801486041

Option 3 ID : 6306801486039

Option 4 ID : 6306801486042

Status : Answered

Chosen Option : 1

Q.11 यदि कंपनी में कार्यरत कर्मचारियों की संख्या में 20% की वृद्धि होती है और प्रति व्यक्ति वेतन में 20% की कमी होती है, तो कुल वेतन में प्रतिशत परिवर्तन ज्ञात कीजिए।

- Ans
- 1. 4% की कमी
  - 2. 4% की वृद्धि
  - 3. 20% की कमी
  - 4. 20% की वृद्धि

Question Type : MCQ

Question ID : 630680815845

Option 1 ID : 6306803196714

Option 2 ID : 6306803196713

Option 3 ID : 6306803196716

Option 4 ID : 6306803196715

Status : Answered

Chosen Option : 1

Q.12 10 विद्यार्थियों के एक समूह की औसत ऊँचाई 172 cm है। 178 cm और 165 cm ऊँचाई वाले दो और विद्यार्थी समूह में शामिल हो जाते हैं और 160 cm औसत ऊँचाई वाले 3 विद्यार्थी समूह छोड़ देते हैं। परिवर्तनों के बाद समूह की नई औसत ऊँचाई (cm में, 1 दशमलव स्थान तक पूर्णांकित) क्या है?

Ans  1. 175.9

2. 169.7

3. 170.5

4. 174.6

Question Type : MCQ

Question ID : 630680417435

Option 1 ID : 6306801628502

Option 2 ID : 6306801628500

Option 3 ID : 6306801628501

Option 4 ID : 6306801628499

Status : Answered

Chosen Option : 1

Q.13 एक लंब वृत्तीय ठोस धात्विक शंकु की ऊँचाई 7.2 cm है और इसके आधार की त्रिज्या 3.5 cm है। इसे पिघलाकर दो लंब वृत्तीय ठोस धात्विक शंकु बनाए जाते हैं, जो सभी रूपों में समान हैं। नए बने शंकुओं में से प्रत्येक के आधार की त्रिज्या 2.1 cm और ऊँचाई 'h' है। 'h' का मान (cm में) क्या है?

Ans  1. 12

2. 10

3. 21

4. 14

Question Type : MCQ

Question ID : 630680526558

Option 1 ID : 6306802058299

Option 2 ID : 6306802058301

Option 3 ID : 6306802058300

Option 4 ID : 6306802058298

Status : Answered

Chosen Option : 2

Q.14 यदि एक शंकाकार बर्तन की ऊँचाई 12 cm और त्रिज्या 6 cm है, तो शंकाकार बर्तन का आयतन कितना है?

Ans  1.  $234 \pi \text{ cm}^3$

2.  $144 \pi \text{ cm}^3$

3.  $254 \pi \text{ cm}^3$

4.  $154 \pi \text{ cm}^3$

Question Type : MCQ

Question ID : 630680108620

Option 1 ID : 630680421426

Option 2 ID : 630680421424

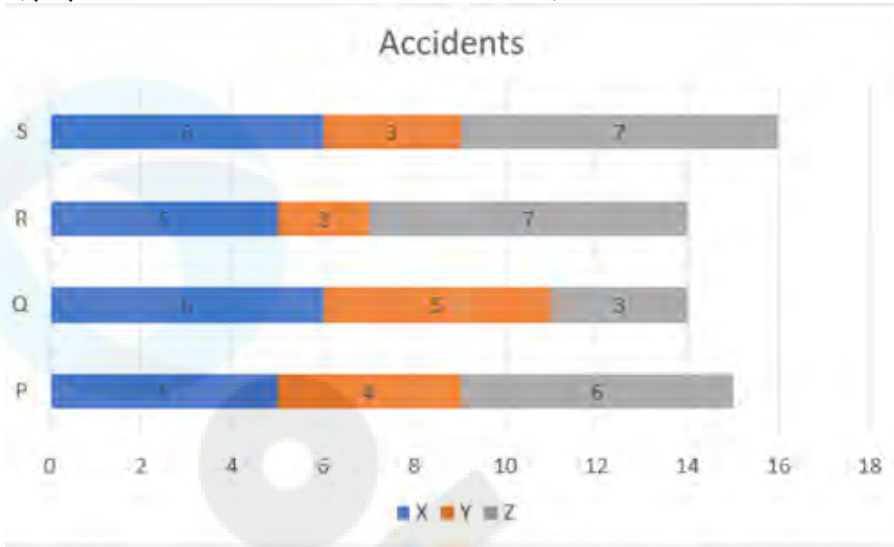
Option 3 ID : 630680421427

Option 4 ID : 630680421425

Status : Answered

Chosen Option : 2

Q.15 दिया गया ग्राफ चार शहरों P, Q, R और S में तीन प्रकार के वाहनों: X, Y और Z द्वारा दुर्घटनाओं की संख्या का डेटा दिखाता है।  
दिए गए ग्राफ का अध्ययन करें और निम्नलिखित प्रश्न का उत्तर दें।



संदर्भ: Accidents = दुर्घटनाएं

सभी प्रकार के वाहनों द्वारा दुर्घटनाओं की कुल संख्या के अनुसार शहरों का सही बढ़ता क्रम क्या है?

- Ans
- 1. S, R, Q, P
  - 2. R, Q, P, S
  - 3. R, P, Q, S
  - 4. S, R, P, Q

Question Type : MCQ

Question ID : 630680523785

Option 1 ID : 6306802047291

Option 2 ID : 6306802047293

Option 3 ID : 6306802047292

Option 4 ID : 6306802047294

Status : Answered

Chosen Option : 2

Q.16 4 वर्षों के लिए 7% वार्षिक की ब्याज दर पर उधार ली गई राशि ₹2500 पर साधारण ब्याज (₹ में) ज्ञात कीजिए।

- Ans
- 1. 660
  - 2. 640
  - 3. 740
  - 4. 700

Question Type : MCQ

Question ID : 630680591910

Option 1 ID : 6306802316110

Option 2 ID : 6306802316109

Option 3 ID : 6306802316108

Option 4 ID : 6306802316107

Status : Answered

Chosen Option : 4

Q.17 एक खुदरा विक्रेता ₹48,000 अंकित मूल्य वाले मोबाइल फोन की बिक्री पर 25% की छूट की घोषणा करता है। मोबाइल फोन का क्रय मूल्य उसके अंकित मूल्य से 45% कम है। यदि खरीदार अपना पुराना मोबाइल फोन लौटाता है तो वह 7.5% की और छूट देता है। पुराने मोबाइल फोन लौटाने की योजना के साथ और पुराना मोबाइल फोन लौटाने की योजना के बिना खुदरा विक्रेता को होने वाले क्रमशः प्रतिशत लाभ का अनुपात ज्ञात करें।

Ans  1. 23:32

2. 12: 11

3. 32:23

4. 11: 12

Question Type : MCQ

Question ID : 630680120549

Option 1 ID : 630680467227

Option 2 ID : 630680467229

Option 3 ID : 630680467226

Option 4 ID : 630680467228

Status : Answered

Chosen Option : 3

Q.18 यदि  $a = 2^2 \times 3^4 \times 5 \times 7^3$ ,  $b = 2^3 \times 3^4 \times 5^2 \times 7^4$  और  $c = 2^4 \times 3^2 \times 5^4 \times 7$  है, तो a, b और c का एचसीएफ (HCF) क्या होगा?

Ans  1. 1260

2. 630

3. 1575

4. 180

Question Type : MCQ

Question ID : 630680103699

Option 1 ID : 630680403029

Option 2 ID : 630680403028

Option 3 ID : 630680403030

Option 4 ID : 630680403027

Status : Answered

Chosen Option : 1

Q.19 वह संख्या ज्ञात कीजिए, जिसे 11 : 29 के अनुपात के पदों में जोड़ा जाना चाहिए ताकि यह 11 : 20 के बराबर हो जाए।

Ans  1. 12

2. 10

3. 11

4. 9

Question Type : MCQ

Question ID : 630680217293

Option 1 ID : 630680843110

Option 2 ID : 630680843108

Option 3 ID : 630680843109

Option 4 ID : 630680843107

Status : Answered

Chosen Option : 4

Q.20 साधारण ब्याज की एक निश्चित दर पर ₹12,000 की राशि 7 वर्षों में दोगुनी हो जाती है। समान ब्याज दर पर राशि को ₹60,000 होने में लगने वाला समय (वर्ष में) ज्ञात कीजिए।

Ans  1. 25

2. 28

3. 20

4. 30

Question Type : MCQ

Question ID : 630680423973

Option 1 ID : 6306801654233

Option 2 ID : 6306801654232

Option 3 ID : 6306801654234

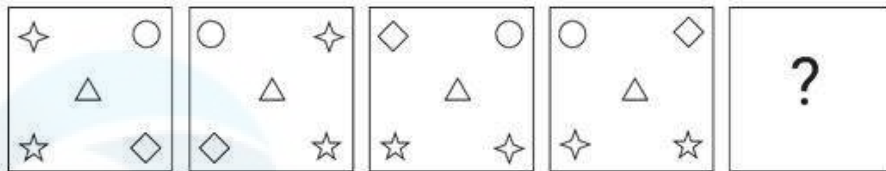
Option 4 ID : 6306801654231

Status : Answered

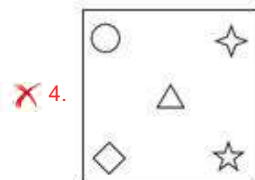
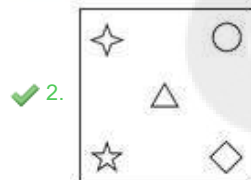
Chosen Option : 2

Section : Reasoning Ability and Problem Solving

Q.1 दिए गए विकल्पों में से उस आकृति का चयन कीजिए, जिसे प्रश्न-चिह्न (?) के स्थान पर रखने पर श्रृंखला तार्किक रूप से पूर्ण हो जाएगी।



Ans



Question Type : MCQ

Question ID : 630680278576

Option 1 ID : 6306801082589

Option 2 ID : 6306801082592

Option 3 ID : 6306801082590

Option 4 ID : 6306801082591

Status : Answered

Chosen Option : 2

Q.2 इस प्रश्न में दो कथन और उनके बाद दो निष्कर्ष I और II दिए गए हैं। आपको दिए गए कथनों को सत्य मानना है, भले ही वे सर्वज्ञात तथ्यों से भिन्न प्रतीत होते हों। आपको यह तय करना है कि दिए गए निष्कर्षों में से कौन-सा/से निष्कर्ष दिए गए कथनों का तार्किक रूप से अनुसरण करता है/करते हैं।

कथन:

सभी तीर, तलवारें हैं।  
कुछ तलवारें, ड्रेगन हैं।

निष्कर्ष:

(I) कुछ तलवारें, तीर हैं।  
(II) कुछ ड्रेगन, तलवारें नहीं हैं।

- Ans  1. केवल निष्कर्ष (I) अनुसरण करता है
2. निष्कर्ष (I) और (II) दोनों अनुसरण करते हैं
3. केवल निष्कर्ष (II) अनुसरण करता है
4. न तो निष्कर्ष (I) और न ही (II) अनुसरण करता है

Question Type : MCQ

Question ID : 630680106424

Option 1 ID : 630680413482

Option 2 ID : 630680413485

Option 3 ID : 630680413483

Option 4 ID : 630680413484

Status : Answered

Chosen Option : 1

Q.3 A, B, C, D, E, F और G एक वृत्ताकार मेज के चारों ओर केंद्र की ओर मुख करके बैठे हैं (परंतु जरूरी नहीं कि वे इसी क्रम में बैठे हों)। G, उस F के बाएँ से दूसरे स्थान पर बैठा है, जो D के बाएँ से तीसरे स्थान पर बैठा है। C, उस B के दाएँ से तीसरे स्थान पर बैठा है, जो E का निकटतम पड़ोसी नहीं है। A, B के दाएँ से दूसरे स्थान पर बैठा है। E के ठीक दाएँ कौन बैठा है?

- Ans  1. G
2. A
3. B
4. D

Question Type : MCQ

Question ID : 630680382174

Option 1 ID : 6306801489611

Option 2 ID : 6306801489613

Option 3 ID : 6306801489614

Option 4 ID : 6306801489612

Status : Answered

Chosen Option : 1

Q.4 निम्नलिखित में से कौन-सा समीकरण चिह्नों '+' और 'x' तथा संख्याओं '4' और '5' को आपस में बदलने पर सही होगा?

Ans  1.  $20 + 5 \times 4 = 85$

2.  $5 + 15 \times 4 = 50$

3.  $10 \times 4 + 5 = 60$

4.  $5 \times 4 + 10 = 40$

Question Type : **MCQ**

Question ID : **630680379166**

Option 1 ID : **6306801477713**

Option 2 ID : **6306801477714**

Option 3 ID : **6306801477711**

Option 4 ID : **6306801477712**

Status : **Answered**

Chosen Option : **1**

Q.5 दिए गए विकल्पों में से उस आकृति को चुनिए जो निम्नलिखित श्रृंखला में प्रश्न चिह्न (?) के स्थान पर आ सकती है और पैटर्न को पूरा कर सकती है।

K	↑	↑	△	I	K	K	D					
D	I	N	I	N	D	↑	△	6	△	6	↑	?
6	△	K	6	N	D	I	N					

Ans

✗ 1.

6		K
I	D	N
△		↑

✗ 2.

N		↑
I	K	D
△		6

✗ 3.

↑		I
K	D	N
6		△

✓ 4.

△		I
K	D	N
6		↑

Question Type : MCQ

Question ID : 630680441073

Option 1 ID : 6306801721949

Option 2 ID : 6306801721947

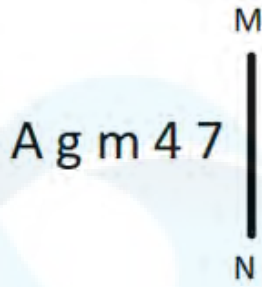
Option 3 ID : 6306801721946

Option 4 ID : 6306801721948

Status : Answered

Chosen Option : 4

Q.6 दी गई आकृति के उस सही दर्पण प्रतिबिंब को चुनिए, जो नीचे दर्शाए गए अनुसार दर्पण को MN पर रखने पर बनेगा।



Ans

✓ 1.  $\nabla \text{ } \text{A} \text{ } \text{m} \text{ } \text{g} \text{ } \text{A}$

✗ 2.  $\nabla \text{ } \text{t} \text{ } \omega \text{ } \text{g} \text{ } \text{A}$

✗ 3.  $\nabla \text{ } \text{A} \text{ } \text{g} \text{ } \text{m} \text{ } \text{A}$

✗ 4.  $7 \text{ } \text{A} \text{ } \text{m} \text{ } \text{g} \text{ } \text{V}$

Question Type : MCQ

Question ID : 630680525264

Option 1 ID : 6306802053142

Option 2 ID : 6306802053143

Option 3 ID : 6306802053141

Option 4 ID : 6306802053140

Status : Answered

Chosen Option : 1

Q.7 NLRP अंग्रेजी वर्णमाला क्रम के आधार पर एक निश्चित तरीके से USYW से संबंधित है। KIOM उसी तरीके से RPVT से संबंधित है। उसी तर्क का अनुसरण करते हुए GEKI निम्नलिखित में से किससे संबंधित है?

Ans

✗ 1. NLPR

✗ 2. LNRP

✗ 3. LNPR

✓ 4. NLRP

Question Type : MCQ

Question ID : 630680435714

Option 1 ID : 6306801700778

Option 2 ID : 6306801700780

Option 3 ID : 6306801700779

Option 4 ID : 6306801700777

Status : Answered

Chosen Option : 4

Q.8 अंग्रेजी वर्णानुक्रम के आधार पर दी गई श्रृंखला में प्रश्न चिह्न (?) के स्थान पर क्या आना चाहिए?

RJK, PMI, NPG, LSE, ?

- Ans  1. KVD  
 2. JVC  
 3. KVC  
 4. KWC

Question Type : MCQ

Question ID : 630680459273

Option 1 ID : 6306801793948

Option 2 ID : 6306801793946

Option 3 ID : 6306801793945

Option 4 ID : 6306801793947

Status : Answered

Chosen Option : 2

Q.9 एक निश्चित कूट भाषा में, 'MINT' को '9735' के रूप में कूटबद्ध किया जाता है और 'NEAR' को '4568' के रूप में कूटबद्ध किया जाता है। दी गई कूट भाषा में 'N' के लिए कूट क्या है?

- Ans  1. 6  
 2. 4  
 3. 5  
 4. 3

Question Type : MCQ

Question ID : 630680815668

Option 1 ID : 6306803195976

Option 2 ID : 6306803195975

Option 3 ID : 6306803195973

Option 4 ID : 6306803195974

Status : Answered

Chosen Option : 3

Q.10 सात व्यक्ति A, B, C, D, E, F और G एक वृत्ताकार मेज के चारों ओर केंद्र की ओर मुख करके बैठे हैं (परंतु जरूरी नहीं कि वे इसी क्रम में बैठे हों)। E के दायाँ ओर से गिनने पर E और B के बीच में ठीक तीन व्यक्ति बैठे हैं। G और D दोनों F के निकटतम पड़ोसी हैं। C, A के ठीक बायीं ओर बैठा है। D और E एक-दूसरे के बगल में नहीं बैठे हैं। यदि सभी व्यक्तियों को अंग्रेजी वर्णमाला के क्रम में, दक्षिणावर्त दिशा (clockwise direction) में, A से प्रारंभ करते हुए बैठाया जाए, तो A को छोड़कर, कुल कितने व्यक्तियों का स्थान अपरिवर्तित रहेगा?

- Ans  1. 4  
 2. 1  
 3. 2  
 4. 3

Question Type : MCQ

Question ID : 630680387579

Option 1 ID : 6306801511001

Option 2 ID : 6306801510998

Option 3 ID : 6306801510999

Option 4 ID : 6306801511000

Status : Answered

Chosen Option : 2

Q.11 एक निश्चित कूट भाषा में, 'YATCH' को 'RTMVA' के रूप में कूटबद्ध किया जाता है और 'CAT' को 'VTM' के रूप में कूटबद्ध किया जाता है। दी गई कूट भाषा में 'ANAMOLIES' के लिए क्या कूट होगा?

- Ans  1. TGTFGEBXL  
 2. TGSFHEBXL  
 3. TGTFHEBXL  
 4. TGTEHEBXL

Question Type : MCQ

Question ID : 630680465160

Option 1 ID : 6306801816677

Option 2 ID : 6306801816675

Option 3 ID : 6306801816678

Option 4 ID : 6306801816676

Status : Answered

Chosen Option : 4

Q.12 दी गई श्रृंखला में प्रश्नचिन्ह (?) के स्थान पर क्या आएगा?

118 122 130 142 158 ?

- Ans  1. 178  
 2. 182  
 3. 166  
 4. 186

Question Type : MCQ

Question ID : 630680816804

Option 1 ID : 6306803206295

Option 2 ID : 6306803206296

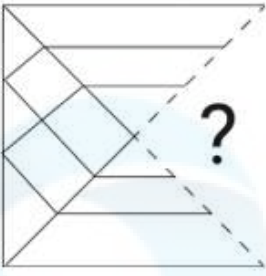
Option 3 ID : 6306803206294

Option 4 ID : 6306803206297

Status : Answered

Chosen Option : 1

Q.13 उस विकल्प आकृति का चयन कीजिए जो पैटर्न को पूरा करने के लिए नीचे दी गई आकृति में प्रश्न चिह्न (?) के स्थान पर आएगी।

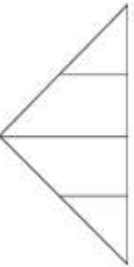


Ans

1.



2.



3.



4.



Question Type : **MCQ**

Question ID : **630680524707**

Option 1 ID : **6306802050929**

Option 2 ID : **6306802050930**

Option 3 ID : **6306802050928**

Option 4 ID : **6306802050927**

Status : **Answered**

Chosen Option : **3**

Q.14 तीन कथन दिए गए हैं, जिसके बाद 1 और 2 क्रमांकित दो निष्कर्ष दिए गए हैं। कथनों को सत्य मानते हुए भले ही वे सर्वथा ज्ञात तथ्यों से भिन्न प्रतीत होते हों, निर्णय लें कि कौन-सा/से निष्कर्ष तार्किक रूप से कथनों का अनुसरण करता/करते है/हैं।

कथन:

कोई डॉक्टर, नर्स नहीं है।

कुछ नर्स, रोगी हैं।

कुछ रोगी, औषधि हैं।

निष्कर्ष:

1. कुछ रोगी, डॉक्टर नहीं हैं।

2. कुछ नर्स, औषधि हैं।

Ans  1. निष्कर्ष 1 और 2 दोनों अनुसरण करते हैं

2. केवल निष्कर्ष 1 अनुसरण करता है

3. केवल निष्कर्ष 2 अनुसरण करता है

4. न तो निष्कर्ष 1 और न ही 2 अनुसरण करता है

Question Type : MCQ

Question ID : 630680519824

Option 1 ID : 6306802031720

Option 2 ID : 6306802031722

Option 3 ID : 6306802031721

Option 4 ID : 6306802031723

Status : Answered

Chosen Option : 4

Q.15 एक निश्चित तर्क का अनुसरण करते हुए 4, 70 से संबंधित है। उसी तर्क का अनुसरण करते हुए, 8, 518 से संबंधित है। उसी तर्क का अनुसरण करते हुए, 6 निम्नलिखित में से किससे संबंधित है?

(ध्यान दें: संख्याओं को उनके घटक अंकों में अलग-अलग किए बिना पूर्ण संख्याओं पर संक्रियाएं की जानी चाहिए। उदाहरण के लिए संख्या 13 - संख्या 13 पर संक्रियाएं जैसे 13 को जोड़ना/घटाना/गुणा करना आदि किया जा सकता है। 13 को 1 और 3 में अलग-अलग करने की और फिर 1 और 3 पर गणितीय संक्रियाएं करने की अनुमति नहीं है।)

Ans  1. 226

2. 222

3. 216

4. 219

Question Type : MCQ

Question ID : 630680446723

Option 1 ID : 6306801744189

Option 2 ID : 6306801744188

Option 3 ID : 6306801744186

Option 4 ID : 6306801744187

Status : Answered

Chosen Option : 2

Q.16 19, एक निश्चित तर्क का अनुसरण करते हुए 39 से संबंधित है। 1, उसी तर्क का अनुसरण करते हुए 3 से संबंधित है। उसी तर्क का अनुसरण करते हुए, 3 निम्नलिखित में से किससे संबंधित है?

(ध्यान दें: संख्याओं को उनके घटक अंकों में अलग-अलग किए बिना पूर्ण संख्याओं पर संक्रियाएं की जानी चाहिए। उदाहरण के लिए संख्या 13 - संख्या 13 पर संक्रियाएं जैसे 13 को जोड़ना/घटाना/गुणा करना आदि किया जा सकता है। 13 को 1 और 3 में अलग-अलग करने की और फिर 1 और 3 पर गणितीय संक्रियाएं करने की अनुमति नहीं है।)

Ans  1. 9

2. 11

3. 7

4. 8

Question Type : MCQ

Question ID : 630680449992

Option 1 ID : 6306801757132

Option 2 ID : 6306801757133

Option 3 ID : 6306801757131

Option 4 ID : 6306801757130

Status : Answered

Chosen Option : 3

Q.17 LO15 किसी निश्चित प्रकार से OR30 से संबंधित है। ठीक उसी प्रकार, SV25, VY50 से संबंधित है। उसी तर्क का अनुसरण करते हुए, TW35 निम्नलिखित में से किससे संबंधित है?

Ans  1. AZ17

2. WZ17

3. WZ70

4. WA70

Question Type : MCQ

Question ID : 6306801108788

Option 1 ID : 6306804355700

Option 2 ID : 6306804355701

Option 3 ID : 6306804355698

Option 4 ID : 6306804355699

Status : Answered

Chosen Option : 3

Q.18 किसी निश्चित कूट भाषा में, 'DAYS' को '3917' के रूप में कूटबद्ध किया जाता है और 'YOLK' को '2496' के रूप में कूटबद्ध किया जाता है। उस भाषा में 'Y' के लिए कूट क्या है?

Ans  1. 1

2. 4

3. 9

4. 2

Question Type : MCQ

Question ID : 630680435788

Option 1 ID : 6306801701066

Option 2 ID : 6306801701068

Option 3 ID : 6306801701065

Option 4 ID : 6306801701067

Status : Answered

Chosen Option : 3

Q.19 एक निश्चित कूट भाषा में, 'FISH' को '6482' के रूप में कूटबद्ध किया जाता है और 'SANE' को '7691' के रूप में कूटबद्ध किया जाता है। इसी कूट भाषा में 'S' के लिए कूट क्या होगा?

Ans  1. 6

2. 9

3. 8

4. 7

Question Type : MCQ

Question ID : 630680435785

Option 1 ID : 6306801701053

Option 2 ID : 6306801701056

Option 3 ID : 6306801701055

Option 4 ID : 6306801701054

Status : Answered

Chosen Option : 1

Q.20 यदि '+' और '-' को आपस में बदल दिया जाए तथा 'x' और '÷' को आपस में बदल दिया जाए, तो निम्नलिखित समीकरण में प्रश्न चिह्न (?) के स्थान पर क्या आएगा?

$$392 \times 7 - 2 \div 12 + 80 = ?$$

Ans  1. 8

2. 0

3. 4

4. 2

Question Type : MCQ

Question ID : 630680401368

Option 1 ID : 6306801565258

Option 2 ID : 6306801565260

Option 3 ID : 6306801565259

Option 4 ID : 6306801565261

Status : Answered

Chosen Option : 2

Section : General Awareness

Q.1 निम्नलिखित में से भारतीय दार्शनिक प्रणाली और इसके व्यापक रूप से अभिस्वीकृत प्रवर्तकों का कौन-सा युग्म गलत है?

Ans  1. वैशेषिक - व्यास

2. योग - पतंजलि

3. न्याय - गौतम

4. पूर्व मीमांसा - जैमिनी

Question Type : MCQ

Question ID : 630680333506

Option 1 ID : 6306801297297

Option 2 ID : 6306801297299

Option 3 ID : 6306801297298

Option 4 ID : 6306801297300

Status : Answered

Chosen Option : 1

Q.2 लोकप्रिय जयपुर-अतरौली घराने के जनक कौन थे?

- Ans
- 1. उस्ताद मुस्ताक अली खान (Ustad Mustaq Ali Khan)
  - 2. उस्ताद अली अकबर खान (Ustad Ali Akbar Khan)
  - 3. उस्ताद अल्लादिया खान (Ustad Alladiya Khan)
  - 4. उस्ताद विलायत खान (Ustad Vilayat Khan)

Question Type : MCQ

Question ID : 630680482014

Option 1 ID : 6306801882572

Option 2 ID : 6306801882573

Option 3 ID : 6306801882574

Option 4 ID : 6306801882571

Status : Answered

Chosen Option : 1

Q.3 भारत में पश्चिमी विक्षोभ लाने वाली जेट प्रवाह (jet stream) कौन-सी है?

- Ans
- 1. पश्चिमी जेट प्रवाह
  - 2. उत्तर ध्रुवीय जेट प्रवाह
  - 3. पूर्वी जेट प्रवाह
  - 4. दक्षिण ध्रुवीय जेट प्रवाह

Question Type : MCQ

Question ID : 630680213973

Option 1 ID : 630680829940

Option 2 ID : 630680829941

Option 3 ID : 630680829939

Option 4 ID : 630680829942

Status : Answered

Chosen Option : 1

Q.4 भूमि (earth) के भीतर टेक्टोनिक प्लेटों की अचानक गति के कारण होने वाले उस कंपन या तरंग को क्या कहा जाता है जो भूमि में और उसके चारों ओर गति कर सकती/सकता है?

- Ans
- 1. प्रोत्थान (Upheaval)
  - 2. भूकंपी तरंग (Seismic Wave)
  - 3. मेन शॉक (Main Shock)
  - 4. पूर्वकंप (Foreshock)

Question Type : MCQ

Question ID : 630680403940

Option 1 ID : 6306801575248

Option 2 ID : 6306801575246

Option 3 ID : 6306801575249

Option 4 ID : 6306801575247

Status : Answered

Chosen Option : 2

Q.5 23 मई, 2023 को भारतीय प्रतिस्पर्धा आयोग में अध्यक्ष का पद किसने ग्रहण किया?

- Ans
- 1. एन.के. सिंह
  - 2. नेहा भाटिया
  - 3. सुभाष चंद्र गर्ग
  - 4. रवनीत कौर

Question Type : MCQ

Question ID : 630680488488

Option 1 ID : 6306801907991

Option 2 ID : 6306801907993

Option 3 ID : 6306801907994

Option 4 ID : 6306801907992

Status : Not Answered

Chosen Option : --

Q.6 0.25 g कार्बनिक यौगिक पूर्ण दहन के पश्चात् 0.20 g CO<sub>2</sub> देता है। कार्बन का प्रतिशत संघटन \_\_\_\_\_ है।

- Ans
- 1. 21.82%
  - 2. 80.00%
  - 3. 4.60%
  - 4. 78.18%

Question Type : MCQ

Question ID : 630680472232

Option 1 ID : 6306801844655

Option 2 ID : 6306801844658

Option 3 ID : 6306801844657

Option 4 ID : 6306801844656

Status : Answered

Chosen Option : 1

Q.7 धर्म की स्वतंत्रता का अधिकार भारत के संविधान के किन अनुच्छेदों के अंतर्गत आता है?

- Ans
- 1. अनुच्छेद 21-24
  - 2. अनुच्छेद 29-32
  - 3. अनुच्छेद 25-28
  - 4. अनुच्छेद 24-27

Question Type : MCQ

Question ID : 630680218778

Option 1 ID : 630680849011

Option 2 ID : 630680849014

Option 3 ID : 630680849013

Option 4 ID : 630680849012

Status : Answered

Chosen Option : 3

Q.8 भारत सरकार ने राष्ट्रीय खाद्य सुरक्षा अधिनियम (National Food Security Act - NFSA) को किस वर्ष अधिनियमित किया था?

Ans  1. 2005

2. 2013

3. 2008

4. 2001

Question Type : MCQ

Question ID : 630680477656

Option 1 ID : 6306801865774

Option 2 ID : 6306801865772

Option 3 ID : 6306801865773

Option 4 ID : 6306801865775

Status : Answered

Chosen Option : 2

Q.9 उस स्थान का नाम बताइए, जहाँ पश्चिम मध्य रेलवे जोन (West Central Railway Zone) का मुख्यालय स्थित है।

Ans  1. जबलपुर

2. जोधपुर

3. जयपुर

4. भोपाल

Question Type : MCQ

Question ID : 630680209266

Option 1 ID : 630680811282

Option 2 ID : 630680811279

Option 3 ID : 630680811280

Option 4 ID : 630680811281

Status : Answered

Chosen Option : 1

Q.10 सैम पित्रोदा (Sam Pitroda) की आत्मकथा \_\_\_\_\_ है।

Ans  1. ड्रीमिंग बिग: माई जर्नी टू कनेक्ट इंडिया (Dreaming Big: My Journey to Connect India)

2. इन द आफ्टरनून ऑफ टाइम (In the afternoon of time)

3. बियॉड द लाइन्स (Beyond the lines)

4. द सब्सटेंस एंड द शैडो (The Substance and The Shadow)

Question Type : MCQ

Question ID : 630680409423

Option 1 ID : 6306801596522

Option 2 ID : 6306801596523

Option 3 ID : 6306801596524

Option 4 ID : 6306801596521

Status : Not Answered

Chosen Option : --

Q.11 जुलाई 2023 तक, भारत सरकार के खाद्य प्रसंस्करण उद्योग मंत्रालय द्वारा प्रदत्त जानकारी के अनुसार 'एक जिला, एक उत्पाद' (One District, One Product) योजना के तहत कितने उत्पाद अधिसूचित किए गए?

- Ans
- 1. 132
  - 2. 135
  - 3. 125
  - 4. 137

Question Type : MCQ

Question ID : 630680481205

Option 1 ID : 6306801879389

Option 2 ID : 6306801879390

Option 3 ID : 6306801879388

Option 4 ID : 6306801879391

Status : Answered

Chosen Option : 4

Q.12 भारतीय जनगणना 2011 के अनुसार, भारत के राज्यों के किस युग्म में सबसे अधिक जनसंख्या घनत्व (व्यक्ति/ km<sup>2</sup>) दर्ज किया गया था?

- Ans
- 1. उत्तर प्रदेश और हरियाणा
  - 2. बिहार और पश्चिम बंगाल
  - 3. बिहार और केरल
  - 4. पश्चिम बंगाल और उत्तर प्रदेश

Question Type : MCQ

Question ID : 630680511238

Option 1 ID : 6306801998082

Option 2 ID : 6306801998085

Option 3 ID : 6306801998084

Option 4 ID : 6306801998083

Status : Answered

Chosen Option : 2

Q.13 राष्ट्रीय शास्त्रीय नृत्य संस्थान (National Institute of Classical Dance) द्वारा 2021 अभिनंदन सरोजा राष्ट्रीय पुरस्कार की प्राप्तकर्ता अपर्णा सतीसन (Aparna Satheesan), \_\_\_\_\_ और कुचिपुड़ी की प्रतिपादक हैं।

- Ans
- 1. मणिपुरी
  - 2. भरतनाट्यम
  - 3. कथक
  - 4. मोहिनीअट्टम

Question Type : MCQ

Question ID : 630680216041

Option 1 ID : 630680838139

Option 2 ID : 630680838140

Option 3 ID : 630680838141

Option 4 ID : 630680838142

Status : Answered

Chosen Option : 2

Q.14 IBA महिला विश्व मुक्केबाजी चैंपियनशिप (IBA Women's World Boxing Championships) 2023 भारत में कहाँ आयोजित की गई थी?

- Ans  1. नई दिल्ली  
 2. कोलकाता  
 3. बेंगलुरु  
 4. मुंबई

Question Type : MCQ

Question ID : 630680563508

Option 1 ID : 6306802202988

Option 2 ID : 6306802202987

Option 3 ID : 6306802202985

Option 4 ID : 6306802202986

Status : Answered

Chosen Option : 1

Q.15 राइफल (निशानेबाजी के खेल में) \_\_\_\_\_ मिलीमीटर कैलिबर (बंदूक के बैरल का आंतरिक व्यास) की, एक ही बार में लोड की जाने वाली (single-loaded) बंदूक होती है, जिसका उपयोग सभी स्पर्धाओं में किया जाता है।

- Ans  1. 5.1  
 2. 4.5  
 3. 4.8  
 4. 5.6

Question Type : MCQ

Question ID : 630680459606

Option 1 ID : 6306801795272

Option 2 ID : 6306801795269

Option 3 ID : 6306801795271

Option 4 ID : 6306801795270

Status : Not Answered

Chosen Option : --

Q.16 निम्नलिखित में से किस समझौते के कारण महात्मा गांधी ने दूसरे गोलमेज सम्मेलन में भाग लिया?

- Ans  1. पेरिस की संधि  
 2. गांधी इरविन समझौता  
 3. लखनऊ समझौता  
 4. पूना पैक्ट

Question Type : MCQ

Question ID : 630680198460

Option 1 ID : 630680769799

Option 2 ID : 630680769802

Option 3 ID : 630680769801

Option 4 ID : 630680769800

Status : Answered

Chosen Option : 2

Q.17 सार्वजनिक वस्तुओं (goods) के संबंध में निम्नलिखित में से कौन सा/से कथन सत्य है/हैं?

- I. खपत में प्रतिद्वंद्विता
- II. गैर-बहिष्कृतता
- III. धनात्मक सीमांत लागत

- Ans
- 1. केवल I
  - 2. केवल II
  - 3. केवल I और III
  - 4. केवल II और III

Question Type : MCQ

Question ID : 630680512424

Option 1 ID : 6306802002666

Option 2 ID : 6306802002667

Option 3 ID : 6306802002668

Option 4 ID : 6306802002669

Status : Answered

Chosen Option : 3

Q.18 निम्नलिखित में से किस राष्ट्रकूट शासक ने 'हिरण्य गर्भ (Hiranya Garbha)' नामक समारोह किया था?

- Ans
- 1. कृष्ण प्रथम
  - 2. गोविन्द तृतीय
  - 3. ध्रुव प्रथम
  - 4. दंतिदुर्ग

Question Type : MCQ

Question ID : 630680322650

Option 1 ID : 6306801255242

Option 2 ID : 6306801255244

Option 3 ID : 6306801255243

Option 4 ID : 6306801255241

Status : Not Answered

Chosen Option : --

Q.19 हड़प्पा सभ्यता में इमारतों के निर्माण में किस सामग्री का उपयोग नहीं किया जाता था?

- Ans
- 1. पकी हुई ईंटें
  - 2. लोहा
  - 3. लकड़ी
  - 4. जिप्सम मोर्टार

Question Type : MCQ

Question ID : 630680572221

Option 1 ID : 6306802237745

Option 2 ID : 6306802237747

Option 3 ID : 6306802237746

Option 4 ID : 6306802237744

Status : Answered

Chosen Option : 2

Q.20 लोकसभा में मत बराबर होने की स्थिति में निर्णायक मत का प्रयोग कौन कर सकता है?

- Ans
- 1. प्रधानमंत्री
  - 2. उपराष्ट्रपति
  - 3. राष्ट्रपति
  - 4. लोकसभा अध्यक्ष

Question Type : MCQ

Question ID : 630680511447

Option 1 ID : 6306801998918

Option 2 ID : 6306801998921

Option 3 ID : 6306801998920

Option 4 ID : 6306801998919

Status : Answered

Chosen Option : 4

Q.21 झारखंड, ओडिशा और पश्चिम बंगाल क्षेत्र के निम्नलिखित लोक नृत्यों में से कौन-सा मानवता की अमूर्त सांस्कृतिक विरासत की प्रतिनिधि सूची में है?

- Ans
- 1. दादरा
  - 2. छऊ
  - 3. कर्म नाच
  - 4. कुम्मी

Question Type : MCQ

Question ID : 630680309147

Option 1 ID : 6306801202766

Option 2 ID : 6306801202768

Option 3 ID : 6306801202765

Option 4 ID : 6306801202767

Status : Answered

Chosen Option : 2

Q.22 'भारत छोड़ो आंदोलन' \_\_\_\_\_ के नेतृत्व में शुरू हुआ था।

- Ans
- 1. मुहम्मद अली जिन्ना
  - 2. जवाहरलाल नेहरू
  - 3. महात्मा गाँधी
  - 4. सुभाष चंद्र बोस

Question Type : MCQ

Question ID : 630680682880

Option 1 ID : 6306802674264

Option 2 ID : 6306802674265

Option 3 ID : 6306802674263

Option 4 ID : 6306802674266

Status : Answered

Chosen Option : 3

Q.23 पृथ्वी पर अधिकांश पारिस्थितिक तंत्रों के लिए ऊर्जा का प्राथमिक स्रोत क्या है?

- Ans
- 1. ज्वारीय ऊर्जा (Tidal energy)
  - 2. पवन (Wind)
  - 3. सूर्य का प्रकाश (Sunlight)
  - 4. भूतापीय ऊष्मा (Geothermal heat)

Question Type : MCQ

Question ID : 630680540563

Option 1 ID : 6306802113330

Option 2 ID : 6306802113327

Option 3 ID : 6306802113329

Option 4 ID : 6306802113328

Status : Answered

Chosen Option : 3

Q.24 एक छोटा बच्चा खाना खाने में बहुत नखरे करता है और उसे दूध पीना तथा दूध से बने उत्पाद बिलकुल भी पसंद नहीं। जब उसके दूध के दाँत गिरने लगते हैं, तो उनके स्थान पर स्थायी दाँत आने में बहुत लंबा समय लगता है। इसके पीछे संभावित कारण क्या हो सकता है?

- Ans
- 1. शर्करा की कमी
  - 2. विटामिन की कमी
  - 3. कैल्शियम की कमी
  - 4. प्रोटीन की कमी

Question Type : MCQ

Question ID : 630680544252

Option 1 ID : 6306802127788

Option 2 ID : 6306802127787

Option 3 ID : 6306802127789

Option 4 ID : 6306802127786

Status : Answered

Chosen Option : 3

Q.25 निम्नलिखित में से किस तारीख को ब्रिटिश साम्राज्य ने भारत में संविधान सभा को अपनी शक्तियाँ हस्तांतरित की थी?

- Ans
- 1. 2 अक्टूबर
  - 2. 26 जनवरी
  - 3. 14 नवंबर
  - 4. 15 अगस्त

Question Type : MCQ

Question ID : 630680403357

Option 1 ID : 6306801572940

Option 2 ID : 6306801572938

Option 3 ID : 6306801572941

Option 4 ID : 6306801572939

Status : Answered

Chosen Option : 2

**Q.1** Select the option that can be used as a one-word substitute for the underlined word.  
"He was notorious for his avaricious behavior, always seeking ways to accumulate more wealth."

Ans  1. greedy

2. sloth

3. generous

4. notorious

Question Type : **MCQ**

Question ID : **630680415848**

Option 1 ID : **6306801622159**

Option 2 ID : **6306801622160**

Option 3 ID : **6306801622162**

Option 4 ID : **6306801622161**

Status : **Answered**

Chosen Option : 1

**Q.2** Select the most appropriate option to fill in the blank.

She is \_\_\_\_\_ of spiders.

Ans  1. fear

2. afraid

3. frightening

4. interest

Question Type : **MCQ**

Question ID : **630680490350**

Option 1 ID : **6306801915315**

Option 2 ID : **6306801915318**

Option 3 ID : **6306801915316**

Option 4 ID : **6306801915317**

Status : **Answered**

Chosen Option : 2

**Q.3** Parts of the following sentence have been given as options. Select the option that contains an error.

Dr. Oppenheimer is the exceptional movie of all the movies in recent times.

Ans  1. of all the movies

2. the exceptional movie

3. in recent times

4. Dr. Oppenheimer is

Question Type : **MCQ**

Question ID : **630680514369**

Option 1 ID : **6306802010103**

Option 2 ID : **6306802010102**

Option 3 ID : **6306802010104**

Option 4 ID : **6306802010101**

Status : **Answered**

Chosen Option : 3

**Q.4 Select the grammatically correct sentence from the given options.**

- Ans**  1. A salesman insisted that the payment against an purchase should be done by using the bank card.
2. The salesman insisted that the payment against the purchase should be done by using a bank card.
3. A salesman insisted that a payment against a purchase should be done by using a bank card.
4. The salesman insisted that a payment against the purchase should be done by using an bank card.

Question Type : **MCQ**  
Question ID : **63068060829**  
Option 1 ID : **630680234768**  
Option 2 ID : **630680234769**  
Option 3 ID : **630680234766**  
Option 4 ID : **630680234767**  
Status : **Answered**  
Chosen Option : **2**

**Q.5 Select the most appropriate meaning of the given idiom.**

**Dig up dirt**

- Ans**  1. Find and disclose evidence
2. Hide and protect vital evidence
3. Enquire about a missing person
4. To uncover negative information about someone or something.

Question Type : **MCQ**  
Question ID : **630680726504**  
Option 1 ID : **6306802847023**  
Option 2 ID : **6306802847022**  
Option 3 ID : **6306802847024**  
Option 4 ID : **6306802847025**  
Status : **Answered**  
Chosen Option : **2**

**Q.6 Select the most appropriate option to fill in the blank.**

Following weeks of intense training, the athlete \_\_\_\_\_ in the championship.

- Ans**  1. competed
2. were competing
3. have been competing
4. have competed

Question Type : **MCQ**  
Question ID : **630680597073**  
Option 1 ID : **6306802336334**  
Option 2 ID : **6306802336335**  
Option 3 ID : **6306802336336**  
Option 4 ID : **6306802336333**  
Status : **Answered**  
Chosen Option : **3**

Q.7 Select the most appropriate homophone to fill in the blank. While learning to drive, Shivani met with an accident because she couldn't hit the \_\_\_\_\_.

- Ans
- 1. brick
  - 2. brack
  - 3. brake
  - 4. break

Question Type : **MCQ**  
Question ID : **630680508263**  
Option 1 ID : **6306801986349**  
Option 2 ID : **6306801986352**  
Option 3 ID : **6306801986351**  
Option 4 ID : **6306801986350**  
Status : **Answered**  
Chosen Option : **3**

Q.8 The following sentence has been split into four segments. Identify the segment that contains a grammatical error.

The residents of Rameswaram / about the 1940s were quite / orthodox, but were also / tolerant of other communities.

- Ans
- 1. about the 1940s were quite
  - 2. tolerant of other communities
  - 3. orthodox, but were also
  - 4. The residents of Rameswaram

Question Type : **MCQ**  
Question ID : **630680514396**  
Option 1 ID : **6306802010210**  
Option 2 ID : **6306802010212**  
Option 3 ID : **6306802010211**  
Option 4 ID : **6306802010209**  
Status : **Answered**  
Chosen Option : **2**

Q.9 Select the most appropriate option to fill in the blank.

The cat likes to \_\_\_\_\_ in the sun during the afternoon.

- Ans
- 1. lay
  - 2. lei
  - 3. lye
  - 4. lie

Question Type : **MCQ**  
Question ID : **630680435716**  
Option 1 ID : **6306801700787**  
Option 2 ID : **6306801700788**  
Option 3 ID : **6306801700785**  
Option 4 ID : **6306801700786**  
Status : **Answered**  
Chosen Option : **1**

Q.10 निम्नलिखित वाक्य को भागों में विभाजित किया गया है। उनमें से एक में त्रुटि है। दिए गए विकल्पों में से उस भाग का चयन कीजिए जिसमें त्रुटि है।

After months of / meticulous planning and hard work, / a team successfully launched / their innovative product to the market.

- Ans  1. meticulous planning and hard work,  
 2. a team successfully launched  
 3. their innovative product to the market.  
 4. After months of

Question Type : MCQ  
Question ID : 630680413384  
Option 1 ID : 6306801612357  
Option 2 ID : 6306801612358  
Option 3 ID : 6306801612359  
Option 4 ID : 6306801612356  
Status : Answered  
Chosen Option : 3

Q.11 Select the option that is OPPOSITE in meaning to the underlined word in the given sentence.

The state played only a modest part in the outstanding advancement of modern morality.

- Ans  1. Moderate  
 2. Humble  
 3. Unimpressive  
 4. Boastful

Question Type : MCQ  
Question ID : 630680555194  
Option 1 ID : 6306802170233  
Option 2 ID : 6306802170235  
Option 3 ID : 6306802170234  
Option 4 ID : 6306802170232  
Status : Answered  
Chosen Option : 4

Q.12 Select the most appropriate option to fill in the blank.

The philanthropist's \_\_\_\_\_ donations significantly improved the quality of life in the community.

- Ans  1. redundant  
 2. meagre  
 3. parsimonious  
 4. substantial

Question Type : MCQ  
Question ID : 630680598081  
Option 1 ID : 6306802340136  
Option 2 ID : 6306802340134  
Option 3 ID : 6306802340137  
Option 4 ID : 6306802340135  
Status : Answered  
Chosen Option : 4

**Q.13** Select the most appropriate option to fill in the blank.  
We are planning to see an \_\_\_\_\_ perform a symphony.

- Ans  1. actor  
 2. orchestra  
 3. opera  
 4. actress

Question Type : **MCQ**  
Question ID : **630680515310**  
Option 1 ID : **6306802013689**  
Option 2 ID : **6306802013691**  
Option 3 ID : **6306802013692**  
Option 4 ID : **6306802013690**  
Status : **Answered**  
Chosen Option : **2**

**Q.14** Select the most appropriate ANTONYM of the given word.  
Cacophony

- Ans  1. Dissonance  
 2. Discord  
 3. Harmony  
 4. Noise

Question Type : **MCQ**  
Question ID : **630680545689**  
Option 1 ID : **6306802133346**  
Option 2 ID : **6306802133345**  
Option 3 ID : **6306802133344**  
Option 4 ID : **6306802133347**  
Status : **Answered**  
Chosen Option : **3**

**Q.15** Select the grammatically correct sentence from the given options.

These are the works of a great poet Tagore.

- Ans  1. These are the works of an great poet Tagore.  
 2. These are the works of this great poet Tagore.  
 3. These are the works of the great poet Tagore.  
 4. These are the works of that great poet Tagore.

Question Type : **MCQ**  
Question ID : **63068060267**  
Option 1 ID : **630680232622**  
Option 2 ID : **630680232623**  
Option 3 ID : **630680232625**  
Option 4 ID : **630680232624**  
Status : **Answered**  
Chosen Option : **3**

Q.16 Select the correct spelling of the incorrectly spelt word in the given sentence.

She is an independant writer.

- Ans  1. Independant  
 2. Independent  
 3. Independant  
 4. Indipendant

Question Type : MCQ

Question ID : 630680619763

Option 1 ID : 6306802425185

Option 2 ID : 6306802425188

Option 3 ID : 6306802425187

Option 4 ID : 6306802425186

Status : Answered

Chosen Option : 1

Q.17 Select the INCORRECTLY spelt word.

- Ans  1. Tremendous  
 2. Fabulous  
 3. Obedence  
 4. Aggravate

Question Type : MCQ

Question ID : 630680455427

Option 1 ID : 6306801778624

Option 2 ID : 6306801778625

Option 3 ID : 6306801778622

Option 4 ID : 6306801778623

Status : Answered

Chosen Option : 3

Q.18 Select the INCORRECTLY spelt word..

- Ans  1. Faithfull  
 2. Joyful  
 3. Lovable  
 4. Peaceful

Question Type : MCQ

Question ID : 630680539878

Option 1 ID : 6306802110613

Option 2 ID : 6306802110612

Option 3 ID : 6306802110614

Option 4 ID : 6306802110615

Status : Answered

Chosen Option : 3

Q.19 Select the option that best expresses the meaning of the given idiom.

When pigs fly

- Ans
- 1. In unity
  - 2. In due course of time
  - 3. Correct approach
  - 4. Just impossible

Question Type : **MCQ**

Question ID : **630680436116**

Option 1 ID : **6306801702408**

Option 2 ID : **6306801702407**

Option 3 ID : **6306801702406**

Option 4 ID : **6306801702405**

Status : **Answered**

Chosen Option : **2**

Q.20 Select the most appropriate option to fill in the blank.

The movie was so boring that I fell \_\_\_\_\_.

- Ans
- 1. asleep
  - 2. slept
  - 3. sleep
  - 4. sleeping

Question Type : **MCQ**

Question ID : **630680490351**

Option 1 ID : **6306801915322**

Option 2 ID : **6306801915320**

Option 3 ID : **6306801915319**

Option 4 ID : **6306801915321**

Status : **Answered**

Chosen Option : **1**

**Comprehension:**

In the following passage, some words have been deleted. Read the passage carefully and select the most appropriate option to fill in each blank.

In terms of technical difficulty, Nanga Parbat, the world's ninth (1)\_\_\_\_\_ peak, competes with K2. The first (2)\_\_\_\_\_ to the summit follows a narrow ridge. The 15,000-foot Rupal Face, a single wall of rock and ice, is located on the mountain's southern side. Climbers have dubbed the Nanga Parbat, which (3)\_\_\_\_\_ as 'naked mountain', 'Killer Mountain'. This gives Annapurna a (4)\_\_\_\_\_ of 32%, making it the most statistically dangerous of the world's 8,000-metre peaks. It is an avalanche-prone area with some technical difficulty. Climbers' misery is (5)\_\_\_\_\_ by insufficient local support, in addition to unpredictable weather and inaccessibility.

**SubQuestion No : 21**

**Q.21 Select the most appropriate option to fill in blank number 1.**

- Ans
- 1. deepest
  - 2. lengthiest
  - 3. highest
  - 4. fattest

Question Type : **MCQ**

Question ID : **630680130734**

Option 1 ID : **630680506228**

Option 2 ID : **630680506229**

Option 3 ID : **630680506226**

Option 4 ID : **630680506227**

Status : **Answered**

Chosen Option : **3**

**Comprehension:**

In the following passage, some words have been deleted. Read the passage carefully and select the most appropriate option to fill in each blank.

In terms of technical difficulty, Nanga Parbat, the world's ninth (1)\_\_\_\_\_ peak, competes with K2. The first (2)\_\_\_\_\_ to the summit follows a narrow ridge. The 15,000-foot Rupal Face, a single wall of rock and ice, is located on the mountain's southern side. Climbers have dubbed the Nanga Parbat, which (3)\_\_\_\_\_ as 'naked mountain', 'Killer Mountain'. This gives Annapurna a (4)\_\_\_\_\_ of 32%, making it the most statistically dangerous of the world's 8,000-metre peaks. It is an avalanche-prone area with some technical difficulty. Climbers' misery is (5)\_\_\_\_\_ by insufficient local support, in addition to unpredictable weather and inaccessibility.

**SubQuestion No : 22**

**Q.22 Select the most appropriate option to fill in blank number 2.**

- Ans
- 1. rise
  - 2. launch
  - 3. lift
  - 4. ascent

Question Type : **MCQ**

Question ID : **630680130735**

Option 1 ID : **630680506232**

Option 2 ID : **630680506231**

Option 3 ID : **630680506230**

Option 4 ID : **630680506233**

Status : **Answered**

Chosen Option : **1**

**Comprehension:**

In the following passage, some words have been deleted. Read the passage carefully and select the most appropriate option to fill in each blank.

In terms of technical difficulty, Nanga Parbat, the world's ninth (1)\_\_\_\_\_ peak, competes with K2. The first (2)\_\_\_\_\_ to the summit follows a narrow ridge. The 15,000-foot Rupal Face, a single wall of rock and ice, is located on the mountain's southern side. Climbers have dubbed the Nanga Parbat, which (3)\_\_\_\_\_ as 'naked mountain', 'Killer Mountain'. This gives Annapurna a (4)\_\_\_\_\_ of 32%, making it the most statistically dangerous of the world's 8,000-metre peaks. It is an avalanche-prone area with some technical difficulty. Climbers' misery is (5)\_\_\_\_\_ by insufficient local support, in addition to unpredictable weather and inaccessibility.

**SubQuestion No : 23****Q.23 Select the most appropriate option to fill in blank number 3.**

- Ans  1. transposed  
 2. transliterates  
 3. transcribes  
 4. translates

Question Type : **MCQ**Question ID : **630680130736**Option 1 ID : **630680506234**Option 2 ID : **630680506237**Option 3 ID : **630680506235**Option 4 ID : **630680506236**Status : **Answered**Chosen Option : **1****Comprehension:**

In the following passage, some words have been deleted. Read the passage carefully and select the most appropriate option to fill in each blank.

In terms of technical difficulty, Nanga Parbat, the world's ninth (1)\_\_\_\_\_ peak, competes with K2. The first (2)\_\_\_\_\_ to the summit follows a narrow ridge. The 15,000-foot Rupal Face, a single wall of rock and ice, is located on the mountain's southern side. Climbers have dubbed the Nanga Parbat, which (3)\_\_\_\_\_ as 'naked mountain', 'Killer Mountain'. This gives Annapurna a (4)\_\_\_\_\_ of 32%, making it the most statistically dangerous of the world's 8,000-metre peaks. It is an avalanche-prone area with some technical difficulty. Climbers' misery is (5)\_\_\_\_\_ by insufficient local support, in addition to unpredictable weather and inaccessibility.

**SubQuestion No : 24****Q.24 Select the most appropriate option to fill in blank number 4.**

- Ans  1. frailty rate  
 2. fatality rate  
 3. economic rate  
 4. mortal rate

Question Type : **MCQ**Question ID : **630680130737**Option 1 ID : **630680506238**Option 2 ID : **630680506239**Option 3 ID : **630680506240**Option 4 ID : **630680506241**Status : **Answered**Chosen Option : **2**

**Comprehension:**

In the following passage, some words have been deleted. Read the passage carefully and select the most appropriate option to fill in each blank.

In terms of technical difficulty, Nanga Parbat, the world's ninth (1)\_\_\_\_\_ peak, competes with K2. The first (2)\_\_\_\_\_ to the summit follows a narrow ridge. The 15,000-foot Rupal Face, a single wall of rock and ice, is located on the mountain's southern side. Climbers have dubbed the Nanga Parbat, which (3)\_\_\_\_\_ as 'naked mountain', 'Killer Mountain'. This gives Annapurna a (4)\_\_\_\_\_ of 32%, making it the most statistically dangerous of the world's 8,000-metre peaks. It is an avalanche-prone area with some technical difficulty. Climbers' misery is (5)\_\_\_\_\_ by insufficient local support, in addition to unpredictable weather and inaccessibility.

**SubQuestion No : 25**

**Q.25 Select the most appropriate option to fill in blank number 5.**

**Ans** ✓ 1. exacerbated

✗ 2. worst

✗ 3. increasingly

✗ 4. perfectly

Question Type : **MCQ**

Question ID : **630680130738**

Option 1 ID : **630680506244**

Option 2 ID : **630680506245**

Option 3 ID : **630680506242**

Option 4 ID : **630680506243**

Status : **Answered**

Chosen Option : **1**