

## Multi Tasking Non Technical Staff and Havaladar CBIC and CBN Examination 2024

Roll Number	
Candidate Name	
Venue Name	Global Digital Zone
Exam Date	13/11/2024
Exam Time	12:30 PM - 2:30 PM
Subject	MTS Non Tech Havaladar CBIC and CBN Examination 2024

### Section : Numerical and Mathematical Ability

Q.1 40 kg, 49 kg, 56 kg, 71 kg और 35 kg वजन के पांच सदस्यों वाले परिवार का औसत वजन (kg में) ज्ञात कीजिए।

- Ans  1. 49.2  
 2. 50.2  
 3. 52.2  
 4. 51.2

Question Type : MCQ

Question ID : 630680551659

Option 1 ID : 6306802156863

Option 2 ID : 6306802156861

Option 3 ID : 6306802156864

Option 4 ID : 6306802156862

Status : Answered

Chosen Option : 2

Q.2 एक वृत्त की त्रिज्या एक वर्ग की भुजा के बराबर है। वर्ग और वृत्त के परिमापों (perimeters) का अनुपात 7 : 11 है, तो क्षेत्रफलों का अनुपात \_\_\_\_\_ होगा। ( $\pi = 22/7$  का प्रयोग करें)

- Ans  1. 22 : 7  
 2. 7 : 22  
 3. 22 : 14  
 4. 14 : 22

Question Type : MCQ

Question ID : 63068070806

Option 1 ID : 630680273841

Option 2 ID : 630680273838

Option 3 ID : 630680273840

Option 4 ID : 630680273839

Status : Answered

Chosen Option : 4

Q.3 7 महीने की अवधि के लिए  $8\frac{1}{3}\%$  की वार्षिक दर से ₹36,000 पर साधारण ब्याज की गणना कीजिए।

- Ans
- 1. ₹1,800
  - 2. ₹1,700
  - 3. ₹1,750
  - 4. ₹1,850

Question Type : MCQ

Question ID : 630680426366

Option 1 ID : 6306801663563

Option 2 ID : 6306801663561

Option 3 ID : 6306801663562

Option 4 ID : 6306801663564

Status : Answered

Chosen Option : 3

Q.4 दो ट्रेनें एक ही समय में आगरा और मेरठ से रवाना होती हैं और क्रमशः 16 km/h और 32 km/h की चाल से एक-दूसरे की ओर बढ़ती हैं। जब वे मिलती हैं, तो यह पाया जाता है कि एक ट्रेन ने दूसरी की तुलना में 64 km अधिक दूरी तय की है। दोनों स्टेशनों के बीच की दूरी कितनी है?

- Ans
- 1. 192km
  - 2. 176km
  - 3. 156km
  - 4. 208km

Question Type : MCQ

Question ID : 630680101826

Option 1 ID : 630680395666

Option 2 ID : 630680395665

Option 3 ID : 630680395667

Option 4 ID : 630680395664

Status : Answered

Chosen Option : 1

Q.5 एक निश्चित शॉपिंग साइट ने नए साल की बिक्री के दौरान पर्स पर 20% और 30% की क्रमिक छूटें प्रदान कीं। ग्राहक द्वारा प्राप्त वास्तविक छूट कितनी है?

- Ans
- 1. 44%
  - 2. 41%
  - 3. 47%
  - 4. 39%

Question Type : MCQ

Question ID : 630680464482

Option 1 ID : 6306801813963

Option 2 ID : 6306801813965

Option 3 ID : 6306801813964

Option 4 ID : 6306801813966

Status : Answered

Chosen Option : 1

Q.6 एक दुकानदार अपनी एक चौथाई वस्तुओं को 12% की हानि पर, शेष वस्तुओं के एक तिहाई को 44% के लाभ पर और शेष को 7% की हानि पर बेचता है। उसका कुल लाभ/हानि प्रतिशत कितना है?

- Ans
- 1. 2% लाभ
  - 2. 4.5% हानि
  - 3. 4.5% लाभ
  - 4. 2% हानि

Question Type : MCQ  
Question ID : 630680135755  
Option 1 ID : 630680525739  
Option 2 ID : 630680525738  
Option 3 ID : 630680525741  
Option 4 ID : 630680525740  
Status : Answered  
Chosen Option : 1

Q.7 अदिति ने अपना स्कूटर ₹53585 में बेचा, जिससे उसे विक्रय मूल्य के  $\frac{1}{5}$  भाग के बराबर लाभ प्राप्त हुआ। लाभ प्रतिशत ज्ञात कीजिए।

- Ans
- 1. 40%
  - 2. 15%
  - 3. 25%
  - 4. 35%

Question Type : MCQ  
Question ID : 630680931103  
Option 1 ID : 6306803649219  
Option 2 ID : 6306803649221  
Option 3 ID : 6306803649218  
Option 4 ID : 6306803649220  
Status : Answered  
Chosen Option : 2

Q.8 एक अर्धगोले के आकार वाले कटोरे का आंतरिक और बाह्य व्यास क्रमशः 26.6 cm और 28 cm है। ₹3.75/ cm<sup>2</sup> की दर से, इसे पूरी तरह से पेंट करने की लागत (₹ में, निकटतम रुपये तक) क्या होगी?

(मानिए  $\pi = \frac{22}{7}$ )

- Ans
- 1. 9,380
  - 2. 9,015
  - 3. 8,950
  - 4. 9,000

Question Type : MCQ  
Question ID : 630680387992  
Option 1 ID : 6306801512583  
Option 2 ID : 6306801512585  
Option 3 ID : 6306801512584  
Option 4 ID : 6306801512582  
Status : Answered  
Chosen Option : 3

Q.9 दो संख्याओं का अनुपात 15 : 26 है। यदि संख्याओं के बीच का अंतर 352 है, तो सबसे छोटी संख्या ज्ञात कीजिए।

- Ans  1. 238  
 2. 840  
 3. 832  
 4. 480

Question Type : MCQ

Question ID : 630680493243

Option 1 ID : 6306801926720

Option 2 ID : 6306801926722

Option 3 ID : 6306801926721

Option 4 ID : 6306801926719

Status : Not Attempted and Marked For Review

Chosen Option : --

Q.10 एक दुकानदार ₹88/kg, ₹72/kg और ₹62/kg मूल्य वाली तीन प्रकार की दालों को 5 : 2 : 3 के अनुपात में मिलाता है। प्रति kg मिश्रण का औसत मूल्य (₹ में) ज्ञात कीजिए।

- Ans  1. 97  
 2. 84  
 3. 89  
 4. 77

Question Type : MCQ

Question ID : 630680402502

Option 1 ID : 6306801569570

Option 2 ID : 6306801569568

Option 3 ID : 6306801569569

Option 4 ID : 6306801569567

Status : Answered

Chosen Option : 4

Q.11 वह अधिकतम संभव लंबाई ज्ञात कीजिए जिसका उपयोग 2 m 25 cm, 2 m 70 cm, 3 m 15 cm लंबाई को यथार्थतः मापने के लिए किया जा सके।

- Ans  1. 45 cm  
 2. 15 cm  
 3. 25 cm  
 4. 35 cm

Question Type : MCQ

Question ID : 630680108117

Option 1 ID : 630680419545

Option 2 ID : 630680419544

Option 3 ID : 630680419546

Option 4 ID : 630680419547

Status : Answered

Chosen Option : 3

Q.12 नीचे दी गई तालिका में वर्ष 2002 से 2005 के दौरान एक विश्वविद्यालय में उच्च शिक्षा के लिए वास्तुकला, कंप्यूटर विज्ञान और शुद्ध विज्ञान पाठ्यक्रमों में दाखिला लेने वाले विद्यार्थियों की संख्या दर्शाई गई है।

वर्ष/ विद्यार्थियों की संख्या	वास्तुकला पाठ्यक्रम में विद्यार्थियों की संख्या	कंप्यूटर विज्ञान पाठ्यक्रम में विद्यार्थियों की संख्या	शुद्ध विज्ञान पाठ्यक्रम में विद्यार्थियों की संख्या
2002	370	450	300
2003	650	600	550
2004	800	980	1020
2005	450	990	1400

किस पाठ्यक्रम में और किस वर्ष विश्वविद्यालय में पिछले वर्ष दाखिला लेने वाले विद्यार्थियों की संख्या की तुलना में कम विद्यार्थियों द्वारा दाखिला लिया गया?

- Ans
- 1. शुद्ध विज्ञान पाठ्यक्रम, 2003
  - 2. वास्तुकला पाठ्यक्रम, 2004
  - 3. वास्तुकला पाठ्यक्रम, 2005
  - 4. कंप्यूटर विज्ञान पाठ्यक्रम, 2004

Question Type : MCQ

Question ID : 630680523730

Option 1 ID : 6306802047072

Option 2 ID : 6306802047073

Option 3 ID : 6306802047074

Option 4 ID : 6306802047071

Status : Answered

Chosen Option : 3

Q.13 40 kg, 49 kg, 56 kg, 71 kg और 36 kg वजन के पांच सदस्यों वाले परिवार का औसत वजन (kg में) ज्ञात कीजिए।

- Ans
- 1. 50.4
  - 2. 51.4
  - 3. 49.4
  - 4. 52.4

Question Type : MCQ

Question ID : 630680551660

Option 1 ID : 6306802156865

Option 2 ID : 6306802156866

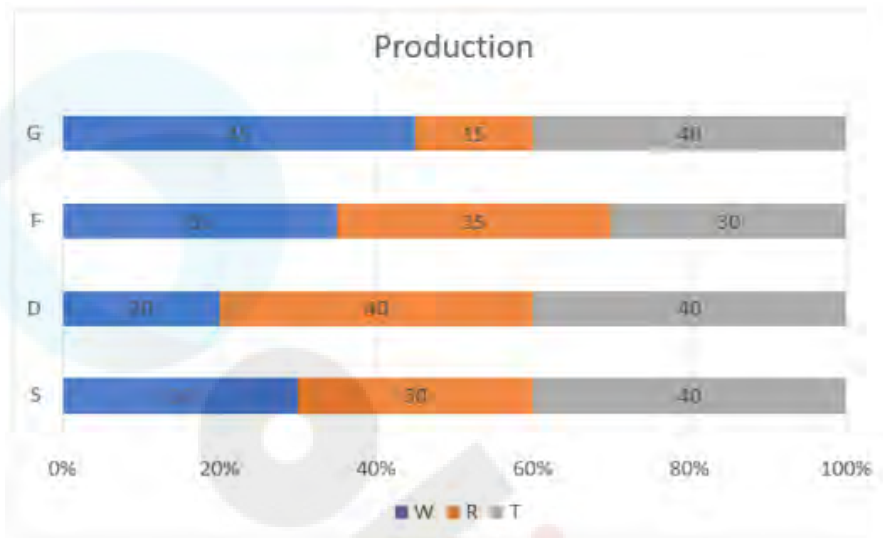
Option 3 ID : 6306802156867

Option 4 ID : 6306802156868

Status : Answered

Chosen Option : 1

Q.14 दिए गए ग्राफ का अध्ययन करें और उसके बाद पूछे जाने वाले प्रश्न का उत्तर दें।  
ग्राफ चार कंपनियों: S, D, F और G द्वारा W, R और T वस्तुओं के उत्पादन के आँकड़े उनके कुल उत्पादन के प्रतिशत के रूप में प्रदर्शित करता है।



संदर्भ: Production – उत्पादन

यदि F और S का कुल उत्पादन क्रमशः 2000 और 3000 हैं, तो इन कंपनियों द्वारा उत्पाद R के उत्पादन में कितना अंतर है?

- Ans
- 1. 150
  - 2. 200
  - 3. 100
  - 4. 250

Question Type : MCQ

Question ID : 630680523797

Option 1 ID : 6306802047341

Option 2 ID : 6306802047339

Option 3 ID : 6306802047340

Option 4 ID : 6306802047342

Status : Answered

Chosen Option : 2

Q.15 12 cm त्रिज्या वाले एक ठोस धातु के गोले को ₹7/cm<sup>2</sup> की दर से रंगने का व्यय (₹ में) ज्ञात करें ( $\pi = \frac{22}{7}$  का उपयोग करें)।

- Ans
- 1. 12689
  - 2. 12672
  - 3. 11368
  - 4. 11889

Question Type : MCQ

Question ID : 630680395102

Option 1 ID : 6306801540679

Option 2 ID : 6306801540678

Option 3 ID : 6306801540676

Option 4 ID : 6306801540677

Status : Answered

Chosen Option : 2

Q.16 4 वर्षों के लिए 6% वार्षिक की ब्याज दर पर उधार ली गई राशि ₹2000 पर साधारण ब्याज (₹ में) ज्ञात कीजिए।

Ans  1. 480

2. 520

3. 440

4. 420

Question Type : MCQ

Question ID : 630680591870

Option 1 ID : 6306802315947

Option 2 ID : 6306802315948

Option 3 ID : 6306802315950

Option 4 ID : 6306802315949

Status : Answered

Chosen Option : 1

Q.17 अबू ने एक फेस्टिवल सेल के दौरान एक ऑनलाइन डिजाइनर पोर्टल से एक ड्रेस खरीदी, जिसका अंकित मूल्य ₹9,600 था। उसे 15% फेस्टिवल छूट और चेकआउट पर 10% की अतिरिक्त छूट मिलती है क्योंकि यह साइट से उसका पहला ऑर्डर है। उसने ड्रेस के लिए वास्तव में कितना भुगतान किया?

Ans  1. ₹7,554

2. ₹7,934

3. ₹8,160

4. ₹7,344

Question Type : MCQ

Question ID : 630680815837

Option 1 ID : 6306803196683

Option 2 ID : 6306803196682

Option 3 ID : 6306803196681

Option 4 ID : 6306803196684

Status : Answered

Chosen Option : 3

Q.18 किस राशि (₹ में) पर 4% प्रति वर्ष की ब्याज दर से 4 वर्षों में ₹240 का साधारण ब्याज अर्जित होगा?

Ans  1. 1500

2. 2000

3. 750

4. 3000

Question Type : MCQ

Question ID : 630680612176

Option 1 ID : 6306802395436

Option 2 ID : 6306802395439

Option 3 ID : 6306802395437

Option 4 ID : 6306802395438

Status : Answered

Chosen Option : 1

Q.19 एक कक्षा में 28 लड़कों की औसत आयु 16 वर्ष है और 26 लड़कियों की औसत आयु 15 वर्ष है। पूरी कक्षा की लगभग औसत आयु (वर्ष में) ज्ञात कीजिए।

- Ans
- 1.  $15\frac{1}{2}$
  - 2.  $14\frac{1}{2}$
  - 3. 15
  - 4.  $14\frac{3}{4}$

Question Type : MCQ

Question ID : 630680469561

Option 1 ID : 6306801834013

Option 2 ID : 6306801834014

Option 3 ID : 6306801834011

Option 4 ID : 6306801834012

Status : Answered

Chosen Option : 1

Q.20 एक चोर रोहन को एक पुलिसकर्मी रमेश 250 m की दूरी से देखता है। एक दूसरे को देखते ही वे दौड़ना प्रारम्भ करते हैं। 25 km/h की चाल से पीछा कर रहे रमेश द्वारा पकड़े जाने से पहले रोहन जो 20 km/h की चाल से भाग रहा है, कितनी दूरी तय करता है?

- Ans
- 1. 1 km
  - 2. 2 km
  - 3. 3 km
  - 4. 4 km

Question Type : MCQ

Question ID : 630680131139

Option 1 ID : 630680507826

Option 2 ID : 630680507827

Option 3 ID : 630680507828

Option 4 ID : 630680507829

Status : Answered

Chosen Option : 1

Section : Reasoning Ability and Problem Solving

Q.1 दी गई श्रृंखला में '?' के स्थान पर क्या आना चाहिए?

13, 24, 75, 296, 1485, ?

Ans  1. 7420

2. 8916

3. 8904

4. 7430

Question Type : MCQ

Question ID : 630680531535

Option 1 ID : 6306802077935

Option 2 ID : 6306802077933

Option 3 ID : 6306802077936

Option 4 ID : 6306802077934

Status : Answered

Chosen Option : 3

Q.2 उस समुच्चय का चयन कीजिए जिसमें संख्याएं ठीक उसी प्रकार संबंधित हैं जिस प्रकार दिए गए समुच्चयों की संख्याएं संबंधित हैं।

(10, 8, 65)

(16, 6, 81)

(ध्यान दें: संख्याओं को उनके घटक अंकों में अलग-अलग किए बिना पूर्ण संख्याओं पर संक्रियाएं की जानी चाहिए। उदाहरण के लिए संख्या 13 - संख्या 13 पर संक्रियाएं जैसे 13 को जोड़ना/घटाना/गुणा करना आदि किया जा सकता है। 13 को 1 और 3 में अलग-अलग करने की और फिर 1 और 3 पर गणितीय संक्रियाएं करने की अनुमति नहीं है।)

Ans  1. (5, 15, 65)

2. (4, 9, 16)

3. (7, 5, 20)

4. (12, 4, 114)

Question Type : MCQ

Question ID : 630680388382

Option 1 ID : 6306801514048

Option 2 ID : 6306801514049

Option 3 ID : 6306801514047

Option 4 ID : 6306801514046

Status : Answered

Chosen Option : 3

Q.3 एक निश्चित कूट भाषा में, 'GAVE' को '7485' के रूप में कूटबद्ध किया जाता है और 'CAGE' को '4589' के रूप में कूटबद्ध किया जाता है। इसी भाषा में 'C' के लिए कूट क्या होगा?

Ans  1. 7

2. 9

3. 8

4. 5

Question Type : MCQ

Question ID : 630680465154

Option 1 ID : 6306801816652

Option 2 ID : 6306801816651

Option 3 ID : 6306801816654

Option 4 ID : 6306801816653

Status : Answered

Chosen Option : 2

Q.4 दिए गए विकल्पों में से उस आकृति को चुनिए जो निम्नलिखित श्रृंखला में प्रश्न चिह्न (?) के स्थान पर आ सकती है और पैटर्न को पूरा कर सकती है।

L O V E	E ♡ O L	△ O ♡ V	V L O △	?
♡            △	△            V L	E E	♡	

Ans

✗ 1.

E O L V
♡            △

✗ 2.

♡ O L E
△            V

✗ 3.

△ O L ♡
V            E

✓ 4.

E O L ♡
△            V

Question Type : MCQ

Question ID : 630680441091

Option 1 ID : 6306801722018

Option 2 ID : 6306801722019

Option 3 ID : 6306801722020

Option 4 ID : 6306801722021

Status : Answered

Chosen Option : 1

Q.5 M, N, O, P, Q, R और S एक वृत्ताकार मेज के चारों ओर केंद्र की ओर मुख करके बैठे हैं (परंतु जरूरी नहीं कि वे इसी क्रम में बैठे हों)। Q, M के दाएँ से दूसरे स्थान पर बैठा है। P, M के बाएँ से तीसरे स्थान पर बैठा है। S और P का निकटतम पड़ोसी N है। R, P का निकटतम पड़ोसी नहीं है। R के बाएँ से तीसरे स्थान पर कौन बैठा है?

Ans  1. N

2. O

3. S

4. M

Question Type : MCQ

Question ID : 630680401315

Option 1 ID : 6306801565064

Option 2 ID : 6306801565063

Option 3 ID : 6306801565061

Option 4 ID : 6306801565062

Status : Answered

Chosen Option : 1

Q.6 यदि '+' और '-' को आपस में बदल दिया जाए तथा 'x' और '÷' को आपस में बदल दिया जाए, तो निम्नलिखित समीकरण में प्रश्न चिह्न (?) के स्थान पर क्या आएगा?  
 $75 \div 27 \times 27 + 93 - 20 = ?$

Ans  1. 4

2. 5

3. 3

4. 2

Question Type : MCQ

Question ID : 630680379286

Option 1 ID : 6306801478189

Option 2 ID : 6306801478190

Option 3 ID : 6306801478188

Option 4 ID : 6306801478187

Status : Answered

Chosen Option : 4

Q.7 निम्नलिखित श्रृंखला में लुप्त पद ज्ञात कीजिए:  
F, I, K, N, P, ?, U.

Ans  1. V

2. R

3. S

4. T

Question Type : MCQ

Question ID : 630680401282

Option 1 ID : 6306801564936

Option 2 ID : 6306801564933

Option 3 ID : 6306801564934

Option 4 ID : 6306801564935

Status : Answered

Chosen Option : 3

Q.8 एक निश्चित कूट भाषा में, 'FISH' को '8426' के रूप में कूटबद्ध किया जाता है और 'SAND' को '5749' के रूप में कूटबद्ध किया जाता है। दी गई कूट भाषा में 'S' के लिए कूट क्या है?

- Ans
- 1. 5
  - 2. 2
  - 3. 9
  - 4. 4

Question Type : MCQ

Question ID : 630680422197

Option 1 ID : 6306801647226

Option 2 ID : 6306801647225

Option 3 ID : 6306801647227

Option 4 ID : 6306801647224

Status : Answered

Chosen Option : 4

Q.9 तीन कथन दिए गए हैं, जिसके बाद 1 और 2 क्रमांकित दो निष्कर्ष दिए गए हैं। कथनों को सत्य मानते हुए भले ही वे सर्वथा ज्ञात तथ्यों से भिन्न प्रतीत होते हों, निर्णय लें कि कौन-सा/से निष्कर्ष तार्किक रूप से कथनों का अनुसरण करता/करते है/हैं।

कथन:

- सभी आम, कीवी हैं।
- सभी कीवी, अमरूद हैं।
- कोई अमरूद, सेब नहीं है।

निष्कर्ष:

1. सभी सेब, आम हैं।
2. कुछ अमरूद, सेब हैं।

- Ans
- 1. केवल निष्कर्ष 2 अनुसरण करता है
  - 2. न तो निष्कर्ष 1 और न ही 2 अनुसरण करता है
  - 3. केवल निष्कर्ष 1 अनुसरण करता है
  - 4. निष्कर्ष 1 और 2 दोनों अनुसरण करते हैं

Question Type : MCQ

Question ID : 630680519823

Option 1 ID : 6306802031717

Option 2 ID : 6306802031719

Option 3 ID : 6306802031716

Option 4 ID : 6306802031718

Status : Answered

Chosen Option : 2

Q.10 अंग्रेजी वर्णानुक्रम के आधार पर UMSO एक निश्चित प्रकार से RJPL से संबंधित है। ठीक उसी प्रकार QIOK, NFLH से संबंधित है। समान तर्क का अनुसरण करते हुए MEKG निम्नलिखित में से किससे संबंधित है?

- Ans  1. BJDH  
 2. BJHD  
 3. JBDH  
 4. JBHD

Question Type : MCQ

Question ID : 630680436058

Option 1 ID : 6306801702176

Option 2 ID : 6306801702175


Option 3 ID : 6306801702174

Option 4 ID : 6306801702173

Status : Answered

Chosen Option : 4

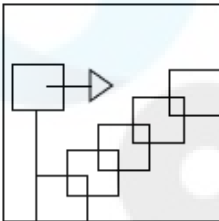
Q.11 उस विकल्प आकृति का चयन कीजिए, जिसमें दी गई आकृति (X) उसके भाग के रूप में सन्निहित है (घूर्णन की अनुमति नहीं है)।



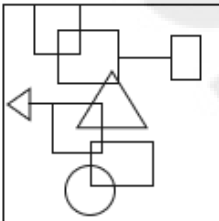
(X)

Ans

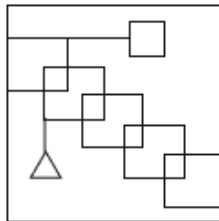
✗ 1.



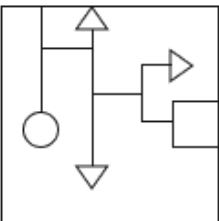
✗ 2.



✓ 3.



✗ 4.



Question Type : MCQ

Question ID : 630680487617

Option 1 ID : 6306801904539

Option 2 ID : 6306801904540

Option 3 ID : 6306801904541

Option 4 ID : 6306801904538

Status : Answered

Chosen Option : 3

Q.12 दिए गए कथनों और निष्कर्षों को ध्यानपूर्वक पढ़िए। यह मानते हुए कि कथनों में दी गई सूचना सत्य है, भले ही यह सामान्यतः ज्ञात तथ्यों से भिन्न प्रतीत होती हो, निर्णय कीजिए कि दिए गए निष्कर्षों में से कौन सा/से निष्कर्ष कथनों का तार्किक रूप से अनुसरण करता/करते है/हैं।

कथन:

- A. कुछ कुत्ते, मेढक हैं।  
B. कुछ हंस, कुत्ते हैं।

निष्कर्ष:

- I. कुछ मेढक, हंस हैं।  
II. कोई कुत्ते, हंस नहीं हैं।

- Ans  1. दोनों निष्कर्ष अनुसरण करते हैं।  
 2. केवल निष्कर्ष II अनुसरण करता है।  
 3. केवल निष्कर्ष I अनुसरण करता है।  
 4. कोई भी निष्कर्ष अनुसरण नहीं करता है।

Question Type : MCQ

Question ID : 630680179923

Option 1 ID : 630680697482

Option 2 ID : 630680697481

Option 3 ID : 630680697480

Option 4 ID : 630680697483

Status : Answered

Chosen Option : 3

Q.13 KL42 किसी निश्चित प्रकार से PQ50 से संबंधित है। ठीक उसी प्रकार, RS52, WX60 से संबंधित है। उसी तर्क का अनुसरण करते हुए, DE62 निम्नलिखित में से किससे संबंधित है?

- Ans  1. IG17  
 2. JI70  
 3. IJ70  
 4. IK17

Question Type : MCQ

Question ID : 6306801108789

Option 1 ID : 6306804355705

Option 2 ID : 6306804355703

Option 3 ID : 6306804355702

Option 4 ID : 6306804355704

Status : Answered

Chosen Option : 3

Q.14 एक निश्चित कूट भाषा में, 'GAME' को '5279' लिखा जाता है तथा 'META' को '7942' लिखा जाता है।  
उस कूट भाषा में 'T' को कैसे लिखा जाएगा?

Ans  1.5

2.7

3.9

4.4

Question Type : MCQ

Question ID : 630680379159

Option 1 ID : 6306801477686

Option 2 ID : 6306801477685

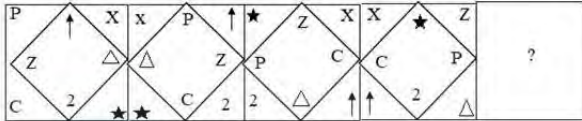
Option 3 ID : 6306801477684

Option 4 ID : 6306801477683

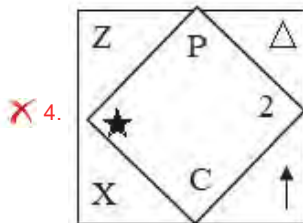
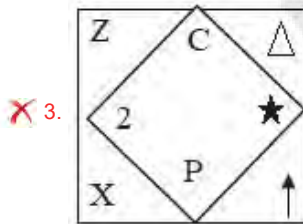
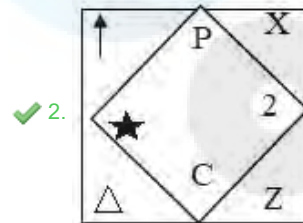
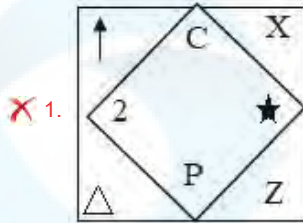
Status : Answered

Chosen Option : 4

Q.15 दिए गए विकल्पों में से उस आकृति का चयन कीजिए जो निम्नलिखित श्रृंखला में प्रश्न चिह्न (?) को प्रतिस्थापित कर सकती है।



Ans



Question Type : MCQ

Question ID : 63068057475

Option 1 ID : 630680221742

Option 2 ID : 630680221744

Option 3 ID : 630680221745

Option 4 ID : 630680221743

Status : Answered

Chosen Option : 1

Q.16 यदि '+' और '-' को आपस में बदल दिया जाए तथा 'x' और '÷' को आपस में बदल दिया जाए, तो निम्नलिखित समीकरण में प्रश्न चिह्न (?) के स्थान पर क्या आएगा?  
 $24 \div 6 + 18 \times 9 - 2 = ?$

- Ans
- 1. 155
  - 2. 166
  - 3. 122
  - 4. 144

Question Type : MCQ

Question ID : 630680378703

Option 1 ID : 6306801475861

Option 2 ID : 6306801475862

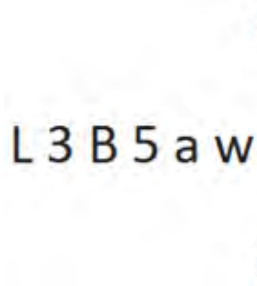
Option 3 ID : 6306801475859

Option 4 ID : 6306801475860

Status : Answered

Chosen Option : 4

Q.17 दी गई आकृति के उस सही दर्पण प्रतिबिंब को चुनिए, जो नीचे दर्शाए गए अनुसार दर्पण को MN पर रखने पर बनेगा।



- Ans
- 1. w e ʔ B ʔ L
  - 2. w ʔ ʔ 3 B ʔ
  - 3. w e ʔ B ʔ L
  - 4. w ʔ ʔ 3 B ʔ

Question Type : MCQ

Question ID : 630680525243

Option 1 ID : 6306802053059

Option 2 ID : 6306802053056

Option 3 ID : 6306802053057

Option 4 ID : 6306802053058

Status : Answered

Chosen Option : 4

Q.18 एक निश्चित कूट भाषा में, 'BAKED' को '02-01-11-05-04' लिखा जाता है और 'MORE' को '13-15-18-05' लिखा जाता है। उस कूट भाषा में 'EXTRA' को कैसे लिखा जाएगा?

- Ans
- 1. 05-24-20-18-01
  - 2. 04-24-20-18-01
  - 3. 05-23-20-17-01
  - 4. 04-23-20-16-02

Question Type : MCQ

Question ID : 630680439091

Option 1 ID : 6306801714176

Option 2 ID : 6306801714178

Option 3 ID : 6306801714177

Option 4 ID : 6306801714179

Status : Answered

Chosen Option : 1

Q.19 एक निश्चित तर्क का अनुसरण करते हुए 146 का संबंध 208.4 से है। उसी तर्क का अनुसरण करते हुए 112 का संबंध 174.4 से है। समान तर्क का अनुसरण करते हुए 135 का संबंध निम्नलिखित में से किससे है?

(ध्यान दें: संख्याओं को उनके घटक अंकों में अलग-अलग किए बिना पूर्ण संख्याओं पर संक्रियाएं की जानी चाहिए। उदाहरण के लिए संख्या 13 - संख्या 13 पर संक्रियाएं जैसे 13 को जोड़ना/घटाना/गुणा करना आदि किया जा सकता है। 13 को 1 और 3 में अलग-अलग करने की और फिर 1 और 3 पर गणितीय संक्रियाएं करने की अनुमति नहीं है।)

- Ans
- 1. 179.4
  - 2. 197.4
  - 3. 188.4
  - 4. 192.4

Question Type : MCQ

Question ID : 630680436302

Option 1 ID : 6306801703149

Option 2 ID : 6306801703151

Option 3 ID : 6306801703150

Option 4 ID : 6306801703152

Status : Answered

Chosen Option : 2

Q.20 छः खिलाड़ी जड़ेजा, अश्विन, कार्तिक, मुरली, सरफराज और विराट एक वृत्ताकार मेज के चारों ओर केंद्र की ओर मुख करके बैठे हैं (परंतु जरूरी नहीं कि वे इसी क्रम में बैठे हों)। विराट, जड़ेजा के ठीक दाएँ बैठा है। विराट और मुरली के बीच में केवल सरफराज बैठा है। जड़ेजा, अश्विन का निकटतम पड़ोसी है। सरफराज और जड़ेजा दोनों का निकटतम पड़ोसी कौन है?

- Ans  1. अश्विन  
 2. विराट  
 3. कार्तिक  
 4. मुरली

Question Type : MCQ

Question ID : 630680387050

Option 1 ID : 6306801508910

Option 2 ID : 6306801508913

Option 3 ID : 6306801508911

Option 4 ID : 6306801508912

Status : Answered

Chosen Option : 2

Section : General Awareness

Q.1 भारतीय राष्ट्रीय कांग्रेस के निम्नलिखित में से किस अधिवेशन की अध्यक्षता सरोजिनी नायडू द्वारा की गई थी?

- Ans  1. लाहौर, 1929  
 2. मद्रास, 1927  
 3. कराची, 1931  
 4. कानपुर, 1925

Question Type : MCQ

Question ID : 630680275703

Option 1 ID : 6306801071325

Option 2 ID : 6306801071324

Option 3 ID : 6306801071326

Option 4 ID : 6306801071323

Status : Answered

Chosen Option : 2

Q.2 वर्ष 2019-2020 में निम्नलिखित में से किस क्षेत्र में महिला श्रमिकों का प्रतिशत सबसे अधिक था?

- Ans  1. सेवा  
 2. उद्योग  
 3. कृषि  
 4. खनन

Question Type : MCQ

Question ID : 630680510907

Option 1 ID : 6306801996761

Option 2 ID : 6306801996759

Option 3 ID : 6306801996758

Option 4 ID : 6306801996760

Status : Answered

Chosen Option : 1

Q.3 अधिकांश पारिस्थितिक तंत्र के लिए, ऊर्जा का प्राथमिक स्रोत क्या है?

- Ans
- 1. पवन
  - 2. जल
  - 3. भूतापीय ऊर्जा
  - 4. सूर्य का प्रकाश

Question Type : **MCQ**  
Question ID : **630680681859**  
Option 1 ID : **6306802670614**  
Option 2 ID : **6306802670613**  
Option 3 ID : **6306802670615**  
Option 4 ID : **6306802670612**  
Status : **Answered**  
Chosen Option : **4**

Q.4 पाकिस्तान के प्रसिद्ध क्रिकेट खिलाड़ी इमरान खान की आत्मकथा का शीर्षक क्या है?

- Ans
- 1. गोल (Goal)
  - 2. गेम चेंजर (Game Changer)
  - 3. ऑल राउंड व्यू (All Round View)
  - 4. माई फाइट/ योर फाइट (My Fight / Your Fight)

Question Type : **MCQ**  
Question ID : **630680409455**  
Option 1 ID : **6306801596651**  
Option 2 ID : **6306801596652**  
Option 3 ID : **6306801596649**  
Option 4 ID : **6306801596650**  
Status : **Answered**  
Chosen Option : **2**

Q.5 भारत के किस क्षेत्र में लौह एवं इस्पात उद्योग का सबसे अधिक संकेंद्रण है?

- Ans
- 1. छोटा नागपुर पठार
  - 2. तेलंगाना पठार
  - 3. दक्कन का पठार
  - 4. अरावली क्षेत्र

Question Type : **MCQ**  
Question ID : **630680511306**  
Option 1 ID : **6306801998355**  
Option 2 ID : **6306801998357**  
Option 3 ID : **6306801998356**  
Option 4 ID : **6306801998354**  
Status : **Answered**  
Chosen Option : **3**

Q.6 एक ही बार दिया गया संगीत नाटक अकादमी अमृत पुरस्कार (one-time Sangeet Natak Akademi Amrit Award), 2022 के लिए कितने कलाकारों का चयन किया गया?

Ans  1. 100

2. 86

3. 75

4. 60

Question Type : MCQ

Question ID : 630680511998

Option 1 ID : 6306802000965

Option 2 ID : 6306802000964

Option 3 ID : 6306802000963

Option 4 ID : 6306802000962

Status : Answered

Chosen Option : 3

Q.7 राज्यपाल का कार्यकाल कितना होता है?

Ans  1. 6 वर्ष

2. 10 वर्ष

3. 2 वर्ष

4. 5 वर्ष

Question Type : MCQ

Question ID : 630680511445

Option 1 ID : 6306801998912

Option 2 ID : 6306801998913

Option 3 ID : 6306801998910

Option 4 ID : 6306801998911

Status : Answered

Chosen Option : 4

Q.8 किस भारतीय राज्य की कैबिनेट ने कुई (Kui) भाषा को आठवीं अनुसूची में शामिल करने की संस्तुति के प्रस्ताव को जुलाई 2023 में स्वीकृति दी?

Ans  1. ओडिशा

2. कर्नाटक

3. तमिलनाडु

4. पश्चिम बंगाल

Question Type : MCQ

Question ID : 630680798959

Option 1 ID : 6306803130634

Option 2 ID : 6306803130636

Option 3 ID : 6306803130635

Option 4 ID : 6306803130637

Status : Answered

Chosen Option : 1

Q.9 किस स्थानीय तूफान को 'कालबैसाखी' के नाम से भी जाना जाता है?

- Ans  1. नॉर वेस्टर्स (Nor Westers)  
 2. आम्र बौछार (Mango Shower)  
 3. मंजरी वर्षण (Blossom Shower)  
 4. लू (Loo)

Question Type : MCQ

Question ID : 630680476089

Option 1 ID : 6306801859634

Option 2 ID : 6306801859632

Option 3 ID : 6306801859631

Option 4 ID : 6306801859633

Status : Answered

Chosen Option : 3

Q.10 निम्नलिखित में से किस नृत्य प्रदर्शन में मुख्य ताल वाद्ययंत्र, एडक्का (Edakka) का उपयोग किया जाता है?

- Ans  1. कथक  
 2. भरतनाट्यम  
 3. ओडिसी  
 4. मोहिनीअट्टम

Question Type : MCQ

Question ID : 630680545595

Option 1 ID : 6306802132975

Option 2 ID : 6306802132972

Option 3 ID : 6306802132974

Option 4 ID : 6306802132973

Status : Answered

Chosen Option : 1

Q.11 विजयपुरा (Vijayapura) के किस प्रसिद्ध स्मारक में व्हिस्पेरिंग गैलरी (Whispering Gallery) है, जहाँ 37 मीटर की दूरी से भी सूक्ष्म ध्वनियाँ स्पष्ट रूप से सुनी जा सकती हैं?

- Ans  1. साथ काबर  
 2. गोल गुंबज  
 3. उपली बुरुज  
 4. गगन महल

Question Type : MCQ

Question ID : 630680546758

Option 1 ID : 6306802137604

Option 2 ID : 6306802137603

Option 3 ID : 6306802137605

Option 4 ID : 6306802137602

Status : Not Answered

Chosen Option : --

Q.12 मेजर ध्यानचंद खेल रत्न पुरस्कार गत चार वर्षों की अवधि के दौरान किसी खिलाड़ी द्वारा खेल के क्षेत्र में किए गए शानदार और सर्वोत्कृष्ट प्रदर्शन के लिए दिया जाता है। वर्ष 2021 में पैरा शूटिंग के लिए पुरस्कार विजेता कौन था?

- Ans
- 1. नीरज चोपड़ा (Neeraj Chopra)
  - 2. अंजू बॉबी जॉर्ज (Anju Bobby George)
  - 3. चानू साइखोम मीराबाई (Chanu Saikhom Mirabai)
  - 4. अवनि लेखारा (Avani Lekhara)

Question Type : MCQ

Question ID : 630680184602

Option 1 ID : 630680715466

Option 2 ID : 630680715467

Option 3 ID : 630680715465

Option 4 ID : 630680715468

Status : Answered

Chosen Option : 4

Q.13 निम्नलिखित में से किस प्रकार के क्षेत्र में किसी दिन और उसी रात के बीच अधिकतम तापमान भिन्नता देखी जाती है?

- Ans
- 1. तटीय क्षेत्र
  - 2. प्रायद्वीप
  - 3. मरूस्थल
  - 4. द्वीप

Question Type : MCQ

Question ID : 630680629848

Option 1 ID : 6306802465292

Option 2 ID : 6306802465293

Option 3 ID : 6306802465290

Option 4 ID : 6306802465291

Status : Answered

Chosen Option : 3

Q.14 1882 में शैक्षिक सुधार के लिए हंटर आयोग (Hunter Commission) की नियुक्ति किसने की थी?

- Ans
- 1. लॉर्ड रिपन (Lord Ripon)
  - 2. जॉन लॉरेंस (John Lawrence)
  - 3. लॉर्ड एलेनबरो (Lord Ellenborough)
  - 4. रॉबर्ट लिटन (Robert Lytton)

Question Type : MCQ

Question ID : 630680511602

Option 1 ID : 6306801999530

Option 2 ID : 6306801999532

Option 3 ID : 6306801999533

Option 4 ID : 6306801999531

Status : Answered

Chosen Option : 1

Q.15 चोलों के बारे में निम्नलिखित में से कौन-सा/कौन-से कथन सत्य है/हैं?

1. चोल साम्राज्य की राजधानी तंजौर थी।
2. विक्रम चोल की रगों में चोलों और पूर्वी चालुक्यों का खून था।
3. राजेंद्र प्रथम चोल को गंगईकोंडा (Gangaikonda) चोल के नाम से भी जाना जाता है।

Ans  1. सभी 1, 2 और 3

2. केवल 1 और 2

3. केवल 2 और 3

4. केवल 1 और 3

Question Type : MCQ

Question ID : 630680183055

Option 1 ID : 630680709300

Option 2 ID : 630680709297

Option 3 ID : 630680709298

Option 4 ID : 630680709299

Status : Answered

Chosen Option : 4

Q.16 किसी व्यक्ति का वजन उत्तरी या दक्षिणी ध्रुव पर अधिक क्यों होता है?

Ans  1. अक्षांश के साथ पृथ्वी के अपकेन्द्री बल में भिन्नता के कारण

2. ऊँचाई के साथ पृथ्वी के अभिकेन्द्री बल में भिन्नता के कारण

3. अक्षांश के साथ पृथ्वी के अभिकेन्द्री बल में भिन्नता के कारण

4. पृथ्वी की सूर्य से दूरी के कारण

Question Type : MCQ

Question ID : 630680134647

Option 1 ID : 630680521409

Option 2 ID : 630680521407

Option 3 ID : 630680521406

Option 4 ID : 630680521408

Status : Answered

Chosen Option : 2

Q.17 स्वयं सहायता समूह बैंक लिंकेज कार्यक्रम (Self-Help Group Bank Linkage Program) की अवधारणा \_\_\_\_\_ द्वारा पेश की गई थी।

Ans  1. भारतीय रिज़र्व बैंक (RBI)

2. नाबार्ड (NABARD)

3. स्टेट बैंक ऑफ इंडिया (SBI)

4. सिडबी (SIDBI)

Question Type : MCQ

Question ID : 630680311983

Option 1 ID : 6306801213840

Option 2 ID : 6306801213837

Option 3 ID : 6306801213838

Option 4 ID : 6306801213839

Status : Answered

Chosen Option : 2

Q.18 भारत ने फीफा अंडर-17 (FIFA U 17) महिला फुटबॉल विश्व कप की मेजबानी किस वर्ष की थी?

Ans  1. 2022

2. 2021

3. 2019

4. 2020

Question Type : MCQ

Question ID : 630680172194

Option 1 ID : 630680667215

Option 2 ID : 630680667214

Option 3 ID : 630680667212

Option 4 ID : 630680667213

Status : Answered

Chosen Option : 1

Q.19 पैगंबर मुहम्मद की जयंती के रूप में कौन-सा त्योहार मनाया जाता है?

Ans  1. शब-ए-बारात (Shab-i-barat)

2. मीलाद उन-नबी (Milad-un-nabi)

3. ईद उल-फ़ित्र (Eid-ul-fitr)

4. ईद उल-अज़हा (Id-ul-zuha)

Question Type : MCQ

Question ID : 630680449832

Option 1 ID : 6306801756499

Option 2 ID : 6306801756496

Option 3 ID : 6306801756497

Option 4 ID : 6306801756498

Status : Answered

Chosen Option : 3

Q.20 भारत सरकार ने \_\_\_\_\_ के सहयोग से ग्रामीण युवाओं को रोजगार योग्य कौशल हेतु समर्थ बनाने के लिए अक्टूबर 2023 में स्किल्स ऑन व्हील्स (Skills on Wheels) मिशन शुरू किया है।

Ans  1. इंडसइंड बैंक

2. एचडीएफसी बैंक

3. आईसीआईसीआई बैंक

4. नाबार्ड

Question Type : MCQ

Question ID : 630680481529

Option 1 ID : 6306801880610

Option 2 ID : 6306801880608

Option 3 ID : 6306801880611

Option 4 ID : 6306801880609

Status : Answered

Chosen Option : 4

Q.21 नल के जल में हानिकारक सूक्ष्मजीवों को मारकर इसे पीने के लिए सुरक्षित बनाने के लिए सामान्यतः इसमें कौन-सा पदार्थ मिलाया जाता है?

Ans  1. क्लोरीन

2. आयरन

3. कैल्शियम

4. फ्लुओराइड

Question Type : MCQ

Question ID : 630680540602

Option 1 ID : 6306802113483

Option 2 ID : 6306802113486

Option 3 ID : 6306802113484

Option 4 ID : 6306802113485

Status : Answered

Chosen Option : 1

Q.22 भारत की जनगणना 2011 के अनुसार, भारत के किस केंद्र शासित प्रदेश की साक्षरता दर सबसे अधिक है?

Ans  1. चंडीगढ़

2. दिल्ली

3. लक्षद्वीप

4. पुदुचेरी

Question Type : MCQ

Question ID : 630680718955

Option 1 ID : 6306802817295

Option 2 ID : 6306802817292

Option 3 ID : 6306802817294

Option 4 ID : 6306802817293

Status : Answered

Chosen Option : 2

Q.23 \_\_\_\_\_ एक भारतीय मैन्डोलिन वादक (mandolinist) थे जो शास्त्रीय संगीत की कर्नाटक शैली के एक उत्कृष्ट संगीतकार थे।

Ans  1. उप्पलापु श्रीनिवास (Uppalapu Srinivas)

2. कुन्नाकुडी वैद्यनाथन (Kunnakudi Vaidyanathan)

3. नरसिम्हन रविकिरण (Narasimhan Ravikiran)

4. आर. प्रसन्ना (R Prasanna)

Question Type : MCQ

Question ID : 630680481901

Option 1 ID : 6306801882089

Option 2 ID : 6306801882090

Option 3 ID : 6306801882091

Option 4 ID : 6306801882088

Status : Answered

Chosen Option : 4

Q.24 समुद्रगुप्त की इलाहाबाद प्रशस्ति की रचना किस कवि ने की थी?

- Ans
- 1. बाणभट्ट
  - 2. वत्सभट्टी
  - 3. वासुल
  - 4. हरिषेण

Question Type : MCQ

Question ID : 630680433794

Option 1 ID : 6306801693142

Option 2 ID : 6306801693140

Option 3 ID : 6306801693139

Option 4 ID : 6306801693141

Status : Answered

Chosen Option : 4

Q.25 भारतीय संविधान के निर्माण के दौरान, संविधान सभा ने कुल ग्यारह सत्र आयोजित किए, जिनकी बैठकें कितने दिन तक चली थीं?

- Ans
- 1. 132
  - 2. 115
  - 3. 165
  - 4. 180

Question Type : MCQ

Question ID : 630680493458

Option 1 ID : 6306801927572

Option 2 ID : 6306801927571

Option 3 ID : 6306801927573

Option 4 ID : 6306801927574

Status : Answered

Chosen Option : 2

Section : English Language and Comprehension

Q.1 Select the INCORRECTLY spelt word.

- Ans
- 1. Luggage
  - 2. Cruelly
  - 3. Hypocrisy
  - 4. Secresy

Question Type : MCQ

Question ID : 630680470367

Option 1 ID : 6306801837223

Option 2 ID : 6306801837225

Option 3 ID : 6306801837224

Option 4 ID : 6306801837226

Status : Answered

Chosen Option : 3

**Q.2** Select the most appropriate meaning of the given idiom.  
**My hands are full**

- Ans  1. To dislike someone  
 2. To go directly towards something  
 3. To panic  
 4. To be very busy

Question Type : **MCQ**  
Question ID : **630680517541**  
Option 1 ID : **6306802022563**  
Option 2 ID : **6306802022561**  
Option 3 ID : **6306802022560**  
Option 4 ID : **6306802022562**  
Status : **Answered**  
Chosen Option : **4**

**Q.3** The following sentence has been divided into parts. One of them may contain an error.  
Select the part that contains the error from the given options. If you don't find any error, mark 'No error' as your answer.

**Manoj has a bigger / farmhouse of one hundred / hectares near the city.**

- Ans  1. farmhouse of one hundred  
 2. Manoj has a bigger  
 3. hectares near the city.  
 4. No error

Question Type : **MCQ**  
Question ID : **630680629323**  
Option 1 ID : **6306802463375**  
Option 2 ID : **6306802463374**  
Option 3 ID : **6306802463376**  
Option 4 ID : **6306802463377**  
Status : **Answered**  
Chosen Option : **2**

**Q.4** Select the most appropriate word segment that can replace the underlined part in the sentence.

**The two thieves divided the looted money with themselves.**

- Ans  1. off themselves  
 2. of themselves  
 3. between themselves  
 4. among themselves

Question Type : **MCQ**  
Question ID : **630680551435**  
Option 1 ID : **6306802155966**  
Option 2 ID : **6306802155968**  
Option 3 ID : **6306802155965**  
Option 4 ID : **6306802155967**  
Status : **Answered**  
Chosen Option : **3**

Q.5 Select the INCORRECTLY spelt word..

Ans  1. Perseverence

2. Exaggerate

3. Conscientiousness

4. Accommodate

Question Type : MCQ

Question ID : 630680587213

Option 1 ID : 6306802297387

Option 2 ID : 6306802297385

Option 3 ID : 6306802297386

Option 4 ID : 6306802297384

Status : Answered

Chosen Option : 1

Q.6 Select the most appropriate option that can substitute the underlined segment in the given sentence.

Autumn leaves shuffled beneath him as he wandered through the quiet forest.

Ans  1. moved to another place

2. crushed around

3. died over

4. rustled underfoot

Question Type : MCQ

Question ID : 630680550353

Option 1 ID : 6306802151685

Option 2 ID : 6306802151684

Option 3 ID : 6306802151686

Option 4 ID : 6306802151683

Status : Not Answered

Chosen Option : --

Q.7 Select the most appropriate option to fill in the blank and complete the given idiom.

That's great! You keep everything under your \_\_\_\_\_.

Ans  1. thumb

2. legs

3. hands

4. eyes

Question Type : MCQ

Question ID : 630680805899

Option 1 ID : 6306803157257

Option 2 ID : 6306803157256

Option 3 ID : 6306803157258

Option 4 ID : 6306803157259

Status : Answered

Chosen Option : 3

**Q.8** The following sentence has been split into four segments. Identify the segment that contains a grammatical error.  
They worked / very hardly / on their project / for several weeks.

- Ans
- 1. on their project
  - 2. They worked
  - 3. for several weeks
  - 4. very hardly

Question Type : **MCQ**  
Question ID : **630680726468**  
Option 1 ID : **6306802846880**  
Option 2 ID : **6306802846878**  
Option 3 ID : **6306802846881**  
Option 4 ID : **6306802846879**  
Status : **Answered**  
Chosen Option : **4**

**Q.9** In the following sentence the underlined part contains an error. Alternatives to the underlined part are given as options.  
Select the correct alternative.  
Poverty is the urgnet concern in India today.

- Ans
- 1. urgenter
  - 2. most urgent
  - 3. urgentest
  - 4. more urgent

Question Type : **MCQ**  
Question ID : **630680514708**  
Option 1 ID : **6306802011459**  
Option 2 ID : **6306802011458**  
Option 3 ID : **6306802011457**  
Option 4 ID : **6306802011460**  
Status : **Answered**  
Chosen Option : **2**

**Q.10** In the following sentence the underlined part contains as error. Alternatives to the underlined part are given as options. Select the correct alternative.  
The water near the coast was shallower and clean.

- Ans
- 1. shallow
  - 2. more shallow
  - 3. shallowest
  - 4. the shallowest

Question Type : **MCQ**  
Question ID : **630680514726**  
Option 1 ID : **6306802011531**  
Option 2 ID : **6306802011530**  
Option 3 ID : **6306802011529**  
Option 4 ID : **6306802011532**  
Status : **Answered**  
Chosen Option : **1**

**Q.11** Select the most appropriate synonym of the given word.  
Whim

- Ans  1. Bloodiness  
 2. Factualness  
 3. Fancy  
 4. Antiquity

Question Type : **MCQ**  
Question ID : **630680430574**  
Option 1 ID : **6306801680320**  
Option 2 ID : **6306801680321**  
Option 3 ID : **6306801680318**  
Option 4 ID : **6306801680319**  
Status : **Not Answered**  
Chosen Option : --

**Q.12** Select the most appropriate option to fill in the blank.

The \_\_\_\_\_ of the novel kept me hooked from the beginning to the end.

- Ans  1. settlement  
 2. archaic  
 3. plot  
 4. orchestra

Question Type : **MCQ**  
Question ID : **630680488658**  
Option 1 ID : **6306801908648**  
Option 2 ID : **6306801908649**  
Option 3 ID : **6306801908650**  
Option 4 ID : **6306801908647**  
Status : **Answered**  
Chosen Option : 1

**Q.13** Select the most appropriate option to fill in the blank.

I am not going to pay a \_\_\_\_\_ for this broken CD.

- Ans  1. scent  
 2. cent  
 3. send  
 4. sent

Question Type : **MCQ**  
Question ID : **630680517512**  
Option 1 ID : **6306802022445**  
Option 2 ID : **6306802022446**  
Option 3 ID : **6306802022447**  
Option 4 ID : **6306802022444**  
Status : **Answered**  
Chosen Option : 1

**Q.14** The following sentence has been split into four segments. Identify the segment that contains a grammatical error.

His artwork is / more intricate / than any artist / in the gallery.

- Ans
- 1. more intricate
  - 2. than any artist
  - 3. in the gallery
  - 4. His artwork is

Question Type : **MCQ**

Question ID : **630680726467**

Option 1 ID : **6306802846875**

Option 2 ID : **6306802846876**

Option 3 ID : **6306802846877**

Option 4 ID : **6306802846874**

Status : **Answered**

Chosen Option : **2**

**Q.15** Select the correctly spelt word to fill in the blank and make the sentence meaningful.

Before retiring, Kaul had been teaching physics at the university for three \_\_\_\_\_.

- Ans
- 1. decimals
  - 2. decadents
  - 3. decades
  - 4. edecamals

Question Type : **MCQ**

Question ID : **6306801046667**

Option 1 ID : **6306804108796**

Option 2 ID : **6306804108794**

Option 3 ID : **6306804108793**

Option 4 ID : **6306804108795**

Status : **Answered**

Chosen Option : **3**

**Q.16** The given sentence is divided into four segments. Select the option that has the segment with a grammatical error.

He has / no / influence about / me.

- Ans
- 1. influence about
  - 2. me.
  - 3. no
  - 4. he has

Question Type : **MCQ**

Question ID : **630680192394**

Option 1 ID : **630680746167**

Option 2 ID : **630680746168**

Option 3 ID : **630680746166**

Option 4 ID : **630680746165**

Status : **Answered**

Chosen Option : **1**

**Q.17** Select the option that can be used as a one-word substitute for the given group of words.

The land that is best suitable for growing crops

- Ans  1. Barren  
 2. Arable  
 3. Rustic  
 4. Fruitful

Question Type : **MCQ**

Question ID : **630680435204**

Option 1 ID : **6306801698740**

Option 2 ID : **6306801698738**

Option 3 ID : **6306801698741**

Option 4 ID : **6306801698739**

Status : **Answered**

Chosen Option : **2**

**Q.18** Select the most appropriate synonym of the given word.  
Destroy

- Ans  1. Delight  
 2. Ruin  
 3. Decline  
 4. Fabricate

Question Type : **MCQ**

Question ID : **630680726550**

Option 1 ID : **6306802847209**

Option 2 ID : **6306802847207**

Option 3 ID : **6306802847206**

Option 4 ID : **6306802847208**

Status : **Answered**

Chosen Option : **2**

**Q.19** Select the most appropriate ANTONYM of the given word.

Benevolent

- Ans  1. Opulent  
 2. Violent  
 3. Eminent  
 4. Malevolent

Question Type : **MCQ**

Question ID : **630680436159**

Option 1 ID : **6306801702580**

Option 2 ID : **6306801702577**

Option 3 ID : **6306801702579**

Option 4 ID : **6306801702578**

Status : **Answered**

Chosen Option : **4**

**Q.20 Select the most appropriate synonym of the given word.**

**Appease**

**Ans** ✓ 1. Pacify

✗ 2. Aggravate

✗ 3. Appeal

✗ 4. Force

Question Type : **MCQ**

Question ID : **630680726519**

Option 1 ID : **6306802847085**

Option 2 ID : **6306802847084**

Option 3 ID : **6306802847082**

Option 4 ID : **6306802847083**

Status : **Answered**

Chosen Option : **4**

**Comprehension:**

In the following passage, some words have been deleted. Read the passage carefully and select the most appropriate option to fill in each blank.

The eye of an ostrich is larger than its brain. Of all birds, ostriches have the 1. \_\_\_\_\_ eyes. Their eyes are the size of a pool ball, measuring around 2 inches in diameter. Their size is five times greater than that of human eyes. Ostriches have excellent vision, so their enormous eyes aren't just for show. Because of their height and keen 2. \_\_\_\_\_, the birds can see well over great distances, enabling them to identify potential 3. \_\_\_\_\_ before they approach.

In general, compared to mammals of comparable size, birds often have smaller brains. Ostrich brains are approximately 1.5 inches in width, the study found. Additionally, their average brain weight is almost 17 times lower than that of the three other 4. \_\_\_\_\_. When comparing the brain-to-body weight ratio of the other birds, the ostrich's brain was lighter than their body weight.

Some other facts concerning these birds are what set them apart. All other birds have three or four toes; this magnificent creature has only two. Ostriches bend their knees in a forward orientation; thus, they kick forward rather than backward. Furthermore, ostriches do not require water because they produce some of it internally and obtain the 5. \_\_\_\_\_ from the plants they consume.

**SubQuestion No : 21**

**Q.21 Select the most appropriate option for blank 1.**

**Ans** ✗ 1. bigger

✓ 2. biggest

✗ 3. big

✗ 4. more big

Question Type : **MCQ**

Question ID : **630680551415**

Option 1 ID : **6306802155890**

Option 2 ID : **6306802155889**

Option 3 ID : **6306802155891**

Option 4 ID : **6306802155892**

Status : **Answered**

Chosen Option : **2**

**Comprehension:**

In the following passage, some words have been deleted. Read the passage carefully and select the most appropriate option to fill in each blank.

The eye of an ostrich is larger than its brain. Of all birds, ostriches have the 1. \_\_\_\_\_ eyes. Their eyes are the size of a pool ball, measuring around 2 inches in diameter. Their size is five times greater than that of human eyes. Ostriches have excellent vision, so their enormous eyes aren't just for show. Because of their height and keen 2. \_\_\_\_\_, the birds can see well over great distances, enabling them to identify potential 3. \_\_\_\_\_ before they approach.

In general, compared to mammals of comparable size, birds often have smaller brains. Ostrich brains are approximately 1.5 inches in width, the study found. Additionally, their average brain weight is almost 17 times lower than that of the three other 4. \_\_\_\_\_. When comparing the brain-to-body weight ratio of the other birds, the ostrich's brain was lighter than their body weight.

Some other facts concerning these birds are what set them apart. All other birds have three or four toes; this magnificent creature has only two. Ostriches bend their knees in a forward orientation; thus, they kick forward rather than backward. Furthermore, ostriches do not require water because they produce some of it internally and obtain the 5. \_\_\_\_\_ from the plants they consume.

**SubQuestion No : 22**

**Q.22 Select the most appropriate option for blank 2.**

- Ans
- 1. illusion
  - 2. vision
  - 3. delusion
  - 4. allusion

Question Type : **MCQ**

Question ID : **630680551416**

Option 1 ID : **6306802155895**

Option 2 ID : **6306802155894**

Option 3 ID : **6306802155893**

Option 4 ID : **6306802155896**

Status : **Answered**

Chosen Option : **2**

**Comprehension:**

In the following passage, some words have been deleted. Read the passage carefully and select the most appropriate option to fill in each blank.

The eye of an ostrich is larger than its brain. Of all birds, ostriches have the 1. \_\_\_\_\_ eyes. Their eyes are the size of a pool ball, measuring around 2 inches in diameter. Their size is five times greater than that of human eyes. Ostriches have excellent vision, so their enormous eyes aren't just for show. Because of their height and keen 2. \_\_\_\_\_, the birds can see well over great distances, enabling them to identify potential 3. \_\_\_\_\_ before they approach.

In general, compared to mammals of comparable size, birds often have smaller brains. Ostrich brains are approximately 1.5 inches in width, the study found. Additionally, their average brain weight is almost 17 times lower than that of the three other 4. \_\_\_\_\_. When comparing the brain-to-body weight ratio of the other birds, the ostrich's brain was lighter than their body weight.

Some other facts concerning these birds are what set them apart. All other birds have three or four toes; this magnificent creature has only two. Ostriches bend their knees in a forward orientation; thus, they kick forward rather than backward. Furthermore, ostriches do not require water because they produce some of it internally and obtain the 5. \_\_\_\_\_ from the plants they consume.

**SubQuestion No : 23**

**Q.23 Select the most appropriate option for blank 3.**

- Ans
- 1. quarry
  - 2. tours
  - 3. predators
  - 4. victims

Question Type : **MCQ**

Question ID : **630680551417**

Option 1 ID : **6306802155898**

Option 2 ID : **6306802155897**

Option 3 ID : **6306802155900**

Option 4 ID : **6306802155899**

Status : **Answered**

Chosen Option : **3**

**Comprehension:**

In the following passage, some words have been deleted. Read the passage carefully and select the most appropriate option to fill in each blank.

The eye of an ostrich is larger than its brain. Of all birds, ostriches have the 1. \_\_\_\_\_ eyes. Their eyes are the size of a pool ball, measuring around 2 inches in diameter. Their size is five times greater than that of human eyes. Ostriches have excellent vision, so their enormous eyes aren't just for show. Because of their height and keen 2. \_\_\_\_\_, the birds can see well over great distances, enabling them to identify potential 3. \_\_\_\_\_ before they approach.

In general, compared to mammals of comparable size, birds often have smaller brains. Ostrich brains are approximately 1.5 inches in width, the study found. Additionally, their average brain weight is almost 17 times lower than that of the three other 4. \_\_\_\_\_. When comparing the brain-to-body weight ratio of the other birds, the ostrich's brain was lighter than their body weight.

Some other facts concerning these birds are what set them apart. All other birds have three or four toes; this magnificent creature has only two. Ostriches bend their knees in a forward orientation; thus, they kick forward rather than backward. Furthermore, ostriches do not require water because they produce some of it internally and obtain the 5. \_\_\_\_\_ from the plants they consume.

**SubQuestion No : 24**

**Q.24 Select the most appropriate option for blank 4.**

**Ans** ✓ 1. species

✗ 2. case

✗ 3. property

✗ 4. typical

Question Type : **MCQ**

Question ID : **630680551418**

Option 1 ID : **6306802155903**

Option 2 ID : **6306802155902**

Option 3 ID : **6306802155904**

Option 4 ID : **6306802155901**

Status : **Answered**

Chosen Option : **1**

**Comprehension:**

In the following passage, some words have been deleted. Read the passage carefully and select the most appropriate option to fill in each blank.

The eye of an ostrich is larger than its brain. Of all birds, ostriches have the 1. \_\_\_\_\_ eyes. Their eyes are the size of a pool ball, measuring around 2 inches in diameter. Their size is five times greater than that of human eyes. Ostriches have excellent vision, so their enormous eyes aren't just for show. Because of their height and keen 2. \_\_\_\_\_, the birds can see well over great distances, enabling them to identify potential 3. \_\_\_\_\_ before they approach.

In general, compared to mammals of comparable size, birds often have smaller brains. Ostrich brains are approximately 1.5 inches in width, the study found. Additionally, their average brain weight is almost 17 times lower than that of the three other 4. \_\_\_\_\_. When comparing the brain-to-body weight ratio of the other birds, the ostrich's brain was lighter than their body weight.

Some other facts concerning these birds are what set them apart. All other birds have three or four toes; this magnificent creature has only two. Ostriches bend their knees in a forward orientation; thus, they kick forward rather than backward. Furthermore, ostriches do not require water because they produce some of it internally and obtain the 5. \_\_\_\_\_ from the plants they consume.

**SubQuestion No : 25**

**Q.25** Select the most appropriate option for blank 5.

- Ans
- 1. every
  - 2. lesser
  - 3. each
  - 4. remainder

Question Type : **MCQ**

Question ID : **630680551419**

Option 1 ID : **6306802155907**

Option 2 ID : **6306802155908**

Option 3 ID : **6306802155906**

Option 4 ID : **6306802155905**

Status : **Not Answered**

Chosen Option : --