

## Multi Tasking Non Technical Staff and Havaladar CBIC and CBN Examination 2024

Roll Number	
Candidate Name	
Venue Name	B.B.S. Group of Institutions
Exam Date	13/11/2024
Exam Time	4:00 PM - 5:30 PM
Subject	MTS Non Tech Havaladar CBIC and CBN Examination 2024

### Section : Numerical and Mathematical Ability

Q.1 एक ठोस लम्ब वृत्तीय शंकु की त्रिज्या 36 cm है और इसकी ऊँचाई 105 cm है।

शंकु का कुल पृष्ठीय क्षेत्रफल ( $cm^2$  में) कितना है? ( $\pi = \frac{22}{7}$  का प्रयोग कीजिए)

- Ans
- 1. 18821
  - 2. 16632
  - 3. 17838
  - 4. 14856

Question Type : MCQ

Question ID : 630680378016

Option 1 ID : 6306801473124

Option 2 ID : 6306801473123

Option 3 ID : 6306801473126

Option 4 ID : 6306801473125

Status : Answered

Chosen Option : 2

Q.2 एक व्यक्ति 21 घंटे में एक यात्रा पूरी कर सकता है। वह यात्रा का शुरुआती एक तिहाई भाग 40 km/h की चाल से और शेष दूरी 60 km/h की चाल से तय करता है। उसकी यात्रा की कुल दूरी कितनी है?

- Ans
- 1. 360 km
  - 2. 1140 km
  - 3. 720 km
  - 4. 1080 km

Question Type : MCQ

Question ID : 630680233075

Option 1 ID : 630680904421

Option 2 ID : 630680904423

Option 3 ID : 630680904424

Option 4 ID : 630680904422

Status : Answered

Chosen Option : 4

Q.3 यदि  $49 : x :: x : 81$  और  $64 : y :: y : 169$  है, जहाँ  $x$  और  $y$  दोनों प्राकृत संख्याएँ हैं, तो  $2x + 3y$  का मान ज्ञात कीजिए।

- Ans
- 1. 312
  - 2. 126
  - 3. 348
  - 4. 438

Question Type : MCQ

Question ID : 630680239510

Option 1 ID : 630680928993

Option 2 ID : 630680928994

Option 3 ID : 630680928991

Option 4 ID : 630680928992

Status : Answered

Chosen Option : 4

Q.4 कोमल ने अपना स्कूटर ₹1980 में बेचा, जिससे उसे विक्रय मूल्य के  $\frac{1}{5}$  भाग के बराबर लाभ प्राप्त हुआ।

लाभ प्रतिशत ज्ञात कीजिए।

- Ans
- 1. 45%
  - 2. 40%
  - 3. 25%
  - 4. 20%

Question Type : MCQ

Question ID : 630680931112

Option 1 ID : 6306803649257

Option 2 ID : 6306803649255

Option 3 ID : 6306803649254

Option 4 ID : 6306803649256

Status : Answered

Chosen Option : 3

Q.5 दी गई तालिका का अध्ययन करें और उसके बाद पूछे जाने वाले प्रश्न का उत्तर दें।  
तालिका तीन छात्रों: A, B और C द्वारा गणित, रसायन विज्ञान और भौतिकी में प्राप्त अंकों को दर्शाती है।  
प्रत्येक विषय के अधिकतम अंक 100 हैं।

विषय → छात्र ↓	गणित	रसायन विज्ञान	भौतिकी
A	80	74	72
B	82	79	70
C	77	71	73

गणित और भौतिकी में प्रति छात्र औसत अंकों में क्रमशः कितना अंतर है?

- Ans
- 1. 6.5
  - 2. 8
  - 3. 8.5
  - 4. 6

Question Type : MCQ

Question ID : 630680523801

Option 1 ID : 6306802047356

Option 2 ID : 6306802047355

Option 3 ID : 6306802047358

Option 4 ID : 6306802047357

Status : Answered

Chosen Option : 2

Q.6 यदि एक आयत की लंबाई और चौड़ाई क्रमशः 7 cm और 5 cm है, तो आयत का क्षेत्रफल ज्ञात करें।

- Ans
- 1. 12 cm<sup>2</sup>
  - 2. 28 cm<sup>2</sup>
  - 3. 30 cm<sup>2</sup>
  - 4. 35 cm<sup>2</sup>

Question Type : MCQ

Question ID : 63068078469

Option 1 ID : 630680303927

Option 2 ID : 630680303926

Option 3 ID : 630680303928

Option 4 ID : 630680303925

Status : Answered

Chosen Option : 4

Q.7 एक निश्चित धनराशि पर, 6 वर्षों के लिए 6% की वार्षिक दर से और 8 वर्षों के लिए 8% की वार्षिक दर से अर्जित साधारण ब्याज में अंतर ₹1,176 है। धनराशि ज्ञात करें।

- Ans  1. ₹4,000  
 2. ₹4,200  
 3. ₹4,400  
 4. ₹3,800

Question Type : MCQ

Question ID : 6306801108823

Option 1 ID : 6306804355879

Option 2 ID : 6306804355880

Option 3 ID : 6306804355881

Option 4 ID : 6306804355878

Status : Answered

Chosen Option : 2

Q.8 किस राशि (₹ में) पर 20% प्रति वर्ष की ब्याज दर से 2 वर्षों में ₹360 का साधारण ब्याज अर्जित होगा?

- Ans  1. 1800  
 2. 900  
 3. 1200  
 4. 450

Question Type : MCQ

Question ID : 630680612185

Option 1 ID : 6306802395474

Option 2 ID : 6306802395472

Option 3 ID : 6306802395475

Option 4 ID : 6306802395473

Status : Answered

Chosen Option : 2

Q.9 एक आदमी 60 km/h की चाल से कार से 30 km की दूरी तय करता है और साइकिल से 20 km की एक और दूरी तय करता है। उसकी पूरी यात्रा 3 घंटे में पूरी होती है। साइकिल की चाल (km/h में) कितनी है?

- Ans  1. 10  
 2. 8  
 3. 6  
 4. 12

Question Type : MCQ

Question ID : 630680396872

Option 1 ID : 6306801547558

Option 2 ID : 6306801547557

Option 3 ID : 6306801547556

Option 4 ID : 6306801547559

Status : Answered

Chosen Option : 2

Q.10 दो संख्याओं के लसप (LCM) और मसप (HCF) का गुणनफल 24 है। यदि दोनों संख्याओं के बीच का अंतर 2 है, तो संख्याएँ ज्ञात कीजिए।

Ans  1. 6 और 4

2. 8 और 6

3. 2 और 4

4. 5 और 3

Question Type : MCQ

Question ID : 630680107354

Option 1 ID : 630680416783

Option 2 ID : 630680416780

Option 3 ID : 630680416782

Option 4 ID : 630680416781

Status : Answered

Chosen Option : 1

Q.11 एक किताब को अंकित मूल्य पर ₹480 में बेचने पर एक दुकानदार को 20% का लाभ होता है। रियायती बिक्री (clearance sale) के दौरान, दुकानदार अंकित मूल्य पर 10% की छूट देता है। बिक्री के दौरान उसका लाभ प्रतिशत क्या है?

Ans  1. 16%

2. 18%

3. 12%

4. 8%

Question Type : MCQ

Question ID : 630680500480

Option 1 ID : 6306801955542

Option 2 ID : 6306801955544

Option 3 ID : 6306801955543

Option 4 ID : 6306801955545

Status : Answered

Chosen Option : 4

Q.12 किस राशि (₹ में) पर 20% प्रति वर्ष की ब्याज दर से 3 वर्षों में ₹240 का साधारण ब्याज अर्जित होगा?

Ans  1. 200

2. 400

3. 600

4. 800

Question Type : MCQ

Question ID : 630680612175

Option 1 ID : 6306802395433

Option 2 ID : 6306802395432

Option 3 ID : 6306802395435

Option 4 ID : 6306802395434

Status : Answered

Chosen Option : 2

Q.13 40 kg, 49 kg, 56 kg, 68 kg और 37 kg वजन के पांच सदस्यों वाले परिवार का औसत वजन (kg में) ज्ञात कीजिए।

Ans  1. 51

2. 49

3. 50

4. 52

Question Type : MCQ

Question ID : 630680551646

Option 1 ID : 6306802156810

Option 2 ID : 6306802156811

Option 3 ID : 6306802156809

Option 4 ID : 6306802156812

Status : Answered

Chosen Option : 3

Q.14 रमेश ने एक घड़ी Rs.460 में खरीदी और उसे Rs.414 में बेच दिया। उसका हानि प्रतिशत ज्ञात कीजिए।

Ans  1. 11%

2. 10%

3. 20%

4. 5%

Question Type : MCQ

Question ID : 630680105377

Option 1 ID : 630680409579

Option 2 ID : 630680409580

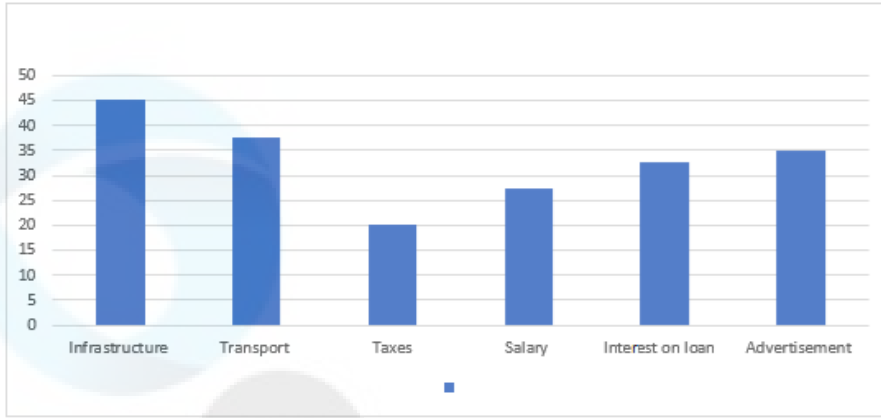
Option 3 ID : 630680409582

Option 4 ID : 630680409581

Status : Answered

Chosen Option : 2

Q.15 दिया गया बार-ग्राफ वर्ष 2022 में विभिन्न व्यय मदों के तहत एक विद्यालय के कुल व्यय (सैकड़ों में) का वितरण दर्शाता है।



संदर्भ: Infrastructure - इंफ्रास्ट्रक्चर, Transport - परिवहन, Taxes - कर, Salary - वेतन, Interest on loan - ऋण पर ब्याज, Advertisement - विज्ञापन

विद्यालय का कुल व्यय, विज्ञापन पर किए गए व्यय का कितना गुना है?

Ans

- 1. 97/14 गुना
- 2. 18 गुना
- 3. 79/14 गुना
- 4. 20 गुना

Question Type : MCQ

Question ID : 630680523741

Option 1 ID : 6306802047116

Option 2 ID : 6306802047115

Option 3 ID : 6306802047118

Option 4 ID : 6306802047117

Status : Answered

Chosen Option : 1

Q.16 40 kg, 49 kg, 56 kg, 69 kg और 39 kg वजन के पांच सदस्यों वाले परिवार का औसत वजन (kg में) ज्ञात कीजिए।

Ans

- 1. 51.6
- 2. 52.6
- 3. 50.6
- 4. 49.6

Question Type : MCQ

Question ID : 630680551653

Option 1 ID : 6306802156839

Option 2 ID : 6306802156840

Option 3 ID : 6306802156837

Option 4 ID : 6306802156838

Status : Answered

Chosen Option : 3

Q.17 एक स्कूल में एक परीक्षा में लड़कों का औसत स्कोर 71 है और लड़कियों का औसत स्कोर 73 है। स्कूल का औसत स्कोर 71.8 है। परीक्षा देने वाले लड़कों की संख्या और लड़कियों की संख्या का अनुपात ज्ञात करें।

Ans  1. 4 : 3

2. 3 : 2

3. 3 : 4

4. 2 : 3

Question Type : MCQ

Question ID : 630680404081

Option 1 ID : 6306801575811

Option 2 ID : 6306801575812

Option 3 ID : 6306801575810

Option 4 ID : 6306801575813

Status : Answered

Chosen Option : 2

Q.18 एक लंब वृत्ताकार बेलन के आधार का व्यास 98 cm है और इसकी ऊँचाई 42 cm है। इस बेलन का कुल पृष्ठीय क्षेत्रफल ज्ञात कीजिए। ( $\pi = \frac{22}{7}$  लीजिए)

Ans  1. 20882 cm<sup>2</sup>

2. 20828 cm<sup>2</sup>

3. 28082 cm<sup>2</sup>

4. 28028 cm<sup>2</sup>

Question Type : MCQ

Question ID : 630680387745

Option 1 ID : 6306801511617

Option 2 ID : 6306801511614

Option 3 ID : 6306801511616

Option 4 ID : 6306801511615

Status : Answered

Chosen Option : 4

Q.19 खिलाड़ियों के एक समूह में, 20 पहलवानों का औसत वजन 90 kg है, जबकि कुछ एथलीटों का औसत वजन 68 kg है। यदि सभी खिलाड़ियों का औसत वजन 78 kg हो, तो एथलीटों की संख्या ज्ञात कीजिए।

Ans  1. 30

2. 39

3. 52

4. 24

Question Type : MCQ

Question ID : 630680456322

Option 1 ID : 6306801782260

Option 2 ID : 6306801782259

Option 3 ID : 6306801782261

Option 4 ID : 6306801782262

Status : Answered

Chosen Option : 4

Q.20 आर्यन की लम्बाई 120 cm थी। 1 वर्ष के बाद, उसकी लम्बाई 15% बढ़ जाती है, और अगले 1 वर्ष में, उसकी लम्बाई 16% बढ़ जाती है। दूसरे वर्ष के अंत में आर्यन की लम्बाई (cm में) क्या होगी?

- Ans
- 1. 150.56
  - 2. 138
  - 3. 160.08
  - 4. 161.08

Question Type : MCQ

Question ID : 630680464546

Option 1 ID : 6306801814222

Option 2 ID : 6306801814221

Option 3 ID : 6306801814220

Option 4 ID : 6306801814219

Status : Answered

Chosen Option : 3

Section : Reasoning Ability and Problem Solving

Q.1 अंग्रेजी वर्णमाला क्रम के आधार पर CMGW एक निश्चित प्रकार से XHDT से संबंधित है। ठीक उसी प्रकार SCAQ, NXXN से संबंधित है। समान तर्क का अनुसरण करते हुए, ISUK निम्नलिखित में से किससे संबंधित है?

- Ans
- 1. DNRH
  - 2. EORG
  - 3. ENSH
  - 4. CMRG

Question Type : MCQ

Question ID : 630680528963

Option 1 ID : 6306802067842

Option 2 ID : 6306802067843

Option 3 ID : 6306802067840

Option 4 ID : 6306802067841

Status : Answered

Chosen Option : 1

Q.2 यदि '+' और '-' को आपस में बदल दिया जाए तथा 'x' और '÷' को आपस में बदल दिया जाए, तो निम्नलिखित समीकरण में प्रश्न-चिह्न (?) के स्थान पर क्या आएगा?  
 $81 \times 3 - 9 \div 3 + 2 = ?$

- Ans
- 1. 2
  - 2. 52
  - 3. 3
  - 4. 56

Question Type : MCQ

Question ID : 630680799068

Option 1 ID : 6306803131076

Option 2 ID : 6306803131074

Option 3 ID : 6306803131075

Option 4 ID : 6306803131077

Status : Answered

Chosen Option : 2

Q.3 A, E, I, O, U, S और K एक वृत्ताकार मेज के चारों ओर केंद्र की ओर मुख करके बैठे हैं (परंतु जरूरी नहीं कि वे इसी क्रम में बैठे हों)। K, O के ठीक दाएँ बैठा है। O और S दोनों का निकटतम पड़ोसी E है। I, न तो S और न ही A का निकटतम पड़ोसी है। U के ठीक दाएँ कौन बैठा है?

Ans  1. A

2. K

3. I

4. S

Question Type : **MCQ**

Question ID : **630680383183**

Option 1 ID : **6306801493639**

Option 2 ID : **6306801493641**

Option 3 ID : **6306801493642**

Option 4 ID : **6306801493640**

Status : **Answered**

Chosen Option : **3**

Q.4 दिए गए विकल्पों में से उस आकृति को चुनिए जो निम्नलिखित श्रृंखला में प्रश्न चिह्न (?) के स्थान पर आ सकती है और पैटर्न को पूरा कर सकती है।

△	☆		△	0	5	△	0	
	0		5				☆	?
5			0	☆	☆	△		5

Ans

✗ 1.

		5
	△	
☆		0

✗ 2.

5		
	△	
0		☆

✗ 3.

0		☆
	△	
5		

✓ 4.

		☆
	△	
5		0

Question Type : MCQ

Question ID : 630680441101

Option 1 ID : 6306801722060

Option 2 ID : 6306801722061

Option 3 ID : 6306801722058

Option 4 ID : 6306801722059

Status : Answered

Chosen Option : 4

Q.5 अंग्रेजी वर्णानुक्रम के आधार पर दी गई श्रृंखला में प्रश्न चिह्न (?) के स्थान पर क्या आना चाहिए?

AGK, FLP, KQU, PVZ, ?

- Ans
- 1. VGY
  - 2. UEA
  - 3. UES
  - 4. UAE

Question Type : MCQ

Question ID : 630680458064

Option 1 ID : 6306801789140

Option 2 ID : 6306801789143

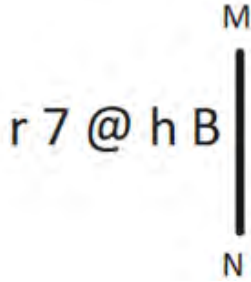
Option 3 ID : 6306801789141

Option 4 ID : 6306801789142

Status : Answered

Chosen Option : 4

Q.6 दी गई आकृति के उस सही दर्पण प्रतिबिंब को चुनिए, जो नीचे दर्शाए गए अनुसार दर्पण को MN पर रखने पर बनेगा।



- Ans
- 1. B h @ 7 r
  - 2. B h @ 7 r
  - 3. h B @ 7 r
  - 4. B y @ 7 r

Question Type : MCQ

Question ID : 630680525249

Option 1 ID : 6306802053083

Option 2 ID : 6306802053080

Option 3 ID : 6306802053081

Option 4 ID : 6306802053082

Status : Answered

Chosen Option : 1

Q.7 एक निश्चित तर्क के अनुसार 12, 61 से संबंधित है। उसी तर्क के अनुसार 15, 76 से संबंधित है। उसी तर्क के अनुसार 18, निम्नलिखित में से किससे संबंधित है?

(ध्यान दें: संख्याओं को उनके घटक अंकों में अलग-अलग किए बिना पूर्ण संख्याओं पर संक्रियाएं की जानी चाहिए। उदाहरण के लिए संख्या 13 - संख्या 13 पर संक्रियाएं जैसे 13 को जोड़ना/घटाना/गुणा करना आदि किया जा सकता है। 13 को 1 और 3 में अलग-अलग करने की और फिर 1 और 3 पर गणितीय संक्रियाएं करने की अनुमति नहीं है।)

- Ans
- 1. 95
  - 2. 97
  - 3. 91
  - 4. 93

Question Type : MCQ

Question ID : 6306801027549

Option 1 ID : 6306804032887

Option 2 ID : 6306804032888

Option 3 ID : 6306804032885

Option 4 ID : 6306804032886

Status : Answered

Chosen Option : 3

Q.8 एक निश्चित तर्क का अनुसरण करते हुए 2, 15 से संबंधित है। उसी तर्क का अनुसरण करते हुए 6, 43 से संबंधित है। उसी तर्क का अनुसरण करते हुए, 9 निम्नलिखित में से किससे संबंधित है?

(ध्यान दें: संख्याओं को उनके घटक अंकों में अलग-अलग किए बिना पूर्ण संख्याओं पर संक्रियाएं की जानी चाहिए। उदाहरण के लिए संख्या 13 - संख्या 13 पर संक्रियाएं जैसे 13 को जोड़ना/घटाना/गुणा करना आदि किया जा सकता है। 13 को 1 और 3 में अलग-अलग करने की और फिर 1 और 3 पर गणितीय संक्रियाएं करने की अनुमति नहीं है।)

- Ans
- 1. 53
  - 2. 64
  - 3. 58
  - 4. 68

Question Type : MCQ

Question ID : 630680799052

Option 1 ID : 6306803131013

Option 2 ID : 6306803131011

Option 3 ID : 6306803131012

Option 4 ID : 6306803131010

Status : Answered

Chosen Option : 2

Q.9 एक निश्चित कूट भाषा में, 'JUMP' को '4682' के रूप में कूटबद्ध किया जाता है और 'MIND' को '3741' के रूप में कूटबद्ध किया जाता है। दी गई कूट भाषा में 'M' के लिए कूट क्या है?

Ans  1. 8

2. 4

3. 3

4. 7

Question Type : MCQ

Question ID : 630680388106

Option 1 ID : 6306801513001

Option 2 ID : 6306801512998

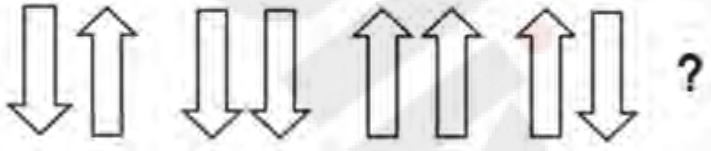
Option 3 ID : 6306801512999

Option 4 ID : 6306801513000

Status : Answered


Chosen Option : 2

Q.10 उस आकृति का चयन कीजिए जो निम्नलिखित श्रृंखला में प्रश्न चिह्न (?) के स्थान पर आ सकती है।




Ans

1.



2.



3.



4.



Question Type : MCQ

Question ID : 630680468014

Option 1 ID : 6306801827959

Option 2 ID : 6306801827958

Option 3 ID : 6306801827960

Option 4 ID : 6306801827961

Status : Answered

Chosen Option : 1

Q.11 एक निश्चित कूटभाषा में, 'black dark night' को 'ck th lp' के रूप में कूटबद्ध किया जाता है और 'dark cloudy sky' को 'eg lp sc' के रूप में कूटबद्ध किया जाता है। दी गई भाषा में 'dark' को कैसे कूटबद्ध किया जाएगा?

Ans  1. th

2. lp

3. sc

4. eg

Question Type : **MCQ**

Question ID : **630680825484**

Option 1 ID : **6306803233481**

Option 2 ID : **6306803233484**

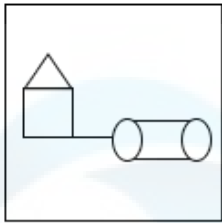
Option 3 ID : **6306803233483**

Option 4 ID : **6306803233482**

Status : **Answered**

Chosen Option : **2**

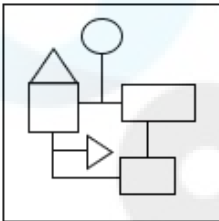
Q.12 उस विकल्प आकृति का चयन कीजिए, जिसमें दी गई आकृति (X) उसके भाग के रूप में सन्निहित है (घूर्णन की अनुमति नहीं है)।



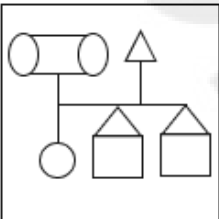
(X)

Ans

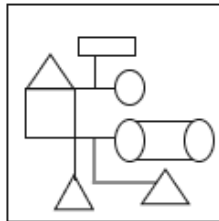
✗ 1.



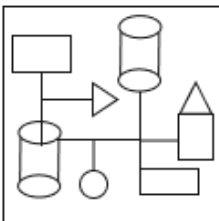
✗ 2.



✓ 3.



✗ 4.



Question Type : MCQ

Question ID : 630680487619

Option 1 ID : 6306801904547

Option 2 ID : 6306801904548

Option 3 ID : 6306801904549

Option 4 ID : 6306801904546

Status : Answered

Chosen Option : 3

Q.13 नीचे दिए गए कथनों और निष्कर्षों को ध्यान से पढ़िए। कथनों में दी गई जानकारी को सत्य मानते हुए, चाहे वह सामान्य रूप से ज्ञात तथ्यों से भिन्न प्रतीत होती हो, निर्धारित कीजिए कि कौन-सा/से निष्कर्ष, कथन (कथनों) का तार्किक रूप से अनुसरण करता है/करते हैं।

कथन:

कुछ वेतन, बोनस हैं।

सभी पारिश्रमिक, बोनस हैं।

निष्कर्ष:

(I) कुछ वेतन, पारिश्रमिक हैं।

(II) सभी बोनस, पारिश्रमिक हैं।

Ans  1. न तो निष्कर्ष (I) और न ही (II) अनुसरण करता है।

2. केवल निष्कर्ष (II) अनुसरण करता है।

3. निष्कर्ष (I) और (II) दोनों अनुसरण करते हैं।

4. केवल निष्कर्ष (I) अनुसरण करता है।

Question Type : MCQ

Question ID : 630680832756

Option 1 ID : 6306803262007

Option 2 ID : 6306803262006

Option 3 ID : 6306803262008

Option 4 ID : 6306803262005

Status : Answered

Chosen Option : 1

Q.14 दी गई श्रृंखला में प्रश्न चिह्न (?) के स्थान पर क्या आना चाहिए?

36, 39, 44, 51, 60, 71, 84, ?

Ans  1. 99

2. 97

3. 90

4. 95

Question Type : MCQ

Question ID : 630680402480

Option 1 ID : 6306801569484

Option 2 ID : 6306801569483

Option 3 ID : 6306801569486

Option 4 ID : 6306801569485

Status : Answered

Chosen Option : 1

Q.15 दिए गए कथनों और निष्कर्षों को ध्यानपूर्वक पढ़िए। यह मानते हुए कि कथनों में दी गई जानकारी सत्य है, चाहे वह सामान्यतः ज्ञात तथ्यों से भिन्न प्रतीत होती हो और निर्णय लीजिए कि दिए गए निष्कर्षों में से कौन-सा/कौन-से निष्कर्ष कथनों का तार्किक रूप से अनुसरण करता है/करते हैं।

कथन:

कुछ दरवाजे, चट्टानें हैं।  
सभी चट्टानें, जंगल हैं।

निष्कर्ष:

(I) कम से कम कुछ जंगल, दरवाजे हैं।  
(II) सभी जंगल, चट्टानें हैं।

- Ans
- 1. निष्कर्ष (I) और (II) दोनों अनुसरण करते हैं
  - 2. न तो निष्कर्ष (I) और न ही (II) अनुसरण करता है
  - 3. केवल निष्कर्ष (II) अनुसरण करता है
  - 4. केवल निष्कर्ष (I) अनुसरण करता है

Question Type : MCQ

Question ID : 630680404840

Option 1 ID : 6306801578854

Option 2 ID : 6306801578853

Option 3 ID : 6306801578852

Option 4 ID : 6306801578851

Status : Answered

Chosen Option : 4

Q.16 सात व्यक्ति A, B, C, D, E, F और G एक वृत्ताकार मेज के चारों ओर केंद्र की ओर मुख करके बैठे हैं (परंतु जरूरी नहीं कि वे इसी क्रम में बैठे हों)। D, F के बाईं ओर दूसरे स्थान पर बैठा है। A, B के दाईं ओर तीसरे स्थान पर बैठा है। C, D के ठीक दाईं ओर बैठा है। F और G के बीच में केवल दो व्यक्ति बैठे हैं। G के बाईं ओर से गिनती करने पर C और G के बीच में कितने व्यक्ति बैठे हैं?

- Ans
- 1. एक
  - 2. चार
  - 3. दो
  - 4. तीन

Question Type : MCQ

Question ID : 630680382734

Option 1 ID : 6306801491853

Option 2 ID : 6306801491854

Option 3 ID : 6306801491852

Option 4 ID : 6306801491851

Status : Answered

Chosen Option : 4

Q.17 एक निश्चित कूट भाषा में, 'shirt pant coat' को 'ek ph bq' के रूप में कूटबद्ध किया जाता है, 'coat jacket sweater' को 'ek lh to' के रूप में कूटबद्ध किया जाता है, 'jacket shirt watch' को 'fd bq lh' के रूप में कूटबद्ध किया जाता है। उस भाषा में 'coat' के लिए कूट क्या है? (नोट: सभी कूट केवल दो-अक्षर वाले कूट हैं।)

Ans  1. to

2. ek

3. bq

4. lh

Question Type : MCQ

Question ID : 630680436136

Option 1 ID : 6306801702488

Option 2 ID : 6306801702485

Option 3 ID : 6306801702486

Option 4 ID : 6306801702487

Status : Answered

Chosen Option : 2

Q.18 अंग्रेजी वर्णमाला क्रम के आधार पर GNEE एक निश्चित तरीके से JQHH से संबंधित है। उसी तरीके से BHYY, EKBB से संबंधित है। समान तर्क का अनुसरण करते हुए, QXOO निम्नलिखित में से किससे संबंधित है?

Ans  1. RRAT

2. ATRR

3. RRTA

4. TARR

Question Type : MCQ

Question ID : 630680386856

Option 1 ID : 6306801508137

Option 2 ID : 6306801508135

Option 3 ID : 6306801508136

Option 4 ID : 6306801508134

Status : Answered

Chosen Option : 4

Q.19 एक निश्चित कूट भाषा में, 'WEAR' को 'P110' के रूप में कूटबद्ध किया जाता है और 'EARS' को 'I40P' के रूप में कूटबद्ध किया जाता है। उसी कूट भाषा में 'S' का कूट क्या होगा?

Ans  1. P

2. I

3. O

4. 4

Question Type : MCQ

Question ID : 630680503084

Option 1 ID : 6306801965924

Option 2 ID : 6306801965921

Option 3 ID : 6306801965923

Option 4 ID : 6306801965922

Status : Answered

Chosen Option : 4

Q.20 यदि निम्नलिखित समीकरण में '-' और '÷' को आपस में बदल दिया जाए तथा '×' और '+' को आपस में बदल दिया जाए, तो इस समीकरण में '?' के स्थान पर क्या आएगा?  
 $70 \div 90 - 10 + 20 \times 80 = ?$

Ans  1. -40

2. -10

3. -30

4. -45

Question Type : MCQ

Question ID : 630680388346

Option 1 ID : 6306801513903

Option 2 ID : 6306801513905

Option 3 ID : 6306801513904

Option 4 ID : 6306801513902

Status : Answered

Chosen Option : 3

Section : General Awareness

Q.1 भारत में निम्नलिखित में से कौन-सा युग, लौह युग से भी संबंधित है?

Ans  1. उत्तर वैदिक युग

2. नवपाषाण युग

3. हड़प्पा युग

4. पुरापाषाण युग

Question Type : MCQ

Question ID : 63068070537

Option 1 ID : 630680272773

Option 2 ID : 630680272772

Option 3 ID : 630680272770

Option 4 ID : 630680272771

Status : Answered

Chosen Option : 2

Q.2 अमृतसर में अंग्रेजों द्वारा जलियांवाला बाग हत्याकांड को कब अंजाम दिया गया था?

Ans  1. 23 अप्रैल, 1918

2. 13 अप्रैल, 1919

3. 13 अप्रैल, 1918

4. 13 मार्च 1919

Question Type : MCQ

Question ID : 630680326303

Option 1 ID : 6306801269303

Option 2 ID : 6306801269304

Option 3 ID : 6306801269302

Option 4 ID : 6306801269301

Status : Answered

Chosen Option : 2

Q.3 9वें एशियाई खेलों (Asian Games) की मेजबानी निम्नलिखित में से किस देश ने की थी?

- Ans
- 1. जापान
  - 2. भारत
  - 3. दक्षिण कोरिया
  - 4. चीन

Question Type : MCQ

Question ID : 630680799008

Option 1 ID : 6306803130835

Option 2 ID : 6306803130834

Option 3 ID : 6306803130837

Option 4 ID : 6306803130836

Status : Answered

Chosen Option : 2

Q.4 एक बच्चा खाना खाने में नखरे करता है। वह दूध का जरा भी सेवन नहीं करता है और अन्य प्रकार का भोजन भी मुश्किल से खाता है। जब उसके दूध के दाँत गिरने लगे तो उनकी जगह नए दाँत नहीं आ रहे थे। इसका निदान उसे \_\_\_\_\_ देकर किया जा सकता है।

- Ans
- 1. विटामिन B संकुल (vitamin B complex)
  - 2. कैल्शियम परिपूरक (calcium supplements)
  - 3. विटामिन C (vitamin C)
  - 4. कार्बोहाइड्रेट युक्त भोजन (carbohydrate-rich food)

Question Type : MCQ

Question ID : 630680539614

Option 1 ID : 6306802109584

Option 2 ID : 6306802109582

Option 3 ID : 6306802109583

Option 4 ID : 6306802109581

Status : Answered

Chosen Option : 2

Q.5 कला रामनाथ (Kala Ramnath) निम्नलिखित में से किस घराने से संबंधित थी?

- Ans
- 1. मेवाती घराना
  - 2. आगरा घराना
  - 3. इंदौर घराना
  - 4. किराना घराना

Question Type : MCQ

Question ID : 630680488696

Option 1 ID : 6306801908799

Option 2 ID : 6306801908801

Option 3 ID : 6306801908802

Option 4 ID : 6306801908800

Status : Answered

Chosen Option : 3

Q.6 प्रत्येक वर्ष, कार्तिक पूर्णिमा, पुष्कर में पशुधन मेले के अंत का प्रतीक है, जहां प्रदर्शन में मुख्य जानवर कौन-सा है?

- Ans
- 1. गाय
  - 2. घोड़ा
  - 3. भैंस
  - 4. ऊँट

Question Type : MCQ

Question ID : 630680798928

Option 1 ID : 6306803130518

Option 2 ID : 6306803130521

Option 3 ID : 6306803130519

Option 4 ID : 6306803130520

Status : Answered

Chosen Option : 4

Q.7 सुनामी एक प्राकृतिक आपदा है जो समुद्र से उत्पन्न होती है। समुद्र में सुनामी का कारण है।

- Ans
- 1. समुद्र में अधिक मात्रा में रेडियोधर्मी प्रदूषकों का जमा होना
  - 2. समुद्र के नीचे टेक्टोनिक प्लेटों का हिलना
  - 3. जल में अम्ल की मात्रा चिंताजनक रूप से बढ़ते जाना
  - 4. जल में अत्यधिक कार्बन डाइऑक्साइड की उपस्थिति

Question Type : MCQ

Question ID : 630680404259

Option 1 ID : 6306801576540

Option 2 ID : 6306801576538

Option 3 ID : 6306801576539

Option 4 ID : 6306801576541

Status : Answered

Chosen Option : 2

Q.8 \_\_\_\_\_ के क्षेत्र में केलुचरण महापात्र और रघुनाथ दत्ता जैसे उस्तादों ने 1940 के दशक के अंत में इस कला शैली के पुनरुद्धार का नेतृत्व किया था।

- Ans
- 1. सख्तिया
  - 2. ओडिसी
  - 3. छऊ
  - 4. मणिपुरी

Question Type : MCQ

Question ID : 630680554552

Option 1 ID : 6306802167981

Option 2 ID : 6306802167978

Option 3 ID : 6306802167980

Option 4 ID : 6306802167979

Status : Answered

Chosen Option : 2

Q.9 नवंबर 2021 में गुजरात की बेरोजगारी दर क्या थी?

Ans  1. 4.4%

2. 1.4%

3. 3.4%

4. 2.4%

Question Type : **MCQ**

Question ID : **63068069569**

Option 1 ID : **630680268942**

Option 2 ID : **630680268945**

Option 3 ID : **630680268943**

Option 4 ID : **630680268944**

Status : **Answered**

Chosen Option : 2

Q.10 जब कोई निचली अदालत किसी मामले को अपने अधिकार क्षेत्र से बाहर मानती है तो उच्च न्यायालय या सर्वोच्च न्यायालय द्वारा कौन-सी रिट (writ) जारी की जाती है?

Ans  1. अधिकार पृच्छा (Quo warranto)

2. परमादेश (Mandamus)

3. बन्दी प्रत्यक्षीकरण (Habeas Corpus)

4. निषेधाज्ञा (Prohibition)

Question Type : **MCQ**

Question ID : **630680270112**

Option 1 ID : **6306801049702**

Option 2 ID : **6306801049701**

Option 3 ID : **6306801049700**

Option 4 ID : **6306801049699**

Status : **Answered**

Chosen Option : 1

Q.11 आदिवासी लोक नृत्य गुसाडी (Gussadi) को जीवित रखने वाले कनक राजू को 2021 में भारत के निम्नलिखित में से किस नागरिक पुरस्कार से सम्मानित किया गया?

Ans  1. पद्म भूषण

2. भारत रत्न

3. पद्म विभूषण

4. पद्म श्री

Question Type : **MCQ**

Question ID : **630680433369**

Option 1 ID : **6306801691445**

Option 2 ID : **6306801691446**

Option 3 ID : **6306801691443**

Option 4 ID : **6306801691444**

Status : **Answered**

Chosen Option : 1

Q.12 सिंधु जल संधि भारत और पाकिस्तान के बीच \_\_\_\_\_ में हुई थी।

Ans  1. 1960

2. 1955

3. 1965

4. 1970

Question Type : MCQ

Question ID : 630680477105

Option 1 ID : 6306801863615

Option 2 ID : 6306801863614

Option 3 ID : 6306801863616

Option 4 ID : 6306801863613

Status : Answered

Chosen Option : 1

Q.13 भारत में निम्नलिखित में से कौन-सा संगठन उपग्रह डेटा के अधिग्रहण और उसके प्रसंस्करण के लिए सुविधाएं प्रदान करता है?

Ans  1. राष्ट्रीय सुदूर संवेदन केंद्र (NRSC)

2. वन अनुसंधान संस्थान (FRI)

3. भारतीय सुदूर संवेदन संस्थान (IIRS)

4. भारतीय वन्यजीव संस्थान (WII)

Question Type : MCQ

Question ID : 630680482445

Option 1 ID : 6306801884259

Option 2 ID : 6306801884258

Option 3 ID : 6306801884256

Option 4 ID : 6306801884257

Status : Answered

Chosen Option : 1

Q.14 अंग्रेजी उपन्यास 'वोटिंग एट फोस्टरगंज (Voting at Fosterganj)' के लेखक कौन हैं?

Ans  1. अक्षय गुप्ता

2. सुधा मूर्ति

3. आर.के. नारायण

4. रस्किन बांड

Question Type : MCQ

Question ID : 630680512100

Option 1 ID : 6306802001373

Option 2 ID : 6306802001372

Option 3 ID : 6306802001370

Option 4 ID : 6306802001371

Status : Not Answered

Chosen Option : --

Q.15 2011 की जनगणना के अनुसार, निम्नलिखित में से किस राज्य में बाल लिंगानुपात सबसे कम है?

- Ans
- 1. राजस्थान
  - 2. पंजाब
  - 3. हरियाणा
  - 4. मध्य प्रदेश

Question Type : MCQ

Question ID : 630680510920

Option 1 ID : 6306801996812

Option 2 ID : 6306801996811

Option 3 ID : 6306801996810

Option 4 ID : 6306801996813

Status : Answered

Chosen Option : 3

Q.16 भारतीय संविधान के अनुच्छेद 157 के अनुसार किसी व्यक्ति को राज्यपाल के तौर पर नियुक्त होने के लिए \_\_\_\_\_ वर्ष की आयु पूरी करना आवश्यक है।

- Ans
- 1. 41
  - 2. 32
  - 3. 45
  - 4. 35

Question Type : MCQ

Question ID : 630680493668

Option 1 ID : 6306801928402

Option 2 ID : 6306801928400

Option 3 ID : 6306801928403

Option 4 ID : 6306801928401

Status : Answered

Chosen Option : 4

Q.17 नगर दुर्ग क्षेत्र (Citadel area) में एक विशाल मिट्टी की/के \_\_\_\_\_ का चबूतरा (platform) है, जो 6 m ऊँचा है और सभी निर्माण का आधार है।

- Ans
- 1. ईंट
  - 2. चट्टान
  - 3. लकड़ी
  - 4. पत्थर

Question Type : MCQ

Question ID : 630680511898

Option 1 ID : 6306802000564

Option 2 ID : 6306802000562

Option 3 ID : 6306802000565

Option 4 ID : 6306802000563

Status : Answered

Chosen Option : 1

Q.18 ओजोन के संबंध में गलत कथन का चयन कीजिए।

- Ans
- 1. पराबैंगनी विकिरण से त्वचा का कैंसर होता है।
  - 2. पराबैंगनी विकिरण की उपस्थिति में ऑक्सीजन से ओजोन का निर्माण होता है।
  - 3. ओजोन एक जानलेवा विषाक्त गैस है।
  - 4. ओजोन (O<sub>3</sub>), ऑक्सीजन की भाँति, एक जीवनदायी गैस है।

Question Type : MCQ

Question ID : 630680421838

Option 1 ID : 6306801645795

Option 2 ID : 6306801645793

Option 3 ID : 6306801645794

Option 4 ID : 6306801645792

Status : Answered

Chosen Option : 4

Q.19 श्रीलंका की पुरानी राजधानी अनुराधापुर (Anuradhapura) को 10वीं शताब्दी ईस्वी (10<sup>th</sup> century AD) में दक्षिण भारत के निम्नलिखित में से किस राजवंश द्वारा नष्ट कर दिया गया था?

- Ans
- 1. राष्ट्रकूट
  - 2. वेंगी के चालुक्य
  - 3. चोल
  - 4. बादामी के चालुक्य

Question Type : MCQ

Question ID : 630680333525

Option 1 ID : 6306801297373

Option 2 ID : 6306801297376

Option 3 ID : 6306801297374

Option 4 ID : 6306801297375

Status : Not Answered

Chosen Option : --

Q.20 जनवरी 2023 में, चीफ मिनिस्टर्स रेजिडेंशियल लैंड राइट्स स्कीम (मुख्यमंत्री आवासीय भू अधिकार योजना) किस भारतीय राज्य में शुरू की गई थी?

- Ans
- 1. उत्तर प्रदेश
  - 2. पंजाब
  - 3. मध्य प्रदेश
  - 4. हरियाणा

Question Type : MCQ

Question ID : 630680469429

Option 1 ID : 6306801833485

Option 2 ID : 6306801833483

Option 3 ID : 6306801833486

Option 4 ID : 6306801833484

Status : Not Answered

Chosen Option : --

Q.21 बंगाल में नियोजित बड़े पैमाने पर रेल संचार में व्यवधान और हथियारों की जब्ती \_\_\_\_\_ के नेतृत्व में की गई थी।

- Ans  1. जतिन मुखर्जी  
 2. अरबिंदो घोष  
 3. सुरेंद्रनाथ बनर्जी  
 4. चितरंजन दास

Question Type : MCQ  
Question ID : 630680214229  
Option 1 ID : 630680830964  
Option 2 ID : 630680830963  
Option 3 ID : 630680830966  
Option 4 ID : 630680830965  
Status : Answered  
Chosen Option : 2

Q.22 संसदीय कार्य, कोयला और खान मंत्री \_\_\_\_\_ के नेतृत्व में एक भारतीय संसदीय प्रतिनिधिमंडल ने 11 से 13 जून 2023 तक ब्राजील का दौरा किया।

- Ans  1. वीरेन्द्र कुमार  
 2. नारायण राणे  
 3. प्रह्लाद जोशी  
 4. अर्जुन मुंडा

Question Type : MCQ  
Question ID : 630680468941  
Option 1 ID : 6306801831534  
Option 2 ID : 6306801831532  
Option 3 ID : 6306801831531  
Option 4 ID : 6306801831533  
Status : Answered  
Chosen Option : 3

Q.23 यूरेनियम (U) का परमाणु क्रमांक क्या है?

- Ans  1. 90  
 2. 104  
 3. 94  
 4. 92

Question Type : MCQ  
Question ID : 630680411206  
Option 1 ID : 6306801603580  
Option 2 ID : 6306801603583  
Option 3 ID : 6306801603582  
Option 4 ID : 6306801603581  
Status : Answered  
Chosen Option : 4

Q.24 निम्नलिखित में से किसे सकल राष्ट्रीय उत्पाद के आकलन (estimation) में शामिल किया जाता है?

- Ans  1. नई शर्टों की बिक्री  
 2. पेंशन भुगतान  
 3. पुरानी कारों की बिक्री  
 4. प्रतिभूतियों की बिक्री

Question Type : MCQ

Question ID : 63068059127

Option 1 ID : 630680228133

Option 2 ID : 630680228131

Option 3 ID : 630680228132

Option 4 ID : 630680228130

Status : Answered

Chosen Option : 4

Q.25 निम्नलिखित में से कौन-सा भारतीय शहर 2023 में ICC पुरुष विश्व कप फाइनल क्रिकेट मैच का मेजबान था?

- Ans  1. चेन्नई  
 2. नई दिल्ली  
 3. मुंबई  
 4. अहमदाबाद

Question Type : MCQ

Question ID : 630680799002

Option 1 ID : 6306803130813

Option 2 ID : 6306803130812

Option 3 ID : 6306803130810

Option 4 ID : 6306803130811

Status : Answered

Chosen Option : 4

Section : English Language and Comprehension

Q.1 The following sentence has been split into four segments. Identify the segment that contains a grammatical error.

(1) We knocked around (2) early on Saturday (3) to enjoy (4) the beautiful weather.

- Ans  1. We knocked across  
 2. to enjoy  
 3. the beautiful weather.  
 4. early on Saturday

Question Type : MCQ

Question ID : 63068082678

Option 1 ID : 630680320640

Option 2 ID : 630680320642

Option 3 ID : 630680320643

Option 4 ID : 630680320641

Status : Answered

Chosen Option : 1

**Q.2** Select the most appropriate option that can substitute the underlined words in the given sentence.

Adi had not only assisted her by giving evidence in the case but also provided many examples to prove her point in the court.

- Ans
- 1. assisted not only her by
  - 2. assisted her not only by
  - 3. assisted her only not by
  - 4. assisted not only by her

Question Type : **MCQ**  
Question ID : **630680404608**  
Option 1 ID : **6306801577934**  
Option 2 ID : **6306801577932**  
Option 3 ID : **6306801577933**  
Option 4 ID : **6306801577931**  
Status : **Answered**  
Chosen Option : **2**

**Q.3** Parts of the following sentence have been given as options. Select the option that contains an error.

Please hang with for two minutes while I finish cleaning the utensils.

- Ans
- 1. for two minutes
  - 2. Please hang with
  - 3. while I finish cleaning
  - 4. the utensils

Question Type : **MCQ**  
Question ID : **630680514357**  
Option 1 ID : **6306802010054**  
Option 2 ID : **6306802010053**  
Option 3 ID : **6306802010055**  
Option 4 ID : **6306802010056**  
Status : **Answered**  
Chosen Option : **2**

**Q.4** Parts of the following sentence have been given as options. Select the option that contains an error.

My aunt came from Switzerland by the flight which was landing at 5:00 a.m. yesterday.

- Ans
- 1. flight which was landing
  - 2. at 5:00 a.m. yesterday.
  - 3. My aunt came from
  - 4. Switzerland by the

Question Type : **MCQ**  
Question ID : **630680397282**  
Option 1 ID : **6306801549186**  
Option 2 ID : **6306801549187**  
Option 3 ID : **6306801549184**  
Option 4 ID : **6306801549185**  
Status : **Answered**  
Chosen Option : **1**

Q.5 Select the INCORRECTLY spelt word.

- Ans  1. Creative  
 2. Credeble  
 3. Devoted  
 4. Explosive

Question Type : MCQ

Question ID : 630680539877

Option 1 ID : 6306802110611

Option 2 ID : 6306802110608

Option 3 ID : 6306802110609

Option 4 ID : 6306802110610

Status : Answered

Chosen Option : 2

Q.6 Select the option that can be used as a one-word substitute for the given group of words.

A serpent having many heads in Greek mythology

- Ans  1. Python  
 2. Eopsin  
 3. Cobra  
 4. Hydra

Question Type : MCQ

Question ID : 630680565570

Option 1 ID : 6306802211229

Option 2 ID : 6306802211227

Option 3 ID : 6306802211228

Option 4 ID : 6306802211226

Status : Answered

Chosen Option : 2

Q.7 दिए गए वाक्य में रेखांकित शब्द के लिए सबसे उपयुक्त विलोम शब्द (ANTONYM) चुनें।

The vegetation in this area of the forest is very dense.

- Ans  1. Spatial  
 2. Spare  
 3. Spruce  
 4. Sparse

Question Type : MCQ

Question ID : 630680439319

Option 1 ID : 6306801715079

Option 2 ID : 6306801715078

Option 3 ID : 6306801715077

Option 4 ID : 6306801715076

Status : Answered

Chosen Option : 2

**Q.8 Select the correctly spelled sentence.**

- Ans  1. The scientist discovered a new planet in the galaxy.  
 2. The scientist discovered a new planet in the galaxy.  
 3. The sceintist discovered a new palnet in the galaxy.  
 4. The scientist discovered a new planet in the galaxy.

Question Type : **MCQ**  
Question ID : **630680616025**  
Option 1 ID : **6306802410802**  
Option 2 ID : **6306802410803**  
Option 3 ID : **6306802410804**  
Option 4 ID : **6306802410805**  
Status : **Answered**  
Chosen Option : **4**

**Q.9 Select the INCORRECTLY spelt word.**

- Ans  1. Throw  
 2. Eternal  
 3. Novelist  
 4. Infnite

Question Type : **MCQ**  
Question ID : **630680435674**  
Option 1 ID : **6306801700624**  
Option 2 ID : **6306801700621**  
Option 3 ID : **6306801700623**  
Option 4 ID : **6306801700622**  
Status : **Answered**  
Chosen Option : **4**

**Q.10 Select the appropriate option that can substitute the underlined idiom in the given sentence.**

The interns explained the whole issue to the coordinator in a nutshell.

- Ans  1. in a secret way  
 2. in a brief manner  
 3. in a discouraging manner  
 4. in an uncertain way

Question Type : **MCQ**  
Question ID : **630680134117**  
Option 1 ID : **630680519364**  
Option 2 ID : **630680519365**  
Option 3 ID : **630680519363**  
Option 4 ID : **630680519362**  
Status : **Answered**  
Chosen Option : **2**

Q.11 Select the most appropriate option to fill in the blank.

With the increasing reliance on digital systems, ensuring robust cybersecurity measures is \_\_\_\_\_ to protect against online threats.

- Ans
- 1. superfluous
  - 2. extraneous
  - 3. paramount
  - 4. impartial

Question Type : MCQ

Question ID : 630680480882

Option 1 ID : 6306801878126

Option 2 ID : 6306801878127

Option 3 ID : 6306801878125

Option 4 ID : 6306801878128

Status : Marked For Review

Chosen Option : 4

Q.12 दिए गए शब्द के सबसे उपयुक्त पर्यायवाची शब्द का चयन कीजिए।

Hamper

- Ans
- 1. Irritate
  - 2. Pamper
  - 3. Hinder
  - 4. Gift

Question Type : MCQ

Question ID : 630680393361

Option 1 ID : 6306801533773

Option 2 ID : 6306801533772

Option 3 ID : 6306801533770

Option 4 ID : 6306801533771

Status : Not Answered

Chosen Option : --

Q.13 Select the most appropriate antonym for the word provided in the bracket to fill in the blank.

The professor delivered a \_\_\_\_\_ lecture on quantum physics. (simplified)

- Ans
- 1. Complex
  - 2. Plain
  - 3. Refined
  - 4. Lengthy

Question Type : MCQ

Question ID : 630680517326

Option 1 ID : 6306802021702

Option 2 ID : 6306802021700

Option 3 ID : 6306802021701

Option 4 ID : 6306802021703

Status : Answered

Chosen Option : 4

Q.14 Identify the error in the usage of the future tense in the given sentence and choose the correct sentence from the following options.

Parvati finish the painting in one hour.

- Ans  1. Parvati will finish the painting in one hour.  
 2. Parvati had been finishing the painting in one hour.  
 3. Parvati has been finishing the painting in one hour.  
 4. Parvati was finished the painting in one hour.

Question Type : MCQ

Question ID : 630680549053

Option 1 ID : 6306802146689

Option 2 ID : 6306802146688

Option 3 ID : 6306802146690

Option 4 ID : 6306802146691

Status : Answered

Chosen Option : 1

Q.15 Select the most appropriate option that can substitute the underlined segment in the given sentence.

Whoever got the few answers correct has to leave the room.

- Ans  1. most few  
 2. more fewer  
 3. fewest  
 4. fewer

Question Type : MCQ

Question ID : 630680514596

Option 1 ID : 6306802011011

Option 2 ID : 6306802011010

Option 3 ID : 6306802011012

Option 4 ID : 6306802011009

Status : Answered

Chosen Option : 3

Q.16 Select the most appropriate option to fill in the blanks.

A buzzing \_\_\_\_\_ can \_\_\_\_\_ dangerous.

- Ans  1. be; bee  
 2. dear; deer  
 3. bee; be  
 4. deer; dear

Question Type : MCQ

Question ID : 630680517443

Option 1 ID : 6306802022169

Option 2 ID : 6306802022171

Option 3 ID : 6306802022168

Option 4 ID : 6306802022170

Status : Answered

Chosen Option : 3

**Q.17** Parts of the following sentence have been given as options. Select the option that contains an error.  
The car which I bought last year was cheap than my bike.

- Ans
- 1. last year
  - 2. was cheap than my bike
  - 3. which I bought
  - 4. The car

Question Type : **MCQ**  
Question ID : **630680514376**  
Option 1 ID : **6306802010131**  
Option 2 ID : **6306802010132**  
Option 3 ID : **6306802010130**  
Option 4 ID : **6306802010129**  
Status : **Answered**  
Chosen Option : **2**

**Q.18** Select the most appropriate meaning of the given idiom/phrase.

**Throw in the towel**

- Ans
- 1. To give up or surrender
  - 2. To prepare to fight
  - 3. To take responsibility for a situation while another person is temporarily absent
  - 4. To cause an activity or process to continue

Question Type : **MCQ**  
Question ID : **630680545706**  
Option 1 ID : **6306802133412**  
Option 2 ID : **6306802133413**  
Option 3 ID : **6306802133414**  
Option 4 ID : **6306802133415**  
Status : **Answered**  
Chosen Option : **1**

**Q.19** Select the most appropriate option to fill in the blank.

The plan was very \_\_\_\_\_ and took a lot of time to develop.

- Ans
- 1. elaborate
  - 2. being elaborate
  - 3. elaborates
  - 4. elaboration

Question Type : **MCQ**  
Question ID : **630680553932**  
Option 1 ID : **6306802165582**  
Option 2 ID : **6306802165585**  
Option 3 ID : **6306802165583**  
Option 4 ID : **6306802165584**  
Status : **Answered**  
Chosen Option : **2**

**Q.20** Select the most appropriate ANTONYM for the underlined word in the given sentence.

Her profile was complete on the company website.

Ans  1. incomplete

2. created

3. uploaded

4. received

Question Type : **MCQ**

Question ID : **630680502809**

Option 1 ID : **6306801964817**

Option 2 ID : **6306801964819**

Option 3 ID : **6306801964818**

Option 4 ID : **6306801964820**

Status : **Answered**

Chosen Option : **1**

**Comprehension:**

In the following passage, some words have been deleted. Read the passage carefully and select the most appropriate option to fill in each blank.

Until that moment, every director in Hollywood had accepted as gospel (1)\_\_\_\_\_ that the audience should not be taxed too much. Welles struck a (2)\_\_\_\_\_ at these beliefs, without displaying the slightest of qualms. Visually, 'Citizen Kane' was shot with a harsh sharpness which (3)\_\_\_\_\_ every scene. Traditionally, every make-up man and cameraman in Hollywood had to keep a careful (4)\_\_\_\_\_ on the appearance of the heroine. Welles refused to follow this (5)\_\_\_\_\_ in the case of his own heroine. For the first time, dialogue was presented in its realistic form.

**SubQuestion No : 21**

**Q.21** Select the most appropriate option to fill in blank number 1

Ans  1. truth

2. followers

3. blasphemy

4. Bible

Question Type : **MCQ**

Question ID : **630680634022**

Option 1 ID : **6306802481969**

Option 2 ID : **6306802481971**

Option 3 ID : **6306802481970**

Option 4 ID : **6306802481968**

Status : **Answered**

Chosen Option : **2**

**Comprehension:**

In the following passage, some words have been deleted. Read the passage carefully and select the most appropriate option to fill in each blank.

Until that moment, every director in Hollywood had accepted as gospel (1)\_\_\_\_\_ that the audience should not be taxed too much. Welles struck a (2)\_\_\_\_\_ at these beliefs, without displaying the slightest of qualms. Visually, 'Citizen Kane' was shot with a harsh sharpness which (3)\_\_\_\_\_ every scene. Traditionally, every make-up man and cameraman in Hollywood had to keep a careful (4)\_\_\_\_\_ on the appearance of the heroine. Welles refused to follow this (5)\_\_\_\_\_ in the case of his own heroine. For the first time, dialogue was presented in its realistic form.

**SubQuestion No : 22**

**Q.22 Select the most appropriate option to fill in blank number 2**

- Ans
- 1. blue
  - 2. bellow
  - 3. blow
  - 4. blew

Question Type : **MCQ**

Question ID : **630680634023**

Option 1 ID : **6306802481973**

Option 2 ID : **6306802481975**

Option 3 ID : **6306802481972**

Option 4 ID : **6306802481974**

Status : **Answered**

Chosen Option : **3**

**Comprehension:**

In the following passage, some words have been deleted. Read the passage carefully and select the most appropriate option to fill in each blank.

Until that moment, every director in Hollywood had accepted as gospel (1)\_\_\_\_\_ that the audience should not be taxed too much. Welles struck a (2)\_\_\_\_\_ at these beliefs, without displaying the slightest of qualms. Visually, 'Citizen Kane' was shot with a harsh sharpness which (3)\_\_\_\_\_ every scene. Traditionally, every make-up man and cameraman in Hollywood had to keep a careful (4)\_\_\_\_\_ on the appearance of the heroine. Welles refused to follow this (5)\_\_\_\_\_ in the case of his own heroine. For the first time, dialogue was presented in its realistic form.

**SubQuestion No : 23**

**Q.23 Select the most appropriate option to fill in blank number 3**

- Ans
- 1. permeated
  - 2. permitted
  - 3. promoted
  - 4. prevented

Question Type : **MCQ**

Question ID : **630680634024**

Option 1 ID : **6306802481978**

Option 2 ID : **6306802481977**

Option 3 ID : **6306802481976**

Option 4 ID : **6306802481979**

Status : **Answered**

Chosen Option : **3**

**Comprehension:**

In the following passage, some words have been deleted. Read the passage carefully and select the most appropriate option to fill in each blank.

Until that moment, every director in Hollywood had accepted as gospel (1)\_\_\_\_\_ that the audience should not be taxed too much. Welles struck a (2)\_\_\_\_\_ at these beliefs, without displaying the slightest of qualms. Visually, 'Citizen Kane' was shot with a harsh sharpness which (3)\_\_\_\_\_ every scene. Traditionally, every make-up man and cameraman in Hollywood had to keep a careful (4)\_\_\_\_\_ on the appearance of the heroine. Welles refused to follow this (5)\_\_\_\_\_ in the case of his own heroine. For the first time, dialogue was presented in its realistic form.

**SubQuestion No : 24**

**Q.24 Select the most appropriate option to fill in blank number 4**

- Ans
- 1. ear
  - 2. leg
  - 3. eye
  - 4. nose

Question Type : **MCQ**

Question ID : **630680634025**

Option 1 ID : **6306802481980**

Option 2 ID : **6306802481982**

Option 3 ID : **6306802481981**

Option 4 ID : **6306802481983**

Status : **Answered**

Chosen Option : **3**

**Comprehension:**

In the following passage, some words have been deleted. Read the passage carefully and select the most appropriate option to fill in each blank.

Until that moment, every director in Hollywood had accepted as gospel (1)\_\_\_\_\_ that the audience should not be taxed too much. Welles struck a (2)\_\_\_\_\_ at these beliefs, without displaying the slightest of qualms. Visually, 'Citizen Kane' was shot with a harsh sharpness which (3)\_\_\_\_\_ every scene. Traditionally, every make-up man and cameraman in Hollywood had to keep a careful (4)\_\_\_\_\_ on the appearance of the heroine. Welles refused to follow this (5)\_\_\_\_\_ in the case of his own heroine. For the first time, dialogue was presented in its realistic form.

**SubQuestion No : 25**

**Q.25 Select the most appropriate option to fill in blank number 5**

- Ans
- 1. practicals
  - 2. prose
  - 3. practise
  - 4. practice

Question Type : **MCQ**

Question ID : **630680634026**

Option 1 ID : **6306802481985**

Option 2 ID : **6306802481986**

Option 3 ID : **6306802481984**

Option 4 ID : **6306802481987**

Status : **Answered**

Chosen Option : **4**