

## Multi Tasking Non Technical Staff and Havalдар CBIC and CBN Examination 2024

Roll Number	
Candidate Name	
Venue Name	iON Digital Zone iDZ Asansol
Exam Date	14/10/2024
Exam Time	9:00 AM - 11:00 AM
Subject	MTS Non Tech Havalдар CBIC and CBN Examination 2024

### Section : Numerical and Mathematical Ability

Q.1 एक नाव स्थिर जल में 28 km/h की चाल से यात्रा कर सकती है। यदि धारा की चाल 4 km/h है और यदि नाव धारा के अनुकूल 192 km की यात्रा करती है, वहां एक घंटे के लिए रुकती है और फिर प्रारंभिक बिंदु पर वापस आती है, तो नाव की औसत चाल (km/h में) क्या है?

Ans  1. 25.6

2. 24.8

3. 36.5

4. 28.5

Question Type : MCQ

Question ID : 630680122791

Option 1 ID : 630680476075

Option 2 ID : 630680476076

Option 3 ID : 630680476077

Option 4 ID : 630680476074

Status : Answered

Chosen Option : 4

Q.2 रमन ने 12% की एकल छूट के बाद एक मोबाइल फोन के लिए ₹18,656 का भुगतान किया। यदि रमन को 4% और 8% की क्रमिक छूटें दी जाती हैं, तो रमन कितना भुगतान करेगा?

Ans  1. ₹17,238.84

2. ₹17,283.84

3. ₹13,728.84

4. ₹18,723.84

Question Type : MCQ

Question ID : 630680421264

Option 1 ID : 6306801643534

Option 2 ID : 6306801643531

Option 3 ID : 6306801643532

Option 4 ID : 6306801643533

Status : Answered

Chosen Option : 4

Q.3 एक निश्चित धनराशि पर 4 वर्षों के लिए 23% की वार्षिक दर पर साधारण ब्याज, उसी धनराशि पर 8 वर्षों के साधारण ब्याज से ₹11,960 कम है। धनराशि ज्ञात कीजिए।

Ans  1. ₹13,000

2. ₹12,000

3. ₹12,500

4. ₹13,500

Question Type : MCQ

Question ID : 630680426313

Option 1 ID : 6306801663352

Option 2 ID : 6306801663350

Option 3 ID : 6306801663351

Option 4 ID : 6306801663353

Status : Answered

Chosen Option : 1

Q.4 एक मिश्रण में 8 kg ऐसी चाय है जिसका मूल्य ₹295 प्रति किलोग्राम है और 10 kg ऐसी चाय है जिसका मूल्य ₹250 प्रति किलोग्राम है। मिश्रण का प्रति किलोग्राम औसत मूल्य (₹ में) \_\_\_\_\_ है।

Ans  1. 259.60

2. 270

3. 250.70

4. 273

Question Type : MCQ

Question ID : 630680456323

Option 1 ID : 6306801782266

Option 2 ID : 6306801782263

Option 3 ID : 6306801782264

Option 4 ID : 6306801782265

Status : Answered

Chosen Option : 2

Q.5  $2\text{ m} \times 4\text{ m} \times 10\text{ m}$  आयामों वाले एक ठोस घनाभ को पिघलाकर 8 cm भुजा वाले छोटे-छोटे ठोस घन बनाए जाते हैं। ऐसे कितने घन बनाए जा सकते हैं?

Ans  1. 1,58,250

2. 1,60,000

3. 1,56,250

4. 1,62,250

Question Type : MCQ

Question ID : 630680383472

Option 1 ID : 6306801494784

Option 2 ID : 6306801494785

Option 3 ID : 6306801494783

Option 4 ID : 6306801494786

Status : Answered

Chosen Option : 2

Q.6 यदि 7 cm त्रिज्या के एक बड़े गोले से 2744 समरूप छोटे-छोटे गोले बनाए जाते हैं, तो प्रत्येक छोटे गोले का पृष्ठीय क्षेत्रफल क्या होगा?

- Ans
- 1.  $3\pi \text{ cm}^2$
  - 2.  $4\pi \text{ cm}^2$
  - 3.  $\pi \text{ cm}^2$
  - 4.  $2\pi \text{ cm}^2$

Question Type : MCQ

Question ID : 630680526613

Option 1 ID : 6306802058519

Option 2 ID : 6306802058521

Option 3 ID : 6306802058520

Option 4 ID : 6306802058518

Status : Answered

Chosen Option : 3

Q.7 40 kg, 49 kg, 56 kg, 67 kg और 37 kg वजन के पांच सदस्यों वाले परिवार का औसत वजन (kg में) ज्ञात कीजिए।

- Ans
- 1. 50.8
  - 2. 51.8
  - 3. 49.8
  - 4. 48.8

Question Type : MCQ

Question ID : 630680551641

Option 1 ID : 6306802156790

Option 2 ID : 6306802156792

Option 3 ID : 6306802156789

Option 4 ID : 6306802156791

Status : Answered

Chosen Option : 3

Q.8 एक बेईमान डीलर अपने माल को क्रय मूल्य पर बेचने का दावा करता है, लेकिन वह गलत वजन (false weight) का उपयोग करता है और इस प्रकार 15% का लाभ कमाता है। एक किलोग्राम के लिए वह \_\_\_\_\_ ग्राम के वजन का उपयोग करता है।

- Ans
- 1. 930.43
  - 2. 869.57
  - 3. 830.43
  - 4. 1130.43

Question Type : MCQ

Question ID : 630680111596

Option 1 ID : 630680432139

Option 2 ID : 630680432141

Option 3 ID : 630680432138

Option 4 ID : 630680432140

Status : Answered

Chosen Option : 1

Q.9 तालिका में चार शहरों A, B, C और D द्वारा चार उत्पादों P, Q, R और S के उत्पादन का डेटा दिया गया है।

City \ Type of Product	A	B	C	D
P	1500	1200	1100	1450
Q	1250	1400	1250	1500
R	1600	1150	1150	1300
S	1750	1050	1000	1250

संदर्भ: City = शहर, Type of Product = उत्पाद के प्रकार

सभी शहरों द्वारा किस उत्पाद का कुल उत्पादन सबसे अधिक है?

Ans  1. Q

2. R

3. S

4. P

Question Type : MCQ

Question ID : 630680815885

Option 1 ID : 6306803196874

Option 2 ID : 6306803196875

Option 3 ID : 6306803196876

Option 4 ID : 6306803196873

Status : Answered

Chosen Option : 1

Q.10 यदि दो संख्याएं, तीसरी संख्या से क्रमशः 6.25% और 25% अधिक हैं, तो पहली संख्या, दूसरी संख्या की कितने प्रतिशत है?

Ans  1. 95%

2. 90%

3. 85%

4. 80%

Question Type : MCQ

Question ID : 630680815844

Option 1 ID : 6306803196712

Option 2 ID : 6306803196710

Option 3 ID : 6306803196709

Option 4 ID : 6306803196711

Status : Answered

Chosen Option : 3

Q.11 कागज की एक आयताकार शीट, जिसकी लंबाई  $10\pi$  cm और चौड़ाई 5 cm है, को एक बेलन बनाने के लिए इसकी लंबाई (शीट की चौड़ाई बेलन की ऊंचाई बन जाती है) के अनुदिश घुमाया जाता है। बेलन की त्रिज्या क्या होगी?

- Ans
- 1. 10 cm
  - 2. 2.5 cm
  - 3. 5 cm
  - 4. 6 cm

Question Type : MCQ

Question ID : 63068070060

Option 1 ID : 630680270878

Option 2 ID : 630680270880

Option 3 ID : 630680270879

Option 4 ID : 630680270881

Status : Answered

Chosen Option : 3

Q.12 यदि किसी वस्तु का क्रय मूल्य उसके विक्रय मूल्य का 75% है, तो लाभ प्रतिशत कितना है?

- Ans
- 1. 25%
  - 2.  $25\frac{1}{3}\%$
  - 3. 33%
  - 4.  $33\frac{1}{3}\%$

Question Type : MCQ

Question ID : 630680103354

Option 1 ID : 630680401675

Option 2 ID : 630680401676

Option 3 ID : 630680401677

Option 4 ID : 630680401678

Status : Answered

Chosen Option : 4

Q.13  $5 + 32 \div 2 + 6 \times 2.5$  का मान ज्ञात कीजिए।

- Ans
- 1. 34
  - 2. 40
  - 3. 36
  - 4. 15

Question Type : MCQ

Question ID : 630680112484

Option 1 ID : 630680435630

Option 2 ID : 630680435633

Option 3 ID : 630680435631

Option 4 ID : 630680435632

Status : Answered

Chosen Option : 3

Q.14 क्रमशः 125 m और 175 m लंबी दो ट्रेनें एक ही दिशा में क्रमशः 40 km/h और 22 km/h की चाल से चल रही हैं। उन्हें एक दूसरे को पूरी तरह से पार करने में कितना समय लगेगा?

- Ans
- ✓ 1. 1min
  - ✗ 2. 50sec
  - ✗ 3. 55sec
  - ✗ 4.  $12\frac{4}{5}$  sec

Question Type : MCQ  
Question ID : 630680101756  
Option 1 ID : 630680395386  
Option 2 ID : 630680395385  
Option 3 ID : 630680395387  
Option 4 ID : 630680395384  
Status : Answered  
Chosen Option : 1

Q.15 3 वर्षों के लिए 6% प्रति वर्ष की ब्याज दर पर उधार ली गई राशि ₹3500 पर साधारण ब्याज (₹ में) ज्ञात कीजिए।

- Ans
- ✓ 1. 630
  - ✗ 2. 670
  - ✗ 3. 590
  - ✗ 4. 570

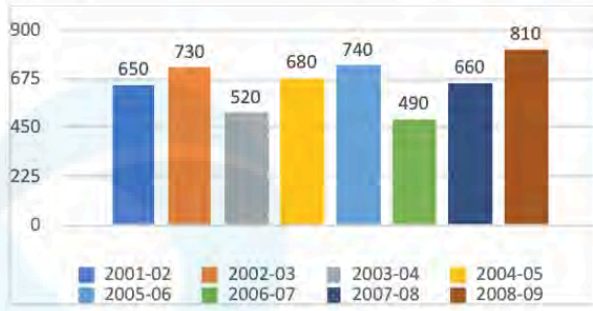
Question Type : MCQ  
Question ID : 630680591974  
Option 1 ID : 6306802316363  
Option 2 ID : 6306802316364  
Option 3 ID : 6306802316366  
Option 4 ID : 6306802316365  
Status : Answered  
Chosen Option : 1

Q.16 5 वर्षों के लिए 6% वार्षिक की ब्याज दर पर उधार ली गई राशि ₹2500 पर साधारण ब्याज (₹ में) ज्ञात कीजिए।

- Ans
- ✗ 1. 790
  - ✗ 2. 690
  - ✓ 3. 750
  - ✗ 4. 710

Question Type : MCQ  
Question ID : 630680591906  
Option 1 ID : 6306802316092  
Option 2 ID : 6306802316093  
Option 3 ID : 6306802316091  
Option 4 ID : 6306802316094  
Status : Answered  
Chosen Option : 3

Q.17 दिया गया बार ग्राफ 2001-2002 से 2008-2009 तक एक कंपनी द्वारा किए गए लाभ (₹ लाख में) को दर्शाता है।



2005-06 में लाभ सम्पूर्ण अवधि के औसत लाभ का लगभग कितना प्रतिशत था?

- Ans
- 1. 118.18%
  - 2. 124.24%
  - 3. 112.12%
  - 4. 121.21%

Question Type : MCQ

Question ID : 630680524133

Option 1 ID : 6306802048684

Option 2 ID : 6306802048686

Option 3 ID : 6306802048683

Option 4 ID : 6306802048685

Status : Answered

Chosen Option : 1

Q.18 एक छात्रावास में लड़कों और लड़कियों की संख्या का अनुपात 5 : 7 है। यदि 40% लड़कों और 50% लड़कियों को उनकी पढ़ाई के लिए छात्रवृत्ति मिल रही है, तो छात्रावास के उन विद्यार्थियों का प्रतिशत क्या है जिन्हें कोई छात्रवृत्ति नहीं मिल रही है?

- Ans
- 1.  $59\frac{1}{8}\%$
  - 2.  $54\frac{1}{6}\%$
  - 3.  $45\frac{1}{5}\%$
  - 4.  $35\frac{1}{7}\%$

Question Type : MCQ

Question ID : 630680493038

Option 1 ID : 6306801925926

Option 2 ID : 6306801925925

Option 3 ID : 6306801925924

Option 4 ID : 6306801925923

Status : Answered

Chosen Option : 2

Q.19 68 और 91 के बीच स्थित अभाज्य संख्याओं का औसत ज्ञात कीजिए।

Ans  1. 76

2. 78

3. 79

4. 77

Question Type : **MCQ**

Question ID : **630680108876**

Option 1 ID : **630680422396**

Option 2 ID : **630680422398**

Option 3 ID : **630680422399**

Option 4 ID : **630680422397**

Status : **Answered**

Chosen Option : **4**

Q.20 एक विद्यालय में, 12 शिक्षकों का औसत वेतन ₹71,400 था। यदि शिक्षकों, प्रधानाचार्य और उप प्रधानाचार्य का औसत वेतन ₹89,500 था, तो प्रधानाचार्य और उप प्रधानाचार्य का औसत वेतन (₹ में) कितना था?

Ans  1. 1,76,800

2. 1,18,900

3. 2,11,000

4. 1,98,100

Question Type : **MCQ**

Question ID : **630680468480**

Option 1 ID : **6306801829718**

Option 2 ID : **6306801829719**

Option 3 ID : **6306801829721**

Option 4 ID : **6306801829720**

Status : **Answered**

Chosen Option : **4**

Section : Reasoning Ability and Problem Solving

Q.1 दिए गए कथनों और निष्कर्षों को ध्यानपूर्वक पढ़िए। यह मानते हुए कि कथनों में दी गई जानकारी सत्य है, चाहे वह सामान्यतः ज्ञात तथ्यों से भिन्न प्रतीत होती हो और निर्णय लीजिए कि दिए गए निष्कर्षों में से कौन-सा/कौन-से निष्कर्ष कथनों का तार्किक रूप से अनुसरण करता है/करते हैं।

कथन:

सभी गाजर, प्याज हैं।  
कोई प्याज, टमाटर नहीं है।

निष्कर्ष:

(I) कोई गाजर, टमाटर नहीं है।  
(II) सभी प्याज, गाजर हैं।

- Ans
- 1. निष्कर्ष I और II, दोनों अनुसरण करते हैं।
  - 2. केवल निष्कर्ष II अनुसरण करता है।
  - 3. केवल निष्कर्ष I अनुसरण करता है।
  - 4. न तो निष्कर्ष I और न ही II अनुसरण करता है।

Question Type : MCQ

Question ID : 630680815690

Option 1 ID : 6306803196063

Option 2 ID : 6306803196062

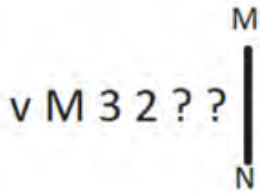
Option 3 ID : 6306803196061

Option 4 ID : 6306803196064

Status : Answered

Chosen Option : 2

Q.2 यदि दर्पण को नीचे दिखाए गए अनुसार MN पर रखा जाए, तो दी गई आकृति के सही दर्पण प्रतिबिंब का चयन कीजिए।



- Ans
- 1. 3 2 3 2 M v
  - 2. 3 2 3 2 M v
  - 3. 3 2 3 2 M v
  - 4. 3 2 3 2 M v

Question Type : MCQ

Question ID : 630680525314

Option 1 ID : 6306802053342

Option 2 ID : 6306802053343

Option 3 ID : 6306802053341

Option 4 ID : 6306802053340

Status : Answered

Chosen Option : 3

Q.3 यदि '+' और 'x' को आपस में बदल दिया जाए तथा '-' और '÷' को आपस में बदल दिया जाए, तो निम्नलिखित समीकरण में प्रश्न चिह्न (?) के स्थान पर क्या आएगा?

$$55 \times 16 - 4 \div 7 + 3 = ?$$

Ans  1. 28

2. 38

3. 17

4. 12

Question Type : **MCQ**

Question ID : **630680388710**

Option 1 ID : **6306801515303**

Option 2 ID : **6306801515304**

Option 3 ID : **6306801515305**

Option 4 ID : **6306801515302**

Status : **Answered**

Chosen Option : **2**

Q.4 उस समुच्चय का चयन कीजिए जिसमें संख्याएं ठीक उसी प्रकार संबंधित हैं जिस प्रकार दिए गए समुच्चयों की संख्याएं संबंधित हैं।

(ध्यान दें: संख्याओं को उनके घटक अंकों में अलग-अलग किए बिना पूर्ण संख्याओं पर संक्रियाएं की जानी चाहिए। उदाहरण के लिए संख्या 13 - संख्या 13 पर संक्रियाएं जैसे 13 को जोड़ना/घटाना/गुणा करना आदि किया जा सकता है। 13 को 1 और 3 में अलग-अलग करने की और फिर 1 और 3 पर गणितीय संक्रियाएं करने की अनुमति नहीं है।)

(18, 3, 54)

(21, 4, 84)

Ans  1. (8, 7, 58)

2. (4, 8, 39)

3. (3, 11, 53)

4. (14, 2, 28)

Question Type : **MCQ**

Question ID : **630680404788**

Option 1 ID : **6306801578660**

Option 2 ID : **6306801578662**

Option 3 ID : **6306801578661**

Option 4 ID : **6306801578659**

Status : **Answered**

Chosen Option : **4**

Q.5 EJGL, अंग्रेजी वर्णानुक्रम के आधार पर एक निश्चित प्रकार से INKP से संबंधित है। ठीक उसी प्रकार KPMR, OTQV से संबंधित है। समान तर्क का अनुसरण करते हुए, NSPU निम्नलिखित में से किससे संबंधित है?

- Ans  1. WRYT  
 2. WRTY  
 3. RWTY  
 4. RWYT

Question Type : MCQ

Question ID : 630680386601

Option 1 ID : 6306801507115

Option 2 ID : 6306801507114

Option 3 ID : 6306801507117

Option 4 ID : 6306801507116

Status : Answered

Chosen Option : 3

Q.6 एक निश्चित तर्क का अनुसरण करते हुए 3, 24 से संबंधित है। उसी तर्क का अनुसरण करते हुए, 4, 60 से संबंधित है। उसी तर्क का अनुसरण करते हुए, 6 निम्नलिखित में से किससे संबंधित है?

(ध्यान दें: संख्याओं को उनके घटक अंकों में अलग-अलग किए बिना पूर्ण संख्याओं पर संक्रियाएं की जानी चाहिए। उदाहरण के लिए संख्या 13 - संख्या 13 पर संक्रियाएं जैसे 13 को जोड़ना/घटाना/गुणा करना आदि किया जा सकता है। 13 को 1 और 3 में अलग-अलग करने की और फिर 1 और 3 पर गणितीय संक्रियाएं करने की अनुमति नहीं है।)

- Ans  1. 236  
 2. 210  
 3. 216  
 4. 230

Question Type : MCQ

Question ID : 630680446737

Option 1 ID : 6306801744238

Option 2 ID : 6306801744241

Option 3 ID : 6306801744240

Option 4 ID : 6306801744239

Status : Answered

Chosen Option : 2

Q.7 एक निश्चित कूट भाषा में, 'spin fast slow' को 'mm nn oo' लिखा जाता है और 'fast skid slip' को 'nn rr tt' लिखा जाता है और 'slip slow jump' को 'rr mm zz' लिखा जाता है। उस कूट भाषा में 'jump' को कैसे लिखा जाएगा?

- Ans  1. rr  
 2. mm  
 3. nn  
 4. zz

Question Type : MCQ

Question ID : 630680439086

Option 1 ID : 6306801714158

Option 2 ID : 6306801714157

Option 3 ID : 6306801714159

Option 4 ID : 6306801714156

Status : Answered

Chosen Option : 4

Q.8 A, B, C, D, E, F और G एक वृत्ताकार मेज के चारों ओर केंद्र की ओर मुख करके बैठे हैं (परंतु जरूरी नहीं कि वे इसी क्रम में बैठे हों)। F, B के बाएँ से दूसरे स्थान पर बैठा है। F, D के बाएँ से तीसरे स्थान पर बैठा है। B, E के ठीक दाएँ बैठा है। A, E के बाएँ से तीसरे स्थान पर बैठा है। A, G के ठीक दाएँ बैठा है। E के सापेक्ष में F का स्थान क्या है?

- Ans  1. ठीक बाएँ  
 2. दाएँ से तीसरा  
 3. ठीक दाएँ  
 4. बाएँ से दूसरा

Question Type : MCQ

Question ID : 630680380493

Option 1 ID : 6306801482969

Option 2 ID : 6306801482970

Option 3 ID : 6306801482968

Option 4 ID : 6306801482967

Status : Answered

Chosen Option : 3

Q.9 एक निश्चित कूट भाषा में, 'train was late' को 'ch px zt' के रूप में कूटबद्ध किया जाता है और 'journey by train' को 'fk zt bu' के रूप में कूटबद्ध किया जाता है। दी गई भाषा में 'train' को किस प्रकार कूटबद्ध किया जाता है?

- Ans  1. zt  
 2. px  
 3. bu  
 4. ch

Question Type : MCQ

Question ID : 630680426467

Option 1 ID : 6306801664250

Option 2 ID : 6306801664253

Option 3 ID : 6306801664252

Option 4 ID : 6306801664251

Status : Answered

Chosen Option : 1

Q.10 निम्नलिखित समीकरण को सही बनाने के लिए किन दो संख्याओं को आपस में बदला जाना चाहिए?

$$36 \div 2 + 4 \times 8 - 11 \times 3 + 28 = 49$$

(ध्यान दें: अदला-बदली पूरी संख्या की होनी चाहिए, न कि दी गई संख्या के अलग-अलग अंकों की।)

- Ans  1. 2 और 4  
 2. 2 और 3  
 3. 36 और 28  
 4. 4 और 3

Question Type : MCQ

Question ID : 630680397641

Option 1 ID : 6306801550486

Option 2 ID : 6306801550488

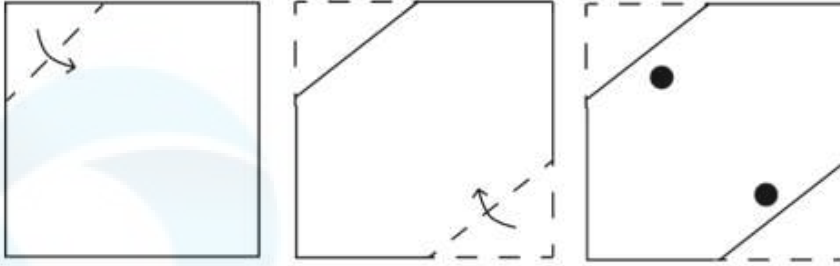
Option 3 ID : 6306801550489

Option 4 ID : 6306801550487

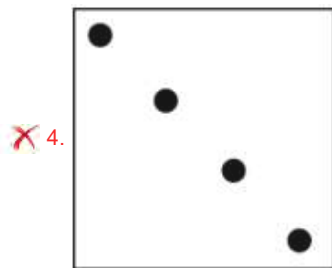
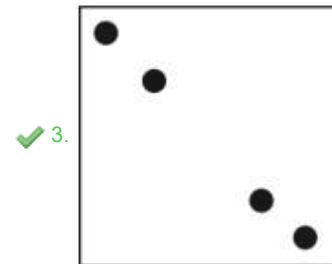


Status : Answered

Chosen Option : 3

Q.11 कागज़ की एक वर्गाकार शीट को दर्शाई गई दिशाओं में बिंदुदार रेखा के अनुदिश क्रमशः मोड़ा जाता है और अंतिम बार मोड़ने के बाद फिर इसमें छेद किया जाता है। खोले जाने पर यह कागज़ कैसा दिखाई देगा?



Ans



Question Type : MCQ

Question ID : 630680524418

Option 1 ID : 6306802049774

Option 2 ID : 6306802049771

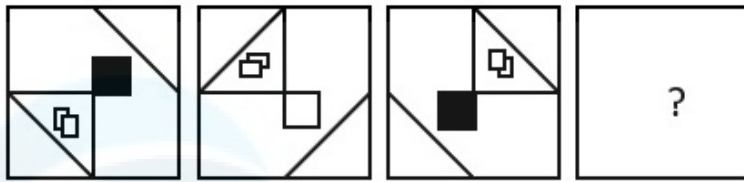
Option 3 ID : 6306802049772

Option 4 ID : 6306802049773

Status : Answered

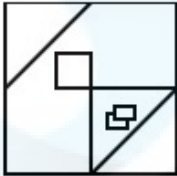
Chosen Option : 3

Q.12 विकल्पों में से उस आकृति का चयन कीजिए जो प्रश्न-चिह्न (?) के स्थान पर आ सकती है और श्रृंखला को तार्किक रूप से पूरा कर सकती है।

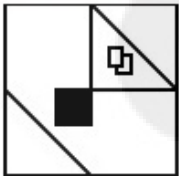


Ans

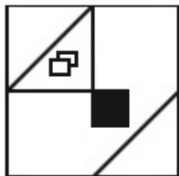
✓ 1.



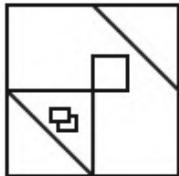
✗ 2.



✗ 3.



✗ 4.



Question Type : MCQ

Question ID : 630680279337

Option 1 ID : 6306801085616

Option 2 ID : 6306801085615

Option 3 ID : 6306801085617

Option 4 ID : 6306801085618

Status : Answered

Chosen Option : 1

Q.13 दिए गए कथनों और निष्कर्षों को ध्यानपूर्वक पढ़िए। यह मानते हुए कि कथनों में दी गई जानकारी सत्य है, चाहे वह सामान्यतः ज्ञात तथ्यों से भिन्न प्रतीत होती हो और निर्णय लीजिए कि दिए गए निष्कर्षों में से कौन-सा/कौन-से निष्कर्ष कथनों का तार्किक रूप से अनुसरण करता है/करते हैं।

कथन:

सभी कॉकटेल, मॉकटेल हैं।

कुछ कॉकटेल, जूस हैं।

निष्कर्ष (I): कुछ मॉकटेल, जूस हैं।

निष्कर्ष (II): कुछ जूस, कॉकटेल नहीं हैं।

- Ans
- 1. निष्कर्ष I और II दोनों अनुसरण करते हैं।
  - 2. केवल निष्कर्ष I अनुसरण करता है।
  - 3. केवल निष्कर्ष II अनुसरण करता है।
  - 4. न तो निष्कर्ष I और न ही II अनुसरण करता है।

Question Type : MCQ

Question ID : 630680815665

Option 1 ID : 6306803195963

Option 2 ID : 6306803195961

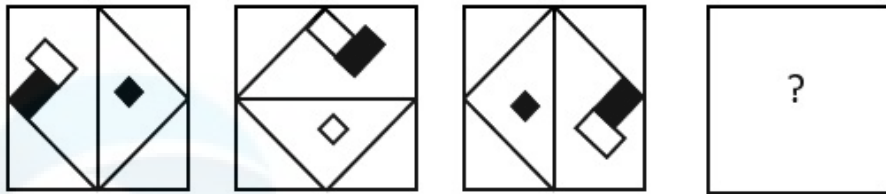
Option 3 ID : 6306803195962

Option 4 ID : 6306803195964

Status : Answered

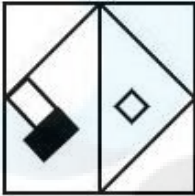
Chosen Option : 2

Q.14 विकल्पों में दी गई उस आकृति की पहचान कीजिए, जिसे प्रश्न-चिह्न (?) के स्थान पर रखने पर श्रृंखला तार्किक रूप से पूर्ण हो जाएगी।




Ans

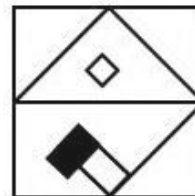
✗ 1.



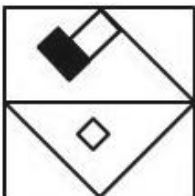
✗ 2.



✓ 3.



✗ 4.



Question Type : MCQ

Question ID : 630680276830

Option 1 ID : 6306801075818

Option 2 ID : 6306801075816

Option 3 ID : 6306801075817

Option 4 ID : 6306801075815

Status : Answered

Chosen Option : 3

Q.15 P, Q, R, S, T, U और V एक वृत्ताकार मेज के चारों ओर केंद्र की ओर मुख करके बैठे हैं (परंतु जरूरी नहीं कि वे इसी क्रम में बैठे हों)।  
T और U दोनों का निकटतम पड़ोसी P है।  
S, P के दाएं से दूसरे स्थान पर बैठा है।  
R के निकटतम पड़ोसी U और Q हैं।  
S, U का निकटतम पड़ोसी नहीं है।  
Q के ठीक बाएं कौन बैठा है?

- Ans
- 1. R
  - 2. U
  - 3. S
  - 4. V

Question Type : MCQ  
Question ID : 630680381530  
Option 1 ID : 6306801487052  
Option 2 ID : 6306801487054  
Option 3 ID : 6306801487053  
Option 4 ID : 6306801487051  
Status : Answered  
Chosen Option : 4

Q.16 एक निश्चित कूट भाषा में, 'GULF' को '7391' के रूप में कूटबद्ध किया जाता है और 'FANS' को '2438' के रूप में कूटबद्ध किया जाता है। दी गई कूट भाषा में 'F' के लिए कूट क्या है?

- Ans
- 1. 4
  - 2. 1
  - 3. 3
  - 4. 2

Question Type : MCQ  
Question ID : 630680422205  
Option 1 ID : 6306801647259  
Option 2 ID : 6306801647257  
Option 3 ID : 6306801647256  
Option 4 ID : 6306801647258  
Status : Answered  
Chosen Option : 3

Q.17 अंग्रेजी वर्णमाला क्रम के आधार पर दी गई शृंखला में प्रश्न चिह्न (?) के स्थान पर क्या आना चाहिए?

RVQ, OSN, LPK, IMH, ?

- Ans
- 1. FJE
  - 2. JEF
  - 3. EFJ
  - 4. EJF

Question Type : MCQ  
Question ID : 630680457103  
Option 1 ID : 6306801785349  
Option 2 ID : 6306801785350  
Option 3 ID : 6306801785351  
Option 4 ID : 6306801785352  
Status : Answered  
Chosen Option : 1

Q.18 अंग्रेजी वर्णमाला क्रम के आधार पर HLQC एक निश्चित प्रकार से KOTF से संबंधित है। उसी तरह WTAN, ZWDQ से संबंधित है। उसी तर्क का पालन करते हुए, FXCM निम्नलिखित में से किससे संबंधित है?

- Ans  1. IAEO  
 2. GZFQ  
 3. HZEO  
 4. IAFP

Question Type : MCQ

Question ID : 630680910484

Option 1 ID : 6306803566882

Option 2 ID : 6306803566884

Option 3 ID : 6306803566883

Option 4 ID : 6306803566881

Status : Answered

Chosen Option : 4

Q.19 दी गई श्रृंखला में प्रश्नवाचक चिह्न (?) के स्थान पर क्या आना चाहिए?

97, 88, 85, 76, 73, ?, 61

- Ans  1. 70  
 2. 64  
 3. 65  
 4. 72

Question Type : MCQ

Question ID : 630680405742

Option 1 ID : 6306801582099

Option 2 ID : 6306801582098

Option 3 ID : 6306801582096

Option 4 ID : 6306801582097

Status : Answered

Chosen Option : 2

Q.20 एक निश्चित कूट भाषा में 'solve the puzzle' को 'sp di cy' लिखा जाता है और 'puzzle is tricky' को 'qp vt di' लिखा जाता है। उसी कूट भाषा में 'puzzle' को कैसे लिखा जाएगा?

- Ans  1. sp  
 2. qp  
 3. di  
 4. cy

Question Type : MCQ

Question ID : 630680508932

Option 1 ID : 6306801989024

Option 2 ID : 6306801989027

Option 3 ID : 6306801989026

Option 4 ID : 6306801989025

Status : Answered

Chosen Option : 3

Q.1 \_\_\_\_\_ से निकलने वाली महानंदा नदी, गंगा की एक सहायक नदी है।

- Ans
- 1. नंदा देवी शिखर
  - 2. छोटा नागपुर पठार
  - 3. कैमूर की पहाड़ियों
  - 4. दार्जिलिंग की पहाड़ियों

Question Type : MCQ

Question ID : 630680510964

Option 1 ID : 6306801996986

Option 2 ID : 6306801996987

Option 3 ID : 6306801996989

Option 4 ID : 6306801996988

Status : Answered

Chosen Option : 4

Q.2 सक्रिय भ्रंश (active fault) का वह भाग जो अतीत में भूकंप उत्पन्न कर चुका है, लेकिन अब शांत है और माना जाता है कि भ्रंश खंड किसी अन्य आधार पर भूकंप उत्पन्न करने में सक्षम है, उसे क्या कहा जाता है?

- Ans
- 1. अवकेंद्र (Hypocenter)
  - 2. भूकंपी तरंग (Seismic Wave)
  - 3. भूकंपी अंतराल (Seismic Gap)
  - 4. भूकंप केंद्र (Epicenter)

Question Type : MCQ

Question ID : 630680403934

Option 1 ID : 6306801575225

Option 2 ID : 6306801575224

Option 3 ID : 6306801575222

Option 4 ID : 6306801575223

Status : Answered

Chosen Option : 1

Q.3 2022 में कान्स रेड कार्पेट (Cannes red carpet) पर चलने (walk) वाले भारत के प्रथम लोक कलाकार कौन हैं?

- Ans
- 1. स्वरूप खान
  - 2. सरताज खान
  - 3. मामे खान
  - 4. सर्वर खान

Question Type : MCQ

Question ID : 630680482426

Option 1 ID : 6306801884183

Option 2 ID : 6306801884185

Option 3 ID : 6306801884182

Option 4 ID : 6306801884184

Status : Answered

Chosen Option : 3

Q.4 निम्नलिखित में से कौन-सा भारत का एक पारंपरिक खेल है?

- Ans  1. बास्केटबॉल  
 2. फुटबॉल  
 3. कबड्डी  
 4. वॉलीबॉल

Question Type : MCQ  
Question ID : 630680123987  
Option 1 ID : 630680480807  
Option 2 ID : 630680480806  
Option 3 ID : 630680480809  
Option 4 ID : 630680480808  
Status : Answered  
Chosen Option : 3

Q.5 ऋग्वेदिक काल में 'सेनानी' निम्नलिखित में से कौन कहलाता था?

- Ans  1. जासूस  
 2. युद्ध नायक  
 3. पुजारी  
 4. कर अधिकारी

Question Type : MCQ  
Question ID : 630680649151  
Option 1 ID : 6306802541766  
Option 2 ID : 6306802541764  
Option 3 ID : 6306802541765  
Option 4 ID : 6306802541763  
Status : Answered  
Chosen Option : 2

Q.6 निम्नलिखित में से किसे भारत में गांधीजी द्वारा सत्याग्रह का पहला प्रयोग माना जाता है?

- Ans  1. खेड़ा  
 2. रॉलट सत्याग्रह  
 3. चंपारण  
 4. अहमदाबाद

Question Type : MCQ  
Question ID : 630680146018  
Option 1 ID : 630680564970  
Option 2 ID : 630680564973  
Option 3 ID : 630680564972  
Option 4 ID : 630680564971  
Status : Answered  
Chosen Option : 3

Q.7 जोंक (Leech) निम्नलिखित में से किस संघ के अंतर्गत आती है?

- Ans  1. सीलेंटेरेटा (Coelenterata)  
 2. एनेलिडा (Annelida)  
 3. नेमाटोडा (Nematoda)  
 4. प्लेटिहेल्मिन्थीज (Platyhelminthes)

Question Type : MCQ

Question ID : 630680641514

Option 1 ID : 6306802511472

Option 2 ID : 6306802511471

Option 3 ID : 6306802511474

Option 4 ID : 6306802511473

Status : Answered

Chosen Option : 2

Q.8 बिनीथ द सरफेस: माय स्टोरी (Beneath the Surface: My Story)' नामक पुस्तक के लेखक कौन हैं?

- Ans  1. कोबे ब्राइट (Kobe Bright)  
 2. माइकल फेल्प्स (Michael Phelps)  
 3. टाइगर वुड्स (Tiger Woods)  
 4. मिल्खा सिंह (Milkha Singh)

Question Type : MCQ

Question ID : 630680512328

Option 1 ID : 6306802002283

Option 2 ID : 6306802002285

Option 3 ID : 6306802002282

Option 4 ID : 6306802002284

Status : Answered

Chosen Option : 1

Q.9 निम्नलिखित में से किसने माइक्रोफाइनेंस (सूक्ष्म वित्त) के ग्रामीण मॉडल को बताया?

- Ans  1. प्रो. अभिजीत बनर्जी  
 2. प्रो. मुहम्मद यूनूस  
 3. डॉ. मनमोहन सिंह  
 4. प्रो. अमर्त्य सेन

Question Type : MCQ

Question ID : 63068082820

Option 1 ID : 630680321147

Option 2 ID : 630680321146

Option 3 ID : 630680321144

Option 4 ID : 630680321145

Status : Answered

Chosen Option : 2

Q.10 मई 2024 तक की स्थिति के अनुसार, भारतीय संविधान की सातवीं अनुसूची की संघ सूची में कितने विषय शामिल हैं?

- Ans  1. पिचयानवें  
 2. सौ  
 3. निन्यानवें  
 4. तैरानवें

Question Type : MCQ

Question ID : 630680759537

Option 1 ID : 6306802977051

Option 2 ID : 6306802977052

Option 3 ID : 6306802977053

Option 4 ID : 6306802977050

Status : Answered

Chosen Option : 1

Q.11 मुस्लिम कृषकों का एक संगठित विरोध, मोपला विद्रोह (Moplah Uprising) भारत के किस वर्तमान राज्य में हुआ?

- Ans  1. पंजाब  
 2. तमिलनाडु  
 3. बिहार  
 4. केरल

Question Type : MCQ

Question ID : 630680309331

Option 1 ID : 6306801203481

Option 2 ID : 6306801203482

Option 3 ID : 6306801203484

Option 4 ID : 6306801203483

Status : Answered

Chosen Option : 4

Q.12 फल, सब्जियों और अनाज में पाए जाने वाले परिवर्तनशील फेनोलिक संरचनाओं (phenolic structures) वाले प्राकृतिक पदार्थों के समूह को क्या कहा जाता है?

- Ans  1. रेजिन्स (Resins)  
 2. होपानोइड्स (Hopanoids)  
 3. फ्लेवोनोइड्स (Flavonoids)  
 4. पेक्टिन्स (Pectins)

Question Type : MCQ

Question ID : 630680208545

Option 1 ID : 630680808413

Option 2 ID : 630680808411

Option 3 ID : 630680808412

Option 4 ID : 630680808414

Status : Answered

Chosen Option : 2

Q.13 विहारों (Viharas) के बारे में निम्नलिखित में से कौन-सा/कौन-से कथन सही है/हैं?  
a) विहारों में हॉल की दीवारों के चारों ओर एक बरामदा, कक्ष और हॉल होता है।  
b) अजंता गुफा और नासिक गुफा, विहार वास्तुकला के महत्वपूर्ण भाग हैं।

- Ans
- 1. केवल a
  - 2. केवल b
  - 3. न तो a और न ही b
  - 4. a और b, दोनों

Question Type : MCQ

Question ID : 630680511905

Option 1 ID : 6306802000591

Option 2 ID : 6306802000592

Option 3 ID : 6306802000593

Option 4 ID : 6306802000590

Status : Answered

Chosen Option : 4

Q.14 2001 की जनगणना के अनुसार, एक व्यक्ति को साक्षर कहे जाने की नियत आयु क्या है?

- Ans
- 1. 8 वर्ष
  - 2. 9 वर्ष
  - 3. 6 वर्ष
  - 4. 7 वर्ष

Question Type : MCQ

Question ID : 63068069493

Option 1 ID : 630680268641

Option 2 ID : 630680268639

Option 3 ID : 630680268640

Option 4 ID : 630680268638

Status : Answered

Chosen Option : 4

Q.15 जम्मू-कश्मीर में चिनाब नदी पर स्थित सलाल बांध (Salal Dam) का मुख्य उद्देश्य क्या है?

- Ans
- 1. नेविगेशन (Navigation)
  - 2. सिंचाई (Irrigation)
  - 3. पनबिजली (Hydroelectricity)
  - 4. पेयजल (Drinking)

Question Type : MCQ

Question ID : 630680511141

Option 1 ID : 6306801997697

Option 2 ID : 6306801997695

Option 3 ID : 6306801997694

Option 4 ID : 6306801997696

Status : Answered

Chosen Option : 3

Q.16 संगीत नाटक अकादमी पुरस्कार विजेता अनीता शर्मा \_\_\_\_\_ नृत्य शैली की प्रतिपादक हैं।

- Ans
- 1. ओडिसी
  - 2. मोहिनीअट्टम
  - 3. कथकली
  - 4. सत्रिया

Question Type : **MCQ**  
Question ID : **630680216139**  
Option 1 ID : **630680838533**  
Option 2 ID : **630680838532**  
Option 3 ID : **630680838534**  
Option 4 ID : **630680838531**  
Status : **Answered**  
Chosen Option : 4

Q.17 वन्यजीव संरक्षण अधिनियम कब पारित किया गया था?

- Ans
- 1. 1951
  - 2. 1955
  - 3. 1980
  - 4. 1972

Question Type : **MCQ**  
Question ID : **630680270476**  
Option 1 ID : **6306801051090**  
Option 2 ID : **6306801051091**  
Option 3 ID : **6306801051093**  
Option 4 ID : **6306801051092**  
Status : **Answered**  
Chosen Option : 4

Q.18 फरवरी 2023 में, पंजाब में उन सिख कैदियों के एक समूह को रिहा करने के लिए विरोध प्रदर्शन हुए, जो 1990 के दशक में पंजाब में आतंकवाद का सफाया होने के बाद से 30 से अधिक वर्षों से जेल में हैं। इन कैदियों को क्या कहा जाता है?

- Ans
- 1. बब्बर बंदिस (Babbar Bandis)
  - 2. कैदी सिख (Qaidi Sikhs)
  - 3. बंदी सिंहस (Bandi Singhs)
  - 4. खालसा टाइगर्स (Khalsa Tigers)

Question Type : **MCQ**  
Question ID : **630680488700**  
Option 1 ID : **6306801908818**  
Option 2 ID : **6306801908815**  
Option 3 ID : **6306801908816**  
Option 4 ID : **6306801908817**  
Status : **Answered**  
Chosen Option : 4

Q.19 बांग्लादेश का राजकीय धर्म (state religion) क्या है?

- Ans  1. ईसाई धर्म  
 2. इस्लाम  
 3. हिन्दू धर्म  
 4. बौद्ध धर्म

Question Type : MCQ

Question ID : 630680511286

Option 1 ID : 6306801998276

Option 2 ID : 6306801998275

Option 3 ID : 6306801998277

Option 4 ID : 6306801998274

Status : Answered

Chosen Option : 2

Q.20 भवनाथ महादेव मेला (Bhavnath Mahadev fair) प्रतिवर्ष निम्नलिखित में से किस स्थान पर आयोजित किया जाता है?

- Ans  1. जबलपुर  
 2. चेन्नई  
 3. जूनागढ़  
 4. आगरा

Question Type : MCQ

Question ID : 630680402994

Option 1 ID : 6306801571550

Option 2 ID : 6306801571549

Option 3 ID : 6306801571547

Option 4 ID : 6306801571548

Status : Answered

Chosen Option : 4

Q.21 सोनल मानसिंह निम्नलिखित में से किस नृत्य शैली की प्रसिद्ध कलाकार हैं?

- Ans  1. मणिपुरी  
 2. कथक  
 3. मोहिनीअट्टम  
 4. ओडिसी

Question Type : MCQ

Question ID : 630680798911

Option 1 ID : 6306803130450

Option 2 ID : 6306803130452

Option 3 ID : 6306803130453

Option 4 ID : 6306803130451

Status : Answered

Chosen Option : 4

Q.22 जुलाई 2023 में, त्रिभुवनेश्वर शरण सिंह देव (Tribhuvaneshwar Saran Singh Deo) को निम्नलिखित में से किस राज्य का उपमुख्यमंत्री नियुक्त किया गया?

- Ans
- 1. झारखंड
  - 2. ओडिशा
  - 3. पश्चिम बंगाल
  - 4. छत्तीसगढ़

Question Type : MCQ

Question ID : 630680467584

Option 1 ID : 6306801826266

Option 2 ID : 6306801826268

Option 3 ID : 6306801826269

Option 4 ID : 6306801826267

Status : Answered

Chosen Option : 1

Q.23 यदि प्रत्येक 4 ओम के चार प्रतिरोधक (resistances) समानांतर क्रम (parallel) में जुड़े हुए हैं, तो उनका प्रभावी प्रतिरोध क्या होगा?

- Ans
- 1. 16 ओम
  - 2. 1 ओम
  - 3. 10 ओम
  - 4. 4 ओम

Question Type : MCQ

Question ID : 630680472236

Option 1 ID : 6306801844676

Option 2 ID : 6306801844677

Option 3 ID : 6306801844678

Option 4 ID : 6306801844675

Status : Answered

Chosen Option : 2

Q.24 निम्नलिखित में से कौन-सी हरिषेणाचार्य (Harisenacharya) की रचना है?

- Ans
- 1. राजतरंगिणी (Rajatarangini)
  - 2. लीलावती (Lilavati)
  - 3. बृहत्कथा मंजरी (Brihat Katha Manjari)
  - 4. बृहत्कथा कोश (Brihatkatha Kosh)

Question Type : MCQ

Question ID : 630680213347

Option 1 ID : 630680827435

Option 2 ID : 630680827438

Option 3 ID : 630680827437

Option 4 ID : 630680827436

Status : Answered

Chosen Option : 4

Q.25 भारोत्तोलन (weight lifting) में जब कोई एथलीट स्नैच (snatch) या क्लीन और जर्क (clean and jerk) में सभी तीन प्रयासों में चूक जाता है और कुल स्कोर करने में विफल रहता है, तो इसे \_\_\_\_\_ कहा जाता है।

Ans  1. बॉम्बिंग-आउट (Bombing-out)

2. टेक-ऑफ (Take-off)

3. डिलीवरी (Delivery)

4. अटेंप्ट (Attempt)

Question Type : MCQ

Question ID : 630680553393

Option 1 ID : 6306802163467

Option 2 ID : 6306802163466

Option 3 ID : 6306802163465

Option 4 ID : 6306802163464

Status : Answered

Chosen Option : 4

Section : English Language and Comprehension

Q.1 Select the option that can be used as a one-word substitute for the given phrase.  
Belonging or pertaining to an individual from birth

Ans  1. Congenital

2. Congregational

3. Congenial

4. Congruent

Question Type : MCQ

Question ID : 630680549701

Option 1 ID : 6306802149238

Option 2 ID : 6306802149237

Option 3 ID : 6306802149236

Option 4 ID : 6306802149239

Status : Answered

Chosen Option : 1

Q.2 Select the most appropriate option to fill in the blank.  
Leisure activities are activities that people \_\_\_\_\_ in during their free time while they are not working.

Ans  1. exempt

2. engage

3. evaluate

4. encourage

Question Type : MCQ

Question ID : 630680515250

Option 1 ID : 6306802013466

Option 2 ID : 6306802013467

Option 3 ID : 6306802013468

Option 4 ID : 6306802013465

Status : Answered

Chosen Option : 3

Q.3 Select the most appropriate ANTONYM of the given word.

Boisterous

- Ans  1. Quiet  
 2. Noisy  
 3. Benevolent  
 4. Buoyant

Question Type : MCQ

Question ID : 630680565673

Option 1 ID : 6306802211630

Option 2 ID : 6306802211629

Option 3 ID : 6306802211631

Option 4 ID : 6306802211628

Status : Answered

Chosen Option : 1

Q.4 The following sentence has been split into four segments. Identify the segment that contains a grammatical error.

Sushil, who recently joined our school / was awarded the Gold Cup / as he worked hardly / throughout the year.

- Ans  1. Sushil, who recently joined our school  
 2. was awarded the Gold Cup  
 3. as he worked hardly  
 4. throughout the year.

Question Type : MCQ

Question ID : 630680597016

Option 1 ID : 6306802336105

Option 2 ID : 6306802336106

Option 3 ID : 6306802336107

Option 4 ID : 6306802336108

Status : Answered

Chosen Option : 3

Q.5 Recognise the sentence with the correct transitive verb form of break.

- A. The cyclone broke the window.  
B. The window broke.  
C. The cyclone caused the breaking of window.  
D. The cyclone caused the broken window.

- Ans  1. D  
 2. B  
 3. C  
 4. A

Question Type : MCQ

Question ID : 630680726475

Option 1 ID : 6306802846907

Option 2 ID : 6306802846906

Option 3 ID : 6306802846909

Option 4 ID : 6306802846908

Status : Answered

Chosen Option : 4

**Q.6 Select the option that has used the correct tense.**

**Ans** ✓ 1. By the time we arrived at the party, they had been waiting for over an hour.

✗ 2. By the time we arrives at the party, they had been waiting for over an hour.

✗ 3. By the time we arrive at the party, they had been waiting for over an hour.

✗ 4. By the time we arriving at the party, they had been waiting for over an hour.

Question Type : **MCQ**

Question ID : **630680754497**

Option 1 ID : **6306802957187**

Option 2 ID : **6306802957188**

Option 3 ID : **6306802957189**

Option 4 ID : **6306802957186**

Status : **Answered**

Chosen Option : 1

**Q.7 Select the most appropriate ANTONYM of the given word.  
Meticulous**

**Ans** ✗ 1. Determined

✗ 2. Persevering

✓ 3. Regardless

✗ 4. Exemplary

Question Type : **MCQ**

Question ID : **630680549422**

Option 1 ID : **6306802148138**

Option 2 ID : **6306802148139**

Option 3 ID : **6306802148137**

Option 4 ID : **6306802148140**

Status : **Answered**

Chosen Option : 3

**Q.8 Identify the INCORRECTLY spelt word in the given sentence.**

**BBC Media has shown exponential growth in their revenue this year.**

**Ans** ✗ 1. media

✗ 2. year

✓ 3. exponential

✗ 4. revenue

Question Type : **MCQ**

Question ID : **630680545199**

Option 1 ID : **6306802131543**

Option 2 ID : **6306802131546**

Option 3 ID : **6306802131544**

Option 4 ID : **6306802131545**

Status : **Answered**

Chosen Option : 3

**Q.9** Select the most appropriate idiom that can substitute the underlined words in the given sentence.

His sudden resignation left the company in a very difficult situation and to have to make a hard decision as they scrambled to find a replacement.

Ans  1. in the dark

2. between a rock and a hard place

3. on cloud nine

4. with a silver lining

Question Type : **MCQ**

Question ID : **630680750937**

Option 1 ID : **6306802943178**

Option 2 ID : **6306802943179**

Option 3 ID : **6306802943181**

Option 4 ID : **6306802943180**

Status : **Answered**

Chosen Option : **2**

**Q.10** Select the most appropriate meaning of the given idiom.

**an open book**

Ans  1. a person or thing that is easy to learn about and understand

2. a person of whom her mother is extremely proud

3. someone who gives advice based on theory not practice

4. a helpful person

Question Type : **MCQ**

Question ID : **630680441747**

Option 1 ID : **6306801724597**

Option 2 ID : **6306801724594**

Option 3 ID : **6306801724596**

Option 4 ID : **6306801724595**

Status : **Answered**

Chosen Option : **1**

**Q.11** Select the most appropriate synonym of the given word.

**Corroborate**

Ans  1. Suggest

2. Contend

3. Support

4. Elaborate

Question Type : **MCQ**

Question ID : **630680432662**

Option 1 ID : **6306801688643**

Option 2 ID : **6306801688645**

Option 3 ID : **6306801688642**

Option 4 ID : **6306801688644**

Status : **Answered**

Chosen Option : **3**

**Q.12** Select the option that can be used as a one-word substitute for the highlighted group of words in the given sentence.

The minister went to visit the monuments set up for people who were buried in other countries.

- Ans
- 1. coffins
  - 2. graves
  - 3. cenotaphs
  - 4. cemetery

Question Type : **MCQ**  
Question ID : **630680564304**  
Option 1 ID : **6306802206172**  
Option 2 ID : **6306802206174**  
Option 3 ID : **6306802206171**  
Option 4 ID : **6306802206173**  
Status : **Answered**  
Chosen Option : **3**

**Q.13** Parts of the following sentence have been given as options. Select the option that contains an error.

I have never seen so beautiful a landscape than this one.

- Ans
- 1. so beautiful
  - 2. a landscape
  - 3. I have never seen
  - 4. than this one

Question Type : **MCQ**  
Question ID : **630680514372**  
Option 1 ID : **6306802010114**  
Option 2 ID : **6306802010115**  
Option 3 ID : **6306802010113**  
Option 4 ID : **6306802010116**  
Status : **Answered**  
Chosen Option : **1**

**Q.14** Select the **INCORRECTLY** spelt word.

- Ans
- 1. Fantastic
  - 2. Expensive
  - 3. Damaged
  - 4. Forgetfull

Question Type : **MCQ**  
Question ID : **630680467622**  
Option 1 ID : **6306801826418**  
Option 2 ID : **6306801826420**  
Option 3 ID : **6306801826421**  
Option 4 ID : **6306801826419**  
Status : **Answered**  
Chosen Option : **4**

**Q.15** Select the most appropriate synonym of the word in bold in the given sentence.  
He was so **enraged** at the article about him that he sued the newspaper.

- Ans  1. Determined  
 2. Generated  
 3. Enhanced  
 4. Angered

Question Type : **MCQ**  
Question ID : **630680397595**  
Option 1 ID : **6306801550302**  
Option 2 ID : **6306801550304**  
Option 3 ID : **6306801550303**  
Option 4 ID : **6306801550301**  
Status : **Answered**  
Chosen Option : **4**

**Q.16** Select the option that can be used as a one-word substitute for the given group of words.  
A post without any remuneration

- Ans  1. Illegible  
 2. Bigot  
 3. Effeminate  
 4. Honorary

Question Type : **MCQ**  
Question ID : **630680321538**  
Option 1 ID : **6306801250860**  
Option 2 ID : **6306801250858**  
Option 3 ID : **6306801250857**  
Option 4 ID : **6306801250859**  
Status : **Answered**  
Chosen Option : **4**

**Q.17** Select the most appropriate option to fill in the blank.

Prem is an excellent chess player. He is the \_\_\_\_\_ student of the class too.

- Ans  1. most intelligent  
 2. intelligently  
 3. intelligent  
 4. more intelligent

Question Type : **MCQ**  
Question ID : **630680514580**  
Option 1 ID : **6306802010945**  
Option 2 ID : **6306802010948**  
Option 3 ID : **6306802010946**  
Option 4 ID : **6306802010947**  
Status : **Answered**  
Chosen Option : **1**

**Q.18** The following sentence has been divided into parts. One of them may contain an error. Select the part that contains the error from the given options. If you don't find any error, mark 'No error' as your answer.

It is a common perception / that the rich sometimes / despise poor.

- Ans
- 1. that the rich sometimes
  - 2. No error
  - 3. despise poor.
  - 4. It is a common perception

Question Type : **MCQ**  
Question ID : **630680631348**  
Option 1 ID : **6306802471339**  
Option 2 ID : **6306802471341**  
Option 3 ID : **6306802471340**  
Option 4 ID : **6306802471338**  
Status : **Answered**  
Chosen Option : **3**

**Q.19** Select the most appropriate ANTONYM of the given word.

**Searing**

- Ans
- 1. Mocking
  - 2. Freezing
  - 3. Pressing
  - 4. Thrilling

Question Type : **MCQ**  
Question ID : **630680595763**  
Option 1 ID : **6306802331242**  
Option 2 ID : **6306802331243**  
Option 3 ID : **6306802331241**  
Option 4 ID : **6306802331240**  
Status : **Answered**  
Chosen Option : **4**

**Q.20** Select the correct spelling of the underlined word in the given sentence.

The weather was absolutley perfect for the outdoor event.

- Ans
- 1. absoluttley
  - 2. absolutly
  - 3. absolutely
  - 4. absoulately

Question Type : **MCQ**  
Question ID : **630680799105**  
Option 1 ID : **6306803131218**  
Option 2 ID : **6306803131220**  
Option 3 ID : **6306803131219**  
Option 4 ID : **6306803131221**  
Status : **Answered**  
Chosen Option : **3**

**Comprehension:**

In the following passage, some words have been deleted. Read the passage carefully and select the most appropriate option to fill in each blank.

Though people are becoming health-conscious these days, (1)\_\_\_\_\_ simple lifestyle habits they are prone to fatal diseases. (2)\_\_\_\_\_ a new study published in 'The Journal of the American College of Cardiology', (3)\_\_\_\_\_ food more sparingly is linked to a lower risk of heart disease, heart failure, and ischemic heart disease. A significant risk factor for cardiovascular disease, high blood pressure, is demonstrated to be correlated (4)\_\_\_\_\_ high sodium intake. As per the research, a person's individual sodium intake over time may be predicted by how (5)\_\_\_\_\_ they salt their food. It is found that people who do not put a little additional salt to their food very often had a much lower risk of heart disease event regardless of lifestyle factors and pre-existing disease.

**SubQuestion No : 21**

**Q.21** Select the most appropriate option to fill in blank number 1.

- Ans  1. for  
 2. because of  
 3. but  
 4. because

Question Type : **MCQ**

Question ID : **630680206311**

Option 1 ID : **630680800026**

Option 2 ID : **630680800024**

Option 3 ID : **630680800025**

Option 4 ID : **630680800023**

Status : **Answered**

Chosen Option : 1

**Comprehension:**

In the following passage, some words have been deleted. Read the passage carefully and select the most appropriate option to fill in each blank.

Though people are becoming health-conscious these days, (1)\_\_\_\_\_ simple lifestyle habits they are prone to fatal diseases. (2)\_\_\_\_\_ a new study published in 'The Journal of the American College of Cardiology', (3)\_\_\_\_\_ food more sparingly is linked to a lower risk of heart disease, heart failure, and ischemic heart disease. A significant risk factor for cardiovascular disease, high blood pressure, is demonstrated to be correlated (4)\_\_\_\_\_ high sodium intake. As per the research, a person's individual sodium intake over time may be predicted by how (5)\_\_\_\_\_ they salt their food. It is found that people who do not put a little additional salt to their food very often had a much lower risk of heart disease event regardless of lifestyle factors and pre-existing disease.

**SubQuestion No : 22**

**Q.22** Select the most appropriate option to fill in blank number 2.

- Ans  1. According with  
 2. In according with  
 3. Accordingly  
 4. According to

Question Type : **MCQ**

Question ID : **630680206312**

Option 1 ID : **630680800028**

Option 2 ID : **630680800030**

Option 3 ID : **630680800029**

Option 4 ID : **630680800027**

Status : **Answered**

Chosen Option : 4

**Comprehension:**

In the following passage, some words have been deleted. Read the passage carefully and select the most appropriate option to fill in each blank.

Though people are becoming health-conscious these days, (1)\_\_\_\_\_ simple lifestyle habits they are prone to fatal diseases. (2)\_\_\_\_\_ a new study published in 'The Journal of the American College of Cardiology', (3)\_\_\_\_\_ food more sparingly is linked to a lower risk of heart disease, heart failure, and ischemic heart disease. A significant risk factor for cardiovascular disease, high blood pressure, is demonstrated to be correlated (4)\_\_\_\_\_ high sodium intake. As per the research, a person's individual sodium intake over time may be predicted by how (5)\_\_\_\_\_ they salt their food. It is found that people who do not put a little additional salt to their food very often had a much lower risk of heart disease event regardless of lifestyle factors and pre-existing disease.

**SubQuestion No : 23**

**Q.23 Select the most appropriate option to fill in blank number 3.**

- Ans  1. salted  
 2. salt with  
 3. salting  
 4. salt

Question Type : **MCQ**

Question ID : **630680206313**

Option 1 ID : **630680800032**

Option 2 ID : **630680800034**

Option 3 ID : **630680800031**

Option 4 ID : **630680800033**

Status : **Answered**

Chosen Option : 1

**Comprehension:**

In the following passage, some words have been deleted. Read the passage carefully and select the most appropriate option to fill in each blank.

Though people are becoming health-conscious these days, (1)\_\_\_\_\_ simple lifestyle habits they are prone to fatal diseases. (2)\_\_\_\_\_ a new study published in 'The Journal of the American College of Cardiology', (3)\_\_\_\_\_ food more sparingly is linked to a lower risk of heart disease, heart failure, and ischemic heart disease. A significant risk factor for cardiovascular disease, high blood pressure, is demonstrated to be correlated (4)\_\_\_\_\_ high sodium intake. As per the research, a person's individual sodium intake over time may be predicted by how (5)\_\_\_\_\_ they salt their food. It is found that people who do not put a little additional salt to their food very often had a much lower risk of heart disease event regardless of lifestyle factors and pre-existing disease.

**SubQuestion No : 24**

**Q.24 Select the most appropriate option to fill in blank number 4.**

- Ans  1. in  
 2. of  
 3. with  
 4. for

Question Type : **MCQ**

Question ID : **630680206314**

Option 1 ID : **630680800036**

Option 2 ID : **630680800038**

Option 3 ID : **630680800035**

Option 4 ID : **630680800037**

Status : **Answered**

Chosen Option : 3

**Comprehension:**

In the following passage, some words have been deleted. Read the passage carefully and select the most appropriate option to fill in each blank.

Though people are becoming health-conscious these days, (1)\_\_\_\_\_ simple lifestyle habits they are prone to fatal diseases. (2)\_\_\_\_\_ a new study published in 'The Journal of the American College of Cardiology', (3)\_\_\_\_\_ food more sparingly is linked to a lower risk of heart disease, heart failure, and ischemic heart disease. A significant risk factor for cardiovascular disease, high blood pressure, is demonstrated to be correlated (4)\_\_\_\_\_ high sodium intake. As per the research, a person's individual sodium intake over time may be predicted by how (5)\_\_\_\_\_ they salt their food. It is found that people who do not put a little additional salt to their food very often had a much lower risk of heart disease event regardless of lifestyle factors and pre-existing disease.

**SubQuestion No : 25**

**Q.25 Select the most appropriate option to fill in blank number 5.**

- Ans
- 1. soundly
  - 2. hefty
  - 3. burly
  - 4. frequently

Question Type : **MCQ**

Question ID : **630680206315**

Option 1 ID : **630680800042**

Option 2 ID : **630680800039**

Option 3 ID : **630680800041**

Option 4 ID : **630680800040**

Status : **Answered**

Chosen Option : **4**