

Multi Tasking Non Technical Staff and Havaladar CBIC and CBN Examination 2024

Roll Number	
Candidate Name	
Venue Name	Sri Balaji College Of Engineering And Technology
Exam Date	14/10/2024
Exam Time	12:30 PM - 2:30 PM
Subject	MTS Non Tech Havaladar CBIC and CBN Examination 2024

Section : Numerical and Mathematical Ability

Q.1 एक पुलिसकर्मी किसी चोर को 100 m की दूरी पर देखता है और 6 m/s की चाल से उसका पीछा करना शुरू करता है, जबकि चोर 5 m/s की चाल से भागता है। चोर के पकड़े जाने पर उसके द्वारा तय की गई दूरी (m में) कितनी है?

- Ans
- 1. 400
 - 2. 300
 - 3. 500
 - 4. 600

Question Type : MCQ

Question ID : 630680166143

Option 1 ID : 630680643544

Option 2 ID : 630680643544

Option 3 ID : 630680643546

Option 4 ID : 630680643547

Status : Answered

Chosen Option : 3

Q.2 एक आयताकार खेत की लंबाई और चौड़ाई का अनुपात 3 : 2 है। यदि खेत का क्षेत्रफल 3456 m² हो, तो ₹3.50 प्रति मीटर की दर से खेत में बाड़ लगाने की लागत क्या होगी?

- Ans
- 1. ₹840
 - 2. ₹420
 - 3. ₹240
 - 4. ₹480

Question Type : MCQ

Question ID : 630680103656

Option 1 ID : 630680402856

Option 2 ID : 630680402857

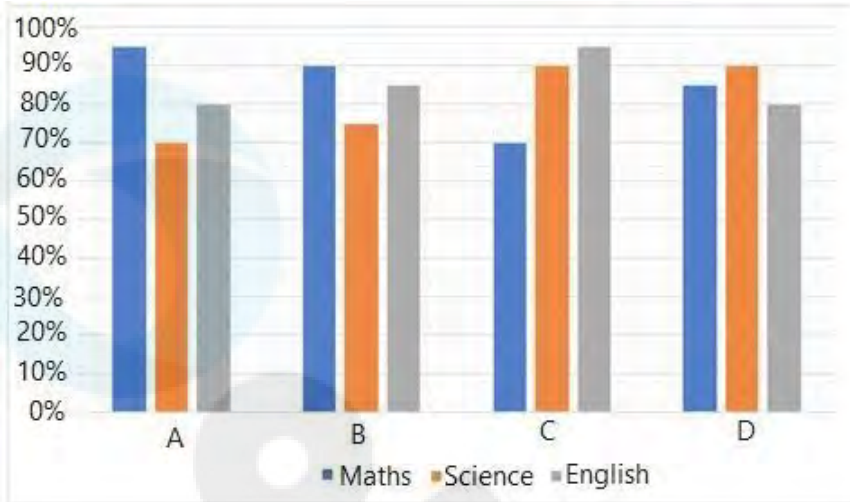
Option 3 ID : 630680402855

Option 4 ID : 630680402858

Status : Answered

Chosen Option : 1

Q.3 दिए गए दंड आलेख का अध्ययन कीजिए और उसके आगे दिए गए प्रश्न का उत्तर दीजिए। नीचे दिया गया दंड आलेख गणित, विज्ञान और अंग्रेजी में चार छात्रों A, B, C और D द्वारा प्राप्त अंकों का प्रतिशत दर्शाता है।



संदर्भ: Maths - गणित, Science - विज्ञान, English - अंग्रेजी

यदि गणित में कुल अंक (full marks) 150, विज्ञान में 100 और अंग्रेजी में 140 हैं, तो गणित में छात्र B द्वारा और अंग्रेजी में छात्र A द्वारा प्राप्त कुल अंक ज्ञात कीजिए।

- Ans
- 1. 257
 - 2. 247
 - 3. 250
 - 4. 275

Question Type : MCQ

Question ID : 630680392621

Option 1 ID : 6306801530832

Option 2 ID : 6306801530830

Option 3 ID : 6306801530831

Option 4 ID : 6306801530833

Status : Answered

Chosen Option : 2

Q.4 20 वस्तुओं का क्रय मूल्य 15 वस्तुओं के विक्रय मूल्य के समान है। लेन-देन में लाभ प्रतिशत कितना है?

- Ans
- 1. $33\frac{1}{3}\%$
 - 2. 30%
 - 3. 25%
 - 4. 50%

Question Type : MCQ

Question ID : 630680277313

Option 1 ID : 6306801077703

Option 2 ID : 6306801077702

Option 3 ID : 6306801077701

Option 4 ID : 6306801077704

Status : Answered

Chosen Option : 1

Q.5 एक व्यापारी अपने माल को क्रय मूल्य से 30% अधिक मूल्य पर अंकित करता है। यदि वह $6\frac{1}{4}\%$ की छूट देता है, तो उसका लाभ प्रतिशत ज्ञात कीजिए।

- Ans
- 1. 21%
 - 2. 22%
 - 3. $22\frac{3}{4}\%$
 - 4. $21\frac{7}{8}\%$

Question Type : MCQ

Question ID : 630680410314

Option 1 ID : 6306801599990

Option 2 ID : 6306801599988

Option 3 ID : 6306801599987

Option 4 ID : 6306801599989

Status : Answered

Chosen Option : 4

Q.6 एक कक्षा में 20 लड़कों का औसत वजन 65 kg है और शेष 35 लड़कों का औसत वजन 32 kg है। कक्षा के सभी लड़कों का औसत वजन कितना है?

- Ans
- 1. 44 kg
 - 2. 56 kg
 - 3. 48 kg
 - 4. 46 kg

Question Type : MCQ

Question ID : 630680490323

Option 1 ID : 6306801915208

Option 2 ID : 6306801915209

Option 3 ID : 6306801915207

Option 4 ID : 6306801915210

Status : Answered

Chosen Option : 1

Q.7 तालिका का अध्ययन करें और निम्नलिखित प्रश्न का उत्तर दें।

जिस जन्मदिन पर मापा गया	बच्चे की ऊंचाई (cm में)
3 rd	90
4 th	100
5 th	108
6 th	115
7 th	125
8 th	130
9 th	140
10 th	150
11 th	162
12 th	170
13 th	178
14 th	184
15 th	190

7th जन्मदिन से 10th जन्मदिन तक बच्चे की ऊंचाई में कितने प्रतिशत की वृद्धि हुई?

- Ans
- 1. 15%
 - 2. 20%
 - 3. 25%
 - 4. 10%

Question Type : MCQ

Question ID : 630680523825

Option 1 ID : 6306802047452

Option 2 ID : 6306802047454

Option 3 ID : 6306802047453

Option 4 ID : 6306802047451

Status : Answered

Chosen Option : 2

Q.8 42 cm ऊँचाई वाले एक बेलन का वक्र पृष्ठीय क्षेत्रफल 3960 cm^2

है। इसका आयतन ज्ञात कीजिए। ($\pi = \frac{22}{7}$)

- Ans
- 1. 27,900 cm^3
 - 2. 19,800 cm^3
 - 3. 1980 cm^3
 - 4. 29,700 cm^3

Question Type : MCQ

Question ID : 630680384361

Option 1 ID : 6306801498332

Option 2 ID : 6306801498330

Option 3 ID : 6306801498333

Option 4 ID : 6306801498331

Status : Answered

Chosen Option : 4

Q.9 दो स्टेशन A और B एक-दूसरे से 1800 km की दूरी पर हैं। एक रेलगाड़ी 7 A.M. पर 100 km/h की चाल से A से B की ओर चलना शुरू करती है। एक दूसरी रेलगाड़ी उसी दिन 8 A.M. पर B से A की ओर 325 km/h की चाल से चलना शुरू करती है। वे एक-दूसरे को किस समय पर पार करेंगी?

- Ans
- 1. 3 P.M.
 - 2. 12 P.M.
 - 3. 11 A.M.
 - 4. 9 A.M.

Question Type : MCQ

Question ID : 630680239305

Option 1 ID : 630680928231

Option 2 ID : 630680928230

Option 3 ID : 630680928229

Option 4 ID : 630680928228

Status : Answered

Chosen Option : 2

Q.10 किस राशि (₹ में) पर 4% प्रति वर्ष की ब्याज दर से 3 वर्षों में ₹240 का साधारण ब्याज अर्जित होगा?

- Ans
- 1. 3000
 - 2. 4000
 - 3. 1000
 - 4. 2000

Question Type : MCQ

Question ID : 630680612172

Option 1 ID : 6306802395423

Option 2 ID : 6306802395422

Option 3 ID : 6306802395421

Option 4 ID : 6306802395420

Status : Answered

Chosen Option : 4

Q.11 140,180 और 240 का लघुत्तम समापवर्त्य (LCM) _____ है।

Ans 1. 1008

2. 1680

3. 5000

4. 5040

Question Type : MCQ

Question ID : 630680108446

Option 1 ID : 630680420749

Option 2 ID : 630680420748

Option 3 ID : 630680420751

Option 4 ID : 630680420750

Status : Answered

Chosen Option : 4

Q.12 एक कॉलेज के 8 व्याख्याताओं में से एक व्याख्याता सेवानिवृत्त हो जाता है और उसके स्थान पर 32 वर्ष की आयु का एक नया व्याख्याता शामिल हो जाता है। परिणामस्वरूप, व्याख्याताओं की औसत आयु 4 वर्ष कम हो जाती है। सेवानिवृत्त व्याख्याता की आयु क्या है?

Ans 1. 63 वर्ष

2. 65 वर्ष

3. 62 वर्ष

4. 64 वर्ष

Question Type : MCQ

Question ID : 630680447474

Option 1 ID : 6306801747150

Option 2 ID : 6306801747152

Option 3 ID : 6306801747149

Option 4 ID : 6306801747151

Status : Answered

Chosen Option : 4

Q.13 एक दुकानदार को क्रमशः ₹60/kg और ₹80/kg मूल्य के दो प्रकार के चावल को किस अनुपात में मिलाना चाहिए, ताकि मिश्रण का औसत मूल्य ₹75/kg हो जाए?

Ans 1. 1 : 2

2. 3 : 4

3. 2 : 3

4. 1 : 3

Question Type : MCQ

Question ID : 630680469609

Option 1 ID : 6306801834202

Option 2 ID : 6306801834200

Option 3 ID : 6306801834199

Option 4 ID : 6306801834201

Status : Answered

Chosen Option : 4

Q.14 पाँच संख्याओं का औसत 215 है और इनमें से किन्हीं भी दो क्रमागत संख्याओं के बीच का अंतर 5 है। सबसे छोटी संख्या ज्ञात कीजिए।

Ans 1. 205

2. 220

3. 215

4. 225

Question Type : MCQ

Question ID : 630680480891

Option 1 ID : 6306801878159

Option 2 ID : 6306801878158

Option 3 ID : 6306801878157

Option 4 ID : 6306801878160

Status : Answered

Chosen Option : 1

Q.15 यदि $x : 6 :: 6 : y$ और $x : y :: y : 6$ है, तो नीचे दिए गए विकल्पों में से कौन-सा विकल्प इस क्रम में x और y के सही मान प्रदान करता है?

Ans 1. 12 और 6

2. 6 और 12

3. 6 और 6

4. 12 और 12

Question Type : MCQ

Question ID : 630680239512

Option 1 ID : 630680929001

Option 2 ID : 630680929000

Option 3 ID : 630680928999

Option 4 ID : 630680929002

Status : Answered

Chosen Option : 3

Q.16 मतदान मशीन में खराबी के कारण अवैध मतों की गणना उम्मीदवार B को प्राप्त मतों में कर ली जाती है, जिसे अवैध मतों के 5 गुना मत मिलते हैं। A को अवैध मतों के 8 गुना मत मिलते हैं और वह 28 मतों से चुनाव जीत जाता है। डाले गए मतों की कुल संख्या कितनी है?

Ans 1. 176

2. 184

3. 168

4. 196

Question Type : MCQ

Question ID : 630680464522

Option 1 ID : 6306801814125

Option 2 ID : 6306801814126

Option 3 ID : 6306801814123

Option 4 ID : 6306801814124

Status : Answered

Chosen Option : 4

Q.17 ₹19 में एक वस्तु को बेचकर, एक विक्रेता 10% का लाभ अर्जित करता है। उसे अपना विक्रय मूल्य (₹ में, दो दशमलव स्थान तक सन्निकटित) कितना बढ़ाना चाहिए, ताकि 50% का लाभ अर्जित कर सके?

- Ans
- 1. 8.91
 - 2. 9.91
 - 3. 7.91
 - 4. 6.91

Question Type : MCQ

Question ID : 630680632584

Option 1 ID : 6306802476236

Option 2 ID : 6306802476237

Option 3 ID : 6306802476235

Option 4 ID : 6306802476234

Status : Answered

Chosen Option : 4

Q.18 साधारण ब्याज पर निवेश की गई एक धनराशि 12 वर्ष में 5 गुनी हो जाती है। 27 वर्ष में यह कितनी गुनी हो जायेगी?

- Ans
- 1. 9
 - 2. 12
 - 3. 11
 - 4. 10

Question Type : MCQ

Question ID : 630680815900

Option 1 ID : 6306803196933

Option 2 ID : 6306803196936

Option 3 ID : 6306803196935

Option 4 ID : 6306803196934

Status : Answered

Chosen Option : 1

Q.19 किस राशि (₹ में) पर 8% प्रति वर्ष की ब्याज दर से 3 वर्षों में ₹240 का साधारण ब्याज अर्जित होगा?

- Ans
- 1. 2000
 - 2. 500
 - 3. 1000
 - 4. 1500

Question Type : MCQ

Question ID : 630680612173

Option 1 ID : 6306802395426

Option 2 ID : 6306802395425

Option 3 ID : 6306802395424

Option 4 ID : 6306802395427

Status : Answered

Chosen Option : 3

Q.20 दवा का एक कैप्सूल बेलन के आकार का है, जिसके प्रत्येक सिरे पर दो अर्धगोले जुड़े हुए हैं। इस पूरे कैप्सूल की लंबाई 15 mm और इसका व्यास 6 mm है। इस कैप्सूल के पृष्ठीय क्षेत्रफल (mm² में, निकटतम पूर्णांक तक) की गणना कीजिए।
($\pi = \frac{22}{7}$ का उपयोग कीजिए)

- Ans
- 1. 289
 - 2. 280
 - 3. 286
 - 4. 283

Question Type : MCQ
Question ID : 630680379658
Option 1 ID : 6306801479678
Option 2 ID : 6306801479675
Option 3 ID : 6306801479677
Option 4 ID : 6306801479676
Status : Answered
Chosen Option : 4

Section : Reasoning Ability and Problem Solving

Q.1 एक निश्चित कूट भाषा में, 'HEAP' को '7395' के रूप में कूटबद्ध किया जाता है और 'PEAS' को '9571' के रूप में कूटबद्ध किया जाता है। उसी कूट भाषा में 'S' का कूट क्या होगा?

- Ans
- 1. 1
 - 2. 5
 - 3. 9
 - 4. 7

Question Type : MCQ
Question ID : 630680503083
Option 1 ID : 6306801965920
Option 2 ID : 6306801965918
Option 3 ID : 6306801965917
Option 4 ID : 6306801965919
Status : Answered
Chosen Option : 1

Q.2 दी गई श्रृंखला में प्रश्न-चिह्न (?) के स्थान पर क्या आना चाहिए?

6, ?, 7, 10, 8, 11

Ans 1. 8

2. 9

3. 5

4. 12

Question Type : **MCQ**

Question ID : **630680402489**

Option 1 ID : **6306801569517**

Option 2 ID : **6306801569516**

Option 3 ID : **6306801569518**

Option 4 ID : **6306801569515**

Status : **Answered**

Chosen Option : **2**

Q.3 WY 13 किसी निश्चित प्रकार से UW 16 से संबंधित है। ठीक उसी प्रकार, SU 19, QS 22 से संबंधित है। समान तर्क का अनुसरण करते हुए, OQ 17 निम्नलिखित में से किससे संबंधित है?

Ans 1. MN 20

2. MO 19

3. MO 20

4. NM 19

Question Type : **MCQ**

Question ID : **630680439407**

Option 1 ID : **6306801715424**

Option 2 ID : **6306801715423**

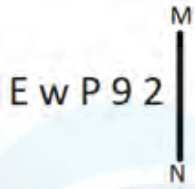
Option 3 ID : **6306801715425**

Option 4 ID : **6306801715422**

Status : **Answered**

Chosen Option : **3**

Q.4 यदि दर्पण को नीचे दिखाए गए अनुसार MN पर रखा जाए, तो दी गई आकृति के सही दर्पण प्रतिबिंब का चयन कीजिए।



Ans

- 1. $\Sigma \varrho w P \exists$
- 2. $\Sigma \varrho \varphi w \exists$
- 3. $\Sigma \varphi \varrho w E$
- 4. $\Sigma \varrho \varphi w E$

Question Type : MCQ

Question ID : 630680525322

Option 1 ID : 6306802053374

Option 2 ID : 6306802053373

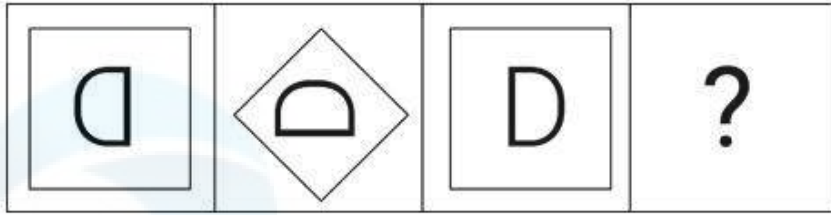
Option 3 ID : 6306802053375

Option 4 ID : 6306802053372

Status : Answered

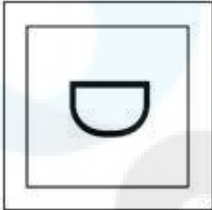
Chosen Option : 2

Q.5 दिए गए विकल्पों में से उस आकृति की पहचान कीजिए जो प्रश्न-चिह्न (?) के स्थान पर आ सकती है और श्रृंखला को तार्किक रूप से पूरा कर सकती है।




Ans

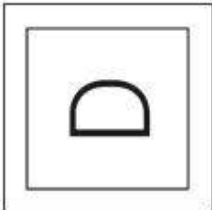
✗ 1.



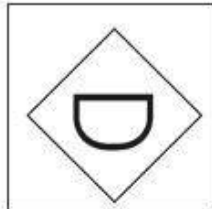
✗ 2.



✗ 3.



✓ 4.



Question Type : MCQ

Question ID : 630680279234

Option 1 ID : 6306801085206

Option 2 ID : 6306801085204

Option 3 ID : 6306801085203

Option 4 ID : 6306801085205

Status : Answered

Chosen Option : 4

Q.6 दिए गए विकल्पों में से उस आकृति को चुनिए जो निम्नलिखित श्रृंखला में प्रश्न चिह्न (?) के स्थान पर आ सकती है और पैटर्न को पूरा कर सकती है।

C	3	3	C	T	<input type="checkbox"/>	<input type="checkbox"/>	T	
L	<input type="checkbox"/>	O	L	3	C	O	3	?
O	T	T	<input type="checkbox"/>	O	L	L	C	

Ans

✗ 1.

C		L
<input type="checkbox"/>	T	
3		O

✗ 2.

L		3
<input type="checkbox"/>	C	
O		T

✗ 3.

O		3
L	C	
<input type="checkbox"/>		T

✓ 4.

L		C
<input type="checkbox"/>	T	
O		3

Question Type : MCQ

Question ID : 630680441072

Option 1 ID : 6306801721942

Option 2 ID : 6306801721945

Option 3 ID : 6306801721944

Option 4 ID : 6306801721943

Status : Answered

Chosen Option : 4

Q.7 एक निश्चित कूट भाषा में, 'TIME' को 61 के रूप में कूटबद्ध किया जाता है और 'POND' को 59 के रूप में कूटबद्ध किया जाता है। उसी भाषा में 'BLUE' को किस प्रकार कूटबद्ध किया जाएगा?

Ans 1. 68

2. 71

3. 72

4. 69

Question Type : MCQ

Question ID : 630680465401

Option 1 ID : 6306801817642

Option 2 ID : 6306801817640

Option 3 ID : 6306801817639

Option 4 ID : 6306801817641

Status : Answered

Chosen Option : 1

Q.8 एक निश्चित तर्क का अनुसरण करते हुए 18, 60 से संबंधित है। ठीक उसी तर्क का अनुसरण करते हुए 42, 140 से संबंधित है। उसी तर्क का अनुसरण करते हुए, 33 निम्नलिखित में से किससे संबंधित है?

(ध्यान दें: संख्याओं को उनके घटक अंकों में अलग-अलग किए बिना पूर्ण संख्याओं पर संक्रियाएं की जानी चाहिए। उदाहरण के लिए संख्या 13 - संख्या 13 पर संक्रियाएं जैसे 13 को जोड़ना/घटाना/गुणा करना आदि किया जा सकता है। 13 को 1 और 3 में अलग-अलग करने की और फिर 1 और 3 पर गणितीय संक्रियाएं करने की अनुमति नहीं है।)

Ans 1. 95

2. 80

3. 110

4. 130

Question Type : MCQ

Question ID : 630680449085

Option 1 ID : 6306801753498

Option 2 ID : 6306801753501

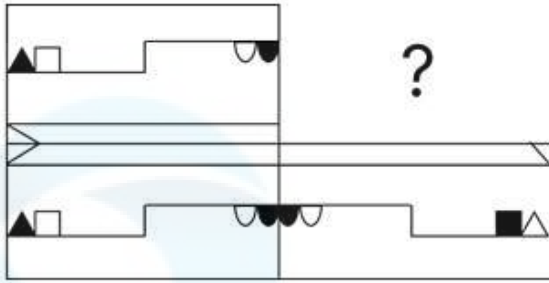
Option 3 ID : 6306801753499

Option 4 ID : 6306801753500

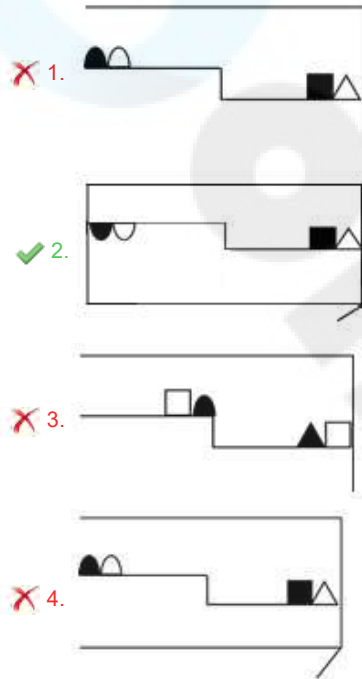
Status : Answered

Chosen Option : 3

Q.9 दिए गए विकल्पों में से उस आकृति का चयन कीजिए जो पैटर्न को पूरा करने के लिए नीचे दी गई आकृति में प्रश्न चिह्न (?) के स्थान पर आएगी।



Ans



Question Type : MCQ

Question ID : 630680525743

Option 1 ID : 6306802055057

Option 2 ID : 6306802055059

Option 3 ID : 6306802055058

Option 4 ID : 6306802055056

Status : Answered

Chosen Option : 2

Q.10 एक निश्चित कूट भाषा में, 'BALE' को '2496' के रूप में कूटबद्ध किया गया है और 'LORD' को '3759' के रूप में कूटबद्ध किया गया है। उसी कूट भाषा में 'L' के लिए कूट क्या होगा?

- Ans
- 1. 5
 - 2. 2
 - 3. 3
 - 4. 9

Question Type : MCQ

Question ID : 630680846724

Option 1 ID : 6306803316627

Option 2 ID : 6306803316626

Option 3 ID : 6306803316625

Option 4 ID : 6306803316624

Status : Answered

Chosen Option : 4

Q.11 सात लोग A, B, C, D, E, F और G एक वृत्ताकार मेज के चारों ओर केंद्र की ओर मुख करके बैठे हैं (परंतु जरूरी नहीं कि वे इसी क्रम में बैठे हों)। C, B के ठीक दाएँ बैठा है। E, B के बाएँ से तीसरे स्थान पर बैठा है। E और F का निकटतम पड़ोसी D है। A, C के ठीक दाएँ बैठा है।

B के सापेक्ष G का स्थान क्या है?

- Ans
- 1. बाएँ से दूसरा
 - 2. ठीक बाएँ ओर
 - 3. दाएँ से दूसरा
 - 4. दाएँ से तीसरा

Question Type : MCQ

Question ID : 630680379515

Option 1 ID : 6306801479103

Option 2 ID : 6306801479106

Option 3 ID : 6306801479105

Option 4 ID : 6306801479104

Status : Answered

Chosen Option : 4

Q.12 दिए गए कथनों और निष्कर्षों को ध्यानपूर्वक पढ़िए। यह मानते हुए कि कथनों में दी गई जानकारी सत्य है, चाहे वह सामान्यतः ज्ञात तथ्यों से भिन्न प्रतीत होती हो और निर्णय लीजिए कि दिए गए निष्कर्षों में से कौन-सा/कौन-से निष्कर्ष कथनों का तार्किक रूप से अनुसरण करता है/करते हैं।

कथन:

- A. कुछ बंदूकें, तलवारें हैं।
B. सभी तलवारें, प्याज हैं।

निष्कर्ष:

- I. सभी बंदूकें, प्याज हैं।
II. कुछ बंदूकें, तलवारें हैं।

- Ans 1. दोनों निष्कर्ष अनुसरण करते हैं
 2. केवल निष्कर्ष II अनुसरण करता है
 3. केवल निष्कर्ष I अनुसरण करता है
 4. कोई भी निष्कर्ष अनुसरण नहीं करता है

Question Type : MCQ

Question ID : 630680399067

Option 1 ID : 6306801556272

Option 2 ID : 6306801556271

Option 3 ID : 6306801556270

Option 4 ID : 6306801556273

Status : Answered

Chosen Option : 2

Q.13 दिए गए कथनों और निष्कर्षों को ध्यानपूर्वक पढ़िए। यह मानते हुए कि कथनों में दी गई जानकारी सत्य है, भले ही यह सामान्यतः ज्ञात तथ्यों से भिन्न प्रतीत होती हो, तय कीजिए कि दिए गए निष्कर्षों में से कौन-सा/से निष्कर्ष कथनों का तार्किक रूप से अनुसरण करता/करते है/हैं।

कथन:

- सभी बार, क्लब हैं।
कुछ बार, जिम हैं।

निष्कर्ष:

- (I) कुछ क्लब, जिम हैं।
(II) कुछ जिम, बार नहीं हैं।

- Ans 1. केवल निष्कर्ष (II) अनुसरण करता है
 2. दोनों निष्कर्ष (I) और (II) अनुसरण करते हैं
 3. केवल निष्कर्ष (I) अनुसरण करता है
 4. न तो निष्कर्ष (I) और न ही निष्कर्ष (II) अनुसरण करता है

Question Type : MCQ

Question ID : 630680815691

Option 1 ID : 6306803196066

Option 2 ID : 6306803196067

Option 3 ID : 6306803196065

Option 4 ID : 6306803196068

Status : Answered

Chosen Option : 3

Q.14 एक निश्चित कूट भाषा में, 'INTO' को '2684' के रूप में कूटबद्ध किया जाता है और 'OPEN' को '3567' के रूप में कूटबद्ध किया जाता है। दी गई कूट भाषा में 'O' के लिए कूट क्या है?

- Ans
- 1. 3
 - 2. 4
 - 3. 6
 - 4. 5

Question Type : MCQ

Question ID : 630680388107

Option 1 ID : 6306801513003

Option 2 ID : 6306801513004

Option 3 ID : 6306801513002

Option 4 ID : 6306801513005

Status : Answered

Chosen Option : 3

Q.15 यदि '+' और '-' को आपस में बदल दिया जाए तथा 'x' और '÷' को भी आपस में बदल दिया जाए तो निम्नलिखित समीकरण में प्रश्न चिह्न (?) के स्थान पर क्या आएगा?
 $2 \div 8 - 25 \times 5 + 9 = ?$

- Ans
- 1. 12
 - 2. 27
 - 3. 30
 - 4. 6

Question Type : MCQ

Question ID : 630680378772

Option 1 ID : 6306801476137

Option 2 ID : 6306801476135

Option 3 ID : 6306801476136

Option 4 ID : 6306801476138

Status : Answered

Chosen Option : 1

Q.16 छः शिक्षक एक वृत्ताकार मेज के चारों ओर केंद्र की ओर मुख करके बैठे हैं (परंतु जरूरी नहीं कि वे इसी क्रम में बैठे हों)। A और F दोनों का निकटतम पड़ोसी C है। E, F के बाएं से दूसरे स्थान पर बैठा है। D, C के बाएं से चौथे स्थान पर बैठा है। A, F के दाएं से दूसरे स्थान पर बैठा है। निम्नलिखित में से कौन-सा कथन सत्य है?

- Ans
- 1. F और D निकटतम पड़ोसी हैं।
 - 2. B, F के ठीक बाएं है।
 - 3. B, F के ठीक दाएं है।
 - 4. D, E के ठीक दाएं है।

Question Type : MCQ

Question ID : 630680383299

Option 1 ID : 6306801494096

Option 2 ID : 6306801494098

Option 3 ID : 6306801494095

Option 4 ID : 6306801494097

Status : Answered

Chosen Option : 2

Q.17 यदि '+' और '÷' को आपस में बदल दिया जाए तथा '×' और '-' को आपस में बदल दिया जाए, तो निम्नलिखित समीकरण में प्रश्न-चिह्न (?) के स्थान पर क्या आएगा?

$$18 \div 6 + 2 - 3 \times 4 = ?$$

- Ans
- 1. 38
 - 2. 32
 - 3. 23
 - 4. 26

Question Type : MCQ
Question ID : 630680388207
Option 1 ID : 6306801513393
Option 2 ID : 6306801513392
Option 3 ID : 6306801513390
Option 4 ID : 6306801513391
Status : Answered
Chosen Option : 3

Q.18 BI 2 एक निश्चित प्रकार से EF 5 से संबंधित है। ठीक उसी प्रकार KR 8, NO 11 से संबंधित है। समान तर्क का अनुसरण करते हुए, TI 3 निम्नलिखित में से किससे संबंधित है?

- Ans
- 1. WF 8
 - 2. WG 8
 - 3. WG 6
 - 4. WF 6

Question Type : MCQ
Question ID : 630680422975
Option 1 ID : 6306801650269
Option 2 ID : 6306801650268
Option 3 ID : 6306801650267
Option 4 ID : 6306801650270
Status : Answered
Chosen Option : 4

Q.19 अंग्रेजी वर्णानुक्रम के आधार पर दी गई श्रृंखला में प्रश्न चिह्न (?) के स्थान पर क्या आना चाहिए?

ESG, GTK, IUO, KVS, ?

- Ans
- 1. MWW
 - 2. NWX
 - 3. MWX
 - 4. NWW

Question Type : MCQ
Question ID : 630680459275
Option 1 ID : 6306801793953
Option 2 ID : 6306801793956
Option 3 ID : 6306801793954
Option 4 ID : 6306801793955
Status : Answered
Chosen Option : 1

Q.20 एक निश्चित तर्क का अनुसरण करते हुए 21, 73 से संबंधित है। उसी तर्क का अनुसरण करते हुए, 28, 94 से संबंधित है। उसी तर्क का अनुसरण करते हुए, 35 निम्नलिखित में से किससे संबंधित है?

(ध्यान दें: संख्याओं को उनके घटक अंकों में अलग-अलग किए बिना पूर्ण संख्याओं पर संक्रियाएं की जानी चाहिए। उदाहरण के लिए संख्या 13 - संख्या 13 पर संक्रियाएं जैसे 13 को जोड़ना/घटाना/गुणा करना आदि किया जा सकता है। 13 को 1 और 3 में अलग-अलग करने की और फिर 1 और 3 पर गणितीय संक्रियाएं करने की अनुमति नहीं है।)

- Ans
- 1. 105
 - 2. 101
 - 3. 115
 - 4. 110

Question Type : MCQ
Question ID : 630680446722
Option 1 ID : 6306801744184
Option 2 ID : 6306801744185
Option 3 ID : 6306801744182
Option 4 ID : 6306801744183
Status : Answered
Chosen Option : 3

Section : General Awareness

Q.1 निम्नलिखित विकल्पों में से गलत कथन का चयन कीजिए।

- Ans
- 1. कथन और वाष्पीकरण दोनों ही समष्टि परिघटनाएं हैं।
 - 2. वाष्पीकरण एक पृष्ठीय परिघटना (surface phenomenon) है।
 - 3. वाष्पीकरण से शीतलता उत्पन्न होती है।
 - 4. कथन एक समष्टि परिघटना (bulk phenomenon) है।

Question Type : MCQ
Question ID : 630680422665
Option 1 ID : 6306801649097
Option 2 ID : 6306801649096
Option 3 ID : 6306801649098
Option 4 ID : 6306801649095
Status : Answered
Chosen Option : 2

Q.2 भारत के विभाजन के परिणामस्वरूप निम्नलिखित में से कौन से दो देश बने?

- Ans
- 1. भारत और पाकिस्तान
 - 2. भारत और श्रीलंका
 - 3. भारत और बांग्लादेश
 - 4. भारत और नेपाल

Question Type : MCQ
Question ID : 630680682885
Option 1 ID : 6306802674286
Option 2 ID : 6306802674285
Option 3 ID : 6306802674283
Option 4 ID : 6306802674284
Status : Answered
Chosen Option : 1

Q.3 कर्नाटक के जैन बस्ती मंदिर (Jain Basti temple) में, गर्भगृह के ऊपर एक वर्गाकार ग्रीवा और शिखर के साथ _____ मंजिला निरंधर विमान (nirandhara vimana) बना हुआ है।

- Ans 1. पाँच
 2. सात
 3. तीन
 4. ग्यारह

Question Type : MCQ
Question ID : 630680593382
Option 1 ID : 6306802321821
Option 2 ID : 6306802321822
Option 3 ID : 6306802321820
Option 4 ID : 6306802321823
Status : Answered
Chosen Option : 3

Q.4 स्ट्रेट फ्रॉम द हार्ट ('Straight from the Heart') किस प्रसिद्ध क्रिकेटर की आत्मकथा है?

- Ans 1. मदन लाल
 2. कपिल देव
 3. सुनील गावस्कर
 4. मोहिंदर अमरनाथ

Question Type : MCQ
Question ID : 630680798914
Option 1 ID : 6306803130463
Option 2 ID : 6306803130464
Option 3 ID : 6306803130462
Option 4 ID : 6306803130465
Status : Answered
Chosen Option : 3

Q.5 अंतरराष्ट्रीय मानकों के अनुसार क्रिकेट में विकेट के स्टंप की ऊंचाई कितनी होती है?

- Ans 1. 29 इंच
 2. 30 इंच
 3. 28 इंच
 4. 31 इंच

Question Type : MCQ
Question ID : 630680552192
Option 1 ID : 6306802158954
Option 2 ID : 6306802158955
Option 3 ID : 6306802158953
Option 4 ID : 6306802158956
Status : Answered
Chosen Option : 3

Q.6 निम्नलिखित में से कौन-सी नृत्य शैली चिदम्बरम (Chidambaram) के प्राचीन मंदिर की मूर्तियों से प्रेरित है?

- Ans
- 1. सल्लिया
 - 2. मणिपुरी
 - 3. कुचिपुड़ी
 - 4. भरतनाट्यम

Question Type : MCQ

Question ID : 630680403226

Option 1 ID : 6306801572402

Option 2 ID : 6306801572401

Option 3 ID : 6306801572404

Option 4 ID : 6306801572403

Status : Answered

Chosen Option : 3

Q.7 कॉर्नवालिस (Cornwallis) द्वारा शुरू किया गया स्थायी बंदोबस्त भारत के निम्नलिखित में से किस क्षेत्र में प्रचलित (prevalent) नहीं था?

- Ans
- 1. बिहार
 - 2. बंगाल
 - 3. ओडिशा
 - 4. पंजाब

Question Type : MCQ

Question ID : 630680303406

Option 1 ID : 6306801180274

Option 2 ID : 6306801180277

Option 3 ID : 6306801180276

Option 4 ID : 6306801180275

Status : Answered

Chosen Option : 2

Q.8 भारत के संविधान का कौन सा अनुच्छेद जनसंख्या जनगणना को नियंत्रित करता है?

- Ans
- 1. अनुच्छेद 246
 - 2. अनुच्छेद 179
 - 3. अनुच्छेद 233
 - 4. अनुच्छेद 128

Question Type : MCQ

Question ID : 630680113510

Option 1 ID : 630680439574

Option 2 ID : 630680439576

Option 3 ID : 630680439575

Option 4 ID : 630680439577

Status : Answered

Chosen Option : 1

Q.9 भारतीय संविधान के भाग VI का कौन-सा अध्याय राज्य विधानमंडलों (State Legislatures) से संबंधित है?

- Ans
- 1. अध्याय VII
 - 2. अध्याय V
 - 3. अध्याय II
 - 4. अध्याय III

Question Type : MCQ
Question ID : 630680493672
Option 1 ID : 6306801928419
Option 2 ID : 6306801928418
Option 3 ID : 6306801928416
Option 4 ID : 6306801928417
Status : Answered
Chosen Option : 4

Q.10 भारत में मानसून के आगे बढ़ने (advancing of monsoon) के अनुसार, निम्नलिखित में से किस शहर में प्रत्येक वर्ष 15 जून के बाद वर्षा होती है?

- Ans
- 1. बेंगलुरु
 - 2. हैदराबाद
 - 3. इफाल
 - 4. जयपुर

Question Type : MCQ
Question ID : 630680484486
Option 1 ID : 6306801892260
Option 2 ID : 6306801892261
Option 3 ID : 6306801892259
Option 4 ID : 6306801892258
Status : Answered
Chosen Option : 1

Q.11 भारतीय संविधान के निम्नलिखित में से किस संशोधन अधिनियम के द्वारा 11वाँ मौलिक कर्तव्य शामिल किया गया था?

- Ans
- 1. 42वाँ
 - 2. 86वाँ
 - 3. 53वाँ
 - 4. 70वाँ

Question Type : MCQ
Question ID : 630680549068
Option 1 ID : 6306802146748
Option 2 ID : 6306802146751
Option 3 ID : 6306802146749
Option 4 ID : 6306802146750
Status : Answered
Chosen Option : 2

Q.12 निम्नलिखित में से सदस्यता पर ध्यान केंद्रित करने के संबंध में एस. एच. जी. (SHGs) के सहकारी विकास फाउंडेशन (Cooperative Development Foundation - CDF) मॉडल की प्राथमिक विशेषता की पहचान कीजिए।

- Ans
- 1. इसमें महिलाओं को सदस्यता से बाहर रखा गया है।
 - 2. इसमें निर्धन और निर्धनेतर दोनों सदस्य शामिल होते हैं।
 - 3. यह विशेष रूप से निर्धन सदस्यों को लक्षित करता है।
 - 4. यह विशेष रूप से निर्धनेतर सदस्यों को लक्षित करता है।

Question Type : MCQ

Question ID : 630680798965

Option 1 ID : 6306803130661

Option 2 ID : 6306803130658

Option 3 ID : 6306803130660

Option 4 ID : 6306803130659

Status : Answered

Chosen Option : 2

Q.13 सेल्युकस निकेटर (Seleucus Nicator) _____ का समकालीन था।

- Ans
- 1. कनिष्क
 - 2. कालाशोक
 - 3. चाणक्य
 - 4. अशोक

Question Type : MCQ

Question ID : 630680649797

Option 1 ID : 6306802544324

Option 2 ID : 6306802544325

Option 3 ID : 6306802544322

Option 4 ID : 6306802544323

Status : Answered

Chosen Option : 3

Q.14 दिल्ली के निम्नलिखित सुल्तानों में से किसने दिल्ली में विभिन्न वस्तुओं के लिए तीन अलग-अलग बाजार स्थापित किए?

- Ans
- 1. सिकंदर लोदी
 - 2. मुहम्मद बिन तुगलक
 - 3. अलाउद्दीन खिलजी
 - 4. गयासुद्दीन बलबन

Question Type : MCQ

Question ID : 630680333887

Option 1 ID : 6306801298822

Option 2 ID : 6306801298821

Option 3 ID : 6306801298824

Option 4 ID : 6306801298823

Status : Answered

Chosen Option : 3

Q.15 नवंबर 2023 में, सशस्त्र बल न्यायाधिकरण (Armed Forces Tribunal) के अध्यक्ष के रूप में किसे पुनः नियुक्त किया गया?

- Ans
- 1. जस्टिस एनवी रमना
 - 2. जस्टिस शरद अरविंद बोबडे
 - 3. जस्टिस राजेंद्र मेनन
 - 4. जस्टिस आरएफ नरीमन

Question Type : MCQ
Question ID : 630680488599
Option 1 ID : 6306801908420
Option 2 ID : 6306801908421
Option 3 ID : 6306801908422
Option 4 ID : 6306801908419
Status : Answered
Chosen Option : 2

Q.16 तेल और वसा का आयोडीन मान _____ दर्शाता है।

- Ans
- 1. उपस्थित आयोडीन परमाणुओं की संख्या (number of iodine atoms present)
 - 2. संतृप्ति कोटि (degree of saturation)
 - 3. असंतृप्ति कोटि (degree of unsaturation)
 - 4. उपस्थित C परमाणुओं की संख्या (number of C atoms present)

Question Type : MCQ
Question ID : 630680276089
Option 1 ID : 6306801072870
Option 2 ID : 6306801072868
Option 3 ID : 6306801072869
Option 4 ID : 6306801072867
Status : Answered
Chosen Option : 3

Q.17 निम्न में से किस नृत्यांगना को लोक नृत्य में उसके योगदान के लिए वर्ष 2021 में प्रतिष्ठित पद्मश्री पुरस्कार से सम्मानित किया गया ?

- Ans
- 1. कुमुदिनी लाखिया (Kumudini Lakhia)
 - 2. तीजन बाई (Teejan Bai)
 - 3. अमुबी सिंह (Amubi Singh)
 - 4. मठ बी मंजम्मा जोगाती (Matha B Manjamma Jogathi)

Question Type : MCQ
Question ID : 63068084248
Option 1 ID : 630680326547
Option 2 ID : 630680326545
Option 3 ID : 630680326544
Option 4 ID : 630680326546
Status : Answered
Chosen Option : 2

Q.18 1974 में, एम.एस. सुब्बुलक्ष्मी _____ जीतने वाली पहली भारतीय संगीतकार बनीं।

- Ans
- 1. ग्रैमी पुरस्कार
 - 2. रेमन मैग्सेसे पुरस्कार
 - 3. राइट लाइवलीहुड अवार्ड
 - 4. पुलित्जर पुरस्कार

Question Type : MCQ

Question ID : 630680481978

Option 1 ID : 6306801882413

Option 2 ID : 6306801882412

Option 3 ID : 6306801882414

Option 4 ID : 6306801882411

Status : Answered

Chosen Option : 1

Q.19 भाखड़ा बांध (Bhakra Dam) का निर्माण निम्नलिखित में से किस नदी पर हुआ है?

- Ans
- 1. चेनाब
 - 2. ब्यास
 - 3. रावी
 - 4. सतलुज

Question Type : MCQ

Question ID : 630680404330

Option 1 ID : 6306801576825

Option 2 ID : 6306801576823

Option 3 ID : 6306801576822

Option 4 ID : 6306801576824

Status : Answered

Chosen Option : 4

Q.20 जनसंख्या में शामिल जीवों की संख्या को क्षेत्रफल या आयतन की सामान्य इकाई द्वारा विभाजित करने पर _____ प्राप्त होता है।

- Ans
- 1. जनसंख्या घनत्व
 - 2. जन्म दर
 - 3. जनसंख्या आकार
 - 4. मृत्यु दर

Question Type : MCQ

Question ID : 630680611029

Option 1 ID : 6306802390977

Option 2 ID : 6306802390978

Option 3 ID : 6306802390976

Option 4 ID : 6306802390979

Status : Answered

Chosen Option : 1

Q.21 नेविल स्टीवन जोसेफ डिसूजा (Neville Steven Joseph D'Souza) किस खेल से जुड़े हैं?

Ans 1. फुटबॉल

2. टेनिस

3. कबड्डी

4. कुश्ती

Question Type : MCQ

Question ID : 630680543554

Option 1 ID : 6306802125022

Option 2 ID : 6306802125023

Option 3 ID : 6306802125024

Option 4 ID : 6306802125021

Status : Answered

Chosen Option : 1

Q.22 भारत की जनगणना 2011 के अनुसार, भारत में निम्नलिखित में से किस राज्य में शहरी जनसंख्या का प्रतिशत सबसे अधिक है?

Ans 1. महाराष्ट्र

2. गुजरात

3. तमिलनाडु

4. मिजोरम

Question Type : MCQ

Question ID : 630680510924

Option 1 ID : 6306801996826

Option 2 ID : 6306801996829

Option 3 ID : 6306801996828

Option 4 ID : 6306801996827

Status : Answered

Chosen Option : 1

Q.23 भारत की किस राज्य सरकार ने राज्य की बुनकरों को आत्मनिर्भर बनाने के उद्देश्य से 'स्वनिर्भर नारी' योजना शुरू की थी?

Ans 1. छत्तीसगढ़

2. असम

3. बिहार

4. झारखंड

Question Type : MCQ

Question ID : 630680467044

Option 1 ID : 6306801824129

Option 2 ID : 6306801824132

Option 3 ID : 6306801824131

Option 4 ID : 6306801824130

Status : Answered

Chosen Option : 4

Q.24 निम्नलिखित में से किस त्योहार के साथ दिवाली का पांच दिवसीय त्योहार समाप्त होता है?

- Ans 1. भाई दूज
 2. धनतेरस
 3. गोवर्धन पूजा
 4. नरक चतुर्दशी

Question Type : MCQ
Question ID : 630680546739
Option 1 ID : 6306802137527
Option 2 ID : 6306802137529
Option 3 ID : 6306802137526
Option 4 ID : 6306802137528
Status : Answered
Chosen Option : 1

Q.25 वह क्षेत्र क्या कहलाता है जहाँ कोई भी भूकंपीय तरंग अभिलेखित (observed) नहीं होती?

- Ans 1. छाया क्षेत्र (Shadow Zone)
 2. अधिकेंद्र (Epicentre)
 3. अवकेंद्र (Hypocentre)
 4. नितलस्थ क्षेत्र (Benthic Zone)

Question Type : MCQ
Question ID : 630680455676
Option 1 ID : 6306801779653
Option 2 ID : 6306801779655
Option 3 ID : 6306801779654
Option 4 ID : 6306801779656
Status : Answered
Chosen Option : 1

Section : English Language and Comprehension

Q.1 Select the most appropriate meaning of the given word.
Fragile

- Ans 1. Brittle
 2. Juicy
 3. Florid
 4. Strong

Question Type : MCQ
Question ID : 630680452046
Option 1 ID : 6306801765274
Option 2 ID : 6306801765276
Option 3 ID : 6306801765277
Option 4 ID : 6306801765275
Status : Answered
Chosen Option : 1

Q.2 Select the INCORRECTLY spelt word.

"The architektur of the building is marvellous", said the spectators.

- Ans 1. Building
 2. Architektur
 3. Spectators
 4. Marvellous

Question Type : MCQ

Question ID : 6306801046657

Option 1 ID : 6306804108754

Option 2 ID : 6306804108753

Option 3 ID : 6306804108756

Option 4 ID : 6306804108755

Status : Answered

Chosen Option : 2

Q.3 Select the most appropriate synonym of the given word to fill in the blank.

Averted

Rohit _____ looking at Sheena's face while we were talking about domestic violence.

- Ans 1. confronted
 2. saw
 3. avoided
 4. fostered

Question Type : MCQ

Question ID : 630680393349

Option 1 ID : 6306801533722

Option 2 ID : 6306801533724

Option 3 ID : 6306801533723

Option 4 ID : 6306801533725

Status : Answered

Chosen Option : 3

Q.4 Identify the spelling error in the given sentence.

The restaurant offered a diverse menu with a wide renge of culinary options.

- Ans 1. restaurant
 2. options
 3. diverse
 4. renge

Question Type : MCQ

Question ID : 630680619871

Option 1 ID : 6306802425613

Option 2 ID : 6306802425615

Option 3 ID : 6306802425614

Option 4 ID : 6306802425616

Status : Answered

Chosen Option : 4

Q.5 Select the most appropriate option to fill in the blank.

The charismatic leader's speeches were known for their _____ impact on motivating people to take positive actions.

- Ans
- 1. impenitence
 - 2. doldrums
 - 3. profound
 - 4. frugal

Question Type : **MCQ**

Question ID : **630680598077**

Option 1 ID : **6306802340116**

Option 2 ID : **6306802340117**

Option 3 ID : **6306802340115**

Option 4 ID : **6306802340114**

Status : **Answered**

Chosen Option : **3**

Q.6 The following sentence has been split into four segments. Identify the segment that contains a grammatical error.

He climbed of / the steep mountain trail, / his backpack heavy / with supplies for the journey.

- Ans
- 1. the steep mountain trail,
 - 2. He climbed of
 - 3. his backpack heavy
 - 4. with supplies for the journey.

Question Type : **MCQ**

Question ID : **630680618990**

Option 1 ID : **6306802422237**

Option 2 ID : **6306802422236**

Option 3 ID : **6306802422238**

Option 4 ID : **6306802422239**

Status : **Answered**

Chosen Option : **3**

Q.7 Select the most appropriate option to fill in the blank.

The Kumbh Mela (the festival of the sacred Pitcher) is the world's biggest peaceful gathering of pilgrims, with participants bathing or taking the dip in the _____ river.

- Ans
- 1. depth
 - 2. sacred
 - 3. profane
 - 4. shallow

Question Type : **MCQ**

Question ID : **630680515246**

Option 1 ID : **6306802013450**

Option 2 ID : **6306802013452**

Option 3 ID : **6306802013449**

Option 4 ID : **6306802013451**

Status : **Answered**

Chosen Option : **2**

Q.8 Select the most appropriate idiom that can substitute the underlined segment in the given sentence.

Lisa was very excited about her promotion; she was very happy and delighted.

- Ans
- 1. on the attack
 - 2. on cloud nine
 - 3. on the ball
 - 4. under the weather

Question Type : **MCQ**
Question ID : **630680540018**
Option 1 ID : **6306802111173**
Option 2 ID : **6306802111172**
Option 3 ID : **6306802111175**
Option 4 ID : **6306802111174**
Status : **Answered**
Chosen Option : **2**

Q.9 Select the most appropriate synonym of the given word.

Odious

- Ans
- 1. Repugnant
 - 2. Beautiful
 - 3. Pleasant
 - 4. Acceptable

Question Type : **MCQ**
Question ID : **630680597312**
Option 1 ID : **6306802337289**
Option 2 ID : **6306802337292**
Option 3 ID : **6306802337290**
Option 4 ID : **6306802337291**
Status : **Answered**
Chosen Option : **1**

Q.10 The following sentence contains an error. Select the option that correctly rectifies the error.

Along with his friend, he walked till the end of the street and came back immediately.

- Ans
- 1. for came back immediately
 - 2. end by the street
 - 3. he walked to the
 - 4. Near with his friend,

Question Type : **MCQ**
Question ID : **63068087112**
Option 1 ID : **630680337840**
Option 2 ID : **630680337839**
Option 3 ID : **630680337838**
Option 4 ID : **630680337837**
Status : **Answered**
Chosen Option : **3**

Q.11 Select the correct spelling from the given options to fill in the blank.
They may vary and seem very different, but they are not _____.

- Ans
- 1. irrecosilable
 - 2. irrecincilable
 - 3. ireconcilable
 - 4. irreconcilable

Question Type : **MCQ**

Question ID : **630680310025**

Option 1 ID : **6306801206246**

Option 2 ID : **6306801206248**

Option 3 ID : **6306801206245**

Option 4 ID : **6306801206247**

Status : **Answered**

Chosen Option : **4**

Q.12 Select the most appropriate meaning of the given idiom.
A dime a dozen

- Ans
- 1. To take revenge
 - 2. To be in a difficult situation
 - 3. Very common
 - 4. Very rare

Question Type : **MCQ**

Question ID : **630680454081**

Option 1 ID : **6306801773262**

Option 2 ID : **6306801773261**

Option 3 ID : **6306801773259**

Option 4 ID : **6306801773260**

Status : **Answered**

Chosen Option : **3**

Q.13 Select the option that rectifies the given sentence.
She runs very quick in marathons.

- Ans
- 1. She run very quick in marathons.
 - 2. She run much quickly in marathons.
 - 3. She runs very quickly in marathons.
 - 4. She runs much quickly in marathons.

Question Type : **MCQ**

Question ID : **630680726465**

Option 1 ID : **6306802846869**

Option 2 ID : **6306802846866**

Option 3 ID : **6306802846868**

Option 4 ID : **6306802846867**

Status : **Answered**

Chosen Option : **3**

Q.14 Select the most appropriate meaning of the given idiom.

Brought to light

- Ans 1. To seem likely
 2. To disclose
 3. To burn
 4. In favour of

Question Type : **MCQ**

Question ID : **630680799115**

Option 1 ID : **6306803131260**

Option 2 ID : **6306803131259**

Option 3 ID : **6306803131258**

Option 4 ID : **6306803131261**

Status : **Answered**

Chosen Option : 2

Q.15 Select the option that can be used as one-word substitute for the given group of words.

Detailed examination of something complex

- Ans 1. Dialysis
 2. Symbiosis
 3. Analysis
 4. Synthesis

Question Type : **MCQ**

Question ID : **630680438005**

Option 1 ID : **6306801709842**

Option 2 ID : **6306801709841**

Option 3 ID : **6306801709843**

Option 4 ID : **6306801709840**

Status : **Answered**

Chosen Option : 3

Q.16 Which of the following sentences contains an error in the use of a phrasal verb?

- Ans 1. Try your level best before you decide to give up.
 2. Make over the bed daily. It is a good habit.
 3. The old lady broke down when she heard her son lost his job.
 4. Clean out the backyard this weekend.

Question Type : **MCQ**

Question ID : **630680460599**

Option 1 ID : **6306801798683**

Option 2 ID : **6306801798685**

Option 3 ID : **6306801798682**

Option 4 ID : **6306801798684**

Status : **Answered**

Chosen Option : 4

Q.17 Select the most appropriate synonym that can substitute the underlined word in the given sentence.

The author's writing was so captivating that readers were enthralled by every word.

- Ans
- 1. bored
 - 2. jaded
 - 3. annoyed
 - 4. fascinated

Question Type : **MCQ**

Question ID : **630680726553**

Option 1 ID : **6306802847218**

Option 2 ID : **6306802847219**

Option 3 ID : **6306802847221**

Option 4 ID : **6306802847220**

Status : **Answered**

Chosen Option : **4**

Q.18 In the following sentence the underlined part contains an error. Alternatives to the underlined part are given as options. Select the correct alternative.
The table looks proper in the centre than in the corner.

- Ans
- 1. most proper
 - 2. properer
 - 3. properly
 - 4. more proper

Question Type : **MCQ**

Question ID : **630680514729**

Option 1 ID : **6306802011543**

Option 2 ID : **6306802011541**

Option 3 ID : **6306802011544**

Option 4 ID : **6306802011542**

Status : **Answered**

Chosen Option : **4**

Q.19 Select the most appropriate synonym of the given word.
Illicit

- Ans
- 1. Illegal
 - 2. Integral
 - 3. Inaugural
 - 4. Inessential

Question Type : **MCQ**

Question ID : **630680438011**

Option 1 ID : **6306801709864**

Option 2 ID : **6306801709866**

Option 3 ID : **6306801709865**

Option 4 ID : **6306801709867**

Status : **Answered**

Chosen Option : **1**

Q.20 Select the option that expresses the given sentence in present perfect continuous tense form

Rama is working on this project.

- Ans**
- 1. Rama has been working on this project since six months.
 - 2. Rama has been working on this project for six months.
 - 3. Rama is working on this project for six months.
 - 4. Rama has worked on this project for six months

Question Type : **MCQ**

Question ID : **63068082883**

Option 1 ID : **630680321399**

Option 2 ID : **630680321398**

Option 3 ID : **630680321396**

Option 4 ID : **630680321397**

Status : **Answered**

Chosen Option : **2**

Comprehension:

In the following passage, some words have been deleted. Read the passage carefully and select the most appropriate option to fill in each blank.

Hyojeng, a twenty-five-year-old South Korean Youtuber (1)_____ since the age of 16. She (2)_____ around twenty-five countries so far. (3)_____ India was high on her wish list. She is currently soaking in the energy of Mumbai and planning to (4)_____ more of this beautiful city. Unfortunately, her experience of the city turned sour recently. She was filming on the streets of Mumbai and two men tried to hug and kiss her, which was captured in her video. The video (5)_____ viral and the Mumbai police swung into action.

SubQuestion No : 21

Q.21 Select the most appropriate option to fill in blank number 1.

- Ans**
- 1. have been travelling
 - 2. has been travelling
 - 3. would have travelled
 - 4. will be travelling

Question Type : **MCQ**

Question ID : **630680206299**

Option 1 ID : **630680799983**

Option 2 ID : **630680799984**

Option 3 ID : **630680799985**

Option 4 ID : **630680799986**

Status : **Answered**

Chosen Option : **1**

Comprehension:

In the following passage, some words have been deleted. Read the passage carefully and select the most appropriate option to fill in each blank.

Hyojeng, a twenty-five-year-old South Korean Youtuber (1) _____ since the age of 16. She (2) _____ around twenty-five countries so far. (3) _____ India was high on her wish list. She is currently soaking in the energy of Mumbai and planning to (4) _____ more of this beautiful city. Unfortunately, her experience of the city turned sour recently. She was filming on the streets of Mumbai and two men tried to hug and kiss her, which was captured in her video. The video (5) _____ viral and the Mumbai police swung into action.

SubQuestion No : 22

Q.22 Select the most appropriate option to fill in blank number 2.

- Ans** 1. has covered
 2. had been covered
 3. was covered
 4. will have covered

Question Type : **MCQ**
Question ID : **630680206300**
Option 1 ID : **630680799987**
Option 2 ID : **630680799989**
Option 3 ID : **630680799988**
Option 4 ID : **630680799990**
Status : **Answered**
Chosen Option : 1

Comprehension:

In the following passage, some words have been deleted. Read the passage carefully and select the most appropriate option to fill in each blank.

Hyojeng, a twenty-five-year-old South Korean Youtuber (1) _____ since the age of 16. She (2) _____ around twenty-five countries so far. (3) _____ India was high on her wish list. She is currently soaking in the energy of Mumbai and planning to (4) _____ more of this beautiful city. Unfortunately, her experience of the city turned sour recently. She was filming on the streets of Mumbai and two men tried to hug and kiss her, which was captured in her video. The video (5) _____ viral and the Mumbai police swung into action.

SubQuestion No : 23

Q.23 Select the most appropriate option to fill in blank number 3.

- Ans** 1. Visiting
 2. Moving
 3. Moved
 4. Visit

Question Type : **MCQ**
Question ID : **630680206301**
Option 1 ID : **630680799992**
Option 2 ID : **630680799993**
Option 3 ID : **630680799994**
Option 4 ID : **630680799991**
Status : **Answered**
Chosen Option : 1

Comprehension:

In the following passage, some words have been deleted. Read the passage carefully and select the most appropriate option to fill in each blank.

Hyojeng, a twenty-five-year-old South Korean Youtuber (1) _____ since the age of 16. She (2) _____ around twenty-five countries so far. (3) _____ India was high on her wish list. She is currently soaking in the energy of Mumbai and planning to (4) _____ more of this beautiful city. Unfortunately, her experience of the city turned sour recently. She was filming on the streets of Mumbai and two men tried to hug and kiss her, which was captured in her video. The video (5) _____ viral and the Mumbai police swung into action.

SubQuestion No : 24

Q.24 Select the most appropriate option to fill in blank number 4.

- Ans
- 1. having explored
 - 2. to be explored
 - 3. explore
 - 4. exploring

Question Type : **MCQ**

Question ID : **630680206302**

Option 1 ID : **630680799998**

Option 2 ID : **630680799996**

Option 3 ID : **630680799997**

Option 4 ID : **630680799995**

Status : **Answered**

Chosen Option : **3**

Comprehension:

In the following passage, some words have been deleted. Read the passage carefully and select the most appropriate option to fill in each blank.

Hyojeng, a twenty-five-year-old South Korean Youtuber (1) _____ since the age of 16. She (2) _____ around twenty-five countries so far. (3) _____ India was high on her wish list. She is currently soaking in the energy of Mumbai and planning to (4) _____ more of this beautiful city. Unfortunately, her experience of the city turned sour recently. She was filming on the streets of Mumbai and two men tried to hug and kiss her, which was captured in her video. The video (5) _____ viral and the Mumbai police swung into action.

SubQuestion No : 25

Q.25 Select the most appropriate option to fill in blank number 5.

- Ans
- 1. gone
 - 2. going
 - 3. went
 - 4. go

Question Type : **MCQ**

Question ID : **630680206303**

Option 1 ID : **630680799999**

Option 2 ID : **630680800002**

Option 3 ID : **630680800001**

Option 4 ID : **630680800000**

Status : **Answered**

Chosen Option : **3**