

Multi Tasking Non Technical Staff and Havaladar CBIC and CBN Examination 2024

Roll Number	
Candidate Name	
Venue Name	Cavalier Animation - Education Foundation
Exam Date	14/10/2024
Exam Time	4:00 PM - 5:30 PM
Subject	MTS Non Tech Havaladar CBIC and CBN Examination 2024

Section : Numerical and Mathematical Ability

Q.1 50 छात्रों के एक समूह की औसत लंबाई 175 cm है। यदि 180 cm की औसत लंबाई वाले 40 छात्रों के एक अन्य समूह को इसमें शामिल किया जाता है, तो दोनों समूह को मिलाकर औसत (cm में, निकटतम cm तक पूर्णांकित) ज्ञात करें।

Ans 1. 177

2. 176

3. 174

4. 178

Question Type : MCQ

Question ID : 630680203528

Option 1 ID : 630680789313

Option 2 ID : 630680789311

Option 3 ID : 630680789312

Option 4 ID : 630680789314

Status : Answered

Chosen Option : 1

Q.2 9 व्यक्तियों का एक समूह 30 दिनों तक ₹8,100 में गुज़ारा कर सकता है। 7 व्यक्तियों का समूह ₹8,400 में कितने समय तक गुज़ारा कर सकता है?

Ans 1. 25 दिन

2. 43 दिन

3. 40 दिन

4. 31 दिन

Question Type : MCQ

Question ID : 630680517113

Option 1 ID : 6306802020848

Option 2 ID : 6306802020851

Option 3 ID : 6306802020850

Option 4 ID : 6306802020849

Status : Answered

Chosen Option : 2

Q.3 3 वर्षों के लिए 7% प्रति वर्ष की ब्याज दर पर उधार ली गई राशि ₹3500 पर साधारण ब्याज (₹ में) ज्ञात कीजिए।

- Ans 1. 675
 2. 775
 3. 735
 4. 695

Question Type : MCQ

Question ID : 630680591979

Option 1 ID : 6306802316385

Option 2 ID : 6306802316384

Option 3 ID : 6306802316383

Option 4 ID : 6306802316386

Status : Answered

Chosen Option : 3

Q.4 तीन उम्मीदवारों ने एक चुनाव लड़ा और उन्हें क्रमशः 1136, 7636 और 11628 मत प्राप्त हुए। हारने वाले प्रत्याशी (सबसे आखिर में आने वाला) को कुल मतों के कितने प्रतिशत मत मिले? (दो दशमलव स्थान तक गणना करें)।

- Ans 1. 6.34%
 2. 7.89%
 3. 3.89%
 4. 5.57%

Question Type : MCQ

Question ID : 630680464489

Option 1 ID : 6306801813992

Option 2 ID : 6306801813994

Option 3 ID : 6306801813993

Option 4 ID : 6306801813991

Status : Answered

Chosen Option : 4

Q.5 512 और 296 का महत्तम समापवर्तक कितना है?

- Ans 1. 8
 2. 4
 3. 32
 4. 37

Question Type : MCQ

Question ID : 630680101177

Option 1 ID : 630680393230

Option 2 ID : 630680393231

Option 3 ID : 630680393228

Option 4 ID : 630680393229

Status : Answered

Chosen Option : 1

Q.6 यदि किसी गोले के आयतन को उसके पृष्ठीय क्षेत्रफल से विभाजित किया जाता है, तो परिणाम 54 cm होता है। गोले की त्रिज्या कितनी है?

- Ans 1. 166 cm
 2. 111 cm
 3. 162 cm
 4. 182 cm

Question Type : MCQ

Question ID : 630680108502

Option 1 ID : 630680420970

Option 2 ID : 630680420968

Option 3 ID : 630680420969

Option 4 ID : 630680420971

Status : Answered

Chosen Option : 3

Q.7 दी गई तालिका का अध्ययन कीजिए और निम्नलिखित प्रश्न का उत्तर दीजिए।

दी गई तालिका चार वर्षों के लिए किसी कंपनी में विभिन्न श्रेणियों के कर्मचारियों में शामिल किए गए नए कर्मचारियों की संख्या और इन श्रेणियों के प्रत्येक वर्ष कंपनी छोड़ने वाले कर्मचारियों की संख्या को दर्शाती है।

वर्ष	प्रबंधक		तकनीशियन		लेखाकार	
	नए शामिल	छोड़ दिए	नए शामिल	छोड़ दिए	नए शामिल	छोड़ दिए
2001	280	120	260	50	200	100
2002	300	92	340	160	228	95
2003	310	150	450	200	254	125
2004	420	120	480	180	260	120

वर्ष 2001 से 2004 की अवधि के दौरान कंपनी में शामिल होने वाले प्रबंधकों की कुल संख्या और कंपनी में नए शामिल किए गए लेखाकारों की कुल संख्या के बीच का अंतर कितना है?

- Ans
- 1. 332
 - 2. 259
 - 3. 300
 - 4. 368

Question Type : MCQ

Question ID : 630680523750

Option 1 ID : 6306802047153

Option 2 ID : 6306802047152

Option 3 ID : 6306802047151

Option 4 ID : 6306802047154

Status : Answered

Chosen Option : 4

Q.8 एक दुकानदार सामान को उसी मूल्य दर पर बेचता है जिस मूल्य दर पर उसने इन्हें खरीदा था, लेकिन वह ग्राहक को 20% कम मात्रा देता है। उसका लाभ प्रतिशत ज्ञात कीजिए।

Ans 1. 25%

2. 15%

3. 20%

4. 30%

Question Type : MCQ

Question ID : 630680109018

Option 1 ID : 630680422937

Option 2 ID : 630680422938

Option 3 ID : 630680422936

Option 4 ID : 630680422939

Status : Answered

Chosen Option : 1

Q.9 एक चोर 12.40 p.m. पर एक बाइक चुराता है और इसे 45 km/h की चाल से भगाता है। चोरी के बारे में 1 p.m. पर पता चलता है और मालिक 65 km/h की चाल से कार में उस दिशा में जाता है, जिस दिशा में चोर जा रहा था। मालिक चोर को कितने बजे पकड़ सकता है?

Ans 1. 1:45 p.m.

2. 2:00 p.m.

3. 2:10 p.m.

4. 1:30 p.m.

Question Type : MCQ

Question ID : 630680267443

Option 1 ID : 6306801039149

Option 2 ID : 6306801039150

Option 3 ID : 6306801039148

Option 4 ID : 6306801039147

Status : Answered

Chosen Option : 1

Q.10 दो रेलगाड़ियां समान चाल से विपरीत दिशाओं में चल रही हैं। प्रत्येक रेलगाड़ी की लंबाई 180 m है। यदि वे 12 सेकंड में एक-दूसरे को पार करती हैं, तो प्रत्येक रेलगाड़ी की चाल (km/h में) क्या है?

Ans 1. 54

2. 36

3. 45

4. 63

Question Type : MCQ

Question ID : 630680633857

Option 1 ID : 6306802481323

Option 2 ID : 6306802481321

Option 3 ID : 6306802481320

Option 4 ID : 6306802481322

Status : Answered

Chosen Option : 1

Q.11

7392 cm² संपूर्ण पृष्ठीय क्षेत्रफल वाले एक अर्धगोलाकार पात्र को तेल से भरा जाता है। हालांकि, पात्र का 1/4 भाग खाली है। इस तेल को 6.3 cm त्रिज्या वाली छोटी अर्धगोलाकार बोतलों में स्थानांतरित करना है। कितनी बोतलों की आवश्यकता होगी (निकटतम पूर्णांक तक पूर्णांकित)? (मान लीजिए, $\pi = \frac{22}{7}$)

- Ans
- 1. 351
 - 2. 75
 - 3. 66
 - 4. 156

Question Type : MCQ

Question ID : 630680382133

Option 1 ID : 6306801489450

Option 2 ID : 6306801489448

Option 3 ID : 6306801489447

Option 4 ID : 6306801489449

Status : Answered

Chosen Option : 4

Q.12 65 लड़कों की एक कक्षा की औसत आयु 14 वर्ष है। उनमें से 20 लड़कों की औसत आयु 14 वर्ष है, और अन्य 15 लड़कों की औसत आयु 12 वर्ष है। शेष लड़कों की औसत आयु (वर्ष में) ज्ञात करें।

- Ans
- 1. 16
 - 2. 14
 - 3. 17
 - 4. 15

Question Type : MCQ

Question ID : 630680404137

Option 1 ID : 6306801576036

Option 2 ID : 6306801576034

Option 3 ID : 6306801576037

Option 4 ID : 6306801576035

Status : Answered

Chosen Option : 4

Q.13 ₹38 प्रति किलोग्राम के गेहूं को ₹26 प्रति किलोग्राम के गेहूं के साथ किस अनुपात में मिलाया जाए ताकि मिश्रण को ₹39 प्रति किलोग्राम पर बेचने पर 30% का लाभ हो?

- Ans
- 1. 2 : 3
 - 2. 1 : 3
 - 3. 3 : 4
 - 4. 1 : 2

Question Type : MCQ

Question ID : 630680447368

Option 1 ID : 6306801746726

Option 2 ID : 6306801746728

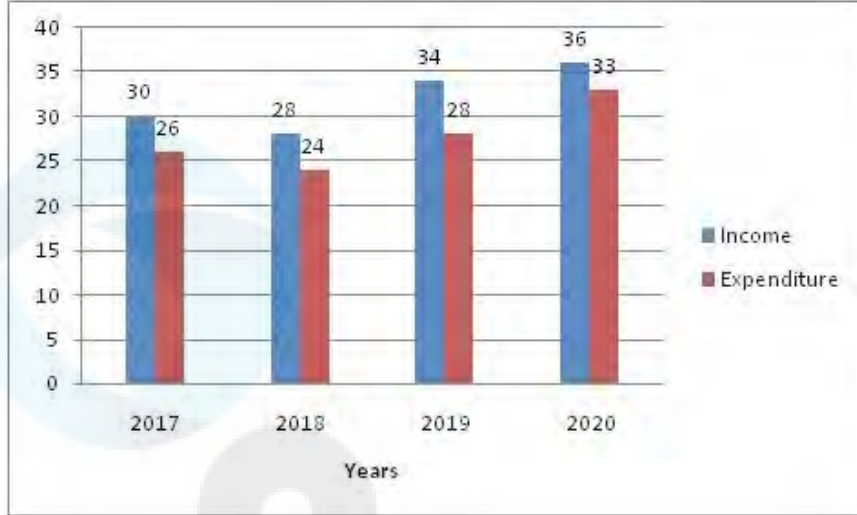
Option 3 ID : 6306801746727

Option 4 ID : 6306801746725

Status : Answered

Chosen Option : 3

Q.14 दिया गया बार ग्राफ चार अलग-अलग वर्षों में एक परिवार की आय और व्यय (हजार ₹ में) को दर्शाता है।



संदर्भ: Income - आय, Expenditure - व्यय, Years - वर्ष
शुरुआती दो वर्षों (2017 और 2018) में परिवार की कुल बचत की तुलना में अंतिम दो वर्षों (2019 और 2020) में परिवार की कुल बचत कितने प्रतिशत, अधिक या कम है?
(बचत = आय - व्यय)

- Ans
- 1. 13.5% कम
 - 2. 11.5% कम
 - 3. 10.5% अधिक
 - 4. 12.5% अधिक

Question Type : MCQ

Question ID : 6306801108826

Option 1 ID : 6306804355893

Option 2 ID : 6306804355891

Option 3 ID : 6306804355890

Option 4 ID : 6306804355892

Status : Answered

Chosen Option : 4

Q.15 एक व्यापारी अपना माल 25% लाभ पर बेचता है। यदि वह इसे 10% अधिक पर खरीदता और इसे ₹75 अधिक पर बेचता, तो उसे 25% का लाभ होता। माल का क्रय मूल्य क्या है?

- Ans
- 1. ₹1,000
 - 2. ₹400
 - 3. ₹800
 - 4. ₹600

Question Type : MCQ

Question ID : 630680101478

Option 1 ID : 630680394435

Option 2 ID : 630680394432

Option 3 ID : 630680394434

Option 4 ID : 630680394433

Status : Answered

Chosen Option : 3

Q.16 एक दुकानदार 25% छूट देता है और 20% लाभ प्राप्त करता है। अंकित मूल्य, क्रय मूल्य से कितने प्रतिशत अधिक है?

Ans 1. 60%

2. 50%

3. 80%

4. 20%

Question Type : MCQ

Question ID : 630680474111

Option 1 ID : 6306801852139

Option 2 ID : 6306801852140

Option 3 ID : 6306801852141

Option 4 ID : 6306801852138

Status : Answered

Chosen Option : 1

Q.17 ₹550 पर 8 माह के लिए 3 पैसे प्रति रुपए प्रति माह की दर से साधारण ब्याज ज्ञात कीजिए?

Ans 1. ₹134

2. ₹131

3. ₹130

4. ₹132

Question Type : MCQ

Question ID : 630680397306

Option 1 ID : 6306801549282

Option 2 ID : 6306801549283

Option 3 ID : 6306801549281

Option 4 ID : 6306801549280

Status : Answered

Chosen Option : 4

Q.18 एक आदमी ने 3 बोरी सीमेंट प्रत्येक ₹2,200 की दर से, 4 बोरी सीमेंट प्रत्येक ₹2,550 की दर से और 5 बोरी सीमेंट प्रत्येक ₹3,120 की दर से खरीदा। एक बोरी सीमेंट की औसत कीमत कितनी है?

Ans 1. ₹2,700

2. ₹2,800

3. ₹2,623

4. ₹2,805

Question Type : MCQ

Question ID : 630680455611

Option 1 ID : 6306801779359

Option 2 ID : 6306801779361

Option 3 ID : 6306801779360

Option 4 ID : 6306801779358

Status : Answered

Chosen Option : 1

Q.19 3 वर्षों के लिए 6% वार्षिक की ब्याज दर पर उधार ली गई राशि ₹2000 पर साधारण ब्याज (₹ में) ज्ञात कीजिए।

- Ans
- 1. 300
 - 2. 320
 - 3. 400
 - 4. 360

Question Type : MCQ

Question ID : 630680591869

Option 1 ID : 6306802315945

Option 2 ID : 6306802315946

Option 3 ID : 6306802315944

Option 4 ID : 6306802315943

Status : Answered

Chosen Option : 4

Q.20 एक बड़े अर्धगोलाकार लोहे के कटोरे के शीर्ष की बाह्य परिधि 565.2 cm है और कटोरा 6 cm मोटा है। इस कटोरे को बनाने के लिए आवश्यक लोहे का आयतन (cm^3 में) ज्ञात करें। ($\pi = 3.14$ का उपयोग करें।)

- Ans
- 1. 2,85,232.96
 - 2. 2,85,132.96
 - 3. 2,85,212.96
 - 4. 2,85,312.96

Question Type : MCQ

Question ID : 630680381309

Option 1 ID : 6306801486188

Option 2 ID : 6306801486187

Option 3 ID : 6306801486189

Option 4 ID : 6306801486190

Status : Answered

Chosen Option : 2

Section : Reasoning Ability and Problem Solving

Q.1 छः खिलाड़ी जडेजा, अश्विन, कार्तिक, मुरली, सरफराज और विराट एक वृत्ताकार मेज के चारों ओर केंद्र की ओर मुख करके बैठे हैं (परंतु जरूरी नहीं कि वे इसी क्रम में बैठे हों)। विराट, जडेजा के ठीक दाईं ओर बैठा है। विराट और मुरली के बीच में केवल सरफराज बैठा है। जडेजा, अश्विन का निकटतम पड़ोसी है। सरफराज और कार्तिक दोनों का निकटतम पड़ोसी कौन है?

- Ans
- 1. अश्विन
 - 2. जडेजा
 - 3. विराट
 - 4. मुरली

Question Type : MCQ

Question ID : 630680387319

Option 1 ID : 6306801509962

Option 2 ID : 6306801509965

Option 3 ID : 6306801509964

Option 4 ID : 6306801509963

Status : Answered

Chosen Option : 4

Q.2 यदि '+' और '-' को आपस में बदल दिया जाए तथा 'x' और '÷' को आपस में बदल दिया जाए, तो निम्नलिखित समीकरण के प्रश्न चिह्न (?) के स्थान पर क्या आएगा?

$$22 \times 11 + 13 - 12 \div 2 = ?$$

- Ans
- 1. 35
 - 2. 17
 - 3. 22
 - 4. 13

Question Type : MCQ

Question ID : 630680194964

Option 1 ID : 630680756347

Option 2 ID : 630680756348

Option 3 ID : 630680756346

Option 4 ID : 630680756345

Status : Answered

Chosen Option : 4

Q.3 दिए गए कथनों और निष्कर्षों को ध्यानपूर्वक पढ़िए। यह मानते हुए कि कथनों में दी गई जानकारी सत्य है, भले ही यह सामान्यतः ज्ञात तथ्यों से भिन्न प्रतीत होती हो, तय कीजिए कि दिए गए निष्कर्षों में से कौन-सा/से निष्कर्ष कथनों का तार्किक रूप से अनुसरण करता/करते है/हैं।

कथन:

कुछ पोसम, बाइसन हैं।

कोई पोसम, भेड़िया नहीं है।

निष्कर्ष:

[1] सभी भेड़िए, बाइसन हो सकते हैं।

[2] सभी बाइसन, भेड़िए हैं।

- Ans
- 1. केवल निष्कर्ष [1] अनुसरण करता है
 - 2. केवल निष्कर्ष [2] अनुसरण करता है
 - 3. निष्कर्ष [1] और [2] दोनों अनुसरण करते हैं
 - 4. न तो निष्कर्ष [1] और न ही [2] अनुसरण करता है

Question Type : MCQ

Question ID : 630680398018

Option 1 ID : 6306801552086

Option 2 ID : 6306801552087

Option 3 ID : 6306801552089

Option 4 ID : 6306801552088

Status : Answered

Chosen Option : 4

Q.4 यदि निम्नलिखित समीकरण में '+' और '-' को आपस में बदल दिया जाए तथा 'x' और '÷' को आपस में बदल दिया जाए, तो समीकरण में प्रश्न चिह्न '?' के स्थान पर क्या आएगा?

$$13 + 4 \times 2 \div 5 - 2 = ?$$

- Ans
- 1. 7
 - 2. 2
 - 3. 3
 - 4. 5

Question Type : MCQ

Question ID : 630680398025

Option 1 ID : 6306801552117

Option 2 ID : 6306801552114

Option 3 ID : 6306801552115

Option 4 ID : 6306801552116

Status : Answered

Chosen Option : 4

Q.5 दिए गए कथनों और निष्कर्षों को ध्यानपूर्वक पढ़िए। यह मानते हुए कि कथनों में दी गई जानकारी सत्य है, चाहे वह सामान्यतः ज्ञात तथ्यों से भिन्न प्रतीत होती हो और निर्णय लीजिए कि दिए गए निष्कर्षों में से कौन-सा/कौन-से निष्कर्ष कथनों का तार्किक रूप से अनुसरण करता है/करते हैं।

कथन:

सभी मुर्गियाँ, चूज़े हैं।
सभी चूज़े, अंडे हैं।

निष्कर्ष:

(I) सभी मुर्गियाँ, अंडे हैं।
(II) सभी अंडे, चूज़े हैं।

- Ans
- 1. निष्कर्ष I और II दोनों अनुसरण करते हैं।
 - 2. न तो निष्कर्ष I और न ही II अनुसरण करता है।
 - 3. केवल निष्कर्ष I अनुसरण करता है।
 - 4. केवल निष्कर्ष II अनुसरण करता है।

Question Type : MCQ

Question ID : 630680415784

Option 1 ID : 6306801621881

Option 2 ID : 6306801621882

Option 3 ID : 6306801621879

Option 4 ID : 6306801621880

Status : Answered

Chosen Option : 3

Q.6 MAZE, अंग्रेजी वर्णानुक्रम के आधार पर एक निश्चित प्रकार से QEDI से संबंधित है। ठीक उसी प्रकार YMLQ, CQPU से संबंधित है। उसी तर्क का अनुसरण करते हुए OCBG निम्नलिखित में से किससे संबंधित है?

- Ans 1. SGKF
 2. SGFK
 3. SFGK
 4. GKSF

Question Type : MCQ

Question ID : 630680443970

Option 1 ID : 6306801733189

Option 2 ID : 6306801733187

Option 3 ID : 6306801733188

Option 4 ID : 6306801733190

Status : Answered

Chosen Option : 2

Q.7 एक निश्चित तर्क का अनुसरण करते हुए 181, 417 से संबंधित है। उसी तर्क का अनुसरण करते हुए 149, 385 से संबंधित है। समान तर्क का अनुसरण करते हुए, 262 निम्नलिखित में से किससे संबंधित है?

(ध्यान दें: संख्याओं को उनके घटक अंकों में अलग-अलग किए बिना पूर्ण संख्याओं पर संक्रियाएं की जानी चाहिए। उदाहरण के लिए संख्या 13 - संख्या 13 पर संक्रियाएं जैसे 13 को जोड़ना/घटाना/गुणा करना आदि किया जा सकता है। 13 को 1 और 3 में अलग-अलग करने की और फिर 1 और 3 पर गणितीय संक्रियाएं करने की अनुमति नहीं है।)

- Ans 1. 465
 2. 498
 3. 474
 4. 437

Question Type : MCQ

Question ID : 630680445918

Option 1 ID : 6306801741012

Option 2 ID : 6306801741013

Option 3 ID : 6306801741015

Option 4 ID : 6306801741014

Status : Answered

Chosen Option : 2

Q.8 अंग्रेजी वर्णानुक्रम के आधार पर EKQW किसी निश्चित प्रकार से JPVA से संबंधित है। ठीक उसी प्रकार, BHNT, GMSX से संबंधित है। उसी तर्क का अनुसरण करते हुए, PVBH निम्नलिखित में से किससे संबंधित है?

- Ans 1. UAGL
 2. UABL
 3. UBGL
 4. UCGL

Question Type : MCQ

Question ID : 6306801108785

Option 1 ID : 6306804355686

Option 2 ID : 6306804355687

Option 3 ID : 6306804355688

Option 4 ID : 6306804355689

Status : Answered

Chosen Option : 1

Q.9 एक निश्चित कूट भाषा में, 'BEAM' को '5791' के रूप में कूटबद्ध किया जाता है और 'MINT' को '2467' के रूप में कूटबद्ध किया जाता है। दी गई कूट भाषा में 'M' के लिए कूट क्या है?

Ans 1. 1

2. 7

3. 6

4. 2

Question Type : MCQ

Question ID : 630680387997

Option 1 ID : 6306801512602

Option 2 ID : 6306801512604

Option 3 ID : 6306801512605

Option 4 ID : 6306801512603

Status : Answered

Chosen Option : 2

Q.10 उस समुच्चय का चयन कीजिए जिसमें संख्याएँ आपस में उसी प्रकार संबंधित हैं जिस प्रकार निम्नलिखित समुच्चयों की संख्याएँ आपस में संबंधित हैं।

(ध्यान दें: संख्याओं को उनके घटक अंकों में अलग-अलग किए बिना पूर्ण संख्याओं पर संक्रियाएं की जानी चाहिए। उदाहरण के लिए संख्या 13 - संख्या 13 पर संक्रियाएं जैसे 13 को जोड़ना/घटाना/गुणा करना आदि किया जा सकता है। 13 को 1 और 3 में अलग-अलग करने की और फिर 1 और 3 पर गणितीय संक्रियाएं करने की अनुमति नहीं है।)

(25, 8, 400)
(12, 14, 336)

Ans 1. (19, 8, 152)

2. (17, 11, 189)

3. (16, 21, 672)

4. (22, 9, 198)

Question Type : MCQ

Question ID : 630680378067

Option 1 ID : 6306801473327

Option 2 ID : 6306801473328

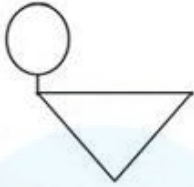
Option 3 ID : 6306801473329

Option 4 ID : 6306801473330

Status : Answered

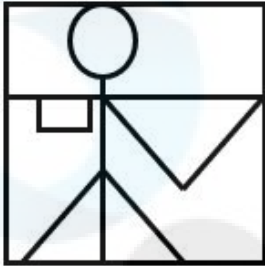
Chosen Option : 3

Q.11 उस विकल्प का चयन कीजिए जिसमें दी गई आकृति सन्निहित है (घूर्णन की अनुमति नहीं है)।

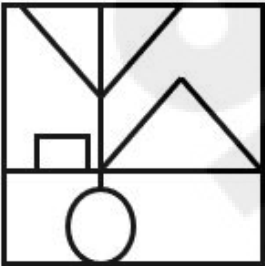


Ans

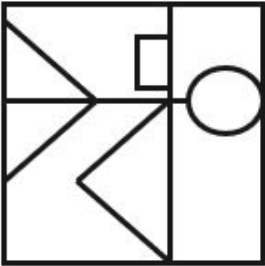
✓ 1.



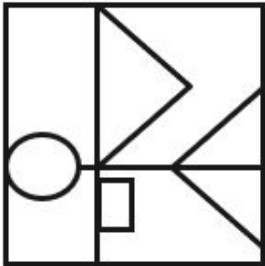
✗ 2.



✗ 3.



✗ 4.



Question Type : MCQ

Question ID : 630680524444

Option 1 ID : 6306802049878

Option 2 ID : 6306802049875

Option 3 ID : 6306802049877

Option 4 ID : 6306802049876

Status : Answered

Chosen Option : 1

Q.12 एक निश्चित कूट भाषा में, 'barks a lot' को 'qw er ui' के रूप में लिखा जाता है और 'the dog barks' को 'op ji er' के रूप में लिखा जाता है। उस भाषा में 'barks' को कैसे लिखा जाएगा?

- Ans
- 1. ji
 - 2. ui
 - 3. er
 - 4. qw

Question Type : MCQ

Question ID : 630680419475

Option 1 ID : 6306801636559

Option 2 ID : 6306801636556

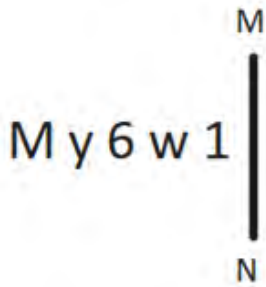
Option 3 ID : 6306801636557

Option 4 ID : 6306801636558

Status : Answered

Chosen Option : 3

Q.13 दी गई आकृति के उस सही दर्पण प्रतिबिंब को चुनिए, जो नीचे दर्शाए गए अनुसार दर्पण को MN पर रखने पर बनेगा।



- Ans
- 1. w 1 ɔ y M
 - 2. 1 m ɔ y M
 - 3. 1 w ɔ y M
 - 4. 1 w 9 λ W

Question Type : MCQ

Question ID : 630680525248

Option 1 ID : 6306802053079

Option 2 ID : 6306802053076

Option 3 ID : 6306802053077

Option 4 ID : 6306802053078

Status : Answered

Chosen Option : 3

Q.14 दी गई श्रृंखला में प्रश्नवाचक चिन्ह (?) के स्थान पर क्या आएगा?

89 92 98 107 119 ?

Ans 1. 114

2. 134

3. 124

4. 144

Question Type : **MCQ**

Question ID : **630680816795**

Option 1 ID : **6306803208760**

Option 2 ID : **6306803208762**

Option 3 ID : **6306803208761**

Option 4 ID : **6306803208763**

Status : **Answered**

Chosen Option : **2**

Q.15 अंग्रेजी वर्णमाला क्रम के आधार पर दी गई श्रृंखला में प्रश्न-चिह्न (?) के स्थान पर क्या आएगा?

SDW, OHS, KLO, GPK, ?

Ans 1. BTG

2. BSG

3. CSG

4. CTG

Question Type : **MCQ**

Question ID : **630680459282**

Option 1 ID : **6306801793984**

Option 2 ID : **6306801793982**

Option 3 ID : **6306801793981**

Option 4 ID : **6306801793983**

Status : **Answered**

Chosen Option : **1**

Q.16 दिए गए विकल्पों में से उस आकृति को चुनिए जो निम्नलिखित श्रृंखला में प्रश्न चिह्न (?) के स्थान पर आ सकती है और पैटर्न को पूरा कर सकती है।

B	Z	8	↑	A	Q	Q	↑	A	R	8	B	
↑	R	Q	B	Z	8	R	△	B	Q	↑	A	?
S		A	R		S	S		8	△		S	

Ans

✗ 1.

8	B	R
A	Q	↑
S		△

✗ 2.

B	R	8
△	U	S
Q		A

✓ 3.

B	R	8
△	U	Q
S		A

✗ 4.

B	R	8
A	U	S
Q		△

Question Type : MCQ

Question ID : 630680441069

Option 1 ID : 6306801721931

Option 2 ID : 6306801721933

Option 3 ID : 6306801721932

Option 4 ID : 6306801721930

Status : Answered

Chosen Option : 3

Q.17 सात मित्र, मोनू, अभय, विक्की, चिट्ठी, देवा, हमज़ा और संजय, हमज़ा की जन्मदिन की पार्टी मना रहे हैं और एक वृत्ताकार व्यवस्था में केंद्र की ओर मुख करके बैठे हैं। (परंतु जरूरी नहीं कि वे इसी क्रम में बैठे हों)।

अभय और देवा का निकटतम पड़ोसी मोनू है।
अभय, हमज़ा के बाएं से दूसरे स्थान पर बैठा है।
संजय, हमज़ा के निकटतम पड़ोसियों में से एक है।
देवा और विक्की दोनों का निकटतम पड़ोसी चिट्ठी है।
मोनू के बाएं से तीसरे स्थान पर कौन बैठा है?

- Ans 1. विक्की
 2. संजय
 3. देवा
 4. हमज़ा

Question Type : MCQ

Question ID : 630680381534

Option 1 ID : 6306801487067

Option 2 ID : 6306801487069

Option 3 ID : 6306801487070

Option 4 ID : 6306801487068

Status : Answered

Chosen Option : 1

Q.18 एक कूट भाषा में, 'RAMESH' को 'UAPEVK' के रूप में लिखा जाता है और 'TOM' को 'WOP' के रूप में लिखा जाता है। उसी भाषा में 'MEGHANA' को किस प्रकार लिखा जाएगा?

- Ans 1. PEJKAQA
 2. QDJKAQA
 3. PDJKAQA
 4. QEJKAQA

Question Type : MCQ

Question ID : 630680465221

Option 1 ID : 6306801816919

Option 2 ID : 6306801816922

Option 3 ID : 6306801816921

Option 4 ID : 6306801816920

Status : Answered

Chosen Option : 1

Q.19 किसी कूट भाषा में, 'ARVL' को 'FOAI' के रूप में कूटबद्ध किया जाता है और 'DOXY' को 'ILCV' के रूप में कूटबद्ध किया जाता है। उसी भाषा में 'MPSB' को किस प्रकार कूटबद्ध किया जाएगा?

- Ans 1. RNXZ
 2. RMXY
 3. QNWZ
 4. QMWY

Question Type : MCQ

Question ID : 630680465313

Option 1 ID : 6306801817287

Option 2 ID : 6306801817289

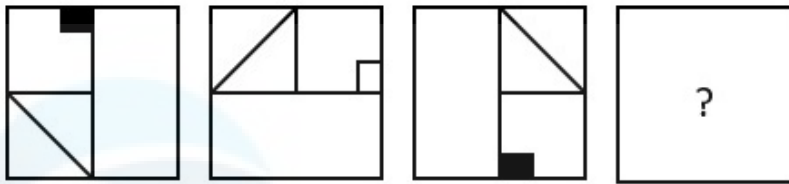
Option 3 ID : 6306801817290

Option 4 ID : 6306801817288

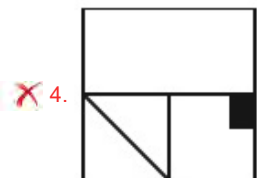
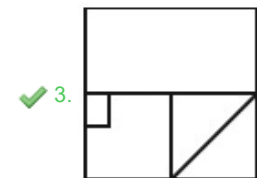
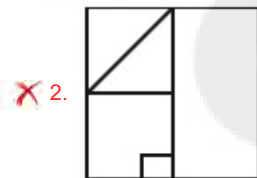
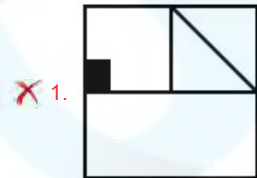
Status : Answered

Chosen Option : 2

Q.20 विकल्पों में से उस आकृति का चयन कीजिए जो प्रश्न-चिह्न (?) के स्थान पर आकर श्रृंखला को तार्किक रूप से पूर्ण कर सकता है।



Ans



Question Type : MCQ

Question ID : 630680279343

Option 1 ID : 6306801085641

Option 2 ID : 6306801085639

Option 3 ID : 6306801085642

Option 4 ID : 6306801085640

Status : Answered

Chosen Option : 3

Section : General Awareness

Q.1 निम्नलिखित समाज सुधारकों में से किसने ब्रह्म प्रसंविदा (Brahmo Covenant) लिखी, जो ब्रह्म समाज के पंथ का एक वृतांत (statement) था?

- Ans
- 1. ईश्वर चंद्र विद्यासागर
 - 2. राजा राम मोहन राय
 - 3. केशव चंद्र सेन
 - 4. देबेन्द्रनाथ टैगोर

Question Type : MCQ

Question ID : 630680275822

Option 1 ID : 6306801071800

Option 2 ID : 6306801071799

Option 3 ID : 6306801071802

Option 4 ID : 6306801071801

Status : Answered

Chosen Option : 3

Q.2 सामा चकेवा (Sama Chakeva) एक लोक नृत्य है, जो भाई-बहन सामा और चकेवा की पौराणिक कहानी पर आधारित है, जिसमें भाई अपनी बहन को बचाने के लिए किसी भी हद तक चला जाता है। इस लोक नृत्य का संबंध भारत के निम्नलिखित में से किस राज्य से है?

- Ans
- 1. पंजाब
 - 2. बिहार
 - 3. हरियाणा
 - 4. असम

Question Type : MCQ

Question ID : 630680545693

Option 1 ID : 6306802133363

Option 2 ID : 6306802133361

Option 3 ID : 6306802133362

Option 4 ID : 6306802133360

Status : Answered

Chosen Option : 4

Q.3 राजस्थान की कालबेलिया जनजाति की प्रसिद्ध लोक नृत्यांगना गुलाबो सपेरा को वर्ष _____ में पद्म श्री प्राप्त हुआ।

- Ans
- 1. 2016
 - 2. 2021
 - 3. 2023
 - 4. 2017

Question Type : MCQ

Question ID : 630680512025

Option 1 ID : 6306802001071

Option 2 ID : 6306802001073

Option 3 ID : 6306802001072

Option 4 ID : 6306802001070

Status : Answered

Chosen Option : 3

Q.4 वैश्विक बहुआयामी गरीबी सूचकांक 2022 के अनुसार, 2020 में भारत में गरीब व्यक्तियों की जनसंख्या कितनी है?

- Ans 1. 228.9 मिलियन
 2. 328.9 मिलियन
 3. 128.9 मिलियन
 4. 428.9 मिलियन

Question Type : MCQ

Question ID : 630680327643

Option 1 ID : 6306801274572

Option 2 ID : 6306801274569

Option 3 ID : 6306801274570

Option 4 ID : 6306801274571

Status : Not Answered

Chosen Option : --

Q.5 2023 में एकल पैरा एशियाई खेल स्पर्धा (single Para Asian Games event) में दो स्वर्ण पदक जीतने वाली पहली महिला कौन बनीं?

- Ans 1. सरिता देवी
 2. शीतल देवी
 3. दिशा धयाल
 4. नीमा रानी

Question Type : MCQ

Question ID : 630680560691

Option 1 ID : 6306802191745

Option 2 ID : 6306802191744

Option 3 ID : 6306802191746

Option 4 ID : 6306802191747

Status : Not Answered

Chosen Option : --

Q.6 नीति आयोग द्वारा जारी किया गया निम्नलिखित में से कौन-सा श्वेत पत्र (white papers) भारत में सार्वजनिक स्वास्थ्य निगरानी (Public Health Surveillance) से संबंधित है?

- Ans 1. विज्ञान 2035
 2. आरोग्य मिशन
 3. मिशन कर्मयोगी
 4. ध्रुव मिशन

Question Type : MCQ

Question ID : 630680481204

Option 1 ID : 6306801879385

Option 2 ID : 6306801879386

Option 3 ID : 6306801879384

Option 4 ID : 6306801879387

Status : Answered

Chosen Option : 2

Q.7 वासिफुद्दीन डागर (Wasifuddin Dagar) निम्नलिखित में से किस शास्त्रीय संगीत शैली से जुड़े थे?

Ans 1. ध्रुपद

2. गज़ल

3. तराना

4. ख्याल

Question Type : MCQ

Question ID : 630680488697

Option 1 ID : 6306801908805

Option 2 ID : 6306801908806

Option 3 ID : 6306801908803

Option 4 ID : 6306801908804

Status : Not Answered

Chosen Option : --

Q.8 निम्नलिखित में से किस राज्य में प्रसिद्ध अंतर्राष्ट्रीय रेत कला महोत्सव (International Sand Art Festival) आयोजित किया जाता है, जहाँ कलाकार रेत पर विविध विचारों और उनकी व्याख्या से मंत्रमुग्ध हो जाते हैं?

Ans 1. ओडिशा

2. बिहार

3. असम

4. पश्चिम बंगाल

Question Type : MCQ

Question ID : 630680403388

Option 1 ID : 6306801573062

Option 2 ID : 6306801573063

Option 3 ID : 6306801573065

Option 4 ID : 6306801573064

Status : Answered

Chosen Option : 1

Q.9 भारत के निम्नलिखित में से किस गवर्नर जनरल ने भारतीय बुनकरों की दुर्दशा के बारे में "कपास बुनकरों की हड्डियाँ भारत के मैदानों में बिखरी पड़ी हैं (The bones of the cotton weavers are scattered on the plains of India)" लिखा?

Ans 1. सर जॉन शोर (Sir John Shore)

2. लॉर्ड एमहर्स्ट (Lord Amherst)

3. लॉर्ड मिंगो (Lord Minto)

4. लॉर्ड विलियम बेंटिंक (Lord William Bentinck)

Question Type : MCQ

Question ID : 630680146014

Option 1 ID : 630680564956

Option 2 ID : 630680564954

Option 3 ID : 630680564955

Option 4 ID : 630680564957

Status : Not Answered

Chosen Option : --

Q.10 किस क्षेत्र में भूजल (groundwater) का सर्वाधिक उपयोग किया जाता है?

- Ans 1. कृषि
 2. शिक्षा
 3. घरेलू
 4. औद्योगिक

Question Type : MCQ

Question ID : 630680404022

Option 1 ID : 6306801575576

Option 2 ID : 6306801575577

Option 3 ID : 6306801575574

Option 4 ID : 6306801575575

Status : Answered

Chosen Option : 1

Q.11 महापाषाण स्थल (Megalithic site) _____ घोड़ नदी, जो भीमा (Bhima) नदी की एक सहायक नदी है, पर स्थित एक स्थल है।

- Ans 1. इनामगाँव (Inamgaon)
 2. हिरे बेनकाल (Hire benakal)
 3. हल्लूर (Hallur)
 4. पोट्टु (Pottru)

Question Type : MCQ

Question ID : 630680213898

Option 1 ID : 630680829640

Option 2 ID : 630680829641

Option 3 ID : 630680829639

Option 4 ID : 630680829642

Status : Not Answered

Chosen Option : --

Q.12 चाँदी के आभूषणों पर बनने वाली काली परत क्या है?

- Ans 1. Ag₂S
 2. AgCl
 3. AgNO₃
 4. Ag₂CO₃

Question Type : MCQ

Question ID : 630680421830

Option 1 ID : 6306801645764

Option 2 ID : 6306801645765

Option 3 ID : 6306801645763

Option 4 ID : 6306801645766

Status : Answered

Chosen Option : 3

Q.13 निम्नलिखित में से कौन-सा चाँदी का सिक्का सुल्तान शमसुद्दीन इल्तुतमिश (Sultan Shamsuddin Iltutmish) ने चलवाया था?

- Ans
- 1. अदाली (Adali)
 - 2. जीतल (Jittal)
 - 3. टका (Tanka)
 - 4. दीनार (Dinar)

Question Type : MCQ

Question ID : 630680282920

Option 1 ID : 6306801099814

Option 2 ID : 6306801099811

Option 3 ID : 6306801099812

Option 4 ID : 6306801099813

Status : Answered

Chosen Option : 4

Q.14 13 फरवरी 2023 तक की स्थिति के अनुसार, सर्वोच्च न्यायालय में न्यायाधीशों की संख्या बढ़कर कितनी हो गई है?

- Ans
- 1. 28
 - 2. 26
 - 3. 30
 - 4. 34

Question Type : MCQ

Question ID : 630680339464

Option 1 ID : 6306801320426

Option 2 ID : 6306801320425

Option 3 ID : 6306801320427

Option 4 ID : 6306801320428

Status : Answered

Chosen Option : 4

Q.15 Who amongst the following said that the government fiscal policy should be used to stabilise the level of output and employment?

- Ans
- 1. Alfred Marshall
 - 2. Adam Smith
 - 3. JM Keynes
 - 4. Lionel Charles Robbins

Question Type : MCQ

Question ID : 63068082808

Option 1 ID : 630680321097

Option 2 ID : 630680321096

Option 3 ID : 630680321098

Option 4 ID : 630680321099

Status : Answered

Chosen Option : 3

Q.16 निम्नलिखित में से कौन-सा विकल्प किसी पारिस्थितिकी तंत्र में विघटक (decomposer) का एक उदाहरण है?

- Ans
- 1. उत्पादक (Producer)
 - 2. कवक (Fungus)
 - 3. मांसाहारी (Carnivore)
 - 4. शाकाहारी (Herbivore)

Question Type : MCQ
Question ID : 630680412060
Option 1 ID : 6306801607078
Option 2 ID : 6306801607075
Option 3 ID : 6306801607077
Option 4 ID : 6306801607076
Status : Answered
Chosen Option : 2

Q.17 निम्नलिखित में से किस फसल को उगाने में लगभग एक वर्ष का समय लगता है?

- Ans
- 1. गन्ना (Sugarcane)
 - 2. सोयाबीन (Soyabean)
 - 3. मूंगफली (Groundnut)
 - 4. रागी (Ragi)

Question Type : MCQ
Question ID : 630680484440
Option 1 ID : 6306801892083
Option 2 ID : 6306801892085
Option 3 ID : 6306801892084
Option 4 ID : 6306801892082
Status : Answered
Chosen Option : 4

Q.18 'विधि का शासन' भारतीय संविधान की एक प्रमुख विशेषता है, जिस सिद्धांत का श्रेय _____ को दिया जाता है।

- Ans
- 1. काल मार्क्स (Karl Marx)
 - 2. प्लेटो (Plato)
 - 3. एडम स्मिथ (Adam Smith)
 - 4. अल्बर्ट वेन डाइसी (Albert Venn Dicey)

Question Type : MCQ
Question ID : 630680406107
Option 1 ID : 6306801583536
Option 2 ID : 6306801583539
Option 3 ID : 6306801583537
Option 4 ID : 6306801583538
Status : Answered
Chosen Option : 1

Q.19 भारत और पाकिस्तान के बीच लाहौर घोषणा पत्र (Lahore declaration) पर हस्ताक्षर कब किए गए थे?

- Ans
- 1. दिसंबर 1991
 - 2. फरवरी 1999
 - 3. जुलाई 1948
 - 4. अगस्त 1998

Question Type : **MCQ**
Question ID : **630680488882**
Option 1 ID : **6306801909515**
Option 2 ID : **6306801909513**
Option 3 ID : **6306801909516**
Option 4 ID : **6306801909514**
Status : **Answered**
Chosen Option : **4**

Q.20 2024 में किस राज्य को खेल को बढ़ावा देने के लिए स्पोर्ट्सटार एसेस सर्वश्रेष्ठ राज्य (Sportstar ACES Best State) का पुरस्कार मिला?

- Ans
- 1. ओडिशा
 - 2. पंजाब
 - 3. तमिलनाडु
 - 4. हरियाणा

Question Type : **MCQ**
Question ID : **630680694302**
Option 1 ID : **6306802719489**
Option 2 ID : **6306802719491**
Option 3 ID : **6306802719488**
Option 4 ID : **6306802719490**
Status : **Not Answered**
Chosen Option : **--**

Q.21 निम्नलिखित में से कौन-सी एल.के. आडवाणी की आत्मकथा है?

- Ans
- 1. विंग्स ऑफ फायर (Wings of Fire)
 - 2. एग्जाम वारियर्स (Exam Warriors)
 - 3. डेयर टु ड्रीम (Dare to Dream)
 - 4. माय कंट्री माय लाइफ (My Country My Life)

Question Type : **MCQ**
Question ID : **630680798916**
Option 1 ID : **6306803130470**
Option 2 ID : **6306803130472**
Option 3 ID : **6306803130473**
Option 4 ID : **6306803130471**
Status : **Answered**
Chosen Option : **4**

Q.22 मंदिर का वह भाग जिसमें मंदिर के मुख्य देवी/देवता विराजित होते हैं, उसे _____ कहा जाता है।

Ans 1. गर्भ गृह

2. मंडप

3. शिकारा

4. स्तूप

Question Type : MCQ

Question ID : 630680538204

Option 1 ID : 6306802104004

Option 2 ID : 6306802104006

Option 3 ID : 6306802104007

Option 4 ID : 6306802104005

Status : Answered

Chosen Option : 1

Q.23 दूधसागर झरना (Dudhsagar waterfall), _____ राज्य का एक प्रमुख पर्यटन स्थल है।

Ans 1. मेघालय

2. नागालैंड

3. छत्तीसगढ़

4. गोवा

Question Type : MCQ

Question ID : 630680510899

Option 1 ID : 6306801996726

Option 2 ID : 6306801996729

Option 3 ID : 6306801996728

Option 4 ID : 6306801996727

Status : Answered

Chosen Option : 1

Q.24 आवर्त सारणी में, जब आप किसी आवर्त (क्षैतिज पंक्ति) में बाएँ से दाएँ जाते हैं तो परमाणु त्रिज्या क्या प्रवृत्ति दर्शाती है?

Ans 1. परमाणु त्रिज्या स्थिर रहती है

2. परमाणु त्रिज्या अनियमित व्यवहार प्रदर्शित करती है

3. परमाणु त्रिज्या घटती है

4. परमाणु त्रिज्या बढ़ती है

Question Type : MCQ

Question ID : 630680411433

Option 1 ID : 6306801604570

Option 2 ID : 6306801604571

Option 3 ID : 6306801604569

Option 4 ID : 6306801604568

Status : Answered

Chosen Option : 4

Q.25 भारत में विधायी शक्तियों को तीन सूचियों में विभाजित किया गया है, जो संघ सूची, राज्य सूची और _____ हैं।

- Ans
- 1. संघीय सूची
 - 2. क्षेत्रीय सूची
 - 3. विशेष सूची
 - 4. समवर्ती सूची

Question Type : MCQ

Question ID : 630680799043

Option 1 ID : 6306803130975

Option 2 ID : 6306803130974

Option 3 ID : 6306803130977

Option 4 ID : 6306803130976

Status : Answered

Chosen Option : 4

Section : English Language and Comprehension

Q.1 Select the most appropriate ANTONYM of the word given in brackets to fill in the blank.

After the floods, Uttarakhand was in a _____ (ravaged) condition.

- Ans
- 1. languid
 - 2. ratified
 - 3. influenced
 - 4. restored

Question Type : MCQ

Question ID : 630680411051

Option 1 ID : 6306801602958

Option 2 ID : 6306801602957

Option 3 ID : 6306801602959

Option 4 ID : 6306801602956

Status : Answered

Chosen Option : 4

Q.2 Select the most appropriate synonym of the underlined word.

The students demonstrated their excitement by volunteering for community service.

- Ans
- 1. freedom
 - 2. ignorance
 - 3. enthusiasm
 - 4. anxiety

Question Type : MCQ

Question ID : 630680517472

Option 1 ID : 6306802022287

Option 2 ID : 6306802022286

Option 3 ID : 6306802022285

Option 4 ID : 6306802022284

Status : Answered

Chosen Option : 3

Q.3 Select the most appropriate meaning of the underlined idiom.
She finally spilled the beans about the surprise party.

Ans 1. Revealed a secret or disclosed information

2. Prepared a bean dish

3. Caused a mess

4. Dropped a container of beans

Question Type : **MCQ**

Question ID : **630680421333**

Option 1 ID : **6306801643801**

Option 2 ID : **6306801643800**

Option 3 ID : **6306801643802**

Option 4 ID : **6306801643799**

Status : **Answered**

Chosen Option : 1

Q.4 Select the **INCORRECTLY** spelt word.

Ans 1. Harass

2. Aresst

3. Excess

4. Express

Question Type : **MCQ**

Question ID : **630680799084**

Option 1 ID : **6306803131136**

Option 2 ID : **6306803131134**

Option 3 ID : **6306803131135**

Option 4 ID : **6306803131137**

Status : **Answered**

Chosen Option : 2

Q.5 Select the most appropriate option that can substitute the underlined segment in the given sentence. If there is no need to substitute it, select 'No substitution required'.

If she had gone to the party, she could have met Amit.

Ans 1. No substitution required

2. has gone to the party

3. have went to the party

4. had go to the party

Question Type : **MCQ**

Question ID : **630680798898**

Option 1 ID : **6306803130401**

Option 2 ID : **6306803130398**

Option 3 ID : **6306803130400**

Option 4 ID : **6306803130399**

Status : **Answered**

Chosen Option : 1

Q.6 Select the most appropriate synonym of the underlined word.

The team worked together to execute the challenging task.

- Ans
- 1. abandon
 - 2. announce
 - 3. accomplish
 - 4. analyse

Question Type : **MCQ**

Question ID : **630680517469**

Option 1 ID : **6306802022272**

Option 2 ID : **6306802022273**

Option 3 ID : **6306802022275**

Option 4 ID : **6306802022274**

Status : **Answered**

Chosen Option : **3**

Q.7 Select the option that can be used as a one-word substitute for the given group of words.

A person who abstains from any sort of alcoholic drinks

- Ans
- 1. Samaritan
 - 2. Veteran
 - 3. Termagant
 - 4. Teetotaler

Question Type : **MCQ**

Question ID : **630680321545**

Option 1 ID : **6306801250884**

Option 2 ID : **6306801250881**

Option 3 ID : **6306801250882**

Option 4 ID : **6306801250883**

Status : **Answered**

Chosen Option : **4**

Q.8 The following sentence has been divided into parts. One of them may contain an error. Select the part that contains the error from the given options. If you don't find any error, mark 'No error' as your answer.

The students were diligently / studying for their exams / for weeks before you arrived.

- Ans
- 1. for weeks before you arrived
 - 2. studying for their exams
 - 3. No error
 - 4. The students were diligently

Question Type : **MCQ**

Question ID : **630680753975**

Option 1 ID : **6306802955128**

Option 2 ID : **6306802955127**

Option 3 ID : **6306802955129**

Option 4 ID : **6306802955126**

Status : **Answered**

Chosen Option : **1**

Q.9 Identify the ANTONYM pair.

- Ans 1. Influence and Motivate
 2. Encourage and Support
 3. Convince and Persuade
 4. Dissuade and Encourage

Question Type : MCQ
Question ID : 630680597214
Option 1 ID : 6306802336900
Option 2 ID : 6306802336899
Option 3 ID : 6306802336897
Option 4 ID : 6306802336898
Status : Answered
Chosen Option : 4

Q.10 The following sentence has been divided into parts. One of them may contain an error. Select the part that contains the error from the given options. If you don't find any error, mark 'No error' as your answer.

Alaska in the USA / is the colder / of all the states.

- Ans 1. is the colder
 2. No error
 3. of all the states.
 4. Alaska in the USA

Question Type : MCQ
Question ID : 630680630396
Option 1 ID : 6306802467640
Option 2 ID : 6306802467642
Option 3 ID : 6306802467641
Option 4 ID : 6306802467639
Status : Answered
Chosen Option : 3

Q.11 Select the most appropriate meaning of the underlined phrase.

I should look into my past and decide what the next course of action should be.

- Ans 1. Disrespect
 2. Prospect
 3. Introspect
 4. Retrospect

Question Type : MCQ
Question ID : 630680540246
Option 1 ID : 6306802112089
Option 2 ID : 6306802112091
Option 3 ID : 6306802112088
Option 4 ID : 6306802112090
Status : Answered
Chosen Option : 4

Q.12 The following sentence contains an error. Select the option that correctly rectifies the error.

His aunt who lives at America brought a lot of gifts for him and his sister.

Ans 1. in America brought a

2. His aunt which lives

3. lot of gifts by him

4. and her sister

Question Type : **MCQ**

Question ID : **63068087109**

Option 1 ID : **630680337826**

Option 2 ID : **630680337825**

Option 3 ID : **630680337827**

Option 4 ID : **630680337828**

Status : **Answered**

Chosen Option : 1

Q.13 Select the option that can be used as a one-word substitute for the given group of words.

Something that is so extraordinary or unbelievable that it's hard to believe it

Ans 1. Horrible

2. Exquisite

3. Incredible

4. Ordinary

Question Type : **MCQ**

Question ID : **630680324679**

Option 1 ID : **6306801263149**

Option 2 ID : **6306801263151**

Option 3 ID : **6306801263150**

Option 4 ID : **6306801263152**

Status : **Answered**

Chosen Option : 3

Q.14 Select the option with the correct spelling to replace the underlined word in the given sentence.

Polluted air can be dangeros, even if the pollutants are invisible.

Ans 1. dangerus

2. dangeris

3. dangeres

4. dangerous

Question Type : **MCQ**

Question ID : **630680539880**

Option 1 ID : **6306802110620**

Option 2 ID : **6306802110621**

Option 3 ID : **6306802110623**

Option 4 ID : **6306802110622**

Status : **Answered**

Chosen Option : 4

Q.15 The following sentence has been split into four segments. Identify the segment that contains a grammatical error.
The artist believes that this new collection of paintings / has being / a masterpiece that / will redefine contemporary art.

- Ans 1. has being
 2. will redefine contemporary art
 3. The artist believes that this new collection of paintings
 4. a masterpiece that

Question Type : **MCQ**
Question ID : **630680413376**
Option 1 ID : **6306801612325**
Option 2 ID : **6306801612326**
Option 3 ID : **6306801612324**
Option 4 ID : **6306801612327**
Status : **Answered**
Chosen Option : 1

Q.16 Select the correct spelling of the underlined word in the given sentence.

We do not expet Reema to follow all the rules from the first day of work.

- Ans 1. execpt
 2. expect
 3. exact
 4. expict

Question Type : **MCQ**
Question ID : **630680545121**
Option 1 ID : **6306802131231**
Option 2 ID : **6306802131232**
Option 3 ID : **6306802131234**
Option 4 ID : **6306802131233**
Status : **Answered**
Chosen Option : 2

Q.17 Select the most appropriate option that can substitute the underlined segment in the given sentence. If there is no need to substitute it, select 'No substitution'.

Commodity prices are the dearer in the present economic scenario.

- Ans 1. No substitution
 2. dearest
 3. quite dear
 4. dear

Question Type : **MCQ**
Question ID : **630680514585**
Option 1 ID : **6306802010965**
Option 2 ID : **6306802010966**
Option 3 ID : **6306802010968**
Option 4 ID : **6306802010967**
Status : **Answered**
Chosen Option : 1

Q.18 Select the most appropriate ANTONYM of the given word.
Timid

- Ans 1. Modest
 2. Oppress
 3. Bold
 4. Humble

Question Type : MCQ

Question ID : 630680726495

Option 1 ID : 6306802846987

Option 2 ID : 6306802846989

Option 3 ID : 6306802846988

Option 4 ID : 6306802846986

Status : Answered

Chosen Option : 3

Q.19 Select the most appropriate meaning of the underlined idiom.

Sushant looked blue in the face after the marathon.

- Ans 1. happy
 2. exhausted
 3. good
 4. sad

Question Type : MCQ

Question ID : 630680815283

Option 1 ID : 6306803194425

Option 2 ID : 6306803194427

Option 3 ID : 6306803194428

Option 4 ID : 6306803194426

Status : Answered

Chosen Option : 2

Q.20 In the following sentence the underlined part contains an error. Alternatives to the underlined part are given as options. Select the correct alternative.
Which flower do you like best?

- Ans 1. most good
 2. the best
 3. good
 4. better

Question Type : MCQ

Question ID : 630680514704

Option 1 ID : 6306802011444

Option 2 ID : 6306802011441

Option 3 ID : 6306802011442

Option 4 ID : 6306802011443

Status : Answered

Chosen Option : 2

Comprehension:

In the following passage, some words have been deleted. Read the passage carefully and select the most appropriate option to fill in each blank.

A brigantine is a two-masted sailing vessel (1)_____ fore-and-aft rigging on the mainmast and square rigging on the foremast. The pirates that (2)_____ the Mediterranean in the sixteenth century loved it for its speed and ease of handling. The brigantine (3)_____ into a true sailing vessel in the waters of northern Europe. Although the words began to be used interchangeably, it was (4)_____ from the fully square-rigged brig by its gaff-rigged mainsail. True brigantines, for (5)_____, were defined as having square topsails above a gaffed mainsail.

SubQuestion No : 21

Q.21 Select the most appropriate option to fill in blank number 1.

- Ans
- 1. focusing
 - 2. attending
 - 3. predicting
 - 4. featuring

Question Type : **MCQ**

Question ID : **630680533946**

Option 1 ID : **6306802087237**

Option 2 ID : **6306802087236**

Option 3 ID : **6306802087239**

Option 4 ID : **6306802087238**

Status : **Answered**

Chosen Option : **4**

Comprehension:

In the following passage, some words have been deleted. Read the passage carefully and select the most appropriate option to fill in each blank.

A brigantine is a two-masted sailing vessel (1)_____ fore-and-aft rigging on the mainmast and square rigging on the foremast. The pirates that (2)_____ the Mediterranean in the sixteenth century loved it for its speed and ease of handling. The brigantine (3)_____ into a true sailing vessel in the waters of northern Europe. Although the words began to be used interchangeably, it was (4)_____ from the fully square-rigged brig by its gaff-rigged mainsail. True brigantines, for (5)_____, were defined as having square topsails above a gaffed mainsail.

SubQuestion No : 22

Q.22 Select the most appropriate option to fill in blank number 2.

- Ans
- 1. fixed
 - 2. transpired
 - 3. integrated
 - 4. ravaged

Question Type : **MCQ**

Question ID : **630680533947**

Option 1 ID : **6306802087241**

Option 2 ID : **6306802087240**

Option 3 ID : **6306802087243**

Option 4 ID : **6306802087242**

Status : **Answered**

Chosen Option : **4**

Comprehension:

In the following passage, some words have been deleted. Read the passage carefully and select the most appropriate option to fill in each blank.

A brigantine is a two-masted sailing vessel (1)_____ fore-and-aft rigging on the mainmast and square rigging on the foremast. The pirates that (2)_____ the Mediterranean in the sixteenth century loved it for its speed and ease of handling. The brigantine (3)_____ into a true sailing vessel in the waters of northern Europe. Although the words began to be used interchangeably, it was (4)_____ from the fully square-rigged brig by its gaff-rigged mainsail. True brigantines, for (5)_____, were defined as having square topsails above a gaffed mainsail.

SubQuestion No : 23**Q.23 Select the most appropriate option to fill in blank number 3.**

- Ans 1. submitted
 2. evolved
 3. discharged
 4. garnished

Question Type : **MCQ**Question ID : **630680533948**Option 1 ID : **6306802087244**Option 2 ID : **6306802087246**Option 3 ID : **6306802087247**Option 4 ID : **6306802087245**Status : **Answered**Chosen Option : **2****Comprehension:**

In the following passage, some words have been deleted. Read the passage carefully and select the most appropriate option to fill in each blank.

A brigantine is a two-masted sailing vessel (1)_____ fore-and-aft rigging on the mainmast and square rigging on the foremast. The pirates that (2)_____ the Mediterranean in the sixteenth century loved it for its speed and ease of handling. The brigantine (3)_____ into a true sailing vessel in the waters of northern Europe. Although the words began to be used interchangeably, it was (4)_____ from the fully square-rigged brig by its gaff-rigged mainsail. True brigantines, for (5)_____, were defined as having square topsails above a gaffed mainsail.

SubQuestion No : 24**Q.24 Select the most appropriate option to fill in blank number 4.**

- Ans 1. join
 2. split
 3. mourned
 4. spill

Question Type : **MCQ**Question ID : **630680533949**Option 1 ID : **6306802087251**Option 2 ID : **6306802087250**Option 3 ID : **6306802087249**Option 4 ID : **6306802087248**Status : **Answered**Chosen Option : **3**

Comprehension:

In the following passage, some words have been deleted. Read the passage carefully and select the most appropriate option to fill in each blank.

A brigantine is a two-masted sailing vessel (1)_____ fore-and-aft rigging on the mainmast and square rigging on the foremast. The pirates that (2)_____ the Mediterranean in the sixteenth century loved it for its speed and ease of handling. The brigantine (3)_____ into a true sailing vessel in the waters of northern Europe. Although the words began to be used interchangeably, it was (4)_____ from the fully square-rigged brig by its gaff-rigged mainsail. True brigantines, for (5)_____, were defined as having square topsails above a gaffed mainsail.

SubQuestion No : 25

Q.25 Select the most appropriate option to fill in blank number 5.

- Ans
- 1. case
 - 2. location
 - 3. mention
 - 4. instance

Question Type : **MCQ**

Question ID : **630680533950**

Option 1 ID : **6306802087252**

Option 2 ID : **6306802087254**

Option 3 ID : **6306802087255**

Option 4 ID : **6306802087253**

Status : **Answered**

Chosen Option : **4**