

Multi Tasking Non Technical Staff and Havaladar CBIC and CBN Examination 2024

Roll Number	
Candidate Name	
Venue Name	iON Digital Zone iDZ 2 Hathipur
Exam Date	15/10/2024
Exam Time	9:00 AM - 11:00 AM
Subject	MTS Non Tech Havaladar CBIC and CBN Examination 2024

Section : Numerical and Mathematical Ability

Q.1 एक निवेश में पहले महीने में 15% की वृद्धि होती है, दूसरे महीने में 20% की वृद्धि होती है, और फिर तीसरे महीने में 10% की कमी होती है। यदि प्रारंभिक निवेश ₹5,000 था, तो अंतिम राशि (₹ में) ज्ञात कीजिए।

- Ans
- 1. 6,420
 - 2. 6,210
 - 3. 6,340
 - 4. 6,602

Question Type : MCQ

Question ID : 630680481963

Option 1 ID : 6306801882350

Option 2 ID : 6306801882348

Option 3 ID : 6306801882351

Option 4 ID : 6306801882349

Status : Answered

Chosen Option : 2

Q.2 यदि 40, 50 और 60 विद्यार्थियों के तीन बैचों के औसत अंक क्रमशः 50, 60 और 75 हैं, तो सभी विद्यार्थियों के औसत अंक कितने हैं?

- Ans
- 1. 63.33
 - 2. 61.25
 - 3. 70.00
 - 4. 65.50

Question Type : MCQ

Question ID : 630680447416

Option 1 ID : 6306801746919

Option 2 ID : 6306801746920

Option 3 ID : 6306801746917

Option 4 ID : 6306801746918

Status : Answered

Chosen Option : 1

Q.3 दी गई तालिका में कंपनी C, D, E और F द्वारा सेवाओं A और B की लागत पर विचार करें।

सेवा → कंपनी ↓	A	B
C	100	120
D	90	110
E	88	115
F	104	108

कंपनी E द्वारा सेवा A की लागत की तुलना में सेवा B के लिए कितनी प्रतिशत अधिक लागत ली जाती है?

- Ans
- 1. 36.08%
 - 2. 38.06%
 - 3. 30.33%
 - 4. 30.68%

Question Type : MCQ

Question ID : 630680523787

Option 1 ID : 6306802047302

Option 2 ID : 6306802047300

Option 3 ID : 6306802047299

Option 4 ID : 6306802047301

Status : Answered

Chosen Option : 4

Q.4 एक पैमाने की अधिकतम संभव लंबाई कितनी है, जो 250 cm, 420 cm और 710 cm लंबाई के कपड़े को सटीक रूप से माप सकती है?

- Ans
- 1. 71 cm
 - 2. 10 cm
 - 3. 460 cm
 - 4. 170 cm

Question Type : MCQ

Question ID : 630680106521

Option 1 ID : 630680413872

Option 2 ID : 630680413873

Option 3 ID : 630680413870

Option 4 ID : 630680413871

Status : Answered

Chosen Option : 2

Q.5 एक बेईमान दुकानदार अपने सामान को क्रय मूल्य पर बेचने का दावा करता है। हालाँकि, वह एक ऐसे बाट का उपयोग करता है जिसका वजन वास्तव में उस पर लिखे वजन से 19% कम है। उसका लाभ प्रतिशत ज्ञात कीजिए।

Ans

1. $22\frac{37}{81}\%$

2. $23\frac{37}{81}\%$

3. $25\frac{74}{81}\%$

4. $24\frac{38}{81}\%$

Question Type : MCQ

Question ID : 630680919326

Option 1 ID : 6306803602496

Option 2 ID : 6306803602494

Option 3 ID : 6306803602495

Option 4 ID : 6306803602497

Status : Answered

Chosen Option : 2

Q.6 एक क्रिकेट खिलाड़ी का 40 पारियों में बल्लेबाजी का औसत 60 रन है। एक पारी में उसका उच्चतम स्कोर उसके न्यूनतम स्कोर से 110 रन अधिक है। यदि इन दोनों पारियों को हटा दिया जाए तो शेष 38 पारियों का औसत स्कोर 58 है। उसका उच्चतम स्कोर ज्ञात कीजिए।

Ans 1. 153

2. 310

3. 290

4. 220

Question Type : MCQ

Question ID : 630680449396

Option 1 ID : 6306801754712

Option 2 ID : 6306801754711

Option 3 ID : 6306801754710

Option 4 ID : 6306801754709

Status : Answered

Chosen Option : 1

Q.7 त्योहारी सीज़न के दौरान एक थोक व्यापारी घोषणा करता है कि वे '4 शर्ट खरीदें, एक मुफ्त पाएं' की योजना की पेशकश कर रहे हैं, तो व्यापारी द्वारा दिया गया निवल छूट प्रतिशत ज्ञात कीजिए।

- Ans
- 1. 5%
 - 2. 10%
 - 3. 20%
 - 4. 15%

Question Type : MCQ

Question ID : 630680405077

Option 1 ID : 6306801579743

Option 2 ID : 6306801579741

Option 3 ID : 6306801579744

Option 4 ID : 6306801579742

Status : Answered

Chosen Option : 3

Q.8 एक मनोरंजन उद्यान में, सभी राइड का किराया एक समान है, और उद्यान के लिए प्रवेश टिकट पर ₹180 का अतिरिक्त खर्च आता है। रोहन ने 15 राइड ली और उसने उद्यान में अपनी यात्रा के लिए कुल ₹1,380 का भुगतान किया। यदि रोहन 20 राइड का विकल्प चुनता है, तो उसे मनोरंजन उद्यान में अपनी यात्रा के लिए कुल कितना (₹ में) भुगतान करना होगा?

- Ans
- 1. 1760
 - 2. 1800
 - 3. 1840
 - 4. 1780

Question Type : MCQ

Question ID : 630680310176

Option 1 ID : 6306801206835

Option 2 ID : 6306801206836

Option 3 ID : 6306801206834

Option 4 ID : 6306801206833

Status : Answered

Chosen Option : 4

Q.9 जब 40 विद्यार्थियों वाली कक्षा विज्ञान की परीक्षा देती है, तो 25 विद्यार्थियों का औसत स्कोर 80 था, और शेष विद्यार्थियों का औसत स्कोर 90 था। पूरी कक्षा का औसत स्कोर कितना था?

- Ans
- 1. 83.75
 - 2. 81.75
 - 3. 80.75
 - 4. 82.75

Question Type : MCQ

Question ID : 630680466668

Option 1 ID : 6306801822652

Option 2 ID : 6306801822654

Option 3 ID : 6306801822655

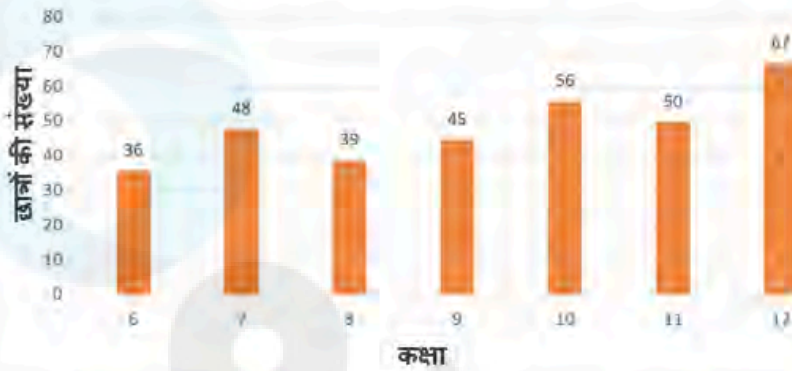
Option 4 ID : 6306801822653

Status : Answered

Chosen Option : 1

- Q.10 नीचे दिया गया दंड आलेख किसी स्कूल में विभिन्न कक्षाओं में छात्रों की संख्या को दर्शाता है। नीचे दिए गए आलेख का अध्ययन कीजिए और निम्नलिखित प्रश्न का उत्तर दीजिए

स्कूल में विभिन्न कक्षाओं में छात्रों की संख्या दर्शाने वाला दंड आलेख



कक्षा 8, 9, 11 और 12 में छात्रों की औसत संख्या और कक्षा 6, 7, 8, 9, 10 और 12 में छात्रों की औसत संख्या का अनुपात क्या है?

- Ans 1. 201 : 194
 2. 291 : 101
 3. 194 : 201
 4. 121 : 291

Question Type : MCQ

Question ID : 630680421296

Option 1 ID : 6306801643661

Option 2 ID : 6306801643660

Option 3 ID : 6306801643659

Option 4 ID : 6306801643662

Status : Answered

Chosen Option : 1

- Q.11 एक व्यक्ति 300 मीटर की दूरी से एक अन्य व्यक्ति को किसी महिला से चैन छीनते हुए देखता है। वह दौड़ना शुरू करता है और 10 km/h की चाल से कुल 1.5 km की दूरी तय करने के बाद चोर को पकड़ लेता है। चोर किस चाल से दौड़ रहा था?

- Ans 1. 8.5 km/h
 2. 9.5 km/h
 3. 8 km/h
 4. 9 km/h

Question Type : MCQ

Question ID : 630680267442

Option 1 ID : 6306801039145

Option 2 ID : 6306801039146

Option 3 ID : 6306801039143

Option 4 ID : 6306801039144

Status : Answered

Chosen Option : 3

Q.12 एक लंब वृत्तीय शंकु की विज्या और ऊंचाई का अनुपात 7 : 24 है और इसका आयतन 1232 cm^3 है। शंकु का संपूर्ण पृष्ठीय क्षेत्रफल ज्ञात कीजिए। ($\pi = \frac{22}{7}$ का उपयोग कीजिए)

- Ans
- 1. 862 cm^2
 - 2. 826 cm^2
 - 3. 628 cm^2
 - 4. 704 cm^2

Question Type : MCQ

Question ID : 630680384007

Option 1 ID : 6306801496923

Option 2 ID : 6306801496925

Option 3 ID : 6306801496924

Option 4 ID : 6306801496926

Status : Answered

Chosen Option : 4

Q.13 विपुल, आशिमा और प्रिया ने साधारण ब्याज पर क्रमशः 3%, 6% और 5% वार्षिक दर से कुल ₹21,000 का निवेश किया। यदि वर्ष के अंत में, तीनों व्यक्तियों को ब्याज की बराबर राशि प्राप्त हुई, तो आशिमा द्वारा निवेश की गई राशि (₹ में) ज्ञात कीजिए।

- Ans
- 1. 3,000
 - 2. 5,000
 - 3. 2,000
 - 4. 4,000

Question Type : MCQ

Question ID : 630680397464

Option 1 ID : 6306801549779

Option 2 ID : 6306801549781

Option 3 ID : 6306801549778

Option 4 ID : 6306801549780

Status : Answered

Chosen Option : 2

Q.14 एक धावक 36 सेकंड में 300 मीटर की दौड़ पूरी करता है। धावक की चाल km/h में कितनी है?

- Ans
- 1. 48
 - 2. 36
 - 3. 30
 - 4. 24

Question Type : MCQ

Question ID : 630680102893

Option 1 ID : 630680399834

Option 2 ID : 630680399833

Option 3 ID : 630680399832

Option 4 ID : 630680399831

Status : Answered

Chosen Option : 3

Q.15 3 वर्षों के लिए 7% वार्षिक की ब्याज दर पर उधार ली गई राशि ₹2000 पर साधारण ब्याज (₹ में) ज्ञात कीजिए।

- Ans
- 1. 460
 - 2. 360
 - 3. 380
 - 4. 420

Question Type : MCQ

Question ID : 630680591874

Option 1 ID : 6306802315964

Option 2 ID : 6306802315965

Option 3 ID : 6306802315966

Option 4 ID : 6306802315963

Status : Answered

Chosen Option : 4

Q.16 एक लम्ब वृत्तीय बेलन का आयतन 2425.5 cm^3 है और इसके आधार का क्षेत्रफल 346.5 cm^2 है। बेलन का वक्र पृष्ठीय क्षेत्रफल (cm^2 में) कितना है?

- Ans
- 1. 284
 - 2. 588
 - 3. 364
 - 4. 462

Question Type : MCQ

Question ID : 630680378019

Option 1 ID : 6306801473136

Option 2 ID : 6306801473137

Option 3 ID : 6306801473135

Option 4 ID : 6306801473138

Status : Answered

Chosen Option : 4

Q.17 यदि किसी आयत का विकर्ण 16 cm लंबा है और इसका परिमाण 48 cm लंबा है, तो आयत का क्षेत्रफल ज्ञात कीजिए।

- Ans
- 1. 160 cm^2
 - 2. 120 cm^2
 - 3. 140 cm^2
 - 4. 148 cm^2

Question Type : MCQ

Question ID : 63068068428

Option 1 ID : 630680264421

Option 2 ID : 630680264420

Option 3 ID : 630680264419

Option 4 ID : 630680264418

Status : Answered

Chosen Option : 1

Q.18 25 गेंदों का क्रय मूल्य 20 गेंदों के विक्रय मूल्य के बराबर है। लाभ प्रतिशत ज्ञात कीजिए।

- Ans 1. 25%
 2. 18%
 3. 15%
 4. 16.66%

Question Type : **MCQ**
Question ID : **630680109189**
Option 1 ID : **630680423570**
Option 2 ID : **630680423569**
Option 3 ID : **630680423571**
Option 4 ID : **630680423568**
Status : **Answered**
Chosen Option : 1

Q.19 14 विद्यार्थियों और उनके शिक्षक की औसत आयु 18 वर्ष है। यदि शिक्षक की आयु को हटा दिया जाए, तो औसत में 1 की कमी आ जाती है। शिक्षक की आयु क्या है?

- Ans 1. 34
 2. 32
 3. 37
 4. 35

Question Type : **MCQ**
Question ID : **630680447415**
Option 1 ID : **6306801746915**
Option 2 ID : **6306801746916**
Option 3 ID : **6306801746913**
Option 4 ID : **6306801746914**
Status : **Answered**
Chosen Option : 2

Q.20 6 वर्षों के लिए 8% वार्षिक की ब्याज दर पर उधार ली गई राशि ₹3000 पर साधारण ब्याज (₹ में) ज्ञात कीजिए।

- Ans 1. 1480
 2. 1440
 3. 1380
 4. 1400

Question Type : **MCQ**
Question ID : **630680591952**
Option 1 ID : **6306802316276**
Option 2 ID : **6306802316275**
Option 3 ID : **6306802316277**
Option 4 ID : **6306802316278**
Status : **Answered**
Chosen Option : 2

Q.1 दिए गए कथनों और निष्कर्षों को ध्यानपूर्वक पढ़िए। यह मानते हुए कि कथनों में दी गई जानकारी सत्य है, चाहे वह सामान्यतः ज्ञात तथ्यों से भिन्न प्रतीत होती हो और निर्णय लीजिए कि दिए गए निष्कर्षों में से कौन-सा/कौन-से निष्कर्ष कथनों का तार्किक रूप से अनुसरण करता है/करते हैं।

कथन:

कुछ शाखाएँ, पत्तियाँ हैं।
कुछ पत्तियाँ, केबल हैं।

निष्कर्ष:

(I) कम से कम कुछ केबल, शाखाएँ हैं।

(II) कुछ केबल, पत्तियाँ हैं।

- Ans
- 1. केवल निष्कर्ष (I) अनुसरण करता है।
 - 2. केवल निष्कर्ष (II) अनुसरण करता है।
 - 3. न तो निष्कर्ष (I) और न ही निष्कर्ष (II) अनुसरण करता है।
 - 4. दोनों निष्कर्ष (I) और (II) अनुसरण करते हैं।

Question Type : MCQ

Question ID : 630680410520

Option 1 ID : 6306801600800

Option 2 ID : 6306801600801

Option 3 ID : 6306801600802

Option 4 ID : 6306801600803

Status : Answered

Chosen Option : 2

Q.2 एक निश्चित कूट भाषा में, 'MANAGE' को 'IKEREQ' के रूप में कूटबद्ध किया जाता है और 'RACE' को 'IGEV' के रूप में कूटबद्ध किया जाता है। दी गई कूट भाषा में 'SYMPHONY' के लिए कूट क्या है?

- Ans
- 1. CRSLSQCW
 - 2. CRSLTQCW
 - 3. CRSLTRCW
 - 4. CRSLTPCW

Question Type : MCQ

Question ID : 630680387812

Option 1 ID : 6306801511885

Option 2 ID : 6306801511882

Option 3 ID : 6306801511883

Option 4 ID : 6306801511884

Status : Answered

Chosen Option : 2

Q.3 सात व्यक्ति A, B, C, D, E, F और G एक वृत्ताकार मेज के चारों ओर केंद्र की ओर मुख करके बैठे हैं (परंतु जरूरी नहीं कि वे इसी क्रम में बैठे हों)। C के दाएं से गिनने पर C और G के बीच में केवल तीन व्यक्ति बैठे हैं। E, G के बाएं से तीसरे स्थान पर बैठा है। E के बाएं से गिनने पर E और F के बीच में ठीक एक व्यक्ति बैठा है। D, B के ठीक बाएं बैठा है। A के बाएं से गिनने पर, A और D के बीच में कितने व्यक्ति बैठे हैं?

- Ans 1. 3
 2. 1
 3. 4
 4. 2

Question Type : MCQ

Question ID : 630680387576

Option 1 ID : 6306801510988

Option 2 ID : 6306801510986

Option 3 ID : 6306801510989

Option 4 ID : 6306801510987

Status : Answered

Chosen Option : 4

Q.4 दी गई श्रृंखला में प्रश्नचिह्न (?) के स्थान पर क्या आएगा?

647 614 581 548 515 ?

- Ans 1. 505
 2. 402
 3. 482
 4. 491

Question Type : MCQ

Question ID : 630680816786

Option 1 ID : 6306803209233

Option 2 ID : 6306803209232

Option 3 ID : 6306803209235

Option 4 ID : 6306803209234

Status : Answered

Chosen Option : 3

Q.5 उस समुच्चय का चयन कीजिए जिसमें संख्याएं ठीक उसी प्रकार संबंधित हैं जिस प्रकार दिए गए समुच्चयों की संख्याएं संबंधित हैं।

(ध्यान दें: संख्याओं को उनके घटक अंकों में अलग-अलग किए बिना पूर्ण संख्याओं पर संक्रियाएं की जानी चाहिए। उदाहरण के लिए संख्या 13 - संख्या 13 पर संक्रियाएं जैसे 13 को जोड़ना/घटाना/गुणा करना आदि किया जा सकता है। 13 को 1 और 3 में अलग-अलग करने की और फिर 1 और 3 पर गणितीय संक्रियाएं करने की अनुमति नहीं है।)

(9, 63, 7)
(27, 189, 21)

- Ans
- 1. (45, 315, 33)
 - 2. (40, 315, 35)
 - 3. (45, 315, 35)
 - 4. (45, 310, 35)

Question Type : MCQ

Question ID : 630680381026

Option 1 ID : 6306801485079

Option 2 ID : 6306801485080

Option 3 ID : 6306801485082

Option 4 ID : 6306801485081

Status : Answered

Chosen Option : 3

Q.6 एक निश्चित कूट भाषा में 'DONE' को '7139' के रूप में कूटबद्ध किया जाता है और 'TERM' को '6874' के रूप में कूटबद्ध किया जाता है। दी गई कूट भाषा में 'E' के लिए कूट क्या है?

- Ans
- 1. 9
 - 2. 8
 - 3. 7
 - 4. 6

Question Type : MCQ

Question ID : 630680435933

Option 1 ID : 6306801701684

Option 2 ID : 6306801701683

Option 3 ID : 6306801701681

Option 4 ID : 6306801701682

Status : Answered

Chosen Option : 3

Q.7 M, N, O, P, Q, R और S एक वृत्ताकार मेज के चारों ओर केंद्र की ओर मुख करके बैठे हैं (परंतु जरूरी नहीं कि वे इसी क्रम में बैठे हों)। R और P दोनों का निकटतम पड़ोसी Q है। M, R के बाएं से दूसरे स्थान पर बैठा है। O, M के बाएं से दूसरे स्थान पर बैठा है। S, O का निकटतम पड़ोसी नहीं है। यदि 'M' से आरंभ करते हुए सभी व्यक्तियों को वर्णानुक्रम में घड़ी की सुई की दिशा में क्रमबद्ध रूप से बिठाया जाए, तो कितने व्यक्तियों का स्थान अपरिवर्तित रहेगा?

- Ans
- 1. चार
 - 2. पाँच
 - 3. सात
 - 4. छः

Question Type : **MCQ**

Question ID : **630680383283**

Option 1 ID : **6306801494034**

Option 2 ID : **6306801494033**

Option 3 ID : **6306801494031**

Option 4 ID : **6306801494032**

Status : **Answered**

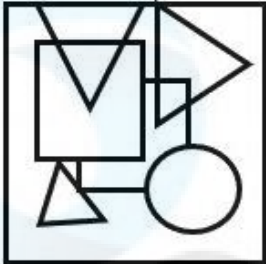
Chosen Option : **3**

Q.8 उस विकल्प का चयन कीजिए जिसमें दी गई आकृति सन्निहित है (घूर्णन की अनुमति नहीं है)।

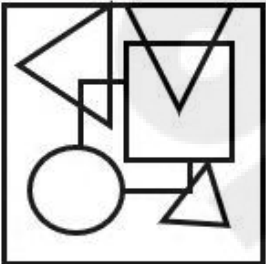


Ans

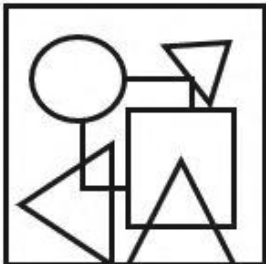
✗ 1.




✗ 2.



✗ 3.



✓ 4.



Question Type : MCQ

Question ID : 630680524455

Option 1 ID : 6306802049922

Option 2 ID : 6306802049920

Option 3 ID : 6306802049919

Option 4 ID : 6306802049921

Status : Answered

Chosen Option : 4

Q.9 FD7, KI12 से एक निश्चित प्रकार से संबंधित है। ठीक उसी प्रकार, PN18, US23 से संबंधित है। समान तर्क का अनुसरण करते हुए AY21 निम्नलिखित में से किससे संबंधित है?

Ans 1. FD25

2. HF25

3. FD26

4. HF26

Question Type : MCQ

Question ID : 630680438831

Option 1 ID : 6306801713136

Option 2 ID : 6306801713139

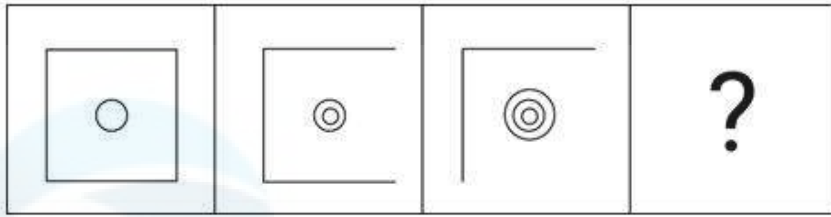
Option 3 ID : 6306801713138

Option 4 ID : 6306801713137

Status : Answered

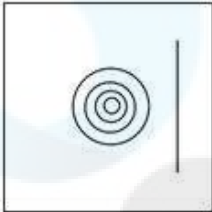
Chosen Option : 3

Q.10 विकल्पों में दी गई उस आकृति की पहचान कीजिए जिसे (?) के स्थान पर रखने पर श्रृंखला तार्किक रूप से पूर्ण हो जाएगी।

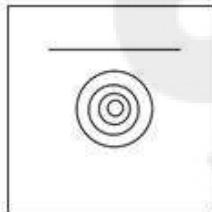


Ans

✗ 1.



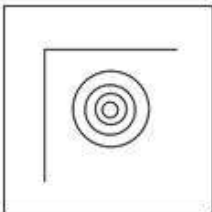
✓ 2.



✗ 3.



✗ 4.



Question Type : MCQ

Question ID : 630680273999

Option 1 ID : 6306801064518

Option 2 ID : 6306801064516

Option 3 ID : 6306801064517

Option 4 ID : 6306801064515

Status : Answered

Chosen Option : 2

Q.11 दिए गए कथनों और निष्कर्षों को ध्यानपूर्वक पढ़िए। यह मानते हुए कि कथनों में दी गई जानकारी सत्य है, चाहे वह सामान्यतः ज्ञात तथ्यों से भिन्न प्रतीत होती हो और निर्णय लीजिए कि दिए गए निष्कर्षों में से कौन-सा/कौन-से निष्कर्ष कथनों का तार्किक रूप से अनुसरण करता है/करते हैं।

कथन:

- कोई किताब, कॉपी नहीं है।
- सभी पत्थर, किताबें हैं।

निष्कर्ष:

- (I) कोई कॉपी, पत्थर नहीं है।
(II) सभी किताबें, पत्थर हैं।

- Ans
- 1. न तो निष्कर्ष (I) और न ही (II) अनुसरण करता है।
 - 2. निष्कर्ष (I) और (II) दोनों अनुसरण करते हैं।
 - 3. केवल निष्कर्ष (II) अनुसरण करता है।
 - 4. केवल निष्कर्ष (I) अनुसरण करता है।

Question Type : MCQ

Question ID : 630680404885

Option 1 ID : 6306801579033

Option 2 ID : 6306801579034

Option 3 ID : 6306801579032

Option 4 ID : 6306801579031

Status : Answered

Chosen Option : 4

Q.12 किसी कूट भाषा में, 'HWCY' को 'KBJH' के रूप में कूटबद्ध किया जाता है और 'REPU' को 'UJWD' के रूप में कूटबद्ध किया जाता है। उसी भाषा में 'AXMQ' को किस प्रकार कूटबद्ध किया जाएगा?

- Ans
- 1. DBTY
 - 2. CBSY
 - 3. DCTZ
 - 4. ECUZ

Question Type : MCQ

Question ID : 630680465311

Option 1 ID : 6306801817280

Option 2 ID : 6306801817281

Option 3 ID : 6306801817282

Option 4 ID : 6306801817279

Status : Answered

Chosen Option : 3

Q.13 यदि '+' और '-' को आपस में बदल दिया जाए तथा 'x' और '÷' को आपस में बदल दिया जाए, तो निम्नलिखित समीकरण में प्रश्नवाचक चिह्न (?) के स्थान पर क्या आएगा?
 $18 \div 5 + 8 \times 4 - 3 = ?$

Ans 1. 85

2. 91

3. 83

4. 78

Question Type : MCQ

Question ID : 630680392940

Option 1 ID : 6306801532098

Option 2 ID : 6306801532101

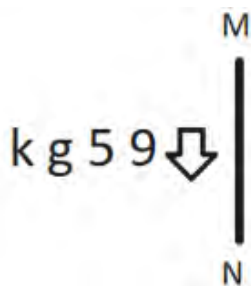
Option 3 ID : 6306801532099

Option 4 ID : 6306801532100

Status : Answered

Chosen Option : 2

Q.14 दी गई आकृति के उस सही दर्पण प्रतिबिंब को चुनिए, जो नीचे दर्शाए गए अनुसार दर्पण को MN पर रखने पर बनेगा।



Ans

1.

2.

3.

4.

Question Type : MCQ

Question ID : 630680525277

Option 1 ID : 6306802053194

Option 2 ID : 6306802053193

Option 3 ID : 6306802053192

Option 4 ID : 6306802053195

Status : Answered

Chosen Option : 2

Q.15 दिए गए विकल्पों में से उस आकृति को चुनिए जो निम्नलिखित श्रृंखला में प्रश्न चिह्न (?) के स्थान पर आ सकती है और पैटर्न को पूरा कर सकती है।

N	Y	P	3	N	O	Y	3	
	O		Y		P		O	?
3	P		O	N	3	Y	P	N

Ans

✗ 1.

N	P
	3
O	Y

✓ 2.

N	P
	Y
3	O

✗ 3.

N	Y
	3
O	P

✗ 4.

N	P
	O
3	Y

Question Type : MCQ

Question ID : 630680441077

Option 1 ID : 6306801721963

Option 2 ID : 6306801721964

Option 3 ID : 6306801721965

Option 4 ID : 6306801721962

Status : Answered

Chosen Option : 2

Q.16 निम्नलिखित समीकरण को सही बनाने के लिए किन दो संख्याओं को आपस में बदला जाना चाहिए?

$$(15 \div 3) \times 11 + 48 - 21 \times 2 + 8 = 57$$

(नोट: अदला-बदली पूरी संख्या की होनी चाहिए, न कि दी गई संख्या के अलग-अलग अंकों की।)

- Ans
- 1. 15 और 48
 - 2. 15 और 21
 - 3. 11 और 8
 - 4. 21 और 8

Question Type : MCQ

Question ID : 630680397647

Option 1 ID : 6306801550509

Option 2 ID : 6306801550512

Option 3 ID : 6306801550511

Option 4 ID : 6306801550510

Status : Answered

Chosen Option : 3

Q.17 VOJP अंग्रेजी वर्णमाला क्रम के आधार पर एक निश्चित प्रकार से SLGM से संबंधित है। ठीक उसी प्रकार XQLR, UNIO से संबंधित है। समान तर्क का अनुसरण करते हुए, ZSNT निम्नलिखित में से किससे संबंधित है?

- Ans
- 1. WPQK
 - 2. WPKQ
 - 3. PWKQ
 - 4. PWQK

Question Type : MCQ

Question ID : 630680436066

Option 1 ID : 6306801702206

Option 2 ID : 6306801702205

Option 3 ID : 6306801702207

Option 4 ID : 6306801702208

Status : Answered

Chosen Option : 2

Q.18 किसी निश्चित कूट भाषा में 'CAREER' को 'EBTFGS' के रूप में कूटबद्ध किया जाता है और 'CARING' को 'EBTJPH' के रूप में कूटबद्ध किया जाता है। उसी भाषा में 'CENTER' को किस प्रकार कूटबद्ध किया जाएगा?

- Ans
- 1. DFPVFT
 - 2. EFPUGS
 - 3. DGOVFT
 - 4. EFPVGS

Question Type : MCQ

Question ID : 630680465302

Option 1 ID : 6306801817246

Option 2 ID : 6306801817244

Option 3 ID : 6306801817243

Option 4 ID : 6306801817245

Status : Answered

Chosen Option : 2

Q.19 अंग्रेजी वर्णमाला क्रम के आधार पर दी गई श्रृंखला में प्रश्न-चिह्न (?) के स्थान पर क्या आएगा?

YDY, WGT, UJO, SMJ, ?

Ans 1. PPF

2. QPE

3. PPE

4. PPD

Question Type : MCQ

Question ID : 630680459283

Option 1 ID : 6306801793987

Option 2 ID : 6306801793985

Option 3 ID : 6306801793986

Option 4 ID : 6306801793988

Status : Answered

Chosen Option : 2

Q.20 एक निश्चित तर्क का अनुसरण करते हुए 4, 32 से संबंधित है। उसी तर्क का अनुसरण करते हुए, 11, 88 से संबंधित है। उसी तर्क का अनुसरण करते हुए, 6 निम्नलिखित में से किससे संबंधित है?

(ध्यान दें: संख्याओं को उनके घटक अंकों में अलग-अलग किए बिना पूर्ण संख्याओं पर संक्रियाएं की जानी चाहिए। उदाहरण के लिए संख्या 13 - संख्या 13 पर संक्रियाएं जैसे 13 को जोड़ना/घटाना/गुणा करना आदि किया जा सकता है। 13 को 1 और 3 में अलग-अलग करने की और फिर 1 और 3 पर गणितीय संक्रियाएं करने की अनुमति नहीं है।)

Ans 1. 36

2. 48

3. 56

4. 42

Question Type : MCQ

Question ID : 630680799054

Option 1 ID : 6306803131019

Option 2 ID : 6306803131020

Option 3 ID : 6306803131021

Option 4 ID : 6306803131018

Status : Answered

Chosen Option : 2

Section : General Awareness

Q.1 In 2023, which repository is proposed to be set up in a digital epigraphy museum, with digitisation of one lakh ancient inscriptions in the first stage?

- Ans 1. Bharat Shared Repository of Inscriptions
 2. Indian Repository of Classical Coins
 3. Progressive Repository of Indigenous Folklore
 4. Amrit Repository of Numismatic Collection

Question Type : MCQ

Question ID : 630680467067

Option 1 ID : 6306801824221

Option 2 ID : 6306801824222

Option 3 ID : 6306801824223

Option 4 ID : 6306801824224

Status : Answered

Chosen Option : 1

Q.2 भारत में जीवी राजा मेमोरियल ट्रॉफी, सर आशुतोष मुखर्जी ट्रॉफी और संतोष ट्रॉफी निम्नलिखित में से किस खेल से संबंधित हैं?

- Ans 1. हॉकी
 2. फुटबॉल
 3. टेनिस
 4. क्रिकेट

Question Type : MCQ

Question ID : 630680546830

Option 1 ID : 6306802137888

Option 2 ID : 6306802137889

Option 3 ID : 6306802137890

Option 4 ID : 6306802137887

Status : Answered

Chosen Option : 2

Q.3 A disease like COVID-19 is a kind of:

- Ans 1. Waterborne disease
 2. Zoonotic disease
 3. Protein Deficiency disease
 4. Foodborne disease

Question Type : MCQ

Question ID : 630680451633

Option 1 ID : 6306801763631

Option 2 ID : 6306801763630

Option 3 ID : 6306801763633

Option 4 ID : 6306801763632

Status : Answered

Chosen Option : 2

Q.4 2011 की जनगणना के अनुसार, निम्नलिखित में से किस राज्य में भारत में बौद्ध आबादी का प्रतिशत सबसे अधिक है?

- Ans
- 1. कर्नाटक
 - 2. सिक्किम
 - 3. अरुणाचल प्रदेश
 - 4. हिमाचल प्रदेश

Question Type : MCQ
Question ID : 630680510922
Option 1 ID : 6306801996821
Option 2 ID : 6306801996818
Option 3 ID : 6306801996819
Option 4 ID : 6306801996820
Status : Answered
Chosen Option : 3

Q.5 चिट्टी बाबू (Chitti Babu) निम्नलिखित में से किस संगीत वाद्ययंत्र के प्रसिद्ध वादक हैं?

- Ans
- 1. वीणा
 - 2. नादस्वरम
 - 3. मृदंग
 - 4. सारंगी

Question Type : MCQ
Question ID : 630680482428
Option 1 ID : 6306801884192
Option 2 ID : 6306801884190
Option 3 ID : 6306801884191
Option 4 ID : 6306801884193
Status : Answered
Chosen Option : 3

Q.6 राष्ट्रकूट राजा दंतिदुर्ग द्वारा परास्त अंतिम चालुक्य शासक _____ था।

- Ans
- 1. विक्रमादित्य प्रथम
 - 2. पुलकेशिन द्वितीय
 - 3. विक्रमादित्य द्वितीय
 - 4. कीर्तिवर्मन द्वितीय

Question Type : MCQ
Question ID : 630680682730
Option 1 ID : 6306802673665
Option 2 ID : 6306802673663
Option 3 ID : 6306802673664
Option 4 ID : 6306802673666
Status : Answered
Chosen Option : 4

Q.7 2022 में छऊ नर्तक सिबा प्रसाद दास (Siba Prasad Das) को निम्नलिखित में से किस पुरस्कार से सम्मानित किया गया?

- Ans
- 1. उस्ताद बिस्मिल्लाह खॉं युवा पुरस्कार
 - 2. संगीत नाटक अकादमी अमृत पुरस्कार
 - 3. संगीत नाटक अकादमी फेलोशिप
 - 4. पद्म श्री

Question Type : MCQ
Question ID : 630680215985
Option 1 ID : 630680837917
Option 2 ID : 630680837916
Option 3 ID : 630680837915
Option 4 ID : 630680837918
Status : Answered
Chosen Option : 4

Q.8 दिन के किस समय पानी में घुलित ऑक्सीजन की मात्रा सबसे कम हो जाती है?

- Ans
- 1. शाम के समय में (In the evening)
 - 2. दोपहर में (In the afternoon)
 - 3. भोर में (In the dawn)
 - 4. रात के समय में (At night time)

Question Type : MCQ
Question ID : 630680404256
Option 1 ID : 6306801576529
Option 2 ID : 6306801576527
Option 3 ID : 6306801576526
Option 4 ID : 6306801576528
Status : Answered
Chosen Option : 3

Q.9 स्वतंत्रता आंदोलन की ग्रेंड ओल्ड लेडी (Grand Old Lady) के रूप में किसे प्रसिद्ध रूप से जाना जाता है?

- Ans
- 1. मैडम कामा
 - 2. अरुणा आसफ़ अली
 - 3. सरोजिनी नायडू
 - 4. उषा मेहता

Question Type : MCQ
Question ID : 630680511598
Option 1 ID : 6306801999514
Option 2 ID : 6306801999516
Option 3 ID : 6306801999515
Option 4 ID : 6306801999517
Status : Answered
Chosen Option : 2

Q.10 तमिल समुदाय द्वारा प्रत्येक वर्ष जनवरी में निम्नलिखित में से कौन-सा फसल और सांस्कृतिक त्यौहार मनाया जाता है?

- Ans
- 1. थेय्यम
 - 2. मकरविल्लक्कु
 - 3. पोंगल
 - 4. विशु

Question Type : MCQ

Question ID : 630680546731

Option 1 ID : 6306802137496

Option 2 ID : 6306802137494

Option 3 ID : 6306802137495

Option 4 ID : 6306802137497

Status : Answered

Chosen Option : 3

Q.11 -273.15°C तापमान _____ कहलाता है।

- Ans
- 1. शून्य-बिंदु ऊर्जा
 - 2. परम शून्य तापमान
 - 3. जल का हिमांक
 - 4. मानक तापमान

Question Type : MCQ

Question ID : 630680471364

Option 1 ID : 6306801841179

Option 2 ID : 6306801841178

Option 3 ID : 6306801841180

Option 4 ID : 6306801841181

Status : Answered

Chosen Option : 2

Q.12 भारत में आजादी के दौर में निम्नलिखित में से कौन-सी सूक्ष्म-वित्त इकाइयाँ स्थापित की गईं?

- Ans
- 1. ग्रामीण सहकारिता
 - 2. ग्रामीण मॉडल बैंक
 - 3. संयुक्त देयता समूह
 - 4. स्वयं सहायता समूह

Question Type : MCQ

Question ID : 630680100172

Option 1 ID : 630680389386

Option 2 ID : 630680389387

Option 3 ID : 630680389385

Option 4 ID : 630680389384

Status : Answered

Chosen Option : 4

Q.13 निम्नलिखित में से कौन-सी नदी घाटी, भारत में कोयला भंडारों (coal deposits) के लिए नहीं जानी जाती है?

- Ans
- 1. गोदावरी
 - 2. महानदी
 - 3. सोन
 - 4. सतलुज

Question Type : MCQ

Question ID : 630680510952

Option 1 ID : 6306801996938

Option 2 ID : 6306801996939

Option 3 ID : 6306801996940

Option 4 ID : 6306801996941

Status : Answered

Chosen Option : 4

Q.14 निम्नलिखित में से कौन ओडिशा के/की नृत्य गुरु हैं जिन्हें ओडिसी नृत्य शैली को पुनर्जीवित करने का श्रेय दिया जाता है?

- Ans
- 1. वैजयंती माला
 - 2. बिरजू महाराज
 - 3. केलुचरण महापात्रा
 - 4. सुजाता महापात्रा

Question Type : MCQ

Question ID : 630680537241

Option 1 ID : 6306802100235

Option 2 ID : 6306802100232

Option 3 ID : 6306802100234

Option 4 ID : 6306802100233

Status : Answered

Chosen Option : 3

Q.15 आयु संरचना (Age Structure) क्या दर्शाती है?

- Ans
- 1. आश्रितों से बनी आबादी के हिस्से की, कार्यशील आयु वर्ग के हिस्से से तुलना करने वाला एक उपाय
 - 2. कुल जनसंख्या के सापेक्ष विभिन्न आयु समूहों में व्यक्तियों का अनुपात
 - 3. एक निश्चित समयावधि में किसी दिए गए क्षेत्र में प्रति 1000 पुरुषों पर महिलाओं की संख्या
 - 4. एक निश्चित समयावधि में किसी दिए गए क्षेत्र में प्रति 100 पुरुषों पर महिलाओं की संख्या

Question Type : MCQ

Question ID : 630680100543

Option 1 ID : 630680390871

Option 2 ID : 630680390869

Option 3 ID : 630680390870

Option 4 ID : 630680390868

Status : Answered

Chosen Option : 2

Q.16 वर्ष 2021 में प्रकाशित उपन्यास 'लाइफ एंड डेथ ऑफ संभाजी (Life and Death of Sambhaji)' के लेखक कौन हैं?

- Ans
- 1. अमीश त्रिपाठी
 - 2. मेधा देशमुख भास्करन
 - 3. चित्रा बनर्जी दिवाकरुणि
 - 4. रीता बनर्जी

Question Type : MCQ

Question ID : 630680512099

Option 1 ID : 6306802001368

Option 2 ID : 6306802001366

Option 3 ID : 6306802001369

Option 4 ID : 6306802001367

Status : Answered

Chosen Option : 2

Q.17 फरवरी 2023 में, हिमाचल प्रदेश के नए राज्यपाल के रूप में किसे नियुक्त किया गया?

- Ans
- 1. बंडारू दत्तात्रेय
 - 2. शिव प्रताप शुक्ला
 - 3. सत्यदेव नारायण आर्य
 - 4. कलराज मिश्र

Question Type : MCQ

Question ID : 630680488536

Option 1 ID : 6306801908176

Option 2 ID : 6306801908175

Option 3 ID : 6306801908177

Option 4 ID : 6306801908178

Status : Answered

Chosen Option : 2

Q.18 भारतीय संविधान के अनुच्छेद 163 के अनुसार मंत्रियों द्वारा _____ को दी गई किसी भी सलाह की किसी भी अदालत में पूछताछ नहीं की जाएगी।

- Ans
- 1. मुख्यमंत्री
 - 2. राज्यपाल
 - 3. राष्ट्रपति
 - 4. मुख्य न्यायाधीश

Question Type : MCQ

Question ID : 630680302224

Option 1 ID : 6306801175572

Option 2 ID : 6306801175571

Option 3 ID : 6306801175570

Option 4 ID : 6306801175573

Status : Answered

Chosen Option : 2

Q.19 भारत में पहली सीनियर महिला राष्ट्रीय फुटबॉल चैम्पियनशिप (Senior Women's National Football Championship) किस वर्ष आयोजित की गई थी?

Ans 1. 1992

2. 1950

3. 1995

4. 2000

Question Type : MCQ

Question ID : 630680572012

Option 1 ID : 6306802236916

Option 2 ID : 6306802236918

Option 3 ID : 6306802236917

Option 4 ID : 6306802236919

Status : Not Answered

Chosen Option : --

Q.20 1836 में, _____ भारत के गवर्नर जनरल बने।

Ans 1. लॉर्ड हेस्टिंग्स (Lord Hastings)

2. रॉबर्ट क्लाइव (Robert Clive)

3. लॉर्ड कर्जन (Lord Curzon)

4. ऑकलैंड के अर्ल (Earl of Auckland)

Question Type : MCQ

Question ID : 630680275905

Option 1 ID : 6306801072134

Option 2 ID : 6306801072133

Option 3 ID : 6306801072132

Option 4 ID : 6306801072131

Status : Answered

Chosen Option : 4

Q.21 राजस्थान में प्रसिद्ध महलों (पैलेस) और उनके स्थानों के सही संयोजन का चयन करें।

Ans 1. रामबाग पैलेस - जोधपुर

2. लालगढ़ पैलेस - बीकानेर

3. ताज लेक पैलेस - जयपुर

4. उम्मेद भवन पैलेस - उदयपुर

Question Type : MCQ

Question ID : 630680512076

Option 1 ID : 6306802001277

Option 2 ID : 6306802001275

Option 3 ID : 6306802001274

Option 4 ID : 6306802001276

Status : Not Answered

Chosen Option : --

Q.22 राज्य के नीति-निर्देशक सिद्धांत निम्नलिखित में से किससे प्रभावित हैं?

- Ans
- 1. फ्रांसीसी मानवाधिकार घोषणापत्र
 - 2. अमेरिकी स्वतंत्रता घोषणापत्र
 - 3. इंग्लैंड की विधि संहिता
 - 4. गांधीवादी विचारधारा

Question Type : MCQ

Question ID : 630680759515

Option 1 ID : 6306802976970

Option 2 ID : 6306802976971

Option 3 ID : 6306802976973

Option 4 ID : 6306802976972

Status : Answered

Chosen Option : 4

Q.23 वर्ष 1854 में भारत में पहली सफल कपड़ा मिल निम्नलिखित में से किस शहर में स्थापित की गई थी?

- Ans
- 1. बॉम्बे
 - 2. नई दिल्ली
 - 3. भोपाल
 - 4. कलकत्ता

Question Type : MCQ

Question ID : 630680798972

Option 1 ID : 6306803130686

Option 2 ID : 6306803130689

Option 3 ID : 6306803130688

Option 4 ID : 6306803130687

Status : Answered

Chosen Option : 1

Q.24 प्रारंभिक वैदिक अर्थव्यवस्था मुख्य रूप से _____ गतिविधि पर आधारित थी।

- Ans
- 1. लौह अयस्क खनन (Mining Iron ore)
 - 2. चारागाह (pastoral)
 - 3. व्यापार (trading)
 - 4. कृषि (agricultural)

Question Type : MCQ

Question ID : 630680200001

Option 1 ID : 630680775440

Option 2 ID : 630680775441

Option 3 ID : 630680775442

Option 4 ID : 630680775443

Status : Answered

Chosen Option : 2

Q.25 स्थलीय पारिस्थितिकी तंत्र में हरित पादपों द्वारा अवशोषित सूर्य के प्रकाश की ऊर्जा का प्रतिशत लगभग ___ होता है।

- Ans 1. 2%
 2. 1%
 3. 1.5%
 4. 0.5%

Question Type : **MCQ**
Question ID : **630680743308**
Option 1 ID : **6306802913534**
Option 2 ID : **6306802913532**
Option 3 ID : **6306802913533**
Option 4 ID : **6306802913531**
Status : **Answered**
Chosen Option : **2**

Section : English Language and Comprehension

Q.1 The given sentence is divided into three segments. Select the option that has the segment with a grammatical error. If there is no error, select 'No error'.
The committee has careful / considered the report which you sent us / and has decided to take action.

- Ans 1. No error
 2. and has decided to take action.
 3. The committee has careful
 4. considered the report which you sent us

Question Type : **MCQ**
Question ID : **630680295249**
Option 1 ID : **6306801148723**
Option 2 ID : **6306801148722**
Option 3 ID : **6306801148720**
Option 4 ID : **6306801148721**
Status : **Answered**
Chosen Option : **3**

Q.2 In the following sentence the underlined part contains an error. Alternatives to the underlined part are given as options. Select the correct alternative.
He is truest to his words.

- Ans 1. true
 2. truly
 3. truer
 4. most truly

Question Type : **MCQ**
Question ID : **630680514724**
Option 1 ID : **6306802011524**
Option 2 ID : **6306802011523**
Option 3 ID : **6306802011521**
Option 4 ID : **6306802011522**
Status : **Answered**
Chosen Option : **1**

Q.3 Select the most appropriate option to substitute the underlined segment in the given sentence.

Heba dropped of the club unexpectedly to say hello and catch up.

- Ans
- 1. dropped between the club unexpectedly
 - 2. dropped by the club unexpectedly
 - 3. dropped for the club unexpectedly
 - 4. dropped besides the club unexpectedly

Question Type : MCQ

Question ID : 630680549229

Option 1 ID : 6306802147383

Option 2 ID : 6306802147381

Option 3 ID : 6306802147382

Option 4 ID : 6306802147384

Status : Answered

Chosen Option : 2

Q.4 Select the most appropriate ANTONYM of the given word.

Procrastination

- Ans
- 1. Eagerness
 - 2. Hawing
 - 3. Hesitance
 - 4. Timidness

Question Type : MCQ

Question ID : 630680799102

Option 1 ID : 6306803131206

Option 2 ID : 6306803131208

Option 3 ID : 6306803131207

Option 4 ID : 6306803131209

Status : Answered

Chosen Option : 1

Q.5 Select the option that rectifies the spelling error in the following sentence.

In his persuit of excellence, he forgot to take care of his health.

- Ans
- 1. pursuit
 - 2. persoot
 - 3. persuite
 - 4. pursuite

Question Type : MCQ

Question ID : 630680566507

Option 1 ID : 6306802215017

Option 2 ID : 6306802215016

Option 3 ID : 6306802215018

Option 4 ID : 6306802215019

Status : Answered

Chosen Option : 1

Q.6 Select the option that will improve the underlined part of the given sentence.

Seizing the opportunity, Akhil decided to take the bull with the horns.

Ans 1. take the bull by the horns

2. take the bull on the horns

3. take the bull at the horns

4. take the bull in the horns

Question Type : MCQ

Question ID : 630680527010

Option 1 ID : 6306802060075

Option 2 ID : 6306802060074

Option 3 ID : 6306802060076

Option 4 ID : 6306802060073

Status : Answered

Chosen Option : 1

Q.7 Select the most appropriate synonym of the underlined word.

Her austere lifestyle reflected her minimalist approach to living.

Ans 1. Sombre

2. Luxurious

3. Giddy

4. Happy

Question Type : MCQ

Question ID : 630680726514

Option 1 ID : 6306802847065

Option 2 ID : 6306802847063

Option 3 ID : 6306802847062

Option 4 ID : 6306802847064

Status : Answered

Chosen Option : 1

Q.8 Identify the word that can replace the INCORRECTLY spelt word in the given sentence.

The explorer discovered a hidden cave deep in the heart of the jungle.

Ans 1. hiden

2. hiddeen

3. hidden

4. hiddenn

Question Type : MCQ

Question ID : 630680474901

Option 1 ID : 6306801855219

Option 2 ID : 6306801855218

Option 3 ID : 6306801855220

Option 4 ID : 6306801855221

Status : Answered

Chosen Option : 3

Q.9 Select the most appropriate meaning of the given idiom.
Like a bat out of hell

- Ans 1. Impossible
 2. Very fast and wildly
 3. Defeated
 4. In a bad situation

Question Type : **MCQ**

Question ID : **630680436142**

Option 1 ID : **6306801702511**

Option 2 ID : **6306801702512**

Option 3 ID : **6306801702510**

Option 4 ID : **6306801702509**

Status : **Not Answered**

Chosen Option : --

Q.10 Select the most appropriate option to fill in the blank.
_____ we gave them was some homemade ice cream.

- Ans 1. When
 2. While
 3. What
 4. Which

Question Type : **MCQ**

Question ID : **630680515219**

Option 1 ID : **6306802013341**

Option 2 ID : **6306802013342**

Option 3 ID : **6306802013344**

Option 4 ID : **6306802013343**

Status : **Answered**

Chosen Option : **3**

Q.11 Select the most appropriate ANTONYM of the underlined word.
You seem to be mean to your seniors.

- Ans 1. rude
 2. apathetic
 3. sympathetic
 4. modest

Question Type : **MCQ**

Question ID : **630680517459**

Option 1 ID : **6306802022232**

Option 2 ID : **6306802022233**

Option 3 ID : **6306802022234**

Option 4 ID : **6306802022235**

Status : **Answered**

Chosen Option : **3**

Q.12 Select the most appropriate ANTONYM of the underlined word in the given sentence.

Although our new boss knew he was wrong, he was too obstinate to accept that.

- Ans 1. Adamant
 2. Flexible
 3. Fearless
 4. Competent

Question Type : MCQ
Question ID : 630680523389
Option 1 ID : 6306802045734
Option 2 ID : 6306802045733
Option 3 ID : 6306802045736
Option 4 ID : 6306802045735
Status : Answered
Chosen Option : 2

Q.13 Select the most appropriate meaning of the given idiom.

at top of your lungs

- Ans 1. exhausted
 2. extremely silly
 3. pretend superiority
 4. extremely loudly

Question Type : MCQ
Question ID : 630680441748
Option 1 ID : 6306801724601
Option 2 ID : 6306801724600
Option 3 ID : 6306801724598
Option 4 ID : 6306801724599
Status : Answered
Chosen Option : 1

Q.14 Select the most appropriate option to fill in the blank.

Please _____ with me for a while

- Ans 1. bar
 2. bear
 3. bare
 4. bairn

Question Type : MCQ
Question ID : 630680435050
Option 1 ID : 6306801698118
Option 2 ID : 6306801698115
Option 3 ID : 6306801698116
Option 4 ID : 6306801698117
Status : Answered
Chosen Option : 2

Q.15 The following sentence has been divided into parts. One of them may contain an error. Select the part that contains the error from the given options. If you don't find any error, mark 'No error' as your answer.
This is the best novel / I have read, / in a very long time.

- Ans 1. No error
2. in a very long time
3. This is the best novel
4. I have read

Question Type : **MCQ**
Question ID : **630680449838**
Option 1 ID : **6306801756522**
Option 2 ID : **6306801756521**
Option 3 ID : **6306801756519**
Option 4 ID : **6306801756520**
Status : **Answered**
Chosen Option : **2**

Q.16 Select the most appropriate option to fill in the blank.
The rising interest in and concern about animal welfare resulted in legislative laws and the formation of The Animal _____ Committee in many nations.

- Ans 1. Ethics
2. Resistant
3. Considers
4. Customs

Question Type : **MCQ**
Question ID : **630680515259**
Option 1 ID : **6306802013501**
Option 2 ID : **6306802013503**
Option 3 ID : **6306802013502**
Option 4 ID : **6306802013504**
Status : **Answered**
Chosen Option : **3**

Q.17 The following sentence has been divided into parts. One of them may contain an error. Select the part that contains the error from the given options. If you don't find any error, mark 'No error' as your answer.
Sam and Teena / had wondering / what to do this weekend.

- Ans 1. No error
2. what to do this weekend
3. had wondering
4. Sam and Teena

Question Type : **MCQ**
Question ID : **630680421193**
Option 1 ID : **6306801643250**
Option 2 ID : **6306801643249**
Option 3 ID : **6306801643248**
Option 4 ID : **6306801643247**
Status : **Answered**
Chosen Option : **3**

Q.18 The following sentence has been split into four segments. Identify the segment that contains a grammatical error.

The sky is covering / with dark clouds and / I hope soon it / will begin to rain.

- Ans
- 1. will begin to rain
 - 2. I hope soon it
 - 3. with dark clouds and
 - 4. The sky is covering

Question Type : MCQ

Question ID : 630680533291

Option 1 ID : 6306802084648

Option 2 ID : 6306802084647

Option 3 ID : 6306802084646

Option 4 ID : 6306802084645

Status : Answered

Chosen Option : 4

Q.19 Select the option that correctly rectifies the underlined spelling error in the given sentence.

Women and children were often employed in the textile industry during the first centuary of industrialisation.

- Ans
- 1. centuari
 - 2. century
 - 3. centuarie
 - 4. centurie

Question Type : MCQ

Question ID : 630680467632

Option 1 ID : 6306801826459

Option 2 ID : 6306801826458

Option 3 ID : 6306801826461

Option 4 ID : 6306801826460

Status : Answered

Chosen Option : 2

Q.20 In the following sentence the underlined part contains an error. Alternatives to the underlined part are given as options. Select the correct alternative.

He was studying in the dimmer light.

- Ans
- 1. dimmest
 - 2. more dim
 - 3. most dim
 - 4. dim

Question Type : MCQ

Question ID : 630680514722

Option 1 ID : 6306802011516

Option 2 ID : 6306802011513

Option 3 ID : 6306802011514

Option 4 ID : 6306802011515

Status : Answered

Chosen Option : 1

Comprehension:

In the following passage, some words have been deleted. Read the passage carefully and select the most appropriate option to fill in each blank.

Language is a powerful device that (1)_____ communication and interaction between individuals. It serves as a crucial tool for expressing thoughts, emotions, and ideas. (2)_____ richness of language can be observed in various forms, including spoken and written interaction. People employ language to convey their intentions, share knowledge, and build relationships. It is a fundamental aspect of human interaction and plays a vital role in shaping societies and cultures. Without language, cooperation would be (3)_____, as it serves as the foundation for collaboration and understanding among diverse communities. Furthermore, language is dynamic and stationary, evolving over time to adapt to changing environments. New words are (4)_____ into the vocabulary, reflecting advancements in technology, science and culture. The ability to modify and adapt language is a key aspect of linguistic competence. (5)_____, the importance of language cannot be underestimated. It is a fundamental tool for human expression and interaction, facilitating the exchange of ideas and the formation of connections among people.

SubQuestion No : 21

Q.21 Select the most appropriate option to fill in blank number 1.

- Ans**
- 1. qualifies
 - 2. delays
 - 3. facilitates
 - 4. experiences

Question Type : **MCQ**

Question ID : **630680555946**

Option 1 ID : **6306802173161**

Option 2 ID : **6306802173162**

Option 3 ID : **6306802173163**

Option 4 ID : **6306802173160**

Status : **Answered**

Chosen Option : **3**

Comprehension:

In the following passage, some words have been deleted. Read the passage carefully and select the most appropriate option to fill in each blank.

Language is a powerful device that (1)_____ communication and interaction between individuals. It serves as a crucial tool for expressing thoughts, emotions, and ideas. (2)_____ richness of language can be observed in various forms, including spoken and written interaction. People employ language to convey their intentions, share knowledge, and build relationships. It is a fundamental aspect of human interaction and plays a vital role in shaping societies and cultures. Without language, cooperation would be (3)_____, as it serves as the foundation for collaboration and understanding among diverse communities. Furthermore, language is dynamic and stationary, evolving over time to adapt to changing environments. New words are (4)_____ into the vocabulary, reflecting advancements in technology, science and culture. The ability to modify and adapt language is a key aspect of linguistic competence. (5)_____, the importance of language cannot be underestimated. It is a fundamental tool for human expression and interaction, facilitating the exchange of ideas and the formation of connections among people.

SubQuestion No : 22

Q.22 Select the most appropriate option to fill in blank number 2.

- Ans
- 1. A
 - 2. No article
 - 3. An
 - 4. The

Question Type : **MCQ**

Question ID : **630680555948**

Option 1 ID : **6306802173169**

Option 2 ID : **6306802173171**

Option 3 ID : **6306802173170**

Option 4 ID : **6306802173168**

Status : **Answered**

Chosen Option : **4**

Comprehension:

In the following passage, some words have been deleted. Read the passage carefully and select the most appropriate option to fill in each blank.

Language is a powerful device that (1)_____ communication and interaction between individuals. It serves as a crucial tool for expressing thoughts, emotions, and ideas. (2)_____ richness of language can be observed in various forms, including spoken and written interaction. People employ language to convey their intentions, share knowledge, and build relationships. It is a fundamental aspect of human interaction and plays a vital role in shaping societies and cultures. Without language, cooperation would be (3)_____, as it serves as the foundation for collaboration and understanding among diverse communities. Furthermore, language is dynamic and stationary, evolving over time to adapt to changing environments. New words are (4)_____ into the vocabulary, reflecting advancements in technology, science and culture. The ability to modify and adapt language is a key aspect of linguistic competence. (5)_____, the importance of language cannot be underestimated. It is a fundamental tool for human expression and interaction, facilitating the exchange of ideas and the formation of connections among people.

SubQuestion No : 23**Q.23 Select the most appropriate option to fill in blank number 3.**

- Ans 1. challenger
 2. challenging
 3. challenges
 4. challenge

Question Type : **MCQ**Question ID : **630680555949**Option 1 ID : **6306802173174**Option 2 ID : **6306802173173**Option 3 ID : **6306802173175**Option 4 ID : **6306802173172**Status : **Answered**Chosen Option : **2**

Comprehension:

In the following passage, some words have been deleted. Read the passage carefully and select the most appropriate option to fill in each blank.

Language is a powerful device that (1)_____ communication and interaction between individuals. It serves as a crucial tool for expressing thoughts, emotions, and ideas. (2)_____ richness of language can be observed in various forms, including spoken and written interaction. People employ language to convey their intentions, share knowledge, and build relationships. It is a fundamental aspect of human interaction and plays a vital role in shaping societies and cultures. Without language, cooperation would be (3)_____, as it serves as the foundation for collaboration and understanding among diverse communities. Furthermore, language is dynamic and stationary, evolving over time to adapt to changing environments. New words are (4)_____ into the vocabulary, reflecting advancements in technology, science and culture. The ability to modify and adapt language is a key aspect of linguistic competence. (5)_____, the importance of language cannot be underestimated. It is a fundamental tool for human expression and interaction, facilitating the exchange of ideas and the formation of connections among people.

SubQuestion No : 24

Q.24 Select the most appropriate option to fill in blank number 4.

- Ans
- 1. integration
 - 2. integrity
 - 3. integral
 - 4. integrated

Question Type : **MCQ**

Question ID : **630680555950**

Option 1 ID : **6306802173177**

Option 2 ID : **6306802173179**

Option 3 ID : **6306802173176**

Option 4 ID : **6306802173178**

Status : **Answered**

Chosen Option : **4**

Comprehension:

In the following passage, some words have been deleted. Read the passage carefully and select the most appropriate option to fill in each blank.

Language is a powerful device that (1)_____ communication and interaction between individuals. It serves as a crucial tool for expressing thoughts, emotions, and ideas. (2)_____ richness of language can be observed in various forms, including spoken and written interaction. People employ language to convey their intentions, share knowledge, and build relationships. It is a fundamental aspect of human interaction and plays a vital role in shaping societies and cultures. Without language, cooperation would be (3)_____, as it serves as the foundation for collaboration and understanding among diverse communities. Furthermore, language is dynamic and stationary, evolving over time to adapt to changing environments. New words are (4)_____ into the vocabulary, reflecting advancements in technology, science and culture. The ability to modify and adapt language is a key aspect of linguistic competence. (5)_____, the importance of language cannot be underestimated. It is a fundamental tool for human expression and interaction, facilitating the exchange of ideas and the formation of connections among people.

SubQuestion No : 25

Q.25 Select the most appropriate option to fill in blank number 5.

- Ans
- 1. In conclusive
 - 2. In order to
 - 3. In any case
 - 4. In spite of

Question Type : **MCQ**

Question ID : **630680555951**

Option 1 ID : **6306802173181**

Option 2 ID : **6306802173182**

Option 3 ID : **6306802173180**

Option 4 ID : **6306802173183**

Status : **Answered**

Chosen Option : **3**