

Multi Tasking Non Technical Staff and Havalдар CBIC and CBN Examination 2024

Roll Number	
Candidate Name	
Venue Name	Dewa Mahila Mahavidyalaya
Exam Date	15/10/2024
Exam Time	12:30 PM - 2:30 PM
Subject	MTS Non Tech Havalдар CBIC and CBN Examination 2024

Section : Numerical and Mathematical Ability

Q.1 एक परीक्षा में औसत अंक 60 थे। कुछ मूल्यांकन त्रुटियों के कारण, 115 विद्यार्थियों में से प्रत्येक के अंक को 85 से बदलकर 50 करना पड़ा, और नया औसत 55 हो गया। परीक्षा देने वाले विद्यार्थियों की कुल संख्या _____ थी।

- Ans
- 1. 902
 - 2. 763
 - 3. 805
 - 4. 1000

Question Type : MCQ

Question ID : 630680456229

Option 1 ID : 6306801781889

Option 2 ID : 6306801781887

Option 3 ID : 6306801781888

Option 4 ID : 6306801781890

Status : Answered

Chosen Option : 3

Q.2 ₹31,000 की राशि का एक भाग 4 वर्ष की अवधि के लिए 9% वार्षिक साधारण ब्याज पर और शेष भाग 7% वार्षिक साधारण ब्याज पर उधार दिया गया था। 4 वर्षों के बाद, प्राप्त कुल ब्याज ₹10,500 था। 7% पर उधार दी गई धनराशि और 9% पर उधार दी गई धनराशि का अनुपात ज्ञात कीजिए।

- Ans
- 1. 31 : 48
 - 2. 33 : 91
 - 3. 91 : 33
 - 4. 48 : 31

Question Type : MCQ

Question ID : 630680421274

Option 1 ID : 6306801643573

Option 2 ID : 6306801643572

Option 3 ID : 6306801643571

Option 4 ID : 6306801643574

Status : Answered

Chosen Option : 2

Q.3 एक व्यक्ति किसी वस्तु को ₹237 में बेचता है, जिससे उसे 18.5% का लाभ प्राप्त होता है। वस्तु का क्रय मूल्य (₹ में) कितना था?

- Ans
- 1. 193
 - 2. 291
 - 3. 200
 - 4. 281

Question Type : MCQ

Question ID : 630680632461

Option 1 ID : 6306802475744

Option 2 ID : 6306802475745

Option 3 ID : 6306802475742

Option 4 ID : 6306802475743

Status : Answered

Chosen Option : 3

Q.4 एक कर्मचारी के वेतन में 80% की कमी की जाती है और फिर घटाए गए वेतन में 80% की वृद्धि की जाती है। कर्मचारी के वेतन में प्रतिशत हानि (कमी) की गणना करें।

- Ans
- 1. 68%
 - 2. 54%
 - 3. 64%
 - 4. 58%

Question Type : MCQ

Question ID : 630680464548

Option 1 ID : 6306801814228

Option 2 ID : 6306801814227

Option 3 ID : 6306801814230

Option 4 ID : 6306801814229

Status : Answered

Chosen Option : 3

Q.5 एक चोर $11\frac{1}{2}$ km/h की चाल से भाग रहा है, जिसे पकड़ने के लिए एक पुलिसकर्मी $13\frac{1}{2}$ km/h की चाल से उसका पीछा करता है। यदि चोर 900 m आगे है, तो पुलिसकर्मी को पीछा शुरू करने के बाद से चोर को पकड़ने में कितना समय लगेगा?

- Ans
- 1. 18 मिनट
 - 2. 4 मिनट 30 सेकंड
 - 3. 27 मिनट
 - 4. 22 मिनट 30 सेकंड

Question Type : MCQ

Question ID : 630680262108

Option 1 ID : 6306801018080

Option 2 ID : 6306801018079

Option 3 ID : 6306801018081

Option 4 ID : 6306801018082

Status : Answered

Chosen Option : 3

Q.6 90, 230 और 325 का महत्तम समापवर्तक (HCF) ज्ञात कीजिए।

- Ans 1. 1
 2. 3
 3. 2
 4. 5

Question Type : MCQ

Question ID : 630680103138

Option 1 ID : 630680400812

Option 2 ID : 630680400814

Option 3 ID : 630680400813

Option 4 ID : 630680400811

Status : Answered

Chosen Option : 4

Q.7 ₹20 में एक वस्तु को बेचकर, एक विक्रेता 10% का लाभ अर्जित करता है। उसे अपना विक्रय मूल्य (₹ में, दो दशमलव स्थान तक सन्निकटित) कितना बढ़ाना चाहिए, ताकि 35% का लाभ अर्जित कर सके?

- Ans 1. 4.55
 2. 5.55
 3. 6.55
 4. 7.55

Question Type : MCQ

Question ID : 630680632598

Option 1 ID : 6306802476290

Option 2 ID : 6306802476291

Option 3 ID : 6306802476292

Option 4 ID : 6306802476293

Status : Answered

Chosen Option : 2

Q.8 संख्याओं p और q के बीच का माध्यानुपाती 8 है। संख्याओं का निम्नलिखित में से कौन-सा युग्म p और q के मान हो सकते हैं?

- Ans 1. 10 और 6
 2. 12 और 3
 3. 12 और 16
 4. 16 और 4

Question Type : MCQ

Question ID : 630680239506

Option 1 ID : 630680928975

Option 2 ID : 630680928976

Option 3 ID : 630680928978

Option 4 ID : 630680928977

Status : Answered

Chosen Option : 4

Q.9 स्कूल के खेल दिवस के दौरान कक्षा VII के तीन विद्यार्थियों ने 1 km की दौड़ में भाग लिया। यदि A, B से 100 m के अंतर से दौड़ जीत जाता है और B, C को 300 m की दौड़ में 50 m से हरा देता है, तो 1 km की दौड़ में, A, C को कितने अंतर से हराएगा?

Ans 1. 750 m

2. 250 m

3. 700 m

4. 150 m

Question Type : MCQ

Question ID : 630680401009

Option 1 ID : 6306801563875

Option 2 ID : 6306801563874

Option 3 ID : 6306801563876

Option 4 ID : 6306801563873

Status : Answered

Chosen Option : 2

Q.10 5 वर्षों के लिए 9% वार्षिक की ब्याज दर पर उधार ली गई राशि ₹2000 पर साधारण ब्याज (₹ में) ज्ञात कीजिए।

Ans 1. 900

2. 840

3. 940

4. 860

Question Type : MCQ

Question ID : 630680591886

Option 1 ID : 6306802316011

Option 2 ID : 6306802316013

Option 3 ID : 6306802316012

Option 4 ID : 6306802316014

Status : Answered

Chosen Option : 1

Q.11 6 cm भुजा वाले एक वर्ग के क्षेत्रफल और 8 cm तथा 6 cm विकर्ण वाले समचतुर्भुज के क्षेत्रफल के बीच का अनुपात क्या है?

Ans 1. 3 : 2

2. 2 : 5

3. 3 : 4

4. 4 : 5

Question Type : MCQ

Question ID : 630680526564

Option 1 ID : 6306802058324

Option 2 ID : 6306802058325

Option 3 ID : 6306802058323

Option 4 ID : 6306802058322

Status : Answered

Chosen Option : 1

Q.12 एक ठोस शंकु की ऊँचाई 63 cm और आधार की त्रिज्या 16 cm है। यदि पेंटिंग करने की दर ₹1.75/cm² है, तो शंकु के कुल पृष्ठीय क्षेत्रफल को पेंट करने की कुल लागत (₹ में) कितनी होगी?
($\pi = \frac{22}{7}$ का उपयोग कीजिए)

Ans 1. 7128

2. 7166

3. 7186

4. 7156

Question Type : MCQ

Question ID : 630680379655

Option 1 ID : 6306801479663

Option 2 ID : 6306801479665

Option 3 ID : 6306801479666

Option 4 ID : 6306801479664

Status : Answered

Chosen Option : 4

Q.13 एक कंपनी के 30 पुरुष कर्मचारियों का औसत भार 62.5 kg है और शेष 20 महिला कर्मचारियों का औसत भार 54.5 kg है। कंपनी के कुल कर्मचारियों का औसत भार कितना है?

Ans 1. 59.5 kg

2. 58.3 kg

3. 59.3 kg

4. 58.5 kg

Question Type : MCQ

Question ID : 630680447394

Option 1 ID : 6306801746832

Option 2 ID : 6306801746830

Option 3 ID : 6306801746829

Option 4 ID : 6306801746831

Status : Answered

Chosen Option : 3

Q.14 6 वर्षों के लिए 8% वार्षिक की ब्याज दर पर उधार ली गई राशि ₹2500 पर साधारण ब्याज (₹ में) ज्ञात कीजिए।

Ans 1. 1160

2. 1140

3. 1200

4. 1240

Question Type : MCQ

Question ID : 630680591917

Option 1 ID : 6306802316138

Option 2 ID : 6306802316137

Option 3 ID : 6306802316135

Option 4 ID : 6306802316136

Status : Answered

Chosen Option : 3

Q.15 एक आयताकार बक्से की पहले मूल चौड़ाई 25 cm थी। फिर बक्से को इस तरह से बनाया गया कि इसकी लंबाई 30% बढ़ गई, लेकिन चौड़ाई 20% कम हो गई और क्षेत्रफल 100 cm² बढ़ गया। नए बक्से की लंबाई (cm में) कितनी है?

- Ans
- 1. 91
 - 2. 109
 - 3. 130
 - 4. 100

Question Type : MCQ

Question ID : 630680570495

Option 1 ID : 6306802230891

Option 2 ID : 6306802230892

Option 3 ID : 6306802230889

Option 4 ID : 6306802230890

Status : Answered

Chosen Option : 3

Q.16 एक पिंड एक सीधी रेखा में गतिशील है और निम्नलिखित तालिका में समय के विभिन्न क्षणों में इसकी दूरी दर्शाई गई है।

समय (सेकंड में)	0	1	2	3	4	5	6
दूरी (m में)	0	5	14	14	14	20	24

किस समय अंतराल के दौरान (सेकंड में) पिंड गतिशील नहीं रहा है?

- Ans
- 1. 0 से 1
 - 2. 5 से 6
 - 3. 1 से 3
 - 4. 2 से 4

Question Type : MCQ

Question ID : 630680523728

Option 1 ID : 6306802047063

Option 2 ID : 6306802047066

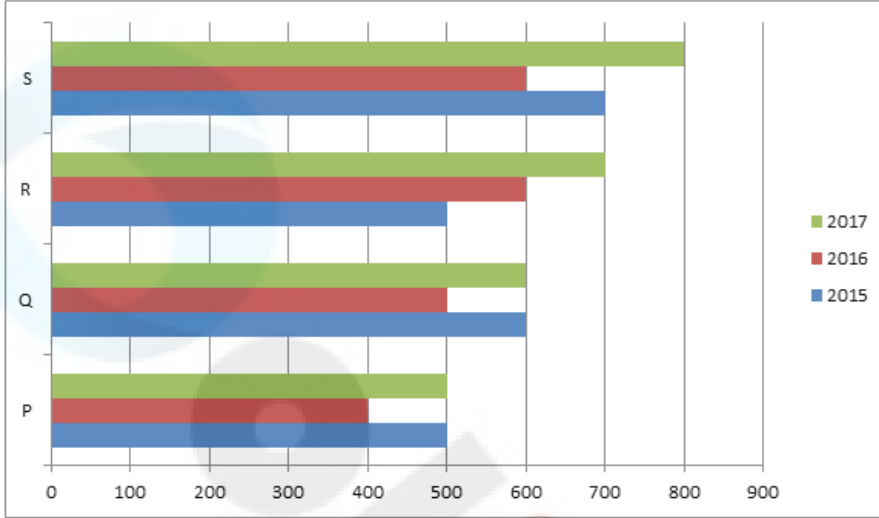
Option 3 ID : 6306802047064

Option 4 ID : 6306802047065

Status : Answered

Chosen Option : 4

Q.17 निम्नलिखित दंड आलेख वर्ष 2015 - 2017 के दौरान 4 विभिन्न कंपनियों, P, Q, R और S द्वारा निर्मित स्कूटरों की संख्या को दर्शाता है। x - अक्ष निर्मित स्कूटरों की संख्या को दर्शाता है और y - अक्ष कंपनियों को दर्शाता है। दंड आलेख का ध्यानपूर्वक अध्ययन कीजिए और निम्नलिखित प्रश्न का उत्तर दीजिए।
4 कंपनियों द्वारा स्कूटरों का निर्माण



किस वर्ष/वर्षों में कंपनी R के लिए पिछले वर्षों की तुलना में स्कूटरों के निर्माण में प्रतिशत वृद्धि अधिकतम थी?

- Ans
- 1. केवल 2016
 - 2. 2016 और 2017
 - 3. केवल 2017
 - 4. 2015 और 2017

Question Type : MCQ

Question ID : 6306801108830

Option 1 ID : 6306804355908

Option 2 ID : 6306804355906

Option 3 ID : 6306804355909

Option 4 ID : 6306804355907

Status : Answered

Chosen Option : 2

Q.18 ₹29,800 के अंकित मूल्य वाला एक उत्पाद स्टोर में ₹28,608 में बेचा जा रहा है। उत्पाद पर कितनी छूट दी जा रही है?

- Ans
- 1. 3%
 - 2. 2%
 - 3. 4%
 - 4. 1%

Question Type : MCQ

Question ID : 630680402514

Option 1 ID : 6306801569617

Option 2 ID : 6306801569616

Option 3 ID : 6306801569618

Option 4 ID : 6306801569615

Status : Answered

Chosen Option : 3

Q.19 एक टोकरी में एक निश्चित संख्या में मौजूद सेबों का औसत वजन 0.5 kg था। यदि टोकरी से 0.7 kg औसत वजन वाले 10 सेब निकाल दिए जाएं और टोकरी में 0.6 kg औसत वजन वाले 5 सेब डाल दिए जाएं, तो टोकरी में सेबों के औसत वजन में 0.1 kg की कमी हो जाती है। टोकरी में शुरुआत में सेबों की संख्या कितनी थी?

Ans 1. 19

2. 20

3. 18

4. 21

Question Type : MCQ

Question ID : 630680466558

Option 1 ID : 6306801822239

Option 2 ID : 6306801822240

Option 3 ID : 6306801822238

Option 4 ID : 6306801822241

Status : Answered

Chosen Option : 3

Q.20 40 kg, 49 kg, 56 kg, 72 kg और 39 kg वजन के पांच सदस्यों वाले परिवार का औसत वजन (kg में) ज्ञात कीजिए।

Ans 1. 52.2

2. 51.2

3. 50.2

4. 53.2

Question Type : MCQ

Question ID : 630680551668

Option 1 ID : 6306802156898

Option 2 ID : 6306802156897

Option 3 ID : 6306802156899

Option 4 ID : 6306802156900

Status : Answered

Chosen Option : 2

Section : Reasoning Ability and Problem Solving

Q.1 PWSO अंग्रेजी वर्णानुक्रम के आधार पर एक निश्चित प्रकार से RYUQ से संबंधित है। ठीक उसी प्रकार, MTPL, OVRN से संबंधित है। समान तर्क का अनुसरण करते हुए JQMI निम्नलिखित में से किससे संबंधित है?

Ans 1. LSKO

2. SLOK

3. SLKO

4. LSOK

Question Type : MCQ

Question ID : 630680441608

Option 1 ID : 6306801724051

Option 2 ID : 6306801724053

Option 3 ID : 6306801724052

Option 4 ID : 6306801724050

Status : Answered

Chosen Option : 4

Q.2 दिए गए कथनों और निष्कर्षों को ध्यानपूर्वक पढ़िए। यह मानते हुए कि कथनों में दी गई जानकारी सत्य है, चाहे वह सामान्यतः ज्ञात तथ्यों से भिन्न प्रतीत होती हो और निर्णय लीजिए कि दिए गए निष्कर्षों में से कौन-सा/कौन-से निष्कर्ष कथनों का तार्किक रूप से अनुसरण करता है/करते हैं।

कथन:

सभी अभिनेता, गायक हैं।
सभी गायक, नर्तक हैं।

निष्कर्ष:

(I) कम से कम कुछ गायक, अभिनेता हैं।
(II) कुछ नर्तक, गायक नहीं हो सकते हैं।

- Ans
- 1. केवल निष्कर्ष II अनुसरण करता है
 - 2. निष्कर्ष I और II दोनों अनुसरण करते हैं
 - 3. केवल निष्कर्ष I अनुसरण करता है
 - 4. न तो निष्कर्ष I और न ही II अनुसरण करता है

Question Type : MCQ

Question ID : 630680411093

Option 1 ID : 6306801603125

Option 2 ID : 6306801603126

Option 3 ID : 6306801603124

Option 4 ID : 6306801603127

Status : Answered

Chosen Option : 2

Q.3 DJFL, अंग्रेजी वर्णानुक्रम के आधार पर एक निश्चित प्रकार से HNJP से संबंधित है। ठीक उसी प्रकार GMIO, KQMS से संबंधित है। समान तर्क का अनुसरण करते हुए, IOKQ निम्नलिखित में से किससे संबंधित है?

- Ans
- 1. SMOU
 - 2. MSOU
 - 3. SMUO
 - 4. MSUO

Question Type : MCQ

Question ID : 630680386599

Option 1 ID : 6306801507106

Option 2 ID : 6306801507107

Option 3 ID : 6306801507109

Option 4 ID : 6306801507108

Status : Answered

Chosen Option : 3

Q.4 अंग्रेजी वर्णमाला क्रम के आधार पर दी गई श्रृंखला में प्रश्न-चिह्न (?) के स्थान पर क्या आएगा?

SRQ, ONM, KJI, GFE, ?

Ans 1. CBA

2. DCB

3. BAZ

4. ABC

Question Type : MCQ

Question ID : 630680442475

Option 1 ID : 6306801727381

Option 2 ID : 6306801727382

Option 3 ID : 6306801727383

Option 4 ID : 6306801727380

Status : Answered

Chosen Option : 2

Q.5 एक निश्चित तर्क का पालन करते हुए 22, 132 से संबंधित है। उसी तर्क का पालन करते हुए 35, 210 से संबंधित है। उसी तर्क का पालन करते हुए, 18 निम्नलिखित में से किससे संबंधित है?

(ध्यान दें: संख्याओं को उनके घटक अंकों में अलग-अलग किए बिना पूर्ण संख्याओं पर संक्रियाएं की जानी चाहिए। उदाहरण के लिए संख्या 13 - संख्या 13 पर संक्रियाएं जैसे 13 को जोड़ना/घटाना/गुणा करना आदि किया जा सकता है। 13 को 1 और 3 में अलग-अलग करने की और फिर 1 और 3 पर गणितीय संक्रियाएं करने की अनुमति नहीं है।)

Ans 1. 110

2. 101

3. 113

4. 108

Question Type : MCQ

Question ID : 630680446717

Option 1 ID : 6306801744164

Option 2 ID : 6306801744162

Option 3 ID : 6306801744165

Option 4 ID : 6306801744163

Status : Answered

Chosen Option : 4

Q.6 एक निश्चित कूट भाषा में, 'write this sentence' को 'aw pm nl' के रूप में कूटबद्ध किया जाता है और 'this is mine' को 'nl wb cd' के रूप में कूटबद्ध किया जाता है। उस कूट भाषा में 'this' को किस प्रकार कूटबद्ध किया जाता है?

Ans 1. cd

2. wb

3. nl

4. aw

Question Type : MCQ

Question ID : 630680382354

Option 1 ID : 6306801490333

Option 2 ID : 6306801490331

Option 3 ID : 6306801490332

Option 4 ID : 6306801490334

Status : Answered

Chosen Option : 3

Q.7 एक निश्चित तर्क का अनुसरण करते हुए 312, 104 से संबंधित है। उसी तर्क का अनुसरण करते हुए 363, 121 से संबंधित है। समान तर्क का अनुसरण करते हुए, 375 निम्नलिखित में से किससे संबंधित है?

(ध्यान दें: संख्याओं को उनके घटक अंकों में अलग-अलग किए बिना पूर्ण संख्याओं पर संक्रियाएं की जानी चाहिए। उदाहरण के लिए संख्या 13 - संख्या 13 पर संक्रियाएं जैसे 13 को जोड़ना/घटाना/गुणा करना आदि किया जा सकता है। 13 को 1 और 3 में अलग-अलग करने की और फिर 1 और 3 पर गणितीय संक्रियाएं करने की अनुमति नहीं है।)

- Ans
- 1. 135
 - 2. 145
 - 3. 115
 - 4. 125

Question Type : MCQ

Question ID : 630680441685

Option 1 ID : 6306801724356

Option 2 ID : 6306801724357

Option 3 ID : 6306801724354

Option 4 ID : 6306801724355

Status : Answered

Chosen Option : 4

Q.8 यदि '+' और '-' को आपस में बदल दिया जाए तथा 'x' और '÷' को आपस में बदल दिया जाए, तो निम्नलिखित समीकरण में प्रश्नवाचक चिह्न (?) के स्थान पर क्या आएगा?
 $304 \div 3 + 55 \times 5 - 2 = ?$

- Ans
- 1. 903
 - 2. 902
 - 3. 904
 - 4. 901

Question Type : MCQ

Question ID : 630680379456

Option 1 ID : 6306801478869

Option 2 ID : 6306801478868

Option 3 ID : 6306801478870

Option 4 ID : 6306801478867

Status : Answered

Chosen Option : 1

Q.9 सात व्यक्ति P, Q, R, S, T, U और V एक वृत्ताकार मेज के चारों ओर केंद्र की ओर मुख करके बैठे हैं (परंतु जरूरी नहीं कि वे इसी क्रम में बैठे हों)। S, Q के ठीक बाएँ बैठा है। V, S के बाएँ से तीसरे स्थान पर बैठा है। R, T के दाएँ से तीसरे स्थान पर बैठा है। U, R के बाएँ से दूसरे स्थान पर बैठा है। R के दाएँ से गिनती करने पर S और R के बीच में कितने व्यक्ति बैठे हैं?

Ans 1. 1

2. 0

3. 4

4. 2

Question Type : MCQ

Question ID : 630680381642

Option 1 ID : 6306801487501

Option 2 ID : 6306801487500

Option 3 ID : 6306801487499

Option 4 ID : 6306801487502

Status : Answered

Chosen Option : 4

Q.10 दी गई श्रृंखला में प्रश्नचिन्ह (?) के स्थान पर क्या आएगा?

348 350 354 360 368 ?

Ans 1. 374

2. 376

3. 372

4. 378

Question Type : MCQ

Question ID : 630680816808

Option 1 ID : 6306803206223

Option 2 ID : 6306803206224

Option 3 ID : 6306803206222

Option 4 ID : 6306803206225

Status : Answered

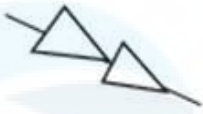
Chosen Option : 4

Q.11 उस आकृति का चयन कीजिए जो निम्नलिखित श्रृंखला में प्रश्न चिह्न (?) के स्थान पर आ सकती है।




Ans

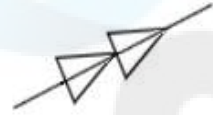
1.



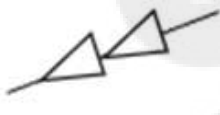
2.



3.



4.



Question Type : MCQ

Question ID : 630680468013

Option 1 ID : 6306801827955

Option 2 ID : 6306801827954

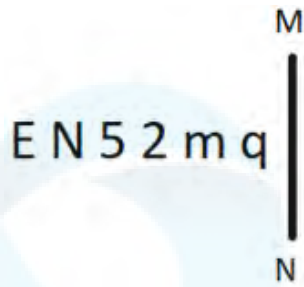
Option 3 ID : 6306801827957

Option 4 ID : 6306801827956

Status : Answered

Chosen Option : 3

Q.12 दी गई आकृति के उस सही दर्पण प्रतिबिंब को चुनिए, जो नीचे दर्शाए गए अनुसार दर्पण को MN पर रखने पर बनेगा।



Ans

1. p m 5 2 N E
 2. p m 5 2 N E
 3. p m 5 2 N E
 4. p m 5 2 N E

Question Type : MCQ

Question ID : 630680525256

Option 1 ID : 6306802053108

Option 2 ID : 6306802053111

Option 3 ID : 6306802053110

Option 4 ID : 6306802053109

Status : Answered

Chosen Option : 3

Q.13 यदि '+' और 'x' को आपस में बदल दिया जाए तथा '-' और '÷' को आपस में बदल दिया जाए, तो निम्नलिखित समीकरण में '?' के स्थान पर क्या आएगा?

$$18 \div 6 + 5 \times 14 - 7 = ?$$

Ans

1. -10
 2. -5
 3. 10
 4. 0

Question Type : MCQ

Question ID : 630680382168

Option 1 ID : 6306801489587

Option 2 ID : 6306801489590

Option 3 ID : 6306801489588

Option 4 ID : 6306801489589

Status : Answered

Chosen Option : 4

Q.14 छह मित्र A, B, C, D, E और F एक वृत्ताकार खाने की मेज के चारों ओर केंद्र की ओर मुख करके बैठे हैं (परंतु जरूरी नहीं कि वे इसी क्रम में बैठे हों)। E, F का निकटतम पड़ोसी है। B, A के बाईं ओर दूसरे स्थान पर बैठा है। D, F के ठीक दाईं ओर बैठा है। A के बाईं ओर तीसरे स्थान पर कौन बैठा है?

Ans 1. F

2. B

3. C

4. D

Question Type : MCQ

Question ID : 630680379919

Option 1 ID : 6306801480713

Option 2 ID : 6306801480712

Option 3 ID : 6306801480714

Option 4 ID : 6306801480711

Status : Answered

Chosen Option : 1

Q.15 एक निश्चित कूट भाषा में, 'COKE' को '1357' के रूप में कूटबद्ध किया जाता है और 'JOKE' को '5673' के रूप में कूटबद्ध किया जाता है। दी गई कूट भाषा में 'J' के लिए कूट क्या है?

Ans 1. 3

2. 5

3. 6

4. 7

Question Type : MCQ

Question ID : 630680386842

Option 1 ID : 6306801508080

Option 2 ID : 6306801508078

Option 3 ID : 6306801508079

Option 4 ID : 6306801508081

Status : Answered

Chosen Option : 3

Q.16 एक निश्चित कूट भाषा में, 'PURE' को '3792' के रूप में कूटबद्ध किया जाता है और 'BURP' को '9537' के रूप में कूटबद्ध किया जाता है। दी गई कूट भाषा में 'B' के लिए कूट क्या है?

Ans 1. 7

2. 5

3. 9

4. 3

Question Type : MCQ

Question ID : 630680453932

Option 1 ID : 6306801772673

Option 2 ID : 6306801772671

Option 3 ID : 6306801772674

Option 4 ID : 6306801772672

Status : Answered

Chosen Option : 2

Q.17 इस प्रश्न में दो कथन और उनके बाद दो निष्कर्ष I और II दिए गए हैं। आपको दिए गए कथनों को सत्य मानना है, भले ही वे सर्वज्ञात तथ्यों से भिन्न प्रतीत होते हों। आपको यह तय करना है कि दिए गए निष्कर्षों में से कौन-सा/से निष्कर्ष दिए गए कथनों का तार्किक रूप से अनुसरण करता है/करते हैं।

कथन:

कुछ पत्थर, आहत हैं।

कुछ पत्थर, सुंदर हैं।

निष्कर्ष:

(I) कुछ सुंदर पत्थर, आहत हैं।

(II) कुछ आहत पत्थर, सुंदर हैं।

Ans 1. न तो निष्कर्ष (I) और न ही (II) अनुसरण करता है

2. केवल निष्कर्ष (I) अनुसरण करता है

3. केवल निष्कर्ष (II) अनुसरण करता है

4. निष्कर्ष (I) और (II) दोनों अनुसरण करते हैं

Question Type : MCQ

Question ID : 630680106428

Option 1 ID : 630680413500

Option 2 ID : 630680413498

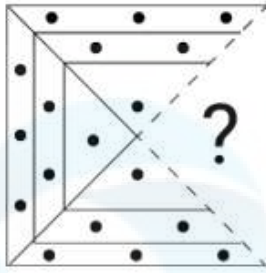
Option 3 ID : 630680413499

Option 4 ID : 630680413501

Status : Answered

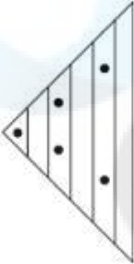
Chosen Option : 1

Q.18 उस विकल्प आकृति का चयन कीजिए जो पैटर्न को पूरा करने के लिए नीचे दी गई आकृति में प्रश्न चिह्न (?) के स्थान पर आएगी।

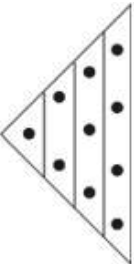


Ans

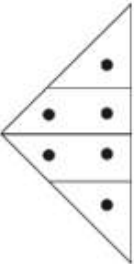
✗ 1.



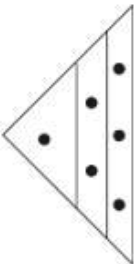
✗ 2.



✗ 3.



✓ 4.



Question Type : MCQ

Question ID : 630680524713

Option 1 ID : 6306802050954

Option 2 ID : 6306802050951

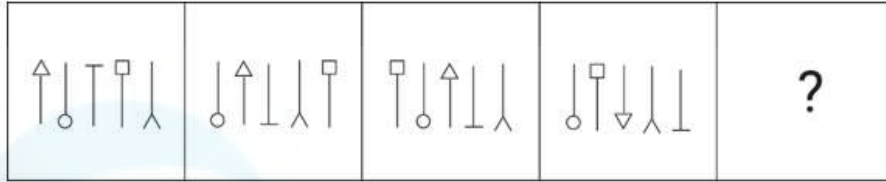
Option 3 ID : 6306802050952

Option 4 ID : 6306802050953

Status : Answered

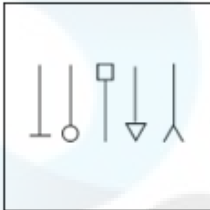
Chosen Option : 4

Q.19 दिए गए विकल्पों में से उस आकृति को चुनिए जो निम्नलिखित श्रृंखला में प्रश्न चिह्न (?) के स्थान पर आ सकती है और पैटर्न को पूरा कर सकती है।

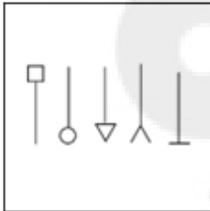


Ans

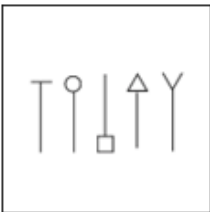
✓ 1.



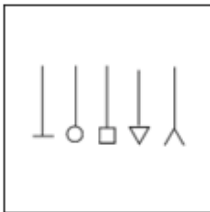
✗ 2.



✗ 3.



✗ 4.



Question Type : MCQ

Question ID : 630680441099

Option 1 ID : 6306801722050

Option 2 ID : 6306801722051

Option 3 ID : 6306801722053

Option 4 ID : 6306801722052

Status : Answered

Chosen Option : 2

Q.20 एक निश्चित कूट भाषा में, 'played the piano' को 'lo le li' के रूप में कूटबद्ध किया जाता है और 'sparkles a piano' को 'lu li la' के रूप में कूटबद्ध किया जाता है। उस भाषा में 'piano' को किस प्रकार कूटबद्ध किया गया है?

- Ans
- 1. le
 - 2. la
 - 3. li
 - 4. lu

Question Type : MCQ

Question ID : 630680528916

Option 1 ID : 6306802067655

Option 2 ID : 6306802067652

Option 3 ID : 6306802067654

Option 4 ID : 6306802067653

Status : Answered

Chosen Option : 3

Section : General Awareness

Q.1 किस महान भारतीय शास्त्रीय नर्तक/नर्तकी ने 'देवदास' और 'दिल तो पागल है' फिल्मों में माधुरी दीक्षित के लिए गानों का नृत्य निर्देशन (choreographed) किया था?

- Ans
- 1. फराह खान
 - 2. प्रभु देवा
 - 3. गणेश हेगड़े
 - 4. बिरजू महाराज

Question Type : MCQ

Question ID : 630680537031

Option 1 ID : 6306802099399

Option 2 ID : 6306802099396

Option 3 ID : 6306802099398

Option 4 ID : 6306802099397

Status : Not Answered

Chosen Option : --

Q.2 दुनिया भर में कथक नृत्य शैली को बढ़ावा देने के लिए राष्ट्रीय नृत्य शिरोमणि पुरस्कार 2019 किसे मिला?

- Ans
- 1. अनिता शर्मा (Anita Sharma)
 - 2. अपर्णा सतीसन (Aparna Satheesan)
 - 3. अनिदिता नियोगी अनाम (Anindita Neogy Anaam)
 - 4. जतिन गोस्वामी (Jatin Goswami)

Question Type : MCQ

Question ID : 630680512019

Option 1 ID : 6306802001047

Option 2 ID : 6306802001049

Option 3 ID : 6306802001048

Option 4 ID : 6306802001046

Status : Answered

Chosen Option : 4

Q.3 निम्नलिखित में से कौन-सा संचारी रोग बैक्टीरिया के कारण होता है?

- Ans 1. मलेरिया
 2. डेंगू
 3. हैज़ा
 4. इंप्लुएंजा

Question Type : MCQ

Question ID : 630680422202

Option 1 ID : 6306801647247

Option 2 ID : 6306801647245

Option 3 ID : 6306801647246

Option 4 ID : 6306801647244

Status : Answered

Chosen Option : 2

Q.4 यदि कोई नागरिक अपने क्षेत्र के स्मारकों की सुरक्षा में सरकार की सहायता कर रहा है, तो वह निम्नलिखित में से किस मौलिक कर्तव्य का पालन कर रहा है?

- Ans 1. शिक्षा प्राप्त करने के अवसर प्रदान करना
 2. उच्च विचारों को संजोना और उनका पालन करना
 3. वैज्ञानिक दृष्टिकोण को बढ़ावा देना
 4. गौरवशाली परंपरा और संस्कृति को महत्व देना और उसका परिरक्षण करना

Question Type : MCQ

Question ID : 630680587205

Option 1 ID : 6306802297354

Option 2 ID : 6306802297355

Option 3 ID : 6306802297353

Option 4 ID : 6306802297352

Status : Answered

Chosen Option : 4

Q.5 वर्ष 1506 में मध्य प्रदेश के ग्वालियर में किस प्रसिद्ध मध्यकालीन गायक का जन्म हुआ था?

- Ans 1. स्वामी हरिदास
 2. गोपाल नायक
 3. तानसेन
 4. चैतन्य देव

Question Type : MCQ

Question ID : 630680481919

Option 1 ID : 6306801882160

Option 2 ID : 6306801882163

Option 3 ID : 6306801882162

Option 4 ID : 6306801882161

Status : Answered

Chosen Option : 1

Q.6 राष्ट्रीय आय लेखांकन के संदर्भ में सकल घरेलू उत्पाद (GDP) क्या है?

- Ans 1. किसी देश की सीमाओं के अंदर किसी विशिष्ट अवधि में उत्पादित सभी वस्तुओं और सेवाओं का कुल मूल्य
2. किसी देश का कुल निर्यात
3. किसी देश की सरकार की कुल आय
4. किसी देश की कुल बचत

Question Type : MCQ

Question ID : 630680651767

Option 1 ID : 6306802551596

Option 2 ID : 6306802551598

Option 3 ID : 6306802551595

Option 4 ID : 6306802551597

Status : Answered

Chosen Option : 1

Q.7 निम्नलिखित में से कौन-सा लौह एवं इस्पात संयंत्र ओडिशा में स्थित है?

- Ans 1. विशाखापट्टनम
2. विजय नगर
3. बोकारो
4. राउरकेला

Question Type : MCQ

Question ID : 630680511102

Option 1 ID : 6306801997539

Option 2 ID : 6306801997538

Option 3 ID : 6306801997541

Option 4 ID : 6306801997540

Status : Answered

Chosen Option : 4

Q.8 अत्यधिक कुशल कांस्य मूर्तियों के निर्माण का संबंध किस भारतीय राजवंश से है?

- Ans 1. मौर्य
2. पल्लव
3. मुगल
4. चोल

Question Type : MCQ

Question ID : 630680535098

Option 1 ID : 6306802091775

Option 2 ID : 6306802091772

Option 3 ID : 6306802091774

Option 4 ID : 6306802091773

Status : Answered

Chosen Option : 2

Q.9 पानी में निलंबित ठोस पदार्थ पानी के धुंधलापन को बढ़ा सकते हैं। निम्नलिखित में से कौन-सा पानी के धुंधलापन की माप को दर्शाता है?

- Ans
- 1. घुलनशीलता (Solubility)
 - 2. मटमैलापन (Turbidity)
 - 3. खारापन (Salinity)
 - 4. श्यानता (Viscosity)

Question Type : MCQ

Question ID : 630680455452

Option 1 ID : 6306801778725

Option 2 ID : 6306801778722

Option 3 ID : 6306801778723

Option 4 ID : 6306801778724

Status : Answered

Chosen Option : 4

Q.10 अंतर्राष्ट्रीय अहिंसा दिवस _____ को मनाया जाता है।

- Ans
- 1. 26 नवंबर
 - 2. 15 अगस्त
 - 3. 26 जनवरी
 - 4. 2 अक्टूबर

Question Type : MCQ

Question ID : 630680798924

Option 1 ID : 6306803130505

Option 2 ID : 6306803130503

Option 3 ID : 6306803130504

Option 4 ID : 6306803130502

Status : Answered

Chosen Option : 4

Q.11 निम्नलिखित रासायनिक अभिक्रिया का उत्पाद क्या है?



- Ans
- 1. जिप्सम (Gypsum)
 - 2. विरंजन-चूर्ण (Bleaching powder)
 - 3. खाने का सोडा (Baking soda)
 - 4. धुलाई का सोडा (Washing soda)

Question Type : MCQ

Question ID : 630680421829

Option 1 ID : 6306801645762

Option 2 ID : 6306801645761

Option 3 ID : 6306801645759

Option 4 ID : 6306801645760

Status : Answered

Chosen Option : 4

Q.12 हाकिम मिर्जा (Hakim Mirza) की/के _____ के बाद अकबर ने काबुल पर कब्जा कर लिया और राजा मान सिंह को इसे 'जागीर (jagir)' के रूप में दे दिया।

- Ans 1. मृत्यु
 2. विवाह
 3. कब्जा
 4. विजय

Question Type : MCQ
Question ID : 630680176090
Option 1 ID : 630680682605
Option 2 ID : 630680682606
Option 3 ID : 630680682607
Option 4 ID : 630680682604
Status : Not Answered
Chosen Option : --

Q.13 भारत के किस मंत्रालय ने प्रधानमंत्री रोजगार प्रोत्साहन योजना (PMRPY) शुरू की?

- Ans 1. ग्रामीण विकास मंत्रालय
 2. वित्त मंत्रालय
 3. सामाजिक न्याय और अधिकारिता मंत्रालय
 4. श्रम एवं रोजगार मंत्रालय

Question Type : MCQ
Question ID : 630680722644
Option 1 ID : 6306802831842
Option 2 ID : 6306802831843
Option 3 ID : 6306802831841
Option 4 ID : 6306802831840
Status : Answered
Chosen Option : 4

Q.14 1917 में, महात्मा गांधी ने ब्रिटिश भारत के निम्नलिखित में से किस जिले में यूरोपीय लोगों द्वारा जबरन नील की खेती कराने के खिलाफ भारत में अपना पहला सत्याग्रह शुरू किया था?

- Ans 1. खेड़ा
 2. अहमदाबाद
 3. चंपारण
 4. बक्सर

Question Type : MCQ
Question ID : 630680306019
Option 1 ID : 6306801190432
Option 2 ID : 6306801190430
Option 3 ID : 6306801190431
Option 4 ID : 6306801190429
Status : Answered
Chosen Option : 3

Q.15 शारदा नदी (Sarda River) नेपाल हिमालय के _____ ग्लेशियर से निकलती है।

- Ans
- 1. बोखार-चू (Bokhar Chu)
 - 2. सियाचिन (Siachen)
 - 3. मिलम (Milam)
 - 4. माचोई (Machoi)

Question Type : MCQ

Question ID : 630680511003

Option 1 ID : 6306801997144

Option 2 ID : 6306801997143

Option 3 ID : 6306801997142

Option 4 ID : 6306801997145

Status : Answered

Chosen Option : 1

Q.16 किस अंग्रेजी उपन्यास के लिए रस्किन बॉन्ड को 1992 में साहित्य अकादमी पुरस्कार से सम्मानित किया गया था?

- Ans
- 1. द ब्लू अम्ब्रेला (The Blue Umbrella)
 - 2. द रूम ऑन द रूफ (The Room on the Roof)
 - 3. ए लिटिल बुक ऑफ हैपीनेस (A Little Book of Happiness)
 - 4. अवर ट्रीज स्टिल ग्रो इन देहरा (Our Trees Still Grow in Dehra)

Question Type : MCQ

Question ID : 630680512332

Option 1 ID : 6306802002300

Option 2 ID : 6306802002299

Option 3 ID : 6306802002301

Option 4 ID : 6306802002298

Status : Answered

Chosen Option : 3

Q.17 भारत में किस खेल आयोजन में राजा भालिंदर सिंह ट्रॉफी प्रदान की जाती है?

- Ans
- 1. खेले इंडिया यूथ गेम्स
 - 2. सीनियर नेशनल कबड्डी चैंपियनशिप
 - 3. एसजीएफआई गेम्स
 - 4. नेशनल गेम्स ऑफ इंडिया

Question Type : MCQ

Question ID : 630680571880

Option 1 ID : 6306802236418

Option 2 ID : 6306802236419

Option 3 ID : 6306802236417

Option 4 ID : 6306802236416

Status : Not Answered

Chosen Option : --

Q.18 0.04 सेकंड की आवर्त काल वाली तरंग की आवृत्ति (f) क्या होगी?

Ans 1. 100 Hz

2. 25 Hz

3. 50 Hz

4. 40 Hz

Question Type : MCQ

Question ID : 630680681907

Option 1 ID : 6306802670807

Option 2 ID : 6306802670804

Option 3 ID : 6306802670806

Option 4 ID : 6306802670805

Status : Answered

Chosen Option : 2

Q.19 निम्नलिखित में से कौन-सा युद्ध वर्ष 1761 में हुआ था?

Ans 1. वांडीवाश

2. बक्सर

3. पानीपत का द्वितीय युद्ध

4. पानीपत का तृतीय युद्ध

Question Type : MCQ

Question ID : 630680511609

Option 1 ID : 6306801999558

Option 2 ID : 6306801999559

Option 3 ID : 6306801999560

Option 4 ID : 6306801999561

Status : Answered

Chosen Option : 4

Q.20 जनवरी 2024 में, प्रधान मंत्री नरेंद्र मोदी ने सावित्रीबाई फुले को उनकी जयंती पर श्रद्धांजलि अर्पित की। प्रधान मंत्री मोदी द्वारा बताए गए अनुसार, सावित्रीबाई फुले ने किस क्षेत्र में महत्वपूर्ण योगदान दिया था?

Ans 1. सैन्य रणनीति एवं युद्धकला

2. राजनीति और सरकारी नेतृत्व

3. साहित्य और काव्य

4. शिक्षा एवं समाज सुधार

Question Type : MCQ

Question ID : 630680571050

Option 1 ID : 6306802233263

Option 2 ID : 6306802233260

Option 3 ID : 6306802233261

Option 4 ID : 6306802233262

Status : Answered

Chosen Option : 4

Q.21 किस वर्ष में सर्वोच्च न्यायालय के न्यायाधीश को हटाने के लिए पहले प्रस्ताव पर संसद के सदस्यों द्वारा हस्ताक्षर किए गए थे?

Ans 1. 1988

2. 1991

3. 1993

4. 1995

Question Type : MCQ

Question ID : 630680799039

Option 1 ID : 6306803130958

Option 2 ID : 6306803130959

Option 3 ID : 6306803130960

Option 4 ID : 6306803130961

Status : Not Answered

Chosen Option : --

Q.22 जून 2023 में, रिसर्च एंड एनालिसिस विंग (Research and Analysis Wing - RAW) के नए प्रमुख के रूप में किसे नियुक्त किया गया?

Ans 1. राजीव कुमार

2. रवि सिन्हा

3. अरुण कांत

4. सामंत गोयल

Question Type : MCQ

Question ID : 630680488695

Option 1 ID : 6306801908795

Option 2 ID : 6306801908796

Option 3 ID : 6306801908797

Option 4 ID : 6306801908798

Status : Answered

Chosen Option : 4

Q.23 कुषाण वंश में वेमा कडफिसेस (Vima Kadphises) का उत्तराधिकारी कौन था?

Ans 1. मिनांडर (Menander)

2. कनिष्क (Kanishka)

3. खारवेल (Kharavela)

4. कुजुला कडफिसेस (Kujula Kadphises)

Question Type : MCQ

Question ID : 630680176027

Option 1 ID : 630680682359

Option 2 ID : 630680682357

Option 3 ID : 630680682358

Option 4 ID : 630680682356

Status : Answered

Chosen Option : 2

Q.24 बांग्लादेश के किस क्षेत्र में देश के विभिन्न स्वदेशी जातीय समूहों के बीच चकमा लोग (Chakma people) मुख्य रूप से रहते हैं?

- Ans 1. चिटगांव पहाड़ी क्षेत्र (Chittagong Hill Tracts)
 2. सिलहट प्रभाग (Sylhet Division)
 3. सुंदरबन मैंग्रोव वन (Sundarbans Mangrove Forest)
 4. राजशाही प्रभाग (Rajshahi Division)

Question Type : MCQ
Question ID : 630680511216
Option 1 ID : 6306801997994
Option 2 ID : 6306801997996
Option 3 ID : 6306801997995
Option 4 ID : 6306801997997
Status : Not Answered
Chosen Option : --

Q.25 'युको (Yuko)' नामक मायनर पॉइंट्स (Minor points) निम्नलिखित में से किस खेल का हिस्सा है?

- Ans 1. स्केटिंग (Skating)
 2. मुक्केबाज़ी (Boxing)
 3. लॉन बाउल्स (Lawn bowls)
 4. जुडो (Judo)

Question Type : MCQ
Question ID : 630680459730
Option 1 ID : 6306801795761
Option 2 ID : 6306801795764
Option 3 ID : 6306801795762
Option 4 ID : 6306801795763
Status : Marked For Review
Chosen Option : 1

Section : English Language and Comprehension

Q.1 Select the most appropriate option with the correct usage of the preposition to substitute the underlined segment in the given sentence.

World Press Freedom Day will be dedicated to the importance of journalism and freedom in expression in the context of the current global environmental crisis.

- Ans 1. freedom of expression
 2. freedom from expression
 3. freedom on expression
 4. freedom at expression

Question Type : MCQ
Question ID : 630680623590
Option 1 ID : 6306802440484
Option 2 ID : 6306802440482
Option 3 ID : 6306802440483
Option 4 ID : 6306802440485
Status : Answered
Chosen Option : 2

Q.2 Select the most appropriate option that can substitute the underlined words in the given sentence.

In the beauty contest, Parul won the award for being the beautiful one.

- Ans 1. more beautiful
 2. most beautiful
 3. less beautiful
 4. least beautiful

Question Type : **MCQ**

Question ID : **630680514572**

Option 1 ID : **6306802010913**

Option 2 ID : **6306802010914**

Option 3 ID : **6306802010916**

Option 4 ID : **6306802010915**

Status : **Answered**

Chosen Option : **2**

Q.3 Select the most appropriate present tense form of the verb to fill in the blank.

They _____ football every day.

- Ans 1. had been playing
 2. play
 3. will play
 4. plays

Question Type : **MCQ**

Question ID : **63068087123**

Option 1 ID : **630680337883**

Option 2 ID : **630680337881**

Option 3 ID : **630680337884**

Option 4 ID : **630680337882**

Status : **Answered**

Chosen Option : **2**

Q.4 Select the sentence that has a grammatical error.

- Ans 1. She asked an easy question, and I took an hour to crack it.
 2. She saw an excellent episode of the series.
 3. After a tiring day, I had a cup of coffee with Sudhir.
 4. There is a man sitting beside cat.

Question Type : **MCQ**

Question ID : **630680403749**

Option 1 ID : **6306801574484**

Option 2 ID : **6306801574485**

Option 3 ID : **6306801574483**

Option 4 ID : **6306801574482**

Status : **Answered**

Chosen Option : **2**

Q.5 Select the option that can be used as a one-word substitute for the given group of words.

The allowance that is given by a husband to his wife on separation

Ans 1. Alimony

2. Affianced

3. Matrimonial

4. Dowry

Question Type : **MCQ**

Question ID : **630680435203**

Option 1 ID : **6306801698734**

Option 2 ID : **6306801698736**

Option 3 ID : **6306801698737**

Option 4 ID : **6306801698735**

Status : **Answered**

Chosen Option : 1

Q.6 Select the most appropriate option to fill in the blank.

I remember _____ when she used to wash dishes in a restaurant.

Ans 1. the business

2. the time

3. the profile

4. the area

Question Type : **MCQ**

Question ID : **630680515231**

Option 1 ID : **6306802013391**

Option 2 ID : **6306802013389**

Option 3 ID : **6306802013390**

Option 4 ID : **6306802013392**

Status : **Answered**

Chosen Option : 2

Q.7 Select the most appropriate meaning of the given idiom.

Caught in a time warp

Ans 1. To remain unchanged from a time in the past

2. To make extra effort

3. To be extremely happy

4. To avoid talking about what's important

Question Type : **MCQ**

Question ID : **630680397616**

Option 1 ID : **6306801550389**

Option 2 ID : **6306801550388**

Option 3 ID : **6306801550387**

Option 4 ID : **6306801550386**

Status : **Answered**

Chosen Option : 4

Q.8 Select the most appropriate option to fill in the blank.
The library books were long _____, their pages bearing the weight of the passage of time.

Ans 1. overdue

2. overdate

3. overdo

4. overdrew

Question Type : **MCQ**

Question ID : **630680530428**

Option 1 ID : **6306802073613**

Option 2 ID : **6306802073616**

Option 3 ID : **6306802073614**

Option 4 ID : **6306802073615**

Status : **Answered**

Chosen Option : **4**

Q.9 Select the most appropriate option to fill in the blank.

The teacher asked us to _____ our homework by tomorrow.

Ans 1. complete

2. completing

3. completes

4. completed

Question Type : **MCQ**

Question ID : **630680490349**

Option 1 ID : **6306801915312**

Option 2 ID : **6306801915313**

Option 3 ID : **6306801915314**

Option 4 ID : **6306801915311**

Status : **Answered**

Chosen Option : **1**

Q.10 The following sentence has been split into four segments. Identify the segment that contains a spelling error.

This item is in the public domain / and can be used, / copied and modified / without any restrictions.

Ans 1. copied and modified

2. and can be used,

3. This item is in the public domain

4. without any restrictions

Question Type : **MCQ**

Question ID : **630680619866**

Option 1 ID : **6306802425595**

Option 2 ID : **6306802425594**

Option 3 ID : **6306802425593**

Option 4 ID : **6306802425596**

Status : **Answered**

Chosen Option : **2**

Q.11 Select the most appropriate option to fill in the blank.
I will try to _____ because he is a good friend of mine.

- Ans
- 1. show him the door
 - 2. avoid him like the plague
 - 3. stop him in his tracks
 - 4. get him off the hook

Question Type : **MCQ**
Question ID : **630680402904**
Option 1 ID : **6306801571210**
Option 2 ID : **6306801571211**
Option 3 ID : **6306801571212**
Option 4 ID : **6306801571209**
Status : **Answered**
Chosen Option : **2**

Q.12 Select the most appropriate synonym of the word given in brackets to fill in the blank.

My teacher's _____ (stern) warning made all the students quiet and calm.

- Ans
- 1. strict
 - 2. pliant
 - 3. watchful
 - 4. biased

Question Type : **MCQ**
Question ID : **630680522078**
Option 1 ID : **6306802040640**
Option 2 ID : **6306802040642**
Option 3 ID : **6306802040643**
Option 4 ID : **6306802040641**
Status : **Answered**
Chosen Option : **3**

Q.13 Select the most appropriate synonym of the underlined word.

Samira is a lady who needs extrinsic motivation and will not work on her own.

- Ans
- 1. Outward
 - 2. Adventurous
 - 3. Intriguing
 - 4. Amicable

Question Type : **MCQ**
Question ID : **630680404063**
Option 1 ID : **6306801575738**
Option 2 ID : **6306801575739**
Option 3 ID : **6306801575741**
Option 4 ID : **6306801575740**
Status : **Answered**
Chosen Option : **2**

Q.14 Select the most appropriate option that can substitute the underlined segment in the given sentence.

Dolphins are named among the intelligent animals on earth.

- Ans
- 1. intelligentest
 - 2. more intelligent
 - 3. most intelligent
 - 4. intelligenter

Question Type : **MCQ**

Question ID : **630680514595**

Option 1 ID : **6306802011006**

Option 2 ID : **6306802011005**

Option 3 ID : **6306802011007**

Option 4 ID : **6306802011008**

Status : **Answered**

Chosen Option : **3**

Q.15 Select the most appropriate ANTONYM of the underlined word in the given sentence.
He was not able to answer as the question was ambiguous.

- Ans
- 1. Unsuitable
 - 2. Deep
 - 3. Superficial
 - 4. Clear

Question Type : **MCQ**

Question ID : **630680439401**

Option 1 ID : **6306801715405**

Option 2 ID : **6306801715404**

Option 3 ID : **6306801715407**

Option 4 ID : **6306801715406**

Status : **Answered**

Chosen Option : **4**

Q.16 Change the following sentence into positive degree.

Mercury is the smallest planet in the solar system.

- Ans
- 1. No other planet is as small as Mercury in the Solar System.
 - 2. Mercury is smaller than any other planet in the solar system.
 - 3. The most smallest planet in the solar system is mercury.
 - 4. Mercury is the smallest planet than any other one.

Question Type : **MCQ**

Question ID : **630680514642**

Option 1 ID : **6306802011195**

Option 2 ID : **6306802011196**

Option 3 ID : **6306802011194**

Option 4 ID : **6306802011193**

Status : **Answered**

Chosen Option : **3**

Q.17 Select the most appropriate option that can substitute the underlined words in the given sentence.

Thousands of people were killed by the train accident that took place last Wednesday.

- Ans
- 1. killed of
 - 2. killed from
 - 3. killed in
 - 4. killed to

Question Type : MCQ

Question ID : 630680551431

Option 1 ID : 6306802155952

Option 2 ID : 6306802155949

Option 3 ID : 6306802155950

Option 4 ID : 6306802155951

Status : Answered

Chosen Option : 3

Q.18 The bat flew silently through the night, searching for insects to eat. The bat in this context refers to _____.

- Ans
- 1. a wooden tool utilised in sports like baseball or cricket
 - 2. a mammal known for nocturnal flight and insect consumption
 - 3. a measurement unit in digital information systems
 - 4. the act of delivering a forceful strike or hit

Question Type : MCQ

Question ID : 630680517421

Option 1 ID : 6306802022080

Option 2 ID : 6306802022081

Option 3 ID : 6306802022083

Option 4 ID : 6306802022082

Status : Answered

Chosen Option : 1

Q.19 Select the INCORRECTLY spelt word.

She recieved a beautiful surprise from her partner.

- Ans
- 1. Surprise
 - 2. Beautiful
 - 3. Partner
 - 4. Received

Question Type : MCQ

Question ID : 6306801046660

Option 1 ID : 6306804108767

Option 2 ID : 6306804108765

Option 3 ID : 6306804108768

Option 4 ID : 6306804108766

Status : Answered

Chosen Option : 3

Q.20 Identify the word with a spelling error in the following sentence. Select the option that correctly rectifies the error.
She had swam the English Channel twice.

- Ans 1. swimmmed
 2. swum
 3. swim
 4. swimming

Question Type : **MCQ**

Question ID : **630680195446**

Option 1 ID : **630680758253**

Option 2 ID : **630680758256**

Option 3 ID : **630680758255**

Option 4 ID : **630680758254**

Status : **Answered**

Chosen Option : **2**

Comprehension:

In the following passage, some words have been deleted. Read the passage carefully and select the most appropriate option to fill in each blank.

Forests provide essential ecosystem services (1)_____ benefit both the environment and human society. One crucial service is carbon sequestration, as forests absorb and store large amounts of carbon dioxide, helping mitigate climate change. Additionally, forests regulate water cycles (2)_____ influencing precipitation patterns and maintaining water quality. (3)_____, forests offer recreational opportunities, cultural significance, and economic benefits through timber production and (4)_____. Thus, preserving and sustainably managing forests is imperative for maintaining these (5)_____ ecosystem services.

SubQuestion No : 21

Q.21 Select the most appropriate option to fill in blank number 1.

- Ans 1. that
 2. this
 3. than
 4. then

Question Type : **MCQ**

Question ID : **630680616441**

Option 1 ID : **6306802412424**

Option 2 ID : **6306802412423**

Option 3 ID : **6306802412425**

Option 4 ID : **6306802412426**

Status : **Answered**

Chosen Option : **1**

Comprehension:

In the following passage, some words have been deleted. Read the passage carefully and select the most appropriate option to fill in each blank.

Forests provide essential ecosystem services (1)_____ benefit both the environment and human society. One crucial service is carbon sequestration, as forests absorb and store large amounts of carbon dioxide, helping mitigate climate change. Additionally, forests regulate water cycles (2)_____ influencing precipitation patterns and maintaining water quality. (3)_____, forests offer recreational opportunities, cultural significance, and economic benefits through timber production and (4)_____. Thus, preserving and sustainably managing forests is imperative for maintaining these (5)_____ ecosystem services.

SubQuestion No : 22

Q.22 Select the most appropriate option to fill in blank number 2.

- Ans
- 1. off
 - 2. between
 - 3. about
 - 4. by

Question Type : **MCQ**

Question ID : **630680616442**

Option 1 ID : **6306802412429**

Option 2 ID : **6306802412427**

Option 3 ID : **6306802412428**

Option 4 ID : **6306802412430**

Status : **Answered**

Chosen Option : **3**

Comprehension:

In the following passage, some words have been deleted. Read the passage carefully and select the most appropriate option to fill in each blank.

Forests provide essential ecosystem services (1)_____ benefit both the environment and human society. One crucial service is carbon sequestration, as forests absorb and store large amounts of carbon dioxide, helping mitigate climate change. Additionally, forests regulate water cycles (2)_____ influencing precipitation patterns and maintaining water quality. (3)_____, forests offer recreational opportunities, cultural significance, and economic benefits through timber production and (4)_____. Thus, preserving and sustainably managing forests is imperative for maintaining these (5)_____ ecosystem services.

SubQuestion No : 23

Q.23 Select the most appropriate option to fill in blank number 3.

- Ans
- 1. Whatever
 - 2. Moreover
 - 3. Though
 - 4. As long as

Question Type : **MCQ**

Question ID : **630680616443**

Option 1 ID : **6306802412432**

Option 2 ID : **6306802412431**

Option 3 ID : **6306802412434**

Option 4 ID : **6306802412433**

Status : **Answered**

Chosen Option : **3**

Comprehension:

In the following passage, some words have been deleted. Read the passage carefully and select the most appropriate option to fill in each blank.

Forests provide essential ecosystem services (1)_____ benefit both the environment and human society. One crucial service is carbon sequestration, as forests absorb and store large amounts of carbon dioxide, helping mitigate climate change. Additionally, forests regulate water cycles (2)_____ influencing precipitation patterns and maintaining water quality. (3)_____, forests offer recreational opportunities, cultural significance, and economic benefits through timber production and (4)_____. Thus, preserving and sustainably managing forests is imperative for maintaining these (5)_____ ecosystem services.

SubQuestion No : 24

Q.24 Select the most appropriate option to fill in blank number 4.

- Ans
- 1. deforestation
 - 2. degradation
 - 3. industrialisation
 - 4. ecotourism

Question Type : **MCQ**

Question ID : **630680616444**

Option 1 ID : **6306802412435**

Option 2 ID : **6306802412438**

Option 3 ID : **6306802412436**

Option 4 ID : **6306802412437**

Status : **Answered**

Chosen Option : **3**

Comprehension:

In the following passage, some words have been deleted. Read the passage carefully and select the most appropriate option to fill in each blank.

Forests provide essential ecosystem services (1)_____ benefit both the environment and human society. One crucial service is carbon sequestration, as forests absorb and store large amounts of carbon dioxide, helping mitigate climate change. Additionally, forests regulate water cycles (2)_____ influencing precipitation patterns and maintaining water quality. (3)_____, forests offer recreational opportunities, cultural significance, and economic benefits through timber production and (4)_____. Thus, preserving and sustainably managing forests is imperative for maintaining these (5)_____ ecosystem services.

SubQuestion No : 25

Q.25 Select the most appropriate option to fill in blank number 5.

- Ans
- 1. vitality
 - 2. vital
 - 3. vitalise
 - 4. vitally

Question Type : **MCQ**

Question ID : **630680616445**

Option 1 ID : **6306802412442**

Option 2 ID : **6306802412440**

Option 3 ID : **6306802412441**

Option 4 ID : **6306802412439**

Status : **Answered**

Chosen Option : **4**