

Multi Tasking Non Technical Staff and Havaladar CBIC and CBN Examination 2024

Roll Number	
Candidate Name	
Venue Name	iON Digital Zone iDZ Unn
Exam Date	15/10/2024
Exam Time	4:00 PM - 5:30 PM
Subject	MTS Non Tech Havaladar CBIC and CBN Examination 2024

Section : Numerical and Mathematical Ability

Q.1 2 वर्षों के लिए 7% वार्षिक की ब्याज दर पर उधार ली गई राशि ₹2000 पर साधारण ब्याज (₹ में) ज्ञात कीजिए।

Ans 1. 280

2. 240

3. 320

4. 220

Question Type : MCQ

Question ID : 630680591873

Option 1 ID : 6306802315959

Option 2 ID : 6306802315962

Option 3 ID : 6306802315960

Option 4 ID : 6306802315961

Status : Answered

Chosen Option : 1

Q.2 एक व्यापारी 25 kg चावल ₹1,400 में बेचता है। एक ग्राहक 15% छूट की मांग करता है। दुकानदार इसके लिए सहमत हो जाता है लेकिन वह 1 kg के बजाय 10% कम चावल देता है। ग्राहक को मिलने वाली प्रभावी छूट क्या है (दशमलव के एक स्थान तक सही)?

Ans 1. 5.1%

2. 5.7%

3. 5.8%

4. 5.6%

Question Type : MCQ

Question ID : 630680115648

Option 1 ID : 630680447942

Option 2 ID : 630680447943

Option 3 ID : 630680447945

Option 4 ID : 630680447944

Status : Answered

Chosen Option : 1

Q.3 क्रमशः 280 m और 260 m लंबी दो रेलगाड़ियाँ समानांतर पटरियों पर एक-दूसरे की ओर चल रही हैं, एक की चाल 58 km/hr और दूसरी की चाल 50 km/hr है। उन्हें एक दूसरे को पार करने में कितना समय (सेकंड में) लगेगा?

- Ans
- 1. 15
 - 2. 17
 - 3. 12
 - 4. 18

Question Type : MCQ

Question ID : 630680603386

Option 1 ID : 6306802361019

Option 2 ID : 6306802361018

Option 3 ID : 6306802361016

Option 4 ID : 6306802361017

Status : Answered

Chosen Option : 3

Q.4 राम और गंगा की आय का अनुपात 4 : 3 है और उनके व्यय का अनुपात 3 : 2 है। यदि प्रत्येक व्यक्ति ₹2,700 बचाता है, तो क्रमशः उनका व्यय ज्ञात कीजिए।

- Ans
- 1. ₹8,000 और ₹5,400
 - 2. ₹8,100 और ₹5,400
 - 3. ₹8,100 और ₹5,000
 - 4. ₹8,000 और ₹5,000

Question Type : MCQ

Question ID : 630680565487

Option 1 ID : 6306802210908

Option 2 ID : 6306802210907

Option 3 ID : 6306802210906

Option 4 ID : 6306802210909

Status : Answered

Chosen Option : 2

Q.5 40 kg, 49 kg, 56 kg, 67 kg और 38 kg वजन के पांच सदस्यों वाले परिवार का औसत वजन (kg में) ज्ञात कीजिए।

- Ans
- 1. 52
 - 2. 49
 - 3. 51
 - 4. 50

Question Type : MCQ

Question ID : 630680551642

Option 1 ID : 6306802156796

Option 2 ID : 6306802156795

Option 3 ID : 6306802156794

Option 4 ID : 6306802156793

Status : Answered

Chosen Option : 4

Q.6 आंशिक रूप से वर्क फ्रॉम होम प्रक्रिया के एक भाग के रूप में, क्रमशः अमिता हर दूसरे दिन ऑफिस जाती थी, अमृता हर तीसरे दिन ऑफिस जाती थी, और तोसिता हर छठे दिन ऑफिस जाती थी। 31 अक्टूबर 2021 को तीनों ऑफिस गईं। वर्ष के शेष दो महीनों के दौरान ऐसे कितने दिन थे जिनमें तीनों एक ही तिथि को ऑफिस में उपस्थित हुईं?

- Ans 1. 12
 2. 11
 3. 10
 4. 9

Question Type : MCQ

Question ID : 630680104262

Option 1 ID : 630680405266

Option 2 ID : 630680405265

Option 3 ID : 630680405264

Option 4 ID : 630680405263

Status : Answered

Chosen Option : 1

Q.7 ₹312 की धनराशि को 100 लड़कों और लड़कियों के बीच इस प्रकार बांटा जाता है कि प्रत्येक लड़के को ₹3.60 और प्रत्येक लड़की को ₹2.40 मिलते हैं। लड़कियों की संख्या कितनी है?

- Ans 1. 60
 2. 35
 3. 40
 4. 65

Question Type : MCQ

Question ID : 630680277300

Option 1 ID : 6306801077650

Option 2 ID : 6306801077651

Option 3 ID : 6306801077649

Option 4 ID : 6306801077652

Status : Answered

Chosen Option : 3

Q.8 15 cm त्रिज्या के एक ठोस धातु के गोले को पिघलाया जाता है और इसे प्रत्येक 3 cm त्रिज्या की ठोस गोलाकार गेंदों में दोबारा ढाला जाता है। मूल गोले के पृष्ठीय क्षेत्रफल और सभी गेंदों के पृष्ठीय क्षेत्रफलों के योग का अनुपात ज्ञात करें।

- Ans 1. 2 : 7
 2. 1 : 5
 3. 1 : 3
 4. 3 : 8

Question Type : MCQ

Question ID : 630680526647

Option 1 ID : 6306802058655

Option 2 ID : 6306802058654

Option 3 ID : 6306802058657

Option 4 ID : 6306802058656

Status : Answered

Chosen Option : 2

Q.9 A और B के बीच हुए एक चुनाव में A को B से दोगुने मत मिलते हैं और वह 150 मतों के अंतर से जीत दर्ज करता है। यदि 10% मत अवैध थे, तो चुनाव में डाले गए मतों की कुल संख्या क्या है?

Ans 1. 550

2. 500

3. 600

4. 450

Question Type : MCQ

Question ID : 630680464523

Option 1 ID : 6306801814129

Option 2 ID : 6306801814127

Option 3 ID : 6306801814128

Option 4 ID : 6306801814130

Status : Answered

Chosen Option : 4

Q.10 14 cm भुजा वाले एक समबाहु त्रिभुज का क्षेत्रफल ज्ञात कीजिए।

Ans 1. $36\sqrt{3}\text{cm}^2$

2. $46\sqrt{3}\text{cm}^2$

3. $44\sqrt{3}\text{cm}^2$

4. $49\sqrt{3}\text{cm}^2$

Question Type : MCQ

Question ID : 630680103507

Option 1 ID : 630680402271

Option 2 ID : 630680402273

Option 3 ID : 630680402272

Option 4 ID : 630680402274

Status : Answered

Chosen Option : 3

Q.11 एक छात्र के अंतिम ग्रेड (final grade) उसके अंतिम परीक्षा स्कोर (60% भारित) और अंतिम प्रोजेक्ट स्कोर (40% भारित) द्वारा निर्धारित (determined) किए जाते हैं। यदि छात्र अंतिम परीक्षा में 75 और प्रोजेक्ट में 90 अंक प्राप्त करता है, तो छात्र का अंतिम ग्रेड कितना है?

Ans 1. 82.5

2. 81.5

3. 81

4. 82

Question Type : MCQ

Question ID : 630680481526

Option 1 ID : 6306801880599

Option 2 ID : 6306801880597

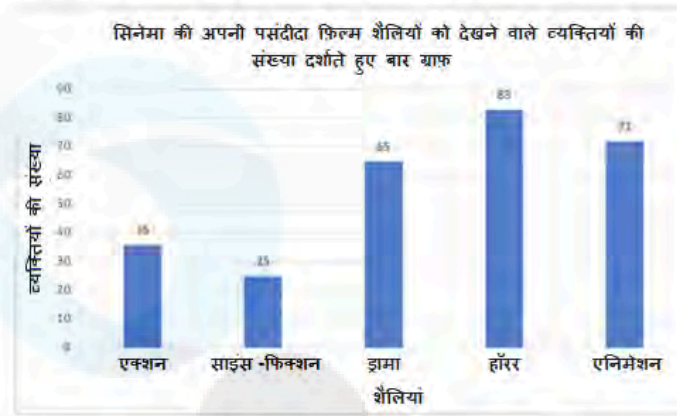
Option 3 ID : 6306801880596

Option 4 ID : 6306801880598

Status : Answered

Chosen Option : 1

Q.12 नीचे दिए गए बार ग्राफ में अपनी पसंदीदा शैलियों की फिल्मों देखने वाले व्यक्तियों की संख्या दर्शाई गई है।



एक्शन, साइंस-फिक्शन और एनिमेशन फिल्मों देखने वाले व्यक्तियों की संख्या, ड्रामा और हॉरर फिल्मों देखने वाले व्यक्तियों की संख्या का कितना प्रतिशत (निकटतम पूर्णांक तक पूर्णांकित) है?

- Ans
- 1. 87%
 - 2. 89%
 - 3. 93%
 - 4. 90%

Question Type : MCQ

Question ID : 630680523716

Option 1 ID : 6306802047018

Option 2 ID : 6306802047016

Option 3 ID : 6306802047017

Option 4 ID : 6306802047015

Status : Answered

Chosen Option : 2

Q.13 दो बेलनों की आधार त्रिज्याओं का अनुपात 5 : 6 है और उनकी संगत ऊंचाईयों का अनुपात 49 : 36 है। उनके आयतनों का अनुपात ज्ञात कीजिए।

- Ans
- ✓ 1. $\frac{1225}{1296}$
- ✗ 2. $\frac{1220}{1296}$
- ✗ 3. $\frac{1230}{1296}$
- ✗ 4. $\frac{1235}{1296}$

Question Type : MCQ

Question ID : 630680386151

Option 1 ID : 6306801505315

Option 2 ID : 6306801505314

Option 3 ID : 6306801505316

Option 4 ID : 6306801505317

Status : Answered

Chosen Option : 1

Q.14 एक पुलिसकर्मी एक चोर को 300 m की दूरी से देखता है। पुलिसकर्मी 10 km/h की चाल से चोर का पीछा करता है और चोर 11 km/h की चाल से भाग रहा होता है, तो 12 मिनट के बाद उनके बीच की दूरी क्या हो जाएगी?

- Ans
- ✗ 1. 250 m
- ✗ 2. 200 m
- ✗ 3. 100 m
- ✓ 4. 500 m

Question Type : MCQ

Question ID : 630680135790

Option 1 ID : 630680525880

Option 2 ID : 630680525879

Option 3 ID : 630680525878

Option 4 ID : 630680525881

Status : Answered

Chosen Option : 3

Q.15 एक वस्तु का अंकित मूल्य ₹1,500 है और इसे 19% की छूट पर बेचा जाता है। यदि 8% का लाभ हुआ, तो वस्तु पर क्रय मूल्य से कितने प्रतिशत अधिक मूल्य अंकित किया गया?

Ans

1. $29\frac{1}{3}\%$

2. $31\frac{1}{3}\%$

3. $33\frac{1}{3}\%$

4. $36\frac{1}{3}\%$

Question Type : MCQ

Question ID : 630680422107

Option 1 ID : 6306801646863

Option 2 ID : 6306801646864

Option 3 ID : 6306801646865

Option 4 ID : 6306801646866

Status : Answered

Chosen Option : 3

Q.16 5 वर्षों के लिए 4% प्रति वर्ष की ब्याज दर पर उधार ली गई राशि ₹4000 पर साधारण ब्याज (₹ में) ज्ञात कीजिए।

Ans 1. 840

2. 800

3. 740

4. 760

Question Type : MCQ

Question ID : 630680592001

Option 1 ID : 6306802316472

Option 2 ID : 6306802316471

Option 3 ID : 6306802316473

Option 4 ID : 6306802316474

Status : Answered

Chosen Option : 2

Q.17 दी गई तालिका का अध्ययन कीजिए और निम्नलिखित प्रश्न का उत्तर दीजिए।

दी गई तालिका पिछले कुछ वर्षों में एक कंपनी द्वारा बेची गई विभिन्न प्रकार की बैटरियों की संख्या (लाख में) को दर्शाती है।

वर्ष	बैटरियों के प्रकार			
	7AH	32AH	35AH	55AH
2010	75	112	110	90
2011	82	100	130	120
2012	60	135	128	145
2013	85	165	112	162

वर्ष 2013 में बेची गई सभी प्रकार की बैटरियों की कुल संख्या, वर्ष 2011 में बेची गई सभी प्रकार की बैटरियों की कुल संख्या से कितने प्रतिशत अधिक या कम (निकटतम पूर्णांक तक पूर्णांकित) है?

- Ans
- 1. 21% अधिक
 - 2. 24% अधिक
 - 3. 21% कम
 - 4. 24% कम

Question Type : MCQ

Question ID : 630680523748

Option 1 ID : 6306802047143

Option 2 ID : 6306802047145

Option 3 ID : 6306802047144

Option 4 ID : 6306802047146

Status : Answered

Chosen Option : 1

Q.18 ₹3,500 पर 5 वर्षों के लिए 15% वार्षिक दर से साधारण ब्याज ज्ञात कीजिए।

- Ans
- 1. ₹2,650
 - 2. ₹2,700
 - 3. ₹2,675
 - 4. ₹2,625

Question Type : MCQ

Question ID : 630680426372

Option 1 ID : 6306801663582

Option 2 ID : 6306801663584

Option 3 ID : 6306801663583

Option 4 ID : 6306801663581

Status : Answered

Chosen Option : 4

Q.19 नौ क्रमागत पूर्णांकों का औसत 54 है। इनमें से दूसरी सबसे बड़ी संख्या ज्ञात कीजिए।

- Ans
- 1. 58
 - 2. 59
 - 3. 57
 - 4. 50

Question Type : MCQ

Question ID : 630680815872

Option 1 ID : 6306803196823

Option 2 ID : 6306803196824

Option 3 ID : 6306803196822

Option 4 ID : 6306803196821

Status : Answered

Chosen Option : 2

Q.20 रमन ने ₹2,400 की कीमत पर एक इस्तरी (ऑयरन) खरीदी और इसे 8% की हानि पर रोहन को बेच दिया। रोहन ने इसे 12.5% लाभ पर सोहम को बेच दिया। 15% लाभ प्राप्त करने के लिए सोहम को इस्तरी किस कीमत पर बेचनी चाहिए?

- Ans
- 1. ₹2,856.60
 - 2. ₹2,568.60
 - 3. ₹2,658.60
 - 4. ₹2,860.56

Question Type : MCQ

Question ID : 630680460208

Option 1 ID : 6306801797280

Option 2 ID : 6306801797278

Option 3 ID : 6306801797279

Option 4 ID : 6306801797281

Status : Answered

Chosen Option : 2

Section : Reasoning Ability and Problem Solving

Q.1 एक निश्चित कूट भाषा में 'CORNER' को 'REORNC' के रूप में और 'BUDGET' को 'TEUDGB' के रूप में लिखा जाता है। उस भाषा में 'DEVICE' कैसे लिखा जाएगा?

- Ans
- 1. ECIVED
 - 2. EDEVIC
 - 3. EVECID
 - 4. ECEVID

Question Type : MCQ

Question ID : 630680379925

Option 1 ID : 6306801480736

Option 2 ID : 6306801480735

Option 3 ID : 6306801480738

Option 4 ID : 6306801480737

Status : Answered

Chosen Option : 4

Q.2 यदि '+' और '-' को आपस में बदल दिया जाए तथा 'x' और '÷' को आपस में बदल दिया जाए, तो निम्नलिखित समीकरण में '?' के स्थान पर क्या आएगा, ?

$$16 \div 8 + 13 + 36 \times 18 - 3 = ?$$

Ans 1. 116

2. 100

3. 96

4. 98

Question Type : MCQ

Question ID : 630680399416

Option 1 ID : 6306801557576

Option 2 ID : 6306801557575

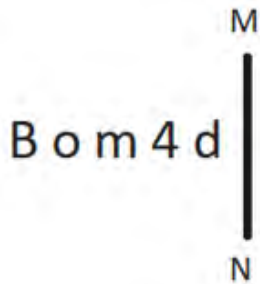
Option 3 ID : 6306801557578

Option 4 ID : 6306801557577

Status : Answered

Chosen Option : 1

Q.3 दी गई आकृति के उस सही दर्पण प्रतिबिंब को चुनिए, जो नीचे दर्शाए गए अनुसार दर्पण को MN पर रखने पर बनेगा।



Ans 1. b 4 m o B

2. b 4 m o B

3. 4 d m o B

4. d m 4 o B

Question Type : MCQ

Question ID : 630680525271

Option 1 ID : 6306802053168

Option 2 ID : 6306802053169


Option 3 ID : 6306802053170

Option 4 ID : 6306802053171

Status : Answered

Chosen Option : 2


Q.4 उस विकल्प आकृति का चयन कीजिए, जिसमें दी गई आकृति (X) उसके भाग के रूप में सन्निहित है (घुमाने की अनुमति नहीं है)।



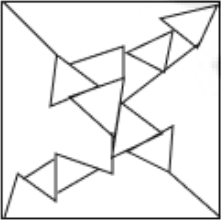
(X)

Ans

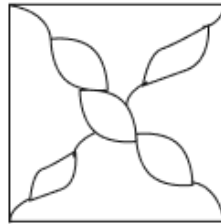
✗ 1.



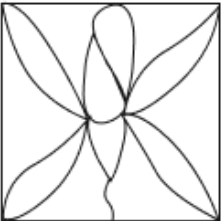
✗ 2.



✓ 3.



✗ 4.



Question Type : MCQ

Question ID : 630680487592

Option 1 ID : 6306801904475

Option 2 ID : 6306801904476

Option 3 ID : 6306801904477

Option 4 ID : 6306801904474

Status : Answered

Chosen Option : 3

Q.5 अंग्रेजी वर्णमाला क्रम के आधार पर दी गई श्रृंखला में प्रश्न चिह्न (?) के स्थान पर क्या आना चाहिए?

BDG, EGJ, HJM, KMP, ?

Ans 1. PSN

2. NSP

3. NPS

4. PNS

Question Type : **MCQ**

Question ID : **630680457104**

Option 1 ID : **6306801785355**

Option 2 ID : **6306801785354**

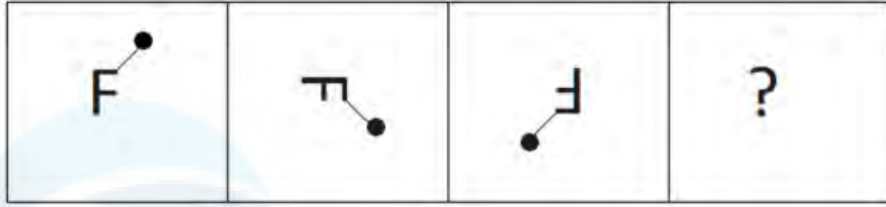
Option 3 ID : **6306801785353**

Option 4 ID : **6306801785356**

Status : **Answered**

Chosen Option : **3**

Q.6 उस आकृति का चयन कीजिए, जो निम्नलिखित आकृति श्रृंखला में आगे आएगी।

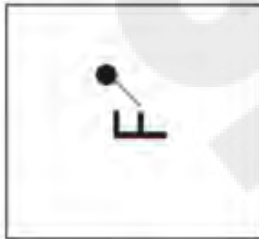


Ans

✗ 1.



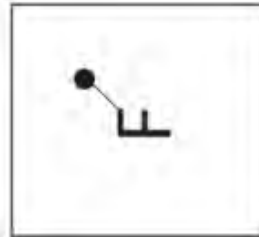
✗ 2.



✗ 3.



✓ 4.



Question Type : MCQ

Question ID : 630680467991

Option 1 ID : 6306801827869

Option 2 ID : 6306801827867

Option 3 ID : 6306801827866

Option 4 ID : 6306801827868

Status : Answered

Chosen Option : 4

Q.7 3 एक निश्चित तर्क का अनुसरण करते हुए 8 से संबंधित है। 24 उसी तर्क का अनुसरण करते हुए 35 से संबंधित है। उसी तर्क का अनुसरण करते हुए, 99 निम्नलिखित में से किससे संबंधित है?
(ध्यान दें: संख्याओं को उनके घटक अंकों में अलग-अलग किए बिना पूर्ण संख्याओं पर संक्रियाएं की जानी चाहिए। उदाहरण के लिए संख्या 13 - संख्या 13 पर संक्रियाएं जैसे 13 को जोड़ना/घटाना/गुणा करना आदि किया जा सकता है। 13 को 1 और 3 में अलग-अलग करने की और फिर 1 और 3 पर गणितीय संक्रियाएं करने की अनुमति नहीं है।)

Ans 1. 120

2. 80

3. 143

4. 110

Question Type : MCQ

Question ID : 630680449983

Option 1 ID : 6306801757095

Option 2 ID : 6306801757094

Option 3 ID : 6306801757097

Option 4 ID : 6306801757096

Status : Answered

Chosen Option : 3

Q.8 किसी कूट भाषा में, 'FORK' को 'GLWD' के रूप में कूटबद्ध किया जाता है और 'CAVF' को 'DXAY' के रूप में कूटबद्ध किया जाता है। उसी भाषा में 'TRHA' को किस प्रकार कूटबद्ध किया जाएगा?

Ans 1. UOPR

2. UNMS

3. UOMT

4. UONQ

Question Type : MCQ

Question ID : 630680465305

Option 1 ID : 6306801817258

Option 2 ID : 6306801817255

Option 3 ID : 6306801817257

Option 4 ID : 6306801817256

Status : Answered

Chosen Option : 3

Q.9 एक निश्चित कूट भाषा में, 'car drive steady' को 'mi ku pa' के रूप में कूटबद्ध किया जाता है और 'steady is safe' को 'tu an mi' के रूप में कूटबद्ध किया जाता है। दी गई भाषा में 'steady' को किस प्रकार कूटबद्ध किया गया है?

Ans 1. ku

2. mi

3. tu

4. an

Question Type : MCQ

Question ID : 630680378941

Option 1 ID : 6306801476812

Option 2 ID : 6306801476811

Option 3 ID : 6306801476813

Option 4 ID : 6306801476814

Status : Answered

Chosen Option : 2

Q.10 दिए गए कथनों और निष्कर्षों को ध्यानपूर्वक पढ़िए। यह मानते हुए कि कथनों में दी गई जानकारी सत्य है, चाहे वह सामान्यतः ज्ञात तथ्यों से भिन्न प्रतीत होती हो और निर्णय लीजिए कि दिए गए निष्कर्षों में से कौन-सा/कौन-से निष्कर्ष कथनों का तार्किक रूप से अनुसरण करता है/करते हैं।

कथन:

- सभी पेन, मार्कर हैं।
- कुछ इरेज़र, पेन हैं।

निष्कर्ष:

- (I) कुछ मार्कर, इरेज़र हैं।
(II) सभी मार्कर, पेन हैं।

- Ans
- 1. निष्कर्ष (I) और (II) दोनों अनुसरण करते हैं।
 - 2. न तो निष्कर्ष (I) और न ही (II) अनुसरण करता है।
 - 3. केवल निष्कर्ष (I) अनुसरण करता है।
 - 4. केवल निष्कर्ष (II) अनुसरण करता है।

Question Type : MCQ

Question ID : 630680404883

Option 1 ID : 6306801579026

Option 2 ID : 6306801579025

Option 3 ID : 6306801579024

Option 4 ID : 6306801579023

Status : Answered

Chosen Option : 3

Q.11 दी गई श्रृंखला में प्रश्नवाचक चिह्न (?) के स्थान पर क्या आना चाहिए?

2, 3, 6, 12, 10, 21, 14, ?

- Ans
- 1. 25
 - 2. 30
 - 3. 29
 - 4. 27

Question Type : MCQ

Question ID : 630680405871

Option 1 ID : 6306801582614

Option 2 ID : 6306801582612

Option 3 ID : 6306801582613

Option 4 ID : 6306801582615

Status : Answered

Chosen Option : 2

Q.12 सात मित्र, A, B, C, D, E, F और G, एक वृत्ताकार मेज के चारों ओर केंद्र की ओर मुख करके बैठे हैं (परंतु जरूरी नहीं कि वे इसी क्रम में बैठे हों)। A और F दोनों का निकटतम पड़ोसी D है। B, F के ठीक दाएं बैठा है। C, A के बाएं से दूसरे स्थान पर बैठा है। G और E दोनों C के निकटतम पड़ोसी हैं और G, A का निकटतम पड़ोसी नहीं है।
B और D दोनों का निकटतम पड़ोसी कौन है?

- Ans 1. A
 2. F
 3. C
 4. G

Question Type : MCQ

Question ID : 630680381526

Option 1 ID : 6306801487037

Option 2 ID : 6306801487035

Option 3 ID : 6306801487038

Option 4 ID : 6306801487036

Status : Answered

Chosen Option : 1

Q.13 CJ16, EL26 से एक निश्चित प्रकार से संबंधित है। उसी प्रकार, MT42, OV52 से संबंधित है। समान तर्क का अनुसरण करते हुए HO11 निम्नलिखित में से किससे संबंधित है?

- Ans 1. JQ21
 2. JK21
 3. KS31
 4. JQ31

Question Type : MCQ

Question ID : 630680438839

Option 1 ID : 6306801713168

Option 2 ID : 6306801713169

Option 3 ID : 6306801713170

Option 4 ID : 6306801713171

Status : Answered

Chosen Option : 1

Q.14 दिए गए कथनों और निष्कर्षों को ध्यानपूर्वक पढ़िए। यह मानते हुए कि कथनों में दी गई जानकारी सत्य है, चाहे वह सामान्यतः ज्ञात तथ्यों से भिन्न प्रतीत होती हो और निर्णय लीजिए कि दिए गए निष्कर्षों में से कौन-सा/कौन-से निष्कर्ष कथनों का तार्किक रूप से अनुसरण करता है/करते हैं।

कथन:

कुछ बांसुरियां, वायलिन हैं।

कुछ वायलिन, तबले हैं।

सभी तबले, सितार हैं।

निष्कर्ष:

(I) कुछ वायलिन, सितार हैं।

(II) कुछ बांसुरियां, तबले हैं।

- Ans
- 1. निष्कर्ष (I) और निष्कर्ष (II) दोनों अनुसरण करते हैं
 - 2. केवल निष्कर्ष (I) अनुसरण करता है
 - 3. न तो निष्कर्ष (I) और न ही निष्कर्ष (II) अनुसरण करता है
 - 4. केवल निष्कर्ष (II) अनुसरण करता है

Question Type : MCQ

Question ID : 630680387101

Option 1 ID : 6306801509117

Option 2 ID : 6306801509114

Option 3 ID : 6306801509116

Option 4 ID : 6306801509115

Status : Answered

Chosen Option : 2

Q.15 यदि '+' और '-' को आपस में बदल दिया जाए तथा '×' और '÷' को आपस में बदल दिया जाए, तो निम्नलिखित समीकरण में '?' के स्थान पर क्या आएगा?
 $35 \times 7 \div 6 + 3 - 14 = ?$

- Ans
- 1. 35
 - 2. 39
 - 3. 41
 - 4. 42

Question Type : MCQ

Question ID : 630680271474

Option 1 ID : 6306801054969

Option 2 ID : 6306801054968

Option 3 ID : 6306801054971

Option 4 ID : 6306801054970

Status : Answered

Chosen Option : 3

Q.16 एक निश्चित कूट भाषा में, 'pen pencil eraser' को 'pq rq lq' लिखा जाता है और 'pages book eraser' को 'rq mq bq' लिखा जाता है। उस कूट भाषा में 'eraser' को कैसे लिखा जाएगा?

Ans 1. rq

2. pq

3. lq

4. bq

Question Type : MCQ

Question ID : 630680439092

Option 1 ID : 6306801714180

Option 2 ID : 6306801714181

Option 3 ID : 6306801714182

Option 4 ID : 6306801714183

Status : Answered

Chosen Option : 1

Q.17 A, B, C, D, E, F और G एक वृत्ताकार मेज के चारों ओर केंद्र की ओर मुख करके बैठे हैं (परंतु जरूरी नहीं कि वे इसी क्रम में बैठे हों)। D, E के बाईं ओर तीसरे स्थान पर बैठा है। G, B के बाईं ओर दूसरे स्थान पर बैठा है। F और G के बीच में केवल E बैठा है। A, D का निकटतम पड़ोसी नहीं है। C के दाईं ओर चौथे स्थान पर कौन बैठा है?

Ans 1. D

2. E

3. B

4. A

Question Type : MCQ

Question ID : 630680411166

Option 1 ID : 6306801603422

Option 2 ID : 6306801603423

Option 3 ID : 6306801603421

Option 4 ID : 6306801603420

Status : Answered

Chosen Option : 2

Q.18 निम्नलिखित संख्या-युग्मों में, पहली संख्या पर निश्चित गणितीय संक्रियाएं करके दूसरी संख्या प्राप्त की जाती है। उस समुच्चय का चयन कीजिए, जिसमें संख्याएं ठीक उसी प्रकार संबंधित हैं, जिस प्रकार निम्नलिखित समुच्चयों की संख्याएं संबंधित हैं।

(ध्यान दें: संख्याओं को उनके घटक अंकों में अलग-अलग किए बिना पूर्ण संख्याओं पर संक्रियाएं की जानी चाहिए। उदाहरण के लिए संख्या 13 - संख्या 13 पर संक्रियाएं जैसे 13 को जोड़ना/घटाना/गुणा करना आदि किया जा सकता है। 13 को 1 और 3 में अलग-अलग करने की और फिर 1 और 3 पर गणितीय संक्रियाएं करने की अनुमति नहीं है।)

22, 31
26, 35

- Ans 1. 38, 47
 2. 32, 49
 3. 44, 59
 4. 48, 52

Question Type : MCQ

Question ID : 630680399137

Option 1 ID : 6306801556507

Option 2 ID : 6306801556506

Option 3 ID : 6306801556508

Option 4 ID : 6306801556509

Status : Answered

Chosen Option : 1

Q.19 अंग्रेजी वर्णमाला क्रम के आधार पर JMGI एक निश्चित प्रकार से QTNP से संबंधित है। ठीक उसी प्रकार GJDF, NQKM से संबंधित है। उसी तर्क का पालन करते हुए, DGAC निम्नलिखित में से किससे संबंधित है?

- Ans 1. NKJH
 2. NKHJ
 3. KNHJ
 4. KNJH

Question Type : MCQ

Question ID : 630680846764

Option 1 ID : 6306803316787

Option 2 ID : 6306803316786

Option 3 ID : 6306803316784

Option 4 ID : 6306803316785

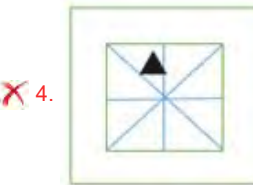
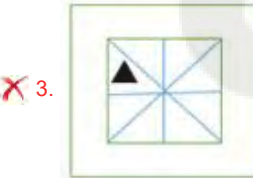
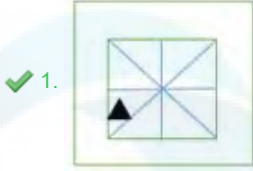
Status : Answered

Chosen Option : 3

Q.20 दिए गए विकल्पों में से उस आकृति का चयन कीजिए जो निम्नलिखित श्रृंखला में प्रश्न चिह्न (?) को प्रतिस्थापित कर सकती है।



Ans



Question Type : MCQ

Question ID : 63068082590

Option 1 ID : 630680320364

Option 2 ID : 630680320365

Option 3 ID : 630680320366

Option 4 ID : 630680320367

Status : Answered

Chosen Option : 1

Section : General Awareness

Q.1 तिब्बत में किस नदी को 'लांगचेन खंबाब (Langchen Khambab)' के नाम से जाना जाता है?

Ans ✗ 1. तीस्ता

✓ 2. सतलुज

✗ 3. सिंधु

✗ 4. कोसी

Question Type : MCQ

Question ID : 630680511002

Option 1 ID : 6306801997140

Option 2 ID : 6306801997138

Option 3 ID : 6306801997139

Option 4 ID : 6306801997141

Status : Not Answered

Chosen Option : --

Q.2 पुरुष विश्व कप क्रिकेट (Men's World Cup cricket) - 2019 में सबसे अधिक रन बनाने वाला खिलाड़ी कौन था?

- Ans
- 1. डी.ए. वार्नर
 - 2. शिखर धवन
 - 3. विराट कोहली
 - 4. रोहित शर्मा

Question Type : MCQ

Question ID : 630680115881

Option 1 ID : 630680448857

Option 2 ID : 630680448856

Option 3 ID : 630680448854

Option 4 ID : 630680448855

Status : Answered

Chosen Option : 3

Q.3 बौद्ध वास्तुकला के संदर्भ में निम्नलिखित में से कौन-सा/कौन-से कथन सही है/हैं?

- i. उद्देशिका स्तूप (Uddeshika stupa) एक स्मारक के रूप में बनाया गया था।
- ii. परिभोगिका स्तूप (Paribhogika stupa) में बुद्ध के दफन किए गए शारीरिक अवशेष थे।
- iii. भरत स्तूप (Bharhut stupa) उत्तर प्रदेश में स्थित है।

- Ans
- 1. केवल i और iii
 - 2. केवल i और ii
 - 3. i, ii और iii
 - 4. केवल i

Question Type : MCQ

Question ID : 630680547291

Option 1 ID : 6306802139729

Option 2 ID : 6306802139728

Option 3 ID : 6306802139730

Option 4 ID : 6306802139727

Status : Not Answered

Chosen Option : --

Q.4 बाल गंगाधर ने _____ को भारत का हीरा कहकर वर्णित किया है।

- Ans
- 1. बाबा साहेब अम्बेडकर
 - 2. महात्मा गांधी
 - 3. गोपाल कृष्ण गोखले
 - 4. मोतीलाल नेहरू

Question Type : MCQ

Question ID : 630680275920

Option 1 ID : 6306801072193

Option 2 ID : 6306801072192

Option 3 ID : 6306801072191

Option 4 ID : 6306801072194

Status : Answered

Chosen Option : 3

Q.5 1527 ईस्वी (CE) में खानवा के युद्ध में बाबर ने निम्नलिखित में से किसे हराया था?

- Ans 1. राणा सांगा
 2. मेदिनी राय
 3. इब्राहिम लोदी
 4. हसन खान

Question Type : **MCQ**
Question ID : **630680214217**
Option 1 ID : **630680830918**
Option 2 ID : **630680830916**
Option 3 ID : **630680830915**
Option 4 ID : **630680830917**
Status : **Answered**
Chosen Option : 1

Q.6 वर्ष 2019-2020 में शहरी भारत में निम्नलिखित में से किस क्षेत्र में कार्यबल (workforce) का प्रतिशत सबसे अधिक था?

- Ans 1. कृषि (Agriculture)
 2. सेवा (Service)
 3. खनन (Mining)
 4. उद्योग (Industry)

Question Type : **MCQ**
Question ID : **630680510909**
Option 1 ID : **6306801996766**
Option 2 ID : **6306801996769**
Option 3 ID : **6306801996768**
Option 4 ID : **6306801996767**
Status : **Answered**
Chosen Option : 2

Q.7 वर्ष 2023 में महिला प्रीमियर लीग (Women's Premier League - WPL) के पहले संस्करण का उद्घाटन मैच कहाँ आयोजित किया गया था?

- Ans 1. गुजरात
 2. बेंगलुरु
 3. धर्मशाला
 4. मुंबई

Question Type : **MCQ**
Question ID : **630680572116**
Option 1 ID : **6306802237321**
Option 2 ID : **6306802237323**
Option 3 ID : **6306802237322**
Option 4 ID : **6306802237320**
Status : **Answered**
Chosen Option : 1

Q.8 9 gm जल में उपस्थित जल के अणुओं की लगभग संख्या _____ होती है।

Ans 1. 3.011×10^{23}

2. 6.022×10^{23}

3. 6.022×10^{22}

4. 9.023×10^{23}

Question Type : MCQ

Question ID : 630680426397

Option 1 ID : 6306801663678

Option 2 ID : 6306801663677

Option 3 ID : 6306801663680

Option 4 ID : 6306801663679

Status : Not Answered

Chosen Option : --

Q.9 2016 में, उदित नारायण को निम्नलिखित में से किस क्षेत्र में पद्म भूषण से सम्मानित किया गया था?

Ans 1. कला - रंगमंच (Art - Theatre)

2. लोक कार्य (Public Affairs)

3. कला - पार्श्व गायन (Art - Playback Singing)

4. कला - शास्त्रीय नृत्य (Art - Classical Dance)

Question Type : MCQ

Question ID : 630680487618

Option 1 ID : 6306801904545

Option 2 ID : 6306801904544

Option 3 ID : 6306801904542

Option 4 ID : 6306801904543

Status : Not Answered

Chosen Option : --

Q.10 संविधान का कौन-सा अनुच्छेद मंत्रिपरिषद (Council of Ministers) को राज्यपाल की सहायता करने और सलाह देने का निर्देश देता है?

Ans 1. अनुच्छेद 153

2. अनुच्छेद 157

3. अनुच्छेद 167

4. अनुच्छेद 163

Question Type : MCQ

Question ID : 630680162980

Option 1 ID : 630680631148

Option 2 ID : 630680631149

Option 3 ID : 630680631151

Option 4 ID : 630680631150

Status : Answered

Chosen Option : 3

Q.11 के कल्याणसुंदरम पिल्लई को निम्नलिखित में से किस नृत्य शैली में उनके योगदान के लिए 1999 में संगीत नाटक अकादमी पुरस्कार से सम्मानित किया गया था?

- Ans
- 1. कुचिपुड़ी
 - 2. मोहिनीअट्टम
 - 3. भरतनाट्यम
 - 4. मणिपुरी

Question Type : MCQ

Question ID : 630680483940

Option 1 ID : 6306801890122

Option 2 ID : 6306801890124

Option 3 ID : 6306801890123

Option 4 ID : 6306801890125

Status : Answered

Chosen Option : 1

Q.12 यदि किसी भारतीय नागरिक को उसकी जाति के कारण सार्वजनिक स्थान पर प्रवेश से वंचित कर दिया जाता है, तो उसे निम्नलिखित में से किस मौलिक अधिकार से वंचित किया जाता है?

- Ans
- 1. सांस्कृतिक और शैक्षिक अधिकार
 - 2. शोषण के विरुद्ध अधिकार
 - 3. समानता के अधिकार
 - 4. संवैधानिक उपचार के अधिकार

Question Type : MCQ

Question ID : 630680273061

Option 1 ID : 6306801060797

Option 2 ID : 6306801060795

Option 3 ID : 6306801060796

Option 4 ID : 6306801060798

Status : Answered

Chosen Option : 4

Q.13 गॉल्जी सम्मिश्र (Golgi complex) के आस-पास के कोशिका द्रव्य प्रक्षेत्र (cytoplasmic zone) में कोई कोशिका अंगक नहीं होता है। कोशिका द्रव्य से रिक्त इस प्रक्षेत्र को क्या कहा जाता है?

- Ans
- 1. साइटोक्रोम (cytochrome)
 - 2. कोशिकाविलेय (cytosol)
 - 3. अपवर्जन का क्षेत्र (zone of exclusion)
 - 4. साइटोसिन (cytosine)

Question Type : MCQ

Question ID : 630680311126

Option 1 ID : 6306801210620

Option 2 ID : 6306801210618

Option 3 ID : 6306801210617

Option 4 ID : 6306801210619

Status : Answered

Chosen Option : 2

Q.14 निम्नलिखित में से कौन 1885 में भारतीय राष्ट्रीय कांग्रेस के संस्थापकों में से एक था?

- Ans 1. एलन ऑक्टैवियन ह्यूम (Allan Octavian Hume)
 2. चार्ल्स फ्रीर एंड्रयूज़ (Charles Freer Andrews)
 3. महात्मा गांधी (Mahatma Gandhi)
 4. एनी बेसेंट (Annie Besant)

Question Type : MCQ

Question ID : 630680210813

Option 1 ID : 630680817411

Option 2 ID : 630680817414

Option 3 ID : 630680817413

Option 4 ID : 630680817412

Status : Answered

Chosen Option : 1

Q.15 खान और खनिज (विकास और विनियमन) संशोधन विधेयक, 2023 के सुधारों के अनुसार, कितने खनिजों को परमाणु खनिजों की सूची से हटा दिया गया है?

- Ans 1. 8
 2. 6
 3. 11
 4. 3

Question Type : MCQ

Question ID : 630680465515

Option 1 ID : 6306801818097

Option 2 ID : 6306801818096

Option 3 ID : 6306801818098

Option 4 ID : 6306801818095

Status : Not Answered

Chosen Option : --

Q.16 राष्ट्रीय प्रोफिलैक्सिस कार्यक्रम (National Prophylaxis Program), जिसे 1970 में पोषण संबंधी कमियों के कारण होने वाली निम्नलिखित चिकित्सीय स्थितियों/बीमारियों में से किससे निपटने के लिए तत्काल उपचारात्मक उपाय के रूप में शुरू किया गया था?

- Ans 1. गलगंड
 2. अतिकैल्शियमरक्तता
 3. बेरीबेरी
 4. दृष्टिहीनता

Question Type : MCQ

Question ID : 630680404302

Option 1 ID : 6306801576710

Option 2 ID : 6306801576711

Option 3 ID : 6306801576713

Option 4 ID : 6306801576712

Status : Answered

Chosen Option : 2

Q.17 तट रेखा से लेकर मग्नतट अंत (shelf break) तक, भूमि का वह भाग जो उथले जल (shallow water) में जलमग्न होता है, _____ कहलाता है।

- Ans
- 1. महाद्वीपीय विस्थापन (Continental Drift)
 - 2. खाईयाँ (Trenches)
 - 3. महाद्वीपीय मग्नतट (Continental Shelf)
 - 4. महासागरीय बेसिन (Oceanic Basin)

Question Type : MCQ

Question ID : 630680453401

Option 1 ID : 6306801770614

Option 2 ID : 6306801770615

Option 3 ID : 6306801770612

Option 4 ID : 6306801770613

Status : Answered

Chosen Option : 4

Q.18 भारत सरकार द्वारा घोषित की गई नई उद्योगिक नीति, 1991 के तीन मुख्य आयामों (dimensions) में निम्नलिखित में से किसे शामिल नहीं किया गया है?

- Ans
- 1. वैश्वीकरण
 - 2. निजीकरण
 - 3. शहरीकरण
 - 4. उदारीकरण

Question Type : MCQ

Question ID : 630680484467

Option 1 ID : 6306801892189

Option 2 ID : 6306801892188

Option 3 ID : 6306801892187

Option 4 ID : 6306801892186

Status : Answered

Chosen Option : 2

Q.19 केंद्रीय बजट, 2018-19 में, भारत सरकार द्वारा स्कूली शिक्षा क्षेत्र के लिए पेश किए गए अति महत्वपूर्ण कार्यक्रम (overarching programme) का नाम क्या है?

- Ans
- 1. शिक्षा का अधिकार
 - 2. राष्ट्रीय उन्नत शिक्षा अभियान
 - 3. सर्व विद्या अभियान
 - 4. समग्र शिक्षा

Question Type : MCQ

Question ID : 630680488270

Option 1 ID : 6306801907138

Option 2 ID : 6306801907137

Option 3 ID : 6306801907135

Option 4 ID : 6306801907136

Status : Not Answered

Chosen Option : --

Q.20 भारत में 'राम नवमी' किसकी याद में मनाई जाती है?

- Ans
- 1. रावण की मृत्यु
 - 2. भगवान राम की वन से वापसी
 - 3. राजा के रूप में भगवान राम का राज्याभिषेक समारोह
 - 4. भगवान राम का जन्म

Question Type : MCQ

Question ID : 630680157889

Option 1 ID : 630680611087

Option 2 ID : 630680611084

Option 3 ID : 630680611085

Option 4 ID : 630680611086

Status : Answered

Chosen Option : 2

Q.21 भारत का पहला बजट कब पेश किया गया था?

- Ans
- 1. 1935
 - 2. 1860
 - 3. 1948
 - 4. 1857

Question Type : MCQ

Question ID : 63068054228

Option 1 ID : 630680208956

Option 2 ID : 630680208955

Option 3 ID : 630680208957

Option 4 ID : 630680208954

Status : Not Answered

Chosen Option : --

Q.22 'चक्यार कूथु (Chakyar Koothu)', एक लोक नृत्य शैली जिसमें पूरी कहानी एक ही कलाकार द्वारा प्रस्तुत की जाती है, मुख्य रूप से निम्नलिखित में से किस राज्य से संबंधित है?

- Ans
- 1. केरल
 - 2. त्रिपुरा
 - 3. तमिलनाडु
 - 4. सिक्किम

Question Type : MCQ

Question ID : 630680309151

Option 1 ID : 6306801202783

Option 2 ID : 6306801202782

Option 3 ID : 6306801202784

Option 4 ID : 6306801202781

Status : Not Answered

Chosen Option : --

Q.23 'द ब्लू अम्ब्रेला', 'द चेरी ट्री', 'द हिडन पूल' निम्नलिखित लेखकों में से किसके द्वारा लिखे गए उपन्यास हैं?

- Ans 1. अनंत पाई
 2. रस्किन बॉन्ड
 3. सुधा मूर्ति
 4. ट्रिंकल खन्ना

Question Type : MCQ
Question ID : 630680512096
Option 1 ID : 6306802001357
Option 2 ID : 6306802001356
Option 3 ID : 6306802001355
Option 4 ID : 6306802001354
Status : Answered
Chosen Option : 3

Q.24 दक्कन और दक्षिण भारत तक अपनी शक्ति बढ़ाने की हर्षवर्द्धन की महत्वाकांक्षाओं को _____ द्वारा रोक दिया गया था।

- Ans 1. राजराजा प्रथम
 2. पुलकेशिन द्वितीय
 3. विक्रमादित्य
 4. अशोक

Question Type : MCQ
Question ID : 630680433781
Option 1 ID : 6306801693089
Option 2 ID : 6306801693090
Option 3 ID : 6306801693087
Option 4 ID : 6306801693088
Status : Answered
Chosen Option : 4

Q.25 फरवरी 2024 में, झारखंड के 12वें मुख्यमंत्री के रूप में किसने शपथ ली?

- Ans 1. बाबूलाल मरांडी
 2. चंपई सोरेन
 3. अर्जुन मुंडा
 4. सरयू राय

Question Type : MCQ
Question ID : 630680595842
Option 1 ID : 6306802331557
Option 2 ID : 6306802331558
Option 3 ID : 6306802331556
Option 4 ID : 6306802331559
Status : Not Answered
Chosen Option : --

Q.1 Select the most appropriate synonym of the underlined word in the following sentence.

I graciously welcomed my boss at my birthday party.

- Ans
- 1. Cleverly
 - 2. Bravely
 - 3. Courageously
 - 4. Nicely

Question Type : **MCQ**

Question ID : **630680394912**

Option 1 ID : **6306801539931**

Option 2 ID : **6306801539929**

Option 3 ID : **6306801539930**

Option 4 ID : **6306801539928**

Status : **Answered**

Chosen Option : **3**

Q.2 Select the most appropriate meaning of the given proverb.

Bite the bullet

- Ans
- 1. To take the blame for something one didn't do
 - 2. To face up to trouble with fortitude
 - 3. To buy something with no prior inspection
 - 4. To be the first to attack someone

Question Type : **MCQ**

Question ID : **630680545703**

Option 1 ID : **6306802133401**

Option 2 ID : **6306802133402**

Option 3 ID : **6306802133400**

Option 4 ID : **6306802133403**

Status : **Answered**

Chosen Option : **2**

Q.3 Select the **INCORRECTLY** spelt word from the given sentence.

The chef's delicious recipies are a favourite among the restaurant's patrons.

- Ans
- 1. Delicious
 - 2. Recipies
 - 3. Chef's
 - 4. Restaurant's

Question Type : **MCQ**

Question ID : **630680615925**

Option 1 ID : **6306802410371**

Option 2 ID : **6306802410372**

Option 3 ID : **6306802410370**

Option 4 ID : **6306802410373**

Status : **Answered**

Chosen Option : **2**

Q.4 Select the most appropriate option that can substitute the underlined segment in the given sentence.

We have perhaps never seen an ablest series of advocates than these ten standing in a row.

- Ans
- 1. more able
 - 2. the ablest
 - 3. most ablest
 - 4. abler

Question Type : MCQ
Question ID : 630680514606
Option 1 ID : 6306802011050
Option 2 ID : 6306802011049
Option 3 ID : 6306802011052
Option 4 ID : 6306802011051
Status : Answered
Chosen Option : 4

Q.5 Select the most appropriate option that can substitute the underlined segment in the given sentence. If there is no need to substitute it, select 'No substitution required'.

The soldiers are all on their toes and anxiously waiting for the orders to start marching towards the enemy.

- Ans
- 1. all on their fingers and anxiously waiting
 - 2. No substitution required
 - 3. all on their toes and anxiously dancing
 - 4. paying through the nose

Question Type : MCQ
Question ID : 630680615425
Option 1 ID : 6306802408403
Option 2 ID : 6306802408405
Option 3 ID : 6306802408402
Option 4 ID : 6306802408404
Status : Answered
Chosen Option : 4

Q.6 In the following passage, some words have been deleted. Read the passage carefully and select the most appropriate option to fill in the blanks.

Mosquito means small fly. It has a transmitter segmented body and a _____ of wings. Male mosquitoes mainly feed on plant _____.

- Ans
- 1. couple; liquor
 - 2. pair; nectar
 - 3. kind; drink
 - 4. set; beverage

Question Type : MCQ
Question ID : 630680515126
Option 1 ID : 6306802013020
Option 2 ID : 6306802013019
Option 3 ID : 6306802013018
Option 4 ID : 6306802013017
Status : Answered
Chosen Option : 2

Q.7 Select the most appropriate option that can substitute the underlined segment in the given sentence.

The questions in part B looks difficult than the questions in part A.

Ans 1. more difficult

2. most difficult

3. difficulty

4. difficultier

Question Type : **MCQ**

Question ID : **630680514604**

Option 1 ID : **6306802011041**

Option 2 ID : **6306802011042**

Option 3 ID : **6306802011044**

Option 4 ID : **6306802011043**

Status : **Answered**

Chosen Option : 1

Q.8 Select the most appropriate synonym of the underlined word in the given sentence.
To his surprise, it swung back at his touch.

Ans 1. Anger

2. Shock

3. Boredom

4. Regret

Question Type : **MCQ**

Question ID : **630680726544**

Option 1 ID : **6306802847182**

Option 2 ID : **6306802847183**

Option 3 ID : **6306802847184**

Option 4 ID : **6306802847185**

Status : **Answered**

Chosen Option : 2

Q.9 Select the most appropriate option to fill in the blank.

The student received an _____ for his outstanding performance.

Ans 1. accolad

2. acolayd

3. acolade

4. accolade

Question Type : **MCQ**

Question ID : **630680726498**

Option 1 ID : **6306802846998**

Option 2 ID : **6306802847001**

Option 3 ID : **6306802846999**

Option 4 ID : **6306802847000**

Status : **Answered**

Chosen Option : 4

Q.10 Select the most appropriate degree of comparison to fill in the blank.

Work in this office is done in the _____ way.

- Ans 1. less efficient
 2. least efficient
 3. lesser efficient way
 4. little efficient

Question Type : **MCQ**
Question ID : **63068069773**
Option 1 ID : **630680269750**
Option 2 ID : **630680269753**
Option 3 ID : **630680269751**
Option 4 ID : **630680269752**
Status : **Answered**
Chosen Option : **1**

Q.11 Select the most appropriate option to fill in the blank.

He had always wanted to work for himself; so, last year he _____ his job at the bank and is now running a tool business.

- Ans 1. halted
 2. cleft
 3. bereft
 4. left

Question Type : **MCQ**
Question ID : **630680515230**
Option 1 ID : **6306802013388**
Option 2 ID : **6306802013385**
Option 3 ID : **6306802013386**
Option 4 ID : **6306802013387**
Status : **Answered**
Chosen Option : **4**

Q.12 Select the most appropriate synonym of the given word.

Ephemeral

- Ans 1. Ugly
 2. Permanent
 3. Transient
 4. Pleasing

Question Type : **MCQ**
Question ID : **630680726520**
Option 1 ID : **6306802847088**
Option 2 ID : **6306802847089**
Option 3 ID : **6306802847087**
Option 4 ID : **6306802847086**
Status : **Answered**
Chosen Option : **3**

Q.13 Select the sentence that has a grammatical error.

- Ans 1. They need to cut down the old tree in the garden.
 2. The manager cuts the discussion to address an urgent matter.
 3. Can you cut through the traffic to get here on time?
 4. She always cuts out unhealthy snacks.

Question Type : MCQ
Question ID : 630680600861
Option 1 ID : 6306802351183
Option 2 ID : 6306802351182
Option 3 ID : 6306802351185
Option 4 ID : 6306802351184
Status : Answered
Chosen Option : 2

Q.14 What is the correct substitution for the word 'screw' in the idiom 'Hit the screw on the head'?

- Ans 1. Nail
 2. Bolt
 3. Crew
 4. Tack

Question Type : MCQ
Question ID : 630680726527
Option 1 ID : 6306802847114
Option 2 ID : 6306802847116
Option 3 ID : 6306802847117
Option 4 ID : 6306802847115
Status : Answered
Chosen Option : 1

Q.15 Select the most appropriate option that can substitute the underlined segment in the given sentence. If there is no need to substitute it, select 'No substitution required'.

She prepares an unique dish in the cooking competition and won it.

- Ans 1. No substitution required
 2. prepares a unique
 3. prepared an unique
 4. prepared a unique

Question Type : MCQ
Question ID : 630680477586
Option 1 ID : 6306801865499
Option 2 ID : 6306801865497
Option 3 ID : 6306801865496
Option 4 ID : 6306801865498
Status : Answered
Chosen Option : 4

Q.16 Select the option that rectifies the spelling of the underlined word in the given sentence.

We have pledged our allegance to the nation.

- Ans 1. alegiance
 2. allegiance
 3. allegaince
 4. ellegance

Question Type : **MCQ**

Question ID : **630680799110**

Option 1 ID : **6306803131241**

Option 2 ID : **6306803131238**

Option 3 ID : **6306803131239**

Option 4 ID : **6306803131240**

Status : **Answered**

Chosen Option : **2**

Q.17 The following sentence has been split into four segments. Identify the segment that contains a grammatical error.

I have lived with my parents / in Mumbai / in a residential flat / yet two years.

- Ans 1. yet two years
 2. in a residential flat
 3. I have lived with my parents
 4. in Mumbai

Question Type : **MCQ**

Question ID : **630680129869**

Option 1 ID : **630680503069**

Option 2 ID : **630680503068**

Option 3 ID : **630680503066**

Option 4 ID : **630680503067**

Status : **Answered**

Chosen Option : **3**

Q.18 Select the most appropriate synonym of the given word.
Futile

- Ans 1. Useless
 2. Adequate
 3. Thoughtful
 4. Vicious

Question Type : **MCQ**

Question ID : **630680430577**

Option 1 ID : **6306801680332**

Option 2 ID : **6306801680333**

Option 3 ID : **6306801680330**

Option 4 ID : **6306801680331**

Status : **Answered**

Chosen Option : **1**

Q.19 Parts of the following sentence have been given as options. Select the option that contains an error.

A fox and an hyena were spotted in the animal reserve.

Ans 1. and an hyena

2. the animal reserve

3. A fox

4. were spotted in

Question Type : **MCQ**

Question ID : **63068084880**

Option 1 ID : **630680329037**

Option 2 ID : **630680329039**

Option 3 ID : **630680329036**

Option 4 ID : **630680329038**

Status : **Answered**

Chosen Option : **1**

Q.20 Select the most appropriate synonym of the word given in brackets to fill in the blank.

Many fraud companies _____ (deceive) innocent customers and earn millions of dollars.

Ans 1. hamper

2. mislead

3. resolve

4. facilitate

Question Type : **MCQ**

Question ID : **630680522080**

Option 1 ID : **6306802040651**

Option 2 ID : **6306802040648**

Option 3 ID : **6306802040650**

Option 4 ID : **6306802040649**

Status : **Answered**

Chosen Option : **2**

Comprehension:

In the following passage, some words have been deleted. Read the passage carefully and select the most appropriate option to fill in each blank.

Are you familiar with the movie 'Jurassic Park'? Do you recall the enormous dinosaurs? Do you know that there is still a mammal that is as big and amazing as them? Blue whales are the world's largest living things and (1)_____ vast oceanic expanses. The adult is more than 100 feet long and (2)_____ more than 190 metric tons. According to scientists, a blue whale's heart weighs as much as a car while its tongue weighs as much as an elephant! They eat meat, but they don't have teeth. They gulp and swallow huge quantities of krill and shrimp for their diet. Their mouths have bristles that look like combs and remove water while keeping their food (3)_____.

Whales are social animals that live in 'pods', which are made up of more females than males. They take care of their children. Another female takes over and cares for the calf if one mother is unable to provide it with milk. Their bond is very strong, and they cry when another whale dies. The male makes sure that everyone in the pod gets their fair share of food. Whistles, clock-like sounds, and songs—frequent, high-pitched sounds—are the means by which the whales (4)_____ with one another. It assists them in locating one another, locating the position of the pod, searching for prey, and attracting mates. Every pod has a distinctive song that sets it apart from the others. These songs can be heard for not only hours, but also days (5)_____ miles of ocean.

SubQuestion No : 21

Q.21 Select the most appropriate option to fill in blank no. 1.

- Ans
- 1. depart
 - 2. engage
 - 3. inhabit
 - 4. employ

Question Type : **MCQ**

Question ID : **630680206436**

Option 1 ID : **630680800392**

Option 2 ID : **630680800393**

Option 3 ID : **630680800391**

Option 4 ID : **630680800394**

Status : **Answered**

Chosen Option : **1**

Comprehension:

In the following passage, some words have been deleted. Read the passage carefully and select the most appropriate option to fill in each blank.

Are you familiar with the movie 'Jurassic Park'? Do you recall the enormous dinosaurs? Do you know that there is still a mammal that is as big and amazing as them? Blue whales are the world's largest living things and (1)_____ vast oceanic expanses. The adult is more than 100 feet long and (2)_____ more than 190 metric tons. According to scientists, a blue whale's heart weighs as much as a car while its tongue weighs as much as an elephant! They eat meat, but they don't have teeth. They gulp and swallow huge quantities of krill and shrimp for their diet. Their mouths have bristles that look like combs and remove water while keeping their food (3)_____.

Whales are social animals that live in 'pods', which are made up of more females than males. They take care of their children. Another female takes over and cares for the calf if one mother is unable to provide it with milk. Their bond is very strong, and they cry when another whale dies. The male makes sure that everyone in the pod gets their fair share of food. Whistles, clock-like sounds, and songs—frequent, high-pitched sounds—are the means by which the whales (4)_____ with one another. It assists them in locating one another, locating the position of the pod, searching for prey, and attracting mates. Every pod has a distinctive song that sets it apart from the others. These songs can be heard for not only hours, but also days (5)_____ miles of ocean.

SubQuestion No : 22

Q.22 Select the most appropriate option to fill in blank no. 2.

- Ans
- 1. counts
 - 2. loads
 - 3. lifts
 - 4. weighs

Question Type : **MCQ**

Question ID : **630680206437**

Option 1 ID : **630680800397**

Option 2 ID : **630680800398**

Option 3 ID : **630680800395**

Option 4 ID : **630680800396**

Status : **Answered**

Chosen Option : **4**

Comprehension:

In the following passage, some words have been deleted. Read the passage carefully and select the most appropriate option to fill in each blank.

Are you familiar with the movie 'Jurassic Park'? Do you recall the enormous dinosaurs? Do you know that there is still a mammal that is as big and amazing as them? Blue whales are the world's largest living things and (1)_____ vast oceanic expanses. The adult is more than 100 feet long and (2)_____ more than 190 metric tons. According to scientists, a blue whale's heart weighs as much as a car while its tongue weighs as much as an elephant! They eat meat, but they don't have teeth. They gulp and swallow huge quantities of krill and shrimp for their diet. Their mouths have bristles that look like combs and remove water while keeping their food (3)_____.

Whales are social animals that live in 'pods', which are made up of more females than males. They take care of their children. Another female takes over and cares for the calf if one mother is unable to provide it with milk. Their bond is very strong, and they cry when another whale dies. The male makes sure that everyone in the pod gets their fair share of food. Whistles, clock-like sounds, and songs—frequent, high-pitched sounds—are the means by which the whales (4)_____ with one another. It assists them in locating one another, locating the position of the pod, searching for prey, and attracting mates. Every pod has a distinctive song that sets it apart from the others. These songs can be heard for not only hours, but also days (5)_____ miles of ocean.

SubQuestion No : 23

Q.23 Select the most appropriate option to fill in blank no. 3.

- Ans
- 1. fair
 - 2. brokerage
 - 3. beckon
 - 4. intact

Question Type : **MCQ**

Question ID : **630680206438**

Option 1 ID : **630680800400**

Option 2 ID : **630680800399**

Option 3 ID : **630680800402**

Option 4 ID : **630680800401**

Status : **Answered**

Chosen Option : **3**

Comprehension:

In the following passage, some words have been deleted. Read the passage carefully and select the most appropriate option to fill in each blank.

Are you familiar with the movie 'Jurassic Park'? Do you recall the enormous dinosaurs? Do you know that there is still a mammal that is as big and amazing as them? Blue whales are the world's largest living things and (1)_____ vast oceanic expanses. The adult is more than 100 feet long and (2)_____ more than 190 metric tons. According to scientists, a blue whale's heart weighs as much as a car while its tongue weighs as much as an elephant! They eat meat, but they don't have teeth. They gulp and swallow huge quantities of krill and shrimp for their diet. Their mouths have bristles that look like combs and remove water while keeping their food (3)_____.

Whales are social animals that live in 'pods', which are made up of more females than males. They take care of their children. Another female takes over and cares for the calf if one mother is unable to provide it with milk. Their bond is very strong, and they cry when another whale dies. The male makes sure that everyone in the pod gets their fair share of food.

Whistles, clock-like sounds, and songs—frequent, high-pitched sounds—are the means by which the whales (4)_____ with one another. It assists them in locating one another, locating the position of the pod, searching for prey, and attracting mates. Every pod has a distinctive song that sets it apart from the others. These songs can be heard for not only hours, but also days (5)_____ miles of ocean.

SubQuestion No : 24

Q.24 Select the most appropriate option to fill in blank no. 4.

- Ans
- 1. meet
 - 2. catch
 - 3. horrid
 - 4. communicate

Question Type : **MCQ**

Question ID : **630680206439**

Option 1 ID : **630680800404**

Option 2 ID : **630680800405**

Option 3 ID : **630680800403**

Option 4 ID : **630680800406**

Status : **Answered**

Chosen Option : **4**

Comprehension:

In the following passage, some words have been deleted. Read the passage carefully and select the most appropriate option to fill in each blank.

Are you familiar with the movie 'Jurassic Park'? Do you recall the enormous dinosaurs? Do you know that there is still a mammal that is as big and amazing as them? Blue whales are the world's largest living things and (1)_____ vast oceanic expanses. The adult is more than 100 feet long and (2)_____ more than 190 metric tons. According to scientists, a blue whale's heart weighs as much as a car while its tongue weighs as much as an elephant! They eat meat, but they don't have teeth. They gulp and swallow huge quantities of krill and shrimp for their diet. Their mouths have bristles that look like combs and remove water while keeping their food (3)_____.

Whales are social animals that live in 'pods', which are made up of more females than males. They take care of their children. Another female takes over and cares for the calf if one mother is unable to provide it with milk. Their bond is very strong, and they cry when another whale dies. The male makes sure that everyone in the pod gets their fair share of food. Whistles, clock-like sounds, and songs—frequent, high-pitched sounds—are the means by which the whales (4)_____ with one another. It assists them in locating one another, locating the position of the pod, searching for prey, and attracting mates. Every pod has a distinctive song that sets it apart from the others. These songs can be heard for not only hours, but also days (5)_____ miles of ocean.

SubQuestion No : 25

Q.25 Select the most appropriate option to fill in blank no. 5.

- Ans
- 1. off
 - 2. beside
 - 3. although
 - 4. across

Question Type : **MCQ**

Question ID : **630680206440**

Option 1 ID : **630680800408**

Option 2 ID : **630680800409**

Option 3 ID : **630680800410**

Option 4 ID : **630680800407**

Status : **Answered**

Chosen Option : **2**