

## Multi Tasking Non Technical Staff and Havaladar CBIC and CBN Examination 2024

Roll Number	
Candidate Name	
Venue Name	Jaipur Engineering College
Exam Date	16/10/2024
Exam Time	9:00 AM - 11:00 AM
Subject	MTS Non Tech Havaladar CBIC and CBN Examination 2024

### Section : Numerical and Mathematical Ability

Q.1 दोनों सिरों पर खुले एक मोटे बेलनाकार पाइप की लंबाई 1.4 m है। इसका आंतरिक और बाह्य व्यास क्रमशः 60 cm और 80 cm है। इसे चारों तरफ से पेंट करना है। यदि पेंटिंग की दर ₹110/m<sup>2</sup> है तो पेंटिंग की लागत (₹ में) कितनी होगी? ( $\pi = \frac{22}{7}$  का उपयोग करें)

- Ans
- 1. 748
  - 2. 726
  - 3. 734
  - 4. 712

Question Type : MCQ

Question ID : 630680378653

Option 1 ID : 6306801475662

Option 2 ID : 6306801475660

Option 3 ID : 6306801475661

Option 4 ID : 6306801475659

Status : Answered

Chosen Option : 3

Q.2 अनुपात 13 : 15 को प्रतिशत के रूप में व्यक्त करने पर मान क्या होगा? (दो दशमलव स्थान तक पूर्णांकित)

- Ans
- 1. 83.25%
  - 2. 75.25%
  - 3. 86.67%
  - 4. 89.12%

Question Type : MCQ

Question ID : 630680464512

Option 1 ID : 6306801814085

Option 2 ID : 6306801814083

Option 3 ID : 6306801814086

Option 4 ID : 6306801814084

Status : Answered

Chosen Option : 4

Q.3 किसी निश्चित राशि पर 3 वर्ष के लिए 17% वार्षिक की दर से साधारण ब्याज, उसी राशि पर 5 वर्ष के साधारण ब्याज से ₹7,140 कम है। राशि की गणना करें।

- Ans
- 1. ₹20,000
  - 2. ₹22,000
  - 3. ₹21,000
  - 4. ₹23,000

Question Type : MCQ

Question ID : 630680402558

Option 1 ID : 6306801569795

Option 2 ID : 6306801569797

Option 3 ID : 6306801569796

Option 4 ID : 6306801569798

Status : Answered

Chosen Option : 2

Q.4 6 वर्षों के लिए 7% वार्षिक की ब्याज दर पर उधार ली गई राशि ₹3000 पर साधारण ब्याज (₹ में) ज्ञात कीजिए।

- Ans
- 1. 1220
  - 2. 1200
  - 3. 1300
  - 4. 1260

Question Type : MCQ

Question ID : 630680591947

Option 1 ID : 6306802316258

Option 2 ID : 6306802316257

Option 3 ID : 6306802316256

Option 4 ID : 6306802316255

Status : Answered

Chosen Option : 4

Q.5 छः लड़कों का व्यक्तिगत वजन (kg में) 55, 56, 57, 60, 59 और 55 है। एक नया लड़का समूह में शामिल होता है, और समूह का माध्य वजन (mean weight) 62 kg हो जाता है। नए लड़के का वजन (kg में) ज्ञात करें।

- Ans
- 1. 94
  - 2. 90
  - 3. 92
  - 4. 82

Question Type : MCQ

Question ID : 630680404664

Option 1 ID : 6306801578134

Option 2 ID : 6306801578133

Option 3 ID : 6306801578131

Option 4 ID : 6306801578132

Status : Answered

Chosen Option : 2

Q.6 औसत के संबंध में निम्नलिखित में से कौन-सा कथन सही है?

- Ans
- 1. छह क्रमागत विषम पूर्णांकों का औसत एक विषम पूर्णांक होता है।
  - 2. छह क्रमागत सम पूर्णांकों का औसत एक सम प्राकृत संख्या होती है।
  - 3. छह क्रमागत विषम पूर्णांकों का औसत एक सम पूर्णांक होता है।
  - 4. छह क्रमागत विषम पूर्णांकों का औसत एक विषम प्राकृत संख्या होती है।

Question Type : MCQ

Question ID : 630680176179

Option 1 ID : 630680682955

Option 2 ID : 630680682952

Option 3 ID : 630680682954

Option 4 ID : 630680682953

Status : Answered

Chosen Option : 3

Q.7 यदि एक दर्जन आम का क्रय मूल्य, नौ आमों के विक्रय मूल्य के बराबर है, तो हानि या लाभ प्रतिशत ज्ञात कीजिए।

- Ans
- 1. 33% की हानि
  - 2.  $33\frac{1}{3}\%$  का लाभ
  - 3.  $33\frac{1}{3}\%$  की हानि
  - 4. 33% का लाभ

Question Type : MCQ

Question ID : 630680815871

Option 1 ID : 6306803196817

Option 2 ID : 6306803196819

Option 3 ID : 6306803196818

Option 4 ID : 6306803196820

Status : Answered

Chosen Option : 3

Q.8 एक शहर में स्कूलों की संख्या, शहर की जनसंख्या के अनुक्रमानुपाती है। 2020 में, 125 स्कूल थे और शहर की जनसंख्या 1,80,000 थी। 2023 में, शहर में स्कूलों की संख्या 180 है। 2020 से 2023 तक शहर की जनसंख्या में कितने प्रतिशत की वृद्धि हुई है?

- Ans
- 1. 46%
  - 2. 44%
  - 3. 42%
  - 4. 45%

Question Type : MCQ

Question ID : 630680227071

Option 1 ID : 630680880975

Option 2 ID : 630680880978

Option 3 ID : 630680880977

Option 4 ID : 630680880976

Status : Answered

Chosen Option : 3

Q.9 ₹19 में एक वस्तु को बेचकर, एक विक्रेता 25% का लाभ अर्जित करता है। उसे अपना विक्रय मूल्य (₹ में) कितना बढ़ाना चाहिए, ताकि 50% का लाभ अर्जित कर सके?

Ans  1. 4.8

2. 3.8

3. 5.8

4. 6.8

Question Type : MCQ

Question ID : 630680632587

Option 1 ID : 6306802476247

Option 2 ID : 6306802476246

Option 3 ID : 6306802476248

Option 4 ID : 6306802476249

Status : Answered

Chosen Option : 2

Q.10 एक शिक्षक विद्यार्थियों के कुछ समूहों को ठीक 10 या 12 या 15 सदस्यों की संख्या में चाहता था। अभीष्ट (required) समूह बनाने के लिए कक्षा में विद्यार्थियों की न्यूनतम संख्या कितनी होनी चाहिए?

Ans  1. 37

2. 60

3. 150

4. 120

Question Type : MCQ

Question ID : 63068076096

Option 1 ID : 630680294491

Option 2 ID : 630680294492

Option 3 ID : 630680294489

Option 4 ID : 630680294490

Status : Answered

Chosen Option : 2

Q.11 6 वर्षों के लिए 4% वार्षिक की ब्याज दर पर उधार ली गई राशि ₹3500 पर साधारण ब्याज (₹ में) ज्ञात कीजिए।

Ans  1. 880

2. 780

3. 800

4. 840

Question Type : MCQ

Question ID : 630680591967

Option 1 ID : 6306802316336

Option 2 ID : 6306802316337

Option 3 ID : 6306802316338

Option 4 ID : 6306802316335

Status : Answered

Chosen Option : 4

Q.12 6.3 cm त्रिज्या वाले अर्धगोले का संपूर्ण पृष्ठीय क्षेत्रफल ज्ञात करें।

- Ans  1. 3,742 cm<sup>2</sup>  
 2. 374.2 cm<sup>2</sup>  
 3. 3,777 cm<sup>2</sup>  
 4. 3,524 cm<sup>2</sup>

Question Type : MCQ

Question ID : 630680105272

Option 1 ID : 630680409164

Option 2 ID : 630680409165

Option 3 ID : 630680409166

Option 4 ID : 630680409163

Status : Answered

Chosen Option : 2

Q.13 नीचे दी गई तालिका में वर्ष 2012 से 2015 के दौरान विश्वविद्यालय में उच्च शिक्षा के लिए इंजीनियरिंग, चिकित्सा विज्ञान और अन्य पेशेवर पाठ्यक्रमों में दाखिला लेने वाले विद्यार्थियों की संख्या दर्शाई गई है।

वर्ष/विद्यार्थियों की संख्या	इंजीनियरिंग पाठ्यक्रम में विद्यार्थियों की संख्या	चिकित्सा विज्ञान पाठ्यक्रम में विद्यार्थियों की संख्या	अन्य पेशेवर पाठ्यक्रमों में विद्यार्थियों की संख्या
2012	570	350	300
2013	850	600	500
2014	700	980	1000
2015	450	900	1200

चिकित्सा विज्ञान पाठ्यक्रम के लिए किस वर्ष अधिकतम विद्यार्थियों द्वारा दाखिला लिया गया?

- Ans  1. 2013  
 2. 2014  
 3. 2012  
 4. 2015

Question Type : MCQ

Question ID : 630680523733

Option 1 ID : 6306802047084

Option 2 ID : 6306802047085

Option 3 ID : 6306802047083

Option 4 ID : 6306802047086

Status : Answered

Chosen Option : 2

Q.14 एक समूह में 98 महिलाएं हैं और उनका औसत वजन 52 kg है। यदि 60 kg औसत वजन वाली 7 महिलाएं समूह छोड़ देती हैं और 80 kg औसत वजन वाली दो नई महिलाएं समूह में शामिल हो जाती हैं, तो अब समूह में महिलाओं का नया औसत वजन कितना होगा?

Ans  1. 52 kg

2. 54 kg

3. 50 kg

4. 56 kg

Question Type : MCQ

Question ID : 630680477439

Option 1 ID : 6306801864914

Option 2 ID : 6306801864915

Option 3 ID : 6306801864913

Option 4 ID : 6306801864916

Status : Answered

Chosen Option : 1

Q.15 एक व्यक्ति 400 km के दौरे पर, पहले 120 km को 80 km/h की चाल से और अगले 150 km को 75 km/h की चाल से तय करता है। यदि उसे दौरे में 5 घंटे से कम समय लगाना हो, तो शेष दूरी के लिए उसे कितनी न्यूनतम चाल से यात्रा करनी होगी?

Ans  1. 86.66 km/h

2. 84.72 km/h

3. 88.56 km/h

4. 90.21 km/h

Question Type : MCQ

Question ID : 630680135774

Option 1 ID : 630680525816

Option 2 ID : 630680525817

Option 3 ID : 630680525815

Option 4 ID : 630680525814

Status : Answered

Chosen Option : 3

Q.16 एक मेज का अंकित मूल्य ₹10,500 है, और इसे ₹9,450 में बेचा जाता है। इस लेनदेन पर प्रतिशत छूट ज्ञात कीजिए।

Ans  1. 10%

2. 9%

3. 9.5%

4. 10.5%

Question Type : MCQ

Question ID : 630680405010

Option 1 ID : 6306801579549

Option 2 ID : 6306801579548

Option 3 ID : 6306801579547

Option 4 ID : 6306801579550

Status : Answered

Chosen Option : 1

Q.17 चार लड़कों शिखर, मुकेश, अनिल और अनीश की औसत आयु 25 वर्ष है। यदि शिखर, मुकेश और अनिल की आयु 15, 25 और 29 वर्ष है, तो अनीश की आयु (वर्षों में) कितनी है?

- Ans
- 1. 32
  - 2. 30
  - 3. 31
  - 4. 29

Question Type : MCQ

Question ID : 630680815841

Option 1 ID : 6306803196700

Option 2 ID : 6306803196698

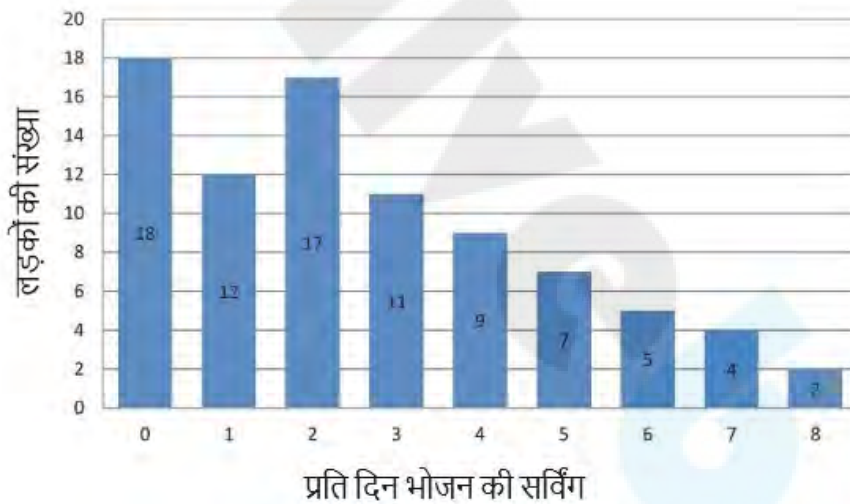
Option 3 ID : 6306803196699

Option 4 ID : 6306803196697

Status : Answered

Chosen Option : 3

Q.18 85 सोलह वर्षीय लड़कों के प्रतिदर्श (sample) में फलों के उपभोग का वितरण नीचे दिए गए ग्राफ में दिया गया है। ग्राफ का अध्ययन करें और निम्नलिखित प्रश्न का उत्तर दें।



इनमें से कितने प्रतिशत लड़के प्रतिदिन पाँच या उससे अधिक सर्विंग खाते हैं? (दशमलव के बाद दो स्थानों तक पूर्णांकित करें)

- Ans
- 1. 17.13%
  - 2. 14.32%
  - 3. 21.18%
  - 4. 20.04%

Question Type : MCQ

Question ID : 630680397538

Option 1 ID : 6306801550071

Option 2 ID : 6306801550070

Option 3 ID : 6306801550073

Option 4 ID : 6306801550072

Status : Answered

Chosen Option : 3

Q.19 अजीत एक वृत्ताकार मैदान के चारों ओर दो चक्कर प्रति घंटे की चाल से पैदल चलता है, जबकि मोहित इसके चारों ओर 10 चक्कर प्रति घंटे की चाल से दौड़ता है। वे 6.30 a.m. पर एक ही बिंदु से एक ही दिशा में प्रस्थान करते हैं। वह समय ज्ञात करें, जिस समय वे एक दूसरे को पार करते हैं।

Ans  1. 06 : 37 : 20

2. 06 : 40 : 00

3. 06 : 37 : 50

4. 06 : 37 : 30

Question Type : MCQ

Question ID : 630680108714

Option 1 ID : 630680421785

Option 2 ID : 630680421784

Option 3 ID : 630680421786

Option 4 ID : 630680421787

Status : Answered

Chosen Option : 3

Q.20 20 cm आधार व्यास और 20 cm ऊँचाई वाले एक ठोस शंकु को पिघलाया जाता है और त्रिज्या R cm के एक ठोस धात्विक अर्धगोले में पुनः ढाला जाता है। अर्धगोले का कुल पृष्ठीय क्षेत्रफल (cm<sup>2</sup> में, दशमलव के 2 स्थान तक पूर्णांकित) कितना होगा? ( $\pi = \frac{22}{7}$  लीजिए)

Ans  1. 942.86

2. 892.55

3. 924.86

4. 1036.72

Question Type : MCQ

Question ID : 630680387077

Option 1 ID : 6306801509018

Option 2 ID : 6306801509020

Option 3 ID : 6306801509019

Option 4 ID : 6306801509021

Status : Answered

Chosen Option : 4

Q.1 P, Q, R, S, T और U एक वृत्ताकार मेज के चारों ओर केंद्र की ओर मुख करके बैठे हैं (परंतु जरूरी नहीं कि वे इसी क्रम में बैठे हों)। R, P के ठीक बाईं ओर तथा T के ठीक दाईं ओर बैठा है। Q, T के ठीक बाईं ओर बैठा है। U, Q के ठीक बाईं ओर बैठा है। P, S के ठीक बाईं ओर बैठा है। S के ठीक दाईं ओर कौन बैठा है?

Ans  1. U

2. Q

3. T

4. R

Question Type : MCQ

Question ID : 630680394254

Option 1 ID : 6306801537308

Option 2 ID : 6306801537307

Option 3 ID : 6306801537306

Option 4 ID : 6306801537309

Status : Answered

Chosen Option : 1

Q.2 नीचे दिए गए कथनों और निष्कर्षों को ध्यान से पढ़िए। कथनों में दी गई जानकारी को सत्य मानते हुए, चाहे वह सामान्य रूप से ज्ञात तथ्यों से भिन्न प्रतीत होती हो, निर्धारित कीजिए कि कौन-सा/से निष्कर्ष, कथन (कथनों) का तार्किक रूप से अनुसरण करता है/करते हैं।

कथन:

सभी चींटियाँ, गेंदे हैं।

सभी चींटियाँ, गुड़िया हैं।

निष्कर्ष:

(I) कुछ गेंदे, गुड़िया हैं।

(II) सभी गुड़िया, चींटियाँ हैं।

Ans  1. न तो निष्कर्ष (I) और न ही (II) अनुसरण करता है।

2. निष्कर्ष (I) और (II) दोनों अनुसरण करते हैं।

3. केवल निष्कर्ष (I) अनुसरण करता है।

4. केवल निष्कर्ष (II) अनुसरण करता है।

Question Type : MCQ

Question ID : 630680824525

Option 1 ID : 6306803229696

Option 2 ID : 6306803229697

Option 3 ID : 6306803229694

Option 4 ID : 6306803229695

Status : Answered

Chosen Option : 1

Q.3 एक निश्चित कूट भाषा में, 'TASK' को '3762' के रूप में कूटबद्ध किया जाता है और 'CAST' को '2436' के रूप में कूटबद्ध किया जाता है। इसी भाषा में 'K' के लिए कूट क्या होगा?

- Ans
- 1. 6
  - 2. 2
  - 3. 7
  - 4. 4

Question Type : MCQ

Question ID : 630680465153

Option 1 ID : 6306801816649

Option 2 ID : 6306801816648

Option 3 ID : 6306801816650

Option 4 ID : 6306801816647

Status : Answered

Chosen Option : 3

Q.4 A, B, C, D, E और F एक वृत्ताकार मेज के चारों ओर केंद्र की ओर मुख करके बैठे हैं (परंतु जरूरी नहीं कि वे इसी क्रम में बैठे हों)। F, A के बाएँ से तीसरे स्थान पर बैठा है। D, A के ठीक बाएँ बैठा है। C, A के दाएँ से दूसरे स्थान पर बैठा है। A और C के बीच में केवल E बैठा है। A के दाएँ से गिनती करने पर B के ठीक बाएँ कौन बैठा है?

- Ans
- 1. A
  - 2. C
  - 3. F
  - 4. E

Question Type : MCQ

Question ID : 630680386835

Option 1 ID : 6306801508051

Option 2 ID : 6306801508053

Option 3 ID : 6306801508050

Option 4 ID : 6306801508052

Status : Answered

Chosen Option : 3

Q.5 एक निश्चित तर्क का अनुसरण करते हुए 13, 38 से संबंधित है। उसी तर्क का अनुसरण करते हुए 15, 44 से संबंधित है। समान तर्क का अनुसरण करते हुए 26, निम्नलिखित में से किससे संबंधित है?

(ध्यान दें: संख्याओं को उनके घटक अंकों में अलग-अलग किए बिना पूर्ण संख्याओं पर संक्रियाएं की जानी चाहिए। उदाहरण के लिए संख्या 13 - संख्या 13 पर संक्रियाएं जैसे 13 को जोड़ना/घटाना/गुणा करना आदि किया जा सकता है। 13 को 1 और 3 में अलग-अलग करने की और फिर 1 और 3 पर गणितीय संक्रियाएं करने की अनुमति नहीं है।)

- Ans
- 1. 77
  - 2. 71
  - 3. 68
  - 4. 86

Question Type : MCQ

Question ID : 630680441687

Option 1 ID : 6306801724364

Option 2 ID : 6306801724363

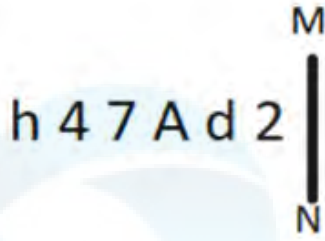
Option 3 ID : 6306801724362

Option 4 ID : 6306801724365

Status : Answered

Chosen Option : 1

Q.6 यदि दर्पण को नीचे दर्शाए गए अनुसार MN पर रखा जाए, तो दी गई आकृति के सही दर्पण प्रतिबिंब का चयन कीजिए।



Ans

✓ 1.  $\Sigma b A \nabla \nabla d$

✗ 2.  $\Sigma b 7 A \nabla d$

✗ 3.  $h 4 7 A \nabla 2$

✗ 4.  $h \nabla \nabla A p \Sigma$

Question Type : MCQ

Question ID : 630680525320

Option 1 ID : 6306802053366

Option 2 ID : 6306802053364

Option 3 ID : 6306802053367

Option 4 ID : 6306802053365

Status : Answered

Chosen Option : 1

Q.7 निम्नलिखित समीकरण में प्रश्नचिह्न (?) के स्थान पर क्या आएगा, यदि '+' और '-' को आपस में बदल दिया जाए तथा 'x' और '÷' को आपस में बदल दिया जाए?  
 $69 - 36 \times 6 \div 12 + 5 = ?$

Ans

✓ 1. 136

✗ 2. 129

✗ 3. 130

✗ 4. 128

Question Type : MCQ

Question ID : 630680397976

Option 1 ID : 6306801551919

Option 2 ID : 6306801551920

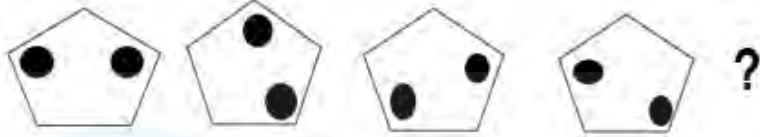
Option 3 ID : 6306801551921

Option 4 ID : 6306801551918

Status : Answered

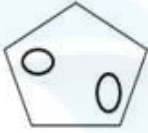
Chosen Option : 1

Q.8 उस आकृति का चयन कीजिए जो नीचे दी गई श्रृंखला में प्रश्न चिह्न (?) के स्थान पर आ सकती है।



Ans

✗ 1.



✗ 2.



✗ 3.



✓ 4.



Question Type : MCQ

Question ID : 630680468015

Option 1 ID : 6306801827965

Option 2 ID : 6306801827964

Option 3 ID : 6306801827962

Option 4 ID : 6306801827963

Status : Answered

Chosen Option : 4

Q.9 एक निश्चित कूट भाषा में, 'HARD' को '1596' के रूप में कूटबद्ध किया जाता है और 'CARD' को '5689' के रूप में कूटबद्ध किया जाता है। दी गई कूट भाषा में 'C' के लिए कूट क्या है?

Ans ✓ 1. 8

✗ 2. 9

✗ 3. 6

✗ 4. 5

Question Type : MCQ

Question ID : 630680386843

Option 1 ID : 6306801508083

Option 2 ID : 6306801508084

Option 3 ID : 6306801508085

Option 4 ID : 6306801508082

Status : Answered

Chosen Option : 1

Q.10 दिए गए कथनों और निष्कर्षों को ध्यानपूर्वक पढ़िए। यह मानते हुए कि कथनों में दी गई जानकारी सत्य है, चाहे वह सामान्यतः ज्ञात तथ्यों से भिन्न प्रतीत होती हो और निर्णय लीजिए कि दिए गए निष्कर्षों में से कौन-सा/कौन-से निष्कर्ष कथनों का तार्किक रूप से अनुसरण करता है/करते हैं।

कथन:

कुछ पिप्ला, बर्गर हैं।  
कुछ पिप्ला, सॉसेज हैं।

निष्कर्ष:

(I) कम से कम कुछ सॉसेज, बर्गर हैं।

(II) कुछ सॉसेज, पिप्ला हैं।

- Ans
- 1. केवल निष्कर्ष I अनुसरण करता है।
  - 2. केवल निष्कर्ष II अनुसरण करता है।
  - 3. निष्कर्ष I और II दोनों अनुसरण करते हैं।
  - 4. न तो निष्कर्ष I और न ही II अनुसरण करता है।

Question Type : MCQ

Question ID : 630680404899

Option 1 ID : 6306801579075

Option 2 ID : 6306801579076


Option 3 ID : 6306801579078

Option 4 ID : 6306801579077

Status : Answered

Chosen Option : 4

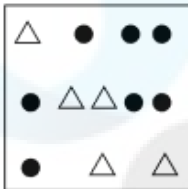
Q.11 उस विकल्प आकृति का चयन कीजिए, जिसमें दी गई आकृति (X) उसके भाग के रूप में सन्निहित है (घुमाने की अनुमति नहीं है)।




(X)

Ans


✗ 1.




✗ 2.



✓ 3.



✗ 4.



Question Type : MCQ

Question ID : 630680487590

Option 1 ID : 6306801904468

Option 2 ID : 6306801904469

Option 3 ID : 6306801904467

Option 4 ID : 6306801904466

Status : Answered

Chosen Option : 3

Q.12 यदि '+' और 'x' को आपस में बदल दिया जाए और '-' और '÷' को आपस में बदल दिया जाए, तो निम्नलिखित समीकरण में '?' के स्थान पर क्या आएगा?  
 $100 - 4 \div 7 + 5 \times 12 = ?$

Ans  1. 2

2. 6

3. 4

4. 5

Question Type : MCQ

Question ID : 630680394893

Option 1 ID : 6306801539859

Option 2 ID : 6306801539857

Option 3 ID : 6306801539858

Option 4 ID : 6306801539856

Status : Answered

Chosen Option : 1

Q.13 BI54 एक निश्चित प्रकार से XE64 से संबंधित है। ठीक उसी प्रकार DK76, ZG86 से संबंधित है। समान तर्क का अनुसरण करते हुए, FM43 निम्नलिखित में से किससे संबंधित है?

Ans  1. BI53

2. IB53

3. BE35

4. EB35

Question Type : MCQ

Question ID : 6306801108792

Option 1 ID : 6306804355714

Option 2 ID : 6306804355715

Option 3 ID : 6306804355716

Option 4 ID : 6306804355717

Status : Answered

Chosen Option : 1

Q.14 उस समुच्चय का चयन कीजिए जिसमें संख्याएँ ठीक उसी प्रकार संबंधित हैं, जिस प्रकार निम्नलिखित समुच्चयों की संख्याएँ संबंधित हैं।

(ध्यान दें: संख्याओं को उनके घटक अंकों में अलग-अलग किए बिना पूर्ण संख्याओं पर संक्रियाएं की जानी चाहिए। उदाहरण के लिए संख्या 13 - संख्या 13 पर संक्रियाएं जैसे 13 को जोड़ना/घटाना/गुणा करना आदि किया जा सकता है। 13 को 1 और 3 में अलग-अलग करने की और फिर 1 और 3 पर गणितीय संक्रियाएं करने की अनुमति नहीं है।)

(34, 22, 63)  
(61, 76, 144)

- Ans
- 1. (86, 13, 96)
  - 2. (3, 22, 61)
  - 3. (26, 83, 16)
  - 4. (45, 41, 93)

Question Type : MCQ

Question ID : 6306801031235

Option 1 ID : 6306804047693

Option 2 ID : 6306804047692

Option 3 ID : 6306804047694

Option 4 ID : 6306804047691

Status : Answered

Chosen Option : 3

Q.15 दी गई श्रृंखला में प्रश्नचिन्ह (?) के स्थान पर क्या आएगा?

247 258 280 313 357 ?

- Ans
- 1. 401
  - 2. 388
  - 3. 412
  - 4. 426

Question Type : MCQ

Question ID : 630680816796

Option 1 ID : 6306803208604

Option 2 ID : 6306803208607

Option 3 ID : 6306803208605

Option 4 ID : 6306803208606

Status : Answered

Chosen Option : 3

Q.16 एक निश्चित कूट भाषा में, 'joy salt area' को 'sd vt de' के रूप में कूटबद्ध किया जाता है और 'area kit care' को 'vt fu pv' के रूप में कूटबद्ध किया जाता है। दी गई भाषा में 'area' को कैसे कूटबद्ध किया जाएगा?

- Ans
- 1. de
  - 2. fu
  - 3. sd
  - 4. vt

Question Type : MCQ

Question ID : 630680824877

Option 1 ID : 6306803231081

Option 2 ID : 6306803231082

Option 3 ID : 6306803231080

Option 4 ID : 6306803231079

Status : Answered

Chosen Option : 4

Q.17 अंग्रेजी वर्णानुक्रम के आधार पर, ADKR किसी प्रकार से CBMP से संबंधित है। GXQL उसी प्रकार से IVSJ से संबंधित है। उसी तर्क का अनुसरण करते हुए, OPYD, निम्नलिखित में से किससे संबंधित है?

- Ans
- 1. QNAB
  - 2. BANQ
  - 3. QBAN
  - 4. QANB

Question Type : MCQ

Question ID : 630680435153

Option 1 ID : 6306801698526

Option 2 ID : 6306801698529

Option 3 ID : 6306801698528

Option 4 ID : 6306801698527

Status : Answered

Chosen Option : 1

Q.18 अंग्रेजी वर्णमाला क्रम के आधार पर दी गई श्रृंखला में प्रश्न-चिह्न (?) के स्थान पर क्या आएगा?

DKO, GJL, JII, MHF, ?

- Ans
- 1. PGC
  - 2. QGB
  - 3. PGB
  - 4. QGC

Question Type : MCQ

Question ID : 630680459279

Option 1 ID : 6306801793971

Option 2 ID : 6306801793970

Option 3 ID : 6306801793972

Option 4 ID : 6306801793969

Status : Answered

Chosen Option : 1

Q.19 दिए गए विकल्पों में से उस आकृति को चुनिए जो निम्नलिखित श्रृंखला में प्रश्न चिह्न (?) के स्थान पर आ सकती है और पैटर्न को पूरा कर सकती है।

5	F	=	=	3	D	O	5	=	=	F	3	
	D			5			3			O		?
O		3	F		O	D		F	5		D	

Ans

✗ 1.

O	=	F
		3
D		5

✗ 2.

5	O	=
	F	
D		3

✗ 3.

3	=	F
		D
O		5

✓ 4.

D	O	=
	F	
3		5

Question Type : MCQ

Question ID : 630680441068

Option 1 ID : 6306801721928

Option 2 ID : 6306801721926

Option 3 ID : 6306801721927

Option 4 ID : 6306801721929

Status : Answered

Chosen Option : 1

Q.20 एक निश्चित कूट भाषा में, 'shivam will eat mango' को 'mu tu gu lu' लिखा जाता है और 'gyan may like mango' को 'ku gu nu yu' लिखा जाता है। उसी कूट भाषा में 'mango' को कैसे लिखा जाएगा?

- Ans
- 1. nu
  - 2. gu
  - 3. ku
  - 4. tu

Question Type : MCQ

Question ID : 630680439033

Option 1 ID : 6306801713946

Option 2 ID : 6306801713944

Option 3 ID : 6306801713945

Option 4 ID : 6306801713947

Status : Answered

Chosen Option : 2

Section : General Awareness

Q.1 निम्नलिखित में से कौन-सा भारत में सार्वजनिक क्षेत्र का एक उद्योग है?

- Ans
- 1. टाटा आयरन एंड स्टील कंपनी (TISCO)
  - 2. स्टील अथॉरिटी ऑफ इंडिया लिमिटेड (SAIL)
  - 3. बजाज
  - 4. हिंदुस्तान यूनिटीवर लिमिटेड

Question Type : MCQ

Question ID : 630680481890

Option 1 ID : 6306801882044

Option 2 ID : 6306801882045

Option 3 ID : 6306801882046

Option 4 ID : 6306801882047

Status : Answered

Chosen Option : 3

Q.2 कोशिकीय घटकों तथा अणुओं के भंगन (breaking down) और पुनःचक्रण (recycling) के लिए कौन-सी कोशिकीय संरचना उत्तरदायी होती है?

- Ans
- 1. न्यूक्लियस (Nucleus)
  - 2. माइटोकॉन्ड्रियन (Mitochondrion)
  - 3. लाइसोसोम (Lysosome)
  - 4. राइबोसोम (Ribosome)

Question Type : MCQ

Question ID : 630680540542

Option 1 ID : 6306802113244

Option 2 ID : 6306802113246

Option 3 ID : 6306802113243

Option 4 ID : 6306802113245

Status : Answered

Chosen Option : 4

Q.3 ब्रिटिश शासन के तहत, फोर्ट विलियम कॉलेज (The College of Fort William) \_\_\_\_\_ में स्थापित किया गया था।

Ans  1. कलकत्ता

2. बंबई

3. दिल्ली

4. मद्रास

Question Type : MCQ

Question ID : 630680305919

Option 1 ID : 6306801190030

Option 2 ID : 6306801190031

Option 3 ID : 6306801190029

Option 4 ID : 6306801190032

Status : Answered

Chosen Option : 1

Q.4 रासायनिक सूत्र  $C_2H_6$  वाला अणु एक \_\_\_\_\_ अणु है।

Ans  1. ब्यूटेन (butane)

2. एथेन (ethane)

3. प्रोपेन (propane)

4. मीथेन (methane)

Question Type : MCQ

Question ID : 630680184311

Option 1 ID : 630680714253

Option 2 ID : 630680714256

Option 3 ID : 630680714254

Option 4 ID : 630680714255

Status : Answered

Chosen Option : 4

Q.5 XXII राष्ट्रमंडल खेल (XXII Commonwealth Games) 2022 की मेजबानी किस शहर ने की?

Ans  1. बर्मिंघम

2. ग्लासगो

3. गोल्ड कोस्ट

4. दिल्ली

Question Type : MCQ

Question ID : 63068053606

Option 1 ID : 630680206486

Option 2 ID : 630680206488

Option 3 ID : 630680206487

Option 4 ID : 630680206489

Status : Answered

Chosen Option : 1

Q.6 भारत की जनगणना-2011 के अनुसार, निम्नलिखित में से कौन-सा/कौन-से कथन सही है/हैं?  
(a) सात वर्ष या उससे अधिक उम्र का व्यक्ति, जो किसी भी भाषा को समझने के साथ पढ़ और लिख सकता है, साक्षर माना जाता है।  
(b) एक व्यक्ति जो केवल पढ़ सकता है, लेकिन लिख नहीं सकता, वह साक्षर नहीं है।

- Ans
- 1. केवल (a) सही है
  - 2. न तो (a) और न ही (b) सही है
  - 3. केवल (b) सही है
  - 4. (a) और (b) दोनों सही हैं

Question Type : MCQ  
Question ID : 630680511252  
Option 1 ID : 6306801998138  
Option 2 ID : 6306801998141  
Option 3 ID : 6306801998139  
Option 4 ID : 6306801998140  
Status : Answered  
Chosen Option : 2

Q.7 प्रसिद्ध किला-ए-कुहना (पुराने किले की मस्जिद) का निर्माण किसके द्वारा करवाया गया था?

- Ans
- 1. शेरशाह
  - 2. हुमायूं
  - 3. अलाउद्दीन खिलजी
  - 4. अकबर

Question Type : MCQ  
Question ID : 630680567212  
Option 1 ID : 6306802217836  
Option 2 ID : 6306802217835  
Option 3 ID : 6306802217834  
Option 4 ID : 6306802217833  
Status : Answered  
Chosen Option : 3

Q.8 निम्नलिखित में से स्वतंत्र भारत के पहले कानून और न्याय मंत्री कौन थे?

- Ans
- 1. राजकुमारी अमृत कौर
  - 2. बी. आर. अंबेडकर
  - 3. जगजीवन राम
  - 4. जॉन मथाई

Question Type : MCQ  
Question ID : 630680303398  
Option 1 ID : 6306801180244  
Option 2 ID : 6306801180243  
Option 3 ID : 6306801180242  
Option 4 ID : 6306801180245  
Status : Answered  
Chosen Option : 2

Q.9 टेनिस में, 'लव (love)' स्कोर क्या है?

- Ans
- 1. वह स्कोर जब कोई खिलाड़ी खेल में पहला पाइंट जीतता है
  - 2. वह स्कोर जब किसी खिलाड़ी के पाइंट शून्य होते हैं
  - 3. वह स्कोर जब खेल टाई होता है
  - 4. किसी खेल में उच्चतम संभव स्कोर

Question Type : MCQ

Question ID : 630680466213

Option 1 ID : 6306801820878

Option 2 ID : 6306801820876

Option 3 ID : 6306801820875

Option 4 ID : 6306801820877

Status : Answered

Chosen Option : 3

Q.10 मई 2023 में, प्रधानमंत्री नरेंद्र मोदी को पापुआ न्यू गिनी (Papua New Guinea) और \_\_\_\_\_, प्रशांत द्वीप देशों द्वारा सर्वोच्च सम्मान से सम्मानित किया गया है।

- Ans
- 1. तुवालू (Tuvalu)
  - 2. किरिबाती (Kiribati)
  - 3. नाउरू (Nauru)
  - 4. फ़िजी (Fiji)

Question Type : MCQ

Question ID : 630680468928

Option 1 ID : 6306801831481

Option 2 ID : 6306801831480

Option 3 ID : 6306801831482

Option 4 ID : 6306801831479

Status : Answered

Chosen Option : 4

Q.11 निम्नलिखित में से किस महीने में नागालैंड में सुमी जनजाति (Sumi tribe) द्वारा तुलुनी महोत्सव (Tuluni festival) मनाया जाता है?

- Ans
- 1. मई
  - 2. अगस्त
  - 3. जुलाई
  - 4. जून

Question Type : MCQ

Question ID : 630680403351

Option 1 ID : 6306801572914

Option 2 ID : 6306801572917

Option 3 ID : 6306801572916

Option 4 ID : 6306801572915

Status : Not Answered

Chosen Option : --

Q.12 पृथ्वी की निफे (Nife) परत \_\_\_\_\_ में स्थित होती है।

- Ans
- 1. स्थलमंडल (Lithosphere)
  - 2. मैटल (Mantle)
  - 3. भूपर्पटी (Crust)
  - 4. क्रोड (Core)

Question Type : MCQ

Question ID : 630680455671

Option 1 ID : 6306801779636

Option 2 ID : 6306801779634

Option 3 ID : 6306801779635

Option 4 ID : 6306801779633

Status : Answered

Chosen Option : 4

Q.13 17वीं सदी के प्रारंभिक वर्षों में उत्तरी भारत में फैली निम्नलिखित में से किस फसल का उल्लेख आइन-ए-अकबरी में उत्तरी भारत की फसलों की सूची में नहीं किया गया था?

- Ans
- 1. ज्वार
  - 2. तंबाकू
  - 3. अरहर
  - 4. गेहूँ

Question Type : MCQ

Question ID : 630680282927

Option 1 ID : 6306801099842

Option 2 ID : 6306801099840

Option 3 ID : 6306801099841

Option 4 ID : 6306801099839

Status : Not Answered

Chosen Option : --

Q.14 निम्नलिखित में से किस राज्य ने मार्च 2023 में मुख्यमंत्री वृक्ष सम्पदा योजना शुरू की?

- Ans
- 1. छत्तीसगढ़
  - 2. मध्य प्रदेश
  - 3. पंजाब
  - 4. कर्नाटक

Question Type : MCQ

Question ID : 630680465531

Option 1 ID : 6306801818161

Option 2 ID : 6306801818162

Option 3 ID : 6306801818160

Option 4 ID : 6306801818159

Status : Answered

Chosen Option : 2

Q.15 निम्नलिखित में से किस अनुच्छेद में राज्य विधानमंडल (state legislature) में विनियोग विधेयक का उल्लेख है?

- Ans
- 1. अनुच्छेद 216
  - 2. अनुच्छेद 213
  - 3. अनुच्छेद 204
  - 4. अनुच्छेद 209

Question Type : **MCQ**  
Question ID : **630680522054**  
Option 1 ID : **6306802040547**  
Option 2 ID : **6306802040546**  
Option 3 ID : **6306802040544**  
Option 4 ID : **6306802040545**  
Status : **Answered**  
Chosen Option : **3**

Q.16 ओडिसी शास्त्रीय नृत्य शैली को पुनर्जीवित करने के लिए पद्म विभूषण 2000 का प्राप्तकर्ता कौन है?

- Ans
- 1. हरि प्रसाद चौरसिया
  - 2. पंडित जसराज
  - 3. टी. बालासरस्वती
  - 4. केलुचरण महापात्र

Question Type : **MCQ**  
Question ID : **630680512021**  
Option 1 ID : **6306802001054**  
Option 2 ID : **6306802001057**  
Option 3 ID : **6306802001056**  
Option 4 ID : **6306802001055**  
Status : **Not Answered**  
Chosen Option : **--**

Q.17 पंडित रविशंकर को निम्नलिखित में से किस पुरस्कार से चार बार सम्मानित किया गया है?

- Ans
- 1. BRIT पुरस्कार
  - 2. अंतर्राष्ट्रीय शास्त्रीय संगीत पुरस्कार
  - 3. CMA पुरस्कार
  - 4. ग्रैमी पुरस्कार

Question Type : **MCQ**  
Question ID : **630680481914**  
Option 1 ID : **6306801882140**  
Option 2 ID : **6306801882142**  
Option 3 ID : **6306801882143**  
Option 4 ID : **6306801882141**  
Status : **Not Answered**  
Chosen Option : **--**

Q.18 भारतीय खान ब्यूरो (Indian Bureau of Mines - IBM) की स्थापना वर्ष \_\_\_\_\_ में की गई थी।

- Ans
- 1. 1973
  - 2. 1985
  - 3. 1960
  - 4. 1948

Question Type : MCQ

Question ID : 630680510990

Option 1 ID : 6306801997091

Option 2 ID : 6306801997090

Option 3 ID : 6306801997092

Option 4 ID : 6306801997093

Status : Answered

Chosen Option : 3

Q.19 राइबोसोम (Ribosomes) के बारे में निम्नलिखित में से कौन-सा कथन सही है?

कथन A: राइबोसोम में कोई झिल्ली नहीं होती।

कथन B: राइबोसोम में पाचन हाइड्रोलाइटिक एंजाइम (Digestive hydrolytic enzymes) मौजूद होते हैं।

कथन C: इन्हें आत्मघाती थैलियाँ कहा जाता है।

कथन D: राइबोसोम प्रोटीन संश्लेषण में महत्वपूर्ण भूमिका निभाते हैं।

- Ans
- 1. केवल कथन A और B
  - 2. केवल कथन A और C
  - 3. केवल कथन A और D
  - 4. केवल कथन A, B और C

Question Type : MCQ

Question ID : 630680544989

Option 1 ID : 6306802130711

Option 2 ID : 6306802130712

Option 3 ID : 6306802130713

Option 4 ID : 6306802130714

Status : Answered

Chosen Option : 2

Q.20 'गेटिंग ए ग्रिप: ऑन माई बॉडी, माई माइंड, माई सेल्फ (Getting A Grip: On My Body, My Mind, My Self)' निम्नलिखित में से किस टेनिस हस्ती की आत्मकथा है?

- Ans
- 1. अन्ना कोर्निकोवा (Anna Kournikova)
  - 2. मोनिका सेलेस (Monica Seles)
  - 3. मारिया शारापोवा (Maria Sharapova)
  - 4. स्टेफी ग्राफ (Steffi Graf)

Question Type : MCQ

Question ID : 630680512091

Option 1 ID : 6306802001337

Option 2 ID : 6306802001334

Option 3 ID : 6306802001335

Option 4 ID : 6306802001336

Status : Not Answered

Chosen Option : --

Q.21 निम्नलिखित में से प्रथम उपमहाद्वीपीय साम्राज्य कौन सा था?

- Ans  1. मौर्य साम्राज्य  
 2. सातवाहन साम्राज्य  
 3. कुषाण साम्राज्य  
 4. गुप्त साम्राज्य

Question Type : MCQ

Question ID : 63068080438

Option 1 ID : 630680311779

Option 2 ID : 630680311780

Option 3 ID : 630680311777

Option 4 ID : 630680311778

Status : Answered

Chosen Option : 2

Q.22 वर्ष 2016 में प्रधानमंत्री रोजगार प्रोत्साहन योजना (PMRPY) की शुरुआत भारत सरकार के किस मंत्रालय ने की थी?

- Ans  1. श्रम एवं रोजगार मंत्रालय  
 2. आवासन एवं शहरी कार्य मंत्रालय  
 3. वित्त मंत्रालय  
 4. ग्रामीण विकास मंत्रालय

Question Type : MCQ

Question ID : 630680477675

Option 1 ID : 6306801865848

Option 2 ID : 6306801865850

Option 3 ID : 6306801865851

Option 4 ID : 6306801865849

Status : Answered

Chosen Option : 1

Q.23 प्रसिद्ध लोक नृत्य, 'यक्षगान' किस राज्य से संबंधित है?

- Ans  1. केरल  
 2. बिहार  
 3. मणिपुर  
 4. कर्नाटक

Question Type : MCQ

Question ID : 630680570605

Option 1 ID : 6306802231403

Option 2 ID : 6306802231404

Option 3 ID : 6306802231401

Option 4 ID : 6306802231402

Status : Answered

Chosen Option : 3

Q.24 एस. एच. जी. (SHG) के एस. ए. पी. ए. पी. (SAPAP) में सशक्तिकरण मॉडल के तीन घटक क्या हैं?

- Ans
- 1. सामाजिक गतिशीलता, आर्थिक विकास और शिक्षा
  - 2. सामाजिक गतिशीलता, पूंजी निर्माण और क्षमता निर्माण
  - 3. सार्वजनिक संसाधन आवंटन, क्षमता निर्माण और सूक्ष्मवित्त
  - 4. सामूहिक सशक्तिकरण, पूंजी निर्माण और गरीबी उन्मूलन

Question Type : MCQ

Question ID : 630680798964

Option 1 ID : 6306803130654

Option 2 ID : 6306803130657

Option 3 ID : 6306803130656

Option 4 ID : 6306803130655

Status : Answered

Chosen Option : 1

Q.25 निम्नलिखित में से कौन-सा मिलान युग्म गलत है?

- Ans
- 1. राष्ट्रपति के कार्य - फ्रांस
  - 2. कानून द्वारा स्थापित प्रक्रिया - जापान
  - 3. समवर्ती सूची - ऑस्ट्रेलिया
  - 4. कानून का शासन - ब्रिटेन

Question Type : MCQ

Question ID : 630680587091

Option 1 ID : 6306802296907

Option 2 ID : 6306802296908

Option 3 ID : 6306802296906

Option 4 ID : 6306802296905

Status : Answered

Chosen Option : 2

Section : English Language and Comprehension

Q.1 Select the option with the correct spelling to replace the underlined word in the given sentence.

Development does not take place in a vaccum.

- Ans
- 1. vacuum
  - 2. vaccim
  - 3. vacuuem
  - 4. vakum

Question Type : MCQ

Question ID : 630680539882

Option 1 ID : 6306802110628

Option 2 ID : 6306802110631

Option 3 ID : 6306802110629

Option 4 ID : 6306802110630

Status : Answered

Chosen Option : 1

**Q.2** Select the option that can be used as a one-word substitute for the given group of words.

The space or room that is at the top of a building or just below the main roof

- Ans
- 1. Dome
  - 2. Ceiling
  - 3. Attic
  - 4. Stairs

Question Type : **MCQ**

Question ID : **630680435205**

Option 1 ID : **6306801698745**

Option 2 ID : **6306801698744**

Option 3 ID : **6306801698743**

Option 4 ID : **6306801698742**

Status : **Answered**

Chosen Option : 1

**Q.3** Select the most appropriate idiom to fill in the blank.

Getting a sudden promotion and increment in my current profile was like \_\_\_\_\_.

- Ans
- 1. a bolt from the blue
  - 2. a fish out of water
  - 3. a ballpark figure
  - 4. a foul play

Question Type : **MCQ**

Question ID : **630680549998**

Option 1 ID : **6306802150252**

Option 2 ID : **6306802150253**

Option 3 ID : **6306802150255**

Option 4 ID : **6306802150254**

Status : **Answered**

Chosen Option : 3

**Q.4** The following sentence has been split into four segments. Identify the segment that contains an error.

Stephan, however, contrived / to put away / his departure / for eighteen months.

- Ans
- 1. his departure
  - 2. to put away
  - 3. Stephan,however,contrived
  - 4. for eighteen months

Question Type : **MCQ**

Question ID : **630680452006**

Option 1 ID : **6306801765101**

Option 2 ID : **6306801765099**

Option 3 ID : **6306801765100**

Option 4 ID : **6306801765098**

Status : **Answered**

Chosen Option : 1

**Q.5** The following sentence has been divided into parts. One of them may contain an error. Select the part that contains the error from the given options. If you don't find any error, mark 'No error' as your answer.

Chetan's room is clean / than Ram's room because / Chetan cleans it more often than Ram.

- Ans  1. than Ram's room because  
 2. Chetan's room is clean  
 3. Chetan cleans it more often than Ram  
 4. No error

Question Type : **MCQ**

Question ID : **630680628174**

Option 1 ID : **6306802458708**

Option 2 ID : **6306802458707**

Option 3 ID : **6306802458709**

Option 4 ID : **6306802458710**

Status : **Answered**

Chosen Option : **3**

**Q.6** Select the most appropriate **ANTONYM** of the given word.

**Amplify**

- Ans  1. Contract  
 2. Defy  
 3. Exert  
 4. Enlarge

Question Type : **MCQ**

Question ID : **630680468749**

Option 1 ID : **6306801830787**

Option 2 ID : **6306801830790**

Option 3 ID : **6306801830789**

Option 4 ID : **6306801830788**

Status : **Answered**

Chosen Option : **2**

**Q.7** Select the grammatically correct sentence from the options given.

- Ans  1. Neither the boy nor a mother could identify a man.  
 2. Neither the boy nor the mother could identify the man.  
 3. Neither a boy nor the mother could identify a man.  
 4. Neither a boy nor a mother could identify the man.

Question Type : **MCQ**

Question ID : **630680105286**

Option 1 ID : **630680409221**

Option 2 ID : **630680409219**

Option 3 ID : **630680409222**

Option 4 ID : **630680409220**

Status : **Answered**

Chosen Option : **2**

**Q.8** Select the most appropriate option that can substitute the underlined segment in the given sentence.

He is the healthy person I have ever met in life.

- Ans
- 1. more healthy
  - 2. healthier
  - 3. healthiest
  - 4. most healthy

Question Type : **MCQ**

Question ID : **630680514599**

Option 1 ID : **6306802011024**

Option 2 ID : **6306802011022**

Option 3 ID : **6306802011021**

Option 4 ID : **6306802011023**

Status : **Answered**

Chosen Option : **3**

**Q.9** Select the most appropriate ANTONYM of the given word.

**Fluctuate**

- Ans
- 1. Steady
  - 2. Wobble
  - 3. Mitigate
  - 4. Descend

Question Type : **MCQ**

Question ID : **630680444381**

Option 1 ID : **6306801734802**

Option 2 ID : **6306801734801**

Option 3 ID : **6306801734800**

Option 4 ID : **6306801734803**

Status : **Answered**

Chosen Option : **4**

**Q.10** Select the most appropriate synonym of the given word.  
**Vague**

- Ans
- 1. Indefinite
  - 2. Distinct
  - 3. Intact
  - 4. Dissimilar

Question Type : **MCQ**

Question ID : **630680422524**

Option 1 ID : **6306801648533**

Option 2 ID : **6306801648532**

Option 3 ID : **6306801648534**

Option 4 ID : **6306801648535**

Status : **Answered**

Chosen Option : **3**

Q.11 Select the most appropriate ANTONYM of the given word.

Expand

- Ans  1. Protect  
 2. Inflate  
 3. Shrink  
 4. Network

Question Type : MCQ

Question ID : 630680540050

Option 1 ID : 6306802111301

Option 2 ID : 6306802111300

Option 3 ID : 6306802111303

Option 4 ID : 6306802111302

Status : Answered

Chosen Option : 2

Q.12 Select the most appropriate option to fill in the blanks.

Our \_\_\_\_\_ has so many magnificent tourist destinations, with unimaginable potential,  
yet to \_\_\_\_\_ fully explored.

- Ans  1. state; been  
 2. national; have  
 3. land; has  
 4. country; be

Question Type : MCQ

Question ID : 630680546892

Option 1 ID : 6306802138140

Option 2 ID : 6306802138137

Option 3 ID : 6306802138139

Option 4 ID : 6306802138138

Status : Answered

Chosen Option : 4

Q.13 Select the most appropriate meaning of the given idiom.

Once in a blue moon

- Ans  1. A regular activity  
 2. A frequent event  
 3. A rare occurrence  
 4. A pleasant surprise

Question Type : MCQ

Question ID : 63068064324

Option 1 ID : 630680248282

Option 2 ID : 630680248284

Option 3 ID : 630680248285

Option 4 ID : 630680248283

Status : Answered

Chosen Option : 3

**Q.14** Select the most appropriate option to fill in the blank.  
I could make out from my son's voice that he was \_\_\_\_\_ as his exam did not go well.

- Ans
- 1. confused
  - 2. abrogated
  - 3. rejected
  - 4. sad

Question Type : **MCQ**  
Question ID : **630680515130**  
Option 1 ID : **6306802013033**  
Option 2 ID : **6306802013036**  
Option 3 ID : **6306802013034**  
Option 4 ID : **6306802013035**  
Status : **Answered**  
Chosen Option : **4**

**Q.15** Select the **INCORRECTLY** spelt word.

- Ans
- 1. Supperannuation
  - 2. Phytoplankton
  - 3. Suppressant
  - 4. Accentuation

Question Type : **MCQ**  
Question ID : **630680547187**  
Option 1 ID : **6306802139307**  
Option 2 ID : **6306802139309**  
Option 3 ID : **6306802139308**  
Option 4 ID : **6306802139310**  
Status : **Answered**  
Chosen Option : **2**

**Q.16** Select the option that correctly rectifies the underlined spelling error.

The worlds you and I belong to are very defferent.

- Ans
- 1. deffirent
  - 2. deferent
  - 3. diferent
  - 4. different

Question Type : **MCQ**  
Question ID : **630680545201**  
Option 1 ID : **6306802131552**  
Option 2 ID : **6306802131553**  
Option 3 ID : **6306802131554**  
Option 4 ID : **6306802131551**  
Status : **Answered**  
Chosen Option : **4**

**Q.17** The following sentence has been divided into parts. One of them may contain an error. Select the part that contains the error from the given options. If you don't find any error, mark 'No error' as your answer.  
Her decision, / given the complex circumstances, / was too impulsively made.

Ans  1. was too impulsively made.

2. No error

3. given the complex circumstances,

4. Her decision,

Question Type : **MCQ**

Question ID : **6306801046639**

Option 1 ID : **6306804108683**

Option 2 ID : **6306804108684**

Option 3 ID : **6306804108682**

Option 4 ID : **6306804108681**

Status : **Not Answered**

Chosen Option : --

**Q.18** Select the most appropriate **ANTONYM** of the given word.  
**Extensive**

Ans  1. Expensive

2. Abstract

3. Concrete

4. Limited

Question Type : **MCQ**

Question ID : **630680557192**

Option 1 ID : **6306802177749**

Option 2 ID : **6306802177747**

Option 3 ID : **6306802177748**

Option 4 ID : **6306802177750**

Status : **Answered**

Chosen Option : 2

**Q.19** Select the most appropriate option that can substitute the underlined segment in the given sentence.

**We can observed from the poll that the award is likely to go to the horror movie director this year.**

Ans  1. have been observing of

2. had observe from

3. can observe from

4. are observing of

Question Type : **MCQ**

Question ID : **630680539826**

Option 1 ID : **6306802110409**

Option 2 ID : **6306802110411**

Option 3 ID : **6306802110410**

Option 4 ID : **6306802110408**

Status : **Answered**

Chosen Option : 4

**Q.20** The following sentence has been split into four segments. Identify the segment that contains a grammatical error.

You know that I am fond of reading / and also that all books are my favourite / but you don't know that this is one of / my favourite book.

- Ans
- 1. and also that all books are my favourite
  - 2. You know that I am fond of reading
  - 3. but you don't know that this is one of
  - 4. my favourite book.

Question Type : **MCQ**

Question ID : **630680630154**

Option 1 ID : **6306802466589**

Option 2 ID : **6306802466588**

Option 3 ID : **6306802466590**

Option 4 ID : **6306802466591**

Status : **Answered**

Chosen Option : **3**

**Comprehension:**

In the following passage, some words have been deleted. Read the passage carefully and select the most appropriate option to fill in each blank.

She went on a quest for ancient things \_\_\_(1)\_\_\_ could have a soul of their own, something \_\_\_(2)\_\_\_ Aladdin's lamp that was home to a genie. She searched flea markets, met with art dealers and even went to excavation sites. She \_\_\_(3)\_\_\_ searching for something that would have seen some ancient history when an \_\_\_(4)\_\_\_, \_\_\_(5)\_\_\_, \_\_\_(6)\_\_\_ apothecary table caught her attention. It was perhaps owned by a \_\_\_(7)\_\_\_, \_\_\_(8)\_\_\_, \_\_\_(9)\_\_\_ woman who was a wise medic but was deemed a witch.

**SubQuestion No : 21**

**Q.21** Select the most appropriate option to fill in blank number 1.

- Ans
- 1. which
  - 2. whose
  - 3. that
  - 4. who

Question Type : **MCQ**

Question ID : **630680452084**

Option 1 ID : **6306801765419**

Option 2 ID : **6306801765421**

Option 3 ID : **6306801765418**

Option 4 ID : **6306801765420**

Status : **Answered**

Chosen Option : **3**

**Comprehension:**

In the following passage, some words have been deleted. Read the passage carefully and select the most appropriate option to fill in each blank.

She went on a quest for ancient things \_\_\_(1)\_\_\_ could have a soul of their own, something \_\_\_(2)\_\_\_ Aladdin's lamp that was home to a genie. She searched flea markets, met with art dealers and even went to excavation sites. She \_\_\_(3)\_\_\_ searching for something that would have seen some ancient history when an \_\_\_(4)\_\_\_, \_\_\_(5)\_\_\_, \_\_\_(6)\_\_\_ apothecary table caught her attention. It was perhaps owned by a \_\_\_(7)\_\_\_, \_\_\_(8)\_\_\_, \_\_\_(9)\_\_\_ woman who was a wise medic but was deemed a witch.

**SubQuestion No : 22**

**Q.22 Select the most appropriate option to fill in blank number 2.**

- Ans  1. upstairs  
 2. of  
 3. like  
 4. by

Question Type : **MCQ**

Question ID : **630680452085**

Option 1 ID : **6306801765422**

Option 2 ID : **6306801765423**

Option 3 ID : **6306801765424**

Option 4 ID : **6306801765425**

Status : **Answered**

Chosen Option : **3**

**Comprehension:**

In the following passage, some words have been deleted. Read the passage carefully and select the most appropriate option to fill in each blank.

She went on a quest for ancient things \_\_\_(1)\_\_\_ could have a soul of their own, something \_\_\_(2)\_\_\_ Aladdin's lamp that was home to a genie. She searched flea markets, met with art dealers and even went to excavation sites. She \_\_\_(3)\_\_\_ searching for something that would have seen some ancient history when an \_\_\_(4)\_\_\_, \_\_\_(5)\_\_\_, \_\_\_(6)\_\_\_ apothecary table caught her attention. It was perhaps owned by a \_\_\_(7)\_\_\_, \_\_\_(8)\_\_\_, \_\_\_(9)\_\_\_ woman who was a wise medic but was deemed a witch.

**SubQuestion No : 23**

**Q.23 Select the most appropriate option to fill in blank number 3.**

- Ans  1. has been  
 2. were  
 3. was  
 4. is

Question Type : **MCQ**

Question ID : **630680452086**

Option 1 ID : **6306801765429**

Option 2 ID : **6306801765428**

Option 3 ID : **6306801765427**

Option 4 ID : **6306801765426**

Status : **Answered**

Chosen Option : **3**

**Comprehension:**

In the following passage, some words have been deleted. Read the passage carefully and select the most appropriate option to fill in each blank.

She went on a quest for ancient things \_\_\_(1)\_\_\_ could have a soul of their own, something \_\_\_(2)\_\_\_ Aladdin's lamp that was home to a genie. She searched flea markets, met with art dealers and even went to excavation sites. She \_\_\_(3)\_\_\_ searching for something that would have seen some ancient history when an \_\_\_(4)\_\_\_, \_\_\_(5)\_\_\_, \_\_\_(6)\_\_\_ apothecary table caught her attention. It was perhaps owned by a \_\_\_(7)\_\_\_, \_\_\_(8)\_\_\_, \_\_\_(9)\_\_\_ woman who was a wise medic but was deemed a witch.

**SubQuestion No : 24**

**Q.24** Select the most appropriate option to fill in blanks numbered 4, 5 and 6 respectively.

- Ans  1. antique; heavy; chestnut brown  
 2. chestnut brown; antique; heavy  
 3. antique; chestnut brown; heavy  
 4. heavy; antique; chestnut brown

Question Type : **MCQ**

Question ID : **630680452087**

Option 1 ID : **6306801765430**

Option 2 ID : **6306801765432**

Option 3 ID : **6306801765433**

Option 4 ID : **6306801765431**

Status : **Not Answered**

Chosen Option : --

**Comprehension:**

In the following passage, some words have been deleted. Read the passage carefully and select the most appropriate option to fill in each blank.

She went on a quest for ancient things \_\_\_(1)\_\_\_ could have a soul of their own, something \_\_\_(2)\_\_\_ Aladdin's lamp that was home to a genie. She searched flea markets, met with art dealers and even went to excavation sites. She \_\_\_(3)\_\_\_ searching for something that would have seen some ancient history when an \_\_\_(4)\_\_\_, \_\_\_(5)\_\_\_, \_\_\_(6)\_\_\_ apothecary table caught her attention. It was perhaps owned by a \_\_\_(7)\_\_\_, \_\_\_(8)\_\_\_, \_\_\_(9)\_\_\_ woman who was a wise medic but was deemed a witch.

**SubQuestion No : 25**

**Q.25** Select the most appropriate option to fill in blanks numbered 7, 8 and 9 respectively.

- Ans  1. old; small; hunch-backed  
 2. small; old; hunch-backed  
 3. small; hunch-backed; old  
 4. hunch-backed; old; small

Question Type : **MCQ**

Question ID : **630680452088**

Option 1 ID : **6306801765437**

Option 2 ID : **6306801765436**

Option 3 ID : **6306801765434**

Option 4 ID : **6306801765435**

Status : **Answered**

Chosen Option : **4**