

Multi Tasking Non Technical Staff and Havaladar CBIC and CBN Examination 2024

Roll Number	
Candidate Name	
Venue Name	Akashdeep PG Girls College
Exam Date	16/10/2024
Exam Time	12:30 PM - 2:30 PM
Subject	MTS Non Tech Havaladar CBIC and CBN Examination 2024

Section : Numerical and Mathematical Ability

Q.1 एक व्यक्ति ने एक वस्तु को ₹500 में खरीदा और ₹600 में बेच दिया। उसका लाभ प्रतिशत ज्ञात कीजिए।

Ans 1. 20%

2. 10%

3. 40%

4. 30%

Question Type : MCQ

Question ID : 630680107384

Option 1 ID : 630680416901

Option 2 ID : 630680416902

Option 3 ID : 630680416903

Option 4 ID : 630680416900

Status : Answered

Chosen Option : 1

Q.2 $\frac{374}{418}$ को न्यूनतम पद में समानयन कीजिए।

Ans 1. $\frac{17}{19}$

2. $\frac{11}{13}$

3. $\frac{12}{13}$

4. $\frac{11}{19}$

Question Type : MCQ

Question ID : 630680108463

Option 1 ID : 630680420818

Option 2 ID : 630680420816

Option 3 ID : 630680420817

Option 4 ID : 630680420819

Status : Not Answered

Chosen Option : --

Q.3 40% की छूट तथा 36% और 4% की दो क्रमिक छूटों की दो योजनाओं के तहत ₹22,500 के बिल पर छूटों के बीच का अंतर ज्ञात कीजिए।

- Ans
- 1. ₹342
 - 2. ₹356
 - 3. ₹324
 - 4. ₹365

Question Type : MCQ

Question ID : 630680426329

Option 1 ID : 6306801663415

Option 2 ID : 6306801663416

Option 3 ID : 6306801663414

Option 4 ID : 6306801663417

Status : Not Answered

Chosen Option : --

Q.4 एक कार चालक कुल 120 km की दूरी तय करता है। वह पहले 80 km की दूरी 50 km/h की एकसमान चाल से और अगले 40 km की दूरी 40 km/h की एकसमान चाल से तय करता है। कार की औसत चाल कितनी होगी?

- Ans
- 1. $46 \frac{2}{13}$ km/h
 - 2. $46 \frac{5}{13}$ km/h
 - 3. $46 \frac{1}{13}$ km/h
 - 4. $46 \frac{3}{13}$ km/h

Question Type : MCQ

Question ID : 630680136634

Option 1 ID : 630680529151

Option 2 ID : 630680529150

Option 3 ID : 630680529152

Option 4 ID : 630680529153

Status : Not Answered

Chosen Option : --

Q.5 दो कक्षाओं ने एक समान परीक्षा दी। 20 छात्रों की एक कक्षा को 85% औसत अंक प्राप्त हुए, 30 छात्रों की दूसरी कक्षा को 70% औसत अंक प्राप्त हुए। दोनों कक्षाओं के सभी छात्रों के औसत अंक ज्ञात करें।

Ans 1. 76%

2. 75%

3. 74%

4. 72%

Question Type : MCQ

Question ID : 630680467773

Option 1 ID : 6306801826995

Option 2 ID : 6306801826994

Option 3 ID : 6306801826996

Option 4 ID : 6306801826997

Status : Answered

Chosen Option : 1

Q.6 A और B, एक ही दिशा में क्रमशः 9 km/h और 3 km/h की चाल से 27 km लंबे एक वृत्ताकार ट्रैक पर दौड़ रहे हैं। वे _____ बाद दोबारा मिलेंगे?

Ans 1. 4 घंटे

2. 3.5 घंटे

3. 4.5 घंटे

4. 3 घंटे

Question Type : MCQ

Question ID : 63068071041

Option 1 ID : 630680274776

Option 2 ID : 630680274775

Option 3 ID : 630680274777

Option 4 ID : 630680274774

Status : Answered

Chosen Option : 4

Q.7 एक दुकानदार को ₹80/kg और ₹100/kg मूल्य वाले 2 प्रकार के चावल को किस अनुपात में मिलाना चाहिए, ताकि मिश्रण का औसत मूल्य ₹95/kg हो?

Ans 1. 1 : 3

2. 2 : 3

3. 1 : 2

4. 1 : 4

Question Type : MCQ

Question ID : 630680455378

Option 1 ID : 6306801778426

Option 2 ID : 6306801778427

Option 3 ID : 6306801778428

Option 4 ID : 6306801778429

Status : Not Answered

Chosen Option : --

Q.8 12 cm त्रिज्या और 38 cm ऊंचाई वाले एक बेलन को आधार के समानांतर काटकर अलग-अलग साइज़ के दो टुकड़े बनाए जाते हैं। निर्मित बड़े टुकड़े का संपूर्ण पृष्ठीय क्षेत्रफल, दिए गए बेलन के संपूर्ण पृष्ठीय क्षेत्रफल का 60% है। छोटे टुकड़े को पिघलाकर गोला बनाने के लिए उपयोग किया जाता है। गोले की त्रिज्या (cm में) ज्ञात कीजिए।

Ans 1. $10 \times \sqrt[3]{5}$

2. $6 \times \sqrt[3]{10}$

3. $5 \times \sqrt[3]{10}$

4. $10 \times \sqrt[3]{6}$

Question Type : MCQ

Question ID : 630680379696

Option 1 ID : 6306801479830

Option 2 ID : 6306801479827

Option 3 ID : 6306801479828

Option 4 ID : 6306801479829

Status : Not Answered

Chosen Option : --

Q.9 अनिरुद्ध, किसी कंपनी के शेयरों में ₹15,000 का निवेश करता है। एक दिन शेयर में 15% की वृद्धि होती है और दूसरे दिन 10% की गिरावट होती है। अनिरुद्ध के निवेश का वर्तमान मूल्य (₹ में) कितना है?

Ans 1. 15750

2. 15525

3. 15500

4. 15450

Question Type : MCQ

Question ID : 630680815838

Option 1 ID : 6306803196685

Option 2 ID : 6306803196686

Option 3 ID : 6306803196687

Option 4 ID : 6306803196688

Status : Answered

Chosen Option : 2

Q.10 ₹940 पर 3 वर्ष के लिए 5% वार्षिक दर से साधारण ब्याज (₹ में) ज्ञात कीजिए।

Ans 1. ₹143

2. ₹140

3. ₹141

4. ₹142

Question Type : MCQ

Question ID : 630680397289

Option 1 ID : 6306801549214

Option 2 ID : 6306801549212

Option 3 ID : 6306801549215

Option 4 ID : 6306801549213

Status : Answered

Chosen Option : 3

Q.11 दो शंकुओं के वक्र पृष्ठीय क्षेत्रफलों का अनुपात ज्ञात कीजिए, यदि उनके आधारों के व्यास समान हैं और उनकी तिर्यक ऊंचाइयों का अनुपात 5 : 3 है।

- Ans
- 1. 3 : 2
 - 2. 2 : 3
 - 3. 7 : 5
 - 4. 5 : 3

Question Type : MCQ

Question ID : 630680105275

Option 1 ID : 630680409176

Option 2 ID : 630680409177

Option 3 ID : 630680409178

Option 4 ID : 630680409175

Status : Not Answered

Chosen Option : --

Q.12 2 वर्षों के लिए 5% वार्षिक की ब्याज दर पर उधार ली गई राशि ₹3500 पर साधारण ब्याज (₹ में) ज्ञात कीजिए।

- Ans
- 1. 390
 - 2. 290
 - 3. 350
 - 4. 310

Question Type : MCQ

Question ID : 630680591968

Option 1 ID : 6306802316340

Option 2 ID : 6306802316341

Option 3 ID : 6306802316339

Option 4 ID : 6306802316342

Status : Answered

Chosen Option : 3

Q.13 260 लोगों के एक समूह में एक-चौथाई महिलाएँ, $\frac{2}{5}$ (two-fifth) पुरुष और शेष बच्चे हैं। महिलाओं की औसत आयु पुरुषों की औसत आयु का $\frac{5}{6}$ (five-sixth) है, बच्चों की औसत आयु पुरुषों की औसत आयु की एक-तिहाई है। यदि पुरुषों की औसत आयु 48 वर्ष है, तो समूह की औसत आयु वर्ष में ज्ञात करें।

- Ans
- 1. 38.4
 - 2. 32.7
 - 3. 34.8
 - 4. 42.7

Question Type : MCQ

Question ID : 630680459192

Option 1 ID : 6306801793623

Option 2 ID : 6306801793621

Option 3 ID : 6306801793622

Option 4 ID : 6306801793624

Status : Not Answered

Chosen Option : --

Q.14 पाँच विद्यालयों की वार्षिक आय (लाख में)

आय का स्रोत	विद्यालय				
	P	Q	R	S	T
ट्युशन शुल्क	3	6	5	7	6
सेमेस्टर शुल्क	8	4	3	9	2
दान	4	7	4	5	9
अनुदान	1	2	5	1	5
विविध	5	8	9	10	3
कुल	21	27	26	32	25

विद्यालय R के लिए, विविध से होने वाली आय, दान से होने वाली आय (% में) का कितना प्रतिशत है?

- Ans
- 1. 75
 - 2. 250
 - 3. 225
 - 4. 125

Question Type : MCQ

Question ID : 630680523815

Option 1 ID : 6306802047411

Option 2 ID : 6306802047412

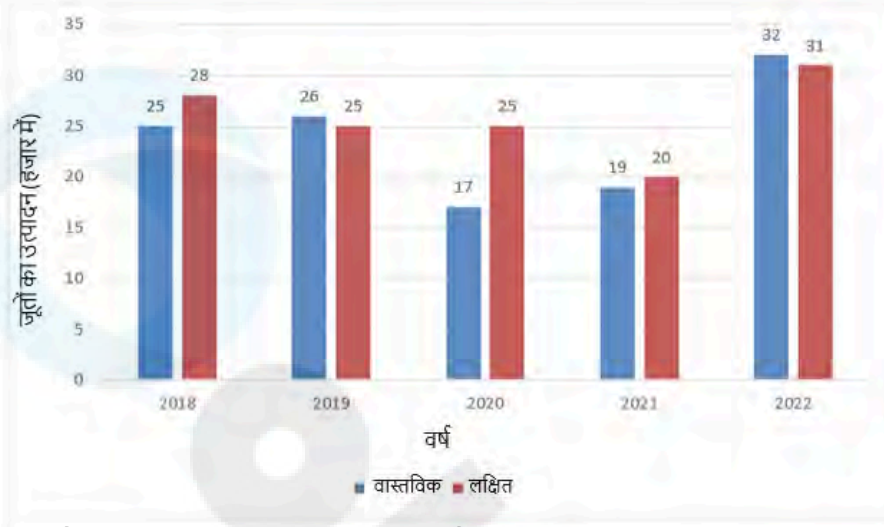
Option 3 ID : 6306802047414

Option 4 ID : 6306802047413

Status : Answered

Chosen Option : 1

Q.15 पिछले पांच वर्षों के दौरान एक कंपनी के जूतों का वास्तविक और लक्षित उत्पादन (हजार में) निम्नलिखित दंड आलेख में दिए गए हैं। दंड आलेख का ध्यानपूर्वक अध्ययन कीजिए और निम्नलिखित प्रश्न का उत्तर दीजिए:



2020 और 2021 में कुल वास्तविक उत्पादन, 2021 और 2022 में कुल लक्षित उत्पादन का कितने प्रतिशत (दो दशमलव स्थान तक पूर्णांकित) है?

- Ans
- 1. 67.59%
 - 2. 77.67%
 - 3. 80.95%
 - 4. 70.59%

Question Type : MCQ

Question ID : 630680444309

Option 1 ID : 6306801734515

Option 2 ID : 6306801734517

Option 3 ID : 6306801734518

Option 4 ID : 6306801734516

Status : Not Answered

Chosen Option : --

Q.16 यदि $12 : x :: x : 27$ और $25 : y :: y : 36$ है, जहाँ x और y दोनों धनात्मक संख्याएँ हैं, तो $x : y$ ज्ञात कीजिए।

- Ans
- 1. 4 : 7
 - 2. 5 : 6
 - 3. 7 : 9
 - 4. 3 : 5

Question Type : MCQ

Question ID : 630680239515

Option 1 ID : 630680929013

Option 2 ID : 630680929011

Option 3 ID : 630680929014

Option 4 ID : 630680929012

Status : Answered

Chosen Option : 4

Q.17 4 वर्षों के लिए 6% प्रति वर्ष की ब्याज दर पर उधार ली गई राशि ₹3500 पर साधारण ब्याज (₹ में) ज्ञात कीजिए।

- Ans 1. 880
 2. 800
 3. 840
 4. 780

Question Type : MCQ

Question ID : 630680591975

Option 1 ID : 6306802316368

Option 2 ID : 6306802316370

Option 3 ID : 6306802316367

Option 4 ID : 6306802316369

Status : Answered

Chosen Option : 3

Q.18 12 छात्रों और दो शिक्षकों का औसत वजन 55 kg है। जब समूह में 68 kg वजन वाले एक शिक्षक को शामिल किया जाता है, तो समूह का औसत वजन (kg में) कितना हो जाएगा?

- Ans 1. 56.5
 2. 55
 3. 56
 4. 54.5

Question Type : MCQ

Question ID : 630680121154

Option 1 ID : 630680469581

Option 2 ID : 630680469578

Option 3 ID : 630680469579

Option 4 ID : 630680469580

Status : Answered

Chosen Option : 2

Q.19 एक खोखले बेलनाकार पाइप के बाह्य और आंतरिक व्यास क्रमशः 14 cm और 12 cm हैं। यदि पाइप की ऊँचाई 21 cm है, तो पाइप को बनाने में प्रयुक्त लोहे का आयतन कितना होगा? ($\pi = \frac{22}{7}$ का प्रयोग कीजिए)

- Ans 1. 396 cu.cm
 2. 462 cu.cm
 3. 588 cu.cm
 4. 858 cu.cm

Question Type : MCQ

Question ID : 630680392993

Option 1 ID : 6306801532308

Option 2 ID : 6306801532306

Option 3 ID : 6306801532309

Option 4 ID : 6306801532307

Status : Not Answered

Chosen Option : --

Q.20 यदि 30 पुस्तकों का क्रय मूल्य 20 पुस्तकों के विक्रय मूल्य के बराबर है, तो लाभ प्रतिशत ज्ञात करें।

Ans 1. 50%

2. 25%

3. 40%

4. 15%

Question Type : MCQ

Question ID : 630680109177

Option 1 ID : 630680423523

Option 2 ID : 630680423521

Option 3 ID : 630680423522

Option 4 ID : 630680423520

Status : Answered

Chosen Option : 1

Section : Reasoning Ability and Problem Solving

Q.1 दी गई श्रृंखला में '?' के स्थान पर क्या आना चाहिए?

5040, 6064, 6576, 6832, 6960, ?

Ans 1. 7472

2. 7024

3. 7216

4. 7088

Question Type : MCQ

Question ID : 630680531534

Option 1 ID : 6306802077931

Option 2 ID : 6306802077932

Option 3 ID : 6306802077930

Option 4 ID : 6306802077929

Status : Answered

Chosen Option : 2

Q.2 एक निश्चित कूट भाषा में, 'she is intelligent' को 'le me re' के रूप में लिखा जाता है और 'she is studious' को 're de me' के रूप में लिखा जाता है। इसी कूट भाषा में 'studious' को कैसे लिखा जाएगा?

Ans 1. re

2. de

3. le

4. me

Question Type : MCQ

Question ID : 630680377764

Option 1 ID : 6306801472118

Option 2 ID : 6306801472116

Option 3 ID : 6306801472115

Option 4 ID : 6306801472117

Status : Answered

Chosen Option : 2

Q.3 एक निश्चित कूटभाषा में, 'MONK' को '1238' के रूप में कूटबद्ध किया गया है और 'HONK' को '8326' के रूप में कूटबद्ध किया गया है। उस भाषा में 'H' के लिए कूट क्या है?

Ans 1. 6

2. 2

3. 8

4. 3

Question Type : MCQ

Question ID : 630680828869

Option 1 ID : 6306803246753

Option 2 ID : 6306803246752

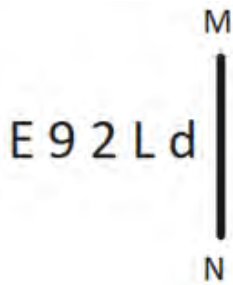
Option 3 ID : 6306803246750

Option 4 ID : 6306803246751

Status : Answered

Chosen Option : 1

Q.4 दी गई आकृति के उस सही दर्पण प्रतिबिंब को चुनिए, जो नीचे दर्शाए गए अनुसार दर्पण को MN पर रखने पर बनेगा।



Ans

1. p 7 2 6 E

2. b 2 L e E

3. p 1 2 e E

4. b 1 2 e E

Question Type : MCQ

Question ID : 630680525276

Option 1 ID : 6306802053191

Option 2 ID : 6306802053190

Option 3 ID : 6306802053188

Option 4 ID : 6306802053189

Status : Answered

Chosen Option : 4

Q.5 RZ31, TB25 से एक निश्चित प्रकार से संबंधित है। उसी प्रकार, JR46, LT40 से संबंधित है। समान तर्क का अनुसरण करते हुए GO18 निम्नलिखित में से किससे संबंधित है?

Ans 1. JP15

2. IQ12

3. IQ15

4. JP12

Question Type : MCQ

Question ID : 630680438834

Option 1 ID : 6306801713151

Option 2 ID : 6306801713150

Option 3 ID : 6306801713148

Option 4 ID : 6306801713149

Status : Answered

Chosen Option : 2

Q.6 यदि '+' और '=' को आपस में बदल दिया जाए तथा '-' और 'x' को आपस में बदल दिया जाए तो निम्नलिखित समीकरण में प्रश्न चिह्न (?) के स्थान पर क्या आएगा?

$$4 - 6 \times 27 \div 72 + 6 = ?$$

Ans 1. 1

2. 6

3. 9

4. 14

Question Type : MCQ

Question ID : 630680378049

Option 1 ID : 6306801473255

Option 2 ID : 6306801473258

Option 3 ID : 6306801473256

Option 4 ID : 6306801473257

Status : Answered

Chosen Option : 3

Q.7 अंग्रेजी वर्णमाला क्रम के आधार पर दी गई श्रृंखला में प्रश्न-चिह्न (?) के स्थान पर क्या आएगा?

PAX, RCV, TET, VGR, ?

Ans 1. XJP

2. XIQ

3. XJQ

4. XIP

Question Type : MCQ

Question ID : 630680459278

Option 1 ID : 6306801793967

Option 2 ID : 6306801793966

Option 3 ID : 6306801793968

Option 4 ID : 6306801793965

Status : Answered

Chosen Option : 4

Q.8 एक निश्चित कूट भाषा में, 'ROSE' को '8546' लिखा जाता है और 'SURE' को '4368' लिखा जाता है। उसी कूट भाषा में 'U' को कैसे लिखा जाएगा?

- Ans**
- 1. 8
 - 2. 5
 - 3. 3
 - 4. 4

Question Type : **MCQ**

Question ID : **630680439108**

Option 1 ID : **6306801714246**

Option 2 ID : **6306801714247**

Option 3 ID : **6306801714244**

Option 4 ID : **6306801714245**

Status : **Answered**

Chosen Option : **3**

Q.9 एक निश्चित तर्क का अनुसरण करते हुए 43, 87 से संबंधित है। उसी तर्क का अनुसरण करते हुए 63, 127 से संबंधित है। उसी तर्क का अनुसरण करते हुए 52, निम्नलिखित में से किससे संबंधित है?

(ध्यान दें: संख्याओं को उनके घटक अंकों में अलग-अलग किए बिना पूर्ण संख्याओं पर संक्रियाएं की जानी चाहिए। उदाहरण के लिए संख्या 13 - संख्या 13 पर संक्रियाएं जैसे 13 को जोड़ना/घटाना/गुणा करना आदि किया जा सकता है। 13 को 1 और 3 में अलग-अलग करने की और फिर 1 और 3 पर गणितीय संक्रियाएं करने की अनुमति नहीं है।)

- Ans**
- 1. 105
 - 2. 108
 - 3. 111
 - 4. 101

Question Type : **MCQ**

Question ID : **630680441690**

Option 1 ID : **6306801724375**

Option 2 ID : **6306801724376**

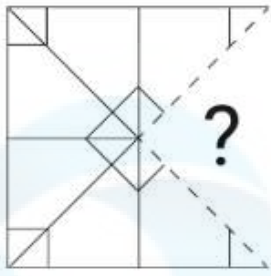
Option 3 ID : **6306801724377**

Option 4 ID : **6306801724374**

Status : **Not Answered**

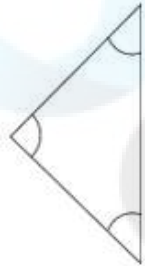
Chosen Option : **--**

Q.10 उस विकल्प आकृति का चयन कीजिए जो पैटर्न को पूरा करने के लिए नीचे दी गई आकृति में प्रश्न चिह्न (?) के स्थान पर आएगी।

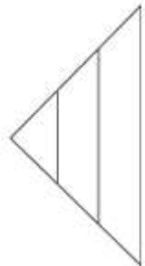


Ans

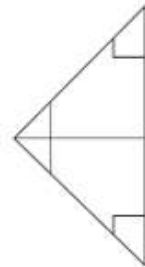
1.



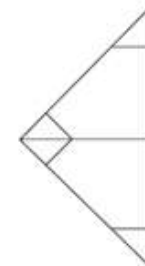
2.



3.



4.



Question Type : MCQ

Question ID : 630680524711

Option 1 ID : 6306802050946

Option 2 ID : 6306802050943

Option 3 ID : 6306802050945

Option 4 ID : 6306802050944

Status : Answered

Chosen Option : 4

Q.11 सात व्यक्ति P, Q, R, S, T, U और V एक वृत्ताकार मेज के चारों ओर केंद्र की ओर मुख करके बैठे हैं (परंतु जरूरी नहीं कि वे इसी क्रम में बैठे हों)। S, V के बाएं से तीसरे स्थान पर बैठा है। T, S के दाएं से दूसरे स्थान पर बैठा है। P, Q के दाएं से चौथे स्थान पर बैठा है। U, P के बाएं से दूसरे स्थान पर बैठा है। T के सापेक्ष में R का स्थान क्या है ?

Ans 1. दाएं से तीसरा

2. बाएं से तीसरा

3. बाएं से दूसरा

4. ठीक बाएं ओर

Question Type : MCQ

Question ID : 630680396952

Option 1 ID : 6306801547872

Option 2 ID : 6306801547874

Option 3 ID : 6306801547875

Option 4 ID : 6306801547873

Status : Answered

Chosen Option : 3

Q.12 इस प्रश्न में दो कथन और उनके बाद दो निष्कर्ष I और II दिए गए हैं। आपको दिए गए कथनों को सत्य मानना है, भले ही वे सर्वज्ञात तथ्यों से भिन्न प्रतीत होते हों। आपको यह तय करना है कि दिए गए निष्कर्षों में से कौन-सा/से निष्कर्ष दिए गए कथनों का तार्किक रूप से अनुसरण करता है/करते हैं।

कथन:

सभी बैग, पर्स हैं।

कोई पर्स, वॉलेट नहीं है।

निष्कर्ष:

(I) कम से कम कुछ वॉलेट, पर्स हैं।

(II) कोई बैग, वॉलेट नहीं है।

Ans 1. केवल निष्कर्ष (II) अनुसरण करता है

2. निष्कर्ष (I) और (II) दोनों अनुसरण करते हैं

3. केवल निष्कर्ष (I) अनुसरण करता है

4. न तो निष्कर्ष (I) और न ही (II) अनुसरण करता है

Question Type : MCQ

Question ID : 630680106427

Option 1 ID : 630680413495

Option 2 ID : 630680413497

Option 3 ID : 630680413494

Option 4 ID : 630680413496

Status : Answered

Chosen Option : 1

Q.13 निम्नलिखित समीकरण में प्रश्न चिह्न (?) के स्थान पर क्या आएगा, यदि ÷' और '+' को आपस में बदल दिया जाए तथा '-' और 'x' को आपस में बदल दिया जाए?

$$17 \div 27 \times 7 - 9 + 3 = ?$$

Ans 1. 34

2. 23

3. 76

4. 122

Question Type : MCQ

Question ID : 630680264629

Option 1 ID : 6306801028021

Option 2 ID : 6306801028019

Option 3 ID : 6306801028022

Option 4 ID : 6306801028020

Status : Answered

Chosen Option : 2

Q.14 दिए गए कथनों और निष्कर्षों को ध्यानपूर्वक पढ़िए। यह मानते हुए कि कथनों में दी गई सूचना सत्य है, भले ही यह सामान्यतः ज्ञात तथ्यों से भिन्न प्रतीत होती हो, तब कीजिए कि दिए गए निष्कर्षों में से कौन-सा/से निष्कर्ष, कथनों का तार्किक रूप से अनुसरण करता/करते है/हैं।

कथन:

सभी चॉकलेट, जूस हैं।

कोई भी जूस, बिस्किट नहीं है।

निष्कर्ष:

(I) कोई भी चॉकलेट, बिस्किट नहीं है।

(II) कोई भी बिस्किट, जूस नहीं है।

Ans 1. न तो निष्कर्ष (I) और न ही निष्कर्ष (II) अनुसरण करता है

2. निष्कर्ष (I) और निष्कर्ष (II), दोनों अनुसरण करते हैं

3. केवल निष्कर्ष (II) अनुसरण करता है

4. केवल निष्कर्ष (I) अनुसरण करता है

Question Type : MCQ

Question ID : 630680411075

Option 1 ID : 6306801603059

Option 2 ID : 6306801603058

Option 3 ID : 6306801603057

Option 4 ID : 6306801603056

Status : Answered

Chosen Option : 2

Q.15 दिए गए विकल्पों में से उस आकृति को चुनिए जो निम्नलिखित श्रृंखला में प्रश्न चिह्न (?) के स्थान पर आ सकती है और पैटर्न को पूरा कर सकती है।

♡	F	↑	7	△	U	B	5
	B		♡		7		△
U		↑	U	B	♡	B	♡
							7
							?

Ans

✗ 1.

7		♡
	5	
△		B

✓ 2.

H		♡
	5	
△		7

✗ 3.

H		♡
	5	
△		B

✗ 4.

H		△
	♡	
5		B

Question Type : MCQ

Question ID : 630680441095

Option 1 ID : 6306801722034

Option 2 ID : 6306801722036

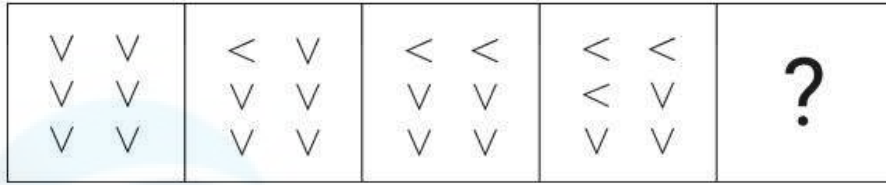
Option 3 ID : 6306801722037

Option 4 ID : 6306801722035

Status : Answered


Chosen Option : 2

Q.16 विकल्पों में दी गई उस आकृति की पहचान कीजिए जिसे (?) के स्थान पर रखने पर श्रृंखला तार्किक रूप से पूर्ण हो जाएगी।




Ans

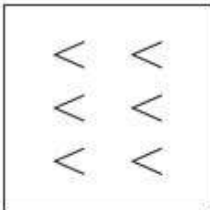
✗ 1.



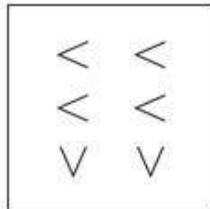
✗ 2.



✗ 3.



✓ 4.



Question Type : MCQ

Question ID : 630680274000

Option 1 ID : 6306801064522

Option 2 ID : 6306801064519

Option 3 ID : 6306801064520

Option 4 ID : 6306801064521

Status : Answered

Chosen Option : 4

Q.17 एक निश्चित कूट भाषा में, 'FOUR' को '3157' के रूप में कूटबद्ध किया जाता है और 'RENT' को '2384' के रूप में कूटबद्ध किया जाता है। दी गई कूट भाषा में 'R' के लिए कूट क्या है?

Ans 1. 7

2. 4

3. 3

4. 2

Question Type : MCQ

Question ID : 630680815671

Option 1 ID : 6306803195988

Option 2 ID : 6306803195987

Option 3 ID : 6306803195985

Option 4 ID : 6306803195986

Status : Answered

Chosen Option : 3

Q.18 A, B, C, D, E और F एक वृत्ताकार मेज के चारों ओर केंद्र की ओर मुख करके बैठे हैं (परंतु जरूरी नहीं कि वे इसी क्रम में बैठे हों)। A, B के बाएँ से तीसरे स्थान पर बैठा है। C, F के दाएँ से दूसरे स्थान पर बैठा है। A, C के ठीक बाएँ बैठा है। D, C का निकटतम पड़ोसी नहीं है। E के सापेक्ष में, B का स्थान कौन-सा है?

Ans 1. ठीक दाएँ

2. ठीक बाएँ

3. दाएँ से दूसरा

4. बाएँ से दूसरा

Question Type : MCQ

Question ID : 630680379064

Option 1 ID : 6306801477304

Option 2 ID : 6306801477303

Option 3 ID : 6306801477306

Option 4 ID : 6306801477305

Status : Answered

Chosen Option : 1

Q.19 अंग्रेजी वर्णानुक्रम के आधार पर MHLG एक निश्चित प्रकार से IDHC से संबंधित है। ठीक उसी प्रकार PKOJ, LGKF से संबंधित है। समान तर्क का अनुसरण करते हुए SNRM निम्नलिखित में से किससे संबंधित है?

Ans 1. JOIN

2. OJNI

3. OJIN

4. JONI

Question Type : MCQ

Question ID : 630680435573

Option 1 ID : 6306801700232

Option 2 ID : 6306801700229

Option 3 ID : 6306801700230

Option 4 ID : 6306801700231

Status : Answered

Chosen Option : 2

Q.20 उस समुच्चय का चयन कीजिए जिसमें संख्याएं ठीक उसी प्रकार संबंधित हैं जिस प्रकार दिए गए समुच्चयों की संख्याएं संबंधित हैं।

(ध्यान दें: संख्याओं को उनके घटक अंकों में अलग-अलग किए बिना पूर्ण संख्याओं पर संक्रियाएं की जानी चाहिए। उदाहरण के लिए संख्या 13 - संख्या 13 पर संक्रियाएं जैसे 13 को जोड़ना/घटाना/गुणा करना आदि किया जा सकता है। 13 को 1 और 3 में अलग-अलग करने की और फिर 1 और 3 पर गणितीय संक्रियाएं करने की अनुमति नहीं है।)

(8, 320, 4)
(1, 70, 7)

- Ans 1. (2, 110, 5)
 2. (2, 40, 2)
 3. (3, 10, 7)
 4. (3, 22, 5)

Question Type : MCQ

Question ID : 630680379470

Option 1 ID : 6306801478923

Option 2 ID : 6306801478925

Option 3 ID : 6306801478924

Option 4 ID : 6306801478926

Status : Not Answered

Chosen Option : --

Section : General Awareness

Q.1 गलत युग्म की पहचान कीजिए।

- Ans 1. उत्तर पश्चिमी हवा (Nor Westers) - पश्चिम बंगाल
 2. आम्र बौछार (Mango Shower) - केरल
 3. बार्डोईसिला (Bardoisila) - असम
 4. मंजरी वर्षण (Blossom Shower) - आंध्र प्रदेश

Question Type : MCQ

Question ID : 630680511071

Option 1 ID : 6306801997415

Option 2 ID : 6306801997414

Option 3 ID : 6306801997417

Option 4 ID : 6306801997416

Status : Answered

Chosen Option : 1

Q.2 निम्नलिखित शख्सियतों में से किसने कहा है कि, "मुझे जिस चीज पर आपत्ति है, वह है मशीनरी के लिए 'सनक'। यह सनक उस चीज के लिए है जिसे वे श्रम बचाने वाली मशीनरी कहते हैं। लोग तब तक 'श्रम बल बचाने' में लगे हैं जब तक कि हज़ारों लोग बेकार नहीं हो जाते और उन्हें भूख से मरने के लिए खुली सड़कों पर फेंक नहीं दिया जाता।"?

- Ans 1. महात्मा गांधी
 2. पंडित जवाहरलाल नेहरू
 3. स्वामी विवेकानंद
 4. लाल बहादुर शास्त्री

Question Type : MCQ

Question ID : 630680115729

Option 1 ID : 630680448254

Option 2 ID : 630680448255

Option 3 ID : 630680448256

Option 4 ID : 630680448257

Status : Answered

Chosen Option : 1

Q.3 वायु और राष्ट्रीय रक्षा निम्नलिखित में से किन वस्तुओं के उदाहरण हैं?

- Ans 1. निजी वस्तुओं
 2. सार्वजनिक वस्तुओं
 3. क्लब वस्तुओं
 4. सामान्य वस्तुओं

Question Type : MCQ

Question ID : 63068082804

Option 1 ID : 630680321080

Option 2 ID : 630680321082

Option 3 ID : 630680321083

Option 4 ID : 630680321081

Status : Answered

Chosen Option : 2

Q.4 प्रथम आईसीसी महिला T20 क्रिकेट विश्वकप _____ द्वारा आयोजित किया गया था।

- Ans 1. ऑस्ट्रेलिया
 2. भारत
 3. दक्षिण अफ्रीका
 4. इंग्लैंड

Question Type : MCQ

Question ID : 630680309458

Option 1 ID : 6306801203985

Option 2 ID : 6306801203987

Option 3 ID : 6306801203988

Option 4 ID : 6306801203986

Status : Answered

Chosen Option : 1

Q.5 कौन-सा खाद्य पदार्थ, संपूर्ण प्रोटीन (complete protein) का अच्छा स्रोत है?

Ans 1. अंडा

2. चावल

3. पालक

4. मसूर

Question Type : MCQ

Question ID : 630680540488

Option 1 ID : 6306802113032

Option 2 ID : 6306802113033

Option 3 ID : 6306802113034

Option 4 ID : 6306802113031

Status : Answered

Chosen Option : 3

Q.6 शैल या मृदा का वह गुण जो इनमें से तरल पदार्थों के प्रवाहित हो जाने की क्षमता को इंगित करता है, कहलाता है?

Ans 1. स्थायित्व (Stability)

2. सघनता (Density)

3. सुघट्यता (Plasticity)

4. पारगम्यता (Permeability)

Question Type : MCQ

Question ID : 630680403922

Option 1 ID : 6306801575181

Option 2 ID : 6306801575179

Option 3 ID : 6306801575180

Option 4 ID : 6306801575178

Status : Answered

Chosen Option : 1

Q.7 छठ पूजा कितने दिनों तक मनाई जाती है?

Ans 1. दो

2. चार

3. एक

4. पांच

Question Type : MCQ

Question ID : 630680157728

Option 1 ID : 630680610441

Option 2 ID : 630680610440

Option 3 ID : 630680610442

Option 4 ID : 630680610443

Status : Answered

Chosen Option : 4

Q.8 महात्मा गांधी काशी विद्यापीठ की स्थापना शिव प्रसाद गुप्ता और भगवान दास ने वर्ष _____ में की थी।

Ans 1. 1919

2. 1921

3. 1920

4. 1922

Question Type : MCQ

Question ID : 630680275919

Option 1 ID : 6306801072187

Option 2 ID : 6306801072189

Option 3 ID : 6306801072188

Option 4 ID : 6306801072190

Status : Not Answered

Chosen Option : --

Q.9 कोशिकांगों की सूची I को सूची II में उनके कार्यों से सुमेलित कीजिए।

सूची I:

- (a) अंतर्द्रव्यी जालिका
- (b) रिक्तिकाएँ
- (c) गॉल्जी उपकरण
- (d) माइटोकॉन्ड्रिया

सूची II:

- (i) अंतर्द्रव्यी जालिका के निकट संश्लेषित पदार्थों के संवेष्टन (packaging) और उन्हें विभिन्न लक्ष्य स्थानों तक भेजने के लिए।
- (ii) एटीपी (ATP) उत्पन्न करता है।
- (iii) ठोस या तरल पदार्थों के लिए भंडारण थैली है।
- (iv) प्रोटीन के परिवहन के लिए माध्यम के रूप में कार्य करते हैं।

Ans 1. (a) - (iv); (b) - (i); (c) - (ii); (d) - (iii)

2. (a) - (i); (b) - (iv); (c) - (iii); (d) - (ii)

3. (a) - (iv); (b) - (iii); (c) - (i); (d) - (ii)

4. (a) - (iv); (b) - (i); (c) - (iii); (d) - (ii)

Question Type : MCQ

Question ID : 630680631455

Option 1 ID : 6306802471766

Option 2 ID : 6306802471765

Option 3 ID : 6306802471763

Option 4 ID : 6306802471764

Status : Not Answered

Chosen Option : --

Q.10 ए सूटेबल बॉय (A Suitable Boy) उपन्यास के लेखक कौन हैं?

- Ans 1. विक्रम सेठ
 2. महेश राव
 3. नील मुखर्जी
 4. अरविंद अडिगा

Question Type : MCQ

Question ID : 630680409451

Option 1 ID : 6306801596633

Option 2 ID : 6306801596636

Option 3 ID : 6306801596634

Option 4 ID : 6306801596635

Status : Answered

Chosen Option : 1

Q.11 प्रसिद्ध मणिपुरी नृत्यांगना दर्शना झावेरी को निम्नलिखित में से किस वर्ष में पद्मश्री से सम्मानित किया गया?

- Ans 1. 2005
 2. 2001
 3. 2003
 4. 2002

Question Type : MCQ

Question ID : 630680483943

Option 1 ID : 6306801890133

Option 2 ID : 6306801890132

Option 3 ID : 6306801890130

Option 4 ID : 6306801890131

Status : Answered

Chosen Option : 1

Q.12 भारत सरकार की निम्नलिखित में से कौन-सी पहल, उन सभी ग्रामीण परिवारों को 100 दिनों की गारंटीकृत मज़दूरी रोज़गार का वादा करती है, जो स्वेच्छा से अकुशल शारीरिक श्रम करते हैं?

- Ans 1. महात्मा गाँधी राष्ट्रीय ग्रामीण रोज़गार गारंटी योजना
 2. प्रधानमंत्री गरीब कल्याण रोज़गार अभियान
 3. प्रधानमंत्री रोज़गार प्रोत्साहन योजना
 4. राष्ट्रीय करियर सेवा

Question Type : MCQ

Question ID : 630680511251

Option 1 ID : 6306801998136

Option 2 ID : 6306801998137

Option 3 ID : 6306801998134

Option 4 ID : 6306801998135

Status : Answered

Chosen Option : 2

Q.13 संविधान के निम्नलिखित में से किस अनुच्छेद में उल्लेख किया गया है कि, "उच्चतम न्यायालय के न्यायाधीशों को ऐसे वेतनों का संदाय किया जाएगा जो संसद, विधि द्वारा, अवधारित करे और जब तक इस निमित्त इस प्रकार उपबंध नहीं किया जाता है तब तक ऐसे वेतनों का संदाय किया जाएगा जो दूसरी अनुसूची में विनिर्दिष्ट हैं।"?

Ans 1. 127

2. 125

3. 126

4. 124

Question Type : MCQ

Question ID : 63068089664

Option 1 ID : 630680347433

Option 2 ID : 630680347431

Option 3 ID : 630680347432

Option 4 ID : 630680347430

Status : Not Answered

Chosen Option : --

Q.14 किस राज्य में झूमिंग खेती को दहिया (Dahiya) के नाम से जाना जाता है?

Ans 1. राजस्थान

2. मध्य प्रदेश

3. ओडिशा

4. आंध्र प्रदेश

Question Type : MCQ

Question ID : 63068074876

Option 1 ID : 630680289658

Option 2 ID : 630680289655

Option 3 ID : 630680289657

Option 4 ID : 630680289656

Status : Answered

Chosen Option : 2

Q.15 मौलिक कर्तव्यों की अवधारणा निम्नलिखित में से किस देश से ली गई थी?

Ans 1. आयरलैंड (Ireland)

2. रूस (Russia)

3. ऑस्ट्रेलिया (Australia)

4. यूएसए (USA)

Question Type : MCQ

Question ID : 630680549079

Option 1 ID : 6306802146793

Option 2 ID : 6306802146795

Option 3 ID : 6306802146792

Option 4 ID : 6306802146794

Status : Answered

Chosen Option : 4

Q.16 वास्तुकला की गुलबर्ग (Gulbarga) और बीदर (Bidar) शैली को निम्नलिखित में से किस राजवंश द्वारा संरक्षण दिया गया था?

- Ans
- 1. मराठा राजवंश
 - 2. तुलुव राजवंश
 - 3. नंद राजवंश
 - 4. बहमनी राजवंश

Question Type : MCQ

Question ID : 630680547300

Option 1 ID : 6306802139770

Option 2 ID : 6306802139769

Option 3 ID : 6306802139767

Option 4 ID : 6306802139768

Status : Answered

Chosen Option : 1

Q.17 किस प्रकार के अणु द्विध्रुव-द्विध्रुव अभिक्रिया (dipole-dipole interaction) दर्शाते हैं?

- Ans
- 1. क्षणिक द्विध्रुव वाले अणु (Molecules possessing transient dipole)
 - 2. गैर-ध्रुवीय अणु (Non-polar molecules)
 - 3. स्थायी द्विध्रुवीय अणु (Molecules possessing permanent dipole)
 - 4. आयनिक अणु (Ionic molecules)

Question Type : MCQ

Question ID : 630680471268

Option 1 ID : 6306801840813

Option 2 ID : 6306801840811

Option 3 ID : 6306801840810

Option 4 ID : 6306801840812

Status : Not Answered

Chosen Option : --

Q.18 मौखरियों (Maukharies) ने पश्चिमी उत्तरप्रदेश में _____ पर शासन किया, जिसने बाद में उत्तरी भारत के राजनीतिक केंद्र के रूप में पाटलिपुत्र की जगह ले ली।

- Ans
- 1. झांसी
 - 2. मथुरा
 - 3. कनौज
 - 4. आगरा

Question Type : MCQ

Question ID : 630680433776

Option 1 ID : 6306801693069

Option 2 ID : 6306801693068

Option 3 ID : 6306801693070

Option 4 ID : 6306801693067

Status : Answered

Chosen Option : 3

Q.19 निम्नलिखित में से कौन 'प्रार्थना सभा' से संबद्ध नहीं थे?

- Ans 1. आर॰जी॰ भंडारकर
 2. गोविन्द रानाडे
 3. आत्माराम पांडुरंग
 4. महात्मा गांधी

Question Type : MCQ

Question ID : 630680198471

Option 1 ID : 630680769845

Option 2 ID : 630680769844

Option 3 ID : 630680769843

Option 4 ID : 630680769846

Status : Answered

Chosen Option : 2

Q.20 'गौर माड़िया (Gaur Maria)' नृत्य, निम्नलिखित में से किस राज्य में किया जाता है?

- Ans 1. तेलंगाना
 2. राजस्थान
 3. छत्तीसगढ़
 4. गुजरात

Question Type : MCQ

Question ID : 630680554387

Option 1 ID : 6306802167405

Option 2 ID : 6306802167402

Option 3 ID : 6306802167404

Option 4 ID : 6306802167403

Status : Not Answered

Chosen Option : --

Q.21 हिंदुस्तानी संगीत की बेहतरीन शास्त्रीय गायिकाओं में से एक, किशोरी अमोनकर (Kishori Amonkar) किस राज्य से संबंधित थीं?

- Ans 1. गुजरात
 2. बिहार
 3. उत्तर प्रदेश
 4. महाराष्ट्र

Question Type : MCQ

Question ID : 630680481960

Option 1 ID : 6306801882338

Option 2 ID : 6306801882339

Option 3 ID : 6306801882336

Option 4 ID : 6306801882337

Status : Answered

Chosen Option : 4

Q.22 कैप्टन हॉकिन्स (Captain Hawkins) ने किसके शासनकाल के दौरान भारत का दौरा किया?

Ans 1. जहाँगीर

2. शाहजहाँ

3. अकबर

4. बाबर

Question Type : MCQ

Question ID : 630680127474

Option 1 ID : 630680494157

Option 2 ID : 630680494158

Option 3 ID : 630680494156

Option 4 ID : 630680494159

Status : Answered

Chosen Option : 1

Q.23 निम्नलिखित में से कौन विश्व एथलेटिक्स चैंपियनशिप प्रतियोगिता (World Athletics Championships event) में स्वर्ण पदक जीतने वाले पहले भारतीय बने?

Ans 1. दुती चंद

2. मिल्खा सिंह

3. नीरज चोपड़ा

4. मुरली श्री शंकर

Question Type : MCQ

Question ID : 630680571851

Option 1 ID : 6306802236299

Option 2 ID : 6306802236302

Option 3 ID : 6306802236301

Option 4 ID : 6306802236300

Status : Answered

Chosen Option : 4

Q.24 फरवरी, 2023 में मुंबई में पार्टी की राष्ट्रीय कार्यकारिणी की बैठक के दौरान शिव सेना (शिंदे गुट) के अध्यक्ष के रूप में किसे नामित किया गया था?

Ans 1. एकनाथ शिंदे

2. संजय राऊत

3. उद्धव ठाकरे

4. आदित्य ठाकरे

Question Type : MCQ

Question ID : 630680488272

Option 1 ID : 6306801907145

Option 2 ID : 6306801907146

Option 3 ID : 6306801907143

Option 4 ID : 6306801907144

Status : Not Answered

Chosen Option : --

Q.25 सितंबर 2023 में, एक भारतीय राज्य के किस मुख्यमंत्री ने लोक सेवा (public service) में अपने विशिष्ट योगदान के लिए ली कुआन यू एक्सचेंज फ़ेलोशिप (Lee Kuan Yew Exchange Fellowship) जीती?

- Ans 1. नवीन पटनायक
 2. हिमंत बिस्वा सरमा
 3. योगी आदित्यनाथ
 4. शिवराज सिंह चौहान

Question Type : MCQ

Question ID : 630680468755

Option 1 ID : 6306801830814

Option 2 ID : 6306801830812

Option 3 ID : 6306801830811

Option 4 ID : 6306801830813

Status : Answered

Chosen Option : 3

Section : English Language and Comprehension

Q.1 Select the most appropriate option to fill in the blank.

I checked the _____ to see if it will be rain or sunshine.

- Ans 1. whether
 2. weather
 3. wether
 4. wither

Question Type : MCQ

Question ID : 630680502919

Option 1 ID : 6306801965256

Option 2 ID : 6306801965257

Option 3 ID : 6306801965258

Option 4 ID : 6306801965259

Status : Answered

Chosen Option : 2

Q.2 Select the option that rectifies the error in the usage of the future tense in the given sentence.

Shivani go to school tomorrow for prize distribution.

- Ans 1. Shivani has gone to school tomorrow for prize distribution.
 2. Shivani had gone to school tomorrow for prize distribution.
 3. Shivani will go to school tomorrow for prize distribution.
 4. Shivani goes to school tomorrow for prize distribution.

Question Type : MCQ

Question ID : 630680549011

Option 1 ID : 6306802146531

Option 2 ID : 6306802146529

Option 3 ID : 6306802146528

Option 4 ID : 6306802146530

Status : Answered

Chosen Option : 3

Q.3 Select the most appropriate option to fill in the blank.
I have a _____ for reading and want to become a writer when I grow up.

- Ans
- 1. dream
 - 2. unity
 - 3. passion
 - 4. tallow

Question Type : **MCQ**
Question ID : **630680515263**
Option 1 ID : **6306802013518**
Option 2 ID : **6306802013517**
Option 3 ID : **6306802013520**
Option 4 ID : **6306802013519**
Status : **Answered**
Chosen Option : **2**

Q.4 Select the correct idiom to substitute the underlined segment in the following sentence.
Sean is notorious for revealing the secrets about the company.

- Ans
- 1. Spilling the beans
 - 2. Biting the dust
 - 3. Biting the bullet
 - 4. Being in bad blood

Question Type : **MCQ**
Question ID : **63068084490**
Option 1 ID : **630680327515**
Option 2 ID : **630680327514**
Option 3 ID : **630680327512**
Option 4 ID : **630680327513**
Status : **Answered**
Chosen Option : **2**

Q.5 Select the most appropriate ANTONYM of the given word.

Excessive

- Ans
- 1. Desirable
 - 2. Flow
 - 3. Inordinate
 - 4. Moderate

Question Type : **MCQ**
Question ID : **630680594702**
Option 1 ID : **6306802326884**
Option 2 ID : **6306802326883**
Option 3 ID : **6306802326881**
Option 4 ID : **6306802326882**
Status : **Not Answered**
Chosen Option : **--**

Q.6 Select the option that correctly rectifies the underlined spelling error.
The scientist made an appauling discovery about the environmental impact of the drug.

- Ans
- 1. appawling
 - 2. appaulling
 - 3. appalling
 - 4. apalling

Question Type : **MCQ**
Question ID : **630680545749**
Option 1 ID : **6306802133580**
Option 2 ID : **6306802133583**
Option 3 ID : **6306802133581**
Option 4 ID : **6306802133582**
Status : **Answered**
Chosen Option : 1

Q.7 The following sentence has been split into four segments. Identify the segment that contains a grammatical error.
There has been / an increase of the number / of road / accidents recently.

- Ans
- 1. There has been
 - 2. an increase of the number
 - 3. accidents recently
 - 4. of road

Question Type : **MCQ**
Question ID : **630680726470**
Option 1 ID : **6306802846886**
Option 2 ID : **6306802846889**
Option 3 ID : **6306802846888**
Option 4 ID : **6306802846887**
Status : **Answered**
Chosen Option : 2

Q.8 Select the most appropriate idiom that can substitute the underlined words in the given sentence.

I heard management is planning to transfer me to another department and demote me. I need to confirm if this is true by hearing it directly from the person involved and from my manager.

- Ans
- 1. bearing a grudge
 - 2. straight from the horse's mouth
 - 3. on pins and needles
 - 4. in the seventh heaven

Question Type : **MCQ**
Question ID : **630680550002**
Option 1 ID : **6306802150269**
Option 2 ID : **6306802150268**
Option 3 ID : **6306802150271**
Option 4 ID : **6306802150270**
Status : **Answered**
Chosen Option : 3

Q.9 Select the most appropriate option that can substitute the underlined segment in the given sentence.

Osmium is heavy metal in the periodic table.

- Ans 1. the heaviest
 2. more heavy
 3. the most heavy
 4. heavier

Question Type : **MCQ**

Question ID : **630680514594**

Option 1 ID : **6306802011002**

Option 2 ID : **6306802011004**

Option 3 ID : **6306802011003**

Option 4 ID : **6306802011001**

Status : **Answered**

Chosen Option : 1

Q.10 The following sentence has been split into four segments. Identify the segment that contains a grammatical error.

He was constantly / gazing on the / crime scene to / find some clues.

- Ans 1. He was constantly
 2. crime scene to
 3. find some clues
 4. gazing on the

Question Type : **MCQ**

Question ID : **630680147100**

Option 1 ID : **630680569218**

Option 2 ID : **630680569220**

Option 3 ID : **630680569221**

Option 4 ID : **630680569219**

Status : **Answered**

Chosen Option : 1

Q.11 Rectify the sentence by selecting the correct spelling of the underlined word from the options.

He was startled by the loud thander during the storm.

- Ans 1. thunder
 2. thondar
 3. thundre
 4. thundar

Question Type : **MCQ**

Question ID : **630680517495**

Option 1 ID : **6306802022377**

Option 2 ID : **6306802022379**

Option 3 ID : **6306802022376**

Option 4 ID : **6306802022378**

Status : **Answered**

Chosen Option : 1

Q.12 Select the most appropriate option to fill in the blank.

The coaches decided to _____ the regulations more strictly because the candidates were not paying attention during their training sessions.

- Ans
- 1. enjoy
 - 2. provide
 - 3. enforce
 - 4. supply

Question Type : MCQ
Question ID : 630680544802
Option 1 ID : 6306802129972
Option 2 ID : 6306802129971
Option 3 ID : 6306802129970
Option 4 ID : 6306802129973
Status : Answered
Chosen Option : 3

Q.13 Select the most appropriate option that can replace the underlined segment in the given sentence.

No sooner had they left their home that it started raining heavily.

- Ans
- 1. their home than it starts
 - 2. their home that it start
 - 3. there home than it started
 - 4. their home than it started

Question Type : MCQ
Question ID : 630680490237
Option 1 ID : 6306801914856
Option 2 ID : 6306801914857
Option 3 ID : 6306801914855
Option 4 ID : 6306801914858
Status : Answered
Chosen Option : 1

Q.14 Select the option that can be used as a one-word substitute for the given phrase.
Something that has the quality of being easily broken

- Ans
- 1. Brittle
 - 2. Hard
 - 3. Broken
 - 4. Damage

Question Type : MCQ
Question ID : 630680353983
Option 1 ID : 6306801378007
Option 2 ID : 6306801378008
Option 3 ID : 6306801378006
Option 4 ID : 6306801378005
Status : Answered
Chosen Option : 1

Q.15 Select the word that is OPPOSITE in meaning to the underlined word in the given sentence.

The name should also be beneficial to a strong, long-lasting marketing campaign.

- Ans 1. Desirable
 2. Detrimental
 3. Advantageous
 4. Causal

Question Type : MCQ

Question ID : 630680555202

Option 1 ID : 6306802170266

Option 2 ID : 6306802170265

Option 3 ID : 6306802170264

Option 4 ID : 6306802170267

Status : Answered

Chosen Option : 3

Q.16 Select the most appropriate word from the options to fill in the blank.
Adithya ordered a juicy _____ cooked to perfection at the highway restaurant.

- Ans 1. stink
 2. steak
 3. stoke
 4. stake

Question Type : MCQ

Question ID : 630680517270

Option 1 ID : 6306802021477

Option 2 ID : 6306802021479

Option 3 ID : 6306802021476

Option 4 ID : 6306802021478

Status : Answered

Chosen Option : 4

Q.17 Select the INCORRECTLY spelt word.

- Ans 1. Convenience
 2. Separate
 3. Concieve
 4. Accessible

Question Type : MCQ

Question ID : 630680470370

Option 1 ID : 6306801837238

Option 2 ID : 6306801837235

Option 3 ID : 6306801837236

Option 4 ID : 6306801837237

Status : Answered

Chosen Option : 2

Q.18 Select the most appropriate ANTONYM of the underlined word in the given sentence.

Although she is virtuous in her deeds, people misinterpret her because of her open and bold nature.

- Ans 1. wicked
 2. commendable
 3. sane
 4. moral

Question Type : MCQ
Question ID : 630680551307
Option 1 ID : 6306802155447
Option 2 ID : 6306802155450
Option 3 ID : 6306802155448
Option 4 ID : 6306802155449
Status : Answered
Chosen Option : 2

Q.19 Select the option that has used the correct tense.

- Ans 1. Yesterday, we were painting the door when a neighbour stopped by to say hello.
 2. Yesterday, we are painting the door when a neighbour stop by to say hello.
 3. Yesterday, we was painting the door when a neighbour stopping by to say hello.
 4. Yesterday, we will be painting the door when a neighbour stops by to say hello.

Question Type : MCQ
Question ID : 630680754504
Option 1 ID : 6306802957217
Option 2 ID : 6306802957216
Option 3 ID : 6306802957215
Option 4 ID : 6306802957214
Status : Answered
Chosen Option : 1

Q.20 Select the most appropriate option that can substitute the underlined words in the given sentence.

Solving the riddle given by our teacher is farther beyond our capacity.

- Ans 1. farthest
 2. far
 3. fair
 4. fare

Question Type : MCQ
Question ID : 630680514573
Option 1 ID : 6306802010917
Option 2 ID : 6306802010919
Option 3 ID : 6306802010920
Option 4 ID : 6306802010918
Status : Answered
Chosen Option : 2

Comprehension:

In the following passage, some words have been deleted. Read the passage carefully and select the most appropriate option to fill in each blank.

It was just before noon on June 26, 1975, and my friend and I were out exploring the bustling by-lanes of Delhi's Karol Bagh, unaware that the Emergency had been declared, and that it would change our lives in ways we could have never ___1___. Though Indira Gandhi had herself announced the Emergency in a national broadcast at 8 am, IST, the news took its own time to reach the common people who went about their business as always. However, two hours into our outing, we ___2___ something was wrong. The pavement shops began to thin out as we watched and the bigger outlets too looked ready to ___3___; many of them worked behind half-downed shutters. We were young but fancied ourselves as political animals, which at the time was shorthand for being passionately anti-Congress and anti-Indira. There was no way we were going to head home without knowing what had happened. There was already considerable excitement in our small friends' circle over two ___4___ developments: the June 12, 1975 Allahabad high court ruling unseating Indira for electoral malpractices and the Congress's unexpected defeat in the State election in Gujarat. The Supreme Court had allowed Indira to continue as prime minister but that did not ___5___ our joy; it was a technical reprieve that did not lessen the political blow she had received.

SubQuestion No : 21

Q.21 Select the most appropriate option to fill in blank number 1.

- Ans
- 1. undermined
 - 2. targeted
 - 3. betrothed
 - 4. imagined

Question Type : **MCQ**

Question ID : **630680454044**

Option 1 ID : **6306801773122**

Option 2 ID : **6306801773120**

Option 3 ID : **6306801773121**

Option 4 ID : **6306801773119**

Status : **Answered**

Chosen Option : **4**

Comprehension:

In the following passage, some words have been deleted. Read the passage carefully and select the most appropriate option to fill in each blank.

It was just before noon on June 26, 1975, and my friend and I were out exploring the bustling by-lanes of Delhi's Karol Bagh, unaware that the Emergency had been declared, and that it would change our lives in ways we could have never ___1___. Though Indira Gandhi had herself announced the Emergency in a national broadcast at 8 am, IST, the news took its own time to reach the common people who went about their business as always. However, two hours into our outing, we ___2___ something was wrong. The pavement shops began to thin out as we watched and the bigger outlets too looked ready to ___3___; many of them worked behind half-downed shutters. We were young but fancied ourselves as political animals, which at the time was shorthand for being passionately anti-Congress and anti-Indira. There was no way we were going to head home without knowing what had happened. There was already considerable excitement in our small friends' circle over two ___4___ developments: the June 12, 1975 Allahabad high court ruling unseating Indira for electoral malpractices and the Congress's unexpected defeat in the State election in Gujarat. The Supreme Court had allowed Indira to continue as prime minister but that did not ___5___ our joy; it was a technical reprieve that did not lessen the political blow she had received.

SubQuestion No : 22

Q.22 Select the most appropriate option to fill in blank number 2.

- Ans 1. feigned
 2. sensed
 3. created
 4. received

Question Type : MCQ

Question ID : 630680454045

Option 1 ID : 6306801773125

Option 2 ID : 6306801773123

Option 3 ID : 6306801773126

Option 4 ID : 6306801773124

Status : Answered

Chosen Option : 2

Comprehension:

In the following passage, some words have been deleted. Read the passage carefully and select the most appropriate option to fill in each blank.

It was just before noon on June 26, 1975, and my friend and I were out exploring the bustling by-lanes of Delhi's Karol Bagh, unaware that the Emergency had been declared, and that it would change our lives in ways we could have never ___1___. Though Indira Gandhi had herself announced the Emergency in a national broadcast at 8 am, IST, the news took its own time to reach the common people who went about their business as always. However, two hours into our outing, we ___2___ something was wrong. The pavement shops began to thin out as we watched and the bigger outlets too looked ready to ___3___; many of them worked behind half-downed shutters. We were young but fancied ourselves as political animals, which at the time was shorthand for being passionately anti-Congress and anti-Indira. There was no way we were going to head home without knowing what had happened. There was already considerable excitement in our small friends' circle over two ___4___ developments: the June 12, 1975 Allahabad high court ruling unseating Indira for electoral malpractices and the Congress's unexpected defeat in the State election in Gujarat. The Supreme Court had allowed Indira to continue as prime minister but that did not ___5___ our joy; it was a technical reprieve that did not lessen the political blow she had received.

SubQuestion No : 23

Q.23 Select the most appropriate option to fill in blank number 3.

- Ans
- 1. chicken out
 - 2. pop up
 - 3. open up
 - 4. wrap up

Question Type : MCQ

Question ID : 630680454046

Option 1 ID : 6306801773128

Option 2 ID : 6306801773129

Option 3 ID : 6306801773130

Option 4 ID : 6306801773127

Status : Not Answered

Chosen Option : --

Comprehension:

In the following passage, some words have been deleted. Read the passage carefully and select the most appropriate option to fill in each blank.

It was just before noon on June 26, 1975, and my friend and I were out exploring the bustling by-lanes of Delhi's Karol Bagh, unaware that the Emergency had been declared, and that it would change our lives in ways we could have never ____1____. Though Indira Gandhi had herself announced the Emergency in a national broadcast at 8 am, IST, the news took its own time to reach the common people who went about their business as always. However, two hours into our outing, we ____2____ something was wrong. The pavement shops began to thin out as we watched and the bigger outlets too looked ready to ____3____; many of them worked behind half-downed shutters. We were young but fancied ourselves as political animals, which at the time was shorthand for being passionately anti-Congress and anti-Indira. There was no way we were going to head home without knowing what had happened. There was already considerable excitement in our small friends' circle over two ____4____ developments: the June 12, 1975 Allahabad high court ruling unseating Indira for electoral malpractices and the Congress's unexpected defeat in the State election in Gujarat. The Supreme Court had allowed Indira to continue as prime minister but that did not ____5____ our joy; it was a technical reprieve that did not lessen the political blow she had received.

SubQuestion No : 24

Q.24 Select the most appropriate option to fill in blank number 4.

- Ans
- 1. production
 - 2. flaws
 - 3. mistakes
 - 4. landmark

Question Type : MCQ

Question ID : 630680454047

Option 1 ID : 6306801773134

Option 2 ID : 6306801773132

Option 3 ID : 6306801773133

Option 4 ID : 6306801773131

Status : Answered

Chosen Option : 4

Comprehension:

In the following passage, some words have been deleted. Read the passage carefully and select the most appropriate option to fill in each blank.

It was just before noon on June 26, 1975, and my friend and I were out exploring the bustling by-lanes of Delhi's Karol Bagh, unaware that the Emergency had been declared, and that it would change our lives in ways we could have never ___1___. Though Indira Gandhi had herself announced the Emergency in a national broadcast at 8 am, IST, the news took its own time to reach the common people who went about their business as always. However, two hours into our outing, we ___2___ something was wrong. The pavement shops began to thin out as we watched and the bigger outlets too looked ready to ___3___; many of them worked behind half-downed shutters. We were young but fancied ourselves as political animals, which at the time was shorthand for being passionately anti-Congress and anti-Indira. There was no way we were going to head home without knowing what had happened. There was already considerable excitement in our small friends' circle over two ___4___ developments: the June 12, 1975 Allahabad high court ruling unseating Indira for electoral malpractices and the Congress's unexpected defeat in the State election in Gujarat. The Supreme Court had allowed Indira to continue as prime minister but that did not ___5___ our joy; it was a technical reprieve that did not lessen the political blow she had received.

SubQuestion No : 25

Q.25 Select the most appropriate option to fill in blank number 5.

- Ans**
- 1. adopted
 - 2. dampen
 - 3. diminished
 - 4. magnified

Question Type : **MCQ**

Question ID : **630680454048**

Option 1 ID : **6306801773136**

Option 2 ID : **6306801773135**

Option 3 ID : **6306801773138**

Option 4 ID : **6306801773137**

Status : **Not Answered**

Chosen Option : --