

Multi Tasking Non Technical Staff and Havaladar CBIC and CBN Examination 2024

Roll Number	
Candidate Name	
Venue Name	iON Digital Zone iDZ Chitoura Road
Exam Date	16/10/2024
Exam Time	4:00 PM - 5:30 PM
Subject	MTS Non Tech Havaladar CBIC and CBN Examination 2024

Section : Numerical and Mathematical Ability

Q.1 किसी त्रिभुज की ऊँचाई 20% बढ़ा दी जाती है और आधार को 12% बढ़ा दिया जाता है। यदि त्रिभुज का पुराना क्षेत्रफल 200 cm^2 था, तो नया क्षेत्रफल (cm^2 में) कितना है?

- Ans
- 1. 234.4
 - 2. 254.4
 - 3. 216.7
 - 4. 268.8

Question Type : MCQ

Question ID : 630680526563

Option 1 ID : 6306802058319

Option 2 ID : 6306802058320

Option 3 ID : 6306802058321

Option 4 ID : 6306802058318

Status : Answered

Chosen Option : 4

Q.2 24 लड़के और एक निश्चित संख्या में कुछ लड़कियाँ एक परीक्षा के लिए उपस्थित होते हैं। लड़कों द्वारा प्राप्त अंकों का औसत 42 था और लड़कियों द्वारा प्राप्त अंकों का औसत 34 था, जबकि उन सभी द्वारा प्राप्त अंकों का औसत 38 था। परीक्षा में कितनी लड़कियाँ उपस्थित हुई थीं?

- Ans
- 1. 28
 - 2. 24
 - 3. 30
 - 4. 26

Question Type : MCQ

Question ID : 630680473425

Option 1 ID : 6306801849397

Option 2 ID : 6306801849395

Option 3 ID : 6306801849398

Option 4 ID : 6306801849396

Status : Answered

Chosen Option : 2

Q.3 एक वस्तु को ₹450 में 15% व्यापार छूट के साथ सूचीबद्ध किया गया है। व्यापार छूट की राशि ज्ञात कीजिए।

- Ans
- 1. ₹517.50
 - 2. ₹382.50
 - 3. ₹52.50
 - 4. ₹67.50

Question Type : MCQ
Question ID : 630680125154
Option 1 ID : 630680485394
Option 2 ID : 630680485395
Option 3 ID : 630680485397
Option 4 ID : 630680485396
Status : Answered
Chosen Option : 4

Q.4 12 केलों का क्रय मूल्य, 10 केलों के विक्रय मूल्य के बराबर है। लाभ प्रतिशत कितना है?

- Ans
- 1. 12%
 - 2. 16%
 - 3. 20%
 - 4. 24%

Question Type : MCQ
Question ID : 630680815870
Option 1 ID : 6306803196813
Option 2 ID : 6306803196814
Option 3 ID : 6306803196815
Option 4 ID : 6306803196816
Status : Answered
Chosen Option : 3

Q.5 एक कॉलेज के प्रबंधन बैच में दो अनुभाग A और B हैं। अनुभाग A में 22 विद्यार्थी हैं और उनके औसत अंक 75 हैं, जबकि अनुभाग B में 30 विद्यार्थी हैं और उनके औसत अंक 60 हैं। पूरे बैच के औसत अंक क्या हैं? (दो दशमलव स्थान तक पूर्णांकित)

- Ans
- 1. 66.35
 - 2. 65.23
 - 3. 58
 - 4. 59.34

Question Type : MCQ
Question ID : 630680469594
Option 1 ID : 6306801834140
Option 2 ID : 6306801834141
Option 3 ID : 6306801834139
Option 4 ID : 6306801834142
Status : Answered
Chosen Option : 1

Q.6 एक परीक्षा में चार विषय हैं, जिसमें से प्रत्येक के 100 अंक हैं। एक विद्यार्थी पहले विषय में 78%, दूसरे विषय में 75% और तीसरे विषय में 90% अंक प्राप्त करता है। उसने कुल मिलाकर 85% अंक प्राप्त किए। चौथे विषय में उसके अंकों का प्रतिशत ज्ञात कीजिए।

Ans 1. 95%

2. 97%

3. 87%

4. 81%

Question Type : MCQ

Question ID : 630680484336

Option 1 ID : 6306801891691

Option 2 ID : 6306801891692

Option 3 ID : 6306801891690

Option 4 ID : 6306801891693

Status : Answered

Chosen Option : 2

Q.7 एक ठोस बेलन का सम्पूर्ण पृष्ठीय क्षेत्रफल 352 cm^2 है। इसका वक्र पृष्ठीय क्षेत्रफल, इसके सम्पूर्ण पृष्ठीय क्षेत्रफल का आठवाँ भाग (one-eighth) है। बेलन की त्रिज्या (cm में) ज्ञात कीजिए।
[$\pi = 22/7$ प्रयोग कीजिए]

Ans 1. 8

2. 9

3. 7

4. 11

Question Type : MCQ

Question ID : 630680565873

Option 1 ID : 6306802212485

Option 2 ID : 6306802212486

Option 3 ID : 6306802212484

Option 4 ID : 6306802212487

Status : Answered

Chosen Option : 3

Q.8 9 m/s की चाल से चल रही एक जीप में एक चोर सीधी सड़क पर भाग रहा है। एक पुलिस अधिकारी 10 m/s की चाल से मोटरसाइकिल पर सवार होकर उसका पीछा कर रहा है। यदि वाहन और मोटरसाइकिल के बीच 100 m की तात्क्षणिक दूरी (instantaneous distance) है, तो पुलिस अधिकारी को चोर को पकड़ने में कितना समय लगेगा?

Ans 1. 98 s

2. 95 s

3. 102 s

4. 100 s

Question Type : MCQ

Question ID : 630680262078

Option 1 ID : 6306801017960

Option 2 ID : 6306801017959

Option 3 ID : 6306801017961

Option 4 ID : 6306801017962

Status : Answered

Chosen Option : 4

Q.9 दिए गए बार ग्राफ का ध्यानपूर्वक अध्ययन कीजिए और निम्नलिखित प्रश्न का उत्तर दीजिए।



1991 से 1992 तक खाद्यान्न उत्पादन में कितने प्रतिशत (% में) की गिरावट आई?

- Ans
- 1. 30
 - 2. 15
 - 3. 20
 - 4. 25

Question Type : MCQ

Question ID : 630680422446

Option 1 ID : 6306801648223

Option 2 ID : 6306801648220

Option 3 ID : 6306801648221

Option 4 ID : 6306801648222

Status : Answered

Chosen Option : 4

Q.10 रजनीश, अपनी कार को 99 km/h की चाल से 2 घंटे तक चलाता है और फिर एक घंटा आराम करता है। फिर, वह 60 km/h की चाल से 3 घंटे तक कार चलाता है। संपूर्ण यात्रा के दौरान रजनीश की औसत चाल (km/h में) कितनी थी?

- Ans
- 1. 67
 - 2. 65
 - 3. 63
 - 4. 69

Question Type : MCQ

Question ID : 630680815840

Option 1 ID : 6306803196695

Option 2 ID : 6306803196694

Option 3 ID : 6306803196693

Option 4 ID : 6306803196696

Status : Answered

Chosen Option : 3

Q.11 30, 56, 40 और 76 में से क्या घटाया जाए ताकि शेष संख्याएं समानुपाती हो सकें?

Ans 1. 4

2. 8

3. 10

4. 6

Question Type : **MCQ**

Question ID : **630680102961**

Option 1 ID : **630680400103**

Option 2 ID : **630680400105**

Option 3 ID : **630680400106**

Option 4 ID : **630680400104**

Status : **Answered**

Chosen Option : 1

Q.12 लोकेश को ₹7,500 के मूलधन पर, साधारण ब्याज सहित, 5 वर्षों में ₹10,500 का मिश्रधन प्राप्त हुआ। यदि ब्याज दर 4% बढ़ा दी जाए तो उसे प्राप्त होने वाली कुल धनराशि क्या होगी?

Ans 1. ₹12,550

2. ₹12,595

3. ₹11,500

4. ₹12,000

Question Type : **MCQ**

Question ID : **630680401297**

Option 1 ID : **6306801564990**

Option 2 ID : **6306801564992**

Option 3 ID : **6306801564989**

Option 4 ID : **6306801564991**

Status : **Answered**

Chosen Option : 4

Q.13 एक ट्रेन 120 km/h की चाल से चलती है। यह 60 मिनट में कितने मीटर की दूरी तय करेगी?

Ans 1. 145000

2. 140000

3. 120000

4. 135000

Question Type : **MCQ**

Question ID : **630680102063**

Option 1 ID : **630680396611**

Option 2 ID : **630680396610**

Option 3 ID : **630680396608**

Option 4 ID : **630680396609**

Status : **Answered**

Chosen Option : 3

Q.14 दी गई तालिका का अध्ययन कीजिए और निम्नलिखित प्रश्न का उत्तर दीजिए।
दी गई तालिका 4 अलग-अलग केंद्रों W, X, Y और Z पर मतदाताओं की संख्या दर्शाती है।

केंद्र	पंजीकृत मतदाताओं की कुल संख्या	मतदान करने वाले व्यक्तियों का प्रतिशत (पंजीकृत मतदाताओं की कुल संख्या में से)
W	10,260	67
X	15,320	70
Y	11,450	56
Z	13,394	75

यदि केंद्र X पर डाले गए अवैध मतों की संख्या, डाले गए मतों की संख्या का 25% थी, तो केंद्र X पर पंजीकृत मतदाताओं की कुल संख्या में से कितने प्रतिशत व्यक्तियों ने अवैध मत डाले?

- Ans
- 1. 20.3%
 - 2. 18.2%
 - 3. 17.5%
 - 4. 24.5%

Question Type : MCQ

Question ID : 630680523755

Option 1 ID : 6306802047173

Option 2 ID : 6306802047172

Option 3 ID : 6306802047171

Option 4 ID : 6306802047174

Status : Answered

Chosen Option : 1

Q.15 एक बेईमान दुकानदार अपने सामान को क्रय मूल्य पर बेचने का दावा करता है। हालाँकि, वह एक ऐसे बाट का उपयोग करता है जिसका वजन वास्तव में उस पर लिखे बाट से 11% कम है। उसका लाभ प्रतिशत ज्ञात कीजिए।

Ans

✓ 1. $12\frac{32}{89}\%$

✗ 2. $13\frac{33}{89}\%$

✗ 3. $14\frac{64}{89}\%$

✗ 4. $11\frac{32}{89}\%$

Question Type : MCQ

Question ID : 630680919325

Option 1 ID : 6306803602490

Option 2 ID : 6306803602493

Option 3 ID : 6306803602491

Option 4 ID : 6306803602492

Status : Answered

Chosen Option : 1

Q.16 एक शंकु के आधार का क्षेत्रफल 7546 cm^2 है और वक्र पृष्ठीय क्षेत्रफल 7854 cm^2 है। शंकु की ऊँचाई (cm में) कितनी है? ($\pi = \frac{22}{7}$ का उपयोग कीजिए)

Ans

✗ 1. $10\sqrt{5}$

✗ 2. 22

✗ 3. 7

✓ 4. $10\sqrt{2}$

Question Type : MCQ

Question ID : 630680398771

Option 1 ID : 6306801555088

Option 2 ID : 6306801555086

Option 3 ID : 6306801555087

Option 4 ID : 6306801555089

Status : Answered

Chosen Option : 4

Q.17 वह न्यूनतम संख्या ज्ञात कीजिए जिसे 20,25,35 और 40 से भाग देने पर क्रमशः 14,19,29 और 34 शेषफल बचता है।

- Ans 1. 1294
 2. 1284
 3. 1394
 4. 1384

Question Type : MCQ
Question ID : 630680107193
Option 1 ID : 630680416157
Option 2 ID : 630680416158
Option 3 ID : 630680416156
Option 4 ID : 630680416159
Status : Answered
Chosen Option : 2

Q.18 2 वर्षों के लिए 4% प्रति वर्ष की ब्याज दर पर उधार ली गई राशि ₹3000 पर साधारण ब्याज (₹ में) ज्ञात कीजिए।

- Ans 1. 240
 2. 280
 3. 200
 4. 180

Question Type : MCQ
Question ID : 630680591928
Option 1 ID : 6306802316179
Option 2 ID : 6306802316180
Option 3 ID : 6306802316182
Option 4 ID : 6306802316181
Status : Answered
Chosen Option : 1

Q.19 6 वर्षों के लिए 4% प्रति वर्ष की ब्याज दर पर उधार ली गई राशि ₹3000 पर साधारण ब्याज (₹ में) ज्ञात कीजिए।

- Ans 1. 680
 2. 720
 3. 760
 4. 660

Question Type : MCQ
Question ID : 630680591932
Option 1 ID : 6306802316198
Option 2 ID : 6306802316195
Option 3 ID : 6306802316196
Option 4 ID : 6306802316197
Status : Answered
Chosen Option : 2

Q.20 17 परिणामों का औसत 62 है। प्रथम आठ परिणामों का औसत 48 है और अंतिम आठ परिणामों का औसत 84 है, नौवें परिणाम को ज्ञात कीजिए।

Ans 1. 2.5

2. -1.5

3. 2

4. -2

Question Type : MCQ

Question ID : 630680484326

Option 1 ID : 6306801891653

Option 2 ID : 6306801891650

Option 3 ID : 6306801891652

Option 4 ID : 6306801891651

Status : Answered

Chosen Option : 4

Section : Reasoning Ability and Problem Solving

Q.1 एक निश्चित तर्क का अनुसरण करते हुए 13, 104 से संबंधित है। उसी तर्क का अनुसरण करते हुए, 17, 136 से संबंधित है। उसी तर्क का अनुसरण करते हुए, 23 निम्नलिखित में से किससे संबंधित है?

(ध्यान दें: संख्याओं को उनके घटक अंकों में अलग-अलग किए बिना पूर्ण संख्याओं पर संक्रियाएं की जानी चाहिए। उदाहरण के लिए संख्या 13 - संख्या 13 पर संक्रियाएं जैसे 13 को जोड़ना/घटाना/गुणा करना आदि किया जा सकता है। 13 को 1 और 3 में अलग-अलग करने की और फिर 1 और 3 पर गणितीय संक्रियाएं करने की अनुमति नहीं है।)

Ans 1. 207

2. 184

3. 92

4. 138

Question Type : MCQ

Question ID : 630680446715

Option 1 ID : 6306801744157

Option 2 ID : 6306801744156

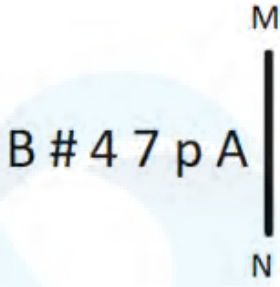
Option 3 ID : 6306801744154

Option 4 ID : 6306801744155

Status : Answered

Chosen Option : 2

Q.2 दी गई आकृति के उस सही दर्पण प्रतिबिंब को चुनिए, जो नीचे दर्शाए गए अनुसार दर्पण को MN पर रखने पर बनेगा।



Ans

- 1. B # 4 7 p A
- 2. B # 4 7 q A
- 3. B # 4 7 p A
- 4. B # 4 7 q A

Question Type : MCQ

Question ID : 630680525246

Option 1 ID : 6306802053071

Option 2 ID : 6306802053068

Option 3 ID : 6306802053070

Option 4 ID : 6306802053069

Status : Answered

Chosen Option : 3

Q.3 सात व्यक्ति A, B, C, D, E, F और G एक वृत्ताकार मेज के चारों ओर केंद्र की ओर मुख करके बैठे हैं (परंतु जरूरी नहीं कि वे इसी क्रम में बैठे हों)। C, A के बाईं ओर दूसरे स्थान पर बैठा है। B के दाईं ओर से गिनती करने पर B और C के बीच में केवल एक व्यक्ति बैठा है। E, F के दाईं ओर से तीसरे स्थान पर बैठा है। D, E के ठीक बाईं ओर बैठा है। यदि अंग्रेजी वर्णमाला क्रम के अनुसार A से प्रारंभ करके, A के स्थान को अपरिवर्तित रखते हुए सभी व्यक्तियों को दक्षिणावर्त दिशा (clockwise direction) में बैठाया जाए, तो A को छोड़कर कितने व्यक्तियों का स्थान अपरिवर्तित रहेगा?

Ans

- 1. दो
- 2. एक का भी नहीं
- 3. एक
- 4. तीन

Question Type : MCQ

Question ID : 630680382733

Option 1 ID : 6306801491849

Option 2 ID : 6306801491847

Option 3 ID : 6306801491848

Option 4 ID : 6306801491850

Status : Answered

Chosen Option : 3

Q.4 निम्नलिखित समीकरण में प्रश्न चिह्न (?) के स्थान पर क्या आएगा, यदि '-' और '+' को आपस में बदल दिया जाए तथा '+' और 'x' को आपस में बदल दिया जाए?

$$13 \div 4 + 16 \times 2 - 21 = ?$$

- Ans 1. 61
 2. 59
 3. 42
 4. 65

Question Type : **MCQ**

Question ID : **630680264626**

Option 1 ID : **6306801028008**

Option 2 ID : **6306801028007**

Option 3 ID : **6306801028009**

Option 4 ID : **6306801028010**

Status : **Answered**

Chosen Option : 4

Q.5 LIFE अंग्रेजी वर्णमाला क्रम के आधार पर एक निश्चित तरीके से NKHG से संबंधित है। उसी तरीके से SLOPE, UNQRG से संबंधित है। उसी तर्क का अनुसरण करते हुए DUAL निम्नलिखित में से किससे संबंधित है?

- Ans 1. FXDN
 2. FWCN
 3. FXCN
 4. FWDN

Question Type : **MCQ**

Question ID : **630680382482**

Option 1 ID : **6306801490843**

Option 2 ID : **6306801490844**

Option 3 ID : **6306801490845**

Option 4 ID : **6306801490846**

Status : **Answered**

Chosen Option : 2

Q.6 इस प्रश्न में दो कथन और उनके बाद दो निष्कर्ष I और II दिए गए हैं। आपको दिए गए कथनों को सत्य मानना है, भले ही वे सर्वज्ञात तथ्यों से भिन्न प्रतीत होते हों। आपको यह तय करना है कि दिए गए निष्कर्षों में से कौन-सा/से निष्कर्ष दिए गए कथनों का तार्किक रूप से अनुसरण करता है/करते हैं।

कथन:

कुछ छल्ले, गायें हैं।

सभी गायें, सांड हैं।

निष्कर्ष:

(I) कुछ सांड, छल्ले हैं।

(II) कुछ छल्ले, सांड हैं।

- Ans
- 1. केवल निष्कर्ष (I) अनुसरण करता है
 - 2. केवल निष्कर्ष (II) अनुसरण करता है
 - 3. निष्कर्ष (I) और (II) दोनों अनुसरण करते हैं
 - 4. न तो निष्कर्ष (I) और न ही (II) अनुसरण करता है

Question Type : MCQ

Question ID : 630680106423

Option 1 ID : 630680413478

Option 2 ID : 630680413479

Option 3 ID : 630680413481

Option 4 ID : 630680413480

Status : Answered

Chosen Option : 3

Q.7 दी गई श्रृंखला में प्रश्नचिह्न (?) के स्थान पर क्या आएगा?

3 16 66 201 406 ?

- Ans
- 1. 412
 - 2. 409
 - 3. 410
 - 4. 411

Question Type : MCQ

Question ID : 630680863101

Option 1 ID : 6306803380482

Option 2 ID : 6306803380479

Option 3 ID : 6306803380480

Option 4 ID : 6306803380481

Status : Answered

Chosen Option : 4

Q.8 एक निश्चित कूट भाषा में, 'JARS' को '3175' के रूप में कूटबद्ध किया जाता है और 'SIDE' को '4832' के रूप में कूटबद्ध किया जाता है। दी गई कूट भाषा में 'S' के लिए कूट क्या है?

Ans 1. 3

2. 4

3. 8

4. 5

Question Type : MCQ

Question ID : 630680815669

Option 1 ID : 6306803195977

Option 2 ID : 6306803195978

Option 3 ID : 6306803195980

Option 4 ID : 6306803195979

Status : Answered

Chosen Option : 1

Q.9 एक निश्चित कूट भाषा में, 'bring cold water' को 'qh pw ut' के रूप में कूटबद्ध किया जाता है और 'water is pure' को 'mk zv qh' के रूप में कूटबद्ध किया जाता है। दी गई भाषा में 'water' को किस प्रकार कूटबद्ध किया गया है?

Ans 1. qh

2. ut

3. pw

4. zv

Question Type : MCQ

Question ID : 630680436324

Option 1 ID : 6306801703238

Option 2 ID : 6306801703237

Option 3 ID : 6306801703239

Option 4 ID : 6306801703240

Status : Answered

Chosen Option : 1

Q.10 दिए गए कथन और निष्कर्षों को ध्यान से पढ़िए। यह मानते हुए कि कथन में दी गई जानकारी सत्य है, चाहे वह सामान्य रूप से ज्ञात तथ्यों से भिन्न प्रतीत होती हो, निर्धारित कीजिए कि दिए गए निष्कर्षों में से कौन-सा, कथन (कथनों) का तार्किक रूप से अनुसरण करता है/करते हैं।

कथन:

कोई कुर्सी, रिक्लाइनर नहीं है।

कोई रिक्लाइनर, सोफा नहीं है।

कोई रिक्लाइनर, चटाई नहीं है।

निष्कर्ष:

(I) कोई कुर्सी, सोफा नहीं है।

(II) कुछ चटाई, सोफा हैं।

- Ans
- 1. केवल निष्कर्ष (I) अनुसरण करता है।
 - 2. केवल निष्कर्ष (II) अनुसरण करता है।
 - 3. न तो निष्कर्ष (I) और न ही (II) अनुसरण करता है।
 - 4. निष्कर्ष (I) और (II) दोनों अनुसरण करते हैं।

Question Type : MCQ

Question ID : 630680859984

Option 1 ID : 6306803367993

Option 2 ID : 6306803367994

Option 3 ID : 6306803367995

Option 4 ID : 6306803367996

Status : Answered

Chosen Option : 3

Q.11 एक निश्चित कूट भाषा में, 'POT' को '15-14-19' के रूप में कूटबद्ध किया जाता है और 'SPLIT' को '18-15-11-8-19' के रूप में कूटबद्ध किया जाता है। दी गई कूट भाषा में 'PERFORM' के लिए कूट क्या है?

- Ans
- 1. 15-4-17-6-14-17-12
 - 2. 15-4-17-5-14-17-12
 - 3. 15-4-17-5-15-17-12
 - 4. 15-4-17-5-14-17-13

Question Type : MCQ

Question ID : 630680387814

Option 1 ID : 6306801511890

Option 2 ID : 6306801511891

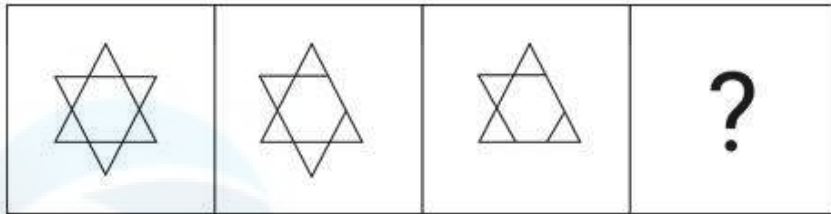
Option 3 ID : 6306801511892

Option 4 ID : 6306801511893

Status : Answered

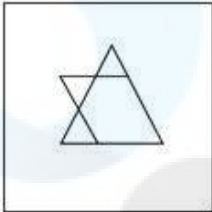
Chosen Option : 2

Q.12 विकल्पों में दी गई उस आकृति की पहचान कीजिए जिसे (?) के स्थान पर रखने पर श्रृंखला तार्किक रूप से पूर्ण हो जाएगी।

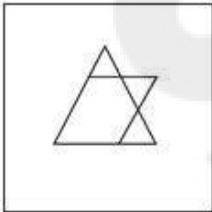


Ans

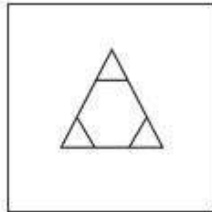
✗ 1.



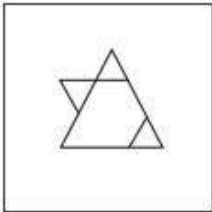
✗ 2.



✓ 3.



✗ 4.



Question Type : MCQ

Question ID : 630680273998

Option 1 ID : 6306801064513

Option 2 ID : 6306801064514

Option 3 ID : 6306801064511

Option 4 ID : 6306801064512

Status : Answered

Chosen Option : 3

Q.13 दिए गए विकल्पों में से उस आकृति को चुनिए जो निम्नलिखित श्रृंखला में प्रश्न चिह्न (?) के स्थान पर आ सकती है और पैटर्न को पूरा कर सकती है।

P A S T E L	S E P L A T E	E P L A T D	L T E D P A	?
-------------	---------------	-------------	-------------	---

Ans

1. T E D P A L

2. T E D P A Z

3. A L T E D Z

4. Z L T E D P

Question Type : MCQ

Question ID : 630680441090

Option 1 ID : 6306801722016

Option 2 ID : 6306801722014

Option 3 ID : 6306801722015

Option 4 ID : 6306801722017

Status : Answered

Chosen Option : 2

Q.14 एक निश्चित तर्क का अनुसरण करते हुए 394 का संबंध 242 से है। उसी तर्क का अनुसरण करते हुए 461 का संबंध 309 से है। समान तर्क का अनुसरण करते हुए 428 का संबंध निम्नलिखित में से किससे है?

(ध्यान दें: संख्याओं को उनके घटक अंकों में अलग-अलग किए बिना पूर्ण संख्याओं पर संक्रियाएं की जानी चाहिए। उदाहरण के लिए संख्या 13 - संख्या 13 पर संक्रियाएं जैसे 13 को जोड़ना/घटाना/गुणा करना आदि किया जा सकता है। 13 को 1 और 3 में अलग-अलग करने की और फिर 1 और 3 पर गणितीय संक्रियाएं करने की अनुमति नहीं है।)

Ans 1. 257

2. 276

3. 282

4. 261

Question Type : **MCQ**

Question ID : **630680436301**

Option 1 ID : **6306801703148**

Option 2 ID : **6306801703146**

Option 3 ID : **6306801703147**

Option 4 ID : **6306801703145**

Status : **Answered**

Chosen Option : **2**

Q.15 उस विकल्प का चयन कीजिए जिसमें दी गई आकृति सन्निहित है (घूर्णन की अनुमति नहीं है)।

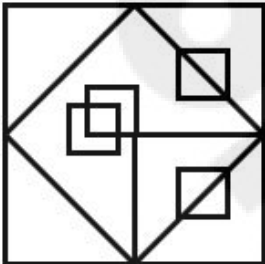


Ans

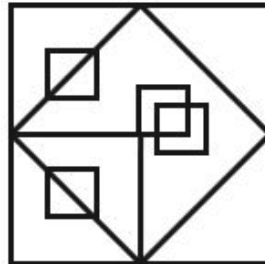
✗ 1.



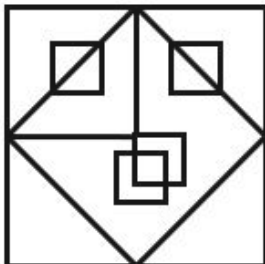
✗ 2.



✓ 3.



✗ 4.



Question Type : MCQ

Question ID : 630680524442

Option 1 ID : 6306802049868

Option 2 ID : 6306802049870

Option 3 ID : 6306802049869

Option 4 ID : 6306802049867

Status : Answered

Chosen Option : 3

Q.16 अंग्रेजी वर्णानुक्रम के आधार पर दी गई श्रृंखला में प्रश्न चिह्न (?) के स्थान पर क्या आना चाहिए?

BFL, HLR, NRX, TXD, ?

Ans 1. ZDJ

2. ZJD

3. DZJ

4. JDZ

Question Type : MCQ

Question ID : 630680458065

Option 1 ID : 6306801789144

Option 2 ID : 6306801789145

Option 3 ID : 6306801789147

Option 4 ID : 6306801789146

Status : Answered

Chosen Option : 1

Q.17 P, Q, R, S, T, U और V एक वृत्ताकार मेज के चारों ओर केंद्र की ओर मुख करके बैठे हैं (परंतु जरूरी नहीं कि वे इसी क्रम में बैठे हों)। T, V के ठीक दाएँ बैठा है। S, Q के दाईं ओर दूसरे स्थान पर बैठा है। U, V और S दोनों का निकटतम पड़ोसी है। P, U के बाएँ से दूसरे स्थान पर बैठा है। R के ठीक बाएँ कौन बैठा है?

Ans 1. S

2. Q

3. P

4. T

Question Type : MCQ

Question ID : 630680383182

Option 1 ID : 6306801493637

Option 2 ID : 6306801493638

Option 3 ID : 6306801493636

Option 4 ID : 6306801493635

Status : Answered

Chosen Option : 4

Q.18 यदि '+' और '-' को आपस में बदल दिया जाए तथा 'x' और '÷' को आपस में बदल दिया जाए, तो निम्नलिखित समीकरण में प्रश्न चिह्न (?) के स्थान पर क्या आएगा?

$$60 \times 12 - 6 \div 4 + 15 = ?$$

Ans 1. 12

2. 13

3. 14

4. 11

Question Type : MCQ

Question ID : 630680395458

Option 1 ID : 6306801542009

Option 2 ID : 6306801542010

Option 3 ID : 6306801542011

Option 4 ID : 6306801542008

Status : Answered

Chosen Option : 3

Q.19 HP21 किसी निश्चित प्रकार से XF34 से संबंधित है। ठीक उसी प्रकार, KS72, AI85 से संबंधित है। समान तर्क का अनुसरण करते हुए, NV39 निम्नलिखित में से किससे संबंधित है?

- Ans
- 1. DL55
 - 2. LD55
 - 3. LD52
 - 4. DL52

Question Type : MCQ

Question ID : 6306801108768

Option 1 ID : 6306804355619

Option 2 ID : 6306804355621

Option 3 ID : 6306804355620

Option 4 ID : 6306804355618

Status : Answered

Chosen Option : 4

Q.20 एक निश्चित कूट भाषा में, 'WILD' को '3197' के रूप में कूटबद्ध किया जाता है और 'LOVE' को '2346' के रूप में कूटबद्ध किया जाता है। उस भाषा में 'L' के लिए कूट क्या है?

- Ans
- 1. 6
 - 2. 9
 - 3. 3
 - 4. 2

Question Type : MCQ

Question ID : 630680435855

Option 1 ID : 6306801701371

Option 2 ID : 6306801701372

Option 3 ID : 6306801701369

Option 4 ID : 6306801701370

Status : Answered

Chosen Option : 3

Section : General Awareness

Q.1 हड़प्पा के उत्खनन स्थलों में निम्नलिखित में से क्या नहीं पाया गया था?

- Ans
- 1. सार्वजनिक स्नान गृह
 - 2. आवास गृह
 - 3. सार्वजनिक भवन
 - 4. सार्वजनिक अस्पताल

Question Type : MCQ

Question ID : 630680567138

Option 1 ID : 6306802217515

Option 2 ID : 6306802217513

Option 3 ID : 6306802217516

Option 4 ID : 6306802217514

Status : Answered

Chosen Option : 4

Q.2 वी. पी. धनंजयन और शांता धनंजयन को निम्नलिखित में से किस भारतीय शास्त्रीय नृत्य शैली के लिए 2009 में रुक्मिणीदेवी मेमोरियल पुरस्कार से सम्मानित किया गया था?

- Ans
- 1. ओडिसी
 - 2. सत्रिया
 - 3. मोहिनीअट्टम
 - 4. भरतनाट्यम

Question Type : MCQ

Question ID : 630680433309

Option 1 ID : 6306801691206

Option 2 ID : 6306801691205

Option 3 ID : 6306801691204

Option 4 ID : 6306801691203

Status : Answered

Chosen Option : 4

Q.3 पूर्व मध्य रेलवे का मुख्यालय निम्नलिखित में से कौन-सा है?

- Ans
- 1. हाजीपुर
 - 2. कानपुर
 - 3. गुवाहाटी
 - 4. कोलकाता

Question Type : MCQ

Question ID : 630680511303

Option 1 ID : 6306801998343

Option 2 ID : 6306801998344

Option 3 ID : 6306801998345

Option 4 ID : 6306801998342

Status : Answered

Chosen Option : 3

Q.4 निम्नलिखित में से कौन-सा प्रदूषक, महासागर के अम्लीकरण के लिए उत्तरदायी है?

- Ans
- 1. कार्बन डाइऑक्साइड (CO₂)
 - 2. कार्बन मोनोऑक्साइड (CO)
 - 3. सल्फर डाइऑक्साइड (SO₂)
 - 4. नाइट्रोजन डाइऑक्साइड (NO₂)

Question Type : MCQ

Question ID : 630680404186

Option 1 ID : 6306801576254

Option 2 ID : 6306801576255

Option 3 ID : 6306801576256

Option 4 ID : 6306801576257

Status : Answered

Chosen Option : 3

Q.5 अन्य धर्मों में धर्मांतरित लोगों को पुनः हिंदू धर्म में परिवर्तित करने के लिए शुद्धि आंदोलन निम्नलिखित में से किस संगठन द्वारा शुरू किया गया था?

Ans 1. आर्य समाज

2. ब्रह्म समाज

3. सत्यशोधक समाज

4. धर्म सभा

Question Type : MCQ

Question ID : 630680276088

Option 1 ID : 6306801072864

Option 2 ID : 6306801072865

Option 3 ID : 6306801072866

Option 4 ID : 6306801072863

Status : Answered

Chosen Option : 1

Q.6 संगीत सम्राट मियां तानसेन ने बारिश लाने के लिए किस राग की रचना की थी?

Ans 1. मेघ पुष्प

2. मेघ मल्हार

3. शरवरी तरंग

4. मयूरा प्रिया

Question Type : MCQ

Question ID : 630680482462

Option 1 ID : 6306801884325

Option 2 ID : 6306801884322

Option 3 ID : 6306801884323

Option 4 ID : 6306801884324

Status : Not Answered

Chosen Option : --

Q.7 निम्नलिखित में से कौन-सा मंदिर वास्तुकला की नागर शैली का उदाहरण नहीं है?

Ans 1. लिंगराज मंदिर, भुवनेश्वर

2. सूर्य मंदिर, कोणार्क

3. कंदरिया मंदिर, मध्य प्रदेश

4. कैलाश मंदिर, काँचीपुरम

Question Type : MCQ

Question ID : 630680145997

Option 1 ID : 630680564888

Option 2 ID : 630680564889

Option 3 ID : 630680564887

Option 4 ID : 630680564886

Status : Answered

Chosen Option : 3

Q.8 सितंबर 2023 में, मॉस्को में ब्रिक्स नवाचार फोरम (BRICS Innovation Forum) में, निम्नलिखित में से किसे, जो तेलंगाना से मुख्य नवाचार अधिकारी हैं, को विश्व नवाचार पुरस्कार (World Innovation Award) मिला?

- Ans
- 1. कल्वाकुंतला चन्द्रशेखर राव (Kalvakuntla Chandrashekar Rao)
 - 2. शांता थौतम (Shanta Thoutam)
 - 3. के. टी. रामा राव (KT Rama Rao)
 - 4. टी. हरीश कुमार (T Harish Kumar)

Question Type : MCQ

Question ID : 630680488400

Option 1 ID : 6306801907644

Option 2 ID : 6306801907646

Option 3 ID : 6306801907643

Option 4 ID : 6306801907645

Status : Not Answered

Chosen Option : --

Q.9 भारतीय संविधान ने संविधान में संशोधन करने की प्रक्रिया निम्नलिखित में से किस देश से ली है?

- Ans
- 1. आयरलैंड
 - 2. ऑस्ट्रेलिया
 - 3. रूस
 - 4. दक्षिण अफ्रीका

Question Type : MCQ

Question ID : 630680547907

Option 1 ID : 6306802142177

Option 2 ID : 6306802142178

Option 3 ID : 6306802142176

Option 4 ID : 6306802142175

Status : Answered

Chosen Option : 4

Q.10 लच्छू महाराज, किस नृत्य शैली से संबंधित है?

- Ans
- 1. मणिपुरी
 - 2. ओडिसी
 - 3. कथक
 - 4. भरतनाट्यम

Question Type : MCQ

Question ID : 630680441744

Option 1 ID : 6306801724585

Option 2 ID : 6306801724583

Option 3 ID : 6306801724584

Option 4 ID : 6306801724582

Status : Answered

Chosen Option : 3

Q.11 निम्नलिखित में से कौन सा एक धार्मिक त्योहार नहीं है?

- Ans 1. गुड फ्राइडे
 2. गुरु पर्व
 3. गांधी जयंती
 4. मुहर्रम

Question Type : MCQ

Question ID : 630680113580

Option 1 ID : 630680439854

Option 2 ID : 630680439857

Option 3 ID : 630680439855

Option 4 ID : 630680439856

Status : Answered

Chosen Option : 3

Q.12 मांसपेशी कोशिकाएं और मांसपेशी रेशे भ्रूणीय पूर्ववर्ती कोशिकाओं (embryonic precursor cells) से विकसित होते हैं जिन्हें _____ कहा जाता है।

- Ans 1. पेशीअणु (myocyte)
 2. पेशीकोरक (myoblasts)
 3. पेशी केंद्रक (myonuclei)
 4. पेशी तंतुक (myofibril)

Question Type : MCQ

Question ID : 630680270016

Option 1 ID : 6306801049317

Option 2 ID : 6306801049318

Option 3 ID : 6306801049316

Option 4 ID : 6306801049315

Status : Not Answered

Chosen Option : --

Q.13 भारत में बजटीय प्रक्रिया में कार्यरत (engaged) सरकारों के प्रमुख उद्देश्य निम्नलिखित में से कौन-से हैं?

- a. अर्थव्यवस्था में कुल मांग (aggregate demand) के स्तर को स्थिर करना
b. संवैधानिक सिद्धांतों के अनुसार व्यक्तियों की आय का पुनर्वितरण करना
c. नियमित तौर पर लोकतांत्रिक तरीके से नागरिकों से अपील करने के लिए अस्थायी (Floating) योजनाएँ
d. विभिन्न आर्थिक गतिविधियों के लिए धन आवंटित करना

- Ans 1. सभी a, b, c और d
 2. केवल a और b
 3. केवल a, b और c
 4. केवल a, b और d

Question Type : MCQ

Question ID : 630680422555

Option 1 ID : 6306801648655

Option 2 ID : 6306801648656

Option 3 ID : 6306801648657

Option 4 ID : 6306801648658

Status : Not Answered

Chosen Option : --

Q.14 भारत के संविधान में विभिन्न देशों के साथ-साथ _____ के भारत सरकार अधिनियम से कई प्रावधान लिए गए हैं।

Ans 1. 1949

2. 1935

3. 1919

4. 1942

Question Type : MCQ

Question ID : 630680799041

Option 1 ID : 6306803130969

Option 2 ID : 6306803130966

Option 3 ID : 6306803130967

Option 4 ID : 6306803130968

Status : Answered

Chosen Option : 2

Q.15 भारतीय निशानेबाज अभिनव बिंद्रा किस राज्य से संबंधित है?

Ans 1. पंजाब

2. मध्य प्रदेश

3. उत्तराखंड

4. राजस्थान

Question Type : MCQ

Question ID : 630680710802

Option 1 ID : 6306802784864

Option 2 ID : 6306802784867

Option 3 ID : 6306802784866

Option 4 ID : 6306802784865

Status : Answered

Chosen Option : 1

Q.16 निम्नलिखित में से किसे, एककोशिकीय हरा शैवाल (unicellular green algae) माना जाता है?

Ans 1. क्लैमाइडोमोनास (Chlamydomonas)

2. ओडोगोनियम (Oedogonium)

3. क्लोरोफाईटा (Chlorophyta)

4. क्लैडोफोरा (Cladophora)

Question Type : MCQ

Question ID : 630680331527

Option 1 ID : 6306801289720

Option 2 ID : 6306801289719

Option 3 ID : 6306801289718

Option 4 ID : 6306801289717

Status : Answered

Chosen Option : 1

Q.17 भारत की 2011 की जनगणना के अनुसार, निम्नलिखित में से किस केंद्र शासित प्रदेश की जनसंख्या सबसे कम है?

- Ans
- 1. दिल्ली
 - 2. लक्षद्वीप
 - 3. दमन और दीव
 - 4. अण्डमान और निकोबार

Question Type : MCQ
Question ID : 630680488621
Option 1 ID : 6306801908503
Option 2 ID : 6306801908504
Option 3 ID : 6306801908505
Option 4 ID : 6306801908506
Status : Answered
Chosen Option : 3

Q.18 भारतीय जनगणना 2001 के अनुसार, आप्रवासी जनसंख्या का कितना प्रतिशत श्रीलंका से था?

- Ans
- 1. 2.9%
 - 2. 8.1%
 - 3. 7.1%
 - 4. 1.6%

Question Type : MCQ
Question ID : 630680404257
Option 1 ID : 6306801576532
Option 2 ID : 6306801576533
Option 3 ID : 6306801576531
Option 4 ID : 6306801576530
Status : Not Answered
Chosen Option : --

Q.19 भारत के जलवायु क्षेत्रों की कोप्पेन योजना (Koeppen's Scheme) के अनुसार, निम्नलिखित में से किस राज्य में 'BWhw' और 'BShw' प्रकार की जलवायु पाई जाती है?

- Ans
- 1. आंध्र प्रदेश
 - 2. बिहार
 - 3. राजस्थान
 - 4. महाराष्ट्र

Question Type : MCQ
Question ID : 630680510998
Option 1 ID : 6306801997122
Option 2 ID : 6306801997123
Option 3 ID : 6306801997124
Option 4 ID : 6306801997125
Status : Not Answered
Chosen Option : --

Q.20 11 अगस्त 2023 को एकीकृत वस्तु एवं सेवा कर (संशोधन) विधेयक, 2023 लोकसभा में पेश किया गया था, जो _____ में संशोधन करता है।

- Ans
- 1. एकीकृत वस्तु एवं सेवा कर (IGST) अधिनियम, 2014
 - 2. एकीकृत वस्तु एवं सेवा कर (IGST) अधिनियम, 2016
 - 3. एकीकृत वस्तु एवं सेवा कर (IGST) अधिनियम, 2017
 - 4. एकीकृत वस्तु एवं सेवा कर (IGST) अधिनियम, 2015

Question Type : MCQ

Question ID : 630680466779

Option 1 ID : 6306801823096

Option 2 ID : 6306801823098

Option 3 ID : 6306801823099

Option 4 ID : 6306801823097

Status : Not Answered

Chosen Option : --

Q.21 धम्म, संस्कृत शब्द 'धर्म' का _____ शब्द है।

- Ans
- 1. तमिल
 - 2. पाली
 - 3. अबहट्टा
 - 4. प्राकृत

Question Type : MCQ

Question ID : 63068080439

Option 1 ID : 630680311782

Option 2 ID : 630680311781

Option 3 ID : 630680311784

Option 4 ID : 630680311783

Status : Answered

Chosen Option : 2

Q.22 'टेम्पल टेल्स: सीक्रेट्स एंड स्टोरीज ऑफ़ इंडियाज सेक्रेड प्लेसेस (Temple Tales: Secrets & Stories of India's Sacred Places)' के लेखक कौन हैं?

- Ans
- 1. मलाथी रामचन्द्रन
 - 2. सुधा जी तिलक
 - 3. शशि थरूर
 - 4. मुल्कराज आनंद

Question Type : MCQ

Question ID : 630680474209

Option 1 ID : 6306801852528

Option 2 ID : 6306801852527

Option 3 ID : 6306801852526

Option 4 ID : 6306801852529

Status : Not Answered

Chosen Option : --

Q.23 मेथेनॉल (methanol) की संरचना CH_3OH है। इस प्रकार के निरूपण को _____ के रूप में जाना जाता है।

- Ans
- 1. वेज-एंड-डैश निरूपण (wedge-and-dash representation)
 - 2. संपूर्ण संरचनात्मक सूत्र (complete structural formula)
 - 3. बॉन्ड-लाइन संरचनात्मक निरूपण (bond-line structural representation)
 - 4. संघनित संरचनात्मक सूत्र (condensed structural formula)

Question Type : MCQ

Question ID : 630680471470

Option 1 ID : 6306801841597

Option 2 ID : 6306801841595

Option 3 ID : 6306801841596

Option 4 ID : 6306801841594

Status : Not Answered

Chosen Option : --

Q.24 स्कैश खिलाड़ी अनाहत सिंह भारत के किस शहर से संबंधित हैं?

- Ans
- 1. हरियाणा
 - 2. बेंगलुरु
 - 3. दिल्ली
 - 4. मुंबई

Question Type : MCQ

Question ID : 630680560696

Option 1 ID : 6306802191767

Option 2 ID : 6306802191764

Option 3 ID : 6306802191765

Option 4 ID : 6306802191766

Status : Answered

Chosen Option : 1

Q.25 'स्त्रीपुरुषतुलना (Streepurushtulna)' नामक पुस्तक निम्नलिखित में से किसने लिखी है?

- Ans
- 1. पंडित रमाबाई
 - 2. रससुंदरी देवी
 - 3. ताराबाई शिंदे
 - 4. सरोजिनी नायडू

Question Type : MCQ

Question ID : 630680652713

Option 1 ID : 6306802555324

Option 2 ID : 6306802555325

Option 3 ID : 6306802555322

Option 4 ID : 6306802555323

Status : Answered

Chosen Option : 3

Q.1 Select the most appropriate option to fill in the blank.

If you don't have a lump sum to _____ in a fixed deposit, you can surely opt for a long-term recurring deposit.

- Ans 1. gather
 2. invest
 3. draw
 4. publish

Question Type : MCQ
Question ID : 630680544794
Option 1 ID : 6306802129941
Option 2 ID : 6306802129938
Option 3 ID : 6306802129939
Option 4 ID : 6306802129940
Status : Answered
Chosen Option : 2

Q.2 Select the option that can be used as a one-word substitute for the given group of words.

Exactly the same words as were used originally.

- Ans 1. Factual
 2. Precise
 3. Ornate
 4. Verbatim

Question Type : MCQ
Question ID : 630680545485
Option 1 ID : 6306802132545
Option 2 ID : 6306802132547
Option 3 ID : 6306802132544
Option 4 ID : 6306802132546
Status : Answered
Chosen Option : 4

Q.3 Select the most appropriate ANTONYM of the underlined word.
The meteorological department predicted heavy rain over the coming days.

- Ans 1. Drizzly
 2. Rare
 3. Light
 4. Plentiful

Question Type : MCQ
Question ID : 630680502817
Option 1 ID : 6306801965400
Option 2 ID : 6306801964850
Option 3 ID : 6306801964849
Option 4 ID : 6306801964851
Status : Answered
Chosen Option : 3

Q.4 Select the most appropriate ANTONYM of the underlined word in the given sentence.

As the orchestra played, the audience was mesmerised by the beautiful melodies.

- Ans
- 1. alienated
 - 2. turbid
 - 3. dirty
 - 4. abstracted

Question Type : **MCQ**

Question ID : **630680799125**

Option 1 ID : **6306803131299**

Option 2 ID : **6306803131300**

Option 3 ID : **6306803131301**

Option 4 ID : **6306803131298**

Status : **Answered**

Chosen Option : 2

Q.5 Select the appropriate option that can substitute the underlined word in the following sentence to make it grammatically correct.

Only the beautiful painting is to be displayed in the exhibition.

- Ans
- 1. beautiful
 - 2. more beautiful
 - 3. the most beautiful
 - 4. the much beautiful

Question Type : **MCQ**

Question ID : **630680514631**

Option 1 ID : **6306802011152**

Option 2 ID : **6306802011151**

Option 3 ID : **6306802011150**

Option 4 ID : **6306802011149**

Status : **Answered**

Chosen Option : 3

Q.6 Identify the sentence with the adverbial error.

- Ans
- 1. She ran the marathon incredibly fast.
 - 2. She ran the incredibly marathon fast.
 - 3. She ran the marathon fast incredibly.
 - 4. She ran incredibly the marathon fast.

Question Type : **MCQ**

Question ID : **630680402019**

Option 1 ID : **6306801567783**

Option 2 ID : **6306801567784**

Option 3 ID : **6306801567785**

Option 4 ID : **6306801567782**

Status : **Not Answered**

Chosen Option : --

Q.7 Select the **INCORRECTLY** spelt word in the following sentence.
His performance in the play was outstanding.

- Ans 1. outstanding
 2. performace
 3. His
 4. play

Question Type : **MCQ**
Question ID : **630680421821**
Option 1 ID : **6306801645730**
Option 2 ID : **6306801645728**
Option 3 ID : **6306801645727**
Option 4 ID : **6306801645729**
Status : **Answered**
Chosen Option : **2**

Q.8 Select the most appropriate synonym of the given word.
Fatigued

- Ans 1. Famous
 2. Furious
 3. Tricky
 4. Tired

Question Type : **MCQ**
Question ID : **630680726551**
Option 1 ID : **6306802847210**
Option 2 ID : **6306802847213**
Option 3 ID : **6306802847211**
Option 4 ID : **6306802847212**
Status : **Answered**
Chosen Option : **4**

Q.9 Select the most appropriate option to fill in the blanks.
His dog did not _____ when thieves were slashing the _____ of his precious tree.

- Ans 1. stem
 2. shout
 3. claw
 4. bark

Question Type : **MCQ**
Question ID : **630680517384**
Option 1 ID : **6306802021935**
Option 2 ID : **6306802021932**
Option 3 ID : **6306802021933**
Option 4 ID : **6306802021934**
Status : **Answered**
Chosen Option : **4**

Q.10 The following sentence has been split into four segments. Identify the segment that contains a grammatical error.
We / enjoyed lunch / he gave / us.

Ans ✓ 1. enjoyed lunch

✗ 2. he gave

✗ 3. us

✗ 4. We

Question Type : **MCQ**

Question ID : **63068084792**

Option 1 ID : **630680328685**

Option 2 ID : **630680328686**

Option 3 ID : **630680328687**

Option 4 ID : **630680328684**

Status : **Answered**

Chosen Option : 1

Q.11 Select the most appropriate option to fill in the blank.

He couldn't attend the meeting _____ he was sick.

Ans ✓ 1. because

✗ 2. but

✗ 3. so

✗ 4. although

Question Type : **MCQ**

Question ID : **630680490355**

Option 1 ID : **6306801915335**

Option 2 ID : **6306801915337**

Option 3 ID : **6306801915338**

Option 4 ID : **6306801915336**

Status : **Answered**

Chosen Option : 1

Q.12 Select the sentence that has a grammatical error.

Ans ✗ 1. I have a lot of work to complete.

✗ 2. A young boy offered her his seat.

✗ 3. This is a very difficult task to accomplish.

✓ 4. I wish I had eraser to erase all the mistakes in my life.

Question Type : **MCQ**

Question ID : **630680404014**

Option 1 ID : **6306801575544**

Option 2 ID : **6306801575543**

Option 3 ID : **6306801575545**

Option 4 ID : **6306801575542**

Status : **Answered**

Chosen Option : 2

Q.13 Parts of the following sentence have been given as options. Select the option that contains an error.

Please bring two bananas and the piece of cake from the market.

- Ans
- 1. from the market
 - 2. and the piece of cake
 - 3. two bananas
 - 4. Please bring

Question Type : **MCQ**
Question ID : **630680514361**
Option 1 ID : **6306802010072**
Option 2 ID : **6306802010071**
Option 3 ID : **6306802010070**
Option 4 ID : **6306802010069**
Status : **Answered**
Chosen Option : **2**

Q.14 Select the option that can be used as a one-word substitute for the given group of words.

A person or entity that is unable to pay debts.

- Ans
- 1. Recluse
 - 2. Busted
 - 3. Insolvent
 - 4. Insurgent

Question Type : **MCQ**
Question ID : **630680545492**
Option 1 ID : **6306802132575**
Option 2 ID : **6306802132573**
Option 3 ID : **6306802132572**
Option 4 ID : **6306802132574**
Status : **Answered**
Chosen Option : **3**

Q.15 Select the most appropriate meaning of the underlined idiom.

Despite their differences, the counties found common ground and buried the hatchet.

- Ans
- 1. To continue a conflict
 - 2. To seek revenge in the future
 - 3. To disagree publicly
 - 4. To settle a dispute peacefully

Question Type : **MCQ**
Question ID : **630680751473**
Option 1 ID : **6306802945323**
Option 2 ID : **6306802945325**
Option 3 ID : **6306802945322**
Option 4 ID : **6306802945324**
Status : **Answered**
Chosen Option : **4**

Q.16 Select the most appropriate meaning of the given idiom.
Green thumb

- Ans** 1. Being good at growing plants
 2. Preparing for war
 3. Indulging in corruption
 4. To visit the vegetable market

Question Type : **MCQ**

Question ID : **630680164741**

Option 1 ID : **630680638057**

Option 2 ID : **630680638058**

Option 3 ID : **630680638056**

Option 4 ID : **630680638059**

Status : **Answered**

Chosen Option : 1

Q.17 The following sentence has been split into four segments. Identify the segment that contains a grammatical error.
Rahul speaks fluently English / although he makes / quite a lot of mistakes /while writing.

- Ans** 1. quite a lot of mistakes
 2. while writing
 3. although he makes
 4. Rahul speaks fluently English

Question Type : **MCQ**

Question ID : **630680129864**

Option 1 ID : **630680503048**

Option 2 ID : **630680503049**

Option 3 ID : **630680503047**

Option 4 ID : **630680503046**

Status : **Answered**

Chosen Option : 4

Q.18 Select the correctly spelt word to fill in the blank and make the sentence meaningful.
Sheetal has been studying engineering for five years, _____ countless hours to her coursework.

- Ans** 1. dedicating
 2. deddicating
 3. daidicating
 4. dedecating

Question Type : **MCQ**

Question ID : **6306801106843**

Option 1 ID : **6306804347839**

Option 2 ID : **6306804347837**

Option 3 ID : **6306804347838**

Option 4 ID : **6306804347836**

Status : **Answered**

Chosen Option : 1

Q.19 Select the most appropriate synonym of the given word.

Proficient

- Ans
- 1. Recalcitrant
 - 2. Callous
 - 3. Accomplished
 - 4. Glamorous

Question Type : **MCQ**

Question ID : **630680617223**

Option 1 ID : **6306802415137**

Option 2 ID : **6306802415134**

Option 3 ID : **6306802415135**

Option 4 ID : **6306802415136**

Status : **Answered**

Chosen Option : **2**

Q.20 Select the option that rectifies the underlined spelling error.

The impacts of climate change on different sectors of society are interelated.

- Ans
- 1. interreleted
 - 2. enterrelated
 - 3. interrelated
 - 4. interrilated

Question Type : **MCQ**

Question ID : **630680620476**

Option 1 ID : **6306802428003**

Option 2 ID : **6306802428002**

Option 3 ID : **6306802428001**

Option 4 ID : **6306802428000**

Status : **Answered**

Chosen Option : **3**

Comprehension:

In the following passage, some words have been deleted. Read the passage carefully and select the most appropriate option to fill in each blank.

Sniffer dog Tucker uses (1)_____ nose to help researchers find out why a killer whale population off the northwest coast of the United States is (2)_____ the decline. He searches for whale faeces floating on the surface of the water, which are then collected for examination. He is one of the elite team members of detection dogs used by scientists studying a (3)_____ of species including right whales and killer whales.

Conservation canines are fast becoming indispensable tools for biologists according to Aimee Hurt, associate director and co-founder of Working Dogs for Conservation, (4)_____ in Three Forks, Montana.

Over the last few years, though, so many new conservation dog projects have sprung up that Hurt can no (5)_____ keep track of them all. Her organisation's dogs and their handlers are fully booked to assist field researchers into 2012.

SubQuestion No : 21

Q.21 Choose the most appropriate option to fill in blank no. 1.

Ans 1. his

2. him

3. its

4. her

Question Type : **MCQ**

Question ID : **630680182102**

Option 1 ID : **630680705626**

Option 2 ID : **630680705629**

Option 3 ID : **630680705628**

Option 4 ID : **630680705627**

Status : **Answered**

Chosen Option : **3**

Comprehension:

In the following passage, some words have been deleted. Read the passage carefully and select the most appropriate option to fill in each blank.

Sniffer dog Tucker uses (1)_____ nose to help researchers find out why a killer whale population off the northwest coast of the United States is (2)_____ the decline. He searches for whale faeces floating on the surface of the water, which are then collected for examination. He is one of the elite team members of detection dogs used by scientists studying a (3)_____ of species including right whales and killer whales.

Conservation canines are fast becoming indispensable tools for biologists according to Aimee Hurt, associate director and co-founder of Working Dogs for Conservation, (4)_____ in Three Forks, Montana.

Over the last few years, though, so many new conservation dog projects have sprung up that Hurt can no (5)_____ keep track of them all. Her organisation's dogs and their handlers are fully booked to assist field researchers into 2012.

SubQuestion No : 22

Q.22 Choose the most appropriate option to fill in blank no. 2.

Ans 1. off

2. on

3. at

4. after

Question Type : **MCQ**

Question ID : **630680182103**

Option 1 ID : **630680705630**

Option 2 ID : **630680705632**

Option 3 ID : **630680705631**

Option 4 ID : **630680705633**

Status : **Answered**

Chosen Option : **2**

Comprehension:

In the following passage, some words have been deleted. Read the passage carefully and select the most appropriate option to fill in each blank.

Sniffer dog Tucker uses (1)_____ nose to help researchers find out why a killer whale population off the northwest coast of the United States is (2)_____ the decline. He searches for whale faeces floating on the surface of the water, which are then collected for examination. He is one of the elite team members of detection dogs used by scientists studying a (3)_____ of species including right whales and killer whales.

Conservation canines are fast becoming indispensable tools for biologists according to Aimee Hurt, associate director and co-founder of Working Dogs for Conservation, (4)_____ in Three Forks, Montana.

Over the last few years, though, so many new conservation dog projects have sprung up that Hurt can no (5)_____ keep track of them all. Her organisation's dogs and their handlers are fully booked to assist field researchers into 2012.

SubQuestion No : 23

Q.23 Choose the most appropriate option to fill in blank no. 3.

- Ans 1. cadre
 2. number
 3. cacophony
 4. division

Question Type : **MCQ**

Question ID : **630680182104**

Option 1 ID : **630680705634**

Option 2 ID : **630680705635**

Option 3 ID : **630680705637**

Option 4 ID : **630680705636**

Status : **Answered**

Chosen Option : **2**

Comprehension:

In the following passage, some words have been deleted. Read the passage carefully and select the most appropriate option to fill in each blank.

Sniffer dog Tucker uses (1)_____ nose to help researchers find out why a killer whale population off the northwest coast of the United States is (2)_____ the decline. He searches for whale faeces floating on the surface of the water, which are then collected for examination. He is one of the elite team members of detection dogs used by scientists studying a (3)_____ of species including right whales and killer whales.

Conservation canines are fast becoming indispensable tools for biologists according to Aimee Hurt, associate director and co-founder of Working Dogs for Conservation, (4)_____ in Three Forks, Montana.

Over the last few years, though, so many new conservation dog projects have sprung up that Hurt can no (5)_____ keep track of them all. Her organisation's dogs and their handlers are fully booked to assist field researchers into 2012.

SubQuestion No : 24

Q.24 Choose the most appropriate option to fill in blank no. 4.

- Ans 1. living
 2. surviving
 3. based
 4. rested

Question Type : **MCQ**

Question ID : **630680182105**

Option 1 ID : **630680705638**

Option 2 ID : **630680705639**

Option 3 ID : **630680705641**

Option 4 ID : **630680705640**

Status : **Answered**

Chosen Option : **3**

Comprehension:

In the following passage, some words have been deleted. Read the passage carefully and select the most appropriate option to fill in each blank.

Sniffer dog Tucker uses (1)_____ nose to help researchers find out why a killer whale population off the northwest coast of the United States is (2)_____ the decline. He searches for whale faeces floating on the surface of the water, which are then collected for examination. He is one of the elite team members of detection dogs used by scientists studying a (3)_____ of species including right whales and killer whales.

Conservation canines are fast becoming indispensable tools for biologists according to Aimee Hurt, associate director and co-founder of Working Dogs for Conservation, (4)_____ in Three Forks, Montana.

Over the last few years, though, so many new conservation dog projects have sprung up that Hurt can no (5)_____ keep track of them all. Her organisation's dogs and their handlers are fully booked to assist field researchers into 2012.

SubQuestion No : 25

Q.25 Choose the most appropriate option to fill in blank no. 5.

Ans 1. moreover

2. longer

3. lesser

4. shorter

Question Type : **MCQ**

Question ID : **630680182106**

Option 1 ID : **630680705645**

Option 2 ID : **630680705643**

Option 3 ID : **630680705644**

Option 4 ID : **630680705642**

Status : **Answered**

Chosen Option : **2**