

## Multi Tasking Non Technical Staff and Havaladar CBIC and CBN Examination 2024

Roll Number	
Candidate Name	
Venue Name	Sri Balaji College Of Engineering And Technology
Exam Date	17/10/2024
Exam Time	9:00 AM - 11:00 AM
Subject	MTS Non Tech Havaladar CBIC and CBN Examination 2024

### Section : Numerical and Mathematical Ability

Q.1 शुद्ध घी का मूल्य ₹100 प्रति किलोग्राम है। इसमें ₹50 प्रति किलोग्राम मूल्य वाले वनस्पति तेल की मिलावट करने के बाद, एक दुकानदार इस मिश्रण को ₹96 प्रति किलोग्राम की दर से बेचता है, जिससे वह 20% का लाभ अर्जित करता है। वह दोनों को किस अनुपात में मिलाता है?

- Ans
1. 1 : 2
2. 3 : 2
3. 4 : 1
4. 3 : 1

Question Type : MCQ

Question ID : 630680287142

Option 1 ID : 6306801116475

Option 2 ID : 6306801116476

Option 3 ID : 6306801116478

Option 4 ID : 6306801116477

Status : Answered

Chosen Option : 2

Q.2 कॉफ़ी और चाय की कीमतों का अनुपात 5 : 7 है और एक परिवार द्वारा खपत की गई इनकी मात्राओं का अनुपात 7 : 9 है। कॉफ़ी और चाय पर होने वाले व्यय का अनुपात ज्ञात कीजिए।

- Ans
1. 5 : 9
2. 7 : 5
3. 7 : 9
4. 9 : 5

Question Type : MCQ

Question ID : 630680108896

Option 1 ID : 630680422477

Option 2 ID : 630680422479

Option 3 ID : 630680422478

Option 4 ID : 630680422476

Status : Answered

Chosen Option : 1

Q.3 एक पुलिसकर्मी ने 800 m की दूरी पर खड़े चोर को देखा। पुलिसकर्मी ने चोर का पीछा करना शुरू किया तो चोर भागने लगा। यदि पुलिसकर्मी की चाल और चोर की चाल का अनुपात 3:2 है, तो पुलिसकर्मी द्वारा चोर को पकड़ने के लिए तय की गई दूरी ज्ञात करें।

- Ans
- 1. 1.6 km
  - 2. 3.2 km
  - 3. 2 km
  - 4. 2.4 km

Question Type : MCQ

Question ID : 630680262110

Option 1 ID : 6306801018089

Option 2 ID : 6306801018087

Option 3 ID : 6306801018090

Option 4 ID : 6306801018088

Status : Answered

Chosen Option : 4

Q.4 तीन उम्मीदवारों ने एक चुनाव लड़ा और क्रमशः 1234, 8448 और 20180 मत प्राप्त किए। विजयी उम्मीदवार को कुल मतों का कितना प्रतिशत प्राप्त हुआ? (दो दशमलव स्थान तक पूर्णांकित)

- Ans
- 1. 67.58%
  - 2. 55.26%
  - 3. 58.25%
  - 4. 48.25%

Question Type : MCQ

Question ID : 630680464513

Option 1 ID : 6306801814087

Option 2 ID : 6306801814089

Option 3 ID : 6306801814088

Option 4 ID : 6306801814090

Status : Answered

Chosen Option : 1

Q.5 एक बल्लेबाज ने पिछली 5 पारियों में निम्नलिखित रन बनाए। यदि उसके औसत रन 43 है, तो चौथी पारी में उसके द्वारा बनाए गए रन ज्ञात करें।

पारियां रन  
पहली - 92  
दूसरी - 53  
तीसरी - 35  
चौथी - X  
पाँचवीं - 27

- Ans
- 1. 10
  - 2. 12
  - 3. 8
  - 4. 4

Question Type : MCQ

Question ID : 630680239446

Option 1 ID : 630680928737

Option 2 ID : 630680928736

Option 3 ID : 630680928735

Option 4 ID : 630680928738

Status : Answered

Chosen Option : 3

Q.6 5 वर्षों के लिए 6% वार्षिक की ब्याज दर पर उधार ली गई राशि ₹2000 पर साधारण ब्याज (₹ में) ज्ञात कीजिए।

- Ans
- 1. 600
  - 2. 540
  - 3. 640
  - 4. 560

Question Type : MCQ

Question ID : 630680591871

Option 1 ID : 6306802315951

Option 2 ID : 6306802315953

Option 3 ID : 6306802315952

Option 4 ID : 6306802315954

Status : Answered

Chosen Option : 1

Q.7 एक व्यक्ति की 9 घंटे की औसत ड्राइविंग चाल 88 km/h है। अपनी यात्रा के पहले पांच घंटों के दौरान, उसने 74 km/h की चाल से ड्राइव किया, और अंतिम दो घंटों के दौरान उसने 82 km/h की चाल से ड्राइव किया। छठे और सातवें घंटे के दौरान उसकी औसत चाल (km/h में) कितनी थी?

- Ans
- 1. 92
  - 2. 101
  - 3. 120
  - 4. 129

Question Type : MCQ

Question ID : 630680568768

Option 1 ID : 6306802223883

Option 2 ID : 6306802223881

Option 3 ID : 6306802223882

Option 4 ID : 6306802223884

Status : Answered

Chosen Option : 4

Q.8 एक आयताकार हॉल के फर्श की लंबाई और चौड़ाई क्रमशः 98 ft और 70 ft है। यदि हॉल में सभी व्यक्तियों को वर्कस्टेशन के रूप में बराबर वर्गाकार स्थान आवंटित किए जाते हैं, तो ऐसे सबसे बड़े वर्कस्टेशन का क्षेत्रफल क्या होगा जो किसी भी उपयोगकर्ता को आवंटित किया जा सकता है, यह मानते हुए कि हॉल में कोई भी जगह खाली नहीं छोड़ी जाती है?

Ans  1. 196 sq. ft

2. 144 sq. ft

3. 256 sq. ft

4. 100 sq. ft

Question Type : MCQ

Question ID : 630680104261

Option 1 ID : 630680405262

Option 2 ID : 630680405261

Option 3 ID : 630680405260

Option 4 ID : 630680405259

Status : Answered

Chosen Option : 1

Q.9 एक लंब वृत्तीय शंकु की लंबवत ऊँचाई और तिर्यक ऊँचाई का अनुपात 4 : 5 दिया गया है और शंकु का आयतन  $12,936 \text{ cm}^3$  दिया गया है। दिए गए शंकु के आधार की त्रिज्या (cm में) ज्ञात करें। ( $\pi = \frac{22}{7}$  का उपयोग करें।)

Ans  1. 28

2. 24

3. 35

4. 21

Question Type : MCQ

Question ID : 630680381301

Option 1 ID : 6306801486157

Option 2 ID : 6306801486155

Option 3 ID : 6306801486156

Option 4 ID : 6306801486158

Status : Answered

Chosen Option : 4

Q.10 ₹20 में एक वस्तु को बेचकर, एक विक्रेता 10% का लाभ अर्जित करता है। उसे अपना विक्रय मूल्य (₹ में, दो दशमलव स्थान तक सन्निकटित) कितना बढ़ाना चाहिए, ताकि 45% का लाभ अर्जित कर सके?

Ans  1. 9.36

2. 8.36

3. 7.36

4. 6.36

Question Type : MCQ

Question ID : 630680632600

Option 1 ID : 6306802476301

Option 2 ID : 6306802476300

Option 3 ID : 6306802476299

Option 4 ID : 6306802476298

Status : Answered

Chosen Option : 2

Q.11 2 वर्षों के लिए 8% वार्षिक की ब्याज दर पर उधार ली गई राशि ₹2500 पर साधारण ब्याज (₹ में) ज्ञात कीजिए।

- Ans
- 1. 440
  - 2. 340
  - 3. 400
  - 4. 360

Question Type : MCQ

Question ID : 630680591913

Option 1 ID : 6306802316120

Option 2 ID : 6306802316121

Option 3 ID : 6306802316119

Option 4 ID : 6306802316122

Status : Answered

Chosen Option : 3

Q.12 एक निश्चित धनराशि 5 वर्षों में ₹10,800 हो जाएगी। यदि साधारण ब्याज, मूलधन का दो-तिहाई है, तो वार्षिक ब्याज की दर ज्ञात कीजिए।

- Ans
- 1.  $12\frac{1}{2}\%$
  - 2.  $13\frac{1}{3}\%$
  - 3.  $13\frac{2}{3}\%$
  - 4.  $12\frac{2}{3}\%$

Question Type : MCQ

Question ID : 630680388315

Option 1 ID : 6306801513780

Option 2 ID : 6306801513778

Option 3 ID : 6306801513779

Option 4 ID : 6306801513781

Status : Answered

Chosen Option : 2

Q.13 यदि 5 cm, 3 cm और 4 cm त्रिज्याओं वाले तीन गोलों को पिघलाकर एक नया गोला बनाया जाता है, तो निम्नलिखित में से कौन सा विकल्प उस नए गोले की त्रिज्या के बराबर होगा?

- Ans
- 1. 5cm
  - 2. 6cm
  - 3. 8cm
  - 4. 6.5cm

Question Type : MCQ

Question ID : 63068094414

Option 1 ID : 630680366352

Option 2 ID : 630680366351

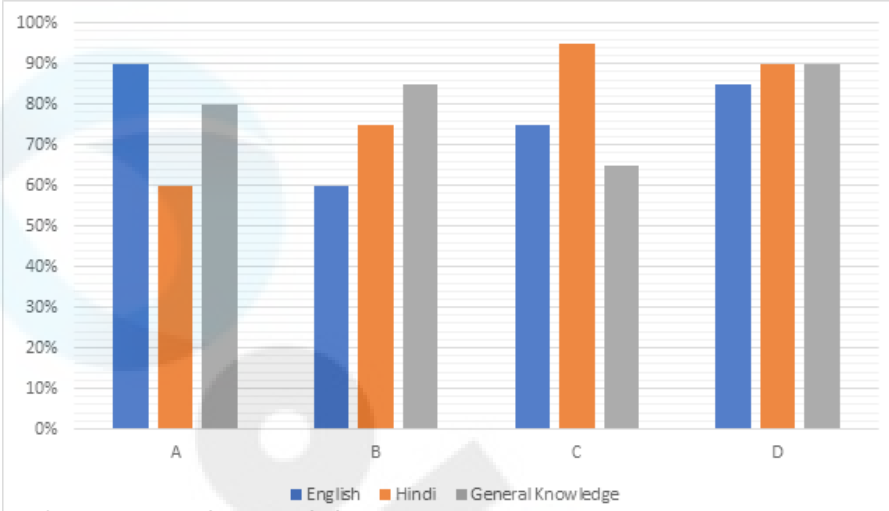
Option 3 ID : 630680366353

Option 4 ID : 630680366354

Status : Answered

Chosen Option : 2

Q.14 दिए गए बार ग्राफ का अध्ययन कीजिए और निम्नलिखित प्रश्न का उत्तर दीजिए।  
दिए गए बार ग्राफ में चार केंद्रों (A, B, C और D) के विद्यार्थियों द्वारा अंग्रेजी, हिंदी और सामान्य ज्ञान में प्राप्त औसत प्रतिशत अंकों को दर्शाया गया है।



संदर्भ: English - अंग्रेजी, Hindi - हिंदी, General Knowledge - सामान्य ज्ञान

यदि अंग्रेजी में कुल अंक 150, हिंदी में कुल अंक 50 और सामान्य ज्ञान में कुल अंक 200 हैं, तो केंद्र A और D के कुल अंकों के बीच अंतर ज्ञात कीजिए।

- Ans
- 1. 25
  - 2. 27.5
  - 3. 29.5
  - 4. 28.25

Question Type : MCQ

Question ID : 630680399179

Option 1 ID : 6306801556667

Option 2 ID : 6306801556669

Option 3 ID : 6306801556668

Option 4 ID : 6306801556670

Status : Answered

Chosen Option : 2

Q.15 किसी विद्यार्थी का समग्र ग्रेड तीन विषयों - क्रमशः 40%, 30% और 30% भारांक (weights) वाले गणित, अंग्रेजी और विज्ञान में उसके अंकों से निर्धारित होता है। यदि विद्यार्थी इन विषयों में क्रमशः 80, 90, और 75 अंक प्राप्त करता है, तो विद्यार्थी का समग्र ग्रेड ज्ञात कीजिए।

- Ans
- 1. 81.5
  - 2. 81
  - 3. 82
  - 4. 82.5

Question Type : MCQ

Question ID : 630680481525

Option 1 ID : 6306801880593

Option 2 ID : 6306801880592

Option 3 ID : 6306801880594

Option 4 ID : 6306801880595

Status : Answered

Chosen Option : 1

Q.16 40 kg, 49 kg, 56 kg, 72 kg और 37 kg वजन के पांच सदस्यों वाले परिवार का औसत वजन (kg में) ज्ञात कीजिए।

Ans  1. 49.8

2. 51.8

3. 52.8

4. 50.8

Question Type : MCQ

Question ID : 630680551666

Option 1 ID : 6306802156891

Option 2 ID : 6306802156890

Option 3 ID : 6306802156892

Option 4 ID : 6306802156889

Status : Answered

Chosen Option : 4

Q.17 दी गई तालिका का अध्ययन कीजिए और निम्नलिखित प्रश्न का उत्तर दीजिए।

दी गई तालिका तीन अलग-अलग शहरों में जनसंख्या से संबंधित आँकड़े और जनसंख्या के बीच साक्षरता/निरक्षरता दर दर्शाती है।

शहर	पुरुषों और महिलाओं की संख्या के बीच क्रमशः अनुपात	कुल जनसंख्या में से साक्षरों (पुरुषों और महिलाओं) का प्रतिशत	कुल जनसंख्या में से निरक्षरों (पुरुषों और महिलाओं) की संख्या
X	7 : 9	78	2560
Y	3 : 7	83	2780
Z	5 : 2	92	3540

गाँव Y में निरक्षरों की संख्या, गाँव Z में निरक्षरों की संख्या से कितने प्रतिशत कम है? (दो दशमलव स्थान तक पूर्णांकित)

Ans  1. 21.47%

2. 18.27%

3. 23.25%

4. 20.36%

Question Type : MCQ

Question ID : 630680523754

Option 1 ID : 6306802047168

Option 2 ID : 6306802047170

Option 3 ID : 6306802047167

Option 4 ID : 6306802047169

Status : Answered

Chosen Option : 1

Q.18 20 लड़कों का औसत वजन 60 kg है। 30 लड़कियों को मिलाकर सभी लड़के और लड़कियों का औसत वजन 54 kg है। 30 लड़कियों का औसत वजन kg में कितना है?

- Ans  1. 55  
 2. 54  
 3. 50  
 4. 52

Question Type : MCQ

Question ID : 630680815880

Option 1 ID : 6306803196856

Option 2 ID : 6306803196855

Option 3 ID : 6306803196853

Option 4 ID : 6306803196854

Status : Answered

Chosen Option : 3

Q.19 16 cm त्रिज्या और 12 cm ऊंचाई वाले एक शंकु को, आधार के समानांतर, शीर्ष के निकट किसी ऊंचाई पर काटा जाता है। यदि ठोसों की ऊंचाई का अनुपात 1 : 3 है, तो निर्मित दोनों ठोसों के संपूर्ण पृष्ठीय क्षेत्रफल का अनुपात लगभग \_\_\_\_\_ होगा।

- Ans  1. 7 : 180  
 2. 1 : 8  
 3. 2 : 15  
 4. 9 : 143

Question Type : MCQ

Question ID : 630680392973

Option 1 ID : 6306801532229

Option 2 ID : 6306801532227

Option 3 ID : 6306801532228

Option 4 ID : 6306801532226

Status : Answered

Chosen Option : 2

Q.20 एक दुकानदार दो स्कीम, पहली 30% की एकल छूट, और दूसरी 25% और 5% की दो क्रमिक छूट देता है। यदि ग्राहक ने दोनों स्कीमों में से प्रत्येक में ₹5,000 की खरीदारी की, तो दोनों स्कीमों की छूट में अंतर (₹ में) कितना है?

- Ans  1. 70  
 2. 62.50  
 3. 65  
 4. 67.50

Question Type : MCQ

Question ID : 630680631073

Option 1 ID : 6306802470243

Option 2 ID : 6306802470241

Option 3 ID : 6306802470242

Option 4 ID : 6306802470240

Status : Answered

Chosen Option : 2

Q.1 दिए गए कथनों और निष्कर्षों को ध्यानपूर्वक पढ़िए। यह मानते हुए कि कथनों में दी गई जानकारी सत्य है, चाहे वह सामान्यतः ज्ञात तथ्यों से भिन्न प्रतीत होती हो और निर्णय लीजिए कि दिए गए निष्कर्षों में से कौन-सा/कौन-से निष्कर्ष कथनों का तार्किक रूप से अनुसरण करता है/करते हैं।

कथन:

सभी तोते, चील हैं।  
कुछ तोते, शतुरमुर्ग हैं।

निष्कर्ष:

(I) कुछ चील, तोते हैं।  
(II) कुछ चील, शतुरमुर्ग हैं।

- Ans  1. निष्कर्ष I और निष्कर्ष II दोनों अनुसरण करते हैं  
 2. न तो निष्कर्ष I और न ही निष्कर्ष II अनुसरण करता है  
 3. केवल निष्कर्ष II अनुसरण करता है  
 4. केवल निष्कर्ष I अनुसरण करता है

Question Type : MCQ

Question ID : 630680379577

Option 1 ID : 6306801479353

Option 2 ID : 6306801479354

Option 3 ID : 6306801479352

Option 4 ID : 6306801479351

Status : Answered

Chosen Option : 1

Q.2 दी गई श्रृंखला में प्रश्नचिह्न (?) के स्थान पर क्या आएगा?

115 117 123 125 131 ?

- Ans  1. 134  
 2. 133  
 3. 135  
 4. 132

Question Type : MCQ

Question ID : 630680816787

Option 1 ID : 6306803209230

Option 2 ID : 6306803209229

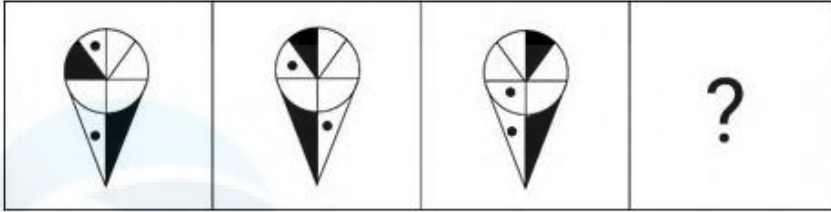
Option 3 ID : 6306803209231

Option 4 ID : 6306803209228

Status : Answered

Chosen Option : 2

Q.3 दिए गए विकल्पों में से उस आकृति का चयन कीजिए, जो प्रश्न-चिह्न (?) के स्थान पर आएगी और श्रृंखला को तार्किक रूप से पूर्ण करेगी।



Ans

✓ 1.



✗ 2.



✗ 3.



✗ 4.



Question Type : MCQ

Question ID : 630680272942

Option 1 ID : 6306801060328

Option 2 ID : 6306801060327

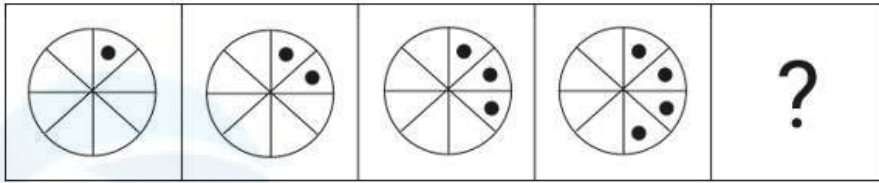
Option 3 ID : 6306801060330

Option 4 ID : 6306801060329

Status : Answered

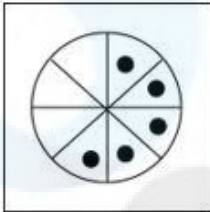
Chosen Option : 1

Q.4 विकल्पों में दी गई उस आकृति की पहचान कीजिए जिसे (?) के स्थान पर रखने पर श्रृंखला तार्किक रूप से पूर्ण हो जाएगी।

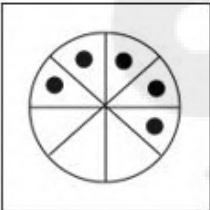


Ans

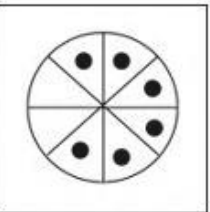
✓ 1.



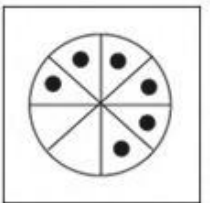
✗ 2.



✗ 3.



✗ 4.



Question Type : MCQ

Question ID : 630680279132

Option 1 ID : 6306801084806

Option 2 ID : 6306801084805

Option 3 ID : 6306801084808

Option 4 ID : 6306801084807

Status : Answered

Chosen Option : 1

Q.5 एक निश्चित कूट भाषा में, 'SPIKE' को '82467' लिखा जाता है और 'LIKES' को '47298' लिखा जाता है। उसी कूट भाषा में 'P' को कैसे लिखा जाएगा?

Ans  1. 4

2. 8

3. 6

4. 2

Question Type : MCQ

Question ID : 630680439104

Option 1 ID : 6306801714228

Option 2 ID : 6306801714230

Option 3 ID : 6306801714231

Option 4 ID : 6306801714229

Status : Answered

Chosen Option : 3

Q.6 किसी निश्चित भाषा में, 'INCH' को '9631' के रूप में कूटबद्ध किया जाता है, और 'THIN' को '3269' के रूप में कूटबद्ध किया जाता है। 'THIN' में 'T' के लिए कूट क्या होगा?

Ans  1. 3

2. 2

3. 9

4. 6

Question Type : MCQ

Question ID : 630680876471

Option 1 ID : 6306803432647

Option 2 ID : 6306803432649

Option 3 ID : 6306803432648

Option 4 ID : 6306803432650

Status : Answered

Chosen Option : 2

Q.7 अंग्रेजी वर्णमाला क्रम के आधार पर NUQM एक निश्चित प्रकार से PWSO से संबंधित है। उसी प्रकार, JQMI, LSOK से संबंधित है। समान तर्क का अनुसरण करते हुए QXTP निम्नलिखित में से किससे संबंधित है?

Ans  1. ZSRV

2. SZRV

3. ZSVR

4. SZVR

Question Type : MCQ

Question ID : 630680437933

Option 1 ID : 6306801709557

Option 2 ID : 6306801709555

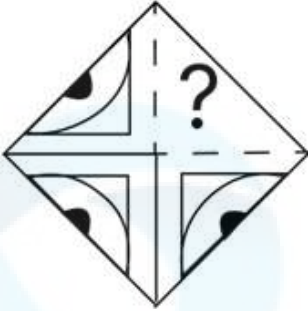
Option 3 ID : 6306801709556

Option 4 ID : 6306801709554

Status : Answered

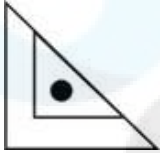
Chosen Option : 4

Q.8 उस विकल्प आकृति का चयन कीजिए जो पैटर्न को पूरा करने के लिए नीचे दी गई आकृति में प्रश्न चिह्न (?) के स्थान पर आएगी।

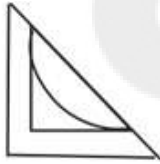


Ans

✗ 1.



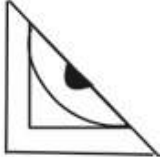
✗ 2.



✗ 3.



✓ 4.



Question Type : MCQ

Question ID : 630680525757

Option 1 ID : 6306802055113

Option 2 ID : 6306802055115

Option 3 ID : 6306802055112

Option 4 ID : 6306802055114

Status : Answered

Chosen Option : 4

Q.9 यदि '+' और '-' को आपस में बदल दिया जाए तथा 'x' और '÷' को आपस में बदल दिया जाए, तो निम्नलिखित समीकरण में '?' के स्थान पर क्या आएगा?  
 $5 + 3 - 10 \times 2 \div 2 = ?$

- Ans  1. 15  
 2. 13  
 3. 12  
 4. 17

Question Type : MCQ

Question ID : 630680395197

Option 1 ID : 6306801541020

Option 2 ID : 6306801541021

Option 3 ID : 6306801541022

Option 4 ID : 6306801541023

Status : Answered

Chosen Option : 3

Q.10 अंग्रेजी वर्णानुक्रम के आधार पर ODGM एक निश्चित तरीके से NBFK से संबंधित है। उसी प्रकार, TAYP, SYXN से संबंधित है। समान तर्क का अनुसरण करते हुए, RJFB निम्नलिखित में से किससे संबंधित है?

- Ans  1. QHEZ  
 2. PFCC  
 3. RHDC  
 4. PGDD

Question Type : MCQ

Question ID : 630680383047

Option 1 ID : 6306801493098

Option 2 ID : 6306801493096

Option 3 ID : 6306801493095

Option 4 ID : 6306801493097

Status : Answered

Chosen Option : 1

Q.11 A, B, C, D, E, F और G एक गोल मेज के चारों ओर केंद्र की ओर मुख करके बैठे हैं (परंतु जरूरी नहीं कि वे इसी क्रम में बैठें हों)। C, A के ठीक बाएँ और E के ठीक दाएँ बैठा है। E, B के ठीक दाएँ बैठा है। D, B के ठीक बाएँ और F के ठीक दाएँ बैठा है। A, G के ठीक बाएँ बैठा है। G के ठीक दाएँ कौन बैठा है?

- Ans  1. A  
 2. F  
 3. D  
 4. E

Question Type : MCQ

Question ID : 630680380397

Option 1 ID : 6306801482583

Option 2 ID : 6306801482585

Option 3 ID : 6306801482584

Option 4 ID : 6306801482586

Status : Answered

Chosen Option : 2

Q.12 उस समुच्चय का चयन कीजिए जिसमें संख्याएं ठीक उसी प्रकार संबंधित हैं जिस प्रकार दिए गए समुच्चयों की संख्याएं संबंधित हैं।  
(ध्यान दें: संख्याओं को उनके घटक अंकों में अलग-अलग किए बिना पूर्ण संख्याओं पर संक्रियाएं की जानी चाहिए। उदाहरण के लिए संख्या 13 - संख्या 13 पर संक्रियाएं जैसे 13 को जोड़ना/घटाना/गुणा करना आदि किया जा सकता है। 13 को 1 और 3 में अलग-अलग करने की और फिर 1 और 3 पर गणितीय संक्रियाएं करने की अनुमति नहीं है।)

(8, 64, 2)  
(12, 12, 1)

- Ans  1. (6, 214, 6)  
 2. (4, 256, 4)  
 3. (10, 3426, 7)  
 4. (8, 722, 9)

Question Type : MCQ

Question ID : 630680394146

Option 1 ID : 6306801536874

Option 2 ID : 6306801536875

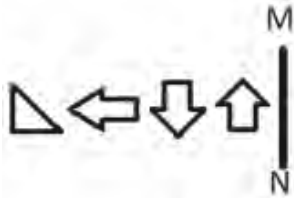
Option 3 ID : 6306801536877

Option 4 ID : 6306801536876

Status : Answered

Chosen Option : 2

Q.13 यदि दर्पण को नीचे दिखाए गए अनुसार MN पर रखा जाए, तो दी गई आकृति के सही दर्पण प्रतिबिंब का चयन कीजिए।



- Ans  1.   
 2.   
 3.   
 4.

Question Type : MCQ

Question ID : 630680525321

Option 1 ID : 6306802053370

Option 2 ID : 6306802053368

Option 3 ID : 6306802053369

Option 4 ID : 6306802053371

Status : Answered

Chosen Option : 3

Q.14 एक निश्चित कूट भाषा में 'legs hands ears' को 'du ph bq' के रूप में कूटबद्ध किया जाता है, 'hands eyes hearts' को 'ak fd du' के रूप में कूटबद्ध किया जाता है, 'ears hearts arms' को 'fd bq dy' के रूप में कूटबद्ध किया जाता है। उस भाषा में 'eyes' के लिए कूट क्या है? (नोट: सभी कूट केवल दो-अक्षरों में कूटबद्ध हैं।)

- Ans  1. fd  
 2. ph  
 3. ak  
 4. du

Question Type : MCQ

Question ID : 630680436133

Option 1 ID : 6306801702474

Option 2 ID : 6306801702476

Option 3 ID : 6306801702473

Option 4 ID : 6306801702475

Status : Answered

Chosen Option : 3

Q.15 A, B, C, D, E, F और G एक वृत्ताकार मेज के चारों ओर केंद्र की ओर मुख करके बैठे हैं (परंतु जरूरी नहीं कि वे इसी क्रम में बैठे हों)। E के दाएँ से गिनती करने पर E और F के बीच में केवल दो लोग बैठे हैं। F और C के बीच में केवल दो लोग बैठे हैं। E और B के बीच में केवल तीन लोग बैठे हैं। D, A के ठीक बाएँ बैठा है। A के बाएँ से गिनती करने पर A और G के बीच में कितने लोग बैठे हैं?

- Ans  1. 2  
 2. 1  
 3. 3  
 4. 4

Question Type : MCQ

Question ID : 630680411151

Option 1 ID : 6306801603361

Option 2 ID : 6306801603360

Option 3 ID : 6306801603362

Option 4 ID : 6306801603363

Status : Answered

Chosen Option : 3

Q.16 12 एक निश्चित तर्क का अनुसरण करते हुए 81 से संबंधित है। उसी तर्क का अनुसरण करते हुए, 24, 153 से संबंधित है। उसी तर्क का अनुसरण करते हुए, 19 निम्नलिखित में से किससे संबंधित है?

(ध्यान दें: संख्याओं को उनके घटक अंकों में अलग-अलग किए बिना पूर्ण संख्याओं पर संक्रियाएं की जानी चाहिए। उदाहरण के लिए संख्या 13 - संख्या 13 पर संक्रियाएं जैसे 13 को जोड़ना/घटाना/गुणा करना आदि किया जा सकता है। 13 को 1 और 3 में अलग-अलग करने की और फिर 1 और 3 पर गणितीय संक्रियाएं करने की अनुमति नहीं है।)

Ans  1. 129

2. 131

3. 123

4. 125

Question Type : MCQ

Question ID : 630680446751

Option 1 ID : 6306801744296

Option 2 ID : 6306801744297

Option 3 ID : 6306801744294

Option 4 ID : 6306801744295

Status : Not Answered

Chosen Option : --

Q.17 किसी निश्चित कूट भाषा में, 'TURF' को '5691' के रूप में कूटबद्ध किया जाता है और 'RAFT' को '6935' के रूप में कूटबद्ध किया जाता है। दी गई कूट भाषा में 'A' के लिए कूट क्या है?

Ans  1. 5

2. 3

3. 9

4. 6

Question Type : MCQ

Question ID : 630680418969

Option 1 ID : 6306801634589

Option 2 ID : 6306801634587

Option 3 ID : 6306801634590

Option 4 ID : 6306801634588

Status : Answered

Chosen Option : 2

Q.18 दिए गए समीकरण को सही बनाने के लिए किन दो संख्याओं को आपस में बदला जाना चाहिए?

$$(24 \div 6) + (18 \times 4) - 54 + 42 = 99$$

(नोट: अदला-बदली पूरी संख्या की होनी चाहिए न कि दी गई संख्या के अलग-अलग अंकों की)

Ans  1. 24 और 54

2. 18 और 24

3. 54 और 42

4. 4 और 6

Question Type : MCQ

Question ID : 630680378797

Option 1 ID : 6306801476236

Option 2 ID : 6306801476235

Option 3 ID : 6306801476237

Option 4 ID : 6306801476238

Status : Answered

Chosen Option : 1

Q.19 अंग्रेजी वर्णमाला क्रम के आधार पर दी गई श्रृंखला में प्रश्न चिह्न (?) के स्थान पर क्या आना चाहिए?

BDG, HJM, NPS, TVY, ?

Ans  1. XZC

2. ACF

3. ZBE

4. YAD

Question Type : MCQ

Question ID : 630680316230

Option 1 ID : 6306801230568

Option 2 ID : 6306801230567

Option 3 ID : 6306801230566

Option 4 ID : 6306801230565

Status : Answered

Chosen Option : 3

Q.20 नीचे दिए गए कथनों और निष्कर्षों को ध्यान से पढ़िए। कथनों में दी गई जानकारी को सत्य मानते हुए, चाहे वह सामान्य रूप से ज्ञात तथ्यों से भिन्न प्रतीत होती हो, निर्धारित कीजिए कि कौन-सा/से निष्कर्ष, कथन (कथनों) का तार्किक रूप से अनुसरण करता है/करते हैं।

कथन:

कुछ चीटियाँ, मक्खियाँ हैं।  
सभी मक्खियाँ, मधुमक्खियाँ हैं।

निष्कर्ष:

(I): कोई चीटी, मधुमक्खी नहीं है।

(II): कुछ चीटियाँ, मधुमक्खियाँ हैं।

- Ans
- 1. निष्कर्ष (I) और (II) दोनों अनुसरण करते हैं।
  - 2. न तो निष्कर्ष (I) और न ही (II) अनुसरण करता है।
  - 3. केवल निष्कर्ष (II) अनुसरण करता है।
  - 4. केवल निष्कर्ष (I) अनुसरण करता है।

Question Type : MCQ

Question ID : 630680825690

Option 1 ID : 6306803234207

Option 2 ID : 6306803234206

Option 3 ID : 6306803234205

Option 4 ID : 6306803234204

Status : Answered

Chosen Option : 3

Section : General Awareness

Q.1 मनोविनोद सेवाएँ (Recreation services) \_\_\_\_\_ का एक उदाहरण है।

- Ans
- 1. घटिया वस्तुओं
  - 2. मध्यवर्ती वस्तुओं
  - 3. उपभोक्ता वस्तुओं
  - 4. पूँजीगत वस्तुओं

Question Type : MCQ

Question ID : 630680302532

Option 1 ID : 6306801176801

Option 2 ID : 6306801176800

Option 3 ID : 6306801176799

Option 4 ID : 6306801176798

Status : Answered

Chosen Option : 2

Q.2 गीता चंद्रन को 2007 में पद्म श्री प्राप्त हुआ जो एक जानी-मानी \_\_\_\_\_ नृत्यांगना हैं।

- Ans  1. मोहिनीअट्टम  
 2. भरतनाट्यम  
 3. ओडिसी  
 4. सल्लिया

Question Type : MCQ  
Question ID : 630680512017  
Option 1 ID : 6306802001040  
Option 2 ID : 6306802001038  
Option 3 ID : 6306802001039  
Option 4 ID : 6306802001041  
Status : Answered  
Chosen Option : 4

Q.3 बौद्धों द्वारा अपने भिक्षुओं और तपस्विनियों के अवशेषों को रखने के लिए आम तौर पर किस प्रकार की संरचनाओं का उपयोग किया जाता है?

- Ans  1. गर्भ गृह  
 2. गृह  
 3. स्तूप  
 4. विहार

Question Type : MCQ  
Question ID : 630680537242  
Option 1 ID : 6306802100238  
Option 2 ID : 6306802100237  
Option 3 ID : 6306802100239  
Option 4 ID : 6306802100236  
Status : Answered  
Chosen Option : 3

Q.4 राष्ट्रीय बहुआयामी गरीबी सूचकांक रिपोर्ट 2021 के अनुसार, निम्नलिखित में से किस राज्य में गरीबी के नीचे सबसे कम आबादी है?

- Ans  1. पंजाब  
 2. तमिलनाडु  
 3. सिक्किम  
 4. हिमाचल प्रदेश

Question Type : MCQ  
Question ID : 630680510911  
Option 1 ID : 6306801996775  
Option 2 ID : 6306801996776  
Option 3 ID : 6306801996777  
Option 4 ID : 6306801996774  
Status : Answered  
Chosen Option : 2

Q.5 निम्नलिखित में से किस राज्य में स्थानांतरी कृषि (shifting agriculture) को स्थानीय रूप से पेंडा (Penda) कहा जाता है?

- Ans
- 1. मध्य प्रदेश
  - 2. आंध्र प्रदेश
  - 3. पश्चिम बंगाल
  - 4. ओडिशा

Question Type : MCQ

Question ID : 630680468192

Option 1 ID : 6306801828571

Option 2 ID : 6306801828572

Option 3 ID : 6306801828573

Option 4 ID : 6306801828570

Status : Answered

Chosen Option : 2

Q.6 जैमिनीय (Jaiminiya) और कौषीतकी (Kausitaki) नृत्यों का उल्लेख निम्नलिखित में से किसमें मिलता है?

- Ans
- 1. वेदों (Vedas)
  - 2. पुराणों (Puranas)
  - 3. आगमों (Agamas)
  - 4. ब्राह्मणों (Brahmanas)

Question Type : MCQ

Question ID : 630680465733

Option 1 ID : 6306801818967

Option 2 ID : 6306801818970

Option 3 ID : 6306801818969

Option 4 ID : 6306801818968

Status : Answered

Chosen Option : 3

Q.7 दर्द निवारक दवाओं (Analgesic medicines) का उपयोग \_\_\_\_\_ के लिए किया जाता है।

- Ans
- 1. शारीरिक कार्यों को सहायता प्रदान करने
  - 2. सूक्ष्मजीवों और संक्रमणों को मारना या दुर्बलीकृत करने
  - 3. विटामिन और पोषक तत्वों की कमी को ठीक करने
  - 4. दर्द कम करने और बुखार में राहत पहुँचाने

Question Type : MCQ

Question ID : 630680641507

Option 1 ID : 6306802511445

Option 2 ID : 6306802511443

Option 3 ID : 6306802511446

Option 4 ID : 6306802511444

Status : Answered

Chosen Option : 2

Q.8 आबनूस (Ebony), महोगनी (Mahogany), सिंकोना (Cinchona) आदि पेड़ भारत में किस प्रकार के वनों में पाए जाते हैं?

- Ans
- 1. मैंग्रोव वनों
  - 2. कंटक वनों
  - 3. उष्णकटिबंधीय पर्णपाती वनों
  - 4. उष्णकटिबंधीय सदाबहार वनों

Question Type : MCQ

Question ID : 630680511067

Option 1 ID : 6306801997401

Option 2 ID : 6306801997398

Option 3 ID : 6306801997400

Option 4 ID : 6306801997399

Status : Answered

Chosen Option : 3

Q.9 सर्वप्रथम किसने प्रतिपादित किया कि कोशिकाएँ पहले से विद्यमान कोशिकाओं से उत्पन्न होती हैं?

- Ans
- 1. रडोल्फ बिर्चो (Rudolf Virchow)
  - 2. विलियम हार्वे (William Harvey)
  - 3. कार्ल लिनिअस (Carl Linnaeus)
  - 4. जेनिफर डौडना (Jennifer Doudna)

Question Type : MCQ

Question ID : 630680270225

Option 1 ID : 6306801050151

Option 2 ID : 6306801050152

Option 3 ID : 6306801050153

Option 4 ID : 6306801050154

Status : Answered

Chosen Option : 3

Q.10 पल्लवों का प्रथम सामंत (feudatory) कौन था?

- Ans
- 1. विजयालय (Vijayalaya)
  - 2. राजेंद्र (Rajendra)
  - 3. अशोक (Ashoka)
  - 4. हर्षवर्द्धन (Harshvardhan)

Question Type : MCQ

Question ID : 630680433806

Option 1 ID : 6306801693189

Option 2 ID : 6306801693188

Option 3 ID : 6306801693190

Option 4 ID : 6306801693187

Status : Answered

Chosen Option : 2

Q.11 निम्नलिखित में से कौन-सा विकल्प सर्वोच्च न्यायालय का एक महत्वपूर्ण कार्य नहीं है?

- Ans
- 1. यह कार्यकारी अधिकारियों की जाँच करने और कानून के शासन को लागू करने का कार्य करता है
  - 2. यह मौलिक अधिकारों का रक्षक और गारंटर है
  - 3. यह संघीय संतुलन बनाए रखता है
  - 4. यह भूमि अभिलेखों और राजस्व संग्रह का रखरखाव करता है

Question Type : MCQ

Question ID : 630680270093

Option 1 ID : 6306801049625

Option 2 ID : 6306801049623

Option 3 ID : 6306801049624

Option 4 ID : 6306801049626

Status : Answered

Chosen Option : 4

Q.12 निम्नलिखित में से किस दिन को मुस्लिम समुदाय में शोक का दिन माना जाता है?

- Ans
- 1. बकरी ईद
  - 2. बारह वफ़ात
  - 3. शब-ए-बारत
  - 4. मुहर्रम

Question Type : MCQ

Question ID : 630680157890

Option 1 ID : 630680611090

Option 2 ID : 630680611091

Option 3 ID : 630680611088

Option 4 ID : 630680611089

Status : Answered

Chosen Option : 3

Q.13 1983 क्रिकेट विश्व कप आयोजन के दौरान निम्नलिखित में से कौन भारतीय क्रिकेट टीम का कप्तान था?

- Ans
- 1. संदीप पाटिल
  - 2. मोहिंदर अमरनाथ
  - 3. सचिन तेंदुलकर
  - 4. कपिल देव

Question Type : MCQ

Question ID : 630680571858

Option 1 ID : 6306802236329

Option 2 ID : 6306802236331

Option 3 ID : 6306802236328

Option 4 ID : 6306802236330

Status : Answered

Chosen Option : 4

Q.14 उस्ताद घग्घे खुदा बख्श (Ustad Ghagge Khuda Baksh) निम्नलिखित में से किस घराने से जुड़े थे?

- Ans
- 1. दिल्ली घराना
  - 2. आगरा घराना
  - 3. खालियर घराना
  - 4. बनारस घराना

Question Type : MCQ  
Question ID : 630680487624  
Option 1 ID : 6306801904567  
Option 2 ID : 6306801904569  
Option 3 ID : 6306801904568  
Option 4 ID : 6306801904566  
Status : Answered  
Chosen Option : 3

Q.15 भारत के संविधान का कौन सा अनुच्छेद संसद की सदस्यता के लिए योग्यता निर्धारित करता है?

- Ans
- 1. अनुच्छेद 105
  - 2. अनुच्छेद 85
  - 3. अनुच्छेद 84
  - 4. अनुच्छेद 80

Question Type : MCQ  
Question ID : 630680215486  
Option 1 ID : 630680835926  
Option 2 ID : 630680835925  
Option 3 ID : 630680835924  
Option 4 ID : 630680835923  
Status : Answered  
Chosen Option : 2

Q.16 1905 में बंगाल विभाजन की घोषणा के समय निम्नलिखित में से कौन भारत का वायसराय था?

- Ans
- 1. लॉर्ड डलहौजी
  - 2. लॉर्ड हेस्टिंग्स
  - 3. लॉर्ड कर्जन
  - 4. लॉर्ड कैनिंग

Question Type : MCQ  
Question ID : 630680282901  
Option 1 ID : 6306801099737  
Option 2 ID : 6306801099735  
Option 3 ID : 6306801099738  
Option 4 ID : 6306801099736  
Status : Answered  
Chosen Option : 3

Q.17 निम्नलिखित में से किसने प्रसिद्ध उपन्यास (मूल रूप से बांग्ला में) 'देवदास' और 'परिणीता' लिखे हैं?

- Ans  1. बंकिम चंद्र चटर्जी  
 2. नबीन चंद्र सेन  
 3. रविंद्रनाथ टैगोर  
 4. शरत चंद्र चट्टोपाध्याय

Question Type : MCQ

Question ID : 630680409452

Option 1 ID : 6306801596637

Option 2 ID : 6306801596639

Option 3 ID : 6306801596640

Option 4 ID : 6306801596638

Status : Answered

Chosen Option : 3

Q.18 निम्नलिखित सूचियों पर विचार कीजिए:

सूची I (कांग्रेस अधिवेशन)	सूची II (अध्यक्ष)
1 बॉम्बे, 1885	(a) रहीमतुल्लाह एम. सयानी
2 कलकत्ता, 1896	(b) रास बिहारी घोष
3 सूरत, 1907	(c) सरोजिनी नायडू
4 कानपुर, 1925	(d) व्योमेश चंद्र बनर्जी

नीचे दिए गए कूट का प्रयोग करके सही उत्तर का चयन कीजिए:

- Ans  1. 1-d, 2-a, 3-c, 4-b  
 2. 1-d, 2-a, 3-b, 4-c  
 3. 1-d, 2-b, 3-a, 4-c  
 4. 1-d, 2-c, 3-b, 4-a

Question Type : MCQ

Question ID : 630680176078

Option 1 ID : 630680682557

Option 2 ID : 630680682559

Option 3 ID : 630680682558

Option 4 ID : 630680682556

Status : Answered

Chosen Option : 2

Q.19 ओलंपिक-आकार (Olympic-size) के स्विमिंग पूल की मानक लंबाई कितनी होती है?

- Ans  1. 60 मीटर  
 2. 50 मीटर  
 3. 70 मीटर  
 4. 40 मीटर

Question Type : MCQ  
Question ID : 630680466576  
Option 1 ID : 6306801822363  
Option 2 ID : 6306801822361  
Option 3 ID : 6306801828897  
Option 4 ID : 6306801822362  
Status : Answered  
Chosen Option : 3

Q.20 स्तंभों का मिलान कीजिए।

सूची - I (दक्षिण भारतीय राजा) सूची - II (राजवंश)

- मारवर्मन सुंदर पांड्य (Maravarman Sundara Pandyan) (A) होयसाल
- कृष्णदेवराय (Krishnadevaraya) (B) चालुक्य
- नरसिम्हा द्वितीय (Narasimha II) (C) पाण्ड्य
- तैलप तृतीय (Tailapa III) (D) तुलुव

- Ans  1. 1-(C); 2 -(A); 3 -(D); 4 -(B)  
 2. 1-(A); 2 -(B); 3 -(C); 4 -(D)  
 3. 1-(D); 2 -(C); 3 -(B); 4 -(A)  
 4. 1-(C); 2 -(D); 3 -(A); 4 -(B)

Question Type : MCQ  
Question ID : 630680176086  
Option 1 ID : 630680682589  
Option 2 ID : 630680682590  
Option 3 ID : 630680682588  
Option 4 ID : 630680682591  
Status : Answered  
Chosen Option : 4

Q.21 अक्टूबर 2023 में, रघुबर दास (Raghubar Das) को भारत के निम्नलिखित में से किस राज्य का राज्यपाल नियुक्त किया गया है?

- Ans  1. पश्चिम बंगाल  
 2. ओडिशा  
 3. छत्तीसगढ़  
 4. महाराष्ट्र

Question Type : MCQ  
Question ID : 630680467193  
Option 1 ID : 6306801824719  
Option 2 ID : 6306801824717  
Option 3 ID : 6306801824718  
Option 4 ID : 6306801824720  
Status : Answered  
Chosen Option : 1

Q.22 यह प्रेक्षित किया गया है कि एक बच्चे की हृदय गति 135 बार प्रति मिनट होती है। हृदय की विस्पंद आवृत्ति (beat frequency) \_\_\_\_\_ है।

- Ans  1. 135 Hz  
 2. 2.25 Hz  
 3. 8100 Hz  
 4. 1.12 Hz

Question Type : MCQ

Question ID : 630680473308

Option 1 ID : 6306801848929

Option 2 ID : 6306801848927

Option 3 ID : 6306801848930

Option 4 ID : 6306801848928

Status : Answered

Chosen Option : 1

Q.23 पृथ्वी पर सभी जीवधारी (living organism) कार्बन यौगिकों से बने हैं। कई वर्ष पहले, मृत और अंतर्हित पादप (dead and buried plants) उच्च तापमान और उच्च दाब के कारण धीरे-धीरे कोयले में परिवर्तित होने लगे। इस प्रक्रिया को \_\_\_\_\_ कहा जाता है।

- Ans  1. काला सोना रचना (black gold formation)  
 2. कार्बनीकरण (carbonization)  
 3. पीट रचना (peat formation)  
 4. कंपोस्टन (composting)

Question Type : MCQ

Question ID : 630680517182

Option 1 ID : 6306802021127

Option 2 ID : 6306802021126

Option 3 ID : 6306802021124

Option 4 ID : 6306802021125

Status : Answered

Chosen Option : 4

Q.24 जनवरी 2023 में, भंडारण विकास एवं विनियामक प्राधिकरण (Warehouse Development Regulation Authority - WDRA) ने किसानों को कम ब्याज दर पर ऋण दिलाने में सहायता करने के लिए भारत के \_\_\_\_\_ के साथ एक समझौता ज्ञापन पर हस्ताक्षर किए।

- Ans  1. बैंक ऑफ बड़ौदा  
 2. भारतीय स्टेट बैंक  
 3. यूनियन बैंक ऑफ इंडिया  
 4. केनरा बैंक

Question Type : MCQ

Question ID : 630680798957

Option 1 ID : 6306803130628

Option 2 ID : 6306803130627

Option 3 ID : 6306803130626

Option 4 ID : 6306803130629

Status : Answered

Chosen Option : 3

Q.25 भारत के योजना आयोग के अनुसार, 2004-05 में गरीबी रेखा से नीचे भारत की कुल जनसंख्या (लकड़वाला गरीबी अनुमानों को शामिल करते हुए) का प्रतिशत कितना था?

- Ans  1. 27.5%
2. 38.86%
3. 44.48%
4. 35.97%

Question Type : MCQ  
Question ID : 630680115723  
Option 1 ID : 630680448233  
Option 2 ID : 630680448230  
Option 3 ID : 630680448231  
Option 4 ID : 630680448232  
Status : Answered  
Chosen Option : 3

Section : English Language and Comprehension

Q.1 Select the most appropriate synonym of the underlined word.  
He is reluctant to do the work.

- Ans  1. happy
2. hesitant
3. eager
4. disposed

Question Type : MCQ  
Question ID : 630680517439  
Option 1 ID : 6306802022155  
Option 2 ID : 6306802022153  
Option 3 ID : 6306802022154  
Option 4 ID : 6306802022152  
Status : Answered  
Chosen Option : 2

Q.2 Select the correctly spelt word to fill in the blank and make the sentence meaningful.  
Anuradha travelled to Italy last summer and \_\_\_\_\_ the historic ruins of Rome.

- Ans  1. explord
2. explored
3. explaured
4. acsplored

Question Type : MCQ  
Question ID : 6306801106844  
Option 1 ID : 6306804347843  
Option 2 ID : 6306804347841  
Option 3 ID : 6306804347842  
Option 4 ID : 6306804347840  
Status : Answered  
Chosen Option : 2

**Q.3** In the following sentence the underlined part contains an error. Alternatives to the underlined part are given as options. Select the correct alternative.  
It is very hottest over here.

- Ans  1. hot  
 2. most hot  
 3. more hot  
 4. hotter

Question Type : **MCQ**  
Question ID : **630680514711**  
Option 1 ID : **6306802011470**  
Option 2 ID : **6306802011472**  
Option 3 ID : **6306802011471**  
Option 4 ID : **6306802011469**  
Status : **Answered**  
Chosen Option : **1**

**Q.4** Select the most appropriate ANTONYM of the underlined word.

Ritesh remarked, "Honesty is a great virtue."

- Ans  1. Integrity  
 2. Wickedness  
 3. Probity  
 4. Rectitude

Question Type : **MCQ**  
Question ID : **630680445268**  
Option 1 ID : **6306801738361**  
Option 2 ID : **6306801738363**  
Option 3 ID : **6306801738360**  
Option 4 ID : **6306801738362**  
Status : **Answered**  
Chosen Option : **2**

**Q.5** Select the most appropriate meaning of the given idiom.  
It's raining cats and dogs.

- Ans  1. The rain is very light.  
 2. There are cats and dogs in the rain.  
 3. It's raining very heavily.  
 4. It's a perfect day for a picnic.

Question Type : **MCQ**  
Question ID : **630680432522**  
Option 1 ID : **6306801688092**  
Option 2 ID : **6306801688094**  
Option 3 ID : **6306801688093**  
Option 4 ID : **6306801688091**  
Status : **Answered**  
Chosen Option : **3**

**Q.6 Select the grammatically correct sentence.**

- Ans  1. It is obvious that a child needs love and attention of parents.
2. It is the obvious that child needs love and attention of parents.
3. It is a obvious that child needs love and attention of parents.
4. It is an obvious that child needs love and attention of parents.

Question Type : **MCQ**  
Question ID : **630680135501**  
Option 1 ID : **630680524737**  
Option 2 ID : **630680524734**  
Option 3 ID : **630680524736**  
Option 4 ID : **630680524735**  
Status : **Answered**  
Chosen Option : **4**

**Q.7 The following sentence has been split into four segments. Identify the segment that contains a grammatical error.**

He told / his senior, "I / will sung a song / at the party tonight."

- Ans  1. will sung a song
2. at the party tonight."
3. He told
4. his senior, "I

Question Type : **MCQ**  
Question ID : **630680477456**  
Option 1 ID : **6306801864983**  
Option 2 ID : **6306801864984**  
Option 3 ID : **6306801864981**  
Option 4 ID : **6306801864982**  
Status : **Answered**  
Chosen Option : **2**

**Q.8 In the following passage, some words have been deleted. Read the passage carefully and select the most appropriate option to fill in the blanks.**

The touch-sensitive surface is one of the reasons why tablets and smart phones are so smart. All touchscreens generate an electric field \_\_\_\_\_ the screen. Your finger interferes with the field, and the device's operating system \_\_\_\_\_ your touch or swipe.

- Ans  1. across; follows
2. onto; chases
3. beyond; escorts
4. past; attends

Question Type : **MCQ**  
Question ID : **630680515123**  
Option 1 ID : **6306802013007**  
Option 2 ID : **6306802013005**  
Option 3 ID : **6306802013006**  
Option 4 ID : **6306802013008**  
Status : **Answered**  
Chosen Option : **3**

Q.9 Select the INCORRECTLY spelt word.

- Ans
- 1. Necessary
  - 2. Committee
  - 3. Conscientious
  - 4. Achieve

Question Type : MCQ

Question ID : 630680540055

Option 1 ID : 6306802111320

Option 2 ID : 6306802111323

Option 3 ID : 6306802111322

Option 4 ID : 6306802111321

Status : Answered

Chosen Option : 3

Q.10 Identify the INCORRECTLY spelt word.

- Ans
- 1. Deliverence
  - 2. Alliteration
  - 3. Banquet
  - 4. Condescend

Question Type : MCQ

Question ID : 630680566477

Option 1 ID : 6306802214896

Option 2 ID : 6306802214897

Option 3 ID : 6306802214899

Option 4 ID : 6306802214898

Status : Answered

Chosen Option : 1

Q.11 Select the most appropriate option to fill in the blank and complete the expression.

I begin to pronounce the sequence of words and numbers that will prevent her from giving him a piece of her \_\_\_\_\_.

- Ans
- 1. music
  - 2. art
  - 3. cake
  - 4. mind

Question Type : MCQ

Question ID : 630680815289

Option 1 ID : 6306803194450

Option 2 ID : 6306803194451

Option 3 ID : 6306803194449

Option 4 ID : 6306803194452

Status : Answered

Chosen Option : 4

Q.12 Select the most appropriate option to fill in the blank.

There was no one left in the world whom they could call \_\_\_\_\_.

- Ans  1. their's  
 2. theirs  
 3. their  
 4. there's

Question Type : **MCQ**

Question ID : **630680468916**

Option 1 ID : **6306801831434**

Option 2 ID : **6306801831433**

Option 3 ID : **6306801831431**

Option 4 ID : **6306801831432**

Status : **Answered**

Chosen Option : 4

Q.13 Select the most appropriate synonym of the given word.

Exemplary

- Ans  1. Excellent  
 2. Bad  
 3. Average  
 4. Ordinary

Question Type : **MCQ**

Question ID : **630680415839**

Option 1 ID : **6306801622125**

Option 2 ID : **6306801622124**

Option 3 ID : **6306801622126**

Option 4 ID : **6306801622123**

Status : **Answered**

Chosen Option : 1

Q.14 Select the option that can be used as a one-word substitute for the given group of words.

A room in a hospital used especially for sunbathing or therapeutic exposure to light

- Ans  1. Planetarium  
 2. Sanatorium  
 3. Solarium  
 4. Podium

Question Type : **MCQ**

Question ID : **630680597004**

Option 1 ID : **6306802336064**

Option 2 ID : **6306802336063**

Option 3 ID : **6306802336061**

Option 4 ID : **6306802336062**

Status : **Answered**

Chosen Option : 2

Q.15 Correct the underlined part of the sentence.

The rabbit runs fastly.

- Ans  1. as fast as  
 2. faster  
 3. fast  
 4. fastest

Question Type : MCQ

Question ID : 630680514556

Option 1 ID : 6306802010851

Option 2 ID : 6306802010849

Option 3 ID : 6306802010852

Option 4 ID : 6306802010850

Status : Answered

Chosen Option : 3

Q.16 The following sentence has been divided into parts. One of them may contain an error.

Select the part that contains the error from the given options. If you don't find any error, mark 'No error' as your answer.

She was amazed by / the unique architecture of / the Sydney Opera House.

- Ans  1. the unique architecture of  
 2. She was amazed by  
 3. the Sydney Opera House  
 4. No error

Question Type : MCQ

Question ID : 630680429370

Option 1 ID : 6306801675525

Option 2 ID : 6306801675524

Option 3 ID : 6306801675526

Option 4 ID : 6306801675527

Status : Answered

Chosen Option : 4

Q.17 The following sentence has been split into four segments. Identify the segment that contains a grammatical error.

Maria was unhappy / because she terribly performed / in the examination / conducted last month.

- Ans  1. Maria was unhappy  
 2. in the examination  
 3. conducted last month  
 4. because she terribly performed

Question Type : MCQ

Question ID : 630680129865

Option 1 ID : 630680503050

Option 2 ID : 630680503052

Option 3 ID : 630680503053

Option 4 ID : 630680503051

Status : Answered

Chosen Option : 4

**Q.18** Select the most appropriate ANTONYM of the word in brackets to fill in the blank.  
He spoke softly and \_\_\_\_\_ (tensely), trying to diffuse the tense situation.

- Ans  1. furiously  
 2. calmly  
 3. madly  
 4. excitingly

Question Type : **MCQ**  
Question ID : 630680517424  
Option 1 ID : 6306802022092  
Option 2 ID : 6306802022093  
Option 3 ID : 6306802022095  
Option 4 ID : 6306802022094  
Status : **Answered**  
Chosen Option : 2

**Q.19** Select the most appropriate meaning of the given word.  
Improbable

- Ans  1. Tenable  
 2. Practical  
 3. Plausible  
 4. Implausible

Question Type : **MCQ**  
Question ID : 630680402706  
Option 1 ID : 6306801570426  
Option 2 ID : 6306801570425  
Option 3 ID : 6306801570428  
Option 4 ID : 6306801570427  
Status : **Answered**  
Chosen Option : 4

**Q.20** Select the most appropriate option to fill in the blank.

The students were captivated by the \_\_\_\_\_ story told by their teacher.

- Ans  1. superfluous  
 2. compelling  
 3. obsolete  
 4. mundane

Question Type : **MCQ**  
Question ID : 630680598827  
Option 1 ID : 6306802343069  
Option 2 ID : 6306802343067  
Option 3 ID : 6306802343068  
Option 4 ID : 6306802343066  
Status : **Answered**  
Chosen Option : 1

**Comprehension:**

In the following passage, some words have been deleted. Read the passage carefully and select the most appropriate option to fill in each blank.

As community-minded creatures who want (1) \_\_\_\_\_ to belong, we often mirror others, including on social media, where we adopt phrasing, tone and expressions of emotion. In the past few years, social media has had a (2) \_\_\_\_\_ on hyper positivity: think cheery emojis and (3) \_\_\_\_\_ quotes plastered over sunsets. Some put this 'good vibes only' trend down to the pandemic and a (4) \_\_\_\_\_ to avoid painful feelings when (5) \_\_\_\_\_ on difficult realities. However, attempting to convey constant happiness is not only difficult but impossible.

SubQuestion No : 21

Q.21 Select the most appropriate option to fill in blank number 1.

- Ans  1. deeply  
 2. laudatory  
 3. abiotically  
 4. crisply

Question Type : **MCQ**

Question ID : **630680615468**

Option 1 ID : **6306802408562**

Option 2 ID : **6306802408563**

Option 3 ID : **6306802408564**

Option 4 ID : **6306802408565**

Status : **Answered**

Chosen Option : **2**

**Comprehension:**

In the following passage, some words have been deleted. Read the passage carefully and select the most appropriate option to fill in each blank.

As community-minded creatures who want (1) \_\_\_\_\_ to belong, we often mirror others, including on social media, where we adopt phrasing, tone and expressions of emotion. In the past few years, social media has had a (2) \_\_\_\_\_ on hyper positivity: think cheery emojis and (3) \_\_\_\_\_ quotes plastered over sunsets. Some put this 'good vibes only' trend down to the pandemic and a (4) \_\_\_\_\_ to avoid painful feelings when (5) \_\_\_\_\_ on difficult realities. However, attempting to convey constant happiness is not only difficult but impossible.

SubQuestion No : 22

Q.22 Select the most appropriate option to fill in blank number 2.

- Ans  1. blemish  
 2. focus  
 3. disregard  
 4. dispersion

Question Type : **MCQ**

Question ID : **630680615469**

Option 1 ID : **6306802408569**

Option 2 ID : **6306802408568**

Option 3 ID : **6306802408566**

Option 4 ID : **6306802408567**

Status : **Answered**

Chosen Option : **2**

**Comprehension:**

In the following passage, some words have been deleted. Read the passage carefully and select the most appropriate option to fill in each blank.

As community-minded creatures who want (1) \_\_\_\_\_ to belong, we often mirror others, including on social media, where we adopt phrasing, tone and expressions of emotion. In the past few years, social media has had a (2) \_\_\_\_\_ on hyper positivity: think cheery emojis and (3) \_\_\_\_\_ quotes plastered over sunsets. Some put this 'good vibes only' trend down to the pandemic and a (4) \_\_\_\_\_ to avoid painful feelings when (5) \_\_\_\_\_ on difficult realities. However, attempting to convey constant happiness is not only difficult but impossible.

SubQuestion No : 23

Q.23 Select the most appropriate option to fill in blank number 3.

- Ans
- 1. inobtrusive
  - 2. deterring
  - 3. reticent
  - 4. motivational

Question Type : **MCQ**

Question ID : **630680615470**

Option 1 ID : **6306802408570**

Option 2 ID : **6306802408572**

Option 3 ID : **6306802408571**

Option 4 ID : **6306802408573**

Status : **Answered**

Chosen Option : **4**

**Comprehension:**

In the following passage, some words have been deleted. Read the passage carefully and select the most appropriate option to fill in each blank.

As community-minded creatures who want (1) \_\_\_\_\_ to belong, we often mirror others, including on social media, where we adopt phrasing, tone and expressions of emotion. In the past few years, social media has had a (2) \_\_\_\_\_ on hyper positivity: think cheery emojis and (3) \_\_\_\_\_ quotes plastered over sunsets. Some put this 'good vibes only' trend down to the pandemic and a (4) \_\_\_\_\_ to avoid painful feelings when (5) \_\_\_\_\_ on difficult realities. However, attempting to convey constant happiness is not only difficult but impossible.

SubQuestion No : 24

Q.24 Select the most appropriate option to fill in blank number 4.

- Ans
- 1. apathy
  - 2. listlessness
  - 3. desire
  - 4. indolence

Question Type : **MCQ**

Question ID : **630680615471**

Option 1 ID : **6306802408574**

Option 2 ID : **6306802408575**

Option 3 ID : **6306802408576**

Option 4 ID : **6306802408577**

Status : **Answered**

Chosen Option : **3**

**Comprehension:**

In the following passage, some words have been deleted. Read the passage carefully and select the most appropriate option to fill in each blank.

As community-minded creatures who want (1) \_\_\_\_\_ to belong, we often mirror others, including on social media, where we adopt phrasing, tone and expressions of emotion. In the past few years, social media has had a (2) \_\_\_\_\_ on hyper positivity: think cheery emojis and (3) \_\_\_\_\_ quotes plastered over sunsets. Some put this 'good vibes only' trend down to the pandemic and a (4) \_\_\_\_\_ to avoid painful feelings when (5) \_\_\_\_\_ on difficult realities. However, attempting to convey constant happiness is not only difficult but impossible.

SubQuestion No : 25

Q.25 Select the most appropriate option to fill in blank number 5.

- Ans
- 1. stagnating
  - 2. collaborating
  - 3. laminating
  - 4. ruminating

Question Type : **MCQ**

Question ID : **630680615472**

Option 1 ID : **6306802408581**

Option 2 ID : **6306802408578**

Option 3 ID : **6306802408580**

Option 4 ID : **6306802408579**

Status : **Answered**

Chosen Option : **1**