

## Multi Tasking Non Technical Staff and Havaladar CBIC and CBN Examination 2024

Roll Number	
Candidate Name	
Venue Name	iON Digital Zone iDZ 2 Duhai
Exam Date	17/10/2024
Exam Time	12:30 PM - 2:30 PM
Subject	MTS Non Tech Havaladar CBIC and CBN Examination 2024

### Section : Numerical and Mathematical Ability

Q.1 निम्नलिखित तालिका में पाँच अलग-अलग स्कूलों से फुटबॉल और क्रिकेट में भाग लेने वाले विद्यार्थियों की संख्या दर्शाई गई है।

स्कूल	कुल विद्यार्थी	खेलों में भाग लेने वाले विद्यार्थियों का प्रतिशत	
		फुटबॉल	क्रिकेट
A	660	15%	35%
B	800	23%	37%
C	600	30%	50%
D	500	35%	35%
E	1000	25%	30%

किन दो स्कूलों से क्रिकेट में भाग लेने वाले विद्यार्थियों का प्रतिशत बराबर है?

Ans  1. A और D

2. B और D

3. B और C

4. C और E

Question Type : MCQ

Question ID : 630680523734

Option 1 ID : 6306802047087

Option 2 ID : 6306802047090

Option 3 ID : 6306802047089

Option 4 ID : 6306802047088

Status : Answered

Chosen Option : 4

Q.2 एक लंब वृत्तीय शंकु का व्यास 56 मीटर है और इसकी तिर्यक ऊंचाई 35 मीटर है। इसका आयतन ज्ञात कीजिए (निकटतम पूर्णांक तक पूर्णांकित करें)।

( $\pi = \frac{22}{7}$  का उपयोग करें)

- Ans
- 1. 12,936 m<sup>3</sup>
  - 2. 25,872 m<sup>3</sup>
  - 3. 28,747 m<sup>3</sup>
  - 4. 17,248 m<sup>3</sup>

Question Type : MCQ

Question ID : 630680387895

Option 1 ID : 6306801512205

Option 2 ID : 6306801512202

Option 3 ID : 6306801512204

Option 4 ID : 6306801512203

Status : Answered

Chosen Option : 4

Q.3 अदिति ने अपना स्कूटर ₹40675 में बेचा, जिससे उसे विक्रय मूल्य के  $\frac{1}{5}$  भाग के बराबर लाभ प्राप्त हुआ। लाभ प्रतिशत ज्ञात कीजिए।

- Ans
- 1. 15%
  - 2. 5%
  - 3. 25%
  - 4. 35%

Question Type : MCQ

Question ID : 630680931107

Option 1 ID : 6306803649237

Option 2 ID : 6306803649235

Option 3 ID : 6306803649234

Option 4 ID : 6306803649236

Status : Answered

Chosen Option : 2

Q.4 40 kg, 49 kg, 56 kg, 71 kg और 38 kg वजन के पांच सदस्यों वाले परिवार का औसत वजन (kg में) ज्ञात कीजिए।

- Ans
- 1. 51.8
  - 2. 50.8
  - 3. 52.8
  - 4. 49.8

Question Type : MCQ

Question ID : 630680551662

Option 1 ID : 6306802156874

Option 2 ID : 6306802156873

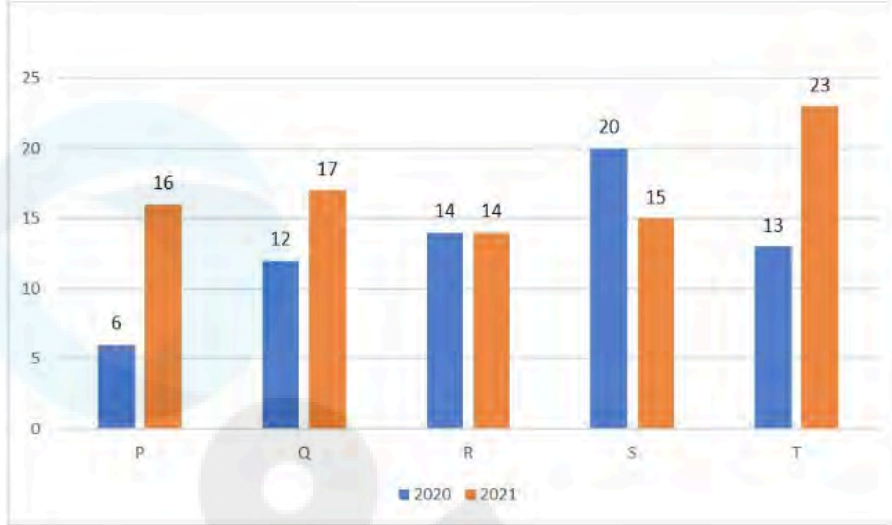
Option 3 ID : 6306802156876

Option 4 ID : 6306802156875

Status : Answered

Chosen Option : 2

Q.5 निम्नलिखित ग्राफ पाँच निर्माताओं P, Q, R, S, और T द्वारा वर्ष 2020 और 2021 में किए गए इलेक्ट्रिक स्कूटर के उत्पादन (हजार में) को दर्शाता है।



2021 में सभी निर्माताओं द्वारा किए गए औसत उत्पादन और 2020 में सभी निर्माताओं द्वारा किए गए औसत उत्पादन का अनुपात ज्ञात कीजिए।

- Ans  1. 17 : 13  
 2. 15 : 17  
 3. 13 : 14  
 4. 14 : 15

Question Type : MCQ

Question ID : 630680425425

Option 1 ID : 6306801659996

Option 2 ID : 6306801659998

Option 3 ID : 6306801659995

Option 4 ID : 6306801659997

Status : Answered

Chosen Option : 1

Q.6 पाँच एथलीटों का क्रमागत रूप से वजन लिया जाता है और प्रत्येक माप के बाद उनके औसत वजन की गणना की जाती है। यदि हर बार औसत वजन 1.5 kg बढ़ जाता हो, तो अंतिम खिलाड़ी पहले खिलाड़ी की तुलना में कितना भारी है?

- Ans  1. 10 kg  
 2. 15.5 kg  
 3. 18 kg  
 4. 12 kg

Question Type : MCQ

Question ID : 630680456320

Option 1 ID : 6306801782251

Option 2 ID : 6306801782253

Option 3 ID : 6306801782254

Option 4 ID : 6306801782252

Status : Answered

Chosen Option : 2

Q.7 3 वर्षों के लिए 5% वार्षिक की ब्याज दर पर उधार ली गई राशि ₹2500 पर साधारण ब्याज (₹ में) ज्ञात कीजिए।

Ans  1. 335

2. 315

3. 415

4. 375

Question Type : MCQ

Question ID : 630680591899

Option 1 ID : 6306802316066

Option 2 ID : 6306802316065

Option 3 ID : 6306802316064

Option 4 ID : 6306802316063

Status : Answered

Chosen Option : 4

Q.8 6 वर्षों के लिए 7% वार्षिक की ब्याज दर पर उधार ली गई राशि ₹2000 पर साधारण ब्याज (₹ में) ज्ञात कीजिए।

Ans  1. 800

2. 780

3. 880

4. 840

Question Type : MCQ

Question ID : 630680591877

Option 1 ID : 6306802315978

Option 2 ID : 6306802315977

Option 3 ID : 6306802315976

Option 4 ID : 6306802315975

Status : Answered

Chosen Option : 4

Q.9 राकेश को 15% वार्षिक दर से 6 वर्षों में एक निश्चित मूलधन पर ₹3,195 का साधारण ब्याज प्राप्त हुआ। यदि वह समान ब्याज दर पर 3 वर्षों के लिए पिछले मूलधन से ₹1,250 अधिक निवेश करता है तो उसे कितना साधारण ब्याज मिलता?

Ans  1. ₹2,160

2. ₹2,050

3. ₹2,255

4. ₹2,400

Question Type : MCQ

Question ID : 630680401024

Option 1 ID : 6306801563925

Option 2 ID : 6306801563927

Option 3 ID : 6306801563928

Option 4 ID : 6306801563926

Status : Answered

Chosen Option : 1

Q.10 शंकर, एक शोरूम में टी-शर्ट खरीदने आता है। वह एक शर्ट खरीदता है, जिसकी कीमत छूट के बाद ₹1,020 है। वह अपने बिल का भुगतान 50 पैसे, 20 पैसे और 10 पैसे के सिक्कों के रूप में करता है, जिनका अनुपात 2 : 3 : 4 है (प्रश्न के लिए मान लीजिए)। उसके द्वारा अपने बिल का भुगतान करने के लिए उपयोग किए गए 10 पैसे के सिक्कों की संख्या कितनी है?

- Ans
- 1. 1020
  - 2. 1530
  - 3. 510
  - 4. 2040

Question Type : MCQ

Question ID : 630680815865

Option 1 ID : 6306803196794

Option 2 ID : 6306803196795

Option 3 ID : 6306803196793

Option 4 ID : 6306803196796

Status : Answered

Chosen Option : 4

Q.11 7 cm ऊंचाई और 48 cm आधार व्यास वाले ठोस वृत्तीय बेलन में एक शंकाकार गुहा (conical cavity) डिल की जाती है। शंकु की ऊंचाई और आधार व्यास, बेलन की ऊंचाई और आधार व्यास के बराबर है। शेष ठोस का संपूर्ण पृष्ठीय क्षेत्रफल कितना होगा?

- Ans
- 1.  $1076\pi \text{ cm}^2$
  - 2.  $1654\pi \text{ cm}^2$
  - 3.  $1512\pi \text{ cm}^2$
  - 4.  $1420\pi \text{ cm}^2$

Question Type : MCQ

Question ID : 630680384353

Option 1 ID : 6306801498301

Option 2 ID : 6306801498298

Option 3 ID : 6306801498299

Option 4 ID : 6306801498300

Status : Answered

Chosen Option : 3

Q.12 जब एक लैपटॉप के मूल्य में 15% की कमी कर दी जाती है, तो उसकी बिक्री में 10% की वृद्धि हो जाती है। बिक्री पर निवल प्रभाव कितना पड़ा?

- Ans
- 1. 3.5% की वृद्धि
  - 2. 6.5% की कमी
  - 3. 3.5% की कमी
  - 4. 6.5% की वृद्धि

Question Type : MCQ

Question ID : 630680484338

Option 1 ID : 6306801891699

Option 2 ID : 6306801891700

Option 3 ID : 6306801891701

Option 4 ID : 6306801891698

Status : Answered

Chosen Option : 2

Q.13 एक चोर 10:30 am पर एक बाइक चोरी करता है और इसे 50 km/h की चाल से चलाता है। लेकिन आधे घंटे बाद चोर का पता चल जाता है। बाइक मालिक ने 60 km/h की चाल से दूसरी बाइक से उसका पीछा करना शुरू किया। चोर कितने बजे पकड़ा जाएगा?

Ans  1. 12: 30 pm

2. 1: 30 pm

3. 1: 00 pm

4. 2: 30 pm

Question Type : MCQ

Question ID : 630680227108

Option 1 ID : 630680881123

Option 2 ID : 630680881125

Option 3 ID : 630680881126

Option 4 ID : 630680881124

Status : Answered

Chosen Option : 3

Q.14 चार अंकों की वह सबसे बड़ी संख्या कौन-सी है, जो 15, 25, 40 और 75 में से प्रत्येक से विभाज्य है?

Ans  1. 9600

2. 9400

3. 9500

4. 9800

Question Type : MCQ

Question ID : 63068070931

Option 1 ID : 630680274334

Option 2 ID : 630680274336

Option 3 ID : 630680274335

Option 4 ID : 630680274337

Status : Answered

Chosen Option : 1

Q.15 यदि किसी वस्तु का अंकित मूल्य, क्रय मूल्य का  $\frac{4}{3}$  गुना है और विक्रय मूल्य, अंकित मूल्य का  $\frac{9}{11}$  गुना है, तो लाभ/हानि प्रतिशत क्या है?

Ans

1.  $9\frac{1}{2}\%$  हानि

2.  $9\frac{1}{11}\%$  लाभ

3.  $9\frac{1}{2}\%$  लाभ

4.  $9\frac{1}{11}\%$  हानि

Question Type : MCQ

Question ID : 630680115639

Option 1 ID : 630680447908

Option 2 ID : 630680447907

Option 3 ID : 630680447909

Option 4 ID : 630680447906

Status : Answered

Chosen Option : 2

Q.16 जब एक वर्ग मीटर टैडपोल की लागत ₹147 है, तो 15 m तिर्यक ऊंचाई और 9 m ऊंचाई वाला एक शंकाकार तम्बू बनाने के लिए आवश्यक टैडपोल की लागत कितनी है?

Ans

1. Rs.49,896

2. Rs.83,160

3. Rs.67,842

4. Rs.62,370

Question Type : MCQ

Question ID : 630680110232

Option 1 ID : 630680427291

Option 2 ID : 630680427293

Option 3 ID : 630680427294

Option 4 ID : 630680427292

Status : Answered

Chosen Option : 2

Q.17 39 विद्यार्थियों की किसी कक्षा की औसत आयु 20 वर्ष है। यदि शिक्षक की आयु को शामिल कर लिया जाए, तो औसत 6 माह बढ़ जाता है। शिक्षक की आयु (वर्षों में) ज्ञात कीजिए।

Ans  1. 40

2. 50

3. 30

4. 45

Question Type : MCQ

Question ID : 630680481014

Option 1 ID : 6306801878641

Option 2 ID : 6306801878643

Option 3 ID : 6306801878640

Option 4 ID : 6306801878642

Status : Answered

Chosen Option : 1

Q.18 एक आदमी को ₹3.3/लीटर मूल्य वाले दूध को ₹1.8/लीटर मूल्य वाले दूध के साथ किस अनुपात में मिलाना चाहिए ताकि मिश्रण का मूल्य ₹2.4/लीटर हो जाए?

Ans  1. 1 : 3

2. 2 : 3

3. 3 : 2

4. 4 : 5

Question Type : MCQ

Question ID : 630680410214

Option 1 ID : 6306801599634

Option 2 ID : 6306801599633

Option 3 ID : 6306801599631

Option 4 ID : 6306801599632

Status : Answered

Chosen Option : 2

Q.19 375 m लंबी ट्रेन को एक खंभा पार करने में 15 सेकंड का समय लगता है। 975 m लंबे प्लेटफार्म को पार करने में कितना समय लगेगा?

Ans  1. 90 सेकंड

2. 72 सेकंड

3. 54 सेकंड

4. 60 सेकंड

Question Type : MCQ

Question ID : 630680585096

Option 1 ID : 6306802289146

Option 2 ID : 6306802289147

Option 3 ID : 6306802289149

Option 4 ID : 6306802289148

Status : Answered

Chosen Option : 3

Q.20 रमेश ने ₹18,000 अंकित मूल्य वाले एक पियानो को क्रमशः 12% और 15% की क्रमिक छूट पर खरीदा। रमेश ने परिवहन शुल्क के रूप में ₹536 दिए और इसे ₹21,000 में बेच दिया। उसका लाभ प्रतिशत क्या है?

- Ans
- 1. 48%
  - 2. 35%
  - 3. 40%
  - 4. 50%

Question Type : MCQ

Question ID : 630680395545

Option 1 ID : 6306801542346

Option 2 ID : 6306801542344

Option 3 ID : 6306801542345

Option 4 ID : 6306801542347

Status : Answered

Chosen Option : 4

Section : Reasoning Ability and Problem Solving

Q.1 यदि '+' और '-' को आपस में बदल दिया जाए तथा '×' और '÷' को आपस में बदल दिया जाए, तो निम्नलिखित समीकरण में '?' के स्थान पर क्या आएगा?  
 $14 \div 6 + 9 \times 3 - 2 = ?$

- Ans
- 1. 75
  - 2. 76
  - 3. 83
  - 4. 81

Question Type : MCQ

Question ID : 630680382166

Option 1 ID : 6306801489582

Option 2 ID : 6306801489579

Option 3 ID : 6306801489580

Option 4 ID : 6306801489581

Status : Answered

Chosen Option : 3

Q.2 एक निश्चित कूट भाषा में, 'this is book' को 'lo mo ro' के रूप में लिखा जाता है और 'this is me' को 'mo lo po' के रूप में लिखा जाता है। इसी कूट भाषा में 'me' को कैसे लिखा जाएगा?

- Ans
- 1. lo
  - 2. mo
  - 3. ro
  - 4. po

Question Type : MCQ

Question ID : 630680377762

Option 1 ID : 6306801472107

Option 2 ID : 6306801472110

Option 3 ID : 6306801472109

Option 4 ID : 6306801472108

Status : Answered

Chosen Option : 4

Q.3 A, D, K, N, Y और Z एक वृत्ताकार मेज के चारों ओर केंद्र की ओर मुख करके बैठे हैं (परंतु जरूरी नहीं कि वे इसी क्रम में बैठे हों)। Z, D के दाएँ से तीसरे स्थान पर बैठा है। K, Z का निकटतम पड़ोसी नहीं है। A, Z के बाएँ से दूसरे स्थान पर बैठा है। N, A का निकटतम पड़ोसी नहीं है। A और K के बीच में कौन बैठा है?

Ans  1. D

2. N

3. Y

4. Z

Question Type : MCQ

Question ID : 630680377862

Option 1 ID : 6306801472509

Option 2 ID : 6306801472510

Option 3 ID : 6306801472507

Option 4 ID : 6306801472508

Status : Answered

Chosen Option : 1

Q.4 यदि '+' और '-' को आपस में बदल दिया जाए तथा 'x' और '÷' को आपस में बदल दिया जाए, तो निम्नलिखित समीकरण में प्रश्नवाचक चिह्न (?) के स्थान पर क्या आएगा?  
 $66 \times 6 - 15 \div 3 + 9 = ?$

Ans  1. 49

2. 46

3. 47

4. 48

Question Type : MCQ

Question ID : 630680379458

Option 1 ID : 6306801478878

Option 2 ID : 6306801478875

Option 3 ID : 6306801478876

Option 4 ID : 6306801478877

Status : Answered

Chosen Option : 3

Q.5 दिए गए कथनों और निष्कर्षों को ध्यानपूर्वक पढ़िए। यह मानते हुए कि कथनों में दी गई जानकारी सत्य है, चाहे वह सामान्यतः ज्ञात तथ्यों से भिन्न प्रतीत होती हो और निर्णय लीजिए कि दिए गए निष्कर्षों में से कौन-सा/कौन-से निष्कर्ष कथनों का तार्किक रूप से अनुसरण करता है/करते हैं।

कथन:

कुछ किताबें, लकड़ी हैं।  
सभी लकड़ी, आग हैं।

निष्कर्ष:

(I) कुछ आग, लकड़ी हैं।  
(II) सभी किताबें, आग हैं।

- Ans
- 1. केवल निष्कर्ष (II) अनुसरण करता है
  - 2. न तो निष्कर्ष (I) और न ही निष्कर्ष (II) अनुसरण करता है
  - 3. निष्कर्ष (I) और निष्कर्ष (II) दोनों अनुसरण करते हैं
  - 4. केवल निष्कर्ष (I) अनुसरण करता है

Question Type : MCQ

Question ID : 630680412053

Option 1 ID : 6306801607048

Option 2 ID : 6306801607049

Option 3 ID : 6306801607050

Option 4 ID : 6306801607047

Status : Answered

Chosen Option : 4

Q.6 A, B, C, D, E, F और G एक वृत्ताकार मेज के चारों ओर केंद्र की ओर मुख करके बैठे हैं (परंतु जरूरी नहीं कि वे इसी क्रम में बैठे हों)।

D के दाईं ओर से गिनती करने पर D और A के बीच में केवल एक व्यक्ति बैठा है। A और B के बीच में केवल एक व्यक्ति बैठा है। D और G के बीच में केवल एक व्यक्ति बैठा है। E के दाईं ओर से गिनती करने पर E और B के बीच में केवल दो व्यक्ति बैठे हैं। F और G के बीच में केवल एक व्यक्ति बैठा है। C के दाईं ओर तीसरे स्थान पर कौन बैठा है?

- Ans
- 1. F
  - 2. A
  - 3. B
  - 4. D

Question Type : MCQ

Question ID : 630680411173

Option 1 ID : 6306801603451

Option 2 ID : 6306801603448

Option 3 ID : 6306801603449

Option 4 ID : 6306801603450

Status : Answered

Chosen Option : 2

Q.7 एक निश्चित कूट भाषा में, 'complete the task' को 'je tc xo' के रूप में लिखा जाता है और 'work is complete' को 'xo ig lx' के रूप में लिखा जाता है। दी गई भाषा में 'complete' को किस प्रकार लिखा जाएगा?

- Ans
- 1. tc
  - 2. lx
  - 3. je
  - 4. xo

Question Type : MCQ

Question ID : 630680509059

Option 1 ID : 6306801989534

Option 2 ID : 6306801989535

Option 3 ID : 6306801989533

Option 4 ID : 6306801989532

Status : Answered

Chosen Option : 4

Q.8 OT11 किसी निश्चित प्रकार से PU15 से संबंधित है। उसी प्रकार, WB21, XC25 से संबंधित है। उसी तर्क का अनुसरण करते हुए, DI31 निम्नलिखित में से किससे संबंधित है?

- Ans
- 1. EJ35
  - 2. EF53
  - 3. EJ53
  - 4. DJ35

Question Type : MCQ

Question ID : 6306801108786

Option 1 ID : 6306804355690

Option 2 ID : 6306804355692

Option 3 ID : 6306804355693

Option 4 ID : 6306804355691

Status : Answered

Chosen Option : 1

Q.9 दिए गए विकल्पों में से उस आकृति को चुनिए जो निम्नलिखित श्रृंखला में प्रश्न चिह्न (?) के स्थान पर आ सकती है और पैटर्न को पूरा कर सकती है।

☆	7	T	↑	
C	A	T	☆	C
		A	7	☆
			T	A
	0			7
		T		☆
			C	
				☆
				?

Ans

✗ 1.

☆		
7	T	A
		↑

✗ 2.

A		
7	☆	T
		↑

✗ 3.

☆		
A	7	T
		↑

✓ 4.

☆		
7	↑	T
		A

Question Type : MCQ

Question ID : 630680441088

Option 1 ID : 6306801722006

Option 2 ID : 6306801722007

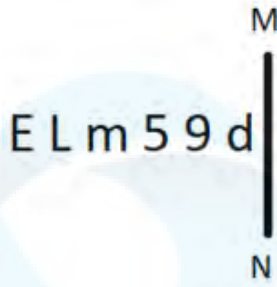
Option 3 ID : 6306801722009

Option 4 ID : 6306801722008

Status : Answered

Chosen Option : 4

Q.10 दी गई आकृति के उस सही दर्पण प्रतिबिंब को चुनिए, जो नीचे दर्शाए गए अनुसार दर्पण को MN पर रखने पर बनेगा।



- Ans
- 1. b e s w 7 E
  - 2. 9 d 2 m J E
  - 3. b e 2 m 7 E
  - 4. b e 2 m J E

Question Type : MCQ

Question ID : 630680525238

Option 1 ID : 6306802053039

Option 2 ID : 6306802053037

Option 3 ID : 6306802053036

Option 4 ID : 6306802053038

Status : Answered

Chosen Option : 4

Q.11 एक निश्चित तर्क का अनुसरण करते हुए 17, 119 से संबंधित है। उसी तर्क का अनुसरण करते हुए 31, 217 से संबंधित है। समान तर्क का अनुसरण करते हुए 32, निम्नलिखित में से किससे संबंधित है?

(ध्यान दें: संख्याओं को उनके घटक अंकों में अलग-अलग किए बिना पूर्ण संख्याओं पर संक्रियाएं की जानी चाहिए। उदाहरण के लिए संख्या 13 - संख्या 13 पर संक्रियाएं जैसे 13 को जोड़ना/घटाना/गुणा करना आदि किया जा सकता है। 13 को 1 और 3 में अलग-अलग करने की और फिर 1 और 3 पर गणितीय संक्रियाएं करने की अनुमति नहीं है।)

- Ans
- 1. 228
  - 2. 230
  - 3. 224
  - 4. 226

Question Type : MCQ

Question ID : 630680441695

Option 1 ID : 6306801724396

Option 2 ID : 6306801724397

Option 3 ID : 6306801724394

Option 4 ID : 6306801724395

Status : Answered

Chosen Option : 3

Q.12 अंग्रेजी वर्णमाला क्रम के आधार पर दी गई श्रृंखला में प्रश्न चिह्न (?) के स्थान पर क्या आना चाहिए?

GJD, IHH, KFL, MDP, ?

Ans  1. OBS

2. PAT

3. OBT

4. PBT

Question Type : MCQ

Question ID : 630680815701

Option 1 ID : 6306803196106

Option 2 ID : 6306803196108

Option 3 ID : 6306803196105

Option 4 ID : 6306803196107

Status : Answered

Chosen Option : 3

Q.13 एक निश्चित कूट में, 'curtain door window' को 'la ph ba' के रूप में कूटबद्ध किया जाता है, 'lock window key' को 'ep zm la' के रूप में कूटबद्ध किया जाता है, 'key curtain handle' को 'fd ba zm' के रूप में कूटबद्ध किया जाता है। उस भाषा में 'curtain' के लिए कूट क्या है? (नोट: सभी कूट केवल दो-अक्षर वाले कूट हैं।)

Ans  1. ep

2. zm

3. la

4. ba

Question Type : MCQ

Question ID : 630680436137

Option 1 ID : 6306801702492

Option 2 ID : 6306801702491

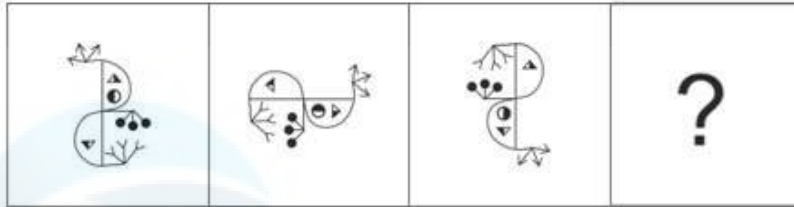
Option 3 ID : 6306801702490

Option 4 ID : 6306801702489

Status : Answered


Chosen Option : 4

Q.14 विकल्पों में दी गई उस आकृति की पहचान कीजिए जिसे "?" के स्थान पर रखे जाने पर श्रृंखला तार्किक रूप से पूर्ण हो जाएगी।

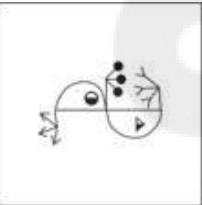


Ans

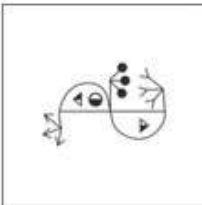
✗ 1.



✗ 2.



✓ 3.



✗ 4.



Question Type : MCQ

Question ID : 630680280693

Option 1 ID : 6306801091007

Option 2 ID : 6306801091010

Option 3 ID : 6306801091009

Option 4 ID : 6306801091008

Status : Answered

Chosen Option : 3

Q.15 उस समुच्चय का चयन कीजिए जिसमें संख्याएँ ठीक उसी प्रकार संबंधित हैं, जिस प्रकार निम्नलिखित समुच्चयों की संख्याएँ संबंधित हैं।

(ध्यान दें: संख्याओं को उनके घटक अंकों में अलग-अलग किए बिना पूर्ण संख्याओं पर संक्रियाएं की जानी चाहिए। उदाहरण के लिए संख्या 13 - संख्या 13 पर संक्रियाएं जैसे 13 को जोड़ना/घटाना/गुणा करना आदि किया जा सकता है। 13 को 1 और 3 में अलग-अलग करने की और फिर 1 और 3 पर गणितीय संक्रियाएं करने की अनुमति नहीं है।)

(37, 58, 100)  
(35, 70, 110)

- Ans
- 1. (74, 33, 12)
  - 2. (43, 44, 132)
  - 3. (8, 13, 26)
  - 4. (85, 75, 65)

Question Type : MCQ

Question ID : 6306801031222

Option 1 ID : 6306804047642

Option 2 ID : 6306804047641

Option 3 ID : 6306804047639

Option 4 ID : 6306804047640

Status : Answered

Chosen Option : 3

Q.16 एक निश्चित कूट भाषा में, 'FITCH' को '47601' के रूप में कूटबद्ध किया जाता है और 'DITCH' को '70619' के रूप में कूटबद्ध किया जाता है। इसी कूट भाषा में 'D' के लिए कूट क्या होगा?

- Ans
- 1. 9
  - 2. 0
  - 3. 1
  - 4. 7

Question Type : MCQ

Question ID : 630680377759

Option 1 ID : 6306801472097

Option 2 ID : 6306801472095

Option 3 ID : 6306801472096

Option 4 ID : 6306801472098

Status : Answered

Chosen Option : 1

Q.17 दिए गए कथनों और निष्कर्षों को ध्यानपूर्वक पढ़िए। यह मानते हुए कि कथनों में दी गई जानकारी सत्य है, चाहे वह सामान्यतः ज्ञात तथ्यों से भिन्न प्रतीत होती हो और निर्णय लीजिए कि दिए गए निष्कर्षों में से कौन-सा/कौन-से निष्कर्ष कथनों का तार्किक रूप से अनुसरण करता है/करते हैं।

कथन:

सभी डिब्बे, गिलास हैं। सभी गिलास, कप हैं। कुछ कप, बोतल हैं।

निष्कर्ष:

(I): सभी डिब्बे, कप हैं।

(II): कुछ गिलास, बोतल हैं।

- Ans
- 1. न तो निष्कर्ष I और न ही II अनुसरण करता है।
  - 2. केवल निष्कर्ष II अनुसरण करता है।
  - 3. निष्कर्ष I और II दोनों अनुसरण करते हैं।
  - 4. केवल निष्कर्ष I अनुसरण करता है।

Question Type : MCQ

Question ID : 630680815656

Option 1 ID : 6306803195928

Option 2 ID : 6306803195926

Option 3 ID : 6306803195927

Option 4 ID : 6306803195925

Status : Answered

Chosen Option : 4

Q.18 दी गई श्रृंखला में प्रश्नचिह्न (?) के स्थान पर क्या आएगा?

219 222 227 234 ? 254

- Ans
- 1. 244
  - 2. 242
  - 3. 243
  - 4. 241

Question Type : MCQ

Question ID : 630680816802

Option 1 ID : 6306803206325

Option 2 ID : 6306803206323

Option 3 ID : 6306803206324

Option 4 ID : 6306803206322

Status : Answered

Chosen Option : 3

Q.19 IOZU अंग्रेजी वर्णमाला क्रम के आधार पर एक निश्चित प्रकार से HNYT से संबंधित है। ठीक उसी प्रकार PDYC, OCXB से संबंधित है। उसी तर्क का पालन करते हुए, EJSW निम्नलिखित में से किससे संबंधित है?

Ans  1. DIRW

2. DIRV

3. EIRV

4. DJSV

Question Type : MCQ

Question ID : 630680911313

Option 1 ID : 6306803570173

Option 2 ID : 6306803570176

Option 3 ID : 6306803570174

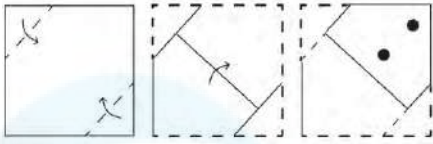
Option 4 ID : 6306803570175

Status : Answered

Chosen Option : 2

Q.20

कागज़ की एक वर्गाकार शीट को दर्शाई गई दिशाओं में बिंदुद्वारा रेखा के अनुदिश क्रमशः मोड़ा जाता है और अंतिम बार मोड़ने के बाद फिर इसमें छेद किया जाता है। खोले जाने पर यह कागज़ कैसा दिखाई देगा?




Ans


1.




2.



3.



4.



Question Type : MCQ

Question ID : 630680524421

Option 1 ID : 6306802049783

Option 2 ID : 6306802049784

Option 3 ID : 6306802049785

Option 4 ID : 6306802049786

Status : Answered

Chosen Option : 3

Q.1 निम्नलिखित में से किस महीने में ओडिशा में कोणार्क नृत्य उत्सव आयोजित किया जाता है?

Ans  1. दिसंबर

2. जनवरी

3. जून

4. मार्च

Question Type : MCQ

Question ID : 630680403386

Option 1 ID : 6306801573057

Option 2 ID : 6306801573054

Option 3 ID : 6306801573056

Option 4 ID : 6306801573055

Status : Answered

Chosen Option : 1

Q.2 किस तापमान पर सेल्सियस (Celsius) और फारेनहाइट (Fahrenheit) पैमाने का मान समान होता है?

Ans  1. 32°C

2. -32°C

3. -40°C

4. 40°C

Question Type : MCQ

Question ID : 630680411213

Option 1 ID : 6306801603611

Option 2 ID : 6306801603610

Option 3 ID : 6306801603608

Option 4 ID : 6306801603609

Status : Answered

Chosen Option : 3

Q.3 भारत के प्रत्येक राज्य से निर्वाचित होने वाले राज्यसभा सदस्यों की संख्या संविधान की \_\_\_\_\_ अनुसूची द्वारा निर्धारित की गई है।

Ans  1. छठी

2. तीसरी

3. चौथी

4. आठवीं

Question Type : MCQ

Question ID : 630680754984

Option 1 ID : 6306802959127

Option 2 ID : 6306802959125

Option 3 ID : 6306802959124

Option 4 ID : 6306802959126

Status : Answered

Chosen Option : 2

Q.4 निम्नलिखित में से किसे 'मद्रास के मोजार्ट (Mozart of Madras)' के नाम से जाना जाता है?

- Ans  1. शंकर महादेवन  
 2. एआर रहमान  
 3. एमएम करीम  
 4. इलयराजा

Question Type : MCQ

Question ID : 630680540643

Option 1 ID : 6306802113650

Option 2 ID : 6306802113649

Option 3 ID : 6306802113648

Option 4 ID : 6306802113647

Status : Answered

Chosen Option : 3

Q.5 निम्नलिखित में से कौन-सा पैरा एथलीट (para athletes) भाला फेंक स्पर्धा से जुड़ा है?

- Ans  1. देवेन्द्र झाझरिया (Devendra Jhajharia)  
 2. प्रमोद भगत (Pramod Bhagat)  
 3. करमज्योति दलाल (Karamjyoti Dalal)  
 4. शरद कुमार (Sharad Kumar)

Question Type : MCQ

Question ID : 630680571110

Option 1 ID : 6306802233492

Option 2 ID : 6306802233495

Option 3 ID : 6306802233494

Option 4 ID : 6306802233493

Status : Answered

Chosen Option : 1

Q.6 'बयालता (Bayalata)' निम्नलिखित में से किस भारतीय राज्य का प्रसिद्ध लोक नृत्य है?

- Ans  1. कर्नाटक  
 2. बिहार  
 3. हिमाचल प्रदेश  
 4. पंजाब

Question Type : MCQ

Question ID : 630680163285

Option 1 ID : 630680632344

Option 2 ID : 630680632346

Option 3 ID : 630680632347

Option 4 ID : 630680632345

Status : Answered

Chosen Option : 1

Q.7 हाथीगुंफा शिलालेख (Hathigumpha Inscription) भारत के निम्नलिखित में से किस ऐतिहासिक क्षेत्र में अंकित किए गए थे?

- Ans  1. कलिंग  
 2. वैशाली  
 3. सुवर्णगिरी  
 4. तक्षशिला

Question Type : MCQ  
Question ID : 630680176026  
Option 1 ID : 630680682354  
Option 2 ID : 630680682355  
Option 3 ID : 630680682353  
Option 4 ID : 630680682352  
Status : Answered  
Chosen Option : 2

Q.8 राष्ट्रीय शहरी आजीविका मिशन (National Urban Livelihood Mission - NULM) निम्नलिखित में से किस पंचवर्षीय योजना में शुरू किया गया था?

- Ans  1. छठी पंचवर्षीय योजना  
 2. आठवीं पंचवर्षीय योजना  
 3. दसवीं पंचवर्षीय योजना  
 4. बारहवीं पंचवर्षीय योजना

Question Type : MCQ  
Question ID : 630680711120  
Option 1 ID : 6306802786136  
Option 2 ID : 6306802786137  
Option 3 ID : 6306802786138  
Option 4 ID : 6306802786139  
Status : Answered  
Chosen Option : 3

Q.9 2013 में प्रकाशित 'अनब्रेकेबल (Unbreakable)' \_\_\_\_\_ की आत्मकथा है।

- Ans  1. एमसी मैरी कॉम  
 2. गीता फोगाट  
 3. मिल्खा सिंह  
 4. अभिनव बिंद्रा

Question Type : MCQ  
Question ID : 630680798915  
Option 1 ID : 6306803130469  
Option 2 ID : 6306803130468  
Option 3 ID : 6306803130467  
Option 4 ID : 6306803130466  
Status : Answered  
Chosen Option : 1

Q.10 भारतीय राष्ट्रीय कांग्रेस का प्रथम अधिवेशन किस वर्ष हुआ था?

Ans  1. 1886

2. 1882

3. 1887

4. 1885

Question Type : MCQ

Question ID : 630680214224

Option 1 ID : 630680830943

Option 2 ID : 630680830944

Option 3 ID : 630680830946

Option 4 ID : 630680830945

Status : Answered

Chosen Option : 1

Q.11 पुरंदर की संधि के अनुसार शिवाजी ने कितने किले मुगलों के हवाले किए (surrendered) थे?

Ans  1. 18

2. 35

3. 23

4. 11

Question Type : MCQ

Question ID : 630680326302

Option 1 ID : 6306801269299

Option 2 ID : 6306801269297

Option 3 ID : 6306801269298

Option 4 ID : 6306801269300

Status : Answered

Chosen Option : 2

Q.12 'नई चेतना-पहल बदलाव की' अभियान कब शुरू किया गया था?

Ans  1. जनवरी 2023

2. मार्च 2023

3. दिसंबर 2022

4. नवंबर 2022

Question Type : MCQ

Question ID : 630680465526

Option 1 ID : 6306801818140

Option 2 ID : 6306801818139

Option 3 ID : 6306801818142

Option 4 ID : 6306801818141

Status : Not Answered

Chosen Option : --

Q.13 यूनानियों (Greeks) के प्रभाव में, भारत में निम्नलिखित में से कौन-सी कला शैली विकसित हुई?

- Ans
- 1. कंधार (Kandhar)
  - 2. अमरावती (Amravati)
  - 3. गांधार (Gandhar)
  - 4. मथुरा (Mathura)

Question Type : MCQ  
Question ID : 630680616112  
Option 1 ID : 6306802411152  
Option 2 ID : 6306802411151  
Option 3 ID : 6306802411153  
Option 4 ID : 6306802411150  
Status : Answered  
Chosen Option : 3

Q.14 विदेशों से सहायता में नकद अनुदान को कहाँ वर्गीकृत किया जाता है?

- Ans
- 1. राजस्व व्यय
  - 2. कर राजस्व
  - 3. पूंजीगत प्राप्ति
  - 4. गैर-कर राजस्व

Question Type : MCQ  
Question ID : 63068082806  
Option 1 ID : 630680321091  
Option 2 ID : 630680321088  
Option 3 ID : 630680321089  
Option 4 ID : 630680321090  
Status : Answered  
Chosen Option : 3

Q.15 निम्नलिखित में से कौन-सा राज्य/केंद्र शासित प्रदेश सिंधु नदी बेसिन (Indus River Basin) का एक भाग नहीं है?

- Ans
- 1. जम्मू और कश्मीर
  - 2. हिमाचल प्रदेश
  - 3. लद्दाख
  - 4. सिक्किम

Question Type : MCQ  
Question ID : 630680484524  
Option 1 ID : 6306801892411  
Option 2 ID : 6306801892412  
Option 3 ID : 6306801892410  
Option 4 ID : 6306801892413  
Status : Answered  
Chosen Option : 4

Q.16 30 जून 2022 को देवेन्द्र फड़नवीस महाराष्ट्र राज्य के \_\_\_\_\_ बने।

Ans  1. राज्यपाल

2. उच्च न्यायालय के मुख्य न्यायाधीश

3. मुख्यमंत्री

4. उपमुख्यमंत्री

Question Type : MCQ

Question ID : 630680468456

Option 1 ID : 6306801829624

Option 2 ID : 6306801829625

Option 3 ID : 6306801829622

Option 4 ID : 6306801829623

Status : Answered

Chosen Option : 1

Q.17 स्तंभ A में संगीत नाटक अकादमी अमृत पुरस्कार, 2022 प्राप्त करने वाले पुरस्कार विजेताओं का, स्तंभ B में उनसे संबंधित नृत्य रूपों के साथ मिलान कीजिए।

स्तंभ A (पुरस्कार विजेता का नाम)    स्तंभ B (नृत्य रूप)

a. पद्मा शर्मा

i. छऊ नृत्य

b. सिबा प्रसाद दास

ii. भरतनाट्यम

c. थंकामणि कुट्टी

iii. कथक

d. स्मिता राजेशभाई शास्त्री

iv. कुचिपुड़ी

Ans  1. a-(ii), b-(iv), c-(iii), d-(i)

2. a-(iii), b-(i), c-(ii), d-(iv)

3. a-(i), b-(ii), c-(iv), d-(iii)

4. a-(iv), b-(iii), c-(i), d-(ii)

Question Type : MCQ

Question ID : 630680511995

Option 1 ID : 6306802000952

Option 2 ID : 6306802000950

Option 3 ID : 6306802000951

Option 4 ID : 6306802000953

Status : Answered

Chosen Option : 2

Q.18 सचिन तेंदुलकर ने अपना 100वां अंतरराष्ट्रीय शतक किस देश के खिलाफ बनाया?

- Ans
- 1. पाकिस्तान
  - 2. ऑस्ट्रेलिया
  - 3. इंग्लैंड
  - 4. बांग्लादेश

Question Type : MCQ

Question ID : 630680430530

Option 1 ID : 6306801680147

Option 2 ID : 6306801680145

Option 3 ID : 6306801680148

Option 4 ID : 6306801680146

Status : Answered

Chosen Option : 2

Q.19 भारत की जनगणना 2011 के अनुसार, किस केंद्र शासित प्रदेश में शहरी जनसंख्या का दूसरा सर्वाधिक प्रतिशत है?

- Ans
- 1. पुदुचेरी
  - 2. चंडीगढ़
  - 3. दमन और दीव
  - 4. दिल्ली

Question Type : MCQ

Question ID : 630680304956

Option 1 ID : 6306801186375

Option 2 ID : 6306801186374

Option 3 ID : 6306801186376

Option 4 ID : 6306801186373

Status : Answered

Chosen Option : 2

Q.20 संविधान सभा की मौलिक अधिकार उप-समिति की अध्यक्षता \_\_\_\_\_ ने की थी।

- Ans
- 1. जवाहरलाल नेहरू
  - 2. अल्लादी कृष्णस्वामी अय्यर
  - 3. जे.बी. कृपलानी
  - 4. हरनाम सिंह

Question Type : MCQ

Question ID : 630680735741

Option 1 ID : 6306802883683

Option 2 ID : 6306802883681

Option 3 ID : 6306802883680

Option 4 ID : 6306802883682

Status : Answered

Chosen Option : 1

Q.21 निम्नलिखित में से कौन-सी घटना वर्ष 1928 में घटी थी?

- Ans  1. दांडी मार्च (Dandi March)
2. बारडोली सत्याग्रह (Bardoli Satyagraha)
3. काकोरी कांड (Kakori Incident)
4. खेड़ा सत्याग्रह (Kheda Satyagraha)

Question Type : MCQ

Question ID : 630680511612

Option 1 ID : 6306801999572

Option 2 ID : 6306801999571

Option 3 ID : 6306801999573

Option 4 ID : 6306801999570

Status : Answered

Chosen Option : 4

Q.22 शर्करा को गर्म करने पर उसका कैरामेल सिरप (caramel syrup) में बदल जाना, कौन-सी रासायनिक अभिक्रिया है?

- Ans  1. अवक्षेपण (Precipitation)
2. शर्करादहन (Caramelisation)
3. उदासीनीकरण (Neutralisation)
4. मेलाई अभिक्रिया (Maillard reaction)

Question Type : MCQ

Question ID : 630680540603

Option 1 ID : 6306802113487

Option 2 ID : 6306802113490

Option 3 ID : 6306802113488

Option 4 ID : 6306802113489

Status : Answered

Chosen Option : 2

Q.23 इन्सैट (INSAT) का पूर्ण रूप क्या है?

- Ans  1. इंडियन नेशनल स्टैंडर्ड सिस्टम (Indian National Standard System)
2. इंटरनेशनल नेविगेशन सैटेलाइट सिस्टम (International Navigation Satellite System)
3. इंडियन नेशनल सैटेलाइट सिस्टम (Indian National Satellite System)
4. इंडियन नेविगेशनल सैटेलाइट सिस्टम (Indian Navigational Satellite System)

Question Type : MCQ

Question ID : 630680482409

Option 1 ID : 6306801884130

Option 2 ID : 6306801884133

Option 3 ID : 6306801884132

Option 4 ID : 6306801884131

Status : Answered

Chosen Option : 3

Q.24 लैटेराइट मृदा परिच्छेदिका (laterite soil profile) में निम्नलिखित में से कौन-सा तत्व अत्यधिक मात्रा में उपस्थित होता है?

- Ans
- 1. पोटेश (feldspar)
  - 2. नाइट्रोजन (Nitrogen)
  - 3. चूना (Lime)
  - 4. लोहा (Iron)

Question Type : MCQ

Question ID : 630680403391

Option 1 ID : 6306801573075

Option 2 ID : 6306801573076

Option 3 ID : 6306801573077

Option 4 ID : 6306801573074

Status : Answered

Chosen Option : 1

Q.25 कोशिकाओं में वह परिवहन तंत्र जिसके द्वारा बाहर से भोजन या अन्य उपयोगी अणुओं को कोशिका के अंदर ले जाया जाता है, \_\_\_\_\_ कहलाता है।

- Ans
- 1. संलयन (Fusion)
  - 2. अंतःकोशिकता (Endocytosis)
  - 3. बहिःकोशिकता (Exocytosis)
  - 4. परासरण (Osmosis)

Question Type : MCQ

Question ID : 630680544091

Option 1 ID : 6306802127138

Option 2 ID : 6306802127141

Option 3 ID : 6306802127139

Option 4 ID : 6306802127140

Status : Answered

Chosen Option : 2

Section : English Language and Comprehension

Q.1 Select the most appropriate option to fill in the blank.  
The inclusion of Durga Puja in the UNESCO's list of Intangible Cultural Heritage was only possible due to the arduous \_\_\_\_\_ of all stakeholders.

- Ans
- 1. passivity
  - 2. affects
  - 3. ignorance
  - 4. efforts

Question Type : MCQ

Question ID : 630680515247

Option 1 ID : 6306802013455

Option 2 ID : 6306802013454

Option 3 ID : 6306802013453

Option 4 ID : 6306802013456

Status : Answered

Chosen Option : 1

**Q.2** Select the most appropriate meaning of the given idiom.  
**Beat around the bush**

- Ans  1. To speak convincingly  
 2. To speak rashly  
 3. To avoid getting to the point of an issue  
 4. To speak abusively

Question Type : **MCQ**

Question ID : **630680413895**

Option 1 ID : **6306801614426**

Option 2 ID : **6306801614424**

Option 3 ID : **6306801614423**

Option 4 ID : **6306801614425**

Status : **Answered**

Chosen Option : **3**

**Q.3** Select the most appropriate ANTONYM of the highlighted word in the given sentence.  
The author's writing style is characterised by a subtle and nuanced use of language.

- Ans  1. Sturdy  
 2. Elegant  
 3. Elaborate  
 4. Delicate

Question Type : **MCQ**

Question ID : **630680549428**

Option 1 ID : **6306802148162**

Option 2 ID : **6306802148163**

Option 3 ID : **6306802148161**

Option 4 ID : **6306802148164**

Status : **Answered**

Chosen Option : **2**

**Q.4** The following sentence has been split into four segments. Identify the segment that contains a grammatical error.  
In addition with / the existing crisis in economy, / the rise of hunger index / is another cause of worry.

- Ans  1. In addition with  
 2. the rise of hunger index  
 3. is another cause of worry  
 4. the existing crisis in economy

Question Type : **MCQ**

Question ID : **630680192932**

Option 1 ID : **630680748273**

Option 2 ID : **630680748275**

Option 3 ID : **630680748276**

Option 4 ID : **630680748274**

Status : **Answered**

Chosen Option : **1**

**Q.5** The following sentence has been split into four segments. Identify the segment that contains a grammatical error.  
Most probably, / he come / to office / next Tuesday.

Ans  1. he come

2. most probably

3. next Tuesday

4. to office

Question Type : **MCQ**

Question ID : **630680156562**

Option 1 ID : **630680605905**

Option 2 ID : **630680605904**

Option 3 ID : **630680605907**

Option 4 ID : **630680605906**

Status : **Answered**

Chosen Option : 1

**Q.6** Select the **INCORRECTLY** spelt word in the given sentence.  
The neighbour came in disguise and attacked her children.

Ans  1. disguise

2. neighbour

3. attacked

4. children

Question Type : **MCQ**

Question ID : **6306801106838**

Option 1 ID : **6306804347816**

Option 2 ID : **6306804347818**

Option 3 ID : **6306804347817**

Option 4 ID : **6306804347819**

Status : **Answered**

Chosen Option : 1

**Q.7** Select the most appropriate option to fill in the blank.  
In order to maintain good governance, every government servant must be held \_\_\_\_\_  
for his/her decisions.

Ans  1. accountable

2. irresponsible

3. unaccountable

4. flexible

Question Type : **MCQ**

Question ID : **630680515146**

Option 1 ID : **6306802013090**

Option 2 ID : **6306802013092**

Option 3 ID : **6306802013089**

Option 4 ID : **6306802013091**

Status : **Answered**

Chosen Option : 1

**Q.8** Select the most appropriate option that can substitute the underlined word in the given sentence.

Reduced price of cooking gas brought happy to the face of every citizen.

- Ans
- 1. happier
  - 2. happiest
  - 3. happiness
  - 4. happily

Question Type : **MCQ**

Question ID : **630680542602**

Option 1 ID : **6306802121339**

Option 2 ID : **6306802121340**

Option 3 ID : **6306802121337**

Option 4 ID : **6306802121338**

Status : **Answered**

Chosen Option : **3**

**Q.9** Select the most appropriate adverb to fill in the blank.

The explorers trekked \_\_\_\_\_ through the dense jungle.

- Ans
- 1. bravely
  - 2. rarely
  - 3. ever
  - 4. before

Question Type : **MCQ**

Question ID : **630680729323**

Option 1 ID : **6306802857978**

Option 2 ID : **6306802857976**

Option 3 ID : **6306802857979**

Option 4 ID : **6306802857977**

Status : **Answered**

Chosen Option : **1**

**Q.10** Read the following sentence and select its future tense form from the following options.

The food company promoted newly launched products at affordable prices.

- Ans
- 1. The food company promotes newly launched products at affordable prices.
  - 2. The food company had promoted newly launched products at affordable prices.
  - 3. The food company will be promoting newly launched products at affordable prices.
  - 4. The food company is promoting newly launched products at affordable prices.

Question Type : **MCQ**

Question ID : **6306801106302**

Option 1 ID : **6306804345639**

Option 2 ID : **6306804345640**

Option 3 ID : **6306804345641**

Option 4 ID : **6306804345638**

Status : **Answered**

Chosen Option : **3**

**Q.11** Select the most appropriate option that can substitute the underlined segment in the given sentence. If there is no need to substitute it, select 'No substitution required'.

Rishi Sunak, the Prime Minister of the United Kingdom and Leader of the Conservative Party, was born into Southampton to parents of Indian descent who immigrated to Britain from East Africa in the 1960s.

- Ans  1. was born in  
 2. was born on  
 3. was born with  
 4. No substitution required

Question Type : **MCQ**

Question ID : **630680798897**

Option 1 ID : **6306803130396**

Option 2 ID : **6306803130394**

Option 3 ID : **6306803130395**

Option 4 ID : **6306803130397**

Status : **Answered**

Chosen Option : 1

**Q.12** Select the most appropriate **ANTONYM** of the given word.  
Delay

- Ans  1. Hasten  
 2. Lag  
 3. Intervene  
 4. Wait

Question Type : **MCQ**

Question ID : **630680403039**

Option 1 ID : **6306801571728**

Option 2 ID : **6306801571727**

Option 3 ID : **6306801571729**

Option 4 ID : **6306801571730**

Status : **Answered**

Chosen Option : 1

**Q.13** Select the **INCORRECTLY** spelt word.

- Ans  1. Machinery  
 2. Hymn  
 3. Idol  
 4. Motto

Question Type : **MCQ**

Question ID : **630680624155**

Option 1 ID : **6306802442767**

Option 2 ID : **6306802442766**

Option 3 ID : **6306802442769**

Option 4 ID : **6306802442768**

Status : **Answered**

Chosen Option : 4

Q.14 Select the INCORRECTLY spelt word in the given sentence.

Many biologists have stated the fact that most of the herbs are perinnial and have healing qualities with added flavour.

Ans  1. Perinnial

2. Healing

3. Biologists

4. Qualities

Question Type : MCQ

Question ID : 630680531832

Option 1 ID : 6306802079104

Option 2 ID : 6306802079106

Option 3 ID : 6306802079105

Option 4 ID : 6306802079107

Status : Answered

Chosen Option : 1

Q.15 Select the most appropriate ANTONYM that can substitute the underlined segment in the given sentence.

The team was gradually realising that the social gatherings were draining.

Ans  1. frivolous

2. absorbing

3. unfruitful

4. flippant

Question Type : MCQ

Question ID : 630680799097

Option 1 ID : 6306803131187

Option 2 ID : 6306803131188

Option 3 ID : 6306803131186

Option 4 ID : 6306803131189

Status : Answered

Chosen Option : 2

Q.16 The following sentence has been split into four segments. Identify the segment that contains a grammatical error.

My sister Mona / never drinks coffee; / she prefer tea / in the morning.

Ans  1. My sister Mona

2. never drinks coffee;

3. she prefer tea

4. in the morning

Question Type : MCQ

Question ID : 630680533289

Option 1 ID : 6306802084637

Option 2 ID : 6306802084638

Option 3 ID : 6306802084639

Option 4 ID : 6306802084640

Status : Answered

Chosen Option : 3

Q.17 Select the most appropriate ANTONYM of the given word.

Pacify

- Ans  1. Amuse  
 2. Restore  
 3. Enrage  
 4. Negate

Question Type : MCQ

Question ID : 630680562979

Option 1 ID : 6306802200869

Option 2 ID : 6306802200872

Option 3 ID : 6306802200871

Option 4 ID : 6306802200870

Status : Answered

Chosen Option : 3

Q.18 Select the most appropriate ANTONYM of the bracketed word to fill in the blank.

The rainbow arched gracefully across the sky, painting it in \_\_\_\_\_ (lifeless) hues.

- Ans  1. spiritual  
 2. ashless  
 3. vibrant  
 4. muted

Question Type : MCQ

Question ID : 630680799114

Option 1 ID : 6306803131256

Option 2 ID : 6306803131257

Option 3 ID : 6306803131254

Option 4 ID : 6306803131255

Status : Answered

Chosen Option : 3

Q.19 Select the option that will improve the underlined part of the given sentence.

The bishop sadly declared that the poor gentleman who was dead was quieter of the community.

- Ans  1. quiet  
 2. the quieter  
 3. most quiet  
 4. the quietest

Question Type : MCQ

Question ID : 630680419724

Option 1 ID : 6306801637394

Option 2 ID : 6306801637395

Option 3 ID : 6306801637393

Option 4 ID : 6306801637396

Status : Answered

Chosen Option : 4

**Q.20** Select the option that will improve the underlined part of the given sentence.

The moment James saw Regena, he fell head on to his heels in love with her.

- Ans
- 1. heads in the heels
  - 2. heels of the head
  - 3. head and heels
  - 4. head over heels

Question Type : **MCQ**

Question ID : **63068064347**

Option 1 ID : **630680248375**

Option 2 ID : **630680248374**

Option 3 ID : **630680248377**

Option 4 ID : **630680248376**

Status : **Answered**

Chosen Option : **4**

**Comprehension:**

In the following passage, some words have been deleted. Read the passage carefully and select the most appropriate option to fill in each blank.

We're a society fixated on numbers. So, it's no (1)\_\_\_\_\_ we use measurements and equations to score our weight. The most (2)\_\_\_\_\_ is BMI, a measure of our body weight to height ratio. BMI (3)\_\_\_\_\_ bodies as underweight, normal or healthy weight, overweight or obese and can be a useful tool for weight and health (4)\_\_\_\_\_. But it shouldn't be used as the single (5)\_\_\_\_\_ of what it means to be a healthy weight when we set our weight loss goals.

SubQuestion No : 21

**Q.21** Select the most appropriate option to fill in blank number 1.

- Ans
- 1. persistence
  - 2. surprise
  - 3. vibrance
  - 4. resolution

Question Type : **MCQ**

Question ID : **630680615438**

Option 1 ID : **6306802408453**

Option 2 ID : **6306802408450**

Option 3 ID : **6306802408451**

Option 4 ID : **6306802408452**

Status : **Answered**

Chosen Option : **1**

**Comprehension:**

In the following passage, some words have been deleted. Read the passage carefully and select the most appropriate option to fill in each blank.

We're a society fixated on numbers. So, it's no (1) \_\_\_\_\_ we use measurements and equations to score our weight. The most (2) \_\_\_\_\_ is BMI, a measure of our body weight to height ratio. BMI (3) \_\_\_\_\_ bodies as underweight, normal or healthy weight, overweight or obese and can be a useful tool for weight and health (4) \_\_\_\_\_. But it shouldn't be used as the single (5) \_\_\_\_\_ of what it means to be a healthy weight when we set our weight loss goals.

SubQuestion No : 22

Q.22 Select the most appropriate option to fill in blank number 2.

- Ans  1. popular  
 2. uncharted  
 3. indistinct  
 4. imprecise

Question Type : MCQ

Question ID : 630680615439

Option 1 ID : 6306802408456

Option 2 ID : 6306802408454

Option 3 ID : 6306802408457

Option 4 ID : 6306802408455

Status : Answered

Chosen Option : 1

**Comprehension:**

In the following passage, some words have been deleted. Read the passage carefully and select the most appropriate option to fill in each blank.

We're a society fixated on numbers. So, it's no (1) \_\_\_\_\_ we use measurements and equations to score our weight. The most (2) \_\_\_\_\_ is BMI, a measure of our body weight to height ratio. BMI (3) \_\_\_\_\_ bodies as underweight, normal or healthy weight, overweight or obese and can be a useful tool for weight and health (4) \_\_\_\_\_. But it shouldn't be used as the single (5) \_\_\_\_\_ of what it means to be a healthy weight when we set our weight loss goals.

SubQuestion No : 23

Q.23 Select the most appropriate option to fill in blank number 3.

- Ans  1. dissuades  
 2. classifies  
 3. speculates  
 4. meanders

Question Type : MCQ

Question ID : 630680615440

Option 1 ID : 6306802408458

Option 2 ID : 6306802408461

Option 3 ID : 6306802408459

Option 4 ID : 6306802408460

Status : Answered

Chosen Option : 2

**Comprehension:**

In the following passage, some words have been deleted. Read the passage carefully and select the most appropriate option to fill in each blank.

We're a society fixated on numbers. So, it's no (1) \_\_\_\_\_ we use measurements and equations to score our weight. The most (2) \_\_\_\_\_ is BMI, a measure of our body weight to height ratio. BMI (3) \_\_\_\_\_ bodies as underweight, normal or healthy weight, overweight or obese and can be a useful tool for weight and health (4) \_\_\_\_\_. But it shouldn't be used as the single (5) \_\_\_\_\_ of what it means to be a healthy weight when we set our weight loss goals.

SubQuestion No : 24

Q.24 Select the most appropriate option to fill in blank number 4.

- Ans  1. hastening  
 2. screening  
 3. planting  
 4. landing

Question Type : MCQ

Question ID : 630680615441

Option 1 ID : 6306802408465

Option 2 ID : 6306802408464

Option 3 ID : 6306802408463

Option 4 ID : 6306802408462

Status : Answered

Chosen Option : 2

**Comprehension:**

In the following passage, some words have been deleted. Read the passage carefully and select the most appropriate option to fill in each blank.

We're a society fixated on numbers. So, it's no (1) \_\_\_\_\_ we use measurements and equations to score our weight. The most (2) \_\_\_\_\_ is BMI, a measure of our body weight to height ratio. BMI (3) \_\_\_\_\_ bodies as underweight, normal or healthy weight, overweight or obese and can be a useful tool for weight and health (4) \_\_\_\_\_. But it shouldn't be used as the single (5) \_\_\_\_\_ of what it means to be a healthy weight when we set our weight loss goals.

SubQuestion No : 25

Q.25 Select the most appropriate option to fill in blank number 5.

- Ans  1. wobble  
 2. measure  
 3. evanesce  
 4. serendipity

Question Type : MCQ

Question ID : 630680615442

Option 1 ID : 6306802408466

Option 2 ID : 6306802408467

Option 3 ID : 6306802408469

Option 4 ID : 6306802408468

Status : Answered

Chosen Option : 4