

## Multi Tasking Non Technical Staff and Havaladar CBIC and CBN Examination 2024

|                |  |
|----------------|--|
| Roll Number    |  |
| Candidate Name |  |
| Venue Name     | BR Online Services                                   |
| Exam Date      | 17/10/2024   |
| Exam Time      | 4:00 PM - 5:30 PM                                    |
| Subject        | MTS Non Tech Havaladar CBIC and CBN Examination 2024 |

### Section : Numerical and Mathematical Ability

Q.1 यदि दो धनात्मक पूर्णांक  $x$  एवं  $y$  को  $x = a^2b^3$  और  $y = a^3b$  के रूप में लिखा जाता है; तथा  $a$  एवं  $b$  अभाज्य संख्याएँ हैं, तो महत्तम समापवर्तक  $(x, y)$  \_\_\_\_\_ है।

- Ans
- 1.  $ab$
  - 2.  $a^2b$
  - 3.  $ab^2$
  - 4.  $a^2b^2$

Question Type : MCQ

Question ID : 63068091847

Option 1 ID : 630680356124

Option 2 ID : 630680356122

Option 3 ID : 630680356125

Option 4 ID : 630680356123

Status : Answered

Chosen Option : 1

Q.2 8 व्यक्तियों वाले एक समूह का औसत वजन 70 kg है। समूह में, एक नए व्यक्ति के शामिल होने के बाद, औसत वजन 72 kg हो जाता है। नए व्यक्ति का वजन (kg में) कितना है?

- Ans
- 1. 87
  - 2. 88
  - 3. 89
  - 4. 86

Question Type : MCQ

Question ID : 630680481444

Option 1 ID : 6306801880269

Option 2 ID : 6306801880270

Option 3 ID : 6306801880271

Option 4 ID : 6306801880268

Status : Answered

Chosen Option : 4

Q.3 निम्नलिखित डेटा तालिका का संदर्भ लें और प्रश्न का उत्तर दें।

| सप्ताह के दिन | जॉगिंग की गई दूरी (kms में) |
|---------------|-----------------------------|
| सोमवार        | 3.5                         |
| मंगलवार       | 4                           |
| बुधवार        | 4.2                         |
| गुरुवार       | 5.3                         |
| शुक्रवार      | 6.1                         |
| शनिवार        | 3                           |
| रविवार        | 5.9                         |

यदि 6 km जॉगिंग करने से 750 कैलोरी खर्च होती है, तो दिए गए सप्ताह में कितनी कैलोरी खर्च की गई?

- Ans  1. 3000  
 2. 4000  
 3. 3500  
 4. 2500

Question Type : MCQ

Question ID : 630680403219

Option 1 ID : 6306801572374

Option 2 ID : 6306801572376

Option 3 ID : 6306801572375

Option 4 ID : 6306801572373

Status : Answered

Chosen Option : 1

Q.4 अमिताभ ने अपने छः इंटर-स्कूल मैचों में औसतन 72 रन बनाए हैं। अगले मैच में, उसने 96 रन बनाए। उसके संशोधित औसत रन (revised average score) कितने हैं?

- Ans  1. 74  
 2. 75.428  
 3. 75  
 4. 75.3

Question Type : MCQ

Question ID : 630680108953

Option 1 ID : 630680422705

Option 2 ID : 630680422706

Option 3 ID : 630680422704

Option 4 ID : 630680422707

Status : Answered

Chosen Option : 2

Q.5 एक व्यापारी ने एक वस्तु का मूल्य इसके क्रय मूल्य से 30% अधिक अंकित किया। उसने एक विशेष ग्राहक को 15% और 20% की दो क्रमिक छूट दी। परिणामस्वरूप, उसे ₹696 की हानि हुई। उसने वस्तु को ग्राहक को किस मूल्य पर बेचा?

- Ans
- 1. ₹7,805
  - 2. ₹6,205
  - 3. ₹4,904
  - 4. ₹5,304

Question Type : MCQ

Question ID : 630680488655

Option 1 ID : 6306801908636

Option 2 ID : 6306801908638

Option 3 ID : 6306801908637

Option 4 ID : 6306801908635

Status : Answered

Chosen Option : 4

Q.6 3 वर्षों के लिए 7% वार्षिक की ब्याज दर पर उधार ली गई राशि ₹3000 पर साधारण ब्याज (₹ में) ज्ञात कीजिए।

- Ans
- 1. 570
  - 2. 590
  - 3. 670
  - 4. 630

Question Type : MCQ

Question ID : 630680591944

Option 1 ID : 6306802316245

Option 2 ID : 6306802316246

Option 3 ID : 6306802316244

Option 4 ID : 6306802316243

Status : Answered

Chosen Option : 4

Q.7 एक पुलिसकर्मी को 450 m की दूरी पर एक चोर दिखाई देता है। चोर भागने लगता है और पुलिसकर्मी उसका पीछा करता है। चोर और पुलिसकर्मी क्रमशः  $10\frac{1}{2}$  km/h और  $12\frac{1}{2}$  km/h की चाल से दौड़ते हैं। 3 मिनट बाद उनके बीच की दूरी क्या होगी?

- Ans
- 1. 150 m
  - 2. 350 m
  - 3. 200 m
  - 4. 100 m

Question Type : MCQ

Question ID : 630680262109

Option 1 ID : 6306801018084

Option 2 ID : 6306801018086

Option 3 ID : 6306801018085

Option 4 ID : 6306801018083

Status : Answered

Chosen Option : 1

Q.8 राइमा अपनी ₹35,000 की आय में से 14% की बचत करती है। उसका व्यय (₹ में) कितना है?

Ans  1. 30100

2. 28600

3. 34000

4. 32000

Question Type : MCQ

Question ID : 630680464516

Option 1 ID : 6306801814101

Option 2 ID : 6306801814102

Option 3 ID : 6306801814100

Option 4 ID : 6306801814099

Status : Answered

Chosen Option : 2

Q.9 एक व्यक्ति ने एक निश्चित धनराशि 6% वार्षिक साधारण ब्याज पर और एक अन्य धनराशि 8% वार्षिक साधारण ब्याज पर एक ही समय पर निवेश की। 4 वर्षों के बाद, उसे दोनों धनराशियों पर ₹1,560 का ब्याज प्राप्त हुआ। पहली धनराशि का पाँचवाँ हिस्सा (One-fifth), दूसरी धनराशि के छठे हिस्से (one-sixth) के बराबर है। निवेश की गई कुल धनराशि ज्ञात कीजिए।

Ans  1. ₹4,500

2. ₹5,000

3. ₹5,500

4. ₹6,000

Question Type : MCQ

Question ID : 630680413350

Option 1 ID : 6306801612239

Option 2 ID : 6306801612240

Option 3 ID : 6306801612241

Option 4 ID : 6306801612242

Status : Answered

Chosen Option : 3

Q.10 यदि एक लंब वृत्तीय बेलन की ऊँचाई को समान रखते हुए उसके आधार की त्रिज्या को घटाकर एक-तिहाई कर दिया जाए, तो घटे हुए बेलन के आयतन और मूल बेलन के आयतन का अनुपात क्या होगा?

Ans  1. 1 : 9

2. 2 : 4

3. 2 : 3

4. 1 : 2

Question Type : MCQ

Question ID : 630680109407

Option 1 ID : 630680424381

Option 2 ID : 630680424380

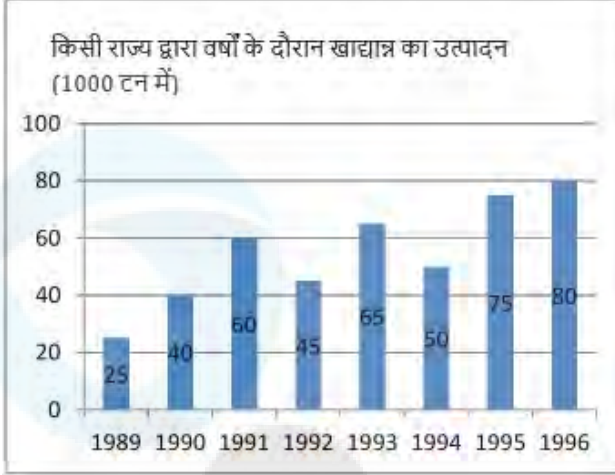
Option 3 ID : 630680424382

Option 4 ID : 630680424383

Status : Answered

Chosen Option : 1

Q.11 निम्नलिखित ग्राफ का ध्यानपूर्वक अध्ययन करें और इसके नीचे दिए गए प्रश्न का उत्तर दें।



दिए गए वर्षों में निम्नलिखित में से किस वर्ष में पिछले वर्ष की तुलना में उत्पादन में प्रतिशत वृद्धि सबसे अधिक थी?

- Ans
- 1. 1991
  - 2. 1995
  - 3. 1990
  - 4. 1993

Question Type : MCQ

Question ID : 630680404325

Option 1 ID : 6306801576802

Option 2 ID : 6306801576804

Option 3 ID : 6306801576805

Option 4 ID : 6306801576803

Status : Answered

Chosen Option : 2

Q.12 एक वायलिन तार की लंबाई इसके कंपन की आवृत्ति के व्युत्क्रमानुपाती है। 14 इंच लंबे वायलिन तार की आवृत्ति 450 चक्र प्रति सेकंड है। 12 इंच लंबे वायलिन तार की आवृत्ति ज्ञात कीजिए।

- Ans
- 1. 520 चक्र प्रति सेकंड
  - 2. 510 चक्र प्रति सेकंड
  - 3. 515 चक्र प्रति सेकंड
  - 4. 525 चक्र प्रति सेकंड

Question Type : MCQ

Question ID : 630680262066

Option 1 ID : 6306801017913

Option 2 ID : 6306801017911

Option 3 ID : 6306801017912

Option 4 ID : 6306801017914

Status : Answered

Chosen Option : 2

Q.13 एक पुलिसकर्मी, एक चोर को 150 m की दूरी से देखता है। चोर भागने लगता है और पुलिसकर्मी उसका पीछा करता है। चोर और पुलिसकर्मी क्रमशः 8 m/s और 10 m/s की चाल से दौड़ते हैं। पकड़े जाने से पहले चोर द्वारा तय की गई दूरी ज्ञात कीजिए।

- Ans
- 1. 550 m
  - 2. 500 m
  - 3. 700 m
  - 4. 600 m

Question Type : MCQ

Question ID : 630680627881

Option 1 ID : 6306802457613

Option 2 ID : 6306802457612

Option 3 ID : 6306802457614

Option 4 ID : 6306802457611

Status : Answered

Chosen Option : 3

Q.14 70 मानों का औसत 40 है। यदि प्रत्येक मान को 20 से गुणा किया जाए, तो परिवर्तित औसत क्या होगा?

- Ans
- 1. 1400
  - 2. 800
  - 3. 60
  - 4. 90

Question Type : MCQ

Question ID : 630680239447

Option 1 ID : 630680928739

Option 2 ID : 630680928741

Option 3 ID : 630680928742

Option 4 ID : 630680928740

Status : Answered

Chosen Option : 1

Q.15 10 m आंतरिक व्यास वाला एक कुआँ 10 m की गहराई तक खोदा गया है। इसमें से निकाली गई मिट्टी को चबूतरा बनाने के लिए कुएं के चारों ओर 12 m की चौड़ाई तक फैला दिया जाता है। चबूतरे की ऊँचाई (m में, दशमलव के 2 स्थान तक पूर्णांकित) कितनी होगी?

- Ans
- 1. 1.02
  - 2. 1.12
  - 3. 0.88
  - 4. 0.95

Question Type : MCQ

Question ID : 630680387073

Option 1 ID : 6306801509003

Option 2 ID : 6306801509005

Option 3 ID : 6306801509004

Option 4 ID : 6306801509002

Status : Answered

Chosen Option : 2

Q.16 किस राशि (₹ में) पर 8% प्रति वर्ष की ब्याज दर से 2 वर्षों में ₹360 का साधारण ब्याज अर्जित होगा?

Ans  1. 2250

2. 3000

3. 4500

4. 1125

Question Type : MCQ

Question ID : 630680612182

Option 1 ID : 6306802395460

Option 2 ID : 6306802395463

Option 3 ID : 6306802395462

Option 4 ID : 6306802395461

Status : Answered

Chosen Option : 4

Q.17 एक वर्ग की भुजा, दूसरे वर्ग की भुजा से 3 cm अधिक है और दोनों वर्गों के क्षेत्रफल का योग  $225 \text{ cm}^2$  है। दोनों वर्गों के परिमाप का योग (cm में) ज्ञात करें।

Ans  1. 84

2. 64

3. 94

4. 74

Question Type : MCQ

Question ID : 630680526621

Option 1 ID : 6306802058552

Option 2 ID : 6306802058550

Option 3 ID : 6306802058553

Option 4 ID : 6306802058551

Status : Answered

Chosen Option : 2

Q.18 एक आलमारी का विक्रय मूल्य, उसके क्रय मूल्य का  $33\frac{1}{3}\%$  है। हानि प्रतिशत ज्ञात कीजिए।

Ans  1.  $66\frac{2}{3}\%$

2.  $33\frac{1}{3}\%$

3.  $44\frac{2}{3}\%$

4.  $55\frac{1}{3}\%$

Question Type : MCQ

Question ID : 630680468823

Option 1 ID : 6306801831074

Option 2 ID : 6306801831071

Option 3 ID : 6306801831072

Option 4 ID : 6306801831073

Status : Answered

Chosen Option : 1

Q.19 एक दुकानदार अपने माल पर उनके क्रय मूल्य से  $k\%$  अधिक अंकित करता है। यदि दुकानदार 20% छूट देता है और फिर भी 25% का लाभ प्राप्त करता है, तो  $k$  का मान ज्ञात कीजिए।

- Ans
- 1. 65.25%
  - 2. 65.52%
  - 3. 56.25%
  - 4. 56.52%

Question Type : MCQ

Question ID : 630680121160

Option 1 ID : 630680469605

Option 2 ID : 630680469602

Option 3 ID : 630680469604

Option 4 ID : 630680469603

Status : Answered

Chosen Option : 3

Q.20 यदि ₹160 प्रति kg और ₹210 प्रति kg मूल्य वाली दो प्रकार की रेज़िन को 2 : 3 के अनुपात में मिलाया जाए, तो प्रति kg मिश्रण का मूल्य (₹ में) ज्ञात कीजिए।

- Ans
- 1. 185
  - 2. 180
  - 3. 200
  - 4. 190

Question Type : MCQ

Question ID : 630680404566

Option 1 ID : 6306801577895

Option 2 ID : 6306801577897

Option 3 ID : 6306801577898

Option 4 ID : 6306801577896

Status : Answered

Chosen Option : 2

Section : Reasoning Ability and Problem Solving

Q.1 दिए गए कथनों और निष्कर्षों को ध्यानपूर्वक पढ़िए। यह मानते हुए कि कथनों में दी गई जानकारी सत्य है, चाहे वह सामान्यतः ज्ञात तथ्यों से भिन्न प्रतीत होती हो और निर्णय लीजिए कि दिए गए निष्कर्षों में से कौन-सा/कौन-से निष्कर्ष कथनों का तार्किक रूप से अनुसरण करता है/करते हैं।

कथन:

सभी पत्तागोभियाँ, गुलाब हैं।  
सभी पत्तागोभियाँ, ट्यूलिप हैं।

निष्कर्ष:

(I) कम से कम कुछ ट्यूलिप, गुलाब हैं।  
(II) सभी गुलाब, पत्तागोभियाँ हैं।

- Ans  1. न तो निष्कर्ष I और न ही II अनुसरण करता है।  
 2. केवल निष्कर्ष I अनुसरण करता है।  
 3. निष्कर्ष I और II दोनों अनुसरण करते हैं।  
 4. केवल निष्कर्ष II अनुसरण करता है।

Question Type : MCQ

Question ID : 630680408724

Option 1 ID : 6306801593789

Option 2 ID : 6306801593787

Option 3 ID : 6306801593790

Option 4 ID : 6306801593788

Status : Answered

Chosen Option : 2

Q.2 दिए गए समीकरण को सही करने के लिए किन दो चिह्नों को आपस में बदला जाना चाहिए?

$$11 \times 7 - 48 + 6 \div 37 = 106$$

- Ans  1. - और  $\times$   
 2. + और +  
 3. + और  $\times$   
 4. - और +

Question Type : MCQ

Question ID : 630680411994

Option 1 ID : 6306801606813

Option 2 ID : 6306801606811

Option 3 ID : 6306801606814

Option 4 ID : 6306801606812

Status : Answered

Chosen Option : 2

Q.3 निम्नलिखित संख्या-युग्मों में, दूसरी संख्या, पहली संख्या पर कुछ निश्चित गणितीय संक्रियाएँ करके प्राप्त की जाती है। उस समुच्चय का चयन कीजिए जिसमें संख्याएँ ठीक उसी प्रकार संबंधित हैं, जिस प्रकार दिए गए समुच्चयों की संख्याएँ संबंधित हैं।

(ध्यान दें: संख्याओं को उनके घटक अंकों में अलग-अलग किए बिना पूर्ण संख्याओं पर संक्रियाएं की जानी चाहिए। उदाहरण के लिए संख्या 13 - संख्या 13 पर संक्रियाएं जैसे 13 को जोड़ना/घटाना/गुणा करना आदि किया जा सकता है। 13 को 1 और 3 में अलग-अलग करने की और फिर 1 और 3 पर गणितीय संक्रियाएं करने की अनुमति नहीं है।)

11, 66  
26, 156

- Ans  1. 15, 75  
 2. 18, 108  
 3. 20, 130  
 4. 26, 152

Question Type : MCQ

Question ID : 630680408142

Option 1 ID : 6306801591487

Option 2 ID : 6306801591488

Option 3 ID : 6306801591489

Option 4 ID : 6306801591490

Status : Answered

Chosen Option : 2

Q.4 दिए गए कथनों और निष्कर्षों को ध्यानपूर्वक पढ़िए। यह मानते हुए कि कथनों में दी गई जानकारी सत्य है, चाहे वह सामान्यतः ज्ञात तथ्यों से भिन्न प्रतीत होती हो और निर्णय लीजिए कि दिए गए निष्कर्षों में से कौन-सा/कौन-से निष्कर्ष कथनों का तार्किक रूप से अनुसरण करता है/करते हैं।

कथन:

सभी दरवाजे, ताले हैं।  
कुछ ताले, हैंडल हैं।

निष्कर्ष:

- (I) सभी हैंडल, ताले हैं।  
(II) कोई दरवाजा, हैंडल नहीं है।

- Ans  1. केवल निष्कर्ष (II) अनुसरण करता है  
 2. न तो निष्कर्ष (I) और न ही निष्कर्ष (II) अनुसरण करता है  
 3. दोनों निष्कर्ष (I) और (II) अनुसरण करते हैं  
 4. केवल निष्कर्ष (I) अनुसरण करता है

Question Type : MCQ

Question ID : 630680815658

Option 1 ID : 6306803195934

Option 2 ID : 6306803195936

Option 3 ID : 6306803195935

Option 4 ID : 6306803195933

Status : Answered

Chosen Option : 1

Q.5 एक निश्चित कूट भाषा में, 'LIKE' को '4682' के रूप में कूटबद्ध किया जाता है और 'BEAM' को '1358' के रूप में कूटबद्ध किया जाता है। दी गई कूट भाषा में 'E' के लिए कूट क्या है?

Ans  1. 8

2. 2

3. 5

4. 3

Question Type : MCQ

Question ID : 630680388105

Option 1 ID : 6306801512994

Option 2 ID : 6306801512995

Option 3 ID : 6306801512997

Option 4 ID : 6306801512996

Status : Answered

Chosen Option : 1

Q.6 एक निश्चित कूट भाषा में, 'TREE' को 'POCD' के रूप में कूटबद्ध किया जाता है और 'FOOT' को 'BLMS' के रूप में कूटबद्ध किया जाता है। उसी भाषा में 'MIND' को किस प्रकार कूटबद्ध किया जाएगा?

Ans  1. IFLC

2. JEKD

3. JFLD

4. IEKD

Question Type : MCQ

Question ID : 630680465400

Option 1 ID : 6306801817638

Option 2 ID : 6306801817635

Option 3 ID : 6306801817636

Option 4 ID : 6306801817637

Status : Answered

Chosen Option : 1

Q.7 यदि '+' और '-' को आपस में बदल दिया जाए तथा 'x' और '÷' को आपस में बदल दिया जाए, तो निम्नलिखित समीकरण में प्रश्न चिह्न (?) के स्थान पर क्या आएगा?

$$45 \times 3 + 9 - 18 \div 1 = ?$$

Ans  1. 12

2. 15

3. 24

4. 6

Question Type : MCQ

Question ID : 630680194967

Option 1 ID : 630680756360

Option 2 ID : 630680756357

Option 3 ID : 630680756358

Option 4 ID : 630680756359

Status : Answered

Chosen Option : 1

Q.8 A, B, C, D, E, F और G एक वृत्ताकार मेज के चारों ओर केंद्र की ओर मुख करके बैठे हैं (परंतु जरूरी नहीं कि वे इसी क्रम में बैठे हों)। F, A के बाएँ से तीसरे स्थान पर बैठा है। A, G के बाएँ से दूसरे स्थान पर बैठा है। G, E के ठीक दाएँ बैठा है। B, D के ठीक बाएँ बैठा है। E के सापेक्ष F का स्थान क्या है?

Ans  1. बाएँ से दूसरा

2. ठीक दाएँ

3. दाएँ से तीसरा

4. ठीक बाएँ

Question Type : MCQ

Question ID : 630680380492

Option 1 ID : 6306801482964

Option 2 ID : 6306801482966

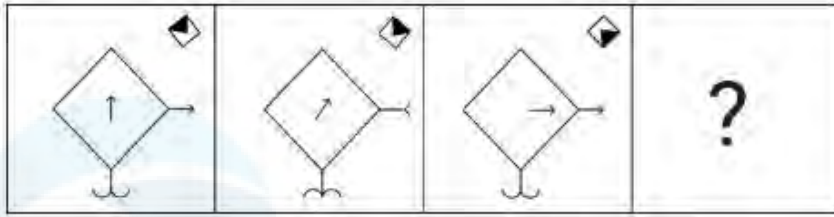
Option 3 ID : 6306801482963

Option 4 ID : 6306801482965

Status : Answered

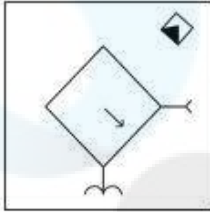
Chosen Option : 3

Q.9 दिए गए विकल्पों में से उस आकृति का चयन कीजिए, जो प्रश्न-चिह्न (?) के स्थान पर आएगी और श्रृंखला को तार्किक रूप से पूरा करेगी।

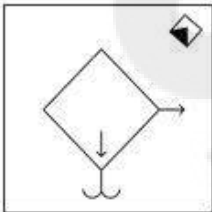


Ans

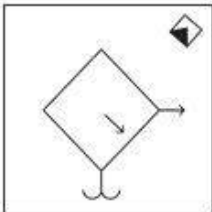
✓ 1.



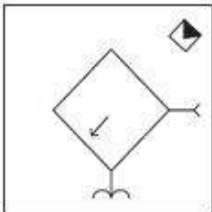
✗ 2.



✗ 3.



✗ 4.



Question Type : MCQ

Question ID : 630680272943

Option 1 ID : 6306801060332

Option 2 ID : 6306801060331

Option 3 ID : 6306801060334

Option 4 ID : 6306801060333

Status : Answered

Chosen Option : 1

Q.10 KB 9 एक निश्चित प्रकार से ED 2 से संबंधित है। ठीक उसी प्रकार XF 11, RH 4 से संबंधित है। समान तर्क का अनुसरण करते हुए, UH 8 निम्नलिखित में से किससे संबंधित है?

Ans  1. OK 3

2. OK 1

3. OJ 3

4. OJ 1

Question Type : MCQ

Question ID : 630680393922

Option 1 ID : 6306801536000

Option 2 ID : 6306801535998

Option 3 ID : 6306801536001

Option 4 ID : 6306801535999

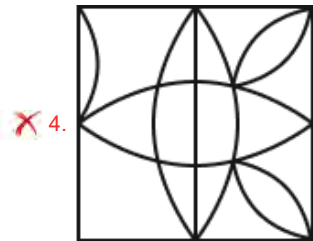
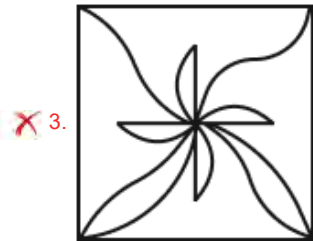
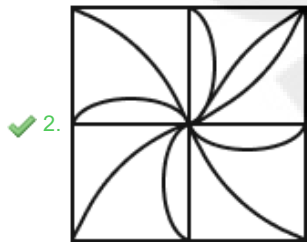

Status : Answered

Chosen Option : 4

Q.11 उस विकल्प आकृति का चयन कीजिए, जिसमें दी गई आकृति उसके भाग के रूप में सन्निहित है (घुमाने की अनुमति नहीं है)।



Ans



Question Type : **MCQ**

Question ID : **630680487080**

Option 1 ID : **6306801902473**

Option 2 ID : **6306801902470**

Option 3 ID : **6306801902472**

Option 4 ID : **6306801902471**

Status : **Not Answered**

Chosen Option : --

Q.12 एक निश्चित कूट भाषा में, 'apple pen card' को '136' के रूप में कूटबद्ध किया जाता है, 'doctor no apple' को '243' के रूप में कूटबद्ध किया जाता है और 'card is blocked' को '695' के रूप में कूटबद्ध किया जाता है। दी गई कूट भाषा में 'apple' को किस प्रकार कूटबद्ध किया जाएगा?

Ans  1. 4

2. 3

3. 1

4. 6

Question Type : MCQ

Question ID : 630680381037

Option 1 ID : 6306801485125

Option 2 ID : 6306801485124

Option 3 ID : 6306801485123

Option 4 ID : 6306801485126

Status : Not Answered

Chosen Option : --

Q.13 निम्नलिखित श्रृंखला में प्रश्न-चिह्न (?) के स्थान पर क्या आना चाहिए?

255, 248, 241, 234, 227, ?

Ans  1. 217

2. 220

3. 221

4. 207

Question Type : MCQ

Question ID : 630680799062

Option 1 ID : 6306803131052

Option 2 ID : 6306803131051

Option 3 ID : 6306803131050

Option 4 ID : 6306803131053

Status : Not Answered

Chosen Option : --

Q.14 एक निश्चित तर्क का अनुसरण करते हुए 326, 335 से संबंधित है। उसी तर्क का अनुसरण करते हुए 419, 428 से संबंधित है। उसी तर्क का अनुसरण करते हुए, 566 निम्नलिखित में से किससे संबंधित है?

(ध्यान दें: संख्याओं को उनके घटक अंकों में अलग-अलग किए बिना पूर्ण संख्याओं पर संक्रियाएं की जानी चाहिए। उदाहरण के लिए संख्या 13 - संख्या 13 पर संक्रियाएं जैसे 13 को जोड़ना/घटाना/गुणा करना आदि किया जा सकता है। 13 को 1 और 3 में अलग-अलग करने की और फिर 1 और 3 पर गणितीय संक्रियाएं करने की अनुमति नहीं है।)

Ans  1. 571

2. 575

3. 599

4. 582

Question Type : MCQ

Question ID : 630680441684

Option 1 ID : 6306801724350

Option 2 ID : 6306801724351

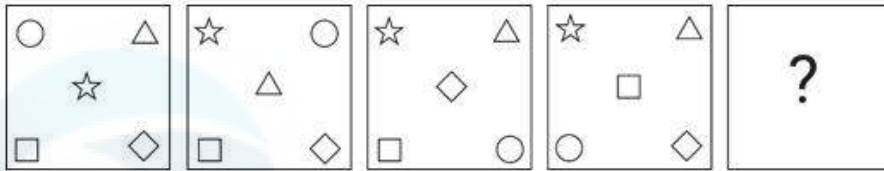
Option 3 ID : 6306801724353

Option 4 ID : 6306801724352

Status : Not Answered

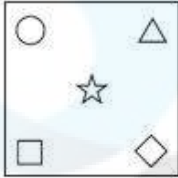
Chosen Option : --

Q.15 दिए गए विकल्पों में से उस आकृति का चयन कीजिए, जिसे प्रश्न-चिह्न (?) के स्थान पर रखने पर श्रृंखला तार्किक रूप से पूर्ण हो जाएगी।

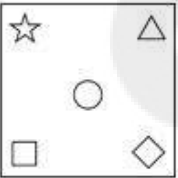


Ans

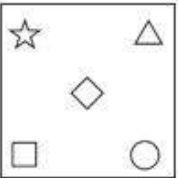
✓ 1.



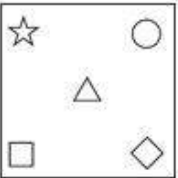
✗ 2.



✗ 3.



✗ 4.



Question Type : MCQ

Question ID : 630680278578

Option 1 ID : 6306801082599

Option 2 ID : 6306801082600

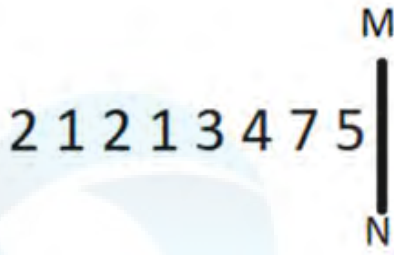
Option 3 ID : 6306801082597

Option 4 ID : 6306801082598

Status : Not Answered

Chosen Option : --

Q.16 दी गई आकृति के उस सही दर्पण प्रतिबिंब को चुनिए, जो नीचे दर्शाए गए अनुसार दर्पण को MN पर रखने पर बनेगा।



Ans

1. 2 1 2 1 3 4 7 5  
 2. 5 1 5 1 3 4 7 2  
 3. 7 5 4 3 1 5 1 5  
 4. 2 1 2 1 3 4 7 2

Question Type : MCQ

Question ID : 630680525318

Option 1 ID : 6306802053359

Option 2 ID : 6306802053357

Option 3 ID : 6306802053358

Option 4 ID : 6306802053356

Status : Not Answered

Chosen Option : --

Q.17 T, N, S, P, R और M एक वृत्ताकार मेज के चारों ओर केंद्र की ओर मुख करके बैठे हैं (परंतु जरूरी नहीं कि वे इसी क्रम में बैठे हों)। S, T के दाएँ से दूसरे स्थान पर बैठा है। S और R के बीच में केवल दो व्यक्ति बैठे हैं। M, S का निकटतम पड़ोसी नहीं है। P, R के दाएँ से दूसरे स्थान पर बैठा है। N के दाएँ से गिनती करने पर, N और M के बीच में कितने व्यक्ति बैठे हैं?

1. तीन  
 2. दो  
 3. चार  
 4. एक

Question Type : MCQ

Question ID : 630680377861

Option 1 ID : 6306801472505

Option 2 ID : 6306801472504

Option 3 ID : 6306801472506

Option 4 ID : 6306801472503

Status : Not Answered

Chosen Option : --

Q.18 एक कूट भाषा में, 'I want food' को 'sickota dongre dujubu' के रूप में लिखा जाता है, 'I want drink' को 'bluto sickota dujubu' के रूप में लिखा जाता है, 'food and drink' को 'dongre peppin bluto' के रूप में लिखा जाता है, तो इसी कूट भाषा में शब्द 'peppin' के लिए कूट क्या होगा?

- Ans
- 1. drink
  - 2. food
  - 3. and
  - 4. I

Question Type : MCQ

Question ID : 630680465337

Option 1 ID : 6306801817384

Option 2 ID : 6306801817385

Option 3 ID : 6306801817383

Option 4 ID : 6306801817386

Status : Not Answered

Chosen Option : --

Q.19 अंग्रेजी वर्णमाला क्रम के आधार पर दी गई श्रृंखला में प्रश्न चिह्न (?) के स्थान पर क्या आना चाहिए?

PKQ, OJP, NIO, MHN, ?

- Ans
- 1. LGN
  - 2. MGL
  - 3. NGL
  - 4. LGM

Question Type : MCQ

Question ID : 630680457101

Option 1 ID : 6306801785342

Option 2 ID : 6306801785343

Option 3 ID : 6306801785344

Option 4 ID : 6306801785341

Status : Not Answered

Chosen Option : --

Q.20 LQ87 एक निश्चित तरीके से VA55 से संबंधित है। QV59 उसी तरीके से AF27 से संबंधित है। उसी तर्क का पालन करते हुए, BG49 निम्नलिखित में से किससे संबंधित है?

- Ans
- 1. QL17
  - 2. LQ18
  - 3. LQ19
  - 4. LQ17

Question Type : MCQ

Question ID : 6306801108775

Option 1 ID : 6306804355648

Option 2 ID : 6306804355647

Option 3 ID : 6306804355649

Option 4 ID : 6306804355646

Status : Not Answered

Chosen Option : --

Q.1 जून 2022 में, एकनाथ संभाजी शिंदे निम्नलिखित में से किस राज्य के मुख्यमंत्री बने?

- Ans  1. महाराष्ट्र  
 2. हरियाणा  
 3. राजस्थान  
 4. गुजरात

Question Type : MCQ

Question ID : 630680467585

Option 1 ID : 6306801826272

Option 2 ID : 6306801826273

Option 3 ID : 6306801826271

Option 4 ID : 6306801826270

Status : Answered

Chosen Option : 1

Q.2 मुद्रा (MUDRA) द्वारा किस प्रकार का ऋण दिया जाता है?

- Ans  1. प्राथमिक ऋण (Primary loan)  
 2. रियल एस्टेट ऋण (Real estate loan)  
 3. गैर-कृषि ऋण (Non-farm loan)  
 4. कॉर्पोरेट ऋण (Corporate loan)

Question Type : MCQ

Question ID : 630680313559

Option 1 ID : 6306801220103

Option 2 ID : 6306801220104

Option 3 ID : 6306801220102

Option 4 ID : 6306801220101

Status : Answered

Chosen Option : 1

Q.3 'औस' ('Aus'), 'अमन' ('Aman') और 'बोरो' ('Boro') शब्दावली भारत की किस फसल से संबंधित है?

- Ans  1. गेहूँ (Wheat)  
 2. जूट (Jute)  
 3. मक्का (Maize)  
 4. धान (Paddy)

Question Type : MCQ

Question ID : 630680798976

Option 1 ID : 6306803130702

Option 2 ID : 6306803130703

Option 3 ID : 6306803130705

Option 4 ID : 6306803130704

Status : Answered

Chosen Option : 4

Q.4 तेकवाड़ा (Tekwada) नामक लौह युग स्थल \_\_\_\_\_ में स्थित है।

- Ans
- 1. आंध्र प्रदेश
  - 2. तमिलनाडु
  - 3. मध्य प्रदेश
  - 4. महाराष्ट्र

Question Type : MCQ

Question ID : 630680113849

Option 1 ID : 630680440922

Option 2 ID : 630680440923

Option 3 ID : 630680440925

Option 4 ID : 630680440924

Status : Answered

Chosen Option : 4

Q.5 बुद्धदेव दासगुप्ता (Buddhadev Dasgupta) निम्नलिखित में से किस वाद्ययंत्र के प्रसिद्ध वादक थे?

- Ans
- 1. सुरबहार
  - 2. सरोद
  - 3. संतूर
  - 4. सितार

Question Type : MCQ

Question ID : 630680467382

Option 1 ID : 6306801825477

Option 2 ID : 6306801825476

Option 3 ID : 6306801825474

Option 4 ID : 6306801825475

Status : Answered

Chosen Option : 3

Q.6 हड़प्पा सभ्यता में, शहरों की योजना ऐसी सड़कों के साथ बनाई गई थी जो आमतौर पर \_\_\_\_\_ दिशाओं के अनुदिश उन्मुख थीं।

- Ans
- 1. प्रधान (cardinal)
  - 2. अज्ञात (incognito)
  - 3. क्रमिक (ordinal)
  - 4. गुमनाम (anonymous)

Question Type : MCQ

Question ID : 630680592828

Option 1 ID : 6306802319605

Option 2 ID : 6306802319606

Option 3 ID : 6306802319604

Option 4 ID : 6306802319607

Status : Answered

Chosen Option : 1

Q.7 एनोरेक्सिया नर्वोसा (Anorexia Nervosa) एक खाना खाने संबंधी विकार है, जिसके लक्षण, \_\_\_\_\_ है।

- a) शरीर का असामान्य रूप से भारी वजन
- b) वजन कम होने का अत्यधिक भय
- c) वजन की विकृत धारणा
- d) अत्यधिक व्यायाम करके वजन कम करने का प्रयत्न करना

- Ans
- 1. b और c
  - 2. a और c
  - 3. c और d
  - 4. a और b

Question Type : MCQ  
Question ID : 630680422209  
Option 1 ID : 6306801647274  
Option 2 ID : 6306801647273  
Option 3 ID : 6306801647275  
Option 4 ID : 6306801647272  
Status : Answered  
Chosen Option : 3

Q.8 हिंदी उपन्यास 'कोहरे में कैद रंग' के लेखक कौन हैं?

- Ans
- 1. उदय प्रकाश
  - 2. गोविंद मिश्रा
  - 3. चित्रा मुद्गल
  - 4. कमलेश्वर

Question Type : MCQ  
Question ID : 630680512335  
Option 1 ID : 6306802002312  
Option 2 ID : 6306802002310  
Option 3 ID : 6306802002313  
Option 4 ID : 6306802002311  
Status : Answered  
Chosen Option : 2

Q.9 निम्नलिखित में से किस जनगणना दशक में भारत में सबसे अधिक जनसंख्या वृद्धि दर (प्रतिशत में) दर्ज की गई?

- Ans
- 1. 2001-2011
  - 2. 1971-1981
  - 3. 1941-1951
  - 4. 1961-1971

Question Type : MCQ  
Question ID : 630680510917  
Option 1 ID : 6306801996801  
Option 2 ID : 6306801996800  
Option 3 ID : 6306801996798  
Option 4 ID : 6306801996799  
Status : Answered  
Chosen Option : 1

Q.10 निम्नलिखित में से कौन सा कथन राज्यसभा के संदर्भ में सही है?

- Ans  1. सभी सदस्य सीधे जनता द्वारा चुने जाते हैं।  
 2. इसे काउंसिल ऑफ स्टेट्स के रूप में जाना जाता है।  
 3. सदस्यों का कार्यकाल 5 वर्ष होता है।  
 4. इसे संसद के निचले सदन के रूप में जाना जाता है।

Question Type : MCQ

Question ID : 630680216169

Option 1 ID : 630680838652

Option 2 ID : 630680838653

Option 3 ID : 630680838654

Option 4 ID : 630680838651

Status : Answered

Chosen Option : 1

Q.11 निम्नलिखित में से किस राज्य में अच्छी फसल के लिए संतूरा देवी को धन्यवाद देने के लिए बिस्सू मेला (Bissu Mela) आयोजित किया जाता है?

- Ans  1. हरियाणा  
 2. हिमाचल प्रदेश  
 3. उत्तराखंड  
 4. पंजाब

Question Type : MCQ

Question ID : 630680403380

Option 1 ID : 6306801573033

Option 2 ID : 6306801573031

Option 3 ID : 6306801573030

Option 4 ID : 6306801573032

Status : Answered

Chosen Option : 1

Q.12 भारत ने 'राष्ट्रीय सामाजिक सहायता कार्यक्रम (National Social Assistance Programme)' कब आरंभ किया था?

- Ans  1. 1985  
 2. 1995  
 3. 1990  
 4. 2000

Question Type : MCQ

Question ID : 630680166381

Option 1 ID : 630680644478

Option 2 ID : 630680644476

Option 3 ID : 630680644479

Option 4 ID : 630680644477

Status : Answered

Chosen Option : 2

Q.13 निम्नलिखित में से कौन-सा भारत का एक भूआकृतिक विभाजन (physiographic division) नहीं है?

- Ans  1. तिब्बती पठार  
 2. उत्तरी मैदान  
 3. प्रायद्वीपीय पठार  
 4. हिमालय पर्वत

Question Type : MCQ

Question ID : 630680484507

Option 1 ID : 6306801892345

Option 2 ID : 6306801892343

Option 3 ID : 6306801892344

Option 4 ID : 6306801892342

Status : Answered

Chosen Option : 1

Q.14 दुर्बल गर्म तूफान जो समय के साथ प्रबल होते जाते हैं और अंततः विशाल तूफान या प्रचंड तूफान में परिवर्तित हो जाते हैं। निम्नलिखित में से कौन-सा जलवायु क्षेत्र ऐसे तूफानों का उद्गम स्थल है?

- Ans  1. शुष्क जलवायु क्षेत्र  
 2. अर्धशुष्क जलवायु क्षेत्र  
 3. महाद्वीपीय जलवायु क्षेत्र  
 4. उष्णकटिबंधीय जलवायु क्षेत्र

Question Type : MCQ

Question ID : 630680404429

Option 1 ID : 6306801577217

Option 2 ID : 6306801577219

Option 3 ID : 6306801577218

Option 4 ID : 6306801577216

Status : Answered

Chosen Option : 4

Q.15 निम्नलिखित में से किस मुगल सम्राट ने अपनी पत्नी मेहरुन्निसा (Mehrunnisa) के सम्मान में चांदी के सिक्के जारी किए थे?

- Ans  1. जहांगीर  
 2. औरंगजेब  
 3. अकबर  
 4. हुमायूं

Question Type : MCQ

Question ID : 630680210808

Option 1 ID : 630680817392

Option 2 ID : 630680817391

Option 3 ID : 630680817394

Option 4 ID : 630680817393

Status : Answered

Chosen Option : 1

Q.16 रवीन्द्रनाथ टैगोर ने \_\_\_\_\_ को नृत्य साम्राज्ञी (Nrietya Samragini) कहा, जिसका अनुवाद 'नृत्य की महारानी' है।

Ans  1. सितारा देवी

2. गंगू बाई

3. मृणालिनी साराभाई

4. रुक्मिणी अरुंडेल

Question Type : MCQ

Question ID : 630680554551

Option 1 ID : 6306802167976

Option 2 ID : 6306802167977

Option 3 ID : 6306802167974

Option 4 ID : 6306802167975

Status : Answered

Chosen Option : 1

Q.17 निम्नलिखित में से कौन-से मौलिक अधिकार में मानव दुर्व्यापार और बेगार शामिल है?

Ans  1. सांस्कृतिक और शैक्षिक अधिकार

2. स्वतंत्रता का अधिकार

3. शोषण के विरुद्ध अधिकार

4. समानता का अधिकार

Question Type : MCQ

Question ID : 630680587165

Option 1 ID : 6306802297195

Option 2 ID : 6306802297194

Option 3 ID : 6306802297193

Option 4 ID : 6306802297192

Status : Answered

Chosen Option : 2

Q.18 निम्नलिखित में से किसने पंथी लोक नृत्य (Panthi folk dance) के लिए पद्म श्री 2021 प्राप्त किया?

Ans  1. भूरी बाई

2. राधे श्याम बार्ले

3. जगदीश चौधरी

4. गुलफाम अहमद

Question Type : MCQ

Question ID : 630680160188

Option 1 ID : 630680620124

Option 2 ID : 630680620125

Option 3 ID : 630680620127

Option 4 ID : 630680620126

Status : Answered

Chosen Option : 1

Q.19 एसिटिलीन (acetylene) के कार्बन परमाणु में 's' प्रकृति का प्रतिशत कितना होता है?

- Ans  1. 50%
2. 25%
3. 33.33%
4. 75%

Question Type : MCQ  
Question ID : 630680471468  
Option 1 ID : 6306801841586  
Option 2 ID : 6306801841587  
Option 3 ID : 6306801841588  
Option 4 ID : 6306801841589  
Status : Answered  
Chosen Option : 4

Q.20 निम्नलिखित में से किसने एशियाटिक सोसाइटी ऑफ़ बंगाल (Asiatic Society of Bengal) की स्थापना की थी?

- Ans  1. हेनरी कोलब्रुक (Henry Colebrook)
2. विलियम जोन्स (William Jones)
3. वॉरेन हेस्टिंग्स (Warren Hastings)
4. रॉबर्ट क्लाइव (Robert Clive)

Question Type : MCQ  
Question ID : 630680511605  
Option 1 ID : 6306801999542  
Option 2 ID : 6306801999543  
Option 3 ID : 6306801999545  
Option 4 ID : 6306801999544  
Status : Answered  
Chosen Option : 2

Q.21 केंद्रीय बजट 2023 में, मछुआरों, मछली विक्रेताओं और सूक्ष्म और लघु उद्यमों की गतिविधियों को सक्षम करने के लिए ₹6,000 करोड़ के निवेश के साथ निम्नलिखित में से किस योजना की एक उप-योजना प्रस्तावित की गई है?

- Ans  1. पीएम फसल बीमा योजना
2. पीएम उज्वला योजना
3. पीएम मुद्रा योजना
4. पीएम मत्स्य सम्पदा योजना

Question Type : MCQ  
Question ID : 630680467060  
Option 1 ID : 6306801824193  
Option 2 ID : 6306801824196  
Option 3 ID : 6306801824195  
Option 4 ID : 6306801824194  
Status : Answered  
Chosen Option : 4

Q.22 ऊँची कूद के खिलाड़ी को एक निश्चित ऊंचाई को पार करने के कितने मौके मिलते हैं?

- Ans
- 1. दो मौके
  - 2. चार मौके
  - 3. तीन मौके
  - 4. छः मौके

Question Type : **MCQ**  
Question ID : **630680123989**  
Option 1 ID : **630680480816**  
Option 2 ID : **630680480814**  
Option 3 ID : **630680480815**  
Option 4 ID : **630680480817**  
Status : **Answered**  
Chosen Option : **1**

Q.23 2023 में आयोजित किस राष्ट्रीय खेल आयोजन का शुभंकर 'उज्वला' था?

- Ans
- 1. खेलो इंडिया यूनिवर्सिटी गेम्स 2022
  - 2. नेशनल गेम्स 2023
  - 3. खेलो इंडिया यूथ गेम्स 2023
  - 4. खेलो इंडिया पैरा गेम्स 2023

Question Type : **MCQ**  
Question ID : **630680560685**  
Option 1 ID : **6306802191723**  
Option 2 ID : **6306802191720**  
Option 3 ID : **6306802191722**  
Option 4 ID : **6306802191721**  
Status : **Answered**  
Chosen Option : **1**

Q.24 ढेल निम्नलिखित में से किस समूह से संबंधित है?

- Ans
- 1. उभयचर (Amphibia)
  - 2. पिसीज (Pisces)
  - 3. स्तनधारी (Mammalia)
  - 4. आर्थ्रोपोडा (Arthropoda)

Question Type : **MCQ**  
Question ID : **630680422311**  
Option 1 ID : **6306801647682**  
Option 2 ID : **6306801647681**  
Option 3 ID : **6306801647680**  
Option 4 ID : **6306801647683**  
Status : **Answered**  
Chosen Option : **3**

Q.25 निम्नलिखित में से किसने 1873 में सत्यशोधक समाज की स्थापना की थी?

- Ans  1. ज्योतिबा फुले  
 2. विनायक दामोदर सावरकर  
 3. गोपाल गणेश आगरकर  
 4. विनोबा भावे

Question Type : **MCQ**  
Question ID : **630680318903**  
Option 1 ID : **6306801240570**  
Option 2 ID : **6306801240572**  
Option 3 ID : **6306801240569**  
Option 4 ID : **6306801240571**  
Status : **Answered**  
Chosen Option : 4

Section : English Language and Comprehension

Q.1 Select the most appropriate to substitute the underlined word in the given sentence.  
Rohit asked Nita what was the most intriguing book she has read recently.

- Ans  1. subdued  
 2. arraigned  
 3. tedious  
 4. encircled

Question Type : **MCQ**  
Question ID : **630680528726**  
Option 1 ID : **6306802066912**  
Option 2 ID : **6306802066914**  
Option 3 ID : **6306802066915**  
Option 4 ID : **6306802066913**  
Status : **Answered**  
Chosen Option : 3

Q.2 Select the grammatically correct sentence.

- Ans  1. The intrepid explorer stumbled upon the uncharted cavern deep within the heart of the rainforest.  
 2. The intrepid explorer stumbled upon an uncharted cavern deep within a heart of the rainforest.  
 3. An intrepid explorer stumbled upon an uncharted cavern deep within the heart of the rainforest.  
 4. An intrepid explorer stumbled upon the uncharted cavern deep within a heart of the rainforest.

Question Type : **MCQ**  
Question ID : **630680597184**  
Option 1 ID : **6306802336783**  
Option 2 ID : **6306802336782**  
Option 3 ID : **6306802336781**  
Option 4 ID : **6306802336784**  
Status : **Answered**  
Chosen Option : 4

**Q.3** Select the most appropriate option to fill in the blank.  
The ancient Greeks and pagans used to worship natural \_\_\_\_\_ as Gods and Goddesses.

Ans  1. elements

2. mixtures

3. impulses

4. instincts

Question Type : **MCQ**

Question ID : **630680515252**

Option 1 ID : **6306802013475**

Option 2 ID : **6306802013474**

Option 3 ID : **6306802013476**

Option 4 ID : **6306802013473**

Status : **Answered**

Chosen Option : 1

**Q.4** Select the option that expresses the given sentence in future perfect tense form.

I hope you wash all the clothes before you come into the house again.

Ans  1. I hope you will have wash all the clothes before you come into the house again.

2. I hope you will have washed all the clothes before you come into the house again.

3. I hope you shall wash all the clothes before you come into the house again

4. I hope you will be washing all the clothes before you come into the house again.

Question Type : **MCQ**

Question ID : **63068087126**

Option 1 ID : **630680337895**

Option 2 ID : **630680337894**

Option 3 ID : **630680337893**

Option 4 ID : **630680337896**

Status : **Answered**

Chosen Option : 4

**Q.5** Select the most appropriate option that can substitute the underlined segment in the given sentence.

My brother asked me, "Can I exchange my phone from you?"

Ans  1. my phone within yours

2. my phone off yours

3. my phone with yours

4. my phone since yours

Question Type : **MCQ**

Question ID : **630680551430**

Option 1 ID : **6306802155945**

Option 2 ID : **6306802155946**

Option 3 ID : **6306802155947**

Option 4 ID : **6306802155948**

Status : **Answered**

Chosen Option : 4

**Q.6 Select the INCORRECTLY spelt word.**

- Ans  1. Inflamous  
 2. Kerbstone  
 3. Subjugator  
 4. Arrangement

Question Type : **MCQ**  
Question ID : **630680469840**  
Option 1 ID : **6306801835114**  
Option 2 ID : **6306801835117**  
Option 3 ID : **6306801835115**  
Option 4 ID : **6306801835116**  
Status : **Answered**  
Chosen Option : 1

**Q.7 Select the most appropriate option to fill in the blank.**  
He pressed the \_\_\_\_\_ just in time to avoid the accident.

- Ans  1. bike  
 2. break  
 3. beak  
 4. brake

Question Type : **MCQ**  
Question ID : **630680435718**  
Option 1 ID : **6306801700796**  
Option 2 ID : **6306801700794**  
Option 3 ID : **6306801700793**  
Option 4 ID : **6306801700795**  
Status : **Answered**  
Chosen Option : 4

**Q.8 Select the INCORRECTLY spelt word..**

- Ans  1. Receive  
 2. Occurance  
 3. Conscious  
 4. Believe

Question Type : **MCQ**  
Question ID : **630680556436**  
Option 1 ID : **6306802174938**  
Option 2 ID : **6306802174940**  
Option 3 ID : **6306802174939**  
Option 4 ID : **6306802174941**  
Status : **Answered**  
Chosen Option : 2

Q.9 Select the most appropriate ANTONYM of the underlined word.  
Raju is lazy and smart, but he does not attend the classes.

- Ans  1. snobbish  
 2. genius  
 3. lax  
 4. industrious

Question Type : MCQ  
Question ID : 630680517458  
Option 1 ID : 6306802022230  
Option 2 ID : 6306802022231  
Option 3 ID : 6306802022228  
Option 4 ID : 6306802022229  
Status : Answered  
Chosen Option : 2

Q.10 Select the grammatically correct sentence..

- Ans  1. The traffic on the highway was heavy during an evening.  
 2. The traffic on the highway was heavy during the evening.  
 3. A traffic on the highway was heavy during an evening.  
 4. The traffic on a highway was heavy during an evening.

Question Type : MCQ  
Question ID : 6306801106309  
Option 1 ID : 6306804345675  
Option 2 ID : 6306804345676  
Option 3 ID : 6306804345674  
Option 4 ID : 6306804345677  
Status : Answered  
Chosen Option : 2

Q.11 Parts of the following sentence have been given as options. Select the option that contains an error.

Rose painted the most beautifullest picture ever at the art class today!

- Ans  1. Rose painted  
 2. the most beautifullest  
 3. art class today!  
 4. picture ever at the

Question Type : MCQ  
Question ID : 630680514392  
Option 1 ID : 6306802010193  
Option 2 ID : 6306802010194  
Option 3 ID : 6306802010196  
Option 4 ID : 6306802010195  
Status : Answered  
Chosen Option : 1

Q.12 Select the option that can be used as a one-word substitute for the given group of words.  
one who does something for pleasure

- Ans
- 1. Anarchist
  - 2. Atheist
  - 3. Aggressor
  - 4. Hedonist

Question Type : **MCQ**  
Question ID : **630680515084**  
Option 1 ID : **6306802012856**  
Option 2 ID : **6306802012854**  
Option 3 ID : **6306802012853**  
Option 4 ID : **6306802012855**  
Status : **Answered**  
Chosen Option : 2

Q.13 Select the most appropriate option that can substitute the underlined segment in the given sentence.

Everyone disliked the new CEO, Kushal, but nobody is ready to put themselves in dangerous situation by telling him their feelings.

- Ans
- 1. bell the cat
  - 2. sit on the fence
  - 3. pull a long face
  - 4. rule the roost

Question Type : **MCQ**  
Question ID : **630680404549**  
Option 1 ID : **6306801577699**  
Option 2 ID : **6306801577696**  
Option 3 ID : **6306801577698**  
Option 4 ID : **6306801577697**  
Status : **Answered**  
Chosen Option : 4

Q.14 Select the most appropriate idiom that can substitute the underlined segment in the given sentence.

Most women are facing the same problem when it comes to job satisfaction because of the pay parity in institutions.

- Ans
- 1. a drop in the ocean
  - 2. comparing apples to oranges
  - 3. armchair experts
  - 4. in the same boat

Question Type : **MCQ**  
Question ID : **630680396940**  
Option 1 ID : **6306801547824**  
Option 2 ID : **6306801547827**  
Option 3 ID : **6306801547826**  
Option 4 ID : **6306801547825**  
Status : **Answered**  
Chosen Option : 4

**Q.15** Read the sentence given below and identify if there is an error in it. The error can be in any segment of the sentence which are marked A, B, C, and D. Select option D if there is 'No error'.

(A) She sings / (B) the song / (C) beautiful in the party / (D) No error.

- Ans
- 1. D
  - 2. A
  - 3. B
  - 4. C

Question Type : **MCQ**

Question ID : **6306801046638**

Option 1 ID : **6306804108680**

Option 2 ID : **6306804108677**

Option 3 ID : **6306804108678**

Option 4 ID : **6306804108679**

Status : **Answered**

Chosen Option : 1

**Q.16** Select the most appropriate option to fill in the blank.  
I am calling to thank you \_\_\_\_\_ the present you sent.

- Ans
- 1. in
  - 2. with
  - 3. of
  - 4. for

Question Type : **MCQ**

Question ID : **630680515237**

Option 1 ID : **6306802013416**

Option 2 ID : **6306802013413**

Option 3 ID : **6306802013415**

Option 4 ID : **6306802013414**

Status : **Answered**

Chosen Option : 4

**Q.17** Select the most appropriate synonym of the underlined word in the given sentence.

Any declarations or practices of religious antipathy against ethnic minorities in a democratic country should not be tolerated.

- Ans
- 1. Passivity
  - 2. Devaluation
  - 3. Conformity
  - 4. Enmity

Question Type : **MCQ**

Question ID : **630680412874**

Option 1 ID : **6306801610319**

Option 2 ID : **6306801610321**

Option 3 ID : **6306801610322**

Option 4 ID : **6306801610320**

Status : **Answered**

Chosen Option : 2

Q.18 Select the INCORRECTLY spelt word...

- Ans  1. Comfortable  
 2. Depressed  
 3. Battle  
 4. Cheerful

Question Type : MCQ  
Question ID : 630680726501  
Option 1 ID : 6306802847011  
Option 2 ID : 6306802847010  
Option 3 ID : 6306802847013  
Option 4 ID : 6306802847012  
Status : Answered  
Chosen Option : 4

Q.19 Correct the underlined part of the sentence.

This mango is bitterer.

- Ans  1. bitter  
 2. more bitter  
 3. most bitter  
 4. bitterest

Question Type : MCQ  
Question ID : 630680514554  
Option 1 ID : 6306802010842  
Option 2 ID : 6306802010843  
Option 3 ID : 6306802010844  
Option 4 ID : 6306802010841  
Status : Answered  
Chosen Option : 3

Q.20 Select the most appropriate ANTONYM of the underlined word in the given sentence.

Even if an unlaced shoe is spotless, it is not neat.

- Ans  1. agile  
 2. requisite  
 3. soiled  
 4. forged

Question Type : MCQ  
Question ID : 630680444391  
Option 1 ID : 6306801734842  
Option 2 ID : 6306801734840  
Option 3 ID : 6306801734843  
Option 4 ID : 6306801734841  
Status : Answered  
Chosen Option : 1

**Comprehension:**

In the following passage, some words have been deleted. Read the passage carefully and select the most appropriate option to fill in each blank.

Newspapers are like mirrors (1)\_\_\_\_\_ the diverse facets of society, capturing the voices, stories, and events that define our shared human experience. They serve as a forum (2)\_\_\_\_\_ dialogue, debate, and discussion, amplifying voices from all walks of life and fostering (3)\_\_\_\_\_ sense of community. Beyond reporting news, newspapers also celebrate achievements, highlight cultural (4)\_\_\_\_\_, and showcase human resilience in the face of adversity. They are archives of history, chronicling the triumphs and trials of generations, and serving as a reminder of how far we have come and how much further we can go. In an age of digital transformation, newspapers continue to (5)\_\_\_\_\_, adapting to new mediums while upholding the core values of journalism: accuracy, integrity, and accountability.

**SubQuestion No : 21**

**Q.21** Select the most appropriate option to fill in blank number 1.

**Ans** ✓ 1. reflecting

✗ 2. reflected

✗ 3. reflects

✗ 4. reflect

Question Type : **MCQ**

Question ID : **630680726267**

Option 1 ID : **6306802846080**

Option 2 ID : **6306802846082**

Option 3 ID : **6306802846079**

Option 4 ID : **6306802846081**

Status : **Answered**

Chosen Option : **3**

**Comprehension:**

In the following passage, some words have been deleted. Read the passage carefully and select the most appropriate option to fill in each blank.

Newspapers are like mirrors (1)\_\_\_\_\_ the diverse facets of society, capturing the voices, stories, and events that define our shared human experience. They serve as a forum (2)\_\_\_\_\_ dialogue, debate, and discussion, amplifying voices from all walks of life and fostering (3)\_\_\_\_\_ sense of community. Beyond reporting news, newspapers also celebrate achievements, highlight cultural (4)\_\_\_\_\_, and showcase human resilience in the face of adversity. They are archives of history, chronicling the triumphs and trials of generations, and serving as a reminder of how far we have come and how much further we can go. In an age of digital transformation, newspapers continue to (5)\_\_\_\_\_, adapting to new mediums while upholding the core values of journalism: accuracy, integrity, and accountability.

**SubQuestion No : 22**

**Q.22** Select the most appropriate option to fill in blank number 2.

**Ans** ✓ 1. for

✗ 2. by

✗ 3. into

✗ 4. on

Question Type : **MCQ**

Question ID : **630680726268**

Option 1 ID : **6306802846083**

Option 2 ID : **6306802846085**

Option 3 ID : **6306802846084**

Option 4 ID : **6306802846086**

Status : **Answered**

Chosen Option : **1**

**Comprehension:**

In the following passage, some words have been deleted. Read the passage carefully and select the most appropriate option to fill in each blank.

Newspapers are like mirrors (1)\_\_\_\_\_ the diverse facets of society, capturing the voices, stories, and events that define our shared human experience. They serve as a forum (2)\_\_\_\_\_ dialogue, debate, and discussion, amplifying voices from all walks of life and fostering (3)\_\_\_\_\_ sense of community. Beyond reporting news, newspapers also celebrate achievements, highlight cultural (4)\_\_\_\_\_, and showcase human resilience in the face of adversity. They are archives of history, chronicling the triumphs and trials of generations, and serving as a reminder of how far we have come and how much further we can go. In an age of digital transformation, newspapers continue to (5)\_\_\_\_\_, adapting to new mediums while upholding the core values of journalism: accuracy, integrity, and accountability.

**SubQuestion No : 23****Q.23 Select the most appropriate option to fill in blank number 3.**

- Ans  1. an  
 2. No article required  
 3. the  
 4. a

Question Type : **MCQ**Question ID : **630680726269**Option 1 ID : **6306802846088**Option 2 ID : **6306802846090**Option 3 ID : **6306802846089**Option 4 ID : **6306802846087**Status : **Answered**Chosen Option : **2****Comprehension:**

In the following passage, some words have been deleted. Read the passage carefully and select the most appropriate option to fill in each blank.

Newspapers are like mirrors (1)\_\_\_\_\_ the diverse facets of society, capturing the voices, stories, and events that define our shared human experience. They serve as a forum (2)\_\_\_\_\_ dialogue, debate, and discussion, amplifying voices from all walks of life and fostering (3)\_\_\_\_\_ sense of community. Beyond reporting news, newspapers also celebrate achievements, highlight cultural (4)\_\_\_\_\_, and showcase human resilience in the face of adversity. They are archives of history, chronicling the triumphs and trials of generations, and serving as a reminder of how far we have come and how much further we can go. In an age of digital transformation, newspapers continue to (5)\_\_\_\_\_, adapting to new mediums while upholding the core values of journalism: accuracy, integrity, and accountability.

**SubQuestion No : 24****Q.24 Select the most appropriate option to fill in blank number 4.**

- Ans  1. richness  
 2. richly  
 3. richest  
 4. richer

Question Type : **MCQ**Question ID : **630680726270**Option 1 ID : **6306802846093**Option 2 ID : **6306802846092**Option 3 ID : **6306802846094**Option 4 ID : **6306802846091**Status : **Answered**Chosen Option : **3**

**Comprehension:**

In the following passage, some words have been deleted. Read the passage carefully and select the most appropriate option to fill in each blank.

Newspapers are like mirrors (1)\_\_\_\_\_ the diverse facets of society, capturing the voices, stories, and events that define our shared human experience. They serve as a forum (2)\_\_\_\_\_ dialogue, debate, and discussion, amplifying voices from all walks of life and fostering (3)\_\_\_\_\_ sense of community. Beyond reporting news, newspapers also celebrate achievements, highlight cultural (4)\_\_\_\_\_, and showcase human resilience in the face of adversity. They are archives of history, chronicling the triumphs and trials of generations, and serving as a reminder of how far we have come and how much further we can go. In an age of digital transformation, newspapers continue to (5)\_\_\_\_\_, adapting to new mediums while upholding the core values of journalism: accuracy, integrity, and accountability.

**SubQuestion No : 25**

**Q.25 Select the most appropriate option to fill in blank number 5.**

- Ans**  1. evolve  
 2. revolve  
 3. involve  
 4. dissolve

Question Type : **MCQ**

Question ID : **630680726271**

Option 1 ID : **6306802846096**

Option 2 ID : **6306802846097**

Option 3 ID : **6306802846098**

Option 4 ID : **6306802846095**

Status : **Answered**

Chosen Option : **3**