

## Multi Tasking Non Technical Staff and Havaladar CBIC and CBN Examination 2024

Roll Number	
Candidate Name	
Venue Name	iON Digital Zone iDZ Bodri Near high court
Exam Date	18/10/2024
Exam Time	9:00 AM - 11:00 AM
Subject	MTS Non Tech Havaladar CBIC and CBN Examination 2024

### Section : Numerical and Mathematical Ability

Q.1 ₹19.5 में एक वस्तु को बेचकर, एक विक्रेता 30% का लाभ अर्जित करता है। उसे अपना विक्रय मूल्य (₹ में) कितना बढ़ाना चाहिए, ताकि 50% का लाभ अर्जित कर सके?

- Ans
- 1. 6
  - 2. 4
  - 3. 5
  - 4. 3

Question Type : MCQ

Question ID : 630680632594

Option 1 ID : 6306802476277

Option 2 ID : 6306802476275

Option 3 ID : 6306802476276

Option 4 ID : 6306802476274

Status : Answered

Chosen Option : 3

Q.2 2 वर्षों के लिए 7% प्रति वर्ष की ब्याज दर पर उधार ली गई राशि ₹3500 पर साधारण ब्याज (₹ में) ज्ञात कीजिए।

- Ans
- 1. 430
  - 2. 450
  - 3. 490
  - 4. 530

Question Type : MCQ

Question ID : 630680591978

Option 1 ID : 6306802316381

Option 2 ID : 6306802316382

Option 3 ID : 6306802316379

Option 4 ID : 6306802316380

Status : Answered

Chosen Option : 1

Q.3 20 cm त्रिज्या वाली एक लोहे की गेंद को पिघलाकर, समान त्रिज्या वाली 64 गोलाकार गेंदों में पुनः ढाला जाता है। प्रत्येक गोलाकार गेंद की त्रिज्या ज्ञात कीजिए।

Ans  1. 5 cm

2. 8 cm

3. 6 cm

4. 7 cm

Question Type : MCQ

Question ID : 630680389737

Option 1 ID : 6306801519406

Option 2 ID : 6306801519409

Option 3 ID : 6306801519407

Option 4 ID : 6306801519408

Status : Answered

Chosen Option : 3

Q.4 एक दुकानदार ₹80 अंकित मूल्य वाली एक नोटबुक 8% की छूट पर बेचता है और प्रत्येक नोटबुक के साथ ₹8.60 मूल्य वाला एक पेन मुफ्त में देता है। फिर भी उसे 17% का लाभ प्राप्त होता है। प्रत्येक नोटबुक का दो दशमलव स्थानों तक पूर्णांकित क्रय मूल्य ज्ञात कीजिए।

Ans  1. ₹51.32

2. ₹49.75

3. ₹55.56

4. ₹45.35

Question Type : MCQ

Question ID : 630680615913

Option 1 ID : 6306802410324

Option 2 ID : 6306802410323

Option 3 ID : 6306802410325

Option 4 ID : 6306802410322

Status : Answered

Chosen Option : 2

Q.5 पुष्कर एक वस्तु को ₹27.50 में खरीदता है और उसे ₹28.60 में बेचता है। उसका लाभ प्रतिशत ज्ञात कीजिए।

Ans  1. 4%

2. 7%

3. 6%

4. 3%

Question Type : MCQ

Question ID : 630680131775

Option 1 ID : 630680510310

Option 2 ID : 630680510311

Option 3 ID : 630680510312

Option 4 ID : 630680510313

Status : Answered

Chosen Option : 2

Q.6 पांच संख्याओं का औसत 206 है। उनमें से दो संख्याओं का औसत 205 है। उनमें से दो और अन्य संख्याओं का औसत 207.5 है। इस जानकारी से कितनी संख्याओं की सटीक रूप से पहचान की जा सकती है?

Ans  1. एक की भी नहीं

2. एक

3. दो

4. तीन

Question Type : MCQ

Question ID : 630680103832

Option 1 ID : 630680403562

Option 2 ID : 630680403561

Option 3 ID : 630680403560

Option 4 ID : 630680403559

Status : Answered

Chosen Option : 2

Q.7 दी गई तालिका में तीन कंपनियों, X, Y और Z द्वारा तीन उत्पादों, A, B और C के उत्पादन पर विचार करें।

उत्पाद → कंपनी ↓	A	B	C
X	100	115	95
Y	120	80	90
Z	70	110	120

कंपनी Y द्वारा कितने उत्पादों का उत्पादन कंपनी Y द्वारा सभी उत्पादों के औसत उत्पादन से अधिक है?

Ans  1. 2

2. 3

3. 1

4. 0

Question Type : MCQ

Question ID : 630680523788

Option 1 ID : 6306802047305

Option 2 ID : 6306802047306

Option 3 ID : 6306802047304

Option 4 ID : 6306802047303

Status : Answered

Chosen Option : 3

Q.8 9 और 25 के बीच मध्यानुपाती क्या है?

Ans  1. 34

2. 15

3. 17

4. 16

Question Type : MCQ

Question ID : 630680108775

Option 1 ID : 630680422012

Option 2 ID : 630680422015

Option 3 ID : 630680422013

Option 4 ID : 630680422014

Status : Answered

Chosen Option : 4

Q.9 40 kg, 49 kg, 56 kg, 67 kg और 39 kg वजन के पांच सदस्यों वाले परिवार का औसत वजन (kg में) ज्ञात कीजिए।

Ans  1. 51.2

2. 50.2

3. 49.2

4. 52.2

Question Type : MCQ

Question ID : 630680551643

Option 1 ID : 6306802156798

Option 2 ID : 6306802156797

Option 3 ID : 6306802156799

Option 4 ID : 6306802156800

Status : Answered

Chosen Option : 3

Q.10 एक पुलिसकर्मी एक चोर को 400 m की दूरी से देखता है। जब पुलिसकर्मी उसका पीछा करना शुरू करता है, तो चोर भी भागने लगता है। यदि चोर की चाल 18 km/h है और पुलिसकर्मी की चाल 20 km/h है, तो पकड़े जाने से पहले चोर कितनी दूरी तय कर चुका होगा?

Ans  1. 2.5 km

2. 3.6 km

3. 9 km

4. 1.8 km

Question Type : MCQ

Question ID : 630680262494

Option 1 ID : 6306801019617

Option 2 ID : 6306801019615

Option 3 ID : 6306801019616

Option 4 ID : 6306801019618

Status : Answered

Chosen Option : 2

Q.11  $a^2$  क्षेत्रफल वाले एक वर्ग से उस वर्ग की भुजाओं के मध्य बिंदुओं पर बने एक अन्य वर्ग को निकालकर हटा दिया जाता है। वर्ग में शेष बचा क्षेत्रफल क्या है ?

- Ans
- 1.  $\frac{3a^2}{4}$
  - 2.  $\frac{a^2}{2}$
  - 3.  $\frac{a^2}{4}$
  - 4.  $\frac{2a^2}{3}$

Question Type : MCQ

Question ID : 63068094980

Option 1 ID : 630680368616

Option 2 ID : 630680368617

Option 3 ID : 630680368618

Option 4 ID : 630680368615

Status : Answered

Chosen Option : 4

Q.12 6 वर्षों के लिए 6% वार्षिक की ब्याज दर पर उधार ली गई राशि ₹2500 पर साधारण ब्याज (₹ में) ज्ञात कीजिए।

- Ans
- 1. 940
  - 2. 860
  - 3. 900
  - 4. 840

Question Type : MCQ

Question ID : 630680591907

Option 1 ID : 6306802316096

Option 2 ID : 6306802316098

Option 3 ID : 6306802316095

Option 4 ID : 6306802316097

Status : Answered

Chosen Option : 3

Q.13 किसी उत्पाद के मूल्य में 20% की वृद्धि होती है। कुछ समय बाद, इसमें 15% की कमी होती है। मूल्य में कुल प्रतिशत परिवर्तन कितना है?

- Ans
- 1. 2%
  - 2. 4%
  - 3. 1%
  - 4. 3%

Question Type : MCQ

Question ID : 630680481930

Option 1 ID : 6306801882209

Option 2 ID : 6306801882211

Option 3 ID : 6306801882208

Option 4 ID : 6306801882210

Status : Answered

Chosen Option : 2

Q.14 x,y और z क्रमशः 2, 3 और 4 से विभाज्य है। 6x,4y और 3z का महत्तम समापवर्तक (HCF) क्या होगा?

Ans  1. न्यूनतम 12

2. न्यूनतम 36

3. न्यूनतम 18

4. न्यूनतम 16

Question Type : MCQ

Question ID : 63068094941

Option 1 ID : 630680368461

Option 2 ID : 630680368459

Option 3 ID : 630680368460

Option 4 ID : 630680368462

Status : Answered

Chosen Option : 4

Q.15 एक धात्विक अर्धगोलाकार कटोरे का बाह्य वक्र पृष्ठीय क्षेत्रफल  $308 \text{ cm}^2$  है।

यदि धातु का घनत्व  $8.7 \text{ gm}$  प्रति  $\text{cm}^3$  है, तो कटोरे का द्रव्यमान ज्ञात कीजिए।

( $\pi = \frac{22}{7}$  लीजिए)

Ans  1. 5264.2 gm

2. 5262.4 gm

3. 6252.4 gm

4. 6254.2 gm

Question Type : MCQ

Question ID : 630680388318

Option 1 ID : 6306801513792

Option 2 ID : 6306801513790

Option 3 ID : 6306801513791

Option 4 ID : 6306801513793

Status : Answered

Chosen Option : 3

Q.16 कितनी धनराशि, जब 4 वर्ष के लिए 6% की ब्याज दर पर उधार दी जाती है, तो 5 वर्षों में  $4\frac{1}{2}\%$  की

दर से ₹800 पर मिलने वाले ब्याज के बराबर ब्याज अर्जित करेगी?

Ans  1. ₹ 750

2. ₹ 700

3. ₹ 650

4. ₹ 625

Question Type : MCQ

Question ID : 630680410544

Option 1 ID : 6306801600899

Option 2 ID : 6306801600898

Option 3 ID : 6306801600897

Option 4 ID : 6306801600896

Status : Answered

Chosen Option : 2

Q.17 कुछ प्राकृत संख्याओं का औसत 27 है। यदि पहली संख्या में 69 जोड़ दिया जाए तथा अंतिम संख्या में से 12 घटा दिया जाए तो औसत 32.7 हो जाता है। तो प्राकृत संख्याओं की संख्या ज्ञात करें।

Ans  1. 8

2. 5

3. 10

4. 7

Question Type : MCQ

Question ID : 630680402490

Option 1 ID : 6306801569520

Option 2 ID : 6306801569522

Option 3 ID : 6306801569519

Option 4 ID : 6306801569521

Status : Answered

Chosen Option : 2

Q.18 दो साइकिल सवार एक ही स्थान से विपरीत दिशाओं में एक वृत्ताकार पथ पर 7 m/sec और 8 m/sec की चाल से चलना शुरू करते हैं। यदि वृत्त की परिधि 300 m है, तो वे कितने समय में पहली बार मिलेंगे?

Ans  1. 24 sec

2. 12 sec

3. 20 sec

4. 30 sec

Question Type : MCQ

Question ID : 630680195782

Option 1 ID : 630680759580

Option 2 ID : 630680759579

Option 3 ID : 630680759582

Option 4 ID : 630680759581

Status : Answered

Chosen Option : 1

Q.19 58 kg, 38 kg, 45 kg, 34 kg और 55 kg वजन वाले पांच व्यक्ति हैं। उन व्यक्तियों का औसत वजन (kg में) कितना है, जिनका वजन पांच व्यक्तियों के औसत वजन से कम है?

Ans  1. 41

2. 43

3. 39

4. 37

Question Type : MCQ

Question ID : 630680422189

Option 1 ID : 6306801647194

Option 2 ID : 6306801647195

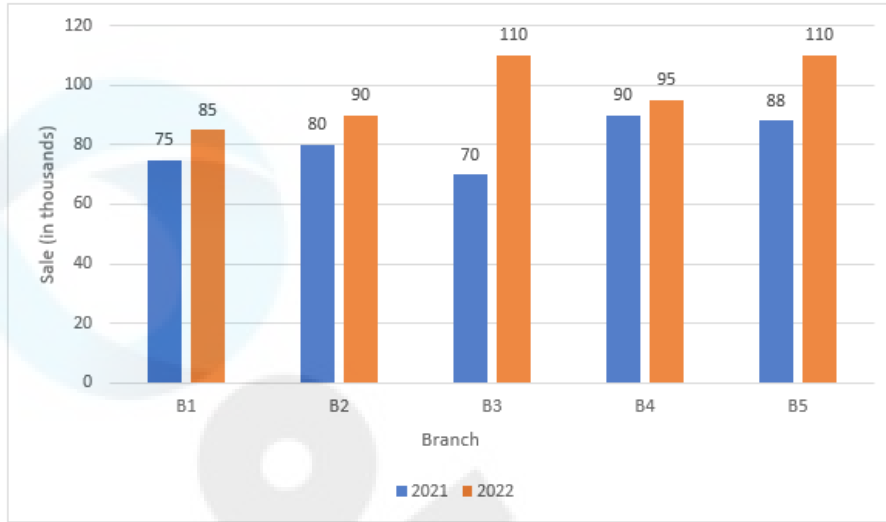
Option 3 ID : 6306801647193

Option 4 ID : 6306801647192

Status : Answered

Chosen Option : 2

Q.20 नीचे दिया गया बार ग्राफ दो क्रमागत वर्षों, 2021 और 2022 में एक निर्माता की पांच शाखाओं से खिलौनों की बिक्री (हजारों में) को दर्शाता है।



संदर्भ: Sale (in thousands) - बिक्री (हजार में), Branch - शाखा

दोनों वर्षों में शाखा B4 की कुल बिक्री, दोनों वर्षों में शाखा B2 की कुल बिक्री का कितना प्रतिशत है? (दशमलव के दो स्थानों तक)

Ans ✓ 1. 108.82%

✗ 2. 116.47%

✗ 3. 85.85%

✗ 4. 91.89%

Question Type : MCQ

Question ID : 630680815893

Option 1 ID : 6306803196907

Option 2 ID : 6306803196905

Option 3 ID : 6306803196906

Option 4 ID : 6306803196908

Status : Answered

Chosen Option : 1

Section : Reasoning Ability and Problem Solving

Q.1 छह लड़के A, B, C, D, E और F एक वृत्ताकार मेज के चारों ओर केंद्र की ओर मुख करके बैठे हैं (परंतु जरूरी नहीं कि वे इसी क्रम में बैठे हों)। B के दाएँ या बाएँ से गिनती करने पर B और F के बीच में दो लड़के बैठे हैं। A के दाएँ से गिनती करने पर A और B के बीच में एक लड़का बैठा है। E, A के बाएँ से दूसरे स्थान पर बैठा है। D, C के बाएँ से दूसरे स्थान पर बैठा है।

निम्नलिखित में से कौन-सा/कौन-से कथन सत्य नहीं है/हैं?

- I. A, D का निकटतम पड़ोसी है।  
II. C, F का निकटतम पड़ोसी है।

- Ans  1. केवल II  
 2. न तो I और न ही II  
 3. केवल I  
 4. I और II दोनों

Question Type : MCQ  
Question ID : 630680387798  
Option 1 ID : 6306801511827  
Option 2 ID : 6306801511829  
Option 3 ID : 6306801511826  
Option 4 ID : 6306801511828  
Status : Answered  
Chosen Option : 3

Q.2 एक निश्चित कूट भाषा में 'will you go' को 'ht dt gt' लिखा जाता है और 'you can go' को 'gt st dt' लिखा जाता है। दी गई कूट भाषा में 'can' को कैसे लिखा जाएगा?

- Ans  1. gt  
 2. st  
 3. dt  
 4. ht

Question Type : MCQ  
Question ID : 630680465152  
Option 1 ID : 6306801816646  
Option 2 ID : 6306801816643  
Option 3 ID : 6306801816644  
Option 4 ID : 6306801816645  
Status : Answered  
Chosen Option : 2

Q.3 HOJF अंग्रेजी वर्णानुक्रम के आधार पर एक निश्चित प्रकार से IPKG से संबंधित है। उसी प्रकार, KRMI, LSNJ से संबंधित है। समान तर्क का अनुसरण करते हुए MTOK निम्नलिखित में से किससे संबंधित है?

- Ans  1. UNPL  
 2. UNLP  
 3. NUPL  
 4. NULP

Question Type : MCQ  
Question ID : 630680441609  
Option 1 ID : 6306801724056  
Option 2 ID : 6306801724057  
Option 3 ID : 6306801724054  
Option 4 ID : 6306801724055  
Status : Answered  
Chosen Option : 3

Q.4 एक निश्चित कूट भाषा में, 'does she hear' को 'mt sp dt' के रूप में लिखा जाता है और 'hear the music' को 'rb mt ch' के रूप में लिखा जाता है। उस भाषा में 'hear' के लिए कूट क्या है?

Ans  1. mt

2. sp

3. rb

4. ch

Question Type : MCQ

Question ID : 630680379157

Option 1 ID : 6306801477678

Option 2 ID : 6306801477675

Option 3 ID : 6306801477676

Option 4 ID : 6306801477677

Status : Answered

Chosen Option : 1

Q.5 15, किसी निश्चित तर्क का अनुसरण करते हुए 92 से संबंधित है। 18, समान तर्क का अनुसरण करते हुए 110 से संबंधित है। समान तर्क का अनुसरण करते हुए 7, निम्नलिखित में से किससे संबंधित है?

(ध्यान दें: संख्याओं को उनके घटक अंकों में अलग-अलग किए बिना पूर्ण संख्याओं पर संक्रियाएं की जानी चाहिए। उदाहरण के लिए संख्या 13 - संख्या 13 पर संक्रियाएं जैसे 13 को जोड़ना/घटाना/गुणा करना आदि किया जा सकता है। 13 को 1 और 3 में अलग-अलग करने की और फिर 1 और 3 पर गणितीय संक्रियाएं करने की अनुमति नहीं है।)

Ans  1. 56

2. 76

3. 67

4. 44

Question Type : MCQ

Question ID : 630680450177

Option 1 ID : 6306801757856

Option 2 ID : 6306801757857

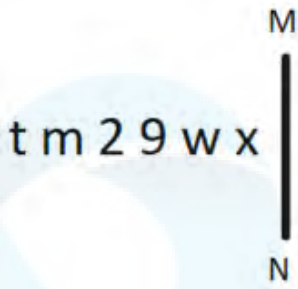
Option 3 ID : 6306801757855

Option 4 ID : 6306801757858

Status : Answered

Chosen Option : 2

Q.6 दी गई आकृति के उस सही दर्पण प्रतिबिंब को चुनिए, जो नीचे दर्शाए गए अनुसार दर्पण को MN पर रखने पर बनेगा।



- Ans
- 1. x m e 2 m t
  - 2. x w 2 9 m t
  - 3. x w e s w t
  - 4. x w e s m t

Question Type : MCQ

Question ID : 630680525254

Option 1 ID : 6306802053103

Option 2 ID : 6306802053102

Option 3 ID : 6306802053100

Option 4 ID : 6306802053101

Status : Answered

Chosen Option : 4

Q.7 अंग्रेजी वर्णानुक्रम के आधार पर दी गई श्रृंखला में प्रश्न चिह्न (?) के स्थान पर क्या आना चाहिए?

DXZ, HTV, LPR, PLN, ?

- Ans
- 1. THK
  - 2. THJ
  - 3. SHK
  - 4. SHJ

Question Type : MCQ

Question ID : 630680459272

Option 1 ID : 6306801793942

Option 2 ID : 6306801793941

Option 3 ID : 6306801793944

Option 4 ID : 6306801793943

Status : Answered

Chosen Option : 2

Q.8 उस समुच्चय का चयन कीजिए जिसमें संख्याएं ठीक उसी प्रकार संबंधित हैं जिस प्रकार दिए गए समुच्चयों की संख्याएं संबंधित हैं।

(ध्यान दें: संख्याओं को उनके घटक अंकों में अलग-अलग किए बिना पूर्ण संख्याओं पर संक्रियाएं की जानी चाहिए। उदाहरण के लिए संख्या 13 - संख्या 13 पर संक्रियाएं जैसे 13 को जोड़ना/घटाना/गुणा करना आदि किया जा सकता है। 13 को 1 और 3 में अलग-अलग करने की और फिर 1 और 3 पर गणितीय संक्रियाएं करने की अनुमति नहीं है।)

(8, 38, 11)

(3, 20, 7)

- Ans
- 1. (4, 14, 2)
  - 2. (3, 20, 5)
  - 3. (2, 52, 32)
  - 4. (1, 26, 12)

Question Type : MCQ

Question ID : 630680404554

Option 1 ID : 6306801590926

Option 2 ID : 6306801577716

Option 3 ID : 6306801577718

Option 4 ID : 6306801577717

Status : Answered

Chosen Option : 2

Q.9 U, V, W, X, Y, Z और A एक वृत्ताकार मेज के चारों ओर केंद्र की ओर मुख करके बैठे हैं (परंतु जरूरी नहीं कि वे इसी क्रम में बैठे हों)।

X के बाईं ओर से गिनने पर X और Y के बीच में केवल तीन व्यक्ति बैठे हैं। U के दाईं ओर से गिनने पर Z और U के बीच में केवल तीन व्यक्ति बैठे हैं। V, Z के ठीक दाईं ओर बैठा है। W, U के साथ-साथ Y का भी निकटतम पड़ोसी है।

A के बाईं ओर से दूसरे स्थान पर कौन बैठा है?

- Ans
- 1. Y
  - 2. Z
  - 3. W
  - 4. U

Question Type : MCQ

Question ID : 630680404834

Option 1 ID : 6306801578828

Option 2 ID : 6306801578827

Option 3 ID : 6306801578829

Option 4 ID : 6306801578830

Status : Answered

Chosen Option : 4

Q.10 यदि '+' और '-' को आपस में बदल दिया जाए तथा 'x' और '÷' को आपस में बदल दिया जाए, तो निम्नलिखित समीकरण में प्रश्न चिह्न (?) के स्थान पर क्या आएगा?  
 $135 \times 5 - 12 \div 11 + 8 = ?$

Ans  1. 121

2. 169

3. 151

4. 136

Question Type : MCQ

Question ID : 630680378701

Option 1 ID : 6306801475851

Option 2 ID : 6306801475853

Option 3 ID : 6306801475852

Option 4 ID : 6306801475854

Status : Answered

Chosen Option : 3

Q.11 यदि '+' और '-' को आपस में बदल दिया जाए तथा 'x' और '÷' को आपस में बदल दिया जाए, तो निम्नलिखित समीकरण में '?' के स्थान पर क्या आएगा?  
 $4 \div 8 \times 2 - 7 + 3 = ?$

Ans  1. 18

2. 15

3. 20

4. 16

Question Type : MCQ

Question ID : 630680271471

Option 1 ID : 6306801054959

Option 2 ID : 6306801054956

Option 3 ID : 6306801054957

Option 4 ID : 6306801054958

Status : Answered

Chosen Option : 3

Q.12 दिए गए कथनों और निष्कर्षों को ध्यानपूर्वक पढ़िए। यह मानते हुए कि कथनों में दी गई जानकारी सत्य है, भले ही यह सामान्यतः ज्ञात तथ्यों से भिन्न प्रतीत होती हो, तय कीजिए कि दिए गए निष्कर्षों में से कौन-सा/से निष्कर्ष कथनों का तार्किक रूप से अनुसरण करता/करते है/हैं।

कथन:

सभी बॉलिंग, बिलियर्ड हैं।  
कुछ बिलियर्ड, शतरंज नहीं हैं।

निष्कर्ष:

[1] सभी शतरंज, बॉलिंग हैं।  
[2] सभी बिलियर्ड, शतरंज हैं।

- Ans
- 1. दोनों निष्कर्ष [1] और [2] अनुसरण करते हैं
  - 2. न तो निष्कर्ष [1] और न ही [2] अनुसरण करता है
  - 3. केवल निष्कर्ष [1] अनुसरण करता है
  - 4. केवल निष्कर्ष [2] अनुसरण करता है

Question Type : MCQ

Question ID : 630680398020

Option 1 ID : 6306801552097

Option 2 ID : 6306801552096

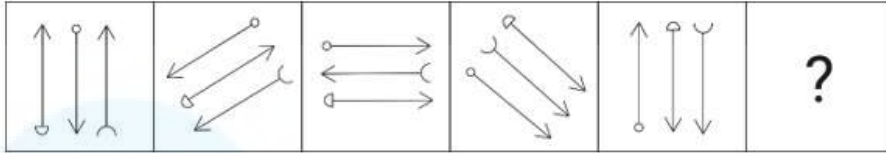
Option 3 ID : 6306801552094

Option 4 ID : 6306801552095

Status : Answered

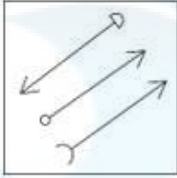
Chosen Option : 2

Q.13 दिए गए विकल्पों में से उस आकृति का चयन कीजिए जो निम्नलिखित श्रृंखला में प्रश्न चिह्न (?) के स्थान पर आ सकती है।

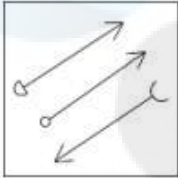


Ans

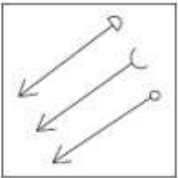
✓ 1.



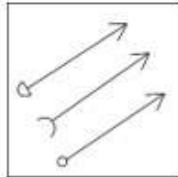
✗ 2.



✗ 3.



✗ 4.



Question Type : MCQ

Question ID : 630680525750

Option 1 ID : 6306802055085

Option 2 ID : 6306802055084

Option 3 ID : 6306802055086

Option 4 ID : 6306802055087

Status : Answered

Chosen Option : 2

Q.14 निम्नलिखित श्रृंखला में प्रश्न चिह्न (?) के स्थान पर क्या आना चाहिए?

4, 10, 28, 82, 244, ?

- Ans  1. 732  
 2. 731  
 3. 730  
 4. 734

Question Type : MCQ

Question ID : 630680396937

Option 1 ID : 6306801547814

Option 2 ID : 6306801547813

Option 3 ID : 6306801547812

Option 4 ID : 6306801547815

Status : Answered

Chosen Option : 2

Q.15 एक निश्चित कूट भाषा में, 'SAND' को '2468' के रूप में कूटबद्ध किया जाता है और 'WEST' को '3574' के रूप में कूटबद्ध किया जाता है। दी गई कूट भाषा में 'S' के लिए कूट क्या है?

- Ans  1. 8  
 2. 2  
 3. 7  
 4. 4

Question Type : MCQ

Question ID : 630680815673

Option 1 ID : 6306803195996

Option 2 ID : 6306803195994

Option 3 ID : 6306803195995

Option 4 ID : 6306803195993

Status : Answered

Chosen Option : 4

Q.16 एक निश्चित कूट भाषा में, 'BOAT' को '5197' के रूप में कूटबद्ध किया जाता है और 'AIRS' को '2418' के रूप में कूटबद्ध किया जाता है। इसी कूट भाषा में 'A' के लिए कूट क्या होगा?

- Ans  1. 1  
 2. 4  
 3. 9  
 4. 2

Question Type : MCQ

Question ID : 630680435786

Option 1 ID : 6306801701057

Option 2 ID : 6306801701059

Option 3 ID : 6306801701060

Option 4 ID : 6306801701058

Status : Answered

Chosen Option : 1

Q.17 दिए गए कथनों और निष्कर्षों को ध्यानपूर्वक पढ़िए। यह मानते हुए कि कथनों में दी गई जानकारी सत्य है, चाहे वह सामान्यतः ज्ञात तथ्यों से भिन्न प्रतीत होती हो और निर्णय लीजिए कि दिए गए निष्कर्षों में से कौन-सा/कौन-से निष्कर्ष कथनों का तार्किक रूप से अनुसरण करता है/करते हैं।

कथन:

कोई शिशु, पुरुष नहीं है।

कोई पुरुष, वयस्क नहीं है।

निष्कर्ष:

(I) कुछ पुरुष, शिशु हैं।

(II) कोई शिशु, वयस्क नहीं है।

- Ans
- 1. केवल निष्कर्ष (II) अनुसरण करता है
  - 2. दोनों निष्कर्ष (I) और (II) अनुसरण करते हैं
  - 3. न तो निष्कर्ष (I) और न ही निष्कर्ष (II) अनुसरण करता है
  - 4. केवल निष्कर्ष (I) अनुसरण करता है

Question Type : MCQ

Question ID : 630680815660

Option 1 ID : 6306803195942

Option 2 ID : 6306803195943

Option 3 ID : 6306803195944

Option 4 ID : 6306803195941

Status : Answered

Chosen Option : 1

Q.18 दिए गए विकल्पों में से उस आकृति को चुनिए जो निम्नलिखित श्रृंखला में प्रश्न चिह्न (?) के स्थान पर आ सकती है और पैटर्न को पूरा कर सकती है।

K	=	5	9	□	K	=	L	□	K	5	=	
L				=			9		L			?
□	9		L	5		5	K		9	□		

Ans

✗ 1.

5	=	K
□		
L	9	

✗ 2.

=	K	5
□		
L	9	

✗ 3.

L	=	□
	K	
5	9	

✓ 4.

L	9	5
	K	
□	=	

Question Type : MCQ

Question ID : 630680441092

Option 1 ID : 6306801722025

Option 2 ID : 6306801722023

Option 3 ID : 6306801722022

Option 4 ID : 6306801722024

Status : Answered

Chosen Option : 3

Q.19 अंग्रेजी वर्णानुक्रम के आधार पर KPMI एक निश्चित प्रकार से LQNJ से संबंधित है। ठीक उसी प्रकार NSPL, OTQM से संबंधित है। समान तर्क का अनुसरण करते हुए, RWTP निम्नलिखित में से किससे संबंधित है?

Ans  1. SXUQ

2. XSQU

3. XSUQ

4. SXQU

Question Type : **MCQ**

Question ID : **630680430658**

Option 1 ID : **6306801680655**

Option 2 ID : **6306801680658**

Option 3 ID : **6306801680657**

Option 4 ID : **6306801680656**

Status : **Answered**

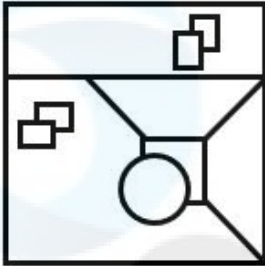
Chosen Option : **1**

Q.20 उस विकल्प का चयन कीजिए जिसमें दी गई आकृति सन्निहित है (घूर्णन की अनुमति नहीं है)।

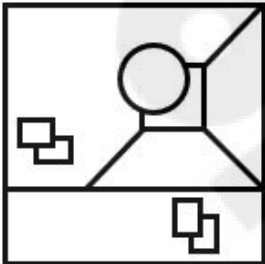


Ans

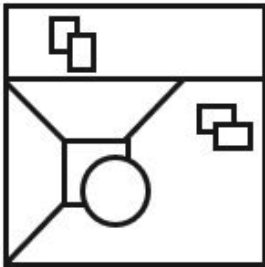
✗ 1.



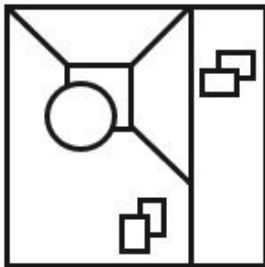
✗ 2.



✓ 3.



✗ 4.



Question Type : MCQ

Question ID : 630680524447

Option 1 ID : 6306802049890

Option 2 ID : 6306802049888

Option 3 ID : 6306802049889

Option 4 ID : 6306802049887

Status : Answered

Chosen Option : 3

Q.1 भारत में पहली बार भारतीय सिविल सेवा परीक्षा (Indian Civil Service Examination) निम्नलिखित में से किस स्थान पर आयोजित की गई थी?

- Ans
- 1. कलकत्ता
  - 2. इलाहाबाद
  - 3. दिल्ली
  - 4. सूरत

Question Type : **MCQ**  
Question ID : **630680275263**  
Option 1 ID : **6306801069566**  
Option 2 ID : **6306801069563**  
Option 3 ID : **6306801069564**  
Option 4 ID : **6306801069565**  
Status : **Answered**  
Chosen Option : 1

Q.2 हीरो आईएसएल (Hero ISL) के किस संस्करण में सुनील छेत्री ने हैट्रिक बनाने वाला पहला भारतीय बनकर इतिहास रचा?

- Ans
- 1. 2016
  - 2. 2013
  - 3. 2015
  - 4. 2014

Question Type : **MCQ**  
Question ID : **630680551476**  
Option 1 ID : **6306802156132**  
Option 2 ID : **6306802156129**  
Option 3 ID : **6306802156131**  
Option 4 ID : **6306802156130**  
Status : **Not Answered**  
Chosen Option : --

Q.3 भारत के संविधान के अनुच्छेद 157 में किसी राज्य के \_\_\_\_\_ की नियुक्ति के लिए आवश्यक योग्यताओं का उल्लेख है।

- Ans
- 1. उच्च न्यायालय के मुख्य न्यायाधीश
  - 2. मुख्यमंत्री
  - 3. चुनाव आयुक्त
  - 4. राज्यपाल

Question Type : **MCQ**  
Question ID : **630680408944**  
Option 1 ID : **6306801594701**  
Option 2 ID : **6306801594699**  
Option 3 ID : **6306801594702**  
Option 4 ID : **6306801594700**  
Status : **Answered**  
Chosen Option : 4

Q.4 हिमाचल प्रदेश के निम्नलिखित सांस्कृतिक उत्सवों में से कौन-सा, हिडिम्बा मंदिर (Hadimba Temple) में बसंत पंचमी के शुभ अवसर पर आयोजित किया जाता है?

- Ans
- 1. मोपिन (Mopin)
  - 2. बिसुआ (Bisua)
  - 3. जीरो (Ziro)
  - 4. डूंगरी (Doongri)

Question Type : MCQ  
Question ID : 630680546736  
Option 1 ID : 6306802137517  
Option 2 ID : 6306802137514  
Option 3 ID : 6306802137515  
Option 4 ID : 6306802137516  
Status : Answered  
Chosen Option : 2

Q.5 'ऐस अगेस्ट ऑड्स (Ace Against Odds)', \_\_\_\_\_ खेलने वाले एक खिलाड़ी की आत्मकथा है।

- Ans
- 1. क्रिकेट
  - 2. निशानेबाजी
  - 3. टेनिस
  - 4. बैडमिंटन

Question Type : MCQ  
Question ID : 630680474194  
Option 1 ID : 6306801852473  
Option 2 ID : 6306801852470  
Option 3 ID : 6306801852471  
Option 4 ID : 6306801852472  
Status : Not Answered  
Chosen Option : --

Q.6 निम्नलिखित में से कौन-सी ट्रायथलन (triathlon) में पहली खेल प्रतिस्पर्धा है?

- Ans
- 1. निशाना लगाना
  - 2. दौड़
  - 3. तैराकी
  - 4. साइकिलिंग

Question Type : MCQ  
Question ID : 63068061633  
Option 1 ID : 630680237853  
Option 2 ID : 630680237851  
Option 3 ID : 630680237852  
Option 4 ID : 630680237850  
Status : Answered  
Chosen Option : 3

Q.7 भारत की जनगणना, 2001 के अनुसार निम्नलिखित में से किस राज्य में बाल लिंगानुपात सबसे कम है?

- Ans
- 1. हिमाचल प्रदेश
  - 2. केरल
  - 3. उत्तराखंड
  - 4. हरियाणा

Question Type : MCQ  
Question ID : 63068080408  
Option 1 ID : 630680311659  
Option 2 ID : 630680311658  
Option 3 ID : 630680311660  
Option 4 ID : 630680311657  
Status : Answered  
Chosen Option : 4

Q.8 नालंदा विश्वविद्यालय के उत्खनित खंडहरों से संकेत मिलता है कि इसके निर्माण में चमकीले/चमकीली लाल \_\_\_\_\_ का उपयोग किया गया था।

- Ans
- 1. संगमरमर
  - 2. ग्रेनाइट
  - 3. पत्थर
  - 4. ईंटें

Question Type : MCQ  
Question ID : 630680618468  
Option 1 ID : 6306802420203  
Option 2 ID : 6306802420204  
Option 3 ID : 6306802420202  
Option 4 ID : 6306802420201  
Status : Answered  
Chosen Option : 3

Q.9 अर्थशास्त्र के लेखक निम्नलिखित में से किस शासक के समकालीन थे?

- Ans
- 1. समुद्रगुप्त
  - 2. चंद्रगुप्त मौर्य
  - 3. अशोक
  - 4. चंद्रगुप्त विक्रमादित्य

Question Type : MCQ  
Question ID : 630680322639  
Option 1 ID : 6306801255199  
Option 2 ID : 6306801255198  
Option 3 ID : 6306801255197  
Option 4 ID : 6306801255200  
Status : Answered  
Chosen Option : 2

Q.10 कौन-सा अकार्बनिक यौगिक ठोस अवस्था अभिक्रिया (solid state reaction) से होकर घूरिया बनाने के लिए जाना जाता है?

- Ans
- 1. अमोनियम फॉस्फेट (Ammonium phosphate)
  - 2. अमोनियम नाइट्रेट (Ammonium nitrate)
  - 3. अमोनियम सायनेट (Ammonium cyanate)
  - 4. अमोनियम एसीटेट (Ammonium acetate)

Question Type : MCQ

Question ID : 630680403013

Option 1 ID : 6306801571625

Option 2 ID : 6306801571626

Option 3 ID : 6306801571623

Option 4 ID : 6306801571624

Status : Answered

Chosen Option : 2

Q.11 निम्नलिखित में से किस वर्ष में 'बाल विवाह निषेध अधिनियम' पारित किया गया था?

- Ans
- 1. 1929
  - 2. 1872
  - 3. 1902
  - 4. 1856

Question Type : MCQ

Question ID : 630680652715

Option 1 ID : 6306802555333

Option 2 ID : 6306802555331

Option 3 ID : 6306802555332

Option 4 ID : 6306802555330

Status : Answered

Chosen Option : 4

Q.12 2011 की जनगणना के अनुसार, निम्नलिखित में से किस राज्य में बाल लिंगानुपात में ऋणात्मक वृद्धि दर्ज की गई?

- Ans
- 1. हरियाणा
  - 2. हिमाचल प्रदेश
  - 3. महाराष्ट्र
  - 4. पंजाब

Question Type : MCQ

Question ID : 630680510918

Option 1 ID : 6306801996803

Option 2 ID : 6306801996804

Option 3 ID : 6306801996805

Option 4 ID : 6306801996802

Status : Answered

Chosen Option : 1

Q.13 शास्त्रीय नृत्य शैली 'कथकली' की उत्पत्ति भारत के निम्नलिखित में से किस राज्य में हुई?

- Ans  1. केरल  
 2. आंध्र प्रदेश  
 3. ओडिशा  
 4. तमिलनाडु

Question Type : MCQ

Question ID : 630680309141

Option 1 ID : 6306801202743

Option 2 ID : 6306801202744

Option 3 ID : 6306801202741

Option 4 ID : 6306801202742

Status : Answered

Chosen Option : 1

Q.14 जनवरी 2023 में, तीन भारतीय मूल के शोधकर्ता, जो उन नौ वैज्ञानिकों में से शामिल थे, जिन्हें यूके (UK) में युवा वैज्ञानिकों के लिए ब्लावाटनिक पुरस्कार (Blavatnik Awards for Young Scientists) के प्राप्तकर्ता के रूप में नामित किया गया था। निम्नलिखित में से कौन उन तीन वैज्ञानिकों में से एक नहीं है?

- Ans  1. मेहुल मलिक (Mehul Malik)  
 2. राहुल आर नायर (Rahul R Nair)  
 3. गगनदीप कंग (Gagandeep Kang)  
 4. तन्मय भारत (Tanmay Bharat)

Question Type : MCQ

Question ID : 630680595835

Option 1 ID : 6306802331529

Option 2 ID : 6306802331528

Option 3 ID : 6306802331531

Option 4 ID : 6306802331530

Status : Answered

Chosen Option : 1

Q.15 हिंदुस्तानी शास्त्रीय गायक कुमार गंधर्व का जन्म कहाँ हुआ था?

- Ans  1. ओडिशा  
 2. कर्नाटक  
 3. त्रिपुरा  
 4. तमिलनाडु

Question Type : MCQ

Question ID : 630680482471

Option 1 ID : 6306801884361

Option 2 ID : 6306801884358

Option 3 ID : 6306801884360

Option 4 ID : 6306801884359

Status : Answered

Chosen Option : 1

Q.16 निम्नलिखित में से किस विद्वान ने कश्मीर के इतिहास का संदर्भ दिया?

- Ans
- 1. बाणभट्ट
  - 2. कालिदास
  - 3. हर्ष
  - 4. कल्हण

Question Type : MCQ  
Question ID : 630680306409  
Option 1 ID : 6306801191973  
Option 2 ID : 6306801191975  
Option 3 ID : 6306801191976  
Option 4 ID : 6306801191974  
Status : Answered  
Chosen Option : 4

Q.17 पद्म श्री प्राप्तकर्ता, शोवना नारायण \_\_\_\_\_ की प्रतिपादक हैं।

- Ans
- 1. कुचिपुड़ी
  - 2. सल्लिया
  - 3. कथक
  - 4. भरतनाट्यम

Question Type : MCQ  
Question ID : 630680323356  
Option 1 ID : 6306801257935  
Option 2 ID : 6306801257936  
Option 3 ID : 6306801257934  
Option 4 ID : 6306801257933  
Status : Answered  
Chosen Option : 3

Q.18 निम्नलिखित में से कौन-सा कारक मृदा निर्माण के लिए मुख्य रूप से उत्तरदायी है?

- Ans
- 1. अपक्षय (Weathering)
  - 2. सिंचाई (Irrigation)
  - 3. अवक्रमण (Degradation)
  - 4. खनन (Mining)

Question Type : MCQ  
Question ID : 630680403361  
Option 1 ID : 6306801572954  
Option 2 ID : 6306801572956  
Option 3 ID : 6306801572957  
Option 4 ID : 6306801572955  
Status : Answered  
Chosen Option : 2

Q.19 जंतुओं में उत्सर्जन तंत्र का प्राथमिक कार्य क्या है?

Ans  1. अपशिष्ट उत्पादों का निष्कासन

2. पाचन

3. श्वसन

4. प्रजनन

Question Type : MCQ

Question ID : 630680540426

Option 1 ID : 6306802112793

Option 2 ID : 6306802112794

Option 3 ID : 6306802112791

Option 4 ID : 6306802112792

Status : Answered

Chosen Option : 1

Q.20 विधि अधिकारी (Legal Officer) की नौकरी के लिए पात्र होने के बावजूद, श्री X को उपरोक्त पद के लिए साक्षात्कार के लिए नहीं बुलाया गया था। श्री X अपने किस अधिकार का प्रयोग करने में असमर्थ थे?

Ans  1. कानून के समक्ष समानता

2. अवसर की समानता

3. शिक्षा का अधिकार

4. गिरफ्तारी से सुरक्षा

Question Type : MCQ

Question ID : 630680587172

Option 1 ID : 6306802297220

Option 2 ID : 6306802297221

Option 3 ID : 6306802297222

Option 4 ID : 6306802297223

Status : Answered

Chosen Option : 2

Q.21 समस्थानिक प्रजाति उद्भव (sympatric speciation) के अनुसार, एक नई प्रजाति का उदय तब होता है जब \_\_\_\_\_ ।

Ans  1. एक ही प्रजाति के जीवों के दो समूह समलक्षणीय रूप से अलग-अलग दिखते हैं

2. एक ही प्रजाति के जीव अलग-अलग व्यवहार संबंधी विशेषताएं दिखाना शुरू कर देते हैं

3. पर्वत निर्माण जैसी भूगर्भीक घटनाओं के कारण एक प्रजाति अलग-अलग समूहों में विभाजित हो जाती है

4. एक ही प्रजाति के दो समूह एक ही भौगोलिक स्थान पर रहने के बावजूद आपस में प्रजनन नहीं कर पाते हैं

Question Type : MCQ

Question ID : 630680452375

Option 1 ID : 6306801766577

Option 2 ID : 6306801766578

Option 3 ID : 6306801766576

Option 4 ID : 6306801766575

Status : Answered

Chosen Option : 2

Q.22 भारत में कृषि के संदर्भ में, 'पेंडा' (penda) शब्द किसे दिया गया नाम है?

- Ans
- 1. कृषि के मौसम
  - 2. रोपण कृषि
  - 3. काट एवं दाह कृषि
  - 4. चाय की खेती

Question Type : MCQ

Question ID : 630680473944

Option 1 ID : 6306801851469

Option 2 ID : 6306801851468

Option 3 ID : 6306801851467

Option 4 ID : 6306801851470

Status : Answered

Chosen Option : 3

Q.23 निम्नलिखित में से कौन-सा सार्वजनिक वस्तुओं (public goods) का एक उदाहरण नहीं है?

- Ans
- 1. हमारे घर के लिए ड्राइववे (Driveway at our home)
  - 2. राष्ट्रीय सुरक्षा (National defence)
  - 3. कानून प्रवर्तन (Law enforcement)
  - 4. स्वच्छ हवा तक पहुंच (Access to clean air)

Question Type : MCQ

Question ID : 630680512425

Option 1 ID : 6306802002670

Option 2 ID : 6306802002671

Option 3 ID : 6306802002672

Option 4 ID : 6306802002673

Status : Answered

Chosen Option : 4

Q.24 पिट्टी पक्षी अभयारण्य (The Pitti Bird Sanctuary), भारत के किस केंद्र शासित प्रदेश/राज्य में स्थित है?

- Ans
- 1. लक्षद्वीप
  - 2. तमिलनाडु
  - 3. अंडमान एवं निकोबार द्वीप समूह
  - 4. मणिपुर

Question Type : MCQ

Question ID : 630680510956

Option 1 ID : 6306801996954

Option 2 ID : 6306801996955

Option 3 ID : 6306801996957

Option 4 ID : 6306801996956

Status : Answered

Chosen Option : 3

Q.25 मई 2023 में, केंद्रीय आवासन और शहरी कार्य मंत्रालय ने अपने स्मार्ट सिटी मिशन की समय सीमा को \_\_\_\_\_ तक बढ़ा दिया है।

- Ans  1. जून 2025  
 2. जून 2024  
 3. जून 2027  
 4. जून 2026

Question Type : MCQ  
Question ID : 630680465533  
Option 1 ID : 6306801818170  
Option 2 ID : 6306801818169  
Option 3 ID : 6306801818168  
Option 4 ID : 6306801818167  
Status : Answered  
Chosen Option : 3

Section : English Language and Comprehension

Q.1 Select the option that can be used as a one-word substitute for the given group of words.

The place where soldiers live

- Ans  1. Barracks  
 2. Unit  
 3. Regiment  
 4. Brigade

Question Type : MCQ  
Question ID : 630680435206  
Option 1 ID : 6306801698746  
Option 2 ID : 6306801698748  
Option 3 ID : 6306801698747  
Option 4 ID : 6306801698749  
Status : Answered  
Chosen Option : 1

Q.2 Select the most appropriate ANTONYM of the word provided in the brackets to fill in the blank.

The painting exhibited a \_\_\_\_\_ blend of colours. (harmonious)

- Ans  1. discordant  
 2. thrilling  
 3. quavering  
 4. polyphonic

Question Type : MCQ  
Question ID : 630680517535  
Option 1 ID : 6306802022536  
Option 2 ID : 6306802022538  
Option 3 ID : 6306802022539  
Option 4 ID : 6306802022537  
Status : Answered  
Chosen Option : 2

Q.3 Select the INCORRECTLY spelt word..

- Ans
- 1. resistance
  - 2. separate
  - 3. weather
  - 4. tendancy

Question Type : MCQ  
Question ID : 6306801106827  
Option 1 ID : 6306804347772  
Option 2 ID : 6306804347773  
Option 3 ID : 6306804347775  
Option 4 ID : 6306804347774  
Status : Answered  
Chosen Option : 4

Q.4 Which of the following sentences contains an adverbial error?

- Ans
- 1. The teacher spoke clear and concise.
  - 2. He sang beautifully at the talent show.
  - 3. They danced gracefully across the stage.
  - 4. She writes slowly and steadily.

Question Type : MCQ  
Question ID : 630680733520  
Option 1 ID : 6306802874930  
Option 2 ID : 6306802874927  
Option 3 ID : 6306802874929  
Option 4 ID : 6306802874928  
Status : Answered  
Chosen Option : 3

Q.5 Select the most appropriate option to fill in the blank.

The Chinese government has accepted slower economic development as the 'new normal', recognising the need for China to adopt a new growth model that depends less on fixed investment and exports and more on private consumption, services, and innovation to \_\_\_\_\_ economic growth.

- Ans
- 1. exhale
  - 2. drive
  - 3. bridle
  - 4. success

Question Type : MCQ  
Question ID : 630680515262  
Option 1 ID : 6306802013515  
Option 2 ID : 6306802013514  
Option 3 ID : 6306802013513  
Option 4 ID : 6306802013516  
Status : Answered  
Chosen Option : 1

**Q.6** Select the word that has the same meaning (SYNONYM) as the underlined word in the given sentence.

The teacher made judicious use of technology to explain a sensitive topic.

- Ans  1. judgmental  
 2. prominent  
 3. prudent  
 4. difficult

Question Type : **MCQ**

Question ID : **630680446661**

Option 1 ID : **6306801743946**

Option 2 ID : **6306801743948**

Option 3 ID : **6306801743949**

Option 4 ID : **6306801743947**

Status : **Answered**

Chosen Option : **2**

**Q.7** Select the most appropriate synonym of the word in bold in the given sentence.  
It is **universally** acknowledged that trees are indispensable to us.

- Ans  1. Essential  
 2. Unusual  
 3. Fierce  
 4. Rational

Question Type : **MCQ**

Question ID : **630680397589**

Option 1 ID : **6306801550279**

Option 2 ID : **6306801550278**

Option 3 ID : **6306801550277**

Option 4 ID : **6306801550280**

Status : **Not Answered**

Chosen Option : **--**

**Q.8** Select the most appropriate option to fill in the blank.  
David decided to \_\_\_\_\_ his old boat to get a new one.

- Ans  1. sale  
 2. sell  
 3. ceil  
 4. cell

Question Type : **MCQ**

Question ID : **630680459190**

Option 1 ID : **6306801793614**

Option 2 ID : **6306801793616**

Option 3 ID : **6306801793615**

Option 4 ID : **6306801793613**

Status : **Answered**

Chosen Option : **1**

**Q.9 Select the INCORRECTLY spelt word.**

- Ans  1. Amendment  
 2. Incurigible  
 3. Exhilerate  
 4. Mischievous

Question Type : **MCQ**  
Question ID : **630680547202**  
Option 1 ID : **6306802139372**  
Option 2 ID : **6306802139373**  
Option 3 ID : **6306802139371**  
Option 4 ID : **6306802139374**  
Status : **Answered**  
Chosen Option : **3**

**Q.10 Select the correct option of the given sentence.**

**Smt. Savithri is wisest than all others in the group.**

- Ans  1. Smt. Savithri is wise than all others in the group.  
 2. Smt. Savithri is the wiser than all others in the group.  
 3. Smt. Savithri is wiser than all others in the group.  
 4. Smt. Savithri is the wise than all others in the group.

Question Type : **MCQ**  
Question ID : **630680514568**  
Option 1 ID : **6306802010899**  
Option 2 ID : **6306802010897**  
Option 3 ID : **6306802010898**  
Option 4 ID : **6306802010900**  
Status : **Answered**  
Chosen Option : **3**

**Q.11 Read the following sentence and select its future tense form from the options given below:**

**Ramya finished her dissertation early.**

- Ans  1. Ramya is finishing her dissertation early.  
 2. Ramya will finish her dissertation early.  
 3. Ramya had finished her dissertation early.  
 4. Ramya has finished her dissertation early.

Question Type : **MCQ**  
Question ID : **630680726463**  
Option 1 ID : **6306802846861**  
Option 2 ID : **6306802846860**  
Option 3 ID : **6306802846858**  
Option 4 ID : **6306802846859**  
Status : **Answered**  
Chosen Option : **2**

**Q.12** Select the appropriate meaning of the given idiom.  
At the drop of a hat

- Ans  1. Crying without any reason  
 2. Willingness to do something instantly  
 3. Reveal a secret carelessly  
 4. Become easily frightened

Question Type : **MCQ**  
Question ID : **630680411087**  
Option 1 ID : **6306801603103**  
Option 2 ID : **6306801603100**  
Option 3 ID : **6306801603101**  
Option 4 ID : **6306801603102**  
Status : **Answered**  
Chosen Option : **4**

**Q.13** Select the most appropriate option that can substitute the underlined segment in the given sentence.

He possesses one of the slimmer handsets in the world.

- Ans  1. slimmest  
 2. most slim  
 3. slim  
 4. most slimmest

Question Type : **MCQ**  
Question ID : **630680514592**  
Option 1 ID : **6306802010995**  
Option 2 ID : **6306802010994**  
Option 3 ID : **6306802010993**  
Option 4 ID : **6306802010996**  
Status : **Answered**  
Chosen Option : **4**

**Q.14** Select the most appropriate option to substitute the underlined segment in the given sentence.

The branches of the tree is very long.

- Ans  1. are  
 2. had  
 3. has  
 4. was

Question Type : **MCQ**  
Question ID : **630680552173**  
Option 1 ID : **6306802158877**  
Option 2 ID : **6306802158880**  
Option 3 ID : **6306802158879**  
Option 4 ID : **6306802158878**  
Status : **Answered**  
Chosen Option : **4**

**Q.15** Select the most appropriate option to fill in the blank.  
Due to \_\_\_\_\_ 'eve teasing', parents conclude that it is not worth the danger of sending their daughters to school.

- Ans  1. narrow  
 2. localised  
 3. widespread  
 4. rectified

Question Type : **MCQ**  
Question ID : **630680515257**  
Option 1 ID : **6306802013493**  
Option 2 ID : **6306802013495**  
Option 3 ID : **6306802013496**  
Option 4 ID : **6306802013494**  
Status : **Answered**  
Chosen Option : **2**

**Q.16** select the most appropriate option to fill in the blank to complete the idiom and make the sentence meaningful.  
During the interview, the candidate was challenged to provide chapter and \_\_\_\_\_ on his proposed plan.

- Ans  1. verse  
 2. page  
 3. lines  
 4. cover

Question Type : **MCQ**  
Question ID : **6306801106848**  
Option 1 ID : **6306804347857**  
Option 2 ID : **6306804347858**  
Option 3 ID : **6306804347859**  
Option 4 ID : **6306804347856**  
Status : **Not Answered**  
Chosen Option : **--**

**Q.17** Select the **INCORRECTLY** spelt word.

- Ans  1. Excellent  
 2. Celibrate  
 3. Abandoned  
 4. Dangerous

Question Type : **MCQ**  
Question ID : **630680550036**  
Option 1 ID : **6306802150407**  
Option 2 ID : **6306802150406**  
Option 3 ID : **6306802150405**  
Option 4 ID : **6306802150408**  
Status : **Answered**  
Chosen Option : **3**

Q.18 Select the most appropriate option to fill in the blank.

The teacher asked the students to stay \_\_\_\_\_ during the exam.

Ans  1. quote

2. quiet

3. quite

4. quit

Question Type : MCQ

Question ID : 630680435721

Option 1 ID : 6306801700808

Option 2 ID : 6306801700806

Option 3 ID : 6306801700805

Option 4 ID : 6306801700807

Status : Answered

Chosen Option : 3

Q.19 Select the option that will improve the underlined part of the given sentence. In case no improvement is needed, select 'No improvement required'.

He received the best employee award because he was the more hardworking.

Ans  1. the hardworking

2. most hardworking

3. hardworking

4. No improvement required

Question Type : MCQ

Question ID : 6306801046640

Option 1 ID : 6306804108687

Option 2 ID : 6306804108685

Option 3 ID : 6306804108686

Option 4 ID : 6306804108688

Status : Answered

Chosen Option : 2

Q.20 In the following sentence the underlined part contains an error. Alternatives to the underlined part are given as options.

Select the correct alternative.

Yesterday was the worse day of my life.

Ans  1. worst

2. most bad

3. bad

4. ill

Question Type : MCQ

Question ID : 630680514705

Option 1 ID : 6306802011447

Option 2 ID : 6306802011448

Option 3 ID : 6306802011445

Option 4 ID : 6306802011446

Status : Answered

Chosen Option : 1

**Comprehension:**

In the following passage, some words have been deleted. Read the passage carefully and select the most appropriate option to fill in each blank.

It is the mad (1)\_\_\_\_\_ for speed that is responsible for many motor accidents. Only last year, I (2)\_\_\_\_\_ what might have been a (3)\_\_\_\_\_ accident on Kashmir Road. I was motoring down (4)\_\_\_\_\_ Srinagar; and as I was nearing Kohala, I came upon the (5)\_\_\_\_\_ of two cars on the road.

**SubQuestion No : 21**

**Q.21 Select the most appropriate option to fill in blank number 1.**

- Ans  1. craze  
 2. block  
 3. luck  
 4. boredom

Question Type : **MCQ**

Question ID : **630680192312**

Option 1 ID : **630680745845**

Option 2 ID : **630680745848**

Option 3 ID : **630680745847**

Option 4 ID : **630680745846**

Status : **Answered**

Chosen Option : **2**

**Comprehension:**

In the following passage, some words have been deleted. Read the passage carefully and select the most appropriate option to fill in each blank.

It is the mad (1)\_\_\_\_\_ for speed that is responsible for many motor accidents. Only last year, I (2)\_\_\_\_\_ what might have been a (3)\_\_\_\_\_ accident on Kashmir Road. I was motoring down (4)\_\_\_\_\_ Srinagar; and as I was nearing Kohala, I came upon the (5)\_\_\_\_\_ of two cars on the road.

**SubQuestion No : 22**

**Q.22 Select the most appropriate option to fill in blank number 2.**

- Ans  1. argued  
 2. checked  
 3. anticipated  
 4. witnessed

Question Type : **MCQ**

Question ID : **630680192313**

Option 1 ID : **630680745852**

Option 2 ID : **630680745851**

Option 3 ID : **630680745849**

Option 4 ID : **630680745850**

Status : **Answered**

Chosen Option : **4**

**Comprehension:**

In the following passage, some words have been deleted. Read the passage carefully and select the most appropriate option to fill in each blank.

It is the mad (1)\_\_\_\_\_ for speed that is responsible for many motor accidents. Only last year, I (2)\_\_\_\_\_ what might have been a (3)\_\_\_\_\_ accident on Kashmir Road. I was motoring down (4)\_\_\_\_\_ Srinagar; and as I was nearing Kohala, I came upon the (5)\_\_\_\_\_ of two cars on the road.

**SubQuestion No : 23**

**Q.23 Select the most appropriate option to fill in blank number 3.**

- Ans
- 1. wonderful
  - 2. happening
  - 3. fatal
  - 4. harmless

Question Type : **MCQ**

Question ID : **630680192314**

Option 1 ID : **630680745856**

Option 2 ID : **630680745853**

Option 3 ID : **630680745855**

Option 4 ID : **630680745854**

Status : **Answered**

Chosen Option : **3**

**Comprehension:**

In the following passage, some words have been deleted. Read the passage carefully and select the most appropriate option to fill in each blank.

It is the mad (1)\_\_\_\_\_ for speed that is responsible for many motor accidents. Only last year, I (2)\_\_\_\_\_ what might have been a (3)\_\_\_\_\_ accident on Kashmir Road. I was motoring down (4)\_\_\_\_\_ Srinagar; and as I was nearing Kohala, I came upon the (5)\_\_\_\_\_ of two cars on the road.

**SubQuestion No : 24**

**Q.24 Select the most appropriate option to fill in blank number 4.**

- Ans
- 1. on
  - 2. since
  - 3. besides
  - 4. from

Question Type : **MCQ**

Question ID : **630680192315**

Option 1 ID : **630680745858**

Option 2 ID : **630680745859**

Option 3 ID : **630680745857**

Option 4 ID : **630680745860**

Status : **Answered**

Chosen Option : **2**

**Comprehension:**

In the following passage, some words have been deleted. Read the passage carefully and select the most appropriate option to fill in each blank.

It is the mad (1)\_\_\_\_\_ for speed that is responsible for many motor accidents. Only last year, I (2)\_\_\_\_\_ what might have been a (3)\_\_\_\_\_ accident on Kashmir Road. I was motoring down (4)\_\_\_\_\_ Srinagar; and as I was nearing Kohala, I came upon the (5)\_\_\_\_\_ of two cars on the road.

**SubQuestion No : 25**

**Q.25 Select the most appropriate option to fill in blank number 5.**

- Ans  1. clatter  
 2. collision  
 3. cluster  
 4. pile

Question Type : **MCQ**

Question ID : **630680192316**

Option 1 ID : **630680745862**

Option 2 ID : **630680745863**

Option 3 ID : **630680745864**

Option 4 ID : **630680745861**

Status : **Not Answered**

Chosen Option : --