

Multi Tasking Non Technical Staff and Havaladar CBIC and CBN Examination 2024

Roll Number	
Candidate Name	
Venue Name	Examit Infotech Private Limited
Exam Date	18/10/2024
Exam Time	12:30 PM - 2:30 PM
Subject	MTS Non Tech Havaladar CBIC and CBN Examination 2024

Section : Numerical and Mathematical Ability

Q.1 36 और 84 का महत्तम समापवर्तक (HCF) ज्ञात करें।

- Ans
- 1. 18
 - 2. 6
 - 3. 4
 - 4. 12

Question Type : MCQ

Question ID : 63068070921

Option 1 ID : 630680274297

Option 2 ID : 630680274295

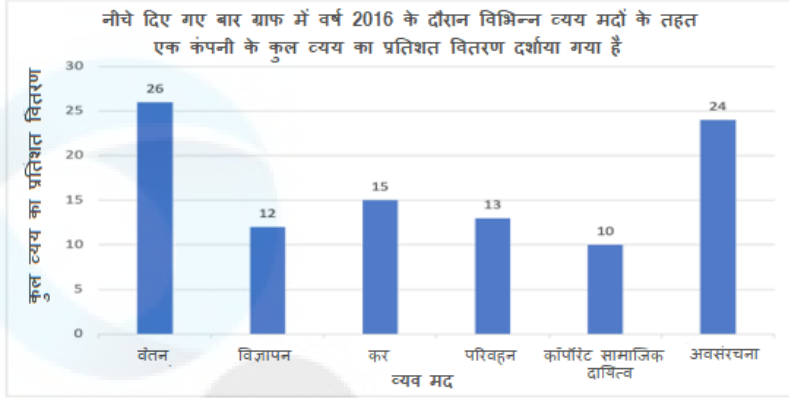
Option 3 ID : 630680274294

Option 4 ID : 630680274296

Status : Answered

Chosen Option : 4

Q.2 नीचे दिए गए बार ग्राफ में वर्ष 2016 के दौरान विभिन्न व्यय मदों के तहत एक कंपनी के कुल व्यय का प्रतिशत वितरण दर्शाया गया है।



यदि विज्ञापन पर किया गया व्यय ₹ 3.6 करोड़ है, तो वेतन पर किए गए व्यय और कॉर्पोरेट सामाजिक दायित्व पर किए गए व्यय के बीच कितना अंतर (₹ करोड़ में) है?

- Ans
- 1. 3
 - 2. 4.4
 - 3. 4.8
 - 4. 3.7

Question Type : MCQ

Question ID : 630680523713

Option 1 ID : 6306802047004

Option 2 ID : 6306802047006

Option 3 ID : 6306802047003

Option 4 ID : 6306802047005

Status : Not Answered

Chosen Option : --

Q.3 P ने एक वस्तु Q को 11% लाभ पर बेची और Q ने इसे R को 11% हानि पर बेची। यदि R ने इसके लिए ₹19,758 का भुगतान किया, तो P द्वारा वह वस्तु किस कीमत (₹ में) पर खरीदी गई थी?

- Ans
- 1. 19,500
 - 2. 22,500
 - 3. 19,750
 - 4. 20,000

Question Type : MCQ

Question ID : 630680468519

Option 1 ID : 6306801829877

Option 2 ID : 6306801829878

Option 3 ID : 6306801829876

Option 4 ID : 6306801829875

Status : Not Answered

Chosen Option : --

Q.4 ₹4,200 की राशि पर 3 वर्ष के अंत में प्राप्त होने वाला साधारण ब्याज ₹756 है। समान दर पर समान अवधि के लिए ₹5,400 पर प्राप्त होने वाला साधारण ब्याज (₹ में) कितना होगा?

- Ans 1. 980
 2. 987
 3. 998
 4. 972

Question Type : MCQ

Question ID : 630680402925

Option 1 ID : 6306801571284

Option 2 ID : 6306801571285

Option 3 ID : 6306801571286

Option 4 ID : 6306801571283

Status : Not Answered

Chosen Option : --

Q.5 A और B, 1200 m के एक वृत्ताकार ट्रैक के चारों ओर एक ही दिशा में क्रमशः 8 m/s और 12 m/s की चाल से एक साथ दौड़ना आरम्भ करते हैं। A और B प्रारंभिक बिंदु पर पहली बार _____ बाद मिलेंगे।

- Ans 1. 150 s
 2. 300 s
 3. 80 s
 4. 100 s

Question Type : MCQ

Question ID : 63068070801

Option 1 ID : 630680273821

Option 2 ID : 630680273820

Option 3 ID : 630680273818

Option 4 ID : 630680273819

Status : Not Answered

Chosen Option : --

Q.6 एक आइसक्रीम कोन की धारिता 66 cm^3 है। इसके आधार की त्रिज्या (cm में) क्या होगी, यदि इसकी ऊंचाई 7 cm है ($\pi = \frac{22}{7}$ का उपयोग करें)?

- Ans 1. 3.5
 2. 3
 3. 7
 4. 6

Question Type : MCQ

Question ID : 630680395104

Option 1 ID : 6306801540686

Option 2 ID : 6306801540687

Option 3 ID : 6306801540684

Option 4 ID : 6306801540685

Status : Not Answered

Chosen Option : --

Q.7 लेड के 4.2 m लंबे एक पाइप का बाहरी व्यास 5.4 cm है और पाइप की मोटाई 3 mm है। यदि 1 cm³ लेड का द्रव्यमान 25 ग्राम है, तो पाइप का भार ज्ञात कीजिए। ($\pi = \frac{22}{7}$ का उपयोग कीजिए)

- Ans
- 1. 54.90 kg
 - 2. 50.49 kg
 - 3. 59.40 kg
 - 4. 45.09 kg

Question Type : MCQ

Question ID : 630680384008

Option 1 ID : 6306801496929

Option 2 ID : 6306801496928

Option 3 ID : 6306801496930

Option 4 ID : 6306801496927

Status : Not Answered

Chosen Option : --

Q.8 आनंद 30 cm लंबाई और 7 cm त्रिज्या का एक बेलनाकार कैलाइडोस्कोप बनाना चाहता था। यदि वह इसे बनाने के लिए हस्तनिर्मित शीट का उपयोग कर रहा है, तो इसके लिए कितनी शीट की आवश्यकता होगी?

- Ans
- 1. 660 cm²
 - 2. 1320 cm²
 - 3. 1520 cm²
 - 4. 1440 cm²

Question Type : MCQ

Question ID : 63068076130

Option 1 ID : 630680294628

Option 2 ID : 630680294627

Option 3 ID : 630680294625

Option 4 ID : 630680294626

Status : Not Answered

Chosen Option : --

Q.9 एक विद्यालय के खेल शिविर में, 200 विद्यार्थियों के लिए 30 दिनों के भोजन की व्यवस्था है। यदि पहले ही दिन 50 और व्यक्ति खेल शिविर में शामिल हो जाते हैं, तो भोजन कितने दिनों तक चलेगा?

- Ans
- 1. 24
 - 2. 22
 - 3. 26
 - 4. 20

Question Type : MCQ

Question ID : 630680570076

Option 1 ID : 6306802229173

Option 2 ID : 6306802229172

Option 3 ID : 6306802229174

Option 4 ID : 6306802229171

Status : Not Answered

Chosen Option : --

Q.10 A एक वस्तु B को 40% लाभ पर बेचता है और B इसे C को 15% लाभ पर बेचता है। यदि C वस्तु के लिए ₹4,914 का भुगतान करता है, तो A इसके लिए कितना (₹ में, निकटतम पूर्णांक तक पूर्णांकित) भुगतान करता है?

Ans 1. 2,576

2. 3,052

3. 3,250

4. 3,520

Question Type : MCQ

Question ID : 630680544081

Option 1 ID : 6306802127105

Option 2 ID : 6306802127104

Option 3 ID : 6306802127103

Option 4 ID : 6306802127102

Status : Not Answered

Chosen Option : --

Q.11 एक चोर एक सीधी सड़क पर 28 मीटर/सेकेंड की चाल से बाइक चलाते हुए भाग रहा है। एक पुलिसकर्मी 30 मीटर/सेकेंड की चाल से एक कार को चलाते हुए उसका पीछा करता है। यदि कार से बाइक की तात्कालिक दूरी (instantaneous separation) 400 मीटर है, तो पुलिसकर्मी को चोर को पकड़ने में कितना समय लगेगा?

Ans 1. 100 सेकेंड

2. 300 सेकेंड

3. 150 सेकेंड

4. 200 सेकेंड

Question Type : MCQ

Question ID : 630680263610

Option 1 ID : 6306801024079

Option 2 ID : 6306801024081

Option 3 ID : 6306801024082

Option 4 ID : 6306801024080

Status : Not Answered

Chosen Option : --

Q.12 एक दुकानदार एक ऑफर देता है - तीन खरीदो, एक मुफ्त पाओ; इस योजना में दुकानदार द्वारा कितने प्रतिशत की छूट दी जा रही है?

Ans 1. 33.33%

2. 30%

3. 25%

4. 20%

Question Type : MCQ

Question ID : 630680458069

Option 1 ID : 6306801789162

Option 2 ID : 6306801789163

Option 3 ID : 6306801789161

Option 4 ID : 6306801789160

Status : Not Answered

Chosen Option : --

Q.13 एक चुनाव में दो प्रत्याशियों भारती और मान्या को 750 मत मिले। भारती ने मान्या को 16% मतों से हराया। यदि कोई भी अवैध मत नहीं डाला गया था, तो मान्या को कितने मत मिले?

Ans 1. 315

2. 120

3. 335

4. 430

Question Type : MCQ

Question ID : 630680464517

Option 1 ID : 6306801814104

Option 2 ID : 6306801814103

Option 3 ID : 6306801814106

Option 4 ID : 6306801814105

Status : Not Answered

Chosen Option : --

Q.14 दी गई तालिका का ध्यानपूर्वक अध्ययन करें और पूछे गए प्रश्न का उत्तर दें।
दी गई तालिका विभिन्न कॉलेजों (A, B, C और D) में एक पाठ्यक्रम के लिए आवेदन करने वाले अभ्यर्थियों की संख्या और महिला अभ्यर्थियों का प्रतिशत दर्शाती है।

कॉलेज	पाठ्यक्रम के लिए आवेदन करने वाले अभ्यर्थियों की संख्या	पाठ्यक्रम के लिए आवेदन करने वाली महिला अभ्यर्थियों का प्रतिशत
A	540	30
B	360	50
C	684	80
D	724	50

कॉलेज A में आवेदन करने वाले पुरुष और महिला अभ्यर्थियों की संख्या के बीच अंतर ज्ञात कीजिए।

Ans 1. 216

2. 265

3. 162

4. 378

Question Type : MCQ

Question ID : 630680523836

Option 1 ID : 6306802047496

Option 2 ID : 6306802047498

Option 3 ID : 6306802047497

Option 4 ID : 6306802047495

Status : Answered

Chosen Option : 1

Q.15 एक शेफ के पास अम्ल और पानी के मिश्रण के दो कैन हैं। वह दोनों कैन की सामग्री को एक बीकर में मिला देता है। परिणामी मिश्रण में आधा पानी और आधा अम्ल है। उसने कैन 1 और कैन 2 की सामग्री को किस मात्रा में मिलाया, यदि कैन 2 में अम्ल-और-पानी का अनुपात 2 : 3 है और कैन 1 में अम्ल-और-पानी का अनुपात 5 : 3 है?

- Ans 1. 3 : 7
 2. 2 : 3
 3. 4 : 7
 4. 4 : 5

Question Type : MCQ

Question ID : 630680454419

Option 1 ID : 6306801774578

Option 2 ID : 6306801774577

Option 3 ID : 6306801774580

Option 4 ID : 6306801774579

Status : Not Answered

Chosen Option : --

Q.16 40 kg, 49 kg, 56 kg, 72 kg और 36 kg वजन के पांच सदस्यों वाले परिवार का औसत वजन (kg में) ज्ञात कीजिए।

- Ans 1. 49.6
 2. 50.6
 3. 52.6
 4. 51.6

Question Type : MCQ

Question ID : 630680551665

Option 1 ID : 6306802156887

Option 2 ID : 6306802156885

Option 3 ID : 6306802156888

Option 4 ID : 6306802156886

Status : Not Answered

Chosen Option : --

Q.17 6 वर्षों के लिए 3% प्रति वर्ष की ब्याज दर पर उधार ली गई राशि ₹3000 पर साधारण ब्याज (₹ में) ज्ञात कीजिए।

- Ans 1. 580
 2. 540
 3. 480
 4. 500

Question Type : MCQ

Question ID : 630680591927

Option 1 ID : 6306802316176

Option 2 ID : 6306802316175

Option 3 ID : 6306802316177

Option 4 ID : 6306802316178

Status : Answered

Chosen Option : 2

Q.18 6 वर्षों के लिए 4% प्रति वर्ष की ब्याज दर पर उधार ली गई राशि ₹4000 पर साधारण ब्याज (₹ में) ज्ञात कीजिए।

- Ans
- 1. 1000
 - 2. 900
 - 3. 960
 - 4. 920

Question Type : MCQ
Question ID : 630680592002
Option 1 ID : 6306802316476
Option 2 ID : 6306802316477
Option 3 ID : 6306802316475
Option 4 ID : 6306802316478
Status : Answered
Chosen Option : 3

Q.19 एक कार्यालय में, 22 स्टाफ सदस्यों का औसत वेतन ₹81,400 था। यदि स्टाफ और वाइस चेयरमैन का औसत वेतन ₹89,600 था, तो वाइस चेयरमैन का वेतन (₹ में) कितना है?

- Ans
- 1. 1,97,300
 - 2. 3,00,000
 - 3. 2,17,000
 - 4. 2,70,000

Question Type : MCQ
Question ID : 630680454416
Option 1 ID : 6306801774565
Option 2 ID : 6306801774568
Option 3 ID : 6306801774566
Option 4 ID : 6306801774567
Status : Not Answered
Chosen Option : --

Q.20 एक कक्षा में 30 लड़के और 20 लड़कियाँ हैं। भौतिक विज्ञान में लड़कों के औसत अंक 92 है, जबकि भौतिक विज्ञान में लड़कियों के औसत अंक 83 है। भौतिक विज्ञान में पूरी कक्षा के औसत अंक ज्ञात कीजिए।

- Ans
- 1. 89.3
 - 2. 96.2
 - 3. 92.6
 - 4. 88.4

Question Type : MCQ
Question ID : 630680473429
Option 1 ID : 6306801849413
Option 2 ID : 6306801849411
Option 3 ID : 6306801849412
Option 4 ID : 6306801849414
Status : Not Answered
Chosen Option : --

Q.1 37 एक निश्चित तर्क का अनुसरण करते हुए 89 से संबंधित है। उसी तर्क का अनुसरण करते हुए, 43, 101 से संबंधित है। उसी तर्क का अनुसरण करते हुए, 28 निम्नलिखित में से किससे संबंधित है?

(ध्यान दें: संख्याओं को उनके घटक अंकों में अलग-अलग किए बिना पूर्ण संख्याओं पर संक्रियाएं की जानी चाहिए। उदाहरण के लिए संख्या 13 - संख्या 13 पर संक्रियाएं जैसे 13 को जोड़ना/घटाना/गुणा करना आदि किया जा सकता है। 13 को 1 और 3 में अलग-अलग करने की और फिर 1 और 3 पर गणितीय संक्रियाएं करने की अनुमति नहीं है।)

- Ans
- 1. 55
 - 2. 51
 - 3. 71
 - 4. 78

Question Type : MCQ

Question ID : 630680446758

Option 1 ID : 6306801744323

Option 2 ID : 6306801744322

Option 3 ID : 6306801744324

Option 4 ID : 6306801744325

Status : Answered

Chosen Option : 3

Q.2 किसी निश्चित कूट भाषा में, 'derive the formula' को 'le ro da' लिखा जाता है और 'formula to win' को 'ka wb ro' लिखा जाता है। इसी भाषा में 'formula' को कैसे लिखा जाएगा?

- Ans
- 1. da
 - 2. ro
 - 3. wb
 - 4. le

Question Type : MCQ

Question ID : 630680419479

Option 1 ID : 6306801636565

Option 2 ID : 6306801636566

Option 3 ID : 6306801636567

Option 4 ID : 6306801636564

Status : Answered

Chosen Option : 2

Q.3 उस समुच्चय का चयन कीजिए जिसमें संख्याएं ठीक उसी प्रकार संबंधित हैं जिस प्रकार दिए गए समुच्चयों की संख्याएं संबंधित हैं।

(ध्यान दें: संख्याओं को उनके घटक अंकों में अलग-अलग किए बिना पूर्ण संख्याओं पर संक्रियाएं की जानी चाहिए। उदाहरण के लिए संख्या 13 - संख्या 13 पर संक्रियाएं जैसे 13 को जोड़ना/घटाना/गुणा करना आदि किया जा सकता है। 13 को 1 और 3 में अलग-अलग करने की और फिर 1 और 3 पर गणितीय संक्रियाएं करने की अनुमति नहीं है।)

(4, 9, 26)

(2, 8, 20)

- Ans
- 1. (30, 5, 49)
 - 2. (23, 1, 56)
 - 3. (13, 2, 30)
 - 4. (5, 3, 26)

Question Type : MCQ

Question ID : 630680404789

Option 1 ID : 6306801578666

Option 2 ID : 6306801578665

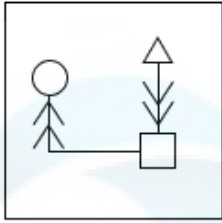
Option 3 ID : 6306801578664

Option 4 ID : 6306801578663

Status : Answered

Chosen Option : 3

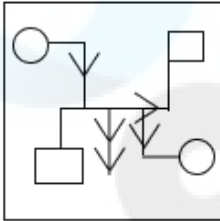
Q.4 उस विकल्प आकृति का चयन कीजिए, जिसमें दी गई आकृति (X) उसके भाग के रूप में सन्निहित है (घूर्णन की अनुमति नहीं है)।



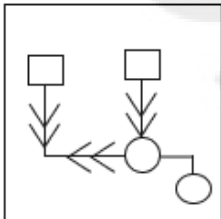
(X)

Ans

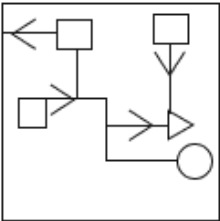
✗ 1.



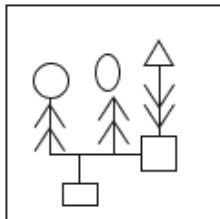
✗ 2.



✗ 3.



✓ 4.



Question Type : MCQ

Question ID : 630680487620

Option 1 ID : 6306801904550

Option 2 ID : 6306801904552

Option 3 ID : 6306801904551

Option 4 ID : 6306801904553

Status : Answered

Chosen Option : 4

Q.5 दिए गए कथनों और निष्कर्षों को ध्यानपूर्वक पढ़िए। यह मानते हुए कि कथनों में दी गई जानकारी सत्य है, चाहे वह सामान्यतः ज्ञात तथ्यों से भिन्न प्रतीत होती हो और निर्णय लीजिए कि दिए गए निष्कर्षों में से कौन-सा/कौन-से निष्कर्ष कथनों का तार्किक रूप से अनुसरण करता है/करते हैं।

कथन:

कुछ बैल, चट्टानें हैं।
कुछ चट्टानें, पत्थर हैं।

निष्कर्ष:

(I): कुछ बैल, पत्थर हैं।
(II): सभी पत्थर, चट्टानें हैं।

- Ans
- 1. केवल निष्कर्ष (II) अनुसरण करता है।
 - 2. निष्कर्ष (I) और (II) दोनों अनुसरण करते हैं।
 - 3. न तो निष्कर्ष (I) और न ही (II) अनुसरण करता है।
 - 4. केवल निष्कर्ष (I) अनुसरण करता है।

Question Type : MCQ

Question ID : 630680422246

Option 1 ID : 6306801647422

Option 2 ID : 6306801647421

Option 3 ID : 6306801647420

Option 4 ID : 6306801647423

Status : Answered

Chosen Option : 4

Q.6 दिए गए कथनों और निष्कर्षों को ध्यानपूर्वक पढ़िए। यह मानते हुए कि कथनों में दी गई जानकारी सत्य है, चाहे वह सामान्यतः ज्ञात तथ्यों से भिन्न प्रतीत होती हो और निर्णय लीजिए कि दिए गए निष्कर्षों में से कौन-सा/कौन-से निष्कर्ष कथनों का तार्किक रूप से अनुसरण करता है/करते हैं।

कथन:

कुछ पेड़, नीले हैं।
सभी नीले, हरे हैं।

निष्कर्ष:

(I) सभी पेड़, नीले हैं।
(II) कुछ पेड़, हरे हैं।

- Ans
- 1. न तो निष्कर्ष (I) और न ही (II) अनुसरण करता है।
 - 2. निष्कर्ष (I) और (II) दोनों अनुसरण करते हैं।
 - 3. केवल निष्कर्ष (II) अनुसरण करता है।
 - 4. केवल निष्कर्ष (I) अनुसरण करता है।

Question Type : MCQ

Question ID : 630680411640

Option 1 ID : 6306801605397

Option 2 ID : 6306801605398

Option 3 ID : 6306801605396

Option 4 ID : 6306801605395

Status : Answered

Chosen Option : 3

Q.7 FLRX अंग्रेजी वर्णमाला क्रम के आधार पर एक निश्चित तरीके से KQWC से संबंधित है। GMSY उसी तरीके से LRXD से संबंधित है। उसी तर्क का अनुसरण करते हुए, HNTZ निम्नलिखित में से किससे संबंधित है?

- Ans 1. MSYD
 2. MSYW
 3. MSYE
 4. MDSY

Question Type : MCQ

Question ID : 6306801108777

Option 1 ID : 6306804355655

Option 2 ID : 6306804355656

Option 3 ID : 6306804355654

Option 4 ID : 6306804355657

Status : Answered

Chosen Option : 3

Q.8 दिए गए विकल्पों में से उस आकृति को चुनिए जो निम्नलिखित श्रृंखला में प्रश्न चिह्न (?) के स्थान पर आ सकती है और पैटर्न को पूरा कर सकती है।

□	T	A	3	
S A T 9	□ A S T 3	□ A T	?	
9	S	□	S	

Ans

✗ 1.

□		
O	3	S
A		

✗ 2.

T		
S	3	□
A		

✓ 3.

T		
S	3	O
A		

✗ 4.

T		
3	O	S
□		

Question Type : MCQ

Question ID : 630680441086

Option 1 ID : 6306801721999

Option 2 ID : 6306801722000


Option 3 ID : 6306801722001

Option 4 ID : 6306801721998

Status : Answered

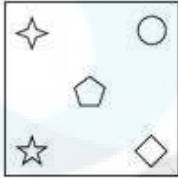
Chosen Option : 1

Q.9 दिए गए विकल्पों में से उस आकृति का चयन कीजिए, जिसे प्रश्न-चिह्न (?) के स्थान पर रखने पर श्रृंखला तार्किक रूप से पूर्ण हो जाएगी।

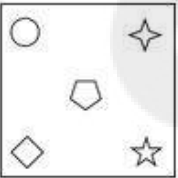


Ans

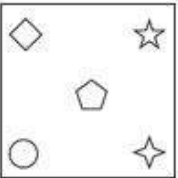
✓ 1.



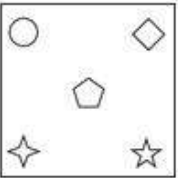
✗ 2.



✗ 3.



✗ 4.



Question Type : MCQ

Question ID : 630680278577

Option 1 ID : 6306801082596

Option 2 ID : 6306801082594

Option 3 ID : 6306801082593

Option 4 ID : 6306801082595

Status : Answered

Chosen Option : 1

Q.10 निम्नलिखित समीकरण में, यदि '+' और '×' को आपस में बदल दिया जाए तथा '-' और '-' को आपस में बदल दिया जाए, तो प्रश्न चिह्न (?) के स्थान पर क्या आएगा?
 $19 \times 7 \div 8 \times 306 - 17 = ?$

Ans 1. 36

2. 41

3. 32

4. 44

Question Type : MCQ

Question ID : 630680379367

Option 1 ID : 6306801478511

Option 2 ID : 6306801478512

Option 3 ID : 6306801478513

Option 4 ID : 6306801478514

Status : Answered

Chosen Option : 1

Q.11 यदि दर्पण को नीचे दिखाए गए अनुसार MN पर रखा जाए, तो दी गई आकृति के सही दर्पण प्रतिबिंब का चयन कीजिए।



Ans 1.

2.

3.

4.

Question Type : MCQ

Question ID : 630680525323

Option 1 ID : 6306802053378

Option 2 ID : 6306802053376

Option 3 ID : 6306802053379

Option 4 ID : 6306802053377

Status : Answered

Chosen Option : 1

Q.12 अंग्रेजी वर्णानुक्रम के आधार पर TGKP एक निश्चित प्रकार से QDHM से संबंधित है। उसी प्रकार, XBWL, UYTI से संबंधित है। समान तर्क का अनुसरण करते हुए, VEAH निम्नलिखित में से किससे संबंधित है?

Ans 1. SBXE

2. SBYF

3. RAYE

4. RAXF

Question Type : MCQ

Question ID : 630680528969

Option 1 ID : 6306802067865

Option 2 ID : 6306802067867

Option 3 ID : 6306802067864

Option 4 ID : 6306802067866

Status : Answered

Chosen Option : 3

Q.13 दी गई श्रृंखला में प्रश्न चिह्न (?) के स्थान पर क्या आएगा?

3, ?, 13, 18, 23, 28, 33

Ans 1. 5

2. 8

3. 7

4. 9

Question Type : MCQ

Question ID : 630680402520

Option 1 ID : 6306801569642

Option 2 ID : 6306801569641

Option 3 ID : 6306801569640

Option 4 ID : 6306801569639

Status : Answered

Chosen Option : 2

Q.14 किसी निश्चित कूटभाषा में, 'GAME' को '8536' के रूप में कूटबद्ध किया गया है और 'MEAN' को '5983' के रूप में कूटबद्ध किया गया है। उस भाषा में 'N' के लिए कूट क्या है?

Ans 1. 3

2. 9

3. 8

4. 5

Question Type : MCQ

Question ID : 630680825487

Option 1 ID : 6306803233493

Option 2 ID : 6306803233495

Option 3 ID : 6306803233496

Option 4 ID : 6306803233494

Status : Answered

Chosen Option : 2

Q.15 यदि '+' और 'x' को आपस में बदल दिया जाए तथा '-' और '÷' को आपस में बदल दिया जाए, तो निम्नलिखित समीकरण में '?' के स्थान पर क्या आएगा?
 $41 \times 1 + 390 - 10 \div 15 = ?$

- Ans
- 1. 55
 - 2. 75
 - 3. 65
 - 4. 73

Question Type : MCQ

Question ID : 630680383271

Option 1 ID : 6306801493986

Option 2 ID : 6306801493984

Option 3 ID : 6306801493983

Option 4 ID : 6306801493985

Status : Answered

Chosen Option : 3

Q.16 एक निश्चित कूट में,
'pen pencil eraser' को 'dy ph mt' के रूप में कूटबद्ध किया गया है,
'pencil box crayon' को 'lp ph st' के रूप में कूटबद्ध किया गया है और
'box pen board' को 'st bq dy' के रूप में कूटबद्ध किया गया है।
सभी कूट केवल दो अक्षर वाले कूट हैं।
'board' को किस रूप में कूटबद्ध किया गया है?

- Ans
- 1. st
 - 2. lp
 - 3. bq
 - 4. dy

Question Type : MCQ

Question ID : 630680436130

Option 1 ID : 6306801702462

Option 2 ID : 6306801702464

Option 3 ID : 6306801702461

Option 4 ID : 6306801702463

Status : Answered

Chosen Option : 3

Q.17 एक निश्चित कूट भाषा में, 'RENT' को '1957' लिखा जाता है और 'GRIM' को '2469' लिखा जाता है।
उसी कूट भाषा में 'R' को क्या लिखा जाएगा?

- Ans
- 1. 1
 - 2. 6
 - 3. 9
 - 4. 4

Question Type : MCQ

Question ID : 630680436128

Option 1 ID : 6306801702454

Option 2 ID : 6306801702456

Option 3 ID : 6306801702453

Option 4 ID : 6306801702455

Status : Answered

Chosen Option : 3

Q.18 R, S, T, D, E, F और G एक वृत्ताकार मेज के चारों ओर केंद्र की ओर मुख करके बैठे हैं (परंतु जरूरी नहीं कि वे इसी क्रम में बैठे हों)। E के दाईं ओर से गिनने पर E और T के बीच में केवल तीन व्यक्ति बैठे हैं। R और G के बीच में केवल दो व्यक्ति बैठे हैं। S, D के ठीक बाईं ओर बैठा है। T और R के बीच में केवल दो व्यक्ति बैठे हैं। F के बाईं ओर से गिनने पर F और S के बीच में कितने व्यक्ति बैठे हैं?

- Ans
- 1. दो
 - 2. चार
 - 3. तीन
 - 4. एक

Question Type : MCQ

Question ID : 630680389920

Option 1 ID : 6306801520139

Option 2 ID : 6306801520141

Option 3 ID : 6306801520140

Option 4 ID : 6306801520138

Status : Not Answered

Chosen Option : --

Q.19 अंग्रेजी वर्णमाला क्रम के आधार पर दी गई श्रृंखला में प्रश्न चिह्न (?) के स्थान पर क्या आना चाहिए?

OSM, LPJ, IMG, FJD, ?

- Ans
- 1. CAG
 - 2. CGA
 - 3. BGA
 - 4. BAG

Question Type : MCQ

Question ID : 630680815693

Option 1 ID : 6306803196073

Option 2 ID : 6306803196074

Option 3 ID : 6306803196075

Option 4 ID : 6306803196076

Status : Answered

Chosen Option : 2

Q.20 P, Q, R, S, T, U और V एक वृत्ताकार मेज के चारों ओर केंद्र की ओर पीठ करके बैठे हैं (परंतु जरूरी नहीं कि वे इसी क्रम में बैठे हों)। P, U के बाएँ से दूसरे स्थान पर बैठा है। R, S के दाएँ से तीसरे स्थान पर बैठा है। S, V का निकटतम पड़ोसी है। V, P के ठीक बाएँ बैठा है। T, U का निकटतम पड़ोसी नहीं है। P के दाएँ से गिनती करने पर P और Q के बीच में कितने व्यक्ति बैठे हैं?

- Ans
- 1. एक
 - 2. चार
 - 3. तीन
 - 4. दो

Question Type : MCQ

Question ID : 630680379065

Option 1 ID : 6306801477309

Option 2 ID : 6306801477310

Option 3 ID : 6306801477307

Option 4 ID : 6306801477308

Status : Not Answered

Chosen Option : --

Section : General Awareness

Q.1 आर्य समाज की स्थापना किस स्थान पर हुई थी?

- Ans 1. बम्बई
 2. मद्रास
 3. लाहौर
 4. कलकत्ता

Question Type : MCQ

Question ID : 630680484035

Option 1 ID : 6306801890499

Option 2 ID : 6306801890498

Option 3 ID : 6306801890500

Option 4 ID : 6306801890501

Status : Answered

Chosen Option : 1

Q.2 नवंबर 2023 में, फेडरेशन ऑफ इंडियन चैंबर्स ऑफ कॉमर्स एंड इंडस्ट्री (Federation of Indian Chambers of Commerce and Industry - FICCI) के निर्वाचित अध्यक्ष के रूप में किसे नियुक्त किया गया था?

- Ans 1. सूरज महिंद्रा
 2. अनीश शाह
 3. एन चन्द्रशेखरन
 4. आदि गोदरेज

Question Type : MCQ

Question ID : 630680488571

Option 1 ID : 6306801908311

Option 2 ID : 6306801908312

Option 3 ID : 6306801908314

Option 4 ID : 6306801908313

Status : Answered

Chosen Option : 1

Q.3 अकबर के राज्याभिषेक के वर्ष में, निम्नलिखित में से किसे 'खान-ए-खाना (Khan-i-Khanan)' की उपाधि के साथ मुगल साम्राज्य के वकील (Wakil) के रूप में पदनामित किया गया था?

- Ans 1. बैरम खाँ (Bairam Khan)
 2. हकीम मिर्ज़ा (Hakim Mirza)
 3. अब्दुर रहीम (Abdur Rahim)
 4. मुनीम खान (Munim Khan)

Question Type : MCQ

Question ID : 630680282933

Option 1 ID : 6306801099866

Option 2 ID : 6306801099863

Option 3 ID : 6306801099864

Option 4 ID : 6306801099865

Status : Answered

Chosen Option : 1

Q.4 जलकल (waterworks) में जल शुद्धिकरण के लिए उपयोग की जाने वाली प्रक्रियाओं के सही क्रम का चयन कीजिए।

1. निस्पंदन
2. क्लोरीनीकरण
3. निलंबित अशुद्धता अवसादन
4. ठोस अशुद्धता अवसादन

Ans 1. 4-3-2-1

2. 1-2-3-4

3. 2-1-4-3

4. 4-3-1-2

Question Type : MCQ

Question ID : 630680422880

Option 1 ID : 6306801649910

Option 2 ID : 6306801649907

Option 3 ID : 6306801649909

Option 4 ID : 6306801649908

Status : Answered

Chosen Option : 1

Q.5 भारत में महिला साक्षरता दर में सुधार के लिए भारत सरकार द्वारा निम्नलिखित में से कौन-सा कार्यक्रम शुरू किया गया है?

Ans 1. बेटी बचाओ, बेटी पढ़ाओ

2. बेटी सिखाओ, बेटी पढ़ाओ

3. बेटी शिक्षण, बेटी बचाओ

4. बेटी जागरण, बेटी पढ़ाओ

Question Type : MCQ

Question ID : 63068069495

Option 1 ID : 630680268646

Option 2 ID : 630680268647

Option 3 ID : 630680268648

Option 4 ID : 630680268649

Status : Answered

Chosen Option : 1

Q.6 निम्नलिखित में से कौन-सा भारत का सबसे पुराना किला है, जिसका उल्लेख सबसे पहले सिकंदर महान के युद्धकालीन अभिलेखों में पाया गया है, जो इसका चौथी शताब्दी ईसा पूर्व का होना इंगित करते हैं?

Ans 1. मेहरानगढ़ किला

2. कांगड़ा किला

3. कुंभलगढ़ किला

4. ग्वालियर किला

Question Type : MCQ

Question ID : 630680555024

Option 1 ID : 6306802169673

Option 2 ID : 6306802169672

Option 3 ID : 6306802169674

Option 4 ID : 6306802169675

Status : Answered

Chosen Option : 1

Q.7 क्रिकेट पिच की मानक लंबाई कितनी होती है?

- Ans
- 1. 24 गज
 - 2. 18 गज
 - 3. 22 गज
 - 4. 20 गज

Question Type : MCQ

Question ID : 630680466580

Option 1 ID : 6306801828856

Option 2 ID : 6306801822333

Option 3 ID : 6306801822335

Option 4 ID : 6306801822334

Status : Answered

Chosen Option : 1

Q.8 2023 में वनडे क्रिकेट विश्व कप का कौन-सा संस्करण भारत में आयोजित किया गया था?

- Ans
- 1. 14वां
 - 2. 16वां
 - 3. 15वां
 - 4. 13वां

Question Type : MCQ

Question ID : 630680572015

Option 1 ID : 6306802236925

Option 2 ID : 6306802236924

Option 3 ID : 6306802236926

Option 4 ID : 6306802236927

Status : Answered

Chosen Option : 2

Q.9 निम्न में से कौन-सा अवायवीय गतिविधि (anaerobic activity) का एक उदाहरण है?

- Ans
- 1. कूदना
 - 2. रस्सी कूदना
 - 3. तैरना
 - 4. चलना

Question Type : MCQ

Question ID : 630680641505

Option 1 ID : 6306802511438

Option 2 ID : 6306802511435

Option 3 ID : 6306802511437

Option 4 ID : 6306802511436

Status : Answered

Chosen Option : 2

Q.10 संविधान के निम्नलिखित में से किस अनुच्छेद में प्रावधान है कि 'भारत सरकार की समस्त कार्यपालिका कार्रवाई राष्ट्रपति के नाम से की हुई कही जाएगी'?

- Ans 1. अनुच्छेद 75 (1A)
 2. अनुच्छेद 77 (1)
 3. अनुच्छेद 71 (1)
 4. अनुच्छेद 76 (2)

Question Type : MCQ
Question ID : 63068080363
Option 1 ID : 630680311479
Option 2 ID : 630680311477
Option 3 ID : 630680311480
Option 4 ID : 630680311478
Status : Answered
Chosen Option : 1

Q.11 भारतीय संविधान की मूल संरचना भारत सरकार अधिनियम, _____ पर आधारित है।

- Ans 1. 1949
 2. 1942
 3. 1950
 4. 1935

Question Type : MCQ
Question ID : 630680547891
Option 1 ID : 6306802142113
Option 2 ID : 6306802142112
Option 3 ID : 6306802142114
Option 4 ID : 6306802142111
Status : Answered
Chosen Option : 1

Q.12 बंदरगाहों का निम्नलिखित में से कौन-सा समूह बंगाल की खाड़ी के तट पर स्थित है?

- Ans 1. हल्दिया और कांडला
 2. हल्दिया और पारादीप
 3. पारादीप और न्यू मैंगलोर
 4. तूतीकोरिन और कोचीन

Question Type : MCQ
Question ID : 630680484480
Option 1 ID : 6306801892234
Option 2 ID : 6306801892236
Option 3 ID : 6306801892235
Option 4 ID : 6306801892237
Status : Not Answered
Chosen Option : --

Q.13 राष्ट्रीय बहुआयामी गरीबी सूचकांक 2021 के अनुसार, निम्नलिखित में से राज्यों का कौन-सा समूह सबसे गरीब है?

- Ans
- 1. केरल, कर्नाटक, तमिलनाडु
 - 2. पंजाब, हिमाचल प्रदेश, उत्तराखंड
 - 3. गुजरात, महाराष्ट्र, तेलंगाना
 - 4. बिहार, उत्तर प्रदेश, झारखंड

Question Type : MCQ
Question ID : 630680510910
Option 1 ID : 6306801996770
Option 2 ID : 6306801996771
Option 3 ID : 6306801996772
Option 4 ID : 6306801996773
Status : Answered
Chosen Option : 4

Q.14 संविदा संबंधी लंबित विवादों को प्रभावी ढंग से हल करने के लिए भारत सरकार द्वारा 2023 में शुरू की गई योजना का नाम क्या है?

- Ans
- 1. विवाद से विश्वास I
 - 2. विवाद से आधार II
 - 3. विवाद से जनाधार I
 - 4. विवाद से विश्वास II

Question Type : MCQ
Question ID : 630680455373
Option 1 ID : 6306801778406
Option 2 ID : 6306801778409
Option 3 ID : 6306801778408
Option 4 ID : 6306801778407
Status : Answered
Chosen Option : 4

Q.15 रविकीर्ति किस शासक के दरबारी कवि थे?

- Ans
- 1. पुलकेशिन द्वितीय
 - 2. राजराज
 - 3. दंतिदुर्ग
 - 4. हर्षवर्द्धन

Question Type : MCQ
Question ID : 630680433795
Option 1 ID : 6306801693143
Option 2 ID : 6306801693145
Option 3 ID : 6306801693146
Option 4 ID : 6306801693144
Status : Answered
Chosen Option : 4

Q.16 निम्नलिखित में से कौन-सा, एक बहुमूल्य खनिज है?

Ans 1. प्लैटिनम

2. अभ्रक

3. बाक्साइट

4. हेमेटाइट

Question Type : MCQ

Question ID : 630680456082

Option 1 ID : 6306801781267

Option 2 ID : 6306801781269

Option 3 ID : 6306801781268

Option 4 ID : 6306801781270

Status : Answered

Chosen Option : 2

Q.17 भारत में सूक्ष्मवित्त संस्थानों द्वारा प्रायः कौन-से वित्तीय उत्पाद प्रस्तुत किए जाते हैं?

Ans 1. बहुराष्ट्रीय निगमों के लिए विशेष सेवाएँ

2. उच्च आय वाले व्यक्तियों के लिए विशेष सेवाएँ

3. कम आय वाले व्यक्तियों के लिए अनुकूलित बचत, ऋण और बीमा सेवाएँ

4. जटिल निवेश विकल्प

Question Type : MCQ

Question ID : 630680651753

Option 1 ID : 6306802551542

Option 2 ID : 6306802551539

Option 3 ID : 6306802551541

Option 4 ID : 6306802551540

Status : Answered

Chosen Option : 3

Q.18 निम्नलिखित में से कौन सा दिवस डॉ. सर्वपल्ली राधाकृष्णन के जन्मदिन पर मनाया जाता है?

Ans 1. संविधान दिवस

2. छात्र दिवस

3. अभियंता दिवस

4. शिक्षक दिवस

Question Type : MCQ

Question ID : 630680157881

Option 1 ID : 630680611053

Option 2 ID : 630680611052

Option 3 ID : 630680611055

Option 4 ID : 630680611054

Status : Answered

Chosen Option : 4

Q.19 'वेटिंग फॉर ए वीज़ा (Waiting for a Visa)' किसकी आत्मकथा है?

- Ans
- 1. श्यामा प्रसाद मुखर्जी
 - 2. जवाहर लाल नेहरू
 - 3. वल्लभभाई पटेल
 - 4. भीमराव अंबेडकर

Question Type : MCQ

Question ID : 630680450247

Option 1 ID : 6306801758131

Option 2 ID : 6306801758133

Option 3 ID : 6306801758134

Option 4 ID : 6306801758132

Status : Answered

Chosen Option : 4

Q.20 शुद्धि आंदोलन निम्नलिखित में से किस संगठन द्वारा शुरू किया गया था?

- Ans
- 1. सत्यशोधक समाज
 - 2. रामकृष्ण मिशन
 - 3. परमहंस मंडली
 - 4. आर्य समाज

Question Type : MCQ

Question ID : 630680198485

Option 1 ID : 630680769899

Option 2 ID : 630680769900

Option 3 ID : 630680769902

Option 4 ID : 630680769901

Status : Not Answered

Chosen Option : --

Q.21 मैसूर ब्रदर्स (Mysore Brothers) किस संगीत वाद्ययंत्र को बजाने के लिए जाने जाते हैं?

- Ans
- 1. वायलिन
 - 2. मैडोलिन
 - 3. बांसुरी
 - 4. गिटार

Question Type : MCQ

Question ID : 630680482652

Option 1 ID : 6306801885079

Option 2 ID : 6306801885080

Option 3 ID : 6306801885078

Option 4 ID : 6306801885081

Status : Answered

Chosen Option : 4

Q.22 वसा और कार्बोहाइड्रेट युक्त खाद्य पदार्थों को _____ भी कहा जाता है।

- Ans
- 1. रूक्षांश
 - 2. किण्वित खाद्य पदार्थ
 - 3. ऊर्जा देने वाले खाद्य पदार्थ
 - 4. शरीर निर्माण खाद्य पदार्थ

Question Type : **MCQ**
Question ID : **630680311131**
Option 1 ID : **6306801210639**
Option 2 ID : **6306801210640**
Option 3 ID : **6306801210637**
Option 4 ID : **6306801210638**
Status : **Answered**
Chosen Option : **3**

Q.23 कालिदास सम्मान पुरस्कार निम्नलिखित में से किस सरकार द्वारा प्रदान किया जाता है?

- Ans
- 1. मध्यप्रदेश
 - 2. मणिपुर
 - 3. ओडिशा
 - 4. तमिलनाडु

Question Type : **MCQ**
Question ID : **630680433368**
Option 1 ID : **6306801691440**
Option 2 ID : **6306801691442**
Option 3 ID : **6306801691441**
Option 4 ID : **6306801691439**
Status : **Answered**
Chosen Option : **1**

Q.24 निम्न में से किस लोक नृत्य की उत्पत्ति महाराष्ट्र में हुई है?

- Ans
- 1. बिहु
 - 2. गरबा
 - 3. डांडिया
 - 4. लावणी

Question Type : **MCQ**
Question ID : **630680536910**
Option 1 ID : **6306802098912**
Option 2 ID : **6306802098913**
Option 3 ID : **6306802098915**
Option 4 ID : **6306802098914**
Status : **Answered**
Chosen Option : **2**

Q.25 मध्य प्रदेश के बैतूल, होशंगाबाद और छिंदवाड़ा जिले निम्नलिखित में से किस जैवमंडल निचय (biosphere reserves) का हिस्सा है?

- Ans 1. पचमढ़ी (Pachmarhi)
 2. मानस (Manas)
 3. अगस्त्यमलाई (Agasthyamalai)
 4. शेषाचलम (Seshachalam)

Question Type : MCQ
Question ID : 630680510994
Option 1 ID : 6306801997109
Option 2 ID : 6306801997108
Option 3 ID : 6306801997106
Option 4 ID : 6306801997107
Status : Not Answered
Chosen Option : --

Section : English Language and Comprehension

Q.1 Select the most appropriate form of comparative degree that can substitute the underlined segment in the given sentence.

Maheshwari is three years junior than me.

- Ans 1. junior than that of me
 2. junior to me
 3. more junior than me
 4. junior than any other to me

Question Type : MCQ
Question ID : 630680514699
Option 1 ID : 6306802011421
Option 2 ID : 6306802011422
Option 3 ID : 6306802011423
Option 4 ID : 6306802011424
Status : Answered
Chosen Option : 2

Q.2 Select the most appropriate option to fill in the blank.

The students were _____ for their hard work with certificates and praise.

- Ans 1. rewarded
 2. punished
 3. reprimanded
 4. penalised

Question Type : MCQ
Question ID : 630680472139
Option 1 ID : 6306801844268
Option 2 ID : 6306801844267
Option 3 ID : 6306801844269
Option 4 ID : 6306801844270
Status : Answered
Chosen Option : 1

Q.3 Identify the error in the given sentence.
Ajit got to work earliest than everyone else today.

- Ans 1. earliest than
 2. today
 3. Ajit got to work
 4. everyone else

Question Type : **MCQ**
Question ID : 630680402694
Option 1 ID : 6306801570378
Option 2 ID : 6306801570380
Option 3 ID : 6306801570377
Option 4 ID : 6306801570379
Status : **Answered**
Chosen Option : 4

Q.4 Select the most appropriate ANTONYM of the underlined word in the given sentence.

Anupama was a very industrious child and submitted all her assignments on time.

- Ans 1. laborious
 2. industrial
 3. lazy
 4. intense

Question Type : **MCQ**
Question ID : 630680437947
Option 1 ID : 6306801709609
Option 2 ID : 6306801709606
Option 3 ID : 6306801709608
Option 4 ID : 6306801709607
Status : **Answered**
Chosen Option : 1

Q.5 Select the most appropriate idiom to replace the underlined segment.
He thinks his new plan will undoubtedly produce the desired result.

- Ans 1. sour grapes
 2. go pear-shaped
 3. bear fruit
 4. go suck a lemon

Question Type : **MCQ**
Question ID : 630680399123
Option 1 ID : 6306801556453
Option 2 ID : 6306801556452
Option 3 ID : 6306801556451
Option 4 ID : 6306801556450
Status : **Answered**
Chosen Option : 3

Q.6 Select the grammatically correct sentence.

Ans 1. Rahul is very naughty as he is the most young sibling among Rama's three brothers.

2. Rahul is very naughty as he is the youngest sibling among Rama's three brothers.

3. Rahul is very naughty as he is the most young sibling between Rama's three brothers.

4. Rahul is very naughty as he is the youngest sibling between Rama's three brothers.

Question Type : **MCQ**

Question ID : **630680514589**

Option 1 ID : **6306802010981**

Option 2 ID : **6306802010982**

Option 3 ID : **6306802010983**

Option 4 ID : **6306802010984**

Status : **Answered**

Chosen Option : **3**

**Q.7 Select the most appropriate synonym of the given word.
Antique**

Ans 1. Novel

2. Young

3. Ancient

4. Modern

Question Type : **MCQ**

Question ID : **630680517229**

Option 1 ID : **6306802021313**

Option 2 ID : **6306802021314**

Option 3 ID : **6306802021312**

Option 4 ID : **6306802021315**

Status : **Answered**

Chosen Option : **3**

**Q.8 Select the most appropriate option to fill in the blanks.
I bought a _____ but it is _____.**

Ans 1. cane; cain

2. chip; cheap

3. cain; cane

4. cheap; chip

Question Type : **MCQ**

Question ID : **630680517447**

Option 1 ID : **6306802022186**

Option 2 ID : **6306802022185**

Option 3 ID : **6306802022187**

Option 4 ID : **6306802022184**

Status : **Answered**

Chosen Option : **3**

Q.9 Select the most appropriate synonym of the word given in brackets to fill in the blank.

Many orthodox people have a ____ (hostile) attitude towards the idea of women getting educated and employed.

Ans 1. belligerent

2. friendly

3. elaborate

4. meticulous

Question Type : **MCQ**

Question ID : **630680522084**

Option 1 ID : **6306802040664**

Option 2 ID : **6306802040667**

Option 3 ID : **6306802040665**

Option 4 ID : **6306802040666**

Status : **Answered**

Chosen Option : 1

Q.10 Select the **INCORRECTLY** spelt word.

Ans 1. Beginner

2. Ceremony

3. Disappointment

4. Prescription

Question Type : **MCQ**

Question ID : **630680718802**

Option 1 ID : **6306802816715**

Option 2 ID : **6306802816717**

Option 3 ID : **6306802816716**

Option 4 ID : **6306802816714**

Status : **Answered**

Chosen Option : 3

Q.11 Select the grammatically correct sentence..

Ans 1. Rukmini put the book on an table and sat down.

2. Rukmini put an book on the table and sat down.

3. Rukmini put the book on the table and sat down.

4. Rukmini put a book on an table and sat down.

Question Type : **MCQ**

Question ID : **6306801106310**

Option 1 ID : **6306804345680**

Option 2 ID : **6306804345678**

Option 3 ID : **6306804345679**

Option 4 ID : **6306804345681**

Status : **Answered**

Chosen Option : 1

Q.12 The following sentence has been split into four segments. Identify the segment that contains a grammatical error.

The happy and cheerful girls / is always running towards / the ice cream cart in / front of the garden.

- Ans
- 1. the happy and cheerful girls
 - 2. is always running towards
 - 3. the ice cream cart in
 - 4. front of the garden

Question Type : MCQ
Question ID : 630680533294
Option 1 ID : 6306802084657
Option 2 ID : 6306802084658
Option 3 ID : 6306802084659
Option 4 ID : 6306802084660
Status : Answered
Chosen Option : 1

Q.13 Select the most appropriate option to fill in the blank.

The concert was _____ due to the bad weather.

- Ans
- 1. cancelled
 - 2. continued
 - 3. commenced
 - 4. celebrated

Question Type : MCQ
Question ID : 630680472142
Option 1 ID : 6306801844279
Option 2 ID : 6306801844282
Option 3 ID : 6306801844281
Option 4 ID : 6306801844280
Status : Answered
Chosen Option : 1

Q.14 Select the most appropriate option that can substitute the underlined words in the given sentence.

Losing my job turned out to be an unexpected benefit because it pushed me to start my own business, which has been more successful than I ever imagined.

- Ans
- 1. a mixed blessing
 - 2. a blessing in disguise
 - 3. a diamond in rough
 - 4. a golden opportunity

Question Type : MCQ
Question ID : 630680749299
Option 1 ID : 6306802936724
Option 2 ID : 6306802936727
Option 3 ID : 6306802936725
Option 4 ID : 6306802936726
Status : Answered
Chosen Option : 4

Q.15 Select the option that can be used as a one-word substitute for the given group of words.

The analysis of a person's handwriting to determine his/her personality

- Ans 1. Calligraphy
 2. Numismatics
 3. Philology
 4. Graphology

Question Type : **MCQ**

Question ID : **630680596997**

Option 1 ID : **6306802336033**

Option 2 ID : **6306802336036**

Option 3 ID : **6306802336035**

Option 4 ID : **6306802336034**

Status : **Not Answered**

Chosen Option : --

Q.16 Select the INCORRECTLY spelt word..

- Ans 1. Reflect
 2. Scari
 3. Music
 4. Shadow

Question Type : **MCQ**

Question ID : **6306801046648**

Option 1 ID : **6306804108719**

Option 2 ID : **6306804108717**

Option 3 ID : **6306804108720**

Option 4 ID : **6306804108718**

Status : **Answered**

Chosen Option : 2

Q.17 Select the most appropriate ANTONYM of the underlined word in the given sentence.
He was very inquisitive and wanted to know each and every detail.

- Ans 1. Indifferent
 2. Uncanny
 3. Intelligent
 4. Indeterminate

Question Type : **MCQ**

Question ID : **630680439402**

Option 1 ID : **6306801715411**

Option 2 ID : **6306801715410**

Option 3 ID : **6306801715408**

Option 4 ID : **6306801715409**

Status : **Answered**

Chosen Option : 3

Q.18 Identify the INCORRECTLY spelt word in the given sentence.
Are you sure that you can't even write a single sentnce properly?

Ans 1. sentnce

2. write

3. single

4. properly

Question Type : MCQ

Question ID : 630680545196

Option 1 ID : 6306802131533

Option 2 ID : 6306802131531

Option 3 ID : 6306802131532

Option 4 ID : 6306802131534

Status : Answered

Chosen Option : 1

Q.19 Select the most appropriate form of comparative degree that can substitute the underlined segment in the given sentence.

Rohit Sharma is better than more other batsman in the world.

Ans 1. the best batsmen

2. as good as the most other batsmen

3. better than most other batsmen

4. better batsmen

Question Type : MCQ

Question ID : 630680514697

Option 1 ID : 6306802011416

Option 2 ID : 6306802011414

Option 3 ID : 6306802011413

Option 4 ID : 6306802011415

Status : Answered

Chosen Option : 1

Q.20 Select the option that can be used as a one-word substitute for the given group of words.

The branch of geography that studies mountains and their formation

Ans 1. Palaeography

2. Mythography

3. Orthography

4. Orography

Question Type : MCQ

Question ID : 630680565545

Option 1 ID : 6306802211133

Option 2 ID : 6306802211135

Option 3 ID : 6306802211134

Option 4 ID : 6306802211132

Status : Answered

Chosen Option : 2

Comprehension:

In the following passage, some words have been deleted. Read the passage carefully and select the most appropriate option to fill in each blank.

The computer can become a threat to man. It can (1)_____ his survival and privacy. It also offers excellent encouragement for unethical or criminal activities. It can (2)_____ the unemployment problem as employers prefer the computer and the 'computer- controlled robots' to humans for obvious reasons. The information storage facility the computer provides has (3)_____ to collection of personal information about individuals and storage of this information in data banks by several employing agencies. If care is not exercised (4)_____ data gathering, data integrity may suffer. That is, questionable or imperfect methods may be employed; as a result, incorrect or incomplete data may be stored, and this (5)_____ become a permanent source and used for any given purpose.

SubQuestion No : 21

Q.21 Select the most appropriate option to fill in blank no. 1.

- Ans 1. encourage
 2. protect
 3. endanger
 4. transformative

Question Type : **MCQ**

Question ID : **630680526229**

Option 1 ID : **6306802056998**

Option 2 ID : **6306802056997**

Option 3 ID : **6306802056999**

Option 4 ID : **6306802056996**

Status : **Not Answered**

Chosen Option : --

Comprehension:

In the following passage, some words have been deleted. Read the passage carefully and select the most appropriate option to fill in each blank.

The computer can become a threat to man. It can (1)_____ his survival and privacy. It also offers excellent encouragement for unethical or criminal activities. It can (2)_____ the unemployment problem as employers prefer the computer and the 'computer- controlled robots' to humans for obvious reasons. The information storage facility the computer provides has (3)_____ to collection of personal information about individuals and storage of this information in data banks by several employing agencies. If care is not exercised (4)_____ data gathering, data integrity may suffer. That is, questionable or imperfect methods may be employed; as a result, incorrect or incomplete data may be stored, and this (5)_____ become a permanent source and used for any given purpose.

SubQuestion No : 22

Q.22 Select the most appropriate option to fill in blank no. 2.

- Ans 1. improve
 2. beat
 3. worsen
 4. control

Question Type : **MCQ**

Question ID : **630680526230**

Option 1 ID : **6306802057003**

Option 2 ID : **6306802057001**

Option 3 ID : **6306802057000**

Option 4 ID : **6306802057002**

Status : **Answered**

Chosen Option : **1**

Comprehension:

In the following passage, some words have been deleted. Read the passage carefully and select the most appropriate option to fill in each blank.

The computer can become a threat to man. It can (1)_____ his survival and privacy. It also offers excellent encouragement for unethical or criminal activities. It can (2)_____ the unemployment problem as employers prefer the computer and the 'computer- controlled robots' to humans for obvious reasons. The information storage facility the computer provides has (3)_____ to collection of personal information about individuals and storage of this information in data banks by several employing agencies. If care is not exercised (4)_____ data gathering, data integrity may suffer. That is, questionable or imperfect methods may be employed; as a result, incorrect or incomplete data may be stored, and this (5)_____ become a permanent source and used for any given purpose.

SubQuestion No : 23**Q.23 Select the most appropriate option to fill in blank no. 3.**

- Ans 1. stored
 2. experienced
 3. led
 4. involved

Question Type : **MCQ**Question ID : **630680526231**Option 1 ID : **6306802057004**Option 2 ID : **6306802057007**Option 3 ID : **6306802057005**Option 4 ID : **6306802057006**Status : **Not Answered**

Chosen Option : --

Comprehension:

In the following passage, some words have been deleted. Read the passage carefully and select the most appropriate option to fill in each blank.

The computer can become a threat to man. It can (1)_____ his survival and privacy. It also offers excellent encouragement for unethical or criminal activities. It can (2)_____ the unemployment problem as employers prefer the computer and the 'computer- controlled robots' to humans for obvious reasons. The information storage facility the computer provides has (3)_____ to collection of personal information about individuals and storage of this information in data banks by several employing agencies. If care is not exercised (4)_____ data gathering, data integrity may suffer. That is, questionable or imperfect methods may be employed; as a result, incorrect or incomplete data may be stored, and this (5)_____ become a permanent source and used for any given purpose.

SubQuestion No : 24**Q.24 Select the most appropriate option to fill in blank no. 4.**

- Ans 1. during
 2. when
 3. by
 4. unless

Question Type : **MCQ**Question ID : **630680526232**Option 1 ID : **6306802057010**Option 2 ID : **6306802057011**Option 3 ID : **6306802057008**Option 4 ID : **6306802057009**Status : **Not Answered**

Chosen Option : --

Comprehension:

In the following passage, some words have been deleted. Read the passage carefully and select the most appropriate option to fill in each blank.

The computer can become a threat to man. It can (1)_____ his survival and privacy. It also offers excellent encouragement for unethical or criminal activities. It can (2)_____ the unemployment problem as employers prefer the computer and the 'computer- controlled robots' to humans for obvious reasons. The information storage facility the computer provides has (3)_____ to collection of personal information about individuals and storage of this information in data banks by several employing agencies. If care is not exercised (4)_____ data gathering, data integrity may suffer. That is, questionable or imperfect methods may be employed; as a result, incorrect or incomplete data may be stored, and this (5)_____ become a permanent source and used for any given purpose.

SubQuestion No : 25

Q.25 Select the most appropriate option to fill in blank no. 5.

- Ans
- 1. should
 - 2. have to
 - 3. may
 - 4. must

Question Type : **MCQ**

Question ID : **630680526233**

Option 1 ID : **6306802057014**

Option 2 ID : **6306802057015**

Option 3 ID : **6306802057013**

Option 4 ID : **6306802057012**

Status : **Not Answered**

Chosen Option : --