

Multi Tasking Non Technical Staff and Havaladar CBIC and CBN Examination 2024

Roll Number	
Candidate Name	
Venue Name	iON Digital Zone iDZ 2 Duhai
Exam Date	18/10/2024
Exam Time	4:00 PM - 5:30 PM
Subject	MTS Non Tech Havaladar CBIC and CBN Examination 2024

Section : Numerical and Mathematical Ability

Q.1 3 वर्षों के लिए 9% वार्षिक की ब्याज दर पर उधार ली गई राशि ₹2500 पर साधारण ब्याज (₹ में) ज्ञात कीजिए।

Ans 1. 635

2. 675

3. 715

4. 615

Question Type : MCQ

Question ID : 630680591919

Option 1 ID : 6306802316146

Option 2 ID : 6306802316143

Option 3 ID : 6306802316144

Option 4 ID : 6306802316145

Status : Answered

Chosen Option : 2

Q.2 एक गाँव की जनसंख्या में 3% की वृद्धि हो जाती है। यदि 122 व्यक्ति कम होते, तो जनसँख्या में 1% की कमी होती। मूल जनसंख्या ज्ञात कीजिए।

Ans 1. 3050

2. 3000

3. 3550

4. 3555

Question Type : MCQ

Question ID : 630680481186

Option 1 ID : 6306801879314

Option 2 ID : 6306801879312

Option 3 ID : 6306801879313

Option 4 ID : 6306801879315

Status : Answered

Chosen Option : 4

Q.3 120 नोट बुक बेचने पर, एक दुकानदार को 40 नोट बुक के विक्रय मूल्य के बराबर लाभ होता है। उसका लाभ प्रतिशत ज्ञात करें।

- Ans
- 1. 90%
 - 2. 50%
 - 3. 75%
 - 4. 25%

Question Type : MCQ
Question ID : 630680102048
Option 1 ID : 630680396551
Option 2 ID : 630680396549
Option 3 ID : 630680396550
Option 4 ID : 630680396548
Status : Answered
Chosen Option : 4

Q.4 5 वर्षों के लिए 5% प्रति वर्ष की ब्याज दर पर उधार ली गई राशि ₹3000 पर साधारण ब्याज (₹ में) ज्ञात कीजिए।

- Ans
- 1. 690
 - 2. 710
 - 3. 750
 - 4. 790

Question Type : MCQ
Question ID : 630680591936
Option 1 ID : 6306802316213
Option 2 ID : 6306802316214
Option 3 ID : 6306802316211
Option 4 ID : 6306802316212
Status : Answered
Chosen Option : 2

Q.5 निम्न का एचसीएफ (म.स.) ज्ञात कीजिए:

$$3^3 \times 11^2, 2^4 \times 3^2 \times 5^3 \times 11^3 \text{ और } 3 \times 5 \times 7 \times 11$$

- Ans
- 1. 165
 - 2. 1815
 - 3. 385
 - 4. 33

Question Type : MCQ
Question ID : 630680109186
Option 1 ID : 630680423557
Option 2 ID : 630680423558
Option 3 ID : 630680423559
Option 4 ID : 630680423556
Status : Answered
Chosen Option : 3

Q.6 एक व्यक्ति एक आयताकार मैदान के अनुदिश चलता है, जिसकी लंबाई 6 km और चौड़ाई 3 km है। पहले 1 घंटे के लिए, वह 2 km/hr की चाल से चलता है। 1 घंटे के बाद, वह अपनी चाल बढ़ाकर 4 km/hr कर देता है। अगले 1 घंटे में उसकी चाल घटकर 2 km/hr हो जाती है। अगले 1 घंटे के लिए, वह अपनी चाल बढ़ाकर 4 km/hr कर देता है। उसकी औसत चाल (km/hr में) ज्ञात कीजिए।

Ans 1. 3

2. 2

3. 4

4. 5

Question Type : MCQ

Question ID : 630680609813

Option 1 ID : 6306802386332

Option 2 ID : 6306802386329

Option 3 ID : 6306802386330

Option 4 ID : 6306802386331

Status : Answered

Chosen Option : 2

Q.7 प्रथम 40 प्राकृत संख्याओं का औसत क्या है?

Ans 1. 40.5

2. 10.5

3. 50.5

4. 20.5

Question Type : MCQ

Question ID : 630680215284

Option 1 ID : 630680835137

Option 2 ID : 630680835136

Option 3 ID : 630680835138

Option 4 ID : 630680835135

Status : Answered

Chosen Option : 4

Q.8 15 cm त्रिज्या वाले लोहे के एक ठोस गोले को पिघलाकर एक बेलनाकार पाइप के आकार में ढाला जाना है, जिसकी आंतरिक और बाह्य त्रिज्याएँ क्रमशः 4 cm और 6 cm हैं। इस प्रकार बने पाइप की लंबाई (m में) ज्ञात करें।

Ans 1. 2.45

2. 2.15

3. 2.25

4. 2.35

Question Type : MCQ

Question ID : 630680378656

Option 1 ID : 6306801475674

Option 2 ID : 6306801475671

Option 3 ID : 6306801475672

Option 4 ID : 6306801475673

Status : Answered

Chosen Option : 2

Q.9 42 cm व्यास वाले एक गोलाकार बर्तन का पृष्ठीय क्षेत्रफल ज्ञात कीजिए। ($\pi = \frac{22}{7}$ का प्रयोग कीजिए)

- Ans
- 1. 5540 cm²
 - 2. 5524 cm²
 - 3. 5514 cm²
 - 4. 5544 cm²

Question Type : MCQ

Question ID : 630680103190

Option 1 ID : 630680401019

Option 2 ID : 630680401021

Option 3 ID : 630680401020

Option 4 ID : 630680401022

Status : Answered

Chosen Option : 4

Q.10 एक लड़का 38 मीटर भुजा वाले एक वर्गाकार मैदान के चारों ओर एक पूरा चक्कर लगाने में कितने सेकंड का समय लेगा, यदि वह 6 km/h की चाल से दौड़ता है?

- Ans
- 1. 50.1
 - 2. 91.2
 - 3. 61.2
 - 4. 71.2

Question Type : MCQ

Question ID : 630680233605

Option 1 ID : 630680906316

Option 2 ID : 630680906319

Option 3 ID : 630680906317

Option 4 ID : 630680906318

Status : Answered

Chosen Option : 3

Q.11 ₹2,244 की राशि को P और Q के बीच बांटा जाता है।
यदि $Q = \frac{7}{11}(Q + P)$ है, तो Q का हिस्सा कितना है?

- Ans
- 1. ₹1,438
 - 2. ₹1,428
 - 3. ₹1,432
 - 4. ₹1,444

Question Type : MCQ

Question ID : 630680109390

Option 1 ID : 630680424318

Option 2 ID : 630680424316

Option 3 ID : 630680424317

Option 4 ID : 630680424319

Status : Answered

Chosen Option : 3

Q.12 7 इकाई त्रिज्या और 4 इकाई ऊँचाई वाले कैनवास से एक शंक्वाकार तम्बू बनाया जाना है। तम्बू बनाने के लिए कितने कैनवास (वर्ग इकाई में) की ज़रूरत पड़ेगी? ($\pi = \frac{22}{7}$ लें)

- Ans
- ✓ 1. $22\sqrt{65}$
 - ✗ 2. $33\sqrt{65}$
 - ✗ 3. $11\sqrt{65}$
 - ✗ 4. $44\sqrt{65}$

Question Type : MCQ

Question ID : 630680526629

Option 1 ID : 6306802058584

Option 2 ID : 6306802058583

Option 3 ID : 6306802058585

Option 4 ID : 6306802058582

Status : Answered

Chosen Option : 4

Q.13 आठ व्यक्ति दोपहर के भोजन के लिए एक रेस्टोरेंट में गए। उनमें से सात में से प्रत्येक ने अपने भोजन पर ₹80 खर्च किए, जबकि आठवें व्यक्ति ने सभी आठ व्यक्तियों के औसत खर्च से ₹70 अधिक खर्च किए। सभी व्यक्तियों द्वारा कुल कितनी राशि खर्च की गई?

- Ans
- ✗ 1. ₹780
 - ✓ 2. ₹720
 - ✗ 3. ₹560
 - ✗ 4. ₹640

Question Type : MCQ

Question ID : 630680419652

Option 1 ID : 6306801637101

Option 2 ID : 6306801637104

Option 3 ID : 6306801637102

Option 4 ID : 6306801637103

Status : Answered

Chosen Option : 1

Q.14 निम्नलिखित बार ग्राफ वर्ष 2021 और 2022 में अलग-अलग कंपनियों के मासिक मुनाफे (लाख ₹ में) को दर्शाता है। ग्राफ का अध्ययन कीजिए और निम्नलिखित प्रश्न का उत्तर दीजिए।



संदर्भ: Profit earned by companies in 2021 and 2022 - 2021 और 2022 में कंपनियों द्वारा अर्जित मुनाफा, PROFIT (IN LAKHS) - मुनाफा (लाख में), COMPANIES - कंपनियाँ

वर्ष 2021 में कंपनी A, B, C और D द्वारा अर्जित औसत मुनाफे तथा वर्ष 2022 में कंपनी C, D, E और F द्वारा अर्जित औसत मुनाफे का अनुपात कितना है?

- Ans
- 1. 925 : 605
 - 2. 892 : 731
 - 3. 995 : 761
 - 4. 606 : 925

Question Type : MCQ

Question ID : 630680396405

Option 1 ID : 6306801545729

Option 2 ID : 6306801545731

Option 3 ID : 6306801545730

Option 4 ID : 6306801545728

Status : Answered

Chosen Option : 3

Q.15 एक व्यापारी अपने माल पर क्रय मूल्य से 45% अधिक मूल्य अंकित करता है, लेकिन बिक्री के समय 20% की छूट देता है। उसका लाभ क्या है?

- Ans
- 1. 25%
 - 2. 16%
 - 3. 17%
 - 4. 26%

Question Type : MCQ

Question ID : 630680397324

Option 1 ID : 6306801549354

Option 2 ID : 6306801549355

Option 3 ID : 6306801549353

Option 4 ID : 6306801549352

Status : Answered

Chosen Option : 1

Q.16 ₹82/kg मूल्य वाली चाय को ₹92/kg मूल्य वाली चाय के साथ किस अनुपात में मिलाया जाना चाहिए ताकि मिश्रण का मूल्य ₹84.50/kg हो जाए?

Ans 1. 3 : 1

2. 3 : 2

3. 2 : 1

4. 2 : 3

Question Type : MCQ

Question ID : 630680406237

Option 1 ID : 6306801584033

Option 2 ID : 6306801584032

Option 3 ID : 6306801584035

Option 4 ID : 6306801584034

Status : Answered

Chosen Option : 1

Q.17 अरविंद ने Rs.450 में एक किताब खरीदी और उसे Rs.500 में बेच दिया। लाभ प्रतिशत क्या है?

Ans 1. $13\frac{1}{7}\%$

2. $13\frac{1}{9}\%$

3. $11\frac{1}{9}\%$

4. $11\frac{1}{7}\%$

Question Type : MCQ

Question ID : 630680108196

Option 1 ID : 630680419851

Option 2 ID : 630680419850

Option 3 ID : 630680419848

Option 4 ID : 630680419849

Status : Answered

Chosen Option : 4

Q.18 एक निश्चित जमा पर 5.5% वार्षिक दर से साधारण ब्याज एक वर्ष में ₹264 है। उसी जमा राशि पर 6.5% वार्षिक दर से एक वर्ष में कितना अतिरिक्त ब्याज मिलेगा?

Ans 1. ₹49

2. ₹46.5

3. ₹47.5

4. ₹48

Question Type : MCQ

Question ID : 630680400812

Option 1 ID : 6306801563118

Option 2 ID : 6306801563120

Option 3 ID : 6306801563117

Option 4 ID : 6306801563119

Status : Answered

Chosen Option : 2

Q.19 क्रमशः ₹180, ₹240 और ₹200 प्रति किलोग्राम मूल्य वाली तीन अलग-अलग प्रकार की दालों को 1 : 5 : 4 के अनुपात में मिलाया जाता है। इस प्रकार प्राप्त मिश्रण के 1 किलोग्राम मिश्रण का मूल्य क्या होगा?

Ans 1. ₹206

2. ₹218

3. ₹200

4. ₹240

Question Type : MCQ

Question ID : 630680447297

Option 1 ID : 6306801746441

Option 2 ID : 6306801746442

Option 3 ID : 6306801746444

Option 4 ID : 6306801746443

Status : Answered

Chosen Option : 1

Q.20 दी गई तालिका दिए गए वर्षों में तीन अलग-अलग कंपनियों द्वारा निर्मित इकाइयों की संख्या (M), और बेची गई इकाइयों की संख्या (S) (हजार में) को दर्शाती है।

वर्ष	X		Y		Z	
	M	S	M	S	M	S
2017	16.5	11.2	19.6	11.3	13.9	12.0
2018	15.6	12.9	13.2	10.1	15.5	13.6
2019	12.8	10.5	12.1	11.2	17.4	12.2

सभी वर्षों में मिलाकर कंपनी Z द्वारा निर्मित इकाइयों की औसत संख्या क्या है?

Ans 1. 16,100

2. 15,400

3. 16,300

4. 15,600

Question Type : MCQ

Question ID : 630680523778

Option 1 ID : 6306802047266

Option 2 ID : 6306802047265

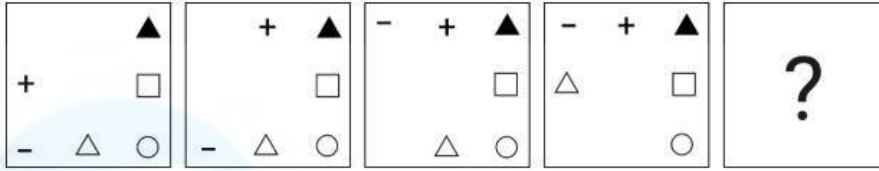
Option 3 ID : 6306802047263

Option 4 ID : 6306802047264

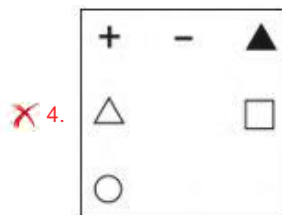
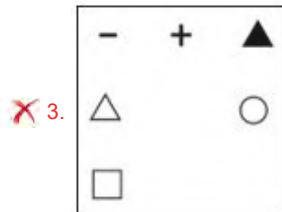
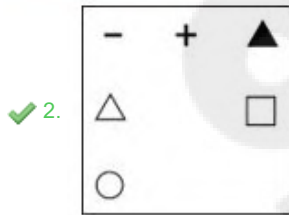
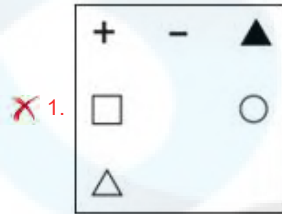
Status : Answered

Chosen Option : 3

Q.1 विकल्पों में दी गई उस आकृति की पहचान कीजिए जिसे "?" के स्थान पर रखे जाने पर श्रृंखला तार्किक रूप से पूर्ण हो जाएगी।



Ans



Question Type : MCQ

Question ID : 630680278553

Option 1 ID : 6306801082500

Option 2 ID : 6306801082498

Option 3 ID : 6306801082497

Option 4 ID : 6306801082499

Status : Answered

Chosen Option : 2

Q.2 दिए गए कथनों और निष्कर्षों को ध्यानपूर्वक पढ़िए। यह मानते हुए कि कथनों में दी गई जानकारी सत्य है, भले ही वे सामान्यतः ज्ञात तथ्यों से भिन्न प्रतीत होते हों, तय कीजिए कि दिए गए निष्कर्षों में से कौन-सा/से निष्कर्ष कथनों का तार्किक रूप से अनुसरण करता है/करते हैं।

कथन:

सभी घोड़े, गधे हैं।
सभी गधे, खच्चर हैं।

निष्कर्ष:

(I) सभी गधे, घोड़े हैं।
(II) कुछ खच्चर, गधे हैं।

- Ans
- 1. केवल निष्कर्ष I अनुसरण करता है
 - 2. केवल निष्कर्ष II अनुसरण करता है
 - 3. निष्कर्ष I और II दोनों अनुसरण करते हैं
 - 4. न तो निष्कर्ष I और न ही II अनुसरण करता है

Question Type : MCQ

Question ID : 630680419669

Option 1 ID : 6306801637169

Option 2 ID : 6306801637170

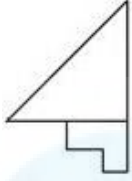
Option 3 ID : 6306801637171

Option 4 ID : 6306801637172

Status : Answered

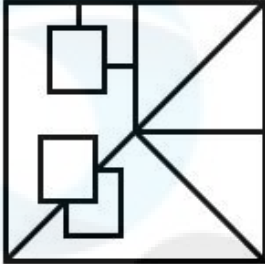
Chosen Option : 3

Q.3 उस विकल्प का चयन कीजिए जिसमें दी गई आकृति सन्निहित है (घूर्णन की अनुमति नहीं है)।

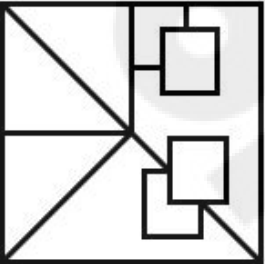


Ans

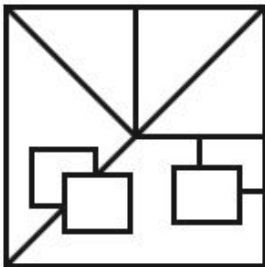
✗ 1.



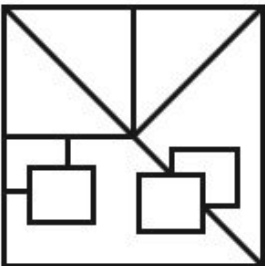
✗ 2.



✓ 3.



✗ 4.



Question Type : MCQ

Question ID : 630680524446

Option 1 ID : 6306802049884

Option 2 ID : 6306802049883

Option 3 ID : 6306802049886

Option 4 ID : 6306802049885

Status : Answered

Chosen Option : 2

Q.4 निम्नलिखित समीकरण को सही करने के लिए किन दो संख्याओं को आपस में बदला जाना चाहिए?

$$12 \times 2 - 6 \times 7 + 3 \times 5 \times 4 + 10 = 46$$

(नोट: अदला-बदली पूरी संख्या की होनी चाहिए, न कि दी गई संख्या के अलग-अलग अंकों की।)

Ans 1. 2 और 4

2. 3 और 6

3. 12 और 10

4. 7 और 5

Question Type : MCQ

Question ID : 630680397639

Option 1 ID : 6306801550480

Option 2 ID : 6306801550481

Option 3 ID : 6306801550479

Option 4 ID : 6306801550478

Status : Answered

Chosen Option : 1

Q.5 एक निश्चित कूटभाषा में, 'FINE' को '9632' के रूप में कूटबद्ध किया गया है और 'LINE' को '2946' के रूप में कूटबद्ध किया गया है। उस भाषा में 'F' के लिए कूट क्या है?

Ans 1. 2

2. 9

3. 6

4. 3

Question Type : MCQ

Question ID : 630680828867

Option 1 ID : 6306803246745

Option 2 ID : 6306803246742

Option 3 ID : 6306803246743

Option 4 ID : 6306803246744

Status : Answered

Chosen Option : 1

Q.6 एक निश्चित कूट भाषा में, 'Try to act' को 'ZX MN HO' के रूप में कूटबद्ध किया जाता है और 'act your age' को 'CO MB ZX' के रूप में कूटबद्ध किया जाता है। इसी कूट भाषा में 'act' को किस प्रकार कूटबद्ध किया जाएगा?

Ans 1. CO

2. MB

3. ZX

4. HO

Question Type : MCQ

Question ID : 630680380410

Option 1 ID : 6306801482635

Option 2 ID : 6306801482636

Option 3 ID : 6306801482637

Option 4 ID : 6306801482638

Status : Answered

Chosen Option : 1

Q.7 GN76 किसी निश्चित प्रकार से UB53 से संबंधित है। ठीक उसी प्रकार, KR34, YF11 से संबंधित है। समान तर्क का अनुसरण करते हुए, OV98 निम्नलिखित में से किससे संबंधित है?

- Ans
- 1. JC68
 - 2. CJ78
 - 3. JC88
 - 4. CJ75

Question Type : MCQ

Question ID : 6306801108767

Option 1 ID : 6306804355616

Option 2 ID : 6306804355614

Option 3 ID : 6306804355617

Option 4 ID : 6306804355615

Status : Answered

Chosen Option : 3

Q.8 दिए गए समीकरण को सही करने के लिए किन दो संख्याओं को आपस में बदला जाना चाहिए?

$$7 \times 4 - 8 \times 2 + 3 \times 14 \times 5 - 9 = 133$$

(नोट: अदला-बदली पूरी संख्या की होनी चाहिए, न कि दी गई संख्या के अलग-अलग अंकों की)

- Ans
- 1. 14 और 9
 - 2. 2 और 4
 - 3. 9 और 8
 - 4. 7 और 14

Question Type : MCQ

Question ID : 630680413405

Option 1 ID : 6306801612445

Option 2 ID : 6306801612446

Option 3 ID : 6306801612447

Option 4 ID : 6306801612444

Status : Answered

Chosen Option : 4

Q.9 निम्नलिखित श्रृंखला में प्रश्न चिन्ह (?) के स्थान पर क्या आना चाहिए?

11, 18, 25, 32, 39, ?

- Ans
- 1. 46
 - 2. 81
 - 3. 90
 - 4. 78

Question Type : MCQ

Question ID : 630680405570

Option 1 ID : 6306801581460

Option 2 ID : 6306801581459

Option 3 ID : 6306801581461

Option 4 ID : 6306801581458

Status : Answered

Chosen Option : 4

Q.10 छः व्यक्ति - A, B, C, D, E और F - एक वृत्ताकार मेज के चारों ओर केंद्र की ओर मुख करके बैठे हैं (परंतु जरूरी नहीं कि वे इसी क्रम में बैठे हों)। E और C दोनों का निकटतम पड़ोसी A है। D और C दोनों का निकटतम पड़ोसी B है। F, D के ठीक दाएँ है। निम्नलिखित में से कौन F और A दोनों का निकटतम पड़ोसी है?

- Ans 1. C
 2. B
 3. D
 4. E

Question Type : MCQ

Question ID : 630680387036

Option 1 ID : 6306801508854

Option 2 ID : 6306801508856

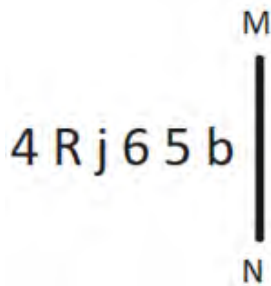
Option 3 ID : 6306801508855

Option 4 ID : 6306801508857

Status : Answered

Chosen Option : 2

Q.11 दी गई आकृति के उस सही दर्पण प्रतिबिंब को चुनिए, जो नीचे दर्शाए गए अनुसार दर्पण को MN पर रखने पर बनेगा।



- Ans 1. d ʔ ə j ʔ t
 2. 5 b ə j ʔ t
 3. d ʔ ə j ʔ t
 4. q ʔ 6 j ʔ t

Question Type : MCQ

Question ID : 630680525255

Option 1 ID : 6306802053106

Option 2 ID : 6306802053104

Option 3 ID : 6306802053105

Option 4 ID : 6306802053107

Status : Answered

Chosen Option : 4

Q.12 एक निश्चित कूट भाषा में, 'cake is delicious' को 'kg fv bu' के रूप में लिखा जाता है और 'you like cake' को 'bu wl ma' के रूप में लिखा जाता है। दी गई भाषा में 'cake' को किस रूप में कूटबद्ध किया गया है?

Ans 1. bu

2. fv

3. ma

4. kg

Question Type : MCQ

Question ID : 630680509058

Option 1 ID : 6306801989531

Option 2 ID : 6306801989529

Option 3 ID : 6306801989530

Option 4 ID : 6306801989528

Status : Answered

Chosen Option : 2

Q.13 अंग्रेजी वर्णानुक्रम के आधार पर NQRP एक निश्चित प्रकार से TWXV से संबंधित है। ठीक उसी प्रकार, EHIG, KNOM से संबंधित है। समान तर्क का अनुसरण करते हुए, LOPN निम्नलिखित में से किससे संबंधित है?

Ans 1. RTVU

2. TVUR

3. RUTV

4. RUVT

Question Type : MCQ

Question ID : 6306801108795

Option 1 ID : 6306804355728

Option 2 ID : 6306804355729

Option 3 ID : 6306804355727

Option 4 ID : 6306804355726

Status : Answered

Chosen Option : 1

Q.14 दिए गए विकल्पों में से उस आकृति को चुनिए जो निम्नलिखित श्रृंखला में प्रश्न चिह्न (?) के स्थान पर आ सकती है और पैटर्न को पूरा कर सकती है।

B	E	T	□	I	E	V	T	B	E	□	T	
	□	V		B	T		E	I		V	B	?
I			V			□			I			

Ans

✗ 1.

I	T	B
	□	V
E		

✗ 2.

T	E	□
	I	V
B		

✓ 3.

I	B	V
	T	□
E		

✗ 4.

I	V	□
	B	T
E		

Question Type : MCQ

Question ID : 630680441097

Option 1 ID : 6306801722044

Option 2 ID : 6306801722042

Option 3 ID : 6306801722043

Option 4 ID : 6306801722045

Status : Answered

Chosen Option : 2

Q.15 इस प्रश्न में दो कथन दिए गए हैं, जिसके बाद दो निष्कर्ष I और II दिए गए हैं। कथनों को सत्य मानते हुए, चाहे वह सामान्यतः ज्ञात तथ्यों से भिन्न प्रतीत होते हों और निर्णय लीजिए कि दिए गए निष्कर्षों में से कौन-सा/कौन-से निष्कर्ष कथनों का तार्किक रूप से अनुसरण करता है/करते हैं।

कथन:

सभी गाय, बकरियां हैं।
कुछ बकरियां, शेर हैं।

निष्कर्ष:

I. सभी शेर, बकरियां हैं।
II. कुछ गाय, शेर हैं।

- Ans
- 1. केवल निष्कर्ष I अनुसरण करता है।
 - 2. निष्कर्ष I और II दोनों अनुसरण करते हैं।
 - 3. न तो निष्कर्ष I और न ही II अनुसरण करता है।
 - 4. केवल निष्कर्ष II अनुसरण करता है।

Question Type : MCQ

Question ID : 630680518969

Option 1 ID : 6306802028336

Option 2 ID : 6306802028338

Option 3 ID : 6306802028339

Option 4 ID : 6306802028337

Status : Answered

Chosen Option : 3

Q.16 उस समुच्चय का चयन कीजिए जिसमें संख्याएं ठीक उसी प्रकार संबंधित हैं जिस प्रकार दिए गए समुच्चयों की संख्याएं संबंधित हैं।

(ध्यान दें: संख्याओं को उनके घटक अंकों में अलग-अलग किए बिना पूर्ण संख्याओं पर संक्रियाएं की जानी चाहिए। उदाहरण के लिए संख्या 13 - संख्या 13 पर संक्रियाएं जैसे 13 को जोड़ना/घटाना/गुणा करना आदि किया जा सकता है। 13 को 1 और 3 में अलग-अलग करने की और फिर 1 और 3 पर गणितीय संक्रियाएं करने की अनुमति नहीं है।)

(444, 74, 6)

(666, 37, 18)

- Ans
- 1. (96, 17, 8)
 - 2. (80, 17, 8)
 - 3. (256, 32, 8)
 - 4. (80, 11, 8)

Question Type : MCQ

Question ID : 630680389539

Option 1 ID : 6306801518615

Option 2 ID : 6306801518614

Option 3 ID : 6306801518617

Option 4 ID : 6306801518616

Status : Answered

Chosen Option : 4

Q.17 एक निश्चित तर्क का अनुसरण करते हुए 46, 414 से संबंधित है। ठीक उसी तर्क का अनुसरण करते हुए 52, 468 से संबंधित है। उसी तर्क का अनुसरण करते हुए, 67 निम्नलिखित में से किससे संबंधित है?

(ध्यान दें: संख्याओं को उनके घटक अंकों में अलग-अलग किए बिना पूर्ण संख्याओं पर संक्रियाएं की जानी चाहिए। उदाहरण के लिए संख्या 13 - संख्या 13 पर संक्रियाएं जैसे 13 को जोड़ना/घटाना/गुणा करना आदि किया जा सकता है। 13 को 1 और 3 में अलग-अलग करने की और फिर 1 और 3 पर गणितीय संक्रियाएं करने की अनुमति नहीं है।)

- Ans
- 1. 633
 - 2. 624
 - 3. 658
 - 4. 603

Question Type : MCQ

Question ID : 630680445917

Option 1 ID : 6306801741011

Option 2 ID : 6306801741010

Option 3 ID : 6306801741009

Option 4 ID : 6306801741008

Status : Answered

Chosen Option : 1

Q.18 छः व्यक्ति A, B, C, D, E और F एक वृत्ताकार मेज के चारों ओर केंद्र की ओर मुख करके बैठे हैं (परंतु जरूरी नहीं कि वे इसी क्रम में बैठे हों)। F, D के दाएँ से दूसरे स्थान पर बैठा है। C, F के बाएँ से तीसरे स्थान पर बैठा है। B, D के ठीक दाएँ बैठा है। A, C का निकटतम पड़ोसी नहीं है। E के दाएँ से गिनने पर E और B के बीच में कितने व्यक्ति बैठे हैं?

- Ans
- 1. 4
 - 2. 2
 - 3. 3
 - 4. 1

Question Type : MCQ

Question ID : 630680381641

Option 1 ID : 6306801487495

Option 2 ID : 6306801487496

Option 3 ID : 6306801487497

Option 4 ID : 6306801487498

Status : Answered

Chosen Option : 3

Q.19 एक निश्चित कूट भाषा में, 'FISH' को '4268' के रूप में कूटबद्ध किया जाता है और 'RATS' को '2357' के रूप में कूटबद्ध किया जाता है। उस भाषा में 'S' के लिए कूट क्या है?

- Ans
- 1. 2
 - 2. 5
 - 3. 7
 - 4. 6

Question Type : MCQ

Question ID : 630680449946

Option 1 ID : 6306801756954

Option 2 ID : 6306801756955

Option 3 ID : 6306801756957

Option 4 ID : 6306801756956

Status : Answered

Chosen Option : 2

Q.20 अंग्रेजी वर्णानुक्रम के आधार पर दी गई शृंखला में प्रश्न चिह्न (?) के स्थान पर क्या आना चाहिए?

ABA, BDB, CFC, DHD, ?

- Ans
- 1. GJE
 - 2. GJG
 - 3. EJE
 - 4. EKE

Question Type : MCQ

Question ID : 630680443486

Option 1 ID : 6306801731304

Option 2 ID : 6306801731306

Option 3 ID : 6306801731307

Option 4 ID : 6306801731305

Status : Answered

Chosen Option : 3

Section : General Awareness

Q.1 टेरिडोफाइट (pteridophytes) के बारे में निम्नलिखित में से कौन-सा कथन सत्य है?

कथन:

- A. इनमें अश्वपुच्छ (horsetails) और फर्न (ferns) शामिल होते हैं।
- B. टेरिडोफाइट का उपयोग औषधीय प्रयोजनों और मिट्टी-बंधकों (soil-binders) के रूप में किया जाता है।
- C. ये पृथ्वी पर बहुत ही उन्नत प्रकार के पौधे हैं, जो हाल ही में विकसित हुए हैं।
- D. विकासात्मक रूप से, वे पहले ऐसे स्थलीय पौधे हैं, जिनमें संवहनी ऊतक - जाइलम और फ्लोएम होते हैं।

- Ans
- 1. केवल C और D
 - 2. केवल A, B और C
 - 3. केवल A, B और D
 - 4. केवल A और C

Question Type : MCQ

Question ID : 630680542140

Option 1 ID : 6306802119504

Option 2 ID : 6306802119502

Option 3 ID : 6306802119503

Option 4 ID : 6306802119501

Status : Answered

Chosen Option : 3

Q.2 आईसीसी महिला T-20 क्रिकेट विश्वकप एक _____ आयोजन है।

- Ans
- 1. त्रैवार्षिक
 - 2. द्विवार्षिक
 - 3. वार्षिक
 - 4. त्रैमासिक

Question Type : **MCQ**
Question ID : **630680309457**
Option 1 ID : **6306801203983**
Option 2 ID : **6306801203982**
Option 3 ID : **6306801203981**
Option 4 ID : **6306801203984**
Status : **Answered**
Chosen Option : 1

Q.3 अपसारी प्लेट सीमा (Divergent plate boundary) वह सीमा है जो दो ऐसी टेक्टोनिक प्लेटों के बीच होती है, _____।

- Ans
- 1. जो एक-दूसरे से दूर सरक रही हों
 - 2. जो एक-दूसरे की ओर बढ़ती जा रही हों
 - 3. जो एक-दूसरे के आगे क्षैतिज रूप से फिसल रही हों
 - 4. जिसमें एक प्लेट दूसरी प्लेट के नीचे खिसकती जाती है

Question Type : **MCQ**
Question ID : **630680403536**
Option 1 ID : **6306801573654**
Option 2 ID : **6306801573655**
Option 3 ID : **6306801573657**
Option 4 ID : **6306801573656**
Status : **Answered**
Chosen Option : 2

Q.4 राज्यों के उस समूह की पहचान कीजिए जो गरीब कल्याण रोजगार अभियान (जून 2022 तक की स्थिति के अनुसार) का हिस्सा है।

- Ans
- 1. उत्तर प्रदेश और झारखंड
 - 2. असम और पश्चिम बंगाल
 - 3. तमिलनाडु और छत्तीसगढ़
 - 4. हरियाणा और पंजाब

Question Type : **MCQ**
Question ID : **630680304958**
Option 1 ID : **6306801186383**
Option 2 ID : **6306801186384**
Option 3 ID : **6306801186381**
Option 4 ID : **6306801186382**
Status : **Answered**
Chosen Option : 1

Q.5 पद्मा सुब्रह्मण्यम के संदर्भ में निम्नलिखित में से कौन-सा/कौन-से कथन सही है/हैं?

- 1) पद्मा सुब्रह्मण्यम एक प्रसिद्ध भरतनाट्यम नृत्यांगना हैं।
- 2) उन्हें पद्म श्री और पद्म भूषण पुरस्कार प्राप्त हुए हैं।
- 3) उन्हें नृत्य के लिए संगीत नाटक अकादमी पुरस्कार से भी सम्मानित किया गया था।

- Ans
- 1. केवल 2 और 3
 - 2. केवल 1 और 2
 - 3. 1, 2, और 3
 - 4. केवल 1 और 3

Question Type : **MCQ**
Question ID : **630680512000**
Option 1 ID : **6306802000972**
Option 2 ID : **6306802000970**
Option 3 ID : **6306802000973**
Option 4 ID : **6306802000971**
Status : **Answered**
Chosen Option : **3**

Q.6 निम्नलिखित में से कौन-सी भारत की लौह-अयस्क उत्पादक बेल्ट (iron-ore producing belt) नहीं है?

- Ans
- 1. बिलासपुर-पानीपत बेल्ट
 - 2. महाराष्ट्र-गोवा बेल्ट
 - 3. ओडिशा-झारखंड बेल्ट
 - 4. दुर्ग-बस्तर-चंद्रपुर बेल्ट

Question Type : **MCQ**
Question ID : **630680404576**
Option 1 ID : **6306801577801**
Option 2 ID : **6306801577802**
Option 3 ID : **6306801577799**
Option 4 ID : **6306801577800**
Status : **Answered**
Chosen Option : **4**

Q.7 भरहुत स्तूप (Bharhut stupa) की खोज किसने की थी?

- Ans
- 1. जेम्स टॉड (James Tod)
 - 2. अलेक्जेंडर कनिंघम (Alexander Cunningham)
 - 3. जेम्स बर्गस (James Burgess)
 - 4. जेम्स फर्ग्यूसन (James Fergusson)

Question Type : **MCQ**
Question ID : **630680158673**
Option 1 ID : **630680614184**
Option 2 ID : **630680614186**
Option 3 ID : **630680614187**
Option 4 ID : **630680614185**
Status : **Answered**
Chosen Option : **3**

Q.8 जुलाई 2023 में, तमिलनाडु के तिरुपत्तूर जिले में जिला ग्रामीण विकास अभिकरण (District Rural Development Agency - DRDA) ने केवल 30 दिनों में 1546 खेत तालाबों (farm pond) का निर्माण करके एक नया विश्व रिकॉर्ड स्थापित करते हुए एक महत्वपूर्ण उपलब्धि हासिल की। यह विशिष्ट पहल किस सरकारी योजना के अंतर्गत की गई थी?

- Ans
- 1. प्रधानमंत्री कृषि सिंचाई योजना
 - 2. महात्मा गांधी राष्ट्रीय ग्रामीण रोजगार गारंटी योजना
 - 3. जल जीवन मिशन
 - 4. मिशन अमृत सरोवर

Question Type : MCQ

Question ID : 630680469520

Option 1 ID : 6306801833849

Option 2 ID : 6306801833847

Option 3 ID : 6306801833848

Option 4 ID : 6306801833850

Status : Answered

Chosen Option : 3

Q.9 2022-23 सीज़न में कर्नाटक ने संतोष ट्रॉफी प्रतियोगिता का कौन-सा संस्करण जीता?

- Ans
- 1. 75वां
 - 2. 76वां
 - 3. 78वां
 - 4. 73वां

Question Type : MCQ

Question ID : 630680571869

Option 1 ID : 6306802236372

Option 2 ID : 6306802236375

Option 3 ID : 6306802236374

Option 4 ID : 6306802236373

Status : Answered

Chosen Option : 4

Q.10 विजयनगर साम्राज्य के संस्थापक हरिहर और बुक्का राय _____ के मंत्री थे।

- Ans
- 1. पश्चिमी चालुक्य (Western Chalukya)
 - 2. काम्पिली (Kampili)
 - 3. पूर्वी गंगा (Eastern Ganga)
 - 4. कदम्ब (Kadamba)

Question Type : MCQ

Question ID : 630680333524

Option 1 ID : 6306801297370

Option 2 ID : 6306801297372

Option 3 ID : 6306801297371

Option 4 ID : 6306801297369

Status : Answered

Chosen Option : 1

Q.11 निम्नलिखित में से किसने अहिंसक क्रांतिकारियों का एक समूह खुदाई खिदमतगार (लाल कुर्ती के नाम से जाने जाते हैं) का गठन किया था?

- Ans
- 1. चक्रवर्ती राजगोपालाचारी
 - 2. अब्बास तैयबजी
 - 3. जवाहर लाल नेहरू
 - 4. खान अब्दुल गफ्फार खान

Question Type : MCQ

Question ID : 630680305323

Option 1 ID : 6306801187681

Option 2 ID : 6306801187684

Option 3 ID : 6306801187683

Option 4 ID : 6306801187682

Status : Answered

Chosen Option : 2

Q.12 निम्नलिखित में से किस समझौते ने सविनय अवज्ञा आंदोलन (Civil Disobedience Movement) को स्थगित कर दिया था?

- Ans
- 1. गांधी-इरविन समझौता
 - 2. लियाकत-नेहरू समझौता
 - 3. राजा-मुंजे समझौता
 - 4. सिरीमा-गांधी समझौता

Question Type : MCQ

Question ID : 630680302824

Option 1 ID : 6306801177959

Option 2 ID : 6306801177961

Option 3 ID : 6306801177960

Option 4 ID : 6306801177958

Status : Answered

Chosen Option : 1

Q.13 हरेली त्यौहार (Hareli festival) निम्नलिखित में से किस राज्य में मनाया जाता है?

- Ans
- 1. छत्तीसगढ़
 - 2. मणिपुर
 - 3. कर्नाटक
 - 4. महाराष्ट्र

Question Type : MCQ

Question ID : 630680404783

Option 1 ID : 6306801578640

Option 2 ID : 6306801578642

Option 3 ID : 6306801578639

Option 4 ID : 6306801578641

Status : Answered

Chosen Option : 2

Q.14 निम्नलिखित में से पल्लव राजवंश की राजधानी कौन-सी थी?

- Ans
- 1. ऐहोल
 - 2. बादामी
 - 3. मदुरै
 - 4. कांचीपुरम

Question Type : MCQ

Question ID : 630680433796

Option 1 ID : 6306801693147

Option 2 ID : 6306801693149

Option 3 ID : 6306801693148

Option 4 ID : 6306801693150

Status : Answered

Chosen Option : 4

Q.15 बोकारो (Bokaro), बर्नपुर (Burnpur), राउरकेला (Rourkela) इत्यादि निम्नलिखित में से किस उद्योग के विकास के लिए प्रसिद्ध हैं?

- Ans
- 1. ऑटोमोबाइल
 - 2. लोहा और इस्पात
 - 3. डेयरी
 - 4. सॉफ्टवेयर

Question Type : MCQ

Question ID : 630680484463

Option 1 ID : 6306801892170

Option 2 ID : 6306801892172

Option 3 ID : 6306801892173

Option 4 ID : 6306801892171

Status : Answered

Chosen Option : 2

Q.16 महाराष्ट्र के किस तालवादक (percussionist) को पद्म विभूषण 2023 से सम्मानित किया गया है?

- Ans
- 1. जाकिर हुसैन
 - 2. नयन घोष
 - 3. स्वपन चौधरी
 - 4. योगेश समसी

Question Type : MCQ

Question ID : 630680481973

Option 1 ID : 6306801882392

Option 2 ID : 6306801882394

Option 3 ID : 6306801882393

Option 4 ID : 6306801882395

Status : Answered

Chosen Option : 3

Q.17 मई 2023 में, निम्नलिखित में से किस मुख्यमंत्री को भयमुक्त राज्य के निर्माण हेतु भारत रत्न डॉक्टर अंबेडकर पुरस्कार (Bharat Ratna Dr. Ambedkar award) से सम्मानित किया गया?

- Ans
- 1. ममता बनर्जी
 - 2. योगी आदित्यनाथ
 - 3. अशोक गहलोत
 - 4. अरविंद केजरीवाल

Question Type : MCQ
Question ID : 630680488390
Option 1 ID : 6306801907604
Option 2 ID : 6306801907605
Option 3 ID : 6306801907603
Option 4 ID : 6306801907606
Status : Answered
Chosen Option : 2

Q.18 निम्नलिखित में से किस संशोधन द्वारा भारतीय संविधान के भाग III से संपत्ति का अधिकार हटा दिया गया?

- Ans
- 1. 50^{वाँ} संशोधन
 - 2. 64^{वाँ} संशोधन
 - 3. 70^{वाँ} संशोधन
 - 4. 44^{वाँ} संशोधन

Question Type : MCQ
Question ID : 630680547955
Option 1 ID : 6306802142368
Option 2 ID : 6306802142369
Option 3 ID : 6306802142370
Option 4 ID : 6306802142367
Status : Answered
Chosen Option : 3

Q.19 कमलिनी अस्थाना (Kamalini Asthana) निम्नलिखित में से किस नृत्य शैली से संबंधित हैं?

- Ans
- 1. मोहिनीअट्टम
 - 2. मणिपुरी
 - 3. ओडिसी
 - 4. कथक

Question Type : MCQ
Question ID : 630680798910
Option 1 ID : 6306803130449
Option 2 ID : 6306803130447
Option 3 ID : 6306803130448
Option 4 ID : 6306803130446
Status : Answered
Chosen Option : 4

Q.20 निम्नलिखित में से कौन-सी भारत के पहले शिक्षा मंत्री अबुल कलाम आजाद की आत्मकथा है?

- Ans
- 1. माइ कन्ट्री माइ लाइफ (My Country My Life)
 - 2. लॉन्ग वॉक टू फ्रीडम (Long Walk to Freedom)
 - 3. द स्टोरी ऑफ माइ एक्सपेरिमेंट्स विद ट्रुथ (The Story of My Experiments with Truth)
 - 4. इंडिया विंस फ्रीडम (India Wins Freedom)

Question Type : MCQ

Question ID : 630680409404

Option 1 ID : 6306801596448

Option 2 ID : 6306801596446

Option 3 ID : 6306801596447

Option 4 ID : 6306801596445

Status : Answered

Chosen Option : 2

Q.21 निम्नलिखित में से किसे 'नियर मनी (Near Money)' कहा जाता है?

- Ans
- 1. बैंक मुद्रा
 - 2. सिक्के
 - 3. राष्ट्रीय बचत जमा
 - 4. करेंसी नोट

Question Type : MCQ

Question ID : 63068090308

Option 1 ID : 630680350009

Option 2 ID : 630680350006

Option 3 ID : 630680350008

Option 4 ID : 630680350007

Status : Answered

Chosen Option : 4

Q.22 भारतीय संविधान के किस अनुच्छेद के अनुसार, संसद में भारत के राष्ट्रपति तथा संसद के दो सदन होते हैं, जिन्हें काउंसिल ऑफ स्टेट्स (राज्य सभा) और हाउस ऑफ द पीपल (लोकसभा) कहा जाता है?

- Ans
- 1. अनुच्छेद 73
 - 2. अनुच्छेद 67
 - 3. अनुच्छेद 79
 - 4. अनुच्छेद 62

Question Type : MCQ

Question ID : 630680408939

Option 1 ID : 6306801594682

Option 2 ID : 6306801594681

Option 3 ID : 6306801594683

Option 4 ID : 6306801594680

Status : Answered

Chosen Option : 2

Q.23 ऑर्थो-सल्फोबेंज़िमाइड (Ortho-sulphobenzimide) कृत्रिम मधुरकों में से एक है। इसे _____ के नाम से भी जाना जाता है।

- Ans
- 1. सुक्रालोज़ (sucralose)
 - 2. सैकरीन (saccharin)
 - 3. एस्पार्टेम (aspartame)
 - 4. एलिटेम (alitame)

Question Type : MCQ

Question ID : 630680311132

Option 1 ID : 6306801210643

Option 2 ID : 6306801210642

Option 3 ID : 6306801210641

Option 4 ID : 6306801210644

Status : Answered

Chosen Option : 3

Q.24 2024 के अनुमानित आंकड़ों के अनुसार भारत में किस राज्य की जनसंख्या सबसे अधिक है?

- Ans
- 1. बिहार
 - 2. उत्तर प्रदेश
 - 3. राजस्थान
 - 4. केरल

Question Type : MCQ

Question ID : 630680113512

Option 1 ID : 630680439584

Option 2 ID : 630680439585

Option 3 ID : 630680439583

Option 4 ID : 630680439582

Status : Answered

Chosen Option : 2

Q.25 पोटैशियम परमैंगनेट (potassium permanganate) का रासायनिक सूत्र क्या है?

- Ans
- 1. K_3MnO_4
 - 2. $KMnO_4$
 - 3. K_2MnO_3
 - 4. KMn_2O_7

Question Type : MCQ

Question ID : 630680411169

Option 1 ID : 6306801603434

Option 2 ID : 6306801603432

Option 3 ID : 6306801603433

Option 4 ID : 6306801603435

Status : Answered

Chosen Option : 3

Q.1 Select the INCORRECTLY spelt word..

- Ans 1. Pursuit
 2. Occassionaly
 3. Synopsis
 4. Obliterate

Question Type : MCQ
Question ID : 630680566494
Option 1 ID : 6306802214966
Option 2 ID : 6306802214967
Option 3 ID : 6306802214965
Option 4 ID : 6306802214964
Status : Answered
Chosen Option : 2

Q.2 The following sentence has been divided into parts. One of them may contain an error.
Select the part that contains the error from the given options. If you don't find any error, mark 'No error' as your answer.

It is a fact that / girls' hair is usually / long than the boys' hair.

- Ans 1. No error
 2. It is a fact that
 3. long than the boys' hair
 4. girls' hair is usually

Question Type : MCQ
Question ID : 630680628039
Option 1 ID : 6306802458210
Option 2 ID : 6306802458207
Option 3 ID : 6306802458209
Option 4 ID : 6306802458208
Status : Answered
Chosen Option : 4

Q.3 Select the most appropriate form of comparative degree that can substitute the underlined segment in the given sentence.

Neha's house is far from the city than everyone else's.

- Ans 1. more far from the city to
 2. farther from the city than
 3. far from the city to
 4. further from the city than

Question Type : MCQ
Question ID : 630680514696
Option 1 ID : 6306802011412
Option 2 ID : 6306802011409
Option 3 ID : 6306802011410
Option 4 ID : 6306802011411
Status : Answered
Chosen Option : 4

Q.4 Select the most appropriate option to fill in the blank.
Don't be such an _____; we have plenty of time to complete the task.

- Ans
- 1. elephant in the room
 - 2. eat crow
 - 3. easy money
 - 4. eager beaver

Question Type : **MCQ**
Question ID : **630680395429**
Option 1 ID : **6306801541898**
Option 2 ID : **6306801541897**
Option 3 ID : **6306801541896**
Option 4 ID : **6306801541899**
Status : **Answered**
Chosen Option : 1

Q.5 Select the most appropriate option to fill in the blank.
Gandhi's ways of life, if followed in their entirety, will aid us in the creation of a society of peace and _____.

- Ans
- 1. cacophony
 - 2. harmony
 - 3. agitation
 - 4. discord

Question Type : **MCQ**
Question ID : **630680515293**
Option 1 ID : **6306802013627**
Option 2 ID : **6306802013626**
Option 3 ID : **6306802013628**
Option 4 ID : **6306802013625**
Status : **Answered**
Chosen Option : 4

Q.6 Select the option that will improve the underlined part of the given sentence.

Swati came here with the intent of insulting me.

- Ans
- 1. from insulting me
 - 2. off insulting me
 - 3. to insult me
 - 4. for insulting me

Question Type : **MCQ**
Question ID : **630680483236**
Option 1 ID : **6306801887324**
Option 2 ID : **6306801887325**
Option 3 ID : **6306801887322**
Option 4 ID : **6306801887323**
Status : **Answered**
Chosen Option : 3

Q.7 Select the INCORRECTLY spelt word.

- Ans 1. Exaggerate
 2. Perseverance
 3. Connoisseur
 4. Camouflage

Question Type : MCQ
Question ID : 630680540057
Option 1 ID : 6306802111328
Option 2 ID : 6306802111330
Option 3 ID : 6306802111329
Option 4 ID : 6306802111331
Status : Answered
Chosen Option : 3

Q.8 Select the most appropriate synonym of the word given in brackets to fill in the blank.

In an _____(endeavour) to improve the environment of their society, they planted many trees surrounding the parking area.

- Ans 1. aim
 2. ecstasy
 3. axiom
 4. epitome

Question Type : MCQ
Question ID : 630680522085
Option 1 ID : 6306802040668
Option 2 ID : 6306802040671
Option 3 ID : 6306802040669
Option 4 ID : 6306802040670
Status : Answered
Chosen Option : 1

Q.9 Select the most appropriate ANTONYM for the underlined word.

My teacher is very diligent.

- Ans 1. Skilful
 2. Hardworking
 3. Kind
 4. Idle

Question Type : MCQ
Question ID : 630680799086
Option 1 ID : 6306803131144
Option 2 ID : 6306803131143
Option 3 ID : 6306803131145
Option 4 ID : 6306803131142
Status : Answered
Chosen Option : 4

Q.10 Select the correct spelling of the underlined word in the given sentence.

Science explores and explains the natural world through observation and experimentation.

Ans 1. science

2. sience

3. scinece

4. sceince

Question Type : MCQ

Question ID : 630680799093

Option 1 ID : 6306803131171

Option 2 ID : 6306803131170

Option 3 ID : 6306803131173

Option 4 ID : 6306803131172

Status : Answered

Chosen Option : 1

Q.11 Select the most appropriate synonym of the given word.

Abundant

Ans 1. Elusive

2. Skimpy

3. Ample

4. Rare

Question Type : MCQ

Question ID : 630680427110

Option 1 ID : 6306801666515

Option 2 ID : 6306801666513

Option 3 ID : 6306801666516

Option 4 ID : 6306801666514

Status : Answered

Chosen Option : 4

Q.12 Select the most appropriate synonym of the given word.

Congenial

Ans 1. Ethical

2. Pleasant

3. Trivial

4. Ignorant

Question Type : MCQ

Question ID : 630680397586

Option 1 ID : 6306801550268

Option 2 ID : 6306801550265

Option 3 ID : 6306801550266

Option 4 ID : 6306801550267

Status : Answered

Chosen Option : 4

Q.13 Parts of the following sentence have been given as options. Select the option that contains an error.

When I was studying Economics in Delhi University, Ritu was senior than me.

- Ans
- 1. in Delhi University
 - 2. Ritu was
 - 3. When I was studying Economics
 - 4. senior than me

Question Type : **MCQ**
Question ID : **630680514375**
Option 1 ID : **6306802010126**
Option 2 ID : **6306802010127**
Option 3 ID : **6306802010125**
Option 4 ID : **6306802010128**
Status : **Answered**
Chosen Option : **3**

Q.14 Based on the context of the given sentence, select the most appropriate idiom to fill in the blank.

After spending hours working non-stop on the project, the team decided to _____ and go home.

- Ans
- 1. run out of steam
 - 2. call it a day
 - 3. hit the books
 - 4. take it easy

Question Type : **MCQ**
Question ID : **630680750898**
Option 1 ID : **6306802943021**
Option 2 ID : **6306802943018**
Option 3 ID : **6306802943020**
Option 4 ID : **6306802943019**
Status : **Answered**
Chosen Option : **4**

Q.15 Select the most appropriate ANTONYM of the given word.

Elevation

- Ans
- 1. Presentation
 - 2. Demotion
 - 3. Creation
 - 4. Promotion

Question Type : **MCQ**
Question ID : **630680565436**
Option 1 ID : **6306802210685**
Option 2 ID : **6306802210684**
Option 3 ID : **6306802210683**
Option 4 ID : **6306802210682**
Status : **Answered**
Chosen Option : **3**

Q.16 Select the sentence that has a grammatical error.

- Ans 1. She usually walks her dog in the park every morning.
2. The train leaves the station at 8:00 a.m. every day.
3. He don't like spicy food.
4. They play chess together on weekends.

Question Type : **MCQ**
Question ID : **630680543798**
Option 1 ID : **6306802125980**
Option 2 ID : **6306802125982**
Option 3 ID : **6306802125981**
Option 4 ID : **6306802125983**
Status : **Answered**
Chosen Option : **1**

Q.17 Select the option that changes the degree of comparison in the given sentence from superlative to positive without changing the meaning of the sentence.

Kalpana Ahuja is the tallest girl in the colony.

- Ans 1. Many girls in the colony are taller than Kalpana Ahuja.
2. No other girl in the colony is as taller as Kalpana Ahuja.
3. No other girl in the colony is as tall as Kalpana Ahuja.
4. Kalpana Ahuja is as tallest as other girls of the colony.

Question Type : **MCQ**
Question ID : **630680798892**
Option 1 ID : **6306803130377**
Option 2 ID : **6306803130375**
Option 3 ID : **6306803130374**
Option 4 ID : **6306803130376**
Status : **Answered**
Chosen Option : **2**

Q.18 Select the most appropriate option to fill in the blanks.

Chocolate can be _____ without milk; mix cocoa butter, sugar and a puree of fermented, roasted cocoa beans, and you _____ a perfectly respectable dark chocolate.

- Ans 1. made; has
2. made; have
3. making; have
4. make; have

Question Type : **MCQ**
Question ID : **630680546889**
Option 1 ID : **6306802138126**
Option 2 ID : **6306802138127**
Option 3 ID : **6306802138128**
Option 4 ID : **6306802138125**
Status : **Answered**
Chosen Option : **2**

Q.19 Change the following sentence into positive degree.
Ramesh is not stronger than Mahesh.

- Ans**
- 1. Mahesh is as strong as Ramesh.
 - 2. Mahesh is stronger than Ramesh.
 - 3. Mahesh is strongest than Ramesh.
 - 4. Ramesh is as strong than Mahesh.

Question Type : **MCQ**

Question ID : **630680514616**

Option 1 ID : **6306802011091**

Option 2 ID : **6306802011092**

Option 3 ID : **6306802011089**

Option 4 ID : **6306802011090**

Status : **Answered**

Chosen Option : **2**

Q.20 Select the most appropriate option to fill in the blank.

The company's success is attributed to its _____ business strategies.

- Ans**
- 1. mundane
 - 2. innovative
 - 3. worst
 - 4. downtrodden

Question Type : **MCQ**

Question ID : **630680472146**

Option 1 ID : **6306801844295**

Option 2 ID : **6306801844298**

Option 3 ID : **6306801844297**

Option 4 ID : **6306801844296**

Status : **Answered**

Chosen Option : **1**

Comprehension:

In the following passage, some words have been deleted. Read the passage carefully and select the most appropriate option to fill in each blank.

That was a jolly story ____1____ Arthur Ransome told the other day in one of his messages from Petrograd, a place in Russia. A stout old lady was walking __2__ her basket down the middle of a street to the ____3____ confusion of the traffic and with no small peril to herself. It was pointed ____4____ to her that the ____5____ was the place for the foot passengers, but she replied, "I'm going to walk where I like. We've got liberty now."

SubQuestion No : 21

Q.21 Select the most appropriate option to fill in blank number 1.

- Ans
- 1. form
 - 2. about
 - 3. off
 - 4. which

Question Type : **MCQ**

Question ID : **630680627625**

Option 1 ID : **6306802456602**

Option 2 ID : **6306802456601**

Option 3 ID : **6306802456600**

Option 4 ID : **6306802456599**

Status : **Answered**

Chosen Option : **2**

Comprehension:

In the following passage, some words have been deleted. Read the passage carefully and select the most appropriate option to fill in each blank.

That was a jolly story ____1____ Arthur Ransome told the other day in one of his messages from Petrograd, a place in Russia. A stout old lady was walking __2__ her basket down the middle of a street to the ____3____ confusion of the traffic and with no small peril to herself. It was pointed ____4____ to her that the ____5____ was the place for the foot passengers, but she replied, "I'm going to walk where I like. We've got liberty now."

SubQuestion No : 22

Q.22 Select the most appropriate option to fill in blank number 2.

- Ans
- 1. in
 - 2. with
 - 3. beside
 - 4. at

Question Type : **MCQ**

Question ID : **630680627626**

Option 1 ID : **6306802456603**

Option 2 ID : **6306802456606**

Option 3 ID : **6306802456605**

Option 4 ID : **6306802456604**

Status : **Answered**

Chosen Option : **3**

Comprehension:

In the following passage, some words have been deleted. Read the passage carefully and select the most appropriate option to fill in each blank.

That was a jolly story ____1____ Arthur Ransome told the other day in one of his messages from Petrograd, a place in Russia. A stout old lady was walking __2__ her basket down the middle of a street to the ____3____ confusion of the traffic and with no small peril to herself. It was pointed ____4____ to her that the ____5____ was the place for the foot passengers, but she replied, "I'm going to walk where I like. We've got liberty now."

SubQuestion No : 23

Q.23 Select the most appropriate option to fill in blank number 3.

Ans 1. grate

2. great

3. greet

4. garret

Question Type : **MCQ**

Question ID : **630680627627**

Option 1 ID : **6306802456609**

Option 2 ID : **6306802456608**

Option 3 ID : **6306802456607**

Option 4 ID : **6306802456610**

Status : **Answered**

Chosen Option : **2**

Comprehension:

In the following passage, some words have been deleted. Read the passage carefully and select the most appropriate option to fill in each blank.

That was a jolly story ____1____ Arthur Ransome told the other day in one of his messages from Petrograd, a place in Russia. A stout old lady was walking __2__ her basket down the middle of a street to the ____3____ confusion of the traffic and with no small peril to herself. It was pointed ____4____ to her that the ____5____ was the place for the foot passengers, but she replied, "I'm going to walk where I like. We've got liberty now."

SubQuestion No : 24

Q.24 Select the most appropriate option to fill in blank number 4.

Ans 1. so

2. in

3. out

4. by

Question Type : **MCQ**

Question ID : **630680627628**

Option 1 ID : **6306802456614**

Option 2 ID : **6306802456611**

Option 3 ID : **6306802456612**

Option 4 ID : **6306802456613**

Status : **Answered**

Chosen Option : **3**

Comprehension:

In the following passage, some words have been deleted. Read the passage carefully and select the most appropriate option to fill in each blank.

That was a jolly story _____1_____ Arthur Ransome told the other day in one of his messages from Petrograd, a place in Russia. A stout old lady was walking ___2___ her basket down the middle of a street to the _____3_____ confusion of the traffic and with no small peril to herself. It was pointed _____4_____ to her that the _____5_____ was the place for the foot passengers, but she replied, "I'm going to walk where I like. We've got liberty now."

SubQuestion No : 25

Q.25 Select the most appropriate option to fill in blank number 5.

Ans ✓ 1. pavement

✗ 2. market

✗ 3. road

✗ 4. bay

Question Type : **MCQ**

Question ID : **630680627629**

Option 1 ID : **6306802456618**

Option 2 ID : **6306802456617**

Option 3 ID : **6306802456615**

Option 4 ID : **6306802456616**

Status : **Answered**

Chosen Option : **3**