

Multi Tasking Non Technical Staff and Havaldar CBIC and CBN Examination 2024

Roll Number	
Candidate Name	
Venue Name	iON Digital Zone iDZ Sirsakala Bhilai-3
Exam Date	21/10/2024
Exam Time	9:00 AM - 11:00 AM
Subject	MTS Non Tech Havaldar CBIC and CBN Examination 2024

Section : Numerical and Mathematical Ability

Q.1 बार-ग्राफ दिए गए महीनों में पंजीकृत कारों की संख्या और कुल वाहनों की संख्या (हजारों में) दर्शाता है। दिए गए महीनों में पंजीकृत कारों को छोड़कर (other than) वाहनों की कुल संख्या कितनी थी?



- Ans
- 1. 54000
 - 2. 52000
 - 3. 48000
 - 4. 55000

Question Type : MCQ

Question ID : 630680456096

Option 1 ID : 6306801781325

Option 2 ID : 6306801781324

Option 3 ID : 6306801781323

Option 4 ID : 6306801781326

Status : Answered

Chosen Option : 4

Q.2 एक पात्र में एल्कोहॉल और पानी का 80 लीटर मिश्रण 3 : 7 के अनुपात में है। यदि पात्र में से 40 लीटर मिश्रण निकालकर उसके स्थान पर 40 लीटर पानी डाल दिया जाए, तो एल्कोहॉल और पानी का अनुपात कितना हो जाएगा?

Ans 1. 1 : 11

2. 3 : 23

3. 3 : 17

4. 2 : 15

Question Type : MCQ

Question ID : 630680262205

Option 1 ID : 6306801018462

Option 2 ID : 6306801018461

Option 3 ID : 6306801018459

Option 4 ID : 6306801018460

Status : Answered

Chosen Option : 3

Q.3 40 kg, 49 kg, 56 kg, 65 kg और 39 kg वजन वाले पांच सदस्यों के एक परिवार का औसत वजन (kg) में कितना होगा?

Ans 1. 51.8

2. 50.8

3. 48.8

4. 49.8

Question Type : MCQ

Question ID : 630680551633

Option 1 ID : 6306802156760

Option 2 ID : 6306802156758

Option 3 ID : 6306802156759

Option 4 ID : 6306802156757

Status : Answered

Chosen Option : 4

Q.4 यदि एक टोकरी में सेब और नाशपाती 5 : 8 के अनुपात में हैं, तो टोकरी में नाशपाती का प्रतिशत (दो दशमलव स्थानों तक सही) ज्ञात कीजिए।

Ans 1. 61.54%

2. 63.45%

3. 69.5%

4. 59.44%

Question Type : MCQ

Question ID : 630680464497

Option 1 ID : 6306801814023

Option 2 ID : 6306801814024

Option 3 ID : 6306801814026

Option 4 ID : 6306801814025

Status : Answered

Chosen Option : 1

Q.5 दो संख्याएं 7 : 9 के अनुपात में हैं और उनका लघुत्तम समापवर्त्य 630 है। संख्याएं ज्ञात कीजिए।

- Ans
- 1. 56, 72
 - 2. 77, 99
 - 3. 70, 90
 - 4. 63, 81

Question Type : MCQ
Question ID : 630680104338
Option 1 ID : 630680405570
Option 2 ID : 630680405568
Option 3 ID : 630680405569
Option 4 ID : 630680405567
Status : Answered
Chosen Option : 3

Q.6 4 वर्षों के लिए 4% वार्षिक की ब्याज दर पर उधार ली गई राशि ₹3500 पर साधारण ब्याज (₹ में) ज्ञात कीजिए।

- Ans
- 1. 500
 - 2. 560
 - 3. 520
 - 4. 600

Question Type : MCQ
Question ID : 630680591965
Option 1 ID : 6306802316329
Option 2 ID : 6306802316327
Option 3 ID : 6306802316330
Option 4 ID : 6306802316328
Status : Answered
Chosen Option : 2

Q.7 15 m त्रिज्या और 8 m ऊंचाई वाले एक लंब वृत्तीय शंकु का संपूर्ण पृष्ठीय क्षेत्रफल कितना है?

- Ans
- 1. $350 \pi \text{ m}^2$
 - 2. $480 \pi \text{ m}^2$
 - 3. $640 \pi \text{ m}^2$
 - 4. $540 \pi \text{ m}^2$

Question Type : MCQ
Question ID : 630680104060
Option 1 ID : 630680404458
Option 2 ID : 630680404456
Option 3 ID : 630680404457
Option 4 ID : 630680404455
Status : Answered
Chosen Option : 2

Q.8 साधारण ब्याज पर एक धनराशि ऋण पर दी गई थी। 7 वर्ष बाद, उस धनराशि का साधारण ब्याज, उसका $\frac{7}{10}$ हो गया। वार्षिक ब्याज दर ज्ञात कीजिए।

Ans 1. 10%

2. 5%

3. 12%

4. 8%

Question Type : MCQ

Question ID : 630680426373

Option 1 ID : 6306801663587

Option 2 ID : 6306801663585

Option 3 ID : 6306801663588

Option 4 ID : 6306801663586

Status : Answered

Chosen Option : 1

Q.9 अखिल ने ₹4,500 प्रत्येक की दर से दो वस्तुएँ खरीदीं। उसने एक वस्तु को 12% लाभ पर बेचा लेकिन दूसरी वस्तु को हानि पर बेचना पड़ा। यदि उसे पूरे लेन-देन पर ₹395 की हानि हुई, तो दूसरी वस्तु का विक्रय मूल्य कितना था?

Ans 1. ₹3,595

2. ₹3,565

3. ₹3,500

4. ₹3,550

Question Type : MCQ

Question ID : 630680430620

Option 1 ID : 6306801680509

Option 2 ID : 6306801680508

Option 3 ID : 6306801680507

Option 4 ID : 6306801680510

Status : Answered

Chosen Option : 2

Q.10 5 वर्षों के लिए 5% वार्षिक की ब्याज दर पर उधार ली गई राशि ₹2500 पर साधारण ब्याज (₹ में) ज्ञात कीजिए।

Ans 1. 625

2. 665

3. 585

4. 565

Question Type : MCQ

Question ID : 630680591901

Option 1 ID : 6306802316071

Option 2 ID : 6306802316072

Option 3 ID : 6306802316074

Option 4 ID : 6306802316073

Status : Answered

Chosen Option : 1

Q.11 एक कक्षा में दो समूह C और D हैं जिनमें क्रमशः 32 और 40 छात्र हैं। यदि समूह C का औसत वजन 60 kg है और समूह D का औसत वजन 33 kg है, तो पूरी कक्षा का औसत वजन ज्ञात कीजिए।

- Ans
- 1. 45.2 kg
 - 2. 44 kg
 - 3. 45 kg
 - 4. 46.5 kg

Question Type : MCQ

Question ID : 630680455609

Option 1 ID : 6306801779348

Option 2 ID : 6306801779346

Option 3 ID : 6306801779349

Option 4 ID : 6306801779347

Status : Answered

Chosen Option : 3

Q.12 एक व्यक्ति ने एक वस्तु को ₹500 में खरीदा और ₹400 में बेच दिया। उसका हानि प्रतिशत ज्ञात कीजिए।

- Ans
- 1. 20%
 - 2. 100%
 - 3. 25%
 - 4. 30%

Question Type : MCQ

Question ID : 630680107385

Option 1 ID : 630680416907

Option 2 ID : 630680416904

Option 3 ID : 630680416905

Option 4 ID : 630680416906

Status : Answered

Chosen Option : 1

Q.13 b दो राशियों का योग है, जिनमें से एक a^2 के वर्ग के व्युत्क्रमानुपाती है और दूसरी a के अनुक्रमानुपाती है। यदि $a = 3$ या 5 होने पर $b = 49$ हो, तो a और b के बीच संबंध की पहचान कीजिए।

- Ans
- 1. $a = 3b$
 - 2. $b = 2a$
 - 3. $a = 3b^2 - 7/a$
 - 4. $b = 8a + 225/a^2$

Question Type : MCQ

Question ID : 630680262067

Option 1 ID : 6306801017918

Option 2 ID : 6306801017915

Option 3 ID : 6306801017916

Option 4 ID : 6306801017917

Status : Answered

Chosen Option : 3

Q.14 दो व्यक्तियों A और B का औसत वजन 70 kg है। एक अन्य व्यक्ति C, A और B के साथ शामिल हो जाता है और औसत वजन अब 72 kg हो जाता है। यदि एक अन्य व्यक्ति D, जिसका वजन C से 2 kg कम है, A की जगह लेता है, तो B, C और D का औसत वजन 70 kg हो जाता है। A का वजन (kg में) ज्ञात कीजिए।

Ans 1. 80

2. 74

3. 73

4. 75

Question Type : MCQ

Question ID : 630680481008

Option 1 ID : 6306801878616

Option 2 ID : 6306801878619

Option 3 ID : 6306801878617

Option 4 ID : 6306801878618

Status : Answered

Chosen Option : 1

Q.15 10 cm त्रिज्या और 30 cm ऊंचाई वाले एक बेलन को आधार के समानांतर काटकर अलग-अलग साइज़ के दो टुकड़े बनाए जाते हैं। निर्मित बड़े टुकड़े का संपूर्ण पृष्ठीय क्षेत्रफल दिए गए बेलन के संपूर्ण पृष्ठीय क्षेत्रफल का 70% है। छोटे टुकड़े को पिघलाकर गोला बना दिया जाता है। गोले की त्रिज्या (cm में) ज्ञात कीजिए।

Ans 1. $\sqrt[3]{986}$

2. $\sqrt[3]{900}$

3. $\sqrt[3]{821}$

4. $\sqrt[3]{844}$

Question Type : MCQ

Question ID : 630680392977

Option 1 ID : 6306801532245

Option 2 ID : 6306801532244

Option 3 ID : 6306801532243

Option 4 ID : 6306801532242

Status : Answered

Chosen Option : 3

Q.16 एक ट्रेन दूसरी ट्रेन की दोगुनी चाल से चल रही है। ट्रेनों की लंबाई बराबर है। एक ही दिशा में और विपरीत दिशाओं में चलते हुए इन ट्रेनों द्वारा एक दूसरे को पार करने में लगने वाले समय का अनुपात क्रमशः कितना है?

Ans 1. 2:3

2. 3:1

3. 3:2

4. 1:3

Question Type : MCQ

Question ID : 630680136519

Option 1 ID : 630680528708

Option 2 ID : 630680528707

Option 3 ID : 630680528709

Option 4 ID : 630680528706

Status : Answered

Chosen Option : 2

Q.17 एक कमीज के क्रय मूल्य और अंकित मूल्य का अनुपात 3 : 5 है। यदि दुकानदार ने इस कमीज को बेचकर $33\frac{1}{3}\%$ का लाभ कमाया, तो अंकित मूल्य पर दी गई छूट की गणना करें।

Ans 1. 15%

2. 25%

3. 20%

4. 10%

Question Type : MCQ

Question ID : 630680423578

Option 1 ID : 6306801652660

Option 2 ID : 6306801652662

Option 3 ID : 6306801652661

Option 4 ID : 6306801652659

Status : Answered

Chosen Option : 2

Q.18 एक नाव स्थिर जल में 42 km/hr की चाल से चल सकती है। यदि धारा की चाल 3 km/hr है, तो नाव को धारा की दिशा में 157.5 km और फिर धारा की विपरीत दिशा में 78 km जाने में कितना समय (h और min में) लगेगा?

Ans 1. 7 h 25 min

2. 4 h 45 min

3. 5 h 30 min

4. 6 h 20 min

Question Type : MCQ

Question ID : 630680569193

Option 1 ID : 6306802225582

Option 2 ID : 6306802225581

Option 3 ID : 6306802225584

Option 4 ID : 6306802225583

Status : Answered

Chosen Option : 3

Q.19 एक शंकु की त्रिज्या और तिर्यक ऊंचाई का योग शंकु की ऊंचाई का वर्ग है, जबकि त्रिज्या और तिर्यक ऊंचाई के बीच का अंतर केवल 1 cm है। 9 cm ऊंचाई वाले शंकु का कुल पृष्ठीय क्षेत्रफल (cm² में) क्या है? ($\pi = 22/7$ लीजिए) (2 दशमलव स्थान तक पूर्णांकित करें)

- Ans
- 1. 11,282.85
 - 2. 10,128.85
 - 3. 10,182.86
 - 4. 10,437.43

Question Type : MCQ

Question ID : 630680401293

Option 1 ID : 6306801564978

Option 2 ID : 6306801564980

Option 3 ID : 6306801564977

Option 4 ID : 6306801564979

Status : Answered

Chosen Option : 2

Q.20 दी गई तालिका का ध्यानपूर्वक अध्ययन कीजिए और निम्नलिखित प्रश्न का उत्तर दीजिए। नीचे दी गई तालिका 2016-2020 के दौरान तीन कंपनियों द्वारा उत्पादित शीतल पेय की बोतलों (1 L) की संख्या को दर्शाती है।

वर्ष	A (लाख में)	B (लाख में)	C (लाख में)
2016	38000	43000	52000
2017	42000	52000	58000
2018	53000	65000	63000
2019	30000	35000	32000
2020	20000	25000	28000

वर्ष 2018 में B के उत्पादन की तुलना में वर्ष 2020 में B के उत्पादन में कितने प्रतिशत की कमी हुई (दशमलव के दो स्थानों तक सन्निकट)?

- Ans
- 1. 75.50%
 - 2. 60%
 - 3. 61.54%
 - 4. 85.56%

Question Type : MCQ

Question ID : 630680399104

Option 1 ID : 6306801556377

Option 2 ID : 6306801556374

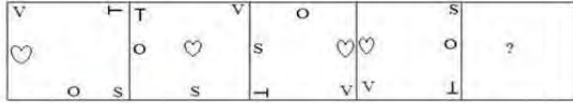
Option 3 ID : 6306801556376

Option 4 ID : 6306801556375

Status : Answered

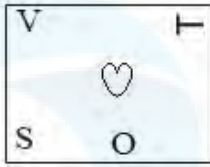
Chosen Option : 1

Q.1 दिए गए विकल्पों में से उस आकृति का चयन कीजिए जो निम्नलिखित श्रृंखला में प्रश्न चिह्न (?) को प्रतिस्थापित कर सकती है।

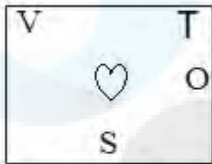


Ans

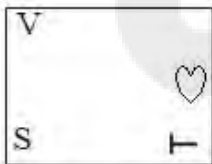
✓ 1.



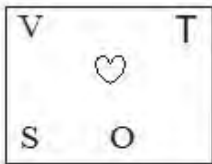
✗ 2.



✗ 3.



✗ 4.



Question Type : MCQ

Question ID : 63068057476

Option 1 ID : 630680221749

Option 2 ID : 630680221748

Option 3 ID : 630680221747

Option 4 ID : 630680221746

Status : Answered

Chosen Option : 1

Q.2 अंग्रेजी वर्णमाला क्रम के आधार पर VDIZ एक निश्चित प्रकार से ZGKA से संबंधित है। ठीक उसी प्रकार, HNAS, LQCT से संबंधित है। उसी तर्क का पालन करते हुए, BJWP निम्नलिखित में से किससे संबंधित है?

Ans ✓ 1. FMYQ

✗ 2. ENAS

✗ 3. DKXR

✗ 4. DLZR

Question Type : MCQ

Question ID : 630680929548

Option 1 ID : 6306803643033

Option 2 ID : 6306803643036

Option 3 ID : 6306803643034

Option 4 ID : 6306803643035

Status : Answered

Chosen Option : 1

Q.3 एक निश्चित कूट भाषा में, 'HOST' को '2846' के रूप में कूटबद्ध किया जाता है और 'TEAM' को '3587' के रूप में कूटबद्ध किया जाता है। दी गई कूट भाषा में 'T' के लिए कूट क्या है?

- Ans
- 1. 3
 - 2. 6
 - 3. 7
 - 4. 8

Question Type : MCQ

Question ID : 630680815676

Option 1 ID : 6306803196006

Option 2 ID : 6306803196007

Option 3 ID : 6306803196008

Option 4 ID : 6306803196005

Status : Answered

Chosen Option : 4

Q.4 एक निश्चित कूट भाषा में, 'life is rude' को 'tp ck gn' के रूप में लिखा जाता है और 'this isn't life' को 'gn dl sb' के रूप में लिखा जाता है। इसी कूट भाषा में 'life' को किस प्रकार लिखा जाएगा?

- Ans
- 1. dl
 - 2. gn
 - 3. ck
 - 4. tp

Question Type : MCQ

Question ID : 630680387619

Option 1 ID : 6306801511143

Option 2 ID : 6306801511142

Option 3 ID : 6306801511144

Option 4 ID : 6306801511145

Status : Answered

Chosen Option : 2

Q.5 यदि '+' और '-' को आपस में बदल दिया जाए तथा 'x' और '÷' को आपस में बदल दिया जाए, तो निम्नलिखित समीकरण में प्रश्न चिह्न (?) के स्थान पर क्या आएगा?

$$121 + 1 - 6 \div 16 \times 8 = ?$$

- Ans
- 1. 132
 - 2. 145
 - 3. 164
 - 4. 124

Question Type : MCQ

Question ID : 630680378700

Option 1 ID : 6306801475850

Option 2 ID : 6306801475849

Option 3 ID : 6306801475848

Option 4 ID : 6306801475847

Status : Answered

Chosen Option : 1

Q.6 उस समुच्चय का चयन कीजिए जिसमें संख्याएँ ठीक उसी प्रकार संबंधित हैं, जिस प्रकार निम्नलिखित समुच्चयों की संख्याएँ संबंधित हैं।

(ध्यान दें: संख्याओं को उनके घटक अंकों में अलग-अलग किए बिना पूर्ण संख्याओं पर संक्रियाएं की जानी चाहिए। उदाहरण के लिए संख्या 13 - संख्या 13 पर संक्रियाएं जैसे 13 को जोड़ना/घटाना/गुणा करना आदि किया जा सकता है। 13 को 1 और 3 में अलग-अलग करने की और फिर 1 और 3 पर गणितीय संक्रियाएं करने की अनुमति नहीं है।)

(5, 14, 24)

(9, 6, 24)

- Ans
- 1. (21, 23, 55)
 - 2. (17, 10, 42)
 - 3. (11, 12, 34)
 - 4. (15, 19, 89)

Question Type : MCQ

Question ID : 6306801031181

Option 1 ID : 6306804047482

Option 2 ID : 6306804047481

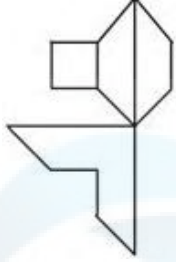
Option 3 ID : 6306804047479

Option 4 ID : 6306804047480

Status : Answered

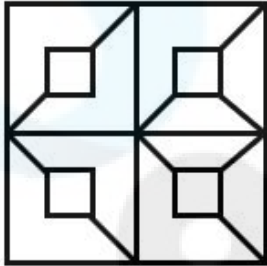
Chosen Option : 3

Q.7 उस विकल्प का चयन कीजिए जिसमें दी गई आकृति सन्निहित है (घूर्णन की अनुमति नहीं है)।

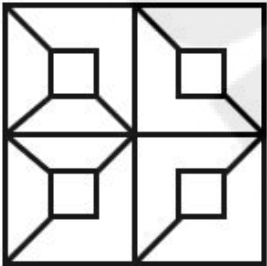


Ans

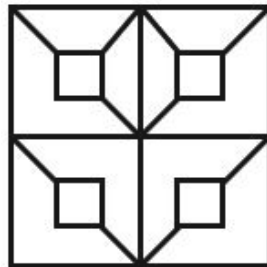
✗ 1.



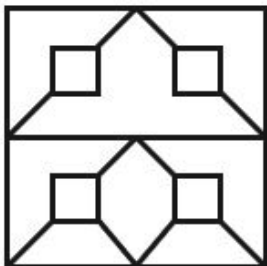
✗ 2.



✓ 3.



✗ 4.



Question Type : MCQ

Question ID : 630680524453

Option 1 ID : 6306802049911

Option 2 ID : 6306802049914

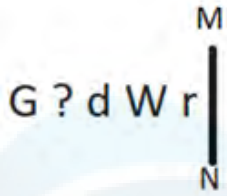
Option 3 ID : 6306802049913

Option 4 ID : 6306802049912

Status : Answered

Chosen Option : 3

Q.8 यदि दर्पण को नीचे दिखाए गए अनुसार MN पर रखा जाए, तो दी गई आकृति के सही दर्पण प्रतिबिंब का चयन कीजिए।



- Ans
- 1. r W b ? G
 - 2. r M p ? G
 - 3. r W b ? G
 - 4. r W P ? G

Question Type : MCQ

Question ID : 630680525316

Option 1 ID : 6306802053350

Option 2 ID : 6306802053348

Option 3 ID : 6306802053351

Option 4 ID : 6306802053349

Status : Answered

Chosen Option : 3

Q.9 किसी निश्चित कूट भाषा में, 'COST' को '5971' के रूप में कूटबद्ध किया जाता है और 'SALE' को '8692' के रूप में कूटबद्ध किया जाता है। उसी भाषा में 'S' के लिए क्या कूट होगा?

- Ans
- 1. 8
 - 2. 6
 - 3. 9
 - 4. 7

Question Type : MCQ

Question ID : 630680386588

Option 1 ID : 6306801507063

Option 2 ID : 6306801507064

Option 3 ID : 6306801507065

Option 4 ID : 6306801507062

Status : Answered

Chosen Option : 3

Q.10 एक निश्चित कूट भाषा में, 'CREAM' को '24598' लिखा जाता है और 'CARES' को '59782' लिखा जाता है। उसी कूट भाषा में 'M' को कैसे लिखा जाएगा?

Ans 1. 4

2. 7

3. 9

4. 2

Question Type : MCQ

Question ID : 630680439106

Option 1 ID : 6306801714236

Option 2 ID : 6306801714237

Option 3 ID : 6306801714238

Option 4 ID : 6306801714239

Status : Answered

Chosen Option : 1

Q.11 दिए गए कथनों और निष्कर्षों को ध्यानपूर्वक पढ़िए। यह मानते हुए कि कथनों में दी गई जानकारी सत्य है, चाहे वह सामान्यतः ज्ञात तथ्यों से भिन्न प्रतीत होती हो और निर्णय लीजिए कि दिए गए निष्कर्षों में से कौन-सा/कौन-से निष्कर्ष कथनों का तार्किक रूप से अनुसरण करता है/करते हैं।

कथन:

सभी अंडे, चूजे हैं।

कोई चूजा, मुर्गी नहीं है।

निष्कर्ष:

(I) सभी चूजे, अंडे हैं।

(II) कोई अंडा, मुर्गी नहीं है।

Ans 1. केवल निष्कर्ष I अनुसरण करता है

2. न तो निष्कर्ष I और न ही निष्कर्ष II अनुसरण करता है

3. निष्कर्ष I और निष्कर्ष II दोनों अनुसरण करते हैं

4. केवल निष्कर्ष II अनुसरण करता है

Question Type : MCQ

Question ID : 630680379578

Option 1 ID : 6306801479355

Option 2 ID : 6306801479358

Option 3 ID : 6306801479357

Option 4 ID : 6306801479356

Status : Answered

Chosen Option : 1

Q.12 सात मित्र - P, Q, R, A, X, Y और Z, एक वृत्ताकार मेज के चारों ओर केंद्र की ओर मुख करके बैठे हैं (परंतु जरूरी नहीं कि वे इसी क्रम में बैठे हों)। Y, Q के दाएँ से छठे स्थान पर बैठा है। P, Y के बाएँ से तीसरे स्थान पर बैठा है। Q और X दोनों A के निकटतम पड़ोसी हैं। Z, P के ठीक दाएँ बैठा है। R के ठीक दाएँ कौन बैठा है?

- Ans 1. Q
 2. X
 3. P
 4. Y

Question Type : MCQ

Question ID : 630680378915

Option 1 ID : 6306801476710

Option 2 ID : 6306801476708

Option 3 ID : 6306801476707

Option 4 ID : 6306801476709

Status : Answered

Chosen Option : 4

Q.13 दी गई श्रृंखला में प्रश्नवाचक चिन्ह (?) के स्थान पर क्या आना चाहिए?

7 ? 22 37 57 82

- Ans 1. 17
 2. 20
 3. 12
 4. 10

Question Type : MCQ

Question ID : 630680819517

Option 1 ID : 6306803210265

Option 2 ID : 6306803210266

Option 3 ID : 6306803210264

Option 4 ID : 6306803210263

Status : Answered

Chosen Option : 3

Q.14 नीचे दिए गए कथनों और निष्कर्षों को ध्यान से पढ़िए। कथनों में दी गई जानकारी को सत्य मानते हुए, चाहे वह सामान्य रूप से ज्ञात तथ्यों से भिन्न प्रतीत होती हो, निर्धारित कीजिए कि कौन-सा/से निष्कर्ष, कथन (कथनों) का तार्किक रूप से अनुसरण करता है/करते हैं।

कथन:

कुछ चटाई, कालीन हैं।
सभी कालीन, चादरें हैं।

निष्कर्ष:

(I) कुछ चटाई, चादरें हैं।
(II) सभी चादरें, कालीन हैं।

- Ans
- 1. केवल निष्कर्ष (I) अनुसरण करता है।
 - 2. केवल निष्कर्ष (II) अनुसरण करता है।
 - 3. न तो निष्कर्ष (I) और न ही (II) अनुसरण करता है।
 - 4. निष्कर्ष (I) और (II) दोनों अनुसरण करते हैं।

Question Type : MCQ

Question ID : 630680832753

Option 1 ID : 6306803261993

Option 2 ID : 6306803261994

Option 3 ID : 6306803261995

Option 4 ID : 6306803261996

Status : Answered

Chosen Option : 4

Q.15 यदि '+' और '-' को आपस में बदल दिया जाए तथा 'x' और '÷' को आपस में बदल दिया जाए, तो निम्नलिखित समीकरण में प्रश्न-चिह्न (?) के स्थान पर क्या आएगा?
 $25 - 45 \times 9 \div 5 + 20 = ?$

- Ans
- 1. 32
 - 2. 33
 - 3. 35
 - 4. 30

Question Type : MCQ

Question ID : 630680273691

Option 1 ID : 6306801063284

Option 2 ID : 6306801063285

Option 3 ID : 6306801063286

Option 4 ID : 6306801063283

Status : Answered

Chosen Option : 4

Q.16 5, किसी निश्चित तर्क का अनुसरण करते हुए, 77 से संबंधित है। 9, समान तर्क का अनुसरण करते हुए, 137 से संबंधित है। समान तर्क का अनुसरण करते हुए, 3, निम्नलिखित में से किससे संबंधित है?

(ध्यान दें: संख्याओं को उनके घटक अंकों में अलग-अलग किए बिना पूर्ण संख्याओं पर संक्रियाएं की जानी चाहिए। उदाहरण के लिए संख्या 13 - संख्या 13 पर संक्रियाएं जैसे 13 को जोड़ना/घटाना/गुणा करना आदि किया जा सकता है। 13 को 1 और 3 में अलग-अलग करने की और फिर 1 और 3 पर गणितीय संक्रियाएं करने की अनुमति नहीं है।)

- Ans
- 1. 44
 - 2. 45
 - 3. 49
 - 4. 47

Question Type : MCQ

Question ID : 630680450182

Option 1 ID : 6306801757876

Option 2 ID : 6306801757877

Option 3 ID : 6306801757878

Option 4 ID : 6306801757875

Status : Answered

Chosen Option : 4

Q.17 A, B, C, D, E, F और G एक वृत्ताकार मेज के चारों ओर केंद्र की ओर मुख करके बैठे हैं (परंतु जरूरी नहीं कि वे इसी क्रम में बैठे हों)। D के बाईं ओर से गिनती करने पर B और D के बीच में केवल 2 व्यक्ति बैठे हैं। E और C, A के निकटतम पड़ोसी हैं। G, F के ठीक दाईं ओर बैठा है। E के दाईं ओर से गिनती करने पर F और E के बीच में केवल 1 व्यक्ति बैठा है। F के ठीक बाईं ओर कौन बैठा है?

- Ans
- 1. D
 - 2. B
 - 3. A
 - 4. G

Question Type : MCQ

Question ID : 630680411163

Option 1 ID : 6306801603411

Option 2 ID : 6306801603408

Option 3 ID : 6306801603410

Option 4 ID : 6306801603409

Status : Answered

Chosen Option : 3

Q.18 दिए गए विकल्पों में से उस आकृति को चुनिए जो निम्नलिखित श्रृंखला में प्रश्न चिह्न (?) के स्थान पर आ सकती है और पैटर्न को पूरा कर सकती है।

S	O	R	R	S	O	=	4	R	R	=	4	
Z	4	△	△	Z	4	S	V	P	P	S	V	?
P	+	=	=	P	+	+	△	O	O	+	△	

Ans

✓ 1.

O	V	R
=	2	+
△	P	4

✗ 2.

4	P	△
+	2	=
R	△	O

✗ 3.

O	P	R
+	2	=
△	V	4

✗ 4.

4	V	△
=	2	+
R	P	O

Question Type : MCQ

Question ID : 630680441098

Option 1 ID : 6306801722046

Option 2 ID : 6306801722047

Option 3 ID : 6306801722048

Option 4 ID : 6306801722049

Status : Answered

Chosen Option : 3

Q.19 CTUV अंग्रेजी वर्णानुक्रम के आधार पर एक निश्चित प्रकार से EVXW से संबंधित है। ठीक उसी प्रकार, BKGI, DMIK से संबंधित है। उसी तर्क का अनुसरण करते हुए, SAEH निम्नलिखित में से किससे संबंधित है?

- Ans
- 1. MPEF
 - 2. HYTF
 - 3. UCGJ
 - 4. LOJI

Question Type : MCQ

Question ID : 630680397970

Option 1 ID : 6306801551897

Option 2 ID : 6306801551894

Option 3 ID : 6306801551896

Option 4 ID : 6306801551895

Status : Answered

Chosen Option : 3

Q.20 अंग्रेजी वर्णानुक्रम के आधार पर दी गई श्रृंखला में प्रश्न चिह्न (?) के स्थान पर क्या आना चाहिए?

AZB, BYC, CXD, DWE, ?

- Ans
- 1. FVE
 - 2. EVF
 - 3. EFU
 - 4. GUH

Question Type : MCQ

Question ID : 630680441676

Option 1 ID : 6306801724318

Option 2 ID : 6306801724319

Option 3 ID : 6306801724321

Option 4 ID : 6306801724320

Status : Answered

Chosen Option : 2

Section : General Awareness

Q.1 निम्नलिखित में से किस मामले में भारत के सर्वोच्च न्यायालय ने संविधान के मूल संरचना सिद्धांत (Basic Structure Doctrine) का प्रतिपादन किया?

- Ans
- 1. इंदिरा गांधी बनाम राज नारायण मामला
 - 2. गोलकनाथ बनाम पंजाब राज्य मामला
 - 3. मेनका गांधी बनाम भारत संघ मामला
 - 4. केशवानंद भारती बनाम केरल राज्य मामला

Question Type : MCQ

Question ID : 630680735746

Option 1 ID : 6306802883702

Option 2 ID : 6306802883700

Option 3 ID : 6306802883703

Option 4 ID : 6306802883701

Status : Answered

Chosen Option : 4

Q.2 इलेक्ट्रॉन का आवेश क्या होता है?

Ans 1. ऋणात्मक

2. परिवर्ती

3. उदासीन

4. धनात्मक

Question Type : MCQ

Question ID : 630680681911

Option 1 ID : 6306802670822

Option 2 ID : 6306802670823

Option 3 ID : 6306802670821

Option 4 ID : 6306802670820

Status : Answered

Chosen Option : 1

Q.3 फुगड़ी (Fugdi) _____ राज्य का एक प्रसिद्ध नृत्य है।

Ans 1. गोवा

2. उत्तराखंड

3. पंजाब

4. तमिलनाडु

Question Type : MCQ

Question ID : 630680465737

Option 1 ID : 6306801818985

Option 2 ID : 6306801818983

Option 3 ID : 6306801818986

Option 4 ID : 6306801818984

Status : Answered

Chosen Option : 3

Q.4 पुष्यमित्र शुंग (Pushyamitra Sunga) की राजधानी कहां थी?

Ans 1. पाटलिपुत्र

2. नालन्दा

3. कलिंग

4. कटक

Question Type : MCQ

Question ID : 630680433805

Option 1 ID : 6306801693185

Option 2 ID : 6306801693184

Option 3 ID : 6306801693186

Option 4 ID : 6306801693183

Status : Answered

Chosen Option : 1

Q.5 1527 ई. में, बाबर ने _____ की लड़ाई में मेवाड़ के राजपूत शासक राणा सांगा को हराया था।

- Ans
- 1. तराइन
 - 2. पानीपत
 - 3. खानवा
 - 4. चंदेरी

Question Type : MCQ
Question ID : 630680282928
Option 1 ID : 6306801099845
Option 2 ID : 6306801099843
Option 3 ID : 6306801099844
Option 4 ID : 6306801099846
Status : Answered
Chosen Option : 2

Q.6 काला घोड़ा कला महोत्सव (Kala Ghoda Arts Festival) प्रतिवर्ष कहाँ आयोजित किया जाता है?

- Ans
- 1. बेंगलुरु
 - 2. मुंबई
 - 3. नई दिल्ली
 - 4. चेन्नई

Question Type : MCQ
Question ID : 630680157733
Option 1 ID : 630680610461
Option 2 ID : 630680610463
Option 3 ID : 630680610462
Option 4 ID : 630680610460
Status : Answered
Chosen Option : 3

Q.7 गुंबद के आकार के उस स्मारक को क्या कहा जाता है जिसमें बौद्ध धर्म से संबंधित पवित्र अवशेष (sacred relics) समाविष्ट होते हैं?

- Ans
- 1. चैत्य
 - 2. स्तंभ
 - 3. विहार
 - 4. स्तूप

Question Type : MCQ
Question ID : 630680555020
Option 1 ID : 6306802169657
Option 2 ID : 6306802169658
Option 3 ID : 6306802169656
Option 4 ID : 6306802169659
Status : Answered
Chosen Option : 4

Q.8 बहुआयामी गरीबी सूचकांक (Multidimensional Poverty Index) 2023 के अनुसार, किस केंद्र शासित प्रदेश में गरीबों का प्रतिशत सबसे कम है?

- Ans
- 1. चंडीगढ़
 - 2. लक्षद्वीप
 - 3. दिल्ली
 - 4. पुदुच्चेरी

Question Type : MCQ

Question ID : 630680694799

Option 1 ID : 6306802721456

Option 2 ID : 6306802721457

Option 3 ID : 6306802721455

Option 4 ID : 6306802721458

Status : Not Answered

Chosen Option : --

Q.9 'धनसिरी (Dhansiri)' और 'सुबनसिरी (Subansiri)' _____ नदी की सहायक नदियाँ हैं।

- Ans
- 1. गोदावरी
 - 2. ब्रह्मपुत्र
 - 3. सतलुज
 - 4. महानदी

Question Type : MCQ

Question ID : 630680511001

Option 1 ID : 6306801997134

Option 2 ID : 6306801997136

Option 3 ID : 6306801997137

Option 4 ID : 6306801997135

Status : Answered

Chosen Option : 2

Q.10 निम्नलिखित में से किस रिपोर्ट को संघीय प्रणाली के सफल कामकाज के लिए लचीलापन प्रदान करने के लिए एक खण्डशः प्रयास (piecemeal effort) माना जाता है?

- Ans
- 1. कपूर आयोग
 - 2. सरकारिया आयोग
 - 3. कोठारी आयोग
 - 4. ठक्कर आयोग

Question Type : MCQ

Question ID : 630680161110

Option 1 ID : 630680623804

Option 2 ID : 630680623807

Option 3 ID : 630680623805

Option 4 ID : 630680623806

Status : Not Answered

Chosen Option : --

Q.11 भारत की जनगणना की मानक परिभाषा के अनुसार, सीमांत श्रमिक (marginal worker) वह व्यक्ति होता है, जो एक वर्ष में ____ दिन से कम कार्य करता है।

- Ans
- 1. 180
 - 2. 170
 - 3. 173
 - 4. 183

Question Type : MCQ
Question ID : 630680477671
Option 1 ID : 6306801865833
Option 2 ID : 6306801865835
Option 3 ID : 6306801865834
Option 4 ID : 6306801865832
Status : Answered
Chosen Option : 1

Q.12 बॉर्डर-गावस्कर ट्रॉफी _____ के बीच खेली जाती है।

- Ans
- 1. भारत और इंग्लैंड
 - 2. भारत और न्यूजीलैंड
 - 3. भारत और पाकिस्तान
 - 4. भारत और ऑस्ट्रेलिया

Question Type : MCQ
Question ID : 630680309465
Option 1 ID : 6306801204015
Option 2 ID : 6306801204014
Option 3 ID : 6306801204013
Option 4 ID : 6306801204016
Status : Answered
Chosen Option : 3

Q.13 अप्रैल 2023 में, वाइब्रेंट विलेज कार्यक्रम (Vibrant Village Program) किसके द्वारा शुरू किया गया था?

- Ans
- 1. नरेंद्र मोदी
 - 2. अश्विनी वैष्णव
 - 3. अमित शाह
 - 4. हरदीप पुरी

Question Type : MCQ
Question ID : 630680465532
Option 1 ID : 6306801818165
Option 2 ID : 6306801818164
Option 3 ID : 6306801818166
Option 4 ID : 6306801818163
Status : Not Answered
Chosen Option : --

Q.14 भारत में संपत्ति कर (wealth taxes) और उपहार कर (gift taxes) को कागजी कर के रूप में क्यों माना जाता है?

- Ans
- 1. करदाताओं को केवल कागजों में फॉर्म भरकर रिटर्न जमा करना होगा।
 - 2. सरकार के लिए ये कर वसूल करना अनिवार्य नहीं है।
 - 3. वे दूसरों करों की तुलना में अधिक राजस्व उत्पन्न नहीं करते हैं।
 - 4. इनका भुगतान केवल सरकारी कर्मचारियों, संसद और विधान सभाओं के सदस्यों द्वारा किया जाता है।

Question Type : MCQ

Question ID : 630680422557

Option 1 ID : 6306801648663

Option 2 ID : 6306801648666

Option 3 ID : 6306801648664

Option 4 ID : 6306801648665

Status : Answered

Chosen Option : 1

Q.15 निम्नलिखित में से किसे संसद रत्न पुरस्कार 2023 से सम्मानित किया गया और वह पश्चिम बंगाल से लोकसभा में भारतीय राष्ट्रीय कांग्रेस का प्रतिनिधित्व करते हैं?

- Ans
- 1. बिद्युत बरन महतो
 - 2. कुलदीप राय शर्मा
 - 3. अधीर रंजन चौधरी
 - 4. सुधीर गुप्ता

Question Type : MCQ

Question ID : 630680468761

Option 1 ID : 6306801830838

Option 2 ID : 6306801830837

Option 3 ID : 6306801830836

Option 4 ID : 6306801830835

Status : Answered

Chosen Option : 3

Q.16 1905 में भारतीय राष्ट्रीय कांग्रेस के बनारस अधिवेशन की अध्यक्षता _____ ने की थी।

- Ans
- 1. महात्मा गाँधी
 - 2. सुभाष चंद्र बोस
 - 3. गोपाल कृष्ण गोखले
 - 4. जवाहर लाल नेहरू

Question Type : MCQ

Question ID : 630680282902

Option 1 ID : 6306801099739

Option 2 ID : 6306801099740

Option 3 ID : 6306801099742

Option 4 ID : 6306801099741

Status : Answered

Chosen Option : 3

Q.17 निम्नलिखित में से किस जल निकाय को महासागर की नर्सरी (nurseries of the ocean) के रूप में भी जाना जाता है?

- Ans
- 1. दलदल (Bogs)
 - 2. लैगून (Lagoons)
 - 3. नदमुख (Estuaries)
 - 4. बांध (Dams)

Question Type : MCQ

Question ID : 630680455439

Option 1 ID : 6306801778671

Option 2 ID : 6306801778673

Option 3 ID : 6306801778670

Option 4 ID : 6306801778672

Status : Answered

Chosen Option : 1

Q.18 किसी पारिस्थितिकी तंत्र में स्वपोषी जीवों की प्राथमिक भूमिका क्या है?

- Ans
- 1. कार्बनिक पदार्थों को ऊर्जा में परिवर्तित करना
 - 2. अकार्बनिक पदार्थों से कार्बनिक पदार्थों का उत्पादन करना
 - 3. भोजन के लिए अन्य जीवों का शिकार करना
 - 4. मृत जीवों का अपघटन करना

Question Type : MCQ

Question ID : 630680412064

Option 1 ID : 6306801607092

Option 2 ID : 6306801607093

Option 3 ID : 6306801607091

Option 4 ID : 6306801607094

Status : Answered

Chosen Option : 4

Q.19 अनाहत सिंह का संबंध निम्नलिखित में से किस खेल स्पर्धा से है?

- Ans
- 1. बैडमिंटन (Badminton)
 - 2. शतरंज (Chess)
 - 3. स्क्वाश (Squash)
 - 4. कुश्ती (Wrestling)

Question Type : MCQ

Question ID : 630680799022

Option 1 ID : 6306803130892

Option 2 ID : 6306803130890

Option 3 ID : 6306803130893

Option 4 ID : 6306803130891

Status : Not Answered

Chosen Option : --

Q.20 उत्तर-दक्षिण राष्ट्रीय राजमार्ग गलियारा भारत के किन दो केंद्रशासित प्रदेशों/राज्यों को जोड़ता है?

- Ans
- 1. दिल्ली-ओडिशा
 - 2. जम्मू और कश्मीर - तेलंगाना
 - 3. जम्मू और कश्मीर - तमिलनाडु
 - 4. लद्दाख - केरल

Question Type : MCQ
Question ID : 630680404327
Option 1 ID : 6306801576810
Option 2 ID : 6306801576813
Option 3 ID : 6306801576811
Option 4 ID : 6306801576812
Status : Not Answered
Chosen Option : --

Q.21 19वीं शताब्दी का 'अगरिया (Agaria)' समुदाय निम्नलिखित में से किस उद्योग से जुड़ा था?

- Ans
- 1. लोहा उद्योग
 - 2. सूती वस्त्र उद्योग
 - 3. काष्ठ उद्योग
 - 4. कृषि उद्योग

Question Type : MCQ
Question ID : 630680652587
Option 1 ID : 6306802554822
Option 2 ID : 6306802554824
Option 3 ID : 6306802554825
Option 4 ID : 6306802554823
Status : Answered
Chosen Option : 1

Q.22 'अमृत और विष' उपन्यास किसने लिखा था?

- Ans
- 1. विष्णु प्रभाकर
 - 2. रामधारी सिंह दिनकर
 - 3. श्रीलाल शुक्ला
 - 4. अमृतलाल नागर

Question Type : MCQ
Question ID : 630680157750
Option 1 ID : 630680610531
Option 2 ID : 630680610529
Option 3 ID : 630680610528
Option 4 ID : 630680610530
Status : Answered
Chosen Option : 4

Q.23 घावों से अत्यधिक रक्तस्राव ____ की कमी के कारण हो सकता है।

- Ans 1. विटामिन A
 2. विटामिन K
 3. विटामिन B12
 4. विटामिन E

Question Type : MCQ

Question ID : 630680422210

Option 1 ID : 6306801647278

Option 2 ID : 6306801647279

Option 3 ID : 6306801647276

Option 4 ID : 6306801647277

Status : Answered

Chosen Option : 2

Q.24 उस कुचिपुड़ी नृत्य कलाकार, अभिनय कलाकार और फिल्म निर्माता की पहचान कीजिए, जिन्होंने 2022 में 68वें राष्ट्रीय फिल्म पुरस्कार में सर्वश्रेष्ठ कोरियोग्राफी का पुरस्कार जीता।

- Ans 1. गणेश आचार्य
 2. रेमो डिस्जा
 3. संध्या राजू
 4. बिरजू महाराज

Question Type : MCQ

Question ID : 630680162586

Option 1 ID : 630680629641

Option 2 ID : 630680629643

Option 3 ID : 630680629640

Option 4 ID : 630680629642

Status : Answered

Chosen Option : 1

Q.25 तानरास खान (Tanras Khan) निम्नलिखित में से किस घराने से संबंधित हैं?

- Ans 1. दिल्ली घराना
 2. बनारस घराना
 3. आगरा घराना
 4. इंदौर घराना

Question Type : MCQ

Question ID : 630680488140

Option 1 ID : 6306801906619

Option 2 ID : 6306801906620

Option 3 ID : 6306801906621

Option 4 ID : 6306801906622

Status : Not Answered

Chosen Option : --

Q.1 Select the option that can be used as a one-word substitute for the given group of words.

One who brings a legal action against someone in court.

- Ans
- 1. Sanctimonious
 - 2. Numismatic
 - 3. Plaintiff
 - 4. Pragmatist

Question Type : MCQ
Question ID : 630680444260
Option 1 ID : 6306801734322
Option 2 ID : 6306801734321
Option 3 ID : 6306801734320
Option 4 ID : 6306801734319
Status : Answered
Chosen Option : 3

Q.2 Select the most appropriate option to fill in the blanks.
I could _____ the reason for being _____.

- Ans
- 1. fine; find
 - 2. bard; barred
 - 3. find; fined
 - 4. barred; bard

Question Type : MCQ
Question ID : 630680517444
Option 1 ID : 6306802022173
Option 2 ID : 6306802022174
Option 3 ID : 6306802022172
Option 4 ID : 6306802022175
Status : Answered
Chosen Option : 3

Q.3 Select the most appropriate meaning of the underlined phrase.

In the absence of government rule, riots have broken out all over the country and everything is in a state of complete chaos.

- Ans
- 1. Oligarchy
 - 2. Dictatorship
 - 3. Anarchy
 - 4. Monarchy

Question Type : MCQ
Question ID : 630680540235
Option 1 ID : 6306802112045
Option 2 ID : 6306802112046
Option 3 ID : 6306802112047
Option 4 ID : 6306802112044
Status : Answered
Chosen Option : 3

Q.4 Select the most appropriate option to fill in the blank.
The detail given by the instructor was the _____ one.

- Ans 1. more updation
 2. most updated
 3. updating
 4. updates

Question Type : **MCQ**
Question ID : **630680514531**
Option 1 ID : **6306802010751**
Option 2 ID : **6306802010750**
Option 3 ID : **6306802010752**
Option 4 ID : **6306802010749**
Status : **Answered**
Chosen Option : **2**

Q.5 Select the option that will improve the underlined part of the given sentence. In case no improvement is needed, select 'No improvement required'.

Siliguri has joined the nation to celebrate the golden jubilee of the first conquest of Mount Everest by an Indian.

- Ans 1. joins the celebratory nation
 2. joined the national celebration
 3. No improvement required
 4. joining the nation celebrate

Question Type : **MCQ**
Question ID : **630680583972**
Option 1 ID : **6306802284731**
Option 2 ID : **6306802284732**
Option 3 ID : **6306802284733**
Option 4 ID : **6306802284730**
Status : **Answered**
Chosen Option : **2**

Q.6 Select the most appropriate ANTONYM of the given word.

Presumably

- Ans 1. Certainly
 2. Liberally
 3. Successfully
 4. Unlikely

Question Type : **MCQ**
Question ID : **630680726510**
Option 1 ID : **6306802847047**
Option 2 ID : **6306802847049**
Option 3 ID : **6306802847048**
Option 4 ID : **6306802847046**
Status : **Not Answered**
Chosen Option : **--**

Q.7 Select the most appropriate option to fill in the blank.
Siva is a hard worker. He works _____.

- Ans 1. hardly
 2. hard
 3. bad
 4. scarcely

Question Type : MCQ
Question ID : 6306801106813
Option 1 ID : 6306804347716
Option 2 ID : 6306804347717
Option 3 ID : 6306804347719
Option 4 ID : 6306804347718
Status : Answered
Chosen Option : 4

Q.8 Select the word that is opposite in meaning (ANTONYM) to the highlighted word in the given sentence.

We enjoyed the gentle breeze that was blowing.

- Ans 1. garnished
 2. soft
 3. modest
 4. violent

Question Type : MCQ
Question ID : 630680565712
Option 1 ID : 6306802211787
Option 2 ID : 6306802211784
Option 3 ID : 6306802211786
Option 4 ID : 6306802211785
Status : Answered
Chosen Option : 4

Q.9 Select the most appropriate option that can substitute the underlined segment in the given sentence. If there is no need to substitute it, select 'No substitution'.

There have been numerous attempts made by the citizens to restore parity.

- Ans 1. More numerous
 2. Quite numerous
 3. Most numerous
 4. No substitution

Question Type : MCQ
Question ID : 630680514647
Option 1 ID : 6306802011214
Option 2 ID : 6306802011215
Option 3 ID : 6306802011216
Option 4 ID : 6306802011213
Status : Answered
Chosen Option : 4

Q.10 Select the option that will improve the underlined part of the given sentence.
You can do your work well within the stipulated time and be more productive if you learn to keep video games at the length of your arm.

- Ans
- 1. at arm of your length
 - 2. at arm of his length
 - 3. at arm's length
 - 4. at arm's weight

Question Type : **MCQ**
Question ID : **63068066306**
Option 1 ID : **630680256141**
Option 2 ID : **630680256140**
Option 3 ID : **630680256138**
Option 4 ID : **630680256139**
Status : **Answered**
Chosen Option : **3**

Q.11 Select the most appropriate homophone to fill in the blank.

Looking up, she realised she had swum _____ than she'd thought.

- Ans
- 1. furthest
 - 2. farther
 - 3. farthest
 - 4. further

Question Type : **MCQ**
Question ID : **630680726555**
Option 1 ID : **6306802847229**
Option 2 ID : **6306802847227**
Option 3 ID : **6306802847228**
Option 4 ID : **6306802847226**
Status : **Answered**
Chosen Option : **2**

Q.12 The following sentence has been split into four segments. Identify the segment that contains a grammatical error.
He sings good / among all the / contestants in / the singing competition.

- Ans
- 1. among all the
 - 2. He sings good
 - 3. the singing competition
 - 4. contestants in

Question Type : **MCQ**
Question ID : **630680514337**
Option 1 ID : **6306802009974**
Option 2 ID : **6306802009973**
Option 3 ID : **6306802009976**
Option 4 ID : **6306802009975**
Status : **Not Answered**
Chosen Option : **--**

Q.13 Select the INCORRECTLY spelt word.

- Ans
- 1. Millennium
 - 2. Unanimous
 - 3. Inconvenience
 - 4. Consciencious

Question Type : MCQ

Question ID : 630680545741

Option 1 ID : 6306802133545

Option 2 ID : 6306802133544

Option 3 ID : 6306802133547

Option 4 ID : 6306802133546

Status : Answered

Chosen Option : 1

Q.14 Select the INCORRECTLY spelt word.

- Ans
- 1. Absense
 - 2. Abstract
 - 3. Abscess
 - 4. Abstinent

Question Type : MCQ

Question ID : 630680702932

Option 1 ID : 6306802753480

Option 2 ID : 6306802753481

Option 3 ID : 6306802753483

Option 4 ID : 6306802753482

Status : Answered

Chosen Option : 3

Q.15 Select the most appropriate idiom to substitute the underlined word segment in the given sentence.

If the two families could forget their past quarrels forever, both could benefit immensely.

- Ans
- 1. do a good turn
 - 2. bury the hatchet
 - 3. cut to the quick
 - 4. catch a tartar

Question Type : MCQ

Question ID : 630680445933

Option 1 ID : 6306801741067

Option 2 ID : 6306801741069

Option 3 ID : 6306801741066

Option 4 ID : 6306801741068

Status : Answered

Chosen Option : 2

Q.16 Select the grammatically correct sentence.

- Ans 1. The myriad of possibilities unfolds when the artist embarks on a journey of creative experimentation.
2. A myriad of possibilities unfolds when the artist embarks on the journey of creative experimentation.
3. A myriad of possibilities unfolds when an artist embarks on a journey of creative experimentation.
4. The myriad of possibilities unfolds when an artist embarks on the journey of creative experimentation.

Question Type : **MCQ**
Question ID : **630680597196**
Option 1 ID : **6306802336826**
Option 2 ID : **6306802336828**
Option 3 ID : **6306802336827**
Option 4 ID : **6306802336825**
Status : **Answered**
Chosen Option : **4**

Q.17 Select the INCORRECTLY spelt word.

- Ans 1. achieve
2. paralel
3. humorous
4. familiar

Question Type : **MCQ**
Question ID : **6306801046666**
Option 1 ID : **6306804108789**
Option 2 ID : **6306804108792**
Option 3 ID : **6306804108791**
Option 4 ID : **6306804108790**
Status : **Answered**
Chosen Option : **2**

Q.18 The following sentence has been divided into parts. One of them may contain an error. Select the part that contains the error from the given options. If you don't find any error, mark 'No error' as your answer.

The recommendations of the committee / regarding changes in the eligibility criteria / was not accept.

- Ans 1. The recommendations of the committee
2. was not accept
3. regarding changes in the eligibility criteria
4. No Error

Question Type : **MCQ**
Question ID : **630680130699**
Option 1 ID : **630680506090**
Option 2 ID : **630680506092**
Option 3 ID : **630680506091**
Option 4 ID : **630680506093**
Status : **Answered**
Chosen Option : **4**

Q.19 Select the grammatically correct sentence.

- Ans** 1. Our Principal is a great teacher and administrator.
 2. Our Principal is a great teacher and a great administrator.
 3. Our Principal is a great teacher and an administrator.
 4. Our Principal is great teacher and administrator.

Question Type : **MCQ**

Question ID : **630680450661**

Option 1 ID : **6306801759756**

Option 2 ID : **6306801759754**

Option 3 ID : **6306801759755**

Option 4 ID : **6306801759757**

Status : **Answered**

Chosen Option : **1**

Q.20 Select the word that has the same meaning (SYNONYM) as the underlined word in the given sentence.

The prisoners were living in appalling conditions.

- Ans** 1. ingenuous
 2. daring
 3. risky
 4. shocking

Question Type : **MCQ**

Question ID : **630680446647**

Option 1 ID : **6306801743893**

Option 2 ID : **6306801743890**

Option 3 ID : **6306801743892**

Option 4 ID : **6306801743891**

Status : **Answered**

Chosen Option : **4**

Comprehension:

In the following passage, some words have been deleted. Read the passage carefully and select the most appropriate option to fill in each blank.

The habit of reading is highly advantageous to us intellectually, emotionally and spiritually. As one gets into the habit of reading, one gets mental (1)_____. It helps us acquire (2)_____ and attain intellectual (3)_____. Reading takes away our (4)_____. Reading can bring (5)_____ in our sorrowful times and guide us in our duties.

SubQuestion No : 21

Q.21 Select the most appropriate option to fill in blank number 1.

- Ans 1. satisfaction
 2. coverage
 3. success
 4. exhaustion

Question Type : **MCQ**

Question ID : **630680144531**

Option 1 ID : **630680559188**

Option 2 ID : **630680559186**

Option 3 ID : **630680559189**

Option 4 ID : **630680559187**

Status : **Answered**

Chosen Option : **1**

Comprehension:

In the following passage, some words have been deleted. Read the passage carefully and select the most appropriate option to fill in each blank.

The habit of reading is highly advantageous to us intellectually, emotionally and spiritually. As one gets into the habit of reading, one gets mental (1)_____. It helps us acquire (2)_____ and attain intellectual (3)_____. Reading takes away our (4)_____. Reading can bring (5)_____ in our sorrowful times and guide us in our duties.

SubQuestion No : 22

Q.22 Select the most appropriate option to fill in blank number 2.

- Ans 1. strategies
 2. employment
 3. knowledge
 4. readiness

Question Type : **MCQ**

Question ID : **630680144532**

Option 1 ID : **630680559192**

Option 2 ID : **630680559193**

Option 3 ID : **630680559190**

Option 4 ID : **630680559191**

Status : **Answered**

Chosen Option : **3**

Comprehension:

In the following passage, some words have been deleted. Read the passage carefully and select the most appropriate option to fill in each blank.

The habit of reading is highly advantageous to us intellectually, emotionally and spiritually. As one gets into the habit of reading, one gets mental (1)_____. It helps us acquire (2)_____and attain intellectual (3)_____. Reading takes away our (4)_____. Reading can bring (5)_____ in our sorrowful times and guide us in our duties.

SubQuestion No : 23

Q.23 Select the most appropriate option to fill in blank number 3.

Ans ✓ 1. expansion

✗ 2. stagnation

✗ 3. compression

✗ 4. creation

Question Type : **MCQ**

Question ID : **630680144533**

Option 1 ID : **630680559197**

Option 2 ID : **630680559194**

Option 3 ID : **630680559195**

Option 4 ID : **630680559196**

Status : **Answered**

Chosen Option : **1**

Comprehension:

In the following passage, some words have been deleted. Read the passage carefully and select the most appropriate option to fill in each blank.

The habit of reading is highly advantageous to us intellectually, emotionally and spiritually. As one gets into the habit of reading, one gets mental (1)_____. It helps us acquire (2)_____and attain intellectual (3)_____. Reading takes away our (4)_____. Reading can bring (5)_____ in our sorrowful times and guide us in our duties.

SubQuestion No : 24

Q.24 Select the most appropriate option to fill in blank number 4.

Ans ✗ 1. concern

✗ 2. vigour

✓ 3. boredom

✗ 4. time

Question Type : **MCQ**

Question ID : **630680144534**

Option 1 ID : **630680559201**

Option 2 ID : **630680559198**

Option 3 ID : **630680559200**

Option 4 ID : **630680559199**

Status : **Not Answered**

Chosen Option : **--**

Comprehension:

In the following passage, some words have been deleted. Read the passage carefully and select the most appropriate option to fill in each blank.

The habit of reading is highly advantageous to us intellectually, emotionally and spiritually. As one gets into the habit of reading, one gets mental (1)_____. It helps us acquire (2)_____ and attain intellectual (3)_____. Reading takes away our (4)_____. Reading can bring (5)_____ in our sorrowful times and guide us in our duties.

SubQuestion No : 25

Q.25 Select the most appropriate option to fill in blank number 5.

- Ans
- 1. lethargy
 - 2. resentment
 - 3. comfort
 - 4. oppression

Question Type : **MCQ**

Question ID : **630680144535**

Option 1 ID : **630680559202**

Option 2 ID : **630680559204**

Option 3 ID : **630680559203**

Option 4 ID : **630680559205**

Status : **Answered**

Chosen Option : **1**