

Multi Tasking Non Technical Staff and Havaladar CBIC and CBN Examination 2024

Roll Number	
Candidate Name	
Venue Name	Shri S N Technologies
Exam Date	21/10/2024
Exam Time	12:30 PM - 2:30 PM
Subject	MTS Non Tech Havaladar CBIC and CBN Examination 2024

Section : Numerical and Mathematical Ability

Q.1 6 वर्षों के लिए 3% वार्षिक की ब्याज दर पर उधार ली गई राशि ₹3500 पर साधारण ब्याज (₹ में) ज्ञात कीजिए।

Ans 1. 630

2. 570

3. 670

4. 590

Question Type : MCQ

Question ID : 630680591962

Option 1 ID : 6306802316315

Option 2 ID : 6306802316317

Option 3 ID : 6306802316316

Option 4 ID : 6306802316318

Status : Answered

Chosen Option : 1

Q.2 एक दुकानदार 15 मोबाइल खरीदता है और 12 मोबाइल 15 मोबाइल के क्रय मूल्य पर बेचता है। यदि दुकानदार सभी मोबाइलों को उसी मूल्य पर बेचता है जिस मूल्य पर उसने पहली स्थिति में 12 मोबाइल बेचे थे, तो लाभ प्रतिशत क्या है?

Ans 1. 27.5%

2. 20%

3. 25%

4. 22.5%

Question Type : MCQ

Question ID : 630680103711

Option 1 ID : 630680403078

Option 2 ID : 630680403075

Option 3 ID : 630680403077

Option 4 ID : 630680403076

Status : Answered

Chosen Option : 3

Q.3 यदि 53 क्रमागत सम संख्याओं का औसत 1280 है, तो सबसे छोटी संख्या और सबसे बड़ी संख्या के बीच अंतर ज्ञात कीजिए।

Ans 1. 104

2. 34

3. 124

4. 24

Question Type : MCQ

Question ID : 630680445914

Option 1 ID : 6306801740998

Option 2 ID : 6306801740997

Option 3 ID : 6306801740999

Option 4 ID : 6306801740996

Status : Answered

Chosen Option : 2

Q.4 किसी वस्तु की कीमत में 20% और फिर 25% की वृद्धि की जाती है। शुरुआती कीमत पर वापस आने के लिए बढ़ी हुई कीमत को कितने प्रतिशत कम किया जाना चाहिए?

Ans 1. $22\frac{1}{2}\%$

2. $33\frac{1}{3}\%$

3. 45%

4. 25%

Question Type : MCQ

Question ID : 630680815843

Option 1 ID : 6306803196707

Option 2 ID : 6306803196705

Option 3 ID : 6306803196706

Option 4 ID : 6306803196708

Status : Answered

Chosen Option : 2

Q.5 5, 15, 25, 26 और 27 का समान्तर माध्य (arithmetic mean) ज्ञात कीजिए।

Ans 1. 19.6

2. 17.6

3. 20.6

4. 18.6

Question Type : MCQ

Question ID : 630680233015

Option 1 ID : 630680904182

Option 2 ID : 630680904184

Option 3 ID : 630680904181

Option 4 ID : 630680904183

Status : Answered

Chosen Option : 1

Q.6 एक कैन में दो तरल पदार्थ, अंगूर के रस और अनन्नास के रस का मिश्रण 13 : 11 के अनुपात में है। जब कैन से 8 लीटर मिश्रण निकालकर, कैन को अनन्नास के रस से भर दिया जाता है, तो अनुपात 13 : 14 हो जाता है। कैन में प्रारंभ में अनन्नास का रस कितने लीटर था?

- Ans
- 1. 28 लीटर
 - 2. 14 लीटर
 - 3. 33 लीटर
 - 4. 11 लीटर

Question Type : MCQ

Question ID : 630680449446

Option 1 ID : 6306801754912

Option 2 ID : 6306801754911

Option 3 ID : 6306801754910

Option 4 ID : 6306801754909

Status : Answered

Chosen Option : 1

Q.7 तालिका अलग-अलग प्रकार की कारों के उत्पादन (हजार में) को दर्शाती है।

वर्ष	2019	2020	2021	2022
कार				
P	57	94	71	91
Q	23	25	46	26
R	15	67	13	39
S	69	34	62	24

2020 में Q प्रकार की कारों तथा 2022 में R प्रकार की कारों के मिलाकर कुल उत्पादन और 2019 में S प्रकार की कारों तथा 2021 में P प्रकार की कारों के मिलाकर कुल उत्पादन का अनुपात क्या है?

- Ans
- 1. 16 : 35
 - 2. 35 : 16
 - 3. 22 : 17
 - 4. 17 : 22

Question Type : MCQ

Question ID : 630680523811

Option 1 ID : 6306802047395

Option 2 ID : 6306802047396

Option 3 ID : 6306802047398

Option 4 ID : 6306802047397

Status : Answered

Chosen Option : 1

Q.8 एक लंब वृत्तीय बेलन का संपूर्ण पृष्ठीय क्षेत्रफल $628\frac{4}{7} \text{ cm}^2$ है। यदि इसकी त्रिज्या 4 cm है, तो बेलन की ऊंचाई (निकटतम पूर्ण संख्या तक सन्निकटित) _____ के बराबर होगी। ($\pi = \frac{22}{7}$ लीजिए)

- Ans
- 1. 15 cm
 - 2. 21 cm
 - 3. 12 cm
 - 4. 18 cm

Question Type : MCQ
Question ID : 630680385935
Option 1 ID : 6306801504460
Option 2 ID : 6306801504458
Option 3 ID : 6306801504461
Option 4 ID : 6306801504459
Status : Answered
Chosen Option : 2

Q.9 उस सबसे बड़े लंब वृत्तीय शंकु का आयतन ज्ञात कीजिए जो 6 इकाई लंबाई के एक खोखले घन में उत्कीर्ण (inscribed) किया गया है और इसके आधार पर खड़ा है।

- Ans
- 1. 18π इकाई³
 - 2. 10π इकाई³
 - 3. 9π इकाई³
 - 4. 21π इकाई³

Question Type : MCQ
Question ID : 630680202214
Option 1 ID : 630680784135
Option 2 ID : 630680784137
Option 3 ID : 630680784136
Option 4 ID : 630680784138
Status : Answered
Chosen Option : 3

Q.10 6 वर्षों के लिए 5% वार्षिक की ब्याज दर पर उधार ली गई राशि ₹2500 पर साधारण ब्याज (₹ में) ज्ञात कीजिए।

- Ans
- 1. 790
 - 2. 690
 - 3. 750
 - 4. 710

Question Type : MCQ
Question ID : 630680591902
Option 1 ID : 6306802316076
Option 2 ID : 6306802316077
Option 3 ID : 6306802316075
Option 4 ID : 6306802316078
Status : Answered
Chosen Option : 3

Q.11 12 m आधार और 20 m ऊंचाई वाले समांतर चतुर्भुज का क्षेत्रफल ज्ञात करें।

- Ans
- 1. 240m^2
 - 2. 210m^2
 - 3. 120m^2
 - 4. 144m^2

Question Type : MCQ

Question ID : 63068091878

Option 1 ID : 630680356249

Option 2 ID : 630680356247

Option 3 ID : 630680356246

Option 4 ID : 630680356248

Status : Answered

Chosen Option : 3

Q.12 राघव 1 घंटा 40 मिनट में 45 km की दूरी तय करता है। यह मानते हुए कि वह अपनी पूरी यात्रा में एक समान चाल से चलता है, राघव की चाल (m/s में) क्या है?

- Ans
- 1. 1.6
 - 2. 7.2
 - 3. 7.5
 - 4. 9

Question Type : MCQ

Question ID : 630680304455

Option 1 ID : 6306801184374

Option 2 ID : 6306801184373

Option 3 ID : 6306801184376

Option 4 ID : 6306801184375

Status : Answered

Chosen Option : 3

Q.13 24 पुरुष प्रतिदिन 7 घंटे कार्य करके किसी कार्य को 10 दिनों में पूरा कर सकते हैं। 21 पुरुष प्रतिदिन 9 घंटे कार्य करके उसी कार्य को कितने दिनों में पूरा करेंगे?

- Ans
- 1. $6\frac{6}{7}$ दिन
 - 2. $9\frac{9}{10}$ दिन
 - 3. $7\frac{7}{8}$ दिन
 - 4. $8\frac{8}{9}$ दिन

Question Type : MCQ

Question ID : 630680517136

Option 1 ID : 6306802020943

Option 2 ID : 6306802020942

Option 3 ID : 6306802020940

Option 4 ID : 6306802020941

Status : Answered

Chosen Option : 4

Q.14 A और B के बीच की दूरी 1200 किलोमीटर है। यदि वे एक ही समय पर एक-दूसरे की ओर बढ़ना शुरू करते हैं, तो वे 24 घंटे में मिलेंगे। यदि A, B के 10 घंटे बाद प्रारंभ करता है, तो वे 20 घंटे और अधिक बाद में मिलेंगे। उनकी क्रमशः चाल क्या हैं?

- Ans
- 1. 35 किलोमीटर/घंटा, 25 किलोमीटर/घंटा
 - 2. 40 किलोमीटर/घंटा, 25 किलोमीटर/घंटा
 - 3. 25 किलोमीटर/घंटा, 35 किलोमीटर/घंटा
 - 4. 30 किलोमीटर/घंटा, 20 किलोमीटर/घंटा

Question Type : **MCQ**

Question ID : **630680288021**

Option 1 ID : **6306801119994**

Option 2 ID : **6306801119991**

Option 3 ID : **6306801119992**

Option 4 ID : **6306801119993**

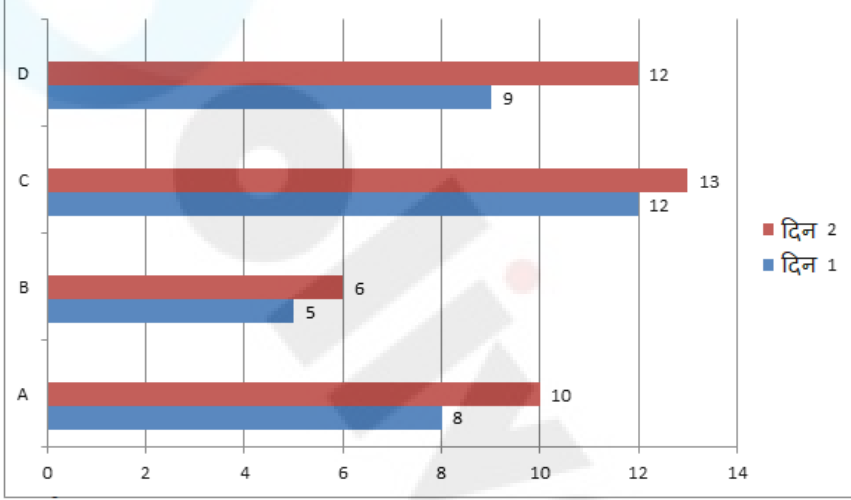
Status : **Answered**

Chosen Option : **2**

Q.15 निम्न तालिका 2 दिनों में 4 वाहनों (A, B, C और D) द्वारा तय की गई दूरियों (km में) को दर्शाती है और बार-ग्राफ क्रमशः दूरियों को तय करने के लिए वाहनों द्वारा लिए गए समय (घंटों में) को दर्शाता है। x-अक्ष समय (घंटों में) को दर्शाता है और y-अक्ष वाहनों को दर्शाता है। बार-ग्राफ का ध्यानपूर्वक अध्ययन कीजिए और निम्नलिखित प्रश्न का उत्तर दीजिए।

वाहन	दिन 1	दिन 2
A	480	600
B	360	420
C	720	780
D	630	720

दूरियों को तय करने में 4 वाहनों द्वारा लिया गया समय।



निम्नलिखित में से किन वाहनों ने दोनों दिनों पर समान चाल से यात्रा की?

- Ans 1. केवल A और C
 2. A, C और D
 3. केवल C और D
 4. केवल A और D

Question Type : MCQ

Question ID : 630680397153

Option 1 ID : 6306801548669

Option 2 ID : 6306801548670

Option 3 ID : 6306801548671

Option 4 ID : 6306801548668

Status : Answered

Chosen Option : 3

Q.16 एक बेईमान व्यापारी क्रय मूल्य पर किराने का सामान बेचने का दावा करता है और फिर भी $2\frac{22}{39}\%$ का लाभ कमाता है। एक kg के लिए, वह ___ वजन उपयोग करता है।

- Ans
- 1. 981 g
 - 2. 985 g
 - 3. 978 g
 - 4. 975 g

Question Type : MCQ
Question ID : 630680815856
Option 1 ID : 6306803196758
Option 2 ID : 6306803196757
Option 3 ID : 6306803196759
Option 4 ID : 6306803196760
Status : Answered
Chosen Option : 4

Q.17 एक धनराशि, समान साधारण ब्याज दर पर 6 वर्ष बाद ₹7,436 और 10 वर्ष बाद ₹9,460 हो जाती है। वार्षिक ब्याज दर ज्ञात करें।

- Ans
- 1. 11.5%
 - 2. 13%
 - 3. 12.5%
 - 4. 12%

Question Type : MCQ
Question ID : 6306801108821
Option 1 ID : 6306804355870
Option 2 ID : 6306804355873
Option 3 ID : 6306804355872
Option 4 ID : 6306804355871
Status : Answered
Chosen Option : 1

Q.18 नौ क्रमागत संख्याओं का औसत 45 है। इन संख्याओं में सबसे बड़ी संख्या कौन-सी है?

- Ans
- 1. 50
 - 2. 41
 - 3. 48
 - 4. 49

Question Type : MCQ
Question ID : 630680447396
Option 1 ID : 6306801746840
Option 2 ID : 6306801746837
Option 3 ID : 6306801746838
Option 4 ID : 6306801746839
Status : Answered
Chosen Option : 4

Q.19 576, 324 और 360 का महत्तम समापवर्तक (HCF) ज्ञात कीजिए।

- Ans
- 1. 72
 - 2. 108
 - 3. 144
 - 4. 36

Question Type : MCQ

Question ID : 63068094394

Option 1 ID : 630680366271

Option 2 ID : 630680366274

Option 3 ID : 630680366272

Option 4 ID : 630680366273

Status : Answered

Chosen Option : 4

Q.20 एक व्यापारी अपने माल पर इसके क्रय मूल्य से 40% अधिक मूल्य अंकित करता है और फिर ग्राहकों को 15% की छूट देता है। व्यापारी का लाभ प्रतिशत क्या है?

- Ans
- 1. 19%
 - 2. 21%
 - 3. 15%
 - 4. 25%

Question Type : MCQ

Question ID : 630680120024

Option 1 ID : 630680465133

Option 2 ID : 630680465130

Option 3 ID : 630680465131

Option 4 ID : 630680465132

Status : Answered

Chosen Option : 1

Section : Reasoning Ability and Problem Solving

Q.1 4, किसी निश्चित तर्क का अनुसरण करते हुए 41 से संबंधित है। 9, समान तर्क का अनुसरण करते हुए 91 से संबंधित है। समान तर्क का अनुसरण करते हुए 13, निम्नलिखित में से किससे संबंधित है?

(ध्यान दें: संख्याओं को उनके घटक अंकों में अलग-अलग किए बिना पूर्ण संख्याओं पर संक्रियाएं की जानी चाहिए। उदाहरण के लिए संख्या 13 - संख्या 13 पर संक्रियाएं जैसे 13 को जोड़ना/घटाना/गुणा करना आदि किया जा सकता है। 13 को 1 और 3 में अलग-अलग करने की और फिर 1 और 3 पर गणितीय संक्रियाएं करने की अनुमति नहीं है।)

- Ans
- 1. 131
 - 2. 130
 - 3. 127
 - 4. 129

Question Type : MCQ

Question ID : 630680450178

Option 1 ID : 6306801757859

Option 2 ID : 6306801757860

Option 3 ID : 6306801757861

Option 4 ID : 6306801757862

Status : Answered

Chosen Option : 1

Q.2 दी गई श्रृंखला में प्रश्नवाचक चिह्न (?) के स्थान पर क्या आएगा?

6, 12, ?, 144, 720, 4320, 30240

Ans 1. 38

2. 40

3. 36

4. 42

Question Type : MCQ

Question ID : 630680402515

Option 1 ID : 6306801569620

Option 2 ID : 6306801569621

Option 3 ID : 6306801569619

Option 4 ID : 6306801569622

Status : Answered

Chosen Option : 3

Q.3 निम्नलिखित समीकरण को सही बनाने के लिए किन दो चिहनों को आपस में बदला जाना चाहिए?

$$33 \times 19 - 24 \div 8 + 4 = 40$$

Ans 1. ÷ और ×

2. + और +

3. - और +

4. + और ×

Question Type : MCQ

Question ID : 630680412001

Option 1 ID : 6306801606839

Option 2 ID : 6306801606842

Option 3 ID : 6306801606840

Option 4 ID : 6306801606841

Status : Answered

Chosen Option : 4

Q.4 निम्नलिखित संख्या-युग्मों में, पहली संख्या पर निश्चित गणितीय संक्रियाएं करके दूसरी संख्या प्राप्त की जाती है। उस समुच्चय का चयन कीजिए, जिसमें संख्याएं ठीक उसी प्रकार संबंधित हैं, जिस प्रकार निम्नलिखित समुच्चयों की संख्याएं संबंधित हैं।

(ध्यान दें: संख्याओं को उनके घटक अंकों में अलग-अलग किए बिना पूर्ण संख्याओं पर संक्रियाएं की जानी चाहिए। उदाहरण के लिए संख्या 13 - संख्या 13 पर संक्रियाएं जैसे 13 को जोड़ना/घटाना/गुणा करना आदि किया जा सकता है। 13 को 1 और 3 में अलग-अलग करने की और फिर 1 और 3 पर गणितीय संक्रियाएं करने की अनुमति नहीं है।)

18, 29
49, 60

- Ans
- 1. 92, 123
 - 2. 86, 99
 - 3. 88, 79
 - 4. 84, 95

Question Type : **MCQ**

Question ID : **630680399146**

Option 1 ID : **6306801556545**

Option 2 ID : **6306801556543**


Option 3 ID : **6306801556544**

Option 4 ID : **6306801556542**

Status : **Answered**

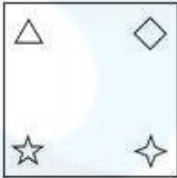
Chosen Option : **4**

Q.5 विकल्पों में दी गई उस आकृति की पहचान कीजिए, जिसे प्रश्न-चिह्न (?) के स्थान पर रखने पर श्रृंखला तार्किक रूप से पूरी हो जाएगी।




Ans


✗ 1.



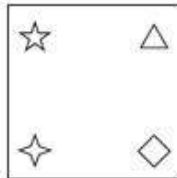
✗ 2.



✗ 3.



✓ 4.



Question Type : MCQ

Question ID : 630680273625

Option 1 ID : 6306801063022

Option 2 ID : 6306801063020

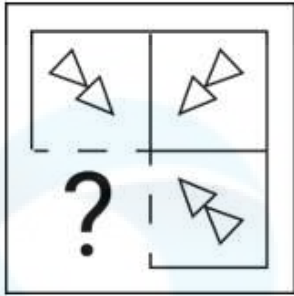
Option 3 ID : 6306801063021

Option 4 ID : 6306801063019

Status : Answered

Chosen Option : 4

Q.6 उस विकल्प आकृति का चयन कीजिए, जो पैटर्न को पूरा करने के लिए नीचे दी गई आकृति में प्रश्न-चिह्न (?) के स्थान पर आएगी।



Ans

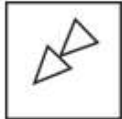
✓ 1.




✗ 2.



✗ 3.



✗ 4.



Question Type : MCQ

Question ID : 630680524670

Option 1 ID : 6306802050781

Option 2 ID : 6306802050782

Option 3 ID : 6306802050779

Option 4 ID : 6306802050780

Status : Answered

Chosen Option : 1

Q.7 एक निश्चित कूट भाषा में, 'BIKE CAR SCOOTER' को 'SS RR PP' लिखा जाता है और 'CAR CYCLE TRUCK' को 'PP TT LL' लिखा जाता है और 'CYCLE BIKE TRAIN' को 'RR ZZ TT' लिखा जाता है। उस कूट भाषा में 'SCOOTER' को कैसे लिखा जाएगा?

Ans ✗ 1. PP

✗ 2. ZZ

✓ 3. SS

✗ 4. RR

Question Type : MCQ

Question ID : 630680439089

Option 1 ID : 6306801714170

Option 2 ID : 6306801714171

Option 3 ID : 6306801714169

Option 4 ID : 6306801714168

Status : Answered

Chosen Option : 3

Q.8 दिए गए कथनों और निष्कर्षों को ध्यानपूर्वक पढ़िए। यह मानते हुए कि कथनों में दी गई जानकारी सत्य है, चाहे वह सामान्यतः ज्ञात तथ्यों से भिन्न प्रतीत होती हो और निर्णय लीजिए कि दिए गए निष्कर्षों में से कौन-सा/कौन-से निष्कर्ष कथनों का तार्किक रूप से अनुसरण करता है/करते हैं।

कथन:

कुछ घोड़े, बकरियाँ हैं। सभी बकरियाँ, सियार हैं।

निष्कर्ष:

(I): कुछ घोड़े, सियार हैं।

(II): सभी सियार, बकरियाँ हैं।

- Ans
- 1. निष्कर्ष (I) और (II) दोनों अनुसरण करते हैं।
 - 2. न तो निष्कर्ष (I) और न ही (II) अनुसरण करता है।
 - 3. केवल निष्कर्ष (I) अनुसरण करता है।
 - 4. केवल निष्कर्ष (II) अनुसरण करता है।

Question Type : MCQ

Question ID : 630680422245

Option 1 ID : 6306801647419

Option 2 ID : 6306801647418

Option 3 ID : 6306801647416

Option 4 ID : 6306801647417

Status : Answered

Chosen Option : 3

Q.9 ZMJI, अंग्रेजी वर्णानुक्रम के आधार पर एक निश्चित प्रकार से UIGG से संबंधित है। ठीक उसी प्रकार TIMN, OEJL से संबंधित है। उसी समान तर्क का अनुसरण करते हुए, PHJI निम्नलिखित में से किससे संबंधित है?

- Ans
- 1. KDGG
 - 2. KGDF
 - 3. GKHF
 - 4. KJED

Question Type : MCQ

Question ID : 630680387608

Option 1 ID : 6306801511098

Option 2 ID : 6306801511101

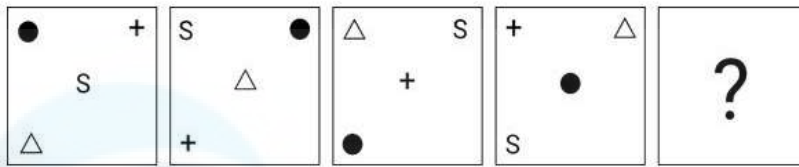
Option 3 ID : 6306801511100

Option 4 ID : 6306801511099

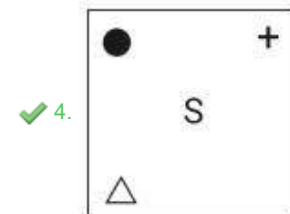
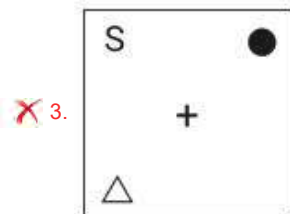
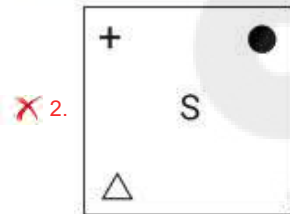
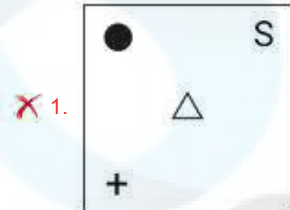
Status : Answered

Chosen Option : 1

Q.10 दिए गए विकल्पों में से उस आकृति का चयन कीजिए, जिसे प्रश्न-चिह्न (?) के स्थान पर रखने पर श्रृंखला तार्किक रूप से पूर्ण हो जाएगी।



Ans



Question Type : MCQ

Question ID : 630680276647

Option 1 ID : 6306801075086

Option 2 ID : 6306801075084

Option 3 ID : 6306801075085

Option 4 ID : 6306801075083

Status : Answered

Chosen Option : 4

Q.11 पाँच मित्र, आशीष, बिपिन, चंद्र, दिनेश और इमैनुएल, एक ट्रेक (trek) पर गए। उन्होंने पहाड़ी की चोटी पर एक अलाव (campfire) जलाया और एक घेरा बनाकर इसके चारों ओर केंद्र की ओर मुख करके बैठ गए (परंतु जरूरी नहीं कि वे इसी क्रम में बैठे हों)। यह स्मरण होता है कि आशीष और चंद्र के बीच में केवल एक व्यक्ति बैठा था, जबकि चंद्र स्वयं बिपिन के बाएँ से दूसरे स्थान पर बैठा था। यदि चंद्र और बिपिन दोनों का निकटतम पड़ोसी दिनेश था, तो आशीष के ठीक दाएँ कौन बैठा था?

- Ans
- 1. दिनेश
 - 2. बिपिन
 - 3. इमैनुएल
 - 4. चंद्र

Question Type : MCQ
Question ID : 630680381528
Option 1 ID : 6306801487045
Option 2 ID : 6306801487043
Option 3 ID : 6306801487044
Option 4 ID : 6306801487046
Status : Answered
Chosen Option : 3

Q.12 एक निश्चित कूट भाषा में, 'MILK' को '5642' के रूप में कूटबद्ध किया जाता है और 'LIKE' को '8425' के रूप में कूटबद्ध किया जाता है। उस भाषा में 'E' के लिए कूट क्या है?

- Ans
- 1. 6
 - 2. 4
 - 3. 8
 - 4. 5

Question Type : MCQ
Question ID : 630680528923
Option 1 ID : 6306802067682
Option 2 ID : 6306802067683
Option 3 ID : 6306802067680
Option 4 ID : 6306802067681
Status : Answered
Chosen Option : 1

Q.13 A, B, C, D, E, F और G एक वृत्ताकार मेज के चारों ओर केंद्र की ओर मुख करके बैठे हैं (परंतु जरूरी नहीं कि वे इसी क्रम में बैठे हों)। E के बाएँ से गिनने पर, E और F के बीच में केवल तीन व्यक्ति बैठे हैं। D के दाएँ से गिनने पर, G और D के बीच में केवल तीन व्यक्ति बैठे हैं। A, G के ठीक दाएँ बैठा है। D और F दोनों का निकटतम पड़ोसी C है। B के बाएँ से दूसरे स्थान पर कौन बैठा है?

- Ans
- 1. A
 - 2. C
 - 3. E
 - 4. G

Question Type : MCQ
Question ID : 630680815683
Option 1 ID : 6306803196034
Option 2 ID : 6306803196033
Option 3 ID : 6306803196035
Option 4 ID : 6306803196036
Status : Answered
Chosen Option : 2

Q.14 निम्नलिखित समीकरण को सही करने के लिए किन दो संख्याओं को आपस में बदला जाना चाहिए?

$$(8 \div 2) \times 11 - 9 \times 3 + (51 \div 17) \times 6 = 30$$

(नोट: अदला-बदली पूरी संख्या की होनी चाहिए, न कि दी गई संख्या के अलग-अलग अंकों की।)

Ans 1. 11 और 6

2. 9 और 6

3. 3 और 6

4. 9 और 11

Question Type : MCQ

Question ID : 630680397638

Option 1 ID : 6306801550475

Option 2 ID : 6306801550476

Option 3 ID : 6306801550477

Option 4 ID : 6306801550474

Status : Answered

Chosen Option : 1

Q.15 एक निश्चित कूट भाषा में, 'BLUE' को '5193' के रूप में कूटबद्ध किया जाता है और 'CABS' को '3246' के रूप में कूटबद्ध किया जाता है। दी गई कूट भाषा में 'B' के लिए कूट क्या है?

Ans 1. 3

2. 6

3. 4

4. 5

Question Type : MCQ

Question ID : 630680422208

Option 1 ID : 6306801647268

Option 2 ID : 6306801647271

Option 3 ID : 6306801647269

Option 4 ID : 6306801647270

Status : Answered

Chosen Option : 1

Q.16 अंग्रेजी वर्णमाला क्रम के आधार पर दी गई श्रृंखला में प्रश्न चिह्न (?) के स्थान पर क्या आना चाहिए?

MSN, LRM, KQL, JPK, ?

Ans 1. IOJ

2. IJO

3. JIO

4. JOI

Question Type : MCQ

Question ID : 630680457102

Option 1 ID : 6306801785345

Option 2 ID : 6306801785346

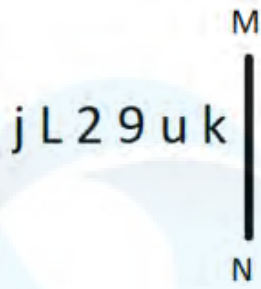
Option 3 ID : 6306801785347

Option 4 ID : 6306801785348

Status : Answered

Chosen Option : 1

Q.17 दी गई आकृति के उस सही दर्पण प्रतिबिंब को चुनिए, जो नीचे दर्शाए गए अनुसार दर्पण को MN पर रखने पर बनेगा।



Ans

- ✗ 1. kn e s j i
✗ 2. k u 2 9 j i
✗ 3. k u e s j L
✓ 4. k u e s j i

Question Type : MCQ

Question ID : 630680525261

Option 1 ID : 6306802053130

Option 2 ID : 6306802053128

Option 3 ID : 6306802053131

Option 4 ID : 6306802053129

Status : Answered

Chosen Option : 4

Q.18 एक निश्चित कूट भाषा में, 'SOAP' को '4729' के रूप में कूटबद्ध किया गया है और 'POSE' को '9257' के रूप में कूटबद्ध किया गया है। उस भाषा में 'E' के लिए कूट क्या है?

Ans

- ✗ 1. 9
✗ 2. 2
✗ 3. 7
✓ 4. 5

Question Type : MCQ

Question ID : 630680825486

Option 1 ID : 6306803233489

Option 2 ID : 6306803233490

Option 3 ID : 6306803233491

Option 4 ID : 6306803233492

Status : Answered

Chosen Option : 4

Q.19 दिए गए कथनों और निष्कर्षों को ध्यानपूर्वक पढ़िए। यह मानते हुए कि कथनों में दी गई जानकारी सत्य है, चाहे वह सामान्यतः ज्ञात तथ्यों से भिन्न प्रतीत होती हो और निर्णय लीजिए कि दिए गए निष्कर्षों में से कौन-सा/कौन-से निष्कर्ष कथनों का तार्किक रूप से अनुसरण करता है/करते हैं।

कथन:

सभी चील, बाज हैं।
सभी बाज, पक्षी हैं।

निष्कर्ष:

(I) सभी पक्षी, चील हैं।
(II) कुछ पक्षी, बाज हैं।

- Ans 1. न तो निष्कर्ष (I) और न ही निष्कर्ष (II) अनुसरण करता है
 2. केवल निष्कर्ष (II) अनुसरण करता है
 3. केवल निष्कर्ष (I) अनुसरण करता है
 4. निष्कर्ष (I) और निष्कर्ष (II), दोनों अनुसरण करते हैं

Question Type : MCQ

Question ID : 630680410618

Option 1 ID : 6306801601234

Option 2 ID : 6306801601233

Option 3 ID : 6306801601232

Option 4 ID : 6306801601235

Status : Answered

Chosen Option : 2

Q.20 अंग्रेजी वर्णानुक्रम के आधार पर, GNJF एक प्रकार से IPLH से संबंधित है। ठीक उसी प्रकार KRNJ, MTPL से संबंधित है। समान तर्क का अनुसरण करते हुए, OVRN, निम्नलिखित में से किससे संबंधित है?

- Ans 1. XQTP
 2. QXPT
 3. XQPT
 4. QXTP

Question Type : MCQ

Question ID : 630680435824

Option 1 ID : 6306801701248

Option 2 ID : 6306801701246

Option 3 ID : 6306801701247

Option 4 ID : 6306801701245

Status : Answered

Chosen Option : 4

Section : General Awareness

Q.1 ग्रैमी जीतने वाले पहले कर्नाटक संगीतकार, थेटाकुडी हरिहर विनायकराम (Thetakudi Harihara Vinayakram) को किस संगीत वाद्ययंत्र को बजाने के लिए जाना जाता है?

- Ans
- 1. शहनाई
 - 2. कंजरा
 - 3. मृदंगम
 - 4. घटम

Question Type : MCQ

Question ID : 630680482661

Option 1 ID : 6306801885115

Option 2 ID : 6306801885114

Option 3 ID : 6306801885116

Option 4 ID : 6306801885117

Status : Answered

Chosen Option : 4

Q.2 आवर्त सारणी के समूह 17 के तत्वों को किस रूप में जाना जाता है?

- Ans
- 1. क्षार धातुओं
 - 2. उल्कृष्ट गैसों
 - 3. हैलोजनों
 - 4. संक्रमण धातुओं

Question Type : MCQ

Question ID : 630680411203

Option 1 ID : 6306801603568

Option 2 ID : 6306801603570

Option 3 ID : 6306801603569

Option 4 ID : 6306801603571

Status : Answered

Chosen Option : 3

Q.3 17 सितंबर 2023 को भारत सरकार द्वारा शुरू की गई 'विश्वकर्मा योजना' के लिए निम्नलिखित में से कौन लक्षित लाभार्थी हैं?

- Ans
- 1. पारंपरिक शिल्पकारिता में कुशल व्यक्ति
 - 2. पारंपरिक लोक नृत्य में निपुण व्यक्ति
 - 3. पारंपरिक लोकसाहित्य में कुशल व्यक्ति
 - 4. पारंपरिक लोकगीतों में निपुण व्यक्ति

Question Type : MCQ

Question ID : 630680466185

Option 1 ID : 6306801820763

Option 2 ID : 6306801820765

Option 3 ID : 6306801820766

Option 4 ID : 6306801820764

Status : Answered

Chosen Option : 1

Q.4 देवधर ट्रॉफी (Deodhar Trophy) _____ के लिए दी जाती है।

- Ans
- 1. टेनिस
 - 2. क्रिकेट
 - 3. फुटबॉल
 - 4. हॉकी

Question Type : MCQ

Question ID : 630680309469

Option 1 ID : 6306801204032

Option 2 ID : 6306801204031

Option 3 ID : 6306801204029

Option 4 ID : 6306801204030

Status : Answered

Chosen Option : 2

Q.5 वित्त आयोग (Finance Commission) में अध्यक्ष के अतिरिक्त अन्य कितने सदस्य होते हैं?

- Ans
- 1. 6
 - 2. 5
 - 3. 4
 - 4. 3

Question Type : MCQ

Question ID : 630680312559

Option 1 ID : 6306801216120

Option 2 ID : 6306801216119

Option 3 ID : 6306801216118

Option 4 ID : 6306801216117

Status : Answered

Chosen Option : 2

Q.6 निम्नलिखित में से किसने 1611 ई. में मुगल बादशाह जहाँगीर से विवाह किया और 'नूरजहाँ' की उपाधि प्राप्त की?

- Ans
- 1. मुमताज महल (Mumtaz Mahal)
 - 2. जहाँआरा बेगम (Jahanara Begum)
 - 3. मेहरुन्निसा (Mehrunnisa)
 - 4. हसीना बेगम साहिबा (Hasina Begum Sahiba)

Question Type : MCQ

Question ID : 630680282930

Option 1 ID : 6306801099851

Option 2 ID : 6306801099853

Option 3 ID : 6306801099852

Option 4 ID : 6306801099854

Status : Answered

Chosen Option : 3

Q.7 निम्नलिखित में से किस मंत्रालय ने राष्ट्रीय करियर सेवा पोर्टल (www.ncs.gov.in) आरंभ किया है?

- Ans
- 1. युवा कार्यक्रम और खेल मंत्रालय
 - 2. श्रम और रोजगार मंत्रालय
 - 3. कार्मिक, लोक शिकायत और पेंशन मंत्रालय
 - 4. शिक्षा मंत्रालय

Question Type : MCQ

Question ID : 630680166384

Option 1 ID : 630680644489

Option 2 ID : 630680644490

Option 3 ID : 630680644491

Option 4 ID : 630680644488

Status : Answered

Chosen Option : 2

Q.8 'द बेस्ट मिस्टेक्स ऑफ माई लाइफ (The Best Mistakes of My Life)' किस भारतीय अभिनेता की आत्मकथा है?

- Ans
- 1. सलमान खान
 - 2. दिलीप कुमार
 - 3. शाहरुख खान
 - 4. संजय खान

Question Type : MCQ

Question ID : 630680512103

Option 1 ID : 6306802001382

Option 2 ID : 6306802001383

Option 3 ID : 6306802001385

Option 4 ID : 6306802001384

Status : Answered

Chosen Option : 2

Q.9 निम्नलिखित में से किस विकल्प में भारत की फसल ऋतुओं (cropping seasons) का समूह शामिल है?

- Ans
- 1. रबी, पोडू और जायद
 - 2. राय, खरीफ और जायद
 - 3. रबी, खरीफ और जायद
 - 4. रबी, खरीफ और झूम

Question Type : MCQ

Question ID : 630680798978

Option 1 ID : 6306803130712

Option 2 ID : 6306803130713

Option 3 ID : 6306803130710

Option 4 ID : 6306803130711

Status : Answered

Chosen Option : 3

Q.10 भांगड़ा और गिद्धा नृत्य शैलियाँ किस भारतीय राज्य से संबंधित हैं?

- Ans 1. ओडिशा
 2. पंजाब
 3. गुजरात
 4. महाराष्ट्र

Question Type : MCQ

Question ID : 630680536915

Option 1 ID : 6306802098934

Option 2 ID : 6306802098935

Option 3 ID : 6306802098933

Option 4 ID : 6306802098932

Status : Answered

Chosen Option : 2

Q.11 संविधान सभा में 'उद्देश्य प्रस्ताव (Objective Resolution)' किसने प्रस्तुत किया था?

- Ans 1. बी.आर. अंबेडकर
 2. राजेन्द्र प्रसाद
 3. जवाहरलाल नेहरू
 4. वल्लभभाई पटेल

Question Type : MCQ

Question ID : 630680511599

Option 1 ID : 6306801999519

Option 2 ID : 6306801999518

Option 3 ID : 6306801999521

Option 4 ID : 6306801999520

Status : Answered

Chosen Option : 3

Q.12 भोजन में स्टार्च (starch) की उपस्थिति का परीक्षण करने के लिए किस विलयन का उपयोग किया जाना चाहिए?

- Ans 1. एथिलीन ग्लाइकोल - जल विलयन (Ethylene glycol – water solution)
 2. आयोडीन विलयन (Iodine solution)
 3. मैग्नीशियम विलयन (Magnesium solution)
 4. टैल्क विलयन (Talc solution)

Question Type : MCQ

Question ID : 630680276560

Option 1 ID : 6306801074738

Option 2 ID : 6306801074736

Option 3 ID : 6306801074737

Option 4 ID : 6306801074735

Status : Answered

Chosen Option : 2

Q.13 निम्नलिखित में से कौन-सा स्वतंत्रता सेनानी 'न्यू लैम्प फॉर ओल्ड' (New Lamp for Old) नामक नौ लेखों की शृंखला से संबंधित था?

- Ans
- 1. स्वामी विवेकानंद
 - 2. भगत सिंह
 - 3. अरबिंदो घोष
 - 4. सरदार अजीत सिंह

Question Type : MCQ

Question ID : 630680282945

Option 1 ID : 6306801099913

Option 2 ID : 6306801099911

Option 3 ID : 6306801099912

Option 4 ID : 6306801099914

Status : Answered

Chosen Option : 3

Q.14 निम्नलिखित में से कौन-सी गोदावरी नदी की एक सहायक नदी नहीं है?

- Ans
- 1. कामेंग (Kameng)
 - 2. मंजरा (Manjra)
 - 3. प्राणहिता (Pranhita)
 - 4. इंद्रावती (Indravati)

Question Type : MCQ

Question ID : 630680510903

Option 1 ID : 6306801996745

Option 2 ID : 6306801996744

Option 3 ID : 6306801996742

Option 4 ID : 6306801996743

Status : Answered

Chosen Option : 4

Q.15 राजा और राधा रेड्डी को किस नृत्य शैली को नया आयाम देने के लिए वर्ष 2000 में पद्म भूषण से सम्मानित किया गया था?

- Ans
- 1. मणिपुरी
 - 2. ओडिसी
 - 3. सल्लिया
 - 4. कुचिपुड़ी

Question Type : MCQ

Question ID : 630680484276

Option 1 ID : 6306801891460

Option 2 ID : 6306801891461

Option 3 ID : 6306801891459

Option 4 ID : 6306801891458

Status : Answered

Chosen Option : 4

Q.16 निम्नलिखित में से किस बैंकिंग संस्थान ने सूक्ष्मवित्त ऋणों (microfinance loans) के माध्यम से वित्तीय समावेशन और भारत में उनके विस्तार में महत्वपूर्ण भूमिका निभाई?

- Ans
- 1. भारतीय रिज़र्व बैंक
 - 2. राष्ट्रीय कृषि और ग्रामीण विकास बैंक
 - 3. सेन्ट्रल बैंक ऑफ इंडिया
 - 4. भारतीय स्टेट बैंक

Question Type : MCQ
Question ID : 630680422553
Option 1 ID : 6306801648649
Option 2 ID : 6306801648650
Option 3 ID : 6306801648648
Option 4 ID : 6306801774729
Status : Answered
Chosen Option : 3

Q.17 दो पादप कोशिकाओं के बीच कोशिका भित्ति से होकर गुजरने वाली टनल (tunnel) को क्या कहा जाता है?

- Ans
- 1. राइबोसोम (ribosome)
 - 2. जीवद्रव्य (protoplasm)
 - 3. जीवद्रव्य तंतु (plasmodesmata)
 - 4. परऑक्सिसोम (peroxisome)

Question Type : MCQ
Question ID : 630680270018
Option 1 ID : 6306801049326
Option 2 ID : 6306801049324
Option 3 ID : 6306801049323
Option 4 ID : 6306801049325
Status : Answered
Chosen Option : 4

Q.18 वह प्रक्रिया जिसके द्वारा एक जल निकाय धीरे-धीरे पोषक तत्वों और खनिजों, मुख्य रूप से फास्फोरस और नाइट्रोजन से समृद्ध हो जाता है, जिससे जल की सतह पर शैवाल की अत्यधिक मात्रा में वृद्धि होती है तथा जिससे जल में घुलित ऑक्सीजन की मात्रा कम हो जाती है, _____ कहलाती है।

- Ans
- 1. जैवआवर्धन (Biomagnification)
 - 2. सुपोषण (Eutrophication)
 - 3. जैवसंचयन (Bioaccumulation)
 - 4. अवऑक्सीयता (Hypoxia)

Question Type : MCQ
Question ID : 630680404033
Option 1 ID : 6306801575621
Option 2 ID : 6306801575618
Option 3 ID : 6306801575619
Option 4 ID : 6306801575620
Status : Answered
Chosen Option : 3

Q.19 अकबर द्वारा बनवाई गई इमारत, बुलंद दरवाजा, भारत में निम्नलिखित में से किस स्थान पर बनवाया गया था?

- Ans
- 1. लाहौर
 - 2. आगरा
 - 3. दिल्ली
 - 4. फ़तेहपुर सीकरी

Question Type : **MCQ**
Question ID : **630680616103**
Option 1 ID : **6306802411117**
Option 2 ID : **6306802411116**
Option 3 ID : **6306802411114**
Option 4 ID : **6306802411115**
Status : **Answered**
Chosen Option : **4**

Q.20 भारतीय संविधान के अनुच्छेद 51A के अनुसार, भारत की संप्रभुता, एकता और _____ को बनाए रखना और उसकी रक्षा करना प्रत्येक नागरिक का मौलिक कर्तव्य है।

- Ans
- 1. अखंडता
 - 2. विविधता
 - 3. समरसता
 - 4. आध्यात्मिकता

Question Type : **MCQ**
Question ID : **630680550246**
Option 1 ID : **6306802151247**
Option 2 ID : **6306802151250**
Option 3 ID : **6306802151249**
Option 4 ID : **6306802151248**
Status : **Answered**
Chosen Option : **1**

Q.21 2011 की जनगणना के अनुसार, निम्नलिखित में से किस केंद्र शासित प्रदेश में ग्रामीण आबादी का प्रतिशत सबसे अधिक है?

- Ans
- 1. चंडीगढ़
 - 2. दमन और दीव
 - 3. दिल्ली
 - 4. पुदुचेरी

Question Type : **MCQ**
Question ID : **630680510923**
Option 1 ID : **6306801996823**
Option 2 ID : **6306801996824**
Option 3 ID : **6306801996822**
Option 4 ID : **6306801996825**
Status : **Answered**
Chosen Option : **4**

Q.22 निम्नलिखित में से किसने 2 से 5 मई 2023 तक कोरिया गणराज्य के इंचियोन (Incheon) में निवेशक/द्विपक्षीय और अन्य संबंधित बैठकों के साथ एशियाई विकास बैंक (Asian Development Bank - ADB) के शासक मंडल (Board of Governors) की 56वीं वार्षिक आम बैठक में भाग लेने के लिए भारतीय प्रतिनिधिमंडल का नेतृत्व किया था?

- Ans
- 1. मीनाक्षी लेखी
 - 2. निर्मला सीतारमण
 - 3. रेणुका सिंह सरुता
 - 4. स्मृति ईरानी

Question Type : MCQ

Question ID : 630680469627

Option 1 ID : 6306801834273

Option 2 ID : 6306801834271

Option 3 ID : 6306801834274

Option 4 ID : 6306801834272

Status : Answered

Chosen Option : 2

Q.23 गोवा में हुए 37वें राष्ट्रीय खेल आयोजन में कौन-सा राज्य पदक तालिका में शीर्ष पर रहा?

- Ans
- 1. केरल
 - 2. हरियाणा
 - 3. पंजाब
 - 4. महाराष्ट्र

Question Type : MCQ

Question ID : 630680571119

Option 1 ID : 6306802233530

Option 2 ID : 6306802233531

Option 3 ID : 6306802233529

Option 4 ID : 6306802233528

Status : Answered

Chosen Option : 1

Q.24 मौर्य समाज के दौरान मेगस्थनीज ने भारतीय समाज को सात विशिष्ट समूहों में विभाजित किया। 'राजा के सलाहकारों (king's counsellors)' को किस विशिष्ट समूह में रखा गया था?

- Ans
- 1. पाँचवें
 - 2. सातवें
 - 3. दूसरे
 - 4. पहले

Question Type : MCQ

Question ID : 630680113856

Option 1 ID : 630680440951

Option 2 ID : 630680440952

Option 3 ID : 630680440953

Option 4 ID : 630680440950

Status : Answered

Chosen Option : 3

Q.25 निम्नलिखित में से किस दिन राष्ट्रीय एकीकरण दिवस (National Integration Day) मनाया जाता है?

- Ans 1. 26 जनवरी
 2. 19 नवंबर
 3. 15 अगस्त
 4. 2 अक्टूबर

Question Type : MCQ

Question ID : 630680403360

Option 1 ID : 6306801572950

Option 2 ID : 6306801572953

Option 3 ID : 6306801572951

Option 4 ID : 6306801572952

Status : Answered

Chosen Option : 2

Section : English Language and Comprehension

Q.1 Select the most appropriate synonym of 'clarify' in the sentence given below.
The last question of the examination paper confused me when it asked to illustrate the Pythagoras' theorem with the help of examples.

- Ans 1. Illustrate
 2. Last
 3. Help
 4. Confused

Question Type : MCQ

Question ID : 630680517225

Option 1 ID : 6306802021298

Option 2 ID : 6306802021296

Option 3 ID : 6306802021299

Option 4 ID : 6306802021297

Status : Answered

Chosen Option : 1

Q.2 Select the most appropriate synonym of the given word.
Jurisdiction

- Ans 1. Expression
 2. Descent
 3. Governance
 4. Violation

Question Type : MCQ

Question ID : 630680397587

Option 1 ID : 6306801550271

Option 2 ID : 6306801550269

Option 3 ID : 6306801550270

Option 4 ID : 6306801550272

Status : Answered

Chosen Option : 3

Q.3 Select the most appropriate idiom for the underlined segment in the given sentence.

Sarvana failed in the examination last week and is in extreme depression these days.

Ans 1. In the doldrums

2. In cold blood

3. In the red

4. In the lurch

Question Type : **MCQ**

Question ID : **630680435967**

Option 1 ID : **6306801701827**

Option 2 ID : **6306801701828**

Option 3 ID : **6306801701825**

Option 4 ID : **6306801701826**

Status : **Answered**

Chosen Option : **4**

Q.4 Select the most appropriate option to fill in the blank.

I always prefer a small, cosy cottage _____ a high-rise apartment.

Ans 1. from

2. than

3. for

4. to

Question Type : **MCQ**

Question ID : **630680544626**

Option 1 ID : **6306802129273**

Option 2 ID : **6306802129270**

Option 3 ID : **6306802129271**

Option 4 ID : **6306802129272**

Status : **Answered**

Chosen Option : **4**

Q.5 Select the grammatically correct sentence.

Ans 1. If you want to have a sound working knowledge of Japanese, you must read this book.

2. If you want to have a sound working knowledge of the Japanese, you must read this book.

3. If you want to have sound working knowledge of the Japanese, you must read this book.

4. If you want to have an sound working knowledge of Japanese, you must read this book.

Question Type : **MCQ**

Question ID : **630680116045**

Option 1 ID : **630680449512**

Option 2 ID : **630680449511**

Option 3 ID : **630680449513**

Option 4 ID : **630680449510**

Status : **Answered**

Chosen Option : **2**

Q.6 Select the option that can be used as a one-word substitute for the highlighted group of words in the given sentence.

RK Laxman was well-known for his drawings of people in such a highly exaggerated manner as to cause laughter.

- Ans
- 1. portraits
 - 2. caricatures
 - 3. sketches
 - 4. articles

Question Type : **MCQ**
Question ID : **630680564318**
Option 1 ID : **6306802206230**
Option 2 ID : **6306802206227**
Option 3 ID : **6306802206228**
Option 4 ID : **6306802206229**
Status : **Answered**
Chosen Option : **2**

Q.7 Select the word that has the same meaning (SYNONYM) as the underlined word in the given sentence.

Shylock, the Jewish moneylender, and Antonio, the rich Merchant of Venice loathed each other.

- Ans
- 1. lathered
 - 2. latte
 - 3. admired
 - 4. abhorred

Question Type : **MCQ**
Question ID : **630680446666**
Option 1 ID : **6306801743966**
Option 2 ID : **6306801743967**
Option 3 ID : **6306801743969**
Option 4 ID : **6306801743968**
Status : **Answered**
Chosen Option : **4**

Q.8 The following sentence has been split into four segments. Identify the segment that contains a grammatical error.

The dancer / performed weird / but the music was / highly enchanting.

- Ans
- 1. highly enchanting.
 - 2. The dancer
 - 3. but the music was
 - 4. performed weird

Question Type : **MCQ**
Question ID : **630680205268**
Option 1 ID : **630680795934**
Option 2 ID : **630680795931**
Option 3 ID : **630680795933**
Option 4 ID : **630680795932**
Status : **Answered**
Chosen Option : **4**

Q.9 Select the most appropriate synonym of the underlined word in the following sentence.

Success demands hard work, diligence and perseverance.

- Ans 1. Coolness
 2. indolence
 3. Effort
 4. Trouble

Question Type : **MCQ**

Question ID : **630680394914**

Option 1 ID : **6306801539937**

Option 2 ID : **6306801539939**

Option 3 ID : **6306801539936**

Option 4 ID : **6306801539938**

Status : **Answered**

Chosen Option : **3**

Q.10 The following sentence has been split into four segments. Identify the segment that contains an error in phrasal verb.

Bindu asked Arya to fill out for / her so that she could / take care of / her sick father.

- Ans 1. her so that he could
 2. Bindu asked Arya to fill out for
 3. take care of
 4. her sick father

Question Type : **MCQ**

Question ID : **630680540763**

Option 1 ID : **6306802114091**

Option 2 ID : **6306802114090**

Option 3 ID : **6306802114092**

Option 4 ID : **6306802114093**

Status : **Answered**

Chosen Option : **2**

Q.11 Select the **INCORRECTLY** spelt word.

- Ans 1. parliment
 2. perseverance
 3. perceive
 4. pastime

Question Type : **MCQ**

Question ID : **630680502346**

Option 1 ID : **6306801962974**

Option 2 ID : **6306801962977**

Option 3 ID : **6306801962976**

Option 4 ID : **6306801962975**

Status : **Answered**

Chosen Option : **1**

Q.12 Select the most appropriate option to fill in the blank.
Woodcutting involves the removal of useless trees first, _____ by medium and finest quality timber trees.

- Ans
- 1. compared
 - 2. enacted
 - 3. followed
 - 4. adjusted

Question Type : **MCQ**
Question ID : **630680515249**
Option 1 ID : **6306802013462**
Option 2 ID : **6306802013464**
Option 3 ID : **6306802013461**
Option 4 ID : **6306802013463**
Status : **Answered**
Chosen Option : **3**

Q.13 Select the correctly spelled sentence.

- Ans
- 1. The audience applauded the musicans performance.
 - 2. The audience applauded the musician's performance.
 - 3. The audience applauded the muzicians performance.
 - 4. The audience applauded the musician's performance.

Question Type : **MCQ**
Question ID : **630680615978**
Option 1 ID : **6306802410610**
Option 2 ID : **6306802410613**
Option 3 ID : **6306802410612**
Option 4 ID : **6306802410611**
Status : **Answered**
Chosen Option : **1**

Q.14 Select the grammatically correct sentence.

- Ans
- 1. An intricate dance of neurotransmitters in a synaptic cleft plays a crucial role in neural communication.
 - 2. An intricate dance of neurotransmitters in the synaptic cleft plays the crucial role in neural communication.
 - 3. The intricate dance of neurotransmitters in a synaptic cleft plays the crucial role in neural communication.
 - 4. The intricate dance of neurotransmitters in the synaptic cleft plays a crucial role in neural communication.

Question Type : **MCQ**
Question ID : **630680597146**
Option 1 ID : **6306802336621**
Option 2 ID : **6306802336624**
Option 3 ID : **6306802336623**
Option 4 ID : **6306802336622**
Status : **Answered**
Chosen Option : **2**

Q.15 Select the most appropriate option to fill in the blank.
The restaurant's menu featured a variety of _____ dishes.

- Ans 1. delicious
 2. delitious
 3. delicious
 4. delecious

Question Type : **MCQ**
Question ID : **630680726499**
Option 1 ID : **6306802847005**
Option 2 ID : **6306802847004**
Option 3 ID : **6306802847003**
Option 4 ID : **6306802847002**
Status : **Answered**
Chosen Option : **3**

Q.16 In the following sentence the underlined part contains an error. Alternatives to the underlined part are given as options. Choose the correct alternative.

She is late than we expected.

- Ans 1. latest
 2. later
 3. latter
 4. more late

Question Type : **MCQ**
Question ID : **630680514562**
Option 1 ID : **6306802010874**
Option 2 ID : **6306802010876**
Option 3 ID : **6306802010873**
Option 4 ID : **6306802010875**
Status : **Answered**
Chosen Option : **4**

Q.17 Select the option that can be used as a one-word substitute for the given group of words.

A person who travels from place to place, especially for work

- Ans 1. Vagrant
 2. Pilgrim
 3. Itinerant
 4. Nomad

Question Type : **MCQ**
Question ID : **6306801031662**
Option 1 ID : **6306804049359**
Option 2 ID : **6306804049358**
Option 3 ID : **6306804049360**
Option 4 ID : **6306804049357**
Status : **Answered**
Chosen Option : **3**

Q.18 Choose the correctly spelt word to fill in the blank meaningfully.
His _____ is a brilliant student.

- Ans
- 1. sun
 - 2. sone
 - 3. sune
 - 4. son

Question Type : **MCQ**

Question ID : **630680508259**

Option 1 ID : **6306801986334**

Option 2 ID : **6306801986336**

Option 3 ID : **6306801986335**

Option 4 ID : **6306801986333**

Status : **Answered**

Chosen Option : **4**

Q.19 Change the following sentence into positive degree.

Sushma is one of the smartest girls in the class.

- Ans
- 1. No other girl is as smart as Sushma.
 - 2. Few girls in the class are as smart as Sushma.
 - 3. Sushma is smarter than any other girls in the class.
 - 4. Sushma is the smart girl of the class.

Question Type : **MCQ**

Question ID : **630680514641**

Option 1 ID : **6306802011189**

Option 2 ID : **6306802011192**

Option 3 ID : **6306802011191**

Option 4 ID : **6306802011190**

Status : **Answered**

Chosen Option : **1**

Q.20 Select the most appropriate meaning of the given idiom.
Head in the clouds

- Ans
- 1. Thinking about the sky and clouds
 - 2. Being impractical
 - 3. Working hard
 - 4. Being punctual and sincere

Question Type : **MCQ**

Question ID : **630680154867**

Option 1 ID : **630680599267**

Option 2 ID : **630680599264**

Option 3 ID : **630680599265**

Option 4 ID : **630680599266**

Status : **Answered**

Chosen Option : **2**

Comprehension:

In the following passage, some words have been deleted. Read the passage carefully and select the most appropriate option to fill in each blank.

We are familiar with the quote, "If winter comes, can spring be far ___1___?" Winters are depressing, but we bear because we know that it will not ___2___ till perpetuity. Spring ___3___ a new life in us. As the spring begins to set itself, the nights become shorter and the days get longer. Gardens and lawns become colourful, buds ___4___ as flowers, birds chirp and butterflies fly from one flower to another to ___5___ on the sweet nectar. The dullness is taken over by brightness.

SubQuestion No : 21

Q.21 Select the most appropriate option to fill in blank number 1.

- Ans 1. behind
 2. behind and far
 3. far behind
 4. behind and below

Question Type : MCQ

Question ID : 630680652459

Option 1 ID : 6306802554314

Option 2 ID : 6306802554317

Option 3 ID : 6306802554315

Option 4 ID : 6306802554316

Status : Answered

Chosen Option : 1

Comprehension:

In the following passage, some words have been deleted. Read the passage carefully and select the most appropriate option to fill in each blank.

We are familiar with the quote, "If winter comes, can spring be far ___1___?" Winters are depressing, but we bear because we know that it will not ___2___ till perpetuity. Spring ___3___ a new life in us. As the spring begins to set itself, the nights become shorter and the days get longer. Gardens and lawns become colourful, buds ___4___ as flowers, birds chirp and butterflies fly from one flower to another to ___5___ on the sweet nectar. The dullness is taken over by brightness.

SubQuestion No : 22

Q.22 Select the most appropriate option to fill in blank number 2.

- Ans 1. hold
 2. hold on
 3. last
 4. rest

Question Type : MCQ

Question ID : 630680652460

Option 1 ID : 6306802554319

Option 2 ID : 6306802554318

Option 3 ID : 6306802554320

Option 4 ID : 6306802554321

Status : Answered

Chosen Option : 2

Comprehension:

In the following passage, some words have been deleted. Read the passage carefully and select the most appropriate option to fill in each blank.

We are familiar with the quote, "If winter comes, can spring be far ___1___?" Winters are depressing, but we bear because we know that it will not ___2___ till perpetuity. Spring ___3___ a new life in us. As the spring begins to set itself, the nights become shorter and the days get longer. Gardens and lawns become colourful, buds ___4___ as flowers, birds chirp and butterflies fly from one flower to another to ___5___ on the sweet nectar. The dullness is taken over by brightness.

SubQuestion No : 23

Q.23 Select the most appropriate option to fill in blank number 3.

Ans 1. inculcate

2. infuses

3. imbue

4. immerse

Question Type : **MCQ**

Question ID : **630680652461**

Option 1 ID : **6306802554322**

Option 2 ID : **6306802554325**

Option 3 ID : **6306802554323**

Option 4 ID : **6306802554324**

Status : **Answered**

Chosen Option : **4**

Comprehension:

In the following passage, some words have been deleted. Read the passage carefully and select the most appropriate option to fill in each blank.

We are familiar with the quote, "If winter comes, can spring be far ___1___?" Winters are depressing, but we bear because we know that it will not ___2___ till perpetuity. Spring ___3___ a new life in us. As the spring begins to set itself, the nights become shorter and the days get longer. Gardens and lawns become colourful, buds ___4___ as flowers, birds chirp and butterflies fly from one flower to another to ___5___ on the sweet nectar. The dullness is taken over by brightness.

SubQuestion No : 24

Q.24 Select the most appropriate option to fill in blank number 4.

Ans 1. come out

2. pull out

3. take out

4. fall over

Question Type : **MCQ**

Question ID : **630680652462**

Option 1 ID : **6306802554326**

Option 2 ID : **6306802554329**

Option 3 ID : **6306802554328**

Option 4 ID : **6306802554327**

Status : **Answered**

Chosen Option : **1**

Comprehension:

In the following passage, some words have been deleted. Read the passage carefully and select the most appropriate option to fill in each blank.

We are familiar with the quote, "If winter comes, can spring be far ___1___?" Winters are depressing, but we bear because we know that it will not ___2___ till perpetuity. Spring ___3___ a new life in us. As the spring begins to set itself, the nights become shorter and the days get longer. Gardens and lawns become colourful, buds ___4___ as flowers, birds chirp and butterflies fly from one flower to another to ___5___ on the sweet nectar. The dullness is taken over by brightness.

SubQuestion No : 25

Q.25 Select the most appropriate option to fill in blank number 5.

- Ans
- 1. gulp
 - 2. gobble
 - 3. food
 - 4. suck

Question Type : **MCQ**

Question ID : **630680652463**

Option 1 ID : **6306802554332**

Option 2 ID : **6306802554331**

Option 3 ID : **6306802554333**

Option 4 ID : **6306802554330**

Status : **Answered**

Chosen Option : **4**