

Multi Tasking Non Technical Staff and Havaladar CBIC and CBN Examination 2024

Roll Number	
Candidate Name	
Venue Name	Pawan Ganga Educational Center 2
Exam Date	21/10/2024
Exam Time	4:00 PM - 5:30 PM
Subject	MTS Non Tech Havaladar CBIC and CBN Examination 2024

Section : Numerical and Mathematical Ability

Q.1 3 वर्ष पहले एक पति-पत्नी और उनके बच्चे की औसत आयु 27 वर्ष थी, और 5 वर्ष पहले पत्नी और बच्चे की औसत आयु 20 वर्ष थी। पति की वर्तमान आयु कितनी है?

- Ans
- 1. 50 वर्ष
 - 2. 35 वर्ष
 - 3. 40 वर्ष
 - 4. 45 वर्ष

Question Type : **MCQ**

Question ID : **630680287308**

Option 1 ID : **6306801117142**

Option 2 ID : **6306801117139**

Option 3 ID : **6306801117140**

Option 4 ID : **6306801117141**

Status : **Answered**

Chosen Option : **3**

Q.2 4 वर्षों के लिए 3% वार्षिक की ब्याज दर पर उधार ली गई राशि ₹2500 पर साधारण ब्याज (₹ में) ज्ञात कीजिए।

- Ans
- 1. 340
 - 2. 300
 - 3. 260
 - 4. 240

Question Type : **MCQ**

Question ID : **630680591890**

Option 1 ID : **6306802316028**

Option 2 ID : **6306802316027**

Option 3 ID : **6306802316030**

Option 4 ID : **6306802316029**

Status : **Answered**

Chosen Option : **2**

Q.3 एक कक्षा में 40 विद्यार्थियों की औसत आयु 12 वर्ष है। कक्षा में 20 नए प्रवेश के कारण विद्यार्थियों की औसत आयु में 4 महीने की वृद्धि होती है। नए प्रवेश लेने वाले विद्यार्थियों की औसत आयु ज्ञात कीजिए।

- Ans
- 1. 13 वर्ष 4 महीने
 - 2. 13 वर्ष
 - 3. 14 वर्ष 6 महीने
 - 4. 14 वर्ष

Question Type : MCQ
Question ID : 630680815849
Option 1 ID : 6306803196730
Option 2 ID : 6306803196729
Option 3 ID : 6306803196731
Option 4 ID : 6306803196732
Status : Answered
Chosen Option : 3

Q.4 किसी वस्तु पर 12% और 18% की दो क्रमिक मूल्य वृद्धि के लिए एकल समतुल्य मूल्य वृद्धि कितनी है?

- Ans
- 1. 30%
 - 2. 30.24%
 - 3. 32.16%
 - 4. 15%

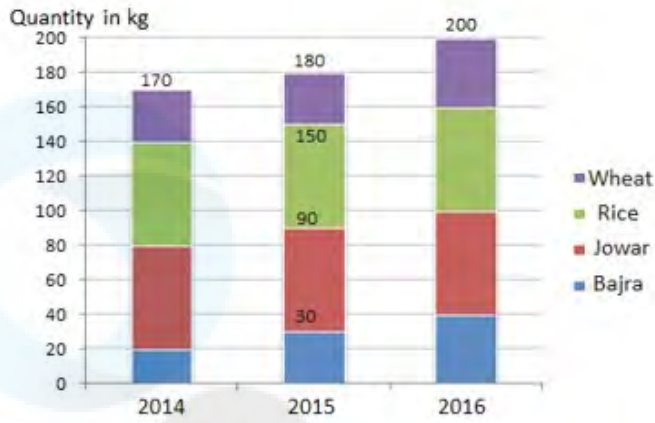
Question Type : MCQ
Question ID : 630680484445
Option 1 ID : 6306801892103
Option 2 ID : 6306801892104
Option 3 ID : 6306801892105
Option 4 ID : 6306801892102
Status : Answered
Chosen Option : 4

Q.5 3 वर्षों के लिए 3% वार्षिक की ब्याज दर पर उधार ली गई राशि ₹3000 पर साधारण ब्याज (₹ में) ज्ञात कीजिए।

- Ans
- 1. 310
 - 2. 210
 - 3. 230
 - 4. 270

Question Type : MCQ
Question ID : 630680591924
Option 1 ID : 6306802316164
Option 2 ID : 6306802316165
Option 3 ID : 6306802316166
Option 4 ID : 6306802316163
Status : Answered
Chosen Option : 1

Q.6 निम्नलिखित बार-ग्राफ वर्ष 2014, 2015 और 2016 में एक राज्य में उत्पादित अनाज की मात्रा को दर्शाता है। दिए गए बार-ग्राफ का अध्ययन करें और निम्नलिखित प्रश्न का उत्तर दें।



संदर्भ: Quantity in kg - मात्रा kg में, Wheat - गेहूँ, Rice - चावल, Jowar - ज्वार, Bajra - बाजरा

वर्ष 2014 में गेहूँ उत्पादन के प्रतिशत और वर्ष 2016 में गेहूँ उत्पादन के प्रतिशत में कितना अंतर है? (दो दशमलव स्थानों तक पूर्णांकित)

- Ans
- 1. 3.45%
 - 2. 4.23%
 - 3. 2.35%
 - 4. 1.92%

Question Type : MCQ

Question ID : 630680815895

Option 1 ID : 6306803196913

Option 2 ID : 6306803196914

Option 3 ID : 6306803196915

Option 4 ID : 6306803196916

Status : Answered

Chosen Option : 1

Q.7 200-m लंबे एक वृत्ताकार पथ पर, दो व्यक्ति एक ही बिंदु से एक ही समय पर क्रमशः 12 km/h और 15 km/h की चाल से दौड़ना शुरू करते हैं। यदि वे एक ही दिशा में दौड़ रहे हैं तो कितने समय बाद वे पहली बार दोबारा मिलेंगे?

- Ans
- 1. 240 सेकंड
 - 2. 180 सेकंड
 - 3. 200 सेकंड
 - 4. 220 सेकंड

Question Type : MCQ

Question ID : 630680395095

Option 1 ID : 6306801540651

Option 2 ID : 6306801540648

Option 3 ID : 6306801540649

Option 4 ID : 6306801540650

Status : Answered

Chosen Option : 1

Q.8 शिखा ने वंश को 5% हानि पर एक बुकशेल्फ बेची, वंश ने स्वर्णिमा को 10% लाभ पर वही बुकशेल्फ बेची, और स्वर्णिमा ने निखिल को 20% हानि पर वही बुकशेल्फ बेची। यदि निखिल ने बुकशेल्फ ₹16,720 में खरीदी, तो शिखा के लिए बुकशेल्फ का क्रय मूल्य (₹ में) कितना था?

- Ans
- 1. 21,500
 - 2. 18,000
 - 3. 19,500
 - 4. 20,000

Question Type : MCQ

Question ID : 630680437893

Option 1 ID : 6306801709401

Option 2 ID : 6306801709398

Option 3 ID : 6306801709399

Option 4 ID : 6306801709400

Status : Answered

Chosen Option : 2

Q.9 निम्नलिखित तालिका विभिन्न वर्षों में विभिन्न प्रकार की पानी की बोतलों के उत्पादन (हजारों में) को दर्शाती है।

पानी की बोतल का प्रकार/वर्ष	2009	2010	2011	2012	2013
A	896	636	587	473	576
B	573	753	637	560	884
C	678	287	586	780	986

वर्ष 2012 में किस प्रकार की पानी की बोतलों का उत्पादन सर्वाधिक था?

- Ans
- 1. C
 - 2. B और C, दोनों
 - 3. A
 - 4. B

Question Type : MCQ

Question ID : 630680523740

Option 1 ID : 6306802047113

Option 2 ID : 6306802047114

Option 3 ID : 6306802047111

Option 4 ID : 6306802047112

Status : Answered

Chosen Option : 1

Q.10 अक्षय 12 m त्रिज्या और 35 m ऊँचाई वाला एक शंक्वाकार तम्बू बनाने के लिए 6 m चौड़ा कपड़ा खरीदना चाहता है। उसे कितने मीटर कपड़ा खरीदना होगा?

$$\pi = \frac{22}{7} \text{ लें}$$

ध्यान दें: दशमलव को निकटतम पूर्ण संख्या में पूर्णांकित करें।

- Ans
- 1. 234
 - 2. 231
 - 3. 239
 - 4. 233

Question Type : MCQ

Question ID : 630680387343

Option 1 ID : 6306801510060

Option 2 ID : 6306801510058

Option 3 ID : 6306801510061

Option 4 ID : 6306801510059

Status : Answered

Chosen Option : 2

Q.11 14 cm ऊँचाई वाले एक बेलनाकार बर्तन की बाह्य और आंतरिक त्रिज्याएँ क्रमशः 14 cm और 10 cm हैं। इसे 7 cm ऊँचाई और क्रमशः 7 cm और 5 cm बाह्य और आंतरिक त्रिज्या वाले एक छोटे बेलनाकार बर्तन का उपयोग करके पानी डालकर भरना है। छोटे बेलनाकार बर्तन से 6 बार पानी डालने के बाद बड़े बर्तन की रिक्त (बिना भरी हुई) ऊँचाई कितनी होगी? ($\pi = \frac{22}{7}$ का उपयोग करें)

- Ans
- 1. 3.8 cm
 - 2. 3.5 cm
 - 3. 2.9 cm
 - 4. 2.2 cm

Question Type : MCQ

Question ID : 630680378651

Option 1 ID : 6306801475654

Option 2 ID : 6306801475653

Option 3 ID : 6306801475652

Option 4 ID : 6306801475651

Status : Answered

Chosen Option : 2

Q.12 गीता अपने घर से 270 km दूर अपने गृहनगर गई। उसने अपनी यात्रा 10:00 a.m. पर शुरू की और 02:00 p.m. पर वह अपने गंतव्य स्थान पर पहुंच गई, जिसमें 20 km की यात्रा उसने 60 km/h की चाल से कैब से और 240 km की यात्रा 80 km/h की चाल से ट्रेन से तय की। अपने गंतव्य स्थान तक की शेष दूरी उसने ऑटो से तय की। ऑटो की चाल ज्ञात कीजिए।

- Ans
- 1. 20 km/h
 - 2. 4 km/h
 - 3. 15 km/h
 - 4. 18 km/h

Question Type : MCQ

Question ID : 630680131217

Option 1 ID : 630680508134

Option 2 ID : 630680508136

Option 3 ID : 630680508137

Option 4 ID : 630680508135

Status : Answered

Chosen Option : 2

Q.13 मारिया ने ₹3,000 में एक पोशाक खरीदी। वह 35% की छूट और 20%, 10% और 5% की तीन क्रमिक छूटों के बीच निर्णय नहीं ले सकी। दोनों छूटों के बीच कितना अंतर (₹ में) है?

- Ans
- 1. 0
 - 2. 68
 - 3. 20
 - 4. 102

Question Type : MCQ

Question ID : 630680423674

Option 1 ID : 6306801653043

Option 2 ID : 6306801653045

Option 3 ID : 6306801653044

Option 4 ID : 6306801653046

Status : Answered

Chosen Option : 1

Q.14 यदि p , q के समानुपाती (directly proportional) है और $q = 6$ होने पर $p = 7$ है, तो $q = 21$ होने पर p का मान ज्ञात करें।

- Ans
- 1. 23.5
 - 2. 24.0
 - 3. 24.5
 - 4. 25.0

Question Type : MCQ

Question ID : 630680216685

Option 1 ID : 630680840703

Option 2 ID : 630680840704

Option 3 ID : 630680840705

Option 4 ID : 630680840706

Status : Answered

Chosen Option : 2

Q.15 39 विद्यार्थियों की एक कक्षा की औसत आयु 15 वर्ष है। यदि इसमें शिक्षक की आयु भी शामिल कर ली जाए, तो औसत 3 महीने बढ़ जाता है। शिक्षक की आयु ज्ञात कीजिए।

- Ans 1. 27 वर्ष
 2. 26 वर्ष
 3. 24 वर्ष
 4. 25 वर्ष

Question Type : MCQ

Question ID : 630680277290

Option 1 ID : 6306801077612

Option 2 ID : 6306801077611

Option 3 ID : 6306801077609

Option 4 ID : 6306801077610

Status : Answered

Chosen Option : 4

Q.16 दिव्यांश ने अपनी पूँजी का क्रमशः $\frac{1}{4}$ हिस्सा 10% पर, $\frac{1}{5}$ हिस्सा 20% पर और शेष 30% वार्षिक साधारण ब्याज पर निवेश किया। यदि उसकी वार्षिक आय ₹3,220 है, तो पूँजी (₹ में) ज्ञात करें।

- Ans 1. 17,000
 2. 15,300
 3. 14,000
 4. 13,500

Question Type : MCQ

Question ID : 630680402969

Option 1 ID : 6306801571454

Option 2 ID : 6306801571453

Option 3 ID : 6306801571452

Option 4 ID : 6306801571451

Status : Answered

Chosen Option : 4

Q.17 एक आयत की लंबाई और चौड़ाई का योग 68 m है और लंबाई और चौड़ाई का अनुपात 11:23 है। आयत का क्षेत्रफल (m^2 में) कितना है?

- Ans 1. 253
 2. 976
 3. 1012
 4. 1331

Question Type : MCQ

Question ID : 630680112523

Option 1 ID : 630680435789

Option 2 ID : 630680435786

Option 3 ID : 630680435787

Option 4 ID : 630680435788

Status : Answered

Chosen Option : 1

Q.18 8, 12, 18, 24 और 36 का ल०स०प० ज्ञात करें।

Ans 1. 72

2. 27

3. 36

4. 64

Question Type : MCQ

Question ID : 630680108688

Option 1 ID : 630680421682

Option 2 ID : 630680421680

Option 3 ID : 630680421683

Option 4 ID : 630680421681

Status : Answered

Chosen Option : 4

Q.19 रोहित ने एक जैकेट को ₹7,930 में बेचकर 22% का लाभ कमाया। जैकेट का क्रय मूल्य (लागत मूल्य) ज्ञात करें।

Ans 1. ₹6,500

2. ₹7,000

3. ₹7,500

4. ₹6,000

Question Type : MCQ

Question ID : 630680186798

Option 1 ID : 630680724143

Option 2 ID : 630680724142

Option 3 ID : 630680724141

Option 4 ID : 630680724144

Status : Answered

Chosen Option : 1

Q.20 बेहतर गुणवत्ता वाले 15 किलोग्राम गेहूं को खराब गुणवत्ता वाले 5 किलोग्राम गेहूं के साथ मिलाया जाता है। बेहतर गुणवत्ता और खराब गुणवत्ता वाले गेहूं का मूल्य क्रमशः ₹80 और ₹60 है। मिश्रण का प्रति किलोग्राम औसत मूल्य ज्ञात कीजिए।

Ans 1. ₹75

2. ₹150

3. ₹70

4. ₹65

Question Type : MCQ

Question ID : 630680447245

Option 1 ID : 6306801746233

Option 2 ID : 6306801746236

Option 3 ID : 6306801746234

Option 4 ID : 6306801746235

Status : Answered

Chosen Option : 4

Q.1 छह व्यक्ति A, B, C, D, E और F एक वृत्ताकार मेज के चारों ओर केंद्र की ओर मुख करके बैठे हैं (परंतु जरूरी नहीं कि वे इसी क्रम में बैठे हों)। E, C के बाएँ से दूसरे स्थान पर बैठा है। A और B दोनों का निकटतम पड़ोसी C है। F, A के दाएँ से तीसरे स्थान पर बैठा है। D के बाएँ से गिनती करने पर D और C के बीच में कितने व्यक्ति बैठे हैं?

- Ans
- 1. 4
 - 2. 3
 - 3. 1
 - 4. 2

Question Type : MCQ

Question ID : 630680378779

Option 1 ID : 6306801476166

Option 2 ID : 6306801476165

Option 3 ID : 6306801476163

Option 4 ID : 6306801476164

Status : Answered

Chosen Option : 3

Q.2 एक निश्चित कूट भाषा में, 'JOKE' को 'NIOY' के रूप में कूटबद्ध किया जाता है और 'TRICKY' को 'XLMWOS' के रूप में कूटबद्ध किया जाता है। दी गई कूट भाषा में 'SPEAKERS' के लिए क्या कूट होगा?

- Ans
- 1. WJHUOYVM
 - 2. WJIUOYVM
 - 3. WJIUOYUM
 - 4. WJILOYVM

Question Type : MCQ

Question ID : 630680465162

Option 1 ID : 6306801816686

Option 2 ID : 6306801816684

Option 3 ID : 6306801816683

Option 4 ID : 6306801816685

Status : Answered

Chosen Option : 3

Q.3 उस समुच्चय का चयन कीजिए जिसमें संख्याएं ठीक उसी प्रकार संबंधित हैं जिस प्रकार दिए गए समुच्चयों की संख्याएं संबंधित हैं।

(ध्यान दें: संख्याओं को उनके घटक अंकों में अलग-अलग किए बिना पूर्ण संख्याओं पर संक्रियाएं की जानी चाहिए। उदाहरण के लिए संख्या 13 - संख्या 13 पर संक्रियाएं जैसे 13 को जोड़ना/घटाना/गुणा करना आदि किया जा सकता है। 13 को 1 और 3 में अलग-अलग करने की और फिर 1 और 3 पर गणितीय संक्रियाएं करने की अनुमति नहीं है।)

(12, 77, 5)

(21, 87, 3)

Ans 1. (17, 401, 9)

2. (12, 197, 3)

3. (15, 127, 7)

4. (11, 188, 6)

Question Type : MCQ

Question ID : 630680379172

Option 1 ID : 6306801477735

Option 2 ID : 6306801477736

Option 3 ID : 6306801477737

Option 4 ID : 6306801477738

Status : Answered

Chosen Option : 1

Q.4 अंग्रेजी वर्णानुक्रम के आधार पर दी गई श्रृंखला में प्रश्न चिह्न (?) के स्थान पर क्या आना चाहिए?

GKS, MQY, SWE, YCK, ?

Ans 1. EIQ

2. EQW

3. EIO

4. EWR

Question Type : MCQ

Question ID : 630680459408

Option 1 ID : 6306801794490

Option 2 ID : 6306801794491

Option 3 ID : 6306801794489

Option 4 ID : 6306801794492

Status : Answered

Chosen Option : 3

Q.5 एक निश्चित तर्क का अनुसरण करते हुए 12, 61 से संबंधित है। उसी तर्क का अनुसरण करते हुए 15, 76 से संबंधित है। उसी तर्क का अनुसरण करते हुए, 16 निम्नलिखित में से किससे संबंधित है?

(ध्यान दें: संख्याओं को उनके घटक अंकों में अलग-अलग किए बिना पूर्ण संख्याओं पर संक्रियाएं की जानी चाहिए। उदाहरण के लिए संख्या 13 - संख्या 13 पर संक्रियाएं जैसे 13 को जोड़ना/घटाना/गुणा करना आदि किया जा सकता है। 13 को 1 और 3 में अलग-अलग करने की और फिर 1 और 3 पर गणितीय संक्रियाएं करने की अनुमति नहीं है।)

- Ans
- 1. 86
 - 2. 84
 - 3. 88
 - 4. 81

Question Type : MCQ

Question ID : 630680441678

Option 1 ID : 6306801724328

Option 2 ID : 6306801724327

Option 3 ID : 6306801724329

Option 4 ID : 6306801724326

Status : Answered

Chosen Option : 2

Q.6 दी गई श्रृंखला में प्रश्न चिह्न (?) के स्थान पर क्या आना चाहिए?

25000, 5000, 1000, 200, 40, ?

- Ans
- 1. 20
 - 2. 8
 - 3. 16
 - 4. 12

Question Type : MCQ

Question ID : 630680196575

Option 1 ID : 630680762602

Option 2 ID : 630680762599

Option 3 ID : 630680762601

Option 4 ID : 630680762600

Status : Answered

Chosen Option : 2

Q.7 दिए गए विकल्पों में से उस आकृति को चुनिए जो निम्नलिखित श्रृंखला में प्रश्न चिह्न (?) के स्थान पर आ सकती है और पैटर्न को पूरा कर सकती है।

O	☆	R	R	X	X	R	R	E	
	X		O	☆		E	☆	X	?
V		E	E	V	V	☆	O	O	V

Ans

✗ 1.

E	☆	R
	V	
X		O

✗ 2.

O	☆	R
	X	
V		E

✓ 3.

E	☆	R
	O	
V		X

✗ 4.

X		R
☆	E	
V		O

Question Type : MCQ

Question ID : 630680441078

Option 1 ID : 6306801721969

Option 2 ID : 6306801721967

Option 3 ID : 6306801721966

Option 4 ID : 6306801721968

Status : Answered

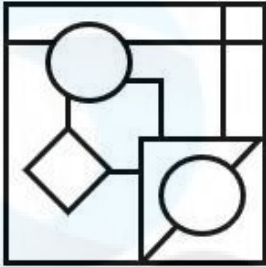
Chosen Option : 1

Q.8 उस विकल्प का चयन कीजिए जिसमें दी गई आकृति सन्निहित है (घूर्णन की अनुमति नहीं है)।

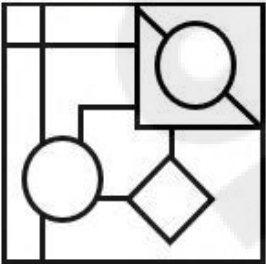


Ans

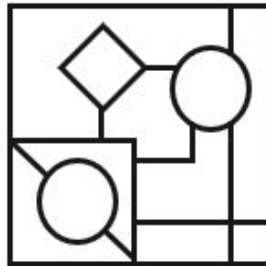
✗ 1.



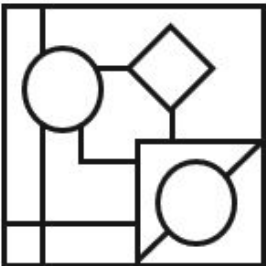
✗ 2.



✓ 3.



✗ 4.



Question Type : MCQ

Question ID : 630680524440

Option 1 ID : 6306802049859

Option 2 ID : 6306802049861

Option 3 ID : 6306802049862

Option 4 ID : 6306802049860

Status : Answered

Chosen Option : 4

Q.9 यदि '-' और 'x' को आपस में बदल दिया जाए तथा '+' और '÷' को आपस में बदल दिया जाए, तो निम्नलिखित समीकरण में '?' के स्थान पर क्या आएगा?
 $28 \div 18 + 6 \times 6 - 4 = ?$

Ans 1. 7

2. 14

3. 17

4. 9

Question Type : MCQ

Question ID : 630680382167

Option 1 ID : 6306801489583

Option 2 ID : 6306801489584

Option 3 ID : 6306801489585

Option 4 ID : 6306801489586

Status : Answered

Chosen Option : 1

Q.10 एक निश्चित कूट भाषा में, 'they are smart' को 'bt mt rt' के रूप में लिखा जाता है और 'she is smart' को 'rt kt st' के रूप में लिखा जाता है। इसी कूट भाषा में 'smart' को कैसे लिखा जाएगा?

Ans 1. kt

2. rt

3. st

4. mt

Question Type : MCQ

Question ID : 630680377761

Option 1 ID : 6306801472103

Option 2 ID : 6306801472105

Option 3 ID : 6306801472104

Option 4 ID : 6306801472106

Status : Answered

Chosen Option : 2

Q.11 सात व्यक्ति R, S, T, D, E, F और G एक वृत्ताकार मेज के चारों ओर केंद्र की ओर मुख करके बैठे हैं (परंतु जरूरी नहीं कि वे इसी क्रम में बैठे हों)। G, E के दाएँ से दूसरे स्थान पर बैठा है। G और R के बीच में केवल एक व्यक्ति बैठा है। R और T के बीच में केवल एक व्यक्ति बैठा है। F, D के बाएँ से दूसरे स्थान पर बैठा है। D, T का निकटतम पड़ोसी है। S के बाईं ओर से गिनती करने पर S और T के बीच में कितने व्यक्ति बैठे हैं?

Ans 1. चार

2. एक

3. तीन

4. दो

Question Type : MCQ

Question ID : 630680378837

Option 1 ID : 6306801476398

Option 2 ID : 6306801476395

Option 3 ID : 6306801476397

Option 4 ID : 6306801476396

Status : Answered

Chosen Option : 2

Q.12 एक निश्चित कूट भाषा में, 253 का अर्थ 'chairs are old' है, 378 का अर्थ 'make good chairs' है और 546 का अर्थ 'lady is old' है। उसी कूट भाषा में निम्नलिखित में से किसका अर्थ 'are' है?

Ans 1. 3

2. 4

3. 2

4. 5

Question Type : MCQ

Question ID : 630680381554

Option 1 ID : 6306801487148

Option 2 ID : 6306801487149

Option 3 ID : 6306801487147

Option 4 ID : 6306801487150

Status : Answered

Chosen Option : 4

Q.13 दिए गए कथनों और निष्कर्षों को ध्यानपूर्वक पढ़िए। यह मानते हुए कि कथनों में दी गई जानकारी सत्य है, चाहे वह सामान्यतः ज्ञात तथ्यों से भिन्न प्रतीत होती हो और निर्णय लीजिए कि दिए गए निष्कर्षों में से कौन-सा/कौन-से निष्कर्ष कथनों का तार्किक रूप से अनुसरण करता है/करते हैं।

कथन:

सभी बोंगो, सितार हैं।

कोई झाँझ, सितार नहीं है।

निष्कर्ष:

[1] सभी सितार, बोंगो हैं।

[2] कुछ बोंगो, झाँझ हैं।

Ans 1. केवल निष्कर्ष [1] अनुसरण करता है

2. न तो निष्कर्ष [1] और न ही [2] अनुसरण करता है

3. निष्कर्ष [1] और [2] दोनों अनुसरण करते हैं

4. केवल निष्कर्ष [2] अनुसरण करता है

Question Type : MCQ

Question ID : 630680398017

Option 1 ID : 6306801552082

Option 2 ID : 6306801552084

Option 3 ID : 6306801552085

Option 4 ID : 6306801552083

Status : Answered

Chosen Option : 2

Q.14 दिए गए कथनों और निष्कर्षों को ध्यानपूर्वक पढ़िए। यह मानते हुए कि कथन में दी गई जानकारी सत्य है, चाहे वह सामान्य रूप से ज्ञात तथ्यों से भिन्न प्रतीत होती हो, निर्धारित कीजिए कि दिए गए निष्कर्षों में से कौन-सा, कथन (कथनों) का तार्किक रूप से अनुसरण करता है/करते हैं।

कथन: सभी मगरमच्छ, मेंढक हैं। सभी मगरमच्छ, कछुए हैं।

निष्कर्ष:

(I) सभी कछुए, मेंढक हैं।

(II) कम से कम कुछ मेंढक, मगरमच्छ हैं।

- Ans
- 1. निष्कर्ष (I) और (II), दोनों अनुसरण करते हैं।
 - 2. केवल निष्कर्ष (II) अनुसरण करता है।
 - 3. न तो निष्कर्ष (I) और न ही निष्कर्ष (II) अनुसरण करता है।
 - 4. केवल निष्कर्ष (I) अनुसरण करता है।

Question Type : MCQ

Question ID : 630680387998

Option 1 ID : 6306801512609

Option 2 ID : 6306801512607

Option 3 ID : 6306801512608

Option 4 ID : 6306801512606

Status : Answered

Chosen Option : 1

Q.15 अंग्रेजी वर्णमाला क्रम के आधार पर QFRG एक निश्चित प्रकार से NCVK से संबंधित है। ठीक उसी प्रकार KZZO, HWDS से संबंधित है। समान तर्क का अनुसरण करते हुए, ETHW निम्नलिखित में से किससे संबंधित है?

- Ans
- 1. APLZ
 - 2. BPMZ
 - 3. BQLA
 - 4. CRKB

Question Type : MCQ

Question ID : 630680528971

Option 1 ID : 6306802067873

Option 2 ID : 6306802067875

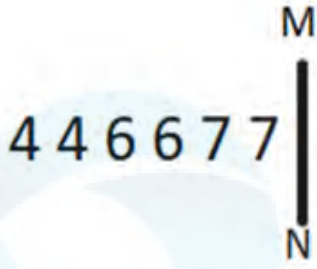
Option 3 ID : 6306802067872

Option 4 ID : 6306802067874

Status : Answered

Chosen Option : 2

Q.16 दी गई आकृति के उस सही दर्पण प्रतिबिंब को चुनिए, जो नीचे दर्शाए गए अनुसार दर्पण को MN पर रखने पर बनेगा।



Ans

1. 7 7 6 6 7 7

2. 7 7 6 6 4 4

3. 7 7 6 6 7 7

4. 7 7 6 6 4 4

Question Type : MCQ

Question ID : 630680525319

Option 1 ID : 6306802053363

Option 2 ID : 6306802053360

Option 3 ID : 6306802053362

Option 4 ID : 6306802053361

Status : Answered

Chosen Option : 3

Q.17 अंग्रेजी वर्णानुक्रम के आधार पर BEAR एक निश्चित प्रकार से YBXO से संबंधित है। ठीक उसी प्रकार, WATCH, TXQZE से संबंधित है। समान तर्क का अनुसरण करते हुए LOTUS निम्नलिखित में से किससे संबंधित है?

Ans 1. IJRRP

2. IKQRP

3. IJQQP

4. ILQRP

Question Type : MCQ

Question ID : 630680388908

Option 1 ID : 6306801516095

Option 2 ID : 6306801516097


Option 3 ID : 6306801516094

Option 4 ID : 6306801516096

Status : Answered

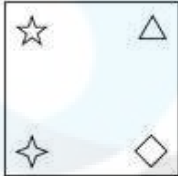
Chosen Option : 1

Q.18 दिए गए विकल्पों में से उस आकृति का चयन कीजिए, जिसे प्रश्न-चिह्न (?) के स्थान पर रखने पर श्रृंखला तार्किक रूप से पूर्ण हो जाएगी।




Ans


✓ 1.



✗ 2.



✗ 3.



✗ 4.



Question Type : MCQ

Question ID : 630680278579

Option 1 ID : 6306801082604

Option 2 ID : 6306801082601

Option 3 ID : 6306801082603

Option 4 ID : 6306801082602

Status : Answered

Chosen Option : 1

Q.19 दिए गए समीकरण को सही करने के लिए किन दो चिह्नों को आपस में बदला जाना चाहिए?

$$45 - 33 \div 3 \times 4 + 67 = 22$$

- Ans
- 1. - और ×
 - 2. + और ×
 - 3. - और +
 - 4. + और ×

Question Type : MCQ

Question ID : 630680411999

Option 1 ID : 6306801606833

Option 2 ID : 6306801606831

Option 3 ID : 6306801606832

Option 4 ID : 6306801606834

Status : Answered

Chosen Option : 4

Q.20 एक निश्चित कूट भाषा में, 'win his heart' को 'mt pq zr' लिखा जाता है और 'you will win' को 'zr ht gc' लिखा जाता है। उसी कूट भाषा में 'win' को कैसे लिखा जाएगा?

- Ans
- 1. ht
 - 2. pq
 - 3. zr
 - 4. gc

Question Type : MCQ

Question ID : 630680439114

Option 1 ID : 6306801714269

Option 2 ID : 6306801714271

Option 3 ID : 6306801714268

Option 4 ID : 6306801714270

Status : Answered

Chosen Option : 3

Section : General Awareness

Q.1 यूट्रोफिकेशन (Eutrophication) एक ऐसी स्थिति है जहाँ प्रचुर मात्रा में पोषक तत्वों के कारण जल निकाय की सतह पर शैवाल प्रस्फुटन (algal bloom) की अत्यधिक वृद्धि होती है। यूट्रोफिकेशन के लिए निम्नलिखित में से कौन-से प्रमुख पोषक तत्व हैं?

- Ans
- 1. फास्फोरस और आयरन
 - 2. नाइट्रोजन और पोटैशियम
 - 3. फास्फोरस और नाइट्रोजन
 - 4. आयरन और नाइट्रोजन

Question Type : MCQ

Question ID : 630680404178

Option 1 ID : 6306801576220

Option 2 ID : 6306801576221

Option 3 ID : 6306801576218

Option 4 ID : 6306801576219

Status : Answered

Chosen Option : 1

Q.2 ओडिसी नर्तक/नृत्यांगना _____ को नृत्य श्रेणी में संगीत नाटक अकादमी पुरस्कार 2022 से सम्मानित किया गया।

- Ans
- 1. देवी वासु (Debi Vasu)
 - 2. कुमकुम मोहंती (Kumkum Mohanty)
 - 3. शुभदा वराडकर (Shubhada Varadkar)
 - 4. निरंजन राउत (Niranjan Rout)

Question Type : MCQ
Question ID : 630680807821
Option 1 ID : 6306803164907
Option 2 ID : 6306803164906
Option 3 ID : 6306803164909
Option 4 ID : 6306803164908
Status : Answered
Chosen Option : 1

Q.3 जून 2023 में, किस राज्य सरकार ने विविध और नवीन क्षेत्रों में ट्रांसजेंडर समुदाय को रोजगार के अवसर प्रदान करने के लिए 'प्राइड (Pride)' नामक परियोजना शुरू की?

- Ans
- 1. केरल
 - 2. राजस्थान
 - 3. सिक्किम
 - 4. गोवा

Question Type : MCQ
Question ID : 630680467190
Option 1 ID : 6306801824708
Option 2 ID : 6306801824707
Option 3 ID : 6306801824706
Option 4 ID : 6306801824705
Status : Answered
Chosen Option : 2

Q.4 भारत में, एक अध्ययन द्वारा प्रलेखित, शिक्षा के किस स्तर पर अधिकांश जनसंख्या बेरोजगार है?

- Ans
- 1. प्राथमिक स्कूल
 - 2. माध्यमिक स्कूल
 - 3. मैट्रिक
 - 4. स्नातक और स्नातकोत्तर

Question Type : MCQ
Question ID : 63068080413
Option 1 ID : 630680311679
Option 2 ID : 630680311680
Option 3 ID : 630680311678
Option 4 ID : 630680311677
Status : Answered
Chosen Option : 4

Q.5 निम्नलिखित में से कौन भारतीय राष्ट्रीय कांग्रेस के पहले अध्यक्ष थे?

- Ans
- 1. बदरुद्दीन तैयब्जी (Badruddin Tyabji)
 - 2. दादाभाई नौरोजी (Dadabhai Naoroji)
 - 3. व्योमेश चंद्र बनर्जी (Womesh Chandra Banerjee)
 - 4. जॉर्ज यूल (George Yule)

Question Type : MCQ

Question ID : 630680275685

Option 1 ID : 6306801071254

Option 2 ID : 6306801071251

Option 3 ID : 6306801071252

Option 4 ID : 6306801071253

Status : Answered

Chosen Option : 2

Q.6 कोयंबटूर (Coimbatore), जो _____ राज्य में स्थित है, सूती कपड़ा उद्योग के लिए प्रसिद्ध है।

- Ans
- 1. तमिलनाडु
 - 2. आंध्र प्रदेश
 - 3. कर्नाटक
 - 4. केरल

Question Type : MCQ

Question ID : 630680484462

Option 1 ID : 6306801892168

Option 2 ID : 6306801892167

Option 3 ID : 6306801892166

Option 4 ID : 6306801892169

Status : Answered

Chosen Option : 1

Q.7 निम्नलिखित में से कौन-से खाद्य पॉलीसेकेराइड (edible polysaccharides) हैं?

- Ans
- 1. सेल्युलोज, साइटिन और मायोसिन (Cellulose, chitin and myosin)
 - 2. स्टार्च, एल्जिनेट, पेक्टिन और साइटोसन्स (Starch, alginates, pectins and chitosans)
 - 3. मिथाइल सेल्युलोज, साइटिन और एक्टिन (Methyl cellulose, chitin and actin)
 - 4. सुक्रोज, ग्लूकोज और सेल्युलोज (Sucrose, glucose and cellulose)

Question Type : MCQ

Question ID : 63068089754

Option 1 ID : 630680347792

Option 2 ID : 630680347790

Option 3 ID : 630680347791

Option 4 ID : 630680347793

Status : Answered

Chosen Option : 1

Q.8 नियंत्रक एवं महालेखा परीक्षक (Comptroller and Auditor General - CAG) के कार्यालय का मुख्य उद्देश्य क्या है?

- Ans
- 1. राष्ट्रीय बजट तैयार करना
 - 2. कर संग्रहण को विनियमित करना
 - 3. वित्तीय लेनदेन पर जांच और रिपोर्टिंग
 - 4. सरकारी नीतियों को लागू करना

Question Type : MCQ

Question ID : 630680448017

Option 1 ID : 6306801749315

Option 2 ID : 6306801749313

Option 3 ID : 6306801749314

Option 4 ID : 6306801749312

Status : Answered

Chosen Option : 2

Q.9 'द हंग्री टाइड (The Hungry Tide)' पुस्तक निम्नलिखित में से किसने लिखी है?

- Ans
- 1. आर.के नारायण
 - 2. रस्किन बॉन्ड
 - 3. मुल्क राज आनंद
 - 4. अमिताव घोष

Question Type : MCQ

Question ID : 630680390984

Option 1 ID : 6306801524336

Option 2 ID : 6306801524337

Option 3 ID : 6306801524334

Option 4 ID : 6306801524335

Status : Answered

Chosen Option : 1

Q.10 हमपी उत्सव एक रंगीन सांस्कृतिक उत्सव है जो निम्नलिखित में से किस साम्राज्य के लोकाचार और भव्यता को प्रतिबिंबित करता है?

- Ans
- 1. कदंब
 - 2. चालुक्य
 - 3. विजयनगर
 - 4. सातवाहन

Question Type : MCQ

Question ID : 630680546733

Option 1 ID : 6306802137503

Option 2 ID : 6306802137505

Option 3 ID : 6306802137504

Option 4 ID : 6306802137502

Status : Answered

Chosen Option : 3

Q.11 निम्नलिखित में से असत्य कथन का चयन करें।

- Ans
- 1. भारत में पहली सूती कपड़ा मिल 1854 में बम्बई में स्थापित की गई थी।
 - 2. ब्रिटेन में सूती वस्त्र उद्योग के विकास के कारण भारतीय कपड़ा उत्पादकों का पतन हुआ।
 - 3. इंग्लैंड में बने सूती कपड़ों ने 20वीं सदी की शुरुआत में भारतीय कपड़ों को यूरोप और अमेरिका के बाजारों से बाहर कर दिया था।
 - 4. दक्षिण भारत के सेल और देवांग (Sale and Devang) समुदाय बुनकरी के लिए प्रसिद्ध थे।

Question Type : MCQ

Question ID : 630680652702

Option 1 ID : 6306802555284

Option 2 ID : 6306802555282

Option 3 ID : 6306802555283

Option 4 ID : 6306802555285

Status : Answered

Chosen Option : 3

Q.12 भारत की जनगणना 2011 के अनुसार निम्नलिखित में से किस राज्य में ग्रामीण जनसंख्या का प्रतिशत सबसे अधिक है?

- Ans
- 1. बिहार
 - 2. उत्तर प्रदेश
 - 3. पश्चिम बंगाल
 - 4. असम

Question Type : MCQ

Question ID : 630680313490

Option 1 ID : 6306801219828

Option 2 ID : 6306801219826

Option 3 ID : 6306801219827

Option 4 ID : 6306801219825

Status : Answered

Chosen Option : 2

Q.13 निम्नलिखित में से कौन-सा राज्य/केंद्र शासित प्रदेश भारत के 'अपर्याप्त वर्षा वाले क्षेत्रों' में शामिल है?

- Ans
- 1. अंडमान एवं निकोबार द्वीप समूह
 - 2. लद्दाख
 - 3. हरियाणा
 - 4. मेघालय

Question Type : MCQ

Question ID : 630680484492

Option 1 ID : 6306801892285

Option 2 ID : 6306801892284

Option 3 ID : 6306801892282

Option 4 ID : 6306801892283

Status : Answered

Chosen Option : 1

Q.14 'डोलू कुनिथा (Dollu Kunitha)' मुख्य रूप से निम्नलिखित में से किस भारतीय राज्य का लोक नृत्य है?

- Ans 1. कर्नाटक
 2. केरल
 3. गोवा
 4. तमिलनाडु

Question Type : **MCQ**
Question ID : **630680215982**
Option 1 ID : **630680837906**
Option 2 ID : **630680837903**
Option 3 ID : **630680837905**
Option 4 ID : **630680837904**
Status : **Answered**
Chosen Option : 1

Q.15 सोलंकी शासकों द्वारा बनवाया गया दिलवाड़ा का प्रसिद्ध जैन मंदिर कहाँ स्थित है?

- Ans 1. अजमेर
 2. माउंट आबू
 3. जयपुर
 4. सूरत

Question Type : **MCQ**
Question ID : **630680309301**
Option 1 ID : **6306801203362**
Option 2 ID : **6306801203363**
Option 3 ID : **6306801203361**
Option 4 ID : **6306801203364**
Status : **Answered**
Chosen Option : 2

Q.16 निम्नलिखित में से कौन-सा एक आणविक यौगिक है?

- Ans 1. CaO
 2. CO₂
 3. MgSO₄
 4. NaCl

Question Type : **MCQ**
Question ID : **630680411170**
Option 1 ID : **6306801603438**
Option 2 ID : **6306801603437**
Option 3 ID : **6306801603439**
Option 4 ID : **6306801603436**
Status : **Answered**
Chosen Option : 3

Q.17 किसी राज्य के विधानमंडल (Legislature of a State) के सदन के किसी सदस्य के, सदन की अनुमति के बिना, कितनी अवधि तक सभी बैठकों से अनुपस्थित रहने पर, सदन उसकी सीट को रिक्त घोषित कर सकता है?

- Ans 1. 90 दिन
 2. 60 दिन
 3. 30 दिन
 4. 180 दिन

Question Type : MCQ

Question ID : 630680161084

Option 1 ID : 630680623702

Option 2 ID : 630680623701

Option 3 ID : 630680623700

Option 4 ID : 630680623703

Status : Answered

Chosen Option : 3

Q.18 दिसम्बर 2023 में, टाटा कंसल्टेंसी सर्विसेज (TCS) के कौन-से पूर्व CEO और MD भारतीय प्रौद्योगिकी संस्थान बॉम्बे (IIT बॉम्बे) में ट्रांसलेशनल रिसर्च एंड एंटरप्रेन्योरशिप (Translational Research and Entrepreneurship) के प्रमुख के रूप में शामिल हुए?

- Ans 1. राजेश गोपीनाथन
 2. एफ.सी. कोहली
 3. नटराजन चंद्रशेखरन
 4. सुब्रमण्यम रामादोराई

Question Type : MCQ

Question ID : 630680595818

Option 1 ID : 6306802331460

Option 2 ID : 6306802331463

Option 3 ID : 6306802331462

Option 4 ID : 6306802331461

Status : Answered

Chosen Option : 4

Q.19 सरकार का संसदीय स्वरूप भारतीय संविधान में दी गई एक प्रमुख विशेषता है और इसके प्रावधानों का भाग V (अध्याय II) के अनुच्छेद _____ तक विस्तृत विवरण दिया गया है।

- Ans 1. 79 से 122
 2. 170 से 203
 3. 124 से 168
 4. 211 से 236

Question Type : MCQ

Question ID : 630680406113

Option 1 ID : 6306801583560

Option 2 ID : 6306801583562

Option 3 ID : 6306801583561

Option 4 ID : 6306801583563

Status : Answered

Chosen Option : 3

Q.20 मंगलमपल्ली बालामुरलीकृष्ण (Mangalampalli Balamuralikrishna) एक भारतीय कर्नाटक गायक थे, जिनका जन्म किस राज्य के शंकरगुप्तम (Sankaraguptam) गांव में हुआ था?

- Ans 1. आंध्र प्रदेश
 2. तमिलनाडु
 3. केरल
 4. कर्नाटक

Question Type : MCQ

Question ID : 630680482848

Option 1 ID : 6306801885858

Option 2 ID : 6306801885861

Option 3 ID : 6306801885860

Option 4 ID : 6306801885859

Status : Answered

Chosen Option : 4

Q.21 बेकिंग सोडा तैयार करने के लिए निम्नलिखित में से किस कच्चे पदार्थ (raw materials) का उपयोग नहीं किया जाता है?

- Ans 1. NaCl
 2. H₂O
 3. Na₂CO₃
 4. NH₃

Question Type : MCQ

Question ID : 630680641503

Option 1 ID : 6306802511426

Option 2 ID : 6306802511427

Option 3 ID : 6306802511429

Option 4 ID : 6306802511428

Status : Answered

Chosen Option : 3

Q.22 निम्नलिखित में से कौन गौड़ साम्राज्य (Gauda Kingdom) का एक प्रसिद्ध शासक था?

- Ans 1. राज्यवर्धन (Rajyavardhan)
 2. रुद्रदामन (Rudradaman)
 3. ग्रहवर्मन (Grahavarman)
 4. शशांक (Shashanka)

Question Type : MCQ

Question ID : 63068070553

Option 1 ID : 630680272834

Option 2 ID : 630680272836

Option 3 ID : 630680272835

Option 4 ID : 630680272837

Status : Answered

Chosen Option : 3

Q.23 दक्षिण भारतीय मंदिरों में, पिरामिडनुमा मीनार (pyramidal tower) को _____ कहा जाता है।

Ans 1. विमान

2. वाहन

3. मंडप

4. शिखर

Question Type : MCQ

Question ID : 63068092868

Option 1 ID : 630680360163

Option 2 ID : 630680360166

Option 3 ID : 630680360164

Option 4 ID : 630680360165

Status : Answered

Chosen Option : 3

Q.24 निम्नलिखित में से किस देश ने वर्ष 2023 में एसीसी अंडर-19 एशिया कप क्रिकेट (ACC Under-19 Asia Cup cricket) की मेजबानी की?

Ans 1. भारत

2. श्रीलंका

3. पाकिस्तान

4. संयुक्त अरब अमीरात (UAE)

Question Type : MCQ

Question ID : 630680799005

Option 1 ID : 6306803130824

Option 2 ID : 6306803130823

Option 3 ID : 6306803130825

Option 4 ID : 6306803130822

Status : Answered

Chosen Option : 1

Q.25 वर्ष 2010 में राष्ट्रमंडल खेलों की मेजबानी निम्नलिखित में से किस देश ने की थी?

Ans 1. भारत

2. कनाडा

3. आस्ट्रेलिया

4. इंग्लैंड

Question Type : MCQ

Question ID : 630680799007

Option 1 ID : 6306803130830

Option 2 ID : 6306803130833

Option 3 ID : 6306803130832

Option 4 ID : 6306803130831

Status : Answered

Chosen Option : 1

Q.1 Select the most appropriate ANTONYM of the given word.

Disposed

- Ans 1. Minded
 2. Detained
 3. Retained
 4. Pretended

Question Type : MCQ

Question ID : 630680432553

Option 1 ID : 6306801688215

Option 2 ID : 6306801688216

Option 3 ID : 6306801688217

Option 4 ID : 6306801688218

Status : Answered

Chosen Option : 3

Q.2 Select the option that rectifies the spelling of the underlined word in the given sentence.

A hospital's hygine is the standard against which cleanliness is measured.

- Ans 1. higenie
 2. hygiene
 3. hygiene
 4. hygeine

Question Type : MCQ

Question ID : 630680799109

Option 1 ID : 6306803131237

Option 2 ID : 6306803131234

Option 3 ID : 6306803131235

Option 4 ID : 6306803131236

Status : Answered

Chosen Option : 1

Q.3 Select the most appropriate ANTONYM of the given word.

Sloppy

- Ans 1. Rough
 2. Untidy
 3. Humid
 4. Dashing

Question Type : MCQ

Question ID : 630680549421

Option 1 ID : 6306802148135

Option 2 ID : 6306802148133

Option 3 ID : 6306802148134

Option 4 ID : 6306802148136

Status : Answered

Chosen Option : 1

Q.4 Parts of the following sentence have been given as options. Select the option that contains an error.
Nagamani, a brave student, lodged a F.I.R. against the criminal.

- Ans
- 1. against the criminal
 - 2. student, lodged
 - 3. a F.I.R.
 - 4. Nagamani, a brave

Question Type : **MCQ**
Question ID : **63068084881**
Option 1 ID : **630680329043**
Option 2 ID : **630680329041**
Option 3 ID : **630680329042**
Option 4 ID : **630680329040**
Status : **Answered**
Chosen Option : **3**

Q.5 The following sentence has been split into four segments. Identify the segment that contains a grammatical error.

This boy performed / extremely good / in the / dance competition.

- Ans
- 1. in the
 - 2. This boy performed
 - 3. extremely good
 - 4. dance competition

Question Type : **MCQ**
Question ID : **630680436085**
Option 1 ID : **6306801702283**
Option 2 ID : **6306801702281**
Option 3 ID : **6306801702282**
Option 4 ID : **6306801702284**
Status : **Answered**
Chosen Option : **2**

Q.6 Select the most appropriate option to fill in the blank.

Some types of _____ suck blood.

- Ans
- 1. leech
 - 2. leach
 - 3. leak
 - 4. latch

Question Type : **MCQ**
Question ID : **630680517508**
Option 1 ID : **6306802022429**
Option 2 ID : **6306802022428**
Option 3 ID : **6306802022431**
Option 4 ID : **6306802022430**
Status : **Answered**
Chosen Option : **4**

Q.7 Select the most appropriate ANTONYM of the underlined word in the given sentence.

The mellow tune of the flute soothes me.

- Ans
- 1. quiet
 - 2. lyrical
 - 3. harsh
 - 4. golden

Question Type : MCQ

Question ID : 630680542346

Option 1 ID : 6306802120305

Option 2 ID : 6306802120306

Option 3 ID : 6306802120308

Option 4 ID : 6306802120307

Status : Answered

Chosen Option : 2

Q.8 Select the most appropriate option to fill in the blank.

Active community involvement _____ a sense of belonging and contributes to the overall well-being of society.

- Ans
- 1. fails
 - 2. collects
 - 3. fosters
 - 4. forgets

Question Type : MCQ

Question ID : 630680480887

Option 1 ID : 6306801878143

Option 2 ID : 6306801878144

Option 3 ID : 6306801878141

Option 4 ID : 6306801878142

Status : Answered

Chosen Option : 2

Q.9 In the following sentence the underlined part contains an error. Alternatives to the underlined part are given as options. Select the correct alternative.
It is easiest to stay calm than to protest.

- Ans
- 1. the easier
 - 2. more easier
 - 3. easy
 - 4. easier

Question Type : MCQ

Question ID : 630680514732

Option 1 ID : 6306802011554

Option 2 ID : 6306802011556

Option 3 ID : 6306802011553

Option 4 ID : 6306802011555

Status : Answered

Chosen Option : 3

Q.10 Select the most appropriate ANTONYM for the underlined word in the given sentence.

Such specifications have revived our designers and manufacturers, whereas this new arrangement will free them.

- Ans
- 1. senior
 - 2. productive
 - 3. restrain
 - 4. swatted

Question Type : MCQ
Question ID : 630680799117
Option 1 ID : 6306803131266
Option 2 ID : 6306803131267
Option 3 ID : 6306803131269
Option 4 ID : 6306803131268
Status : Answered
Chosen Option : 3

Q.11 Select the appropriate option to fill in the blank.

I haven't seen him _____ last week.

- Ans
- 1. since
 - 2. for
 - 3. to
 - 4. beyond

Question Type : MCQ
Question ID : 630680490358
Option 1 ID : 6306801915347
Option 2 ID : 6306801915348
Option 3 ID : 6306801915350
Option 4 ID : 6306801915349
Status : Answered
Chosen Option : 2

Q.12 Select the option that can be used as a one-word substitute for the highlighted group of words in the given sentence.

The practice of having two or more spouses at the same time was quite common in the olden days.

- Ans
- 1. Polygamy
 - 2. Parochialism
 - 3. Patriarchy
 - 4. Patricide

Question Type : MCQ
Question ID : 630680564334
Option 1 ID : 6306802206292
Option 2 ID : 6306802206294
Option 3 ID : 6306802206291
Option 4 ID : 6306802206293
Status : Answered
Chosen Option : 4

Q.13 Select the INCORRECTLY spelt word.

- Ans 1. Affliction
 2. Affiliate
 3. Appraisal
 4. Anxious

Question Type : **MCQ**
Question ID : **630680566469**
Option 1 ID : **6306802214864**
Option 2 ID : **6306802214867**
Option 3 ID : **6306802214865**
Option 4 ID : **6306802214866**
Status : **Answered**
Chosen Option : 1

Q.14 Select the option that can be used as a one-word substitute for the highlighted group of words in the given sentence.

We had to study a poem of lamentation, especially for the dead, written by Thomas Gray.

- Ans 1. an essay
 2. a report
 3. an elegy
 4. an account

Question Type : **MCQ**
Question ID : **630680564326**
Option 1 ID : **6306802206261**
Option 2 ID : **6306802206260**
Option 3 ID : **6306802206262**
Option 4 ID : **6306802206259**
Status : **Answered**
Chosen Option : 2

Q.15 The following sentence has been divided into four segments. Identify the segment that has a grammatical error.

He will have to / knuckle up really seriously, / if he wants to / crack the upcoming deal.

- Ans 1. if he wants to
 2. He will have to
 3. crack the upcoming deal.
 4. knuckle up really seriously

Question Type : **MCQ**
Question ID : **630680191727**
Option 1 ID : **630680743519**
Option 2 ID : **630680743517**
Option 3 ID : **630680743520**
Option 4 ID : **630680743518**
Status : **Answered**
Chosen Option : 4

Q.16 Parts of the following sentence have been given as options. Select the option that contains an error.

The team with a high motivation level succeeded in its project despite of the challenges it faced.

Ans 1. despite of the challenges it faced.

2. The team with

3. a high motivation level

4. succeeded in its project

Question Type : **MCQ**

Question ID : **630680551111**

Option 1 ID : **6306802154685**

Option 2 ID : **6306802154682**

Option 3 ID : **6306802154683**

Option 4 ID : **6306802154684**

Status : **Answered**

Chosen Option : 1

Q.17 Select the most appropriate meaning of the given idiom.
'Hold someone's feet to the fire'

Ans 1. Take big risks without knowing the consequences

2. Agree upon a shared venture with full conviction

3. Think over a new proposal

4. Insist that someone fulfil their promises or obligations

Question Type : **MCQ**

Question ID : **630680299699**

Option 1 ID : **6306801165757**

Option 2 ID : **6306801165755**

Option 3 ID : **6306801165756**

Option 4 ID : **6306801165758**

Status : **Answered**

Chosen Option : 2

Q.18 Select the most appropriate idiom that can complete the given sentence.

Recent research says that most of our cottage industries lack finance. Thus, they are _____.

Ans 1. taking somebody for a ride

2. thrown out of gear

3. worn and torn

4. under a cloud

Question Type : **MCQ**

Question ID : **630680435960**

Option 1 ID : **6306801701794**

Option 2 ID : **6306801701793**

Option 3 ID : **6306801701795**

Option 4 ID : **6306801701796**

Status : **Answered**

Chosen Option : 3

Q.19 The given sentence has an error. Select the option that correctly rectifies the error.

India is not on war with Pakistan.

- Ans 1. not of
 2. at Pakistan
 3. for Pakistan
 4. not at

Question Type : **MCQ**

Question ID : **630680274299**

Option 1 ID : **6306801065708**

Option 2 ID : **6306801065709**

Option 3 ID : **6306801065710**

Option 4 ID : **6306801065707**

Status : **Answered**

Chosen Option : **4**

Q.20 Select the correct spelling of the underlined word in the given sentence.

The miracle of resurrection is not medically proven.

- Ans 1. resurrecsion
 2. ressurection
 3. resurrection
 4. ressurrection

Question Type : **MCQ**

Question ID : **630680540461**

Option 1 ID : **6306802112930**

Option 2 ID : **6306802112927**

Option 3 ID : **6306802112928**

Option 4 ID : **6306802112929**

Status : **Answered**

Chosen Option : **3**

Comprehension:

In the following passage, some words have been deleted. Read the passage carefully and select the most appropriate option to fill in each blank.

Throughout human history, there have been numerous, strange and unexplainable events that have occurred on our (1)_____. From mysterious disappearances to bizarre natural phenomena, these (2)_____ continue to captivate our imagination and spark curiosity. On 30 June 1908, a massive explosion (3)_____ in the remote Tunguska region of Siberia. The (4)_____ of the explosion is still debated, but it is believed to have been caused by a meteor or comet. Another fascinating phenomenon, the Bermuda Triangle is a region in the western part of the North Atlantic Ocean where ships and planes have mysteriously (5)_____.

SubQuestion No : 21

Q.21 Select the most appropriate option to fill in blank number 1.

- Ans 1. planet
 2. neighbourhood
 3. home
 4. country

Question Type : **MCQ**

Question ID : **630680567444**

Option 1 ID : **6306802218765**

Option 2 ID : **6306802218766**

Option 3 ID : **6306802218767**

Option 4 ID : **6306802218768**

Status : **Answered**

Chosen Option : **4**

Comprehension:

In the following passage, some words have been deleted. Read the passage carefully and select the most appropriate option to fill in each blank.

Throughout human history, there have been numerous, strange and unexplainable events that have occurred on our (1)_____. From mysterious disappearances to bizarre natural phenomena, these (2)_____ continue to captivate our imagination and spark curiosity. On 30 June 1908, a massive explosion (3)_____ in the remote Tunguska region of Siberia. The (4)_____ of the explosion is still debated, but it is believed to have been caused by a meteor or comet. Another fascinating phenomenon, the Bermuda Triangle is a region in the western part of the North Atlantic Ocean where ships and planes have mysteriously (5)_____.

SubQuestion No : 22

Q.22 Select the most appropriate option to fill in blank number 2.

- Ans 1. changes
 2. events
 3. adventures
 4. advent

Question Type : **MCQ**

Question ID : **630680567445**

Option 1 ID : **6306802218772**

Option 2 ID : **6306802218770**

Option 3 ID : **6306802218771**

Option 4 ID : **6306802218769**

Status : **Answered**

Chosen Option : **2**

Comprehension:

In the following passage, some words have been deleted. Read the passage carefully and select the most appropriate option to fill in each blank.

Throughout human history, there have been numerous, strange and unexplainable events that have occurred on our (1)_____. From mysterious disappearances to bizarre natural phenomena, these (2)_____ continue to captivate our imagination and spark curiosity. On 30 June 1908, a massive explosion (3)_____ in the remote Tunguska region of Siberia. The (4)_____ of the explosion is still debated, but it is believed to have been caused by a meteor or comet. Another fascinating phenomenon, the Bermuda Triangle is a region in the western part of the North Atlantic Ocean where ships and planes have mysteriously (5)_____.

SubQuestion No : 23

Q.23 Select the most appropriate option to fill in blank number 3.

- Ans 1. appeared
 2. took place
 3. conspired
 4. came about

Question Type : **MCQ**

Question ID : **630680567446**

Option 1 ID : **6306802218775**

Option 2 ID : **6306802218773**

Option 3 ID : **6306802218776**

Option 4 ID : **6306802218774**

Status : **Answered**

Chosen Option : **4**

Comprehension:

In the following passage, some words have been deleted. Read the passage carefully and select the most appropriate option to fill in each blank.

Throughout human history, there have been numerous, strange and unexplainable events that have occurred on our (1)_____. From mysterious disappearances to bizarre natural phenomena, these (2)_____ continue to captivate our imagination and spark curiosity. On 30 June 1908, a massive explosion (3)_____ in the remote Tunguska region of Siberia. The (4)_____ of the explosion is still debated, but it is believed to have been caused by a meteor or comet. Another fascinating phenomenon, the Bermuda Triangle is a region in the western part of the North Atlantic Ocean where ships and planes have mysteriously (5)_____.

SubQuestion No : 24

Q.24 Select the most appropriate option to fill in blank number 4.

- Ans 1. cause
 2. beginning
 3. commencement
 4. stages

Question Type : **MCQ**

Question ID : **630680567447**

Option 1 ID : **6306802218780**

Option 2 ID : **6306802218778**

Option 3 ID : **6306802218777**

Option 4 ID : **6306802218779**

Status : **Answered**

Chosen Option : **2**

Comprehension:

In the following passage, some words have been deleted. Read the passage carefully and select the most appropriate option to fill in each blank.

Throughout human history, there have been numerous, strange and unexplainable events that have occurred on our (1)_____. From mysterious disappearances to bizarre natural phenomena, these (2)_____ continue to captivate our imagination and spark curiosity. On 30 June 1908, a massive explosion (3)_____ in the remote Tunguska region of Siberia. The (4)_____ of the explosion is still debated, but it is believed to have been caused by a meteor or comet. Another fascinating phenomenon, the Bermuda Triangle is a region in the western part of the North Atlantic Ocean where ships and planes have mysteriously (5)_____.

SubQuestion No : 25

Q.25 Select the most appropriate option to fill in blank number 5.

Ans 1. concealed

2. disappeared

3. invisible

4. besotted

Question Type : **MCQ**

Question ID : **630680567448**

Option 1 ID : **6306802218784**

Option 2 ID : **6306802218781**

Option 3 ID : **6306802218782**

Option 4 ID : **6306802218783**

Status : **Answered**

Chosen Option : **2**