

## Multi Tasking Non Technical Staff and Havalдар CBIC and CBN Examination 2024

Roll Number	
Candidate Name	
Venue Name	Om Infotech Solutions
Exam Date	22/10/2024
Exam Time	9:00 AM - 11:00 AM
Subject	MTS Non Tech Havalдар CBIC and CBN Examination 2024

### Section : Numerical and Mathematical Ability

Q.1 शाम की गश्त के दौरान, एक पुलिसकर्मी ने 200 m की दूरी पर एक चोर को एक महिला का मोबाइल फोन छीनते हुए देखा। चोर 15 km/hr की चाल से दौड़ना शुरू करता है। यदि पुलिसकर्मी 16 km/hr की चाल से उसका पीछा कर रहा है, तो चोर को पकड़ने में उसे कितना समय लगेगा?

- Ans
- 1. 24 मिनट
  - 2. 12 मिनट
  - 3. 30 मिनट
  - 4. 18 मिनट

Question Type : MCQ

Question ID : 630680262279

Option 1 ID : 6306801018758

Option 2 ID : 6306801018755

Option 3 ID : 6306801018756

Option 4 ID : 6306801018757

Status : Answered

Chosen Option : 2

Q.2 दो किस्म की दालें हैं। किस्म 1 की दाल की कीमत ₹100 प्रति kg और किस्म 2 की दाल की कीमत ₹120 प्रति kg है। यदि दोनों दालों को 2 : 3 के अनुपात में मिलाया जाता है, तो इस मिश्रित दाल की प्रति kg कीमत ज्ञात कीजिए।

- Ans
- 1. ₹112
  - 2. ₹110
  - 3. ₹115
  - 4. ₹114

Question Type : MCQ

Question ID : 630680449414

Option 1 ID : 6306801754783

Option 2 ID : 6306801754784

Option 3 ID : 6306801754782

Option 4 ID : 6306801754781

Status : Answered

Chosen Option : 3

Q.3 किसी लंब वृत्तीय शंकु का संपूर्ण पृष्ठीय क्षेत्रफल  $704 \text{ cm}^2$  है। यदि शंकु की त्रिज्या  $7 \text{ cm}$  है, तो तिर्यक ऊंचाई की लंबाई ज्ञात कीजिए। ( $\pi = \frac{22}{7}$  का उपयोग कीजिए)

- Ans  1. 25 cm  
 2. 17.5 cm  
 3. 19 cm  
 4. 31.5 cm

Question Type : MCQ

Question ID : 630680441000

Option 1 ID : 6306801721655

Option 2 ID : 6306801721657

Option 3 ID : 6306801721656

Option 4 ID : 6306801721654

Status : Answered

Chosen Option : 4

Q.4 ऐल्कोहॉल और पानी के 85 लीटर मिश्रण में 20% पानी है। इस मिश्रण में कितना पानी (लीटर में) मिलाना होगा ताकि परिणामी मिश्रण में पानी की मात्रा 25% हो जाए?

- Ans  1.  $5\frac{2}{3}$   
 2.  $3\frac{2}{3}$   
 3.  $6\frac{1}{3}$   
 4.  $4\frac{1}{3}$

Question Type : MCQ

Question ID : 630680447326

Option 1 ID : 6306801746558

Option 2 ID : 6306801746559

Option 3 ID : 6306801746560

Option 4 ID : 6306801746557

Status : Not Answered

Chosen Option : --

Q.5 संख्याओं 216, 360 और 504 का महत्तम समापवर्तक (HCF) ज्ञात कीजिए।

- Ans  1. 180  
 2. 252  
 3. 72  
 4. 108

Question Type : MCQ

Question ID : 63068076010

Option 1 ID : 630680294153

Option 2 ID : 630680294156

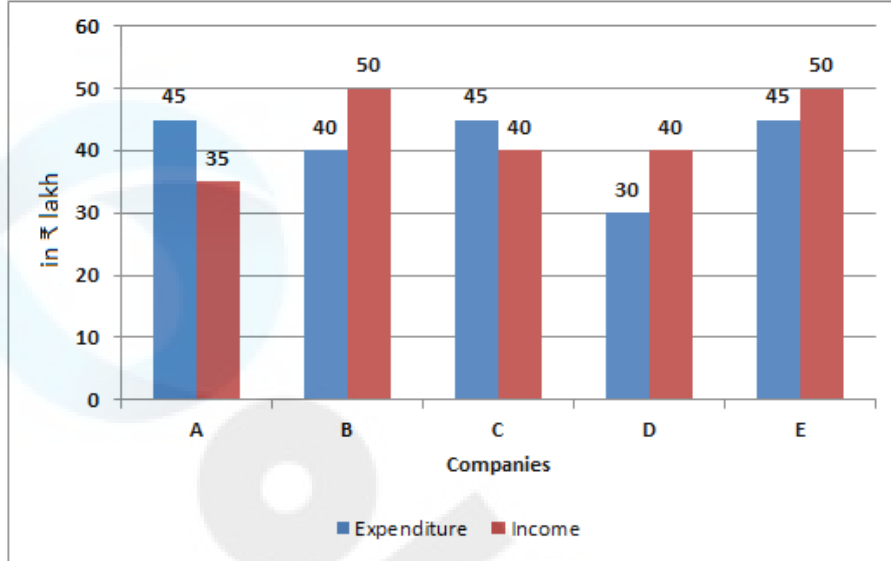
Option 3 ID : 630680294155

Option 4 ID : 630680294154

Status : Answered

Chosen Option : 3

Q.6 दिया गया बार ग्राफ वर्ष 2022 में 5 कंपनियों (A, B, C, D और E) की आय और व्यय (₹ लाख में) को दर्शाता है। ग्राफ का अध्ययन कीजिए और निम्नलिखित प्रश्न का उत्तर दीजिए।



संदर्भ: in ₹ lakh - लाख ₹ में, Companies - कंपनियाँ, Expenditure - व्यय, Income - आय

वर्ष 2022 में किस कंपनी ने अधिकतम प्रतिशत लाभ अर्जित किया?

Ans  1. D

2. E

3. B

4. C

Question Type : MCQ

Question ID : 630680815897

Option 1 ID : 6306803196923

Option 2 ID : 6306803196924

Option 3 ID : 6306803196921

Option 4 ID : 6306803196922

Status : Answered

Chosen Option : 1

Q.7 एक बक्से में, रेफ्रिजरेटर कवर और वॉशिंग मशीन कवर 7 : 11 के अनुपात में हैं। यदि वॉशिंग मशीन कवर 660 हैं, तो रेफ्रिजरेटर कवर कितने हैं?

Ans  1. 420

2. 430

3. 410

4. 400

Question Type : MCQ

Question ID : 630680456901

Option 1 ID : 6306801784568

Option 2 ID : 6306801784569

Option 3 ID : 6306801784567

Option 4 ID : 6306801784566

Status : Answered

Chosen Option : 1

Q.8 A, 8% वार्षिक साधारण ब्याज पर 4 वर्षों के लिए ₹7,500 उधार लेता है। B पहले वर्ष के लिए 9%, दूसरे वर्ष के लिए 10% और अगले दो वर्षों के लिए 6% की दर से साधारण ब्याज पर समान राशि उधार लेता है। A और B ने कुल कितने ब्याज (₹ में) का भुगतान किया?

Ans  1. 4,275

2. 4,725

3. 4,545

4. 4,175

Question Type : MCQ

Question ID : 630680397531

Option 1 ID : 6306801550043

Option 2 ID : 6306801550042

Option 3 ID : 6306801550044

Option 4 ID : 6306801550045

Status : Answered

Chosen Option : 2

Q.9 एक रेफ्रिजरेटर निर्माता प्रत्येक रेफ्रिजरेटर को ₹17,250 में बेचकर 15% का लाभ अर्जित करता है। यदि उत्पादन लागत 18% बढ़ जाती है, तो 18% का लाभ अर्जित करने के लिए रेफ्रिजरेटर का विक्रय मूल्य कितना होना चाहिए?

Ans  1. ₹19,094

2. ₹21,032

3. ₹34,086

4. ₹20,886

Question Type : MCQ

Question ID : 630680500478

Option 1 ID : 6306801955536

Option 2 ID : 6306801955537

Option 3 ID : 6306801955535

Option 4 ID : 6306801955534

Status : Answered

Chosen Option : 3

Q.10 किस राशि (₹ में) पर 8% प्रति वर्ष की ब्याज दर से 4 वर्षों में ₹240 का साधारण ब्याज अर्जित होगा?

Ans  1. 1000

2. 750

3. 375

4. 1500

Question Type : MCQ

Question ID : 630680612177

Option 1 ID : 6306802395443

Option 2 ID : 6306802395440

Option 3 ID : 6306802395441

Option 4 ID : 6306802395442

Status : Answered

Chosen Option : 2

Q.11

दी गई तालिका तीन वर्षों के दौरान चार संगठनों में कर्मचारियों की संख्या दर्शाती है।

वर्ष संगठन	2021	2022	2023
A	1560	1698	2285
B	1965	1281	1172
C	1385	1563	2190
D	1204	2146	2035

2023 में संगठन B, C और D में कर्मचारियों की औसत संख्या क्या है?

- Ans
- 1. 1678
  - 2. 1799
  - 3. 1520
  - 4. 1898

Question Type : MCQ

Question ID : 630680523771

Option 1 ID : 6306802047236

Option 2 ID : 6306802047237

Option 3 ID : 6306802047235

Option 4 ID : 6306802047238

Status : Answered

Chosen Option : 2

Q.12 आदित्य ने ₹21,500 में एक मोबाइल खरीदा और उसे ₹18,500 में बेच दिया। इस पूरी प्रक्रिया में हानि प्रतिशत (दो दशमलव स्थानों तक) ज्ञात कीजिए।

- Ans
- 1. 10.69%
  - 2. 12.38%
  - 3. 11.25%
  - 4. 13.95%

Question Type : MCQ

Question ID : 630680468811

Option 1 ID : 6306801831023

Option 2 ID : 6306801831025

Option 3 ID : 6306801831024

Option 4 ID : 6306801831026

Status : Answered

Chosen Option : 4

Q.13 P, Q और R एक गोलाकार ट्रैक के चारों ओर दौड़ना शुरू करते हैं और क्रमशः 18, 22 और 30 सेकंड में एक चक्कर पूरा करते हैं। वे कितने समय बाद प्रारंभिक बिंदु पर फिर से मिलेंगे?

- Ans
- 1. 16 मिनट 50 सेकंड
  - 2. 11 मिनट 50 सेकंड
  - 3. 16 मिनट 30 सेकंड
  - 4. 11 मिनट 30 सेकंड

Question Type : MCQ

Question ID : 630680401008

Option 1 ID : 6306801563871

Option 2 ID : 6306801563869

Option 3 ID : 6306801563872

Option 4 ID : 6306801563870

Status : Answered

Chosen Option : 3

Q.14 एक खिलाड़ी द्वारा 22 पारियों में बनाए गए रनों का औसत 40 है। 23वीं पारी में उसे कितने रन बनाने चाहिए ताकि उसका औसत 6 रनों से बढ़ जाए?

- Ans
- 1. 178 रन
  - 2. 148 रन
  - 3. 158 रन
  - 4. 188 रन

Question Type : MCQ

Question ID : 630680205674

Option 1 ID : 630680797509

Option 2 ID : 630680797507

Option 3 ID : 630680797508

Option 4 ID : 630680797510

Status : Answered

Chosen Option : 2

Q.15 एक व्यापारी के लिए एक टेलीविजन का क्रय मूल्य ₹20,500 है। वह इसका अंकित मूल्य ₹24,000 निर्धारित करता है और 15% की छूट देता है। वह नकद भुगतान करने पर 5% की अतिरिक्त छूट भी देता है। उसका लाभ या हानि प्रतिशत ज्ञात कीजिए।

- Ans
- 1. हानि  $5\frac{19}{41}\%$
  - 2. लाभ  $5\frac{19}{14}\%$
  - 3. लाभ  $5\frac{9}{4}\%$
  - 4. हानि  $5\frac{1}{4}\%$

Question Type : MCQ

Question ID : 630680422395

Option 1 ID : 6306801648014

Option 2 ID : 6306801648015

Option 3 ID : 6306801648013

Option 4 ID : 6306801648012

Status : Answered

Chosen Option : 2

Q.16 एक समचतुर्भुज का परिमाप 160 cm है और इसके एक विकर्ण की लंबाई 50 cm है। समचतुर्भुज का क्षेत्रफल (cm<sup>2</sup> में) ज्ञात कीजिए।

- Ans
- 1.  $175\sqrt{39}$
  - 2.  $300\sqrt{39}$
  - 3.  $250\sqrt{39}$
  - 4.  $280\sqrt{39}$

Question Type : MCQ

Question ID : 630680526627

Option 1 ID : 6306802058576

Option 2 ID : 6306802058574

Option 3 ID : 6306802058575

Option 4 ID : 6306802058577

Status : Not Answered

Chosen Option : --

Q.17 एक बेलनाकार ट्यूब ,जो दोनों सिरों पर खुली है ,एक धातु से बनी है। ट्यूब का आंतरिक व्यास 12 cm है ,और इसकी लंबाई 35 cm है। धातु की मोटाई सर्वत्र 2 cm है। धातु की ट्यूब का संपूर्ण पृष्ठीय क्षेत्रफल (cm<sup>2</sup> में) ज्ञात कीजिए।

( $\pi = \frac{22}{7}$  लीजिए)

- Ans
- 1. 3696
  - 2. 3256
  - 3. 3854
  - 4. 3145

Question Type : MCQ

Question ID : 630680379692

Option 1 ID : 6306801479813

Option 2 ID : 6306801479811

Option 3 ID : 6306801479814

Option 4 ID : 6306801479812

Status : Not Answered

Chosen Option : --

Q.18 42 संख्याओं का औसत 25 है और अन्य 28 संख्याओं का औसत 40 है। सभी संख्याओं का औसत कितना है?

Ans  1. 30

2. 31

3. 70

4. 69

Question Type : MCQ

Question ID : 630680484319

Option 1 ID : 6306801891625

Option 2 ID : 6306801891623

Option 3 ID : 6306801891624

Option 4 ID : 6306801891622

Status : Not Answered

Chosen Option : --

Q.19 4 वर्षों के लिए 9% वार्षिक की ब्याज दर पर उधार ली गई राशि ₹3000 पर साधारण ब्याज (₹ में) ज्ञात कीजिए।

Ans  1. 1120

2. 1040

3. 1080

4. 1020

Question Type : MCQ

Question ID : 630680591955

Option 1 ID : 6306802316288

Option 2 ID : 6306802316290

Option 3 ID : 6306802316287

Option 4 ID : 6306802316289

Status : Not Answered

Chosen Option : --

Q.20 जब किसी संख्या के 80% को 80 में जोड़ा जाता है, तो परिणामस्वरूप वही संख्या प्राप्त हो जाती है। संख्या ज्ञात कीजिए।

Ans  1. 400

2. 320

3. 380

4. 420

Question Type : MCQ

Question ID : 630680484331

Option 1 ID : 6306801891672

Option 2 ID : 6306801891670

Option 3 ID : 6306801891671

Option 4 ID : 6306801891673

Status : Answered

Chosen Option : 3

Q.1 अंग्रेजी वर्णानुक्रम के आधार पर UKCT एक निश्चित प्रकार से QGYF से संबंधित है। उसी प्रकार, LPBR, HLXN से संबंधित है। समान तर्क का अनुसरण करते हुए, DGYJ निम्नलिखित में से किससे संबंधित है?

- Ans  1. XBUF  
 2. ZBSF  
 3. ZCUF  
 4. YCSE

Question Type : MCQ

Question ID : 630680528972

Option 1 ID : 6306802067876

Option 2 ID : 6306802067877

Option 3 ID : 6306802067878

Option 4 ID : 6306802067879

Status : Answered

Chosen Option : 3

Q.2 एक निश्चित कूट भाषा में 'SANE' को '5168' के रूप में कूटबद्ध किया जाता है और 'GOAT' को '6437' के रूप में कूटबद्ध किया जाता है। दी गई कूट भाषा में 'A' के लिए कूट क्या है?

- Ans  1. 5  
 2. 1  
 3. 6  
 4. 3

Question Type : MCQ

Question ID : 630680436122

Option 1 ID : 6306801702432

Option 2 ID : 6306801702430

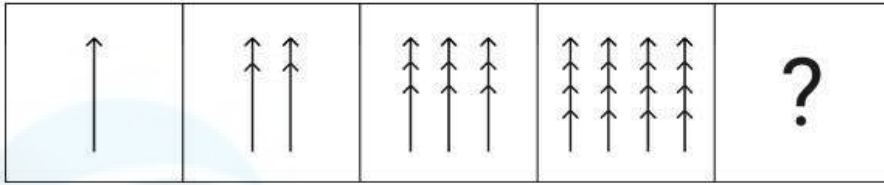
Option 3 ID : 6306801702429

Option 4 ID : 6306801702431

Status : Answered


Chosen Option : 3

Q.3 विकल्पों में दी गई उस आकृति की पहचान कीजिए जिसे (?) के स्थान पर रखने पर श्रृंखला तार्किक रूप से पूर्ण हो जाएगी।




Ans


✓ 1.




✗ 2.



✗ 3.



✗ 4.



Question Type : MCQ

Question ID : 630680273995

Option 1 ID : 6306801064500

Option 2 ID : 6306801064499

Option 3 ID : 6306801064501

Option 4 ID : 6306801064502

Status : Answered

Chosen Option : 1

Q.4 इस प्रश्न में दो कथन और उनके बाद दो निष्कर्ष I और II दिए गए हैं। आपको दिए गए कथनों को सत्य मानना है, भले ही वे सर्वज्ञात तथ्यों से भिन्न प्रतीत होते हों। आपको यह तय करना है कि दिए गए निष्कर्षों में से कौन-सा/से निष्कर्ष दिए गए कथनों का तार्किक रूप से अनुसरण करता है/करते हैं।

कथन:

सभी जग, नल हैं।

कुछ नल, टोपियां हैं।

निष्कर्ष:

(I) कुछ नल, जग हैं।

(II) सभी टोपियां, जग हैं।

- Ans
- 1. न तो निष्कर्ष (I) और न ही (II) अनुसरण करता है
  - 2. निष्कर्ष (I) और (II) दोनों अनुसरण करते हैं
  - 3. केवल निष्कर्ष (II) अनुसरण करता है
  - 4. केवल निष्कर्ष (I) अनुसरण करता है

Question Type : MCQ

Question ID : 630680106422

Option 1 ID : 630680413476

Option 2 ID : 630680413477

Option 3 ID : 630680413475

Option 4 ID : 630680413474

Status : Answered

Chosen Option : 1

Q.5 एक निश्चित कूट भाषा में, 'LIFE' को '5289' लिखा जाता है और 'FINE' को '9758' लिखा जाता है। उसी कूट भाषा में 'N' को कैसे लिखा जाएगा?

- Ans
- 1. 7
  - 2. 5
  - 3. 8
  - 4. 2

Question Type : MCQ

Question ID : 630680439107

Option 1 ID : 6306801714241

Option 2 ID : 6306801714240

Option 3 ID : 6306801714242

Option 4 ID : 6306801714243

Status : Answered

Chosen Option : 1

Q.6 उस समुच्चय का चयन कीजिए जिसमें संख्याएं ठीक उसी प्रकार संबंधित हैं जिस प्रकार दिए गए समुच्चयों की संख्याएं संबंधित हैं।

(ध्यान दें: संख्याओं को उनके घटक अंकों में अलग-अलग किए बिना पूर्ण संख्याओं पर संक्रियाएं की जानी चाहिए। उदाहरण के लिए संख्या 13 - संख्या 13 पर संक्रियाएं जैसे 13 को जोड़ना/घटाना/गुणा करना आदि किया जा सकता है। 13 को 1 और 3 में अलग-अलग करने की और फिर 1 और 3 पर गणितीय संक्रियाएं करने की अनुमति नहीं है।)

(5, 40, 7)

(12, 65, 5)

Ans  1. (2, 10, 3)

2. (6, 24, 2)

3. (9, 41, 5)

4. (3, 14, 3)

Question Type : MCQ

Question ID : 630680799051

Option 1 ID : 6306803131008

Option 2 ID : 6306803131009

Option 3 ID : 6306803131006

Option 4 ID : 6306803131007

Status : Answered

Chosen Option : 4

Q.7 उस समुच्चय का चयन कीजिए जिसमें संख्याएं ठीक उसी प्रकार संबंधित हैं जिस प्रकार दिए गए समुच्चयों की संख्याएं संबंधित हैं।

(ध्यान दें: संख्याओं को उनके घटक अंकों में अलग-अलग किए बिना पूर्ण संख्याओं पर संक्रियाएं की जानी चाहिए। उदाहरण के लिए संख्या 13 - संख्या 13 पर संक्रियाएं जैसे 13 को जोड़ना/घटाना/गुणा करना आदि किया जा सकता है। 13 को 1 और 3 में अलग-अलग करने की और फिर 1 और 3 पर गणितीय संक्रियाएं करने की अनुमति नहीं है।)

(8, 24, 12)

(16, 20, 5)

Ans  1. (21, 88, 16)

2. (17, 75, 18)

3. (13, 24, 8)

4. (19, 57, 12)

Question Type : MCQ

Question ID : 630680381665

Option 1 ID : 6306801487594

Option 2 ID : 6306801487592


Option 3 ID : 6306801487593

Option 4 ID : 6306801487591

Status : Answered

Chosen Option : 2

Q.8 दी गई आकृति के उस सही दर्पण प्रतिबिंब को चुनिए, जो नीचे दर्शाए गए अनुसार दर्पण को MN पर रखने पर बनेगा।



Ans

1. m q r 9 @ Y

2. m q e r @ Y

3. w q e r @ Y

4. p m e r @ Y

Question Type : MCQ

Question ID : 630680525270

Option 1 ID : 6306802053164

Option 2 ID : 6306802053165

Option 3 ID : 6306802053166

Option 4 ID : 6306802053167

Status : Answered

Chosen Option : 2

Q.9 निम्नलिखित श्रृंखला में प्रश्न-चिह्न (?) के स्थान पर क्या आना चाहिए?

5, 15, 45, 135, 405, ?

Ans  1. 1315

2. 1125

3. 1255

4. 1215

Question Type : MCQ

Question ID : 630680799066

Option 1 ID : 6306803131069

Option 2 ID : 6306803131066

Option 3 ID : 6306803131068

Option 4 ID : 6306803131067

Status : Answered

Chosen Option : 4

Q.10 सात व्यक्ति A, B, C, D, E, F और G एक वृत्ताकार मेज के चारों ओर केंद्र की ओर मुख करके बैठे हैं (परंतु जरूरी नहीं कि वे इसी क्रम में बैठे हों)। A के दायीं ओर से गिनने पर A और B के बीच में ठीक तीन व्यक्ति बैठे हैं। G के बायीं ओर से गिनने पर D और G के बीच में ठीक दो व्यक्ति बैठे हैं। B, G का निकटतम पड़ोसी नहीं है। D, B के ठीक बायीं ओर बैठा है। E के दायीं ओर से गिनने पर E और F के बीच में ठीक तीन व्यक्ति बैठे हैं। B और E निकटतम पड़ोसी नहीं हैं। E के दायीं ओर से गिनने पर E और G के बीच में कितने व्यक्ति बैठे हैं?

- Ans  1. 3  
 2. 4  
 3. 2  
 4. 1

Question Type : MCQ  
Question ID : 630680387580  
Option 1 ID : 6306801511004  
Option 2 ID : 6306801511005  
Option 3 ID : 6306801511003  
Option 4 ID : 6306801511002  
Status : Answered  
Chosen Option : 2

Q.11 निम्नलिखित समीकरण में यदि '+' और '-' को आपस में बदल दिया जाए तथा 'x' और '÷' को आपस में बदल दिया जाए, तो समीकरण में प्रश्न चिह्न (?) के स्थान पर क्या आएगा?

$$3 - 2 \div 8 \times 4 + 2 = ?$$

- Ans  1. 14  
 2. 8  
 3. 17  
 4. 5

Question Type : MCQ  
Question ID : 630680378861  
Option 1 ID : 6306801476493  
Option 2 ID : 6306801476492  
Option 3 ID : 6306801476494  
Option 4 ID : 6306801476491  
Status : Answered  
Chosen Option : 4

Q.12 एक निश्चित कूट भाषा में, 'COPY' को '2465' के रूप में कूटबद्ध किया गया है और 'PLAN' को '3759' के रूप में कूटबद्ध किया गया है। दी गई कूटभाषा में 'P' के लिए कूट क्या होगा?

- Ans  1. 3  
 2. 6  
 3. 5  
 4. 7

Question Type : MCQ  
Question ID : 630680846722  
Option 1 ID : 6306803316617  
Option 2 ID : 6306803316618  
Option 3 ID : 6306803316616  
Option 4 ID : 6306803316619  
Status : Answered  
Chosen Option : 3

Q.13 किसी निश्चित कूट भाषा में, 'MELT' को '6284' के रूप में कूटबद्ध किया जाता है और 'TUNE' को '9758' के रूप में कूटबद्ध किया जाता है। उसी भाषा में 'I' के लिए क्या कूट होगा?

Ans  1. 4

2. 5

3. 8

4. 9

Question Type : MCQ

Question ID : 630680386584

Option 1 ID : 6306801507046

Option 2 ID : 6306801507049

Option 3 ID : 6306801507048

Option 4 ID : 6306801507047

Status : Answered

Chosen Option : 3

Q.14 दिए गए कथनों और निष्कर्षों को ध्यानपूर्वक पढ़िए। यह मानते हुए कि कथनों में दी गई जानकारी सत्य है, चाहे वह सामान्यतः ज्ञात तथ्यों से भिन्न प्रतीत होती हो और निर्णय लीजिए कि दिए गए निष्कर्षों में से कौन-सा/कौन-से निष्कर्ष कथनों का तार्किक रूप से अनुसरण करता है/करते हैं।

कथन:

कुछ आलू, टमाटर हैं।

कोई टमाटर, प्याज नहीं है।

निष्कर्ष:

(I) कुछ टमाटर, आलू हो सकते हैं।

(II) कोई आलू, प्याज नहीं है।

Ans  1. केवल निष्कर्ष II अनुसरण करता है

2. निष्कर्ष I और II दोनों अनुसरण करते हैं

3. न तो निष्कर्ष I और न ही II अनुसरण करता है

4. केवल निष्कर्ष I अनुसरण करता है

Question Type : MCQ

Question ID : 630680410638

Option 1 ID : 6306801601313

Option 2 ID : 6306801601314

Option 3 ID : 6306801601315

Option 4 ID : 6306801601312

Status : Answered

Chosen Option : 2

Q.15 I, J, K, L, M, N और O एक वृत्ताकार मेज के चारों ओर केंद्र की ओर मुख करके बैठे हैं (परंतु जरूरी नहीं कि वे इसी क्रम में बैठे हों)। J, I के दाएँ से चौथे स्थान पर बैठा है। K, J के ठीक दाएँ बैठा है। L, I के ठीक दाएँ बैठा है। N, M के बाएँ से चौथे स्थान पर बैठा है। M, K का निकटतम पड़ोसी नहीं है। O के दाएँ से गिनने पर O और N के बीच में कितने व्यक्ति बैठे हैं?

Ans  1. 4

2. 5

3. 3

4. 2

Question Type : MCQ

Question ID : 630680412876

Option 1 ID : 6306801610328

Option 2 ID : 6306801610329

Option 3 ID : 6306801610327

Option 4 ID : 6306801610330

Status : Answered

Chosen Option : 3

Q.16 यदि '+' और 'x' को आपस में बदल दिया जाए तथा '-' और '÷' को भी आपस में बदल दिया जाए तो निम्नलिखित समीकरण में प्रश्न चिह्न (?) के स्थान पर क्या आएगा?  
 $14 \div 12 - 2 + 2 \times 16 = ?$

Ans  1. 18

2. 24

3. 42

4. 20

Question Type : MCQ

Question ID : 630680378774

Option 1 ID : 6306801476146

Option 2 ID : 6306801476144

Option 3 ID : 6306801476143

Option 4 ID : 6306801476145

Status : Answered


Chosen Option : 1

Q.17 उस विकल्प आकृति का चयन कीजिए, जिसमें दी गई आकृति उसके भाग के रूप में सन्निहित है (घुमाने की अनुमति नहीं है)।

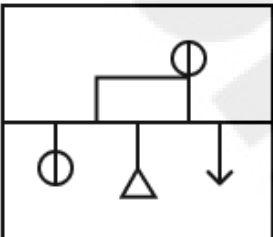


Ans

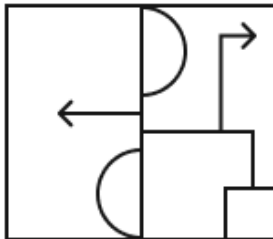
✗ 1.



✗ 2.



✓ 3.



✗ 4.



Question Type : **MCQ**

Question ID : **630680487089**

Option 1 ID : **6306801902502**

Option 2 ID : **6306801902504**

Option 3 ID : **6306801902503**

Option 4 ID : **6306801902505**

Status : **Answered**

Chosen Option : **3**

Q.18 DG 25 एक निश्चित प्रकार से FH 21 से संबंधित है। ठीक उसी प्रकार GI 19, IJ 15 से संबंधित है। समान तर्क का अनुसरण करते हुए, MI 24 निम्नलिखित में से किससे संबंधित है?

- Ans
- 1. PO 20
  - 2. PJ 20
  - 3. OJ 20
  - 4. OK 20

Question Type : MCQ

Question ID : 630680422976

Option 1 ID : 6306801650274

Option 2 ID : 6306801650273

Option 3 ID : 6306801650271

Option 4 ID : 6306801650272

Status : Answered

Chosen Option : 3

Q.19 निम्नलिखित श्रृंखला में लुप्त पद ज्ञात कीजिए:  
B2, C3, E5, G7, \_\_, M13, Q17.

- Ans
- 1. J10
  - 2. I10
  - 3. H7
  - 4. K11

Question Type : MCQ

Question ID : 630680401281

Option 1 ID : 6306801564932

Option 2 ID : 6306801564930

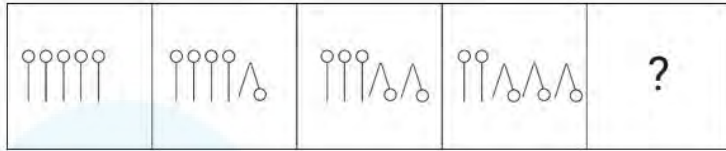
Option 3 ID : 6306801564929

Option 4 ID : 6306801564931

Status : Answered

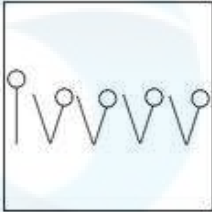
Chosen Option : 4

Q.20 विकल्पों में दी गई उस आकृति की पहचान कीजिए जिसे ? के स्थान पर रखने पर श्रृंखला तार्किक रूप से पूर्ण हो जाएगी।




Ans

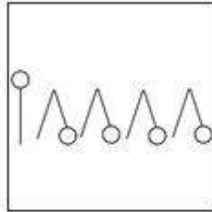
✗ 1.



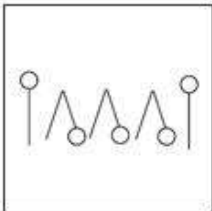
✗ 2.



✓ 3.



✗ 4.



Question Type : MCQ

Question ID : 630680233739

Option 1 ID : 630680906374

Option 2 ID : 630680906375

Option 3 ID : 630680906373

Option 4 ID : 630680906372

Status : Answered

Chosen Option : 3

Section : General Awareness

Q.1 निम्नलिखित में से किस वर्ष में भारत, महिला एशिया कप एक दिवसीय अंतरराष्ट्रीय क्रिकेट का मेजबान था?

- Ans
- 1. 2005
  - 2. 2004
  - 3. 2006
  - 4. 2007

Question Type : MCQ

Question ID : 630680799006

Option 1 ID : 6306803130827

Option 2 ID : 6306803130826

Option 3 ID : 6306803130828

Option 4 ID : 6306803130829

Status : Answered

Chosen Option : 3

Q.2 निम्नलिखित में से किस जीव का उपयोग ब्रेड और शराब उद्योगों में किया जाता है?

- Ans
- 1. क्लोस्ट्रीडियम (Clostridium)
  - 2. नाइट्रोबैक्टर (Nitrobacter)
  - 3. खमीर (Yeast)
  - 4. पेनिसिलियम (Penicillium)

Question Type : MCQ

Question ID : 63068070128

Option 1 ID : 630680271153

Option 2 ID : 630680271152

Option 3 ID : 630680271150

Option 4 ID : 630680271151

Status : Answered

Chosen Option : 2

Q.3 भारत की 2011 की जनगणना के अनुसार, केरल में जनसंख्या वृद्धि दर क्या थी?

- Ans
- 1. 15.01%
  - 2. 4.91%
  - 3. 12.65%
  - 4. 8.10%

Question Type : MCQ

Question ID : 63068090224

Option 1 ID : 630680349673

Option 2 ID : 630680349670

Option 3 ID : 630680349672

Option 4 ID : 630680349671

Status : Answered

Chosen Option : 2

Q.4 अलार्मेल वल्ली (Alarmel Valli) निम्नलिखित में से किस नृत्य से जुड़ी थीं?

- Ans  1. कथक  
 2. भरतनाट्यम  
 3. मणिपुरी  
 4. ओडिसी

Question Type : MCQ  
Question ID : 630680547161  
Option 1 ID : 6306802139205  
Option 2 ID : 6306802139204  
Option 3 ID : 6306802139203  
Option 4 ID : 6306802139206  
Status : Answered  
Chosen Option : 2

Q.5 भारतीय वन सेवा \_\_\_\_\_ में अखिल भारतीय सेवा अधिनियम, 1951 के तहत बनाई गई थी।

- Ans  1. 1954  
 2. 1966  
 3. 1060  
 4. 1957

Question Type : MCQ  
Question ID : 630680275264  
Option 1 ID : 6306801069567  
Option 2 ID : 6306801069570  
Option 3 ID : 6306801069569  
Option 4 ID : 6306801069568  
Status : Answered  
Chosen Option : 2

Q.6 भारत की वर्ष 2011 की जनगणना के अनुसार, मानव-श्रम (workforce) का कितना प्रतिशत हिस्सा कृषि क्षेत्र में कार्यरत है?

- Ans  1. 54.6%  
 2. 65.3%  
 3. 45.8%  
 4. 48.9%

Question Type : MCQ  
Question ID : 630680511283  
Option 1 ID : 6306801998262  
Option 2 ID : 6306801998264  
Option 3 ID : 6306801998263  
Option 4 ID : 6306801998265  
Status : Answered  
Chosen Option : 2

Q.7 केंद्रीय बजट 2023-24 में, अर्थव्यवस्था के निम्न कार्बन तीव्रता (low carbon intensity) की ओर बदलाव को सुगम बनाने के लिए हरित हाइड्रोजन मिशन (Green Hydrogen Mission) के अंतर्गत 5 MMT का वार्षिक उत्पादन वर्ष \_\_\_\_\_ तक लक्षित किया जाना है।

Ans  1. 2030

2. 2023

3. 2032

4. 2027

Question Type : MCQ

Question ID : 630680467185

Option 1 ID : 6306801824687

Option 2 ID : 6306801824685

Option 3 ID : 6306801824688

Option 4 ID : 6306801824686

Status : Answered

Chosen Option : 1

Q.8 2011 की जनगणना के अनुसार भारत की वार्षिक जनसंख्या वृद्धि दर (प्रतिशत में) कितनी थी?

Ans  1. 1.64%

2. 2.16%

3. 1.97%

4. 2.22%

Question Type : MCQ

Question ID : 630680309114

Option 1 ID : 6306801202633

Option 2 ID : 6306801202635

Option 3 ID : 6306801202634

Option 4 ID : 6306801202636

Status : Answered

Chosen Option : 2

Q.9 बतुकम्मा उत्सव (Bathukamma festival) निम्नलिखित में से किस राज्य में मनाया जाता है?

Ans  1. छत्तीसगढ़

2. तेलंगाना

3. उत्तर प्रदेश

4. मणिपुर

Question Type : MCQ

Question ID : 630680798922

Option 1 ID : 6306803130495

Option 2 ID : 6306803130496

Option 3 ID : 6306803130497

Option 4 ID : 6306803130494

Status : Answered

Chosen Option : 2

Q.10 निम्नलिखित में से कौन-सा राजस्व प्राप्ति का एक घटक नहीं है?

- Ans  1. विश्व बैंक से ऋण पर ली गई राशि  
 2. यूनेस्को द्वारा प्राप्त अनुदान  
 3. संपत्ति के पंजीकरण के लिए भुगतान किया जाने वाला शुल्क  
 4. जी. एस. टी.

Question Type : **MCQ**

Question ID : **630680448009**

Option 1 ID : **6306801749288**

Option 2 ID : **6306801749287**

Option 3 ID : **6306801749285**

Option 4 ID : **6306801749286**

Status : **Answered**

Chosen Option : 2

Q.11 निम्नलिखित में से कौन-सा भारतीय उपमहाद्वीप में प्रथम उद्यान-मकबरे (garden-tomb) का एक उदाहरण है?

- Ans  1. सफदरजंग का मकबरा  
 2. तानसेन का मकबरा  
 3. एत्मादुद्दौला का मकबरा  
 4. हुमायूँ का मकबरा

Question Type : **MCQ**

Question ID : **630680318915**

Option 1 ID : **6306801240617**

Option 2 ID : **6306801240618**

Option 3 ID : **6306801240620**

Option 4 ID : **6306801240619**

Status : **Answered**

Chosen Option : 4

Q.12 पद्म पुरस्कारों के संदर्भ में सही कथन की पहचान कीजिए।

- Ans  1. पुरस्कार विजेताओं के नाम कभी भी भारत के राजपत्र में प्रकाशित नहीं होते हैं।  
 2. पद्म पुरस्कार का उपयोग पुरस्कार विजेता के नाम के आगे प्रत्यय या उपसर्ग के रूप में किया जा सकता है  
 3. एक वर्ष में दिए जाने वाले पद्म पुरस्कारों की कुल संख्या 150 से अधिक नहीं होनी चाहिए।  
 4. पद्म पुरस्कार वर्ष में एक बार दिए जाते हैं।

Question Type : **MCQ**

Question ID : **630680512004**

Option 1 ID : **6306802000989**

Option 2 ID : **6306802000987**

Option 3 ID : **6306802000986**

Option 4 ID : **6306802000988**

Status : **Answered**

Chosen Option : 3

Q.13 रानी की वाव (Rani ki Vav) एक यूनेस्को विश्व धरोहर स्मारक है, जो निम्नलिखित में से किस राज्य में स्थित है?

- Ans
- 1. महाराष्ट्र
  - 2. हरियाणा
  - 3. गुजरात
  - 4. कर्नाटक

Question Type : MCQ

Question ID : 630680547297

Option 1 ID : 6306802139753

Option 2 ID : 6306802139752

Option 3 ID : 6306802139751

Option 4 ID : 6306802139754

Status : Answered

Chosen Option : 4

Q.14 निम्नलिखित में से किस राज्य में काल बैसाखी (Nor Westers) को 'बरदोइशिला (Bardoisila)' के नाम से जाना जाता है?

- Ans
- 1. असम
  - 2. बिहार
  - 3. ओडिशा
  - 4. गोवा

Question Type : MCQ

Question ID : 630680484489

Option 1 ID : 6306801892270

Option 2 ID : 6306801892271

Option 3 ID : 6306801892272

Option 4 ID : 6306801892273

Status : Answered

Chosen Option : 3

Q.15 इनमें से कौन-सा मौसम का एक घटक नहीं है?

- Ans
- 1. पौधे
  - 2. तापमान
  - 3. वर्षा
  - 4. आर्द्रता

Question Type : MCQ

Question ID : 630680797931

Option 1 ID : 6306803126664

Option 2 ID : 6306803126665

Option 3 ID : 6306803126667

Option 4 ID : 6306803126666

Status : Answered

Chosen Option : 1

Q.16 वैदिक ऋचाओं (Vedic hymns) या 'मंत्रों' के संग्रह को क्या कहा जाता है?

- Ans
- 1. स्मृति (Smriti)
  - 2. श्रुति (Shruti)
  - 3. उपनिषद (Upanishad)
  - 4. संहिता (Samhita)

Question Type : MCQ

Question ID : 630680339493

Option 1 ID : 6306801320544

Option 2 ID : 6306801320542

Option 3 ID : 6306801320541

Option 4 ID : 6306801320543

Status : Answered

Chosen Option : 2

Q.17 एम.ए.चिदंबरम स्टेडियम निम्नलिखित में से किस भारतीय राज्य में स्थित है?

- Ans
- 1. कर्नाटक
  - 2. तमिलनाडु
  - 3. केरल
  - 4. पश्चिम बंगाल

Question Type : MCQ

Question ID : 630680710801

Option 1 ID : 6306802784861

Option 2 ID : 6306802784860

Option 3 ID : 6306802784863

Option 4 ID : 6306802784862

Status : Answered

Chosen Option : 2

Q.18 0.25 g कार्बनिक यौगिक को धूम नाइट्रिक अम्ल (fuming nitric acid) के बाद,  $\text{AgNO}_3$  के साथ उपचारित करने पर 0.22 g, AgBr प्राप्त होता है। यौगिक में ब्रोमीन (bromine) का प्रतिशत \_\_\_\_\_ है।

- Ans
- 1. 50.00%
  - 2. 37.45%
  - 3. 88.00%
  - 4. 34.04%

Question Type : MCQ

Question ID : 630680472233

Option 1 ID : 6306801844666

Option 2 ID : 6306801844663

Option 3 ID : 6306801844665

Option 4 ID : 6306801844664

Status : Answered

Chosen Option : 3

Q.19 अप्रैल 2023 में, केंद्र द्वारा राष्ट्रीय तकनीकी अनुसंधान संगठन (National Technical Research Organisation - NTRO) के अध्यक्ष के रूप में किसे नियुक्त किया गया?

- Ans
- 1. अजित डोभाल
  - 2. अनिल धस्माना
  - 3. अरविंद कुमार
  - 4. अरुण सिन्हा

Question Type : MCQ

Question ID : 630680488502

Option 1 ID : 6306801908046

Option 2 ID : 6306801908045

Option 3 ID : 6306801908043

Option 4 ID : 6306801908044

Status : Answered

Chosen Option : 1

Q.20 निम्नलिखित में से कौन-सा/ कौन-से कथन सही है/हैं?

- A) बालशास्त्री जांभेकर (Balshastri Jambhekar) ने 1832 में पहला एंग्लो-मराठा समाचार पत्र - 'दर्पण (Durpun)' शुरू किया।  
B) उन्हें मराठी पत्रकारिता के जनक के रूप में याद किया जाता है।  
C) बालशास्त्री जांभेकर ने 1840 में पहली मराठी मासिक पत्रिका - 'दिग्दर्शन (Digdurshun)' प्रकाशित की।

- Ans
- 1. A और B दोनों
  - 2. केवल A
  - 3. A, B और C
  - 4. केवल B

Question Type : MCQ

Question ID : 630680275933

Option 1 ID : 6306801072245

Option 2 ID : 6306801072243

Option 3 ID : 6306801072246

Option 4 ID : 6306801072244

Status : Answered

Chosen Option : 3

Q.21 कृषि और पशुपालन का संगठन, भारतीय संविधान के निम्नलिखित में से किस अनुच्छेद में शामिल है?

- Ans
- 1. अनुच्छेद 48
  - 2. अनुच्छेद 45
  - 3. अनुच्छेद 47
  - 4. अनुच्छेद 46

Question Type : MCQ

Question ID : 630680759519

Option 1 ID : 6306802976989

Option 2 ID : 6306802976986

Option 3 ID : 6306802976988

Option 4 ID : 6306802976987

Status : Answered

Chosen Option : 1

Q.22 भारत में प्रधानमंत्री \_\_\_\_\_ होता है।

- Ans
- 1. न्यायपालिका प्रमुख
  - 2. नाममात्र का कार्यपालक
  - 3. सशस्त्र बलों का सर्वोच्च कमांडर
  - 4. वास्तविक कार्यपालक

Question Type : MCQ  
Question ID : 630680216167  
Option 1 ID : 630680838645  
Option 2 ID : 630680838643  
Option 3 ID : 630680838646  
Option 4 ID : 630680838644  
Status : Answered  
Chosen Option : 4

Q.23 पद्मश्री 2023 से सम्मानित उषा बारले (Usha Barle) प्रसिद्ध रूप से संगीत की किस शैली से संबंधित हैं?

- Ans
- 1. कजरी (Kajari)
  - 2. पंडवानी (Pandwani)
  - 3. लावणी (Lavani)
  - 4. पणिहारी (Panihari)

Question Type : MCQ  
Question ID : 630680482395  
Option 1 ID : 6306801884093  
Option 2 ID : 6306801884091  
Option 3 ID : 6306801884090  
Option 4 ID : 6306801884092  
Status : Answered  
Chosen Option : 2

Q.24 प्रसिद्ध अंग्रेजी उपन्यास 'एम एंड द बिग हूम (Em and the Big Hoom)' \_\_\_\_\_ द्वारा लिखा गया है।

- Ans
- 1. जैरी पिंटो
  - 2. अमिताव घोष
  - 3. एस्टर डेविड
  - 4. शशि थरूर

Question Type : MCQ  
Question ID : 630680409457  
Option 1 ID : 6306801596659  
Option 2 ID : 6306801596660  
Option 3 ID : 6306801596658  
Option 4 ID : 6306801596657  
Status : Answered  
Chosen Option : 4

Q.25 जब प्रोटीन युक्त श्लेष्मि (gelatinous) अंडे की सफेदी को गर्म किया जाता है, तो यह \_\_\_\_\_ के कारण ठोस सफेद रंग में बदल जाती है।

- Ans
- 1. ग्लूटेन निर्माण (Gluten Formation)
  - 2. पायसीकरण (Emulsification)
  - 3. प्रोटीन विकृतीकरण (Protein Denaturation)
  - 4. किण्वन (Fermentation)

Question Type : **MCQ**  
Question ID : **630680452690**  
Option 1 ID : **6306801767775**  
Option 2 ID : **6306801767774**  
Option 3 ID : **6306801767772**  
Option 4 ID : **6306801767773**  
Status : **Answered**  
Chosen Option : **3**

Section : English Language and Comprehension

Q.1 Select the most appropriate option to fill in the blank.

I couldn't believe how \_\_\_\_\_ the math problem was; it took me hours to solve it.

- Ans
- 1. good
  - 2. easily
  - 3. complicated
  - 4. simply

Question Type : **MCQ**  
Question ID : **630680490332**  
Option 1 ID : **6306801915245**  
Option 2 ID : **6306801915246**  
Option 3 ID : **6306801915243**  
Option 4 ID : **6306801915244**  
Status : **Answered**  
Chosen Option : **3**

Q.2 Select the most appropriate option to fill in the blank.

Confession is good for the soul \_\_\_\_\_ after the soul has been claimed.

- Ans
- 1. since
  - 2. even
  - 3. though
  - 4. still

Question Type : **MCQ**  
Question ID : **630680549314**  
Option 1 ID : **6306802147716**  
Option 2 ID : **6306802147714**  
Option 3 ID : **6306802147715**  
Option 4 ID : **6306802147713**  
Status : **Answered**  
Chosen Option : **2**

Q.3 Select the most appropriate synonym for the given word.  
Species

- Ans  1. Type  
 2. Multiply  
 3. Detail  
 4. Whole

Question Type : MCQ

Question ID : 630680381374

Option 1 ID : 6306801486449

Option 2 ID : 6306801486450

Option 3 ID : 6306801486447

Option 4 ID : 6306801486448

Status : Answered

Chosen Option : 4

Q.4 Select the most appropriate option to fill in the blank.

She was a \_\_\_\_\_, \_\_\_\_\_ astronaut.

- Ans  1. smart, tall, Indian  
 2. tall, smart, Indian  
 3. tall, Indian, smart  
 4. smart, Indian, tall

Question Type : MCQ

Question ID : 630680544624

Option 1 ID : 6306802129262

Option 2 ID : 6306802129264

Option 3 ID : 6306802129263

Option 4 ID : 6306802129265

Status : Answered

Chosen Option : 1

Q.5 In the given sentence, one of the four underlined words is incorrectly spelt. Identify the INCORRECTLY spelt word.

She dabbled in drawing and painting, but scalpture was her favourite medium.

- Ans  1. scalpture  
 2. dabbled  
 3. drawing  
 4. favourite

Question Type : MCQ

Question ID : 630680616818

Option 1 ID : 6306802413518

Option 2 ID : 6306802413516

Option 3 ID : 6306802413517

Option 4 ID : 6306802413519

Status : Answered

Chosen Option : 1

**Q.6 Select the sentence with the most appropriate comparative degree.**

**Ans** ✓ 1. She is the most talented musician in the orchestra.

✗ 2. She is the talent of all musicians in the orchestra.

✗ 3. She is more talented musician in the orchestra.

✗ 4. She is the talentedest musician in the orchestra.

Question Type : **MCQ**

Question ID : **630680404077**

Option 1 ID : **6306801575795**

Option 2 ID : **6306801575796**

Option 3 ID : **6306801575794**

Option 4 ID : **6306801575797**

Status : **Answered**

Chosen Option : **3**

**Q.7 Select the most appropriate ANTONYM of the given word.**

**Callous**

**Ans** ✗ 1. Beguile

✗ 2. Augment

✓ 3. Tender

✗ 4. Desolate

Question Type : **MCQ**

Question ID : **630680503162**

Option 1 ID : **6306801966236**

Option 2 ID : **6306801966234**

Option 3 ID : **6306801966233**

Option 4 ID : **6306801966235**

Status : **Answered**

Chosen Option : **4**

**Q.8 Select the correct indefinite article to fill in the blank.**

**My neighbour is \_\_\_\_\_ passionate photographer.**

**Ans** ✗ 1. one

✗ 2. an

✗ 3. the

✓ 4. a

Question Type : **MCQ**

Question ID : **630680779761**

Option 1 ID : **6306803056230**

Option 2 ID : **6306803056228**

Option 3 ID : **6306803056229**

Option 4 ID : **6306803056227**

Status : **Answered**

Chosen Option : **4**

**Q.9** Parts of the following sentence have been given as options. Select the option that contains a grammatical error.

**Ms. Malathi is old much to join a college now.**

- Ans  1. Ms. Malathi is  
 2. old much  
 3. to join  
 4. a college now

Question Type : **MCQ**

Question ID : **630680146968**

Option 1 ID : **630680568710**

Option 2 ID : **630680568711**

Option 3 ID : **630680568712**

Option 4 ID : **630680568713**

Status : **Answered**

Chosen Option : **2**

**Q.10** Identify the word with a spelling error in the following sentence. Select the option that correctly rectifies the error.

**In Shakespeare's play 'Hamlet', Hamlet's flaw is defined as procrustineition.**

- Ans  1. pracrostination  
 2. procrastination  
 3. procristineition  
 4. procrustination

Question Type : **MCQ**

Question ID : **630680195447**

Option 1 ID : **630680758260**

Option 2 ID : **630680758258**

Option 3 ID : **630680758257**

Option 4 ID : **630680758259**

Status : **Answered**

Chosen Option : **2**

**Q.11** Read the following sentence and select its future tense form from the options given below:

**Sarah and Fidha entered into an agreement to share the resources that are currently accessible.**

- Ans  1. Sarah and Fidha had entered into an agreement to share the resources that are currently accessible.  
 2. Sarah and Fidha will enter into an agreement to share the resources that are currently accessible.  
 3. Sarah and Fidha are entering into an agreement to share the resources that are currently accessible.  
 4. Sarah and Fidha were entered into an agreement to share the resources that are currently accessible.

Question Type : **MCQ**

Question ID : **6306801106301**

Option 1 ID : **6306804345634**

Option 2 ID : **6306804345635**

Option 3 ID : **6306804345636**

Option 4 ID : **6306804345637**

Status : **Answered**

Chosen Option : **2**

**Q.12** Select the most appropriate option to fill in the blanks.

When Mr. Bhanot was told a few years back that he needed to lose \_\_\_\_\_ or face health problems, he transformed his life with the \_\_\_\_\_ of a personal trainer.

- Ans
- 1. patience; guidance
  - 2. wait; assistance
  - 3. money; instructions
  - 4. weight; help

Question Type : **MCQ**

Question ID : **630680546888**

Option 1 ID : **6306802138124**

Option 2 ID : **6306802138121**

Option 3 ID : **6306802138123**

Option 4 ID : **6306802138122**

Status : **Answered**

Chosen Option : **3**

**Q.13** Select the most appropriate synonym of the given word.

**Commence**

- Ans
- 1. Subvert
  - 2. Exert
  - 3. Start
  - 4. Escort

Question Type : **MCQ**

Question ID : **630680438010**

Option 1 ID : **6306801709863**

Option 2 ID : **6306801709861**

Option 3 ID : **6306801709860**

Option 4 ID : **6306801709862**

Status : **Answered**

Chosen Option : **1**

**Q.14** Select the most appropriate meaning of the given idiom.

**Let the cat out of the bag**

- Ans
- 1. To buy a cat and a bag
  - 2. To reveal a secret
  - 3. To release a cat out of a bag
  - 4. To not allow a cat into the bag

Question Type : **MCQ**

Question ID : **63068066304**

Option 1 ID : **630680256132**

Option 2 ID : **630680256133**

Option 3 ID : **630680256131**

Option 4 ID : **630680256130**

Status : **Answered**

Chosen Option : **2**

**Q.15** Select the most appropriate ANTONYM of the given word.  
Tranquil

- Ans  1. Composed  
 2. Shabby  
 3. Serene  
 4. Unquiet

Question Type : **MCQ**

Question ID : **630680549420**

Option 1 ID : **6306802148131**

Option 2 ID : **6306802148132**

Option 3 ID : **6306802148129**

Option 4 ID : **6306802148130**

Status : **Answered**

Chosen Option : **4**

**Q.16** Select the most appropriate option to substitute the underlined segment in the given sentence.

Shebna decided to take a break in social media, but she found it difficult to disconnect completely.

- Ans  1. a break up social media  
 2. a break of social media  
 3. a break down social media  
 4. a break from social media

Question Type : **MCQ**

Question ID : **630680709777**

Option 1 ID : **6306802780771**

Option 2 ID : **6306802780769**

Option 3 ID : **6306802780770**

Option 4 ID : **6306802780768**

Status : **Answered**

Chosen Option : **4**

**Q.17** Select the correct spelling to fill in the blank.

Wedding is an auspicious \_\_\_\_\_ for all.

- Ans  1. occasion  
 2. ocassion  
 3. occation  
 4. occassion

Question Type : **MCQ**

Question ID : **630680640962**

Option 1 ID : **6306802509289**

Option 2 ID : **6306802509291**

Option 3 ID : **6306802509292**

Option 4 ID : **6306802509290**

Status : **Answered**

Chosen Option : **2**

**Q.18** Based on the situation in the sentence, choose the most appropriate idiom to fill in the blank.

You cannot \_\_\_\_\_ before replicating your successes and achievements multiple times; otherwise, people will deem your success a stroke of dumb luck.

- Ans
- 1. cut to the chase
  - 2. sit on the fence
  - 3. rest on your laurels
  - 4. play devil's advocate

Question Type : **MCQ**

Question ID : **630680449770**

Option 1 ID : **6306801756227**

Option 2 ID : **6306801756225**

Option 3 ID : **6306801756224**

Option 4 ID : **6306801756226**

Status : **Answered**

Chosen Option : **3**

**Q.19** Select the most appropriate ANTONYM of the bracketed word in the sentence given below.

Surrounded by lush greenery, the house stood \_\_\_\_\_ (submissively) atop a hill.

- Ans
- 1. Silently
  - 2. Civilly
  - 3. Proudly
  - 4. Magically

Question Type : **MCQ**

Question ID : **630680455668**

Option 1 ID : **6306801779623**

Option 2 ID : **6306801779624**

Option 3 ID : **6306801779621**

Option 4 ID : **6306801779622**

Status : **Answered**

Chosen Option : **2**

**Q.20** In the following sentence the underlined part contains an error. Alternatives to the underlined part are given as options.

Select the correct alternative.

Mary is the quieter student of the class.

- Ans
- 1. quiet
  - 2. more quiet
  - 3. quietest
  - 4. most quiet

Question Type : **MCQ**

Question ID : **630680514709**

Option 1 ID : **6306802011461**

Option 2 ID : **6306802011464**

Option 3 ID : **6306802011463**

Option 4 ID : **6306802011462**

Status : **Answered**

Chosen Option : **3**

**Comprehension:**

In the following passage, some words have been deleted. Read the passage carefully and select the most appropriate option to fill in each blank.

Education is fundamental for achieving full human potential, developing an equitable and (1)\_\_\_\_\_ society, and promoting national development. Providing universal (2)\_\_\_\_\_ quality education is the key to India's continued ascent, and leadership on the global stage in terms of economic growth, social justice and equality, scientific advancement, national integration, and cultural preservation. Universal high-quality education is the best way (3)\_\_\_\_\_ for developing and maximising our country's rich talents and resources for the good (4)\_\_\_\_\_ the individual, the society, the country and the world. India (5)\_\_\_\_\_ the highest population of young people in the world over the next decade, and our ability to provide high-quality educational opportunities to them will determine the future of our country.

**SubQuestion No : 21**

**Q.21** Select the most appropriate option to fill in blank number 1.

Ans  1. such

2. just

3. much

4. more

Question Type : **MCQ**

Question ID : **630680130511**

Option 1 ID : **630680505353**

Option 2 ID : **630680505352**

Option 3 ID : **630680505351**

Option 4 ID : **630680505350**

Status : **Answered**

Chosen Option : **1**

**Comprehension:**

In the following passage, some words have been deleted. Read the passage carefully and select the most appropriate option to fill in each blank.

Education is fundamental for achieving full human potential, developing an equitable and (1)\_\_\_\_\_ society, and promoting national development. Providing universal (2)\_\_\_\_\_ quality education is the key to India's continued ascent, and leadership on the global stage in terms of economic growth, social justice and equality, scientific advancement, national integration, and cultural preservation. Universal high-quality education is the best way (3)\_\_\_\_\_ for developing and maximising our country's rich talents and resources for the good (4)\_\_\_\_\_ the individual, the society, the country and the world. India (5)\_\_\_\_\_ the highest population of young people in the world over the next decade, and our ability to provide high-quality educational opportunities to them will determine the future of our country.

**SubQuestion No : 22**

**Q.22** Select the most appropriate option to fill in blank number 2.

Ans  1. access from

2. access at

3. access for

4. access to

Question Type : **MCQ**

Question ID : **630680130512**

Option 1 ID : **630680505355**

Option 2 ID : **630680505357**

Option 3 ID : **630680505356**

Option 4 ID : **630680505354**

Status : **Answered**

Chosen Option : **3**

**Comprehension:**

In the following passage, some words have been deleted. Read the passage carefully and select the most appropriate option to fill in each blank.

Education is fundamental for achieving full human potential, developing an equitable and (1)\_\_\_\_\_ society, and promoting national development. Providing universal (2)\_\_\_\_\_ quality education is the key to India's continued ascent, and leadership on the global stage in terms of economic growth, social justice and equality, scientific advancement, national integration, and cultural preservation. Universal high-quality education is the best way (3)\_\_\_\_\_ for developing and maximising our country's rich talents and resources for the good (4)\_\_\_\_\_ the individual, the society, the country and the world. India (5)\_\_\_\_\_ the highest population of young people in the world over the next decade, and our ability to provide high-quality educational opportunities to them will determine the future of our country.

**SubQuestion No : 23****Q.23 Select the most appropriate option to fill in blank number 3.**

- Ans  1. forward  
 2. output  
 3. outcome  
 4. result

Question Type : **MCQ**Question ID : **630680130513**Option 1 ID : **630680505359**Option 2 ID : **630680505358**Option 3 ID : **630680505360**Option 4 ID : **630680505361**Status : **Answered**Chosen Option : **2****Comprehension:**

In the following passage, some words have been deleted. Read the passage carefully and select the most appropriate option to fill in each blank.

Education is fundamental for achieving full human potential, developing an equitable and (1)\_\_\_\_\_ society, and promoting national development. Providing universal (2)\_\_\_\_\_ quality education is the key to India's continued ascent, and leadership on the global stage in terms of economic growth, social justice and equality, scientific advancement, national integration, and cultural preservation. Universal high-quality education is the best way (3)\_\_\_\_\_ for developing and maximising our country's rich talents and resources for the good (4)\_\_\_\_\_ the individual, the society, the country and the world. India (5)\_\_\_\_\_ the highest population of young people in the world over the next decade, and our ability to provide high-quality educational opportunities to them will determine the future of our country.

**SubQuestion No : 24****Q.24 Select the most appropriate option to fill in blank number 4.**

- Ans  1. at  
 2. for  
 3. from  
 4. of

Question Type : **MCQ**Question ID : **630680130514**Option 1 ID : **630680505363**Option 2 ID : **630680505365**Option 3 ID : **630680505364**Option 4 ID : **630680505362**Status : **Answered**Chosen Option : **2**

**Comprehension:**

In the following passage, some words have been deleted. Read the passage carefully and select the most appropriate option to fill in each blank.

Education is fundamental for achieving full human potential, developing an equitable and (1)\_\_\_\_\_ society, and promoting national development. Providing universal (2)\_\_\_\_\_ quality education is the key to India's continued ascent, and leadership on the global stage in terms of economic growth, social justice and equality, scientific advancement, national integration, and cultural preservation. Universal high-quality education is the best way (3)\_\_\_\_\_ for developing and maximising our country's rich talents and resources for the good (4)\_\_\_\_\_ the individual, the society, the country and the world. India (5)\_\_\_\_\_ the highest population of young people in the world over the next decade, and our ability to provide high-quality educational opportunities to them will determine the future of our country.

**SubQuestion No : 25**

**Q.25 Select the most appropriate option to fill in blank number 5.**

- Ans  1. were having  
 2. can has  
 3. will have  
 4. might had

Question Type : **MCQ**

Question ID : **630680130515**

Option 1 ID : **630680505367**

Option 2 ID : **630680505366**

Option 3 ID : **630680505368**

Option 4 ID : **630680505369**

Status : **Answered**

Chosen Option : **1**