

Multi Tasking Non Technical Staff and Havalдар CBIC and CBN Examination 2024

Roll Number	
Candidate Name	
Venue Name	Ikon Digital
Exam Date	22/10/2024
Exam Time	12:30 PM - 2:30 PM
Subject	MTS Non Tech Havalдар CBIC and CBN Examination 2024

Section : Numerical and Mathematical Ability

Q.1 एक कक्षा में 50 विद्यार्थियों की औसत लम्बाई 105 cm थी। 95 cm की औसत लम्बाई वाले पाँच विद्यार्थियों का एक समूह इस कक्षा में शामिल हो जाता है। 55 विद्यार्थियों की कक्षा की औसत लम्बाई (cm में) क्या है? (निकटतम पूर्णांक तक सही)

- Ans
- 1. 105
 - 2. 100
 - 3. 102
 - 4. 104

Question Type : MCQ

Question ID : 630680477542

Option 1 ID : 6306801865319

Option 2 ID : 6306801865316

Option 3 ID : 6306801865317

Option 4 ID : 6306801865318

Status : Answered

Chosen Option : 4

Q.2 एक योजना में, यदि आप तीन या उससे अधिक उत्पाद खरीदते हैं तो एक दुकानदार 4% की छूट देता है। रितु ने ₹330 में अमरूद के रस की तीन बोतलें खरीदीं। यदि दुकानदार फिर भी 10% का लाभ कमाता है। यदि उसने इन्हें बिना किसी छूट के बेचा होता तो उसे कितना लाभ होता (2 दशमलव स्थानों तक पूर्णांकित)?

- Ans
- 1. 15.28%
 - 2. 14.58%
 - 3. 15%
 - 4. 15.74%

Question Type : MCQ

Question ID : 630680624157

Option 1 ID : 6306802442779

Option 2 ID : 6306802442781

Option 3 ID : 6306802442778

Option 4 ID : 6306802442780

Status : Answered

Chosen Option : 2

Q.3 5.4 km/h की चाल से चलते हुए, रोहित को अपने घर से स्कूल पहुँचने में 40 मिनट लगते हैं। यदि वह 8 km/h की चाल से चलता है तो उसे कितना समय लगेगा?

- Ans
- 1. 23 मिनट
 - 2. 25 मिनट
 - 3. 27 मिनट
 - 4. 24 मिनट

Question Type : MCQ

Question ID : 63068071103

Option 1 ID : 630680275006

Option 2 ID : 630680275008

Option 3 ID : 630680275009

Option 4 ID : 630680275007

Status : Answered

Chosen Option : 3

Q.4 A प्रति घंटा ₹88 कमाता है और 10 घंटे कार्य करता है। B प्रति घंटा ₹95 कमाता है और 8 घंटे कार्य करता है। A और B के प्रतिदिन के वेतन का अनुपात क्या है?

- Ans
- 1. 22 : 19
 - 2. 19 : 22
 - 3. 21 : 19
 - 4. 19 : 21

Question Type : MCQ

Question ID : 630680571635

Option 1 ID : 6306802235586

Option 2 ID : 6306802235587

Option 3 ID : 6306802235584

Option 4 ID : 6306802235585

Status : Answered

Chosen Option : 1

Q.5 दो वर्गों के विकर्णों का अनुपात 5 : 6 है। उनके क्षेत्रफलों का अनुपात क्या होगा?

- Ans
- 1. 2 : 3
 - 2. 18 : 20
 - 3. 25 : 36
 - 4. 23 : 18

Question Type : MCQ

Question ID : 630680108498

Option 1 ID : 630680420955

Option 2 ID : 630680420954

Option 3 ID : 630680420952

Option 4 ID : 630680420953

Status : Answered

Chosen Option : 3

Q.6 7 cm त्रिज्या और 48 cm ऊँचाई वाले एक शंकाकार फ्लास्क में से पानी को 14 cm त्रिज्या वाले एक बेलनाकार फ्लास्क में डाला जाता है। बेलनाकार फ्लास्क में जल स्तर _____ होगा।

Ans 1. 2 cm

2. 4 cm

3. 3 cm

4. 5 cm

Question Type : MCQ

Question ID : 630680358071

Option 1 ID : 6306801394273

Option 2 ID : 6306801394275

Option 3 ID : 6306801394274

Option 4 ID : 6306801394276

Status : Answered

Chosen Option : 2

Q.7 जॉन ने सांख्यिकी में 60% और गणित में 70% अंक प्राप्त किए हैं। सांख्यिकी को 2 की भारिता (weightage) दी जाती है और गणित को 4 की भारिता दी जाती है। निम्नलिखित में से कौन-सा व्यंजक दो प्राप्तांकों के भारिता औसत को निरूपित करता है?

Ans

1. $\frac{2 \times 60\% + 4 \times 70\%}{2 \times 4}$

2. $\frac{2 + 60\% \times 4 + 70\%}{2 + 4}$

3. $\frac{2 \times 60\% \times 40 \times 70\%}{2 \times 4}$

4. $\frac{2 \times 60\% + 4 \times 70\%}{2 + 4}$

Question Type : MCQ

Question ID : 630680135120

Option 1 ID : 630680523263

Option 2 ID : 630680523264

Option 3 ID : 630680523262

Option 4 ID : 630680523265

Status : Answered

Chosen Option : 4

Q.8 निम्नलिखित तालिका में एक स्कूल के कक्षा IX के विद्यार्थियों की संख्या दर्शाई गई है जो सप्ताह के सभी दिनों, अर्थात् सोमवार से शुक्रवार तक कक्षा में उपस्थित हुए हैं। कक्षा में विद्यार्थियों की कुल संख्या 40 है।

दिन	सोमवार	मंगलवार	बुधवार	बृहस्पतिवार	शुक्रवार
विद्यार्थियों की संख्या	38	24	35	29	23

किस दिन सबसे अधिक विद्यार्थी अनुपस्थित रहे हैं?

- Ans
- 1. मंगलवार
 - 2. बुधवार
 - 3. सोमवार
 - 4. शुक्रवार

Question Type : MCQ

Question ID : 630680523729

Option 1 ID : 6306802047070

Option 2 ID : 6306802047068

Option 3 ID : 6306802047067

Option 4 ID : 6306802047069

Status : Answered

Chosen Option : 4

Q.9 एक व्यक्ति को 1 घंटे में 8 km की दूरी तय करनी है। यदि वह कुल समय के एक-तिहाई समय में एक-चौथाई दूरी तय करता है, तो शेष दूरी को शेष समय में तय करने के लिए उसकी चाल (km/h में) कितनी होनी चाहिए ताकि वह व्यक्ति ठीक समय पर गंतव्य पर पहुंच जाए?

- Ans
- 1. 7
 - 2. 9
 - 3. 8
 - 4. 6

Question Type : MCQ

Question ID : 630680233074

Option 1 ID : 630680904419

Option 2 ID : 630680904417

Option 3 ID : 630680904418

Option 4 ID : 630680904420

Status : Answered

Chosen Option : 4

Q.10 निम्नलिखित में से कौन सा विकल्प 12, 36, 72, 144, 288 और 576 के लघुत्तम समापवर्त्य (LCM) के बराबर है?

Ans 1. 72

2. 288

3. 576

4. 144

Question Type : MCQ

Question ID : 63068094395

Option 1 ID : 630680366278

Option 2 ID : 630680366276

Option 3 ID : 630680366275

Option 4 ID : 630680366277

Status : Answered

Chosen Option : 3

Q.11 राजीव अपनी मासिक आय का 75% बचत करता है। यदि उसका मासिक व्यय ₹37,500 है, तो उसकी मासिक बचत (₹ में) _____ है।

Ans 1. 1,11,500

2. 1,20,250

3. 1,12,500

4. 1,10,500

Question Type : MCQ

Question ID : 630680464492

Option 1 ID : 6306801814003

Option 2 ID : 6306801814005

Option 3 ID : 6306801814004

Option 4 ID : 6306801814006

Status : Answered

Chosen Option : 3

Q.12 5 वर्षों के लिए 3% वार्षिक की ब्याज दर पर उधार ली गई राशि ₹3500 पर साधारण ब्याज (₹ में) ज्ञात कीजिए।

Ans 1. 485

2. 465

3. 565

4. 525

Question Type : MCQ

Question ID : 630680591961

Option 1 ID : 6306802316314

Option 2 ID : 6306802316313

Option 3 ID : 6306802316312

Option 4 ID : 6306802316311

Status : Answered

Chosen Option : 4

Q.13 24 cm आंतरिक त्रिज्या वाले एक अर्धगोलाकार कटोरे में तरल पदार्थ भरा हुआ है। तरल पदार्थ को 8 cm व्यास और 12 cm ऊंचाई वाले बेलनाकार बर्तन में भरा जाना है। कटोरा खाली करने के लिए आवश्यक बर्तनों की संख्या ज्ञात करें।

Ans 1. 39

2. 48

3. 50

4. 45

Question Type : MCQ

Question ID : 630680378584

Option 1 ID : 6306801475384

Option 2 ID : 6306801475383

Option 3 ID : 6306801475386

Option 4 ID : 6306801475385

Status : Answered

Chosen Option : 2

Q.14 ₹19 में एक वस्तु को बेचकर, एक विक्रेता 10% का लाभ अर्जित करता है। उसे अपना विक्रय मूल्य (₹ में, दो दशमलव स्थान तक सन्निकटित) कितना बढ़ाना चाहिए, ताकि 40% का लाभ अर्जित कर सके?

Ans 1. 6.18

2. 5.18

3. 7.18

4. 8.18

Question Type : MCQ

Question ID : 630680632583

Option 1 ID : 6306802476231

Option 2 ID : 6306802476230

Option 3 ID : 6306802476232

Option 4 ID : 6306802476233

Status : Answered

Chosen Option : 4

Q.15 एक व्यापारी अपने माल पर क्रय मूल्य से 25% अधिक अंकित करता है और अपने ग्राहकों को उनके बिलों पर 12% की छूट देता है। उसे कितना प्रतिशत लाभ होता है?

Ans 1. 12%

2. 10%

3. 9%

4. 11%

Question Type : MCQ

Question ID : 630680106827

Option 1 ID : 630680414925

Option 2 ID : 630680414924

Option 3 ID : 630680414926

Option 4 ID : 630680414927

Status : Answered

Chosen Option : 2

Q.16 राज दो सामग्रियों X और Y को मिलाकर 60 gm मिश्रण तैयार करता है। सामग्री X की कीमत ₹80 प्रति 5 gm है और सामग्री Y की कीमत ₹80 प्रति 10 gm है। सामग्री X और Y को इस प्रकार मिश्रित किया जाता है कि परिणामी मिश्रण की कीमत ₹14 प्रति gm हो। मिश्रण में सामग्री X की मात्रा (gm में) क्या है?

Ans 1. 30

2. 45

3. 60

4. 15

Question Type : MCQ

Question ID : 630680466571

Option 1 ID : 6306801822280

Option 2 ID : 6306801822278

Option 3 ID : 6306801822281

Option 4 ID : 6306801822279

Status : Answered

Chosen Option : 2

Q.17 एक व्यक्ति ने साधारण ब्याज पर कुछ धनराशि उधार ली। 15 वर्षों के बाद, अर्जित साधारण ब्याज, उधार ली गई धनराशि का $\frac{19}{15}$ होगा। वार्षिक ब्याज दर क्या है?

Ans 1. $7\frac{4}{9}$ %

2. $6\frac{4}{9}$ %

3. $5\frac{4}{9}$ %

4. $8\frac{4}{9}$ %

Question Type : MCQ

Question ID : 630680426347

Option 1 ID : 6306801663488

Option 2 ID : 6306801663487

Option 3 ID : 6306801663486

Option 4 ID : 6306801663489

Status : Answered

Chosen Option : 2

Q.18 ₹60 प्रति kg मूल्य वाले 15 kg चावलों और ₹55 प्रति kg मूल्य वाले 8 kg चावलों को ₹40 प्रति kg मूल्य वाले 7 kg चावलों के साथ मिलाया जाता है। मिश्रित चावल का प्रति kg औसत मूल्य ज्ञात कीजिए।

Ans ✓ 1. ₹54

✗ 2. ₹56

✗ 3. ₹48

✗ 4. ₹45

Question Type : MCQ

Question ID : 630680469833

Option 1 ID : 6306801835089

Option 2 ID : 6306801835090

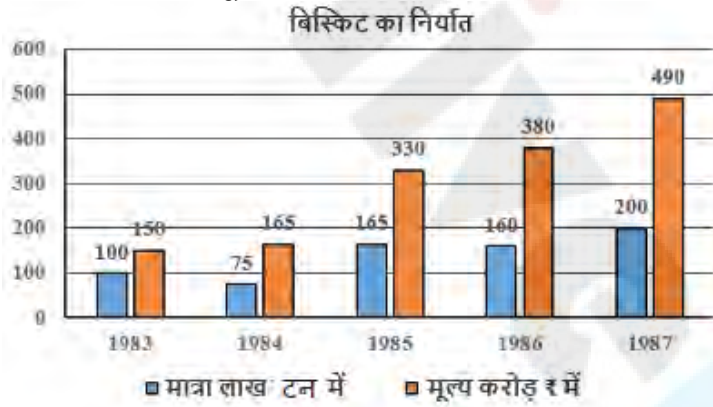
Option 3 ID : 6306801835088

Option 4 ID : 6306801835087

Status : Answered

Chosen Option : 2

Q.19 निम्नलिखित बार ग्राफ दिए गए वर्षों में निर्यात किए गए बिस्किट की मात्रा (लाख टन में) और उनका मूल्य (करोड़ ₹ में) दर्शाता है।



1985 से 1987 तक निर्यात किए गए बिस्किट के मूल्य में कितने प्रतिशत की वृद्धि हुई (दशमलव के बाद दो स्थानों तक पूर्णांकित करें)?

Ans ✗ 1. 44.36%

✗ 2. 44.22%

✓ 3. 48.48%

✗ 4. 44.25%

Question Type : MCQ

Question ID : 630680456081

Option 1 ID : 6306801781265

Option 2 ID : 6306801781264

Option 3 ID : 6306801781266

Option 4 ID : 6306801781263

Status : Answered

Chosen Option : 3

Q.20 3 वर्षों के लिए 5% प्रति वर्ष की ब्याज दर पर उधार ली गई राशि ₹3500 पर साधारण ब्याज (₹ में) ज्ञात कीजिए।

- Ans 1. 485
 2. 465
 3. 565
 4. 525

Question Type : MCQ
Question ID : 630680591969
Option 1 ID : 6306802316346
Option 2 ID : 6306802316345
Option 3 ID : 6306802316344
Option 4 ID : 6306802316343
Status : Answered
Chosen Option : 4

Section : Reasoning Ability and Problem Solving

Q.1 अंग्रेजी वर्णानुक्रम के आधार पर, दी गई श्रृंखला में प्रश्नवाचक चिह्न (?) के स्थान पर क्या आना चाहिए?
ADG, JMP, SVY, BEH, ?

- Ans 1. LMO
 2. KMO
 3. LNQ
 4. KNQ

Question Type : MCQ
Question ID : 630680338940
Option 1 ID : 6306801318352
Option 2 ID : 6306801318351
Option 3 ID : 6306801318350
Option 4 ID : 6306801318349
Status : Answered
Chosen Option : 4

Q.2 दिए गए समीकरण को सही करने के लिए किन दो चिह्नों को आपस में बदला जाना चाहिए?

$$35 + 60 \div 12 \times 4 - 12 = 203$$

- Ans 1. + और ×
 2. ÷ और ×
 3. - और ×
 4. - और +

Question Type : MCQ
Question ID : 630680411998
Option 1 ID : 6306801606830
Option 2 ID : 6306801606827
Option 3 ID : 6306801606829
Option 4 ID : 6306801606828
Status : Answered
Chosen Option : 2

Q.3 दिए गए कथनों और निष्कर्षों को ध्यानपूर्वक पढ़िए। यह मानते हुए कि कथनों में दी गई जानकारी सत्य है, चाहे वह सामान्यतः ज्ञात तथ्यों से भिन्न प्रतीत होती हो और निर्णय लीजिए कि दिए गए निष्कर्षों में से कौन-सा/कौन-से निष्कर्ष कथनों का तार्किक रूप से अनुसरण करता है/करते हैं।

कथन:

सभी शर्ट, पैट हैं।
सभी पैट, घड़ियाँ हैं।

निष्कर्ष:

(I) सभी पैट, शर्ट हैं।
(II) सभी शर्ट, घड़ियाँ हैं।

- Ans
- 1. केवल निष्कर्ष I अनुसरण करता है
 - 2. केवल निष्कर्ष II अनुसरण करता है
 - 3. न तो निष्कर्ष I और न ही II अनुसरण करता है
 - 4. निष्कर्ष I और II दोनों अनुसरण करते हैं

Question Type : MCQ

Question ID : 630680410625

Option 1 ID : 6306801601260

Option 2 ID : 6306801601261

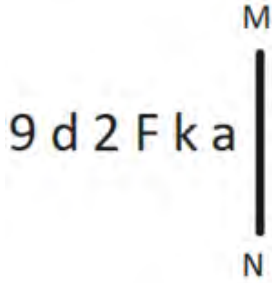
Option 3 ID : 6306801601263

Option 4 ID : 6306801601262

Status : Answered

Chosen Option : 2

Q.4 दी गई आकृति के उस सही दर्पण प्रतिबिंब को चुनिए, जो नीचे दर्शाए गए अनुसार दर्पण को MN पर रखने पर बनेगा।



- Ans
- 1. 6 q 3 F k a
 - 2. 6 F k 3 b e
 - 3. 6 q 3 F k a
 - 4. 6 q 3 F k a

Question Type : MCQ

Question ID : 630680525257

Option 1 ID : 6306802053113

Option 2 ID : 6306802053114

Option 3 ID : 6306802053115

Option 4 ID : 6306802053112

Status : Answered

Chosen Option : 4

Q.5 दिए गए कथनों और निष्कर्षों को ध्यानपूर्वक पढ़िए। यह मानते हुए कि कथनों में दी गई जानकारी सत्य है, चाहे वह सामान्यतः ज्ञात तथ्यों से भिन्न प्रतीत होती हो और निर्णय लीजिए कि दिए गए निष्कर्षों में से कौन-सा/कौन-से निष्कर्ष कथनों का तार्किक रूप से अनुसरण करता है/करते हैं।

कथन:

कुछ पौधे, मसाले हैं।

कोई भी मसाला, दाल नहीं है।

निष्कर्ष:

(I) कुछ दालें, पौधे हैं।

(II) कुछ मसाले, पौधे हैं।

- Ans
- 1. न तो निष्कर्ष (I) और न ही (II) अनुसरण करता है
 - 2. केवल निष्कर्ष (II) अनुसरण करता है
 - 3. निष्कर्ष (I) और (II) दोनों अनुसरण करते हैं
 - 4. केवल निष्कर्ष (I) अनुसरण करता है

Question Type : MCQ

Question ID : 630680387114

Option 1 ID : 6306801509168

Option 2 ID : 6306801509167

Option 3 ID : 6306801509169

Option 4 ID : 6306801509166

Status : Answered

Chosen Option : 4

Q.6 एक निश्चित कूट भाषा में, 'WANT' को '8163' के रूप में कूटबद्ध किया जाता है और 'THAN' को '3468' के रूप में कूटबद्ध किया जाता है। उस भाषा में 'H' के लिए कूट क्या है?

- Ans
- 1. 3
 - 2. 1
 - 3. 4
 - 4. 8

Question Type : MCQ

Question ID : 630680528924

Option 1 ID : 6306802067687

Option 2 ID : 6306802067684

Option 3 ID : 6306802067686

Option 4 ID : 6306802067685

Status : Answered

Chosen Option : 3

Q.7 एक निश्चित कूट भाषा में, 'CASH' को '2486' के रूप में कूटबद्ध किया जाता है और 'HIRE' को '3257' के रूप में कूटबद्ध किया जाता है। दी गई कूट भाषा में 'H' के लिए कूट क्या है?

Ans 1.2

2.7

3.6

4.3

Question Type : MCQ

Question ID : 630680388005

Option 1 ID : 6306801512634

Option 2 ID : 6306801512637

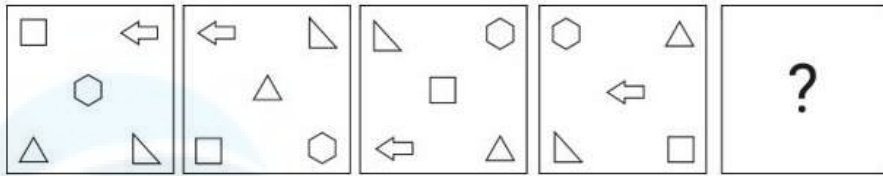
Option 3 ID : 6306801512636

Option 4 ID : 6306801512635

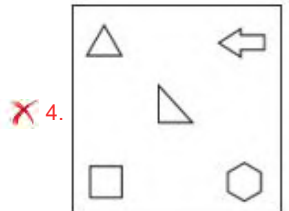
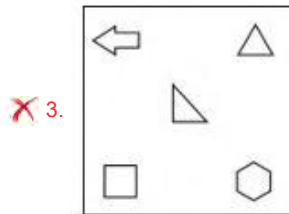
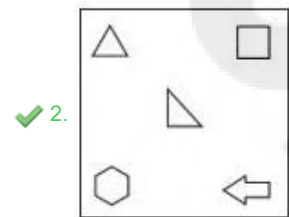
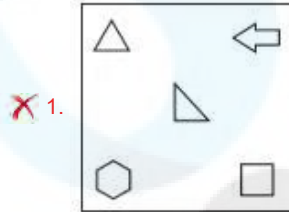
Status : Answered

Chosen Option : 1

Q.8 विकल्पों में दी गई उस आकृति की पहचान कीजिए, जिसे प्रश्न-चिह्न (?) के स्थान पर रखने पर श्रृंखला तार्किक रूप से पूर्ण हो जाएगी।



Ans



Question Type : **MCQ**

Question ID : **630680273249**

Option 1 ID : **6306801061540**

Option 2 ID : **6306801061539**

Option 3 ID : **6306801061542**

Option 4 ID : **6306801061541**

Status : **Answered**

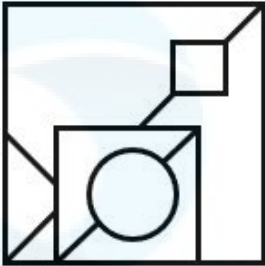
Chosen Option : **2**

Q.9 उस विकल्प का चयन कीजिए जिसमें दी गई आकृति सन्निहित है (घूर्णन की अनुमति नहीं है)।

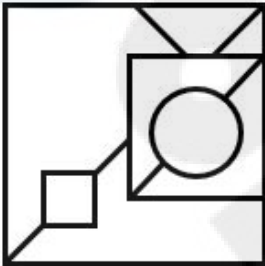


Ans

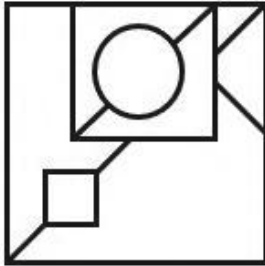
✗ 1.



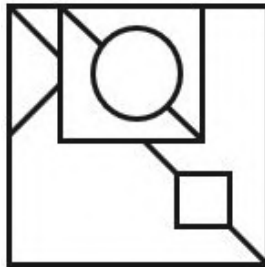
✗ 2.



✗ 3.



✓ 4.



Question Type : MCQ

Question ID : 630680524445

Option 1 ID : 6306802049881

Option 2 ID : 6306802049879

Option 3 ID : 6306802049882

Option 4 ID : 6306802049880

Status : Answered

Chosen Option : 4

Q.10 DBCA अंग्रेजी वर्णानुक्रम के आधार पर एक निश्चित प्रकार से HDFB से संबंधित है। ठीक उसी प्रकार, BACD, DBFH से संबंधित है। समान समान तर्क का अनुसरण करते हुए, FDAC निम्नलिखित में से किससे संबंधित है?

Ans 1. LBGH

2. LEFG

3. LHBF

4. LPTG

Question Type : **MCQ**

Question ID : **630680387606**

Option 1 ID : **6306801511093**

Option 2 ID : **6306801511090**

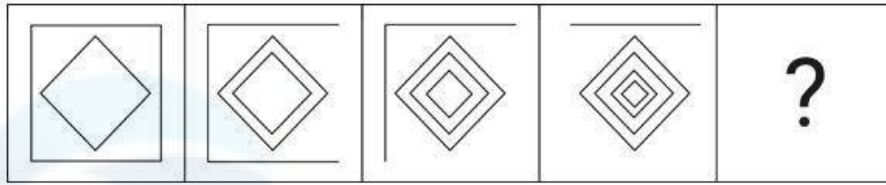
Option 3 ID : **6306801511092**

Option 4 ID : **6306801511091**

Status : **Answered**

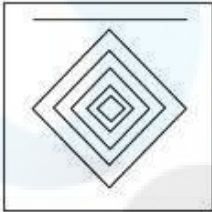
Chosen Option : **3**

Q.11 दिए गए विकल्पों में से उस आकृति की पहचान कीजिए जो प्रश्न-चिह्न (?) के स्थान पर आ सकती है और श्रृंखला को तार्किक रूप से पूरा कर सकती है।

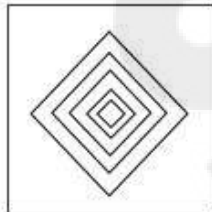


Ans


✗ 1.



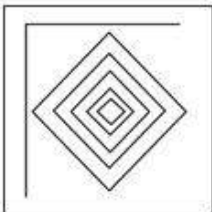
✓ 2.



✗ 3.



✗ 4.



Question Type : MCQ

Question ID : 630680279232

Option 1 ID : 6306801085196

Option 2 ID : 6306801085195

Option 3 ID : 6306801085198

Option 4 ID : 6306801085197

Status : Answered

Chosen Option : 2

Q.12 छः मित्र - A, B, C, D, E और F एक वृत्ताकार मेज के चारों ओर केंद्र की ओर पीठ करके बैठे हैं (परंतु जरूरी नहीं कि वे इसी क्रम में बैठे हों)। B और C दोनों का निकटतम पड़ोसी F है। D, B के दाएं से दूसरे स्थान पर बैठा है। A, D के ठीक दाएं बैठा है। निम्नलिखित में से कौन F के बाएं दूसरे स्थान पर बैठा है?

Ans 1. D

2. A

3. B

4. E

Question Type : MCQ

Question ID : 630680383300

Option 1 ID : 6306801494100

Option 2 ID : 6306801494102

Option 3 ID : 6306801494101

Option 4 ID : 6306801494099

Status : Answered

Chosen Option : 4

Q.13 दी गई श्रृंखला में '?' के स्थान पर क्या आना चाहिए?

14, 30, 93, 470, 3297, ?

Ans 1. 29682

2. 23086

3. 36267

4. 36278

Question Type : MCQ

Question ID : 630680531536

Option 1 ID : 6306802077939

Option 2 ID : 6306802077938

Option 3 ID : 6306802077940

Option 4 ID : 6306802077937

Status : Answered

Chosen Option : 3

Q.14 सात लोग R, S, T, D, E, F और G एक वृत्ताकार मेज के चारों ओर केंद्र की ओर मुख करके बैठे हैं (परंतु जरूरी नहीं कि वे इसी क्रम में बैठे हों)। R, D के दाएँ से तीसरे स्थान पर बैठा है। G के बाएँ से गिनने पर G और E के बीच में केवल एक व्यक्ति बैठा है। S, T के ठीक दाएँ बैठा है। G के दाएँ से गिनने पर G और T के बीच में केवल एक व्यक्ति बैठा है। F के दाएँ से तीसरे स्थान पर कौन बैठा है?

Ans 1. D

2. G

3. S

4. T

Question Type : MCQ

Question ID : 630680378836

Option 1 ID : 6306801476391

Option 2 ID : 6306801476394

Option 3 ID : 6306801476393

Option 4 ID : 6306801476392

Status : Answered

Chosen Option : 4

Q.15 अंग्रेजी वर्णमाला क्रम के आधार पर DZRG एक निश्चित प्रकार से HDOD से संबंधित है। ठीक उसी प्रकार LHLA, PLIX से संबंधित है। समान तर्क का अनुसरण करते हुए, TPFU निम्नलिखित में से किससे संबंधित है?

Ans 1. XTGR

2. YUBQ

3. YTDS

4. WSCQ

Question Type : MCQ

Question ID : 630680528968

Option 1 ID : 6306802067862

Option 2 ID : 6306802067863

Option 3 ID : 6306802067860

Option 4 ID : 6306802067861

Status : Answered

Chosen Option : 1

Q.16 एक निश्चित तर्क के अनुसार 18, 74 से संबंधित है। उसी तर्क के अनुसार 22, 90 से संबंधित है। उसी तर्क के अनुसार 25, निम्नलिखित में से किससे संबंधित है?

(ध्यान दें: संख्याओं को उनके घटक अंकों में अलग-अलग किए बिना पूर्ण संख्याओं पर संक्रियाएं की जानी चाहिए। उदाहरण के लिए संख्या 13 - संख्या 13 पर संक्रियाएं जैसे 13 को जोड़ना/घटाना/गुणा करना आदि किया जा सकता है। 13 को 1 और 3 में अलग-अलग करने की और फिर 1 और 3 पर गणितीय संक्रियाएं करने की अनुमति नहीं है।)

Ans 1. 100

2. 102

3. 104

4. 106

Question Type : MCQ

Question ID : 6306801027567

Option 1 ID : 6306804032958

Option 2 ID : 6306804032957

Option 3 ID : 6306804032959

Option 4 ID : 6306804032960

Status : Answered

Chosen Option : 2

Q.17 एक निश्चित तर्क का अनुसरण करते हुए 21, 189 से संबंधित है। उसी तर्क का अनुसरण करते हुए 35, 315 से संबंधित है। समान तर्क का अनुसरण करते हुए 43 निम्नलिखित में से किससे संबंधित है?

(ध्यान दें: संख्याओं को उनके घटक अंकों में अलग-अलग किए बिना पूर्ण संख्याओं पर संक्रियाएं की जानी चाहिए। उदाहरण के लिए संख्या 13 - संख्या 13 पर संक्रियाएं जैसे 13 को जोड़ना/घटाना/गुणा करना आदि किया जा सकता है। 13 को 1 और 3 में अलग-अलग करने की और फिर 1 और 3 पर गणितीय संक्रियाएं करने की अनुमति नहीं है।)

- Ans
- 1. 385
 - 2. 395
 - 3. 397
 - 4. 387

Question Type : MCQ

Question ID : 630680441694

Option 1 ID : 6306801724390

Option 2 ID : 6306801724392

Option 3 ID : 6306801724393

Option 4 ID : 6306801724391

Status : Answered

Chosen Option : 4

Q.18 एक निश्चित कूट भाषा में, 'FOIL' को '1974' के रूप में कूटबद्ध किया जाता है और 'LIFE' को '7291' के रूप में कूटबद्ध किया जाता है। उसी कूट भाषा में 'E' का कूट क्या होगा?

- Ans
- 1. 2
 - 2. 9
 - 3. 7
 - 4. 1

Question Type : MCQ

Question ID : 630680503086

Option 1 ID : 6306801965930

Option 2 ID : 6306801965931

Option 3 ID : 6306801965929

Option 4 ID : 6306801965932

Status : Answered

Chosen Option : 1

Q.19 यदि '+' और 'x' को आपस में बदल दिया जाए तथा '-' और '÷' को आपस में बदल दिया जाए, तो निम्नलिखित समीकरण में '?' के स्थान पर क्या आएगा?
 $5 + 625 - 25 \times 75 \div 65 = ?$

- Ans
- 1. 135
 - 2. 165
 - 3. 125
 - 4. 145

Question Type : MCQ

Question ID : 630680383270

Option 1 ID : 6306801493981

Option 2 ID : 6306801493979

Option 3 ID : 6306801493980

Option 4 ID : 6306801493982

Status : Answered

Chosen Option : 1

Q.20 एक निश्चित कूट भाषा में 'PAID' को '3195' के रूप में कूटबद्ध किया जाता है और 'GRAB' को '2346' के रूप में कूटबद्ध किया जाता है। दी गई कूट भाषा में 'A' के लिए कूट क्या है?

- Ans
- 1. 1
 - 2. 4
 - 3. 3
 - 4. 2

Question Type : MCQ
Question ID : 630680435931
Option 1 ID : 6306801701674
Option 2 ID : 6306801701676
Option 3 ID : 6306801701673
Option 4 ID : 6306801701675
Status : Answered
Chosen Option : 3

Section : General Awareness

Q.1 संविधान (इक्यानवेवां संशोधन) अधिनियम, 2003 के अनुसार, प्रधानमंत्री सहित मंत्रियों की कुल संख्या _____ से अधिक नहीं होगी।

- Ans
- 1. लोकसभा के सदस्यों की कुल संख्या के 15%
 - 2. लोकसभा के सदस्यों की कुल संख्या के 25%
 - 3. लोकसभा के सदस्यों की कुल संख्या के 20%
 - 4. लोकसभा के सदस्यों की कुल संख्या के 10%

Question Type : MCQ
Question ID : 630680465538
Option 1 ID : 6306801818190
Option 2 ID : 6306801818189
Option 3 ID : 6306801818188
Option 4 ID : 6306801818187
Status : Answered
Chosen Option : 1

Q.2 1992 में किस संस्था ने स्वयं सहायता समूह-बैंक लिंकेज कार्यक्रम (Self Help Group – Bank Linkage Programme) शुरू किया?

- Ans
- 1. एसबीआई
 - 2. सेबी
 - 3. आरबीआई
 - 4. नाबार्ड

Question Type : MCQ
Question ID : 630680302528
Option 1 ID : 6306801176783
Option 2 ID : 6306801176785
Option 3 ID : 6306801176782
Option 4 ID : 6306801176784
Status : Answered
Chosen Option : 4

Q.3 गुआ (Gua) तथा नोमुंडी (Noamundi) लौह अयस्क खदानें किस राज्य में स्थित हैं?

- Ans 1. कर्नाटक
 2. झारखंड
 3. महाराष्ट्र
 4. छत्तीसगढ़

Question Type : MCQ

Question ID : 630680484497

Option 1 ID : 6306801892305

Option 2 ID : 6306801892302

Option 3 ID : 6306801892304

Option 4 ID : 6306801892303

Status : Answered

Chosen Option : 4

Q.4 एक मेट्रो स्टेशन में देखा गया कि प्रति मिनट औसतन 20 लोग 15 मीटर की ऊँचाई तक पहुंचने के लिए चलती सीढ़ी (एस्केलेटर) का उपयोग कर रहे थे। यदि लोगों का औसत द्रव्यमान 50 kg और गुरुत्वीय त्वरण 10 m/s^2 माना जाए तो एस्केलेटर की शक्ति (power) की गणना कीजिए।

- Ans 1. 1.25 kW
 2. 150 kW
 3. 2.5 kW
 4. 15 kW

Question Type : MCQ

Question ID : 630680419684

Option 1 ID : 6306801637234

Option 2 ID : 6306801637235

Option 3 ID : 6306801637233

Option 4 ID : 6306801637236

Status : Answered

Chosen Option : 1

Q.5 वेदों के संदर्भ में निम्नलिखित कथनों पर विचार कीजिए।

- वेदों को श्रुति कहा जाता है।
- ऋग्वेद में दस मंडल (Mandalas) हैं।

ऊपर दिए गए कथनों में से कौन-सा/कौन-से सही है/हैं?

- Ans 1. 1 और 2 दोनों
 2. केवल 1
 3. केवल 2
 4. न तो 1 और न ही 2

Question Type : MCQ

Question ID : 630680176067

Option 1 ID : 630680682514

Option 2 ID : 630680682512

Option 3 ID : 630680682513

Option 4 ID : 630680682515

Status : Answered

Chosen Option : 1

Q.6 भारत का निम्नलिखित में से कौन-सा शहर स्टील सिटी (Steel City) के नाम से भी जाना जाता है?

- Ans
- 1. पटना
 - 2. रांची
 - 3. जमशेदपुर
 - 4. मुंबई

Question Type : MCQ
Question ID : 630680511304
Option 1 ID : 6306801998347
Option 2 ID : 6306801998348
Option 3 ID : 6306801998349
Option 4 ID : 6306801998346
Status : Answered
Chosen Option : 3

Q.7 कृष्ण प्रथम द्वारा निर्मित शैलकृत (रॉक-कट) शिव मंदिर निम्नलिखित में से किस स्थान पर है?

- Ans
- 1. कन्नौज
 - 2. एलोरा
 - 3. मान्यखेत
 - 4. महाबलीपुरम

Question Type : MCQ
Question ID : 630680309302
Option 1 ID : 6306801203367
Option 2 ID : 6306801203366
Option 3 ID : 6306801203365
Option 4 ID : 6306801203368
Status : Answered
Chosen Option : 2

Q.8 धोलावीरा (Dholavira) में, निर्माण सामग्री (building material) के रूप में निम्नलिखित में से किस सामग्री का बड़े पैमाने पर उपयोग किया गया है?

- Ans
- 1. ईंट
 - 2. ग्रेनाइट
 - 3. पत्थर
 - 4. सीमेंट

Question Type : MCQ
Question ID : 630680592837
Option 1 ID : 6306802319642
Option 2 ID : 6306802319640
Option 3 ID : 6306802319643
Option 4 ID : 6306802319641
Status : Answered
Chosen Option : 3

Q.9 निम्नलिखित में से कौन-सी सरकारी पहल भारत में युवाओं के बीच खुली बेरोजगारी (open unemployment) को कम करने के लिए कौशल विकास पर केंद्रित है?

- Ans
- 1. पीएम कुसुम
 - 2. स्वच्छ भारत अभियान
 - 3. महात्मा गांधी राष्ट्रीय ग्रामीण रोजगार गारंटी अधिनियम (MGNREGA)
 - 4. प्रधानमंत्री कौशल विकास योजना (PMKVY)

Question Type : MCQ

Question ID : 630680711124

Option 1 ID : 6306802786155

Option 2 ID : 6306802786153

Option 3 ID : 6306802786152

Option 4 ID : 6306802786154

Status : Answered

Chosen Option : 4

Q.10 निम्नलिखित में से किस राज्य में बाबरा के नीलकंठ महादेव मंदिर परिसर में हर वर्ष भादरवी पूनम मेला (Bhadaravi Poonam Mela) आयोजित किया जाता है?

- Ans
- 1. राजस्थान
 - 2. गुजरात
 - 3. उत्तराखंड
 - 4. हिमाचल प्रदेश

Question Type : MCQ

Question ID : 630680403362

Option 1 ID : 6306801572958

Option 2 ID : 6306801572959

Option 3 ID : 6306801572960

Option 4 ID : 6306801572961

Status : Answered

Chosen Option : 3

Q.11 भारत के संविधान के किस अनुच्छेद में एक ही व्यक्ति को दो या दो से अधिक राज्यों के लिए राज्यपाल नियुक्त करने का प्रावधान है?

- Ans
- 1. अनुच्छेद 153
 - 2. अनुच्छेद 158(2)
 - 3. अनुच्छेद 158
 - 4. अनुच्छेद 157

Question Type : MCQ

Question ID : 630680303641

Option 1 ID : 6306801181133

Option 2 ID : 6306801181136

Option 3 ID : 6306801181135

Option 4 ID : 6306801181134

Status : Answered

Chosen Option : 2

Q.12 निम्नलिखित में से किस शास्त्रीय नृत्य शैली में कलाकारों के चेहरों को उनके द्वारा निभाए जा रहे चरित्र के प्रकार के प्रतीक के रूप में रंगा जाता है?

Ans 1. कथकली

2. ओडिसी

3. भरतनाट्यम

4. कथक

Question Type : MCQ

Question ID : 630680465720

Option 1 ID : 6306801818916

Option 2 ID : 6306801818917

Option 3 ID : 6306801818918

Option 4 ID : 6306801818915

Status : Answered

Chosen Option : 3

Q.13 2022-23 सीज़न तक पश्चिम बंगाल ने संतोष ट्रॉफी स्पर्धाओं में कितने खिताब जीते?

Ans 1. 29

2. 30

3. 15

4. 32

Question Type : MCQ

Question ID : 630680571113

Option 1 ID : 6306802233504

Option 2 ID : 6306802233507

Option 3 ID : 6306802233505

Option 4 ID : 6306802233506

Status : Answered

Chosen Option : 3

Q.14 संतरे और नींबू जैसे खट्टे फलों (citrus fruits) में पाया जाने वाला प्राथमिक अम्ल कौन-सा है?

Ans 1. सिट्रिक अम्ल (Citric acid)

2. लैक्टिक अम्ल (Lactic acid)

3. एसिटिक अम्ल (Acetic acid)

4. टार्टरिक अम्ल (Tartaric acid)

Question Type : MCQ

Question ID : 630680540604

Option 1 ID : 6306802113492

Option 2 ID : 6306802113494

Option 3 ID : 6306802113491

Option 4 ID : 6306802113493

Status : Answered

Chosen Option : 1

Q.15 भारतीय शास्त्रीय संगीतकार, उस्ताद राशिद खान को निम्नलिखित में से किस संगीत श्रेणी में उनके योगदान के लिए 2022 में पद्म भूषण से सम्मानित किया गया था?

- Ans
- 1. लोक संगीत
 - 2. कर्नाटक संगीत
 - 3. कव्वाली
 - 4. हिंदुस्तानी शास्त्रीय संगीत

Question Type : MCQ
Question ID : 630680488688
Option 1 ID : 6306801908768
Option 2 ID : 6306801908770
Option 3 ID : 6306801908769
Option 4 ID : 6306801908767
Status : Answered
Chosen Option : 3

Q.16 भारतीय संविधान में समवर्ती सूची की अवधारणा _____ के संविधान से ली गई है।

- Ans
- 1. ऑस्ट्रेलिया (Australia)
 - 2. रूस (Russia)
 - 3. यूएसए (USA)
 - 4. ब्रिटेन (Britain)

Question Type : MCQ
Question ID : 630680547952
Option 1 ID : 6306802142355
Option 2 ID : 6306802142357
Option 3 ID : 6306802142356
Option 4 ID : 6306802142358
Status : Answered
Chosen Option : 1

Q.17 भारत की जलवायु विविधता इसकी विशिष्टता से पहचानी जाती है, और निम्नलिखित कारकों में से एक जो इसमें योगदान नहीं देता है वह _____ है।

- Ans
- 1. भौगोलिक स्थिति (topography)
 - 2. अनुदैर्घ्य विस्तार (longitudinal extent)
 - 3. वनस्पति (vegetation)
 - 4. अक्षांशीय विस्तार (latitudinal extent)

Question Type : MCQ
Question ID : 630680517199
Option 1 ID : 6306802021193
Option 2 ID : 6306802021195
Option 3 ID : 6306802021192
Option 4 ID : 6306802021194
Status : Answered
Chosen Option : 2

Q.18 भारत ने आई.सी.सी. टी20 (ICC T20) पुरुष क्रिकेट विश्वकप किस वर्ष जीता था?

- Ans
- 1. 2010
 - 2. 2009
 - 3. 2012
 - 4. 2007

Question Type : MCQ

Question ID : 630680112156

Option 1 ID : 630680434352

Option 2 ID : 630680434351

Option 3 ID : 630680434353

Option 4 ID : 630680434350

Status : Answered

Chosen Option : 4

Q.19 नवंबर 2023 में दिल्ली कैट में स्थित सशस्त्र बलों के सबसे बड़े रक्त संचार केंद्र, सशस्त्र बल ट्रांसफ्यूजन सेंटर (Armed Forces Transfusion Centre) की कमान संभालने वाली पहली महिला कौन बनी?

- Ans
- 1. मेजर अंजलि भागवत
 - 2. कर्नल सुनीता बीएस
 - 3. लेफ्टिनेंट कर्नल पूजा ठाकुर
 - 4. कर्नल शालिजा शर्मा

Question Type : MCQ

Question ID : 630680488569

Option 1 ID : 6306801908306

Option 2 ID : 6306801908303

Option 3 ID : 6306801908304

Option 4 ID : 6306801908305

Status : Answered

Chosen Option : 4

Q.20 निम्नलिखित में से कौन 'भूदान आंदोलन (Bhoodan Movement)' का मार्ग दर्शक था?

- Ans
- 1. आचार्य विनोबा भावे
 - 2. भीमराव अम्बेडकर
 - 3. जवाहर लाल नेहरू
 - 4. वल्लभ भाई पटेल

Question Type : MCQ

Question ID : 630680305322

Option 1 ID : 6306801187678

Option 2 ID : 6306801187680

Option 3 ID : 6306801187677

Option 4 ID : 6306801187679

Status : Answered

Chosen Option : 1

Q.21 वैश्विक भुखमरी सूचकांक (Global Hunger Index - GHI) 2023 में श्रीलंका कौन-से स्थान पर है?

Ans 1. 60

2. 69

3. 95

4. 80

Question Type : MCQ

Question ID : 630680477685

Option 1 ID : 6306801865888

Option 2 ID : 6306801865889

Option 3 ID : 6306801865891

Option 4 ID : 6306801865890

Status : Answered

Chosen Option : 4

Q.22 निम्नलिखित में से किस गवर्नर-जनरल ने 'सती' प्रथा को अवैध घोषित किया?

Ans 1. लॉर्ड लिटन

2. लॉर्ड कैनिंग

3. लॉर्ड विलियम बेंटिक

4. लॉर्ड डलहौजी

Question Type : MCQ

Question ID : 630680484045

Option 1 ID : 6306801890541

Option 2 ID : 6306801890540

Option 3 ID : 6306801890538

Option 4 ID : 6306801890539

Status : Answered

Chosen Option : 3

Q.23 अनीता देसाई द्वारा लिखित अंग्रेजी उपन्यास 'इन कस्टडी (In Custody)' में निम्नलिखित में से किस काल्पनिक शहर का उल्लेख है?

Ans 1. कंथापुर (Kanthapura)

2. लिलिपुट (Lilliput)

3. मिरपोर (Mirpore)

4. मालगुडी (Malgudi)

Question Type : MCQ

Question ID : 630680512098

Option 1 ID : 6306802001364

Option 2 ID : 6306802001365

Option 3 ID : 6306802001363

Option 4 ID : 6306802001362

Status : Answered

Chosen Option : 4

Q.24 संगीत नाटक अकादमी द्वारा संगीत, नृत्य और रंगमंच के क्षेत्र में प्रतिभा का प्रदर्शन करने वाले 40 वर्ष से कम आयु के उत्कृष्ट कलाकारों को दिया जाने वाला पुरस्कार उस्ताद बिस्मिल्लाह खान युवा पुरस्कार कब शुरू किया गया था?

- Ans 1. 2008
 2. 2002
 3. 2010
 4. 2006

Question Type : MCQ

Question ID : 630680114141

Option 1 ID : 630680441968

Option 2 ID : 630680441966

Option 3 ID : 630680441969

Option 4 ID : 630680441967

Status : Answered

Chosen Option : 2

Q.25 चपटे कृमियों (flatworms) के उत्सर्जन तंत्र में उपस्थित वह एक विशेष कोशिका कौन-सी है, जो उन्हें अपशिष्ट पदार्थों को बाहर निकालने में सहायता करती है?

- Ans 1. दंशकोरक कोशिका (cnidoblast cell)
 2. पथ कोशिका (passage cell)
 3. लैसिस कोशिका (lacin cell)
 4. ज्वाला कोशिका (flame cell)

Question Type : MCQ

Question ID : 630680311099

Option 1 ID : 6306801210511

Option 2 ID : 6306801210512

Option 3 ID : 6306801210510

Option 4 ID : 6306801210509

Status : Answered

Chosen Option : 3

Section : English Language and Comprehension

Q.1 Select the word segment from the given options that substitutes the highlighted word segment correctly and completes the sentence meaningfully: -

Each of the participants were given a certificate.

- Ans 1. was given
 2. are given
 3. have given
 4. have been given

Question Type : MCQ

Question ID : 630680564288

Option 1 ID : 6306802206110

Option 2 ID : 6306802206108

Option 3 ID : 6306802206107

Option 4 ID : 6306802206109

Status : Answered

Chosen Option : 1

Q.2 Select the word that has the same meaning (SYNONYM) as the underlined word in the given sentence.

Almost as wide as he was tall, he had a voracious appetite for food and drink and a rollicking personality to match.

- Ans
- 1. vehement
 - 2. venerable
 - 3. insatiable
 - 4. imminent

Question Type : **MCQ**
Question ID : **630680436146**
Option 1 ID : **6306801702525**
Option 2 ID : **6306801702526**
Option 3 ID : **6306801702528**
Option 4 ID : **6306801702527**
Status : **Answered**
Chosen Option : **3**

Q.3 The following sentence contains an error. Select the option that correctly rectifies the error.

If I was a king, I would have tried my best to remove poverty from my country.

- Ans
- 1. on my country
 - 2. my best by remove poverty
 - 3. If I were a king,
 - 4. I would has tried

Question Type : **MCQ**
Question ID : **63068087103**
Option 1 ID : **630680337804**
Option 2 ID : **630680337803**
Option 3 ID : **630680337801**
Option 4 ID : **630680337802**
Status : **Answered**
Chosen Option : **3**

Q.4 Select the most appropriate meaning of the underlined word in the given sentence.
Urban people have a bombastic lifestyle, which is very different from those of rural folks.

- Ans
- 1. Common
 - 2. Delusive
 - 3. Pretentious
 - 4. Hollow

Question Type : **MCQ**
Question ID : **630680402710**
Option 1 ID : **6306801570441**
Option 2 ID : **6306801570443**
Option 3 ID : **6306801570442**
Option 4 ID : **6306801570444**
Status : **Answered**
Chosen Option : **4**

Q.5 Select the INCORRECTLY spelt word..

- Ans
- 1. Immigration
 - 2. Appearance
 - 3. Astronaut
 - 4. Oppertunity

Question Type : MCQ
Question ID : 630680718800
Option 1 ID : 6306802816707
Option 2 ID : 6306802816706
Option 3 ID : 6306802816709
Option 4 ID : 6306802816708
Status : Answered
Chosen Option : 1

Q.6 Select the most appropriate option that can substitute the underlined segment in the given sentence.

The blanket gifted by my granny is softer and cozy.

- Ans
- 1. softly
 - 2. softest
 - 3. soft
 - 4. more soft

Question Type : MCQ
Question ID : 630680514603
Option 1 ID : 6306802011039
Option 2 ID : 6306802011038
Option 3 ID : 6306802011037
Option 4 ID : 6306802011040
Status : Answered
Chosen Option : 3

Q.7 Select the most appropriate option to fill in the blank.

By next summer, they will be _____ their house.

- Ans
- 1. renovating
 - 2. renovates
 - 3. renovated
 - 4. renovate

Question Type : MCQ
Question ID : 630680754488
Option 1 ID : 6306802957150
Option 2 ID : 6306802957152
Option 3 ID : 6306802957153
Option 4 ID : 6306802957151
Status : Answered
Chosen Option : 1

Q.8 The given sentence has an error. Select the option that rectifies the error.

The students were asked to turn up their assignments by Friday.

- Ans
- 1. asked turn up their assignments
 - 2. The students asked to
 - 3. turn in their assignments
 - 4. their assignment by Friday

Question Type : MCQ
Question ID : 630680540003
Option 1 ID : 6306802111115
Option 2 ID : 6306802111112
Option 3 ID : 6306802111113
Option 4 ID : 6306802111114
Status : Answered
Chosen Option : 4

Q.9 The following sentence has been split into four segments. Identify the segment that contains a grammatical error.

They was / celebrating their / Silver wedding anniversary / next month in Dubai.

- Ans
- 1. Silver wedding anniversary
 - 2. next month in Dubai
 - 3. They was
 - 4. celebrating their

Question Type : MCQ
Question ID : 630680754472
Option 1 ID : 6306802957084
Option 2 ID : 6306802957085
Option 3 ID : 6306802957082
Option 4 ID : 6306802957083
Status : Answered
Chosen Option : 3

Q.10 Select the most appropriate option that can substitute the underlined segment in the given sentence.

The unexpected guest at the party was a bull in a China shop.

- Ans
- 1. leisurely and relaxed
 - 2. careless and damaging
 - 3. careful and compassionate
 - 4. influential and meticulous

Question Type : MCQ
Question ID : 630680530380
Option 1 ID : 6306802073422
Option 2 ID : 6306802073423
Option 3 ID : 6306802073421
Option 4 ID : 6306802073424
Status : Answered
Chosen Option : 2

Q.11 Select the INCORRECTLY spelt word.

- Ans
- 1. Efficient
 - 2. Illustration
 - 3. Occassion
 - 4. Boundary

Question Type : MCQ
Question ID : 630680545327
Option 1 ID : 6306802131970
Option 2 ID : 6306802131968
Option 3 ID : 6306802131967
Option 4 ID : 6306802131969
Status : Answered
Chosen Option : 2

Q.12 Select the most appropriate idiom that can substitute the underlined segment in the given sentence.

The manager decided to disclose a secret and address the issue at the team meeting.

- Ans
- 1. sweep it under the rug
 - 2. hit the nail on the head
 - 3. bury the hatchet
 - 4. spill the beans

Question Type : MCQ
Question ID : 630680540019
Option 1 ID : 6306802111176
Option 2 ID : 6306802111178
Option 3 ID : 6306802111177
Option 4 ID : 6306802111179
Status : Answered
Chosen Option : 3

Q.13 Select the most appropriate meaning of the given idiom.

Out of spirits

- Ans
- 1. Obsolete
 - 2. Hurt
 - 3. Gloomy
 - 4. Cheerful

Question Type : MCQ
Question ID : 630680455761
Option 1 ID : 6306801779996
Option 2 ID : 6306801779994
Option 3 ID : 6306801779995
Option 4 ID : 6306801779993
Status : Answered
Chosen Option : 1

Q.14 Select the most appropriate ANTONYM of the given word.

Captivity

- Ans 1. Authenticity
 2. Entity
 3. Liberty
 4. Ethnicity

Question Type : MCQ

Question ID : 630680460585

Option 1 ID : 6306801798628

Option 2 ID : 6306801798626

Option 3 ID : 6306801798627

Option 4 ID : 6306801798629

Status : Answered

Chosen Option : 4

Q.15 Select the option that rectifies the spelling of the underlined word in the given sentence.

The police informed the statesman that the goons were up to something mischievous.

- Ans 1. mischievous
 2. mischevious
 3. mischeivous
 4. mischevous

Question Type : MCQ

Question ID : 630680799108

Option 1 ID : 6306803131231

Option 2 ID : 6306803131232

Option 3 ID : 6306803131230

Option 4 ID : 6306803131233

Status : Answered

Chosen Option : 2

Q.16 Select the most appropriate synonym of the word 'illuminate' from the given sentence.

The toughest and most typical question in the examination was to elucidate a particular theory related to friction in physics.

- Ans 1. Elucidate
 2. Theory
 3. Particular
 4. Typical

Question Type : MCQ

Question ID : 630680726535

Option 1 ID : 6306802847146

Option 2 ID : 6306802847148

Option 3 ID : 6306802847147

Option 4 ID : 6306802847149

Status : Answered

Chosen Option : 1

Q.17 Select the most appropriate option to fill in the blank.

She treats her juniors _____ contempt.

- Ans
- 1. by
 - 2. in
 - 3. for
 - 4. with

Question Type : MCQ

Question ID : 630680515315

Option 1 ID : 6306802013709

Option 2 ID : 6306802013711

Option 3 ID : 6306802013710

Option 4 ID : 6306802013712

Status : Answered

Chosen Option : 4

Q.18 Select the most appropriate option that can substitute the underlined segment in the given sentence. If there is no need to substitute it, select 'No substitution required'.

Everyone in the room was in a jolly and relaxed mood.

- Ans
- 1. No substitution required
 - 2. jollier
 - 3. most jolly
 - 4. more jollier

Question Type : MCQ

Question ID : 630680514602

Option 1 ID : 6306802011036

Option 2 ID : 6306802011033

Option 3 ID : 6306802011034

Option 4 ID : 6306802011035

Status : Answered

Chosen Option : 2

Q.19 Select the most appropriate ANTONYM of the given word.
Chaotic

- Ans
- 1. Obscure
 - 2. Dressed
 - 3. Systematic
 - 4. Confused

Question Type : MCQ

Question ID : 630680549419

Option 1 ID : 6306802148128

Option 2 ID : 6306802148125

Option 3 ID : 6306802148127

Option 4 ID : 6306802148126

Status : Answered

Chosen Option : 1

Q.20 Select the most appropriate idiom that can substitute the underlined segment in the given sentence.

The new employee is really trying to fit in, but sometimes he feels out of place and uncomfortable.

- Ans
- 1. a needle in a haystack
 - 2. a fish out of water
 - 3. a diamond in the rough
 - 4. a bird of a feather

Question Type : **MCQ**

Question ID : **630680540021**

Option 1 ID : **6306802111186**

Option 2 ID : **6306802111187**

Option 3 ID : **6306802111185**

Option 4 ID : **6306802111184**

Status : **Answered**

Chosen Option : **2**

Comprehension:

In the following passage, some words have been deleted. Read the passage carefully and select the most appropriate option to fill in each blank.

In recent years, the central and state governments in India have been taking special steps to __1__ foreign companies to invest in India. Industrial zones, called Special Economic Zones (SEZs), are being __2__. SEZs have world-class facilities, including electricity, water, roads, transport, storage, recreational, and educational facilities. Companies that set up production units in the SEZs do not have to pay taxes for an initial period of five years. The government has also __3__ flexibility in the labour laws to attract foreign investment. In recent years, the government has allowed companies to __4__ many of these provisions. Instead of hiring workers on a regular basis, companies hire workers 'flexibly' for short periods when there is __5__ pressure of work. This is done to reduce the cost of labour for the company. However, some foreign companies are not satisfied, and they are demanding more in labour laws, citing the need for greater operational efficiency.

SubQuestion No : 21

Q.21 Select the most appropriate option to fill in blank number 1.

- Ans
- 1. deplore
 - 2. attract
 - 3. fulfil
 - 4. abhor

Question Type : **MCQ**

Question ID : **630680557077**

Option 1 ID : **6306802177263**

Option 2 ID : **6306802177265**

Option 3 ID : **6306802177264**

Option 4 ID : **6306802177266**

Status : **Answered**

Chosen Option : **2**

Comprehension:

In the following passage, some words have been deleted. Read the passage carefully and select the most appropriate option to fill in each blank.

In recent years, the central and state governments in India have been taking special steps to __1__ foreign companies to invest in India. Industrial zones, called Special Economic Zones (SEZs), are being __2__. SEZs have world-class facilities, including electricity, water, roads, transport, storage, recreational, and educational facilities. Companies that set up production units in the SEZs do not have to pay taxes for an initial period of five years. The government has also __3__ flexibility in the labour laws to attract foreign investment. In recent years, the government has allowed companies to __4__ many of these provisions. Instead of hiring workers on a regular basis, companies hire workers 'flexibly' for short periods when there is __5__ pressure of work. This is done to reduce the cost of labour for the company. However, some foreign companies are not satisfied, and they are demanding more in labour laws, citing the need for greater operational efficiency.

SubQuestion No : 22

Q.22 Select the most appropriate option to fill in blank number 2.

- Ans** 1. set up
 2. wound up
 3. dismantled
 4. obeyed

Question Type : **MCQ**

Question ID : **630680557078**

Option 1 ID : **6306802177268**

Option 2 ID : **6306802177267**

Option 3 ID : **6306802177270**

Option 4 ID : **6306802177269**

Status : **Answered**

Chosen Option : **1**

Comprehension:

In the following passage, some words have been deleted. Read the passage carefully and select the most appropriate option to fill in each blank.

In recent years, the central and state governments in India have been taking special steps to __1__ foreign companies to invest in India. Industrial zones, called Special Economic Zones (SEZs), are being __2__. SEZs have world-class facilities, including electricity, water, roads, transport, storage, recreational, and educational facilities. Companies that set up production units in the SEZs do not have to pay taxes for an initial period of five years. The government has also __3__ flexibility in the labour laws to attract foreign investment. In recent years, the government has allowed companies to __4__ many of these provisions. Instead of hiring workers on a regular basis, companies hire workers 'flexibly' for short periods when there is __5__ pressure of work. This is done to reduce the cost of labour for the company. However, some foreign companies are not satisfied, and they are demanding more in labour laws, citing the need for greater operational efficiency.

SubQuestion No : 23

Q.23 Select the most appropriate option to fill in blank number 3.

Ans ✓ 1. allowed

✗ 2. invited

✗ 3. winked

✗ 4. suffered

Question Type : **MCQ**

Question ID : **630680557079**

Option 1 ID : **6306802177271**

Option 2 ID : **6306802177272**

Option 3 ID : **6306802177273**

Option 4 ID : **6306802177274**

Status : **Answered**

Chosen Option : **1**

Comprehension:

In the following passage, some words have been deleted. Read the passage carefully and select the most appropriate option to fill in each blank.

In recent years, the central and state governments in India have been taking special steps to __1__ foreign companies to invest in India. Industrial zones, called Special Economic Zones (SEZs), are being __2__. SEZs have world-class facilities, including electricity, water, roads, transport, storage, recreational, and educational facilities. Companies that set up production units in the SEZs do not have to pay taxes for an initial period of five years. The government has also __3__ flexibility in the labour laws to attract foreign investment. In recent years, the government has allowed companies to __4__ many of these provisions. Instead of hiring workers on a regular basis, companies hire workers 'flexibly' for short periods when there is __5__ pressure of work. This is done to reduce the cost of labour for the company. However, some foreign companies are not satisfied, and they are demanding more in labour laws, citing the need for greater operational efficiency.

SubQuestion No : 24

Q.24 Select the most appropriate option to fill in blank number 4.

- Ans 1. ignore
 2. flounder
 3. effect
 4. distort

Question Type : **MCQ**

Question ID : **630680557080**

Option 1 ID : **6306802177276**

Option 2 ID : **6306802177277**

Option 3 ID : **6306802177278**

Option 4 ID : **6306802177275**

Status : **Answered**

Chosen Option : **4**

Comprehension:

In the following passage, some words have been deleted. Read the passage carefully and select the most appropriate option to fill in each blank.

In recent years, the central and state governments in India have been taking special steps to __1__ foreign companies to invest in India. Industrial zones, called Special Economic Zones (SEZs), are being __2__. SEZs have world-class facilities, including electricity, water, roads, transport, storage, recreational, and educational facilities. Companies that set up production units in the SEZs do not have to pay taxes for an initial period of five years. The government has also __3__ flexibility in the labour laws to attract foreign investment. In recent years, the government has allowed companies to __4__ many of these provisions. Instead of hiring workers on a regular basis, companies hire workers 'flexibly' for short periods when there is __5__ pressure of work. This is done to reduce the cost of labour for the company. However, some foreign companies are not satisfied, and they are demanding more in labour laws, citing the need for greater operational efficiency.

SubQuestion No : 25

Q.25 Select the most appropriate option to fill in blank number 5.

- Ans
- 1. mechanical
 - 2. artificial
 - 3. inadequate
 - 4. intense

Question Type : **MCQ**

Question ID : **630680557081**

Option 1 ID : **6306802177279**

Option 2 ID : **6306802177282**

Option 3 ID : **6306802177280**

Option 4 ID : **6306802177281**

Status : **Answered**

Chosen Option : **4**