

Multi Tasking Non Technical Staff and Havaladar CBIC and CBN Examination 2024

Roll Number	
Candidate Name	
Venue Name	i-Tech Zone
Exam Date	22/10/2024
Exam Time	4:00 PM - 5:30 PM
Subject	MTS Non Tech Havaladar CBIC and CBN Examination 2024

Section : Numerical and Mathematical Ability

Q.1 6 वर्षों के लिए 5% प्रति वर्ष की ब्याज दर पर उधार ली गई राशि ₹3500 पर साधारण ब्याज (₹ में) ज्ञात कीजिए।

- Ans
- 1. 1090
 - 2. 990
 - 3. 1050
 - 4. 1010

Question Type : **MCQ**

Question ID : **630680591972**

Option 1 ID : **6306802316356**

Option 2 ID : **6306802316357**

Option 3 ID : **6306802316355**

Option 4 ID : **6306802316358**

Status : **Answered**

Chosen Option : **3**

Q.2 एक दुकानदार 6 शर्ट खरीदने पर 4 शर्ट मुफ्त देता है। ग्राहकों को दी गई छूट का प्रतिशत ज्ञात कीजिए।

- Ans
- 1. 20%
 - 2. 30%
 - 3. 40%
 - 4. 10%

Question Type : **MCQ**

Question ID : **630680629703**

Option 1 ID : **6306802464707**

Option 2 ID : **6306802464708**

Option 3 ID : **6306802464709**

Option 4 ID : **6306802464706**

Status : **Answered**

Chosen Option : **3**

Q.3 कुछ टेबल लैपों का क्रय मूल्य ₹25,000 है। यदि एक दुकानदार इन टेबल लैपों को ₹900 प्रति लैप के बजाय ₹1,200 प्रति लैप की दर से बेचता है, तो उसे ₹15,000 अधिक प्राप्त होते हैं। यदि वह 21% लाभ अर्जित करता है तो 23 टेबल लैपों का विक्रय मूल्य ज्ञात कीजिए।

- Ans
- 1. ₹12,585
 - 2. ₹13,915
 - 3. ₹14,917
 - 4. ₹12,919

Question Type : MCQ

Question ID : 630680472194

Option 1 ID : 6306801844496

Option 2 ID : 6306801844495

Option 3 ID : 6306801844497

Option 4 ID : 6306801844498

Status : Answered

Chosen Option : 2

Q.4 रवि 1680 मीटर परिधि वाले एक वृत्ताकार ट्रैक पर चलता है। यदि रवि की चाल 140 मीटर/मिनट है, तो उसे एक चक्कर पूरा करने में कितना समय लगेगा?

- Ans
- 1. 14 मिनट
 - 2. 10 मिनट
 - 3. 12 मिनट
 - 4. 8 मिनट

Question Type : MCQ

Question ID : 63068078454

Option 1 ID : 630680303880

Option 2 ID : 630680303878

Option 3 ID : 630680303879

Option 4 ID : 630680303877

Status : Answered

Chosen Option : 3

Q.5 5 के प्रथम 15 गुणजों (multiples) का औसत ज्ञात कीजिए।

- Ans
- 1. 40
 - 2. 35
 - 3. 45
 - 4. 30

Question Type : MCQ

Question ID : 630680466644

Option 1 ID : 6306801822558

Option 2 ID : 6306801822557

Option 3 ID : 6306801822559

Option 4 ID : 6306801822556

Status : Answered

Chosen Option : 1

Q.6 यदि $a = 2$ है, तो $4a + 7$, $11a + 3$ और $6a$ का चतुर्थानुपाती ज्ञात कीजिए।

Ans 1. 20

2. 15

3. 30

4. 25

Question Type : **MCQ**

Question ID : **630680239508**

Option 1 ID : **630680928984**

Option 2 ID : **630680928983**

Option 3 ID : **630680928986**

Option 4 ID : **630680928985**

Status : **Answered**

Chosen Option : 1

Q.7 30 cm ऊँचाई और 10 cm आधार त्रिज्या वाले एक ठोस धातु के शंकु को पिघलाकर एक ठोस गोला बनाया जाता है। गोले की त्रिज्या (cm में) ज्ञात कीजिए।

Ans 1. $5\sqrt{6}$

2. $6\sqrt[3]{5}$

3. $6\sqrt{5}$

4. $5\sqrt[3]{6}$

Question Type : **MCQ**

Question ID : **630680385444**

Option 1 ID : **6306801502591**

Option 2 ID : **6306801502593**

Option 3 ID : **6306801502590**

Option 4 ID : **6306801502592**

Status : **Answered**

Chosen Option : 4

Q.8

यदि किसी वस्तु का क्रय मूल्य, उसके विक्रय मूल्य का 70.5% है, तो लाभ प्रतिशत (दशमलव के 1 स्थान तक पूर्णांकित) कितना होगा?

- Ans
- 1. 39.5%
 - 2. 41.8%
 - 3. 51.6%
 - 4. 42.7%

Question Type : MCQ

Question ID : 630680471361

Option 1 ID : 6306801841169

Option 2 ID : 6306801841166

Option 3 ID : 6306801841167

Option 4 ID : 6306801841168

Status : Answered

Chosen Option : 2

Q.9 पहली 7 विषम अभाज्य संख्याओं का माध्य (दो दशमलव स्थानों तक पूर्णांकित मान) क्या है?

- Ans
- 1. 7.91
 - 2. 5.41
 - 3. 8.61
 - 4. 10.71

Question Type : MCQ

Question ID : 630680239448

Option 1 ID : 630680928744

Option 2 ID : 630680928745

Option 3 ID : 630680928743

Option 4 ID : 630680928746

Status : Answered

Chosen Option : 4

Q.10 एक किसान ₹ 60 प्रति kg और ₹ 30 प्रति kg मूल्य की चावल की दो किस्मों को 1 : 2 के अनुपात में मिश्रित करता है। वह 25% का लाभ अर्जित करने के लिए मिश्रण को ₹ 3000 में बेचता है। मिश्रण में ₹ 60 प्रति kg मूल्य वाले चावल की मात्रा ज्ञात कीजिए।

- Ans
- 1. 20 kg
 - 2. 15 kg
 - 3. 22 kg
 - 4. 18 kg

Question Type : MCQ

Question ID : 630680455363

Option 1 ID : 6306801778372

Option 2 ID : 6306801778370

Option 3 ID : 6306801778373

Option 4 ID : 6306801778371

Status : Answered

Chosen Option : 1

Q.11 एक समबाहु त्रिभुज का क्षेत्रफल ज्ञात करें, जिसकी भुजा 16 cm है।

Ans 1. $62\sqrt{3}\text{cm}^2$

2. $68\sqrt{3}\text{cm}^2$

3. $64\sqrt{3}\text{cm}^2$

4. $60\sqrt{3}\text{cm}^2$

Question Type : **MCQ**

Question ID : **630680104376**

Option 1 ID : **630680405712**

Option 2 ID : **630680405714**

Option 3 ID : **630680405713**

Option 4 ID : **630680405711**

Status : **Answered**

Chosen Option : **3**

Q.12 4 वर्षों के लिए 3% वार्षिक की ब्याज दर पर उधार ली गई राशि ₹3500 पर साधारण ब्याज (₹ में) ज्ञात कीजिए।

Ans 1. 360

2. 380

3. 460

4. 420

Question Type : **MCQ**

Question ID : **630680591960**

Option 1 ID : **6306802316309**

Option 2 ID : **6306802316310**

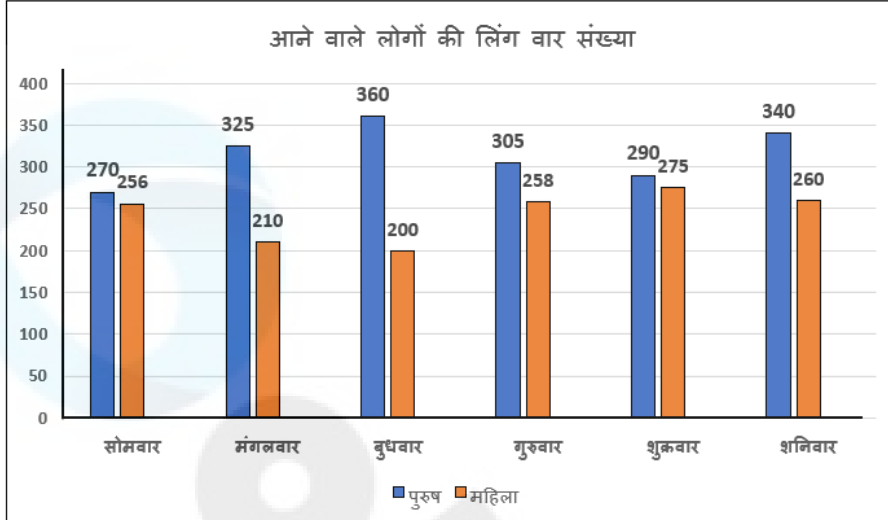
Option 3 ID : **6306802316308**

Option 4 ID : **6306802316307**

Status : **Answered**

Chosen Option : **4**

Q.13 दिया गया बार ग्राफ 6 दिनों के दौरान एक पुस्तकालय में आने वाले लोगों की लिंग-वार संख्या को दर्शाता है।



जिस दिन अधिकतम संख्या में लोग आते हैं, उस दिन आने वाले पुरुषों की संख्या और महिलाओं की संख्या का अनुपात ज्ञात करें।

- Ans
- 1. 65 : 42
 - 2. 17 : 13
 - 3. 58 : 55
 - 4. 9 : 5

Question Type : MCQ

Question ID : 630680415778

Option 1 ID : 6306801621858

Option 2 ID : 6306801621857

Option 3 ID : 6306801621856

Option 4 ID : 6306801621855

Status : Answered

Chosen Option : 2

Q.14 यदि एक अर्धगोले का संपूर्ण पृष्ठीय क्षेत्रफल 1848 m^2 है, तो अर्धगोले का व्यास (m में) ज्ञात करें। ($\pi = \frac{22}{7}$ का प्रयोग करें)

- Ans
- 1. 21
 - 2. 7
 - 3. 14
 - 4. 28

Question Type : MCQ

Question ID : 630680526644

Option 1 ID : 6306802058644

Option 2 ID : 6306802058645

Option 3 ID : 6306802058643

Option 4 ID : 6306802058642

Status : Answered

Chosen Option : 3

Q.15 315 m लंबी एक रेलगाड़ी 54 km/h की चाल से चल रही है। अपने मार्ग पर एक खम्भे को पार करने में उसे कितना समय लगेगा?

- Ans
- 1. 19 s
 - 2. 18 s
 - 3. 20 s
 - 4. 21 s

Question Type : MCQ

Question ID : 630680131218

Option 1 ID : 630680508141

Option 2 ID : 630680508140

Option 3 ID : 630680508139

Option 4 ID : 630680508138

Status : Answered

Chosen Option : 4

Q.16 पूजा ने एक निश्चित धनराशि 12.5 वर्ष के लिए $r\%$ वार्षिक साधारण ब्याज पर एक योजना में निवेश की और निवेश की गई धनराशि के $\frac{3}{4}$ के बराबर ब्याज प्राप्त किया। r का मान ज्ञात करें।

- Ans
- 1. $5\frac{3}{4}$
 - 2. $7\frac{1}{2}$
 - 3. 4
 - 4. 6

Question Type : MCQ

Question ID : 630680423930

Option 1 ID : 6306801654061

Option 2 ID : 6306801654060

Option 3 ID : 6306801654059

Option 4 ID : 6306801654062

Status : Answered

Chosen Option : 4

Q.17 9, 21 और 63 का ल.स.प. (LCM) ज्ञात कीजिए।

- Ans
- 1. 9
 - 2. 3
 - 3. 63
 - 4. 72

Question Type : MCQ

Question ID : 630680105366

Option 1 ID : 630680409537

Option 2 ID : 630680409535

Option 3 ID : 630680409536

Option 4 ID : 630680409538

Status : Answered

Chosen Option : 3

Q.18 16 पात्रों का औसत भार 80 kg है। यदि 8 नए पात्र इसमें शामिल कर लिए जाते हैं, तो नए औसत में 2.5 kg की वृद्धि हो जाती है। 8 नए पात्रों का औसत भार कितना है?

Ans 1. 87.5 kg

2. 87 kg

3. 160 kg

4. 82.5 kg

Question Type : MCQ

Question ID : 630680447395

Option 1 ID : 6306801746834

Option 2 ID : 6306801746833

Option 3 ID : 6306801746836

Option 4 ID : 6306801746835

Status : Answered

Chosen Option : 1

Q.19 दी गई तालिका अप्रैल 2023 महीने के आँकड़ों को दर्शाती है।

कंपनी	कर्मचारियों की कुल संख्या	महिला कर्मचारियों की संख्या
W	16258	7580
X	12350	6950
Y	13090	7850
Z	14780	8590

कंपनी Z में पुरुष कर्मचारियों की संख्या और कंपनी X में पुरुष कर्मचारियों की संख्या के बीच अंतर कितना है?

Ans 1. 820

2. 790

3. 680

4. 975

Question Type : MCQ

Question ID : 630680523770

Option 1 ID : 6306802047233

Option 2 ID : 6306802047232

Option 3 ID : 6306802047231

Option 4 ID : 6306802047234

Status : Answered

Chosen Option : 2

Q.20 A का वेतन 60% बढ़ता है और फिर 30% घटता है। कुल मिलाकर A के वेतन में _____ वृद्धि हुई है।

Ans 1. 48%

2. 30%

3. 12%

4. 72%

Question Type : MCQ

Question ID : 630680464486

Option 1 ID : 6306801813981

Option 2 ID : 6306801813980

Option 3 ID : 6306801813979

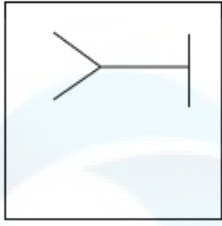
Option 4 ID : 6306801813982

Status : Answered

Chosen Option : 3

Section : Reasoning Ability and Problem Solving

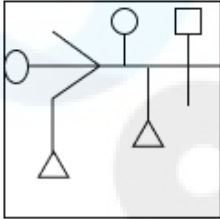
Q.1 उस विकल्प आकृति का चयन कीजिए, जिसमें दी गई आकृति (X) उसके भाग के रूप में सन्निहित है (घुमाने की अनुमति नहीं है)।



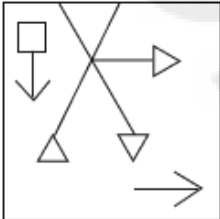
(X)

Ans

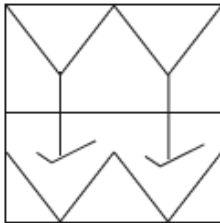
✓ 1.



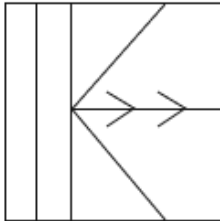
✗ 2.



✗ 3.



✗ 4.



Question Type : MCQ

Question ID : 630680487603

Option 1 ID : 6306801904503

Option 2 ID : 6306801904502

Option 3 ID : 6306801904505

Option 4 ID : 6306801904504

Status : Answered

Chosen Option : 1

Q.2 दिए गए कथनों और निष्कर्षों को ध्यानपूर्वक पढ़िए। यह मानते हुए कि कथनों में दी गई जानकारी सत्य है, भले ही वे सामान्यतः ज्ञात तथ्यों से भिन्न प्रतीत होते हों, तय कीजिए कि दिए गए निष्कर्षों में से कौन-सा/से निष्कर्ष कथनों का तार्किक रूप से अनुसरण करता है/करते हैं।

कथन:

सभी संतरे, सेब हैं।
कुछ सेब, कीवी हैं।

निष्कर्ष:

(I) कुछ संतरे, कीवी नहीं हैं।

(II) सभी सेब, संतरे हैं।

- Ans
- 1. केवल निष्कर्ष II अनुसरण करता है
 - 2. केवल निष्कर्ष I अनुसरण करता है
 - 3. न तो निष्कर्ष I और न ही II अनुसरण करता है
 - 4. निष्कर्ष I और II दोनों अनुसरण करते हैं

Question Type : MCQ

Question ID : 630680419670

Option 1 ID : 6306801637174

Option 2 ID : 6306801637173

Option 3 ID : 6306801637176

Option 4 ID : 6306801637175

Status : Answered

Chosen Option : 3

Q.3 FRNQ अंग्रेजी वर्णमाला क्रम के आधार पर एक निश्चित प्रकार से LXTW से संबंधित है। ठीक उसी प्रकार XJFI, DPLO से संबंधित है। समान तर्क का अनुसरण करते हुए, VHDG निम्नलिखित में से किससे संबंधित है?

- Ans
- 1. BNJM
 - 2. MNJB
 - 3. BJMN
 - 4. BMNJ

Question Type : MCQ

Question ID : 630680443972

Option 1 ID : 6306801733195

Option 2 ID : 6306801733198

Option 3 ID : 6306801733196

Option 4 ID : 6306801733197

Status : Answered

Chosen Option : 1

Q.4 उस समुच्चय का चयन कीजिए जिसमें संख्याएं ठीक उसी प्रकार संबंधित हैं जिस प्रकार दिए गए समुच्चयों की संख्याएं संबंधित हैं।

(ध्यान दें: संख्याओं को उनके घटक अंकों में अलग-अलग किए बिना पूर्ण संख्याओं पर संक्रियाएं की जानी चाहिए। उदाहरण के लिए संख्या 13 - संख्या 13 पर संक्रियाएं जैसे 13 को जोड़ना/घटाना/गुणा करना आदि किया जा सकता है। 13 को 1 और 3 में अलग-अलग करने की और फिर 1 और 3 पर गणितीय संक्रियाएं करने की अनुमति नहीं है।)

(18, 16, 34)

(21, 43, 64)

Ans 1. (22, 41, 73)

2. (23, 12, 76)

3. (39, 10, 53)

4. (32, 10, 42)

Question Type : MCQ

Question ID : 630680404574

Option 1 ID : 6306801577793

Option 2 ID : 6306801577792

Option 3 ID : 6306801577791

Option 4 ID : 6306801577794

Status : Answered

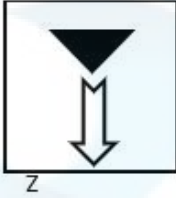
Chosen Option : 4

Q.5 विकल्पों में दी गई उस आकृति की पहचान कीजिए जिसे "?" के स्थान पर रखे जाने पर श्रृंखला तार्किक रूप से पूर्ण हो जाएगी।

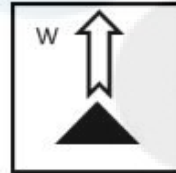


Ans

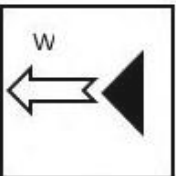
✗ 1.



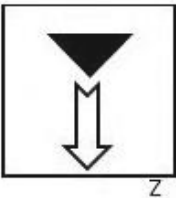
✓ 2.



✗ 3.



✗ 4.



Question Type : MCQ

Question ID : 630680278502

Option 1 ID : 6306801082293

Option 2 ID : 6306801082294

Option 3 ID : 6306801082296

Option 4 ID : 6306801082295

Status : Answered

Chosen Option : 2

Q.6 दिए गए विकल्पों में से उस आकृति को चुनिए जो निम्नलिखित श्रृंखला में प्रश्न चिह्न (?) के स्थान पर आ सकती है और पैटर्न को पूरा कर सकती है।

\triangle	H	2	H	V	=	V	=	A	=	\triangle	X	
	A			2				\square		A		?
X	V	=	\triangle	X	A	H	\triangle	X	V	H	\square	

Ans

✓ 1.

\triangle	X	\square
	4	
=	V	H

✗ 2.

V	=	\triangle
	4	
H	\square	X

✗ 3.

V	X	\square
	4	
=	\triangle	H

✗ 4.

X	=	\triangle
	4	
\square	V	H

Question Type : MCQ

Question ID : 630680441087

Option 1 ID : 6306801722002

Option 2 ID : 6306801722004

Option 3 ID : 6306801722003

Option 4 ID : 6306801722005

Status : Answered

Chosen Option : 1

Q.7 एक निश्चित कूट भाषा में, 'EXIT' को '1937' के रूप में कूटबद्ध किया जाता है और 'ZERO' को '6829' के रूप में कूटबद्ध किया जाता है। दी गई कूट भाषा में 'E' के लिए कूट क्या है?

- Ans
- 1. 1
 - 2. 2
 - 3. 8
 - 4. 9

Question Type : MCQ

Question ID : 630680388000

Option 1 ID : 6306801512615

Option 2 ID : 6306801512616

Option 3 ID : 6306801512617

Option 4 ID : 6306801512614

Status : Answered

Chosen Option : 4

Q.8 निम्नलिखित समीकरण में प्रश्न चिह्न (?) के स्थान पर क्या आएगा, यदि ÷ और + को आपस में बदल दिया जाए तथा - और × को आपस में बदल दिया जाए?

$$13 - 3 \div 4 - 9 \div 10 - 3 \times 20 + 5 = ?$$

- Ans
- 1. 111
 - 2. 101
 - 3. -15
 - 4. 86

Question Type : MCQ

Question ID : 630680264627

Option 1 ID : 6306801028014

Option 2 ID : 6306801028012

Option 3 ID : 6306801028013

Option 4 ID : 6306801028011

Status : Answered

Chosen Option : 2

Q.9 A, B, C, D, E, F और G एक वृत्ताकार मेज के चारों ओर केंद्र की ओर मुख करके बैठे हैं (परंतु जरूरी नहीं कि वे इसी क्रम में बैठे हों)। G, A के दाएं से तीसरे स्थान पर बैठा है। D, G के दाएं से तीसरे स्थान पर बैठा है। A और F दोनों का निकटतम पड़ोसी E है। C, F के दाएं से तीसरे स्थान पर बैठा है। E के दाएं से गिनने पर E और D के बीच में कितने व्यक्ति बैठे हैं?

- Ans
- 1. 1
 - 2. 3
 - 3. 2
 - 4. 4

Question Type : MCQ

Question ID : 630680383282

Option 1 ID : 6306801494030

Option 2 ID : 6306801494028

Option 3 ID : 6306801494029

Option 4 ID : 6306801494027

Status : Answered

Chosen Option : 4

Q.10 एक निश्चित कूट भाषा में, 'LOST' को '5197' के रूप में कूटबद्ध किया जाता है और 'TURN' को '4562' के रूप में कूटबद्ध किया जाता है। उस भाषा में 'T' के लिए कूट क्या है?

Ans 1. 5

2. 4

3. 7

4. 2

Question Type : MCQ

Question ID : 630680435856

Option 1 ID : 6306801701373

Option 2 ID : 6306801701374

Option 3 ID : 6306801701376

Option 4 ID : 6306801701375

Status : Answered

Chosen Option : 1

Q.11 एक निश्चित तर्क का अनुसरण करते हुए 127, 218 से संबंधित है। उसी तर्क का अनुसरण करते हुए, 3, 10 से संबंधित है। समान तर्क का अनुसरण करते हुए, 29 निम्नलिखित में से किससे संबंधित है?

(ध्यान दें: संख्याओं को उनके घटक अंकों में अलग-अलग किए बिना पूर्ण संख्याओं पर संक्रियाएं की जानी चाहिए। उदाहरण के लिए संख्या 13 - संख्या 13 पर संक्रियाएं जैसे 13 को जोड़ना/घटाना/गुणा करना आदि किया जा सकता है। 13 को 1 और 3 में अलग-अलग करने की और फिर 1 और 3 पर गणितीय संक्रियाएं करने की अनुमति नहीं है।)

Ans 1. 68

2. 63

3. 66

4. 67

Question Type : MCQ

Question ID : 630680450005

Option 1 ID : 6306801757185

Option 2 ID : 6306801757183

Option 3 ID : 6306801757184

Option 4 ID : 6306801757182

Status : Answered

Chosen Option : 3

Q.12 एक निश्चित कूट भाषा में, 'bat ball game' को 'mq mp mr' लिखा जाता है और 'game hockey football' को 'mp mt ml' लिखा जाता है और 'ball player umpire' को 'mr mb mc' लिखा जाता है। उस कूट भाषा में 'bat' को कैसे लिखा जाएगा?

Ans 1. ml

2. mt

3. mq

4. mb

Question Type : MCQ

Question ID : 630680439094

Option 1 ID : 6306801714191

Option 2 ID : 6306801714189

Option 3 ID : 6306801714188

Option 4 ID : 6306801714190

Status : Answered

Chosen Option : 3

Q.13 दिए गए कथनों और निष्कर्षों को ध्यानपूर्वक पढ़िए। यह मानते हुए कि कथनों में दी गई जानकारी सत्य है, भले ही यह सामान्यतः ज्ञात तथ्यों से भिन्न प्रतीत होती हो, निर्णय लीजिए कि दिए गए निष्कर्षों में से कौन-सा/से निष्कर्ष कथनों का तार्किक रूप से अनुसरण करता है/करते हैं।

कथन: सभी कागज, फ़ाइलें हैं। सभी फ़ाइलें, गोपनीय हैं।

निष्कर्ष:

(I) सभी कागज, गोपनीय हैं।

(II) सभी गोपनीय, फ़ाइलें हैं।

- Ans
- 1. केवल निष्कर्ष (II) अनुसरण करता है।
 - 2. निष्कर्ष (I) और (II) दोनों अनुसरण करते हैं।
 - 3. केवल निष्कर्ष (I) अनुसरण करता है।
 - 4. न तो निष्कर्ष (I) और न ही (II) अनुसरण करता है।

Question Type : MCQ

Question ID : 630680393923

Option 1 ID : 6306801536003

Option 2 ID : 6306801536005

Option 3 ID : 6306801536002

Option 4 ID : 6306801536004

Status : Answered

Chosen Option : 3

Q.14 दी गई आकृति के उस सही दर्पण प्रतिबिंब को चुनिए, जो नीचे दर्शाए गए अनुसार दर्पण को MN पर रखने पर बनेगा।



- Ans
- 1. v e ɛ ʀ ɥ ɹ ɿ
 - 2. ɛ v ɛ ʀ ɥ ɹ ɿ
 - 3. ɛ v ɛ ʀ ɥ ɹ ɿ
 - 4. ɛ v ɛ ʀ ɥ ɹ ɿ

Question Type : MCQ

Question ID : 630680525260

Option 1 ID : 6306802053125

Option 2 ID : 6306802053126

Option 3 ID : 6306802053127

Option 4 ID : 6306802053124

Status : Answered

Chosen Option : 2

Q.15 छः व्यक्ति — A, B, C, D, E और F — एक वृत्ताकार मेज के चारों ओर केंद्र की ओर मुख करके बैठे हैं (परंतु जरूरी नहीं कि वे इसी क्रम में बैठे हों)। E और F दोनों का निकटतम पड़ोसी A है। C, F के बाएँ से दूसरे स्थान पर है। B, E का निकटतम पड़ोसी नहीं है। D का स्थान कौन-सा है?

- Ans
- 1. F के ठीक बाएँ
 - 2. A के ठीक बाएँ
 - 3. B के दाएँ से दूसरा
 - 4. C के ठीक बाएँ

Question Type : MCQ

Question ID : 630680387037

Option 1 ID : 6306801508859

Option 2 ID : 6306801508861

Option 3 ID : 6306801508860

Option 4 ID : 6306801508858

Status : Answered

Chosen Option : 4

Q.16 दिए गए समीकरण को सही करने के लिए किन दो चिह्नों को आपस में बदला जाना चाहिए?

$$56 \div 8 \times 45 + 4 - 23 = 164$$

- Ans
- 1. - और +
 - 2. - और ×
 - 3. + और ×
 - 4. + और ×

Question Type : MCQ

Question ID : 630680411995

Option 1 ID : 6306801606816

Option 2 ID : 6306801606817

Option 3 ID : 6306801606815

Option 4 ID : 6306801606818

Status : Answered

Chosen Option : 4

Q.17 एक निश्चित कूट भाषा में, 'car is fast' को 'gq ip eb' लिखा जाता है और 'fast and furious' को 'hp qm ip' लिखा जाता है। उसी कूट भाषा में 'fast' को कैसे लिखा जाएगा?

- Ans
- 1. ip
 - 2. hp
 - 3. gq
 - 4. eb

Question Type : MCQ

Question ID : 630680502782

Option 1 ID : 6306801964710

Option 2 ID : 6306801964711

Option 3 ID : 6306801964712

Option 4 ID : 6306801964709

Status : Answered

Chosen Option : 1

Q.18 अंग्रेजी वर्णानुक्रम के आधार पर दी गई शृंखला में प्रश्न चिह्न (?) के स्थान पर क्या आना चाहिए?

EFD, JKI, OPN, TUS, ?

Ans 1. YZX

2. EFU

3. EVF

4. GUH

Question Type : MCQ

Question ID : 630680443462

Option 1 ID : 6306801731240

Option 2 ID : 6306801731243

Option 3 ID : 6306801731241

Option 4 ID : 6306801731242

Status : Answered

Chosen Option : 1

Q.19 दिए गए विकल्पों में से उस संख्या का चयन कीजिए जो निम्नलिखित शृंखला में प्रश्न चिह्न (?) के स्थान पर आ सकती है।

33, 37, 46, 62, 87, ?

Ans 1. 121

2. 122

3. 124

4. 123

Question Type : MCQ

Question ID : 630680430573

Option 1 ID : 6306801680314

Option 2 ID : 6306801680315

Option 3 ID : 6306801680317

Option 4 ID : 6306801680316

Status : Answered

Chosen Option : 4

Q.20 अंग्रेजी वर्णमाला क्रम के आधार पर JJDA एक निश्चित प्रकार से QQKH से संबंधित है। ठीक उसी प्रकार ENHE, LUOL से संबंधित है। समान तर्क का अनुसरण करते हुए, TTNK निम्नलिखित में से किससे संबंधित है?

Ans 1. AAUR

2. URAA

3. AURA

4. AUAR

Question Type : MCQ

Question ID : 630680386859

Option 1 ID : 6306801508146

Option 2 ID : 6306801508148

Option 3 ID : 6306801508147

Option 4 ID : 6306801508149

Status : Answered

Chosen Option : 1

Section : General Awareness

Q.1 तिरोत सिंग (Tirof Sing) निम्नलिखित में से किस विद्रोह के नेता थे?

- Ans 1. पोलिगार विद्रोह
 2. सिंगफो विद्रोह
 3. खासी विद्रोह
 4. सन्यासी विद्रोह

Question Type : MCQ

Question ID : 630680350907

Option 1 ID : 6306801365917

Option 2 ID : 6306801365919

Option 3 ID : 6306801365918

Option 4 ID : 6306801365920

Status : Answered

Chosen Option : 1

Q.2 विशाखदत्त द्वारा रचित मुद्राराक्षस नाटक किस भाषा में लिखा गया था?

- Ans 1. हिन्दी
 2. तमिल
 3. संस्कृत
 4. तेलुगू

Question Type : MCQ

Question ID : 630680127466

Option 1 ID : 630680494127

Option 2 ID : 630680494124

Option 3 ID : 630680494126

Option 4 ID : 630680494125

Status : Answered

Chosen Option : 2

Q.3 2018 में, गणेश और कुमारेश राजगोपालन ने कर्नाटक वाद्य संगीत के लिए संगीत नाटक अकादमी पुरस्कार जीता था। किस वाद्ययंत्र को बजाने के लिए उन्हें यह पुरस्कार मिला था?

- Ans 1. सरोद
 2. वायलिन
 3. सारंगी
 4. वीणा

Question Type : MCQ

Question ID : 630680482210

Option 1 ID : 6306801883354

Option 2 ID : 6306801883356

Option 3 ID : 6306801883357

Option 4 ID : 6306801883355

Status : Answered

Chosen Option : 1

Q.4 विडाल परीक्षण (Widal test) द्वारा निम्नलिखित में से किस रोग का पता लगाया जाता है?

- Ans 1. डिप्थीरिया (Diphtheria)
 2. अंत्र ज्वर (Typhoid)
 3. इन्फ्लुएंजा (Influenza)
 4. न्यूमोनिया (Pneumonia)

Question Type : MCQ

Question ID : 63068078590

Option 1 ID : 630680304411

Option 2 ID : 630680304410

Option 3 ID : 630680304412

Option 4 ID : 630680304409

Status : Answered

Chosen Option : 2

Q.5 _____ को नागपुरी लोक नृत्य झूमर (Jhumar) के प्रतिपादक होने के लिए पद्म श्री 2017 पुरस्कार मिला।

- Ans 1. लैशराम बीरेंद्रकुमार सिंह
 2. चेमनचेरी कुन्हिरमन नायर
 3. पुरूषोत्तम उपाध्याय
 4. मुकुंद नायक

Question Type : MCQ

Question ID : 630680512028

Option 1 ID : 6306802001083

Option 2 ID : 6306802001084

Option 3 ID : 6306802001082

Option 4 ID : 6306802001085

Status : Answered

Chosen Option : 2

Q.6 वह गुण जिसके आधार पर कार्बन C-C सहसंयोजक आबंध बना सकता है, _____ कहलाता है।

- Ans 1. चतुःसंयोजकता (tetravalency)
 2. शृंखलन (catenation)
 3. अपररूपता (allotropy)
 4. सहसंयोजकता (covalency)

Question Type : MCQ

Question ID : 630680471465

Option 1 ID : 6306801841575

Option 2 ID : 6306801841574

Option 3 ID : 6306801841577

Option 4 ID : 6306801841576

Status : Answered

Chosen Option : 4

Q.7 किस प्रकार की शैलों में भिन्न-भिन्न मोटाई वाली परतें पाई जाती हैं?

- Ans
- 1. आग्नेय शैल
 - 2. कार्यांतरित शैल
 - 3. ज्वालामुखी-शैल
 - 4. अवसादी शैल

Question Type : MCQ

Question ID : 630680456076

Option 1 ID : 6306801781245

Option 2 ID : 6306801781244

Option 3 ID : 6306801781246

Option 4 ID : 6306801781243

Status : Answered

Chosen Option : 2

Q.8 _____ नृत्य, महाभारत, रामायण महाकाव्यों और पुराणों की कहानियों में सन्निहित है।

- Ans
- 1. कुचिपुड़ी
 - 2. कथकली
 - 3. सत्रिया
 - 4. ओडिसी

Question Type : MCQ

Question ID : 630680465744

Option 1 ID : 6306801819013

Option 2 ID : 6306801819012

Option 3 ID : 6306801819014

Option 4 ID : 6306801819011

Status : Answered

Chosen Option : 2

Q.9 पंचपटमाली (Panchpatmali) खनिज भंडार क्षेत्र, निम्नलिखित में से किस राज्य में स्थित है?

- Ans
- 1. राजस्थान
 - 2. हरियाणा
 - 3. हिमाचल प्रदेश
 - 4. ओडिशा

Question Type : MCQ

Question ID : 630680510951

Option 1 ID : 6306801996936

Option 2 ID : 6306801996935

Option 3 ID : 6306801996934

Option 4 ID : 6306801996937

Status : Answered

Chosen Option : 2

Q.10 कब्ज इस चीज़ का एक संकेत हो सकता है कि व्यक्ति _____ की कमी से ग्रसित है।

- Ans
- 1. प्रोटीन (Protein)
 - 2. कैल्शियम (Calcium)
 - 3. आहारिय फाइबर (Dietary Fibre)
 - 4. विटामिन (Vitamin)

Question Type : MCQ
Question ID : 630680544408
Option 1 ID : 6306802128406
Option 2 ID : 6306802128407
Option 3 ID : 6306802128409
Option 4 ID : 6306802128408
Status : Answered
Chosen Option : 3

Q.11 निम्नलिखित में से कौन-सा विकल्प प्रतियोगिताओं और उनके मेजबानों को सही से सुमेलित करता है?

- Ans
- 1. आईसीसी विश्व कप पुरुष क्रिकेट 2007 - इंग्लैंड
 - 2. आईसीसी विश्व कप पुरुष क्रिकेट 2011 - ऑस्ट्रेलिया और न्यूजीलैंड
 - 3. आईसीसी विश्व कप पुरुष क्रिकेट 2019 - इंग्लैंड और वेल्स
 - 4. आईसीसी विश्व कप पुरुष क्रिकेट 2015 - भारत, श्रीलंका, बांग्लादेश

Question Type : MCQ
Question ID : 630680510862
Option 1 ID : 6306801996578
Option 2 ID : 6306801996579
Option 3 ID : 6306801996581
Option 4 ID : 6306801996580
Status : Answered
Chosen Option : 3

Q.12 सिक्किम में प्रमुख रूप से लोसूंग महोत्सव (Losoong festival) निम्नलिखित में से किस जनजाति द्वारा मनाया जाता है?

- Ans
- 1. भील
 - 2. खासी
 - 3. कुरुम्बा
 - 4. भूटिया

Question Type : MCQ
Question ID : 630680402997
Option 1 ID : 6306801571559
Option 2 ID : 6306801571562
Option 3 ID : 6306801571561
Option 4 ID : 6306801571560
Status : Answered
Chosen Option : 2

Q.13 2011 की जनगणना के अनुसार, भारत की साक्षरता दर क्या है?

- Ans
- 1. 65.46%
 - 2. 82.14%
 - 3. 70%
 - 4. 74.04%

Question Type : MCQ

Question ID : 630680697321

Option 1 ID : 6306802731372

Option 2 ID : 6306802731370

Option 3 ID : 6306802731373

Option 4 ID : 6306802731371

Status : Answered

Chosen Option : 4

Q.14 'द कैचर इन द राई' ('The Catcher in the Rye') उपन्यास किसने लिखा है?

- Ans
- 1. जेडी सालिंगर (JD Salinger)
 - 2. एचजी वेल्स (HG Wells)
 - 3. अर्नेस्ट हेमिंग्वे (Ernest Hemingway)
 - 4. मार्क ट्वेन (Mark Twain)

Question Type : MCQ

Question ID : 630680467360

Option 1 ID : 6306801825387

Option 2 ID : 6306801825389

Option 3 ID : 6306801825388

Option 4 ID : 6306801825386

Status : Answered

Chosen Option : 3

Q.15 भारतीय संविधान में राज्य के नीति-निर्देशक सिद्धांत, किस देश के संविधान से लिए गए हैं?

- Ans
- 1. सोवियत संघ का संविधान
 - 2. यूनाइटेड किंगडम का संविधान
 - 3. आयरलैंड का संविधान
 - 4. संयुक्त राज्य अमेरिका का संविधान

Question Type : MCQ

Question ID : 630680733641

Option 1 ID : 6306802875401

Option 2 ID : 6306802875400

Option 3 ID : 6306802875402

Option 4 ID : 6306802875399

Status : Answered

Chosen Option : 3

Q.16 भारत में गरीबी रेखा का विचार पहली बार किसने दिया?

- Ans 1. दादाभाई नौरोजी
 2. जवाहर लाल नेहरू
 3. महात्मा गांधी
 4. डॉ. बी. आर. अम्बेडकर

Question Type : MCQ

Question ID : 630680394652

Option 1 ID : 6306801538897

Option 2 ID : 6306801538894

Option 3 ID : 6306801538895

Option 4 ID : 6306801538896

Status : Answered

Chosen Option : 1

Q.17 BHIM-UPI में M का अर्थ क्या है?

- Ans 1. मंथली (Monthly)
 2. मोबाइल (Mobile)
 3. मोनिटरी (Monetary)
 4. मनी (Money)

Question Type : MCQ

Question ID : 630680302538

Option 1 ID : 6306801176825

Option 2 ID : 6306801176822

Option 3 ID : 6306801176824

Option 4 ID : 6306801176823

Status : Answered

Chosen Option : 4

Q.18 जनवरी 2023 में, किस भारतीय संसद सदस्य को 'इंडिया यूके आउटस्टैंडिंग अचीवर्स ऑनर (India UK Outstanding Achievers Honour)' से सम्मानित किया गया था?

- Ans 1. हेमन्त श्रीराम पाटिल
 2. हाजी फजलुर रहमान
 3. राघव चड्ढा
 4. हनुमान बेनीवाल

Question Type : MCQ

Question ID : 630680468757

Option 1 ID : 6306801830822

Option 2 ID : 6306801830820

Option 3 ID : 6306801830819

Option 4 ID : 6306801830821

Status : Answered

Chosen Option : 1

Q.19 भारत का सबसे बड़ा कृषि आधारित उद्योग कौन-सा है?

- Ans
- 1. चीनी उद्योग
 - 2. खाद्य तेल उद्योग
 - 3. चाय उद्योग
 - 4. सूती वस्त्र उद्योग

Question Type : MCQ

Question ID : 630680481997

Option 1 ID : 6306801882495

Option 2 ID : 6306801882497

Option 3 ID : 6306801882496

Option 4 ID : 6306801882498

Status : Answered

Chosen Option : 1

Q.20 दिल्ली सल्तनत के निम्नलिखित में से किस वंश ने जौनपुर को अंततः दिल्ली सल्तनत के साम्राज्य में मिला लिया था?

- Ans
- 1. खिलजी वंश (Khalji dynasty)
 - 2. सैय्यद वंश (Sayyid dynasty)
 - 3. तुगलक वंश (Tughlaq dynasty)
 - 4. लोदी वंश (Lodi dynasty)

Question Type : MCQ

Question ID : 630680326299

Option 1 ID : 6306801269285

Option 2 ID : 6306801269287

Option 3 ID : 6306801269286

Option 4 ID : 6306801269288

Status : Answered

Chosen Option : 4

Q.21 निम्नलिखित में से क्या भारत का राष्ट्रपति बनने की योग्यता/पात्रता नहीं है?

- Ans
- 1. पैंतीस वर्ष की आयु पूर्ण कर चुका होना चाहिए
 - 2. भारत का नागरिक होना चाहिए
 - 3. किसी लाभ के पद पर होना चाहिए
 - 4. लोक सभा के सदस्य के रूप में चुनाव के लिए योग्य होना चाहिए

Question Type : MCQ

Question ID : 630680172211

Option 1 ID : 630680667281

Option 2 ID : 630680667280

Option 3 ID : 630680667283

Option 4 ID : 630680667282

Status : Answered

Chosen Option : 4

Q.22 मंदिर वास्तुकला की द्रविड़ शैली मुख्य रूप से भारत के किस भाग में देखी जा सकती है?

- Ans 1. पूर्वी भारत
 2. दक्षिणी भारत
 3. उत्तरी भारत
 4. पश्चिमी भारत

Question Type : MCQ

Question ID : 630680616081

Option 1 ID : 6306802411029

Option 2 ID : 6306802411028

Option 3 ID : 6306802411026

Option 4 ID : 6306802411027

Status : Answered

Chosen Option : 2

Q.23 भारतीय टेनिस खिलाड़ी सुमित नागल (Sumit Nagal) किस राज्य से संबंधित हैं?

- Ans 1. ओडिशा
 2. महाराष्ट्र
 3. हरियाणा
 4. कर्नाटक

Question Type : MCQ

Question ID : 630680710803

Option 1 ID : 6306802784870

Option 2 ID : 6306802784869

Option 3 ID : 6306802784868

Option 4 ID : 6306802784871

Status : Answered

Chosen Option : 2

Q.24 लॉर्ड कर्जन ने निम्नलिखित में से किस वर्ष में बंगाल के विभाजन की घोषणा की थी?

- Ans 1. 1900
 2. 1914
 3. 1909
 4. 1905

Question Type : MCQ

Question ID : 630680210812

Option 1 ID : 630680817407

Option 2 ID : 630680817409

Option 3 ID : 630680817408

Option 4 ID : 630680817410

Status : Answered

Chosen Option : 4

Q.25 2023 में, भारत सरकार ने गोबरधन (GOBARdhan) के अंतर्गत कितने नए 'वेस्ट टू वेल्थ (Waste to Wealth)' संयंत्र स्थापित करने का प्रस्ताव दिया है?

- Ans 1. 250
 2. 450
 3. 300
 4. 500

Question Type : MCQ

Question ID : 630680467074

Option 1 ID : 6306801824249

Option 2 ID : 6306801824251

Option 3 ID : 6306801824250

Option 4 ID : 6306801824252

Status : Answered

Chosen Option : 3

Section : English Language and Comprehension

Q.1 Select the grammatically correct sentence from the given options.

- Ans 1. It is strange to see a guy shouting in the mall without any reason.
 2. It is too stranger to see a guy shout in the mall without any reason.
 3. It is too stranger to see a guy shouting in the mall without any reason.
 4. It is too stranger to see a guy shouting in the mall beside any reason.

Question Type : MCQ

Question ID : 630680514694

Option 1 ID : 6306802011404

Option 2 ID : 6306802011402

Option 3 ID : 6306802011401

Option 4 ID : 6306802011403

Status : Answered

Chosen Option : 3

Q.2 Select the most appropriate synonym of the given word.
Recluse

- Ans 1. Closeness
 2. Sociable
 3. Solitary
 4. Candid

Question Type : MCQ

Question ID : 630680726529

Option 1 ID : 6306802847123

Option 2 ID : 6306802847125

Option 3 ID : 6306802847122

Option 4 ID : 6306802847124

Status : Answered

Chosen Option : 1

Q.3 Select the most appropriate option that can substitute the underlined segment in the given sentence.

Universal high-quality education is the best way forward for developing and maximising our country's rich talents and resources for the good in the individual, the society, the country and the world.

- Ans
- 1. good by the individual
 - 2. good for the individual
 - 3. good of the individual
 - 4. good on the individual

Question Type : **MCQ**

Question ID : **630680130478**

Option 1 ID : **630680505225**

Option 2 ID : **630680505224**

Option 3 ID : **630680505223**

Option 4 ID : **630680505222**

Status : **Answered**

Chosen Option : **2**

Q.4 Select the option that will improve the underlined part of the given sentence.
Indeed, Jack is one of the clever men I have ever met.

- Ans
- 1. cleverer
 - 2. most clever
 - 3. clever
 - 4. the cleverest

Question Type : **MCQ**

Question ID : **630680419723**

Option 1 ID : **6306801637392**

Option 2 ID : **6306801637391**

Option 3 ID : **6306801637389**

Option 4 ID : **6306801637390**

Status : **Answered**

Chosen Option : **4**

Q.5 Select the most appropriate synonym of the given word.
Intractable

- Ans
- 1. Proper
 - 2. Compliant
 - 3. Versatile
 - 4. Defiant

Question Type : **MCQ**

Question ID : **630680435553**

Option 1 ID : **6306801700153**

Option 2 ID : **6306801700151**

Option 3 ID : **6306801700152**

Option 4 ID : **6306801700150**

Status : **Answered**

Chosen Option : **1**

Q.6 Select the most appropriate option to fill in the blank.

The street is crowded. You could easily get lost in this _____.

- Ans 1. faze
 2. maze
 3. phase
 4. maize

Question Type : **MCQ**
Question ID : **630680517505**
Option 1 ID : **6306802022416**
Option 2 ID : **6306802022418**
Option 3 ID : **6306802022417**
Option 4 ID : **6306802022419**
Status : **Answered**
Chosen Option : **3**

Q.7 Select the grammatically correct sentence.

- Ans 1. Having belief in yourself is the big key to success.
 2. Having belief in yourself is the most bigger key to success.
 3. Having belief in yourself is the biggest key to success.
 4. Having beliefs in yourself is the bigger key to success.

Question Type : **MCQ**
Question ID : **630680514588**
Option 1 ID : **6306802010980**
Option 2 ID : **6306802010977**
Option 3 ID : **6306802010979**
Option 4 ID : **6306802010978**
Status : **Answered**
Chosen Option : **3**

Q.8 select the option that rectifies the spelling error of the underlined word.

Preserving our planet's biodiversity is essential for the health and sustainability of ecosystems and human life.

- Ans 1. sustainability
 2. susteinabelety
 3. sustanbility
 4. sustainabelity

Question Type : **MCQ**
Question ID : **630680419618**
Option 1 ID : **6306801636970**
Option 2 ID : **6306801636967**
Option 3 ID : **6306801636969**
Option 4 ID : **6306801636968**
Status : **Answered**
Chosen Option : **1**

Q.9 Select the option that can be used as a one-word substitute for the highlighted group of words in the given sentence.

That scientist worked relentlessly to improve the instrument for measuring electric current.

- Ans
- 1. ammeter
 - 2. calculator
 - 3. thermometer
 - 4. compass

Question Type : **MCQ**
Question ID : **630680564316**
Option 1 ID : **6306802206220**
Option 2 ID : **6306802206222**
Option 3 ID : **6306802206219**
Option 4 ID : **6306802206221**
Status : **Answered**
Chosen Option : 1

Q.10 The following sentence has been divided into parts. One of them may contain an error. Select the part that contains the error from the given options. If you don't find any error, mark 'No error' as your answer.

Spanish person are well known worldwide / for their warm hospitality / and food.

- Ans
- 1. for their warm hospitality
 - 2. and food
 - 3. Spanish person are well known worldwide
 - 4. No error

Question Type : **MCQ**
Question ID : **630680631377**
Option 1 ID : **6306802471451**
Option 2 ID : **6306802471452**
Option 3 ID : **6306802471450**
Option 4 ID : **6306802471453**
Status : **Answered**
Chosen Option : 1

Q.11 Select the most appropriate ANTONYM of the underlined word. They reinvested in their trades and indulged in unobtrusive consumption at home.

- Ans
- 1. Preposterous
 - 2. Obscure
 - 3. Faint
 - 4. Conspicuous

Question Type : **MCQ**
Question ID : **630680455444**
Option 1 ID : **6306801778693**
Option 2 ID : **6306801778692**
Option 3 ID : **6306801778691**
Option 4 ID : **6306801778690**
Status : **Answered**
Chosen Option : 1

Q.12 Select the option that can be used as a one-word substitute for the given group of words.

Constant efforts to achieve something

- Ans
- 1. Euphemism
 - 2. Perspicacious
 - 3. Perseverance
 - 4. Recant

Question Type : **MCQ**

Question ID : **630680316401**

Option 1 ID : **6306801231226**

Option 2 ID : **6306801231228**

Option 3 ID : **6306801231225**

Option 4 ID : **6306801231227**

Status : **Answered**

Chosen Option : **3**

Q.13 Select the most appropriate option to fill in the blank.

It is being asked why there has been no _____ taken yet.

- Ans
- 1. distribution
 - 2. simplification
 - 3. action
 - 4. attribution

Question Type : **MCQ**

Question ID : **630680515218**

Option 1 ID : **6306802013337**

Option 2 ID : **6306802013339**

Option 3 ID : **6306802013338**

Option 4 ID : **6306802013340**

Status : **Answered**

Chosen Option : **3**

Q.14 Select the correctly spelled sentence.

- Ans
- 1. The athlete ran quickley across the finish line.
 - 2. The athlet ran quicly across the finnish line.
 - 3. The athelete ran quicly across the finish line.
 - 4. The athlete ran quickly across the finish line.

Question Type : **MCQ**

Question ID : **630680616015**

Option 1 ID : **6306802410764**

Option 2 ID : **6306802410765**

Option 3 ID : **6306802410763**

Option 4 ID : **6306802410762**

Status : **Answered**

Chosen Option : **4**

Q.15 Identify the sentence with an error with respect to the use of present tense.

- Ans
- 1. She has been singing songs.
 - 2. She sings romantic songs.
 - 3. She singing romantic songs.
 - 4. She has sung romantic songs.

Question Type : MCQ
Question ID : 630680460576
Option 1 ID : 6306801798593
Option 2 ID : 6306801798591
Option 3 ID : 6306801798590
Option 4 ID : 6306801798592
Status : Answered
Chosen Option : 3

Q.16 Select the most appropriate option that can substitute the underlined segment in the given sentence.

It is all one whether I go today or tomorrow.

- Ans
- 1. just the same
 - 2. in one piece
 - 3. together
 - 4. proper

Question Type : MCQ
Question ID : 630680799113
Option 1 ID : 6306803131251
Option 2 ID : 6306803131253
Option 3 ID : 6306803131250
Option 4 ID : 6306803131252
Status : Answered
Chosen Option : 4

Q.17 Select the most appropriate option that can substitute the highlighted word(s) in the given sentence.

Anybody can solve this problem if he tried.

- Ans
- 1. if they try
 - 2. if they were tried
 - 3. for they tried
 - 4. because they try

Question Type : MCQ
Question ID : 630680564286
Option 1 ID : 6306802206102
Option 2 ID : 6306802206100
Option 3 ID : 6306802206101
Option 4 ID : 6306802206099
Status : Answered
Chosen Option : 1

Q.18 Select the INCORRECTLY spelt word.

- Ans
- 1. written
 - 2. tabular
 - 3. lying
 - 4. calender

Question Type : MCQ

Question ID : 630680799091

Option 1 ID : 6306803131164

Option 2 ID : 6306803131162

Option 3 ID : 6306803131165

Option 4 ID : 6306803131163

Status : Answered

Chosen Option : 2

Q.19 Select the most appropriate option to fill in the blank.
My mother always _____ to help people.

- Ans
- 1. turns a deaf ear
 - 2. takes a rain check
 - 3. goes the extra mile
 - 4. breaks the bank

Question Type : MCQ

Question ID : 630680399117

Option 1 ID : 6306801556427

Option 2 ID : 6306801556429

Option 3 ID : 6306801556428

Option 4 ID : 6306801556426

Status : Answered

Chosen Option : 2

Q.20 Which of the following words is a synonym of 'Evanescent'?

- Ans
- 1. Imitation
 - 2. Exemplary
 - 3. Fleeting
 - 4. Delicious

Question Type : MCQ

Question ID : 630680415845

Option 1 ID : 6306801622150

Option 2 ID : 6306801622147

Option 3 ID : 6306801622148

Option 4 ID : 6306801622149

Status : Answered

Chosen Option : 4

Comprehension:

In the following passage, some words have been deleted. Read the passage carefully and select the most appropriate option to fill in each blank.

It (1)_____ no discriminations to nationality, race, religious beliefs, class or political opinions. It endeavours to (2)_____ the suffering of individuals, being guided solely by (3)_____ needs, and to give priority to the (4)_____ urgent cases of distress. It promotes mutual understanding, friendship, cooperation and lasting peace (5)_____ all people.

SubQuestion No : 21

Q.21 Select the most appropriate option to fill in blank number 1.

- Ans
- 1. had made
 - 2. made
 - 3. makes
 - 4. make

Question Type : **MCQ**

Question ID : **630680129818**

Option 1 ID : **630680502869**

Option 2 ID : **630680502867**

Option 3 ID : **630680502868**

Option 4 ID : **630680502866**

Status : **Answered**

Chosen Option : **3**

Comprehension:

In the following passage, some words have been deleted. Read the passage carefully and select the most appropriate option to fill in each blank.

It (1)_____ no discriminations to nationality, race, religious beliefs, class or political opinions. It endeavours to (2)_____ the suffering of individuals, being guided solely by (3)_____ needs, and to give priority to the (4)_____ urgent cases of distress. It promotes mutual understanding, friendship, cooperation and lasting peace (5)_____ all people.

SubQuestion No : 22

Q.22 Select the most appropriate option to fill in blank number 2.

- Ans
- 1. increase
 - 2. decreased
 - 3. clear
 - 4. relieve

Question Type : **MCQ**

Question ID : **630680129819**

Option 1 ID : **630680502871**

Option 2 ID : **630680502870**

Option 3 ID : **630680502872**

Option 4 ID : **630680502873**

Status : **Answered**

Chosen Option : **1**

Comprehension:

In the following passage, some words have been deleted. Read the passage carefully and select the most appropriate option to fill in each blank.

It (1)_____ no discriminations to nationality, race, religious beliefs, class or political opinions. It endeavours to (2)_____ the suffering of individuals, being guided solely by (3)_____ needs, and to give priority to the (4)_____ urgent cases of distress. It promotes mutual understanding, friendship, cooperation and lasting peace (5)_____ all people.

SubQuestion No : 23

Q.23 Select the most appropriate option to fill in blank number 3.

- Ans 1. his
 2. your
 3. their
 4. her

Question Type : **MCQ**

Question ID : **630680129820**

Option 1 ID : **630680502874**

Option 2 ID : **630680502876**

Option 3 ID : **630680502877**

Option 4 ID : **630680502875**

Status : **Answered**

Chosen Option : **1**

Comprehension:

In the following passage, some words have been deleted. Read the passage carefully and select the most appropriate option to fill in each blank.

It (1)_____ no discriminations to nationality, race, religious beliefs, class or political opinions. It endeavours to (2)_____ the suffering of individuals, being guided solely by (3)_____ needs, and to give priority to the (4)_____ urgent cases of distress. It promotes mutual understanding, friendship, cooperation and lasting peace (5)_____ all people.

SubQuestion No : 24

Q.24 Select the most appropriate option to fill in blank number 4.

- Ans 1. least
 2. high
 3. most
 4. more

Question Type : **MCQ**

Question ID : **630680129821**

Option 1 ID : **630680502879**

Option 2 ID : **630680502881**

Option 3 ID : **630680502880**

Option 4 ID : **630680502878**

Status : **Answered**

Chosen Option : **3**

Comprehension:

In the following passage, some words have been deleted. Read the passage carefully and select the most appropriate option to fill in each blank.

It (1)_____ no discriminations to nationality, race, religious beliefs, class or political opinions. It endeavours to (2)_____ the suffering of individuals, being guided solely by (3)_____ needs, and to give priority to the (4)_____ urgent cases of distress. It promotes mutual understanding, friendship, cooperation and lasting peace (5)_____ all people.

SubQuestion No : 25

Q.25 Select the most appropriate option to fill in blank number 5.

- Ans
- 1. at
 - 2. of
 - 3. amongst
 - 4. into

Question Type : **MCQ**

Question ID : **630680129822**

Option 1 ID : **630680502883**

Option 2 ID : **630680502884**

Option 3 ID : **630680502882**

Option 4 ID : **630680502885**

Status : **Answered**

Chosen Option : **3**