

## Multi Tasking Non Technical Staff and Havaladar CBIC and CBN Examination 2024

Roll Number	
Candidate Name	
Venue Name	Yagyavalkya Institute of Technology
Exam Date	23/10/2024
Exam Time	9:00 AM - 11:00 AM
Subject	MTS Non Tech Havaladar CBIC and CBN Examination 2024

### Section : Numerical and Mathematical Ability

Q.1 रोहित ने साधारण ब्याज पर एक धनराशि निवेश की और यह  $4\frac{1}{6}$  वर्षों में स्वयं की दोगुनी हो गई।  
वार्षिक ब्याज की दर ज्ञात कीजिए।

- Ans
- 1.  $23\frac{1}{2}\%$
  - 2.  $22\frac{1}{2}\%$
  - 3. 24%
  - 4. 25%

Question Type : MCQ

Question ID : 630680397475

Option 1 ID : 6306801549824

Option 2 ID : 6306801549822

Option 3 ID : 6306801549823

Option 4 ID : 6306801549825

Status : Answered

Chosen Option : 2

Q.2 27 cm की आंतरिक त्रिज्या वाला एक अर्धगोलाकार कटोरा तरल पदार्थ से पूरा भरा हुआ है। इस तरल पदार्थ को 12 cm व्यास और 13.5 cm ऊँचाई वाली बेलनाकार बोटलों में भरा जाना है। कटोरे को खाली करने के लिए आवश्यक बोटलों की संख्या ज्ञात कीजिए।

- Ans
- 1. 27
  - 2. 25
  - 3. 21
  - 4. 29

Question Type : MCQ

Question ID : 630680387558

Option 1 ID : 6306801510917

Option 2 ID : 6306801510916

Option 3 ID : 6306801510914

Option 4 ID : 6306801510915

Status : Answered

Chosen Option : 2

Q.3 पाँच संख्याओं का औसत 62 है। पहली दो संख्याओं का औसत 48 है और अंतिम दो संख्याओं का औसत 52 है। तीसरी संख्या क्या है?

- Ans
- 1. 105
  - 2. 100
  - 3. 95
  - 4. 110

Question Type : MCQ

Question ID : 630680470252

Option 1 ID : 6306801836763

Option 2 ID : 6306801836764

Option 3 ID : 6306801836765

Option 4 ID : 6306801836762

Status : Answered

Chosen Option : 2

Q.4 11 व्यक्ति के औसत वजन में 4.5 kg की वृद्धि तब हो जाती है, जब उनमें से 50.5 kg वजन वाले एक व्यक्ति के स्थान पर एक नया व्यक्ति समूह में शामिल हो जाता है। नए व्यक्ति का वजन ज्ञात करें।

- Ans
- 1. 90.5 kg
  - 2. 95.5 kg
  - 3. 100 kg
  - 4. 98.5 kg

Question Type : MCQ

Question ID : 630680104341

Option 1 ID : 630680405579

Option 2 ID : 630680405580

Option 3 ID : 630680405582

Option 4 ID : 630680405581

Status : Answered

Chosen Option : 3

Q.5 120, 200 और 225 का लघुत्तम समापवर्त्य (LCM) ज्ञात कीजिए।

- Ans
- 1. 2400
  - 2. 1735
  - 3. 1800
  - 4. 1200

Question Type : MCQ

Question ID : 630680103139

Option 1 ID : 630680400815

Option 2 ID : 630680400818

Option 3 ID : 630680400817

Option 4 ID : 630680400816

Status : Answered

Chosen Option : 3

Q.6 एक लड़की अपनी आय का 76% खर्च करती है। यदि उसकी आय में 18% की वृद्धि होती है और उसके व्यय में 25% की वृद्धि होती है, तो उसकी बचत में कितने प्रतिशत की वृद्धि या कमी होगी? (एक दशमलव स्थान तक गणना करें।)

- Ans
- 1. 3.6% की वृद्धि
  - 2. 3.8% की कमी
  - 3. 5% की वृद्धि
  - 4. 4.2% की कमी

Question Type : MCQ

Question ID : 630680464488

Option 1 ID : 6306801813988

Option 2 ID : 6306801813989

Option 3 ID : 6306801813990

Option 4 ID : 6306801813987

Status : Answered

Chosen Option : 1

Q.7 एक पेन के अंकित मूल्य पर 28%, उसके बाद 25% और 10%, उसके बाद 5% की क्रमिक छूट के बीच का अंतर ₹63 है। पेन का अंकित मूल्य ज्ञात कीजिए।

- Ans
- 1. ₹165
  - 2. ₹200
  - 3. ₹150
  - 4. ₹331

Question Type : MCQ

Question ID : 630680629349

Option 1 ID : 6306802463479

Option 2 ID : 6306802463480

Option 3 ID : 6306802463481

Option 4 ID : 6306802463478

Status : Answered

Chosen Option : 1

Q.8 चार संख्याओं 5, 19, 7 और 25 में से प्रत्येक में क्या जोड़ा जाए, ताकि उन्हें आनुपातिक बनाया जा सके?

- Ans
- 1. 4
  - 2. 2
  - 3. 3
  - 4. 1

Question Type : MCQ

Question ID : 630680102056

Option 1 ID : 630680396583

Option 2 ID : 630680396581

Option 3 ID : 630680396582

Option 4 ID : 630680396580

Status : Answered

Chosen Option : 4

Q.9 एक दूकानदार को ₹80 प्रति kg और ₹90 प्रति kg की गेहूँ की दो किस्मों को किस अनुपात में मिलाना चाहिए, ताकि उसे मिश्रण को ₹105 प्रति kg पर बेचकर 25% का लाभ अर्जित हो?

- Ans
- 1. 2 : 3
  - 2. 3 : 2
  - 3. 21 : 16
  - 4. 6 : 7

Question Type : MCQ

Question ID : 630680417436

Option 1 ID : 6306801628503

Option 2 ID : 6306801628504

Option 3 ID : 6306801628506

Option 4 ID : 6306801628505

Status : Answered

Chosen Option : 2

Q.10 एक बेलन का वक्र पृष्ठीय क्षेत्रफल  $7920 \text{ cm}^2$  है। यदि इसके आधार की त्रिज्या 21 cm है, तो इसकी ऊंचाई \_\_\_\_\_ होगी ( $\pi = \frac{22}{7}$  का उपयोग करें)।

- Ans
- 1. 40 cm
  - 2. 30 cm
  - 3. 50 cm
  - 4. 60 cm

Question Type : MCQ

Question ID : 630680395107

Option 1 ID : 6306801540697

Option 2 ID : 6306801540696

Option 3 ID : 6306801540698

Option 4 ID : 6306801540699

Status : Answered

Chosen Option : 4

- Q.11 दी गई तालिका का अध्ययन करें और उसके बाद पूछे गए प्रश्न का उत्तर दें।  
दी गई तालिका 2020-2022 के दौरान कक्षा X, XI और XII के छात्रों द्वारा प्राप्त प्रतिशत अंकों के बारे में जानकारी प्रदान करती है।

वर्ष	प्रतिशत अंक		
	X	XI	XII
2020	90	80	94
2021	80	85	96
2022	70	90	98

2020-2022 के दौरान Xवीं और XIIवीं कक्षा के औसत प्रतिशत अंकों के बीच क्या अंतर है?

- Ans  1. 18%  
 2. 16%  
 3. 96%  
 4. 80%

Question Type : MCQ

Question ID : 630680523839

Option 1 ID : 6306802047510

Option 2 ID : 6306802047507

Option 3 ID : 6306802047508

Option 4 ID : 6306802047509

Status : Answered

Chosen Option : 2

- Q.12 ढक्कन (lid) वाले एक आइसक्रीम कोन का संपूर्ण पृष्ठीय क्षेत्रफल, एक निश्चित त्रिज्या वाले दूसरे वृत्त के क्षेत्रफल के बराबर है। यदि वृत्त की त्रिज्या, शंकु की तिर्यक ऊंचाई और त्रिज्या के औसत के बराबर है, तो शंकु की तिर्यक ऊंचाई और वृत्त की त्रिज्या का अनुपात ज्ञात कीजिए।

- Ans  1. 2 : 3  
 2. 1 : 3  
 3. 3 : 1  
 4. 3 : 2

Question Type : MCQ

Question ID : 630680387190

Option 1 ID : 6306801509455

Option 2 ID : 6306801509456

Option 3 ID : 6306801509457

Option 4 ID : 6306801509454

Status : Answered

Chosen Option : 4

Q.13 किस राशि (₹ में) पर 8% प्रति वर्ष की ब्याज दर से 2 वर्षों में ₹240 का साधारण ब्याज अर्जित होगा?

Ans  1. 1500

2. 2500

3. 3000

4. 750

Question Type : MCQ

Question ID : 630680612168

Option 1 ID : 6306802395404

Option 2 ID : 6306802395407

Option 3 ID : 6306802395406

Option 4 ID : 6306802395405

Status : Answered

Chosen Option : 1

Q.14 एक दुकानदार ₹50/लीटर पर तेल खरीदता है और उसे ₹54/लीटर पर बेचता है। बेचते समय वह 1 लीटर के स्थान पर 900 ml तेल देता है। उसका लाभ प्रतिशत क्या है?

Ans  1. 18%

2. 21%

3. 20%

4. 14%

Question Type : MCQ

Question ID : 630680135756

Option 1 ID : 630680525743

Option 2 ID : 630680525742

Option 3 ID : 630680525744

Option 4 ID : 630680525745

Status : Answered

Chosen Option : 2

Q.15 2 वर्षों के लिए 4% वार्षिक की ब्याज दर पर उधार ली गई राशि ₹3500 पर साधारण ब्याज (₹ में) ज्ञात कीजिए।

Ans  1. 240

2. 280

3. 220

4. 320

Question Type : MCQ

Question ID : 630680591963

Option 1 ID : 6306802316322

Option 2 ID : 6306802316319

Option 3 ID : 6306802316321

Option 4 ID : 6306802316320

Status : Answered

Chosen Option : 2

Q.16 एक नाव धारा के अनुकूल 21 km की दूरी 3 घंटे में तय करती है और धारा के प्रतिकूल 14 km की दूरी 7 घंटे में तय करती है। नाव और नदी की चाल ज्ञात कीजिए।

- Ans
- 1. 2.6 km/h और 4.8 km/h
  - 2. 3.2 km/h और 4.8 km/h
  - 3. 6.4 km/h और 4.6 km/h
  - 4. 4.5 km/h और 2.5 km/h

Question Type : MCQ

Question ID : 630680136393

Option 1 ID : 630680528218

Option 2 ID : 630680528221

Option 3 ID : 630680528219

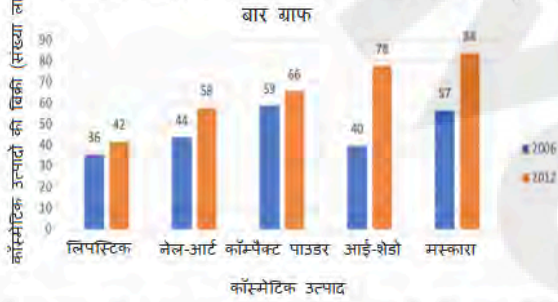
Option 4 ID : 630680528220

Status : Answered

Chosen Option : 4

Q.17 एक कॉस्मेटिक कंपनी पाँच अलग-अलग उत्पाद उपलब्ध कराती है। निम्नलिखित बार ग्राफ में वर्ष 2006 और 2012 में इन पाँचों उत्पादों की बिक्री (लाख में) दर्शाई गई है।

वर्ष 2006 और 2012 के दौरान एक कंपनी द्वारा निर्मित पाँच कॉस्मेटिक उत्पादों (संख्या लाख में) की बिक्री को दर्शाते हुए



वर्ष 2012 में सभी पाँचों कॉस्मेटिक उत्पादों की कुल बिक्री में वर्ष 2006 में सभी पाँचों कॉस्मेटिक उत्पादों की कुल बिक्री से कितने प्रतिशत (निकटतम पूर्णांक तक पूर्णांकित) की वृद्धि हुई है?

- Ans
- 1. 33%
  - 2. 28%
  - 3. 39%
  - 4. 42%

Question Type : MCQ

Question ID : 630680523714

Option 1 ID : 6306802047008

Option 2 ID : 6306802047010

Option 3 ID : 6306802047009

Option 4 ID : 6306802047007

Status : Answered

Chosen Option : 2

Q.18 सैम ने ₹375 प्रति दर्जन की दर से 20 दर्जन खिलौने खरीदे। उसने उनमें से प्रत्येक को ₹33 की दर से बेच दिया। उसका लाभ प्रतिशत कितना था ?

- Ans
- 1. 5.6%
  - 2. 6.5%
  - 3. 3.5%
  - 4. 4.5%

Question Type : MCQ  
Question ID : 630680115660  
Option 1 ID : 630680447992  
Option 2 ID : 630680447993  
Option 3 ID : 630680447990  
Option 4 ID : 630680447991  
Status : Answered  
Chosen Option : 4

Q.19 समान चाल से चल रही एक रेलगाड़ी 900 m और 486 m लंबे दो पुलों को क्रमशः 110 सेकंड और 70 सेकंड में पार करती है। रेलगाड़ी की लंबाई (m में) कितनी है?

- Ans
- 1. 253.8
  - 2. 238.5
  - 3. 283.5
  - 4. 225.7

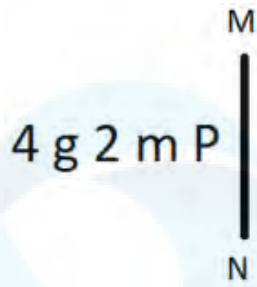
Question Type : MCQ  
Question ID : 630680630907  
Option 1 ID : 6306802469581  
Option 2 ID : 6306802469582  
Option 3 ID : 6306802469580  
Option 4 ID : 6306802469583  
Status : Answered  
Chosen Option : 2

Q.20 41 संख्याओं का औसत 62 है। प्रथम 18 संख्याओं का औसत 65.5 है, और अंतिम 24 संख्याओं का औसत 61.5 है। यदि आरंभ से शुरू करते हुए 18वीं संख्या को हटा दी जाए, तो शेष संख्याओं का औसत कितना है?

- Ans
- 1. 60.5
  - 2. 60.725
  - 3. 61.625
  - 4. 61.325

Question Type : MCQ  
Question ID : 630680277288  
Option 1 ID : 6306801077601  
Option 2 ID : 6306801077602  
Option 3 ID : 6306801077604  
Option 4 ID : 6306801077603  
Status : Answered  
Chosen Option : 2

Q.1 दी गई आकृति के उस सही दर्पण प्रतिबिंब को चुनिए, जो नीचे दर्शाए गए अनुसार दर्पण को MN पर रखने पर बनेगा।



Ans

1. 9 2 m g P

2. 9 m 2 g P

3. d 2 m g P

4. P m 2 g 4

Question Type : MCQ

Question ID : 630680525245

Option 1 ID : 6306802053065

Option 2 ID : 6306802053066

Option 3 ID : 6306802053067

Option 4 ID : 6306802053064

Status : Answered

Chosen Option : 2

Q.2 A, B, C, D, E, F और G एक वृत्ताकार मेज के चारों ओर केंद्र की ओर पीठ करके बैठे हैं (परंतु जरूरी नहीं कि वे इसी क्रम में बैठे हों)। D के दाएँ से गिनती करने पर A और D के बीच में केवल 2 व्यक्ति बैठे हैं। B और C दोनों G के निकटतम पड़ोसी हैं। F, E के ठीक बाएँ बैठा है। C के बाएँ से गिनती करने पर C और E के बीच में केवल 1 व्यक्ति बैठा है। G के दाएँ से गिनती करने पर G और D के बीच में कितने व्यक्ति बैठे हैं?

Ans

1. 4

2. 3

3. 2

4. 1

Question Type : MCQ

Question ID : 630680379597

Option 1 ID : 6306801479434

Option 2 ID : 6306801479433

Option 3 ID : 6306801479432

Option 4 ID : 6306801479431

Status : Answered

Chosen Option : 1

Q.3 एक निश्चित कूट भाषा में, 'have good food' को 'ti ma ka' के रूप में कूटबद्ध किया जाता है और 'nutritious food healthy' को 'ka lu pe' के रूप में कूटबद्ध किया जाता है। दी गई भाषा में 'food' को किस प्रकार कूटबद्ध किया गया है?

- Ans
- 1. ma
  - 2. lu
  - 3. ti
  - 4. ka

Question Type : MCQ

Question ID : 630680378940

Option 1 ID : 6306801476808

Option 2 ID : 6306801476809

Option 3 ID : 6306801476807

Option 4 ID : 6306801476810

Status : Answered

Chosen Option : 4

Q.4 निम्नलिखित श्रृंखला में प्रश्न चिह्न (?) के स्थान पर क्या आना चाहिए?

800, 700, 600, 500, 400, ?

- Ans
- 1. 300
  - 2. 789
  - 3. 656
  - 4. 399

Question Type : MCQ

Question ID : 630680405565

Option 1 ID : 6306801581441

Option 2 ID : 6306801581439

Option 3 ID : 6306801581438

Option 4 ID : 6306801581440

Status : Answered

Chosen Option : 1

Q.5 सुनीता, लोकेश, बबीता, ईशा, अकरम, आलोक और किरण एक वृत्ताकार मेज के चारों ओर केंद्र की ओर मुख करके बैठे हैं (परंतु जरूरी नहीं कि वे इसी क्रम में बैठे हों)। सुनीता, बबीता की निकटतम पड़ोसी है। लोकेश, बबीता के दाएँ से दूसरे स्थान पर बैठा है। ईशा, अकरम के दाएँ से चौथे स्थान पर बैठी है। आलोक, लोकेश के दाएँ से तीसरे स्थान पर बैठा है। ईशा, आलोक के बाएँ से दूसरे स्थान पर बैठी है। बबीता के दाएँ से तीसरे स्थान पर कौन बैठा/बैठी है?

- Ans
- 1. लोकेश
  - 2. किरण
  - 3. ईशा
  - 4. आलोक

Question Type : MCQ

Question ID : 630680388242

Option 1 ID : 6306801513493

Option 2 ID : 6306801513491

Option 3 ID : 6306801513490

Option 4 ID : 6306801513492

Status : Answered

Chosen Option : 3

Q.6 दिए गए कथन और निष्कर्षों को ध्यान से पढ़िए। यह मानते हुए कि कथन में दी गई जानकारी सत्य है, चाहे वह सामान्य रूप से ज्ञात तथ्यों से भिन्न प्रतीत होती हो, निर्धारित कीजिए कि दिए गए निष्कर्षों में से कौन-सा, कथन (कथनों) का तार्किक रूप से अनुसरण करता है/करते हैं।

कथन:

कुछ डेस्कटॉप, मॉनिटर हैं।  
कोई मॉनिटर, टेलीविजन नहीं है।

निष्कर्ष:

(I) कुछ डेस्कटॉप, टेलीविजन हैं।  
(II) कुछ मॉनिटर, डेस्कटॉप हैं।

- Ans
- 1. केवल निष्कर्ष (I) अनुसरण करता है।
  - 2. केवल निष्कर्ष (II) अनुसरण करता है।
  - 3. निष्कर्ष (I) और (II) दोनों अनुसरण करते हैं।
  - 4. न तो निष्कर्ष (I) और न ही (II) अनुसरण करता है।

Question Type : MCQ

Question ID : 630680832779

Option 1 ID : 6306803262093

Option 2 ID : 6306803262094

Option 3 ID : 6306803262096

Option 4 ID : 6306803262095

Status : Answered

Chosen Option : 2

Q.7 4, एक निश्चित तर्क का अनुसरण करते हुए 17 से संबंधित है। 5, उसी तर्क का अनुसरण करते हुए 26 से संबंधित है। उसी तर्क का अनुसरण करते हुए 10 निम्नलिखित में से किससे संबंधित है?

(ध्यान दें: संख्याओं को उनके घटक अंकों में अलग-अलग किए बिना पूर्ण संख्याओं पर संक्रियाएं की जानी चाहिए। उदाहरण के लिए संख्या 13 - संख्या 13 पर संक्रियाएं जैसे 13 को जोड़ना/घटाना/गुणा करना आदि किया जा सकता है। 13 को 1 और 3 में अलग-अलग करने की और फिर 1 और 3 पर गणितीय संक्रियाएं करने की अनुमति नहीं है।)

- Ans
- 1. 121
  - 2. 103
  - 3. 101
  - 4. 99

Question Type : MCQ

Question ID : 630680449986

Option 1 ID : 6306801757107

Option 2 ID : 6306801757109

Option 3 ID : 6306801757108

Option 4 ID : 6306801757106

Status : Answered

Chosen Option : 2

Q.8 अंग्रेजी वर्णमाला क्रम के आधार पर दी गई श्रृंखला में प्रश्न-चिह्न (?) के स्थान पर क्या आएगा?

ISC, GPF, EMI, CJL, ?

Ans  1. BGO

2. AGP

3. BGP

4. AGO

Question Type : **MCQ**

Question ID : **630680459284**

Option 1 ID : **6306801793989**

Option 2 ID : **6306801793992**

Option 3 ID : **6306801793990**

Option 4 ID : **6306801793991**

Status : **Answered**

Chosen Option : 4

Q.9 निम्नलिखित समीकरण को सही बनाने के लिए किन दो चिह्नों को आपस में बदला जाना चाहिए?

$$30 \div 9 \times 2 + 70 - 14 = 17$$

Ans  1. + और ×

2. + और ×

3. + और -

4. - और +

Question Type : **MCQ**

Question ID : **630680412003**

Option 1 ID : **6306801606849**

Option 2 ID : **6306801606850**

Option 3 ID : **6306801606847**

Option 4 ID : **6306801606848**

Status : **Answered**

Chosen Option : 3

Q.10 चार संख्या-त्रिक दिए गए हैं, जिनमें से तीन किसी न किसी प्रकार से समान हैं, जबकि एक असंगत है। उस असंगत संख्या-त्रिक का चयन कीजिए।

(ध्यान दें: संख्याओं को उनके घटक अंकों में अलग-अलग किए बिना पूर्ण संख्याओं पर संक्रियाएं की जानी चाहिए। उदाहरण के लिए संख्या 13 - संख्या 13 पर संक्रियाएं जैसे 13 को जोड़ना/घटाना/गुणा करना आदि किया जा सकता है। 13 को 1 और 3 में अलग-अलग करने की और फिर 1 और 3 पर गणितीय संक्रियाएं करने की अनुमति नहीं है।)

- Ans
- 1. (3, 6, 36)
  - 2. (8, 16, 256)
  - 3. (5, 10, 100)
  - 4. (9, 18, 320)

Question Type : MCQ

Question ID : 630680388194

Option 1 ID : 6306801513338

Option 2 ID : 6306801513340

Option 3 ID : 6306801513339

Option 4 ID : 6306801513341

Status : Answered

Chosen Option : 4

Q.11 अंग्रेजी वर्णानुक्रम के आधार पर RXPL एक निश्चित प्रकार से OUMI से संबंधित है। ठीक उसी प्रकार TZRN, QWOK से संबंधित है। समान तर्क का अनुसरण करते हुए PVNJ निम्नलिखित में से किससे संबंधित है?

- Ans
- 1. SMGK
  - 2. MSKG
  - 3. SMKG
  - 4. MSGK

Question Type : MCQ

Question ID : 630680435886

Option 1 ID : 6306801701496

Option 2 ID : 6306801701493

Option 3 ID : 6306801701495

Option 4 ID : 6306801701494

Status : Answered

Chosen Option : 2

Q.12 एक निश्चित कूट भाषा में, 'ARE IS WHAT' को '11 22 44' लिखा जाता है और 'WHY HOW ARE' को '44 33 55' लिखा जाता है और 'WHO WHAT HOW' को '33 11 66' लिखा जाता है। उस कूट भाषा में 'IS' को कैसे लिखा जाएगा?

- Ans
- 1. 44
  - 2. 11
  - 3. 33
  - 4. 22

Question Type : MCQ

Question ID : 630680439087

Option 1 ID : 6306801714160

Option 2 ID : 6306801714162

Option 3 ID : 6306801714163

Option 4 ID : 6306801714161

Status : Answered

Chosen Option : 4

Q.13 एक निश्चित कूट भाषा में, 'sparrow pigeon eagle' को '11 55 33' लिखा जाता है और 'cat eagle bat' को '33 22 99' लिखा जाता है और 'pigeon bat rat' को '22 55 88' लिखा जाता है। उस कूट भाषा में 'rat' को कैसे लिखा जाएगा?

Ans  1. 88

2. 22

3. 33

4. 55

Question Type : **MCQ**

Question ID : **630680439081**

Option 1 ID : **6306801714138**

Option 2 ID : **6306801714137**

Option 3 ID : **6306801714136**

Option 4 ID : **6306801714139**

Status : **Answered**

Chosen Option : 1

Q.14 एक निश्चित कूट भाषा में, 'LIVE' को '2648' के रूप में कूटबद्ध किया जाता है और 'EAST' को '3215' के रूप में कूटबद्ध किया जाता है। उस भाषा में 'E' के लिए कूट क्या है?

Ans  1. 8

2. 5

3. 2

4. 3

Question Type : **MCQ**

Question ID : **630680435853**

Option 1 ID : **6306801701364**

Option 2 ID : **6306801701363**

Option 3 ID : **6306801701361**

Option 4 ID : **6306801701362**

Status : **Answered**

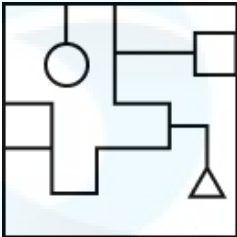
Chosen Option : 2

Q.15 उस विकल्प आकृति का चयन कीजिए, जिसमें दी गई आकृति उसके भाग के रूप में सन्निहित है (घुमाने की अनुमति नहीं है)।

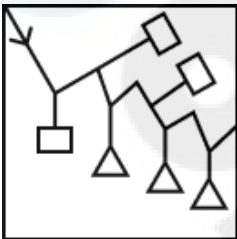


Ans

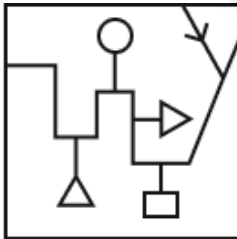
✗ 1.



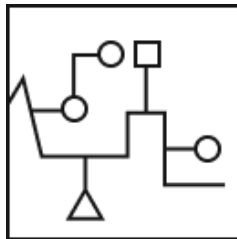
✗ 2.



✗ 3.



✓ 4.



Question Type : MCQ

Question ID : 630680487076

Option 1 ID : 6306801902454

Option 2 ID : 6306801902457

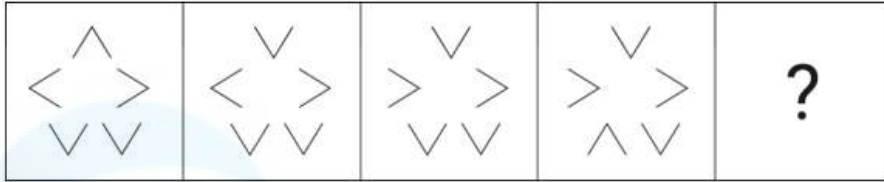
Option 3 ID : 6306801902456

Option 4 ID : 6306801902455

Status : Answered

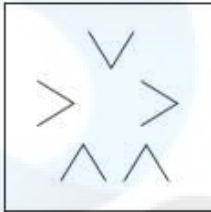
Chosen Option : 4

Q.16 विकल्पों में दी गई उस आकृति की पहचान कीजिए जिसे '?' के स्थान पर रखने पर श्रृंखला तार्किक रूप से पूर्ण हो जाएगी।

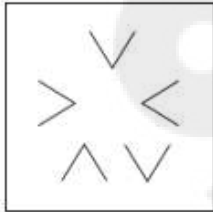


Ans

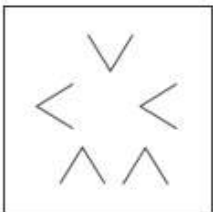
✓ 1.



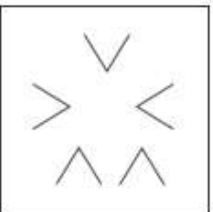
✗ 2.



✗ 3.



✗ 4.



Question Type : MCQ

Question ID : 630680467810

Option 1 ID : 6306801827143

Option 2 ID : 6306801827145

Option 3 ID : 6306801827144

Option 4 ID : 6306801827142

Status : Answered

Chosen Option : 4

Q.17 '4KC2' एक निश्चित प्रकार से '6MA4' से संबंधित है। ठीक उसी प्रकार, '3MN4', '5OL6' से संबंधित है। उसी तर्क का अनुसरण करते हुए '5NO3' निम्नलिखित में से किससे संबंधित है?

Ans  1. 7PM5

2. 6MO7

3. 5OM7

4. 8PL6

Question Type : MCQ

Question ID : 630680381039

Option 1 ID : 6306801485134

Option 2 ID : 6306801485131

Option 3 ID : 6306801485133

Option 4 ID : 6306801485132

Status : Answered

Chosen Option : 1

Q.18 दिए गए कथनों और निष्कर्षों को ध्यानपूर्वक पढ़ें। यह मानते हुए कि कथनों में दी गई जानकारी सत्य है, भले ही यह सामान्यतः ज्ञात तथ्यों से भिन्न प्रतीत होती हो, निर्णय लें कि दिए गए निष्कर्षों में से कौन सा/से निष्कर्ष कथनों का तार्किक रूप से अनुसरण करता है/करते हैं।

कथन:

सभी उद्यान, संग्रहालय हैं।

सभी संग्रहालय, पार्क हैं।

निष्कर्ष:

(I) कुछ संग्रहालय, उद्यान हैं।

(II) सभी उद्यान, पार्क हैं।

Ans  1. केवल निष्कर्ष II अनुसरण करता है

2. निष्कर्ष I और निष्कर्ष II दोनों अनुसरण करते हैं

3. केवल निष्कर्ष I अनुसरण करता है

4. न तो निष्कर्ष I और न ही निष्कर्ष II अनुसरण करता है

Question Type : MCQ

Question ID : 630680379575

Option 1 ID : 6306801479344

Option 2 ID : 6306801479345

Option 3 ID : 6306801479343

Option 4 ID : 6306801479346

Status : Answered

Chosen Option : 1

Q.19 यदि '+' और '-' को आपस में बदल दिया जाए तथा 'x' और '÷' को आपस में बदल दिया जाए, तो निम्नलिखित समीकरण में प्रश्न-चिह्न (?) के स्थान पर क्या आएगा?  
 $69 - 24 \div 4 \times 6 + 13 = ?$

Ans  1. 72

2. 70

3. 68

4. 86

Question Type : MCQ

Question ID : 630680380572

Option 1 ID : 6306801483276

Option 2 ID : 6306801483278

Option 3 ID : 6306801483275

Option 4 ID : 6306801483277

Status : Answered

Chosen Option : 1

Q.20 दिए गए विकल्पों में से उस आकृति का चयन कीजिए, जो प्रश्न-चिह्न (?) के स्थान पर आएगी और श्रृंखला को तार्किक रूप से पूर्ण करेगी।

X	⊥	#	Σ	⊥	X	?
#	Σ	⊥	X	Σ	#	

Ans

✓ 1.

Σ	#
X	⊥

✗ 2.

X	Σ
⊥	#

✗ 3.

X	⊥
#	Σ

✗ 4.

#	⊥
Σ	X

Question Type : MCQ

Question ID : 630680272940

Option 1 ID : 6306801060320

Option 2 ID : 6306801060322

Option 3 ID : 6306801060319

Option 4 ID : 6306801060321

Status : Answered

Chosen Option : 1

Section : General Awareness

Q.1 निम्नलिखित में से कौन-सा क्षेत्र राष्ट्रीय श्रेष्ठता पुरस्कार (National Eminence Award) द्वारा समाविष्ट (covered) नहीं किया गया है?

- Ans
- 1. सभी शैलियों और उत्पत्ति का संगीत
  - 2. नृत्य
  - 3. रंगमंच
  - 4. साहित्य

Question Type : MCQ

Question ID : 630680512010

Option 1 ID : 6306802001010

Option 2 ID : 6306802001011

Option 3 ID : 6306802001013

Option 4 ID : 6306802001012

Status : Answered

Chosen Option : 4

Q.2 गुणसूत्रों का अभिरंजन करने के लिए (achieve staining) किस विशिष्ट रसायन का उपयोग किया जा सकता है?

- Ans
- 1. एसिटोकार्मिन (Acetocarmine)
  - 2. एथेनॉल (Ethanol)
  - 3. मेथनॉल (Methanol)
  - 4. हाइड्रोक्लोरिक अम्ल (Hydrochloric acid)

Question Type : MCQ

Question ID : 630680270157

Option 1 ID : 6306801049881

Option 2 ID : 6306801049882

Option 3 ID : 6306801049879

Option 4 ID : 6306801049880

Status : Answered

Chosen Option : 1

Q.3 जे.जे. थॉमसन को 1898 में कौन-सा मॉडल विकसित करने के लिए जाना जाता है?

- Ans
- 1. गोल्ड फॉयल मॉडल (Gold foil model)
  - 2. डबल-स्लिट मॉडल (Double-slit model)
  - 3. आयल ड्रॉप मॉडल (Oil drop model)
  - 4. प्लम पुडिंग मॉडल (Plum pudding model)

Question Type : MCQ

Question ID : 630680402989

Option 1 ID : 6306801571527

Option 2 ID : 6306801571529

Option 3 ID : 6306801571528

Option 4 ID : 6306801571530

Status : Answered

Chosen Option : 4

Q.4 निम्नलिखित में से किस देश ने सर्वाधिक T20 महिला क्रिकेट विश्वकप खिताब जीते हैं?

- Ans  1. इंग्लैंड  
 2. ऑस्ट्रेलिया  
 3. वेस्टइंडीज  
 4. भारत

Question Type : MCQ

Question ID : 630680309459

Option 1 ID : 6306801203992

Option 2 ID : 6306801203989

Option 3 ID : 6306801203990

Option 4 ID : 6306801203991

Status : Answered

Chosen Option : 2

Q.5 आईगॉट (IGOT) कर्मयोगी एक एकीकृत ऑनलाइन प्रशिक्षण मंच है, जो \_\_\_\_\_ को उनके कौशल को उन्नत करने के लिए सतत अभ्यास के अवसर प्रदान करता है।

- Ans  1. व्यक्तिगत सिविल सेवा अधिकारियों  
 2. पत्रकारों  
 3. वकीलों  
 4. असंगठित श्रमिकों

Question Type : MCQ

Question ID : 630680467183

Option 1 ID : 6306801824677

Option 2 ID : 6306801824678

Option 3 ID : 6306801824680

Option 4 ID : 6306801824679

Status : Answered

Chosen Option : 1

Q.6 निम्नलिखित में से किस राज्य में एओलेंग मोन्यू (Aoleang Monyü) मनाया जाता है, जो अप्रैल के महीने में सभी कोन्याक (Konyaks) द्वारा मनाया जाने वाला एक प्राचीन वसंत उत्सव है?

- Ans  1. तेलंगाना  
 2. नागालैंड  
 3. बिहार  
 4. ओडिशा

Question Type : MCQ

Question ID : 630680403352

Option 1 ID : 6306801572921

Option 2 ID : 6306801572918

Option 3 ID : 6306801572919

Option 4 ID : 6306801572920

Status : Answered

Chosen Option : 2

Q.7 भारतीय संविधान के किस अनुच्छेद में उच्च न्यायालय के न्यायाधीशों की नियुक्ति का प्रावधान है?

Ans  1. अनुच्छेद 217

2. अनुच्छेद 202

3. अनुच्छेद 252

4. अनुच्छेद 119

Question Type : MCQ

Question ID : 630680407821

Option 1 ID : 6306801590224

Option 2 ID : 6306801590223

Option 3 ID : 6306801590225

Option 4 ID : 6306801590222

Status : Answered

Chosen Option : 1

Q.8 'वन्स अ डांसर (Once a Dancer)' किसकी आत्मकथा है?

Ans  1. एलेग्रा केंट (Allegra Kent)

2. सुधा चंद्रन (Sudha Chandran)

3. यामिनी कृष्णमूर्ति (Yamini Krishnamurthy)

4. आड्री हेपबर्न (Audrey Hepburn)

Question Type : MCQ

Question ID : 630680474195

Option 1 ID : 6306801852474

Option 2 ID : 6306801852477

Option 3 ID : 6306801852476

Option 4 ID : 6306801852475

Status : Answered

Chosen Option : 2

Q.9 सभी प्राकृतिक भूकंप कहाँ आते हैं?

Ans  1. स्थलमंडल (Lithosphere)

2. जीवमंडल (Biosphere)

3. दुर्बलतामंडल (Asthenosphere)

4. जलमंडल (Hydrosphere)

Question Type : MCQ

Question ID : 630680455672

Option 1 ID : 6306801779637

Option 2 ID : 6306801779639

Option 3 ID : 6306801779638

Option 4 ID : 6306801779640

Status : Answered

Chosen Option : 1

Q.10 निम्नलिखित में से कौन-सा निजी क्षेत्र के उद्योग का उदाहरण है?

- Ans
- 1. स्टील अथॉरिटी ऑफ इंडिया लिमिटेड
  - 2. भारत हेवी इलेक्ट्रिकल्स लिमिटेड
  - 3. टाटा आयरन एंड स्टील कंपनी
  - 4. लाइफ इन्शुरेंस कॉर्पोरेशन

Question Type : MCQ

Question ID : 630680209258

Option 1 ID : 630680811247

Option 2 ID : 630680811248

Option 3 ID : 630680811249

Option 4 ID : 630680811250

Status : Answered

Chosen Option : 3

Q.11 कर्नाटक गायिका बॉम्बे जयश्री को 2023 में किस संगीत पुरस्कार के लिए चुना गया है?

- Ans
- 1. संगीत कलाशिखामणि (Sangeetha Kalasikhamani)
  - 2. संगीत कलासारथी (Sangeetha Kalasarathy)
  - 3. संगीत चूड़ामणि (Sangeetha Choodamani)
  - 4. संगीत कलानिधि (Sangita Kalanidhi)

Question Type : MCQ

Question ID : 630680482667

Option 1 ID : 6306801885138

Option 2 ID : 6306801885139

Option 3 ID : 6306801885141

Option 4 ID : 6306801885140

Status : Answered

Chosen Option : 1

Q.12 किसी कैदी के शीघ्र सुनवाई के अधिकार को निम्नलिखित में से किस मौलिक अधिकार में वर्गीकृत किया जाएगा?

- Ans
- 1. समानता का अधिकार
  - 2. संवैधानिक उपचारों का अधिकार
  - 3. जीवन का अधिकार
  - 4. शोषण के विरुद्ध अधिकार

Question Type : MCQ

Question ID : 630680587158

Option 1 ID : 6306802297164

Option 2 ID : 6306802297167

Option 3 ID : 6306802297165

Option 4 ID : 6306802297166

Status : Answered

Chosen Option : 2

Q.13 महाकाव्य कविता, सावित्री, जिसे इसके लेखक ने 'एक किंवदंती और एक प्रतीक (A Legend and a Symbol)' के रूप में वर्णित किया है, \_\_\_\_\_ द्वारा लिखी गई थी।

- Ans  1. अरबिंदो घोष  
 2. महात्मा फुले  
 3. बाल गंगाधर तिलक  
 4. बाबा साहेब अम्बेडकर

Question Type : MCQ  
Question ID : 630680275928  
Option 1 ID : 6306801072226  
Option 2 ID : 6306801072223  
Option 3 ID : 6306801072225  
Option 4 ID : 6306801072224  
Status : Answered  
Chosen Option : 2

Q.14 विशाखापत्तनम के निकट अराकू घाटी (Araku Valley) में निम्नलिखित में से कौन-सा भारतीय आदिवासी नृत्य प्रचलित है?

- Ans  1. बारदो छम (Bardo Chham)  
 2. बागुरुम्बा (Bagurumba)  
 3. झुमुर (Jhumur)  
 4. धिमसा (Dhimsa)

Question Type : MCQ  
Question ID : 630680546608  
Option 1 ID : 6306802137003  
Option 2 ID : 6306802137004  
Option 3 ID : 6306802137005  
Option 4 ID : 6306802137006  
Status : Answered  
Chosen Option : 1

Q.15 मध्यकालीन युग के किस इतिहासकार ने यह माना कि रज़िया (Raziyya) अपने सभी भाइयों से अधिक सक्षम और योग्य थी?

- Ans  1. मिन्हाज-ए-सिराज (Minhaj-i-Siraj)  
 2. मुहम्मद जुनेदी (Muhammad Junaidi)  
 3. ताज-उद-दीन (Taj-ud-din)  
 4. फ़ख़रूल-मुल्क-इसामी (Fakhrul-Mulk-Isami)

Question Type : MCQ  
Question ID : 630680282919  
Option 1 ID : 6306801099809  
Option 2 ID : 6306801099810  
Option 3 ID : 6306801099807  
Option 4 ID : 6306801099808  
Status : Answered  
Chosen Option : 1

Q.16 ज़स्कर (Zaskar) और नुब्रा (Nubra) किस नदी की सहायक नदियाँ हैं?

- Ans
- 1. कावेरी
  - 2. गंगा
  - 3. सिंधु
  - 4. महानदी

Question Type : MCQ

Question ID : 630680477101

Option 1 ID : 6306801863598

Option 2 ID : 6306801863597

Option 3 ID : 6306801863600

Option 4 ID : 6306801863599

Status : Answered

Chosen Option : 2

Q.17 तक्षशिला में चिरा टोपे (Chira Tope) स्तूप का उत्खनन किसके द्वारा करवाया गया था?

- Ans
- 1. जॉन मार्शल (John Marshall)
  - 2. जेम्स मिल (James Mill)
  - 3. एलेक्जेंडर कनिंघम (Alexander Cunningham)
  - 4. जेम्स प्रिंसेप (James Prinsep)

Question Type : MCQ

Question ID : 630680511904

Option 1 ID : 6306802000586

Option 2 ID : 6306802000589

Option 3 ID : 6306802000588

Option 4 ID : 6306802000587

Status : Answered

Chosen Option : 4

Q.18 भारत की 2011 की जनगणना के अनुसार, भारत का जनसंख्या घनत्व कितना है?

- Ans
- 1. 388/km<sup>2</sup>
  - 2. 382/km<sup>2</sup>
  - 3. 360/km<sup>2</sup>
  - 4. 375/km<sup>2</sup>

Question Type : MCQ

Question ID : 630680115473

Option 1 ID : 630680447243

Option 2 ID : 630680447242

Option 3 ID : 630680447245

Option 4 ID : 630680447244

Status : Answered

Chosen Option : 2

Q.19 निम्नलिखित में से किस वर्ष में सिकंदर ने पंजाब पर आक्रमण किया और निम्नलिखित में से किस वर्ष में उसकी मृत्यु हुई?

- Ans
- 1. 326 ईसा पूर्व और 327 ईसा पूर्व
  - 2. 323 ईसा पूर्व और 328 ईसा पूर्व
  - 3. 320 ईसा पूर्व और 323 ईसा पूर्व
  - 4. 326 ईसा पूर्व और 323 ईसा पूर्व

Question Type : MCQ

Question ID : 630680649696

Option 1 ID : 6306802543920

Option 2 ID : 6306802543921

Option 3 ID : 6306802543919

Option 4 ID : 6306802543918

Status : Not Answered

Chosen Option : --

Q.20 फरवरी 2024 में, उत्तराखंड उच्च न्यायालय की पहली महिला मुख्य न्यायाधीश के रूप में किसने शपथ ली?

- Ans
- 1. सुजाता मनोहर (Sujata Manohar)
  - 2. ज्ञान सुधा मिश्रा (Gyan Sudha Mishra)
  - 3. रंजना देसाई (Ranjana Desai)
  - 4. रितु बाहरी (Ritu Bahri)

Question Type : MCQ

Question ID : 630680595839

Option 1 ID : 6306802331545

Option 2 ID : 6306802331547

Option 3 ID : 6306802331546

Option 4 ID : 6306802331544

Status : Answered

Chosen Option : 2

Q.21 किस ट्रैक एंड फील्ड (track and field) प्रतियोगिता में जल कूद (water jump) होती है?

- Ans
- 1. अनुप्रस्थ देश दौड़ (Cross country running)
  - 2. बाधा दौड़ (Hurdles running)
  - 3. स्टीपलचेज़ (Steeplechase)
  - 4. डिकैथलॉन (Decathlon)

Question Type : MCQ

Question ID : 63068061634

Option 1 ID : 630680237856

Option 2 ID : 630680237857

Option 3 ID : 630680237854

Option 4 ID : 630680237855

Status : Answered

Chosen Option : 1

Q.22 निम्नलिखित में से कौन-सा बजटीय शासन (budgetary governance) के बारे में OECD द्वारा निर्धारित सिद्धांत नहीं है?

- Ans
- 1. बजट के निष्पादन की योजना, प्रबंधन और निगरानी अग्रसक्रिय रूप से की जानी चाहिए।
  - 2. सरकार की मध्यम अवधि की रणनीतिक प्राथमिकताओं के साथ बजट का संरेखण।
  - 3. राष्ट्रीय विकास की आवश्यकताओं को पूरा करने के लिए पूंजी बजटन ढांचे को डिजाइन करना।
  - 4. यह नागरिकों को बजटीय चर्चाओं में भाग लेने की अनुमति नहीं देता है।

Question Type : MCQ

Question ID : 630680448001

Option 1 ID : 6306801749255

Option 2 ID : 6306801749253

Option 3 ID : 6306801749256

Option 4 ID : 6306801749254

Status : Not Answered

Chosen Option : --

Q.23 निम्नलिखित में से किस अधिनियम में न्यायाधिकरणों की प्रणाली और हड़तालों पर प्रतिबंध लगाने का प्रावधान था?

- Ans
- 1. सम्मति आयु अधिनियम, 1891
  - 2. भारत सरकार अधिनियम, 1912
  - 3. भारतीय भागीदारी अधिनियम, 1932
  - 4. व्यापार विवाद अधिनियम, 1929

Question Type : MCQ

Question ID : 630680302823

Option 1 ID : 6306801177954

Option 2 ID : 6306801177956

Option 3 ID : 6306801177957

Option 4 ID : 6306801177955

Status : Not Answered

Chosen Option : --

Q.24 यदि मच्छर द्वारा काटे जाने के बाद कोई व्यक्ति मलेरिया पॉजिटिव पाया जाता है, तो निम्नलिखित में से कौन-सा सत्य होगा?

- A. व्यक्ति को संतुलित आहार नहीं मिलता था।
- B. मच्छर प्लाज़्मोडियम वाहक था।
- C. मच्छर मलेरिया से पीड़ित था।
- D. व्यक्ति को बचपन में टीका नहीं लगाया गया था।

Ans  1. B

2. D

3. A

4. C

Question Type : MCQ

Question ID : 630680545192

Option 1 ID : 6306802131516

Option 2 ID : 6306802131518

Option 3 ID : 6306802131515

Option 4 ID : 6306802131517

Status : Answered

Chosen Option : 1

Q.25 'दशई (Dashain)' और 'तिहार (Tihar)' भारत के किस पड़ोसी देश के लोकप्रिय त्योहार हैं?

- Ans  1. नेपाल  
 2. श्रीलंका  
 3. पाकिस्तान  
 4. बांग्लादेश

Question Type : **MCQ**  
Question ID : **630680477691**  
Option 1 ID : **6306801865912**  
Option 2 ID : **6306801865915**  
Option 3 ID : **6306801865913**  
Option 4 ID : **6306801865914**  
Status : **Answered**  
Chosen Option : **2**

Section : English Language and Comprehension

Q.1 Select the **INCORRECTLY** spelt word in the following sentence.  
The restaurant's specialtiy is seafood.

- Ans  1. The  
 2. seafood  
 3. specialtiy  
 4. restaurant's

Question Type : **MCQ**  
Question ID : **630680421820**  
Option 1 ID : **6306801645723**  
Option 2 ID : **6306801645726**  
Option 3 ID : **6306801645725**  
Option 4 ID : **6306801645724**  
Status : **Answered**  
Chosen Option : **1**

Q.2 Identify the sentence with an error in the use of simple present tense.

- Ans  1. You do yoga every morning.  
 2. She walks every morning.  
 3. He go to school every day.  
 4. We brush our teeth daily.

Question Type : **MCQ**  
Question ID : **6306801106297**  
Option 1 ID : **6306804345621**  
Option 2 ID : **6306804345618**  
Option 3 ID : **6306804345620**  
Option 4 ID : **6306804345619**  
Status : **Answered**  
Chosen Option : **1**

**Q.3** Select the appropriate synonym of the underlined word.

The bride has an exquisite face.

- Ans  1. Beautiful  
 2. Ugly  
 3. Plain  
 4. Average

Question Type : **MCQ**  
Question ID : **630680726543**  
Option 1 ID : **6306802847179**  
Option 2 ID : **6306802847178**  
Option 3 ID : **6306802847180**  
Option 4 ID : **6306802847181**  
Status : **Answered**  
Chosen Option : 2

**Q.4** Select the most appropriate meaning of the underlined word.  
He took the right decision at that time.

- Ans  1. Someone's liberty and freedom  
 2. Something which is invalid  
 3. Something which is correct  
 4. A particular direction

Question Type : **MCQ**  
Question ID : **630680517454**  
Option 1 ID : **6306802022214**  
Option 2 ID : **6306802022215**  
Option 3 ID : **6306802022213**  
Option 4 ID : **6306802022212**  
Status : **Answered**  
Chosen Option : 4

**Q.5** In the following sentence the underlined part contains an error. Alternatives to the underlined part are given as options. Select the correct alternative.  
When they left for Mexico, their house was in good condition than it is now.

- Ans  1. more good  
 2. best  
 3. excellent  
 4. better

Question Type : **MCQ**  
Question ID : **630680514727**  
Option 1 ID : **6306802011534**  
Option 2 ID : **6306802011533**  
Option 3 ID : **6306802011535**  
Option 4 ID : **6306802011536**  
Status : **Answered**  
Chosen Option : 4

**Q.6** The following sentence has been split into four segments. Identify the segment that contains a grammatical error.

She received / an award / for her work / in a engineering field.

- Ans
- 1. an award
  - 2. She received
  - 3. in a engineering field.
  - 4. for her work

Question Type : **MCQ**  
Question ID : **630680798893**  
Option 1 ID : **6306803130379**  
Option 2 ID : **6306803130378**  
Option 3 ID : **6306803130381**  
Option 4 ID : **6306803130380**  
Status : **Answered**  
Chosen Option : **3**

**Q.7** The following sentence has been divided into parts. One of them may contain an error. Select the part that contains the error from the given options. If you don't find any error, mark 'No error' as your answer.

There is only one way / to have a happier marred life / and I will learn it soon.

- Ans
- 1. No error
  - 2. There is only one way
  - 3. to have a happier marred life
  - 4. and I will learn it soon.

Question Type : **MCQ**  
Question ID : **630680629520**  
Option 1 ID : **6306802464145**  
Option 2 ID : **6306802464142**  
Option 3 ID : **6306802464143**  
Option 4 ID : **6306802464144**  
Status : **Answered**  
Chosen Option : **3**

**Q.8** Select the most appropriate meaning of the underlined word in the context of the following sentence.

The palm is a native of Malaysia. We can find them in groves.

- Ans
- 1. A type of tree
  - 2. Inner surface of the hand
  - 3. A type of soil
  - 4. A pamphlet

Question Type : **MCQ**  
Question ID : **630680517516**  
Option 1 ID : **6306802022460**  
Option 2 ID : **6306802022461**  
Option 3 ID : **6306802022462**  
Option 4 ID : **6306802022463**  
Status : **Answered**  
Chosen Option : **1**

Q.9 In the given sentence, one of the four underlined words is incorrectly spelt. Identify the INCORRECTLY spelt word.

The scientific community gave credance to the new research findings after rigorous testing and validation.

- Ans
- 1. community
  - 2. credance
  - 3. validation
  - 4. rigorous

Question Type : MCQ  
Question ID : 630680616816  
Option 1 ID : 6306802413508  
Option 2 ID : 6306802413509  
Option 3 ID : 6306802413511  
Option 4 ID : 6306802413510  
Status : Answered  
Chosen Option : 4

Q.10 Select the most appropriate synonym of the underlined word in the given sentence.

Her fear of public speaking was a major hurdle in her career.

- Ans
- 1. Encouragement
  - 2. Support
  - 3. Stimulus
  - 4. Obstacle

Question Type : MCQ  
Question ID : 630680396966  
Option 1 ID : 6306801547930  
Option 2 ID : 6306801547928  
Option 3 ID : 6306801547931  
Option 4 ID : 6306801547929  
Status : Answered  
Chosen Option : 4

Q.11 Select the most appropriate option to fill in the blank.

The teacher encouraged students to cultivate a \_\_\_\_\_ attitude towards learning, embracing challenges as opportunities for growth.

- Ans
- 1. stagnant
  - 2. complacent
  - 3. resilient
  - 4. redundant

Question Type : MCQ  
Question ID : 630680598829  
Option 1 ID : 6306802343076  
Option 2 ID : 6306802343075  
Option 3 ID : 6306802343074  
Option 4 ID : 6306802343077  
Status : Answered  
Chosen Option : 2

Q.12 Select the option that rectifies the spelling of the underlined word in the given sentence.

How can one justify sending sound waves into space when they cannot travel through a vacum?

- Ans  1. vacuum  
 2. vaccum  
 3. vacume  
 4. vaccuum

Question Type : MCQ  
Question ID : 630680799107  
Option 1 ID : 6306803131229  
Option 2 ID : 6306803131226  
Option 3 ID : 6306803131227  
Option 4 ID : 6306803131228  
Status : Answered  
Chosen Option : 2

Q.13 Select the most appropriate idiom to fill in the blank.

We hear the judges from their \_\_\_\_\_ that only CNG buses should run in Delhi.

- Ans  1. melting pot  
 2. look sharp  
 3. ivory tower  
 4. square meal

Question Type : MCQ  
Question ID : 630680454091  
Option 1 ID : 6306801773302  
Option 2 ID : 6306801773300  
Option 3 ID : 6306801773299  
Option 4 ID : 6306801773301  
Status : Answered  
Chosen Option : 1

Q.14 Select the most appropriate option that can substitute the underlined segment in the given sentence.

The government is developing a new test in the recruitment and training of teachers in the upcoming session.

- Ans  1. for recruitment or training of teachers  
 2. in recruitment and training on teachers  
 3. of the recruitment and training of teachers  
 4. for the recruitment and training of teachers

Question Type : MCQ  
Question ID : 630680597060  
Option 1 ID : 6306802336284  
Option 2 ID : 6306802336282  
Option 3 ID : 6306802336283  
Option 4 ID : 6306802336281  
Status : Answered  
Chosen Option : 3

**Q.15** Select the most appropriate option that can substitute the highlighted word(s) in the given sentence.

The fleets of Anthony were not merely defeated, also destroyed by Augustus Caesar.

- Ans  1. not only defeated, but also destroyed  
 2. merely defeated, however destroyed  
 3. only defeated, and destroyed  
 4. merely defeated, though destroyed

Question Type : **MCQ**

Question ID : **630680564264**

Option 1 ID : **6306802206011**

Option 2 ID : **6306802206013**

Option 3 ID : **6306802206012**

Option 4 ID : **6306802206014**

Status : **Not Answered**

Chosen Option : --

**Q.16** Select the most appropriate synonym of the given word.  
Preserve

- Ans  1. Ignore  
 2. Complain  
 3. Consume  
 4. Maintain

Question Type : **MCQ**

Question ID : **630680726536**

Option 1 ID : **6306802847152**

Option 2 ID : **6306802847150**

Option 3 ID : **6306802847151**

Option 4 ID : **6306802847153**

Status : **Answered**

Chosen Option : 4

**Q.17** Select the most appropriate phrase that can substitute the underlined segment in the given sentence.

The question paper was very easy to complete.

- Ans  1. the last straw  
 2. fair and square  
 3. a snowball effect  
 4. a piece of cake

Question Type : **MCQ**

Question ID : **630680146330**

Option 1 ID : **630680566210**

Option 2 ID : **630680566213**

Option 3 ID : **630680566211**

Option 4 ID : **630680566212**

Status : **Answered**

Chosen Option : 4

Q.18 Select the most appropriate option that can substitute the underlined segment in the given sentence. If there is no need to substitute it, select 'No substitution required'.

The car, with all its features, were meticulously designed.

- Ans  1. its features, was meticulously  
 2. No substitution required  
 3. it's features, were meticulously  
 4. its features, have meticulously

Question Type : MCQ

Question ID : 630680490239

Option 1 ID : 6306801914864

Option 2 ID : 6306801914866

Option 3 ID : 6306801914863

Option 4 ID : 6306801914865

Status : Answered

Chosen Option : 4

Q.19 In the following sentence the underlined part contains an error. Below are given alternatives to the underlined part. Select the correct alternative.

Kanha National Park in MP is the dense forest in India.

- Ans  1. more denser  
 2. denser  
 3. most dense  
 4. densest

Question Type : MCQ

Question ID : 630680514701

Option 1 ID : 6306802011431

Option 2 ID : 6306802011429

Option 3 ID : 6306802011430

Option 4 ID : 6306802011432

Status : Answered

Chosen Option : 4

Q.20 Select the most appropriate adjective to fill in the blank.

The Nile is the \_\_\_\_\_ river in the world.

- Ans  1. most long  
 2. longer  
 3. longest  
 4. long

Question Type : MCQ

Question ID : 63068087144

Option 1 ID : 630680337968

Option 2 ID : 630680337966

Option 3 ID : 630680337967

Option 4 ID : 630680337965

Status : Answered

Chosen Option : 3

**Comprehension:**

In the following passage, some words have been deleted. Fill in the blanks with the help of the alternatives given. Select the most appropriate option for each number.

How environmental problems \_\_\_\_1\_\_\_\_ different groups is a function of social inequality. Social status and power determine the \_\_\_\_2\_\_\_\_ to which people can insulate themselves from environmental crises or overcome them. In some cases, their 'solutions' may actually worsen environmental disparities. In Kutch, Gujarat, where water is scarce, richer farmers have \_\_\_\_3\_\_\_\_ in deep bore tubewells to tap groundwater to irrigate their fields and grow cash crops. When the rains fail, the earthen wells of the poorer villagers run dry and they do not even have water to drink. At such times, the moist green fields of the rich farmers seem to mock them. Certain environmental concerns sometimes appear to be universal concerns, not particular to \_\_\_\_4\_\_\_\_ social groups. For instance, \_\_\_\_5\_\_\_\_ air pollution or protecting biodiversity seems to be in the public interest. A sociological analysis shows, however, that how public priorities are set and how they are pursued may not be universally beneficial.

**SubQuestion No : 21**

**Q.21** Select the most appropriate option to fill in blank number 1.

Ans  1. Affect

2. Effect

3. Partial

4. Adopt

Question Type : **MCQ**

Question ID : **630680557026**

Option 1 ID : **6306802177069**

Option 2 ID : **6306802177068**

Option 3 ID : **6306802177067**

Option 4 ID : **6306802177070**

Status : **Answered**

Chosen Option : **1**

**Comprehension:**

In the following passage, some words have been deleted. Fill in the blanks with the help of the alternatives given. Select the most appropriate option for each number.

How environmental problems \_\_\_\_1\_\_\_\_ different groups is a function of social inequality. Social status and power determine the \_\_\_\_2\_\_\_\_ to which people can insulate themselves from environmental crises or overcome them. In some cases, their 'solutions' may actually worsen environmental disparities. In Kutch, Gujarat, where water is scarce, richer farmers have \_\_\_\_3\_\_\_\_ in deep bore tubewells to tap groundwater to irrigate their fields and grow cash crops. When the rains fail, the earthen wells of the poorer villagers run dry and they do not even have water to drink. At such times, the moist green fields of the rich farmers seem to mock them. Certain environmental concerns sometimes appear to be universal concerns, not particular to \_\_\_\_4\_\_\_\_ social groups. For instance, \_\_\_\_5\_\_\_\_ air pollution or protecting biodiversity seems to be in the public interest. A sociological analysis shows, however, that how public priorities are set and how they are pursued may not be universally beneficial.

**SubQuestion No : 22**

**Q.22 Select the most appropriate option to fill in blank number 2.**

- Ans  1. Various  
 2. Extent  
 3. Scope  
 4. Expanse

Question Type : **MCQ**

Question ID : **630680557027**

Option 1 ID : **6306802177073**

Option 2 ID : **6306802177074**

Option 3 ID : **6306802177071**

Option 4 ID : **6306802177072**

Status : **Answered**

Chosen Option : **3**

**Comprehension:**

In the following passage, some words have been deleted. Fill in the blanks with the help of the alternatives given. Select the most appropriate option for each number.

How environmental problems \_\_\_\_1\_\_\_\_ different groups is a function of social inequality. Social status and power determine the \_\_\_\_2\_\_\_\_ to which people can insulate themselves from environmental crises or overcome them. In some cases, their 'solutions' may actually worsen environmental disparities. In Kutch, Gujarat, where water is scarce, richer farmers have \_\_\_\_3\_\_\_\_ in deep bore tubewells to tap groundwater to irrigate their fields and grow cash crops. When the rains fail, the earthen wells of the poorer villagers run dry and they do not even have water to drink. At such times, the moist green fields of the rich farmers seem to mock them. Certain environmental concerns sometimes appear to be universal concerns, not particular to \_\_\_\_4\_\_\_\_ social groups. For instance, \_\_\_\_5\_\_\_\_ air pollution or protecting biodiversity seems to be in the public interest. A sociological analysis shows, however, that how public priorities are set and how they are pursued may not be universally beneficial.

**SubQuestion No : 23**

**Q.23 Select the most appropriate option to fill in blank number 3.**

- Ans  1. Provided  
 2. Invested  
 3. Capitalised  
 4. Licensed

Question Type : **MCQ**

Question ID : **630680557028**

Option 1 ID : **6306802177076**

Option 2 ID : **6306802177075**

Option 3 ID : **6306802177077**

Option 4 ID : **6306802177078**

Status : **Answered**

Chosen Option : **4**

**Comprehension:**

In the following passage, some words have been deleted. Fill in the blanks with the help of the alternatives given. Select the most appropriate option for each number.

How environmental problems \_\_\_\_1\_\_\_\_ different groups is a function of social inequality. Social status and power determine the \_\_\_\_2\_\_\_\_ to which people can insulate themselves from environmental crises or overcome them. In some cases, their 'solutions' may actually worsen environmental disparities. In Kutch, Gujarat, where water is scarce, richer farmers have \_\_\_\_3\_\_\_\_ in deep bore tubewells to tap groundwater to irrigate their fields and grow cash crops. When the rains fail, the earthen wells of the poorer villagers run dry and they do not even have water to drink. At such times, the moist green fields of the rich farmers seem to mock them. Certain environmental concerns sometimes appear to be universal concerns, not particular to \_\_\_\_4\_\_\_\_ social groups. For instance, \_\_\_\_5\_\_\_\_ air pollution or protecting biodiversity seems to be in the public interest. A sociological analysis shows, however, that how public priorities are set and how they are pursued may not be universally beneficial.

**SubQuestion No : 24**

**Q.24 Select the most appropriate option to fill in blank number 4.**

- Ans
- 1. Exactly
  - 2. Specific
  - 3. Indefinitely
  - 4. Restriction

Question Type : **MCQ**

Question ID : **630680557029**

Option 1 ID : **6306802177079**

Option 2 ID : **6306802177080**

Option 3 ID : **6306802177082**

Option 4 ID : **6306802177081**

Status : **Answered**

Chosen Option : **2**

**Comprehension:**

In the following passage, some words have been deleted. Fill in the blanks with the help of the alternatives given. Select the most appropriate option for each number.

How environmental problems \_\_\_\_1\_\_\_\_ different groups is a function of social inequality. Social status and power determine the \_\_\_\_2\_\_\_\_ to which people can insulate themselves from environmental crises or overcome them. In some cases, their 'solutions' may actually worsen environmental disparities. In Kutch, Gujarat, where water is scarce, richer farmers have \_\_\_\_3\_\_\_\_ in deep bore tubewells to tap groundwater to irrigate their fields and grow cash crops. When the rains fail, the earthen wells of the poorer villagers run dry and they do not even have water to drink. At such times, the moist green fields of the rich farmers seem to mock them. Certain environmental concerns sometimes appear to be universal concerns, not particular to \_\_\_\_4\_\_\_\_ social groups. For instance, \_\_\_\_5\_\_\_\_ air pollution or protecting biodiversity seems to be in the public interest. A sociological analysis shows, however, that how public priorities are set and how they are pursued may not be universally beneficial.

**SubQuestion No : 25**

**Q.25 Select the most appropriate option to fill in blank number 5.**

- Ans
- 1. Manipulating
  - 2. Increasing
  - 3. Abdicating
  - 4. Reducing

Question Type : **MCQ**

Question ID : **630680557030**

Option 1 ID : **6306802177085**

Option 2 ID : **6306802177084**

Option 3 ID : **6306802177086**

Option 4 ID : **6306802177083**

Status : **Not Answered**

Chosen Option : --