

## Multi Tasking Non Technical Staff and Havaladar CBIC and CBN Examination 2024

Roll Number	
Candidate Name	
Venue Name	Sri Balaji College Of Engineering And Technology
Exam Date	23/10/2024
Exam Time	12:30 PM - 2:30 PM
Subject	MTS Non Tech Havaladar CBIC and CBN Examination 2024

### Section : Numerical and Mathematical Ability

Q.1 एक जार में 45% सिरप वाला मिश्रण है। इस मिश्रण के एक हिस्से को 30% सिरप वाले दूसरे मिश्रण से बदल दिया जाता है। नए मिश्रण में 34% सिरप पाया जाता है। नया मिश्रण प्राप्त करने के लिए इन मिश्रणों को किस अनुपात में मिलाया जाना चाहिए?

- Ans
- 1. 7 : 10
  - 2. 5 : 13
  - 3. 3 : 14
  - 4. 4 : 11

Question Type : MCQ

Question ID : 630680403286

Option 1 ID : 6306801572644

Option 2 ID : 6306801572643

Option 3 ID : 6306801572645

Option 4 ID : 6306801572642

Status : Answered

Chosen Option : 4

Q.2 40 kg, 49 kg, 56 kg, 66 kg और 36 kg वजन वाले पांच सदस्यों के एक परिवार का औसत वजन (kg) में कितना होगा?

- Ans
- 1. 50.4
  - 2. 51.4
  - 3. 48.4
  - 4. 49.4

Question Type : MCQ

Question ID : 630680551635

Option 1 ID : 6306802156766

Option 2 ID : 6306802156768

Option 3 ID : 6306802156767

Option 4 ID : 6306802156765

Status : Answered

Chosen Option : 4

Q.3 गेहूँ की कीमत और चावल की कीमत का अनुपात 9 : 11 है, जबकि घरेलु खपत (गेहूँ और चावल की) का अनुपात 11 : 13 है। गेहूँ और चावल पर खर्च के अनुपात का परिकलन कीजिए।

Ans  1. 13 : 7

2. 9 : 13

3. 13 : 9

4. 7 : 13

Question Type : MCQ

Question ID : 630680456324

Option 1 ID : 6306801782269

Option 2 ID : 6306801782268

Option 3 ID : 6306801782270

Option 4 ID : 6306801782267

Status : Answered

Chosen Option : 2

Q.4 यदि एक कार की चाल 81 km/hr है। तो कार द्वारा 24 सेकंड में तय की गई दूरी कितनी है?

Ans  1. 560 मीटर

2. 270 मीटर

3. 280 मीटर

4. 540 मीटर

Question Type : MCQ

Question ID : 630680629367

Option 1 ID : 6306802463545

Option 2 ID : 6306802463544

Option 3 ID : 6306802463543

Option 4 ID : 6306802463542

Status : Answered

Chosen Option : 4

Q.5 2 वर्षों के लिए 8% वार्षिक की ब्याज दर पर उधार ली गई राशि ₹3000 पर साधारण ब्याज (₹ में) ज्ञात कीजिए।

Ans  1. 480

2. 440

3. 420

4. 520

Question Type : MCQ

Question ID : 630680591948

Option 1 ID : 6306802316259

Option 2 ID : 6306802316262

Option 3 ID : 6306802316261

Option 4 ID : 6306802316260

Status : Answered

Chosen Option : 1

Q.6 स्थिर जल में एक नाव की चाल 12 km/h है और धारा 3 km/h की चाल से बह रही है। नाव में धारा के अनुकूल 24 मिनट में तय की गई दूरी कितनी है?

- Ans
- 1. 4 km
  - 2. 7 km
  - 3. 5 km
  - 4. 6 km

Question Type : MCQ

Question ID : 630680120893

Option 1 ID : 630680468546

Option 2 ID : 630680468549

Option 3 ID : 630680468548

Option 4 ID : 630680468547

Status : Answered

Chosen Option : 4

Q.7 निधि ने अपना स्कूटर ₹80442 में बेचा, जिससे उसे विक्रय मूल्य के  $\frac{1}{6}$  भाग के बराबर लाभ प्राप्त हुआ।

लाभ प्रतिशत ज्ञात कीजिए।

- Ans
- 1. 20%
  - 2. 10%
  - 3. 35%
  - 4. 15%

Question Type : MCQ

Question ID : 630680931099

Option 1 ID : 6306803649202

Option 2 ID : 6306803649204

Option 3 ID : 6306803649205

Option 4 ID : 6306803649203

Status : Answered

Chosen Option : 1

Q.8 35 cm त्रिज्या वाले एक धातु के गोले को पिघलाया जाता है और बाद में कई छोटे-छोटे ठोस शंकुओं में ढाला जाता है, जिनमें से प्रत्येक का व्यास 14 cm और ऊंचाई 4 cm है। इस प्रक्रिया के परिणामस्वरूप कितने शंकु बनते हैं?

- Ans
- 1. 875
  - 2. 825
  - 3. 850
  - 4. 900

Question Type : MCQ

Question ID : 630680379697

Option 1 ID : 6306801479833

Option 2 ID : 6306801479831

Option 3 ID : 6306801479832

Option 4 ID : 6306801479834

Status : Answered

Chosen Option : 1

Q.9 दी गई तालिका तीन वर्षों के दौरान तीन संगठनों में कर्मचारियों की संख्या को दर्शाती है।

वर्ष	2015	2016	2017
संगठन			
L	1421	1230	1652
M	1459	1825	1740
N	1620	1125	1235

2015 में संगठन L और M में मिलाकर कर्मचारियों की कुल संख्या और 2017 में संगठन M और N में मिलाकर कर्मचारियों की कुल संख्या के बीच क्रमशः अनुपात (respective ratio) क्या है?

- Ans
- 1. 576 : 595
  - 2. 376 : 295
  - 3. 595 : 576
  - 4. 295 : 376

Question Type : MCQ

Question ID : 630680523772

Option 1 ID : 6306802047239

Option 2 ID : 6306802047241

Option 3 ID : 6306802047240

Option 4 ID : 6306802047242

Status : Answered

Chosen Option : 1

Q.10 यदि 9 के पहले 15 गुणजों का औसत  $x$  है, तो  $x$  का मान कितना है?

- Ans
- 1. 68
  - 2. 72
  - 3. 114
  - 4. 78

Question Type : MCQ

Question ID : 630680108467

Option 1 ID : 630680420833

Option 2 ID : 630680420832

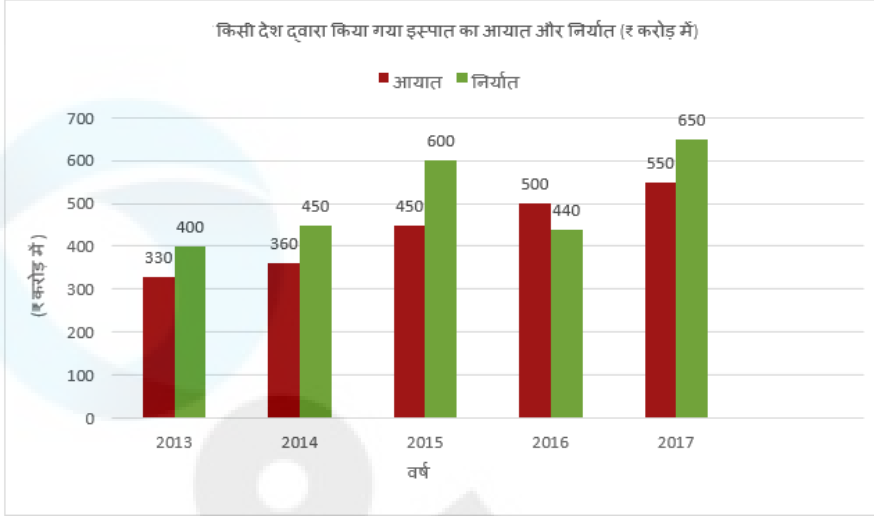
Option 3 ID : 630680420835

Option 4 ID : 630680420834

Status : Answered

Chosen Option : 2

Q.11 दिया गया बार ग्राफ वर्ष 2013 से 2017 के दौरान किसी देश द्वारा इस्पात के आयात और निर्यात (₹ करोड़ में) को दर्शाता है।



वर्ष 2013, 2015 और 2017 में हुआ कुल आयात, सभी वर्षों में मिलाकर हुए निर्यात का कितना प्रतिशत है (दशमलव के एक स्थान तक सही)?

- Ans
- 1. 51.6%
  - 2. 52.4%
  - 3. 53.8%
  - 4. 54.7%

Question Type : MCQ

Question ID : 630680422121

Option 1 ID : 6306801646919

Option 2 ID : 6306801646920

Option 3 ID : 6306801646921

Option 4 ID : 6306801646922

Status : Answered

Chosen Option : 2

Q.12 एक छात्र पहले तीन महीनों में प्रति माह औसतन ₹4,000 बचाता है। उसे अगले 9 महीनों तक प्रति माह औसतन कितनी बचत (₹ में) करनी चाहिए ताकि पूरे वर्ष में प्रति माह औसतन बचत ₹4,375 हो?

- Ans
- 1. 4187.5
  - 2. 4000
  - 3. 4500
  - 4. 4200

Question Type : MCQ

Question ID : 630680815848

Option 1 ID : 6306803196725

Option 2 ID : 6306803196728

Option 3 ID : 6306803196727

Option 4 ID : 6306803196726

Status : Answered

Chosen Option : 3

Q.13 20 m गहरे एक बेलनाकार बर्तन के आंतरिक वक्रपृष्ठ को पेंट करने का खर्च ₹4,400 है। यदि पेंटिंग की दर ₹40 प्रति  $m^2$  है, तो उस बर्तन का संपूर्ण पृष्ठीय क्षेत्रफल ( $m^2$  में) दशमलव के दो स्थानों तक सही ज्ञात कीजिए। ( $\pi = \frac{22}{7}$  का उपयोग करें)।

- Ans
- 1. 116.81  $m^2$
  - 2. 117.81  $m^2$
  - 3. 114.81  $m^2$
  - 4. 115.81  $m^2$

Question Type : MCQ

Question ID : 630680526606

Option 1 ID : 6306802058492

Option 2 ID : 6306802058493

Option 3 ID : 6306802058490

Option 4 ID : 6306802058491

Status : Answered

Chosen Option : 3

Q.14 यदि 156 और 96 का महत्तम समापवर्तक (HCF),  $156 \times 12 + 96A$  के प्रारूप में व्यक्त किया जा सकता है, तो A का मान क्या है?

- Ans
- 1. -19.735
  - 2. -19.375
  - 3. 19.375
  - 4. 19.735

Question Type : MCQ

Question ID : 630680101467

Option 1 ID : 630680394391

Option 2 ID : 630680394389

Option 3 ID : 630680394388

Option 4 ID : 630680394390

Status : Answered

Chosen Option : 2

Q.15 एक वस्तु की कीमत 40% कम हो जाती है और इसकी बिक्री 80% बढ़ जाती है। आमदनी पर इसका निवल प्रभाव ज्ञात कीजिए।

- Ans
- 1. 8% कमी
  - 2. 8% वृद्धि
  - 3. 10% वृद्धि
  - 4. 10% कमी

Question Type : MCQ

Question ID : 630680464539

Option 1 ID : 6306801814191

Option 2 ID : 6306801814192

Option 3 ID : 6306801814193

Option 4 ID : 6306801814194

Status : Answered

Chosen Option : 2

Q.16 रीना ₹900 में एक आयरन खरीदती है और उसे 12% हानि पर बेचती है। आयरन का विक्रय मूल्य कितना है?

Ans  1. ₹792

2. ₹825

3. ₹763

4. ₹658

Question Type : MCQ

Question ID : 630680476116

Option 1 ID : 6306801859719

Option 2 ID : 6306801859720

Option 3 ID : 6306801859722

Option 4 ID : 6306801859721

Status : Answered

Chosen Option : 1

Q.17 एक निश्चित धनराशि पर समान ब्याज दर पर 12 वर्ष के लिए अर्जित साधारण ब्याज और 15 वर्ष के लिए अर्जित साधारण ब्याज का अनुपात क्या होगा?

Ans  1. 3 : 4

2. 4 : 5

3. 2 : 3

4. 2 : 5

Question Type : MCQ

Question ID : 630680815896

Option 1 ID : 6306803196918

Option 2 ID : 6306803196919

Option 3 ID : 6306803196917

Option 4 ID : 6306803196920

Status : Answered

Chosen Option : 2

Q.18 एक अर्द्धगोलाकार कटोरा 1 cm मोटे तांबे से बना है। कटोरे की आंतरिक त्रिज्या 6 cm है। यदि पेंट करने की लागत Rs.2 प्रति  $\text{cm}^2$  है तो कटोरे के बाह्य वक्र पृष्ठीय क्षेत्रफल को पेंट करने की लागत ज्ञात करें। ( $\pi = \frac{22}{7}$  लें)

Ans  1. Rs.552

2. Rs.604

3. Rs.586

4. Rs.616

Question Type : MCQ

Question ID : 630680112611

Option 1 ID : 630680436138

Option 2 ID : 630680436140

Option 3 ID : 630680436139

Option 4 ID : 630680436141

Status : Answered

Chosen Option : 4

Q.19 4 वर्षों के लिए 9% वार्षिक की ब्याज दर पर उधार ली गई राशि ₹2000 पर साधारण ब्याज (₹ में) ज्ञात कीजिए।

- Ans  1. 660  
 2. 680  
 3. 760  
 4. 720

Question Type : MCQ

Question ID : 630680591885

Option 1 ID : 6306802316009

Option 2 ID : 6306802316010

Option 3 ID : 6306802316008

Option 4 ID : 6306802316007

Status : Answered

Chosen Option : 4

Q.20 एक दुकानदार, एक वस्तु पर खरीदारों के लिए निम्नलिखित चार अलग-अलग छूट योजनाएं प्रदान करता है।

- A. 8% की दो क्रमागत छूट  
B. 11% की छूट के बाद 5% की छूट  
C. 13% और 3% की क्रमागत छूट  
D. 16% की छूट

यदि राजीव इस दुकान से न्यूनतम मूल्य पर वस्तु खरीदना चाहता है, तो उसे किस छूट योजना का चयन करना होगा?

- Ans  1. B  
 2. A  
 3. D  
 4. C

Question Type : MCQ

Question ID : 630680432661

Option 1 ID : 6306801688639

Option 2 ID : 6306801688638

Option 3 ID : 6306801688641

Option 4 ID : 6306801688640

Status : Answered

Chosen Option : 3

Section : Reasoning Ability and Problem Solving

Q.1 A, B, C, D, E, F और G एक वृत्ताकार मेज के चारों ओर केंद्र की ओर मुख करके बैठे हैं (परंतु जरूरी नहीं कि वे इसी क्रम में बैठे हों)। G के दाएँ से गिनती करने पर G और A के बीच में केवल 2 व्यक्ति बैठे हैं। E के दाएँ से गिनती करने पर E और D के बीच में केवल 2 व्यक्ति बैठे हैं। E, A का निकटतम पड़ोसी है। C के बाएँ से गिनती करने पर B और C के बीच में केवल 2 व्यक्ति बैठे हैं। B के सापेक्ष में F का स्थान क्या है?

- Ans
- 1. दाएँ से दूसरा
  - 2. बाएँ से तीसरा
  - 3. बाएँ से दूसरा
  - 4. दाएँ से तीसरा

Question Type : MCQ

Question ID : 630680379596

Option 1 ID : 6306801479428

Option 2 ID : 6306801479429

Option 3 ID : 6306801479427

Option 4 ID : 6306801479430

Status : Answered

Chosen Option : 3

Q.2 JA 88 एक निश्चित प्रकार से OF 77 से संबंधित है। ठीक उसी प्रकार DT 55, IY 44 से संबंधित है। उसी तर्क का अनुसरण करते हुए LH 33 निम्नलिखित में से किससे संबंधित है?

- Ans
- 1. OS 22
  - 2. QM 22
  - 3. NU 25
  - 4. XD 77

Question Type : MCQ

Question ID : 630680436086

Option 1 ID : 6306801702286

Option 2 ID : 6306801702285

Option 3 ID : 6306801702287

Option 4 ID : 6306801702288

Status : Answered

Chosen Option : 2

Q.3 PUQV, अंग्रेजी वर्णानुक्रम के आधार पर एक निश्चित तरीके से RWSX से संबंधित है। उसी तरीके से JOKP, LQMR से संबंधित है। समान तर्क का अनुसरण करते हुए, MRNS निम्नलिखित में से किससे संबंधित है?

- Ans
- 1. OTPU
  - 2. TOPU
  - 3. OTUP
  - 4. TOUP

Question Type : MCQ

Question ID : 630680386598

Option 1 ID : 6306801507104

Option 2 ID : 6306801507103

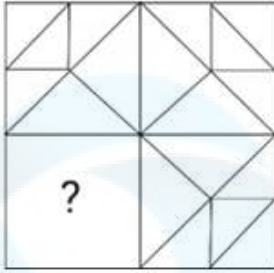
Option 3 ID : 6306801507105

Option 4 ID : 6306801507102

Status : Answered

Chosen Option : 1

Q.4 उस विकल्प आकृति का चयन कीजिए जो पैटर्न को पूरा करने के लिए नीचे दी गई आकृति में प्रश्न चिह्न (?) के स्थान पर आएगी।

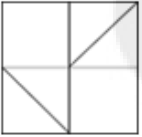


Ans

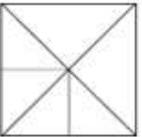
1.




2.



3.



4.



Question Type : MCQ

Question ID : 630680525777

Option 1 ID : 6306802055194

Option 2 ID : 6306802055192

Option 3 ID : 6306802055193

Option 4 ID : 6306802055195

Status : Answered

Chosen Option : 4

Q.5 एक निश्चित कूट भाषा में, 'MOBILE' को '789410' लिखा जाता है और 'PINK' को '2358' लिखा जाता है। उस कूट भाषा में 'I' को कैसे लिखा जाएगा?

Ans  1. 8

2. 3

3. 2

4. 5

Question Type : MCQ

Question ID : 630680439082

Option 1 ID : 6306801714140

Option 2 ID : 6306801714142

Option 3 ID : 6306801714141

Option 4 ID : 6306801714143

Status : Answered

Chosen Option : 1

Q.6 एक निश्चित कूटभाषा में, 'BASE' को '2416' के रूप में कूटबद्ध किया गया है और 'SOUP' को '3719' के रूप में कूटबद्ध किया गया है। उसी कूट भाषा में 'S' के लिए कूट क्या होगा?

- Ans
- 1. 2
  - 2. 6
  - 3. 3
  - 4. 1

Question Type : MCQ

Question ID : 630680846728

Option 1 ID : 6306803316641

Option 2 ID : 6306803316643

Option 3 ID : 6306803316642

Option 4 ID : 6306803316640

Status : Answered

Chosen Option : 4

Q.7 एक निश्चित तर्क का अनुसरण करते हुए 10, 99 से संबंधित है। उसी तर्क का अनुसरण करते हुए 14, 195 से संबंधित है। समान तर्क का अनुसरण करते हुए 22, निम्नलिखित में से किससे संबंधित है?

(ध्यान दें: संख्याओं को उनके घटक अंकों में अलग-अलग किए बिना पूर्ण संख्याओं पर संक्रियाएं की जानी चाहिए। उदाहरण के लिए संख्या 13 - संख्या 13 पर संक्रियाएं जैसे 13 को जोड़ना/घटाना/गुणा करना आदि किया जा सकता है। 13 को 1 और 3 में अलग-अलग करने की और फिर 1 और 3 पर गणितीय संक्रियाएं करने की अनुमति नहीं है।)

- Ans
- 1. 483
  - 2. 463
  - 3. 453
  - 4. 473

Question Type : MCQ

Question ID : 630680441691

Option 1 ID : 6306801724381

Option 2 ID : 6306801724379

Option 3 ID : 6306801724378

Option 4 ID : 6306801724380

Status : Answered

Chosen Option : 1

Q.8 नीचे संख्याओं के दो समुच्चय दिए गए हैं। संख्याओं के प्रत्येक समुच्चय में, पहली संख्या पर एक निश्चित गणितीय संक्रिया के परिणामस्वरूप दूसरी संख्या प्राप्त होती है। निम्न में से कौन-सा विकल्प प्रश्न में दी गई समान संक्रिया का अनुसरण करता है?

(ध्यान दें: संख्याओं को उनके घटक अंकों में अलग-अलग किए बिना पूर्ण संख्याओं पर संक्रियाएं की जानी चाहिए। उदाहरण के लिए संख्या 13 - संख्या 13 पर संक्रियाएं जैसे 13 को जोड़ना/घटाना/गुणा करना आदि किया जा सकता है। 13 को 1 और 3 में अलग-अलग करने की और फिर 1 और 3 पर गणितीय संक्रियाएं करने की अनुमति नहीं है।)

(21, 10)  
(87, 43)

- Ans  1. (25, 9)  
 2. (27, 13)  
 3. (18, 7)  
 4. (55, 21)

Question Type : MCQ

Question ID : 630680379174

Option 1 ID : 6306801477743

Option 2 ID : 6306801477746

Option 3 ID : 6306801477745

Option 4 ID : 6306801477744

Status : Answered

Chosen Option : 2

Q.9 निम्नलिखित समीकरण में प्रश्न चिह्न (?) के स्थान पर क्या आएगा, यदि '-' और '÷' को आपस में बदल दिया जाए और '+' और 'x' को आपस में बदल दिया जाए?

$$7 + 5 \div 4 + 5 \div 36 - 4 \times 7 = ?$$

- Ans  1. 15  
 2. 31  
 3. 13  
 4. 53

Question Type : MCQ

Question ID : 630680264628

Option 1 ID : 6306801028018

Option 2 ID : 6306801028017

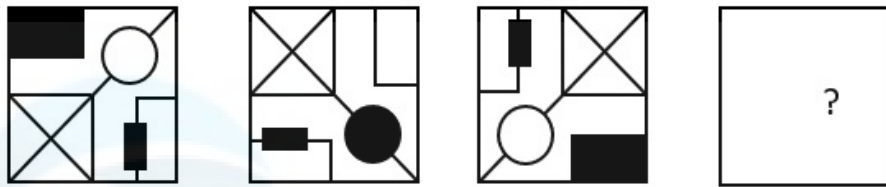
Option 3 ID : 6306801028015

Option 4 ID : 6306801028016

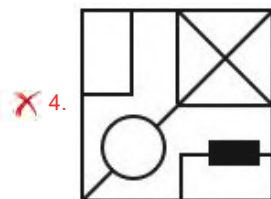
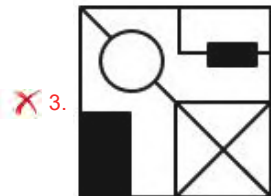
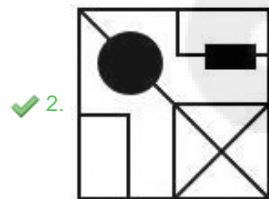
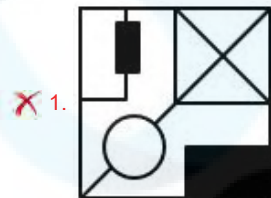
Status : Answered

Chosen Option : 3

Q.10 विकल्पों में दी गई उस आकृति की पहचान कीजिए, जिसे प्रश्न-चिह्न (?) के स्थान पर रखने पर श्रृंखला तार्किक रूप से पूर्ण हो जाएगी।



Ans



Question Type : MCQ

Question ID : 630680276828

Option 1 ID : 6306801075807

Option 2 ID : 6306801075810

Option 3 ID : 6306801075808

Option 4 ID : 6306801075809

Status : Answered

Chosen Option : 2

Q.11 दी गई श्रृंखला में प्रश्नवाचक चिन्ह (?) के स्थान पर क्या आना चाहिए?

13 21 33 49 ? 93

Ans  1. 82

2. 74

3. 69

4. 79

Question Type : **MCQ**

Question ID : **630680819514**

Option 1 ID : **6306803210254**

Option 2 ID : **6306803210252**

Option 3 ID : **6306803210251**

Option 4 ID : **6306803210253**

Status : **Answered**

Chosen Option : **3**

Q.12 एक निश्चित कूट भाषा में, 'find this clue' को 'ak dh fk' के रूप में लिखा जाता है और 'clue for you' को 'sg fk bo' के रूप में लिखा जाता है। दी गई भाषा में 'clue' को कैसे लिखा गया है?

Ans  1. sg

2. dh

3. ak

4. fk

Question Type : **MCQ**

Question ID : **630680378080**

Option 1 ID : **6306801473382**

Option 2 ID : **6306801473381**

Option 3 ID : **6306801473379**

Option 4 ID : **6306801473380**

Status : **Answered**

Chosen Option : **4**

Q.13 दिए गए कथनों और निष्कर्षों को ध्यानपूर्वक पढ़िए। यह मानते हुए कि कथनों में दी गई जानकारी सत्य है, चाहे वह सामान्यतः ज्ञात तथ्यों से भिन्न प्रतीत होती हो और निर्णय लीजिए कि दिए गए निष्कर्षों में से कौन-सा/कौन-से निष्कर्ष कथनों का तार्किक रूप से अनुसरण करता है/करते हैं।

कथन:

- सभी झीलें, नदियां हैं।
- सभी नदियां, बांध हैं।

निष्कर्ष:

- (I) कम से कम कुछ बांध, झीलें हैं।  
(II) सभी नदियां, झीलें हैं।

- Ans  1. केवल निष्कर्ष (I) अनुसरण करता है।  
 2. निष्कर्ष (I) और (II) दोनों अनुसरण करते हैं।  
 3. न तो निष्कर्ष (I) और न ही (II) अनुसरण करता है  
 4. केवल निष्कर्ष (II) अनुसरण करता है।

Question Type : MCQ

Question ID : 630680404880

Option 1 ID : 6306801579011

Option 2 ID : 6306801579014

Option 3 ID : 6306801579013

Option 4 ID : 6306801579012

Status : Answered

Chosen Option : 1

Q.14 दिए गए कथनों और निष्कर्षों को ध्यानपूर्वक पढ़िए। यह मानते हुए कि कथनों में दी गई जानकारी सत्य है, चाहे वह सामान्यतः ज्ञात तथ्यों से भिन्न प्रतीत होती हो और निर्णय लीजिए कि दिए गए निष्कर्षों में से कौन-सा/कौन-से निष्कर्ष कथनों का तार्किक रूप से अनुसरण करता है/करते हैं।

कथन:

कोई कौआ, तोता नहीं है।  
कोई तोता, गौरैया नहीं है।

निष्कर्ष:

- (I) कोई कौआ, गौरैया नहीं है।  
(II) कोई तोता, कौआ नहीं है।

- Ans  1. केवल निष्कर्ष II अनुसरण करता है  
 2. केवल निष्कर्ष I अनुसरण करता है  
 3. निष्कर्ष I और II दोनों अनुसरण करते हैं  
 4. न तो निष्कर्ष I और न ही II अनुसरण करता है

Question Type : MCQ

Question ID : 630680410639

Option 1 ID : 6306801601317

Option 2 ID : 6306801601316

Option 3 ID : 6306801601318

Option 4 ID : 6306801601319

Status : Marked For Review

Chosen Option : 3

Q.15 एक निश्चित कूट भाषा में, 'BUYS' को '5173' के रूप में कूटबद्ध किया जाता है और 'YOLK' को '6458' के रूप में कूटबद्ध किया जाता है। उसी कूट भाषा में 'V' के लिए कूट क्या है?

- Ans
- 1. 8
  - 2. 7
  - 3. 6
  - 4. 5

Question Type : MCQ

Question ID : 630680436126

Option 1 ID : 6306801702448

Option 2 ID : 6306801702447

Option 3 ID : 6306801702446

Option 4 ID : 6306801702445

Status : Answered

Chosen Option : 4

Q.16 छः छात्र अमित, शिवम, दिनेश, कमलेश, निहार और रोशन एक वृत्ताकार मेज के चारों ओर केंद्र की ओर मुख करके बैठे हैं (परंतु जरूरी नहीं कि वे इसी क्रम में बैठे हों)। अमित, शिवम के ठीक दाएँ बैठा है। दिनेश, शिवम के दाएँ से दूसरे स्थान पर बैठा है। निहार, दिनेश और रोशन दोनों का निकटतम पड़ोसी है। रोशन के ठीक दाएँ कौन बैठा है?

- Ans
- 1. निहार
  - 2. अमित
  - 3. शिवम
  - 4. कमलेश

Question Type : MCQ

Question ID : 630680386234

Option 1 ID : 6306801505646

Option 2 ID : 6306801505647

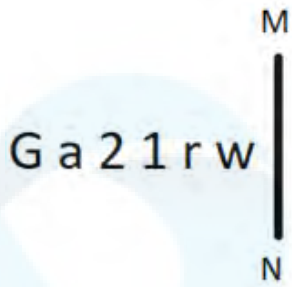
Option 3 ID : 6306801505649

Option 4 ID : 6306801505648

Status : Answered

Chosen Option : 1

Q.17 दी गई आकृति के उस सही दर्पण प्रतिबिंब को चुनिए, जो नीचे दर्शाए गए अनुसार दर्पण को MN पर रखने पर बनेगा।



- Ans
- ✓ 1. w 1 2 1 r G
  - ✗ 2. w 1 2 e G
  - ✗ 3. M 1 2 1 r G
  - ✗ 4. M 1 2 1 r G

Question Type : MCQ

Question ID : 630680525253

Option 1 ID : 6306802053097

Option 2 ID : 6306802053096

Option 3 ID : 6306802053098

Option 4 ID : 6306802053099

Status : Answered

Chosen Option : 1

Q.18 निम्नलिखित समीकरण को सही बनाने के लिए किन दो चिह्नों को आपस में बदला जाना चाहिए?

$$14 + 18 - 6 \times 15 \div 24 = 35$$

- Ans
- ✗ 1. ÷ और ×
  - ✗ 2. - और +
  - ✗ 3. + और ×
  - ✓ 4. - और ÷

Question Type : MCQ

Question ID : 630680412000

Option 1 ID : 6306801606835

Option 2 ID : 6306801606836

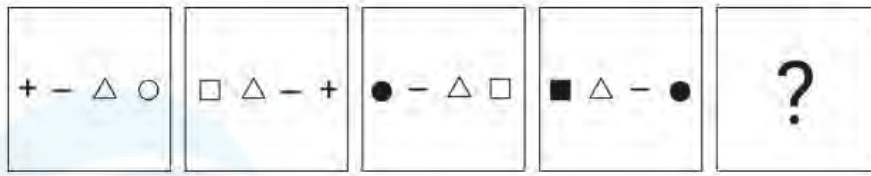
Option 3 ID : 6306801606838

Option 4 ID : 6306801606837

Status : Answered

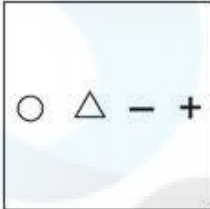
Chosen Option : 4

Q.19 दिए गए विकल्पों में से उस आकृति का चयन कीजिए, जिसे प्रश्न-चिह्न (?) के स्थान पर रखने पर श्रृंखला तार्किक रूप से पूर्ण हो जाएगी।

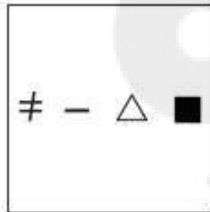


Ans

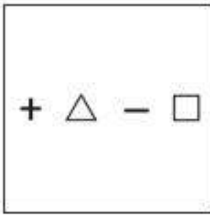
✗ 1.



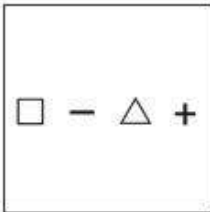
✓ 2.



✗ 3.



✗ 4.



Question Type : MCQ

Question ID : 630680276648

Option 1 ID : 6306801075089

Option 2 ID : 6306801075087

Option 3 ID : 6306801075090

Option 4 ID : 6306801075088

Status : Answered

Chosen Option : 2

Q.20 अंग्रेजी वर्णमाला क्रम के आधार पर दी गई श्रृंखला में प्रश्न चिह्न (?) के स्थान पर क्या आना चाहिए?  
JLF, KOI, LRL, MUO, ?

- Ans
- 1. NRY
  - 2. MXT
  - 3. NXR
  - 4. OYR

Question Type : MCQ

Question ID : 630680334789

Option 1 ID : 6306801302415

Option 2 ID : 6306801302416

Option 3 ID : 6306801302414

Option 4 ID : 6306801302413

Status : Answered

Chosen Option : 3

Section : General Awareness

Q.1 निम्नलिखित में से किसने 1963 में मद्रास में अपनी कुचिपुड़ी कला अकादमी की स्थापना की?

- Ans
- 1. कमलाकर कामेश्वर राव (Kamalakar Kameshwar Rao)
  - 2. वेम्पति चिन्ना सत्यम् (Vempati Chinna Satyam)
  - 3. लक्ष्मी नारायण शास्त्री (Lakshmi Narayan Shastri)
  - 4. राजा रेड्डी (Raja Reddy)

Question Type : MCQ

Question ID : 630680433361

Option 1 ID : 6306801691414

Option 2 ID : 6306801691411

Option 3 ID : 6306801691412

Option 4 ID : 6306801691413

Status : Answered

Chosen Option : 2

Q.2 तुंगा (Tunga) और भद्रा (Bhadra) किस नदी की सहायक नदियाँ हैं?

- Ans
- 1. गोदावरी
  - 2. कृष्णा
  - 3. ताप्ती
  - 4. नर्मदा

Question Type : MCQ

Question ID : 630680708966

Option 1 ID : 6306802777498

Option 2 ID : 6306802777499

Option 3 ID : 6306802777501

Option 4 ID : 6306802777500

Status : Answered

Chosen Option : 2

Q.3 भारतीय संविधान के अनुसार, प्रत्येक राज्यपाल, अपने पद को धारण करने से पहले, \_\_\_\_\_ की उपस्थिति में शपथ लेगा और हस्ताक्षर करेगा।

Ans  1. मुख्यमंत्री

2. उच्च न्यायालय के मुख्य न्यायाधीश

3. राष्ट्रपति

4. भारत के मुख्य न्यायाधीश

Question Type : MCQ

Question ID : 630680302222

Option 1 ID : 6306801175564

Option 2 ID : 6306801175565

Option 3 ID : 6306801175562

Option 4 ID : 6306801175563

Status : Answered

Chosen Option : 2

Q.4 हरिहरन (Hariharan) को निम्नलिखित में से किस क्षेत्र में उनके योगदान के लिए 2004 में पद्म श्री से सम्मानित किया गया था?

Ans  1. कला - संगीत (Art - Music)

2. चिकित्सा (Medicine)

3. खेल (Sports)

4. सिविल सेवा (Civil Service)

Question Type : MCQ

Question ID : 630680487598

Option 1 ID : 6306801904500

Option 2 ID : 6306801904501

Option 3 ID : 6306801904498

Option 4 ID : 6306801904499

Status : Answered

Chosen Option : 1

Q.5 निम्नलिखित में से किस पुर्तगाली यात्री ने कृष्णदेवराय के शासनकाल में विजयनगर साम्राज्य की यात्रा की थी?

Ans  1. अथानासियस निकितिन (Athanasius Nikitin)

2. निकोलो डी कॉंटी (Nicolo de Conti)

3. लुडोविको डी वर्थेमा (Ludovico de Varthema)

4. डोमिंगो पायस (Domingo Paes)

Question Type : MCQ

Question ID : 630680326293

Option 1 ID : 6306801269263

Option 2 ID : 6306801269261

Option 3 ID : 6306801269264

Option 4 ID : 6306801269262

Status : Marked For Review

Chosen Option : 2

Q.6 अरस्तू द्वारा जंतुओं को वर्गीकृत करने के लिए निम्नलिखित में से किस विशेषता का उपयोग किया गया था?

- Ans
- 1. शरीर की कोशिकाओं के प्रकार (Types of body cells)
  - 2. प्राकृतिक वास (Habitat)
  - 3. विशिष्ट अंग (Specialised organs)
  - 4. प्रकाश संश्लेषण (Photosynthesis)

Question Type : MCQ

Question ID : 630680422286

Option 1 ID : 6306801647583

Option 2 ID : 6306801647581

Option 3 ID : 6306801647580

Option 4 ID : 6306801647582

Status : Marked For Review

Chosen Option : 3

Q.7 प्रसिद्ध संस्कृत व्याकरण पुस्तक 'महाभाष्य (Mahabhasya)' \_\_\_\_\_ द्वारा लिखी गई थी?

- Ans
- 1. वेदव्यास
  - 2. पतंजलि
  - 3. पाणिनी
  - 4. भरतमुनि

Question Type : MCQ

Question ID : 630680565256

Option 1 ID : 6306802209998

Option 2 ID : 6306802209999

Option 3 ID : 6306802209997

Option 4 ID : 6306802210000

Status : Answered

Chosen Option : 3

Q.8 बैडमिंटन में, नेट (net) को केंद्र में भूमि से कितनी ऊँचाई पर लगाया जाता है?

- Ans
- 1. 5 फीट
  - 2. 5.5 फीट
  - 3. 6 फीट
  - 4. 4 फीट

Question Type : MCQ

Question ID : 630680466569

Option 1 ID : 6306801822406

Option 2 ID : 6306801822407

Option 3 ID : 6306801828806

Option 4 ID : 6306801822405

Status : Marked For Review

Chosen Option : 1

Q.9 फरवरी 2023 में भारत का दौरा करने वाले जर्मनी के चांसलर (German Chancellor) का नाम क्या है?

- Ans
- 1. ओलाफ स्कॉलज़ (Olaf Scholz)
  - 2. विल्हेम स्टाइनबर्ग (Wilhelm Steinberg)
  - 3. विली ब्रांट (Willy Brandt)
  - 4. एंजेला मर्केल (Angela Merkel)

Question Type : MCQ  
Question ID : 630680488701  
Option 1 ID : 6306801908821  
Option 2 ID : 6306801908820  
Option 3 ID : 6306801908822  
Option 4 ID : 6306801908819  
Status : Answered  
Chosen Option : 1

Q.10 प्रसिद्ध उपन्यास 'द हाउस ऑफ ब्लू मैंगोज़ (The house of blue mangoes)' \_\_\_\_\_ द्वारा लिखा गया है।

- Ans
- 1. अनीस सलीम (Anees Salim)
  - 2. रोमिला थापर (Romila Thapar)
  - 3. शशि थरूर (Shashi Tharoor)
  - 4. डेविड डेविडार (David Davidar)

Question Type : MCQ  
Question ID : 630680409420  
Option 1 ID : 6306801596511  
Option 2 ID : 6306801596510  
Option 3 ID : 6306801596509  
Option 4 ID : 6306801596512  
Status : Answered  
Chosen Option : 2

Q.11 भारतीय संविधान में 'धर्मनिरपेक्ष' शब्द \_\_\_\_\_ संवैधानिक संशोधन अधिनियम द्वारा संविधान में जोड़ा गया था।

- Ans
- 1. 46<sup>वें</sup>
  - 2. 44<sup>वें</sup>
  - 3. 42<sup>वें</sup>
  - 4. 48<sup>वें</sup>

Question Type : MCQ  
Question ID : 630680587079  
Option 1 ID : 6306802296859  
Option 2 ID : 6306802296858  
Option 3 ID : 6306802296857  
Option 4 ID : 6306802296860  
Status : Answered  
Chosen Option : 3

Q.12 निम्नलिखित में से कौन-सी भारत में रबी की ऋतु में उगाई जाने वाली एक फसल है?

- Ans  1. गेहूँ  
 2. मक्का  
 3. सोयाबीन  
 4. चावल

Question Type : **MCQ**  
Question ID : **630680798981**  
Option 1 ID : **6306803130723**  
Option 2 ID : **6306803130724**  
Option 3 ID : **6306803130725**  
Option 4 ID : **6306803130722**  
Status : **Answered**  
Chosen Option : 1

Q.13 दीवान-ए-आम (Diwan-i-Am), जिसमें पिएट्रा ड्यूरा शैली (pietra dura work) के सुंदर पैनलों से सुसज्जित संगमरमर की छतरी है, किस स्मारक का हिस्सा है?

- Ans  1. हुमायूँ का मकबरा  
 2. ताज महल  
 3. लाल किला  
 4. बीबी का मकबरा

Question Type : **MCQ**  
Question ID : **630680546818**  
Option 1 ID : **6306802137839**  
Option 2 ID : **6306802137838**  
Option 3 ID : **6306802137841**  
Option 4 ID : **6306802137840**  
Status : **Answered**  
Chosen Option : 1

Q.14 'अलारिप्पु (Alarippu)' निम्नलिखित में से किस भारतीय शास्त्रीय नृत्य शैली का प्रथम नृत्य पद (dance item) है?

- Ans  1. कथकली  
 2. कुचिपुड़ी  
 3. भरतनाट्यम  
 4. ओडिसी

Question Type : **MCQ**  
Question ID : **630680215981**  
Option 1 ID : **630680837900**  
Option 2 ID : **630680837901**  
Option 3 ID : **630680837899**  
Option 4 ID : **630680837902**  
Status : **Answered**  
Chosen Option : 1

Q.15 निम्नलिखित में से किस समाज सुधारक ने 1876 में बंबई में 'प्रार्थना समाज' की स्थापना की?

- Ans
- 1. गणेश अगरकर
  - 2. बाल गंगाधर तिलक
  - 3. आत्माराम पांडुरंग
  - 4. गोपाल हरि देशमुख

Question Type : MCQ

Question ID : 630680198481

Option 1 ID : 630680769886

Option 2 ID : 630680769884

Option 3 ID : 630680769883

Option 4 ID : 630680769885

Status : Answered

Chosen Option : 3

Q.16 इंडोनेशिया के जकार्ता में आयोजित हुए एशियाई खेल (Asian Games) \_\_\_\_\_ के फाइनल मैच में, भारत ने फुटबॉल में दक्षिण कोरिया को 2-1 के स्कोर से हराकर स्वर्ण पदक हासिल किया।

- Ans
- 1. 1958
  - 2. 1970
  - 3. 1966
  - 4. 1962

Question Type : MCQ

Question ID : 630680552185

Option 1 ID : 6306802158927

Option 2 ID : 6306802158928

Option 3 ID : 6306802158925

Option 4 ID : 6306802158926

Status : Not Attempted and Marked For Review

Chosen Option : --

Q.17 1905 में हिंदुओं और मुसलमानों ने अपनी एकता और \_\_\_\_\_ के खिलाफ अपना विरोध दिखाने के लिए एक-दूसरे के हाथों पर 'राखी' बाँधी।

- Ans
- 1. बंगाल के विभाजन
  - 2. मार्ले-मिटो सुधार
  - 3. रोलेट एक्ट
  - 4. पंजाब के विभाजन

Question Type : MCQ

Question ID : 630680213990

Option 1 ID : 630680830009

Option 2 ID : 630680830010

Option 3 ID : 630680830008

Option 4 ID : 630680830007

Status : Answered

Chosen Option : 1

Q.18 भारत में सकल घरेलू उत्पाद का आकलन करते समय निम्नलिखित में से किसे अंतिम वस्तु के रूप में मान्यता दी जाती है?

- एक घर में रोटी बनाने के लिए खरीदा गया गेहूँ
- एक होटल में रोटी बनाने के लिए खरीदा गया गेहूँ
- एक घर में चाय बनाने के लिए उपयोग में लाया जाने वाला टी बैग
- विश्वविद्यालय छात्रावास कैटीन में चाय बनाने के लिए उपयोग में लाया जाने वाला टी बैग

Ans  1. केवल a और c

2. केवल b और c

3. केवल a और b

4. केवल b और d

Question Type : MCQ

Question ID : 630680422527

Option 1 ID : 6306801648545

Option 2 ID : 6306801648546

Option 3 ID : 6306801648544

Option 4 ID : 6306801648547

Status : Answered

Chosen Option : 1

Q.19 यदि किसी विशिष्ट भोजन का ग्लाइसेमिक इंडेक्स (Glycemic Index - GI) 70 से 100 तक है, तो वह किस प्रकार का भोजन है?

Ans  1. अत्यधिक निम्न-जीआई भोजन

2. मध्यम-जीआई भोजन

3. निम्न-जीआई भोजन

4. उच्च-जीआई भोजन

Question Type : MCQ

Question ID : 630680451646

Option 1 ID : 6306801763685

Option 2 ID : 6306801763683

Option 3 ID : 6306801763682

Option 4 ID : 6306801763684

Status : Answered

Chosen Option : 2

Q.20 वायुमंडलीय तापमान, सामान्यतः ऊँचाई (altitude) के साथ घटता जाता है, लेकिन कभी-कभी यह घटना क्षोभमंडल (troposphere) में उलटी हो जाती है। इस घटना को \_\_\_\_\_ कहा जाता है।

Ans  1. तापमान व्युत्क्रमण (Temperature Inversion)

2. तापमान संवहन (Temperature Convection)

3. रूद्धोष्म हास-दर (Adiabatic Lapse Rate)

4. ग्लोबल वार्मिंग (Global Warming)

Question Type : MCQ

Question ID : 630680404731

Option 1 ID : 6306801578399

Option 2 ID : 6306801578402

Option 3 ID : 6306801578401

Option 4 ID : 6306801578400

Status : Answered

Chosen Option : 3

Q.21 संविधान को अपनाने के साथ ही भारत ने कब स्वयं को एक संग्रभु, लोकतांत्रिक और गणतंत्र राज्य घोषित किया?

- Ans  1. 15 अगस्त 1947  
 2. 26 जनवरी 1950  
 3. 14 नवंबर 1952  
 4. 2 अक्टूबर 1949

Question Type : MCQ  
Question ID : 630680403355  
Option 1 ID : 6306801572930  
Option 2 ID : 6306801572933  
Option 3 ID : 6306801572932  
Option 4 ID : 6306801572931  
Status : Answered  
Chosen Option : 2

Q.22 2011 की जनगणना भारत में आयोजित \_\_\_\_\_ आधिकारिक सर्वेक्षण थी।

- Ans  1. 18 वीं  
 2. 16 वीं  
 3. 14 वीं  
 4. 15 वीं

Question Type : MCQ  
Question ID : 63068091589  
Option 1 ID : 630680355093  
Option 2 ID : 630680355092  
Option 3 ID : 630680355090  
Option 4 ID : 630680355091  
Status : Answered  
Chosen Option : 3

Q.23 निम्नलिखित में से कौन से कथन डाल्टन के परमाणु सिद्धांत की सही अवधारणाएँ हैं?

- A. सभी पदार्थ परमाणुओं से बने हैं। ये परमाणु रासायनिक अभिक्रियाओं में भाग लेते हैं।  
B. रासायनिक अभिक्रिया के दौरान परमाणुओं का निर्माण या विनाश हो सकता है।  
C. अलग-अलग तत्वों के परमाणु द्रव्यमान और रासायनिक गुण भिन्न-भिन्न होते हैं।  
D. यौगिक पूर्ण या भिन्नात्मक संख्याओं के अनुपात में परमाणुओं का संयोजन है।  
E. किसी यौगिक में सदैव परमाणुओं की सापेक्ष संख्या और प्रकार निश्चित होते हैं।

- Ans  1. A, C, E  
 2. A, B, D  
 3. B, C, D  
 4. B, D, E

Question Type : MCQ  
Question ID : 630680468587  
Option 1 ID : 6306801830150  
Option 2 ID : 6306801830148  
Option 3 ID : 6306801830147  
Option 4 ID : 6306801830149  
Status : Answered  
Chosen Option : 1

Q.24 विश्व प्रसन्नता सूचकांक (World Happiness Index) 2023 के अनुसार, निम्नलिखित में से किस देश ने सर्वोच्च रैंक हासिल की?

- Ans
- 1. बांग्लादेश
  - 2. श्रीलंका
  - 3. पाकिस्तान
  - 4. नेपाल

Question Type : MCQ

Question ID : 630680510905

Option 1 ID : 6306801996752

Option 2 ID : 6306801996750

Option 3 ID : 6306801996753

Option 4 ID : 6306801996751

Status : Answered

Chosen Option : 2

Q.25 फरवरी 2024 तक के तथ्यानुसार, निम्नलिखित में से कौन केंद्रीय पत्तन, पोत परिवहन और जलमार्ग (Ports, Shipping and Waterways) मंत्री है?

- Ans
- 1. हरदीप सिंह पुरी (Hardeep Singh Puri)
  - 2. सर्बानंद सोनोवाल (Sarbananda Sonowal)
  - 3. गिराज सिंह (Giraj Singh)
  - 4. प्रह्लाद जोशी (Prahlad Joshi)

Question Type : MCQ

Question ID : 630680468454

Option 1 ID : 6306801829617

Option 2 ID : 6306801829614

Option 3 ID : 6306801829616

Option 4 ID : 6306801829615

Status : Not Answered

Chosen Option : --

Section : English Language and Comprehension

Q.1 Select the grammatically correct sentence from the given options.

- Ans
- 1. The Nile is the longest river in the world with a length of approximately 6650 km.
  - 2. The Nile is the most long river in the world of a length of approximately 6650 km.
  - 3. The Nile is the longest river in the world with a length about approximately 6650 km.
  - 4. The Nile is the long river in the world with a length about approximately 6650 km.

Question Type : MCQ

Question ID : 630680514689

Option 1 ID : 6306802011382

Option 2 ID : 6306802011383

Option 3 ID : 6306802011381

Option 4 ID : 6306802011384

Status : Answered

Chosen Option : 1

**Q.2 Select the grammatically correct sentence from the given options..**

- Ans**  1. A lot of books and notes place in order look most fascinating.  
 2. A lot of books and notes placed in order look fascinating.  
 3. A lot of book and notes placed in order looks most fascinating.  
 4. A lot of books and notes placed on order looks most fascinating.

Question Type : **MCQ**  
Question ID : **630680514693**  
Option 1 ID : **6306802011399**  
Option 2 ID : **6306802011400**  
Option 3 ID : **6306802011397**  
Option 4 ID : **6306802011398**  
Status : **Answered**  
Chosen Option : **2**

**Q.3 Select the most appropriate meaning of the given idiom.**

**Like a dying duck in a thunderstorm**

- Ans**  1. Harmful or vigilant  
 2. Fearful or scared of water  
 3. Dejected or hopeless  
 4. Bad swimmer or practitioner

Question Type : **MCQ**  
Question ID : **630680517596**  
Option 1 ID : **6306802022781**  
Option 2 ID : **6306802022783**  
Option 3 ID : **6306802022782**  
Option 4 ID : **6306802022780**  
Status : **Answered**  
Chosen Option : **3**

**Q.4 Select the most appropriate option to fill in the blank.**

The teacher emphasised the importance of \_\_\_\_\_ correct grammar and punctuation in our writing.

- Ans**  1. using  
 2. used  
 3. use  
 4. uses

Question Type : **MCQ**  
Question ID : **630680488656**  
Option 1 ID : **6306801908639**  
Option 2 ID : **6306801908641**  
Option 3 ID : **6306801908640**  
Option 4 ID : **6306801908642**  
Status : **Answered**  
Chosen Option : **1**

**Q.5** Select the most appropriate option to fill in the blank.  
The croissant was \_\_\_\_\_, as was the coffee.

- Ans
- 1. ambitious
  - 2. inferior
  - 3. eloquent
  - 4. excellent

Question Type : **MCQ**

Question ID : **630680515221**

Option 1 ID : **6306802013352**

Option 2 ID : **6306802013349**

Option 3 ID : **6306802013350**

Option 4 ID : **6306802013351**

Status : **Answered**

Chosen Option : **4**

**Q.6** The following sentence has been split into four segments. Identify the segment that contains a grammatical error.

The train is running / late by six hours / so it / cannot make over the time.

- Ans
- 1. so it
  - 2. The train is running
  - 3. late by six hours
  - 4. cannot make over the time

Question Type : **MCQ**

Question ID : **630680533285**

Option 1 ID : **6306802084623**

Option 2 ID : **6306802084621**

Option 3 ID : **6306802084622**

Option 4 ID : **6306802084624**

Status : **Answered**

Chosen Option : **4**

**Q.7** Select the most appropriate ANTONYM that can substitute the underlined segment in the given sentence.

Amit, the stand-up comedian, delivered a hilarious performance.

- Ans
- 1. pertinent
  - 2. ideological
  - 3. serious
  - 4. spleen

Question Type : **MCQ**

Question ID : **630680726506**

Option 1 ID : **6306802847031**

Option 2 ID : **6306802847032**

Option 3 ID : **6306802847033**

Option 4 ID : **6306802847030**

Status : **Answered**

Chosen Option : **4**

Q.8 Select the most appropriate option to fill in the blank.  
She \_\_\_\_\_ the book to her friend.

- Ans  1. lent  
 2. laned  
 3. lend  
 4. leant

Question Type : **MCQ**  
Question ID : **630680426476**  
Option 1 ID : **6306801663990**  
Option 2 ID : **6306801663992**  
Option 3 ID : **6306801663993**  
Option 4 ID : **6306801663991**  
Status : **Answered**  
Chosen Option : 1

Q.9 Select the most appropriate meaning of the underlined idiom.

We talked over the matter for two hours; unfortunately, we could not reach a decision.

- Ans  1. Argued  
 2. Discussed  
 3. Quarrelled  
 4. Debated

Question Type : **MCQ**  
Question ID : **630680134202**  
Option 1 ID : **630680519689**  
Option 2 ID : **630680519687**  
Option 3 ID : **630680519688**  
Option 4 ID : **630680519686**  
Status : **Answered**  
Chosen Option : 2

Q.10 Select the most appropriate ANTONYM that can substitute the underlined segment in the given sentence.

High-altitude climbing poses significant risks due to factors like altitude sickness, hypothermia and extreme weather conditions.

- Ans  1. inconsequential  
 2. tempestuous  
 3. plentiful  
 4. magnificent

Question Type : **MCQ**  
Question ID : **630680549987**  
Option 1 ID : **6306802150211**  
Option 2 ID : **6306802150209**  
Option 3 ID : **6306802150210**  
Option 4 ID : **6306802150208**  
Status : **Answered**  
Chosen Option : 1

**Q.11** Select the option that correctly rectifies the underlined spelling error.  
The beutiful flowers bloomed in the garden.

- Ans  1. beautifull  
 2. beiutiful  
 3. beautiful  
 4. beautiful

Question Type : **MCQ**

Question ID : **630680545746**

Option 1 ID : **6306802133567**

Option 2 ID : **6306802133566**

Option 3 ID : **6306802133568**

Option 4 ID : **6306802133565**

Status : **Answered**

Chosen Option : **4**

**Q.12** Select the most appropriate ANTONYM of the underlined segment in the given sentence.

It's important to bring up sensitive topics in a respectful manner.

- Ans  1. Cordial  
 2. Strong  
 3. Considerate  
 4. Drowsy

Question Type : **MCQ**

Question ID : **630680726509**

Option 1 ID : **6306802847044**

Option 2 ID : **6306802847043**

Option 3 ID : **6306802847045**

Option 4 ID : **6306802847042**

Status : **Answered**

Chosen Option : **4**

**Q.13** Select the most appropriate synonym of the given word.  
Idle

- Ans  1. Unoccupied  
 2. Uneasy  
 3. Ungrateful  
 4. Unsafe

Question Type : **MCQ**

Question ID : **630680410878**

Option 1 ID : **6306801602270**

Option 2 ID : **6306801602268**

Option 3 ID : **6306801602267**

Option 4 ID : **6306801602269**

Status : **Answered**

Chosen Option : **1**

Q.14 Select the INCORRECTLY spelt word.

- Ans  1. Annual  
 2. Regulator  
 3. Technical  
 4. Machelorical

Question Type : MCQ  
Question ID : 630680446811  
Option 1 ID : 6306801744531  
Option 2 ID : 6306801744532  
Option 3 ID : 6306801744530  
Option 4 ID : 6306801744529  
Status : Marked For Review  
Chosen Option : 4

Q.15 Select the most appropriate option that can substitute the underlined segment in the given sentence.  
Gold is much costly than any other metal.

- Ans  1. most costlier  
 2. most  
 3. many  
 4. more

Question Type : MCQ  
Question ID : 630680514536  
Option 1 ID : 6306802010771  
Option 2 ID : 6306802010769  
Option 3 ID : 6306802010772  
Option 4 ID : 6306802010770  
Status : Answered  
Chosen Option : 4

Q.16 Select the most appropriate option to fill in the blank.

Doves \_\_\_\_\_ in the sky above me.

- Ans  1. sore  
 2. soar  
 3. shore  
 4. sour

Question Type : MCQ  
Question ID : 630680517511  
Option 1 ID : 6306802022441  
Option 2 ID : 6306802022443  
Option 3 ID : 6306802022442  
Option 4 ID : 6306802022440  
Status : Marked For Review  
Chosen Option : 3

Q.17 Select the most appropriate option to fill in the blank.

The writer's \_\_\_\_\_ prose resonated with readers, evoking powerful emotions.

- Ans
- 1. sporadic
  - 2. banal
  - 3. mundane
  - 4. eloquent

Question Type : **MCQ**  
Question ID : **630680598082**  
Option 1 ID : **6306802340141**  
Option 2 ID : **6306802340138**  
Option 3 ID : **6306802340140**  
Option 4 ID : **6306802340139**  
Status : **Marked For Review**  
Chosen Option : 1

Q.18 Select the most appropriate adjective to fill in the blank.

The orator declared that the women are \_\_\_\_\_ than the men.

- Ans
- 1. intelligent
  - 2. more intelligent
  - 3. intelligenter
  - 4. most intelligent

Question Type : **MCQ**  
Question ID : **63068087140**  
Option 1 ID : **630680337952**  
Option 2 ID : **630680337949**  
Option 3 ID : **630680337951**  
Option 4 ID : **630680337950**  
Status : **Answered**  
Chosen Option : 2

Q.19 Select the most appropriate adjective to fill in the blank.

Jack always looks handsome, even if he is a \_\_\_\_\_ out of style.

- Ans
- 1. more little
  - 2. less
  - 3. little
  - 4. least

Question Type : **MCQ**  
Question ID : **63068087139**  
Option 1 ID : **630680337948**  
Option 2 ID : **630680337945**  
Option 3 ID : **630680337946**  
Option 4 ID : **630680337947**  
Status : **Answered**  
Chosen Option : 3

**Q.20** Select the option that can be used as a one-word substitute for the given group of words.

The scientific study of the structure and form of animals and plants

Ans  1. Morphology

2. Botany

3. Zoology

4. Biology

Question Type : **MCQ**

Question ID : **63068056552**

Option 1 ID : **6306802211158**

Option 2 ID : **6306802211161**

Option 3 ID : **6306802211160**

Option 4 ID : **6306802211159**

Status : **Answered**

Chosen Option : 1

**Comprehension:**

In the following passage, some words have been deleted. Read the passage carefully and select the most appropriate option to fill in each blank.

It is true that strangers meeting for the first time seem to feel \_\_\_\_1\_\_\_\_ if they do not engage \_\_\_\_2\_\_\_\_ small talk. Usually, this is \_\_\_\_3\_\_\_\_ and even necessary if strangers are to size each other up. But, this small talk aside, what are some \_\_\_\_4\_\_\_\_ rules for general conversation?

In the first place, certain \_\_\_\_5\_\_\_\_ should be taboo. Kitchen topics, bus time-tables and other dull or specialised things should be barred from general discussion.

**SubQuestion No : 21**

**Q.21** Select the most appropriate option to fill in blank number 1.

Ans  1. discomforts

2. comforts

3. uncomfortable

4. comforting

Question Type : **MCQ**

Question ID : **630680627685**

Option 1 ID : **6306802456835**

Option 2 ID : **6306802456837**

Option 3 ID : **6306802456836**

Option 4 ID : **6306802456838**

Status : **Answered**

Chosen Option : 3

**Comprehension:**

In the following passage, some words have been deleted. Read the passage carefully and select the most appropriate option to fill in each blank.

It is true that strangers meeting for the first time seem to feel \_\_\_\_1\_\_\_\_ if they do not engage \_\_\_\_2\_\_\_\_ small talk. Usually, this is \_\_\_\_3\_\_\_\_ and even necessary if strangers are to size each other up. But, this small talk aside, what are some \_\_\_\_4\_\_\_\_ rules for general conversation?

In the first place, certain \_\_\_\_5\_\_\_\_ should be taboo. Kitchen topics, bus time-tables and other dull or specialised things should be barred from general discussion.

**SubQuestion No : 22**

**Q.22 Select the most appropriate option to fill in blank number 2.**

- Ans  1. on  
 2. in  
 3. from  
 4. by

Question Type : **MCQ**

Question ID : **630680627686**

Option 1 ID : **6306802456840**

Option 2 ID : **6306802456839**

Option 3 ID : **6306802456842**

Option 4 ID : **6306802456841**

Status : **Answered**

Chosen Option : **2**

**Comprehension:**

In the following passage, some words have been deleted. Read the passage carefully and select the most appropriate option to fill in each blank.

It is true that strangers meeting for the first time seem to feel \_\_\_\_1\_\_\_\_ if they do not engage \_\_\_\_2\_\_\_\_ small talk. Usually, this is \_\_\_\_3\_\_\_\_ and even necessary if strangers are to size each other up. But, this small talk aside, what are some \_\_\_\_4\_\_\_\_ rules for general conversation?

In the first place, certain \_\_\_\_5\_\_\_\_ should be taboo. Kitchen topics, bus time-tables and other dull or specialised things should be barred from general discussion.

**SubQuestion No : 23**

**Q.23 Select the most appropriate option to fill in blank number 3.**

- Ans  1. comedy  
 2. happy  
 3. harmless  
 4. remedy

Question Type : **MCQ**

Question ID : **630680627687**

Option 1 ID : **6306802456843**

Option 2 ID : **6306802456844**

Option 3 ID : **6306802456846**

Option 4 ID : **6306802456845**

Status : **Answered**

Chosen Option : **3**

**Comprehension:**

In the following passage, some words have been deleted. Read the passage carefully and select the most appropriate option to fill in each blank.

It is true that strangers meeting for the first time seem to feel \_\_\_\_1\_\_\_\_ if they do not engage \_\_\_\_2\_\_\_\_ small talk. Usually, this is \_\_\_\_3\_\_\_\_ and even necessary if strangers are to size each other up. But, this small talk aside, what are some \_\_\_\_4\_\_\_\_ rules for general conversation?

In the first place, certain \_\_\_\_5\_\_\_\_ should be taboo. Kitchen topics, bus time-tables and other dull or specialised things should be barred from general discussion.

**SubQuestion No : 24**

**Q.24 Select the most appropriate option to fill in blank number 4.**

- Ans
- 1. eliminating
  - 2. illuminative
  - 3. elementary
  - 4. alimentary

Question Type : **MCQ**

Question ID : **630680627688**

Option 1 ID : **6306802456849**

Option 2 ID : **6306802456850**

Option 3 ID : **6306802456847**

Option 4 ID : **6306802456848**

Status : **Answered**

Chosen Option : **3**

**Comprehension:**

In the following passage, some words have been deleted. Read the passage carefully and select the most appropriate option to fill in each blank.

It is true that strangers meeting for the first time seem to feel \_\_\_\_1\_\_\_\_ if they do not engage \_\_\_\_2\_\_\_\_ small talk. Usually, this is \_\_\_\_3\_\_\_\_ and even necessary if strangers are to size each other up. But, this small talk aside, what are some \_\_\_\_4\_\_\_\_ rules for general conversation?

In the first place, certain \_\_\_\_5\_\_\_\_ should be taboo. Kitchen topics, bus time-tables and other dull or specialised things should be barred from general discussion.

**SubQuestion No : 25**

**Q.25 Select the most appropriate option to fill in blank number 5.**

- Ans
- 1. essays
  - 2. objects
  - 3. books
  - 4. subjects

Question Type : **MCQ**

Question ID : **630680627689**

Option 1 ID : **6306802456854**

Option 2 ID : **6306802456851**

Option 3 ID : **6306802456852**

Option 4 ID : **6306802456853**

Status : **Answered**

Chosen Option : **4**