

Multi Tasking Non Technical Staff and Havaladar CBIC and CBN Examination 2024

Roll Number	
Candidate Name	
Venue Name	KSM Solutions
Exam Date	23/10/2024
Exam Time	4:00 PM - 5:30 PM
Subject	MTS Non Tech Havaladar CBIC and CBN Examination 2024

Section : Numerical and Mathematical Ability

Q.1 दिया गया ग्राफ अलग-अलग वर्षों में किसी देश के खाद्यान्न उत्पादन को दर्शाता है। ग्राफ का अध्ययन कीजिए और निम्नलिखित प्रश्न का उत्तर दीजिए।



2010 से 2011 तक उत्पादन में प्रतिशत वृद्धि (2 दशमलव स्थानों तक पूर्णांकित) ज्ञात कीजिए।

- Ans 1. 7.46%
2. 5.12%
3. 6.38%
4. 4.23%

Question Type : MCQ

Question ID : 630680403251

Option 1 ID : 6306801572504

Option 2 ID : 6306801572502

Option 3 ID : 6306801572503

Option 4 ID : 6306801572501

Status : Answered

Chosen Option : 1

Q.2 सुमन पहले 330 km की दूरी रेलगाड़ी से 110 km/hr की चाल से तय करती है और अगले 165 km की दूरी बस से 55 km/hr की चाल से तय करती है। यात्रा के विभिन्न साधनों को बदलने में लगने वाले समय (buffer time) की उपेक्षा करते हुए, उसकी यात्रा की औसत चाल (km/hr में) ज्ञात कीजिए।

- Ans
- 1. $79\frac{1}{3}$
 - 2. 85.5
 - 3. $82\frac{1}{2}$
 - 4. 90

Question Type : MCQ

Question ID : 630680627877

Option 1 ID : 6306802457596

Option 2 ID : 6306802457598

Option 3 ID : 6306802457595

Option 4 ID : 6306802457597

Status : Answered

Chosen Option : 3

Q.3 यदि धारा के अनुकूल जा रही नाव की चाल 40 km/h है और धारा के प्रतिकूल जाने की चाल 20 km/h है, तो धारा की चाल (km/h में) ज्ञात कीजिए।

- Ans
- 1. 40
 - 2. 10
 - 3. 20
 - 4. 15

Question Type : MCQ

Question ID : 630680121177

Option 1 ID : 630680469671

Option 2 ID : 630680469672

Option 3 ID : 630680469670

Option 4 ID : 630680469673

Status : Answered

Chosen Option : 2

Q.4 एक प्रयोग में पानी के अपवर्तनांक को ज्ञात करने के लिए, एक छात्र ने प्रेक्षणों के पांच समुच्चय लिए और पानी के अपवर्तनांक के लिए 1.32, 1.37, 1.36, 1.39 और 1.31 मान प्राप्त किए। इसका औसत मान क्या है?

- Ans
- 1. 1.35
 - 2. 1.34
 - 3. 1.33
 - 4. 1.36

Question Type : MCQ

Question ID : 630680447488

Option 1 ID : 6306801747206

Option 2 ID : 6306801747208

Option 3 ID : 6306801747205

Option 4 ID : 6306801747207

Status : Answered

Chosen Option : 1

Q.5 60 विद्यार्थियों की एक कक्षा के गणित की एक परीक्षा में प्राप्त औसत अंक 52 है। 40 औसत अंक वाले 8 लड़कों के एक समूह ने कक्षा छोड़ दी और 43 औसत अंक वाले 10 लड़कों का एक अन्य समूह कक्षा में शामिल हो गया। कक्षा के नए औसत अंक क्या हैं? (दशमलव के एक स्थान तक सही)

Ans 1. 55.7

2. 50.5

3. 52.1

4. 53.9

Question Type : MCQ

Question ID : 630680477514

Option 1 ID : 6306801865213

Option 2 ID : 6306801865215

Option 3 ID : 6306801865216

Option 4 ID : 6306801865214

Status : Answered

Chosen Option : 4

Q.6 एक वस्तु को ₹125 में बेचकर, S को 12% का लाभ होता है। वस्तु का क्रय मूल्य (₹ में) क्या है? (2 दशमलव अंकों तक सही मान दीजिए)

Ans 1. 116.16

2. 111.61

3. 111.16

4. 116.61

Question Type : MCQ

Question ID : 630680815869

Option 1 ID : 6306803196809

Option 2 ID : 6306803196810

Option 3 ID : 6306803196812

Option 4 ID : 6306803196811

Status : Answered

Chosen Option : 3

Q.7 संख्याओं 1, -1, 0 और 2 का औसत ज्ञात कीजिए।

Ans 1. 0.5

2. 4

3. 1.5

4. 2

Question Type : MCQ

Question ID : 630680108190

Option 1 ID : 630680419826

Option 2 ID : 630680419825

Option 3 ID : 630680419827

Option 4 ID : 630680419824

Status : Answered

Chosen Option : 1

Q.8 उस बेलन का वक्र पृष्ठीय क्षेत्रफल ज्ञात कीजिए जिसकी ऊँचाई 25 m और आधार त्रिज्या 7 m है।

- Ans
- 1. 550 m²
 - 2. 2200 m²
 - 3. 1100 m²
 - 4. 733 m²

Question Type : MCQ

Question ID : 630680105410

Option 1 ID : 630680409712

Option 2 ID : 630680409713

Option 3 ID : 630680409711

Option 4 ID : 630680409714

Status : Answered

Chosen Option : 3

Q.9 एक ठोस लड्डू एक शंकु के आकार का है जिसके ऊपर एक गोलार्ध है। यदि ठोस का आयतन 2816 cm³ है और गोलार्ध भाग की त्रिज्या 8 cm है, तो लड्डू की ऊँचाई ज्ञात कीजिए।
($\pi = \frac{22}{7}$ का उपयोग कीजिए।)

- Ans
- 1. 50 cm
 - 2. 34 cm
 - 3. 42 cm
 - 4. 26 cm

Question Type : MCQ

Question ID : 630680392976

Option 1 ID : 6306801532241

Option 2 ID : 6306801532239

Option 3 ID : 6306801532240

Option 4 ID : 6306801532238

Status : Answered

Chosen Option : 3

Q.10 3 वर्षों के लिए 9% वार्षिक की ब्याज दर पर उधार ली गई राशि ₹2000 पर साधारण ब्याज (₹ में) ज्ञात कीजिए।

- Ans
- 1. 480
 - 2. 500
 - 3. 580
 - 4. 540

Question Type : MCQ

Question ID : 630680591884

Option 1 ID : 6306802316005

Option 2 ID : 6306802316006

Option 3 ID : 6306802316004

Option 4 ID : 6306802316003

Status : Answered

Chosen Option : 4

Q.11 3 वर्षों के लिए 8% वार्षिक की ब्याज दर पर उधार ली गई राशि ₹3000 पर साधारण ब्याज (₹ में) ज्ञात कीजिए।

- Ans
- 1. 760
 - 2. 680
 - 3. 660
 - 4. 720

Question Type : MCQ

Question ID : 630680591949

Option 1 ID : 6306802316264

Option 2 ID : 6306802316266

Option 3 ID : 6306802316265

Option 4 ID : 6306802316263

Status : Answered

Chosen Option : 4

Q.12 एक ट्राउजर का अंकित मूल्य ₹1,200 है। एक दुकानदार इस ट्राउजर पर 20% छूट देता है और फिर पुनः नए मूल्य पर 30% छूट देता है। आपको अंततः कितनी राशि का भुगतान करना होगा?

- Ans
- 1. ₹672
 - 2. ₹650
 - 3. ₹655
 - 4. ₹665

Question Type : MCQ

Question ID : 630680629670

Option 1 ID : 6306802464549

Option 2 ID : 6306802464546

Option 3 ID : 6306802464547

Option 4 ID : 6306802464548

Status : Answered

Chosen Option : 1

Q.13 एक विक्रेता को 36 संतरे बेचने पर 4 संतरे के विक्रय मूल्य की हानि होती है। उसका हानि प्रतिशत _____ है।

- Ans
- 1. 20%
 - 2. 10%
 - 3. $11\frac{1}{9}\%$
 - 4. 15%

Question Type : MCQ

Question ID : 630680115866

Option 1 ID : 630680448798

Option 2 ID : 630680448799

Option 3 ID : 630680448801

Option 4 ID : 630680448800

Status : Answered

Chosen Option : 2

Q.14 चावल के प्रति किलो बाजार मूल्य और गेहूँ के आटे के प्रति किलो बाजार मूल्य का अनुपात 7 : 9 है और एक परिवार द्वारा खपत की गई उनकी मात्रा का अनुपात 9 : 11 है। चावल और गेहूँ के आटे पर परिवार के खर्च का अनुपात ज्ञात कीजिए।

- Ans
1. 9 : 11
2. 7 : 9
3. 7 : 11
4. 11 : 9

Question Type : MCQ
Question ID : 630680111551
Option 1 ID : 630680431983
Option 2 ID : 630680431984
Option 3 ID : 630680431985
Option 4 ID : 630680431982
Status : Answered
Chosen Option : 3

Q.15 दी गई तालिका पिछले 3 वर्षों में पांच फैक्ट्रियों द्वारा उत्पादित चॉकलेट की संख्या को दर्शाती है।

वर्ष	फैक्ट्री				
	P	Q	R	S	T
2020	15,230	10,250	12,390	16,250	15,840
2021	12,110	13,256	17,820	14,561	13,258
2022	18,450	14,235	12,350	10,259	16,575

पिछले तीन वर्षों में फैक्ट्री S द्वारा उत्पादित चॉकलेट की औसत संख्या क्या है?

- Ans
1. 13690
2. 12320
3. 11230
4. 10290

Question Type : MCQ
Question ID : 630680523774
Option 1 ID : 6306802047248
Option 2 ID : 6306802047247
Option 3 ID : 6306802047249
Option 4 ID : 6306802047250
Status : Answered
Chosen Option : 1

Q.16 पांच अंकों की वह सबसे छोटी संख्या कौन-सी है, जो 12, 15 और 18 में से प्रत्येक से पूर्ण विभाज्य है?

- Ans
- 1. 10015
 - 2. 10010
 - 3. 10020
 - 4. 10080

Question Type : MCQ

Question ID : 63068070930

Option 1 ID : 630680274331

Option 2 ID : 630680274330

Option 3 ID : 630680274332

Option 4 ID : 630680274333

Status : Answered

Chosen Option : 4

Q.17 एक NCC कैंप में, औसत वजन 72 kg था। यदि 76 kg औसत वजन वाले 5 कैडेट समूह छोड़ देते हैं और 79 kg औसत वजन वाले 11 कैडेट समूह में शामिल होते हैं, तो समूह में कैडेटों के औसत वजन में 0.6 kg की वृद्धि होती है। आरंभ में, समूह में कैडेटों की संख्या कितनी थी?

- Ans
- 1. 85
 - 2. 81
 - 3. 89
 - 4. 91

Question Type : MCQ

Question ID : 630680815862

Option 1 ID : 6306803196782

Option 2 ID : 6306803196781

Option 3 ID : 6306803196784

Option 4 ID : 6306803196783

Status : Answered

Chosen Option : 2

Q.18 एक पुस्तक के मूल्य में पहले 10% और फिर 20% की वृद्धि की जाती है। यदि दोनों वृद्धियों के बाद पुस्तक का मूल्य ₹33 है, तो पुस्तक का मूल मूल्य (₹ में) कितना है?

- Ans
- 1. 32
 - 2. 25
 - 3. 30
 - 4. 33

Question Type : MCQ

Question ID : 630680815846

Option 1 ID : 6306803196717

Option 2 ID : 6306803196719

Option 3 ID : 6306803196720

Option 4 ID : 6306803196718

Status : Answered

Chosen Option : 2

Q.19 ₹8,925 की धनराशि 9% वार्षिक साधारण ब्याज दर से कितने वर्षों के बाद कुल ₹12,941.25 हो जाएगी?

- Ans 1. 3 वर्ष
 2. 5 वर्ष
 3. 6 वर्ष
 4. 4 वर्ष

Question Type : MCQ

Question ID : 630680405011

Option 1 ID : 6306801579474

Option 2 ID : 6306801579473

Option 3 ID : 6306801579471

Option 4 ID : 6306801579472

Status : Answered

Chosen Option : 2

Q.20 एक खोखले अर्द्धगोलाकार पात्र का आंतरिक और बाहरी व्यास क्रमशः 28 cm और 32 cm है। पात्र की 1 cm² सतह को पेंट करने की लागत ₹2.50 है। दो दशमलव स्थान तक, पूरे पात्र को पेंट करने की कुल लागत ज्ञात कीजिए। ($\pi = \frac{22}{7}$ का प्रयोग करें)

- Ans 1. ₹7,574.28
 2. ₹5,774.28
 3. ₹7,547.28
 4. ₹7,745.28

Question Type : MCQ

Question ID : 630680377285

Option 1 ID : 6306801470205

Option 2 ID : 6306801470204

Option 3 ID : 6306801470203

Option 4 ID : 6306801470206

Status : Not Answered

Chosen Option : --

Section : Reasoning Ability and Problem Solving

Q.1 दिए गए कथनों और निष्कर्षों को ध्यानपूर्वक पढ़िए। यह मानते हुए कि कथनों में दी गई जानकारी सत्य है, चाहे वह सामान्यतः ज्ञात तथ्यों से भिन्न प्रतीत होती हो और निर्णय लीजिए कि दिए गए निष्कर्षों में से कौन-सा/कौन-से निष्कर्ष कथनों का तार्किक रूप से अनुसरण करता है/करते हैं।

कथन:

कुछ सूअर, मेंढक हैं।
सभी चमगादड़, सूअर हैं।

निष्कर्ष:

(I) कम से कम कुछ चमगादड़, मेंढक हैं।
(II) सभी सूअर, चमगादड़ हैं।

- Ans
- 1. केवल निष्कर्ष II अनुसरण करता है।
 - 2. निष्कर्ष I और II दोनों अनुसरण करते हैं।
 - 3. केवल निष्कर्ष I अनुसरण करता है।
 - 4. न तो निष्कर्ष I और न ही II अनुसरण करता है।

Question Type : MCQ

Question ID : 630680408722

Option 1 ID : 6306801593781

Option 2 ID : 6306801593780

Option 3 ID : 6306801593782

Option 4 ID : 6306801593779

Status : Answered

Chosen Option : 4

Q.2 A, B, C, D, E, F और G एक वृत्ताकार मेज के चारों ओर केंद्र की ओर मुख करके बैठे हैं (परंतु जरूरी नहीं कि वे इसी क्रम में बैठे हों)। B, उस E के दाएँ से दूसरे स्थान पर बैठा है, जो C के दाएँ से दूसरे स्थान पर बैठा है। G, उस D के बाएँ से तीसरे स्थान पर बैठा है, जो F का निकटतम पड़ोसी नहीं है। A, D के दाएँ से दूसरे स्थान पर बैठा है।
C के सापेक्ष में E का स्थान क्या है?

- Ans
- 1. बाएँ से दूसरा
 - 2. दाएँ से दूसरा
 - 3. ठीक दाएँ
 - 4. ठीक बाएँ

Question Type : MCQ

Question ID : 630680382173

Option 1 ID : 6306801489609

Option 2 ID : 6306801489610

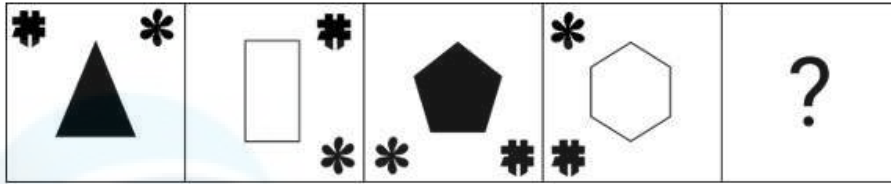
Option 3 ID : 6306801489607

Option 4 ID : 6306801489608


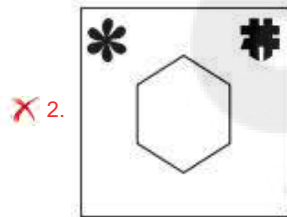
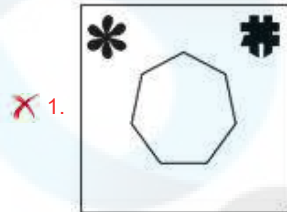
Status : Answered

Chosen Option : 1

Q.3 विकल्पों में दी गई उस आकृति की पहचान कीजिए जिसे "?" के स्थान पर रखे जाने पर श्रृंखला तार्किक रूप से पूर्ण हो जाएगी।



Ans



Question Type : MCQ

Question ID : 630680280694

Option 1 ID : 6306801091014

Option 2 ID : 6306801091012

Option 3 ID : 6306801091013

Option 4 ID : 6306801091011

Status : Answered

Chosen Option : 3

Q.4 एक निश्चित कूट भाषा में, 'FIRE' को '9571' के रूप में कूटबद्ध किया जाता है और 'ROAD' को '2146' के रूप में कूटबद्ध किया जाता है। दी गई कूट भाषा में 'R' के लिए कूट क्या है?

Ans 1. 7

2. 1

3. 6

4. 2

Question Type : MCQ

Question ID : 630680815672

Option 1 ID : 6306803195990

Option 2 ID : 6306803195989

Option 3 ID : 6306803195992

Option 4 ID : 6306803195991

Status : Answered

Chosen Option : 2

Q.5 एक निश्चित कूट भाषा में, 'they may go tomorrow' को 'di hi bi fi' लिखा जाता है और 'we will come tomorrow' को 'li ji mi hi' लिखा जाता है। उसी कूट भाषा में 'tomorrow' को कैसे लिखा जाएगा?

Ans 1. di

2. li

3. mi

4. hi

Question Type : MCQ

Question ID : 630680439031

Option 1 ID : 6306801713938

Option 2 ID : 6306801713937

Option 3 ID : 6306801713939

Option 4 ID : 6306801713936

Status : Answered

Chosen Option : 4

Q.6 किसी निश्चित कूट भाषा में, 'under the impression' को 'ly ga po' लिखा जाता है और 'first impression matters' को 'ka mo po' लिखा जाता है। इसी भाषा में 'impression' को कैसे लिखा जाएगा?

Ans 1. mo

2. ly

3. po

4. ka

Question Type : MCQ

Question ID : 630680419485

Option 1 ID : 6306801636574

Option 2 ID : 6306801636575

Option 3 ID : 6306801636572

Option 4 ID : 6306801636573

Status : Answered

Chosen Option : 3

Q.7 दी गई श्रृंखला में '?' के स्थान पर क्या आना चाहिए?

17, 32, 93, 460, 3213, ?

- Ans 1. 25696
 2. 35332
 3. 22484
 4. 28908

Question Type : MCQ

Question ID : 630680531540

Option 1 ID : 6306802077956

Option 2 ID : 6306802077955

Option 3 ID : 6306802077954

Option 4 ID : 6306802077953

Status : Answered

Chosen Option : 2

Q.8 एक निश्चित तर्क का अनुसरण करते हुए 8, 62 से संबंधित है। उसी तर्क का अनुसरण करते हुए 11, 119 से संबंधित है। समान तर्क का अनुसरण करते हुए, 15 निम्नलिखित में से किससे संबंधित है?

(ध्यान दें: संख्याओं को उनके घटक अंकों में अलग-अलग किए बिना पूर्ण संख्याओं पर संक्रियाएं की जानी चाहिए। उदाहरण के लिए संख्या 13 - संख्या 13 पर संक्रियाएं जैसे 13 को जोड़ना/घटाना/गुणा करना आदि किया जा सकता है। 13 को 1 और 3 में अलग-अलग करने की और फिर 1 और 3 पर गणितीय संक्रियाएं करने की अनुमति नहीं है।)

- Ans 1. 223
 2. 423
 3. 123
 4. 323

Question Type : MCQ

Question ID : 630680441677

Option 1 ID : 6306801724323

Option 2 ID : 6306801724325

Option 3 ID : 6306801724322

Option 4 ID : 6306801724324

Status : Answered

Chosen Option : 1

Q.9 एक निश्चित कूट भाषा में, 'pass the ball' को 'bq tr vl' के रूप में कूटबद्ध किया जाता है और 'ball is red' को 'hx vo bq' के रूप में कूटबद्ध किया जाता है। दी गई भाषा में 'ball' को किस प्रकार कूटबद्ध किया जाता है?

- Ans 1. tr
 2. bq
 3. hx
 4. vl

Question Type : MCQ

Question ID : 630680426458

Option 1 ID : 6306801663918

Option 2 ID : 6306801663921

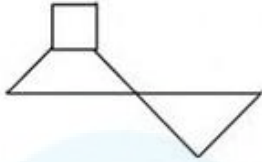
Option 3 ID : 6306801663920

Option 4 ID : 6306801663919

Status : Answered

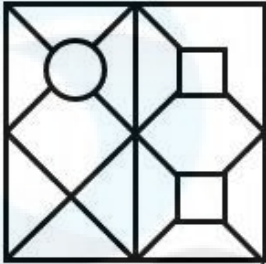
Chosen Option : 2

Q.10 उस विकल्प का चयन कीजिए जिसमें दी गई आकृति सन्निहित है (घूर्णन की अनुमति नहीं है)।

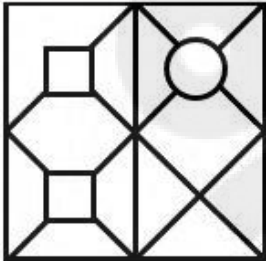


Ans

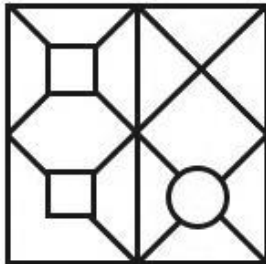
✗ 1.



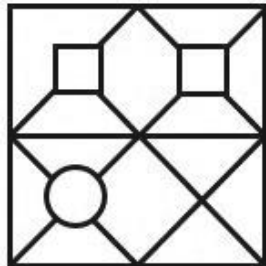
✗ 2.



✗ 3.



✓ 4.



Question Type : MCQ

Question ID : 630680524449

Option 1 ID : 6306802049895

Option 2 ID : 6306802049897

Option 3 ID : 6306802049898

Option 4 ID : 6306802049896

Status : Answered

Chosen Option : 4

Q.11 यदि '+' और '-' को आपस में बदल दिया जाए, तथा 'x' और '÷' को आपस में बदल दिया जाए, तो निम्नलिखित समीकरण में प्रश्न-चिह्न (?) के स्थान पर क्या आएगा?
 $16 \div 4 + 18 - 14 \times 7 = ?$

Ans 1. 48

2. 62

3. 52

4. 65

Question Type : MCQ

Question ID : 630680388206

Option 1 ID : 6306801513387

Option 2 ID : 6306801513388

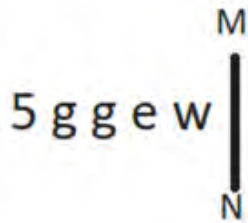
Option 3 ID : 6306801513386

Option 4 ID : 6306801513389

Status : Answered

Chosen Option : 1

Q.12 यदि दर्पण को नीचे दिखाए गए अनुसार MN पर रखा जाए, तो दी गई आकृति के सही दर्पण प्रतिबिंब का चयन कीजिए।



Ans 1. M ə g g ɿ

2. W ə ɿ ɿ ɿ

3. ɿ ɿ ɿ e w

4. W ə g g ɿ

Question Type : MCQ

Question ID : 630680525315

Option 1 ID : 6306802053344

Option 2 ID : 6306802053346

Option 3 ID : 6306802053347

Option 4 ID : 6306802053345

Status : Answered

Chosen Option : 4

Q.13 दिए गए विकल्पों में से उस आकृति का चयन कीजिए जो नीचे दी गई आकृति श्रृंखला में पैटर्न को पूरा करने के लिए प्रश्न-चिह्न (?) के स्थान पर आएगी।

=	U	P	=	
P O U T T	= 8 P	U 8 = O	O P T U	?
8	O	T	8	

Ans

✓ 1.

U
= T P 8
O

✗ 2.

8
P T U O
=

✗ 3.

O
8 T P =
U

✗ 4.

8
U O P T
=

Question Type : MCQ

Question ID : 630680441083

Option 1 ID : 6306801721988

Option 2 ID : 6306801721989

Option 3 ID : 6306801721987

Option 4 ID : 6306801721986

Status : Answered

Chosen Option : 1

Q.14 अंग्रेजी वर्णमाला क्रम के आधार पर IRIG एक निश्चित प्रकार से OXOM से संबंधित है। ठीक उसी प्रकार DLEC, JRKI से संबंधित है। समान तर्क का अनुसरण करते हुए, SBUS निम्नलिखित में से किससे संबंधित है?

Ans 1. YHAY

2. AYYH

3. AYHY

4. YHYA

Question Type : MCQ

Question ID : 630680386858

Option 1 ID : 6306801508142

Option 2 ID : 6306801508144

Option 3 ID : 6306801508145

Option 4 ID : 6306801508143

Status : Answered

Chosen Option : 1

Q.15 यदि निम्नलिखित समीकरण में '-' और '×' को आपस में बदल दिया जाए तथा '+' और '÷' को आपस में बदल दिया जाए, तो इस समीकरण में '?' के स्थान पर क्या आएगा?
 $99 + 9 - 19 \times 59 \div 29 = ?$

Ans 1. 189

2. 179

3. 169

4. 153

Question Type : MCQ

Question ID : 630680388343

Option 1 ID : 6306801513891

Option 2 ID : 6306801513892

Option 3 ID : 6306801513893

Option 4 ID : 6306801513890

Status : Answered

Chosen Option : 2

Q.16 सात मित्र, A, B, C, D, E, F और G, एक मेज के चारों ओर केंद्र की ओर मुख करके बैठे हैं (परंतु जरूरी नहीं कि वे इसी क्रम में बैठे हों)। B, F के ठीक दाएं बैठा है, और A, B के ठीक दाएं बैठा है। F और D दोनों का निकटतम पड़ोसी E है, जबकि D और C दोनों का निकटतम पड़ोसी G है। A के ठीक दाएं कौन बैठा है?

Ans 1. D

2. B

3. C

4. E

Question Type : MCQ

Question ID : 630680381529

Option 1 ID : 6306801487049

Option 2 ID : 6306801487047

Option 3 ID : 6306801487050

Option 4 ID : 6306801487048

Status : Answered

Chosen Option : 3

Q.17 उस समुच्चय का चयन कीजिए जिसमें संख्याएँ ठीक उसी प्रकार संबंधित हैं, जिस प्रकार निम्नलिखित समुच्चयों की संख्याएँ संबंधित हैं।

(ध्यान दें: संख्याओं को उनके घटक अंकों में अलग-अलग किए बिना पूर्ण संख्याओं पर संक्रियाएं की जानी चाहिए। उदाहरण के लिए संख्या 13 - संख्या 13 पर संक्रियाएं जैसे 13 को जोड़ना/घटाना/गुणा करना आदि किया जा सकता है। 13 को 1 और 3 में अलग-अलग करने की और फिर 1 और 3 पर गणितीय संक्रियाएं करने की अनुमति नहीं है।)

(17, 10, 95)
(2, 11, 21)

- Ans 1. (10, 6, 56)
 2. (24, 18, 128)
 3. (19, 18, 30)
 4. (20, 16, 26)

Question Type : MCQ

Question ID : 6306801030500

Option 1 ID : 6306804044750

Option 2 ID : 6306804044749

Option 3 ID : 6306804044752

Option 4 ID : 6306804044751

Status : Answered

Chosen Option : 1

Q.18 अंग्रेजी वर्णमाला क्रम के आधार पर दी गई श्रृंखला में प्रश्न-चिह्न (?) के स्थान पर क्या आएगा?

EVD, ITH, MRL, QPP, ?

- Ans 1. UMS
 2. UMT
 3. UNS
 4. UNT

Question Type : MCQ

Question ID : 630680459280

Option 1 ID : 6306801793975

Option 2 ID : 6306801793976

Option 3 ID : 6306801793973

Option 4 ID : 6306801793974

Status : Answered

Chosen Option : 4

Q.19 EMHD अंग्रेजी वर्णानुक्रम के आधार पर एक निश्चित प्रकार से GOJF से संबंधित है। ठीक उसी प्रकार, IQLH, KSNJ से संबंधित है। समान तर्क का अनुसरण करते हुए LTOK निम्नलिखित में से किससे संबंधित है?

Ans 1. NVQM

2. VNMQ

3. NVMQ

4. VNQM

Question Type : MCQ

Question ID : 630680441617

Option 1 ID : 6306801724086

Option 2 ID : 6306801724089

Option 3 ID : 6306801724087

Option 4 ID : 6306801724088

Status : Answered

Chosen Option : 1

Q.20 दिए गए कथनों और निष्कर्षों को ध्यानपूर्वक पढ़िए। यह मानते हुए कि कथनों में दी गई जानकारी सत्य है, भले ही यह सामान्यतः ज्ञात तथ्यों से भिन्न प्रतीत होती हो, तय कीजिए कि दिए गए निष्कर्षों में से कौन-सा/से निष्कर्ष कथनों का तार्किक रूप से अनुसरण करता/करते है/हैं।

कथन:

सभी फूलदान, चित्र हैं।

कुछ चित्र, फूल हैं।

निष्कर्ष:

(I) सभी फूल, फूलदान हैं।

(II) कुछ फूल, चित्र हो सकते हैं।

Ans 1. केवल निष्कर्ष I अनुसरण करता है

2. न तो निष्कर्ष I और न ही निष्कर्ष II अनुसरण करता है

3. निष्कर्ष I और II दोनों अनुसरण करते हैं

4. केवल निष्कर्ष II अनुसरण करता है

Question Type : MCQ

Question ID : 630680421808

Option 1 ID : 6306801645675

Option 2 ID : 6306801645678

Option 3 ID : 6306801645677

Option 4 ID : 6306801645676

Status : Answered

Chosen Option : 4

Section : General Awareness

Q.1 वह स्थिति जब किसी जल निकाय में घुलित ऑक्सीजन की मात्रा चिंताजनक रूप से कम हो जाती है, _____ कहलाती है।

- Ans
- 1. अम्लीकरण (acidification)
 - 2. अव-आक्सीयता (hypoxia)
 - 3. अधःतापिता (hypothermia)
 - 4. अनाऑक्सीयता (anoxia)

Question Type : MCQ

Question ID : 630680404185

Option 1 ID : 6306801576253

Option 2 ID : 6306801576250

Option 3 ID : 6306801576251

Option 4 ID : 6306801576252

Status : Answered

Chosen Option : 4

Q.2 निम्नलिखित में से किस अनुच्छेद के अंतर्गत समानता के अधिकार का उल्लेख है?

- Ans
- 1. अनुच्छेद 10-12
 - 2. अनुच्छेद 19-22
 - 3. अनुच्छेद 14-18
 - 4. अनुच्छेद 1-4

Question Type : MCQ

Question ID : 630680547957

Option 1 ID : 6306802142375

Option 2 ID : 6306802142376

Option 3 ID : 6306802142378

Option 4 ID : 6306802142377

Status : Answered

Chosen Option : 3

Q.3 बैडमिंटन में, किनारों पर नेट को भूमि से कितनी ऊँचाई पर लगाया जाता है?

- Ans
- 1. 5.3 फीट
 - 2. 5.1 फीट
 - 3. 5.4 फीट
 - 4. 5.2 फीट

Question Type : MCQ

Question ID : 630680466542

Option 1 ID : 6306801822184

Option 2 ID : 6306801822182

Option 3 ID : 6306801822185

Option 4 ID : 6306801822183

Status : Answered

Chosen Option : 1

Q.4 मिज़ो संस्कृति और परंपराओं की महिमा का जश्न मनाने के लिए मिज़ोरम में _____ दिनों तक वांगपुई कुट (Vangpui Kut) उत्सव का आयोजन किया जाता है।

- Ans 1. 3
 2. 5
 3. 4
 4. 2

Question Type : MCQ
Question ID : 630680403349
Option 1 ID : 6306801572908
Option 2 ID : 6306801572906
Option 3 ID : 6306801572907
Option 4 ID : 6306801572909
Status : Not Answered
Chosen Option : --

Q.5 निम्नलिखित में से किस वर्ष भारत महिला T20 विश्व कप क्रिकेट का मेजबान था?

- Ans 1. 2014
 2. 2016
 3. 2012
 4. 2010

Question Type : MCQ
Question ID : 630680799003
Option 1 ID : 6306803130816
Option 2 ID : 6306803130817
Option 3 ID : 6306803130815
Option 4 ID : 6306803130814
Status : Answered
Chosen Option : 1

Q.6 कोणार्क का सूर्य मंदिर, मध्य प्रदेश का खजुराहो मंदिर और हाल ही में अयोध्या में बने राम मंदिर, मंदिर वास्तुकला की किस शैली में डिजाइन किए गए मंदिरों के उदाहरण हैं?

- Ans 1. द्रविड़
 2. होयसल
 3. वेसर
 4. नागर

Question Type : MCQ
Question ID : 630680590658
Option 1 ID : 6306802311118
Option 2 ID : 6306802311115
Option 3 ID : 6306802311117
Option 4 ID : 6306802311116
Status : Answered
Chosen Option : 3

Q.7 'निष्ठा (NISHTHA)' का पूर्ण रूप _____ है।

- Ans 1. नेशनल इनिशिएटिव फॉर स्कूल हेड्स एंड टीचर्स होलिस्टिक एडवॉसमेंट (National Initiative for School Heads' and Teachers' Holistic Advancement)
2. नेशनल इनिशिएटिव फॉर स्कूल हेड्स एंड टीचर्स होलिस्टिक असेसमेंट (National Initiative for School Heads' and Teachers' Holistic Assessment)
3. नेशनल इनाुगुरेशन फॉर स्कूल हेड्स एंड टीचर्स होलिस्टिक असेसमेंट (National Inauguration for School Heads' and Teachers' Holistic Assessment)
4. नेशनल इनाुगुरेशन फॉर स्कूल हेड्स एंड टीचर्स होलिस्टिक एडवॉसमेंट (National Inauguration for School Heads' and Teachers' Holistic Advancement)

Question Type : MCQ
Question ID : 63068054434
Option 1 ID : 630680209779
Option 2 ID : 630680209781
Option 3 ID : 630680209778
Option 4 ID : 630680209780
Status : Answered
Chosen Option : 4

Q.8 अखिल भारतीय किसान सभा की स्थापना अप्रैल _____ में लखनऊ में हुई थी, जिसके अध्यक्ष स्वामी सहजानंद सरस्वती थे।

- Ans 1. 1934
2. 1937
3. 1935
4. 1936

Question Type : MCQ
Question ID : 630680275666
Option 1 ID : 6306801071175
Option 2 ID : 6306801071178
Option 3 ID : 6306801071176
Option 4 ID : 6306801071177
Status : Answered
Chosen Option : 3

Q.9 'रनिंग फॉर माई लाइफ: वन लॉस्ट बॉयज जर्नी फ्रॉम द किलिंग फील्ड्स ऑफ सूडान टू द ओलंपिक गेम्स' जीवन में सफलता के लिए संघर्ष का चित्रण करने वाली एक आत्मकथा निम्नलिखित में से किस व्यक्ति द्वारा लिखी गई है?

- Ans 1. जेसी ओवेन्स (Jesse Owens)
2. लोपेज़ लोमोंग (Lopez Lomong)
3. आर्नोल्ड पाल्मर (Arnold Palmer)
4. नोआह लायल्स (Noah Lyles)

Question Type : MCQ
Question ID : 630680512092
Option 1 ID : 6306802001341
Option 2 ID : 6306802001339
Option 3 ID : 6306802001340
Option 4 ID : 6306802001338
Status : Not Answered
Chosen Option : --

Q.10 निम्नलिखित में से कौन-सा सल्फर हेक्साफ्लोराइड (sulphur hexafluoride) के रासायनिक सूत्र को दर्शाता है?

Ans 1. S₂F₆

2. SF₆

3. S₆F

4. SF₂

Question Type : MCQ

Question ID : 630680411174

Option 1 ID : 6306801603453

Option 2 ID : 6306801603452

Option 3 ID : 6306801603455

Option 4 ID : 6306801603454

Status : Answered

Chosen Option : 2

Q.11 केंद्रीय बजट 2023-24 में, कितने ब्लॉकों को कवर करने वाला एक आकांक्षी ब्लॉक कार्यक्रम (aspirational Blocks Programme) शुरू किया गया है?

Ans 1. 250

2. 300

3. 500

4. 450

Question Type : MCQ

Question ID : 630680467063

Option 1 ID : 6306801824205

Option 2 ID : 6306801824206

Option 3 ID : 6306801824208

Option 4 ID : 6306801824207

Status : Not Answered

Chosen Option : --

Q.12 पद्म श्री पुरस्कार (2023) से सम्मानित गुरु के. कल्याणसुंदरम पिल्लई (K Kalyanasundaram Pillai) निम्नलिखित में से किस शास्त्रीय नृत्य शैली के प्रतिपादक हैं?

Ans 1. कथक

2. कथकली

3. भरतनाट्यम

4. सत्रिया

Question Type : MCQ

Question ID : 630680216138

Option 1 ID : 630680838528

Option 2 ID : 630680838527

Option 3 ID : 630680838529

Option 4 ID : 630680838530

Status : Answered

Chosen Option : 4

Q स्तंभों का मिलान कीजिए।

स्तंभ A (पादप समूह)	स्तंभ B (उदाहरण)
i. ब्रायोफाइट (Bryophyta)	a. गुलाब
ii. टेरिडोफाइट (Pteridophyta)	b. देवदार
iii. जिम्नोस्पर्म (Gymnosperms)	c. कार्ई
iv. एंजियोस्पर्म (Angiosperms)	d. सैलाजिनेला

- Answers
1. i-c, ii-a, iii-b, iv-d
2. i-c, ii-d, iii-b, iv-a
3. i-c, ii-d, iii-a, iv-b
4. i-d, ii-c, iii-b, iv-a

Question Type : MCQ

Question ID : 630680542134

Option 1 ID : 6306802119477

Option 2 ID : 6306802119479

Option 3 ID : 6306802119478

Option 4 ID : 6306802119480

Status : Answered

Chosen Option : 2

Q.14 निम्नलिखित में से किस नेता की मृत्यु साइमन कमीशन के विरोध में लाठियों से मारे जाने के कारण हुई थी?

- Ans
1. भगत सिंह
2. लाला लाजपत राय
3. चंद्रशेखर आजाद
4. बाल गंगाधर तिलक

Question Type : MCQ

Question ID : 630680214231

Option 1 ID : 630680830972

Option 2 ID : 630680830973

Option 3 ID : 630680830971

Option 4 ID : 630680830974

Status : Answered

Chosen Option : 2

Q.15 लौह युग के बारे में निम्नलिखित में से कौन-सा/कौन-से कथन सत्य है/हैं?

1. बड़े शहरों की स्थापना एक बड़े अधिशेष (sizeable surplus) के आधार पर हुई।
2. इस युग से जुड़ा सिरेमिक (ceramic) चित्रित ग्रे वेयर (Painted Grey Ware) था।
3. सिंधु घाटी सभ्यता लौह युग के दौरान फली-फूली।

- Ans
- 1. केवल 2 और 3
 - 2. केवल 1
 - 3. केवल 1 और 2
 - 4. सभी 1, 2 और 3

Question Type : MCQ

Question ID : 630680183054

Option 1 ID : 630680709295

Option 2 ID : 630680709293

Option 3 ID : 630680709294

Option 4 ID : 630680709296

Status : Answered

Chosen Option : 3

Q.16 भारत से आयात करने वाले देशों को किस प्रकार की चाय बड़ी मात्रा में निर्यात की जाती है?

- Ans
- 1. हर्बल चाय (Herbal tea)
 - 2. ग्रीन चाय (Green tea)
 - 3. काली चाय (Black tea)
 - 4. रेगुलर चाय (Regular tea)

Question Type : MCQ

Question ID : 630680693861

Option 1 ID : 6306802717573

Option 2 ID : 6306802717571

Option 3 ID : 6306802717574

Option 4 ID : 6306802717572

Status : Answered

Chosen Option : 4

Q.17 निम्नलिखित में से कौन, भारत के मुख्य न्यायाधीश की अनुपस्थिति में कार्यवाहक मुख्य न्यायाधीश (Acting Chief Justice) की नियुक्ति करता है?

- Ans
- 1. सुप्रीम कोर्ट के वरिष्ठतम न्यायाधीश
 - 2. प्रधानमंत्री
 - 3. राष्ट्रपति
 - 4. मंत्रिपरिषद

Question Type : MCQ

Question ID : 630680760498

Option 1 ID : 6306802980923

Option 2 ID : 6306802980922

Option 3 ID : 6306802980921

Option 4 ID : 6306802980924

Status : Answered

Chosen Option : 3

Q.18 प्रसिद्ध हिल स्टेशन 'रानीखेत (Ranikhet)' किस पर्वत पर स्थित है?

- Ans 1. हिमालय
 2. पूर्वी घाट
 3. पश्चिमी घाट
 4. अरावली

Question Type : MCQ

Question ID : 630680477062

Option 1 ID : 6306801863445

Option 2 ID : 6306801863448

Option 3 ID : 6306801863447

Option 4 ID : 6306801863446

Status : Answered

Chosen Option : 4

Q.19 आवधिक श्रम बल सर्वेक्षण डाटा (Periodic Labour Force data) 2023 के अनुसार, निम्नलिखित में से किस राज्य ने 15 वर्ष और उससे अधिक आयु वर्ग के लिए शहरी क्षेत्रों में सबसे अधिक बेरोजगारी दर दर्ज की है?

- Ans 1. केरल
 2. राजस्थान
 3. हिमाचल प्रदेश
 4. छत्तीसगढ़

Question Type : MCQ

Question ID : 630680510908

Option 1 ID : 6306801996765

Option 2 ID : 6306801996764

Option 3 ID : 6306801996762

Option 4 ID : 6306801996763

Status : Answered

Chosen Option : 4

Q.20 निम्नलिखित संगीतकारों में से कौन अकबर के नवरत्नों का एक सदस्य था?

- Ans 1. तानसेन
 2. अमीर खुसरो
 3. नौबत खान
 4. निज़ामुद्दीन औलिया

Question Type : MCQ

Question ID : 630680450273

Option 1 ID : 6306801758231

Option 2 ID : 6306801758232

Option 3 ID : 6306801758234

Option 4 ID : 6306801758233

Status : Answered

Chosen Option : 1

Q.21 विलुप्त जानवरों की जांच पर केंद्रित अध्ययन का विशिष्ट क्षेत्र क्या कहलाता है?

- Ans
- 1. आर्थिक भूविज्ञान (Economic geology)
 - 2. हिमनद विज्ञान (Glaciology)
 - 3. जीवाश्मिकी (Palaeontology)
 - 4. रत्नविज्ञान (Gemology)

Question Type : MCQ

Question ID : 630680270129

Option 1 ID : 6306801049767

Option 2 ID : 6306801049770

Option 3 ID : 6306801049768

Option 4 ID : 6306801049769

Status : Answered

Chosen Option : 4

Q.22 किस भारतीय शास्त्रीय नृत्य शैली की रचना मैतेई भाषा (Meitei language) में है?

- Ans
- 1. मणिपुरी
 - 2. भरतनाट्यम
 - 3. छऊ
 - 4. सत्रीया

Question Type : MCQ

Question ID : 630680536882

Option 1 ID : 6306802098803

Option 2 ID : 6306802098801

Option 3 ID : 6306802098802

Option 4 ID : 6306802098800

Status : Answered

Chosen Option : 1

Q.23 'अलाउद्दीन हसन बहमन शाह' की उपाधि धारण करने वाले बहमनी साम्राज्य के संस्थापक कौन थे?

- Ans
- 1. फ़िरोज़ शाह बहमनी
 - 2. हसन गंगू
 - 3. मुहम्मद शाह
 - 4. अहमद शाह

Question Type : MCQ

Question ID : 630680332135

Option 1 ID : 6306801291988

Option 2 ID : 6306801291985

Option 3 ID : 6306801291986

Option 4 ID : 6306801291987

Status : Answered

Chosen Option : 2

Q.24 राष्ट्रीय बहुआयामी गरीबी सूचकांक (MPI) आधार रेखा रिपोर्ट में आकलनों (estimates) का परिकलन करने के लिए निम्नलिखित में से किस डेटा का उपयोग किया गया था?

- Ans
- 1. आर्थिक सर्वेक्षण डेटा
 - 2. राष्ट्रीय जनगणना डेटा
 - 3. वार्षिक रोजगार-बेरोजगारी सर्वेक्षण डेटा
 - 4. राष्ट्रीय परिवार स्वास्थ्य सर्वेक्षण (NFHS-4)

Question Type : MCQ

Question ID : 630680488286

Option 1 ID : 6306801907201

Option 2 ID : 6306801907200

Option 3 ID : 6306801907202

Option 4 ID : 6306801907199

Status : Answered

Chosen Option : 1

Q.25 कुदुम्बश्री (Kudumbashree) एक गरीबी उन्मूलन और महिला सशक्तिकरण कार्यक्रम है। यह कार्यक्रम भारत के किस राज्य में संचालित है?

- Ans
- 1. केरल
 - 2. आंध्र प्रदेश
 - 3. कर्नाटक
 - 4. तमिलनाडु

Question Type : MCQ

Question ID : 630680512420

Option 1 ID : 6306802002650

Option 2 ID : 6306802002653

Option 3 ID : 6306802002652

Option 4 ID : 6306802002651

Status : Answered

Chosen Option : 1

Section : English Language and Comprehension

Q.1 Select the most appropriate form of comparative degree that can substitute the underlined segment in the given sentence.

Food prices in Switzerland are expensiver to the rest of Western Europe.

- Ans
- 1. more expensive than
 - 2. the most expensive than
 - 3. as expensiver to
 - 4. more expensive to

Question Type : MCQ

Question ID : 630680514698

Option 1 ID : 6306802011419

Option 2 ID : 6306802011417

Option 3 ID : 6306802011418

Option 4 ID : 6306802011420

Status : Answered

Chosen Option : 1

Q.2 Select the most appropriate option to fill in the blank.

The speaker requested the audience to pay _____.

- Ans 1. ears
 2. attention
 3. activeness
 4. silence

Question Type : MCQ

Question ID : 630680552559

Option 1 ID : 6306802160331

Option 2 ID : 6306802160330

Option 3 ID : 6306802160333

Option 4 ID : 6306802160332

Status : Answered

Chosen Option : 2

Q.3 Select the INCORRECTLY spelt word.

- Ans 1. tangible
 2. navigate
 3. rhetorical
 4. lascivious

Question Type : MCQ

Question ID : 6306801106830

Option 1 ID : 6306804347784

Option 2 ID : 6306804347785

Option 3 ID : 6306804347787

Option 4 ID : 6306804347786

Status : Answered

Chosen Option : 3

Q.4 Select the correct option of the given sentence.

Vishnu is the more courageous than all other boys in the class.

- Ans 1. Vishnu is most courageous than all other boys in the class.
 2. Vishnu is much more courageous than all other boys in the class.
 3. Vishnu is more courageous than all other boys in the class.
 4. Vishnu is the most courageous than all other boys in the class.

Question Type : MCQ

Question ID : 630680514567

Option 1 ID : 6306802010893

Option 2 ID : 6306802010894

Option 3 ID : 6306802010896

Option 4 ID : 6306802010895

Status : Answered

Chosen Option : 3

Q.5 Select the most appropriate ANTONYM of the underlined word in the given sentence.

Overfishing and destructive fishing practices threaten the sustainability of marine resources and ecosystems.

Ans 1. Indefensibility

2. Justifiability

3. Equanimity

4. Reasonableness

Question Type : MCQ

Question ID : 630680549988

Option 1 ID : 6306802150214

Option 2 ID : 6306802150212

Option 3 ID : 6306802150213

Option 4 ID : 6306802150215

Status : Answered

Chosen Option : 3

Q.6 Select the most appropriate ANTONYM of the highlighted word in the given sentence.

The negotiations were conducted in an amicable atmosphere, leading to a peaceful resolution.

Ans 1. Cordial

2. Serene

3. Hostile

4. Agreeable

Question Type : MCQ

Question ID : 630680549425

Option 1 ID : 6306802148152

Option 2 ID : 6306802148151

Option 3 ID : 6306802148150

Option 4 ID : 6306802148149

Status : Answered

Chosen Option : 3

Q.7 Select the most appropriate option to fill in the blank.

The council never _____ the new complex to be constructed, nor did local residents.

Ans 1. wanted

2. refreshed

3. liked

4. occurred

Question Type : MCQ

Question ID : 630680515225

Option 1 ID : 6306802013366

Option 2 ID : 6306802013368

Option 3 ID : 6306802013365

Option 4 ID : 6306802013367

Status : Answered

Chosen Option : 1

Q.8 Select the most appropriate degree of comparison to fill in the blank.
Hunny is _____ person in his family.

- Ans
- 1. tall
 - 2. the tallest
 - 3. taller
 - 4. more taller

Question Type : **MCQ**
Question ID : **630680514615**
Option 1 ID : **6306802011085**
Option 2 ID : **6306802011087**
Option 3 ID : **6306802011086**
Option 4 ID : **6306802011088**
Status : **Answered**
Chosen Option : **2**

Q.9 The following sentence has been split into four segments. Identify the segment that contains a grammatical error.

How long / have you / been learn / English now?

- Ans
- 1. How long
 - 2. have you
 - 3. been learn
 - 4. English now

Question Type : **MCQ**
Question ID : **630680726461**
Option 1 ID : **6306802846853**
Option 2 ID : **6306802846852**
Option 3 ID : **6306802846851**
Option 4 ID : **6306802846850**
Status : **Answered**
Chosen Option : **3**

Q.10 The following sentence has been split into four segments. Identify the segment that contains a grammatical error.
I have been / looking by my / cream sweater for / a few weeks now.

- Ans
- 1. looking by my
 - 2. a few weeks now
 - 3. cream sweater for
 - 4. I have been

Question Type : **MCQ**
Question ID : **630680160871**
Option 1 ID : **630680622857**
Option 2 ID : **630680622859**
Option 3 ID : **630680622858**
Option 4 ID : **630680622856**
Status : **Answered**
Chosen Option : **1**

Q.11 Rectify the error in the given sentence by selecting the correct spelling from the options provided.

The chord of my voilin is not tuned properly.

- Ans
- 1. wiolin
 - 2. voilen
 - 3. woilin
 - 4. violin

Question Type : MCQ

Question ID : 630680624327

Option 1 ID : 6306802443472

Option 2 ID : 6306802443471

Option 3 ID : 6306802443470

Option 4 ID : 6306802443469

Status : Answered

Chosen Option : 2

Q.12 Select the most appropriate option that can substitute the underlined words in the given sentence.

By definition, making a pictogram is to present and visualise data.

- Ans
- 1. To make a pictogram by definition
 - 2. The purpose of a pictogram
 - 3. In making a pictogram, the definition
 - 4. Pictogram is making a definition

Question Type : MCQ

Question ID : 630680566013

Option 1 ID : 6306802213041

Option 2 ID : 6306802213040

Option 3 ID : 6306802213042

Option 4 ID : 6306802213043

Status : Answered

Chosen Option : 2

Q.13 Select the most appropriate meaning of the underlined word in the given sentence.
A conscious understanding of the environmental issues can bring positive changes in human life.

- Ans
- 1. Mindful
 - 2. Mechanical
 - 3. Beware
 - 4. Reflex

Question Type : MCQ

Question ID : 630680402709

Option 1 ID : 6306801570438

Option 2 ID : 6306801570437

Option 3 ID : 6306801570439

Option 4 ID : 6306801570440

Status : Answered

Chosen Option : 1

Q.14 Select the most appropriate ANTONYM of the given word.

Harmony

- Ans 1. Discord
 2. Accord
 3. Concord
 4. Unity

Question Type : MCQ

Question ID : 630680540051

Option 1 ID : 6306802111306

Option 2 ID : 6306802111305

Option 3 ID : 6306802111307

Option 4 ID : 6306802111304

Status : Answered

Chosen Option : 2

Q.15 If someone mentions that 'the ball is in your court', what does this idiom imply?

- Ans 1. It's time to play a sport.
 2. It's your turn to make a decision or take action.
 3. It's time for a break.
 4. It's a reference to tennis.

Question Type : MCQ

Question ID : 630680421331

Option 1 ID : 6306801643792

Option 2 ID : 6306801643791

Option 3 ID : 6306801643794

Option 4 ID : 6306801643793

Status : Answered

Chosen Option : 2

Q.16 Select the most appropriate option to fill in the blank.

She _____ to be understood by the society.

- Ans 1. looked
 2. hunted
 3. sought
 4. chased

Question Type : MCQ

Question ID : 630680515273

Option 1 ID : 6306802013558

Option 2 ID : 6306802013560

Option 3 ID : 6306802013557

Option 4 ID : 6306802013559

Status : Answered

Chosen Option : 1

Q.17 Parts of the following sentence have been given as options. Select the option that contains an error.
It was an interesting chat with an European gymnast that changed my mindset towards the sport.

- Ans
- 1. my mindset towards the sport
 - 2. It was an interesting
 - 3. chat with
 - 4. an European gymnast that changed

Question Type : **MCQ**
Question ID : **63068084882**
Option 1 ID : **630680329047**
Option 2 ID : **630680329044**
Option 3 ID : **630680329045**
Option 4 ID : **630680329046**
Status : **Answered**
Chosen Option : **4**

Q.18 Select the most appropriate meaning of the given idiom.
Rain cats and dogs

- Ans
- 1. Very rarely
 - 2. Do something unplanned
 - 3. Raining heavily
 - 4. Doing something pointless

Question Type : **MCQ**
Question ID : **630680467458**
Option 1 ID : **6306801825779**
Option 2 ID : **6306801825781**
Option 3 ID : **6306801825778**
Option 4 ID : **6306801825780**
Status : **Answered**
Chosen Option : **3**

Q.19 Select the correct spelling of the underlined word in the given sentence.

The princepal of the college announced his early retirement today.

- Ans
- 1. principal
 - 2. princepil
 - 3. princeapple
 - 4. principel

Question Type : **MCQ**
Question ID : **630680545122**
Option 1 ID : **6306802131237**
Option 2 ID : **6306802131238**
Option 3 ID : **6306802131236**
Option 4 ID : **6306802131235**
Status : **Answered**
Chosen Option : **1**

Q.20 Which of the following options is similar in meaning to the given word?

Pensive

- Ans** 1. Troubled
 2. Tired
 3. Thoughtful
 4. Talkative

Question Type : **MCQ**

Question ID : **630680432663**

Option 1 ID : **6306801688647**

Option 2 ID : **6306801688649**

Option 3 ID : **6306801688648**

Option 4 ID : **6306801688646**

Status : **Answered**

Chosen Option : **4**

Comprehension:

In the following passage, some words have been deleted. Read the passage carefully and select the most appropriate option to fill in each blank.

The ship struck the iceberg (1) _____ its side while it was still moving forward. In a few (2) _____, six great holes were made in the steel. Water rushed in, not in one place, but in separate places covering the Titanic hundred feet. The steel doors were therefore (3) _____. Captain Smith soon understood that (4) _____ could save the ship. He ordered the wireless officer to send out the ship's position and the letters CQD, which is the call for help. It told the world that the Titanic was (5) _____.

SubQuestion No : 21

Q.21 Select the most appropriate option to fill in blank number 1.

- Ans** 1. with
 2. beyond
 3. under
 4. above

Question Type : **MCQ**

Question ID : **630680631989**

Option 1 ID : **6306802473860**

Option 2 ID : **6306802473861**

Option 3 ID : **6306802473859**

Option 4 ID : **6306802473858**

Status : **Answered**

Chosen Option : **3**

Comprehension:

In the following passage, some words have been deleted. Read the passage carefully and select the most appropriate option to fill in each blank.

The ship struck the iceberg (1) _____ its side while it was still moving forward. In a few (2) _____, six great holes were made in the steel. Water rushed in, not in one place, but in separate places covering the Titanic hundred feet. The steel doors were therefore (3) _____. Captain Smith soon understood that (4) _____ could save the ship. He ordered the wireless officer to send out the ship's position and the letters CQD, which is the call for help. It told the world that the Titanic was (5) _____.

SubQuestion No : 22

Q.22 Select the most appropriate option to fill in blank number 2.

- Ans 1. days
 2. moments
 3. weeks
 4. years

Question Type : **MCQ**
Question ID : **630680631990**
Option 1 ID : **6306802473862**
Option 2 ID : **6306802473864**
Option 3 ID : **6306802473863**
Option 4 ID : **6306802473865**
Status : **Answered**
Chosen Option : **2**

Comprehension:

In the following passage, some words have been deleted. Read the passage carefully and select the most appropriate option to fill in each blank.

The ship struck the iceberg (1) _____ its side while it was still moving forward. In a few (2) _____, six great holes were made in the steel. Water rushed in, not in one place, but in separate places covering the Titanic hundred feet. The steel doors were therefore (3) _____. Captain Smith soon understood that (4) _____ could save the ship. He ordered the wireless officer to send out the ship's position and the letters CQD, which is the call for help. It told the world that the Titanic was (5) _____.

SubQuestion No : 23

Q.23 Select the most appropriate option to fill in blank number 3.

- Ans 1. complete
 2. painted
 3. burnt
 4. useless

Question Type : **MCQ**
Question ID : **630680631991**
Option 1 ID : **6306802473867**
Option 2 ID : **6306802473869**
Option 3 ID : **6306802473868**
Option 4 ID : **6306802473866**
Status : **Answered**
Chosen Option : **4**

Comprehension:

In the following passage, some words have been deleted. Read the passage carefully and select the most appropriate option to fill in each blank.

The ship struck the iceberg (1) _____ its side while it was still moving forward. In a few (2)_____, six great holes were made in the steel. Water rushed in, not in one place, but in separate places covering the Titanic hundred feet. The steel doors were therefore (3)_____. Captain Smith soon understood that (4)_____ could save the ship. He ordered the wireless officer to send out the ship's position and the letters CQD, which is the call for help. It told the world that the Titanic was (5)_____.

SubQuestion No : 24

Q.24 Select the most appropriate option to fill in blank number 4.

- Ans
- 1. all
 - 2. everything
 - 3. enemies
 - 4. nothing

Question Type : **MCQ**

Question ID : **630680631992**

Option 1 ID : **6306802473872**

Option 2 ID : **6306802473870**

Option 3 ID : **6306802473873**

Option 4 ID : **6306802473871**

Status : **Answered**

Chosen Option : **4**

Comprehension:

In the following passage, some words have been deleted. Read the passage carefully and select the most appropriate option to fill in each blank.

The ship struck the iceberg (1) _____ its side while it was still moving forward. In a few (2)_____, six great holes were made in the steel. Water rushed in, not in one place, but in separate places covering the Titanic hundred feet. The steel doors were therefore (3)_____. Captain Smith soon understood that (4)_____ could save the ship. He ordered the wireless officer to send out the ship's position and the letters CQD, which is the call for help. It told the world that the Titanic was (5)_____.

SubQuestion No : 25

Q.25 Select the most appropriate option to fill in blank number 5.

- Ans
- 1. reaching
 - 2. sinking
 - 3. floating
 - 4. victorious

Question Type : **MCQ**

Question ID : **630680631993**

Option 1 ID : **6306802473875**

Option 2 ID : **6306802473877**

Option 3 ID : **6306802473874**

Option 4 ID : **6306802473876**

Status : **Answered**

Chosen Option : **2**